

QID : 1 -

In the following question, select the number which can be placed at the sign of question mark (?) from the given alternatives.

निम्नलिखित प्रश्न में दिए गए विकल्पों में से प्रश्न चिह्न (?) के स्थान पर आने वाली संख्या को चुनिए।

8	3
2	22

4	4
5	11

5	6
5	?

Options:

1) 28

2) 25

3) 30

4) 32

Correct Answer: 25

Candidate Answer: 25

QID : 2 -

How many rectangles are there in the given figure?

दी गई आकृति में कितने आयत हैं?



Options:

1) 5

2) 6

3) 7

4) 8

Correct Answer: 6

Candidate Answer: 6

QID : 3 -

A word is represented by only one set of numbers as given in any one of the alternatives. The sets of numbers given in the alternatives are represented by two classes of alphabets as shown in the given two matrices. The columns and rows of **Matrix-I** are numbered from 0 to 4 and that of **Matrix-II** are numbered from 5 to 9. A letter from these matrices can be represented first by its row and next by its column, for example, 'J' can be represented by 20, 96, etc., and 'T' can be represented by 12, 89, etc. Similarly, you have to identify the set for the word "TILL".

एक शब्द केवल एक संख्या-समूह द्वारा दर्शाया गया है, जैसा कि विकल्पों में से किसी एक में दिया गया है। विकल्पों में दिए गए संख्या-समूह अक्षरों के दो वर्गों द्वारा दर्शाए गए हैं, जैसा कि दिए गए दो आव्यूहों में है। **आव्यूह-I** के स्तम्भ और पंक्ति की संख्या 0 से 4 है और **आव्यूह-II** की 5 से 9। इन आव्यूहों से एक अक्षर को पहले उसकी पंक्ति और बाद में स्तम्भ संख्या द्वारा दर्शाया जा सकता है। उदाहरण के लिए 'J' को 20, 96 आदि द्वारा दर्शाया जा सकता है तथा 'T' को 12, 89, आदि द्वारा दर्शाया जा सकता है। इसी तरह से आपको प्रश्न में दिए शब्द "TILL" के लिए समूह को पहचानना है।

Matrix-I आव्यूह-I						Matrix-II आव्यूह-II					
	0	1	2	3	4		5	6	7	8	9
0	A	E	I	S	N	5	D	F	A	K	L
1	L	Z	T	Y	I	6	O	I	S	P	X
2	J	G	W	I	Q	7	F	E	L	O	N
3	M	E	Z	S	T	8	P	M	A	C	T
4	Z	K	F	C	Z	9	Q	J	T	Y	I

Options:

1) 12, 02, 10, 56

2) 89, 65, 97, 59

3) 23, 02, 13, 77

4) 97, 99, 59, 10

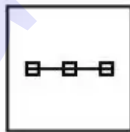
Correct Answer: 97, 99, 59, 10

Candidate Answer: 97, 99, 59, 10

QID : 4 -

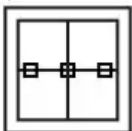
From the given answer figures, select the one in which the question figure is hidden/embedded.

दी गई उत्तर आकृतियों में से उस उत्तर आकृति को चुनिए जिस में प्रश्न आकृति निहित है।

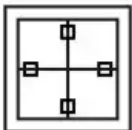


Options:

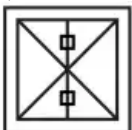
1)



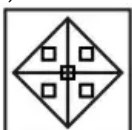
2)



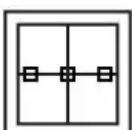
3)



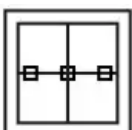
4)



Correct Answer:



Candidate Answer:



QID : 5 -

Which answer figure will complete the pattern in the question figure?

कौन सी उत्तर आकृति प्रश्न आकृति के प्रतिरूप को पूरा करेगी?

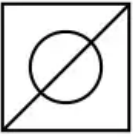


Options:

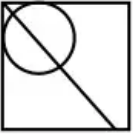
1)



2)



3)



4)



Correct Answer:



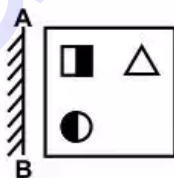
Candidate Answer:



QID : 6 -

If a mirror is placed on the line AB, then which of the answer figures is the right image of the given figure?

यदि एक दर्पण को AB रेखा पर रखा जाए, तो दी गई उत्तर आकृतियों में से कौन सी आकृति प्रश्न आकृति की सही प्रतिबिम्ब होगी?



Options:

1)



2)



3)



4)



Correct Answer:



Candidate Answer:



QID : 7 -

A piece of paper is folded and punched as shown below in the question figures. From the given answer figures, indicate how it will appear when opened?

नीचे के प्रश्न आकृतियों में दिखाए अनुसार कागज को मोड़कर छेदने तथा खोलने के बाद वह किस उत्तर आकृति जैसा दिखाई देगा?



Options:

1)



2)



3)



4)



Correct Answer:



Candidate Answer:



QID : 8 - What will come in place of question mark (?) in the given equation?

$$17 ? 11 ? 6 ? 18 ? 36 = 9$$

दिए गए समीकरण में प्रश्न चिह्न (?) के स्थान पर क्या आएगा?

$$17 ? 11 ? 6 ? 18 ? 36 = 9$$

Options:

1) +, x, ÷ and -

+, x, ÷ तथा -

2) ÷, x, + and -

÷, x, + तथा -

3) -, x, + and ÷

-, x, + तथा ÷

4) -, +, x and ÷

-, +, x तथा ÷

Correct Answer: -, +, x and ÷

-, +, x तथा ÷

Candidate Answer: -, +, x and ÷

-, +, x तथा ÷

QID : 9 - If $9 B 3 A 1 = 12$ and $6 B 2 A 2 = 10$, then $4 B 6 A 2 = ?$

यदि $9 B 3 A 1 = 12$ तथा $6 B 2 A 2 = 10$ हो, तो $4 B 6 A 2 = ?$

Options:

1) 8

2) 12

3) 10

4) 16

Correct Answer: 16

Candidate Answer: 16

QID : 10 - Arrange the given words in the sequence in which they occur in the dictionary.

1. Series
2. Secular
3. Singer
4. Single
5. Semantic

निम्नलिखित शब्दों को शब्दकोश में आने वाले क्रम के अनुसार लिखें।

1. Series
2. Secular
3. Singer
4. Single
5. Semantic

Options:

1) 21543

2) 21534

3) 25134

4) 25143

Correct Answer: 25134

Candidate Answer: 25134

QID : 11 - In the following question, select the missing number from the given series.

1, 2, 2, 3, 3, 4, 4, 5, ?, ?

निम्नलिखित प्रश्न में दिए गए विकल्पों में से लुप्त अंक ज्ञात कीजिए।

1, 2, 2, 3, 3, 4, 4, 5, ?, ?

Options:

1) 6, 7

2) 5, 6

3) 7, 8

4) 4, 4

Correct Answer: 5, 6

Candidate Answer: 5, 6

QID : 12 - A series is given with one term missing. Select the correct alternative from the given ones that will complete the series.

AD, CE, EF, GG, ?

एक अनुक्रम दिया गया है, जिसमें से एक पद लुप्त है। दिए गए विकल्पों में से वह सही विकल्प चुनिए, जो अनुक्रम को पूरा करे।

AD, CE, EF, GG, ?

Options:

1) HI

2) IH

3) JH

4) JI

Correct Answer: IH

Candidate Answer: IH

QID : 13 - In the following question, select the odd word from the given alternatives.

निम्नलिखित प्रश्न में दिए गए विकल्पों में से विषम शब्द को चुनिए।

Options:

1) Heart

हृदय

2) Lungs

फेफड़े

3) Kidneys

गुर्दे

4) Nose

नाक

Correct Answer: Nose

नाक

Candidate Answer: Nose

नाक

QID : 14 - In the following question, select the odd number pair from the given alternatives.

निम्नलिखित प्रश्न में दिए गए विकल्पों में से विषम संख्या युग्म को चुनिए।

Options:

1) 4 – 12

2) 6 – 18

3) 7 – 22

4) 8 – 24

Correct Answer: 7 – 22

Candidate Answer: 7 – 22

QID : 15 - In the following question, select the odd letters from the given alternatives.

निम्नलिखित प्रश्न में दिए गए विकल्पों में से विषम अक्षरों को चुनिए।

Options:

1) DH

2) JN

3) MP

4) TX

Correct Answer: MP

Candidate Answer: MP

QID : 16 - Identify the diagram that best represents the relationship among the given classes.

Pulses, Eatables, Wood

वह आरेख चुनिए जो नीचे दिए गए वर्गों के बीच के संबंध का सही निरूपण करता है।

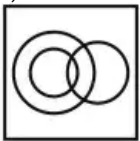
दालें, खाद्य पदार्थ, लकड़ी

Options:

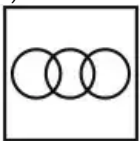
1)



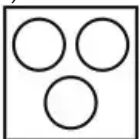
2)



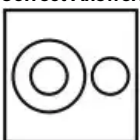
3)



4)



Correct Answer:



Candidate Answer:



QID : 17 - In the following question, select the related word from the given alternatives.

Tiger : Mammal :: Frog : ?

निम्नलिखित प्रश्न में दिए गए विकल्पों में से संबंधित शब्द को चुनिए।

बाघ : स्तनपायी :: मेंढक : ?

Options:

- 1) Insect
कीट
- 2) Amphibian
उभयचर
- 3) Sponge
स्पंज
- 4) Vertebrate
कशेरुकी

Correct Answer: Amphibian

उभयचर

Candidate Answer: Amphibian

उभयचर

QID : 18 - In the following question, select the related number pair from the given alternatives.

22 : 2002 :: ? : ?

निम्नलिखित प्रश्न में दिए गए विकल्पों में से संबंधित संख्या युग्म को चुनिए।

22 : 2002 :: ? : ?

Options:

- 1) 44 : 4004
- 2) 83 : 1260
- 3) 47 : 4070
- 4) 32 : 3200

Correct Answer: 44 : 4004

Candidate Answer: 44 : 4004

QID : 19 - In the following question, select the related letters from the given alternatives.

KNIFE : JMHED :: TOOL : ?

निम्नलिखित प्रश्न में दिए गए विकल्पों में से संबंधित अक्षरों को चुनिए।

KNIFE : JMHED :: TOOL : ?

Options:

- 1) SNNK
- 2) SNNJ
- 3) UNNK
- 4) UNNJ

Correct Answer: SNNK

Candidate Answer: SNNK

QID : 20 - In the following question, select the word which cannot be formed using the letters of the given word.

INDUSTRIES

निम्नलिखित विकल्पों में से वह शब्द चुनिए जो दिए गए शब्द के अक्षरों का प्रयोग करके नहीं बनाया जा सकता।

INDUSTRIES

Options:

- 1) DUST
- 2) STAR
- 3) RISE
- 4) DINE

Correct Answer: STAR

Candidate Answer: STAR

QID : 21 - There are 90 trees in a row. Lemon tree is 14th from right end and mango tree is 23rd from left end. How many trees are there between lemon and mango tree?

एक पंक्ति में 90 वृक्ष हैं। नींबू का वृक्ष दायें छोर से 14 वाँ है तथा आम का वृक्ष बायें छोर से 23 वाँ है। नींबू तथा आम के वृक्ष के बीच कितने वृक्ष हैं?

Options:

- 1) 53
- 2) 54
- 3) 52
- 4) 55

Correct Answer: 53

Candidate Answer: 53

QID : 22 - The present ages of U and V are in ratio 5 : 4. 8 years later their ages will be in ratio 6 : 5. What is the present age (in years) of V?

U तथा V की वर्तमान आयु 5 : 4 के अनुपात में हैं। 8 वर्ष पश्चात् उनकी आयु 6 : 5 के अनुपात में होगी। V की वर्तमान आयु (वर्षों में) क्या है?

Options:

- 1) 32
- 2) 40
- 3) 48
- 4) 24

Correct Answer: 32

Candidate Answer: 32

QID : 23 - In the following question below are given some statements followed by some conclusions. Taking the given statements to be true even if they seem to be at variance from commonly known facts, read all the conclusions and then decide which of the given conclusion logically follows the given statements.

Statements:

- I. All red are blue.
- II. No blue is white.

Conclusions:

- I. No red is white.
- II. Some white are red.

नीचे दिए गए प्रश्न में कुछ कथन और उनके बाद उन कथनों पर आधारित कुछ निष्कर्ष दिए गए हैं, हालांकि उनमें सामान्य ज्ञात तथ्यों से भिन्नता हो सकती है। सभी निष्कर्ष पढ़ें और फिर निर्धारित करें कि दिए गए कौन से निष्कर्ष, दिए गए कथनों के आधार पर युक्तिसंगत हैं।

कथन:

- I. सभी लाल नीले हैं।
- II. कोई नीला सफेद नहीं है।

निष्कर्ष:

- I. कोई लाल सफेद नहीं है।
- II. कुछ सफेद लाल हैं।

Options:

- 1) Only conclusion (I) follows.
केवल निष्कर्ष (I) सही है।
- 2) Only conclusion (II) follows.
केवल निष्कर्ष (II) सही है।
- 3) Both conclusion follow.
दोनों ही निष्कर्ष सही हैं।
- 4) Neither conclusion (I) nor conclusion (II) follows.
न तो निष्कर्ष (I) न ही निष्कर्ष (II) सही है।

Correct Answer: Only conclusion (I) follows.

केवल निष्कर्ष (I) सही है।

Candidate Answer: Only conclusion (I) follows.

केवल निष्कर्ष (I) सही है।

QID : 24 - In a certain code language, "VERKA" is written as "SBOHX". How is "DAIRY" written in that code language?

एक विशिष्ट कोड भाषा में, "VERKA" को "SBOHX" लिखा जाता है। इस कोड भाषा में "DAIRY" को किस प्रकार लिखा जाएगा?

Options:

- 1) ACULE
- 2) FVWXB
- 3) AXFOV
- 4) WZRIB

Correct Answer: AXFOV

Candidate Answer: AXFOV

QID : 25 - In a certain code language, "FAT" is written as "26" and "FAR" is written as "24". How is "FOR" written in that code language?

एक विशिष्ट कोड भाषा में, "FAT" को "26" तथा "FAR" को "24" लिखा जाता है। इस कोड भाषा में "FOR" को किस प्रकार लिखा जाएगा?

Options:

- 1) 37
- 2) 38
- 3) 34
- 4) 39

Correct Answer: 38

Candidate Answer: 38

QID : 26 -

Which of the following statement(s) is/are true?

- I. $\sqrt[3]{7} > \sqrt[4]{9}$
- II. $\sqrt[4]{11} > \sqrt[3]{7}$

निम्नलिखित में से कौन सा/से कथन सत्य है/हैं?

- I. $\sqrt[3]{7} > \sqrt[4]{9}$
- II. $\sqrt[4]{11} > \sqrt[3]{7}$

Options:

- 1) Only I
केवल I
- 2) Only II
केवल II
- 3) Both I and II
I तथा II दोनों
- 4) Neither I nor II
न तो I न ही II

Correct Answer: Only I
केवल I

Candidate Answer: Only I
केवल I

QID : 27 - What is the unit's digit of 13^{123} ?

13^{123} का इकाई अंक क्या है?

Options:

- 1) 1
- 2) 7
- 3) 3
- 4) 9

Correct Answer: 7

Candidate Answer: 7

QID : 28 -

What is the value of $\sqrt{316 + \sqrt{4} + \sqrt{36}}$?

$\sqrt{316 + \sqrt{4} + \sqrt{36}}$ का मान क्या है?

Options:

1) 19

2) 16

3) 18

4) 14

Correct Answer: 18

Candidate Answer: 18

QID : 29 - Which of the following number is divisible by 3?

निम्नलिखित में से कौन सी संख्या 3 से विभाज्य है?

Options:

1) 97825

2) 123965

3) 97843

4) 321648

Correct Answer: 321648

Candidate Answer: 321648

QID : 30 - What is the value of $[(7.4)^3 + (1.9)^3] \div [(7.4)^2 - 7.4 \times 1.9 + (1.9)^2]$?

$[(7.4)^3 + (1.9)^3] \div [(7.4)^2 - 7.4 \times 1.9 + (1.9)^2]$ का मान क्या है?

Options:

1) 9.6

2) 8.7

3) 9.3

4) 8.5

Correct Answer: 9.3

Candidate Answer: 9.3

QID : 31 - Which of the following statement(s) is/are true?

I. There are 16 multiples of 7 from 1 to 116.

II. 69 is a prime number.

निम्नलिखित में से कौन सा/से कथन सत्य है/हैं?

I. 1 से 116 तक 7 के 16 गुणांक है।

II. 69 एक अभाज्य संख्या है।

Options:

1) Only I

केवल I

2) Only II

केवल II

3) Both I and II

I तथा II दोनों

4) Neither I nor II

न तो I न ही II

Correct Answer: Only I

केवल I

Candidate Answer: Only I

केवल I

QID : 32 - Two pipes A and B can fill a tank in 10 hours and 12 hours respectively. Pipe C can alone empty the same tank in 20 hours. If all three pipes are opened together, then in how many hours will the tank be filled?

दो पाईप A तथा B एक टंकी को क्रमशः 10 घंटे तथा 12 घंटे में भर सकते हैं। पाईप C उसी टंकी को अकेला 20 घंटे में खाली कर सकता है। यदि सभी तीनों पाईपों को एक साथ खोल दिया जाये, तो टंकी कितने घंटे में भर जायेगी?

Options:

1) 15

2) 7.5

3) 12.5

4) 8

Correct Answer: 7.5

Candidate Answer: 7.5

QID : 33 - Two pipes P and Q can fill the tank in 900 and 100 hours respectively. If they are opened together, then in how many hours will the tank be filled?

दो पाईप P तथा Q एक टंकी को क्रमशः 900 तथा 100 घंटे में भर सकते हैं। यदि दोनों पाईपों को एक साथ खोल दिया जाये, तो टंकी कितने घंटे में भर जायेगी?

Options:

- 1) 900
- 2) 450
- 3) 40
- 4) 90

Correct Answer: 90

Candidate Answer: 90

QID : 34 - What is the area (in cm^2) of a triangle having sides 5 cm, 12 cm and 13 cm?

5 से.मी., 12 से.मी. तथा 13 से.मी. भुजा वाले त्रिभुज का क्षेत्रफल (से.मी.² में) क्या है?

Options:

- 1) 60
- 2) $30\sqrt{3}$
- 3) 30
- 4) $15\sqrt{3}$

Correct Answer: 30

Candidate Answer: 30

QID : 35 - A profit of 30% is made after giving a discount of 15% on an article. If the marked price of the article is Rs 3120, then what is its cost price (in Rs)?

एक वस्तु पर 15% की छूट देने के पश्चात 30% का लाभ होता है। यदि वस्तु का अंकित मूल्य 3120 रु है, तो उसका क्रय मूल्य (रु में) क्या है?

Options:

- 1) 2100
- 2) 2230
- 3) 2040
- 4) 2260

Correct Answer: 2040

Candidate Answer: 2040

QID : 36 - Prashant purchased an article at a discount of 40% and sold it to Rahul at 40% profit. What is the ratio between the marked price and the price for which Rahul purchased the article?

प्रशांत किसी वस्तु को 40% की छूट पर खरीदता है तथा इसे राहुल को 40% के लाभ पर बेच देता है। अंकित मूल्य तथा जिस मूल्य पर राहुल ने वस्तु को खरीदा है, के बीच का अनुपात क्या है?

Options:

- 1) 3 : 1
- 2) 7 : 3
- 3) 10 : 7
- 4) 4 : 3

Correct Answer: 7 : 3

Candidate Answer: [NOT ANSWERED]

QID : 37 - Three numbers are in the ratio 1 : 2 : 4. If the sum of their squares is 1029, then what are the numbers?

तीन संख्याएँ 1 : 2 : 4 के अनुपात में हैं। यदि उनके वर्गों का योग 1029 है, तो संख्याएँ क्या हैं?

Options:

- 1) 7, 21, 14
- 2) 7, 14, 42
- 3) 7, 14, 28
- 4) 7, 23, 29

Correct Answer: 7, 14, 28

Candidate Answer: 7, 14, 28

QID : 38 - B starts some business by investing Rs 120000. After 2 months, D joins business by investing Rs 44000. At the end of the year, in what ratio will they share the profit?

B, 120000 रु की पूँजी निवेश करके एक व्यापार आरंभ करता है। 2 माह के पश्चात D, 44000 रु निवेश कर उस व्यापार में शामिल हो जाता है। वर्ष के अंत में वह किस अनुपात में लाभ बाँटेंगे?

Options:

- 1) 36 : 11
- 2) 11 : 12
- 3) 36 : 23
- 4) 11 : 14

Correct Answer: 36 : 11

Candidate Answer: 36 : 11

QID : 39 - The average of 4 consecutive numbers is 15.5. If previous 3 numbers are also included, then what will be the new average?

4 क्रमागत संख्याओं का औसत 15.5 है। यदि पिछली 3 संख्याओं को भी शामिल कर लिया जाए, तो नया औसत क्या होगा?

Options:

- 1) 14
- 2) 14.5
- 3) 15
- 4) 13.5

Correct Answer: 14

Candidate Answer: 14

QID : 40 - An article is sold at a profit of 60%. If the selling price is tripled, then what will be the profit percentage?

एक वस्तु को 60% के लाभ पर बेचा जाता है। यदि विक्रय मूल्य तिगुना कर दिया जाए, तो लाभ प्रतिशत क्या होगा?

Options:

- 1) 380
- 2) 58.33
- 3) 200
- 4) 125

Correct Answer: 380

Candidate Answer: 380

QID : 41 - By selling an article for Rs 420 there is a profit of 20%. What is the cost price (in Rs) of the article?

एक वस्तु को 420 रु में बेचने पर 20% का लाभ होता है। वस्तु का क्रय मूल्य (रु में) क्या है?

Options:

- 1) 400
- 2) 375
- 3) 350
- 4) 320

Correct Answer: 350

Candidate Answer: 350

QID : 42 - 2000 is first decreased by 25% and then it is increased by 30%. What is the final value?

2000 को पहले 25% से घटाया गया तथा फिर उसे 30% से बढ़ाया गया। अंतिम मान क्या है?

Options:

- 1) 1950
- 2) 1650
- 3) 1800
- 4) 1700

Correct Answer: 1950

Candidate Answer: 1950

QID : 43 - Two numbers are 30% and 40% less than a third number respectively. First number is what percent of the second number?

दो संख्याएँ एक तीसरी संख्या से क्रमशः 30% तथा 40% कम हैं। पहली संख्या दूसरी संख्या का कितना प्रतिशत है?

Options:

- 1) 108.33
- 2) 121.11
- 3) 116.66
- 4) 102.22

Correct Answer: 116.66

Candidate Answer: 116.66

QID : 44 - A car travels at a speed of 75 m/s for 4 hours. What is the distance (in km) travelled by the car?

एक कार 75 मी./से. की गति से 4 घण्टे तक चलती है। कार द्वारा कितनी दूरी (कि.मी. में) तय की गई है?

Options:

- 1) 1000
- 2) 1050
- 3) 1080
- 4) 1100

Correct Answer: 1080

Candidate Answer: 1080

QID : 45 - Baman goes to a place at a speed of 10 km/hr and return home at 4 km/hr. What is his average speed (in km/hr)?

बमन 10 कि.मी./घंटे की गति से एक स्थान तक जाता है तथा 4 कि.मी./घंटे की गति से घर वापस आता है। उसकी औसत गति (कि.मी./घंटा में) क्या है?

Options:

- 1) 5.5
- 2) 5.7
- 3) 6.2
- 4) 9.8

Correct Answer: 5.7

Candidate Answer: 5.7

QID : 46 - What is the compound interest (in Rs) on a sum of Rs 14000 for 2 years at the rate of 5% per annum compounded annually?

14000 रु के मूलधन पर 5% की वार्षिक दर पर वार्षिक संयोजन से 2 वर्षों का चक्रवृद्धि ब्याज (रु में) क्या है?

Options:

- 1) 1430
- 2) 2880
- 3) 1435
- 4) 1450

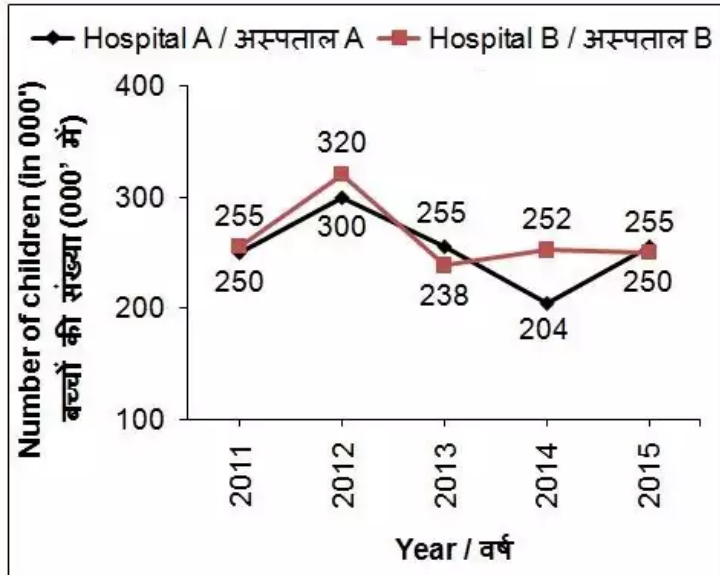
Correct Answer: 1435

Candidate Answer: 1435

QID : 47 -

The line chart given below shows the number of child births (in 000') in 2 hospitals A and B from year 2011 to 2015.

नीचे दिए गए रेखा चित्र में वर्ष 2011 से 2015 तक 2 अस्पतालों A तथा B में जन्म लेने वाले बच्चों की संख्या (000' में) को दर्शाया गया है।



In how many years, was the number of child births in hospital B higher than that in hospital A?

कितने वर्षों में, अस्पताल B में पैदा हुए बच्चों की संख्या अस्पताल A से अधिक थी?

Options:

- 1) 5
- 2) 4
- 3) 0
- 4) 3

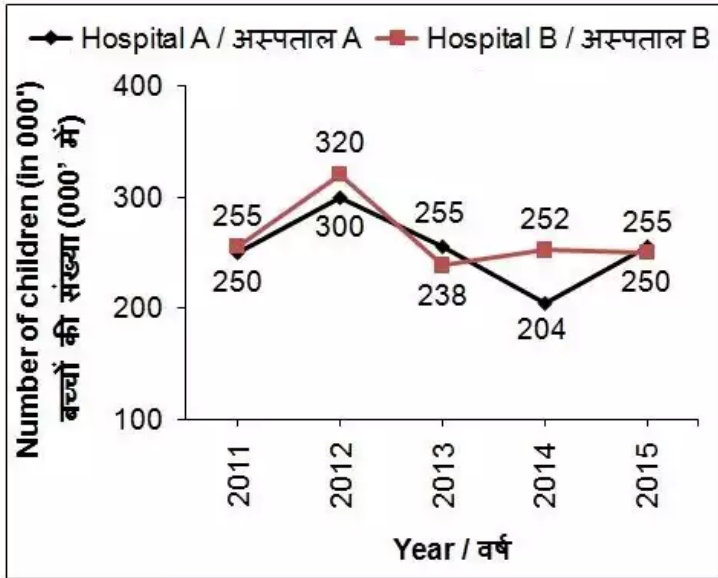
Correct Answer: 3

Candidate Answer: 3

QID : 48 -

The line chart given below shows the number of child births (in 000') in 2 hospitals A and B from year 2011 to 2015.

नीचे दिए गए रेखा चित्र में वर्ष 2011 से 2015 तक 2 अस्पतालों A तथा B में जन्म लेने वाले बच्चों की संख्या (000' में) को दर्शाया गया है।



What is the percentage change in the number of child births in hospital B from year 2011 to 2013?

वर्ष 2011 से 2013 तक, अस्पताल B में पैदा हुए बच्चों की संख्या में प्रतिशत परिवर्तन क्या है?

Options:

- 1) 66
- 2) 15
- 3) 6.66
- 4) 50

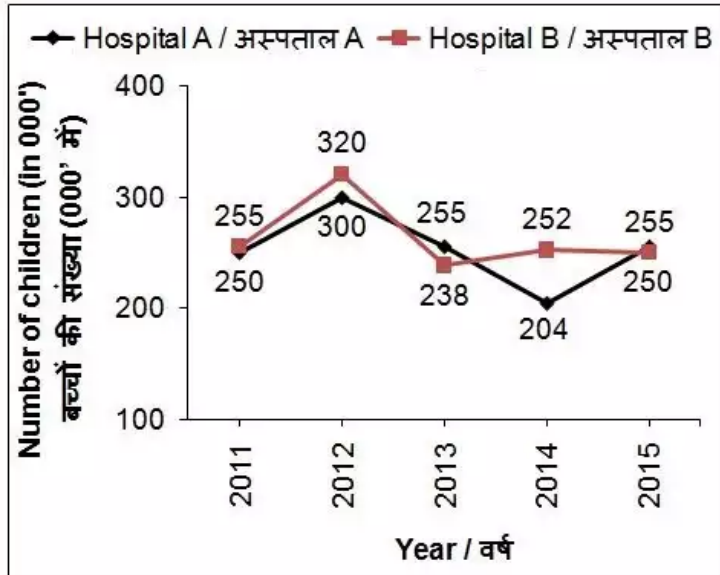
Correct Answer: 6.66

Candidate Answer: 6.66

QID : 49 -

The line chart given below shows the number of child births (in 000') in 2 hospitals A and B from year 2011 to 2015.

नीचे दिए गए रेखा चित्र में वर्ष 2011 से 2015 तक 2 अस्पतालों A तथा B में जन्म लेने वाले बच्चों की संख्या (000' में) को दर्शाया गया है।



In hospital A, what was the percentage change in the number of child births from year 2013 to 2014?

अस्पताल A में, वर्ष 2013 से 2014 तक पैदा हुए बच्चों की संख्या में प्रतिशत परिवर्तन क्या था?

Options:

- 1) 30%
- 2) 28%
- 3) 20%
- 4) 25%

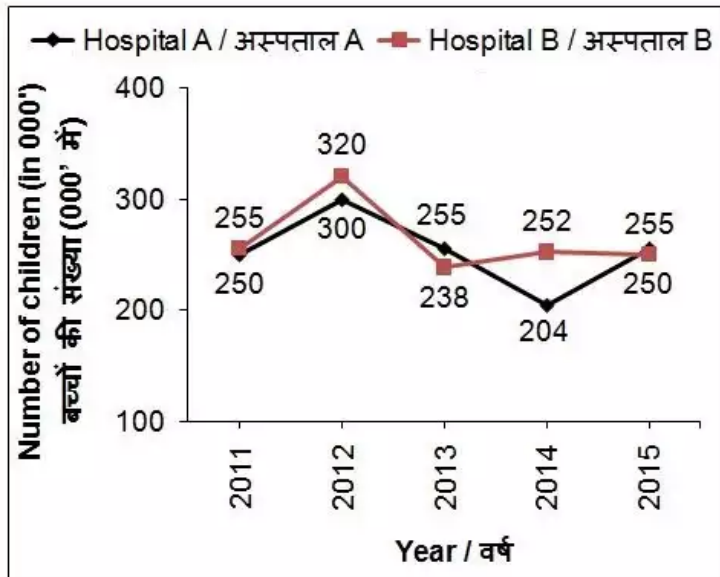
Correct Answer: 20%

Candidate Answer: 20%

QID : 50 -

The line chart given below shows the number of child births (in 000') in 2 hospitals A and B from year 2011 to 2015.

नीचे दिए गए रेखा चित्र में वर्ष 2011 से 2015 तक 2 अस्पतालों A तथा B में जन्म लेने वाले बच्चों की संख्या (000' में) को दर्शाया गया है।



What was the average number (in 000') of child births in hospital B from year 2011 to 2015?

वर्ष 2011 से 2015 तक, अस्पताल B में पैदा हुए बच्चों की औसत संख्या (000' में) क्या थी?

Options:

- 1) 275
- 2) 238
- 3) 204
- 4) 263

Correct Answer: 263

Candidate Answer: 263

QID : 51 - In the following question, some part of the sentence may have errors. Find out which part of the sentence has an error and select the appropriate option. If a sentence is free from error, select 'No Error'.

Childhood is the (1)/ world of miracles (2)/ and magic (3)/ no error (4)

Options:

- 1) 1
- 2) 2
- 3) 3
- 4) 4

Correct Answer: 3

Candidate Answer: 2

QID : 52 - In the following question, some part of the sentence may have errors. Find out which part of the sentence has an error and select the appropriate option. If a sentence is free from error, select 'No Error'.

Ira found herself alone (1)/ in the desreted schoolhouse yard (2)/ in the afternoon (3)/ No error (4)

Options:

- 1) 1
- 2) 2
- 3) 3
- 4) 4

Correct Answer: 2

Candidate Answer: 2

QID : 53 - In the following question, the sentence given with blank to be filled in with an appropriate word. Select the correct alternative out of the four and indicate it by selecting the appropriate option.

It is unfair for _____ officer to do this to his subordinates.

Options:

- 1) a
- 2) an
- 3) the
- 4) No option is correct.

Correct Answer: an

Candidate Answer: an

QID : 54 - In the following question, the sentence given with blank to be filled in with an appropriate word. Select the correct alternative out of the four and indicate it by selecting the appropriate option.

Nature is __ best medicine.

Options:

- 1) a
- 2) an
- 3) the
- 4) No option is correct.

Correct Answer: the

Candidate Answer: the

QID : 55 - In the following question, out of the given four alternatives, select the one which best expresses the meaning of the given word.

Supernatural

Options:

- 1) Mirage
- 2) Mystical
- 3) Morality
- 4) Secrecy

Correct Answer: Mystical

Candidate Answer: [NOT ANSWERED]

QID : 56 - In the following question, out of the given four alternatives, select the one which best expresses the meaning of the given word.

Vituperate

Options:

- 1) Abuse
- 2) Appreciate
- 3) Copy
- 4) Encourage

Correct Answer: Abuse

Candidate Answer: [NOT ANSWERED]

QID : 57 - In the following question, out of the given four alternatives, select the one which best expresses the meaning of the given word.

Zest

Options:

- 1) Passive
- 2) Enthusiasm
- 3) Disgust
- 4) Various

Correct Answer: Enthusiasm

Candidate Answer: [NOT ANSWERED]

QID : 58 - In the following question, out of the given four alternatives, select the one which is opposite in meaning of the given word.

Still

Options:

- 1) Active
- 2) Passive
- 3) Serene
- 4) Slow

Correct Answer: Active

Candidate Answer: Serene

QID : 59 - In the following question, out of the given four alternatives, select the one which is opposite in meaning of the given word.

Genius

Options:

- 1) Donkey
- 2) Dumb
- 3) Derive
- 4) Devise

Correct Answer: Dumb

Candidate Answer: Dumb

QID : 60 - In the following question, out of the given four alternatives, select the one which is opposite in meaning of the given word.

Mitigate

Options:

- 1) Abate
- 2) Intensify
- 3) Calm
- 4) Compose

Correct Answer: Intensify

Candidate Answer: [NOT ANSWERED]

QID : 61 - In the following question, out of the four given alternatives, select the alternative which best expresses the meaning of the Idiom/Phrase.

Every cloud has a silver lining

Options:

- 1) Difficult times will lead to better days
- 2) Difficult times are tough to handle
- 3) Difficult times need our attention
- 4) Difficult times are not to be scared of

Correct Answer: Difficult times will lead to better days

Candidate Answer: Difficult times will lead to better days

QID : 62 - In the following question, out of the four given alternatives, select the alternative which best expresses the meaning of the Idiom/Phrase.

All at sea

Options:

- 1) Something outstanding
- 2) Forgive all
- 3) State of confusion
- 4) Living in Luxury

Correct Answer: State of confusion

Candidate Answer: State of confusion

QID : 63 - In the following question, out of the four alternatives, select the alternative which will improve the bracketed part of the sentence. In case no improvement is needed, select "No improvement".

Despite (the far away location), Seetha has been a huge support to Meera all her life.

Options:

- 1) the huge distance between the two
- 2) the far away distance between the two
- 3) the huge location
- 4) No improvement

Correct Answer: the huge distance between the two

Candidate Answer: the far away distance between the two

QID : 64 - In the following question, out of the four alternatives, select the alternative which will improve the bracketed part of the sentence. In case no improvement is needed, select "no improvement".

You must not forget to call me after you (reach) the Durban.

Options:

- 1) have reached
- 2) will reach
- 3) will have reached
- 4) No improvement

Correct Answer: have reached

Candidate Answer: have reached

QID : 65 - In the following question, out of the four alternatives, select the alternative which is best substitute of the phrase.

The arrangement or disposition of people or things in relation to each other according to a particular sequence, pattern, or method

Options:

- 1) Enter
- 2) Encourage
- 3) Order
- 4) Baggage

Correct Answer: Order

Candidate Answer: Order

QID : 66 - In the following question, out of the four alternatives, select the alternative which is best substitute of the phrase.

pleasant-sounding

Options:

- 1) Conservative
- 2) Melodious
- 3) Improper
- 4) Tuning

Correct Answer: Melodious

Candidate Answer: Melodious

QID : 67 - In the following question, a word has been written in four different ways out of which only one is correctly spelt. Select the correctly spelt word.

Options:

- 1) Wastness
- 2) Vastness
- 3) Wasteness
- 4) Vasteness

Correct Answer: Vastness

Candidate Answer: Wasteness

QID : 68 - In the following question, a word has been written in four different ways out of which only one is correctly spelt. Select the correctly spelt word.

Options:

- 1) Tropikal
- 2) Tropical
- 3) Trapical
- 4) Tropicol

Correct Answer: Tropical

Candidate Answer: Tropical

QID : 69 - The question below consists of a set of labelled sentences. These sentences, when properly sequenced form a coherent paragraph. Select the most logical order of sentences from among the options.

Faiz

P: natural talent

Q: has a

R: for befriending people easily

Options:

- 1) QRP
- 2) RPQ
- 3) PQR
- 4) QPR

Correct Answer: QPR

Candidate Answer: QPR

QID : 70 - The question below consists of a set of labelled sentences. These sentences, when properly sequenced form a coherent paragraph. Select the most logical order of sentences from among the options.

Life

P: bed of roses

Q: so be ready for the worst

R: is not a

Options:

- 1) QRP
- 2) RPQ
- 3) PQR
- 4) QPR

Correct Answer: RPQ

Candidate Answer: RPQ

QID : 71 - In the following passage, some of the words have been left out. Read the passage carefully and select the correct answer for the given blank out of the four alternatives.

The world's oldest plant fossil has been found at Chitrakoot in the Uttar Pradesh state of India. The fossil is ____ to be around 1.6 billion years old. Fossils are ____ of plants and animals that are preserved (kept safe) inside rocks. These fossils were found within sedimentary rocks (a kind of rock that is found in layers) in Chitrakoot, a region that is ____ to be rich in fossils. Before this ____, the oldest fossils were 1.2 billion year old remains of red algae found in Canada. The Chitrakoot ____ also appear to be remains of red algae. Red algae are water plants found in coral reefs.

The fossil is _____ to be around 1.6 billion years old.

Options:

- 1) disturbed
- 2) discovered
- 3) damaged
- 4) discover

Correct Answer: discovered

Candidate Answer: discovered

Download More Papers From GovtJobsAlert.In

QID : 72 - In the following passage, some of the words have been left out. Read the passage carefully and select the correct answer for the given blank out of the four alternatives.

The world's oldest plant fossil has been found at Chitrakoot in the Uttar Pradesh state of India. The fossil is ____ to be around 1.6 billion years old. Fossils are ____ of plants and animals that are preserved (kept safe) inside rocks. These fossils were found within sedimentary rocks (a kind of rock that is found in layers) in Chitrakoot, a region that is ____ to be rich in fossils. Before this ____, the oldest fossils were 1.2 billion year old remains of red algae found in Canada. The Chitrakoot ____ also appear to be remains of red algae. Red algae are water plants found in coral reefs.

Fossils are _____ of plants and animals that are preserved (kept safe) inside rocks.

Options:

- 1) flowers
- 2) seeds
- 3) remains
- 4) leaves

Correct Answer: remains

Candidate Answer: remains

QID : 73 - In the following passage, some of the words have been left out. Read the passage carefully and select the correct answer for the given blank out of the four alternatives.

The world's oldest plant fossil has been found at Chitrakoot in the Uttar Pradesh state of India. The fossil is ____ to be around 1.6 billion years old. Fossils are ____ of plants and animals that are preserved (kept safe) inside rocks. These fossils were found within sedimentary rocks (a kind of rock that is found in layers) in Chitrakoot, a region that is ____ to be rich in fossils. Before this ____, the oldest fossils were 1.2 billion year old remains of red algae found in Canada. The Chitrakoot ____ also appear to be remains of red algae. Red algae are water plants found in coral reefs.

These fossils were found within sedimentary rocks (a kind of rock that is found in layers) in Chitrakoot, a region that is _____ to be rich in fossils.

Options:

- 1) now
- 2) known
- 3) knew
- 4) nice

Correct Answer: known

Candidate Answer: known

QID : 74 - In the following passage, some of the words have been left out. Read the passage carefully and select the correct answer for the given blank out of the four alternatives.

The world's oldest plant fossil has been found at Chitrakoot in the Uttar Pradesh state of India. The fossil is ____ to be around 1.6 billion years old. Fossils are ____ of plants and animals that are preserved (kept safe) inside rocks. These fossils were found within sedimentary rocks (a kind of rock that is found in layers) in Chitrakoot, a region that is ____ to be rich in fossils. Before this ____, the oldest fossils were 1.2 billion year old remains of red algae found in Canada. The Chitrakoot ____ also appear to be remains of red algae. Red algae are water plants found in coral reefs.

Before this _____, the oldest fossils were 1.2 billion year old remains of red algae found in Canada.

Options:

- 1) recovery
- 2) discovery
- 3) worry
- 4) refinery

Correct Answer: discovery

Candidate Answer: discovery

QID : 75 - In the following passage, some of the words have been left out. Read the passage carefully and select the correct answer for the given blank out of the four alternatives.

The world's oldest plant fossil has been found at Chitrakoot in the Uttar Pradesh state of India. The fossil is ____ to be around 1.6 billion years old. Fossils are ____ of plants and animals that are preserved (kept safe) inside rocks. These fossils were found within sedimentary rocks (a kind of rock that is found in layers) in Chitrakoot, a region that is ____ to be rich in fossils. Before this ____, the oldest fossils were 1.2 billion year old remains of red algae found in Canada. The Chitrakoot ____ also appear to be remains of red algae. Red algae are water plants found in coral reefs.

The Chitrakoot _____ also appear to be remains of red algae. Red algae are water plants found in coral reefs.

Options:

- 1) fuel
- 2) fossils
- 3) trade
- 4) fish

Correct Answer: fossils

Candidate Answer: fossils

QID : 76 - Which among the following is true about labour (as factor of production) in India?

निम्नलिखित में से कौन सा भारत में श्रम के बारे में सही है (उत्पादन के कारक के रूप में)?

Download More Papers From GovtJobsAlert.In

Options:

- 1) It is most abundant
यह सबसे अधिक मात्रा में है
- 2) It is least abundant
यह सबसे कम मात्रा में है
- 3) It is moderately abundant
यह मामूली मात्रा में है
- 4) No option is correct
कोई भी विकल्प सही नहीं है

Correct Answer: It is most abundant
यह सबसे अधिक मात्रा में है

Candidate Answer: It is most abundant
यह सबसे अधिक मात्रा में है

QID : 77 - Which among the following sectors of Economy has seen a maximum rise since economic reforms in India?

भारत में आर्थिक सुधारों के बाद से अर्थव्यवस्था के निम्नलिखित क्षेत्रों में से किसमें सबसे ज्यादा बढ़ोतरी हुई है?

Options:

- 1) Primary
प्राथमिक
- 2) Secondary
द्वितीयक
- 3) Tertiary
तृतीयक
- 4) No option is correct
कोई भी विकल्प सही नहीं है

Correct Answer: Tertiary
तृतीयक

Candidate Answer: Secondary
द्वितीयक

QID : 78 - Which article has been described as the 'very heart and soul' of Indian Constitution by Dr. B. R. Ambedkar?

डॉ. बी. आर. अम्बेडकर द्वारा किस अनुच्छेद को भारतीय संविधान का 'हृदय तथा आत्मा' के रूप में वर्णित किया गया है?

Options:

- 1) Article 1
अनुच्छेद 1
- 2) Article 21
अनुच्छेद 21
- 3) Article 32
अनुच्छेद 32
- 4) Article 260
अनुच्छेद 260

Correct Answer: Article 32
अनुच्छेद 32

Candidate Answer: Article 32
अनुच्छेद 32

QID : 79 - In a/an _____ government, political powers are distributed among as many citizens as possible.

_____ सरकार में, राजनीतिक शक्तियों को अधिक से अधिक नागरिकों में विभाजित की जाती है।

Options:

- 1) aristocratic
कुलीनतंत्र
- 2) autocratic
एकतंत्र
- 3) plutocratic
धन-तंत्र
- 4) democratic
लोकतांत्रिक

Correct Answer: democratic
लोकतांत्रिक

Candidate Answer: democratic
लोकतांत्रिक

QID : 80 - What are microliths?

लघुपाषाण क्या होते हैं?

Options:

- 1) Stone tools
पत्थर के औज़ार
- 2) Iron tools
लोहे के औज़ार
- 3) Copper tools
तांबे के औज़ार
- 4) Shield
ढाल

Correct Answer: Stone tools
पत्थर के औज़ार

Candidate Answer: Copper tools
तांबे के औज़ार

QID : 81 - In which Indian state did the Champaran movement start?

चंपारण आंदोलन किस भारतीय राज्य में शुरू हुआ था?

Options:

- 1) Bihar
बिहार
- 2) Uttar Pradesh
उत्तर प्रदेश
- 3) Madhya Pradesh
मध्य प्रदेश
- 4) Bengal
बंगाल

Correct Answer: Bihar
बिहार

Candidate Answer: Bihar
बिहार

QID : 82 - What is the position of Mars from the Sun among the eight planets?

आठ ग्रहों में मंगल सूर्य से कौन सी स्थान पर स्थित है?

Options:

- 1) First
पहला
- 2) Second
दूसरा
- 3) Third
तीसरा
- 4) Fourth
चौथा

Correct Answer: Fourth
चौथा

Candidate Answer: Fourth
चौथा

QID : 83 - What are the fixed paths of all the eight planets around the sun called?

सूर्य का चक्कर लगाने वाले सभी आठ ग्रहों के निश्चित पथ को क्या कहते हैं?

Options:

- 1) Geoid
भू-आभ
- 2) Circumference
परिधि
- 3) Orbit
कक्षा
- 4) Perimeter
परिमाप

Correct Answer: Orbit
कक्षा

Candidate Answer: Orbit
कक्षा

QID : 84 - On which part of the human-eye is the image formed?

मानव आंख के किस भाग पर छवि बनती है?

Options:

- 1) Retina
रेटिना
- 2) Cornea
कोर्निया
- 3) Optic nerve
आँखों की नस
- 4) Iris
आँख की पुतली

Correct Answer: Retina
रेटिना

Candidate Answer: Retina
रेटिना

QID : 85 - The process by which waste by-products are removed from the body is commonly known as _____.

जिस प्रक्रिया द्वारा शरीर से अपशिष्ट उत्पादों को हटाया जाता है, उस प्रक्रिया को आमतौर पर _____ के नाम से जाना जाता है।

Options:

- 1) Reproduction
प्रजनन
- 2) Respiration
श्वसन
- 3) Excretion
मलोत्सर्जन
- 4) Suction
चूषण

Correct Answer: Excretion
मलोत्सर्जन

Candidate Answer: Excretion
मलोत्सर्जन

QID : 86 - Dark muscular diaphragm that controls the size of the pupil is known as _____.

डार्क पेशी डायफ्राम जो कि आँख की पुतली को नियंत्रित करते हैं उन्हें _____ कहा जाता है।

Options:

- 1) cornea
कोर्निया
- 2) ciliary muscles
सिलिअरी मांसपेशियाँ
- 3) iris
आँख की पुतली
- 4) crystalline lens
क्रिस्टलीय लेंस

Correct Answer: iris
आँख की पुतली

Candidate Answer: ciliary muscles
सिलिअरी मांसपेशियाँ

QID : 87 - Which type of mirror always forms an erect and virtual image?

किस प्रकार के दर्पण हमेशा एक खड़ी तथा आभासी छवि बनाते हैं?

Options:

- 1) Concave
अवतल
- 2) Convex
उत्तल
- 3) Plane
समतल
- 4) None option is correct
कोई भी विकल्प सही नहीं है

Correct Answer: Plane
समतल

Candidate Answer: Plane
समतल

QID : 88 - Because of which phenomenon a lemon kept in water in a glass tumbler appears to be bigger than its actual size?

किस घटना की वजह से, पानी के गिलास में में रखा नींबू अपने वास्तविक आकार की तुलना में बड़ा दिखता है?

Options:

- 1) Reflection of light
प्रकाश का परावर्तन
- 2) Refraction of light
प्रकाश की अपवर्तन
- 3) Total internal reflection
कुल आंतरिक प्रतिबिंब
- 4) Mirage
मृगतृष्णा

Correct Answer: Refraction of light
प्रकाश की अपवर्तन

Candidate Answer: Refraction of light
प्रकाश की अपवर्तन

QID : 89 - What is an mp3 format?

एमपी३ प्रारूप क्या है?

Options:

- 1) Audio format
ऑडियो प्रारूप
- 2) Video format
वीडियो प्रारूप
- 3) Text document
सामग्री या लेख दस्तावेज़
- 4) Image file
चित्र फाइल

Correct Answer: Audio format
ऑडियो प्रारूप

Candidate Answer: Audio format
ऑडियो प्रारूप

QID : 90 - What is the chemical formula of Quick lime (solid)?

बिना बुझा हुआ चूने (ठोस) का रासायनिक सूत्र क्या है?

Options:

- 1) Cao
- 2) Ca₂O
- 3) CaO₂
- 4) Ca₂O₂

Correct Answer: Cao

Candidate Answer: Cao

QID : 91 - Burning of paper is an example of which type of reaction?

कागज का जलना किस प्रकार की अभिक्रिया का उदाहरण है?

Options:

- 1) Physical reaction
भौतिकी अभिक्रिया
- 2) Chemical reaction
रसायनिक अभिक्रिया
- 3) Both physical and chemical reaction
भौतिकी तथा रसायनिक अभिक्रिया दोनों
- 4) No option is correct
कोई भी विकल्प सही नहीं है

Correct Answer: Chemical reaction
रसायनिक अभिक्रिया

Candidate Answer: Chemical reaction
रसायनिक अभिक्रिया

QID : 92 - Brackish water ecosystem contains high amount of _____ content.

खारे पानी के पारिस्थितिक तंत्र में _____ की मात्रा सबसे अधिक होती है।

Options:

- 1) salt
नमक
- 2) sugar
चीनी
- 3) iron
लोहा
- 4) manganese
मैंगनीज

Correct Answer: salt

नमक

Candidate Answer: manganese

मैंगनीज

QID : 93 - Under which campaign was the Sukanya Samridhi Yojana launched on 21st January 2015?

21 जनवरी 2015 को किस अभियान के तहत सुकन्या समृद्धि योजना की शुरुआत की गई थी?

Options:

1) Beti Bachao, Beti Padhao

बेटी बचाओ, बेटी पढ़ाओ

2) Rashtriya Madhyamik Shiksha Abhiyan

राष्ट्रीय माध्यमिक शिक्षा अभियान

3) National Scheme of Incentives to Girls for Secondary Education.

माध्यमिक शिक्षा के लिए लड़कियों को प्रोत्साहन की राष्ट्रीय योजना

4) Adolescence Education Programme

किशोरावस्था शिक्षा कार्यक्रम

Correct Answer: Beti Bachao, Beti Padhao

बेटी बचाओ, बेटी पढ़ाओ

Candidate Answer: National Scheme of Incentives to Girls for Secondary Education.

माध्यमिक शिक्षा के लिए लड़कियों को प्रोत्साहन की राष्ट्रीय योजना

QID : 94 - Who invented the bifocal lens?

द्विफोकसी लेंस का आविष्कार किसने किया था?

Options:

1) Karl Benz

कार्ल बेंज

2) Benjamin Franklin

बेंजामिन फ्रैंकलिन

3) Richard Taylor

रिचर्ड टेलर

4) William Harvey

विलियम हार्वे

Correct Answer: Benjamin Franklin

बेंजामिन फ्रैंकलिन

Candidate Answer: William Harvey

विलियम हार्वे

QID : 95 - Which is the only sport where chanting / speaking is mandatory?

कौन सा एकमात्र खेल है, जहाँ राग / बोलना अनिवार्य है?

Options:

1) Kabbadi

कबड्डी

2) Cricket

क्रिकेट

3) Hockey

हॉकी

4) Wrestling

कुश्ती

Correct Answer: Kabbadi

कबड्डी

Candidate Answer: Kabbadi

कबड्डी

QID : 96 - _____ caves in Madhya Pradesh are the finest example of pre-historic cave paintings and murals.

मध्य प्रदेश में _____ की गुफाएँ पूर्व ऐतिहासिक गुफा चित्रों तथा भित्ति चित्रों का बेहतरीन उदाहरण हैं।

Options:

1) Ajanta

अजंता

2) Ellora

एलोरा

3) Bhimbetka

भीमबेटका

4) Elephanta

एलीफंटा

Correct Answer: Bhimbetka

भीमबेटका

Candidate Answer: Bhimbetka

भीमबेटका

QID : 97 - In 2017, which prize was awarded to the Geneva-based International Campaign to Abolish Nuclear Weapons (ICAN)?

2017 में जिनेवा के इंटरनेशनल कैम्पेन टु अबोलिश नुक्लीअर वेपन्स (आईसीएएन) किस पुरस्कार से सम्मानित किया गया है?

Options:

- 1) Nobel Peace Prize
नोबेल शांति पुरस्कार
- 2) Lenin Peace Prize
लेनिन शांति पुरस्कार
- 3) Gandhi Peace Award
गांधी शांति पुरस्कार
- 4) None of these
इनमें से कोई नहीं

Correct Answer: Nobel Peace Prize
नोबेल शांति पुरस्कार

Candidate Answer: Nobel Peace Prize
नोबेल शांति पुरस्कार

QID : 98 - Who is the author of the book named "An Introduction of the Dreamland"?

"एन इनट्रोडक्शन ऑफ द ड्रीमलैंड" नामक पुस्तक के लेखक कौन है?

Options:

- 1) Mahatma Gandhi
महात्मा गांधी
- 2) Bhagat Singh
भगत सिंह
- 3) Jawaharlal Nehru
जवाहर लाल नेहरू
- 4) Lal Bahadur Shastri
लाल बहादुर शास्त्री

Correct Answer: Bhagat Singh
भगत सिंह

Candidate Answer: [NOT ANSWERED]

QID : 99 - Which country hosted the second summit of the Pacific Islands countries, Forum for India-Pacific Islands Cooperation(FIPIC)?

किस देश ने प्रशांत द्वीप समूह देशों, भारत-प्रशांत द्वीप समूह सहयोग फोरम (एफआईपीआईसी) के दूसरे शिखर सम्मेलन की मेजबानी की?

Options:

- 1) Solomon Islands
सोलोमन इस्लैंड्स
- 2) India
भारत
- 3) Fiji
फ़िजी
- 4) Papua New Guinea
पापुआ न्यू गिनी

Correct Answer: India
भारत

Candidate Answer: India
भारत

QID : 100 - Cox's Bazar of _____ is the longest unbroken sea beach in the world.

_____ का कॉक्स बाजार दुनिया में सबसे लंबा समय तक अटूट समुद्र तट है।

Options:

- 1) Nepal
नेपाल
- 2) Bangladesh
बांग्लादेश
- 3) Myanmar
म्यांमार
- 4) Pakistan
पाकिस्तान

Correct Answer: Bangladesh
बांग्लादेश

Candidate Answer: [NOT ANSWERED]