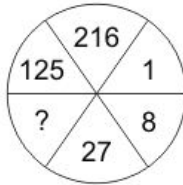


QID : 201 -

In the following question, select the number which can be placed at the sign of question mark (?) from the given alternatives.

निम्नलिखित प्रश्न में दिए गए विकल्पों में से प्रश्न चिह्न (?) के स्थान पर आने वाली संख्या को चुनिए।



Options:

1) 65

2) 32

3) 64

4) 25

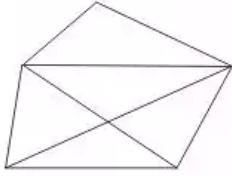
Correct Answer: 64

Candidate Answer: 64

QID : 202 -

How many quadrilaterals are there in the given figure?

दी गई आकृति में कितने चतुर्भुज हैं?



Options:

1) 3

2) 4

3) 2

4) 5

Correct Answer: 4

Candidate Answer: 4

QID : 203 -

A word is represented by only one set of numbers as given in any one of the alternatives. The sets of numbers given in the alternatives are represented by two classes of alphabets as shown in the given two matrices. The columns and rows of **Matrix-I** are numbered from 0 to 4 and that of **Matrix-II** are numbered from 5 to 9. A letter from these matrices can be represented first by its row and next by its column, for example, 'T' can be represented by 43, 75, etc., and 'U' can be represented by 20, 97, etc. Similarly, you have to identify the set for the word "REACH".

एक शब्द केवल एक संख्या-समूह द्वारा दर्शाया गया है, जैसा कि विकल्पों में से किसी एक में दिया गया है। विकल्पों में दिए गए संख्या-समूह अक्षरों के दो वर्गों द्वारा दर्शाए गए हैं, जैसा कि दिए गए दो आव्यूहों में है। **आव्यूह-I** के स्तम्भ और पंक्ति की संख्या 0 से 4 है और **आव्यूह-II** की 5 से 9। इन आव्यूहों से एक अक्षर को पहले उसकी पंक्ति और बाद में स्तम्भ संख्या द्वारा दर्शाया जा सकता है। उदाहरण के लिए 'T' को 43, 75, आदि द्वारा दर्शाया जा सकता है तथा 'U' को 20, 97, आदि द्वारा दर्शाया जा सकता है। इसी तरह से आपको प्रश्न में दिए शब्द "REACH" के लिए समूह को पहचानना है।

Matrix-I आव्यूह-I						Matrix-II आव्यूह-II					
	0	1	2	3	4		5	6	7	8	9
0	Y	C	U	G	I	5	P	K	D	F	R
1	K	I	H	Q	E	6	G	W	O	H	V
2	U	E	Y	B	A	7	T	S	Y	J	S
3	F	H	P	L	N	8	H	F	I	L	R
4	A	R	M	T	O	9	D	S	U	N	A

Options:

1) 41, 21, 24, 01, 12

2) 89, 14, 69, 01, 85

3) 41, 89, 99, 89, 10

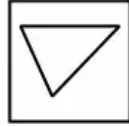
4) 21, 59, 40, 59, 12

Correct Answer: 41, 21, 24, 01, 12**Candidate Answer:** 41, 21, 24, 01, 12

QID : 204 -

From the given answer figures, select the one in which the question figure is hidden/embedded.

दी गई उत्तर आकृतियों में से उस उत्तर आकृति को चुनिए जिस में प्रश्न आकृति निहित है।



Options:

1)



2)



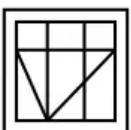
3)



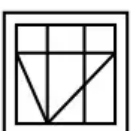
4)



Correct Answer:



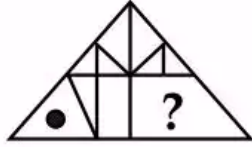
Candidate Answer:



QID : 205 -

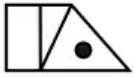
Which answer figure will complete the pattern in the question figure?

कौन सी उत्तर आकृति प्रश्न आकृति के प्रतिरूप को पूरा करेगी?

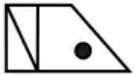


Options:

1)



2)



3)



4)



Correct Answer:



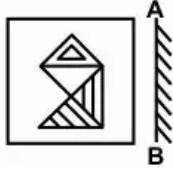
Candidate Answer:



QID : 206 -

If a mirror is placed on the line AB, then which of the answer figures is the right image of the given figure?

यदि एक दर्पण को AB रेखा पर रखा जाए, तो दी गई उत्तर आकृतियों में से कौन सी आकृति प्रश्न आकृति की सही प्रतिबिम्ब होगी?



Options:

1)



2)



3)



4)



Correct Answer:



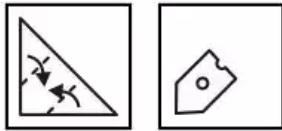
Candidate Answer:



QID : 207 -

A piece of paper is folded and punched as shown below in the question figures. From the given answer figures, indicate how it will appear when opened?

नीचे के प्रश्न आकृतियों में दिखाए अनुसार कागज को मोड़कर छेदने तथा खोलने के बाद वह किस उत्तर आकृति जैसा दिखाई देगा?



Options:

1)



2)



3)



4)



Correct Answer:



Candidate Answer:



QID : 208 - If '+' means ' \div ', 'x' means '-', '-' means '+' and ' \div ' means 'x', then

$$16 - 5 + 2 \div 22 \times 9 = ?$$

यदि '+' का अर्थ ' \div ', 'x' का अर्थ '-', '-' का अर्थ '+' तथा ' \div ' का अर्थ 'x' हो, तो

$$16 - 5 + 2 \div 22 \times 9 = ?$$

Options:

- 1) 82
- 2) 62
- 3) 60
- 4) 44

Correct Answer: 62

Candidate Answer: 62

QID : 209 - If 11 C 12 D 24 = 22 and 4 C 6 D 12 = 8, then

$$4 \text{ C } 9 \text{ D } 18 = ?$$

यदि 11 C 12 D 24 = 22 तथा 4 C 6 D 12 = 8 हो, तो

$$4 \text{ C } 9 \text{ D } 18 = ?$$

Options:

- 1) 22
- 2) 12
- 3) 16
- 4) 8

Correct Answer: 8

Candidate Answer: 8

QID : 210 - Arrange the given words in the sequence in which they occur in the dictionary.

- 1. Marked
- 2. Maker
- 3. Marker
- 4. Master
- 5. Mars

निम्नलिखित शब्दों को शब्दकोश में आने वाले क्रम के अनुसार लिखें।

- 1. Marked
- 2. Maker
- 3. Marker
- 4. Master
- 5. Mars

Options:

- 1) 21354
- 2) 23154
- 3) 25314
- 4) 21534

Correct Answer: 21354

Candidate Answer: 21354

QID : 211 - In the following question, select the missing number from the given series.

3, 14, 35, 46, 67, ?

निम्नलिखित प्रश्न में दिए गए विकल्पों में से लुप्त अंक ज्ञात कीजिए।

3, 14, 35, 46, 67, ?

Options:

1) 78

2) 68

3) 98

4) 88

Correct Answer: 78

Candidate Answer: 78

QID : 212 - A series is given with one term missing. Select the correct alternative from the given ones that will complete the series.

XYZ, ABC, DEF, ?

एक अनुक्रम दिया गया है, जिसमें से एक पद लुप्त है। दिए गए विकल्पों में से वह सही विकल्प चुनिए, जो अनुक्रम को पूरा करे।

XYZ, ABC, DEF, ?

Options:

1) HIJ

2) GHK

3) GHI

4) GHJ

Correct Answer: GHI

Candidate Answer: GHI

QID : 213 - In the following question, select the odd word from the given alternatives.

निम्नलिखित प्रश्न में दिए गए विकल्पों में से विषम शब्द को चुनिए।

Options:

1) Mercury

बुध

2) Mars

मंगल

3) Earth

पृथ्वी

4) Sun

सूर्य

Correct Answer: Sun

सूर्य

Candidate Answer: Sun

सूर्य

QID : 214 - In the following question, select the odd number pair from the given alternatives.

निम्नलिखित प्रश्न में दिए गए विकल्पों में से विषम संख्या युग्म को चुनिए।

Options:

1) 221 – 663

2) 190 – 570

3) 264 – 792

4) 108 – 323

Correct Answer: 108 – 323

Candidate Answer: 108 – 323

QID : 215 - In the following question, select the odd letters from the given alternatives.

निम्नलिखित प्रश्न में दिए गए विकल्पों में से विषम अक्षरों को चुनिए।

Options:

1) AZ

2) BY

3) MN

4) LP

Correct Answer: LP

Candidate Answer: LP

QID : 216 - Identify the diagram that best represents the relationship among the given classes.

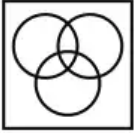
Liquid, Milk, Water

वह आरेख चुनिए जो नीचे दिए गए वर्गों के बीच के संबंध का सही निरूपण करता है।

तरल, दूध, जल

Options:

1)



2)



3)



4)



Correct Answer:



Candidate Answer:



QID : 217 - In the following question, select the related word from the given alternatives.

Apple : Fruit :: Mars : ?

निम्नलिखित प्रश्न में दिए गए विकल्पों में से संबंधित शब्द को चुनिए।

सेब : फल :: मंगल : ?

Options:

1) War

युद्ध

2) Planet

ग्रह

3) Cartoon

कार्टून

4) Orbit

कक्षा

Correct Answer: Planet

ग्रह

Candidate Answer: Planet

ग्रह

QID : 218 - In the following question, select the related number from the given alternatives.

432 : 654 :: 321 : ?

निम्नलिखित प्रश्न में दिए गए विकल्पों में से संबंधित संख्या को चुनिए।

432 : 654 :: 321 : ?

Options:

1) 653

2) 431

3) 543

4) 987

Correct Answer: 543

Candidate Answer: 543

QID : 219 - In the following question, select the related letters from the given alternatives.

MEAT : LDZS :: PALE : ?

निम्नलिखित प्रश्न में दिए गए विकल्पों में से संबंधित अक्षरों को चुनिए।

MEAT : LDZS :: PALE : ?

Options:

1) OKZD

2) OBMF

3) OZKD

4) OZDK

Correct Answer: OZKD

Candidate Answer: OZKD

QID : 220 - In the following question, select the word which cannot be formed using the letters of the given word.

COUNTERFEIT

निम्नलिखित विकल्पों में से वह शब्द चुनिए जो दिए गए शब्द के अक्षरों का प्रयोग करके नहीं बनाया जा सकता।

COUNTERFEIT

Options:

1) TURN

2) COUNT

3) FOUND

4) TIRE

Correct Answer: FOUND

Candidate Answer: FOUND

QID : 221 - P is 3 years older to Q. Q is 4 years younger to R. R is 4 years older to S. S is 5 years younger to T. Who is the eldest?

P, Q से 3 वर्ष बड़ा है। Q, R से 4 वर्ष छोटा है। R, S से 4 वर्ष बड़ा है। S, T से 5 वर्ष छोटा है। सबसे बड़ा कौन है?

Options:

1) Q

2) T

3) R

4) S

Correct Answer: T

Candidate Answer: T

QID : 222 - Z walks 33 km towards north. He turns left and walks 19 km. He turns left and walks 33 km. How far (in km) is he from his starting point?

Z उत्तर की ओर 33 कि.मी. चलता है। वह बायीं ओर मुड़ता है तथा 19 कि.मी. चलता है। वह बायीं ओर मुड़ता है तथा 33 कि.मी. चलता है। वह अपने आरंभिक बिन्दु से कितनी दूरी (कि.मी. में) पर है?

Options:

1) 14

2) 15

3) 19

4) $\sqrt{32}$

Correct Answer: 19

Candidate Answer: 19

GovtJobsAlert.In

QID : 223 - In the following question below are given some statements followed by some conclusions. Taking the given statements to be true even if they seem to be at variance from commonly known facts, read all the conclusions and then decide which of the given conclusion logically follows the given statements.

Statements:

- I. All K are M.
- II. No L is K.

Conclusions:

- I. No L is M.
- II. Some K are not M.

नीचे दिए गए प्रश्न में कुछ कथन और उनके बाद उन कथनों पर आधारित कुछ निष्कर्ष दिए गए हैं, हालांकि उनमें सामान्य ज्ञात तथ्यों से भिन्नता हो सकती है। सभी निष्कर्ष पढ़ें और फिर निर्धारित करें कि दिए गए कौन से निष्कर्ष, दिए गए कथनों के आधार पर युक्तिसंगत हैं।

कथन:

- I. सभी K, M हैं।
- II. कोई L, K नहीं है।

निष्कर्ष:

- I. कोई L, M नहीं है।
- II. कुछ K, M नहीं है।

Options:

1) Only conclusion (I) follows.

केवल निष्कर्ष (I) सही है।

2) Only conclusion (II) follows.

केवल निष्कर्ष (II) सही है।

3) Both conclusion follow.

दोनों ही निष्कर्ष सही हैं।

4) Neither conclusion (I) nor conclusion (II) follows.

न तो निष्कर्ष (I) न ही निष्कर्ष (II) सही है।

Correct Answer: Neither conclusion (I) nor conclusion (II) follows.

न तो निष्कर्ष (I) न ही निष्कर्ष (II) सही है।

Candidate Answer: Neither conclusion (I) nor conclusion (II) follows.

न तो निष्कर्ष (I) न ही निष्कर्ष (II) सही है।

QID : 224 - In a certain code language, 'sky' is written as 'tall', 'tall' is written as 'short', 'short' is written as 'red', 'red' is written as 'blue' and 'blue' is written as 'sun'. What is the colour of tomato?

एक विशिष्ट कोड भाषा में, 'आकाश' को 'लम्बा', 'लम्बा' को 'छोटा', 'छोटा' को 'लाल', 'लाल' को 'नीला' तथा 'नीला' को 'सूर्य' लिखा जाता है। टमाटर का रंग क्या है?

Options:

1) sky

आकाश

2) tall

लम्बा

3) blue

नीला

4) red

लाल

Correct Answer: blue

नीला

Candidate Answer: blue

नीला

QID : 225 - In a certain code language, "**FUNK**" is written as "**51**" and "**HULK**" is written as "**51**". How is "**HERO**" written in that code language?

एक विशिष्ट कोड भाषा में, "**FUNK**" को "**51**" तथा "**HULK**" को "**51**" लिखा जाता है। इस कोड भाषा में "**HERO**" को किस प्रकार लिखा जाएगा?

Options:

1) 45

2) 47

3) 43

4) 50

Correct Answer: 45

Candidate Answer: 45

QID : 226 - Suresh bought a shirt for Rs 697 with a discount of 18% on the marked price. Find the marked price of the shirt.

सुरेश ने एक कमीज अंकित मूल्य पर 18% की छूट के बाद 697 रु में खरीदी। शर्ट का अंकित मूल्य बताएं।

Options:

1) Rs 850

850 रु

2) Rs 840

840 रु

3) Rs 831

831 रु

4) Rs 951

951 रु

Correct Answer: Rs 850

850 रु

Candidate Answer: Rs 850

850 रु

QID : 227 - The sum of all odd integers between 12 and 42 is _____.

12 और 42 के बीच की सभी विषम पूर्णांक संख्याओं का योग _____ है।

Options:

1) 415

2) 405

3) 440

4) 410

Correct Answer: 405

Candidate Answer: 405

QID : 228 - Salim can do a piece of work in 30 days and Javed can do the same work in 45 days. After work together for 15 days, Javed stops working. How many days Salim will take to complete the work that is left?

सलीम एक काम को 30 दिनों पूरा में कर सकता है और जावेद उसी काम को 45 दिनों में पूरा कर सकता है। उसी काम को 15 दिनों तक साथ मिलकर करने के बाद जावेद काम करना बंद कर देता है। सलीम बचे हुए काम को पूरा करने में कितना समय लगाएगा?

Options:

1) 4 days

4 दिन

2) 8 days

8 दिन

3) 6 days

6 दिन

4) 5 days

5 दिन

Correct Answer: 5 days

5 दिन

Candidate Answer: 5 days

5 दिन

QID : 229 - A and B walk at average speed of 2 km/hr and 3 km/hr respectively. If A walks in North direction and B in East direction beginning from the same origin at the same time, what will be the distance between the two after 2 hours?

A तथा B क्रमशः 2 किमी/घंटा और 3 किमी/घंटा की औसत गति से चलते हैं। अगर A उत्तर की दिशा में और B पूरब की दिशा में एक ही बिंदु से एक ही समय में चलना आरम्भ करते हैं, तो 2 घंटे बाद उनके बीच की दूरी क्या होगी?

Options:

- 1) 10 km
10 किमी.
- 2) $2\sqrt{13}$ km
 $2\sqrt{13}$ किमी.
- 3) $\sqrt{13}/2$ km
 $\sqrt{13}/2$ किमी.
- 4) $\sqrt{26}$ km
 $\sqrt{26}$ किमी.

Correct Answer: $2\sqrt{13}$ km
 $2\sqrt{13}$ किमी.

Candidate Answer: $2\sqrt{13}$ km
 $2\sqrt{13}$ किमी.

QID : 230 - Dravid scored 45, 43, 62 and 74 in a series of four one-day cricket match. What is his average score for the series?

द्रविड़ ने 4 मैचों की एकदिवसीय क्रिकेट श्रृंखला में 45, 43, 62 और 74 रन बनाए। इस श्रृंखला में उसका औसत स्कोर क्या है?

Options:

- 1) 60
- 2) 58
- 3) 54
- 4) 56

Correct Answer: 56

Candidate Answer: 56

QID : 231 - A shopkeeper offers 12% discount on an electronic gadget with a marked price of Rs 5700. If he still earns a profit of Rs 500, what is the cost price of the gadget?

एक दुकानदार 5700 रु अंकित मूल्य वाले एक इलेक्ट्रॉनिक गैजेट पर 12% छूट देता है। अगर फिर भी वह 500 रु का लाभ कमाता है, तो गैजेट का क्रय मूल्य क्या है?

Options:

- 1) Rs 4500
4500 रु
- 2) Rs 5516
5516 रु
- 3) Rs 6200
6200 रु
- 4) Rs 4516
4516 रु

Correct Answer: Rs 4516

4516 रु

Candidate Answer: Rs 4516

4516 रु

QID : 232 - The total surface area of a cube is 1734 cm^2 . What is the volume of this cube?

एक घन का सम्पूर्ण पृष्ठ क्षेत्रफल 1734 सेमी^2 है। इस घन का आयतन क्या है?

Options:

1) 4913 cm^3

4913 सेमी^3

2) 5013 cm^3

5013 सेमी^3

3) 4813 cm^3

4813 सेमी^3

4) 4713 cm^3

4713 सेमी^3

Correct Answer: 4913 cm^3

4913 सेमी^3

Candidate Answer: 4913 cm^3

4913 सेमी^3

QID : 233 - A number when divided by 7 leaves a remainder 4. When the square of the number is divided by 7 the remainder is ____.

एक संख्या को 7 से विभाजित करने पर 4 शेष बचता है। जब उस संख्या के वर्ग को 7 से विभाजित किया जाता है, तो शेषफल ____ है।

Options:

- 1) 4
- 2) 2
- 3) 3
- 4) 1

Correct Answer: 2

Candidate Answer: 2

QID : 234 - The sum of all three digit natural numbers divisible by 9 is _____.

9 से विभाजित होने वाली 3 अंकों की सभी प्राकृत संख्याओं का योग _____ है।

Options:

- 1) 55300
- 2) 55350
- 3) 55500
- 4) 55555

Correct Answer: 55350

Candidate Answer: 55350

QID : 235 - A person who spends 92 % of his monthly income is able to save Rs 2500. What is his monthly income?

एक व्यक्ति अपने मासिक आय का 92% खर्च कर देता है और 2500 रुपये की मासिक बचत करता है। उसकी मासिक आय क्या है?

Options:

- 1) Rs 31250
31250 रु
- 2) Rs 30500
30500 रु
- 3) Rs 32550
32550 रु
- 4) Rs 32250
32250 रु

Correct Answer: Rs 31250
31250 रु

Candidate Answer: Rs 31250
31250 रु

QID : 236 - A cloth seller sells 80% of his stock for a particular item and recovers the cost price. If he sells the remaining stock at the same price then what will be his profit percentage after selling the complete stock?

एक वस्त्र विक्रेता विशेष मद के अपने स्टॉक का 80 प्रतिशत बेचता है और क्रय मूल्य वसूल लेता है। अगर वह बचे हुए स्टॉक को उसी मूल्य पर बेचना जारी रखता है तो पूरा स्टॉक बेचने के बाद उसका लाभ प्रतिशत क्या होगा?

Options:

- 1) 20%
- 2) 25%
- 3) 40%
- 4) 10%

Correct Answer: 25%

Candidate Answer: 25%

QID : 237 - A sum of Rs 9000 brings simple interest of Rs 2970 in three years. If the interest rate is increased by 2 %, what will be the interest in three years on the same capital?

9000 रु की धनराशि पर 3 वर्ष में 2970 रु साधारण ब्याज मिलता है।
अगर ब्याज की दर 2% बढ़ा दी जाय, तो 3 वर्ष में उसी धनराशि पर ब्याज कितना होगा?

Options:

1) Rs 3520

3520 रु

2) Rs 3510

3510 रु

3) Rs 3540

3540 रु

4) Rs 3550

3550 रु

Correct Answer: Rs 3510

3510 रु

Candidate Answer: Rs 3510

3510 रु

QID : 238 - What least number must be added to 738 so that the sum is completely divisible by 59?

738 में कम से कम कितनी संख्या जोड़नी चाहिए ताकि कुल योग 59 से पूर्ण विभाज्य हो जाए?

Options:

- 1) 15
- 2) 13
- 3) 27
- 4) 29

Correct Answer: 29

Candidate Answer: 29

QID : 239 - The monthly salaries of A and B are in the ratio 4:5. If both of them get a salary increment of Rs 3000 per month, the new ratio of their monthly salary becomes 5:6. What is the new monthly salary of A?

A तथा B के मासिक वेतनों का अनुपात 4:5 है। अगर दोनों को 3000 रु की मासिक वेतन वृद्धि मिलती है, तो उनके मासिक वेतनों का नया अनुपात 5:6 हो जाता है। A का नया मासिक वेतन क्या है?

Options:

- 1) Rs 15000
15000 रु
- 2) Rs 18000
18000 रु
- 3) Rs 8000
8000 रु
- 4) Rs 11000
11000 रु

Correct Answer: Rs 15000

15000 रु

Candidate Answer: Rs 15000

15000 रु

QID : 240 - A car covers a distance of 16 kms in 30 minutes. What is its average speed?

एक कार 16 किमी. की दूरी 30 मिनट में तय करती है। उसकी औसत गति क्या है?

Options:

1) 16 km/hr

16 किमी./घंटा

2) 32 km/hr

32 किमी./घंटा

3) 24 km/hr

24 किमी./घंटा

4) 8 km/hr

8 किमी./घंटा

Correct Answer: 32 km/hr

32 किमी./घंटा

Candidate Answer: 32 km/hr

32 किमी./घंटा

QID : 241 - The sum of 6 consecutive integers is 9. What is the lowest integer?

6 लगातार पूर्णांक संख्याओं का योग 9 है। सबसे छोटी पूर्णांक संख्या क्या है?

Options:

1) 1

2) 0

3) -2

4) -1

Correct Answer: -1

Candidate Answer: -1

QID : 242 - Sohan spends 80% of his salary and saves the rest. If his salary is increased by 20% and he saves half of the increased amount besides the amount he previously used to save, what will be the percentage change in his monthly savings?

सोहन अपने वेतन का 80% खर्च करता है और शेष का बचत करता है। अगर उसके वेतन में 20% की वृद्धि की जाती है और वह पहले से बचत करने में प्रयुक्त राशि के अलावा वेतन वृद्धि का आधा हिस्सा बचत करता है, तो उसके मासिक बचत में कितने प्रतिशत का परिवर्तन होगा?

Options:

1) 20%

2) 40%

3) 50%

4) 10%

Correct Answer: 50%

Candidate Answer: 50%

QID : 243 - How many integers are there between 39 and 420 which are exactly divisible by 9?

39 और 420 के बीच 9 से पूरी तरह से विभाज्य होने वाली पूर्णांक संख्याएं कितनी हैं?

Options:

- 1) 41
- 2) 42
- 3) 43
- 4) 44

Correct Answer: 42

Candidate Answer: 42

QID : 244 - A shopkeeper sells stock of 6 buckets at a total loss of Rs 360 divided equally on each bucket. If he incurs a loss of 20 percent on this stock, what is the selling price of each bucket?

एक दुकानदार 6 बाल्टियों के एक स्टॉक में से प्रत्येक बाल्टी को एक समान हानि पर कुल 360 रुपये के नुकसान पर बेचता है। अगर उसे इस स्टॉक पर कुल 20 प्रतिशत की हानि होती है, तो प्रत्येक बाल्टी का विक्रय मूल्य क्या है?

Options:

1) Rs 240

240 रु

2) Rs 260

260 रु

3) Rs 280

280 रु

4) Rs 290

290 रु

Correct Answer: Rs 240

240 रु

Candidate Answer: Rs 240

240 रु

QID : 245 - Rajat does a work in 10 days and Suhail does the same work in 15 days. In how many days they together will do the same work?

रजत एक काम 10 दिनों में पूरा करता है और सुहैल उसी काम को 15 दिनों पूरा में करता है। दोनों साथ मिलकर उस काम को कितने दिनों में पूरा करेंगे?

Options:

1) 6 days

6 दिन

2) 5 days

5 दिन

3) 4 days

4 दिन

4) 8 days

8 दिन

Correct Answer: 6 days

6 दिन

Candidate Answer: 6 days

6 दिन

QID : 246 - If Rs 2232 is divided in the ratio of 8:13:15 among A, B and C respectively, what will be the share of B?

अगर 2232 रु को A, B तथा C के बीच 8:13:15 के अनुपात में विभाजित किया जाता है, तो B का हिस्सा क्या होगा?

Options:

1) Rs 496

496 रु

2) Rs 806

806 रु

3) Rs 706

706 रु

4) Rs 930

930 रु

Correct Answer: Rs 806

806 रु

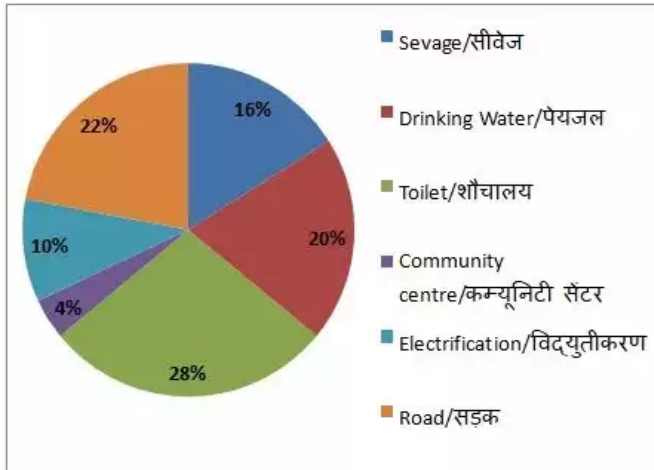
Candidate Answer: Rs 806

806 रु

QID : 247 -

The pie chart below shows fund allocated to a village for different areas covered under a special village development scheme of Rs 1200 Crore. Answer the question below on the basis of the details given in the following pie chart.

नीचे दिए पाई चार्ट में एक गाँव विशेष में ग्रामीण विकास योजना के तहत विभिन्न मदों में आवंटित कुल 1200 करोड़ रुपये की धनराशि का विवरण है। निम्नलिखित प्रश्न का उत्तर पाई चार्ट में दर्शाए गए विभिन्न मदों के हिस्सों से संबंधित आंकड़ों के आधार पर दें।



What is the total fund allocation for Road and Sewage construction together?

सड़क और सीवेज दोनों के निर्माण के लिए आवंटित कुल राशि कितनी है?

Options:

1) Rs 456 Crore

456 करोड़ रुपये

2) Rs 466 crore

466 करोड़ रुपये

3) Rs 468 crore

468 करोड़ रुपये

4) Rs 492 crore

492 करोड़ रुपये

Correct Answer: Rs 456 Crore

456 करोड़ रुपये

Candidate Answer: Rs 456 Crore

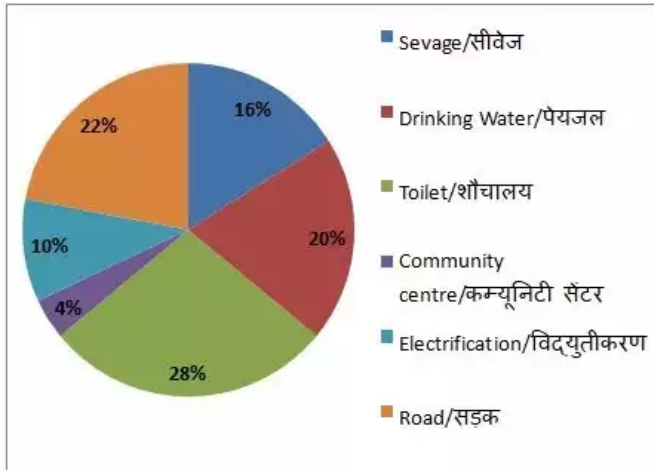
456 करोड़ रुपये

GovtJobsAlert.In

QID : 248 -

The pie chart below shows fund allocated to a village for different areas covered under a special village development scheme of Rs 1200 Crore. Answer the question below on the basis of the details given in the following pie chart.

नीचे दिए पाई चार्ट में एक गाँव विशेष में ग्रामीण विकास योजना के तहत विभिन्न मदों में आवंटित कुल 1200 करोड़ रुपये की धनराशि का विवरण है। निम्नलिखित प्रश्न का उत्तर पाई चार्ट में दर्शाए गए विभिन्न मदों के हिस्सों से संबंधित आंकड़ों के आधार पर दें।



Find the total budget for electrification?

विद्युतीकरण के लिए कुल बजट कितना है?

Options:

1) Rs 60 Crore

60 करोड़ रुपये

2) Rs 100 Crore

100 करोड़ रुपये

3) Rs 10 Crore

10 करोड़ रुपये

4) Rs 120 Crore

120 करोड़ रुपये

Correct Answer: Rs 120 Crore

120 करोड़ रुपये

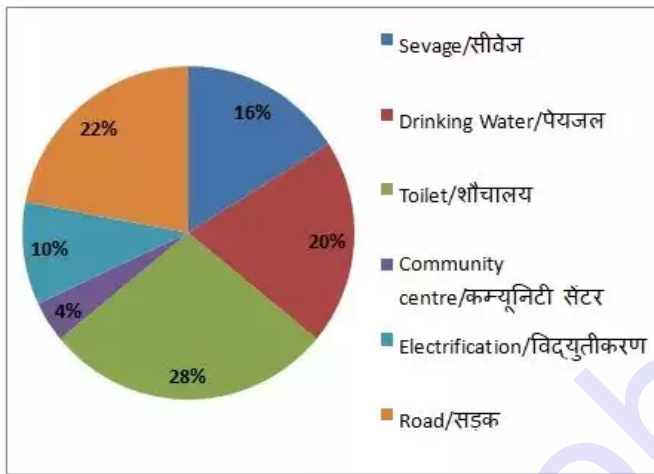
Candidate Answer: Rs 120 Crore

120 करोड़ रुपये

QID : 249 -

The pie chart below shows fund allocated to a village for different areas covered under a special village development scheme of Rs 1200 Crore. Answer the question below on the basis of the details given in the following pie chart.

नीचे दिए पाई चार्ट में एक गाँव विशेष में ग्रामीण विकास योजना के तहत विभिन्न मदों में आवंटित कुल 1200 करोड़ रुपये की धनराशि का विवरण है। निम्नलिखित प्रश्न का उत्तर पाई चार्ट में दर्शाए गए विभिन्न मदों के हिस्सों से संबंधित आंकड़ों के आधार पर दें।



What is the total fund allocation for Drinking Water and Toilet together?

पेयजल और शौचालय दोनों के लिए कुल कितनी राशि आवंटित है?

Options:

1) Rs 676 Crore

676 करोड़ रुपये

2) Rs 576 Crore

576 करोड़ रुपये

3) Rs 588 Crore

588 करोड़ रुपये

4) Rs 598 Crore

598 करोड़ रुपये

Correct Answer: Rs 576 Crore

576 करोड़ रुपये

Candidate Answer: Rs 576 Crore

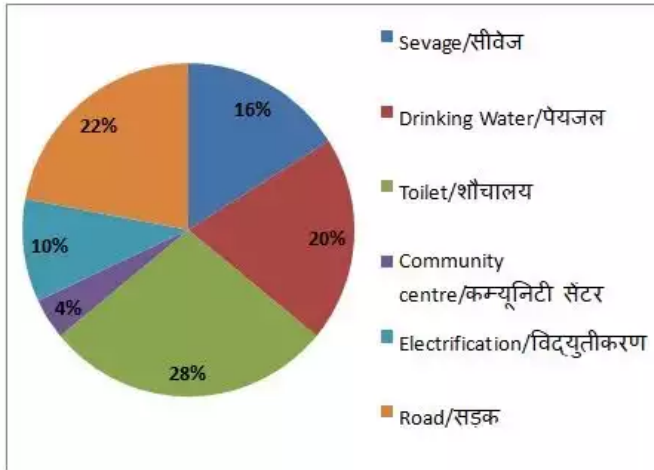
576 करोड़ रुपये

GovtJobsAlert.In

QID : 250 -

The pie chart below shows fund allocated to a village for different areas covered under a special village development scheme of Rs 1200 Crore. Answer the question below on the basis of the details given in the following pie chart.

नीचे दिए पाई चार्ट में एक गाँव विशेष में ग्रामीण विकास योजना के तहत विभिन्न मदों में आवंटित कुल 1200 करोड़ रुपये की धनराशि का विवरण है। निम्नलिखित प्रश्न का उत्तर पाई चार्ट में दर्शाए गए विभिन्न मदों के हिस्सों से संबंधित आंकड़ों के आधार पर दें।



How much more amount is allocated for Drinking Water than that for the Sewage construction?

सीवेज निर्माण के लिए आवंटित राशि से पेयजल के लिए और कितनी अधिक राशि आवंटित की गई है?

Options:

- 1) Rs 48 Crore
48 करोड़ रुपये
- 2) Rs 40 Crore
40 करोड़ रुपये
- 3) Rs 36 Crore
36 करोड़ रुपये
- 4) Rs 24 Crore
24 करोड़ रुपये

Correct Answer: Rs 48 Crore

48 करोड़ रुपये

Candidate Answer: Rs 48 Crore

48 करोड़ रुपये

QID : 251 - In the following question, some part of the sentence may have errors. Find out which part of the sentence has an error and select the appropriate option. If a sentence is free from error, select 'No Error'.

A century ago, Math was thought (1) /to be a orderly Platonic phenomenon, (2) / imperious in its perfection. (3) / No error (4)

Options:

1) 1

2) 2

3) 3

4) 4

Correct Answer: 2

Candidate Answer: [NOT ANSWERED]

QID : 252 - In the following question, some part of the sentence may have errors. Find out which part of the sentence has an error and select the appropriate option. If a sentence is free from error, select 'No Error'.

Mathematics increasingly revealed truths itself (1)/ that utterly confounded the (2)/ expectations of philosophers. (3)/ No error (4)

Options:

1) 1

2) 2

3) 3

4) 4

Correct Answer: 1

Candidate Answer: 1

QID : 253 - In the following question, the sentence given with blank to be filled in with an appropriate word. Select the correct alternative out of the four and indicate it by selecting the appropriate option.

Our troops _____ fought bravely.

Options:

1) are

2) have

3) were

4) has

Correct Answer: have

Candidate Answer: were

QID : 254 - In the following question, the sentence given with blank to be filled in with an appropriate word. Select the correct alternative out of the four and indicate it by selecting the appropriate option.

Neither of them has done _____ duty.

Options:

1) its

2) their

3) his

4) them

Correct Answer: their

Candidate Answer: his

QID : 255 - In the following question, out of the given four alternatives, select the one which best expresses the meaning of the given word.

Afflict

Options:

1) Comfort

2) Annoy

3) Solace

4) Care

Correct Answer: Annoy

Candidate Answer: Care

QID : 256 - In the following question, out of the given four alternatives, select the one which best expresses the meaning of the given word.

Barrier

Options:

- 1) Bound
- 2) Open
- 3) Minimum
- 4) Free

Correct Answer: Bound

Candidate Answer: Minimum

QID : 257 - In the following question, out of the given four alternatives, select the one which best expresses the meaning of the given word.

Bind

Options:

- 1) Release
- 2) Unite
- 3) Fasten
- 4) Loose

Correct Answer: Unite

Candidate Answer: Unite

QID : 258 - In the following question, out of the given four alternatives, select the one which is opposite in meaning of the given word.

Reason

Options:

- 1) Brain
- 2) Charge
- 3) Acumen
- 4) Intellect

Correct Answer: Charge

Candidate Answer: Acumen

QID : 259 - In the following question, out of the given four alternatives, select the one which is opposite in meaning of the given word.

Rectify

Options:

- 1) Adjust
- 2) Amend
- 3) Falsify
- 4) Improve

Correct Answer: Falsify

Candidate Answer: Falsify

QID : 260 - In the following question, out of the given four alternatives, select the one which is opposite in meaning of the given word.

Incite

Options:

1) Discourage

2) Craze

3) Agitate

4) Activate

Correct Answer: Discourage

Candidate Answer: Activate

QID : 261 - In the following question, out of the four given alternatives, select the alternative which best expresses the meaning of the Idiom/Phrase.

At the drop of a hat

Options:

1) Rarely

2) Hardly

3) Instantly

4) Quietly

Correct Answer: Instantly

Candidate Answer: [NOT ANSWERED]

QID : 262 - In the following question, out of the four given alternatives, select the alternative which best expresses the meaning of the Idiom/Phrase.

Be glad to see the back of

Options:

- 1) To speak of an issue
- 2) Do what is expected
- 3) Be happy when a person leaves
- 4) Examining something carefully to not miss out any details

Correct Answer: Be happy when a person leaves

Candidate Answer: Examining something carefully to not miss out any details

QID : 263 - Improve the bracketed part of the sentence.

Perhaps you make it a **(pointing)** to read the business or sports section of your daily newspaper.

Options:

- 1) point
- 2) points
- 3) pointed
- 4) No improvement

Correct Answer: point

Candidate Answer: No improvement

QID : 264 - Improve the bracketed part of the sentence.

Take a look at this video to understand why dancing is the first (**steps**) to conquer any fitness test.

Options:

1) stepping

2) stone

3) step

4) No improvement

Correct Answer: step

Candidate Answer: step

QID : 265 - In the following question, out of the four given alternatives, select the alternative which is the best substitute of the phrase.

Dealing with cells

Options:

1) Cryptograph

2) Cytology

3) Calligraphy

4) Cynosure

Correct Answer: Cytology

Candidate Answer: Cytology

QID : 266 - In the following question, out of the four given alternatives, select the alternative which is the best substitute of the phrase.

Turning point of danger/disease

Options:

1) Cresendo

2) Creditor

3) Crisis

4) Convergence

Correct Answer: Crisis

Candidate Answer: [NOT ANSWERED]

QID : 267 - In the following question, a word has been written in four different ways out of which only one is correctly spelt. Select the correctly spelt word.

Options:

1) Vegetation

2) Vegitation

3) Vegetashun

4) Vegieetation

Correct Answer: Vegetation

Candidate Answer: Vegetation

QID : 268 - In the following question, a word has been written in four different ways out of which only one is correctly spelt. Select the correctly spelt word.

Options:

1) Scientist

2) Sigtist

3) Sceintist

4) Scientest

Correct Answer: Scientist

Candidate Answer: Scientist

QID : 269 - Rearrange the parts of the sentence in correct order.

You must

P: lesson before you

Q: learn your

R: leave the class

Options:

1) PRQ

2) RQP

3) QPR

4) RPQ

Correct Answer: QPR

Candidate Answer: QPR

QID : 270 - Rearrange the parts of the sentence in correct order.

Most of

P: I had invited

Q: turned up

R: the people

Options:

1) PRQ

2) RQP

3) QPR

4) RPQ

Correct Answer: RPQ

Candidate Answer: RQP

QID : 271 - In the following passage some of the words have been left out. Read the passage carefully and select the correct answer for the given blank out of the four alternatives.

Over the centuries, as society has become more democratic, etiquette has become an excellent _____ of good manners, common sense, and rules of conduct that _____ cultural norms and the rules of our society as a whole rather _____ just one distinct group within it. It has _____ to do with the fashion of the moment or who is in power and more to do with putting others at _____ and an ethical code of conduct.

an excellent _____ of good manners

Options:

- 1) combination
- 2) shake
- 3) focus
- 4) mat

Correct Answer: combination

Candidate Answer: combination

QID : 272 - In the following passage some of the words have been left out. Read the passage carefully and select the correct answer for the given blank out of the four alternatives.

Over the centuries, as society has become more democratic, etiquette has become an excellent _____ of good manners, common sense, and rules of conduct that _____ cultural norms and the rules of our society as a whole rather _____ just one distinct group within it. It has _____ to do with the fashion of the moment or who is in power and more to do with putting others at _____ and an ethical code of conduct.

that _____ cultural norms

Options:

- 1) were
- 2) reflect
- 3) not
- 4) on

Correct Answer: reflect

Candidate Answer: were

QID : 273 - In the following passage some of the words have been left out. Read the passage carefully and select the correct answer for the given blank out of the four alternatives.

Over the centuries, as society has become more democratic, etiquette has become an excellent _____ of good manners, common sense, and rules of conduct that _____ cultural norms and the rules of our society as a whole rather _____ just one distinct group within it. It has _____ to do with the fashion of the moment or who is in power and more to do with putting others at _____ and an ethical code of conduct.

whole rather _____ just one

Options:

- 1) they
- 2) this
- 3) than
- 4) those

Correct Answer: than

Candidate Answer: than

QID : 274 - In the following passage some of the words have been left out. Read the passage carefully and select the correct answer for the given blank out of the four alternatives.

Over the centuries, as society has become more democratic, etiquette has become an excellent _____ of good manners, common sense, and rules of conduct that _____ cultural norms and the rules of our society as a whole rather _____ just one distinct group within it. It has _____ to do with the fashion of the moment or who is in power and more to do with putting others at _____ and an ethical code of conduct.

It has _____ to do with

Options:

- 1) rounds
- 2) base
- 3) mildly
- 4) less

Correct Answer: less

Candidate Answer: less

QID : 275 - In the following passage some of the words have been left out. Read the passage carefully and select the correct answer for the given blank out of the four alternatives.

Over the centuries, as society has become more democratic, etiquette has become an excellent _____ of good manners, common sense, and rules of conduct that _____ cultural norms and the rules of our society as a whole rather _____ just one distinct group within it. It has _____ to do with the fashion of the moment or who is in power and more to do with putting others at _____ and an ethical code of conduct.

putting others at _____ and an ethical code

Options:

- 1) there
- 2) them
- 3) a
- 4) an

Correct Answer: an

Candidate Answer: there

QID : 276 - The people of the Harappan civilization were _____.

हड़प्पा सभ्यता के लोग _____ थे।

Options:

1) Rural

ग्रामीण

2) Urban

शहरी

3) Nomad

खानाबदोश

4) Tribal

जनजातीय

Correct Answer: Urban

शहरी

Candidate Answer: Urban

शहरी

QID : 277 - Who was the first Tirthankara of the Jains?

जैनियों के पहले तीर्थंकर कौन थे?

Options:

1) Aristhenemi

अरिष्टनेमि

2) Parshwnath

पार्श्वनाथ

3) Ajitnath

अजितनाथ

4) Rishabhdev

ऋषभदेव

Correct Answer: Rishabhdev

ऋषभदेव

Candidate Answer: [NOT ANSWERED]

QID : 278 - Which of the following is **NOT** a part of the solar system?

निम्नलिखित में से कौन सा सौरमंडल का भाग **नहीं** है ?

Options:

1) Asteroid

क्षुद्रग्रह

2) Comet

धूमकेतु

3) Planet

ग्रह

4) Nebula

निहारिका

Correct Answer: Nebula

निहारिका

Candidate Answer: Nebula

निहारिका

QID : 279 - What is the total number of continents in the world?

विश्व में महाद्वीपों की कुल संख्या कितनी है ?

Options:

1) 5

2) 6

3) 7

4) 8

Correct Answer: 7

Candidate Answer: 7

QID : 280 - What was the basis of formation of the Indian Constituent Assembly?

भारत की संविधान सभा गठित करने का आधार क्या था?

Options:

1) Proposal of Indian National Congress

भारतीय राष्ट्रीय काँग्रेस का प्रस्ताव

2) Cabinet Mission Plan, 1946

कैबिनेट मिशन प्लान, 1946

3) Indian Independence Act, 1947

भारतीय स्वतंत्रता अधिनियम, 1947

4) Proposals of the provincial / state legislature of the Indian Dominion

भारतीय डोमिनियम के प्रांतीय / राज्य विधानमंडल के प्रस्ताव

Correct Answer: Cabinet Mission Plan, 1946

कैबिनेट मिशन प्लान, 1946

Candidate Answer: [NOT ANSWERED]

QID : 281 - What type of constitution does India have?

भारत का संविधान किस प्रकार का है?

Options:

1) Flexible

नम्य

2) Rigid

अनम्य

3) Flexible and Rigid

नम्य और अनम्य

4) No option is Correct

कोई विकल्प सही नहीं है

Correct Answer: Flexible and Rigid

नम्य और अनम्य

Candidate Answer: Flexible and Rigid

नम्य और अनम्य

QID : 282 - Which unemployment is found in abundance in rural India?

भारत में ग्रामीण क्षेत्रों में कौन-सी बेरोजगारी अधिक पाई जाती है?

Options:

1) Seasonal unemployment

मौसमी बेरोजगारी

2) Invisible unemployment

अदृश्य बेरोजगारी

3) Both seasonal and invisible unemployment

मौसमी और अदृश्य बेरोजगारी दोनों

4) No option is right

कोई भी विकल्प सही नहीं है

Correct Answer: Both seasonal and invisible unemployment

मौसमी और अदृश्य बेरोजगारी दोनों

Candidate Answer: Seasonal unemployment

मौसमी बेरोजगारी

QID : 283 - What are the terms "bull and bear" is related to?

"बुल एंड बियर" शब्दावली का संबंध किससे है ?

Options:

1) Stock market

स्टॉक मार्केट

2) Banking

बैंकिंग

3) foreign currency

विदेशी मुद्रा

4) Internal business

आंतरिक व्यापार

Correct Answer: Stock market

स्टॉक मार्केट

Candidate Answer: Stock market

स्टॉक मार्केट

QID : 284 - How much is the charge of an electron?

एक इलेक्ट्रॉन पर कितना आवेश होता है ?

Options:

1) $-1.6 \times 10^{-19} \text{ C}$

2) $+1.6 \times 10^{-19} \text{ C}$

3) $-1.6 \times 10^{19} \text{ C}$

4) $+1.6 \times 10^{19} \text{ C}$

Correct Answer: $-1.6 \times 10^{-19} \text{ C}$

Candidate Answer: $+1.6 \times 10^{-19} \text{ C}$

QID : 285 - What is used to test acid and base?

अल्म व भस्म के परीक्षण के लिए किसका उपयोग किया जाता है?

Options:

1) Litmus paper

लिटमस पत्र

2) Cobalt paper

कोबाल्ट पत्र

3) Ammonia paper

अमोनिया पत्र

4) No option is right

कोई भी विकल्प सही नहीं है

Correct Answer: Litmus paper

लिटमस पत्र

Candidate Answer: Litmus paper

लिटमस पत्र

QID : 286 - Parsec is the unit of _____.

पार्सेक (parsec) इकाई है _____।

Options:

1) distance

दूरी की

2) time

समय की

3) Brightness

प्रकाश की चमक की

4) Of magnetic force

चुम्बकीय बल की

Correct Answer: distance

दूरी की

Candidate Answer: time

समय की

QID : 287 - The pressure inside the soap bubble is _____.

साबुन के बुलबुले के अन्दर का दाब _____।

Options:

1) more than atmospheric pressure

वायुमंडलीय दाब से अधिक होता है।

2) Less than atmospheric pressure

वायुमंडलीय दाब से कम होता है।

3) equal to atmospheric pressure

वायुमंडलीय दाब के बराबर होता है।

4) Half of the Atmospheric pressure

वायुमंडलीय दाब का आधा होता है।

Correct Answer: more than atmospheric pressure

वायुमंडलीय दाब से अधिक होता है।

Candidate Answer: [NOT ANSWERED]

QID : 288 - The study of flowers is called _____.

फूलों का अध्ययन _____ कहलाता है।

Options:

1) Spermology

स्पर्मोलॉजी

2) Anthology

ऐन्थोलॉजी

3) Pedology

पीडोलॉजी

4) Pomology

पोमोलॉजी

Correct Answer: Anthology

ऐन्थोलॉजी

Candidate Answer: Pomology

पोमोलॉजी

QID : 289 - Which of the following hormone is helpful in ripening of natural fruit?

निम्नलिखित में से कौन सा एक प्राकृतिक फल पकाने वाला हार्मोन है ?

Options:

1) Cytokinin

साइटोकाइनिन

2) Gibberellin

जिब्रेलिन

3) Auxin

ऑक्सिन

4) Ethylene

एथलीन

Correct Answer: Ethylene

एथलीन

Candidate Answer: Ethylene

एथलीन

QID : 290 - The harmful ultraviolet rays which comes from Sun causes _____.

सूर्य से आने वाले हानिकारक पराबैंगनी विकिरणों से होता है
_____।

Options:

1) lung cancer

फेफड़े का कैंसर

2) mouth cancer

मुख का कैंसर

3) Skin cancer

त्वचा का कैंसर

4) Liver cancer

यकृत का कैंसर

Correct Answer: Skin cancer

त्वचा का कैंसर

Candidate Answer: Skin cancer

त्वचा का कैंसर

QID : 291 - Hydroponics is related to _____.

हाइड्रोपोनिक्स सम्बंधित है _____.

Options:

- 1) growth of plant without soil
मिट्टी के बिना पौधों की वृद्धि से
- 2) growth of plant without water
पानी के बिना पौधों की वृद्धि से
- 3) conservation of water technology
पानी के तकनीक का संरक्षण
- 4) No option is correct.
कोई भी विकल्प सही नहीं है

Correct Answer: growth of plant without soil
मिट्टी के बिना पौधों की वृद्धि से

Candidate Answer: conservation of water technology
पानी के तकनीक का संरक्षण

QID : 292 - The physical structure of a Computer is called _____.

कंप्यूटर की भौतिक बनावट कहलाती है _____।

Options:

- 1) Software
सॉफ्टवेयर
- 2) Hardware
हार्डवेयर
- 3) Firmware
फर्मवेयर
- 4) Humanware
ह्यूमनवेयर

Correct Answer: Hardware
हार्डवेयर

Candidate Answer: Hardware

हार्डवेयर

QID : 293 - What is the national winter sport of Canada?

कनाडा का शीतकालीन राष्ट्रीय खेल क्या है ?

Options:

1) Ice hockey

आइस हॉकी

2) Rugby football

रग्बी फुटबॉल

3) Baseball

बेसबॉल

4) Volleyball

वालीबॉल

Correct Answer: Ice hockey

आइस हॉकी

Candidate Answer: Ice hockey

आइस हॉकी

QID : 294 - Who is the author of the book "Hitopadesh"?

"हितोपदेश" नामक पुस्तक के लेखक कौन हैं?

Options:

1) Chand Bardai

चन्द बरदाई

2) Narayan Pandit

नारायण पंडित

3) Nagarjuna

नागार्जुन

4) Vatsyaayan

वात्स्यायन

Correct Answer: Narayan Pandit

नारायण पंडित

Candidate Answer: [NOT ANSWERED]

QID : 295 - Which state has started the "NTR Arogya Raksha Scheme"?

किस राज्य ने 'एनटीआर आरोग्य रक्षा योजना' का आरम्भ किया ?

Options:

1) Bihar

बिहार

2) Madhya Pradesh

मध्य प्रदेश

3) Andhra Pradesh

आंध्र प्रदेश

4) Goa

गोवा

Correct Answer: Andhra Pradesh

आंध्र प्रदेश

Candidate Answer: Andhra Pradesh

आंध्र प्रदेश

QID : 296 - Who invented the wireless?

वायलेस का आविष्कार किसने किया था?

Options:

1) Marconi

मार्कोनी

2) Newton

न्यूटन

3) Charles Kettering

चार्ल्स केटरिंग

4) George Cayley

जॉर्ज कैले

Correct Answer: Marconi

मार्कोनी

Candidate Answer: Charles Kettering

चार्ल्स केटरिंग

QID : 297 - Where is Salar Jung Museum situated in India?

भारत में सालारजंग संग्रहालय कहाँ स्थित है?

Options:

1) Jaipur

जयपुर

2) Patna

पटना

3) Lucknow

लखनऊ

4) Hyderabad

हैदराबाद

Correct Answer: Hyderabad

हैदराबाद

Candidate Answer: Hyderabad

हैदराबाद

QID : 298 - "Kalidas Samman" is given by which of the state government?

कालिदास सम्मान किस राज्य सरकार द्वारा प्रदान किया जाता है?

Options:

1) Punjab

पंजाब

2) Uttar Pradesh

उत्तर प्रदेश

3) Madhya Pradesh

मध्य प्रदेश

4) Chhattisgarh

छत्तीसगढ़

Correct Answer: Madhya Pradesh

मध्य प्रदेश

Candidate Answer: [NOT ANSWERED]

QID : 299 - To which country has India started supplying 80 MW of additional power from January 1, 2017?

1 जनवरी, 2017 से भारत ने किस देश को 80 मेगावाट की अतिरिक्त बिजली की आपूर्ति शुरू की है?

Options:

1) Bhutan

भूटान

2) Bangladesh

बांग्लादेश

3) Nepal

नेपाल

4) Pakistan

पाकिस्तान

Correct Answer: Nepal

नेपाल

Candidate Answer: [NOT ANSWERED]

QID : 300 - Which is Pakistan's largest city?

पाकिस्तान का सबसे बड़ा शहर कौन सा है?

Options:

1) Islamabad

इस्लामाबाद

2) Lahore

लाहौर

3) Karachi

कराची

4) Faisalabad

फैसलाबाद

Correct Answer: Karachi

कराची

Candidate Answer: Karachi

कराची