

QID : 201 -

In the following question, select the number which can be placed at the sign of question mark (?) from the given alternatives.

निम्नलिखित प्रश्न में दिए गए विकल्पों में से प्रश्न चिह्न (?) के स्थान पर आने वाली संख्या को चुनिए।

1	8	27
1	4	?

Options:

- 1) 18
- 2) 9
- 3) 6
- 4) 5

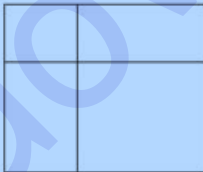
Correct Answer: 9

Candidate Answer: 9

QID : 202 -

How many rectangles are there in the given figure?

दी गई आकृति में कितने आयत हैं?



Options:

- 1) 9
- 2) 11
- 3) 8
- 4) 6

Correct Answer: 9

Candidate Answer: 9

QID : 203 -

A word is represented by only one set of numbers as given in any one of the alternatives. The sets of numbers given in the alternatives are represented by two classes of alphabets as shown in the given two matrices. The columns and rows of **Matrix-I** are numbered from 0 to 4 and that of **Matrix-II** are numbered from 5 to 9. A letter from these matrices can be represented first by its row and next by its column, for example, 'C' can be represented by 10, 56, etc., and 'H' can be represented by 30, 67, etc. Similarly, you have to identify the set for the word "JUMP".

एक शब्द केवल एक संख्या-समूह द्वारा दर्शाया गया है, जैसा कि विकल्पों में से किसी एक में दिया गया है। विकल्पों में दिए गए संख्या-समूह अक्षरों के दो वर्गों द्वारा दर्शाए गए हैं, जैसा कि दिए गए दो आव्यूहों में है। **आव्यूह-I** के स्तम्भ और पंक्ति की संख्या 0 से 4 है और **आव्यूह-II** की 5 से 9। इन आव्यूहों से एक अक्षर को पहले उसकी पंक्ति और बाद में स्तम्भ संख्या द्वारा दर्शाया जा सकता है। उदाहरण के लिए 'C' को 10, 56, आदि द्वारा दर्शाया जा सकता है तथा 'H' को 30, 67, आदि द्वारा दर्शाया जा सकता है। इसी तरह से आपको प्रश्न में दिए शब्द "JUMP" के लिए समूह को पहचानना है।

Matrix-I आव्यूह-I						Matrix-II आव्यूह-II					
	0	1	2	3	4		5	6	7	8	9
0	V	K	D	F	R	5	W	C	U	G	I
1	C	W	O	H	V	6	K	J	H	Q	S
2	T	S	Y	J	S	7	U	E	Y	B	A
3	H	F	J	C	R	8	F	H	P	L	N
4	D	S	U	N	A	9	A	R	M	T	O

Options:

- 1) 32, 75, 11, 41
- 2) 66, 42, 97, 87
- 3) 67, 97, 67, 43
- 4) 32, 44, 59, 87

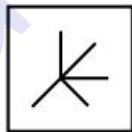
Correct Answer: 66, 42, 97, 87

Candidate Answer: 66, 42, 97, 87

QID : 204 -

From the given answer figures, select the one in which the question figure is hidden/embedded.

दी गई उत्तर आकृतियों में से उस उत्तर आकृति को चुनिए जिस में प्रश्न आकृति निहित है।

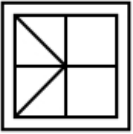


Options:

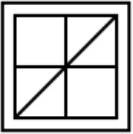
1)



2)



3)



4)



Correct Answer:



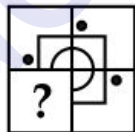
Candidate Answer:



QID : 205 -

Which answer figure will complete the pattern in the question figure?

कौन सी उत्तर आकृति प्रश्न आकृति के प्रतिरूप को पूरा करेगी?



Options:

1)



2)



3)



4)



Correct Answer:



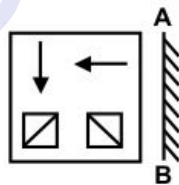
Candidate Answer:



QID : 206 -

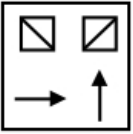
If a mirror is placed on the line AB, then which of the answer figures is the right image of the given figure?

यदि एक दर्पण को AB रेखा पर रखा जाए, तो दी गई उत्तर आकृतियों में से कौन सी आकृति प्रश्न आकृति की सही प्रतिबिम्ब होगी?

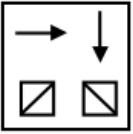


Options:

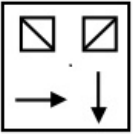
1)



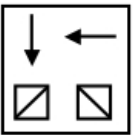
2)



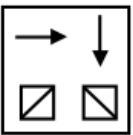
3)



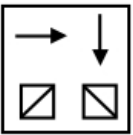
4)



Correct Answer:




Candidate Answer:



QID : 207 -

A piece of paper is folded and punched as shown below in the question figures. From the given answer figures, indicate how it will appear when opened?

नीचे के प्रश्न आकृतियों में दिखाए अनुसार कागज को मोड़कर छेदने तथा खोलने के बाद वह किस उत्तर आकृति जैसा दिखाई देगा?



Options:

1)



2)



3)



4)



Correct Answer:



Candidate Answer:



QID : 208 - If 'P' means '-', 'Q' means '÷', 'R' means '+' and 'S' means 'x', then

56 S 3 Q 14 R 2 P 1 = ?

यदि 'P' का अर्थ '-', 'Q' का अर्थ '÷', 'R' का अर्थ '+' तथा 'S' का अर्थ 'x' हो, तो

56 S 3 Q 14 R 2 P 1 = ?

Options:

- 1) 13
- 2) 15
- 3) 19
- 4) 27

Correct Answer: 13

Candidate Answer: 13

QID : 209 - If  $6 \times 2 \div 6 = 2$  and  $7 \times 1 \div 3 = 5$ , then

$11 \times 1 \div 13 = ?$

यदि  $6 \times 2 \div 6 = 2$  तथा  $7 \times 1 \div 3 = 5$  हो, तो

$11 \times 1 \div 13 = ?$

Options:

- 1) 9
- 2) 0
- 3) 1
- 4) - 1

Correct Answer: - 1

Candidate Answer: - 1

**QID : 210** - Arrange the given words in the sequence in which they occur in the dictionary.

1. Word
2. Wild
3. Wand
4. Wage
5. Wicked

निम्नलिखित शब्दों को शब्दकोश में आने वाले क्रम के अनुसार लिखें।

1. Word
2. Wild
3. Wand
4. Wage
5. Wicked

**Options:**

1) 43521

2) 45321

3) 43512

4) 45312

**Correct Answer:** 43521

**Candidate Answer:** 43521

**QID : 211** - In the following question, select the missing number from the given series.

**11, 13, 17, 23, 31, ?**

निम्नलिखित प्रश्न में दिए गए विकल्पों में से लुप्त अंक ज्ञात कीजिए।

**11, 13, 17, 23, 31, ?**

**Options:**

1) 53

2) 41

3) 47

4) 56

**Correct Answer:** 41

**Candidate Answer:** 41

**QID : 212** - A series is given with one term missing. Select the correct alternative from the given ones that will complete the series.

**AZ, DW, GT, ?**

एक अनुक्रम दिया गया है, जिसमें से एक पद लुप्त है। दिए गए विकल्पों में से वह सही विकल्प चुनिए, जो अनुक्रम को पूरा करे।

**AZ, DW, GT, ?**

**Options:**

1) JQ

2) JR

3) KQ

4) KR

**Correct Answer:** JQ

**Candidate Answer:** JQ

**QID : 213** - In the following question, select the odd word from the given alternatives.

निम्नलिखित प्रश्न में दिए गए विकल्पों में से विषम शब्द को चुनिए।

**Options:**

1) Box

डिब्बा

2) Almirah

अलमारी

3) Beer

बियर

4) Barrel

बैरल

**Correct Answer:** Beer  
बियर

**Candidate Answer:** Almirah  
अलमारी

**QID : 214** - In the following question, select the odd number pair from the given alternatives.

निम्नलिखित प्रश्न में दिए गए विकल्पों में से विषम संख्या युग्म को चुनिए।

**Options:**

- 1) 10-101
- 2) 12 - 145
- 3) 13 - 170
- 4) 5 - 27

**Correct Answer:** 5 - 27

**Candidate Answer:** 5 - 27

**QID : 215** - In the following question, select the odd letters from the given alternatives.

निम्नलिखित प्रश्न में दिए गए विकल्पों में से विषम अक्षरों को चुनिए।

**Options:**

- 1) PM
- 2) DA
- 3) RP
- 4) OL

**Correct Answer:** RP

**Candidate Answer:** RP

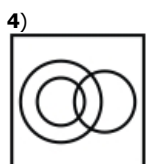
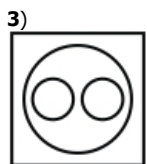
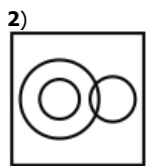
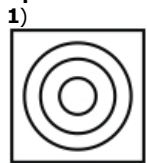
**QID : 216** - Identify the diagram that best represents the relationship among the given classes.

**Cricket, Cricketer, Batsman**

वह आरेख चुनिए जो नीचे दिए गए वर्गों के बीच के संबंध का सही निरूपण करता है।

क्रिकेट, क्रिकेटर, बल्लेबाज

**Options:**



**Correct Answer:**





Candidate Answer:



**QID : 217** - In the following question, select the related word from the given alternatives.

**Candle : Light :: Clouds : ?**

निम्नलिखित प्रश्न में दिए गए विकल्पों में से संबंधित शब्द को चुनिए।

**मोमबत्ती : रोशनी :: बादल : ?**

**Options:**

1) White

सफेद

2) Rain

वर्षा

3) Black

काला

4) High

ऊँचा

**Correct Answer:** Rain

वर्षा

**Candidate Answer:** Rain

वर्षा

**QID : 218** - In the following question, select the related number from the given alternatives.

**96 : 6 :: 256 : ?**

निम्नलिखित प्रश्न में दिए गए विकल्पों में से संबंधित संख्या को चुनिए।

**96 : 6 :: 256 : ?**

**Options:**

1) 16

2) 25

3) 66

4) 46

**Correct Answer:** 16

**Candidate Answer:** 16

**QID : 219** - In the following question, select the related letters from the given alternatives.

**OPQ : RST :: ABC : ?**

निम्नलिखित प्रश्न में दिए गए विकल्पों में से संबंधित अक्षरों को चुनिए।

**OPQ : RST :: ABC : ?**

**Options:**

1) BCA

2) DMN

3) DEF

4) ABD

**Correct Answer:** DEF

**Candidate Answer:** DEF

**QID : 220** - In the following question, select the word which cannot be formed using the letters of the given word.

**CONVICTED**

निम्नलिखित विकल्पों में से वह शब्द चुनिए जो दिए गए शब्द के अक्षरों का प्रयोग करके नहीं बनाया जा सकता।

**CONVICTED**

**Options:**

1) CITE

2) NODE

3) TONE

4) DESK

**Correct Answer:** DESK

**Candidate Answer:** DESK

**QID : 221** - Weight of B is twice that of C. Weight of C is  $\frac{1}{3}$  of D. Weight of D is 4 times of F. Weight of F is  $\frac{1}{3}$  of E. The weight of C is greater than the weight of how many persons among B, D, E and F?

B का भार C का दोगुना है। C का भार D का  $\frac{1}{3}$  है। D का भार F का 4 गुना है। F का भार E का  $\frac{1}{3}$  है। C का भार, B, D, E तथा F में से कितने व्यक्तियों के भार से अधिक है?

**Options:**

1) 3

2) 2

3) 1

4) 0

**Correct Answer:** 1

**Candidate Answer:** 0

**QID : 222** - P is 5 years older to Q. Q is 6 years younger to R. R is 5 years older to S. S is 4 years younger to T. Who is the eldest?

P, Q से 5 वर्ष बड़ा है। Q, R से 6 वर्ष छोटा है। R, S से 5 वर्ष बड़ा है। S, T से 4 वर्ष छोटा है। सबसे बड़ा कौन है?

**Options:**

1) T

2) P

3) Q

4) R

**Correct Answer:** R

**Candidate Answer:** R

**QID : 223** - In the following question below are given some statements followed by some conclusions. Taking the given statements to be true even if they seem to be at variance from commonly known facts, read all the conclusions and then decide which of the given conclusion logically follows the given statements.

**Statements:**

I. No sheep is blue.

II. All blue are pink.

**Conclusions:**

I. Some pink are blue.

II. No sheep is pink.

नीचे दिए गए प्रश्न में कुछ कथन और उनके बाद उन कथनों पर आधारित कुछ निष्कर्ष दिए गए हैं, हालांकि उनमें सामान्य ज्ञात तथ्यों से भिन्नता हो सकती है। सभी निष्कर्ष पढ़ें और फिर निर्धारित करें कि दिए गए कौन से निष्कर्ष, दिए गए कथनों के आधार पर युक्तिसंगत हैं।

**कथन:**

I. कोई भेड़ नीली नहीं है।

II. सभी नीला गुलाबी हैं।

**निष्कर्ष:**

I. कुछ गुलाबी नीला हैं।

II. कोई भेड़ गुलाबी नहीं है।

**Options:**

1) Only conclusion (I) follows.

केवल निष्कर्ष (I) सही है।

2) Only conclusion (II) follows.

केवल निष्कर्ष (II) सही है।

3) Both conclusion follow.

दोनों ही निष्कर्ष सही हैं।

4) Neither conclusion (I) nor conclusion (II) follows.

न तो निष्कर्ष (I) न ही निष्कर्ष (II) सही है।

**Correct Answer:** Only conclusion (I) follows.

केवल निष्कर्ष (I) सही है।

**Candidate Answer:** Only conclusion (I) follows.

केवल निष्कर्ष (I) सही है।

**QID : 224** - In a certain code language, "TRIGER" is written as "UTLHGU". How is "TRAITS" written in that code language?

एक विशिष्ट कोड भाषा में, "TRIGER" को "UTLHGU" लिखा जाता है। इस कोड भाषा में "TRAITS" को किस प्रकार लिखा जाएगा?

**Options:**

1) UTDJVV

2) VWJTDB

3) CDJVVP

4) PQAZCW

**Correct Answer:** UTDJVV

**Candidate Answer:** UTDJVV

**QID : 225** - In a certain code language, "FLUID" is written as "96321" and "CHUNK" is written as "78350". How is "LUNCH" written in that code language?

एक विशिष्ट कोड भाषा में, "FLUID" को "96321" तथा "CHUNK" को "78350" लिखा जाता है। इस कोड भाषा में "LUNCH" को किस प्रकार लिखा जाएगा?

**Options:**

1) 57860

2) 63578

3) 78650

4) 36875

**Correct Answer:** 63578

**Candidate Answer:** 63578

**QID : 226** - What least number must be added to 11158, so that the sum is divisible by 77 ?

11158 में कम से कम कितनी संख्या जोड़ी जानी चाहिए कि योगफल 77 से पूर्णतः विभाज्य हो जाए?

**Options:**

1) 9

2) 8

3) 7

4) 5

**Correct Answer:** 7

**Candidate Answer:** 7

**QID : 227** - The divisor is 50 times the quotient and 10 times the remainder. If the quotient is 32, what is the dividend?

एक भाजक, भागफल का 50 गुना और शेष का 10 गुना है। यदि भागफल 32 है, तो भाज्य क्या है?

**Options:**

1) 51000

2) 51360

3) 61000

4) 61520

**Correct Answer:** 51360

**Candidate Answer:** 51360

**QID : 228** - A number when divided by 192 gives a remainder of 54. What remainder would be obtained on dividing the same number by 16?

किसी संख्या में 192 से भाग देने पर शेष 54 प्राप्त होता है। उसी संख्या में 16 से भाग देने पर कितना शेष प्राप्त होगा?

**Options:**

1) 2

2) 4

3) 6

4) 8

**Correct Answer:** 6

**Candidate Answer:** 6

**QID : 229** - The smallest 5-digit number divisible by 41 is \_\_\_\_\_.

41 से विभाज्य 5 अंकों की सबसे छोटी संख्या \_\_\_\_\_ है।

**Options:**

1) 10054

2) 10041

3) 10004

4) 41000

**Correct Answer:** 10004

**Candidate Answer:** 10004

## Download More Papers From GovtJobsAlert.In

**QID : 230** - The sum of the squares of two positive numbers is 100 and difference of their square is 28. What is the sum of the given numbers.

दो धनात्मक संख्याओं के वर्ग का योग 100 है और उनके वर्ग का अंतर 28 है। दी गई दोनों संख्याओं का योग क्या होगा?

**Options:**

- 1) 12
- 2) 13
- 3) 14
- 4) 15

**Correct Answer:** 14

**Candidate Answer:** 14

**QID : 231** - The product of two positive numbers is 1152. If one number is two times the other, then what will be the sum of the two numbers?

दो धनात्मक संख्याओं का गुणनफल 1152 है। यदि एक संख्या दूसरे से दो गुना है, तो दोनों संख्याओं का योग कितना होगा?

**Options:**

- 1) 68
- 2) 72
- 3) 76
- 4) 80

**Correct Answer:** 72

**Candidate Answer:** 72

**QID : 232** - Ram and Shyam together can finish a job in 8 days. Ram can finish the same job on his own in 12 days. How long will Shyam alone take to finish that work?

राम और श्याम किसी काम को एकसाथ मिलकर 8 दिनों में पूरा कर सकते हैं। राम अकेले उस काम को 12 दिनों में पूरा कर सकता है। श्याम अकेले उस काम को कितने समय में पूरा कर लेगा?

**Options:**

- 1) 16 days  
16 दिन
- 2) 20 days  
20 दिन
- 3) 24 days  
24 दिन
- 4) 30 days  
30 दिन

**Correct Answer:** 24 days

24 दिन

**Candidate Answer:** 24 days

24 दिन

**QID : 233** - Two persons can complete a piece of work in 9 days. How many more persons are needed to complete double the work in 12 days?

दो व्यक्ति किसी काम को 9 दिनों में पूरा कर सकते हैं। 12 दिनों में दोगुना काम को पूरा करने के लिए कितने अधिक व्यक्तियों की आवश्यकता होगी?

**Options:**

- 1) 3
- 2) 2
- 3) 4
- 4) 1

**Correct Answer:** 3

**Candidate Answer:** 1

**QID : 234** - If each edge of a cube is increased by 50%, so what will be percentage increase in its surface area?

यदि किसी घन के प्रत्येक किनारे को 50% प्रतिशत बढ़ा दिया जाता है, तो इसकी सतह के क्षेत्रफल में कितने प्रतिशत की वृद्धि होगी?

**Options:**

- 1) 75%
- 2) 100%
- 3) 125%
- 4) 150%

**Correct Answer:** 125%

**Candidate Answer:** 125%

**QID : 235** - A trader marks price of his goods 45% above the cost price and gives a discount of 20% on the marked price. What percentage of profit will the trader have?

एक व्यापारी अपने सामान पर मूल्य, क्रय मूल्य से 45% अधिक अंकित करता है और अंकित मूल्य पर 20% की छूट देता है। व्यापारी को कितने प्रतिशत का लाभ होगा?

**Options:**

- 1) 15%
- 2) 14%
- 3) 29%
- 4) 16%

**Correct Answer:** 16%

**Candidate Answer:** 16%

**QID : 236** - Ravi buys an article with a discount of 25% on its marked price. He makes a profit of 10% by selling it at Rs 660. What was the marked price of the article?

रवि एक वस्तु खरीदता है जिस पर अंकित मूल्य से 25% की छूट दी जाती है। वह उसे 660 रु में बेचकर 10% लाभ प्राप्त करता है। उस वस्तु का अंकित मूल्य कितना था?

**Options:**

- 1) Rs. 600  
600 रु
- 2) Rs. 700  
700 रु
- 3) Rs. 800  
800 रु
- 4) Rs. 685  
685 रु

**Correct Answer:** Rs. 800

800 रु

**Candidate Answer:** Rs. 800

800 रु

**QID : 237** - The ages of Surabhi and Neerja are in the ratio 6 : 7, respectively. After 6 years, the ratio of their ages will be 15 : 17. What is Neerja's age?

सुरभि और नीरजा की आयु क्रमशः 6 : 7 के अनुपात में है। 6 वर्ष बाद, उनकी आयु का अनुपात 15 : 17 होगा। नीरजा की उम्र कितनी है?

**Options:**

- 1) 24 years  
24 साल
- 2) 32 years  
32 साल
- 3) 26 years  
26 साल
- 4) 28 years  
28 साल

**Correct Answer:** 28 years

28 साल

**Candidate Answer:** 28 years

28 साल

**QID : 238** - Annual incomes of Amit and Veer are in the ratio 3 : 2, while the ratio of their expenditure is 5 : 3. If at the end of the year each saves Rs 1000, then what is the annual income of Amit?

अमित और वीर की वार्षिक आय 3 : 2 के अनुपात में है, जबकि उनके खर्च का अनुपात 5 : 3 है। यदि उनमें से प्रत्येक साल के अंत में 1000 रु बचत करता है, तो अमित की वार्षिक आय कितनी है?

**Options:**

- 1) Rs. 9000  
9000 रु
- 2) Rs. 8000  
8000 रु
- 3) Rs. 7000  
7000 रु
- 4) Rs. 6000  
6000 रु

**Correct Answer:** Rs. 6000

6000 रु

**Candidate Answer:** Rs. 6000

6000 रु

**QID : 239** - What is the average of first 50 natural numbers?

प्रथम 50 प्राकृत संख्याओं का औसत कितना है?

**Options:**

- 1) 12.25
- 2) 21.25
- 3) 25
- 4) 25.5

**Correct Answer:** 25.5

**Candidate Answer:** 25.5

## Download More Papers From GovtJobsAlert.In

**QID : 240** - A shopkeeper marks price of his goods in such a way that after allowing a discount of 10%, he gains 26 %. How much percent above the cost price is the marked price?

एक दूकानदार अपने सामान का मूल्य इस प्रकार से अंकित करता है कि 10% छूट देने के बाद, वह 26% लाभ पाता है। अंकित मूल्य, क्रय मूल्य से कितने प्रतिशत अधिक है?

**Options:**

- 1) 36%
- 2) 38%
- 3) 40%
- 4) 28%

**Correct Answer:** 40%

**Candidate Answer:** 40%

**QID : 241** - On selling an article for Rs 264 a man loses 4%. In order to gain 12%, for how much he must sell the article?

264 रु का एक सामान बेचने पर एक आदमी को 4% की हानि होती है। 12% लाभ पाने के लिए उसे उस वस्तु को कितने में बेचना चाहिए?

**Options:**

- 1) Rs. 283.85
- 283.85 रु
- 2) Rs. 308
- 308 रु
- 3) Rs. 285
- 285 रु
- 4) Rs. 298.50
- 298.50 रु

**Correct Answer:** Rs. 308

308 रु

**Candidate Answer:** Rs. 308

308 रु

**QID : 242** - If A's income is 40% less than that of B, how much percent B's income is more than that of A?

यदि A की आय B की आय से 40% कम है, तो B की आय A से कितने प्रतिशत अधिक है?

**Options:**

- 1) 40%
- 2) 60%
- 3) 66.66%
- 4) 33.33%

**Correct Answer:** 66.66%

**Candidate Answer:** 66.66%

**QID : 243** - A man's working hours per day were increased by 20% and his wages per hour were increased by 15 %. By how much percent were his daily earnings increased ?

एक आदमी के प्रति दिन काम के घंटे को 20% बढ़ाया गया और उसकी मजदूरी प्रति घंटे 15% तक बढ़ाई गई। उसकी दैनिक आमदनी में कितने प्रतिशत की वृद्धि हुई?

**Options:**

- 1) 38%
- 2) 35%
- 3) 5%
- 4) 40%

**Correct Answer:** 38%

**Candidate Answer:** 38%

**QID : 244** - A car covers a distance of 480 km at a uniform speed. If the speed of the car is 10 km/hour more, then it takes 2 hours less to cover the same distance. What was the original speed of the car?

एक कार एक समान गति से 480 किमी की दूरी तय करती है। यदि कार की गति 10 किमी/घंटा अधिक होती, तो उतनी ही दूरी को तय करने में 2 घंटे का समय कम लगता। कार की वास्तविक गति क्या थी?

**Options:**

- 1) 45 km/hr
- 45 किमी/घंटा
- 2) 50 km/hr
- 50 किमी/घंटा
- 3) 60 km/hr
- 60 किमी/घंटा
- 4) 70 km/hr
- 70 किमी/घंटा

**Correct Answer:** 60 km/hr

60 किमी/घंटा

**Candidate Answer:** 60 km/hr

60 किमी/घंटा

**QID : 245** - A man riding his bicycle covers 150 meters in 25 seconds. What is his speed in km/hr?

एक आदमी अपने साईकिल से 150 मी. की दूरी 25 सेकंड में तय करता है। उसकी गति कि.मी. प्रति घंटा में क्या है?

**Options:**

- 1) 25
- 2) 21.6
- 3) 23
- 4) 20

**Correct Answer:** 21.6

**Candidate Answer:** 21.6

**QID : 246** - At a simple rate of interest, an amount of Rs 2100 becomes Rs 2352 in 2 years. If the interest rate is decreased by 1% then what is the new interest in 2 years?

एक साधारण ब्याज दर से 2100 रु की राशि 2 साल में 2352 रु हो जाती है। यदि ब्याज दर में 1% की कमी की जाती है, तो 2 साल में नया ब्याज कितना होगा?

**Options:**

- 1) Rs. 210  
210 रु
- 2) Rs. 220  
220 रु
- 3) Rs. 242  
242 रु
- 4) Rs. 252  
252 रु

**Correct Answer:** Rs. 210

210 रु

**Candidate Answer:** Rs. 210

210 रु

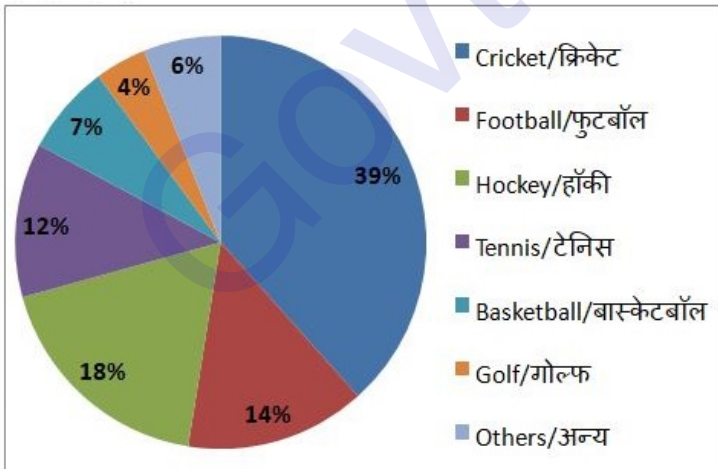
**QID : 247** -

The pie-chart below shows percentage of money spent on different sports in a state in a particular year. The total amount spent on all sports is Rs 150 Crore.

Answer the following question on the basis of data given in the chart below.

नीचे दिए गए पाई चार्ट में किसी वर्ष विशेष में किसी राज्य में विभिन्न खेलों पर हुए खर्च का विवरण दिया गया है। सभी खेलों पर कुल 150 करोड़ रुपये खर्च किए गए।

निम्नलिखित प्रश्न का उत्तर पाई चार्ट में दर्शाए गए आंकड़ों के आधार पर दें।



What is amount of money spent on Cricket and Hockey together?

क्रिकेट और हॉकी को मिलाकर खर्च की गई राशि कितनी है?

**Options:**

- 1) Rs 57 crore  
57 करोड़ रु
- 2) Rs 82.5 crore  
82.5 करोड़ रु
- 3) Rs 85.5 crore  
85.5 करोड़ रु
- 4) Rs 84.5 crore  
84.5 करोड़ रु

**Correct Answer:** Rs 85.5 crore  
85.5 करोड़ रु

**Candidate Answer:** Rs 85.5 crore  
85.5 करोड़ रु

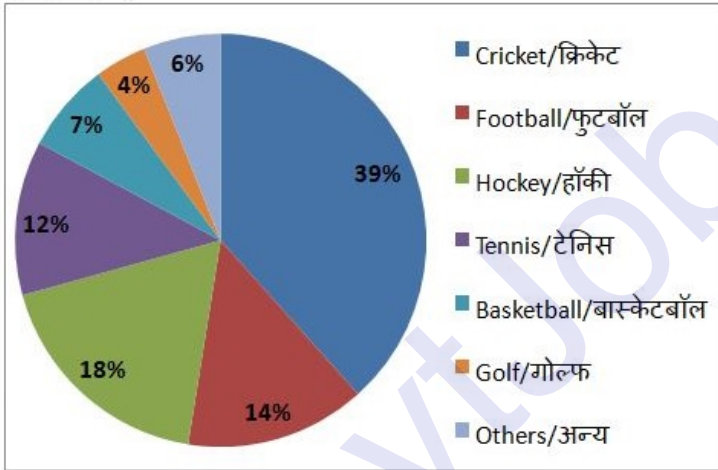
**QID : 248 -**

The pie-chart below shows percentage of money spent on different sports in a state in a particular year. The total amount spent on all sports is Rs 150 Crore.

Answer the following question on the basis of data given in the chart below.

नीचे दिए गए पाई चार्ट में किसी वर्ष विशेष में किसी राज्य में विभिन्न खेलों पर हुए खर्च का विवरण दिया गया है। सभी खेलों पर कुल 150 करोड़ रुपये खर्च किए गए।

निम्नलिखित प्रश्न का उत्तर पाई चार्ट में दर्शाए गए आंकड़ों के आधार पर दें।



The total spent on Football and Golf together is equal to spent of which single sport?

फुटबॉल और गोल्फ को मिलाकर हुआ खर्च किस एक खेल पर हुए खर्च के बराबर है?

**Options:**

- 1) Tennis  
टेनिस
- 2) Hockey  
हॉकी
- 3) Cricket  
क्रिकेट
- 4) None of these  
कोई विकल्प सही नहीं है

**Correct Answer:** Hockey  
हॉकी

**Candidate Answer:** Hockey  
हॉकी



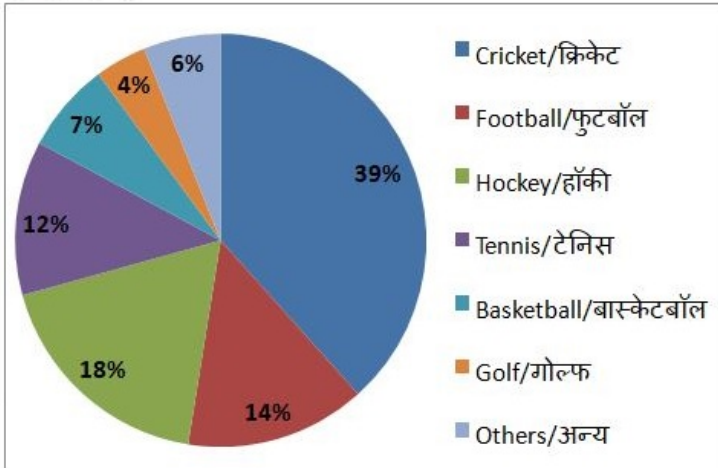
QID : 249 -

The pie-chart below shows percentage of money spent on different sports in a state in a particular year. The total amount spent on all sports is Rs 150 Crore.

Answer the following question on the basis of data given in the chart below.

नीचे दिए गए पाई चार्ट में किसी वर्ष विशेष में किसी राज्य में विभिन्न खेलों पर हुए खर्च का विवरण दिया गया है। सभी खेलों पर कुल 150 करोड़ रुपये खर्च किए गए।

निम्नलिखित प्रश्न का उत्तर पाई चार्ट में दर्शाए गए आंकड़ों के आधार पर दें।



How much more amount is spent on Hockey than Football?

फुटबॉल की तुलना में हॉकी पर कितना अधिक खर्च किया जाता है?

**Options:**

- 1) Rs 6 crore  
6 करोड़ रु
- 2) Rs 7.5 crore  
7.5 करोड़ रु
- 3) Rs 4.5 crore  
4.5 करोड़ रु
- 4) Rs 6.5 crore  
6.5 करोड़ रु

**Correct Answer:** Rs 6 crore  
6 करोड़ रु

**Candidate Answer:** Rs 6 crore  
6 करोड़ रु

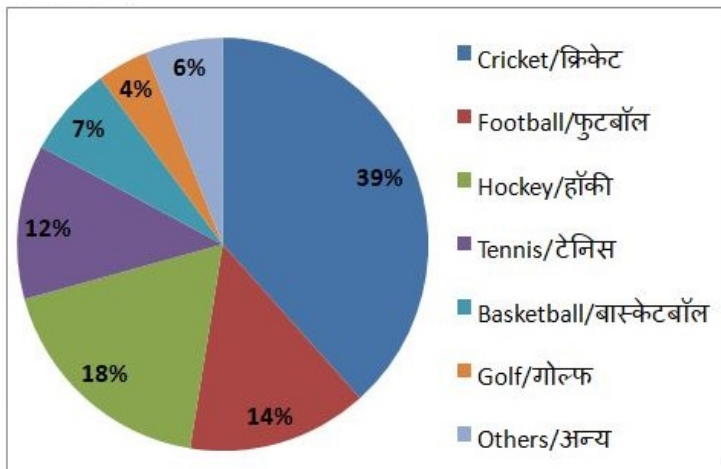
QID : 250 -

The pie-chart below shows percentage of money spent on different sports in a state in a particular year. The total amount spent on all sports is Rs 150 Crore.

Answer the following question on the basis of data given in the chart below.

नीचे दिए गए पाई चार्ट में किसी वर्ष विशेष में किसी राज्य में विभिन्न खेलों पर हुए खर्च का विवरण दिया गया है। सभी खेलों पर कुल 150 करोड़ रुपये खर्च किए गए।

निम्नलिखित प्रश्न का उत्तर पाई चार्ट में दर्शाए गए आंकड़ों के आधार पर दें।



How much more amount is spent on Cricket than the money spent on Hockey and Football together?

हॉकी और फुटबॉल पर मिलाकर हुए खर्च की तुलना में क्रिकेट पर कितना अधिक खर्च किया जाता है?

**Options:**

- 1) Rs 9 crore  
9 करोड़ रु
- 2) Rs 11.5 crore  
11.5 करोड़ रु
- 3) Rs 9.5 crore  
9.5 करोड़ रु
- 4) Rs 10.5 crore  
10.5 करोड़ रु

**Correct Answer:** Rs 10.5 crore  
10.5 करोड़ रु

**Candidate Answer:** Rs 10.5 crore  
10.5 करोड़ रु

**QID : 251** - In the following question, some part of the sentence may have errors. Find out which part of the sentence has an error and select the appropriate option. If a sentence is free from error, select 'No Error'.

From Germany to Venezuela to South Africa, equity markets (1)/ in both mature and emerging markets has (2)/ moved up sharply this year and show little sign of slowing. (3)/ No error (4)

**Options:**

- 1) 1
- 2) 2
- 3) 3
- 4) 4

**Correct Answer:** 2

**Candidate Answer:** 3

## Download More Papers From GovtJobsAlert.In

**QID : 252** - In the following question, some part of the sentence may have errors. Find out which part of the sentence has an error and select the appropriate option. If a sentence is free from error, select 'No Error'.

It started out lending small sums to poor **(1)/** entrepreneurs in the country to help them **(2)/** grow from a subsistence living to a livelihoods. **(3)/** No error **(4)**

**Options:**

- 1) 1
- 2) 2
- 3) 3
- 4) 4

**Correct Answer:** 3

**Candidate Answer:** 3

**QID : 253** - In the following question, the sentence given with blank to be filled in with an appropriate word. Select the correct alternative out of the four and indicate it by selecting the appropriate option.

**The building is being \_\_\_\_\_ by the labourers.**

**Options:**

- 1) make
- 2) made
- 3) making
- 4) makes

**Correct Answer:** made

**Candidate Answer:** made

**QID : 254** - In the following question, the sentence given with blank to be filled in with an appropriate word. Select the correct alternative out of the four and indicate it by selecting the appropriate option.

**The homework will be finished by him \_\_\_\_\_ an hour.**

**Options:**

- 1) in
- 2) for
- 3) of
- 4) off

**Correct Answer:** in

**Candidate Answer:** for

**QID : 255** - In the following question, out of the given four alternatives, select the one which best expresses the meaning of the given word.

**Hurdle**

**Options:**

- 1) Opening
- 2) Advantage
- 3) Obstruction
- 4) Accelerator

**Correct Answer:** Obstruction

**Candidate Answer:** Obstruction

**QID : 256** - In the following question, out of the given four alternatives, select the one which best expresses the meaning of the given word.

**Parity**

**Options:**

- 1) Closeness
- 2) Inequality
- 3) Disproportion
- 4) Difference

**Correct Answer:** Closeness

**Candidate Answer:** Disproportion

**QID : 257** - In the following question, out of the given four alternatives, select the one which best expresses the meaning of the given word.

**Frail**

**Options:**

- 1) Firm
- 2) Fragile
- 3) Strong
- 4) Heavy

**Correct Answer:** Fragile

**Candidate Answer:** [ NOT ANSWERED ]

**QID : 258** - In the following question, out of the given four alternatives, select the one which is opposite in meaning of the given word.

**Awake**

**Options:**

- 1) Alive
- 2) Excited
- 3) Roused
- 4) Asleep

**Correct Answer:** Asleep

**Candidate Answer:** Asleep

**QID : 259** - In the following question, out of the given four alternatives, select the one which is opposite in meaning of the given word.

**Expand**

**Options:**

- 1) Shrink
- 2) Amplify
- 3) Bloat
- 4) Detail

**Correct Answer:** Shrink

**Candidate Answer:** Shrink

**QID : 260** - In the following question, out of the given four alternatives, select the one which is opposite in meaning of the given word.

**Curse**

**Options:**

- 1) Boon
- 2) Bane
- 3) Hateful
- 4) Ban

**Correct Answer:** Boon

**Candidate Answer:** Boon

**QID : 261** - In the following question, out of the four given alternatives, select the alternative which best expresses the meaning of the Idiom/Phrase.

**Cat nap**

**Options:**

- 1) To have a short light sleep
- 2) To have disturbed sleep
- 3) Crying while sleeping
- 4) Murmuring while sleeping

**Correct Answer:** To have a short light sleep

**Candidate Answer:** To have disturbed sleep

**QID : 262** - In the following question, out of the four given alternatives, select the alternative which best expresses the meaning of the Idiom/Phrase.

**Couch potato**

**Options:**

- 1) A fat person
- 2) Lover of potato vegetable
- 3) A lazy person
- 4) Person having short height

**Correct Answer:** A lazy person

**Candidate Answer:** A lazy person

**QID : 263** - Improve the bracketed part of the sentence.

This standardized platform will allow us to tailor a custom curriculum that will be **(match)** to talents, interests and life goals.

**Options:**

- 1) matches
- 2) matched
- 3) matchs
- 4) No improvement

**Correct Answer:** matched

**Candidate Answer:** matched

**QID : 264** - Improve the bracketed part of the sentence.

Parents **(shall)** make strong efforts to curtail the extreme fad for fashion from their children's minds.

**Options:**

- 1) should
- 2) are
- 3) were
- 4) No improvement

**Correct Answer:** should

**Candidate Answer:** should

**QID : 265** - In the following question, out of the four given alternatives, select the alternative which is the best substitute of the phrase.

**Do away with.**

**Options:**

- 1) Replenish
- 2) Refurbish
- 3) Abolish
- 4) Relinquish

**Correct Answer:** Abolish

**Candidate Answer:** Abolish

**QID : 266** - In the following question, out of the four given alternatives, select the alternative which is the best substitute of the phrase.

**Song sung at burial.**

**Options:**

- 1) Hymn
- 2) Dirge
- 3) Lyric
- 4) Ode

**Correct Answer:** Dirge

**Candidate Answer:** Dirge

**QID : 267** - In the following question, a word has been written in four different ways out of which only one is correctly spelt. Select the correctly spelt word.

**Options:**

- 1) Sucseed
- 2) Suceed
- 3) Succeed
- 4) Succed

**Correct Answer:** Succeed

**Candidate Answer:** Succeed

**QID : 268** - In the following question, a word has been written in four different ways out of which only one is correctly spelt. Select the correctly spelt word.

**Options:**

- 1) Biscut
- 2) Biscuite
- 3) Biscuit
- 4) Bescucit

**Correct Answer:** Biscuit

**Candidate Answer:** Biscuite

**QID : 269** - Rearrange the parts of the sentence in correct order.

When I

**P:** I was at the

**Q:** joined the company

**R:** bottom of the hierarchy

**Options:**

- 1) QPR
- 2) RPQ
- 3) PRQ
- 4) PQR

**Correct Answer:** QPR

**Candidate Answer:** QPR

**QID : 270** - Rearrange the parts of the sentence in correct order.

Domestic

**P:** violence is

**Q:** inhuman act

**R:** a very

**Options:**

- 1) RPQ
- 2) PRQ
- 3) QRP
- 4) RQP

**Correct Answer:** PRQ

**Candidate Answer:** PRQ

**QID : 271** - In the following passage some of the words have been left out. Read the passage carefully and select the correct answer for the given blank out of the four alternatives.

The Internet is a vast network of networks using which we can \_\_\_\_\_ any information stored within it from any corner of the world. It is accessed \_\_\_\_\_ through a telecommunications line and modulator-demodulator and comes to the computer by modifying analogue telephone signals into the digital computer signals. The invention of the \_\_\_\_\_ has brought uncounted advantages to us however we cannot turn our face from its \_\_\_\_\_. Internet is used all over the world for many purposes including sending electronic mail, messaging, online chat, transferring file, access web pages and other documents over World Wide \_\_\_\_\_.

**we can \_\_\_\_\_ any information**

**Options:**

- 1) access
- 2) excess
- 3) recess
- 4) assess

**Correct Answer:** access

**Candidate Answer:** access

**QID : 272** - In the following passage some of the words have been left out. Read the passage carefully and select the correct answer for the given blank out of the four alternatives.

The Internet is a vast network of networks using which we can \_\_\_\_\_ any information stored within it from any corner of the world. It is accessed \_\_\_\_\_ through a telecommunications line and modulator-demodulator and comes to the computer by modifying analogue telephone signals into the digital computer signals. The invention of the \_\_\_\_\_ has brought uncounted advantages to us however we cannot turn our face from its \_\_\_\_\_. Internet is used all over the world for many purposes including sending electronic mail, messaging, online chat, transferring file, access web pages and other documents over World Wide \_\_\_\_\_.

**It is accessed \_\_\_\_\_ through**

**Options:**

1) somewhere

2) anywhere

3) nowhere

4) elsewhere

**Correct Answer:** anywhere

**Candidate Answer:** anywhere

**QID : 273** - In the following passage some of the words have been left out. Read the passage carefully and select the correct answer for the given blank out of the four alternatives.

The Internet is a vast network of networks using which we can \_\_\_\_\_ any information stored within it from any corner of the world. It is accessed \_\_\_\_\_ through a telecommunications line and modulator-demodulator and comes to the computer by modifying analogue telephone signals into the digital computer signals. The invention of the \_\_\_\_\_ has brought uncounted advantages to us however we cannot turn our face from its \_\_\_\_\_. Internet is used all over the world for many purposes including sending electronic mail, messaging, online chat, transferring file, access web pages and other documents over World Wide \_\_\_\_\_.

**invention of the \_\_\_\_\_ has brought**

**Options:**

1) extranet

2) ethernet

3) internet

4) intranet

**Correct Answer:** internet

**Candidate Answer:** internet

**QID : 274** - In the following passage some of the words have been left out. Read the passage carefully and select the correct answer for the given blank out of the four alternatives.

The Internet is a vast network of networks using which we can \_\_\_\_\_ any information stored within it from any corner of the world. It is accessed \_\_\_\_\_ through a telecommunications line and modulator-demodulator and comes to the computer by modifying analogue telephone signals into the digital computer signals. The invention of the \_\_\_\_\_ has brought uncounted advantages to us however we cannot turn our face from its \_\_\_\_\_. Internet is used all over the world for many purposes including sending electronic mail, messaging, online chat, transferring file, access web pages and other documents over World Wide \_\_\_\_\_.

**our face from its \_\_\_\_\_**

**Options:**

1) advantages

2) results

3) uses

4) disadvantages

**Correct Answer:** disadvantages

**Candidate Answer:** advantages

**QID : 275** - In the following passage some of the words have been left out. Read the passage carefully and select the correct answer for the given blank out of the four alternatives.

The Internet is a vast network of networks using which we can \_\_\_\_\_ any information stored within it from any corner of the world. It is accessed \_\_\_\_\_ through a telecommunications line and modulator-demodulator and comes to the computer by modifying analogue telephone signals into the digital computer signals. The invention of the \_\_\_\_\_ has brought uncounted advantages to us however we cannot turn our face from its \_\_\_\_\_. Internet is used all over the world for many purposes including sending electronic mail, messaging, online chat, transferring file, access web pages and other documents over World Wide \_\_\_\_\_.

**documents over World Wide \_\_\_\_\_.**

**Options:**

- 1) Cob
- 2) Net
- 3) Set
- 4) Web

**Correct Answer:** Web

**Candidate Answer:** Web

**QID : 276** - Which of the following state introduced Employment Guarantee Scheme first?

निम्नलिखित में से किस राज्य ने सबसे पहले रोजगार गारंटी योजना की शुरुआत की?

**Options:**

- 1) Karnataka  
कर्नाटक
- 2) Madhya Pradesh  
मध्य प्रदेश
- 3) Maharashtra  
महाराष्ट्र
- 4) West Bengal  
पश्चिम बंगाल

**Correct Answer:** Maharashtra

महाराष्ट्र

**Candidate Answer:** West Bengal

पश्चिम बंगाल

**QID : 277** - Which of the following is known as soft loan window of the World Bank?

निम्न में से किसे विश्व बैंक के सॉफ्ट लोन विंडो के रूप में जाना जाता है?

**Options:**

- 1) IDA  
आईडीए
- 2) IBRD  
आईबीआरडी
- 3) IFC  
आईएफसी
- 4) MIGA  
एमआईजीए

**Correct Answer:** IDA

आईडीए

**Candidate Answer:** IDA

आईडीए

**QID : 278** - Who was the first Chief Election Commissioner of India?

भारत के पहले मुख्य चुनाव आयुक्त कौन थे?

**Options:**

- 1) Nagendra Singh  
नगेंद्र सिंह
- 2) Sukumar Sen  
सुकुमार सेन
- 3) T N Seshan  
टी एन शेषन
- 4) T Swaminathan  
टी स्वामीनाथन

**Correct Answer:** Sukumar Sen

सुकुमार सेन

**Candidate Answer:** Sukumar Sen

सुकुमार सेन

**QID : 279** - What is the minimum age required to be the President of India ?

भारत का राष्ट्रपति होने के लिए न्यूनतम उम्र क्या है?



**Options:**

- 1) 25 years  
25 साल
- 2) 30 years  
30 साल
- 3) 18 years  
18 वर्ष
- 4) 35 years  
35 साल

**Correct Answer:** 35 years  
35 साल

**Candidate Answer:** 35 years  
35 साल

**QID : 280** - Who was the father of Tipu Sultan?

टीपू सुल्तान का पिता कौन था?

**Options:**

- 1) Mir Qasim  
मीर कासिम
- 2) Mir Jafar  
मीर जाफर
- 3) Haider Ali  
हैदर अली
- 4) Shah Alam  
शाह आलम

**Correct Answer:** Haider Ali  
हैदर अली

**Candidate Answer:** Haider Ali  
हैदर अली

**QID : 281** - In which language were the Buddhist literary works generally written?

बौद्ध साहित्य किस भाषा में लिखी गई थी?

**Options:**

- 1) Sanskrit  
संस्कृत
- 2) Pali  
पाली
- 3) Brahmi  
ब्राह्मी
- 4) Prakrit  
प्राकृत

**Correct Answer:** Pali  
पाली

**Candidate Answer:** Prakrit  
प्राकृत

**QID : 282** - Which river is known as the Sorrow of Bihar?

बिहार के शोक के रूप में किस नदी को जाना जाता है?

**Options:**

- 1) Ganga  
गंगा
- 2) Gandak  
गंडक
- 3) Kosi  
कोसी
- 4) Son  
सोन

**Correct Answer:** Kosi  
कोसी

**Candidate Answer:** Son  
सोन

**QID : 283** - Which plateau lies between the Aravalli and the Vindhya ranges?

अरावली और विंध्य पर्वतमाला के बीच कौन सा पठार है?

**Options:**

- 1) Malwa  
मालवा
- 2) Deccan  
डेक्कन
- 3) Chhota Nagpur  
छोटा नागपुर
- 4) No option is correct  
कोई विकल्प सही नहीं है

**Correct Answer:** Malwa  
मालवा

**Candidate Answer:** Malwa  
मालवा

**QID : 284** - Which one of the following is not a true fish?

निम्नलिखित में से कौन सा एक मछली नहीं है?

**Options:**

- 1) Jellyfish  
जेलिफ़िश
- 2) Starfish  
स्टारफ़िश
- 3) Cuttlefish  
कटलफ़िश
- 4) All options are correct.  
सभी विकल्प सही हैं।

**Correct Answer:** All options are correct.  
सभी विकल्प सही हैं।

**Candidate Answer:** Jellyfish  
जेलिफ़िश

**QID : 285** - Which of the following diseases is caused by a virus?

निम्न में से कौन सी बीमारी वायरस के कारण होती है?

**Options:**

- 1) Plague  
प्लेग
- 2) Polio  
पोलियो
- 3) Tetanus  
टिटनेस
- 4) Leprosy  
कुष्ठ रोग

**Correct Answer:** Polio  
पोलियो

**Candidate Answer:** Polio  
पोलियो

**QID : 286** - Which of the following impart yellow color to urine in humans?

निम्न में से कौन सा मनुष्यों के पेशाब में पीला रंग प्रदान करता है?

**Options:**

- 1) Lymph  
लसीका
- 2) Bile Salts  
पित्त लवण
- 3) Urochrome  
युरोक्रोम
- 4) Cholesterol  
कोलेस्ट्रॉल

**Correct Answer:** Urochrome  
युरोक्रोम

**Candidate Answer:** Bile Salts  
पित्त लवण

**QID : 287** - Which of the following is **NOT** one of the fundamental quantities in physics?

इनमें से कौन सा भौतिकी में मौलिक मात्रा **नहीं** है?

**Options:**

- 1) Length  
लंबाई
- 2) Time  
समय
- 3) Weight  
भार
- 4) Mass  
द्रव्यमान

**Correct Answer:** Weight

भार

**Candidate Answer:** Weight

भार

**QID : 288** - Which type of sound is produced by a bat?

चमगादड़ द्वारा किस प्रकार का ध्वनि उत्पन्न होता है?

**Options:**

- 1) Subsonic  
सबसोनिक
- 2) Ultrasonic  
अल्ट्रासोनिक
- 3) Supersonic  
सुपरसोनिक
- 4) Infrasonic  
इन्फ्रासोनिक

**Correct Answer:** Ultrasonic

अल्ट्रासोनिक

**Candidate Answer:** Supersonic

सुपरसोनिक

**QID : 289** - Chief component of first generation computer was \_\_\_\_\_.

पहली पीढ़ी के कंप्यूटर का प्रमुख घटक \_\_\_\_\_ था।

**Options:**

- 1) Transistors  
ट्रांजिस्टर
- 2) Vacuum Tube  
वैक्यूम ट्यूब
- 3) Integrated Circuits  
इंटीग्रेटेड सर्किट
- 4) No option is correct  
कोई विकल्प सही नहीं है

**Correct Answer:** Vacuum Tube

वैक्यूम ट्यूब

**Candidate Answer:** Vacuum Tube

वैक्यूम ट्यूब

**QID : 290** - Heating of rubber with Sulphur is known as \_\_\_\_\_.

सल्फर के साथ रबर को गर्म करना \_\_\_\_\_ के रूप में जाना जाता है।

**Options:**

- 1) Galvanisation  
गैल्वनीकरण
- 2) sulphonation  
सल्फोनेशन
- 3) Bessemerisation  
बेसेमेराइजेशन
- 4) Vulcanisation  
वल्कनाइजेशन

**Correct Answer:** Vulcanisation

वल्कनाइजेशन

**Candidate Answer:** Vulcanisation

वल्कनाइजेशन

**QID : 291** - Corundum and Cryolite are important ores of which of the following metals?

कोरंडम और क्रायोलाइट निम्नलिखित धातुओं में से किसके अयस्क हैं?

**Options:**

- 1) Silver  
चांदी
- 2) Iron  
लोहा
- 3) Aluminium  
एल्युमीनियम
- 4) Tin  
टिन

**Correct Answer:** Aluminium  
एल्युमीनियम

**Candidate Answer:** Aluminium  
एल्युमीनियम

**QID : 292** - What is the color of ozone molecule?

ओजोन अणु का रंग क्या होता है?

**Options:**

- 1) Blue  
नीला
- 2) White  
सफेद
- 3) Yellow  
पीला
- 4) Green  
हरा

**Correct Answer:** Blue  
नीला

**Candidate Answer:** [ NOT ANSWERED ]

**QID : 293** - Govt of India launched four major digital initiatives in to push e-education. Which of the following is part of this initiative?

भारत सरकार ने ई-शिक्षा को बढ़ावा देने के लिए चार प्रमुख डिजिटल पहल की शुरुआत की। निम्नलिखित में से कौन सा इस पहल का हिस्सा है?

**Options:**

- 1) Swayam  
स्वयं
- 2) Swayam Prabha  
स्वयं प्रभा
- 3) National Academic Depository  
राष्ट्रीय अकादमिक डिपॉजिटरी
- 4) All options are correct  
सभी विकल्प सही हैं

**Correct Answer:** All options are correct  
सभी विकल्प सही हैं

**Candidate Answer:** Swayam Prabha  
स्वयं प्रभा

**QID : 294** - Who invented the revolver?

रिवॉल्वर का आविष्कार किसने किया?

**Options:**

- 1) Edward Jenner  
एडवर्ड जेनर
- 2) Alexander Fleming  
अलेक्जेंडर फ्लेमिंग
- 3) Albert Einstein  
अल्बर्ट आइंस्टीन
- 4) Samuel Colt  
सैमुअल कोल्ट

**Correct Answer:** Samuel Colt  
सैमुअल कोल्ट

**Candidate Answer:** Samuel Colt  
सैमुअल कोल्ट

**QID : 295** - Kidambi Srikanth is famous for what?

किदंबी श्रीकांत किसके लिए प्रसिद्ध हैं?

**Options:**

- 1) Tennis  
टेनिस
- 2) Kabaddi  
कबड्डी
- 3) Badminton  
बैडमिंटन
- 4) Football  
फुटबॉल

**Correct Answer:** Badminton  
बैडमिंटन

**Candidate Answer:** Badminton  
बैडमिंटन

**QID : 296** - Thaipusam festival is celebrated by which of the following communities?

थाईपूसम त्योहार निम्नलिखित समुदायों में से कौन मनाता है?

**Options:**

- 1) Telugu  
तेलुगू
- 2) Tamil  
तमिल
- 3) Malayalam  
मलयालम
- 4) Marathi  
मराठी

**Correct Answer:** Tamil  
तमिल

**Candidate Answer:** [ NOT ANSWERED ]

**QID : 297** - Who among the following got the 'Bharat Ratna' award, before becoming the President of India?

भारत के राष्ट्रपति बनने से पहले, निम्नलिखित में से किसे 'भारत रत्न' पुरस्कार से सम्मानित किया गया था?

**Options:**

- 1) S Radhakrishnan  
एस राधाकृष्णन
- 2) APJ Abul Kalam  
एपीजे अब्दुल कलाम
- 3) Dr Zakir Hussain  
डॉ जाकिर हुसैन
- 4) All options are correct.  
सभी विकल्प सही हैं।

**Correct Answer:** All options are correct.  
सभी विकल्प सही हैं।

**Candidate Answer:** APJ Abul Kalam  
एपीजे अब्दुल कलाम

**QID : 298** - Who wrote the book "One Indian Girl"?

"वन इंडियन गर्ल" पुस्तक किसने लिखी?

**Options:**

- 1) Chetan Bhagat  
चेतन भगत
- 2) Javed Akhtar  
जावेद अख्तर
- 3) Taslima Nasreen  
तस्लीमा नसरीन
- 4) No option is correct  
कोई विकल्प सही नहीं है

**Correct Answer:** Chetan Bhagat  
चेतन भगत

**Candidate Answer:** Taslima Nasreen  
तस्लीमा नसरीन

**QID : 299** - Qatar announced a programme to allow visa-free entry for how many countries in the year 2017?

वर्ष 2017 में कतर ने कितने देशों के लिए वीजा मुक्त प्रवेश की अनुमति देने के लिए एक कार्यक्रम की घोषणा की?

**Options:**

- 1) 25
- 2) 48
- 3) 96
- 4) 80

**Correct Answer:** 80

Candidate Answer: 48

**QID : 300** - Which of the following countries signed an agreement to connect India by waterways in year 2017?

वर्ष 2017 निम्नलिखित देशों में से कौन सा जलमार्ग से भारत को जोड़ने के लिए एक समझौते पर हस्ताक्षर किया है?

**Options:**

1) Nepal

नेपाल

2) Pakistan

पाकिस्तान

3) Bangladesh

बांग्लादेश

4) Srilanka

श्रीलंका

**Correct Answer:** Bangladesh

बांग्लादेश

**Candidate Answer:** Bangladesh

बांग्लादेश

GovtJobsAlert.In