

QID : 201 -

In the following question, select the number which can be placed at the sign of question mark (?) from the given alternatives.

निम्नलिखित प्रश्न में दिए गए विकल्पों में से प्रश्न चिह्न (?) के स्थान पर आने वाली संख्या को चुनिए।

1	4	3
2	1	5
5	2	2
3	4	?

Options:

- 1) 1
- 2) 2
- 3) 3
- 4) 4

Correct Answer: 1

Candidate Answer: 1

QID : 202 -

How many rectangles are there in the given figure?

दी गई आकृति में कितने आयत हैं?



Options:

- 1) 4
- 2) 5
- 3) 3
- 4) 6

Correct Answer: 4

Candidate Answer: 5

QID : 203 -

A word is represented by only one set of numbers as given in any one of the alternatives. The sets of numbers given in the alternatives are represented by two classes of alphabets as shown in the given two matrices. The columns and rows of **Matrix-I** are numbered from 0 to 4 and that of **Matrix-II** are numbered from 5 to 9. A letter from these matrices can be represented first by its row and next by its column, for example, 'W' can be represented by 41, 57, etc., and 'K' can be represented by 32, 65, etc. Similarly, you have to identify the set for the word "MOUNT".

एक शब्द केवल एक संख्या-समूह द्वारा दर्शाया गया है, जैसा कि विकल्पों में से किसी एक में दिया गया है। विकल्पों में दिए गए संख्या-समूह अक्षरों के दो वर्गों द्वारा दर्शाए गए हैं, जैसा कि दिए गए दो आव्यूहों में है। **आव्यूह-I** के स्तम्भ और पंक्ति की संख्या 0 से 4 है और **आव्यूह-II** की 5 से 9। इन आव्यूहों से एक अक्षर को पहले उसकी पंक्ति और बाद में स्तम्भ संख्या द्वारा दर्शाया जा सकता है। उदाहरण के लिए 'W' को 41, 57, आदि द्वारा दर्शाया जा सकता है तथा 'K' को 32, 65, आदि द्वारा दर्शाया जा सकता है। इसी तरह से आपको प्रश्न में दिए शब्द "MOUNT" के लिए समूह को पहचानना है।

Matrix-I आव्यूह-I						Matrix-II आव्यूह-II					
	0	1	2	3	4		5	6	7	8	9
0	A	L	T	Z	E	5	C	M	W	F	P
1	G	D	N	V	C	6	K	U	D	N	X
2	O	I	F	P	X	7	R	S	B	L	V
3	U	Q	K	H	R	8	G	Q	A	J	T
4	Y	W	S	M	J	9	E	O	Y	H	R

Options:

1) 56, 20, 66, 69, 03

2) 43, 21, 66, 12, 03

3) 56, 96, 31, 68, 04

4) 43, 96, 66, 12, 02

Correct Answer: 43, 96, 66, 12, 02

Candidate Answer: 43, 96, 66, 12, 02

QID : 204 -

From the given answer figures, select the one in which the question figure is hidden/embedded.

दी गई उत्तर आकृतियों में से उस उत्तर आकृति को चुनिए जिस में प्रश्न आकृति निहित है।



Options:

1)



2)



3)



4)



Correct Answer:



Candidate Answer:



QID : 205 -

Which answer figure will complete the pattern in the question figure?

कौन सी उत्तर आकृति प्रश्न आकृति के प्रतिरूप को पूरा करेगी?



Options:

1)



2)



3)



4)



Correct Answer:



Candidate Answer:



QID : 206 -

If a mirror is placed on the line AB, then which of the answer figures is the right image of the given figure?

यदि एक दर्पण को AB रेखा पर रखा जाए, तो दी गई उत्तर आकृतियों में से कौन सी आकृति प्रश्न आकृति की सही प्रतिबिम्ब होगी?



Options:

1)



2)



3)



4)



Correct Answer:



Candidate Answer:



QID : 207 -

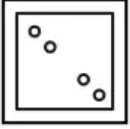
A piece of paper is folded and punched as shown below in the question figures. From the given answer figures, indicate how it will appear when opened?

नीचे के प्रश्न आकृतियों में दिखाए अनुसार कागज को मोड़कर छेदने तथा खोलने के बाद वह किस उत्तर आकृति जैसा दिखाई देगा?



Options:

1)



2)



3)



4)



Correct Answer:



Candidate Answer:



QID : 208 - By interchanging which two signs the equation will be correct?

$$11 + 13 - 39 \times 3 \div 6 = 6$$

किन दो चिह्नों को आपस में परस्पर बदलने पर समीकरण सही हो जाएगा?

$$11 + 13 - 39 \times 3 \div 6 = 6$$

Options:

1) x and +

x तथा +

2) x and ÷

x तथा ÷

3) ÷ and -

÷ तथा -

4) + and ÷

+ तथा ÷

Correct Answer: ÷ and -

÷ तथा -

Candidate Answer: [ NOT ANSWERED ]

QID : 209 - If  $9 \# 3 @ 2 = 10$  and  $11 \# 4 @ 1 = 14$ , then  $9 \# 6 @ 9 = ?$

यदि  $9 \# 3 @ 2 = 10$  तथा  $11 \# 4 @ 1 = 14$  हो, तो  $9 \# 6 @ 9 = ?$

Options:

1) 4

2) 2

3) 6

4) 8

Correct Answer: 6

Candidate Answer: 6

QID : 210 - Arrange the given words in the sequence in which they occur in the dictionary.

1. Grapes
2. Grown
3. Giggle
4. Ginger
5. Gasp

निम्नलिखित शब्दों को शब्दकोश में आने वाले क्रम के अनुसार लिखें।

1. Grapes
2. Grown
3. Giggle
4. Ginger
5. Gasp

Options:

1) 51234

2) 53142

3) 53421

4) 53412

Correct Answer: 53412

Candidate Answer: 53142

QID : 211 - In the following question, select the missing number from the given alternatives.

8, 15, 24, ?, 48, 63

निम्नलिखित प्रश्न में दिए गए विकल्पों में से लुप्त अंक ज्ञात कीजिए।

8, 15, 24, ?, 48, 63

Options:

1) 35

2) 37

3) 34

4) 38

Correct Answer: 35

Candidate Answer: 35

QID : 212 - A series is given with one term missing. Select the correct alternative from the given ones that will complete the series.

O, P, R, U, Y, ?

एक अनुक्रम दिया गया है, जिसमें से एक पद लुप्त है। दिए गए विकल्पों में से वह सही विकल्प चुनिए, जो अनुक्रम को पूरा करे।

O, P, R, U, Y, ?

Options:

1) A

2) D

3) Z

4) C

Correct Answer: D

Candidate Answer: D

QID : 213 - In the following question, select the odd word from the given alternatives.

निम्नलिखित प्रश्न में दिए गए विकल्पों में से विषम शब्द को चुनिए।

Options:

1) Leaves

पत्तियाँ

2) Tree

वृक्ष

3) Roots

जड़ें

4) Trunk

तना

Correct Answer: Tree

वृक्ष

Candidate Answer: Tree

वृक्ष

QID : 214 - In the following question, select the odd number pair from the given alternatives.

निम्नलिखित प्रश्न में दिए गए विकल्पों में से विषम संख्या युग्म को चुनिए।

Options:

1) 37 : 23

2) 46 : 24

3) 93 : 27

4) 28 : 16

Correct Answer: 37 : 23

Candidate Answer: 37 : 23

QID : 215 - In the following question, select the odd letters from the given alternatives.

निम्नलिखित प्रश्न में दिए गए विकल्पों में से विषम अक्षरों को चुनिए।

Options:

1) J L K

2) P R Q

3) X Y Z

4) B D C

Correct Answer: X Y Z

Candidate Answer: X Y Z

QID : 216 - Identify the diagram that best represents the relationship among the given classes.

Males, Trees, Politicians

वह आरेख चुनिए जो नीचे दिए गए वर्गों के बीच के संबंध का सही निरूपण करता है।

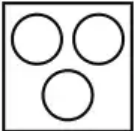
पुरुष, पेड़, राजनेता

Options:

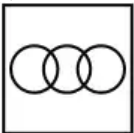
1)



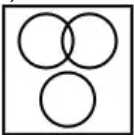
2)



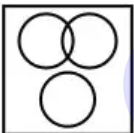
3)



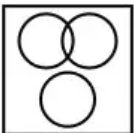
4)



Correct Answer:



Candidate Answer:



QID : 217 - In the following question, select the related word from the given alternatives.

Judge : Hearing : : General : ?

निम्नलिखित प्रश्न में दिए गए विकल्पों में से संबंधित शब्द को चुनिए।

न्यायाधीश : सुनवाई : : जनरल : ?



**Options:**

- 1) Results  
परिणाम
- 2) Initiate  
आरंभ करना
- 3) Operates  
परिचालित करना
- 4) Commands  
आदेश देना

**Correct Answer:** Commands  
आदेश देना

**Candidate Answer:** Commands  
आदेश देना

**QID : 218** - In the following question, select the related number from the given alternatives.

**14 : 63 :: 28 : ?**

निम्नलिखित प्रश्न में दिए गए विकल्पों में से संबंधित संख्या को चुनिए।

**14 : 63 :: 28 : ?**

**Options:**

- 1) 148
- 2) 142
- 3) 134
- 4) 126

**Correct Answer:** 126

**Candidate Answer:** 126

**QID : 219** - In the following question, select the related letters from the given alternatives.

**PEN : OCK :: SUN : ?**

निम्नलिखित प्रश्न में दिए गए विकल्पों में से संबंधित अक्षरों को चुनिए।

**PEN : OCK :: SUN : ?**

**Options:**

- 1) QSK
- 2) RTK
- 3) RSK
- 4) QTK

**Correct Answer:** RSK

**Candidate Answer:** RSK

**QID : 220** - In the following question, select the word which cannot be formed using the letters of the given word.

**MICROSOFT**

निम्नलिखित विकल्पों में से वह शब्द चुनिए जो दिए गए शब्द के अक्षरों का प्रयोग करके नहीं बनाया जा सकता।

**MICROSOFT**

**Options:**

- 1) RAFT
- 2) RIFT
- 3) MOIST
- 4) SOFT

**Correct Answer:** RAFT

**Candidate Answer:** RAFT

**QID : 221** - Pointing to a lady, Ravi said, "She is the only daughter of my mother's husband". How is the lady related to Ravi?

एक महिला की ओर संकेत करते हुए, रवि ने कहा, "वह मेरी माता के पति की एकमात्र पुत्री है।" वह महिला रवि से किस प्रकार संबंधित है?

**Options:**

- 1) Sister  
बहन
- 2) Mother  
माता
- 3) Wife  
पत्नी
- 4) Grandmother  
दादी

**Correct Answer:** Sister

बहन

**Candidate Answer:** Sister

बहन

## Download More Papers From GovtJobsAlert.In

**QID : 222** - Saba remembers her examinations starts after 29<sup>th</sup> March, while her father remembers that her examinations starts before 31<sup>th</sup> March. On which date of March does her examinations start?

सबा को याद है कि उसकी परीक्षा 29 मार्च के बाद आरंभ हो रही है जबकि उसके पिता को याद है कि उसकी परीक्षा 31 मार्च से पहले आरंभ हो रही है। उसकी परीक्षा मार्च की किस तिथि को आरंभ है?

**Options:**

1) 29

2) 30

3) 31

4) 28

**Correct Answer:** 30

**Candidate Answer:** 30

**QID : 223** - In the following question below are given some statements followed by some conclusions. Taking the given statements to be true even if they seem to be at variance from commonly known facts, read all the conclusions and then decide which of the given conclusion logically follows the given statements.

**Statements:**

I. Some pencils are cups.

II. Some cups are chairs.

**Conclusions:**

I. Some chairs are cups.

II. Some chairs are pencils.

नीचे दिए गए प्रश्न में कुछ कथन और उनके बाद उन कथनों पर आधारित कुछ निष्कर्ष दिए गए हैं, हालांकि उनमें सामान्य ज्ञात तथ्यों से भिन्नता हो सकती है। सभी निष्कर्ष पढ़ें और फिर निर्धारित करें कि दिए गए कौन से निष्कर्ष, दिए गए कथनों के आधार पर युक्तिसंगत हैं।

**कथन:**

I. कुछ पेंसिल कप हैं।

II. कुछ कप कुर्सियाँ हैं।

**निष्कर्ष:**

I. कुछ कुर्सियाँ कप हैं।

II. कुछ कुर्सियाँ पेंसिल हैं।

**Options:**

1) Only conclusion (I) follows.

केवल निष्कर्ष (I) सही है।

2) Only conclusion (II) follows.

केवल निष्कर्ष (II) सही है।

3) Both conclusion follow.

दोनों ही निष्कर्ष सही हैं।

4) Neither conclusion (I) nor conclusion (II) follows.

न तो निष्कर्ष (I) न ही निष्कर्ष (II) सही है।

**Correct Answer:** Only conclusion (I) follows.

केवल निष्कर्ष (I) सही है।

**Candidate Answer:** Only conclusion (I) follows.

केवल निष्कर्ष (I) सही है।

**QID : 224** - In a certain code language, "LEAD" is written as "NHEI". How is "IRON" written in that code language?

एक विशिष्ट कोड भाषा में, "LEAD" को "NHEI" लिखा जाता है। इस कोड भाषा में "IRON" को किस प्रकार लिखा जाएगा?

**Options:**

1) KUSS

2) KUST

3) KVSS

4) MUST

**Correct Answer:** KUSS

**Candidate Answer:** KUSS

**QID : 225** - In a certain code language, "GOAT" is written as "7612" and "RUNS" is written as "93510". How is "BOYS" written in that code language?

एक विशिष्ट कोड भाषा में, "GOAT" को "7612" तथा "RUNS" को "93510" लिखा जाता है। इस कोड भाषा में "BOYS" को किस प्रकार लिखा जाएगा?

**Options:**

1) 26710

2) 26701

3) 25710

4) 26810

**Correct Answer:** 26710

**Candidate Answer:** 26810

**QID : 226** - How many positive factors of 160 are there?

160 के कितने धनात्मक पूर्णांक होते हैं?

## Download More Papers From GovtJobsAlert.In

Options:

1) 12

2) 6

3) 24

4) 16

Correct Answer: 12

Candidate Answer: 16

QID : 227 - How many times the digit 6 appears in the number from 11 to 100?

11 से 100 तक की संख्या में अंक 6 कितनी बार आता है?

Options:

1) 17

2) 18

3) 19

4) 20

Correct Answer: 19

Candidate Answer: 18

QID : 228 -

What is the value of  $\sqrt{256} + \sqrt{10.24}$  ?

$\sqrt{256} + \sqrt{10.24}$  का मान क्या है?

Options:

1) 16.2

2) 17.2

3) 19.2

4) 18.4

Correct Answer: 19.2

Candidate Answer: 19.2

**QID : 229** - If 487P is divisible by 4, then what is the value of P?

यदि 487P, 4 से विभाजित है, तो P का मान क्या है?

**Options:**

1) 2

2) 4

3) 2 or 6

2 या 6

4) 6

**Correct Answer:** 2 or 6

2 या 6

**Candidate Answer:** 2 or 6

2 या 6

**QID : 230** - What is the value of  $(1/2) + (1/6) + (1/12) + (1/20)$ ?

$(1/2) + (1/6) + (1/12) + (1/20)$  का मान क्या है?

**Options:**

1)  $2/5$

2)  $4/5$

3)  $3/5$

4)  $1/5$

**Correct Answer:**  $4/5$

**Candidate Answer:**  $4/5$

**QID : 231** - Which of the following is not a perfect cube?

निम्नलिखित में से कौन एक पूर्ण घन नहीं है?

Options:

1) 1024

2) 729

3) 216

4) 1000

Correct Answer: 1024

Candidate Answer: 1024

**QID : 232** - A pipe can fill a tank in 10 hours but due to leakage it is filled in 15 hours. If the tank is full then, how much time will the leakage take to empty it?

एक नल एक टंकी को 10 घंटे में भर सकता है परंतु एक छिद्र होने की वजह से यह 15 घंटे में भर जाता है। यदि टंकी पूरी तरह भरी हो, तो रिसाव से उसे खाली होने में कितना समय लेगा?

Options:

1) 20

2) 30

3) 35

4) 25

Correct Answer: 30

Candidate Answer: 30

**QID : 233** - A tank has a leak at bottom which would empty it in 20 hours. A tap is turned on which fills 5 litres an hour into the tank then it is emptied in 30 hours. How many litres does the tank hold?

एक टंकी की तल में एक छेद है, जिसके कारण पानी से पूरी भरी टंकी 20 घंटे में खाली हो जाती है। 5 लीटर प्रति घंटे की रफ्तार से टंकी में पानी भरने वाला एक नल चालू किया जाता है, तो टंकी को खाली होने में 30 घंटे लगते हैं। टंकी में कितने लीटर पानी भरा जा सकता है?

Options:

1) 300

2) 150

3) 200

4) 250

Correct Answer: 300

Candidate Answer: 300

**QID : 234** - What is the area of a rhombus having one side as 20 cm and one diagonal as 24 cm?

उस समचतुर्भुज का क्षेत्रफल क्या है जिसकी एक भुजा 20 से.मी. है तथा एक विकर्ण 24 से.मी. है?

**Options:**

1) 384

2) 192

3) 96

4) 198

**Correct Answer:** 384

**Candidate Answer:** 192

**QID : 235** - Marked price of an article is 35% more than its cost price. If 20% discount is given, then what will be the profit percentage?

एक वस्तु का अंकित मूल्य उसके क्रय मूल्य से 35% अधिक है। यदि 20% की छूट दी जाए, तो लाभ का प्रतिशत क्या होगा?

**Options:**

1) 8

2) 15

3) 6

4) 11

**Correct Answer:** 8

**Candidate Answer:** 15

**QID : 236** - Two successive discounts of 25% and 20% are given. What will be the net discount (in percentage)?

25% तथा 20% की दो क्रमिक छूट दी जाती है। निवल (नेट) छूट (प्रतिशत में) क्या होगी?

**Options:**

1) 43.5

2) 42.5

3) 45

4) 40

Correct Answer: 40

Candidate Answer: 40

**QID : 237** - If  $A : B = 3 : 7$ ,  $B : C = 4 : 5$  and  $C : D = 7 : 6$ . What is the value of  $A : D$ ?

यदि  $A : B = 3 : 7$ ,  $B : C = 4 : 5$  तथा  $C : D = 7 : 6$  है।  $A : D$  का मान क्या है।

**Options:**

1) 2 : 5

2) 3 : 7

3) 4 : 7

4) 3 : 5

**Correct Answer:** 2 : 5

**Candidate Answer:** 2 : 5

**QID : 238** - In what ratio two types of sugar costing Rs 40/kg and Rs 30/kg should be mixed to obtain a mixture of Rs 33/kg.

40 रु/कि.ग्रा तथा 30 रु/ कि.ग्रा वाली चीनी किस अनुपात में मिला दी जाए कि 33 रु/कि.ग्रा वाला मिश्रण प्राप्त हो जाए?

**Options:**

1) 7 : 3

2) 3 : 7

3) 5 : 3

4) 3 : 5

**Correct Answer:** 3 : 7

**Candidate Answer:** 3 : 7

**QID : 239** - Average of 8 consecutive numbers is 26.5. Which is the largest number out of these 8?

8 क्रमागत संख्याओं का औसत 26.5 है। इन 8 में से सबसे बड़ी संख्या कौन सी है?

Options:

1) 42

2) 30

3) 32

4) 38

Correct Answer: 30

Candidate Answer: 30

**QID : 240** - If the selling price of 20 articles is equal to the cost price of 40 articles, then what is the profit percent?

यदि 20 वस्तुओं का विक्रय मूल्य 40 वस्तुओं के क्रय मूल्य के बराबर है, तो लाभ प्रतिशत क्या है?

Options:

1) 50

2) 100

3) 200

4) 75

Correct Answer: 100

Candidate Answer: 100

**QID : 241** - A shopkeeper buys an article for Rs 8000. For how much should he sell (in Rs) it so as to gain a profit of 20%?

एक दुकानदार एक वस्तु 8000 रु में खरीदता है। 20% लाभ प्राप्त करने के लिए उसे वस्तु कितने (रु में) बेचनी चाहिए?

Options:

1) 9600

2) 9200

3) 10000

4) 8800

Correct Answer: 9600



Candidate Answer: 9600

**QID : 242** - The difference between 62% and 47% of a number is 720. What is the 43% of the number?

एक संख्या के 62% तथा 47% का अंतर 720 है। संख्या का 43% क्या है?

**Options:**

1) 2250

2) 2064

3) 2184

4) 2280

**Correct Answer:** 2064

**Candidate Answer:** 2064

**QID : 243** - If the side of a cube increases by 5%, then what is the percentage increase in the volume of the cube?

यदि किसी घन की भुजा में 5% की वृद्धि की जाती है, तो घन के आयतन में कितने प्रतिशत की वृद्धि होगी?

**Options:**

1) 15

2) 10

3) 10.25

4) 15.76

**Correct Answer:** 15.76

**Candidate Answer:** 10.25

**QID : 244** - Ashish covers  $\frac{2}{7}$  of the total distance by train and the remaining 75 km by bus. What is his total journey (in km)?

आशीष अपनी कुल यात्रा का  $\frac{2}{7}$  भाग रेलगाड़ी द्वारा तय करता है। शेष 75 कि.मी. की दूरी वह बस द्वारा तय करता है। उसकी कुल यात्रा (कि.मी. में) कितनी है?

Options:

1) 105

2) 175

3) 95

4) 125

Correct Answer: 105

Candidate Answer: 175

**QID : 245** - A man can row 4 km/hr in still water. If the speed of the current is 1 km/hr, he takes 4 hours more in upstream than in the downstream. What is the distance (in km)?

शांत जल में एक व्यक्ति की गति 4 कि.मी./घंटा है। यदि धारा की गति 1 कि.मी./घंटा है, धारा के अनुकूल दिशा में कुछ दूर जाने में जितना समय लगता है, उससे 4 घंटे अधिक समय धारा के प्रतिकूल दिशा में उतनी ही दूरी तय करने में लगता है। दूरी (कि.मी. में) क्या है?

Options:

1) 15

2) 30

3) 45

4) 42

Correct Answer: 30

Candidate Answer: 45

**QID : 246** - An amount of Rs 15000 is invested in a scheme of compound interest. If rate of interest is 10% per annum, then what is the amount (in Rs) obtained after 3 years?

15000 रु की एक राशि को चक्रवृद्धि ब्याज वाली एक योजना में निवेश किया गया। यदि ब्याज दर 10% प्रति वर्ष है, तो 3 वर्ष बाद कितनी राशि (रु में) प्राप्त होगी?

Options:

1) 17365

2) 18150

3) 19965

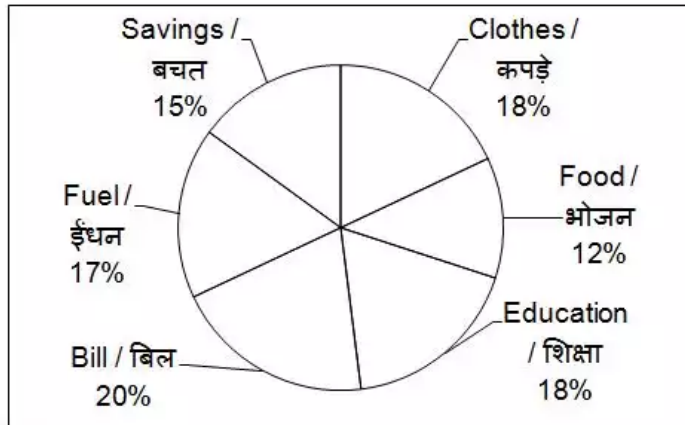
4) 20140

Correct Answer: 19965

QID : 247 -

The pie chart given below shows the breakup of monthly expenditure of a family. The monthly income of the family is Rs 80000.

नीचे दिए गए वृत्त चित्र में एक परिवार के मासिक व्यय को दर्शाया गया है। परिवार की मासिक आय 80000 रु है।



What is the monthly expenditure (in Rs) on fuel?

ईंधन पर होने वाला मासिक व्यय (रु में) कितना है?

Options:

1) 15000

2) 9600

3) 13600

4) 12400


Correct Answer: 13600

Candidate Answer: 13600

QID : 248 -

The pie chart given below shows the breakup of monthly expenditure of a family. The monthly income of the family is Rs 80000.

नीचे दिए गए वृत्त चित्र में एक परिवार के मासिक व्यय को दर्शाया गया है। परिवार की मासिक आय 80000 रु है।



What is the difference (in Rs) in monthly expenditure on clothes and food?

कपड़ों तथा भोजन पर होने वाले मासिक व्यय का अंतर (रु में) क्या है?

Options:

1) 1600

2) 4800

3) 6000

4) 6400


Correct Answer: 4800

Candidate Answer: 4800

QID : 249 -

The pie chart given below shows the breakup of monthly expenditure of a family. The monthly income of the family is Rs 80000.

नीचे दिए गए वृत्त चित्र में एक परिवार के मासिक व्यय को दर्शाया गया है। परिवार की मासिक आय 80000 रु है।



What are the yearly savings (in Rs) of the family?

परिवार की वार्षिक बचत (रु में) कितनी है?

Options:

1) 126000

2) 72000

3) 108000

4) 144000


Correct Answer: 144000

Candidate Answer: 72000

QID : 250 -

The pie chart given below shows the breakup of monthly expenditure of a family. The monthly income of the family is Rs 80000.

नीचे दिए गए वृत्त चित्र में एक परिवार के मासिक व्यय को दर्शाया गया है। परिवार की मासिक आय 80000 रु है।



20% out of expenditure on education is spent on pens. What is the monthly expenditure (in Rs) on pens?

शिक्षा के व्यय में से 20% व्यय कलमों पर किया गया है। कलमों पर होने वाला मासिक व्यय (रु में) कितना है?

Options:

1) 2880

2) 3160

3) 3240

4) 2970

Correct Answer: 2880

Candidate Answer: 2880

QID : 251 - In the following question, some part of the sentence may have errors. Find out which part of the sentence has an error and select the appropriate option. If a sentence is free from error, select 'No Error'.

Wednesday, a working day, (1)/ may proved to be troublesome (2)/ tough as thousands hit the roads. (3)/ No Error (4)

Options:

1) 1

2) 2

3) 3

4) 4

Correct Answer: 2

Candidate Answer: [ NOT ANSWERED ]

QID : 252 - In the following question, some part of the sentence may have errors. Find out which part of the sentence has an error and select the appropriate option. If a sentence is free from error, select 'No Error'.

China is also a (1)/ buyer of American Crude (2)/ oil who has been exported. (3)/ No Error (4)

**Options:**

1) 1

2) 2

3) 3

4) 4

**Correct Answer:** 3

**Candidate Answer:** [ NOT ANSWERED ]

**QID : 253** - In the following question, the sentence given with blank to be filled in with an appropriate word. Select the correct alternative out of the four and indicate it by selecting the appropriate option.

**The Security Guard prevented us \_\_\_\_\_ entering the hotel.**

**Options:**

1) from

2) against

3) for

4) on

**Correct Answer:** from

**Candidate Answer:** [ NOT ANSWERED ]

**QID : 254** - In the following question, the sentence given with blank to be filled in with an appropriate word. Select the correct alternative out of the four and indicate it by selecting the appropriate option.

**Rohan is \_\_\_\_\_ tall as his elder brother Rohit.**

**Options:**

1) much

2) more

3) too

4) as

**Correct Answer:** as

**Candidate Answer:** too

**QID : 255** - In the following question, out of the given four alternatives, select the one which best expresses the meaning of the given word.

**Lament**

**Options:**

1) Enlighten

2) Chatter

3) Mourn

4) Rejoice

**Correct Answer:** Mourn

**Candidate Answer:** [ NOT ANSWERED ]

**QID : 256** - In the following question, out of the given four alternatives, select the one which best expresses the meaning of the given word.

**Authentic**

**Options:**

1) Certain

2) Dubious

3) Brave

4) Rude

**Correct Answer:** Certain

**Candidate Answer:** [ NOT ANSWERED ]

**QID : 257** - In the following question, out of the given four alternatives, select the one which best expresses the meaning of the given word.

**Eradicate**

**Options:**

1) Uncivil

2) Uproot

3) Cultivate

4) Inaction

**Correct Answer:** Uproot

**Candidate Answer:** [ NOT ANSWERED ]

**QID : 258** - In the following question, out of the given four alternatives, select the one which is opposite in meaning of the given word.

**Betrayal**

**Options:**

- 1) Tricky
- 2) Deceive
- 3) Stand by
- 4) Bluff

**Correct Answer:** Stand by

**Candidate Answer:** [ NOT ANSWERED ]

**QID : 259** - In the following question, out of the given four alternatives, select the one which is opposite in meaning of the given word.

**Gracious**

**Options:**

- 1) Kind
- 2) Benign
- 3) Civil
- 4) Miserable

**Correct Answer:** Miserable

**Candidate Answer:** [ NOT ANSWERED ]

**QID : 260** - In the following question, out of the given four alternatives, select the one which is opposite in meaning of the given word.

**Lavish**

**Options:**

- 1) Wild
- 2) Scarce
- 3) Posh
- 4) Liberal

**Correct Answer:** Scarce

**Candidate Answer:** [ NOT ANSWERED ]

**QID : 261** - In the following question, out of the given four alternatives, select the alternative which best expresses the meaning of the Idiom/Phrase.

**Through thick and thin.**

**Options:**

- 1) Under all circumstances
- 2) Thinking entire day
- 3) To keep on losing or gaining weight
- 4) To think advantage and disadvantages of something

**Correct Answer:** Under all circumstances

**Candidate Answer:** [ NOT ANSWERED ]

**QID : 262** - In the following question, out of the given four alternatives, select the alternative which best expresses the meaning of the Idiom/Phrase.

**Turned a blind eye.**

**Options:**

- 1) Not able to see clearly
- 2) Feeling dizzy
- 3) Pretended not to notice
- 4) Playing hide and seek

**Correct Answer:** Pretended not to notice

**Candidate Answer:** [ NOT ANSWERED ]

**QID : 263** - In the following question, out of the four alternatives, select the alternative which will improve the bracketed part of the sentence. In case no improvement is needed, select "no improvement".

Ram as well as his friends (**are**) coming for lunch.

**Options:**

- 1) have
- 2) is
- 3) are not
- 4) No improvement

**Correct Answer:** is

**Candidate Answer:** [ NOT ANSWERED ]



**QID : 264** - In the following question, out of the four alternatives, select the alternative which will improve the bracketed part of the sentence. In case no improvement is needed, select "no improvement".

Either the teacher or the students (**has**) gone to eat lunch.

**Options:**

- 1) have
- 2) is
- 3) might has
- 4) No improvement

**Correct Answer:** have

**Candidate Answer:** [ NOT ANSWERED ]

**QID : 265** - In the following question, out of the four alternatives, select the alternative which is the best substitute of the phrase.

**Having no hair on the scalp.**

**Options:**

- 1) Babble
- 2) Bogus
- 3) Boggle
- 4) Bald

**Correct Answer:** Bald

**Candidate Answer:** [ NOT ANSWERED ]

**QID : 266** - In the following question, out of the four alternatives, select the alternative which is the best substitute of the phrase.

**Lover of books.**

**Options:**

- 1) Paedophile
- 2) Electrophile
- 3) Bibliophile
- 4) Foodophile

**Correct Answer:** Bibliophile

**Candidate Answer:** [ NOT ANSWERED ]

**QID : 267** - In the following question, a word has been written in four different ways out of which only one is correctly spelt. Select the correctly spelt word.

**Options:**

- 1) Algibra
- 2) Algebra
- 3) Elegebra
- 4) Alegebra

**Correct Answer:** Algebra

**Candidate Answer:** Alegebra

**QID : 268** - In the following question, a word has been written in four different ways out of which only one is correctly spelt. Select the correctly spelt word.

**Options:**

- 1) Difference
- 2) Deffirence
- 3) Differance
- 4) Defference

**Correct Answer:** Difference

**Candidate Answer:** Differance

**QID : 269** - The question below consists of a set of labelled sentences. Out of the four options given, select the most logical order of the sentences to form a coherent paragraph.

The backbone

**P:** agriculture; which also provides

**Q:** sustenance to over half the country's population

**R:** of the rural economy is

**Options:**

1) RPQ

2) PRQ

3) RQP

4) QPR

**Correct Answer:** RPQ

**Candidate Answer:** [ NOT ANSWERED ]

**QID : 270** - The question below consists of a set of labelled sentences. Out of the four options given, select the most logical order of the sentences to form a coherent paragraph.

When we

**P:** talk of investing in education,

**Q:** a question arises as to what kind of education

**R:** needs to be given to the youngster.

**Options:**

1) PRQ

2) PQR

3) RQP

4) QPR

**Correct Answer:** PQR

**Candidate Answer:** [ NOT ANSWERED ]

**QID : 271** - In the following passage some of the words have been left out. Read the passage carefully and select the correct answer for the given blank out of the four alternatives.

'Entertainment' implies non-participation by the \_\_\_\_\_. A football match may be entertainment to the spectators, but it is a \_\_\_\_\_ to the players, and when we think of entertainment, we must \_\_\_\_\_, 'activities' such as indoor games, card playing, dice, tenpin bowling, even amateur theatricals, because the point of all these is that we are providing our \_\_\_\_\_ amusement. To be 'entertained', we must be content to look, and to \_\_\_\_\_.

**'Entertainment' implies non-participation by the \_\_\_\_\_.**

**Options:**

1) listeners

2) Artist

3) performe

4) Performer

**Correct Answer:** performe

**Candidate Answer:** Performer

**QID : 272** - In the following passage some of the words have been left out. Read the passage carefully and select the correct answer for the given blank out of the four alternatives.

'Entertainment' implies non-participation by the \_\_\_\_\_. A football match may be entertainment to the spectators, but it is a \_\_\_\_\_ to the players, and when we think of entertainment, we must \_\_\_\_\_, 'activities' such as indoor games, card playing, dice, tenpin bowling, even amateur theatricals, because the point of all these is that we are providing our \_\_\_\_\_ amusement. To be 'entertained', we must be content to look, and to \_\_\_\_\_.

**be entertainment to the spectators, but it is a \_\_\_\_\_**

**Options:**

1) bore

2) sport

3) entertainment

4) fun

**Correct Answer:** sport

**Candidate Answer:** [ NOT ANSWERED ]

**QID : 273** - In the following passage some of the words have been left out. Read the passage carefully and select the correct answer for the given blank out of the four alternatives.

'Entertainment' implies non-participation by the \_\_\_\_\_. A football match may be entertainment to the spectators, but it is a \_\_\_\_\_ to the players, and when we think of entertainment, we must \_\_\_\_\_, 'activities' such as indoor games, card playing, dice, tenpin bowling, even amateur theatricals, because the point of all these is that we are providing our \_\_\_\_\_ amusement. To be 'entertained', we must be content to look, and to \_\_\_\_\_.

**entertainment, we must \_\_\_\_\_,**

**Options:**

1) Exclude

2) among

3) expell

4) between

**Correct Answer:** Exclude

**Candidate Answer:** [ NOT ANSWERED ]

**QID : 274** - In the following passage some of the words have been left out. Read the passage carefully and select the correct answer for the given blank out of the four alternatives.

'Entertainment' implies non-participation by the \_\_\_\_\_. A football match may be entertainment to the spectators, but it is a \_\_\_\_\_ to the players, and when we think of entertainment, we must \_\_\_\_\_, 'activities' such as indoor games, card playing, dice, tenpin bowling, even amateur theatricals, because the point of all these is that we are providing our \_\_\_\_\_ amusement. To be 'entertained', we must be content to look, and to \_\_\_\_\_.

our \_\_\_\_\_ amusement.

**Options:**

- 1) exclusive
- 2) Choice
- 3) Own
- 4) Preferred

**Correct Answer:** Own

**Candidate Answer:** Choice

**QID : 275** - In the following passage some of the words have been left out. Read the passage carefully and select the correct answer for the given blank out of the four alternatives.

'Entertainment' implies non-participation by the \_\_\_\_\_. A football match may be entertainment to the spectators, but it is a \_\_\_\_\_ to the players, and when we think of entertainment, we must \_\_\_\_\_, 'activities' such as indoor games, card playing, dice, tenpin bowling, even amateur theatricals, because the point of all these is that we are providing our \_\_\_\_\_ amusement. To be 'entertained', we must be content to look, and to \_\_\_\_\_.

we must be content to look, and to \_\_\_\_\_.

**Options:**

- 1) hear
- 2) See
- 3) Ignore
- 4) Listen

**Correct Answer:** Listen

**Candidate Answer:** Listen

**QID : 276** - When people are engaged in production of goods and services they are said to be engaged in \_\_\_\_\_.

जब लोग वस्तुओं तथा सेवाओं के उत्पादन में व्यस्त होते हैं तब उन्हें \_\_\_\_\_ में व्यस्त होना कहते हैं।

**Options:**

- 1) Business  
व्यवसाय
- 2) Economic activities  
आर्थिक गतिविधियाँ
- 3) Work  
कार्य
- 4) Manufacturing  
विनिर्माण

**Correct Answer:** Economic activities  
आर्थिक गतिविधियाँ

**Candidate Answer:** Economic activities  
आर्थिक गतिविधियाँ

**QID : 277** - What is the record of all economic transactions of a country in a particular period called?

किसी देश की एक निश्चित अवधि में होने वाली सभी आर्थिक लेन-देन के अभिलेख को क्या कहते हैं?

**Options:**

- 1) Balance of Payment  
भुगतान संतुलन
- 2) Fiscal Deficit  
राजकोषीय घाटा
- 3) Current Account Deficit  
चालू खाता घाटा
- 4) Balance of trade  
व्यापार का संतुलन

**Correct Answer:** Balance of Payment  
भुगतान संतुलन

**Candidate Answer:** Balance of Payment  
भुगतान संतुलन

**QID : 278** - Which among the following is one of the important functions of the Lok Sabha (House of People)?

निम्नलिखित में से कौन सा लोक सभा का एक महत्वपूर्ण काम होता है?

**Options:**

- 1) To select the executive  
कार्यपालिका का चुनाव करना
- 2) To select the judiciary  
न्यायपालिका का चुनाव करना
- 3) To select the legislature  
विधायिकी का चुनाव करना
- 4) None of these  
इनमें से कोई नहीं

**Correct Answer:** To select the executive  
कार्यपालिका का चुनाव करना

**Candidate Answer:** To select the executive  
कार्यपालिका का चुनाव करना

**QID : 279** - Which part of Indian constitution deals with 'The union and its territories'?

भारतीय संविधान का कौन सा भाग 'संघ और उसके क्षेत्र' के बारे में बताता है?

**Options:**

- 1) Part I  
भाग I
- 2) Part II  
भाग II
- 3) Part III  
भाग III
- 4) Part IV  
भाग IV

**Correct Answer:** Part I  
भाग I

**Candidate Answer:** Part I  
भाग I

**QID : 280** - In which state, 'The Great Stupa of Sanchi' located?

किस प्रदेश में 'साँची का महान स्तूप' स्थित है?

**Options:**

- 1) Andhra Pradesh  
आन्ध्र प्रदेश
- 2) Madhya Pradesh  
मध्य प्रदेश
- 3) Odisha  
ओड़िसा
- 4) Uttar Pradesh  
उत्तर प्रदेश

**Correct Answer:** Madhya Pradesh  
मध्य प्रदेश

**Candidate Answer:** Madhya Pradesh  
मध्य प्रदेश

**QID : 281** -

Match the following.

निम्नलिखित का मिलान कीजिए।

Term / शब्द	Meaning / अर्थ
A. Subas सूबा	1. Military Pay Master सैनिक वेतनाधिकारी
B. Diwan दीवान	2. Provinces प्रांत
C. Bakhshi बक्शी	3. Financial Officer वित्तीय अधिकारी

**Options:**

- 1) B-1, C-3, A-2
- 2) A-2, B-3, C-1
- 3) C-2, B-3, A-1
- 4) B-2, A-1, C-3

**Correct Answer:** A-2, B-3, C-1

**Candidate Answer:** A-2, B-3, C-1

**QID : 282** - Maps showing cities, towns and villages and different countries and states of the world with their boundaries are called \_\_\_\_\_ maps.

राज्यों, नगरों, शहरों तथा गाँवों एवं विश्व के विभिन्न देशों व राज्यों तथा उनकी सीमाओं को दर्शाने वाले मानचित्रों को \_\_\_\_\_ मानचित्र कहते हैं।

**Options:**

- 1) Relief  
उच्चावच
- 2) Political  
राजनीतिक
- 3) Thematic  
थिमैटिक
- 4) Symbolic  
प्रतीकात्मक

**Correct Answer:** Political  
राजनीतिक

**Candidate Answer:** Relief  
उच्चावच

**QID : 283** - The greatest depth is recorded at which place on Earth?

पृथ्वी पर किस जगह पर सबसे अधिक गहराई दर्ज की गई है?

**Options:**

- 1) Lake Baikal  
बयकाल झील
- 2) Kidd Mine  
किड्ड खदान
- 3) Mariana Trench  
मेरियाना गर्त
- 4) Litke Deep  
लिट्क डीप

**Correct Answer:** Mariana Trench  
मेरियाना गर्त

**Candidate Answer:** Mariana Trench  
मेरियाना गर्त

**QID : 284** - In the heart of man the bicuspid valve is situated between \_\_\_\_\_.

मानव के हृदय में द्विलनी कपाट \_\_\_\_\_ स्थित होता है।

**Options:**

- 1) Right ventricle and pulmonary aorta  
दायें निलय और फुफ्फुसी महाधमनी के बीच
- 2) Left auricle and left ventricle  
बायें अलिंद और बायें निलय के बीच
- 3) Right auricle and right ventricle  
दायें अलिंद और दायें निलय के बीच
- 4) Postcaval and auricle  
कोष्ठ कैवल और अलिंद के बीच

**Correct Answer:** Left auricle and left ventricle  
बायें अलिंद और बायें निलय के बीच

**Candidate Answer:** Right ventricle and pulmonary aorta  
दायें निलय और फुफ्फुसी महाधमनी के बीच

**QID : 285** - The basic unit of a vertebrate kidney is the \_\_\_\_\_.

एक कशेरुकी वृक्क की मूलभूत इकाई \_\_\_\_\_ है।

**Options:**

- 1) ureter  
यूरेटर
- 2) nephron  
नेफ्रोन
- 3) Malpighian tubule  
मेलपिगियन नलिका
- 4) Islets of langerhans  
लैंगरहेंस द्वीपसमूह

**Correct Answer:** nephron  
नेफ्रोन

**Candidate Answer:** nephron  
नेफ्रोन

**QID : 286** - Which one of the following would not limit photosynthesis?

निम्नलिखित में से कौन प्रकाश संश्लेषण को सीमित नहीं कर सकता है?

**Options:**

- 1) Oxygen  
ऑक्सीजन
- 2) Carbon dioxide  
कार्बन डाईऑक्साइड
- 3) Light  
प्रकाश
- 4) chlorophyll  
क्लोरोफिल

**Correct Answer:** Oxygen  
ऑक्सीजन

**Candidate Answer:** Oxygen  
ऑक्सीजन

**QID : 287** - The sunlight consists of how many colours?

सूर्य के प्रकाश में कितने विट्मान हैं?

**Options:**

- 1) One  
एक
- 2) Five  
पाच
- 3) Seven  
सात
- 4) Eleven  
ग्यारह

**Correct Answer:** Seven  
सात

**Candidate Answer:** Seven  
सात

**QID : 288** - In science, a push or pull is on an object as called what?

विज्ञान में किसी वस्तु पर लगने वाले धक्के (अभिकर्षण) या खिंचाव (अपकर्षण) को क्या कहते हैं?

**Options:**

- 1) Velocity  
चाल
- 2) Acceleration  
त्वरण
- 3) Pressure  
दाब
- 4) Force  
बल

**Correct Answer:** Force  
बल

**Candidate Answer:** Force  
बल

**QID : 289** - AMD is associated with which component of computers?

ए. एम. डी. कंप्यूटर के किस अंग से सम्बंधित है?

**Options:**

- 1) Keyboard  
कीबोर्ड
- 2) Mouse  
माउस
- 3) Processors  
प्रोसेसर
- 4) Monitor  
मॉनिटर

**Correct Answer:** Processors  
प्रोसेसर

**Candidate Answer:** Processors  
प्रोसेसर

**QID : 290** - Cinnabar is an ore of \_\_\_\_.

सिनबार निम्न में से \_\_\_\_\_ अयस्क है।

**Options:**

- 1) Pb
- 2) Sn
- 3) Hg
- 4) Ag

**Correct Answer:** Hg

**Candidate Answer:** Hg

**QID : 291** - The real bleaching agent present in bleaching powder is \_\_\_\_.

विरंजक चूर्ण में पाया जाने वाला वास्तविक विरंजक \_\_\_\_\_ कारक है।

**Options:**

- 1) chlorine  
क्लोरीन
- 2) oxygen  
ऑक्सीजन
- 3) Calcium oxide  
कैल्शियम ऑक्साइड
- 4) Chlorine and oxygen both  
क्लोरीन तथा ऑक्सीजन दोनों

**Correct Answer:** chlorine  
क्लोरीन

**Candidate Answer:** Chlorine and oxygen both  
क्लोरीन तथा ऑक्सीजन दोनों

**QID : 292** - As a result of green house effect, the average temperature of the earth's atmosphere is gradually increasing. This is called \_\_\_\_.

हरितगृह प्रभाव के परिणामस्वरूप वायुमंडल के औसत ताप में निरंतर वृद्धि हो रही है। इसे \_\_\_\_\_ कहते हैं।

**Options:**

1) Earth warming

पृथ्वी ऊष्णन

2) Global warming

विश्व ऊष्णन

3) Greenhouse warming

हरितगृह ऊष्णन पौधा-घर ऊष्णन

4) Natural warming

प्राकृतिक ऊष्णन

**Correct Answer:** Global warming

विश्व ऊष्णन

**Candidate Answer:** Global warming

विश्व ऊष्णन

**QID : 293** - What is the minimum age of joining Atal Pension Yojana?

अटल पेंशन योजना से जुड़ने के लिए न्यूनतम आयु क्या है?

**Options:**

1) 18 years

18 साल

2) 21 years

21 साल

3) 30 years

30 साल

4) 40 years

40 साल

**Correct Answer:** 18 years

18 साल

**Candidate Answer:** 21 years

21 साल

**QID : 294** - Who invented Penicillin?

पेनिसिलिन का आविष्कार किसने किया?

**Options:**

1) Neils Bohr

नील्स बोर

2) Alexander Fleming

अलेक्जेंडर फ्लेमिङ

3) Robert A. Millikan

रोबर्ट ए. मिल्लिकन

4) Robert Boyle

रोबर्ट बॉयल

**Correct Answer:** Alexander Fleming

अलेक्जेंडर फ्लेमिङ

**Candidate Answer:** Alexander Fleming

अलेक्जेंडर फ्लेमिङ

**QID : 295** - Which city will host the 2020 Summer Olympic Games?

कौन सा शहर 2020 ग्रीष्मकालीन ओलंपिक खेलों की मेजबानी करेगा?

**Options:**

1) Japan

जापान

2) China

चीन

3) South Korea

दक्षिण कोरिया

4) United States of America

संयुक्त राज्य अमेरिका

**Correct Answer:** Japan

जापान

**Candidate Answer:** South Korea

दक्षिण कोरिया

**QID : 296** - What is Jantar Mantar?

जंतर मंतर क्या है?

**Options:**

1) A city

एक शहर

2) A museum

एक संग्रहालय

3) An astronomical observatory

एक खगोलीय वेधशाला

4) A temple

एक मंदिर

**Correct Answer:** An astronomical observatory

एक खगोलीय वेधशाला

**Candidate Answer:** A museum

एक संग्रहालय

**QID : 297** - Who among the following won the Kirti Chakra Award 2017?

किसने कीर्ति चक्र पुरस्कार 2017 जीता है?

**Options:**

- 1) Major Rohit Suri  
मेजर रोहित सूरी
- 2) Havildar Hangpan Dada  
हवलदार हंगपन्ना दादा
- 3) Major Rajat Chandra  
मेजर रजत चंद्र
- 4) Captain Ashutosh Kumar  
कप्तान आशुतोष कुमार

**Correct Answer:** Major Rohit Suri  
मेजर रोहित सूरी

**Candidate Answer:** Major Rohit Suri  
मेजर रोहित सूरी

**QID : 298** - Who is the author of the book named 'Ignited Minds'?

'इग्नाइटेड माइंड्स' नामक किताब के लेखक/लेखिका कौन हैं?

**Options:**

- 1) A.P.J. Abdul Kalam  
ए. पी. जे. अब्दुल कलाम
- 2) Kalpana Chawla  
कल्पना चावला
- 3) Ellen Page  
एलेन पेज
- 4) Sushma Swaraj  
सुषमा स्वराज

**Correct Answer:** A.P.J. Abdul Kalam  
ए. पी. जे. अब्दुल कलाम

**Candidate Answer:** A.P.J. Abdul Kalam  
ए. पी. जे. अब्दुल कलाम

**QID : 299** - Which country plays an important role in India's Act East Policy?

भारत के अधिनियम पूर्व नीति में कौन सा देश महत्वपूर्ण भूमिका निभाता है?

**Options:**

- 1) China  
चीन
- 2) Japan  
जापान
- 3) Myanmar  
म्यांमार
- 4) Bhutan  
भूटान

**Correct Answer:** Myanmar  
म्यांमार

**Candidate Answer:** Bhutan  
भूटान

**QID : 300** - India to Thailand highway passes through which country?

भारत से थाइलैंड हाईवे किस देश से होकर गुजरता है?

**Options:**

- 1) Nepal  
नेपाल
- 2) Myanmar  
म्यांमार
- 3) China  
चीन
- 4) Pakistan  
पाकिस्तान

**Correct Answer:** Myanmar  
म्यांमार

**Candidate Answer:** Myanmar  
म्यांमार