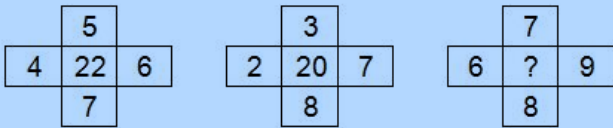


QID : 101 -

In the following question, select the number which can be placed at the sign of question mark (?) from the given alternatives.

निम्नलिखित प्रश्न में दिए गए विकल्पों में से प्रश्न चिह्न (?) के स्थान पर आने वाली संख्या को चुनिए।



Options:

1) 30

2) 32

3) 31

4) 29

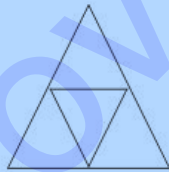
Correct Answer: 30

Candidate Answer: 30

QID : 102 -

How many triangles are there in the given figure?

दी गई आकृति में कितने त्रिभुज हैं?



Options:

1) 3

2) 4

3) 5

4) 6

Correct Answer: 5

Candidate Answer: 5

QID : 103 -

A word is represented by only one set of numbers as given in any one of the alternatives. The sets of numbers given in the alternatives are represented by two classes of alphabets as shown in the given two matrices. The columns and rows of **Matrix-I** are numbered from 0 to 4 and that of **Matrix-II** are numbered from 5 to 9. A letter from these matrices can be represented first by its row and next by its column, for example, 'D' can be represented by 02, 30, etc., and 'Z' can be represented by 00, 77, etc. Similarly, you have to identify the set for the word "CAKE".

एक शब्द केवल एक संख्या-समूह द्वारा दर्शाया गया है, जैसा कि विकल्पों में से किसी एक में दिया गया है। विकल्पों में दिए गए संख्या-समूह अक्षरों के दो वर्गों द्वारा दर्शाए गए हैं, जैसा कि दिए गए दो आव्यूहों में है। **आव्यूह-I** के स्तम्भ और पंक्ति की संख्या 0 से 4 है और **आव्यूह-II** की 5 से 9। इन आव्यूहों से एक अक्षर को पहले उसकी पंक्ति और बाद में स्तम्भ संख्या द्वारा दर्शाया जा सकता है। उदाहरण के लिए 'D' को 02, 30, आदि द्वारा दर्शाया जा सकता है तथा 'Z' को 00, 77, आदि द्वारा दर्शाया जा सकता है। इसी तरह से आपको प्रश्न में दिए शब्द "CAKE" के लिए समूह को पहचानना है।

Matrix-I आव्यूह-I						Matrix-II आव्यूह-II					
	0	1	2	3	4		5	6	7	8	9
0	Z	C	D	G	X	5	F	R	O	T	W
1	G	A	N	H	V	6	K	M	J	C	S
2	U	O	Y	K	T	7	L	P	Z	Y	D
3	D	G	W	L	R	8	F	E	J	A	N
4	A	E	U	C	K	9	U	W	Q	V	X

Options:

1) 01, 11, 23, 86

2) 11, 40, 45, 23

3) 43, 88, 12, 41

4) 68, 55, 67, 34

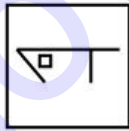
Correct Answer: 01, 11, 23, 86

Candidate Answer: 01, 11, 23, 86

QID : 104 -

From the given answer figures, select the one in which the question figure is hidden/embedded.

दी गई उत्तर आकृतियों में से उस उत्तर आकृति को चुनिए जिस में प्रश्न आकृति निहित है।



Options:

1)



2)



3)



4)



Correct Answer:



Candidate Answer: [ NOT ANSWERED ]

QID : 105 -

Which answer figure will complete the pattern in the question figure?

कौन सी उत्तर आकृति प्रश्न आकृति के प्रतिरूप को पूरा करेगी?



Options:

1)



2)



3)



4)



Correct Answer:



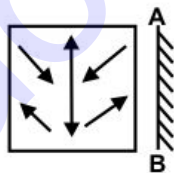
Candidate Answer:



QID : 106 -

If a mirror is placed on the line AB, then which of the answer figures is the right image of the given figure?

यदि एक दर्पण को AB रेखा पर रखा जाए, तो दी गई उत्तर आकृतियों में से कौन सी आकृति प्रश्न आकृति की सही प्रतिबिम्ब होगी?

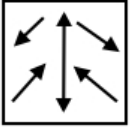


Options:

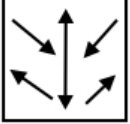
1)



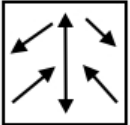
2)



3)



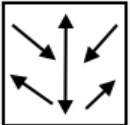
4)



Correct Answer:



Candidate Answer:



QID : 107 -

A piece of paper is folded and punched as shown below in the question figures. From the given answer figures, indicate how it will appear when opened?

नीचे के प्रश्न आकृतियों में दिखाए अनुसार कागज को मोड़कर छेदने तथा खोलने के बाद वह किस उत्तर आकृति जैसा दिखाई देगा?



Options:

1)



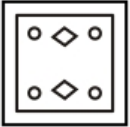
2)



3)



4)



Correct Answer:



Candidate Answer:



**QID : 108** - By interchanging which two signs the equation will be correct?

$$6 + 9 \div 11 - 3 \times 12 = - 29$$

किन दो चिहनों को आपस में परस्पर बदलने पर समीकरण सही हो जाएगा?

$$6 + 9 \div 11 - 3 \times 12 = - 29$$

Options:

1)  $\div$  and  $-$

$\div$  तथा  $-$

2)  $\times$  and  $+$

$\times$  तथा  $+$

3)  $+$  and  $\div$

$+$  तथा  $\div$

4)  $\div$  and  $\times$

$\div$  तथा  $\times$

Correct Answer:  $\div$  and  $-$

$\div$  तथा  $-$

Candidate Answer: [ NOT ANSWERED ]

**QID : 109** - If  $3 P 4 P 2 = 12$  and  $6 P 3 P 2 = 18$ , then

$$4 P 11 P 2 = ?$$

यदि  $3 P 4 P 2 = 12$  तथा  $6 P 3 P 2 = 18$  हो, तो

$$4 P 11 P 2 = ?$$

Options:

1) 44

2) 24

3) 46

4) 22

Correct Answer: 44

Candidate Answer: 44

**QID : 110** - Arrange the given words in the sequence in which they occur in the dictionary.

1. Angle
2. Able
3. Ant
4. Amicable
5. Amend

निम्नलिखित शब्दों को शब्दकोश में आने वाले क्रम के अनुसार लिखें।

1. Angle
2. Able
3. Ant
4. Amicable
5. Amend

**Options:**

1) 25413

2) 24513

3) 25431

4) 24531

**Correct Answer:** 25413

**Candidate Answer:** 25413

**QID : 111** - In the following question, select the missing number from the given series.

**30, 29, 27, 24, ?**

निम्नलिखित प्रश्न में दिए गए विकल्पों में से लुप्त अंक ज्ञात कीजिए।

**30, 29, 27, 24, ?**

**Options:**

1) 21

2) 22

3) 23

4) 20

**Correct Answer:** 20

**Candidate Answer:** 20

**QID : 112** - A series is given with one term missing. Select the correct alternative from the given ones that will complete the series.

**ABC, EFG, IJK, ?**

एक अनुक्रम दिया गया है, जिसमें से एक पद लुप्त है। दिए गए विकल्पों में से वह सही विकल्प चुनिए, जो अनुक्रम को पूरा करे।

**ABC, EFG, IJK, ?**

**Options:**

1) LMN

2) MNO

3) JKL

4) MOP

**Correct Answer:** MNO

**Candidate Answer:** MNO

**QID : 113** - In the following question, select the odd word from the given alternatives.

निम्नलिखित प्रश्न में दिए गए विकल्पों में से विषम शब्द को चुनिए।

**Options:**

1) Steel

इस्पात

2) Aluminium

एल्युमीनियम

3) Bronze

पीतल

4) Oxygen

ऑक्सीजन

**Correct Answer:** Oxygen

ऑक्सीजन

**Candidate Answer:** Oxygen

ऑक्सीजन

**QID : 114** - In the following question, select the odd number pair from the given alternatives.

निम्नलिखित प्रश्न में दिए गए विकल्पों में से विषम संख्या युग्म को चुनिए।

**Options:**

1) 13 - 172

2) 9 - 84

3) 11 - 125

4) 16 - 259

**Correct Answer:** 11 - 125

**Candidate Answer:** 16 - 259

**QID : 115** - In the following question, select the odd letters from the given alternatives.

निम्नलिखित प्रश्न में दिए गए विकल्पों में से विषम अक्षरों को चुनिए।

**Options:**

1) ONM

2) RQP

3) CBA

4) VTS

**Correct Answer:** VTS

**Candidate Answer:** VTS

**QID : 116** - Identify the diagram that best represents the relationship among the given classes.

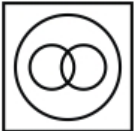
**Mother, Grandmother, Females**

वह आरेख चुनिए जो नीचे दिए गए वर्गों के बीच के संबंध का सही निरूपण करता है।

माता, दादी, महिलाएँ

**Options:**


1)



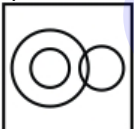
2)



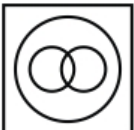
3)



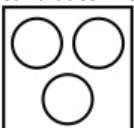
4)



**Correct Answer:**



**Candidate Answer:**





**QID : 117** - In the following question, select the related word from the given alternatives.

**Song : Singer :: Painting : ?**

निम्नलिखित प्रश्न में दिए गए विकल्पों में से संबंधित शब्द को चुनिए।

**गाना : गायक :: चित्रकला : ?**

**Options:**

1) Painter

चित्रकार

2) Cobbler

मोची

3) Mason

मिस्त्री

4) Plumber

नलसाज

**Correct Answer:** Painter

चित्रकार

**Candidate Answer:** Painter

चित्रकार

**QID : 118** - In the following question, select the related number from the given alternatives.

**10 : 100 :: 14 : ?**

निम्नलिखित प्रश्न में दिए गए विकल्पों में से संबंधित संख्या को चुनिए।

**10 : 100 :: 14 : ?**

**Options:**

1) 197

2) 225

3) 196

4) 169

**Correct Answer:** 196

**Candidate Answer:** 196

**QID : 119** - In the following question, select the related letters from the given alternatives.

**MO : PR :: SU : ?**

निम्नलिखित प्रश्न में दिए गए विकल्पों में से संबंधित अक्षरों को चुनिए।

**MO : PR :: SU : ?**

**Options:**

1) VY

2) VX

3) VW

4) WY

**Correct Answer:** VX

**Candidate Answer:** VX

**QID : 120** - In the following question, select the word which cannot be formed using the letters of the given word.

**SALUBRIOUS**

निम्नलिखित विकल्पों में से वह शब्द चुनिए जो दिए गए शब्द के अक्षरों का प्रयोग करके नहीं बनाया जा सकता।

**SALUBRIOUS**

**Options:**

1) LIAR

2) BLUR

3) SURE

4) RAIL

**Correct Answer:** SURE

**Candidate Answer:** LIAR

**QID : 121** - X and Y starts from same point and walks 20 km in opposite directions to each other. X turns left and walks 15 km. Y turns left and walks 15 km. How far (in km) are they from each other?

X तथा Y एक ही बिंदु से चलना आरंभ करते हैं तथा दोनों विपरीत दिशा में 20 कि.मी. चलते हैं। X बायीं ओर मुड़कर 15 कि.मी. चलता है। Y बायीं ओर मुड़कर 15 कि.मी. चलता है। वे एक दूसरे से कितनी दूरी (कि.मी. में) पर हैं?

**Options:**

- 1) 50
- 2)  $50\sqrt{2}$
- 3)  $40\sqrt{2}$
- 4)  $30\sqrt{5}$

**Correct Answer:** 50

**Candidate Answer:** [ NOT ANSWERED ]

**QID : 122** - If 4 years ago the ratio of the ages of P and Q was 5 : 6 and the sum of their ages at present is 52, then what is the ratio of their present ages?

यदि 4 वर्ष पूर्व P तथा Q की आयु का अनुपात 5 : 6 था तथा दोनों की वर्तमान में आयु का योग 52 है, तो उनकी वर्तमान आयु का अनुपात क्या है?

**Options:**

- 1) 5 : 6
- 2) 6 : 7
- 3) 5 : 7
- 4) 3 : 4

**Correct Answer:** 6 : 7

**Candidate Answer:** [ NOT ANSWERED ]

**QID : 123** - In the following question below are given some statements followed by some conclusions. Taking the given statements to be true even if they seem to be at variance from commonly known facts, read all the conclusions and then decide which of the given conclusion logically follows the given statements.

**Statements:**

- I. Some blue are black.
- II. Some black are red.

**Conclusions:**

- I. No blue is black.
- II. Some black are blue.

नीचे दिए गए प्रश्न में कुछ कथन और उनके बाद उन कथनों पर आधारित कुछ निष्कर्ष दिए गए हैं, हालांकि उनमें सामान्य ज्ञात तथ्यों से भिन्नता हो सकती है। सभी निष्कर्ष पढ़ें और फिर निर्धारित करें कि दिए गए कौन से निष्कर्ष, दिए गए कथनों के आधार पर युक्तिसंगत हैं।

**कथन:**

- I. कुछ नीले काले हैं।
- II. कुछ काले लाल हैं।

**निष्कर्ष:**

- I. कोई नीला काला नहीं है।
- II. कुछ काले नीले हैं।

**Options:**

- 1) Only conclusion (I) follows.  
केवल निष्कर्ष (I) सही है।
- 2) Only conclusion (II) follows.  
केवल निष्कर्ष (II) सही है।
- 3) Both conclusion follow.  
दोनों ही निष्कर्ष सही हैं।
- 4) Neither conclusion (I) nor conclusion (II) follows.  
न तो निष्कर्ष (I) न ही निष्कर्ष (II) सही है।

**Correct Answer:** Only conclusion (II) follows.

केवल निष्कर्ष (II) सही है।

**Candidate Answer:** Neither conclusion (I) nor conclusion (II) follows.

न तो निष्कर्ष (I) न ही निष्कर्ष (II) सही है।

**QID : 124** - In a certain code language, "GAME" is written as "HCPI". How is "PLAY" written in that code language?

एक विशिष्ट कोड भाषा में, "GAME" को "HCPI" लिखा जाता है। इस कोड भाषा में "PLAY" को किस प्रकार लिखा जाएगा?

**Options:**

- 1) QNDC
- 2) QNCC
- 3) OMDD
- 4) ONDC

**Correct Answer:** QNDC

Candidate Answer: QNDC

**QID : 125** - In a certain code language, "NIP" is written as "38" and "NIB" is written as "24". How is "HEX" written in that code language?

एक विशिष्ट कोड भाषा में, "NIP" को "38" तथा "NIB" को "24" लिखा जाता है। इस कोड भाषा में "HEX" को किस प्रकार लिखा जाएगा?

**Options:**

- 1) 36
- 2) 35
- 3) 37
- 4) 38

**Correct Answer:** 36

**Candidate Answer:** 37

**QID : 126** - What is the value  $35 - 15 \div 3 \times 7 + 4$ ?

$35 - 15 \div 3 \times 7 + 4$  का मान क्या है?

**Options:**

- 1) 14
- 2) 6
- 3) 9
- 4) 4

**Correct Answer:** 4

**Candidate Answer:** 4

**QID : 127** - Which of the following number is divisible by 15?

निम्नलिखित में से कौन सी संख्या 15 से पूर्णतः विभाजित है?

**Options:**

- 1) 73246
- 2) 23450
- 3) 11115
- 4) 24095

**Correct Answer:** 11115

**Candidate Answer:** 11115

**QID : 128** - What is the value  $[(2.4)^3 + (0.8)^3] \div [(2.4)^2 + (0.8)^2 - (2.4) \times (0.8)]$ ?

$[(2.4)^3 + (0.8)^3] \div [(2.4)^2 + (0.8)^2 - (2.4) \times (0.8)]$  का मान क्या है?

**Options:**

- 1) 4.2
- 2) 3.2
- 3) 1.6
- 4) 2.2

**Correct Answer:** 3.2

**Candidate Answer:** [ NOT ANSWERED ]

**QID : 129** - How many positive factors are there of 360?

360 के कितने धनात्मक गुणखंड हैं?

**Options:**

- 1) 24
- 2) 28
- 3) 18
- 4) 30

**Correct Answer:** 24

**Candidate Answer:** [ NOT ANSWERED ]

QID : 130 -

Which of the following statement is true?

I.  $(4^2)^4 = 4^{2^3}$

II.  $4^{3^2} > 4^6$

निम्नलिखित में से कौन सा कथन सत्य है?

I.  $(4^2)^4 = 4^{2^3}$

II.  $4^{3^2} > 4^6$

Options:

1) Only I

केवल I

2) Only II

केवल II

3) Both I and II

I तथा II दोनों

4) Neither I nor II

न तो I न ही II

Correct Answer: Both I and II

I तथा II दोनों

Candidate Answer: [ NOT ANSWERED ]

QID : 131 - How many multiple of 3 or 4 are there from 1 to 100?

1 से 100 तक की संख्या में 3 तथा 4 के कितने गुणांक हैं?

Options:

1) 55

2) 50

3) 58

4) 33

Correct Answer: 50

Candidate Answer: [ NOT ANSWERED ]

QID : 132 - A alone can do a work in 15 days. A is 20% less efficient than B. In how many days can B alone do the work?

A एक कार्य को अकेला 15 दिनों में पूरा कर सकता है। A, B से 20% कम कार्यकुशल है। B अकेला उस कार्य को कितने दिनों में पूरा कर सकता है?

Options:

1) 12

2) 18

3) 20

4) 24

Correct Answer: 12

Candidate Answer: 18

QID : 133 - Three taps A, B and C can fill a tank in 20, 30 and 36 hours respectively. If all the taps are opened together, then in how many hours will the tank be filled?

तीन नल A, B तथा C एक टंकी को क्रमशः 20, 30 तथा 36 घंटे में भर सकते हैं। यदि सभी नलों को एक साथ खोल दिया जाये, तो टंकी कितने घंटे में भर जाएगी?

Options:

1) 6

2) 9

3) 12

4) 15

Correct Answer: 9

Candidate Answer: [ NOT ANSWERED ]

QID : 134 - The length of two parallel sides of a trapezium are 60 cm and 40 cm. If the area of the trapezium is  $200 \text{ cm}^2$ , then what is the value of its height (in cm)?

एक समलम्ब की दो समांतर भुजाओं की लम्बाई 60 से.मी. तथा 40 से.मी. है। यदि समलंब का क्षेत्रफल  $200 \text{ से.मी.}^2$  है, तो उसकी ऊंचाई का मान (से.मी. में) क्या है?

Options:

1) 6

2) 8

3) 3

4) 4

Correct Answer: 4

Candidate Answer: [ NOT ANSWERED ]

**QID : 135** - If the difference between discount of 50% and two successive discounts of 20% on a certain bill is Rs 42, then what is the amount (in Rs) of the bill?

यदि एक बिल में 50% तथा 20% की दो क्रमागत छूटों के बीच 42 रु का अंतर आता है, तो बिल की राशि (रु में) कितनी है?

**Options:**

- 1) 300
- 2) 750
- 3) 600
- 4) 800

Correct Answer: 300

Candidate Answer: [ NOT ANSWERED ]

**QID : 136** - A merchant purchases a watch for Rs 560 and fixes its marked price in such a way that after allowing a discount of 20%, he earns a profit of 40%. What is the marked price (in Rs) of the watch?

एक व्यापारी 560 रु में एक घड़ी खरीदता है तथा इसका अंकित मूल्य इस तरह निर्धारित करता है कि 20% की छूट देने के पश्चात भी उसे 40% का लाभ प्राप्त होता है। घड़ी का अंकित मूल्य (रु में) क्या है?

**Options:**

- 1) 600
- 2) 980
- 3) 660
- 4) 750

Correct Answer: 980

Candidate Answer: [ NOT ANSWERED ]

**QID : 137** - Incomes of X and Y are in the ratio 3 : 2. The ratio of their expenditures is 7 : 3. If both save Rs 800 at the end of the month, then what is the income (in Rs) of X?

X तथा Y की आय 3 : 2 के अनुपात में है। उनके व्यय 7 : 3 के अनुपात में है। यदि माह के अंत में दोनों 800 रु की बचत करते हैं, तो X की आय (रु में) क्या है?

**Options:**

- 1) 1280
- 2) 3000
- 3) 2300
- 4) 1920

Correct Answer: 1920

Candidate Answer: [ NOT ANSWERED ]

**QID : 138** - If  $M : N = 3 : 5$  and  $M : O = 3 : 7$ , then what is  $(M + N) : (N + O)$ ?

यदि  $M : N = 3 : 5$  तथा  $M : O = 3 : 7$  है, तो  $(M + N) : (N + O)$  क्या है?

**Options:**

- 1) 5 : 4
- 2) 2 : 3
- 3) 6 : 5
- 4) 4 : 5

Correct Answer: 2 : 3

Candidate Answer: 4 : 5

**QID : 139** - The average of N numbers is 10. If a number 6 is removed, then average becomes 12. What is the value of N?

N संख्याओं का औसत 10 है। यदि एक संख्या 6 को हटाया जाये, तो औसत 12 हो जाता है। N का मान क्या है?

**Options:**

- 1) 5
- 2) 4
- 3) 6
- 4) 3

Correct Answer: 3

Candidate Answer: [ NOT ANSWERED ]

**QID : 140** - A man sold 250 chairs and had a gain equal to selling price of 50 chairs. What is his profit percentage?

एक व्यक्ति 250 कुर्सियों को बेचकर 50 कुर्सियों के विक्रय मूल्य के बराबर लाभ कमाता है। उसका लाभ प्रतिशत क्या है?

**Options:**

- 1) 20
- 2) 25
- 3) 10
- 4) 15

**Correct Answer:** 25

**Candidate Answer:** [ NOT ANSWERED ]

**QID : 141** - On selling an article for Rs 195, a shopkeeper losses 35%. At what price (in Rs) he should sell the article in order to earn a profit of 30%?

एक वस्तु को 195 रु में बेचने पर एक दुकानदार को 35% की हानि होती है। 30% लाभ कमाने के लिए उसे उस वस्तु को कितने (रु में) में बेचना चाहिए?

**Options:**

1) 95

2) 100

3) 390

4) 280

**Correct Answer:** 390

**Candidate Answer:** [ NOT ANSWERED ]

**QID : 142** - 1600 is first decreased by 25% and then it is increased by 25%. What is the final value?

1600 को पहले 25% से घटाया गया तथा फिर उसे 25% से बढ़ाया गया। अंतिम मान क्या है?

**Options:**

1) 1600

2) 1450

3) 1500

4) 1550

**Correct Answer:** 1500

**Candidate Answer:** [ NOT ANSWERED ]

**QID : 143** - Total cost of 40 chairs is Rs 1600. If cost of each chair increases by 20% and number of chairs decrease by 10%, then what will be the total cost (in Rs) of chairs?

40 कुर्सियों का कुल मूल्य 1600 रु है। यदि प्रत्येक कुर्सी का मूल्य 20% से बढ़ा दिया जाये तथा कुर्सियों की संख्या 10% से कम हो जाए, तो कुर्सियों का कुल मूल्य (रु में) क्या होगा?

**Options:**

1) 2400

2) 1728

3) 1484

4) 1865

**Correct Answer:** 1728

**Candidate Answer:** 1728

**QID : 144** - A car travels at a speed of 50 m/sec. for 7 hours. What is the distance (in km) travelled by the car?

एक गाड़ी 50 मी./सेकण्ड की गति से 7 घण्टे तक चलती है। गाड़ी द्वारा तय की गई दूरी (कि.मी. में) क्या है?

**Options:**

1) 1250

2) 1260

3) 1300

4) 1200

**Correct Answer:** 1260

**Candidate Answer:** [ NOT ANSWERED ]

**QID : 145** - A train running with a speed of 6 km/hr, crosses a telephone pole. If the length of train is 720 meters, then what is the time taken (in seconds) by the train to cross the pole?

एक 6 कि.मी./घंटा की गति से चलने वाली रेलगाड़ी, एक टेलीफोन के खम्बे को पार करती है। यदि रेलगाड़ी की लम्बाई 720 मीटर है, तो रेलगाड़ी द्वारा खम्बे को पार करने में लिया गया समय (सेकण्ड में) कितना है?

**Options:**

1) 430

2) 450

3) 432

4) 445

**Correct Answer:** 432

**Candidate Answer:** [ NOT ANSWERED ]

**QID : 146** - What is the compound interest (in Rs) on a sum of Rs 15000 for 2 years at the rate of 10% per annum compounded annually?

15000 रु के मूलधन पर 10% की वार्षिक दर पर वार्षिक संयोजन से 2 वर्षों का चक्रवृद्धि ब्याज (रु में) क्या है?

Options:

- 1) 3050
- 2) 3150
- 3) 3000
- 4) 7500

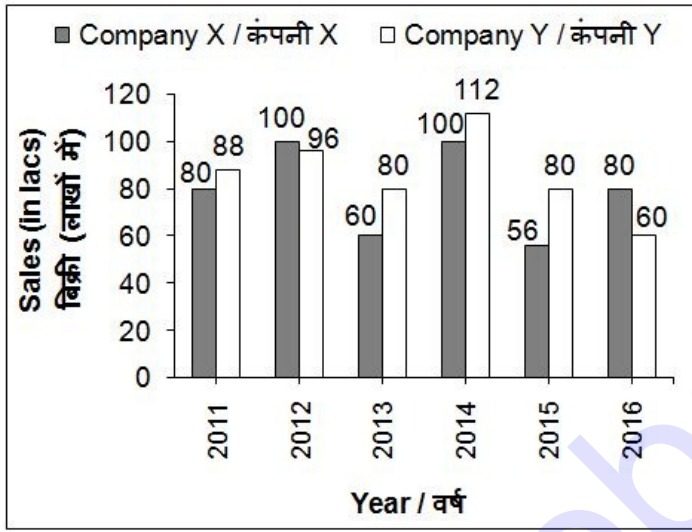
Correct Answer: 3150

Candidate Answer: [ NOT ANSWERED ]

QID : 147 -

The bar chart given below shows the sales (in lacs) of 2 companies X and Y from year 2011 to 2016.

नीचे दिए गए दण्ड चित्र में वर्ष 2011 से 2016 तक 2 कंपनियों X तथा Y की बिक्री (लाखों में) को दर्शाया गया है।



In how many years was the sale of company X more than that of company Y?

कितने वर्षों में कंपनी X की बिक्री कंपनी Y की बिक्री से अधिक थी?

Options:

- 1) 2
- 2) 5
- 3) 1
- 4) 3

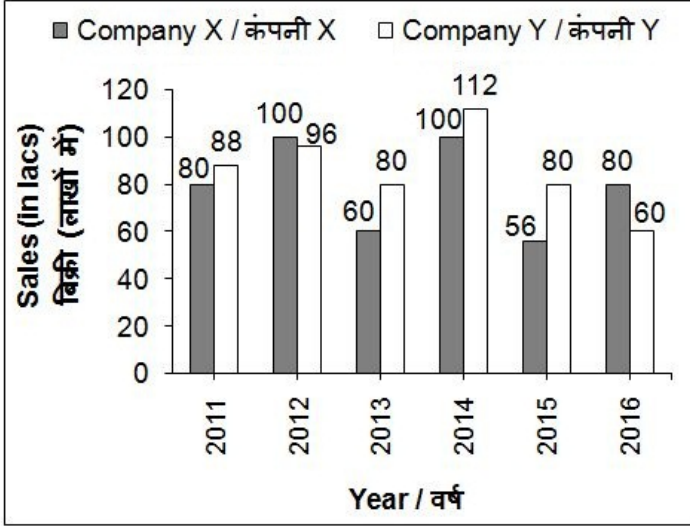
Correct Answer: 2

Candidate Answer: 2

QID : 148 -

The bar chart given below shows the sales (in lacs) of 2 companies X and Y from year 2011 to 2016.

नीचे दिए गए दण्ड चित्र में वर्ष 2011 से 2016 तक 2 कंपनियों X तथा Y की बिक्री (लाखों में) को दर्शाया गया है।



What was the percentage change in the sale of company X from year 2011 to 2015?

वर्ष 2011 से 2015 तक, कंपनी X की बिक्री में प्रतिशत परिवर्तन क्या था?

**Options:**

- 1) 30
- 2) 80
- 3) 50
- 4) 60

**Correct Answer:** 30

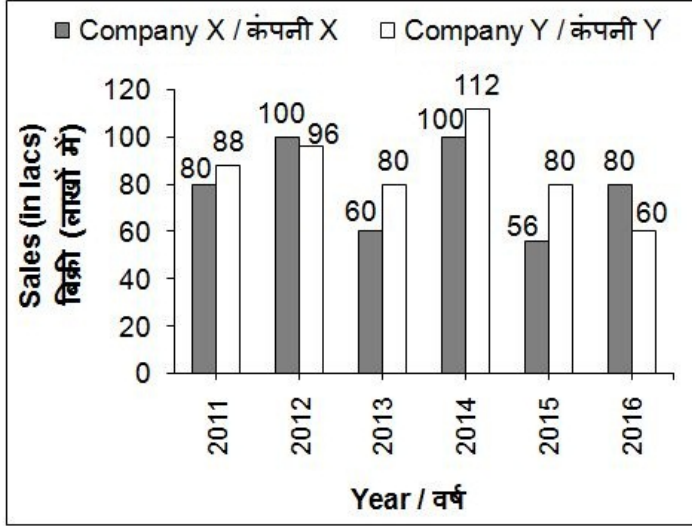
**Candidate Answer:** 60



QID : 149 -

The bar chart given below shows the sales (in lacs) of 2 companies X and Y from year 2011 to 2016.

नीचे दिए गए दण्ड चित्र में वर्ष 2011 से 2016 तक 2 कंपनियों X तथा Y की बिक्री (लाखों में) को दर्शाया गया है।



What was the average sale (in lacs) of company Y from 2012 to 2016?

वर्ष 2012 से 2016 तक, कंपनी Y की औसत बिक्री (लाखों में) क्या थी?

**Options:**

- 1) 104
- 2) 85.6
- 3) 140
- 4) 170.4

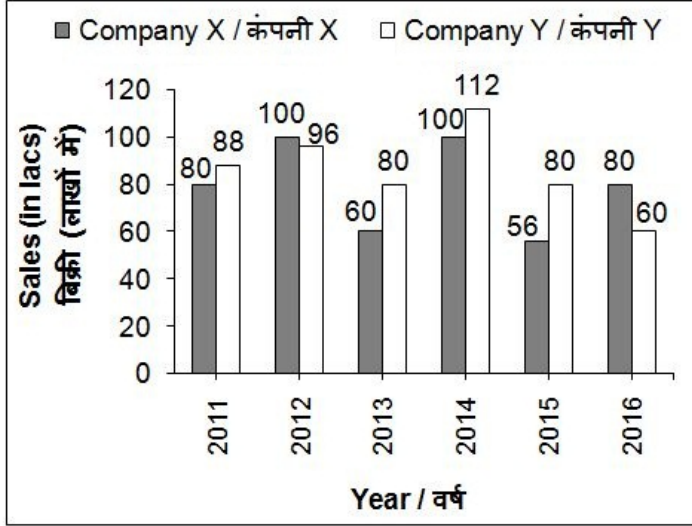
**Correct Answer:** 85.6

**Candidate Answer:** 85.6

QID : 150 -

The bar chart given below shows the sales (in lacs) of 2 companies X and Y from year 2011 to 2016.

नीचे दिए गए दण्ड चित्र में वर्ष 2011 से 2016 तक 2 कंपनियों X तथा Y की बिक्री (लाखों में) को दर्शाया गया है।



The sale of company Y in 2015 is what percent of the sale of company X in 2011?

वर्ष 2015 में कंपनी Y की बिक्री वर्ष 2011 में कंपनी X की बिक्री का कितना प्रतिशत है?

Options:

- 1) 80
- 2) 100
- 3) 250
- 4) 300

Correct Answer: 100

Candidate Answer: [ NOT ANSWERED ]

QID : 151 - In the following question, some part of the sentence may have errors. Find out which part of the sentence has an error and select the appropriate option. If a sentence is free from error, select 'No Error'.

How did they become (1)/ the most successful investors (2)/ America have ever seen. (3)/ No error (4)

Options:

- 1) 1
- 2) 2
- 3) 3
- 4) 4

Correct Answer: 3

Candidate Answer: [ NOT ANSWERED ]

QID : 152 - In the following question, some part of the sentence may have errors. Find out which part of the sentence has an error and select the appropriate option. If a sentence is free from error, select 'No Error'.

He found comfort in fantasy and (1)/ science-fiction books which inspiring (2)/ him to leave a legacy in the world. (3)/ No error (4)

Options:

- 1) 1
- 2) 2
- 3) 3
- 4) 4

Correct Answer: 2

Candidate Answer: [ NOT ANSWERED ]

## Download More Papers From GovtJobsAlert.In

**QID : 153** - In the following question, the sentence given with blank to be filled in with an appropriate word. Select the correct alternative out of the four and indicate it by selecting the appropriate option.

**Nobody will help you but \_\_\_\_\_.**

**Options:**

1) my

2) I

3) mine

4) their

**Correct Answer:** I

**Candidate Answer:** [ NOT ANSWERED ]

**QID : 154** - In the following question, the sentence given with blank to be filled in with an appropriate word. Select the correct alternative out of the four and indicate it by selecting the appropriate option.

**One must not praise \_\_\_\_\_ self.**

**Options:**

1) his

2) her

3) ours

4) one

**Correct Answer:** one

**Candidate Answer:** [ NOT ANSWERED ]

**QID : 155** - In the following question, out of the given four alternatives, select the one which best expresses the meaning of the given word.

**Forbid**

**Options:**

1) Include

2) Standout

3) Preclude

4) Welcome

**Correct Answer:** Preclude

**Candidate Answer:** Preclude

**QID : 156** - In the following question, out of the given four alternatives, select the one which best expresses the meaning of the given word.

**Haggard**

**Options:**

1) Hard working

2) Plump

3) Healthy

4) Exhausted

**Correct Answer:** Exhausted

**Candidate Answer:** [ NOT ANSWERED ]

**QID : 157** - In the following question, out of the given four alternatives, select the one which best expresses the meaning of the given word.

**Inspid**

**Options:**

1) Innocuous

2) Original

3) Exciting

4) Jovial

**Correct Answer:** Innocuous

**Candidate Answer:** [ NOT ANSWERED ]

**QID : 158** - In the following question, out of the given four alternatives, select the one which is opposite in meaning of the given word.

**Lustre**

**Options:**

1) Gloss

2) Shine

3) Matte

4) Dazzle

**Correct Answer:** Matte

Candidate Answer: [ NOT ANSWERED ]

**QID : 159** - In the following question, out of the given four alternatives, select the one which is opposite in meaning of the given word.

**Victor**

**Options:**

- 1) Champ
- 2) Hero
- 3) King
- 4) Loser

**Correct Answer:** Loser

Candidate Answer: [ NOT ANSWERED ]

**QID : 160** - In the following question, out of the given four alternatives, select the one which is opposite in meaning of the given word.

**Darken**

**Options:**

- 1) Deepen
- 2) Dim
- 3) Eclipse
- 4) Illuminated

**Correct Answer:** Illuminated

Candidate Answer: [ NOT ANSWERED ]

**QID : 161** - In the following question, out of the four given alternatives, select the alternative which best expresses the meaning of the Idiom/Phrase.

**Be under somebody's thumb**

**Options:**

- 1) To be absent from duty without permission
- 2) Be controlled by someone completely
- 3) A deep thinker
- 4) To destroy in the very beginning

**Correct Answer:** Be controlled by someone completely

Candidate Answer: [ NOT ANSWERED ]

**QID : 162** - In the following question, out of the four given alternatives, select the alternative which best expresses the meaning of the Idiom/Phrase.

**Get wind of something**

**Options:**

- 1) Expect too much of life
- 2) Hear about something
- 3) Refusing to shoot
- 4) A false intention

**Correct Answer:** Hear about something

Candidate Answer: [ NOT ANSWERED ]

**QID : 163** - Improve the bracketed part of the sentence.

The consequences of her removal (**inside the**) meeting of the general counsel of the party will be immediate.

**Options:**

- 1) on the
- 2) around the
- 3) at the
- 4) No improvement

**Correct Answer:** at the

Candidate Answer: [ NOT ANSWERED ]

**QID : 164** - Improve the bracketed part of the sentence.

While there are (**much**) in the party, including ministers, who still sympathize with her.

**Options:**

1) many

2) most

3) less

4) No improvement

**Correct Answer:** many

**Candidate Answer:** [ NOT ANSWERED ]

**QID : 165** - In the following question, out of the four given alternatives, select the alternative which is the best substitute of the phrase.

**A fear of closed places.**

**Options:**

1) Homophobia

2) Claustrophobia

3) Aerophobia

4) Monophobia

**Correct Answer:** Claustrophobia

**Candidate Answer:** [ NOT ANSWERED ]

**QID : 166** - In the following question, out of the four given alternatives, select the alternative which is the best substitute of the phrase.

**A list of things to be discussed at a meeting.**

**Options:**

1) Meetings

2) Notice

3) Notion

4) Agenda

**Correct Answer:** Agenda

**Candidate Answer:** [ NOT ANSWERED ]

**QID : 167** - In the following question, a word has been written in four different ways out of which only one is correctly spelt. Select the correctly spelt word.

**Options:**

1) Guidanse

2) Guidence

3) Guidance

4) Giudance

**Correct Answer:** Guidance

**Candidate Answer:** [ NOT ANSWERED ]

**QID : 168** - In the following question, a word has been written in four different ways out of which only one is correctly spelt. Select the correctly spelt word.

**Options:**

1) Encycleopodia

2) Encyclopedea

3) Encyclopedia

4) Encyclopidea

**Correct Answer:** Encyclopedia

**Candidate Answer:** [ NOT ANSWERED ]

**QID : 169** - Rearrange the parts of the sentence in correct order.

There was a

**P:** the river, from one

**Q:** thick rope tied across

**R:** bank to the another

**Options:**

1) PQR

2) RQP

3) RPQ

4) QPR

**Correct Answer:** QPR

**Candidate Answer:** [ NOT ANSWERED ]

**QID : 170** - Rearrange the parts of the sentence in correct order.

I knew that

**P:** challenge with courage

**Q:** result of facing a

**R:** this confidence was a

**Options:**

- 1) PQR
- 2) RPQ
- 3) QPR
- 4) RQP

**Correct Answer:** RQP

**Candidate Answer:** RPQ

**QID : 171** - In the following passage some of the words have been left out. Read the passage carefully and select the correct answer for the given blank out of the four alternatives.

India is a country proving the fact of \_\_\_\_\_ in diversity. People of various religions and castes have managed to live together for many years without \_\_\_\_\_ problem. India is decorated by the high mountains, valleys, oceans, famous rivers, streams, forests, deserts, ancient culture and \_\_\_\_\_, and most importantly unity in diversity. People here belong to their own race, religion and language however they all have \_\_\_\_\_ characteristic of humanity which make them able to \_\_\_\_\_ together.

**the fact of \_\_\_\_\_ in diversity**

**Options:**

- 1) unity
- 2) adversity
- 3) relativity
- 4) creativity

**Correct Answer:** unity

**Candidate Answer:** unity

**QID : 172** - In the following passage some of the words have been left out. Read the passage carefully and select the correct answer for the given blank out of the four alternatives.

India is a country proving the fact of \_\_\_\_\_ in diversity. People of various religions and castes have managed to live together for many years without \_\_\_\_\_ problem. India is decorated by the high mountains, valleys, oceans, famous rivers, streams, forests, deserts, ancient culture and \_\_\_\_\_, and most importantly unity in diversity. People here belong to their own race, religion and language however they all have \_\_\_\_\_ characteristic of humanity which make them able to \_\_\_\_\_ together.

**for many years without \_\_\_\_\_ problem**

**Options:**

- 1) most
- 2) any
- 3) more
- 4) none

**Correct Answer:** any

**Candidate Answer:** any

**QID : 173** - In the following passage some of the words have been left out. Read the passage carefully and select the correct answer for the given blank out of the four alternatives.

India is a country proving the fact of \_\_\_\_\_ in diversity. People of various religions and castes have managed to live together for many years without \_\_\_\_\_ problem. India is decorated by the high mountains, valleys, oceans, famous rivers, streams, forests, deserts, ancient culture and \_\_\_\_\_, and most importantly unity in diversity. People here belong to their own race, religion and language however they all have \_\_\_\_\_ characteristic of humanity which make them able to \_\_\_\_\_ together.

**ancient culture and \_\_\_\_\_**

**Options:**

- 1) festival
- 2) rites
- 3) tradition
- 4) themes

**Correct Answer:** tradition

**Candidate Answer:** festival

**QID : 174** - In the following passage some of the words have been left out. Read the passage carefully and select the correct answer for the given blank out of the four alternatives.

India is a country proving the fact of \_\_\_\_\_ in diversity. People of various religions and castes have managed to live together for many years without \_\_\_\_\_ problem. India is decorated by the high mountains, valleys, oceans, famous rivers, streams, forests, deserts, ancient culture and \_\_\_\_\_, and most importantly unity in diversity. People here belong to their own race, religion and language however they all have \_\_\_\_\_ characteristic of humanity which make them able to \_\_\_\_\_ together.

**all have \_\_\_\_\_ characteristic**

**Options:**

- 1) dislike
- 2) unlike
- 3) nominal
- 4) similar

**Correct Answer:** similar

**Candidate Answer:** nominal

**QID : 175** - In the following passage some of the words have been left out. Read the passage carefully and select the correct answer for the given blank out of the four alternatives.

India is a country proving the fact of \_\_\_\_\_ in diversity. People of various religions and castes have managed to live together for many years without \_\_\_\_\_ problem. India is decorated by the high mountains, valleys, oceans, famous rivers, streams, forests, deserts, ancient culture and \_\_\_\_\_, and most importantly unity in diversity. People here belong to their own race, religion and language however they all have \_\_\_\_\_ characteristic of humanity which make them able to \_\_\_\_\_ together.

**able to \_\_\_\_\_ together.**

**Options:**

- 1) die
- 2) drink
- 3) sleep
- 4) live

**Correct Answer:** live

**Candidate Answer:** live

**QID : 176** - In which sector the government owns most of the assets and provides all the services?

किस क्षेत्र में सरकार की अधिकांश संपत्तियाँ हैं और सभी सेवाएँ प्रदान करता है?

**Options:**

- 1) Public  
जनता
- 2) Private  
निजी
- 3) Both public & private  
सार्वजनिक तथा निजी दोनों
- 4) None of these  
इनमें से कोई नहीं

**Correct Answer:** Public

जनता

**Candidate Answer:** [ NOT ANSWERED ]

**QID : 177** - What are the loans from informal lenders including moneylenders, traders, employers, relatives and friends etc is called?

अनौपचारिक उधारदाताओं से ऋण जिसमें लेन-देनदार, व्यापारियों, नियोक्ता, रिश्तेदारों तथा दोस्तों आदि से ऋण शामिल हैं, क्या कहलाते हैं?

**Options:**

- 1) Formal sector loans  
औपचारिक क्षेत्र ऋण
- 2) Informal sector loans  
अनौपचारिक क्षेत्र ऋण
- 3) General loans  
सामान्य ऋण
- 4) Commercial loans  
वाणिज्यिक ऋण

**Correct Answer:** Informal sector loans

अनौपचारिक क्षेत्र ऋण

**Candidate Answer:** [ NOT ANSWERED ]

**QID : 178** - \_\_\_\_\_ is a sudden overthrow of a government illegally.

\_\_\_\_\_ गैरकानूनी रूप से किसी सरकार को उखाड़ फेंकना है।

**Options:**

- 1) Strike  
हड़ताल
- 2) Veto  
वीटो
- 3) Coup  
तख्तापलट
- 4) Trade union  
व्यापार संघ

**Correct Answer:** Coup  
तख्तापलट

**Candidate Answer:** [ NOT ANSWERED ]

**QID : 179** - Who among the following is the most important political institution in our country?

निम्नलिखित में से कौन हमारे देश में सबसे महत्वपूर्ण राजनीतिक संस्था है?

**Options:**

1) President

राष्ट्रपति

2) Governer

गवर्नर

3) Chief Justice of India

भारत के मुख्य न्यायाधीश

4) Governor of state

राज्य के राज्यपाल

**Correct Answer:** Governer

गवर्नर

**Candidate Answer:** [ NOT ANSWERED ]

**QID : 180** - Who was the son of Chandragupta Maurya?

चन्द्रगुप्त मौर्य का पुत्र कौन था?

**Options:**

1) Bindusara

बिंदुसार

2) Ashoka

अशोक

3) Bimbisara

बिंबसार

4) Chandragupta-I

चन्द्रगुप्त प्रथम

**Correct Answer:** Bindusara

बिंदुसार

**Candidate Answer:** [ NOT ANSWERED ]

**QID : 181** - Whom did Babur defeated at the Battle of Khanwa of 1527?

1527 के खानवा के युद्ध में बाबर ने किसे हराया था?

**Options:**

1) Ibrahim Lodi

इब्राहिम लोदी

2) Rana Sanga

राणा सांगा

3) Sher Khan

शेर खान

4) Mirza Hakim

मिर्जा हकीम

**Correct Answer:** Rana Sanga

राणा सांगा

**Candidate Answer:** [ NOT ANSWERED ]

**QID : 182** - Which is the third largest continent of the world?

विश्व का तीसरा सबसे बड़ा महाद्वीप कौन सा है?

**Options:**

1) Europe

यूरोप

2) North America

उत्तरी अमेरिका

3) South America

दक्षिणी अमेरिका

4) Australia

ऑस्ट्रेलिया

**Correct Answer:** North America

उत्तरी अमेरिका

**Candidate Answer:** [ NOT ANSWERED ]

**QID : 183** - Which is the only ocean named after a country?

किसी देश के नाम पर रखा गया एकमात्र महासागर कौन सा है?



**Options:**

- 1) Atlantic Ocean  
अटलांटिक महासागर
- 2) Arctic Ocean  
आर्कटिक महासागर
- 3) Pacific Ocean  
प्रशांत महासागर
- 4) Indian Ocean  
हिन्द महासागर

**Correct Answer:** Indian Ocean  
हिन्द महासागर

**Candidate Answer:** Indian Ocean  
हिन्द महासागर

**QID : 184** - Number of RBC in an adult man per mm<sup>3</sup> of blood is \_\_\_\_\_.

एक वयस्क व्यक्ति के प्रति मि.मी. 3 रक्त में आर.बी.सी. की संख्या \_\_\_\_\_ है।

**Options:**

- 1) 500
- 2) 5000
- 3) 500000
- 4) 5000000

**Correct Answer:** 5000000

**Candidate Answer:** 500000

**QID : 185** - If there were no sun rays reaching the earth, human should suffer from the deficiency of \_\_\_\_\_.

यदि सूर्य की कोई किरण पृथ्वी पर नहीं पहुँचती है, तो मनुष्य को \_\_\_\_\_ की कमी से पीड़ित हो जाता है।

**Options:**

- 1) Mineral  
खनिज
- 2) Fat  
वसा
- 3) Vitamin D  
विटामिन डी
- 4) Vitamin E  
विटामिन E

**Correct Answer:** Vitamin D  
विटामिन डी

**Candidate Answer:** Vitamin D  
विटामिन डी

**QID : 186** - If all the tissues except xylem of main stem of a plant are removed in a ring \_\_\_\_\_.

यदि एक पौधे के मुख्य तने के जाइलेम को छोड़कर सभी ऊतक एक अंगूठी में हटा दिए जाए, तो \_\_\_\_\_।

**Options:**

- 1) The root dies first  
जड़ पहले मर जाती है
- 2) The leaves dies first  
पत्तियाँ पहले मर जाती हैं
- 3) The root and leaves will die at the same time  
जड़ तथा पत्तियों एक ही समय में मर जायेंगी
- 4) Neither the leaves nor the roots will die  
न तो पत्तियाँ न ही जड़ें मरेगी

**Correct Answer:** The root dies first  
जड़ पहले मर जाती है

**Candidate Answer:** [ NOT ANSWERED ]

**QID : 187** - An echo will be heard if the minimum distance between the source of sound and the obstacle is \_\_\_\_\_.

एक गूँज तब सुनाई देगी जब आवाज के स्रोत तथा अवरोध के बीच न्यूनतम दूरी \_\_\_\_\_ होती है।

**Options:**

- 1) 1 m  
1 मी.
- 2) 10 m  
10 मी.
- 3) 15 m  
15 मी.
- 4) 17 m  
17 मी.

**Correct Answer:** 17 m  
17 मी.

Candidate Answer: [ NOT ANSWERED ]

QID : 188 - Which of the following class of forces is different from others?

निम्नलिखित में से बल का कौन सा वर्ग अन्य से अलग है?

Options:

- 1) Pulling of a wooden block  
एक लकड़ी का ब्लॉक खींचना
- 2) Stretching of a coiled spring  
एक सफेद वसंत का टूटना
- 3) Pushing a wall  
एक दीवार को धक्का देना
- 4) Electrical force  
विद्युत बल

Correct Answer: Electrical force

विद्युत बल

Candidate Answer: [ NOT ANSWERED ]

QID : 189 - Cut, Copy and Paste option are found in \_\_\_\_\_ menu.

कट, कॉपी तथा पेस्ट विकल्प \_\_\_\_\_ मेनू में मिलते हैं।

Options:

- 1) Help  
हेल्प
- 2) View  
व्यू
- 3) Insert  
इंसर्ट
- 4) Edit  
एडीट

Correct Answer: Edit

एडीट

Candidate Answer: View

व्यू

QID : 190 - When marble chips are treated with HCL, which of the following gas is liberated?

जब संगमरमर चिप्स एचसीएल के साथ प्रतिकार किया जाता है, तो निम्नलिखित में से कौन सा गैस निकलेगा?

Options:

- 1) CO<sub>2</sub>
- 2) O<sub>2</sub>
- 3) CO
- 4) CO<sub>3</sub>

Correct Answer: CO<sub>2</sub>

Candidate Answer: [ NOT ANSWERED ]

QID : 191 - The common name of sodium bicarbonate is \_\_\_\_\_.

सोडियम बाइकार्बोनेट का सामान्य नाम \_\_\_\_\_ है।

Options:

- 1) quick lime  
त्वरित चूने
- 2) baking powder  
बेकिंग पाउडर
- 3) baking soda  
बेकिंग सोडा
- 4) slaked lime  
कास्टिक चूना

Correct Answer: baking soda

बेकिंग सोडा

Candidate Answer: [ NOT ANSWERED ]

QID : 192 - The symbiotic relation between algae and \_\_\_\_\_ is lichen.

शैवाल तथा \_\_\_\_\_ के बीच सहजीवी संबंध लाइकेन है।

**Options:**

- 1) Bacteria  
जीवाणु
- 2) Virus  
विषाणु
- 3) Fungi  
कवक
- 4) Protozoa  
प्रोटोजोआ

**Correct Answer:** Fungi  
कवक

**Candidate Answer:** Virus  
विषाणु

**QID : 193** - What is the main mantra of Pradhan Mantri Ujjwala Scheme?

प्रधानमंत्री उज्ज्वला योजना का मुख्य मंत्र क्या है?

**Options:**

- 1) Swacch Indhan, Behtar Jeevan – Mahilaon ko mila samman  
स्वच्छ ईंधन, बेहतर जीवन – महिलाओं को मिला सम्मान
- 2) Maa, Mati, Manush  
माँ, माटी, मानुष
- 3) Sabka Sath Sabka Vikas  
सबका साथ सबका विकास
- 4) Janani Suraksha  
जननी सुरक्षा

**Correct Answer:** Swacch Indhan, Behtar Jeevan – Mahilaon ko mila samman  
स्वच्छ ईंधन, बेहतर जीवन – महिलाओं को मिला सम्मान

**Candidate Answer:** Sabka Sath Sabka Vikas  
सबका साथ सबका विकास

**QID : 194** - Karl Landsteiner is famous for the discovery of \_\_\_\_\_.

कार्ल लैंडस्टीनर \_\_\_\_\_ की खोज के लिए प्रसिद्ध है।

**Options:**

- 1) Blood Groups  
रक्त समूह
- 2) Barometer  
वायुदाबमापी
- 3) Rubber  
रबर
- 4) Polio Vaccine  
पोलियो का टीका

**Correct Answer:** Blood Groups  
रक्त समूह

**Candidate Answer:** [ NOT ANSWERED ]

**QID : 195** - "Upper-cut" is associated mainly with which sports?

"अपर कट" मुख्य रूप से किस खेल से संबंधित है?

**Options:**

- 1) Badminton  
बैडमिंटन
- 2) Hockey  
हॉकी
- 3) Boxing  
मुक्केबाज़ी
- 4) Chess  
शतरंज

**Correct Answer:** Boxing  
मुक्केबाज़ी

**Candidate Answer:** [ NOT ANSWERED ]

**QID : 196** - Which among the following is a feature of the Dravidian style of temple architecture?

निम्नलिखित में से कौन सा द्रविड़ शैली के मंदिर वास्तुशिल्प की विशेषता है?

**Options:**

- 1) Minaret  
मीनार
- 2) Shikhara  
शिखर
- 3) Gopuram  
गोपुरम
- 4) All options are correct  
सभी विकल्प सही हैं

**Correct Answer:** All options are correct  
सभी विकल्प सही हैं

**Candidate Answer:** [ NOT ANSWERED ]

**QID : 197** - Who received the International Maritime Organization Award for exceptional bravery at sea?

समुद्र में असाधारण बहादुरी के लिए अंतर्राष्ट्रीय समुद्री संगठन का पुरस्कार किसने प्राप्त किया?

**Options:**

- 1) Akshay Mukul  
अक्षय मुकुल
- 2) Radhika Menon  
राधिका मेनन
- 3) Malini Subramaniam  
मालिनी सुब्रमण्यम
- 4) Peggy Whitson  
पैगी व्हीटसन

**Correct Answer:** Radhika Menon  
राधिका मेनन

**Candidate Answer:** Peggy Whitson  
पैगी व्हीटसन

**QID : 198** - Who is the author of book named "An Area of darkness"?

"एन एरिया ऑफ डार्कनेस" नामक पुस्तक के लेखक कौन हैं?

**Options:**

- 1) Khushwant Singh  
खुशवंत सिंह
- 2) V. S. Naipaul  
वी. एस. नायपॉल
- 3) Mulk Raj Anand  
मुल्क राज आनंद
- 4) Salim Ali  
सलीम अली

**Correct Answer:** V. S. Naipaul  
वी. एस. नायपॉल

**Candidate Answer:** [ NOT ANSWERED ]

**QID : 199** - Which is the first non-member of the non-proliferation treaty (NPT) to have signed civilian nuclear deal with Japan?

जापान के साथ असैन्य परमाणु करार पर हस्ताक्षर करने वाला गैर-प्रसार संधि (एन.पी.टी.) का प्रथम गैर सदस्य कौन सा है?

**Options:**

- 1) India  
भारत
- 2) Nepal  
नेपाल
- 3) Pakistan  
पाकिस्तान
- 4) Indonesia  
इंडोनेशिया

**Correct Answer:** India  
भारत

**Candidate Answer:** [ NOT ANSWERED ]

**QID : 200** - Dispute over sharing of Teesta river water is in between India and \_\_\_\_\_.

तीस्ता नदी के पानी के साझाकरण पर विवाद भारत तथा \_\_\_\_\_ के बीच है।

**Options:**

- 1) Nepal  
नेपाल
- 2) China  
चीन
- 3) Bangladesh  
बांग्लादेश
- 4) Pakistan  
पाकिस्तान

**Correct Answer:** Bangladesh  
बांग्लादेश

**Candidate Answer:** [ NOT ANSWERED ]

GovtJobsAlert.In