

QID : 201 -

In the following question, select the number which can be placed at the sign of question mark (?) from the given alternatives.

निम्नलिखित प्रश्न में दिए गए विकल्पों में से प्रश्न चिह्न (?) के स्थान पर आने वाली संख्या को चुनिए।

4	5	6	8
2	4	8	7
1	2	3	4
7	11	17	?

Options:

- 1) 16
- 2) 18
- 3) 19
- 4) 21

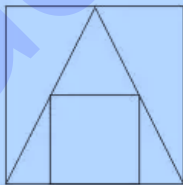
Correct Answer: 19

Candidate Answer: [NOT ANSWERED]

QID : 202 -

How many triangles are there in the given figure?

दी गई आकृति में कितने त्रिभुज हैं?



Options:

- 1) 4
- 2) 5
- 3) 6
- 4) 7

Correct Answer: 6

Candidate Answer: 6

QID : 203 -

A word is represented by only one set of numbers as given in any one of the alternatives. The sets of numbers given in the alternatives are represented by two classes of alphabets as shown in the given two matrices. The columns and rows of **Matrix-I** are numbered from 0 to 4 and that of **Matrix-II** are numbered from 5 to 9. A letter from these matrices can be represented first by its row and next by its column, for example, 'M' can be represented by 40, 79, etc., and 'O' can be represented by 11, 76, etc. Similarly, you have to identify the set for the word "HAND".

एक शब्द केवल एक संख्या-समूह द्वारा दर्शाया गया है, जैसा कि विकल्पों में से किसी एक में दिया गया है। विकल्पों में दिए गए संख्या-समूह अक्षरों के दो वर्गों द्वारा दर्शाए गए हैं, जैसा कि दिए गए दो आव्यूहों में है। **आव्यूह-I** के स्तम्भ और पंक्ति की संख्या 0 से 4 है और **आव्यूह-II** की 5 से 9। इन आव्यूहों से एक अक्षर को पहले उसकी पंक्ति और बाद में स्तम्भ संख्या द्वारा दर्शाया जा सकता है। उदाहरण के लिए 'M' को 40, 79, आदि द्वारा दर्शाया जा सकता है तथा 'O' को 11, 76, आदि द्वारा दर्शाया जा सकता है। इसी तरह से आपको प्रश्न में दिए शब्द "HAND" के लिए समूह को पहचानना है।

Matrix-I
आव्यूह-I

	0	1	2	3	4
0	A	T	E	H	J
1	Q	O	H	L	S
2	W	N	T	K	D
3	J	C	Z	A	F
4	M	W	A	P	G

Matrix-II
आव्यूह-II

	5	6	7	8	9
5	Y	T	H	R	F
6	G	R	P	L	Q
7	I	O	U	N	M
8	D	F	R	Q	J
9	S	R	L	N	W

Options:

1) 57, 42, 44, 12

2) 57, 00, 79, 23

3) 12, 42, 78, 85

4) 03, 00, 99, 85

Correct Answer: 12, 42, 78, 85

Candidate Answer: [NOT ANSWERED]

QID : 204 -

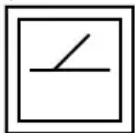
From the given answer figures, select the one in which the question figure is hidden/embedded.

दी गई उत्तर आकृतियों में से उस उत्तर आकृति को चुनिए जिस में प्रश्न आकृति निहित है।

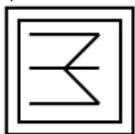


Options:

1)



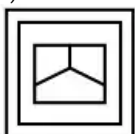
2)



3)



4)



Correct Answer:



Candidate Answer:



QID : 205 -

Which answer figure will complete the pattern in the question figure?

कौन सी उत्तर आकृति प्रश्न आकृति के प्रतिरूप को पूरा करेगी?



Options:

1)



2)



3)



4)



Correct Answer:




Candidate Answer:



QID : 206 -

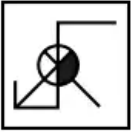
If a mirror is placed on the line AB, then which of the answer figures is the right image of the given figure?

यदि एक दर्पण को AB रेखा पर रखा जाए, तो दी गई उत्तर आकृतियों में से कौन सी आकृति प्रश्न आकृति की सही प्रतिबिम्ब होगी?



Options:

1)



2)



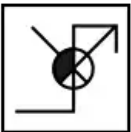
3)



4)



Correct Answer:



Candidate Answer:



QID : 207 -

A piece of paper is folded and punched as shown below in the question figures. From the given answer figures, indicate how it will appear when opened?

नीचे के प्रश्न आकृतियों में दिखाए अनुसार कागज को मोड़कर छेदने तथा खोलने के बाद वह किस उत्तर आकृति जैसा दिखाई देगा?



Options:

1)



2)



3)



4)



Correct Answer:



Candidate Answer:



QID : 208 - If '+' means ' \div ', 'x' means '+', ' \div ' means '-' and '-' means 'x', then

$$36 - 9 + 3 \times 1 = ?$$

यदि '+' का अर्थ ' \div ', 'x' का अर्थ '+', ' \div ' का अर्थ '-' तथा '-' का अर्थ 'x' हो, तो

$$36 - 9 + 3 \times 1 = ?$$

Options:

1) 79

2) 112

3) 109

4) 121

Correct Answer: 109

Candidate Answer: 109

QID : 209 - If $3 \times 4 \times 9 \times 3 = 4933$ and $4 \times 6 \times 2 \times 1 = 6241$, then $1 \times 6 \times 3 \times 2 = ?$

यदि $3 \times 4 \times 9 \times 3 = 4933$ तथा $4 \times 6 \times 2 \times 1 = 6241$ हो, तो $1 \times 6 \times 3 \times 2 = ?$

Options:

1) 3261

2) 1263

3) 6312

4) 2631

Correct Answer: 6312

Candidate Answer: 6312

QID : 210 - Arrange the given words in the sequence in which they occur in the dictionary.

1. Stage
2. Study
3. Start
4. Story
5. Staff

निम्नलिखित शब्दों को शब्दकोश में आने वाले क्रम के अनुसार लिखें।

1. Stage
2. Study
3. Start
4. Story
5. Staff

Options:

1) 53214

2) 54123

3) 45321

4) 51342

Correct Answer: 51342

Candidate Answer: [NOT ANSWERED]

QID : 211 - In the following question, select the missing number from the given alternatives.

8, 10, 14, 20, ?

निम्नलिखित प्रश्न में दिए गए विकल्पों में से लुप्त अंक ज्ञात कीजिए।

8, 10, 14, 20, ?

Options:

1) 24

2) 28

3) 30

4) 32

Correct Answer: 28

Candidate Answer: 28

QID : 212 - A series is given with one term missing. Select the correct alternative from the given ones that will complete the series.

CD, GH, KL, OP, ?

एक अनुक्रम दिया गया है, जिसमें से एक पद लुप्त है। दिए गए विकल्पों में से वह सही विकल्प चुनिए, जो अनुक्रम को पूरा करे।

CD, GH, KL, OP, ?

Options:

1) ST

2) RS

3) TS

4) SR

Correct Answer: ST

Candidate Answer: ST

QID : 213 - In the following question, select the odd word from the given alternatives.

निम्नलिखित प्रश्न में दिए गए विकल्पों में से विषम शब्द को चुनिए।

Options:

1) Hair

बाल

2) Hand

हाथ

3) Feet

पैर

4) Finger

उंगुली

Correct Answer: Hair

बाल

Candidate Answer: Hair

बाल

QID : 214 - In the following question, select the odd number from the given alternatives.

निम्नलिखित प्रश्न में दिए गए विकल्पों में से विषम संख्या को चुनिए।

Options:

- 1) 36
- 2) 49
- 3) 169
- 4) 215

Correct Answer: 215

Candidate Answer: 36

QID : 215 - In the following question, select the odd letters from the given alternatives.

निम्नलिखित प्रश्न में दिए गए विकल्पों में से विषम अक्षरों को चुनिए।

Options:

- 1) DEC
- 2) JKI
- 3) PQO
- 4) TUR

Correct Answer: TUR

Candidate Answer: [NOT ANSWERED]

QID : 216 - Identify the diagram that best represents the relationship among the given classes.

Hour, Minute, Second

वह आरेख चुनिए जो नीचे दिए गए वर्गों के बीच के संबंध का सही निरूपण करता है।

घंटा, मिनट, सेकण्ड

Options:

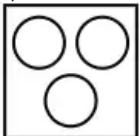
1)



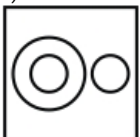
2)



3)



4)



Correct Answer:



Candidate Answer:



QID : 217 - In the following question, select the related word from the given alternatives.

Ammeter : Current :: Barometer : ?

निम्नलिखित प्रश्न में दिए गए विकल्पों में से संबंधित शब्द को चुनिए।

अमीटर : विद्युत प्रवाह :: वायुदाबमापी : ?

Options:

- 1) Pressure
दाब
- 2) Thickness
घनत्व
- 3) Mass
द्रव्यमान
- 4) Speed
गति

Correct Answer: Pressure

दाब

Candidate Answer: Pressure

दाब

QID : 218 - In the following question, select the related number from the given alternatives.

23 : 8 :: 42 : ?

निम्नलिखित प्रश्न में दिए गए विकल्पों में से संबंधित संख्या को चुनिए।

23 : 8 :: 42 : ?

Options:

- 1) 20
- 2) 16
- 3) 18
- 4) 21

Correct Answer: 16

Candidate Answer: [NOT ANSWERED]

QID : 219 - In the following question, select the related letters from the given alternatives.

VI : PC :: LK : ?

निम्नलिखित प्रश्न में दिए गए विकल्पों में से संबंधित अक्षरों को चुनिए।

VI : PC :: LK : ?

Options:

- 1) FE
- 2) ED
- 3) GF
- 4) FD

Correct Answer: FE

Candidate Answer: FE

QID : 220 - In the following question, select the word which cannot be formed using the letters of the given word.

APPRECIATED

निम्नलिखित विकल्पों में से वह शब्द चुनिए जो दिए गए शब्द के अक्षरों का प्रयोग करके नहीं बनाया जा सकता।

APPRECIATED

Options:

- 1) RECITE
- 2) PART
- 3) READ

4) SPICE

Correct Answer: SPICE

Candidate Answer: SPICE

QID : 221 - The ratio of present ages of A and B is 2 : 3. If the age of B after 5 years will be 20 years, then what is the present age (in years) of A?

A तथा B की वर्तमान आयु का अनुपात 2 : 3 है। यदि 5 वर्ष पश्चात B की आयु 20 वर्ष हो जाएगी, तो A की वर्तमान आयु (वर्षों में) क्या है?

Options:

- 1) 15
- 2) 10
- 3) 20
- 4) 25

Correct Answer: 10

Candidate Answer: 10

QID : 222 - T is daughter of J. J is brother of S. S is mother of P. How is T related to P?

T, J की पुत्री है। J, S का भाई है। S, P की माता है। T, P से किस प्रकार संबंधित है?

Options:

- 1) Cousin Sister
चचेरी / ममेरी बहन
- 2) Mother
माता
- 3) Aunt
बुआ
- 4) Sister-in-law
भाभी

Correct Answer: Cousin Sister

चचेरी / ममेरी बहन

Candidate Answer: [NOT ANSWERED]

QID : 223 - In the following question below are given some statements followed by some conclusions. Taking the given statements to be true even if they seem to be at variance from commonly known facts, read all the conclusions and then decide which of the given conclusion logically follows the given statements.

Statements:

- I. All stars are blue.
- II. All blue are white.

Conclusions:

- I. Some stars are white.
- II. Some stars are **not** white.

नीचे दिए गए प्रश्न में कुछ कथन और उनके बाद उन कथनों पर आधारित कुछ निष्कर्ष दिए गए हैं, हालांकि उनमें सामान्य ज्ञात तथ्यों से भिन्नता हो सकती है। सभी निष्कर्ष पढ़ें और फिर निर्धारित करें कि दिए गए कौन से निष्कर्ष, दिए गए कथनों के आधार पर युक्तिसंगत हैं।

कथन:

- I. सभी सितारे नीले हैं।
- II. सभी नीले सफेद हैं।

निष्कर्ष:

- I. कुछ सितारे सफेद हैं।
- II. कुछ सितारे सफेद **नहीं** हैं।

Options:

- 1) Only conclusion (I) follows.
केवल निष्कर्ष (I) सही है।
- 2) Only conclusion (II) follows.
केवल निष्कर्ष (II) सही है।
- 3) Both conclusion follow.
दोनों ही निष्कर्ष सही हैं।
- 4) Neither conclusion (I) nor conclusion (II) follows.
न तो निष्कर्ष (I) न ही निष्कर्ष (II) सही है।

Correct Answer: Only conclusion (I) follows.

केवल निष्कर्ष (I) सही है।

Candidate Answer: Both conclusion follow.

दोनों ही निष्कर्ष सही हैं।

QID : 224 - In a certain code language, "BOOK" is written as "CQRO". How is "TABLE" written in that code language?

एक विशिष्ट कोड भाषा में, "BOOK" को "CQRO" लिखा जाता है। इस कोड भाषा में "TABLE" को किस प्रकार लिखा जाएगा?

Options:

- 1) UCEPJ
- 2) UCEPK
- 3) UCFPJ
- 4) UCDPK

Correct Answer: UCEPJ

Candidate Answer: UCEPJ

QID : 225 - In a certain code language, "ODD" is written as "22" and "SAD" is written as "23". How is "CUP" written in that code language?

एक विशिष्ट कोड भाषा में, "ODD" को "22" तथा "SAD" को "23" लिखा जाता है। इस कोड भाषा में "CUP" को किस प्रकार लिखा जाएगा?

Options:

- 1) 38
- 2) 39
- 3) 40
- 4) 37

Correct Answer: 39

Candidate Answer: 39

QID : 226 - How many positive factors of 72 are there?

72 के कितने धनात्मक पूर्णांक होते हैं?

Options:

- 1) 6
- 2) 10
- 3) 8
- 4) 12

Correct Answer: 12

Candidate Answer: 6

QID : 227 - What is the value of $[(2.3)^3 - (1.7)^3] / [(2.3)^2 + (2.3 \times 1.7) + (1.7)^2]$?

$[(2.3)^3 - (1.7)^3] / [(2.3)^2 + (2.3 \times 1.7) + (1.7)^2]$ का मान क्या है?

Options:

- 1) 0.6
- 2) 4
- 3) 1.4
- 4) 0.4

Correct Answer: 0.6

Candidate Answer: [NOT ANSWERED]

QID : 228 -

What is the value of $\frac{\sqrt{6} + \sqrt{5}}{\sqrt{6} - \sqrt{5}}$?

$\frac{\sqrt{6} + \sqrt{5}}{\sqrt{6} - \sqrt{5}}$ का मान क्या है?

Options:

- 1) $11 - 2\sqrt{30}$
- 2) $11 + 2\sqrt{30}$
- 3) $6 + 2\sqrt{30}$
- 4) $6 - 2\sqrt{30}$

Correct Answer: $11 + 2\sqrt{30}$

Candidate Answer: [NOT ANSWERED]

QID : 229 - If 348P is divisible by 8 then what is the value of P?

यदि 348P, 8 से विभाजित है, तो P का मान क्या है?

Options:

- 1) 0
- 2) 2
- 3) 8
- 4) 0 or 8
- 0 या 8

Correct Answer: 0 or 8

0 या 8

Candidate Answer: 0 or 8

0 या 8

QID : 230 - What is the value of $(1/6) + (1/12) + (1/20)$?

$(1/6) + (1/12) + (1/20)$ का मान क्या है?

Options:

- 1) $2/10$
- 2) $3/10$
- 3) $1/2$
- 4) $2/5$

Correct Answer: $3/10$

Candidate Answer: $3/10$

QID : 231 - How many numbers are there between 200 to 300 which are perfect squares?

200 से 300 के बीच कितनी संख्याएँ हैं जो एक पूर्ण वर्ग हैं?

Options:

- 1) 2
- 2) 3
- 3) 4
- 4) 5

Correct Answer: 3

Candidate Answer: 3

QID : 232 - While working 7 hours a day, A alone can cut 35 trees in 15 days. In how many days A can cut 10 trees working 5 hours a day?

A, 7 घंटे प्रतिदिन कार्य करके 35 पेड़ों को 15 दिनों में काटता है। 5 घंटे प्रतिदिन कार्य करके, A 10 पेड़ों को कितने दिनों में काट सकता है?

Options:

- 1) 40
- 2) 5
- 3) 6
- 4) 8

Correct Answer: 6

Candidate Answer: [NOT ANSWERED]

QID : 233 - P and Q can complete a work in 18 days, Q and R in 24 days and P and R in 36 days. What will be the ratio of efficiency of P, Q and R respectively?

P तथा Q किसी कार्य को 18 दिनों में पूरा करते हैं। Q तथा R 24 दिनों में तथा P तथा R 36 दिनों में पूरा करते हैं। क्रमशः P, Q तथा R की कार्यकुशलता का अनुपात क्या होगा?

Options:

- 1) 3 : 5 : 1
- 2) 4 : 3 : 2
- 3) 3 : 4 : 6
- 4) 2 : 3 : 5

Correct Answer: 3 : 5 : 1

Candidate Answer: 3 : 4 : 6

QID : 234 - If the radius of sphere is reduced by 20%, then what will be the percentage decrease in its total surface area?

यदि किसी गोले की त्रिज्या को 20% से कम किया जाए, तो उस गोले के कुल पृष्ठीय क्षेत्रफल में कितने प्रतिशत की कमी होगी?

Options:

- 1) 40
- 2) 44
- 3) 36
- 4) 42

Correct Answer: 36

Candidate Answer: [NOT ANSWERED]

QID : 235 - Marked price of an article is Rs 3000. If there is a profit of 25% after giving 20% discount, then what is the cost price (in Rs) of the article?

एक वस्तु का अंकित मूल्य 3000 रु है। यदि 20% की छूट देने के बाद 25% का लाभ होता है, तो क्रय मूल्य (रु में) क्या है?

Options:

- 1) 1920
- 2) 1840
- 3) 1760
- 4) 2150

Correct Answer: 1920

Candidate Answer: 1760

QID : 236 - Marked price of an article is 20% more than its cost price. If a discount of 30% is given, then what will be the loss percentage?

एक वस्तु का अंकित मूल्य उसके क्रय मूल्य से 20% अधिक है। यदि 30% की छूट दी जाए, तो हानि का प्रतिशत क्या होगा?

Options:

- 1) 4
- 2) 8
- 3) 16
- 4) 20

Correct Answer: 16

Candidate Answer: 4

QID : 237 - 12 years ago the ratio of ages of x and y was 1 : 2. The ratio of their ages 13 years hence will be 2 : 3. What will be the sum of their present ages?

12 साल पहले x तथा y की आयु का अनुपात 1 : 2 था। उनकी आयु का अनुपात 13 साल बाद 2 : 3 हो जाएगा। उनकी वर्तमान आयु का योग कितना होगा?

Options:

- 1) 75
- 2) 125
- 3) 99
- 4) 82

Correct Answer: 99

Candidate Answer: 99

QID : 238 - The income of A and B are in the ratio 5 : 2 and their expenditures are in the ratio 3 : 1. If each saves Rs 10,000, then what will the sum of their incomes?

A तथा B की आय का अनुपात 5 : 2 है तथा उनके खर्च का अनुपात 3 : 1 है। यदि प्रत्येक 10,000 रु की बचत करता है, तो उनकी आय का योग कितना होगा?

Options:

- 1) 140000
- 2) 70000
- 3) 80000
- 4) 160000

Correct Answer: 140000

Candidate Answer: [NOT ANSWERED]

QID : 239 - Average age of a group of 10 children is 12 years. If a child leaves the group, then the average of remaining 9 children becomes 11 years. What is the age (in years) of the child who left the group?

10 बच्चों के एक समूह की औसत आयु 12 वर्ष है। यदि एक बच्चा समूह छोड़कर चला जाता है, तो शेष 9 बच्चों की औसत आयु 11 वर्ष हो जाती है। समूह छोड़कर जाने वाले बच्चे की आयु (वर्षों में) कितनी है?

Options:

- 1) 20
- 2) 21
- 3) 22
- 4) 19

Correct Answer: 21

Candidate Answer: 21

QID : 240 - The cost price of an article is Rs 500. If it is sold for Rs 375, then what is the loss percent?

एक वस्तु का क्रय मूल्य 500 रु है। यदि उसे 375 रु में बेचा जाता है, तो हानि प्रतिशत क्या है?

Options:

- 1) 20
- 2) 28
- 3) 25
- 4) 30

Correct Answer: 25

Candidate Answer: 25

QID : 241 - Cost price of a book is Rs 25. What should be the selling price (in Rs) of the book to gain 40% profit?

एक पुस्तक का क्रय मूल्य 25 रु है। 40% लाभ प्राप्त करने के लिए पुस्तक का विक्रय मूल्य (रु में) क्या होना चाहिए?

Options:

- 1) 35
- 2) 38
- 3) 36
- 4) 33

Correct Answer: 35

Candidate Answer: [NOT ANSWERED]

QID : 242 - A 600 grams of sugar solution contains 50% sugar. How much sugar (in grams) must be added so that the new mixture contains 60% sugar?

600 ग्राम चीनी के घोल में 50% चीनी है। कितनी चीनी (ग्राम में) मिलायी जाये कि नए घोल में 60% चीनी हो जाए?

Options:

- 1) 120
- 2) 150
- 3) 175
- 4) 200

Correct Answer: 150

Candidate Answer: 120

QID : 243 - The population of a town increase by 20% every year. If the present population of the town is 96000, then what was the population of the town last year?

किसी शहर की जनसंख्या प्रतिवर्ष 20% से बढ़ती है। यदि शहर की वर्तमान जनसंख्या 96000 है, तो पिछले वर्ष शहर की जनसंख्या क्या थी?

Options:

- 1) 88000
- 2) 82000
- 3) 72000
- 4) 80000

Correct Answer: 80000

Candidate Answer: [NOT ANSWERED]

QID : 244 - A train 250 metres long is running at a speed of 15 metre per second. In how much time (in seconds) train will cross a bridge of 500 metre long?

एक 250 मीटर लम्बी रेलगाड़ी 15 मीटर प्रति सेकेंड की गति से चलती है। 500 मीटर लम्बे प्लेटफॉर्म को पार करने में रेलगाड़ी कितना समय (सेकेंडों में) लेगी?

Options:

- 1) 20
- 2) 45
- 3) 50
- 4) 75

Correct Answer: 50

Candidate Answer: [NOT ANSWERED]

QID : 245 - A boat travels 64 km downstream in 16 hours and 12 km upstream in 8 hours. What is the speed (in km/hr) of boat in still water?

एक नाव धारा के अनुकूल 64 कि.मी. दूरी 16 घंटे में तय करती है तथा धारा के प्रतिकूल में 12 कि.मी. दूरी 8 घंटे में तय करती है। शांत जल में नाव की गति (कि.मी./घंटा में) क्या है?

Options:

- 1) 1.75
- 2) 2.25
- 3) 2.75
- 4) 3.25

Correct Answer: 2.75

Candidate Answer: [NOT ANSWERED]

QID : 246 - A certain amount becomes 3 times in 4 years, when invested at compound interest. In how many years will it become 243 times?

एक निश्चित राशि, चक्रवृद्धि ब्याज पर निवेश करने से 4 वर्ष में 3 गुना हो जाती है। वह कितने वर्षों में 243 गुना हो जाएगी?

Options:

- 1) 25
- 2) 60
- 3) 12
- 4) 20

Correct Answer: 20

Candidate Answer: 20

QID : 247 -

The table given below shows the per capita income (in Rs) and total population (in '000) for 6 different countries.

Per capita Income

= Total income of country / Population of country

नीचे दी गई तालिका में 6 विभिन्न देशों की प्रतिव्यक्ति आय (रु में) तथा कुल जनसंख्या ('000 में) को दर्शाया गया है।

प्रतिव्यक्ति आय = देश की कुल आय / देश की जनसंख्या

Country देश	Per Capita Income (in Rs) प्रतिव्यक्ति आय (रु में)	Population जनसंख्या
1	3120	8000000
2	2500	10000000
3	2800	9000000
4	3700	6500000
5	2350	7500000
6	3600	8200000

What is the total income (in Rs '000) of country 3?

देश 3 की कुल आय ('000 रु में) क्या है?

Options:

- 1) 25200
- 2) 28700
- 3) 26400
- 4) 21300

Correct Answer: 25200

Candidate Answer: 25200

The table given below shows the per capita income (in Rs) and total population (in '000) for 6 different countries.

Per capita Income

= Total income of country / Population of country

नीचे दी गई तालिका में 6 विभिन्न देशों की प्रतिव्यक्ति आय (रु में) तथा कुल जनसंख्या ('000 में) को दर्शाया गया है।

प्रतिव्यक्ति आय = देश की कुल आय / देश की जनसंख्या

Country देश	Per Capita Income (in Rs) प्रतिव्यक्ति आय (रु में)	Population जनसंख्या
1	3120	8000000
2	2500	10000000
3	2800	9000000
4	3700	6500000
5	2350	7500000
6	3600	8200000

Which of the following ratio will have the highest value?

निम्नलिखित में से कौन से अनुपात का मान सबसे अधिक होगा?

Options:

- 1) Per Capita Income of Country 4 : Per Capita Income of Country 2
देश 4 की प्रतिव्यक्ति आय : देश 2 की प्रतिव्यक्ति आय
- 2) Per Capita Income of Country 2 : Per Capita Income of Country 3
देश 2 की प्रतिव्यक्ति आय : देश 3 की प्रतिव्यक्ति आय
- 3) Per Capita Income of Country 6 : Per Capita Income of Country 2
देश 6 की प्रतिव्यक्ति आय : देश 2 की प्रतिव्यक्ति आय
- 4) Per Capita Income of Country 4 : Per Capita Income of Country 6
देश 4 की प्रतिव्यक्ति आय : देश 6 की प्रतिव्यक्ति आय

Correct Answer: Per Capita Income of Country 4 : Per Capita Income of Country 2
देश 4 की प्रतिव्यक्ति आय : देश 2 की प्रतिव्यक्ति आय

Candidate Answer: [NOT ANSWERED]

QID : 249 -

The table given below shows the per capita income (in Rs) and total population (in '000) for 6 different countries.

Per capita Income

= Total income of country / Population of country

नीचे दी गई तालिका में 6 विभिन्न देशों की प्रतिव्यक्ति आय (रु में) तथा कुल जनसंख्या ('000 में) को दर्शाया गया है।

प्रतिव्यक्ति आय = देश की कुल आय / देश की जनसंख्या

Country देश	Per Capita Income (in Rs) प्रतिव्यक्ति आय (रु में)	Population जनसंख्या
1	3120	8000000
2	2500	10000000
3	2800	9000000
4	3700	6500000
5	2350	7500000
6	3600	8200000

What is the average per capita income (in Rs) of all the countries taken together?

सभी देशों की मिलाकर औसतन प्रतिव्यक्ति आय (रु में) क्या है?

Options:

- 1) 3418.75
- 2) 3011.66
- 3) 3266.66
- 4) 3351.5

Correct Answer: 3011.66

Candidate Answer: 3011.66

QID : 250 -

The table given below shows the per capita income (in Rs) and total population (in '000) for 6 different countries.

Per capita Income

= Total income of country / Population of country

नीचे दी गई तालिका में 6 विभिन्न देशों की प्रतिव्यक्ति आय (रु में) तथा कुल जनसंख्या ('000 में) को दर्शाया गया है।

प्रतिव्यक्ति आय = देश की कुल आय / देश की जनसंख्या

Country देश	Per Capita Income (in Rs) प्रतिव्यक्ति आय (रु में)	Population जनसंख्या
1	3120	8000000
2	2500	10000000
3	2800	9000000
4	3700	6500000
5	2350	7500000
6	3600	8200000

Which country will have highest total income?

किस देश की कुल आय सबसे अधिक होगी?

Options:

- 1) Country 1
देश 1
- 2) Country 6
देश 6
- 3) Country 3
देश 3
- 4) Country 4
देश 4

Correct Answer: Country 6

देश 6

Candidate Answer: Country 3

देश 3

QID : 251 - In the following question, some part of the sentence may have errors. Find out which part of the sentence has an error and select the appropriate option. If a sentence is free from error, select 'No Error'.

A chain is only (1)/ as strong as (2)/ its weakest link. (3)/ No Error (4)

Options:

- 1) 1
- 2) 2
- 3) 3
- 4) 4

Correct Answer: 4

Candidate Answer: 1

QID : 252 - In the following question, some part of the sentence may have errors. Find out which part of the sentence has an error and select the appropriate option. If a sentence is free from error, select 'No Error'.

She writes just not (1)/ about external beauty but (2)/ also internal wellbeing. (3)/ No Error (4)

Options:

- 1) 1
- 2) 2
- 3) 3
- 4) 4

Correct Answer: 1

Candidate Answer: 4

QID : 253 - In the following question, the sentence given with blank to be filled in with an appropriate word. Select the correct alternative out of the four and indicate it by selecting the appropriate option.

Arpita's house is not _____ away, we can reach there within ten minutes.

Options:

- 1) long
- 2) far
- 3) distance
- 4) from

Correct Answer: far

Candidate Answer: far

QID : 254 - In the following question, the sentence given with blank to be filled in with an appropriate word. Select the correct alternative out of the four and indicate it by selecting the appropriate option.

Ayush is _____ small to start play football now.

Options:

- 1) too
- 2) a lot
- 3) much
- 4) more

Correct Answer: too

Candidate Answer: too

QID : 255 - In the following question, out of the given four alternatives, select the one which best expresses the meaning of the given word.

Annihilate

Options:

- 1) Restore
- 2) Create
- 3) Destroy
- 4) Establish

Correct Answer: Destroy

Candidate Answer: [NOT ANSWERED]

QID : 256 - In the following question, out of the given four alternatives, select the one which best expresses the meaning of the given word.

Relish

Options:

- 1) Detest
- 2) Hate
- 3) Loathe
- 4) Adore

Correct Answer: Adore

Candidate Answer: Hate

QID : 257 - In the following question, out of the given four alternatives, select the one which best expresses the meaning of the given word.

Condemn

Options:

- 1) Pride
- 2) Punish
- 3) Pardon
- 4) Permit

Correct Answer: Punish

Candidate Answer: Pardon

QID : 258 - In the following question, out of the given four alternatives, select the one which is opposite in meaning of the given word.

Immense

Options:

- 1) Vast
- 2) Super
- 3) Infinite
- 4) Tiny

Correct Answer: Tiny

Candidate Answer: Super

QID : 259 - In the following question, out of the given four alternatives, select the one which is opposite in meaning of the given word.

Amicable

Options:

- 1) Polite
- 2) Hostile
- 3) Kind
- 4) Cozy

Correct Answer: Hostile

Candidate Answer: [NOT ANSWERED]

QID : 260 - In the following question, out of the given four alternatives, select the one which is opposite in meaning of the given word.

Alliance

Options:

- 1) Separation
- 2) Tie
- 3) Support
- 4) Pact

Correct Answer: Separation

Candidate Answer: Separation

QID : 261 - In the following question, out of the given four alternatives, select the alternative which best expresses the meaning of the Idiom/Phrase.

Keep at an arm's length.

Options:

- 1) To be at a distance with someone
- 2) To disturb others
- 3) A long distance
- 4) To fly high

Correct Answer: To be at a distance with someone

Candidate Answer: To fly high

QID : 262 - In the following question, out of the given four alternatives, select the alternative which best expresses the meaning of the Idiom/Phrase.

Smell a rat.

Options:

- 1) A very foul smell
- 2) Smell of a dead rat
- 3) To suspect that something is wrong
- 4) Entering a dirty place

Correct Answer: To suspect that something is wrong

Candidate Answer: [NOT ANSWERED]

QID : 263 - Improve the bracketed part of the sentence.

(She left) before I reached the airport.

Options:

- 1) She had left
- 2) She will reach
- 3) She was learning
- 4) No improvement

Correct Answer: She had left

Candidate Answer: No improvement

QID : 264 - Improve the bracketed part of the sentence. Seven year ago today,

(I was survived) through the streets of Mumbai.

Options:

- 1) I surviving
- 2) I survived
- 3) I have been survived
- 4) No improvement

Correct Answer: I survived

Candidate Answer: No improvement

QID : 265 - In the following question, out of the four alternatives, select the alternative which is the best substitute of the phrase.

One who resides in a country of which he is not a citizen.

Options:

- 1) Alien
- 2) Atheist
- 3) Autocrat
- 4) Arsenal

Correct Answer: Alien

Candidate Answer: Autocrat

QID : 266 - In the following question, out of the four alternatives, select the alternative which is the best substitute of the phrase.

A letter or a document which does not bear the name of its writer.

Options:

- 1) Butcher
- 2) Anonymous
- 3) Homogeneous
- 4) Calculus

Correct Answer: Anonymous

Candidate Answer: Anonymous

QID : 267 - In the following question, a word has been written in four different ways out of which only one is correctly spelt. Select the correctly spelt word.

Options:

- 1) Exampel
- 2) Egampel
- 3) Example
- 4) Axample

Correct Answer: Example

Candidate Answer: Example

QID : 268 - In the following question, a word has been written in four different ways out of which only one is correctly spelt. Select the correctly spelt word.

Options:

- 1) Recive
- 2) Riceive
- 3) Reciever
- 4) Receive

Correct Answer: Receive

Candidate Answer: Receive

QID : 269 - Re-arrange the parts of the sentence in correct order.

The emperor's

P: his Prime Minister and

Q: his favourite courtier

R: brother in law was also

Options:

- 1) QRP
- 2) QPR
- 3) RPQ
- 4) RQP

Correct Answer: RPQ

Candidate Answer: [NOT ANSWERED]

QID : 270 - Re-arrange the parts of the sentence in correct order.

India's nuclear

P: ambition had been

Q: for a very long time

R: the bone of contention

Options:

1) RQP

2) QPR

3) QRP

4) PRQ

Correct Answer: PRQ

Candidate Answer: PRQ

QID : 271 - In the following passage some of the words have been left out. Read the passage carefully and select the correct answer for the given blank out of the four alternatives.

Road safety is a safety measure to _____ the risk of road accidents and road side injury because of the _____ of people while driving on the road. We cannot count the daily road side _____ and death of people because of the driving mistakes and _____ of road traffic rules followers. Every person going on the road has a _____ of injury or death. Such as pedestrians, motorists, cyclists, passengers, etc.

Road safety is a safety measure to _____ the risk of road

Options:

1) eliminate

2) promote

3) reduce

4) reduction

Correct Answer: reduce

Candidate Answer: [NOT ANSWERED]

QID : 272 - In the following passage some of the words have been left out. Read the passage carefully and select the correct answer for the given blank out of the four alternatives.

Road safety is a safety measure to _____ the risk of road accidents and road side injury because of the _____ of people while driving on the road. We cannot count the daily road side _____ and death of people because of the driving mistakes and _____ of road traffic rules followers. Every person going on the road has a _____ of injury or death. Such as pedestrians, motorists, cyclists, passengers, etc.

the _____ of people while driving on the road

Options:

1) mistakes

2) daring

3) miscalculation

4) misappropriation

Correct Answer: mistakes

Candidate Answer: mistakes

QID : 273 - In the following passage some of the words have been left out. Read the passage carefully and select the correct answer for the given blank out of the four alternatives.

Road safety is a safety measure to _____ the risk of road accidents and road side injury because of the _____ of people while driving on the road. We cannot count the daily road side _____ and death of people because of the driving mistakes and _____ of road traffic rules followers. Every person going on the road has a _____ of injury or death. Such as pedestrians, motorists, cyclists, passengers, etc.

_____ and death of people because of the driving

Options:

1) deaths

2) antics

3) accidents

4) misfortune

Correct Answer: accidents

Candidate Answer: accidents

QID : 274 - In the following passage some of the words have been left out. Read the passage carefully and select the correct answer for the given blank out of the four alternatives.

Road safety is a safety measure to _____ the risk of road accidents and road side injury because of the _____ of people while driving on the road. We cannot count the daily road side _____ and death of people because of the driving mistakes and _____ of road traffic rules followers. Every person going on the road has a _____ of injury or death. Such as pedestrians, motorists, cyclists, passengers, etc.

mistakes and _____ of road traffic rules followers.

Options:

- 1) lack
- 2) plenty
- 3) scarce
- 4) enough

Correct Answer: lack

Candidate Answer: scarce

QID : 275 - In the following passage some of the words have been left out. Read the passage carefully and select the correct answer for the given blank out of the four alternatives.

Road safety is a safety measure to _____ the risk of road accidents and road side injury because of the _____ of people while driving on the road. We cannot count the daily road side _____ and death of people because of the driving mistakes and _____ of road traffic rules followers. Every person going on the road has a _____ of injury or death. Such as pedestrians, motorists, cyclists, passengers, etc.

has a _____ of injury or death.

Options:

- 1) hope
- 2) wish
- 3) will
- 4) risk

Correct Answer: risk

Candidate Answer: risk

QID : 276 - In which type of unemployment people appear to be employed, i.e. even if they are removed productivity will not be affected?

किस प्रकार की बेरोज़गारी में लोग नियोजित प्रतीत होते हैं, अतः उनको हटा दिये जाने पर भी उत्पादकता में कोई बदलाव नहीं आएगा?

Options:

- 1) Seasonal unemployment
मौसमी बेरोज़गारी
- 2) Educated unemployment
शिक्षित बेरोज़गारी
- 3) Uneducated unemployment
अशिक्षित बेरोज़गारी
- 4) Disguised unemployment
प्रच्छन्न बेरोज़गारी

Correct Answer: Disguised unemployment
प्रच्छन्न बेरोज़गारी

Candidate Answer: Educated unemployment
शिक्षित बेरोज़गारी

QID : 277 - Economic Activities have been majorly divided into how many sectors?

आर्थिक कार्यों के क्षेत्रक मुख्यतः कितने भागों में बटे हुए हैं?

Options:

- 1) One
एक
- 2) Two
दो
- 3) Three
तीन
- 4) Four
चार

Correct Answer: Three
तीन

Candidate Answer: [NOT ANSWERED]

QID : 278 - Who among the following is the elected representative of ward?

निम्नलिखित में से कौन वार्ड का चुना हुआ प्रतिनिधी होता है?

Options:

- 1) Sarpanch
सरपंच
- 2) Gram Panchayat
ग्राम पंचायत
- 3) Gram Sabha
ग्राम सभा
- 4) Ward Member (Panch)
वार्ड मेम्बर (पंच)

Correct Answer: Ward Member (Panch)
वार्ड मेम्बर (पंच)

Candidate Answer: Ward Member (Panch)
वार्ड मेम्बर (पंच)

QID : 279 - Who guarantees equality to all Indian citizens?

समस्त भारतीय नागरिकों को समानता के लिए आश्वस्त कौन करता है?

Options:

- 1) The President of India
भारत के राष्ट्रपति
- 2) The Prime Minister of India
भारत के प्रधानमंत्री
- 3) The Chief Justice of India
भारत के मुख्य न्यायाधीश
- 4) The Constitution of India
भारत का संविधान

Correct Answer: The Constitution of India
भारत का संविधान

Candidate Answer: The Constitution of India
भारत का संविधान

QID : 280 - Where is the Great Bath located?

महान स्नानागार कहाँ स्थित है?

Options:

- 1) At Sotkakoh
सोत्काकोह में
- 2) At Mohenjo-daro
मोहनजोदड़ो में
- 3) At Lothal
लोथल में
- 4) At Kalibang
कालीबंगा में

Correct Answer: At Mohenjo-daro
मोहनजोदड़ो में

Candidate Answer: [NOT ANSWERED]

QID : 281 - With how many delegates Indian National congress was established?

कितने प्रतिनिधियों द्वारा भारतीय राष्ट्रीय कांग्रेस की स्थापना की गई थी?

Options:

- 1) 50
- 2) 60
- 3) 72
- 4) 82

Correct Answer: 72

Candidate Answer: 82

QID : 282 - What are the various patterns formed by different groups of stars called?

तारों के विभिन्न समूहों द्वारा बनाई गई विविध आकृतियों को क्या कहते हैं?

Options:

- 1) Pole Star
ध्रुव तारा
- 2) Constellation
नक्षत्रमंडल
- 3) Planet
ग्रह
- 4) Celestial bodies
खगोलीय पिंड

Correct Answer: Constellation
नक्षत्रमंडल

Candidate Answer: Constellation
नक्षत्रमंडल

QID : 283 - In what units latitudes are measured?

अक्षांशों को किस इकाई में मापा जाता है?

Options:

- 1) Radian
रेडियन
- 2) Steradian
स्टेरेडियन
- 3) Degree
अंश
- 4) Decimal
दशमलव

Correct Answer: Degree
अंश

Candidate Answer: Degree
अंश

QID : 284 - Which type of plants are usually short and may not have many branches?

किस प्रकार के पौधे सामान्यतः छोटे होते हैं तथा अक्सर इनमें कई शाखाएँ नहीं हैं?

Options:

- 1) Trees
वृक्ष
- 2) Shrubs
झाड़ी
- 3) Herbs
शाक
- 4) None of these
इनमें से कोई नहीं

Correct Answer: Herbs
शाक

Candidate Answer: [NOT ANSWERED]

QID : 285 - Oxygen is transported in blood mainly by ____.

ऑक्सीजन को मुख्य रूप से खून में ____ के द्वारा ले जाया जाता है।

Options:

- 1) Leucocytes
ल्यूकोसाइट
- 2) Erythrocytes
एरिथ्रोसाइट्स
- 3) Thrombocytes
थ्रोम्बोसाइट्स
- 4) Blood plasma
रक्त द्रव

Correct Answer: Erythrocytes
एरिथ्रोसाइट्स

Candidate Answer: Blood plasma
रक्त द्रव

QID : 286 - The exchange of gases in a mammal takes place in ____.

एक स्तनपायी में गैसों का आदान-प्रदान ____ में होता है।

Options:

- 1) Trachea
ट्रेकिआ
- 2) Bronchioles
ब्रांकिओल्स
- 3) Bronchi
ब्रॉंकि
- 4) Alveoli
एल्वियोली

Correct Answer: Alveoli
एल्वियोली

Candidate Answer: [NOT ANSWERED]

QID : 287 - A long-jumper runs before jumping because ____.

एक लम्बी कूद में हिस्सा लेने वाला खिलाड़ी कूदने से पहले दौड़ता है क्योंकि ____।

Options:

- 1) he covers a greater distance
वह एक व्यापक दूरी तय करता है
- 2) he loses momentum
वह वेग खो देता है
- 3) he gains confidence by running
वह दौड़कर आत्मविश्वास प्राप्त करता है
- 4) he gains momentum
वह संवेग प्राप्त करता है

Correct Answer: he gains momentum
वह संवेग प्राप्त करता है

Candidate Answer: he covers a greater distance
वह एक व्यापक दूरी तय करता है

QID : 288 - A man is standing on a boat in still water. If he walks towards the shore the boat will ____.

एक व्यक्ति ठहरे हुए जल में एक नाव पर खड़ा है। यदि वह तट की ओर चलता है तो नाव ____।

Options:

- 1) move away from the shore
तट से दूर होती जाएगी
- 2) turn
पलट जाएगी
- 3) move towards the shore
तट की ओर चलेगी
- 4) sink
डूब जाएगी

Correct Answer: move away from the shore
तट से दूर होती जाएगी

Candidate Answer: move away from the shore
तट से दूर होती जाएगी

QID : 289 - Which of the following is NOT correct?

निम्नलिखित में से कौन सा सही नहीं है?

Options:

- 1) 1 TB = 1024 GB
1 टी. बी. = 1024 जी. बी.
- 2) 1 GB = 1024 MB
1 जी. बी. = 1024 एम. बी.
- 3) 1 MB = 1024 KB
1 एम. बी. = 1024 के. बी.
- 4) 1 byte = 1024 bits
1 बाइट = 1024 बिट

Correct Answer: 1 byte = 1024 bits
1 बाइट = 1024 बिट

Candidate Answer: 1 byte = 1024 bits
1 बाइट = 1024 बिट

QID : 290 - The number of atoms present in a molecule of an element is known as its ____.

एक तत्व के अणु में मौजूद परमाणुओं की संख्या ____ कहलाती है।

Options:

- 1) Valency
संयोजकता
- 2) Atomicity
परमाणुकता
- 3) Chemical formula
रासायनिक सूत्र
- 4) Molecular formula
अणु सूत्र

Correct Answer: Atomicity
परमाणुकता

Candidate Answer: Valency
संयोजकता

QID : 291 - What is the name given to a pure substance with only one kind of atoms?

मात्र एक प्रकार के परमाणुओं वाले विशुद्ध पदार्थ को क्या नाम दिया गया है?

Options:

- 1) Element
तत्व
- 2) Molecule
अणु
- 3) Mixture
संमिश्र
- 4) Solution
घोल

Correct Answer: Element
तत्व

Candidate Answer: Element
तत्व

QID : 292 - What is the groundwater stored at places between the layers of hard rock below water table called?

कुछ स्थानों पर भूमिजल स्तर के नीचे स्थिर कठोर शैलों (चट्टानों) की परतों के बीच संचित भूमिजल को क्या कहते हैं?

Options:

- 1) Water cycle
जल चक्र
- 2) Water table
भूमिजल स्तर
- 3) Ground water
भूमिजल
- 4) Aquifer
जलभर

Correct Answer: Aquifer
जलभर

Candidate Answer: Water table
भूमिजल स्तर

QID : 293 - Pradhan Mantri Fasal Bima Yojana provides insurance cover to which of the following?

प्रधानमंत्री फसल बीमा योजना निम्नलिखित में से किन्हें बीमा रक्षण प्रदान करता है?

Options:

- 1) Only Rabi Crops
केवल रबी फसलें
- 2) Only Kharif Crops
केवल खरीफ फसलें
- 3) Both Rabi and Kharif Crops
रबी तथा खरीफ फसलें दोनों
- 4) Neither Rabi nor Kharif Crops
न तो रबी न ही खरीफ फसल

Correct Answer: Both Rabi and Kharif Crops
रबी तथा खरीफ फसलें दोनों

Candidate Answer: [NOT ANSWERED]

QID : 294 - Who among the following invented radio?

निम्नलिखित में से किसने रेडियो का आविष्कार किया था?

Options:

- 1) G. Marconi
जी. मार्कोनी
- 2) Thomas Edison
थॉमस एडीसन
- 3) H. Hertz
एच. हर्ट्ज़
- 4) C.V. Raman
सी. वी. रमन

Correct Answer: G. Marconi
जी. मार्कोनी

Candidate Answer: H. Hertz
एच. हर्ट्ज़

QID : 295 - Which is the host country for FIFA Under 17 World Cup in 2017?

कौन सा देश ने फीफा अंडर 17 वर्ल्ड कप 2017 की मेजबान है?

Options:

- 1) Bangladesh
बांग्लादेश
- 2) India
भारत
- 3) Mauritius
मॉरिशस
- 4) Maldives
मालदीव

Correct Answer: India
भारत

Candidate Answer: India
भारत

QID : 296 - Kuchipudi is a dance form of which state?

कुचीपुडी किस राज्य की एक नृत्य कला है?

Options:

- 1) Tamil Nadu
तमिलनाडु
- 2) Kerala
केरल
- 3) Andhra Pradesh
आन्ध्र प्रदेश
- 4) Karnataka
कर्नाटक

Correct Answer: Andhra Pradesh
आन्ध्र प्रदेश

Candidate Answer: Karnataka
कर्नाटक

QID : 297 - Who won the Lifetime Achievement Award in Lok Sabha in the Lokmat Parliamentary Award 2017?

2017 के लोकमत पार्लियामेंट्री पुरस्कार में लोक सभा में लाइफटाइम अचीवमेंट पुरस्कार किसने जीता?

Options:

- 1) Sharad Yadav
शरद यादव
- 2) L. K. Advani
एल. के. आडवानी
- 3) Meenakshi Lekhi
मीनाक्षी लेखी
- 4) Sitaram Yechury
सीताराम येचुरी

Correct Answer: L. K. Advani
एल. के. आडवानी

Candidate Answer: L. K. Advani
एल. के. आडवानी

QID : 298 - Who is the author of the book named "My Music My life"?

"माई म्यूजिक माई लाइफ" नामक पुस्तक के लेखक कौन हैं?

Options:

- 1) Sanjay Baru
संजय बारु
- 2) Natwar Singh
नटवर सिंह
- 3) Pt. Ravi Shankar
पं. रवि शंकर
- 4) Pavan Choudhary
पवन चौधरी

Correct Answer: Pt. Ravi Shankar
पं. रवि शंकर

Candidate Answer: Pt. Ravi Shankar
पं. रवि शंकर

QID : 299 - 2001 Sino-Russian Treaty of Friendship was signed between Russia and ____.

2001 की सीनो - रूसी मित्रता संधि रूस तथा ____ के बीच हस्ताक्षरित हुआ था।

Options:

- 1) North Korea
उत्तर कोरिया
- 2) China
चीन
- 3) South Korea
दक्षिण कोरिया
- 4) Japan
जापान

Correct Answer: China
चीन

Candidate Answer: [NOT ANSWERED]

QID : 300 - India signed 'Panchsheel' agreement with which of its neighbouring country?

भारत ने अपने किस पड़ोसी देश के साथ 'पंचशील' समझौते पर हस्ताक्षर किया था?

Options:

- 1) Bangladesh
बांग्लादेश
- 2) China
चीन
- 3) Pakistan
पाकिस्तान
- 4) Sri Lanka
श्रीलंका

Correct Answer: China
चीन

Candidate Answer: China
चीन