

QID : 1 -

In the following question, select the number which can be placed at the sign of question mark (?) from the given alternatives.

निम्नलिखित प्रश्न में दिए गए विकल्पों में से प्रश्न चिह्न (?) के स्थान पर आने वाली संख्या को चुनिए।

2	3	2
4	6	4
5	3	7
14	15	?

Options:

1) 22

2) 18

3) 20

4) 24

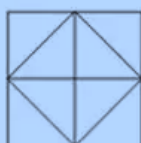
Correct Answer: 18

Candidate Answer: 18

QID : 2 -

How many triangles are there in the given figure?

दी गई आकृति में कितने त्रिभुज हैं?



Options:

1) 8

2) 10

3) 12

4) 16

Correct Answer: 12

Candidate Answer: 12

QID : 3 -

A word is represented by only one set of numbers as given in any one of the alternatives. The sets of numbers given in the alternatives are represented by two classes of alphabets as shown in the given two matrices. The columns and rows of **Matrix-I** are numbered from 0 to 4 and that of **Matrix-II** are numbered from 5 to 9. A letter from these matrices can be represented first by its row and next by its column, for example, 'M' can be represented by 10, 56, etc., and 'R' can be represented by 40, 99, etc. Similarly, you have to identify the set for the word "TONE".

एक शब्द केवल एक संख्या-समूह द्वारा दर्शाया गया है, जैसा कि विकल्पों में से किसी एक में दिया गया है। विकल्पों में दिए गए संख्या-समूह अक्षरों के दो वर्गों द्वारा दर्शाए गए हैं, जैसा कि दिए गए दो आव्यूहों में है। आव्यूह-I के स्तम्भ और पंक्ति की संख्या 0 से 4 है और आव्यूह-II की 5 से 9। इन आव्यूहों से एक अक्षर को पहले उसकी पंक्ति और बाद में स्तम्भ संख्या द्वारा दर्शाया जा सकता है। उदाहरण के लिए 'M' को 10, 56, आदि द्वारा दर्शाया जा सकता है तथा 'R' को 40, 99, आदि द्वारा दर्शाया जा सकता है। इसी तरह से आपको प्रश्न में दिए शब्द "TONE" के लिए समूह को पहचानना है।

Matrix-I आव्यूह-I						Matrix-II आव्यूह-II					
	0	1	2	3	4		5	6	7	8	9
0	C	E	G	I	K	5	K	M	F	H	Z
1	M	O	Q	S	U	6	I	B	O	J	K
2	W	Y	A	D	B	7	G	Q	A	L	V
3	H	J	L	N	P	8	E	H	Y	N	T
4	R	T	V	X	Z	9	C	U	W	P	R

Options:

1) 89, 11, 88, 85

2) 41, 67, 87, 01

3) 41, 11, 34, 85

4) 89, 67, 33, 00

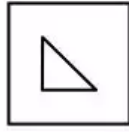
Correct Answer: 89, 11, 88, 85

Candidate Answer: 41, 11, 34, 85

QID : 4 -

From the given answer figures, select the one in which the question figure is hidden/embedded.

दी गई उत्तर आकृतियों में से उस उत्तर आकृति को चुनिए जिस में प्रश्न आकृति निहित है।

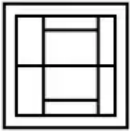


Options:

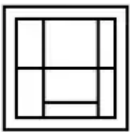
1)



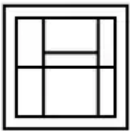
2)




3)



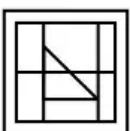
4)



Correct Answer:



Candidate Answer:



QID : 5 -

Which answer figure will complete the pattern in the question figure?

कौन सी उत्तर आकृति प्रश्न आकृति के प्रतिरूप को पूरा करेगी?



Options:

1)



2)



3)



4)



Correct Answer:



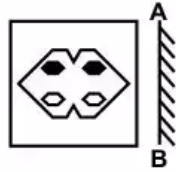
Candidate Answer:



QID : 6 -

If a mirror is placed on the line AB, then which of the answer figures is the right image of the given figure?

यदि एक दर्पण को AB रेखा पर रखा जाए, तो दी गई उत्तर आकृतियों में से कौन सी आकृति प्रश्न आकृति की सही प्रतिबिम्ब होगी?



Options:

1)



2)



3)



4)



Correct Answer:



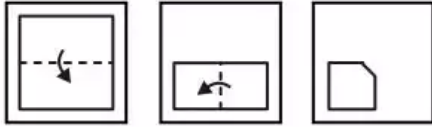
Candidate Answer:



QID : 7 -

A piece of paper is folded and punched as shown below in the question figures. From the given answer figures, indicate how it will appear when opened?

नीचे के प्रश्न आकृतियों में दिखाए अनुसार कागज को मोड़कर छेदने तथा खोलने के बाद वह किस उत्तर आकृति जैसा दिखाई देगा?



Options:

1)



2)




3)



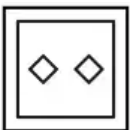
4)



Correct Answer:



Candidate Answer:



QID : 8 - If '-' means '÷', '+' means '×', '÷' means '-' and '×' means '+', then

$$49 - 7 \times 63 \div 2 = ?$$

यदि '-' का अर्थ '÷', '+' का अर्थ '×', '÷' का अर्थ '-' तथा '×' का अर्थ '+' हो, तो

$$49 - 7 \times 63 \div 2 = ?$$

Options:

1) 65

2) 78

3) 76

4) 68

Correct Answer: 68

Candidate Answer: 68

QID : 9 - If $4 \times 3 \times 2 \times 6 = 6234$ and $6 \times 3 \times 1 \times 2 = 2136$, then $9 \times 4 \times 7 \times 1 = ?$

यदि $4 \times 3 \times 2 \times 6 = 6234$ तथा $6 \times 3 \times 1 \times 2 = 2136$ हो, तो $9 \times 4 \times 7 \times 1 = ?$

Options:

1) 1479

2) 9174

3) 1749

4) 9471

Correct Answer: 1749

Candidate Answer: 1479

QID : 10 - Arrange the given words in the sequence in which they occur in the dictionary.

1. Ringer
2. Restore
3. Range
4. Rapid
5. Reptile

निम्नलिखित शब्दों को शब्दकोश में आने वाले क्रम के अनुसार लिखें।

1. Ringer
2. Restore
3. Range
4. Rapid
5. Reptile

Options:

1) 34521

2) 43521

3) 34251

4) 43251

Correct Answer: 34521

Candidate Answer: 43521

QID : 11 - In the following question, select the missing number from the given alternatives.

3, 6, 9, 15, 24, 39, ?

निम्नलिखित प्रश्न में दिए गए विकल्पों में से लुप्त अंक ज्ञात कीजिए।

3, 6, 9, 15, 24, 39, ?

Options:

1) 57

2) 56

3) 58

4) 63

Correct Answer: 63

Candidate Answer: 58

QID : 12 - A series is given with one term missing. Select the correct alternative from the given ones that will complete the series.

B, P, E, M, H, J, K, G, ?, ?

एक अनुक्रम दिया गया है, जिसमें से एक पद लुप्त है। दिए गए विकल्पों में से वह सही विकल्प चुनिए, जो अनुक्रम को पूरा करे।

B, P, E, M, H, J, K, G, ?, ?

Options:

1) O, B

2) N, D

3) L, C

4) N, B

Correct Answer: N, D

Candidate Answer: N, D

QID : 13 - In the following question, select the odd word from the given alternatives.

निम्नलिखित प्रश्न में दिए गए विकल्पों में से विषम शब्द को चुनिए।

Options:

1) Bottle

बोतल

2) Liquid

तरल

3) Vessel

बर्तन

4) Cup

कप

Correct Answer: Liquid

तरल

Candidate Answer: Vessel

बर्तन

QID : 14 - In the following question, select the odd number pair from the given alternatives.

निम्नलिखित प्रश्न में दिए गए विकल्पों में से विषम संख्या युग्म को चुनिए।

Options:
1) 43 – 52

2) 67 – 76

3) 89 – 96

4) 35 – 44

Correct Answer: 89 – 96

Candidate Answer: 43 – 52

QID : 15 - In the following question, select the odd letters from the given alternatives.

निम्नलिखित प्रश्न में दिए गए विकल्पों में से विषम अक्षरों को चुनिए।

Options:
1) DE

2) XW

3) ON

4) HG

Correct Answer: DE

Candidate Answer: DE

QID : 16 - Identify the diagram that best represents the relationship among the given classes.

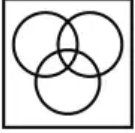
Country, State, District

वह आरेख चुनिए जो नीचे दिए गए वर्गों के बीच के संबंध का सही निरूपण करता है।

देश, राज्य, ज़िला

Options:

1)



2)



3)



4)



Correct Answer:



Candidate Answer:



QID : 17 - In the following question, select the related word from the given alternatives.

Factory : Production :: Hospital : ?

निम्नलिखित प्रश्न में दिए गए विकल्पों में से संबंधित शब्द को चुनिए।

कारखाना : उत्पादन :: अस्पताल : ?

Options:

1) Doctor

चिकित्सक

2) Nurse

नर्स

3) Treatment

उपचार

4) Building

इमारत

Correct Answer: Treatment

उपचार

Candidate Answer: Treatment

उपचार

QID : 18 - In the following question, select the related number from the given alternatives.

145 : 10 :: 243 : ?

निम्नलिखित प्रश्न में दिए गए विकल्पों में से संबंधित संख्या को चुनिए।

145 : 10 :: 243 : ?

Options:

1) 11

2) 9

3) 13

4) 7

Correct Answer: 9

Candidate Answer: 9

QID : 19 - In the following question, select the related letters from the given alternatives.

BP : ES :: NT : ?

निम्नलिखित प्रश्न में दिए गए विकल्पों में से संबंधित अक्षरों को चुनिए।

BP : ES :: NT : ?

Options:

1) PU

2) QW

3) QV

4) PX

Correct Answer: QW

Candidate Answer: QW

QID : 20 - In the following question, select the word which cannot be formed using the letters of the given word.

PITCHINGS

निम्नलिखित विकल्पों में से वह शब्द चुनिए जो दिए गए शब्द के अक्षरों का प्रयोग करके नहीं बनाया जा सकता।

PITCHINGS

Options:

1) SIP

2) CHIT

3) HINGS

4) HANGS

Correct Answer: HANGS

Candidate Answer: HANGS

QID : 21 - Weight of A is twice that of B. Weight of B is half of C. Weight of C is 3 times of E. Weight of E is half of D. Who is the heaviest?

A का भार B का दो गुना है। B का भार C का आधा है। C का भार E का 3 गुना है। E का भार D का आधा है। सबसे भारी कौन है?

Options:

1) A

2) C

3) D

4) A or C

A अथवा C

Correct Answer: A or C

A अथवा C

Candidate Answer: C

QID : 22 - The ratio of present ages of Sumit and Vikram is 4 : 3. After 5 years age of Sumit will be 25 years. What is the present age (in years) of Vikram?

सुमित तथा विक्रम की वर्तमान आयु का अनुपात 4 : 3 है। 5 वर्ष पश्चात सुमित की आयु 25 वर्ष होगी। विक्रम की वर्तमान आयु (वर्षों में) क्या है?

Options:

1) 20

2) 15

3) 10

4) 12

Correct Answer: 15

Candidate Answer: 15

QID : 23 - In the following question below are given some statements followed by some conclusions. Taking the given statements to be true even if they seem to be at variance from commonly known facts, read all the conclusions and then decide which of the given conclusion logically follows the given statements.

Statements:

I. All cups are chairs.

II. No chair is table.

Conclusions:

I. Some cups are not tables.

II. Some chairs are cups.

नीचे दिए गए प्रश्न में कुछ कथन और उनके बाद उन कथनों पर आधारित कुछ निष्कर्ष दिए गए हैं, हालांकि उनमें सामान्य ज्ञात तथ्यों से भिन्नता हो सकती है। सभी निष्कर्ष पढ़ें और फिर निर्धारित करें कि दिए गए कौन से निष्कर्ष, दिए गए कथनों के आधार पर युक्तिसंगत हैं।

कथन:

I. सभी कप कुर्सियाँ हैं।

II. कोई कुर्सी मेज़ नहीं है।

निष्कर्ष:

I. कुछ कप मेज़ नहीं हैं।

II. कुछ कुर्सियाँ कप हैं।

Options:

1) Only conclusion (I) follows.

केवल निष्कर्ष (I) सही है।

2) Only conclusion (II) follows.

केवल निष्कर्ष (II) सही है।

3) Both conclusion follow.

दोनों ही निष्कर्ष सही हैं।

4) Neither conclusion (I) nor conclusion (II) follows.

न तो निष्कर्ष (I) न ही निष्कर्ष (II) सही है।

Correct Answer: Both conclusion follow.

दोनों ही निष्कर्ष सही हैं।

Candidate Answer: Neither conclusion (I) nor conclusion (II) follows.

न तो निष्कर्ष (I) न ही निष्कर्ष (II) सही है।

QID : 24 - In a certain code language, "LIGHT" is written as "KHFGS". How is "SOUND" written in that code language?

एक विशिष्ट कोड भाषा में, "LIGHT" को "KHFGS" लिखा जाता है। इस कोड भाषा में "SOUND" को किस प्रकार लिखा जाएगा?

Options:

1) RNTMC

2) RNTMD

3) RNSMC

4) RMTNC

Correct Answer: RNTMC

Candidate Answer: RNTMD

QID : 25 - In a certain code language, "RAM" is written as "160" and "SUN" is written as "270". How is "BUS" written in that code language?

एक विशिष्ट कोड भाषा में, "RAM" को "160" तथा "SUN" को "270" लिखा जाता है। इस कोड भाषा में "BUS" को किस प्रकार लिखा जाएगा?

Options:

1) 210

2) 190

3) 720

4) 1260

Correct Answer: 210

Candidate Answer: 210

QID : 26 - How many positive factors of 24 are there?

24 के कितने धनात्मक गुणनखंड होते हैं?

Options:

1) 6

2) 7

3) 8

4) 12

Correct Answer: 8

Candidate Answer: 6

QID : 27 - What is the value of $[(1.7)^3 - (1.2)^3] / [(1.7)^2 + (1.7 \times 1.2) + (1.2)^2]$?

$[(1.7)^3 - (1.2)^3] / [(1.7)^2 + (1.7 \times 1.2) + (1.2)^2]$ का मान क्या है?

Options:

1) 0.5

2) 2.9

3) 1.9

4) 0.7

Correct Answer: 0.5

Candidate Answer: 0.7

QID : 28 -

What is the value of $\sqrt{7 + 4\sqrt{3}}$?

$\sqrt{7 + 4\sqrt{3}}$ का मान क्या है?

Options:

1) $2 - \sqrt{3}$

2) $2 + \sqrt{3}$

3) $3 + \sqrt{3}$

4) $3 - \sqrt{3}$

Correct Answer: $2 + \sqrt{3}$

Candidate Answer: $3 + \sqrt{3}$

QID : 29 - A number when divided by 72 leaves remainder 10. What will be the remainder when the same number is divided by 9?

एक संख्या को जब 72 से भाग दिया जाता है, तो शेषफल 10 बचता है। जब उसी संख्या को 9 से पूर्णतयः विभाजित किया जाए, तो शेषफल क्या होगा?

Options:

1) 1

2) 2

3) 3

4) 4

Correct Answer: 1

Candidate Answer: 1

QID : 30 - Which of the given value is exactly divisible by 30?

दिए गए मान में कौन 30 से पूर्णतयः विभाजित है?

Options:

1) 2530

2) 1570

3) 2370

4) 1520

Correct Answer: 2370

Candidate Answer: 2370

QID : 31 - How many numbers are there between 200 to 300 which are perfect cubes?

200 से 300 के बीच कितनी संख्याएँ हैं जो एक पूर्ण घन हैं?

Options:

1) 1

2) 2

3) 3

4) 4

Correct Answer: 1

Candidate Answer: 3

QID : 32 - A and B together complete a work in 20 days. B alone can complete the same work in 60 days. They took Rs 36000 to complete the work. What will be the share of A (in Rs)?

A तथा B मिलकर किसी कार्य को 20 दिनों में पूरा करते हैं। B अकेला उस कार्य को 60 दिनों में पूरा कर सकता है। उन्होंने 36000 रु में उस कार्य को लिया। A का हिस्सा (रु में) कितना होगा?

Options:

1) 18000

2) 24000

3) 26000

4) 22000

Correct Answer: 24000

Candidate Answer: 24000

QID : 33 - P, Q and R can complete a work in 20, 15 and 25 days respectively. P, Q and R together took Rs 9600 to complete the same work. What will be the share of Q (in Rs)?

P, Q तथा R किसी कार्य को क्रमशः 20, 15 तथा 25 दिनों में पूरा कर सकते हैं। P, Q तथा R ने मिलकर 9600 रु में उस कार्य को पूरा किया। Q का हिस्सा (रु में) कितना होगा?

Options:

1) 4000

2) 3600

3) 3700

4) 3000

Correct Answer: 4000

Candidate Answer: 3600

Download More Papers From GovtJobsAlert.In

QID : 34 - The diagonals of a rhombus are 32 cm and 60 cm. What is the perimeter of the rhombus?

एक समचतुर्भुज के विकर्ण 32 से.मी. तथा 60 से.मी. हैं। समचतुर्भुज का परिमाप क्या है?

Options:

- 1) 68
- 2) 132
- 3) 136
- 4) 236

Correct Answer: 136

Candidate Answer: 136

QID : 35 - Three successive discounts of 20%, 30% and 20% are given, what will be the net discount (in percentage)?

20%, 30% तथा 20% की तीन क्रमिक छूट दी जाती है। निवल छूट (प्रतिशत में) क्या होगी?

Options:

- 1) 43.76

- 2) 55.2

- 3) 70

- 4) 83.2

Correct Answer: 55.2

Candidate Answer: 55.2

QID : 36 - Marked price of an article is 50% more than its cost price. If a discount of 10% is given, then what will be the profit percentage?

एक वस्तु का अंकित मूल्य उसके क्रय मूल्य से 50% ज्यादा है। यदि 10% की छूट दी जाए, तो लाभ का प्रतिशत क्या होगा?

Options:

- 1) 35
- 2) 40
- 3) 45
- 4) 30

Correct Answer: 35

Candidate Answer: 35

QID : 37 - The ratio of monthly income of x and y is 3 : 5 and the ratio of their expenditures is 1 : 2. If each saves Rs 5000 per month, then what will be the monthly income of x?

x तथा y की मासिक आय का अनुपात 3 : 5 है तथा खर्च का अनुपात 1 : 2 है। यदि प्रत्येक 5000 रु प्रतिमाह की बचत करता है, तो x की मासिक आय क्या होगी?

Options:

- 1) 25000
- 2) 20000
- 3) 18000
- 4) 15000

Correct Answer: 15000

Candidate Answer: 18000

QID : 38 - The ratio of four numbers A, B, C and D is 3 : 7 : 8 : 11 respectively. The sum of B and C is 25 more the sum of A and D. What is the value of (A + D)?

चार संख्याओं A, B, C तथा D का अनुपात क्रमशः 3 : 7 : 8 : 11 है। B तथा C का योग A तथा D के योग से 25 ज्यादा है। (A + D) का मान क्या है?

Options:

- 1) 350
- 2) 375
- 3) 250
- 4) 325

Correct Answer: 350

Candidate Answer: 250

QID : 39 - What is the average of first 12 natural numbers?

पहली 12 प्राकृतिक संख्याओं का औसत क्या है?

Options:

- 1) 5.5

- 2) 6

- 3) 6.5

- 4) 7

Correct Answer: 6.5

Candidate Answer: 6.5

Download More Papers From GovtJobsAlert.In

QID : 40 - If selling price is Rs 100 more than the cost price and profit is 20%, then what is the cost price?

यदि विक्रय मूल्य क्रय मूल्य से 100 रु अधिक है तथा लाभ 20% है, तो क्रय मूल्य क्या है?

Options:

- 1) 600
- 2) 1000
- 3) 800
- 4) 500

Correct Answer: 500

Candidate Answer: 800

QID : 41 - If selling price is Rs 840 and profit is 5%, then what is the cost price?

यदि विक्रय मूल्य 840 रु है तथा लाभ 5% है, तो क्रय मूल्य क्या है?

Options:

- 1) 750
- 2) 800
- 3) 810
- 4) 900

Correct Answer: 800

Candidate Answer: 900

QID : 42 - If 20% of A = 30% of B, then B is how much percent less than A?

यदि A का 20% = B का 30%, तो B, A से कितने प्रतिशत कम है?

Options:

- 1) 20
- 2) 25
- 3) 33.33
- 4) 12.5

Correct Answer: 33.33

Candidate Answer: 33.33

QID : 43 - If A is 20% more than B and C is 20% less than B, then C is how much percent less than A?

यदि A, B से 20% अधिक है तथा C, B से 20% कम है, तो C, A से कितने प्रतिशत कम है?

Options:

- 1) 40
- 2) 44
- 3) 33.33
- 4) 50

Correct Answer: 40

Candidate Answer: 40

QID : 44 - A train 150 metres long is running at a speed of 15 metre per second. In how much time (in seconds) it will cross a bridge of 300 metre long?

एक 150 मीटर लम्बी रेलगाड़ी 15 मीटर प्रति सेकण्ड की गति से चलते हुए 300 मीटर लम्बे प्लेटफॉर्म को पार करने में कितना समय (सेकेंडों में) लेगी?

Options:

- 1) 10
- 2) 15
- 3) 30
- 4) 45

Correct Answer: 30

Candidate Answer: 30

QID : 45 - A boat travels 16 km upstream in 4 hours and 12 km downstream in 6 hours. What is the speed (in km/hr) of boat in still water?

एक नाव धारा के अनुकूल 16 कि.मी. दूरी 4 घंटे में तय करती है तथा धारा के प्रतिकूल में 12 कि.मी. दूरी 6 घंटे में तय करती है। शांत जल में नाव की गति (कि.मी./घंटा में) क्या है?

Options:

- 1) 1
- 2) 2
- 3) 3
- 4) 4

Correct Answer: 3

Candidate Answer: 2

QID : 46 - A sum of Rs 5000 is invested at a scheme of compound interest. The interest rate is 20%. If the interest is compounded half yearly, then what is interest (in Rs) after 1 year?

5000 रु की एक राशि को चक्रवृद्धि ब्याज की योजना में निवेश किया गया। ब्याज दर 20% है। यदि ब्याज का संयोजन अर्द्धवार्षिक हो, तो एक वर्ष बाद ब्याज (रु में) कितना होगा?

Options:

1) 1000

2) 2200

3) 1500

4) 1050

Correct Answer: 1050

Candidate Answer: 1050

QID : 47 -

The table given below shows the selling price (in Rs/kg) of 4 different items at 5 different shops.

नीचे दी गई तालिका में 5 दुकानों पर 4 विभिन्न वस्तुओं के विक्रय मूल्य (रु/कि.ग्रा. में) को दर्शाया गया है।

	Selling Price (in Rs/kg) विक्रय मूल्य (रु/कि.ग्रा. में)				
Item वस्तु	Shop 1 दुकान 1	Shop 2 दुकान 2	Shop 3 दुकान 3	Shop 4 दुकान 4	Shop 5 दुकान 5
A	10	12	14	11	13
B	21	20	22	21	21
C	18	12	14	15	17
D	20	20	19	19	20

If a customer purchases 2 kg quantity of each item from Shop 2, then what is the total selling price (in Rs)?

यदि कोई ग्राहक दुकान 2 से प्रत्येक वस्तु की 2 कि.ग्रा. मात्रा खरीदता है, तो कुल विक्रय मूल्य (रु में) क्या है?

Options:

1) 128

2) 164

3) 140

4) 132

Correct Answer: 128

Candidate Answer: 128

QID : 48 -

The table given below shows the selling price (in Rs/kg) of 4 different items at 5 different shops.

नीचे दी गई तालिका में 5 दुकानों पर 4 विभिन्न वस्तुओं के विक्रय मूल्य (रु/कि.ग्रा. में) को दर्शाया गया है।

	Selling Price (in Rs/kg) विक्रय मूल्य (रु/कि.ग्रा. में)				
Item वस्तु	Shop 1 दुकान 1	Shop 2 दुकान 2	Shop 3 दुकान 3	Shop 4 दुकान 4	Shop 5 दुकान 5
A	10	12	14	11	13
B	21	20	22	21	21
C	18	12	14	15	17
D	20	20	19	19	20

If a customer purchases 3 kg quantity of item A from each shop, then what is the total selling price (in Rs)?

यदि एक ग्राहक वस्तु A की 3 कि.ग्रा. मात्रा प्रत्येक दुकान से खरीदता है, तो कुल विक्रय मूल्य (रु में) क्या है?

Options:

1) 140

2) 120

3) 180

4) 160

Correct Answer: 180

Candidate Answer: 180

QID : 49 -

The table given below shows the selling price (in Rs/kg) of 4 different items at 5 different shops.

नीचे दी गई तालिका में 5 दुकानों पर 4 विभिन्न वस्तुओं के विक्रय मूल्य (रु/कि.ग्रा. में) को दर्शाया गया है।

	Selling Price (in Rs/kg) विक्रय मूल्य (रु/कि.ग्रा. में)				
Item वस्तु	Shop 1 दुकान 1	Shop 2 दुकान 2	Shop 3 दुकान 3	Shop 4 दुकान 4	Shop 5 दुकान 5
A	10	12	14	11	13
B	21	20	22	21	21
C	18	12	14	15	17
D	20	20	19	19	20

What is the average selling price (in Rs/kg) of item C?

वस्तु C का औसतन विक्रय मूल्य (रु/कि.ग्रा. में) क्या है?

Options:

1) 16.8

2) 15.2

3) 14.6

4) 13.8

Correct Answer: 15.2

Candidate Answer: 15.2

QID : 50 -

The table given below shows the selling price (in Rs/kg) of 4 different items at 5 different shops.

नीचे दी गई तालिका में 5 दुकानों पर 4 विभिन्न वस्तुओं के विक्रय मूल्य (रु/कि.ग्रा. में) को दर्शाया गया है।

	Selling Price (in Rs/kg) विक्रय मूल्य (रु/कि.ग्रा. में)				
Item वस्तु	Shop 1 दुकान 1	Shop 2 दुकान 2	Shop 3 दुकान 3	Shop 4 दुकान 4	Shop 5 दुकान 5
A	10	12	14	11	13
B	21	20	22	21	21
C	18	12	14	15	17
D	20	20	19	19	20

If one kg of each item is purchased from each shop, then which shop will have the least total selling price?

यदि प्रत्येक वस्तु का एक कि.ग्रा. प्रत्येक दुकान से खरीदा जाए, तो कौन सी दुकान का कुल विक्रय मूल्य सबसे कम होगा?

Options:

1) Shop 1

दुकान 1

2) Shop 4

दुकान 4

3) Shop 2

दुकान 2

4) None of these

इनमें से कोई नहीं

Correct Answer: Shop 2

दुकान 2

Candidate Answer: Shop 4

दुकान 4

QID : 51 - In the following question, some part of the sentence may have errors. Find out which part of the sentence has an error and select the appropriate option. If a sentence is free from error, select 'No Error'.

It comes with (1)/ her own challenges (2)/ for a person. (3)/ No Error (4)/

Options:

1) 1

2) 2

3) 3

4) 4

Correct Answer: 2

Candidate Answer: 4

QID : 52 - In the following question, some part of the sentence may have errors. Find out which part of the sentence has an error and select the appropriate option. If a sentence is free from error, select 'No Error'.

Need no worry, (1)/ these tips will help (2)/ you to optimize your work. (3)/ No Error (4)/

Options:

1) 1

2) 2

3) 3

4) 4

Correct Answer: 1

Candidate Answer: 2

QID : 53 - In the following question, the sentence given with blank to be filled in with an appropriate word. Select the correct alternative out of the four and indicate it by selecting the appropriate option.

Rohan preferred baseball ____ any other sport.

Options:

1) to

2) than

3) on

4) against

Correct Answer: to

Candidate Answer: on

QID : 54 - In the following question, the sentence given with blank to be filled in with an appropriate word. Select the correct alternative out of the four and indicate it by selecting the appropriate option.

I have lived in Gujarat _____.

Options:

- 1) since seven year
- 2) seven years ago
- 3) for seven years ago
- 4) for seven years

Correct Answer: for seven years

Candidate Answer: since seven year

QID : 55 - In the following question, out of the given four alternatives, select the one which best expresses the meaning of the given word.

Index

Options:

- 1) Disorder
- 2) Neglect
- 3) Dismiss
- 4) Guide

Correct Answer: Guide

Candidate Answer: Neglect

QID : 56 - In the following question, out of the given four alternatives, select the one which best expresses the meaning of the given word.

Amend

Options:

- 1) Impair
- 2) Alter
- 3) Reduce
- 4) Worsen

Correct Answer: Alter

Candidate Answer: Reduce

QID : 57 - In the following question, out of the given four alternatives, select the one which best expresses the meaning of the given word.

Testify

Options:

- 1) Announce
- 2) Deny
- 3) Veto
- 4) Negate

Correct Answer: Announce

Candidate Answer: Deny

QID : 58 - In the following question, out of the given four alternatives, select the one which is opposite in meaning of the given word.

Nobel

Options:

- 1) Wellborn
- 2) Gentle
- 3) Servile
- 4) Kingly

Correct Answer: Servile

Candidate Answer: [NOT ANSWERED]

QID : 59 - In the following question, out of the given four alternatives, select the one which is opposite in meaning of the given word.

Applause

Options:

- 1) Acclaim
- 2) Cheers
- 3) Criticism
- 4) Praise

Correct Answer: Criticism

Candidate Answer: Criticism

QID : 60 - In the following question, out of the given four alternatives, select the one which is opposite in meaning of the given word.

Candid

Options:

- 1) Fair
- 2) Deceitful
- 3) Genuine
- 4) Sincere

Correct Answer: Deceitful

Candidate Answer: Genuine

QID : 61 - In the following question, out of the four given alternatives, select the alternative which best expresses the meaning of the Idiom/Phrase.

Over head and ears

Options:

- 1) Nearer
- 2) Completely
- 3) Alert
- 4) Obsolete

Correct Answer: Completely

Candidate Answer: Obsolete

QID : 62 - In the following question, out of the four given alternatives, select the alternative which best expresses the meaning of the Idiom/Phrase.

On one's guard

Options:

- 1) About to fall
- 2) To be careful
- 3) To be not in proper order
- 4) Cause of somebody

Correct Answer: To be careful

Candidate Answer: Cause of somebody

QID : 63 - Improve the bracketed part of the sentence.

My boss suggested (**me to take a**) off.

Options:

- 1) that I should take a
- 2) that I should take an
- 3) me taking a
- 4) Not improvement

Correct Answer: that I should take an

Candidate Answer: me taking a

QID : 64 - Improve the bracketed part of the sentence.

He complained of (**having harassed**) by the court of law.

Options:

- 1) harassed
- 2) been harassed
- 3) having been harassed
- 4) Not improvement

Correct Answer: having been harassed

Candidate Answer: having been harassed

QID : 65 - In the following question, out of the four given alternatives, select the alternative which is the best substitute of the phrase.

Reduction in tax or debt

Options:

- 1) Rebate
- 2) Estimate
- 3) Preface
- 4) Ransom

Correct Answer: Rebate

Candidate Answer: Estimate

QID : 66 - In the following question, out of the four given alternatives, select the alternative which is the best substitute of the phrase.

Resulting in death or ending in disaster

Options:

- 1) Dessert
- 2) Erratic
- 3) Fatal
- 4) Epicure

Correct Answer: Fatal

Candidate Answer: [NOT ANSWERED]

QID : 67 - In the following question, a word has been written in four different ways out of which only one is correctly spelt. Select the correctly spelt word.

Options:

- 1) Innocent
- 2) Inocennt
- 3) Innocant
- 4) Ennocant

Correct Answer: Innocent

Candidate Answer: Innocant

QID : 68 - In the following question, a word has been written in four different ways out of which only one is correctly spelt. Select the correctly spelt word.

Options:

- 1) Leneint
- 2) Linient
- 3) Lenient
- 4) Lenent

Correct Answer: Lenient

Candidate Answer: Leneint

QID : 69 - Rearrange the parts of the sentence in correct order.

The moment a

P: new word is coined

Q: it enters the

R: the spoken language

Options:

- 1) PQR
- 2) QRP
- 3) QPR
- 4) RPQ

Correct Answer: PQR

Candidate Answer: QPR

QID : 70 - Rearrange the parts of the sentence in correct order.

Venice is

P: the north of Italy

Q: beautiful city in

R: a strange and

Options:

- 1) QRP
- 2) RQP
- 3) QPR
- 4) PRQ

Correct Answer: RQP

Candidate Answer: PRQ

QID : 71 - In the following passage some of the words have been left out. Read the passage carefully and select the correct answer for the given blank out of the four alternatives.

We need to create a _____ system of education. Education should be _____ through the mother tongue and through English language as well. _____ in one's mother language is very important. It _____ a feeling of love and respect for his mother language. A person would be _____ of his own cultural richness if he is unable to read book written in his mother language.

We need to create a _____ system

Options:

- 1) turbulence
- 2) heavy
- 3) strict
- 4) balanced

Correct Answer: balanced

Candidate Answer: balanced

QID : 72 - In the following passage some of the words have been left out. Read the passage carefully and select the correct answer for the given blank out of the four alternatives.

We need to create a _____ system of education. Education should be _____ through the mother tongue and through English language as well. _____ in one's mother language is very important. It _____ a feeling of love and respect for his mother language. A person would be _____ of his own cultural richness if he is unable to read book written in his mother language.

_____ through the mother tongue

Options:

- 1) imparted
- 2) taught
- 3) Bought
- 4) brought

Correct Answer: imparted

Candidate Answer: brought

QID : 73 - In the following passage some of the words have been left out. Read the passage carefully and select the correct answer for the given blank out of the four alternatives.

We need to create a _____ system of education. Education should be _____ through the mother tongue and through English language as well. _____ in one's mother language is very important. It _____ a feeling of love and respect for his mother language. A person would be _____ of his own cultural richness if he is unable to read book written in his mother language.

_____ in one's mother language is very

Options:

- 1) Thinking
- 2) Dancing
- 3) Studying
- 4) Listening

Correct Answer: Studying

Candidate Answer: Listening

QID : 74 - In the following passage some of the words have been left out. Read the passage carefully and select the correct answer for the given blank out of the four alternatives.

We need to create a _____ system of education. Education should be _____ through the mother tongue and through English language as well. _____ in one's mother language is very important. It _____ a feeling of love and respect for his mother language. A person would be _____ of his own cultural richness if he is unable to read book written in his mother language.

It _____ a feeling of love and

Options:

- 1) originates
- 2) develops
- 3) Create
- 4) exploits

Correct Answer: develops

Candidate Answer: Create

QID : 75 - In the following passage some of the words have been left out. Read the passage carefully and select the correct answer for the given blank out of the four alternatives.

We need to create a _____ system of education. Education should be _____ through the mother tongue and through English language as well. _____ in one's mother language is very important. It _____ a feeling of love and respect for his mother language. A person would be _____ of his own cultural richness if he is unable to read book written in his mother language.

A person would be _____ of his own cultural

Options:

- 1) devoid
- 2) employed
- 3) avoid
- 4) ignored

Correct Answer: devoid

Candidate Answer: avoid

QID : 76 - Banking comes under which sector of economic growth?

बैंक सेवाएँ आर्थिक गतिविधि के किस क्षेत्र के अंतर्गत आती हैं?

Options:

- 1) Primary sector
प्राथमिक क्षेत्र
- 2) Secondary sector
द्वितीयक क्षेत्र
- 3) Tertiary sector
तृतीयक क्षेत्र
- 4) Quaternary sector
चतुर्मागात्मक क्षेत्र

Correct Answer: Tertiary sector

तृतीयक क्षेत्र

Candidate Answer: Quaternary sector

चतुर्मागात्मक क्षेत्र

QID : 77 - Which of the following economic activities comes under primary sector?

- I. Fishing
- II. Dairy
- III. Agriculture

निम्नलिखित में से कौन से आर्थिक गतिविधियाँ प्राथमिक क्षेत्र के अंतर्गत आती हैं?

- I. मत्स्यान
- II. डेरी
- III. कृषि

Options:

- 1) Only I
केवल I
- 2) Only II
केवल II
- 3) I, II and III
I, II तथा III
- 4) Both I & II
I तथा II दोनों

Correct Answer: I, II and III

I, II तथा III

Candidate Answer: I, II and III

I, II तथा III

QID : 78 - In which of the following legislation can be initiated?

निम्नलिखित में से कहाँ कानून बनाने का प्रस्ताव पेश किया जा सकता है?

Options:

- 1) Only Lok Sabha
केवल लोक सभा
- 2) Only Rajya Sabha
केवल राज्य सभा
- 3) Both Lok Sabha and Rajya Sabha
लोक सभा तथा राज्य सभा दोनों
- 4) Neither Lok Sabha nor Rajya Sabha
न तो लोक सभा न ही राज्य सभा

Correct Answer: Both Lok Sabha and Rajya Sabha

लोक सभा तथा राज्य सभा दोनों

Candidate Answer: Only Lok Sabha

केवल लोक सभा

QID : 79 - According to which fundamental right 'human trafficking' is prohibited?

किस मौलिक अधिकार के तहत 'मानव व्यापार' निषेध है?

Options:

- 1) Right to Equality
समानता का अधिकार
- 2) Right against Exploitation
शोषण के विरुद्ध अधिकार
- 3) Right to Constitutional remedies
संवैधानिक उपचार का अधिकार
- 4) Cultural and Educational Rights
सांस्कृतिक और शैक्षणिक अधिकार

Correct Answer: Right against Exploitation

शोषण के विरुद्ध अधिकार

Candidate Answer: Cultural and Educational Rights

सांस्कृतिक और शैक्षणिक अधिकार

QID : 80 - Who gave the slogan 'Do or Die'?

'करो या मरो' का नारा किसने दिया था?

Options:

- 1) Bhagat Singh
भगत सिंह
- 2) Subhash Chandra Bose
सुभाष चंद्र बोस
- 3) Jawahar Lal Nehru
जवाहर लाल नेहरू
- 4) Mahatma Gandhi
महात्मा गाँधी

Correct Answer: Mahatma Gandhi

महात्मा गाँधी

Candidate Answer: Jawahar Lal Nehru

जवाहर लाल नेहरू

QID : 81 - Who was the first Mughal Emperor in india?

भारत में प्रथम मुगल शासक कौन था?

Options:

- 1) Babur
बाबर
- 2) Balban
बलबन
- 3) Umar Shaikh
उमर शेख
- 4) Humayun
हुमायूँ

Correct Answer: Babur

बाबर

Candidate Answer: Babur

बाबर

QID : 82 - What is the approximate distance (in million km) of the Sun from the Earth?

सूर्य की पृथ्वी से लगभग दूरी (मिलियन कि.मी. में) कितनी है?

Options:

- 1) 150
- 2) 98
- 3) 128
- 4) 180

Correct Answer: 150

Candidate Answer: 98

QID : 83 - Which is the largest continent by area of Earth?

क्षेत्रफल के आधार पर पृथ्वी का सबसे बड़ा महाद्वीप कौन सा है?

Options:

1) Australia

ऑस्ट्रेलिया

2) Asia

एशिया

3) North America

उत्तर अमेरिका

4) Africa

अफ्रीका

Correct Answer: Asia

एशिया

Candidate Answer: Asia

एशिया

QID : 84 - Roots absorb water and ____ from the soil.

जड़ें मिट्टी से जल तथा ____ का अवशोषण करती हैं?

Options:

1) Minerals

खनिज

2) Proteins

प्रोटीन

3) Carbohydrate

कार्बोहाइड्रेट

4) Fat

वसा

Correct Answer: Minerals

खनिज

Candidate Answer: Minerals

खनिज

QID : 85 - Which body part of fishes helps them to change directions and keep their body balance in water?

मछलियों के शरीर का कौन सा भाग उन्हें जल के अंदर दिशा परिवर्तन एवं संतुलन बनाए रखने में सहायता करते हैं?

Options:

1) Fins and tails

पंख तथा पूँछ

2) Fins and scale

पंख तथा शल्क

3) Tails and scale

पूँछ तथा शल्क

4) Gills and fins

गिल तथा पंख

Correct Answer: Fins and tails

पंख तथा पूँछ

Candidate Answer: Tails and scale

पूँछ तथा शल्क

QID : 86 - Which disease is caused by deficiency of vitamin C?

विटामिन सी की कमी के कारण कौन सी बीमारी होती है?

Options:

1) Pellagra

पेलाग्रा

2) Anemia

एनीमिया

3) Scurvy

स्कर्वी

4) Night blindness

रतौंधी

Correct Answer: Scurvy

स्कर्वी

Candidate Answer: Scurvy

स्कर्वी

QID : 87 - Which mirror has a very wide field of view?

दृश्य का एक अतिव्यापक क्षेत्र किस दर्पण से अवलोकित होता है?

Options:

1) Concave

अवतल

2) Convex

उत्तल

3) Plane

समतल

4) None of these

इनमें से कोई नहीं

Correct Answer: Convex

उत्तल

Candidate Answer: Plane

समतल

QID : 88 - What is the unit of conductance?

प्रवाहकत्व का इकाई क्या है?

Options:

1) ohm⁻¹

ओम⁻¹

2) ohmmeter

ओममीटर

3) rho

रो

4) ampere

एम्पियर

Correct Answer: rho

रो

Candidate Answer: ohm⁻¹

ओम⁻¹

QID : 89 - In computers the data is stored in which forms?

कंप्यूटर में डाटा किस रूप में संगृहीत होता है?

Options:

1) Octal

ऑक्टल

2) Hexadecimal

हेक्साडेसीमल

3) Binary

बाइनरी

4) Decimal

डेसीमल

Correct Answer: Binary

बाइनरी

Candidate Answer: Hexadecimal

हेक्साडेसीमल

QID : 90 - Which is the most abundant metal in the earth's crust?

पृथ्वी की क्रस्ट में सबसे प्रचुर मात्रा में धातु कौन सी है?

Options:

1) Iron

लोहा

2) Silver

चाँदी

3) Aluminium

एल्युमिनियम

4) Copper

ताँबा

Correct Answer: Aluminium

एल्युमिनियम

Candidate Answer: Aluminium

एल्युमिनियम

QID : 91 - Which metal melts in the palm?

कौन सा धातु हथेली में पिघल जाता है?

Options:

1) Potassium

पोटेशियम

2) Sodium

सोडियम

3) Magnesium

मैग्नीशियम

4) Aluminium

एल्युमिनियम

Correct Answer: Sodium

सोडियम

Candidate Answer: Potassium

पोटेशियम

QID : 92 - Nitrates, Phosphates, metals are examples of which type of impurities in sewage?

नाइट्रेट, फॉस्फेट, धातुएँ आदि वाहित मल में किस प्रकार की अशुद्धियों के उदाहरण हैं?

Options:

1) Organic

कार्बनिक

2) Inorganic

अकार्बनिक

3) Nutrients

पोषक तत्व

4) None of these

उपरोक्त में से कोई नहीं

Correct Answer: Inorganic

अकार्बनिक

Candidate Answer: Organic

कार्बनिक

QID : 93 - What is Pradhan Mantri Jeevan Jyoti Bima Yojana?

प्रधानमंत्री जीवन ज्योति बीमा योजना क्या है?

Options:

1) A health insurance scheme

एक स्वास्थ्य बीमा योजना

2) A financial inclusion scheme

एक वित्तीय समावेश योजना

3) A life insurance scheme

एक जीवन बीमा योजना

4) A accident insurance scheme

एक दुर्घटना बीमा योजना

Correct Answer: A life insurance scheme

एक जीवन बीमा योजना

Candidate Answer: A financial inclusion scheme

एक वित्तीय समावेश योजना

QID : 94 - Who among the following invented Electric Motor?

निम्न में से किसने इलेक्ट्रिक मोटर का आविष्कार किया?

Options:

1) Euclid

यूक्लिड

2) Sir Chandrasekhara Venkata Raman

सर चन्द्रशेखर वेंकटरमन

3) Michael Faraday

माइकल फैराडे

4) John Dalton

जॉन डाल्टन

Correct Answer: Michael Faraday

माइकल फैराडे

Candidate Answer: Euclid

यूक्लिड

QID : 95 - Who won the 2017 Men's Single Wimbledon Championship?

2017 पुरुषों की एकल विंबल्डन चैंपियनशिप किसने जीती थी?

Options:

- 1) Roger Federer
रोजर फ़ेडरर
- 2) Andy Murray
एंडी मरे
- 3) Novak Djokovic
नोवाक जोकोविच
- 4) Rafael Nadal
राफ़ेल नडाल

Correct Answer: Roger Federer

रोजर फ़ेडरर

Candidate Answer: Rafael Nadal

राफ़ेल नडाल

QID : 96 - Hornbill Festival' which is also called 'Festivals of Festivals' is celebrated in which state?

हॉर्नबिल फेस्टिवल' जिसे 'त्योहारों के त्योहार' भी कहा जाता है, किस राज्य में मनाया जाता है?

Options:

- 1) Bihar
बिहार
- 2) Nagaland
नागालैंड
- 3) Kerala
केरल
- 4) Karnataka
कर्नाटक

Correct Answer: Nagaland

नागालैंड

Candidate Answer: Nagaland

नागालैंड

QID : 97 - Who won the Man Booker International Prize 2017?

2017 मैन बुकर इंटरनेशनल प्राइज किसने जीता है?

Options:

- 1) David Grossman
डेविड ग्रॉसमैन
- 2) Arundhati Roy
अरुंधति राय
- 3) Arvind Adiga
अरविंद आदिगा
- 4) Ruskin Bond
रस्किन बॉन्ड

Correct Answer: David Grossman

डेविड ग्रॉसमैन

Candidate Answer: Ruskin Bond

रस्किन बॉन्ड

QID : 98 - Who is the author of the book named 'Indian Parliamentary Diplomacy'?

'इंडियन पार्लियामेंट्री डिप्लोमेसी' नामक पुस्तक के लेखक/लेखिका कौन हैं?

Options:

- 1) Meira Kumar
मीरा कुमार
- 2) L.K. Advani
लाल कृष्ण आडवाणी
- 3) Andy Marino
एंडी मैरिनो
- 4) Mamata Banerjee
ममता बनर्जी

Correct Answer: Meira Kumar

मीरा कुमार

Candidate Answer: Andy Marino

एंडी मैरिनो

QID : 99 - What is the name of joint bi-annual military exercise conducted by India and Russia?

भारत और रूस द्वारा संचालित संयुक्त द्वि-वार्षिक सैन्य अभ्यास का नाम क्या है?

Options:

1) VAJRA

वज्र

2) INDRA

इंद्र

3) CHAKRA

चक्र

4) DHANUSH

धनुष

Correct Answer: INDRA

इंद्र

Candidate Answer: VAJRA

वज्र

QID : 100 - What is the economic bedrock of the India-Bhutan relationship?

भारत-भूटान संबंधों का आर्थिक आधार क्या है?

Options:

1) Hydro-electric Power Generation

पन-बिजली उत्पादन

2) Parliamentary Traditions

संसदीय परंपराएं

3) Fertilizers, Pesticides and Plastics

उर्वरक, कीटनाशक और प्लास्टिक

4) Cement Industries

सीमेंट उद्योग

Correct Answer: Hydro-electric Power Generation

पन-बिजली उत्पादन

Candidate Answer: Parliamentary Traditions

संसदीय परंपराएं