

**QID : 1 -**

In the following question, select the number which can be placed at the sign of question mark (?) from the given alternatives.

निम्नलिखित प्रश्न में दिए गए विकल्पों में से प्रश्न चिह्न (?) के स्थान पर आने वाली संख्या को चुनिए।

6	1	4	10
4	2	3	11
5	3	4	?

**Options:**

1) 17

2) 19

3) 21

4) 23

**Correct Answer:** 19

**Candidate Answer:** 19

**QID : 2 -**

How many triangles are there in the given figure?

दी गई आकृति में कितने त्रिभुज हैं?



**Options:**

1) 8

2) 12

3) 14

4) 16

**Correct Answer:** 16

**Candidate Answer:** 14

QID : 3 -

A word is represented by only one set of numbers as given in any one of the alternatives. The sets of numbers given in the alternatives are represented by two classes of alphabets as shown in the given two matrices. The columns and rows of **Matrix-I** are numbered from 0 to 4 and that of **Matrix-II** are numbered from 5 to 9. A letter from these matrices can be represented first by its row and next by its column, for example, 'Q' can be represented by 23, 59, etc., and 'V' can be represented by 30, 66, etc. Similarly, you have to identify the set for the word "FAST".

एक शब्द केवल एक संख्या-समूह द्वारा दर्शाया गया है, जैसा कि विकल्पों में से किसी एक में दिया गया है। विकल्पों में दिए गए संख्या-समूह अक्षरों के दो वर्गों द्वारा दर्शाए गए हैं, जैसा कि दिए गए दो आव्यूहों में है। **आव्यूह-I** के स्तम्भ और पंक्ति की संख्या 0 से 4 है और **आव्यूह-II** की 5 से 9। इन आव्यूहों से एक अक्षर को पहले उसकी पंक्ति और बाद में स्तम्भ संख्या द्वारा दर्शाया जा सकता है। उदाहरण के लिए 'Q' को 23, 59, आदि द्वारा दर्शाया जा सकता है तथा 'V' को 30, 66, आदि द्वारा दर्शाया जा सकता है। इसी तरह से आपको प्रश्न में दिए शब्द "FAST" के लिए समूह को पहचानना है।

Matrix-I आव्यूह-I					Matrix-II आव्यूह-II						
	0	1	2	3	4		5	6	7	8	9
0	B	M	U	A	F	5	D	N	X	G	Q
1	H	E	O	W	D	6	L	V	E	O	Y
2	P	J	G	Q	Y	7	S	T	C	M	W
3	V	R	L	I	S	8	H	R	B	K	U
4	Z	X	T	N	K	9	F	P	A	I	S

Options:

- 1) 04, 03, 77, 76
- 2) 95, 97, 99, 24
- 3) 04, 97, 34, 42
- 4) 95, 03, 97, 40

Correct Answer: 04, 97, 34, 42

Candidate Answer: [ NOT ANSWERED ]

QID : 4 -

From the given answer figures, select the one in which the question figure is hidden/embedded.

दी गई उत्तर आकृतियों में से उस उत्तर आकृति को चुनिए जिस में प्रश्न आकृति निहित है।



Options:

1)




2)




3)




4)



Correct Answer:



Candidate Answer:



QID : 5 -

Which answer figure will complete the pattern in the question figure?

कौन सी उत्तर आकृति प्रश्न आकृति के प्रतिरूप को पूरा करेगी?



Options:

1)



2)



3)



4)



Correct Answer:



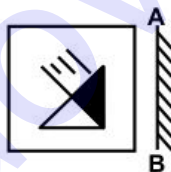
Candidate Answer:



QID : 6 -

If a mirror is placed on the line AB, then which of the answer figures is the right image of the given figure?

यदि एक दर्पण को AB रेखा पर रखा जाए, तो दी गई उत्तर आकृतियों में से कौन सी आकृति प्रश्न आकृति की सही प्रतिबिम्ब होगी?



Options:

1)



2)



3)



4)



Correct Answer:



Candidate Answer:



QID : 7 -

A piece of paper is folded and punched as shown below in the question figures. From the given answer figures, indicate how it will appear when opened?

नीचे के प्रश्न आकृतियों में दिखाए अनुसार कागज को मोड़कर छेदने तथा खोलने के बाद वह किस उत्तर आकृति जैसा दिखाई देगा?

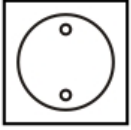


Options:

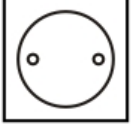
1)



2)



3)



4)



Correct Answer:



Candidate Answer: [ NOT ANSWERED ]

QID : 8 - If 'x' means '+', '÷' means '-', '-' means 'x' and '+' means '÷', then  $48 + 16 - 4 \times 2 = ?$

यदि 'x' का अर्थ '+', '÷' का अर्थ '-', '-' का अर्थ 'x' तथा '+' का अर्थ '÷' हो, तो  $48 + 16 - 4 \times 2 = ?$

Options:

1) 14

2) 20

3) 16

4) 23

Correct Answer: 14

Candidate Answer: 14

QID : 9 - If  $4 \times 1 \times 3 \times 2 = 24$  and  $6 \times 2 \times 1 \times 0 = 0$ , then  $9 \times 2 \times 1 \times 3 = ?$

यदि  $4 \times 1 \times 3 \times 2 = 24$  तथा  $6 \times 2 \times 1 \times 0 = 0$  हो, तो  $9 \times 2 \times 1 \times 3 = ?$

Options:

1) 6

2) 44

3) 50

4) 54

Correct Answer: 54

Candidate Answer: 54

QID : 10 - Arrange the given words in the sequence in which they occur in the dictionary.

1. Crown
2. Custom
3. Cable
4. Cupid
5. Creep

निम्नलिखित शब्दों को शब्दकोश में आने वाले क्रम के अनुसार लिखें।

1. Crown
2. Custom
3. Cable
4. Cupid
5. Creep

Options:

- 1) 32154
- 2) 31524
- 3) 35142
- 4) 31254

Correct Answer: 35142

Candidate Answer: 35142

QID : 11 - In the following question, select the missing number from the given alternatives.

13, 17, 30, 47, 77, 124, ?

निम्नलिखित प्रश्न में दिए गए विकल्पों में से लुप्त अंक ज्ञात कीजिए।

13, 17, 30, 47, 77, 124, ?

Options:

- 1) 205
- 2) 201
- 3) 209
- 4) 211

Correct Answer: 201

Candidate Answer: 201

QID : 12 - In the following question, which one set of letters when sequentially placed at the gaps in the given letter series shall complete it?

p \_ r s p q \_ s p \_ r \_ p q r s

निम्नलिखित प्रश्न में अक्षरों का कौन सा समूह खाली स्थानों पर क्रमवार रखने से दी गई अक्षर श्रृंखला को पूरा करेगा?

p \_ r s p q \_ s p \_ r \_ p q r s

Options:

- 1) rsqs
- 2) rqrq
- 3) qsqs
- 4) qrqs

Correct Answer: qrqs

Candidate Answer: qrqs

QID : 13 - In the following question, select the odd word pair from the given alternatives.

निम्नलिखित प्रश्न में दिए गए विकल्पों में से विषम शब्द युग्म को चुनिए।

Options:

- 1) Sun : Star  
सूर्य : तारा
- 2) Moon : Star  
चंद्रमा : तारा
- 3) Earth : Planet  
पृथ्वी : ग्रह
- 4) Mercury : Planet  
बुध : ग्रह

Correct Answer: Moon : Star

चंद्रमा : तारा

Candidate Answer: Sun : Star

सूर्य : तारा

QID : 14 - In the following question, select the odd number pair from the given alternatives.

निम्नलिखित प्रश्न में दिए गए विकल्पों में से विषम संख्या युग्म को चुनिए।

Options:

- 1) 11 : 13
- 2) 29 : 31
- 3) 37 : 43
- 4) 67 : 71

Correct Answer: 37 : 43

Candidate Answer: 11 : 13

QID : 15 - In the following question, select the odd letters from the given alternatives.

निम्नलिखित प्रश्न में दिए गए विकल्पों में से विषम अक्षरों को चुनिए।

Options:

- 1) EG
- 2) OQ
- 3) IK
- 4) AD

Correct Answer: AD

Candidate Answer: AD

QID : 16 - Identify the diagram that best represents the relationship among the given classes.

School, Principal, Teacher

वह आरेख चुनिए जो नीचे दिए गए वर्गों के बीच के संबंध का सही निरूपण करता है।

विद्यालय, प्रधानाचार्य, अध्यापक

Options:

1)




2)



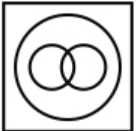
3)



4)



Correct Answer:



Candidate Answer:



QID : 17 - In the following question, select the related word from the given alternatives.

Gloves : Hand :: Cap : ?

निम्नलिखित प्रश्न में दिए गए विकल्पों में से संबंधित शब्द को चुनिए।

दस्ताने : हाथ :: टोपी : ?

Options:

- 1) Head  
सिर
- 2) Arm  
भुजा
- 3) Summer  
शीष्म
- 4) Cotton  
कपास

Correct Answer: Head

सिर

Candidate Answer: Head

सिर



**QID : 18** - In the following question, select the related number from the given alternatives.

**118 : 129 :: 141 : ?**

निम्नलिखित प्रश्न में दिए गए विकल्पों में से संबंधित संख्या को चुनिए।

**118 : 129 :: 141 : ?**

**Options:**

- 1) 152
- 2) 163
- 3) 126
- 4) 84

**Correct Answer:** 152

**Candidate Answer:** 152

**QID : 19** - In the following question, select the related letters from the given alternatives.

**LNJ : MPM :: SAC : ?**

निम्नलिखित प्रश्न में दिए गए विकल्पों में से संबंधित अक्षरों को चुनिए।

**LNJ : MPM :: SAC : ?**

**Options:**

- 1) TCF
- 2) TDF
- 3) UDE
- 4) UCE

**Correct Answer:** TCF

**Candidate Answer:** TCF

**QID : 20** - In the following question, select the word which cannot be formed using the letters of the given word.

**DETERMINES**

निम्नलिखित विकल्पों में से वह शब्द चुनिए जो दिए गए शब्द के अक्षरों का प्रयोग करके नहीं बनाया जा सकता।

**DETERMINES**

**Options:**

- 1) MINE
- 2) RINGS
- 3) DIME
- 4) RENTS

**Correct Answer:** RINGS

**Candidate Answer:** RINGS

**QID : 21** - In a row of plants, green plant is 21st from both the ends. How many total plants are there in the row?

पौधों की एक पंक्ति में, हरा पौधा दोनों छोरों से 21 वाँ है। पंक्ति में कुल कितने पौधे हैं?

**Options:**

- 1) 41
- 2) 42
- 3) 43
- 4) 40

**Correct Answer:** 41

**Candidate Answer:** 41

**QID : 22** - Present age of N is 32 years. 8 years ago ratio of ages of N and P was 3 : 2. What will be P's age (in years) after 5 years?

N की वर्तमान आयु 32 वर्ष है। 8 वर्ष पूर्व N तथा P की आयु का अनुपात 3 : 2 था। 5 वर्ष पश्चात P की आयु (वर्षों में) क्या होगी?

**Options:**

- 1) 34
- 2) 24
- 3) 29
- 4) 39

**Correct Answer:** 29

Candidate Answer: [ NOT ANSWERED ]

**QID : 23** - In the following question below are given some statements followed by some conclusions. Taking the given statements to be true even if they seem to be at variance from commonly known facts, read all the conclusions and then decide which of the given conclusion logically follows the given statements.

**Statements:**

- I. Some cups are chairs.
- II. All chairs are tables.

**Conclusions:**

- I. Some tables are cups.
- II. Some chairs are tables.

नीचे दिए गए प्रश्न में कुछ कथन और उनके बाद उन कथनों पर आधारित कुछ निष्कर्ष दिए गए हैं, हालांकि उनमें सामान्य ज्ञात तथ्यों से भिन्नता हो सकती है। सभी निष्कर्ष पढ़ें और फिर निर्धारित करें कि दिए गए कौन से निष्कर्ष, दिए गए कथनों के आधार पर युक्तिसंगत हैं।

**कथन:**

- I. कुछ कप कुर्सियाँ हैं।
- II. सभी कुर्सियाँ मेज़ हैं।

**निष्कर्ष:**

- I. कुछ मेज़ कप हैं।
- II. कुछ कुर्सियाँ मेज़ हैं।

**Options:**

- 1) Only conclusion (I) follows.  
केवल निष्कर्ष (I) सही है।
- 2) Only conclusion (II) follows.  
केवल निष्कर्ष (II) सही है।
- 3) Both conclusion follow.  
दोनों ही निष्कर्ष सही हैं।
- 4) Neither conclusion (I) nor conclusion (II) follows.  
न तो निष्कर्ष (I) न ही निष्कर्ष (II) सही है।

**Correct Answer:** Both conclusion follow.

दोनों ही निष्कर्ष सही हैं।

**Candidate Answer:** Only conclusion (II) follows.

केवल निष्कर्ष (II) सही है।

**QID : 24** - In a certain code language, "CLOVE" is written as "DNRZJ". How is "FRUIT" written in that code language?

एक विशिष्ट कोड भाषा में, "CLOVE" को "DNRZJ" लिखा जाता है। इस कोड भाषा में "FRUIT" को किस प्रकार लिखा जाएगा?

**Options:**

- 1) GTXMY
- 2) GTYMZ
- 3) GUXMY
- 4) GUXNY

**Correct Answer:** GTXMY

**Candidate Answer:** GTXMY

**QID : 25** - In a certain code language, "SAM" is written as "13119" and "NIP" is written as "16914". How is "PEN" written in that code language?

एक विशिष्ट कोड भाषा में, "SAM" को "13119" तथा "NIP" को "16914" लिखा जाता है। इस कोड भाषा में "PEN" को किस प्रकार लिखा जाएगा?

**Options:**

- 1) 16514
- 2) 14516
- 3) 14156
- 4) 17551

**Correct Answer:** 14516

**Candidate Answer:** 14516

**QID : 26** - What is the unit digit of  $729 \times 562 + 155$ ?

729 x 562 + 155 का इकाई अंक क्या है?

**Options:**

- 1) 3
- 2) 2
- 3) 4
- 4) 6

**Correct Answer:** 3

**Candidate Answer:** 4

QID : 27 -

If  $108^2 = 11664$ , then what is the value of

$$\sqrt{1.1664} + \sqrt{116.64} ?$$

यदि  $108^2 = 11664$  है, तो  $\sqrt{1.1664} + \sqrt{116.64}$  का

मान क्या है?

Options:

1) 10.88

2) 11.08

3) 11.88

4) 10.08

Correct Answer: 11.88

Candidate Answer: [ NOT ANSWERED ]

QID : 28 -

What is the value of  $\sqrt{15 + 6\sqrt{6}}$  ?

$$\sqrt{15 + 6\sqrt{6}} \text{ का मान क्या है?}$$

Options:

1)  $5 + 3\sqrt{6}$

2)  $5 - 3\sqrt{6}$

3)  $3 + \sqrt{6}$

4)  $3 - \sqrt{6}$

Correct Answer:  $3 + \sqrt{6}$

Candidate Answer: [ NOT ANSWERED ]

QID : 29 - Which one is the largest fraction among  $5/7$ ,  $7/9$  and  $11/13$ ?

$5/7$ ,  $7/9$  तथा  $11/13$  में से सबसे बड़ा भिन्न कौन सा है?

Options:

1)  $5/7$

2)  $7/9$

3)  $11/13$

4) All are equal

सभी बराबर हैं

Correct Answer:  $11/13$

Candidate Answer: [ NOT ANSWERED ]

QID : 30 - What is the Highest Common Factor of 24, 40 and 120?

24, 40 तथा 120 का महत्तम समापवर्तक क्या है?

Options:

1) 8

2) 4

3) 12

4) 40

Correct Answer: 8

Candidate Answer: 4

QID : 31 - If  $N = (\sqrt{8} + \sqrt{5})/(\sqrt{8} - \sqrt{5})$ , then what is the simplified value of  $1/N$ ?

यदि  $N = (\sqrt{8} + \sqrt{5})/(\sqrt{8} - \sqrt{5})$  है, तो  $1/N$  का सरलीकृत मान क्या है?

Options:

1)  $13 - 2\sqrt{40}$

2)  $(13 - 2\sqrt{40})/30$

3)  $(13 - 2\sqrt{40})/3$

4)  $(3 - 2\sqrt{40})/3$

Correct Answer:  $(13 - 2\sqrt{40})/3$

Candidate Answer: [ NOT ANSWERED ]

## Download More Papers From GovtJobsAlert.In

**QID : 32** - X and Y together complete a piece of work in 15 days. Y alone can complete the same work in 25 days. They took Rs. 5600 to complete the work together. What will be the share (in Rs) of X?

X तथा Y मिलकर किसी कार्य को 15 दिन में पूरा करते हैं। Y अकेला उस कार्य को 25 दिन में पूरा कर सकता है। उन्होंने उस कार्य को साथ मिलकर पूरा करने के लिए 5600 रु लिये। X का हिस्सा (रु में) कितना होगा?

**Options:**

- 1) 4000
- 2) 2100
- 3) 2800
- 4) 2240

**Correct Answer:** 2240

**Candidate Answer:** 2800

**QID : 33** - A, B and C can complete a piece of work in 5, 10 and 15 days respectively. A, B and C took Rs. 8800 to complete the same work together. What will be the share (in Rs) of B?

A, B तथा C किसी कार्य को क्रमशः 5, 10 तथा 15 दिनों में पूरा कर सकते हैं। A, B तथा C ने साथ मिलकर उस कार्य को पूरा करने के लिए 8800 रु लिये। B का हिस्सा (रु में) कितना होगा?

**Options:**

- 1) 3200
- 2) 2800
- 3) 2400
- 4) 1600

**Correct Answer:** 2400

**Candidate Answer:** 2800

**QID : 34** - If the side of a cube is 12 cm, then what is the volume (in  $\text{cm}^3$ ) of the cube?

यदि एक घन की भुजा 12 से.मी. है, तो घन का आयतन (से.मी.<sup>3</sup> में) क्या है?

**Options:**

- 1) 144
- 2) 1728
- 3) 864
- 4) 432

**Correct Answer:** 1728

**Candidate Answer:** [ NOT ANSWERED ]

**QID : 35** - After giving a discount of 25% on an article, there is still a profit of 25%. If no discount is given, then what will be the profit percentage?

एक वस्तु पर 25% की छूट देने के पश्चात भी 25% का लाभ होता है। यदि कोई छूट न दी जाए, तो लाभ प्रतिशत क्या होगा?

**Options:**

- 1) 62.5%
- 2) 33.33%
- 3) 50%
- 4) 66.66%

**Correct Answer:** 66.66%

**Candidate Answer:** 50%

**QID : 36** - Two successive discounts of 40% and 30% are given. What will be the net discount (in percentage)?

40% तथा 30% की दो क्रमिक छूट दी जाती है। निवल (नेट) छूट (प्रतिशत में) क्या होगी?

**Options:**

- 1) 58
- 2) 70
- 3) 66
- 4) 62

**Correct Answer:** 58

**Candidate Answer:** [ NOT ANSWERED ]

**QID : 37** - 500 litres of milk solution has 40% milk in it. How much more milk should be added to make it 60% in the solution?

500 लीटर के दूध के घोल में 40% दूध है। कितना और दूध मिला दिया जाये ताकि इस घोल में दूध की मात्रा 60% बन जाए?

**Options:**

- 1) 250
- 2) 100
- 3) 150
- 4) 200

**Correct Answer:** 250

**Candidate Answer:** 250

**QID : 38** - In a school, the ratio of boys and girls is 4 : 7 and the ratio of girls and teachers is 13 : 2. What is the respective ratio of students and teachers?

एक विद्यालय में लड़के और लड़कियों का अनुपात 4 : 7 है तथा लड़कियों तथा अध्यापकों का अनुपात 13 : 2 है। छात्रों तथा अध्यापकों का क्रमशः अनुपात क्या है?

**Options:**

- 1) 21 : 4
- 2) 143 : 14
- 3) 133 : 15
- 4) 31 : 5

**Correct Answer:** 143 : 14

**Candidate Answer:** [ NOT ANSWERED ]

**QID : 39** - Average of 39, 51, 86, 77, 43, 92 and y is 65. What is the value of y?

39, 51, 86, 77, 43, 92 तथा y का औसत 65 है। y का मान क्या है?

**Options:**

- 1) 73
- 2) 71
- 3) 67
- 4) 63

**Correct Answer:** 67

**Candidate Answer:** [ NOT ANSWERED ]

**QID : 40** - If the ratio of selling price and cost price is 4 : 5 respectively, then what is the loss percentage?

यदि विक्रय मूल्य तथा लागत मूल्य का क्रमशः अनुपात 4 : 5 है, तो हानि प्रतिशत क्या है?

**Options:**

- 1) 10
- 2) 16.66
- 3) 12.5
- 4) 20

**Correct Answer:** 20

**Candidate Answer:** [ NOT ANSWERED ]

**QID : 41** - An article is sold at 20% loss. If the selling price is increased by 40%, then what is the profit percentage?

एक वस्तु को 20% की हानि पर बेचा जाता है। यदि विक्रय मूल्य को 40% से बढ़ाया जाता है, तो लाभ प्रतिशत क्या है?

**Options:**

- 1) 12
- 2) 20
- 3) 18
- 4) 32

**Correct Answer:** 12

**Candidate Answer:** 12

**QID : 42** - What is the value of 25% of 40% of 4800?

4800 के 40% का 25% का मान क्या है?

**Options:**

- 1) 436
- 2) 360
- 3) 480
- 4) 320

**Correct Answer:** 480

**Candidate Answer:** [ NOT ANSWERED ]

**QID : 43** - 16% of which number is equal to 20% of 480?

किस संख्या का 16%, 480 के 20% के बराबर है?

**Options:**

- 1) 520
- 2) 680
- 3) 600
- 4) 720

**Correct Answer:** 600

Candidate Answer: [ NOT ANSWERED ]

**QID : 44** - A train crosses a platform in 40 seconds travelling with a speed of 54 km/hr. If the length of the train be 150 metres, then what will the length (in metres) of the platform?

एक रेलगाड़ी 54 कि.मी./घंटा की गति से चलते हुए एक प्लेटफॉर्म को 40 सेकण्ड में पार कर लेती है। यदि रेलगाड़ी की लम्बाई 150 मीटर लम्बी है, तो प्लेटफॉर्म की लम्बाई (मीटर में) क्या होगी?

**Options:**

- 1) 300
- 2) 450
- 3) 500
- 4) 550

**Correct Answer:** 450

Candidate Answer: [ NOT ANSWERED ]

**QID : 45** - Speed of a boat is 10 km/hr in still water and the speed of the stream is 2 km/hr. If the boat takes 10 hours to go to a place and come back, then what is the distance (in km) of the place?

शांत जल में नाव की गति 10 कि.मी./घंटा है तथा धारा की गति 2 कि.मी./घंटा है। यदि नाव 10 घंटे में किसी दूरी तक जाकर वापस आ जाती है, तो दूरी (कि.मी. में) कितनी है?

**Options:**

- 1) 36
- 2) 42
- 3) 48
- 4) 60

**Correct Answer:** 48

Candidate Answer: 48

**QID : 46** - A certain amount triples in 8 years, when invested at simple interest. In how many years will it become 17 times?

एक निश्चित राशि साधारण ब्याज पर निवेश करने पर 8 वर्ष में तिगुनी हो जाती है। वह कितने वर्षों में 17 गुना हो जाएगी?

**Options:**

- 1) 56
- 2) 64
- 3) 51
- 4) 75

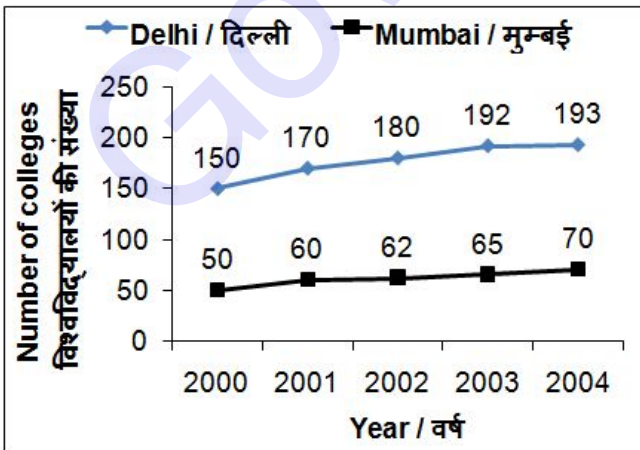
**Correct Answer:** 64

Candidate Answer: 51

**QID : 47** -

The line chart given below shows the number of engineering colleges in Delhi and Mumbai for given 5 years?

नीचे दिए गए रेखा चित्र में दिल्ली तथा मुम्बई में इंजीनियरिंग विश्वविद्यालयों की संख्या को दर्शाया गया है।



In year 2000, number of engineering colleges in Delhi is how much percent more than number of engineering colleges in Mumbai?

वर्ष 2000 में, दिल्ली के इंजीनियरिंग विश्वविद्यालयों की संख्या मुम्बई के इंजीनियरिंग विश्वविद्यालयों की संख्या से कितना प्रतिशत अधिक है?

Options:

- 1) 300
- 2) 200
- 3) 100
- 4) 66

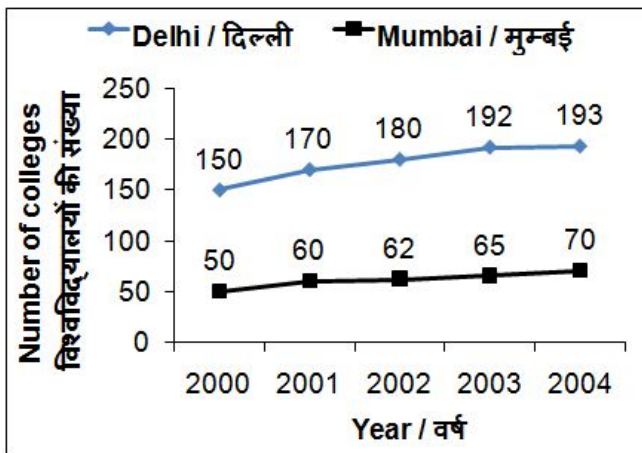
Correct Answer: 200

Candidate Answer: [ NOT ANSWERED ]

QID : 48 -

The line chart given below shows the number of engineering colleges in Delhi and Mumbai for given 5 years?

नीचे दिए गए रेखा चित्र में दिल्ली तथा मुम्बई में इंजीनियरिंग विश्वविद्यालयों की संख्या को दर्शाया गया है।



What is the total number of engineering colleges in Mumbai from year 2000 to 2004?

वर्ष 2000 से वर्ष 2004 तक मुम्बई के इंजीनियरिंग विश्वविद्यालयों की कुल संख्या कितनी है?

Options:

- 1) 311
- 2) 319
- 3) 288
- 4) 307

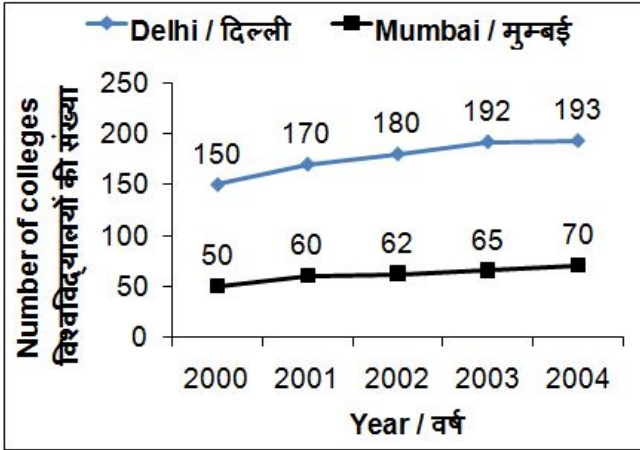
Correct Answer: 307

Candidate Answer: [ NOT ANSWERED ]

QID : 49 -

The line chart given below shows the number of engineering colleges in Delhi and Mumbai for given 5 years?

नीचे दिए गए रेखा चित्र में दिल्ली तथा मुम्बई में इंजीनियरिंग विश्वविद्यालयों की संख्या को दर्शाया गया है।



What is the average number of engineering colleges in Delhi for given 5 years?

दिए गए 5 वर्षों के लिए दिल्ली में इंजीनियरिंग विश्वविद्यालयों की औसत संख्या क्या है?

Options:

- 1) 173
- 2) 178
- 3) 177
- 4) 181

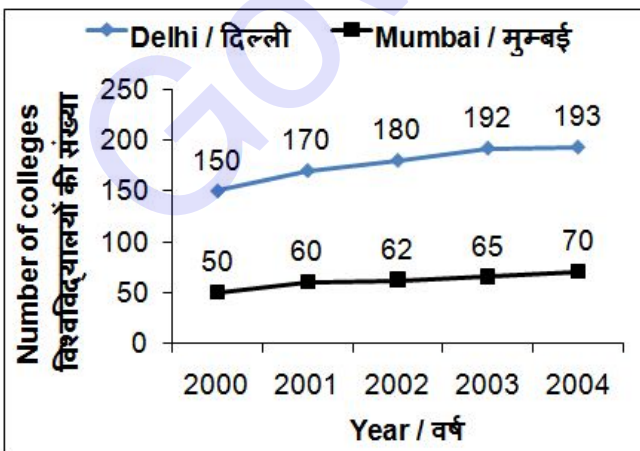
Correct Answer: 177

Candidate Answer: [ NOT ANSWERED ]

QID : 50 -

The line chart given below shows the number of engineering colleges in Delhi and Mumbai for given 5 years?

नीचे दिए गए रेखा चित्र में दिल्ली तथा मुम्बई में इंजीनियरिंग विश्वविद्यालयों की संख्या को दर्शाया गया है।



In Delhi, number of engineering colleges in year 2002 is what percent of number engineering colleges in year 2000?

दिल्ली में, वर्ष 2002 में इंजीनियरिंग विश्वविद्यालयों की संख्या वर्ष 2000 में इंजीनियरिंग विश्वविद्यालयों की संख्या का कितना प्रतिशत है?



**Options:**

- 1) 120
- 2) 130
- 3) 125
- 4) 150

**Correct Answer:** 120

**Candidate Answer:** [ NOT ANSWERED ]

**QID : 51** - In the following question, some part of the sentence may have errors. Find out which part of the sentence has an error and select the appropriate option. If a sentence is free from error, select 'No Error'.

Here is which (1)/ you can expect in (2)/ your paper. (3)/ No Error (4)

**Options:**

- 1) 1
- 2) 2
- 3) 3
- 4) 4

**Correct Answer:** 1

**Candidate Answer:** [ NOT ANSWERED ]

**QID : 52** - In the following question, some part of the sentence may have errors. Find out which part of the sentence has an error and select the appropriate option. If a sentence is free from error, select 'No Error'.

A fresh mind go a (1)/ long way in helping (2)/you perform at your peak. (3)/ No Error (4)

**Options:**

- 1) 1
- 2) 2
- 3) 3
- 4) 4

**Correct Answer:** 1

**Candidate Answer:** [ NOT ANSWERED ]

**QID : 53** - In the following question, the sentence given with blank to be filled in with an appropriate word. Select the correct alternative out of the four and indicate it by selecting the appropriate option.

**The First world war broke \_\_\_\_\_ in 1914.**

**Options:**

- 1) up
- 2) out
- 3) away
- 4) off

**Correct Answer:** out

**Candidate Answer:** up

**QID : 54** - In the following question, the sentence given with blank to be filled in with an appropriate word. Select the correct alternative out of the four and indicate it by selecting the appropriate option.

**Rahul Dravid \_\_\_\_\_ a century in that match.**

**Options:**

- 1) bowled
- 2) played
- 3) scored
- 4) ran

**Correct Answer:** scored

**Candidate Answer:** played

**QID : 55** - In the following question, out of the given four alternatives, select the one which best expresses the meaning of the given word.

**Scarce**

**Options:**

- 1) Abundant
- 2) Limited
- 3) Sufficient
- 4) Plenty

**Correct Answer:** Limited

**Candidate Answer:** [ NOT ANSWERED ]

**QID : 56** - In the following question, out of the given four alternatives, select the one which best expresses the meaning of the given word.

**Obedient**

**Options:**

- 1) Rebellious
- 2) Unwilling
- 3) Selfish
- 4) Devoted

**Correct Answer:** Devoted

**Candidate Answer:** Devoted

**QID : 57** - In the following question, out of the given four alternatives, select the one which best expresses the meaning of the given word.

**Pleasant**

**Options:**

- 1) Nasty
- 2) Amusing
- 3) Unfriendly
- 4) Troubling

**Correct Answer:** Amusing

**Candidate Answer:** [ NOT ANSWERED ]

**QID : 58** - In the following question, out of the given four alternatives, select the one which is opposite in meaning of the given word.

**Proficient**

**Options:**

- 1) Clumsy
- 2) Capable
- 3) Effective
- 4) Expert

**Correct Answer:** Clumsy

**Candidate Answer:** Effective

**QID : 59** - In the following question, out of the given four alternatives, select the one which is opposite in meaning of the given word.

**Divine**

**Options:**

- 1) Beautiful
- 2) Lowly
- 3) Celestial
- 4) Heavenly

**Correct Answer:** Lowly

**Candidate Answer:** Lowly

**QID : 60** - In the following question, out of the given four alternatives, select the one which is opposite in meaning of the given word.

**Courtesy**

**Options:**

- 1) Cordiality
- 2) Rudeness
- 3) Culture
- 4) Gentleness

**Correct Answer:** Rudeness

**Candidate Answer:** [ NOT ANSWERED ]

**QID : 61** - In the following question, out of the four given alternatives, select the alternative which best expresses the meaning of the Idiom/Phrase.

**In the soup**

**Options:**

- 1) Avoiding responsibility
- 2) Making progress
- 3) In a difficult situation
- 4) Giving a chance

**Correct Answer:** In a difficult situation

**Candidate Answer:** [ NOT ANSWERED ]

**QID : 62** - In the following question, out of the four given alternatives, select the alternative which best expresses the meaning of the Idiom/Phrase.

**In the nick of time**

**Options:**

- 1) In search of something
- 2) Just in time
- 3) In a hurry
- 4) After a long period of time

**Correct Answer:** Just in time

**Candidate Answer:** [ NOT ANSWERED ]

**QID : 63** - Improve the bracketed part of the sentence.

(**Capabling**) customers to discover the best life style products.

**Options:**

- 1) Developing
- 2) Enabling
- 3) Capturing
- 4) No improvement

**Correct Answer:** Enabling

**Candidate Answer:** [ NOT ANSWERED ]

**QID : 64** - Improve the bracketed part of the sentence.

I called you, (**and**) you didn't pick the call.

**Options:**

- 1) so
- 2) for
- 3) but
- 4) No improvement

**Correct Answer:** but

**Candidate Answer:** [ NOT ANSWERED ]

**QID : 65** - In the following question, out of the four given alternatives, select the alternative which is the best substitute of the phrase.

**Search for something**

**Options:**

- 1) Retreat
- 2) Vocation
- 3) Indecision
- 4) Quest

**Correct Answer:** Quest

Candidate Answer: [ NOT ANSWERED ]

**QID : 66** - In the following question, out of the four given alternatives, select the alternative which is the best substitute of the phrase.

**Signal under martial law for people to remain indoors.**

**Options:**

- 1) Detention
- 2) Curfew
- 3) Red-Alert
- 4) Cold-war

**Correct Answer:** Curfew

Candidate Answer: [ NOT ANSWERED ]

**QID : 67** - In the following question, a word has been written in four different ways out of which only one is correctly spelt. Select the correctly spelt word.

**Options:**

- 1) Exhibit
- 2) Axhibit
- 3) Exibit
- 4) Esibit

**Correct Answer:** Exhibit

Candidate Answer: [ NOT ANSWERED ]

**QID : 68** - In the following question, a word has been written in four different ways out of which only one is correctly spelt. Select the correctly spelt word.

**Options:**

- 1) Financhal
- 2) Financial
- 3) Fianical
- 4) Fenancial

**Correct Answer:** Financial

Candidate Answer: [ NOT ANSWERED ]

**QID : 69** - Rearrange the parts of the sentence in correct order.

The companionship

**P:** is almost universally

**Q:** valued by mountaineers

**R:** provided by climbing together

**Options:**

- 1) RPQ
- 2) PQR
- 3) QRP
- 4) RQP

**Correct Answer:** RPQ

Candidate Answer: RQP

**QID : 70** - Rearrange the parts of the sentence in correct order.

Life is

**P:** a mute creature as

**Q:** as dear to

**R:** it is to a man

**Options:**

- 1) RPQ
- 2) QPR
- 3) QRP
- 4) PQR

**Correct Answer:** QPR

Candidate Answer: [ NOT ANSWERED ]

## Download More Papers From GovtJobsAlert.In

**QID : 71** - In the following passage some of the words have been left out. Read the passage carefully and select the correct answer for the given blank out of the four alternatives.

Global warming is a \_\_\_\_\_ atmospheric issue all over the world. Our earth's \_\_\_\_\_ becoming hot day by day by \_\_\_\_\_ the sun's heat and rise in the level of atmospheric carbon dioxide. The bad effects of it are increasing day by day and \_\_\_\_\_ major problems to the living of human being. It has become one of the subjects of big social issues which need social \_\_\_\_\_ to a great level.

**Global warming is a \_\_\_\_\_**

**Options:**

- 1) sweet
- 2) not
- 3) bitter
- 4) major

**Correct Answer:** major

**Candidate Answer:** bitter

**QID : 72** - In the following passage some of the words have been left out. Read the passage carefully and select the correct answer for the given blank out of the four alternatives.

Global warming is a \_\_\_\_\_ atmospheric issue all over the world. Our earth's \_\_\_\_\_ becoming hot day by day by \_\_\_\_\_ the sun's heat and rise in the level of atmospheric carbon dioxide. The bad effects of it are increasing day by day and \_\_\_\_\_ major problems to the living of human being. It has become one of the subjects of big social issues which need social \_\_\_\_\_ to a great level.

**Our earth's \_\_\_\_\_ is becoming**

**Options:**

- 1) soil
- 2) surface
- 3) globe
- 4) atmosphere

**Correct Answer:** atmosphere

**Candidate Answer:** globe

**QID : 73** - In the following passage some of the words have been left out. Read the passage carefully and select the correct answer for the given blank out of the four alternatives.

Global warming is a \_\_\_\_\_ atmospheric issue all over the world. Our earth's \_\_\_\_\_ becoming hot day by day by \_\_\_\_\_ the sun's heat and rise in the level of atmospheric carbon dioxide. The bad effects of it are increasing day by day and \_\_\_\_\_ major problems to the living of human being. It has become one of the subjects of big social issues which need social \_\_\_\_\_ to a great level.

**\_\_\_\_\_ the sun's heat**

**Options:**

- 1) trapping
- 2) crapping
- 3) scrapping
- 4) frapping

**Correct Answer:** trapping

**Candidate Answer:** scrapping

**QID : 74** - In the following passage some of the words have been left out. Read the passage carefully and select the correct answer for the given blank out of the four alternatives.

Global warming is a \_\_\_\_\_ atmospheric issue all over the world. Our earth's \_\_\_\_\_ becoming hot day by day by \_\_\_\_\_ the sun's heat and rise in the level of atmospheric carbon dioxide. The bad effects of it are increasing day by day and \_\_\_\_\_ major problems to the living of human being. It has become one of the subjects of big social issues which need social \_\_\_\_\_ to a great level.

**increasing day by day and \_\_\_\_\_ major**

**Options:**

- 1) tossing
- 2) bossing
- 3) causing
- 4) losing

**Correct Answer:** causing

**Candidate Answer:** losing

## Download More Papers From GovtJobsAlert.In

**QID : 75** - In the following passage some of the words have been left out. Read the passage carefully and select the correct answer for the given blank out of the four alternatives.

Global warming is a \_\_\_\_\_ atmospheric issue all over the world. Our earth's \_\_\_\_\_ becoming hot day by day by \_\_\_\_\_ the sun's heat and rise in the level of atmospheric carbon dioxide. The bad effects of it are increasing day by day and \_\_\_\_\_ major problems to the living of human being. It has become one of the subjects of big social issues which need social \_\_\_\_\_ to a great level.

which need social \_\_\_\_\_ to a great level.

**Options:**

- 1) awareness
- 2) miracle
- 3) marketing
- 4) boycotting

**Correct Answer:** awareness

**Candidate Answer:** [ NOT ANSWERED ]

**QID : 76** - Which among the following is a factor of production?

1. Land
2. Labour
3. Physical capital

निम्नलिखित में से कौन एक उत्पादन का कारक है?

1. भूमि
2. श्रम
3. भौतिक पूँजी

**Options:**

- 1) Only I  
केवल I
- 2) Both I & II  
I तथा II दोनों
- 3) Both II & III  
II तथा III दोनों
- 4) All I, II & III  
I, II तथा III सभी

**Correct Answer:** All I, II & III

I, II तथा III सभी

**Candidate Answer:** Both I & II

I तथा II दोनों

**QID : 77** - Which among the following comprises terms of credit?

1. Interest rate
2. Collateral
3. Documentation requirement

निम्नलिखित में से किनसे क्रेडिट के निबंधन बनते हैं?

1. ब्याज दर
2. संपाश्विक
3. दस्तावेज की आवश्यकता

**Options:**

- 1) Only I  
केवल I
- 2) Only II  
केवल II
- 3) Only III  
केवल III
- 4) All I, II & III  
I, II तथा III सभी

**Correct Answer:** All I, II & III

I, II तथा III सभी

**Candidate Answer:** Only III

केवल III

**QID : 78** - Which among the following is not an organ of Indian government?

निम्नलिखित में से कौन सा भारत सरकार का एक अंग नहीं है?

**Options:**

- 1) The legislature  
विधायिका
- 2) The Executive  
कार्यपालिका
- 3) The Judiciary  
न्यायपालिका
- 4) The Media  
मीडिया

**Correct Answer:** The Media  
मीडिया

**Candidate Answer:** The Executive  
कार्यपालिका

**QID : 79** - How many types of writs can be issued in Indian Constitution?

भारतीय संविधान में कितने प्रकार के प्रादेश जारी किये जा सकते हैं?

**Options:**

- 1) 1
- 2) 5
- 3) 7
- 4) 11

**Correct Answer:** 5

**Candidate Answer:** 7

**QID : 80** - Who among the following raised Azad Hind Fauj?

निम्नलिखित में से किसने आज़ाद हिन्द फौज की स्थापना की थी?

**Options:**

- 1) Jawahar Lal Nehru  
जवाहर लाल नेहरु
- 2) Subhash Chandra Bose  
सुभाष चंद्र बोस
- 3) Mahatma Gandhi  
महात्मा गाँधी
- 4) Lala Lajpat Rai  
लाला लाजपत राय

**Correct Answer:** Subhash Chandra Bose  
सुभाष चंद्र बोस

**Candidate Answer:** Lala Lajpat Rai  
लाला लाजपत राय

**QID : 81** - Sher Khan defeated Humanyu in 1539 and 1540 at which places respectively?

शेर खान ने हुमायूँ को 1539 तथा 1540 में क्रमशः किन दो स्थानों पर पराजित किया था?

**Options:**

- 1) Agra and Delhi  
आगरा तथा दिल्ली
- 2) Malwa and Gondwana  
मालवा तथा गोंदवाना
- 3) Chausa and Kannauj  
चौसा तथा कन्नौज
- 4) Berar and Chittor  
बेरार तथा चित्तौड़

**Correct Answer:** Chausa and Kannauj  
चौसा तथा कन्नौज

**Candidate Answer:** Berar and Chittor  
बेरार तथा चित्तौड़

**QID : 82** - 90 degrees north latitude marks what?

90 अंश उत्तरी अक्षांश क्या दर्शाती है?

**Options:**

- 1) South Pole  
दक्षिण ध्रुव
- 2) North Pole  
उत्तर ध्रुव
- 3) Equator  
विषुवत्त वृत्त
- 4) Prime Meridian  
मुख्य याम्योत्तर

**Correct Answer:** North Pole

उत्तर ध्रुव

**Candidate Answer:** Equator

विषुवत्त वृत्त

**QID : 83** - What are the gaseous layers that surround the Earth called?

गैस की परतें जो पृथ्वी को चारों ओर से घेरती हैं उन्हें क्या कहते हैं?

**Options:**

1) Lithosphere

भूमंडल

2) Atmosphere

वायुमंडल

3) Biosphere

जीवमंडल

4) Hydrosphere

जलमंडल

**Correct Answer:** Atmosphere

वायुमंडल

**Candidate Answer:** Biosphere

जीवमंडल

**QID : 84** - In mammals, oxygenated blood enters the heart at the \_\_\_\_\_.

स्तनधारियों में ऑक्सीजन युक्त रक्त \_\_\_\_\_ से हृदय में प्रवेश करता है।

**Options:**

1) Right atrium

दायाँ अलिंद

2) Left atrium

बायाँ अलिंद

3) Right ventricle

दायाँ निलय

4) Left ventricle

बायाँ निलय

**Correct Answer:** Left atrium

बायाँ अलिंद

**Candidate Answer:** [ NOT ANSWERED ]

**QID : 85** - Knee joint is \_\_\_\_\_.

घुटनों का जोड़ \_\_\_\_\_ होता है।

**Options:**

1) Pivot joint

धुरी सन्धि

2) Hinge joint

कोर सन्धि

3) Ball and socket joint

कन्दुक खल्लिका सन्धि

4) Gliding joint

विसर्पण सन्धि

**Correct Answer:** Hinge joint

कोर सन्धि

**Candidate Answer:** Ball and socket joint

कन्दुक खल्लिका सन्धि

**QID : 86** - Nephrons are connected with \_\_\_\_\_.

नेफ्रोन \_\_\_\_\_ से जुड़े होते हैं।

**Options:**

1) Respiratory system

श्वसन तंत्र

2) Nervous system

तंत्रिका तंत्र

3) Circulatory system

परिसंचरण तंत्र

4) Excretory system

उत्सर्जी तंत्र

**Correct Answer:** Excretory system

उत्सर्जी तंत्र

**Candidate Answer:** Respiratory system

श्वसन तंत्र



**QID : 87** - Sound takes some time to travel from one place to another. It will \_\_\_\_\_.

ध्वनि एक स्थान से दूसरे स्थान तक पहुँचने में कुछ समय लेती है। यह \_\_\_\_\_ है।

**Options:**

- 1) always remains constant  
हमेशा स्थिर रहेती
- 2) be maximum during summer  
गर्मी में अधिकतम होती
- 3) be maximum during winter  
सर्दी में अधिकतम होती
- 4) None of these  
इनमें से कोई नहीं

**Correct Answer:** be maximum during winter  
सर्दी में अधिकतम होती

**Candidate Answer:** be maximum during summer  
गर्मी में अधिकतम होती

**QID : 88** - Which of the following is a non-luminous body?

निम्नलिखित में से कौन सा एक अदीप्त पिण्ड है?

**Options:**

- 1) Burning candle  
जलती मोमबत्ती
- 2) Sun  
सूर्य
- 3) Stars  
तारे
- 4) Planet  
ग्रह

**Correct Answer:** Planet  
ग्रह

**Candidate Answer:** Burning candle  
जलती मोमबत्ती

**QID : 89** - What is the use of Bridge in computer networks?

कम्प्यूटर नेटवर्क में ब्रिज का इस्तेमाल किस लिए किया जाता है?

**Options:**

- 1) Connect monitor and CPU  
मॉनिटर तथा सी. पी. यू. को जोड़ना
- 2) Connect keyboard and CPU  
कीबोर्ड तथा सी. पी. यू. को जोड़ना
- 3) Connect mouse and CPU  
माउस तथा सी. पी. यू. को जोड़ना
- 4) Connect two networks  
दो नेटवर्क्स को जोड़ना

**Correct Answer:** Connect two networks  
दो नेटवर्क्स को जोड़ना

**Candidate Answer:** Connect two networks  
दो नेटवर्क्स को जोड़ना

**QID : 90** - Cathode rays have \_\_\_\_\_.

कैथोड किरणों में \_\_\_\_\_ होता है।

**Options:**

- 1) Mass only  
केवल द्रव्यमान
- 2) Charge only  
केवल आवेश
- 3) Both mass and charge  
द्रव्यमान तथा आवेश दोनों
- 4) Neither mass nor charge  
न तो द्रव्यमान और न ही आवेश

**Correct Answer:** Both mass and charge  
द्रव्यमान तथा आवेश दोनों

**Candidate Answer:** Both mass and charge  
द्रव्यमान तथा आवेश दोनों

**QID : 91** - The nucleus of the hydrogen atom is called as \_\_\_\_\_.

हाइड्रोजन परमाणु का नाभिक \_\_\_\_\_ कहलाता है।

**Options:**

- 1) neutron  
न्यूट्रॉन
- 2) electron  
इलेक्ट्रॉन
- 3) proton  
प्रोटॉन
- 4) positron  
पोजीट्रॉन

**Correct Answer:** proton

प्रोटॉन

**Candidate Answer:** proton

प्रोटॉन

**QID : 92** - When air is contaminated by unwanted substances which have a harmful effect on both the living and non living is referred to as \_\_\_\_\_.

जब वायु ऐसे अनचाहे पदार्थों के द्वारा संदूषित हो जाती है जो सजीव तथा निर्जीव दोनों के लिए हानिकारक है इसे \_\_\_\_\_ कहते हैं।

**Options:**

- 1) Water pollution  
जल प्रदूषण
- 2) Air pollution  
वायु प्रदूषण
- 3) Noise pollution  
ध्वनि प्रदूषण
- 4) Soil pollution  
मृदा प्रदूषण

**Correct Answer:** Air pollution

वायु प्रदूषण

**Candidate Answer:** [ NOT ANSWERED ]

**QID : 93** - What is the annual premium (in Rs) of Pradhan Mantri Jeevan Jyoti Bima Yojana?

प्रधानमंत्री जीवन ज्योति बीमा योजना की वार्षिक प्रीमियम (रु में) कितनी है?

**Options:**

- 1) 12
- 2) 300
- 3) 330
- 4) 1200

**Correct Answer:** 330

**Candidate Answer:** 330

**QID : 94** - Who invented Venn Diagram?

वेन आरेख का आविष्कार किसने किया?

**Options:**

- 1) John Dalton  
जॉन डाल्टन
- 2) Max Bora  
मैक्स बोरा
- 3) John Venn  
जॉन वेन
- 4) Louis Pasteur  
लुई पास्चर

**Correct Answer:** John Venn

जॉन वेन

**Candidate Answer:** John Venn

जॉन वेन

**QID : 95** - With which sport is the term 'Ace' associated?

किस खेल से 'एस' शब्द जुड़ा है?

**Options:**

- 1) Tennis  
टेनिस
- 2) Basketball  
बास्केटबॉल
- 3) Golf  
गोल्फ
- 4) Cycling  
सायकिलिंग

**Correct Answer:** Tennis

टेनिस

**Candidate Answer:** Tennis

टेनिस

**QID : 96** - The Khajuraho group of monuments in Madhya Pradesh consists of temples of which religion/religions?

मध्य प्रदेश में खजुराहो समूह के स्मारकों में किस धर्म/धर्मों के मंदिर हैं?

**Options:**

1) Hindu only

केवल हिंदू

2) Jain only

केवल जैन

3) Both Hindu and Jain

हिंदू तथा जैन दोनों

4) Neither Hindu nor Jain

न ही हिंदू न ही जैन

**Correct Answer:** Both Hindu and Jain

हिंदू तथा जैन दोनों

**Candidate Answer:** Jain only

केवल जैन

**QID : 97** - Who is the first women recipient of Ashok Chakra Award?

अशोक चक्र पुरस्कार की पहली महिला प्राप्तकर्ता कौन हैं?

**Options:**

1) Neerja Bhanot

नीरजा भानोत

2) Sakshi Malik

साक्षी मलिक

3) Sanjana Thakur

संजना ठाकुर

4) M Vijayalakshmi

एम विजयालक्ष्मी

**Correct Answer:** Neerja Bhanot

नीरजा भानोत

**Candidate Answer:** Sakshi Malik

साक्षी मलिक

**QID : 98** - Who is the author of the book named 'Unaccustomed Earth'?

अनएकस्टमड अर्थ नामक पुस्तक के लेखक/लेखिका कौन हैं?

**Options:**

1) H.L Dattu

एच एल दत्तु

2) Jhumpa Lahiri

झुम्पा लाहिरी

3) Narinder Nath Vohra

नरिंदर नाथ वोहरा

4) Avinash Chander

अविनाश चंदर

**Correct Answer:** Jhumpa Lahiri

झुम्पा लाहिरी

**Candidate Answer:** [ NOT ANSWERED ]

**QID : 99** - Which country is largest exporter of uranium to India in the year 2015-16?

वर्ष 2015-16 में भारत के लिए यूरेनियम का सबसे बड़ा निर्यातक कौन सा देश है?

**Options:**

1) Afghanistan

अफगानिस्तान

2) Canada

कनाडा

3) Israel

इजराइल

4) Australia

ऑस्ट्रेलिया

**Correct Answer:** Canada

कनाडा

**Candidate Answer:** Israel

इजराइल

QID : 100 - India's neighbouring country Bhutan has which type of government?

भारत के पड़ोसी देश भूटान में किस प्रकार की सरकार है?

**Options:**

1) Federal Republic

संघीय गणराज्य

2) Constiutional Monarchy

संविधानिक राजशाही

3) Communist

साम्यवादी

4) Military Dictatorship

सैन्य तानाशाही

**Correct Answer:** Constiutional Monarchy

संविधानिक राजशाही

**Candidate Answer:** Communist

साम्यवादी

GovtJobsAlert.In