

In the following question, select the number which can be placed at the sign of question mark (?) from the given alternatives.

निम्नलिखित प्रश्न में दिए गए विकल्पों में से प्रश्न चिह्न (?) के स्थान पर आने वाली संख्या को चुनिए।

2	5	7
3	4	4
8	3	2
48	60	?

Options:

- 1) 56
- 2) 42
- 3) 54
- 4) 50

Correct Answer: 56

Candidate Answer: 56

QID : 102 -

How many triangles are there in the given figure?

दी गई आकृति में कितने त्रिभुज हैं?



Options:

- 1) 4
- 2) 5
- 3) 6
- 4) 3

Correct Answer: 6

Candidate Answer: 6

QID : 103 -

A word is represented by only one set of numbers as given in any one of the alternatives. The sets of numbers given in the alternatives are represented by two classes of alphabets as shown in the given two matrices. The columns and rows of **Matrix-I** are numbered from 0 to 4 and that of **Matrix-II** are numbered from 5 to 9. A letter from these matrices can be represented first by its row and next by its column, for example, 'D' can be represented by 02, 30, etc., and 'Z' can be represented by 00, 77, etc. Similarly, you have to identify the set for the word "TANK".

एक शब्द केवल एक संख्या-समूह द्वारा दर्शाया गया है, जैसा कि विकल्पों में से किसी एक में दिया गया है। विकल्पों में दिए गए संख्या-समूह अक्षरों के दो वर्गों द्वारा दर्शाए गए हैं, जैसा कि दिए गए दो आव्यूहों में है। **आव्यूह-I** के स्तम्भ और पंक्ति की संख्या 0 से 4 है और **आव्यूह-II** की 5 से 9। इन आव्यूहों से एक अक्षर को पहले उसकी पंक्ति और बाद में स्तम्भ संख्या द्वारा दर्शाया जा सकता है। उदाहरण के लिए 'D' को 02, 30, आदि द्वारा दर्शाया जा सकता है तथा 'Z' को 00, 77, आदि द्वारा दर्शाया जा सकता है। इसी तरह से आपको प्रश्न में दिए शब्द "TANK" के लिए समूह को पहचानना है।

Matrix-I						Matrix-II					
आव्यूह-I						आव्यूह-II					
	0	1	2	3	4		5	6	7	8	9
0	Z	O	D	W	X	5	A	V	X	T	U
1	G	M	N	H	V	6	K	M	O	P	S
2	E	O	Y	K	T	7	L	P	Z	A	D
3	D	G	W	L	R	8	F	H	J	L	N
4	A	E	U	N	K	9	U	J	Q	V	X

Options:

1) 24, 40, 12, 86

2) 11, 55, 89, 23

3) 58, 78, 12, 44

4) 24, 55, 43, 34

Correct Answer: 58, 78, 12, 44

Candidate Answer: 58, 78, 12, 44

QID : 104 -

From the given answer figures, select the one in which the question figure is hidden/embedded.

दी गई उत्तर आकृतियों में से उस उत्तर आकृति को चुनिए जिस में प्रश्न आकृति निहित है।



Options:

1)



2)



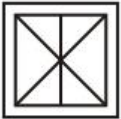
3)



4)



Correct Answer:



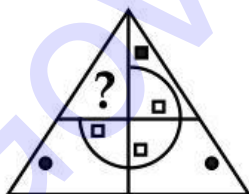
Candidate Answer:



QID : 105 -

Which answer figure will complete the pattern in the question figure?

कौन सी उत्तर आकृति प्रश्न आकृति के प्रतिरूप को पूरा करेगी?



Options:

1)



2)



3)



4)



Correct Answer:



Candidate Answer:



QID : 106 -

If a mirror is placed on the line AB, then which of the answer figures is the right image of the given figure?

यदि एक दर्पण को AB रेखा पर रखा जाए, तो दी गई उत्तर आकृतियों में से कौन सी आकृति प्रश्न आकृति की सही प्रतिबिम्ब होगी?



Options:

1)



2)



3)



4)



Correct Answer:



Candidate Answer:



QID : 107 -

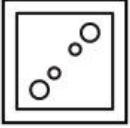
A piece of paper is folded and punched as shown below in the question figures. From the given answer figures, indicate how it will appear when opened?

नीचे के प्रश्न आकृतियों में दिखाए अनुसार कागज को मोड़कर छेदने तथा खोलने के बाद वह किस उत्तर आकृति जैसा दिखाई देगा?



Options:

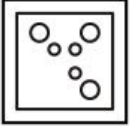
1)



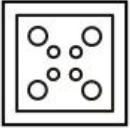
2)



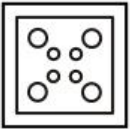
3)



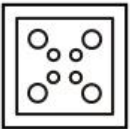
4)



Correct Answer:



Candidate Answer:



QID : 108 - If 'A' means '+', 'B' means ' \div ', 'C' means ' \times ' and 'F' means ' $-$ ', then

33 B 11 A 2 C 4 = ?

यदि 'A' का अर्थ '+', 'B' का अर्थ ' \div ', 'C' का अर्थ ' \times ' तथा 'F' का अर्थ ' $-$ ' हो, तो

33 B 11 A 2 C 4 = ?

Options:

- 1) 6
- 2) 10
- 3) 11
- 4) 12

Correct Answer: 11

Candidate Answer: 11

QID : 109 - If **9 S 9 A 3 = 27** and **4 S 3 A 2 = 6**, then **5 S 2 A 5 = ?**

यदि **9 S 9 A 3 = 27** तथा **4 S 3 A 2 = 6** हो, तो **5 S 2 A 5 = ?**

Options:

- 1) 4
- 2) 6
- 3) 1
- 4) 2

Correct Answer: 2

Candidate Answer: 2

QID : 110 - Arrange the given words in the sequence in which they occur in the dictionary.

1. Post
2. Page
3. Pant
4. Penny
5. Peal

निम्नलिखित शब्दों को शब्दकोश में आने वाले क्रम के अनुसार लिखें।

1. Post
2. Page
3. Pant
4. Penny
5. Peal

Options:

1) 23541

2) 23514

3) 23415

4) 23451

Correct Answer: 23541

Candidate Answer: 23541

QID : 111 - In the following question, select the missing number from the given series.

5, 8, 13, 20, ?

निम्नलिखित प्रश्न में दिए गए विकल्पों में से लुप्त अंक ज्ञात कीजिए।

5, 8, 13, 20, ?

Options:

1) 29

2) 27

3) 28

4) 30

Correct Answer: 29

Candidate Answer: 29

QID : 112 - A series is given with one term missing. Select the correct alternative from the given ones that will complete the series.

AD, FI, KN, ?

एक अनुक्रम दिया गया है, जिसमें से एक पद लुप्त है। दिए गए विकल्पों में से वह सही विकल्प चुनिए, जो अनुक्रम को पूरा करे।

AD, FI, KN, ?

Options:

1) PR

2) PS

3) QR

4) QS

Correct Answer: PS

Candidate Answer: PS

QID : 113 - In the following question, select the odd word from the given alternatives.

निम्नलिखित प्रश्न में दिए गए विकल्पों में से विषम शब्द को चुनिए।

Options:

1) Office

कार्यालय

2) School

विद्यालय

3) College

महाविद्यालय

4) University

विश्वविद्यालय

Correct Answer: Office

कार्यालय

Candidate Answer: Office

कार्यालय

QID : 114 - In the following question, select the odd number pair from the given alternatives.

निम्नलिखित प्रश्न में दिए गए विकल्पों में से विषम संख्या युग्म को चुनिए।

Options:

1) 9 – 27

2) 8 – 24

3) 11 – 33

4) 5 – 25

Correct Answer: 5 – 25

Candidate Answer: 5 – 25

QID : 115 - In the following question, select the odd letters from the given alternatives.

निम्नलिखित प्रश्न में दिए गए विकल्पों में से विषम अक्षरों को चुनिए।

Options:

1) ADG

2) HKN

3) QSV

4) ORU

Correct Answer: QSV

Candidate Answer: QSV

QID : 116 - Identify the diagram that best represents the relationship among the given classes.

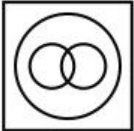
Carnivorous, Lion, Goat

वह अरिख चुनिए जो नीचे दिए गए वर्गों के बीच के संबंध का सही निरूपण करता है।

माँसाहारी, शेर, बकरी

Options:

1)



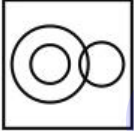
2)



3)



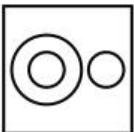
4)



Correct Answer:



Candidate Answer:



QID : 117 - In the following question, select the related word pair from the given alternatives.

Rain : Clouds :: ? : ?

निम्नलिखित प्रश्न में दिए गए विकल्पों में से संबंधित शब्द युग्म को चुनिए।

वर्षा : बादल :: ? : ?

Options:

- 1) Summer : Season
ग्रीष्म : ऋतु
2) Heat : Fire
गर्मी : अग्नि
3) Winter : Mountain
शीत : पहाड़
4) Heat : Cold
गर्मी : ठंडा

Correct Answer: Heat : Fire
गर्मी : अग्नि

Candidate Answer: Heat : Fire
गर्मी : अग्नि

QID : 118 - In the following question, select the related number from the given alternatives.

12 : 168 :: 14 : ?

निम्नलिखित प्रश्न में दिए गए विकल्पों में से संबंधित संख्या को चुनिए।

12 : 168 :: 14 : ?

Options:

- 1) 225
2) 224
3) 230
4) 222

Correct Answer: 224

Candidate Answer: 224

QID : 119 - In the following question, select the related letters from the given alternatives.

EGO : FHP :: MAN : ?

निम्नलिखित प्रश्न में दिए गए विकल्पों में से संबंधित अक्षरों को चुनिए।

EGO : FHP :: MAN : ?

Options:

- 1) NBP
2) NCO
3) NBO
4) NCM

Correct Answer: NBO

Candidate Answer: NBO

QID : 120 - In the following question, select the word which cannot be formed using the letters of the given word.

MONOPOLISTIC

निम्नलिखित विकल्पों में से वह शब्द चुनिए जो दिए गए शब्द के अक्षरों का प्रयोग करके नहीं बनाया जा सकता।

MONOPOLISTIC

Options:

- 1) MONO
2) LIST
3) LOOP
4) HOLISTIC

Correct Answer: HOLISTIC

Candidate Answer: HOLISTIC

QID : 121 - Ram starts walking from a point. He walks 6 km to the north. He then turns east and walks 8 km. He then turns south walks 4 km. He then turns west and walks 6 km. In which direction is Ram from his starting point?

राम एक बिंदु से चलना आरंभ करता है। वह 6 कि.मी. उत्तर की ओर चलता है। फिर वह पूर्व की ओर मुड़कर 8 कि.मी. चलता है। फिर वह दक्षिण की ओर मुड़कर 4 कि.मी. चलता है। फिर वह पश्चिम की ओर मुड़कर 6 कि.मी. चलता है। राम अपने आरंभिक बिंदु से किस दिशा में है?

Options:

- 1) North-East
उत्तर-पूर्व
2) East
पूर्व
3) North
उत्तर
4) South-East
दक्षिण-पूर्व

Correct Answer: North-East

उत्तर-पूर्व

Candidate Answer: North-East

उत्तर-पूर्व

QID : 122 - Lemon tree is 13th from either end in a row of trees. How many trees are there in the row?

वृक्षों की एक पंक्ति में, नीम्बू का वृक्ष दोनों छोर से 13-वाँ है। पंक्ति में कितने वृक्ष हैं?

Options:

- 1) 26
- 2) 25
- 3) 24
- 4) 27

Correct Answer: 25

Candidate Answer: 25

QID : 123 - In the following question below are given some statements followed by some conclusions. Taking the given statements to be true even if they seem to be at variance from commonly known facts, read all the conclusions and then decide which of the given conclusion logically follows the given statements.

Statements:

- I. Some blue are red.
- II. All red are black.

Conclusions:

- I. Some blue are black.
- II. No red is blue.

नीचे दिए गए प्रश्न में कुछ कथन और उनके बाद उन कथनों पर आधारित कुछ निष्कर्ष दिए गए हैं, हालांकि उनमें सामान्य ज्ञात तथ्यों से भिन्नता हो सकती है। सभी निष्कर्ष पढ़ें और फिर निर्धारित करें कि दिए गए कौन से निष्कर्ष, दिए गए कथनों के आधार पर युक्तिसंगत हैं।

कथन:

- I. कुछ नीले लाल हैं।
- II. सभी लाल काले हैं।

निष्कर्ष:

- I. कुछ नीले काले हैं।
- II. कोई लाल नीला नहीं है।

Options:

- 1) Only conclusion (I) follows.
केवल निष्कर्ष (I) सही है।
- 2) Only conclusion (II) follows.
केवल निष्कर्ष (II) सही है।
- 3) Both conclusion follow.
दोनों ही निष्कर्ष सही हैं।
- 4) Neither conclusion (I) nor conclusion (II) follows.
न तो निष्कर्ष (I) न ही निष्कर्ष (II) सही है।

Correct Answer: Only conclusion (I) follows.

केवल निष्कर्ष (I) सही है।

Candidate Answer: Only conclusion (I) follows.

केवल निष्कर्ष (I) सही है।

QID : 124 - In a certain code language, "THIS" is written as "UIJT". How is "CARD" written in that code language?

एक विशिष्ट कोड भाषा में, "THIS" को "UIJT" लिखा जाता है। इस कोड भाषा में "CARD" को किस प्रकार लिखा जाएगा?

Options:

- 1) DBSE
- 2) BBSE
- 3) DBTE
- 4) DCSE

Correct Answer: DBSE

Candidate Answer: DBSE

QID : 125 - In a certain code language, "GET" is written as "32" and "SET" is written as "44". How is "TOO" written in that code language?

एक विशिष्ट कोड भाषा में, "GET" को "32" तथा "SET" को "44" लिखा जाता है। इस कोड भाषा में "TOO" को किस प्रकार लिखा जाएगा?

Options:

- 1) 50
- 2) 42
- 3) 44
- 4) 39

Correct Answer: 50

Candidate Answer: 50

QID : 126 - What is the sum of all natural numbers between 1 and 200 which are multiples of 5?

1 से 200 के मध्य आने वाली सभी प्राकृत संख्याएँ जो 5 का गुणज है, उनका योग क्या है?

Options:

- 1) 3900
- 2) 4100
- 3) 4155
- 4) 4235

Correct Answer: 3900

Candidate Answer: 3900

QID : 127 - A number exceeds its $\frac{1}{5}$ by 44. What is the number?

एक संख्या अपने $\frac{1}{5}$ से 44 अधिक है। वह संख्या क्या है?

Options:

- 1) 65
- 2) 50
- 3) 55
- 4) 70

Correct Answer: 55

Candidate Answer: 55

QID : 128 -

What is the value of 2^{2^4} ?

2^{2^4} का मान क्या है?

Options:

- 1) 256
- 2) 1024
- 3) 65536
- 4) 8192

Correct Answer: 65536

Candidate Answer: 65536

QID : 129 - How many numbers less than 350 are multiples of both 4 and 3?

350 से कम ऐसी कितनी संख्याएँ हैं जो 4 तथा 3 दोनों का गुणज हैं?

Options:

- 1) 29
- 2) 31
- 3) 30
- 4) 28

Correct Answer: 29

Candidate Answer: 29

QID : 130 - If the difference of two numbers is 7 and the difference of their squares is 203, then what is the smaller number?

यदि दो संख्याओं का अंतर 7 है तथा उनके वर्गों का अंतर 203 है, तो छोटी संख्या क्या है?

Options:

- 1) 10
- 2) 9
- 3) 12
- 4) 11

Correct Answer: 11

Candidate Answer: 11

QID : 131 - What is the value of 0.00010?

0.00010 का मान क्या है?

Options:

- 1) $\frac{1}{1000}$
- 2) $\frac{1}{10000}$
- 3) $\frac{1}{100000}$
- 4) $\frac{1}{100}$

Correct Answer: $\frac{1}{10000}$

Candidate Answer: 1/10000

QID : 132 - A can do a piece of work in 12 days. He worked for 3 days and B finished the remaining work in 48 days. B alone can do the whole work in how many days?

A किसी कार्य को 12 दिनों में कर सकता है। उसने 3 दिन कार्य किया तथा शेष काम B ने 48 दिनों में पूरा किया। B अकेला पूरे कार्य को कितने दिनों में पूरा कर सकता है?

Options:

- 1) 64
- 2) 56
- 3) 52
- 4) 72

Correct Answer: 64

Candidate Answer: 64

QID : 133 - If $\frac{4}{7}$ th of a cistern is filled in 32 minute, then what is the time (in minutes) needed to fill the remaining part?

यदि टंकी का $\frac{4}{7}$ -वां भाग 32 मिनट में भर जाता है, तो बचे हुए भाग को भरने में कितना समय (मिनटों में) लगेगा?

Options:

- 1) 24
- 2) 16
- 3) 18
- 4) 28

Correct Answer: 24

Candidate Answer: 24

QID : 134 - If the ratio of the volume of two cubes is 64 : 27, then what is the ratio of their edges?

यदि दो घनों के आयतनों का अनुपात 64 : 27 है, तो उनकी भुजाओं का अनुपात क्या है?

Options:

- 1) 4 : 3
- 2) 16 : 9
- 3) 64 : 27
- 4) 4 : 9

Correct Answer: 4 : 3

Candidate Answer: 4 : 3

QID : 135 - A trader allows two successive discounts of 20% and 30% on selling an article. If he sells that article for Rs 1400, then what is the marked price (in Rs) of the article?

एक विक्रेता किसी वस्तु को बेचते समय 20% तथा 30% की दो क्रमिक छूट देता है। यदि वह इस वस्तु को 1400 रु में बेचता है, तो वस्तु का अंकित मूल्य (रु में) क्या है?

Options:

- 1) 2500
- 2) 2800
- 3) 3000
- 4) 3050

Correct Answer: 2500

Candidate Answer: 2500

QID : 136 - The marked price of an article is Rs 720. A shopkeeper gives a discount of 20% and still makes a profit of 20%. What is the cost price (in Rs) of the article?

एक वस्तु का अंकित मूल्य 720 रु है। दुकानदार 20% की छूट देता है तथा फिर भी वह 20% का लाभ कमाता है। वस्तु का क्रय मूल्य (रु में) क्या है?

Options:

- 1) 480
- 2) 560
- 3) 450
- 4) 600

Correct Answer: 480

Candidate Answer: 480

QID : 137 - The ratio of two numbers is 2 : 9. If their difference is 70, then what is the smaller number?

दो संख्याओं का अनुपात 2 : 9 है। यदि उनका अंतर 70 है, तो छोटी संख्या क्या है?

Options:

- 1) 15
- 2) 20
- 3) 25
- 4) 30

Correct Answer: 20

Candidate Answer: 20

QID : 138 - If $3A = 2B = 12C$, then what is $A : B : C$?

यदि $3A = 2B = 12C$ हो, तो $A : B : C$ क्या है?

Options:

1) 10 : 5 : 2

2) 4 : 6 : 1

3) 4 : 6 : 5

4) 2 : 5 : 10

Correct Answer: 4 : 6 : 1

Candidate Answer: 4 : 6 : 1

QID : 139 - The average of 35, 37, 39, 41, B, 45 and 47 is 41. What is the value of B?

35, 37, 39, 41, B, 45 तथा 47 का औसत 41 है। B का मान क्या है?

Options:

1) 42

2) 43

3) 44

4) 45

Correct Answer: 43

Candidate Answer: 43

QID : 140 - If chairs are bought at Rs 1500 each and sold at Rs 1200 each, then what will be the loss percentage?

यदि कुर्सियों को 1500 रु प्रति कुर्सी की दर से खरीदकर 1200 रु प्रति कुर्सी की दर से बेच दिया जाता है, तो हानि प्रतिशत क्या होगा?

Options:

1) 10%

2) 20%

3) 25%

4) 35%

Correct Answer: 20%

Candidate Answer: 20%

QID : 141 - If the rice is sold at Rs 66 per kg, there would be a 10% loss. To earn a profit of 50% what should be the price of rice (in Rs per kg)?

यदि चावल को 66 रु प्रति कि.ग्रा. की दर से बेचा जाता है, तो 10% की हानि होगी। 50% का लाभ प्राप्त करने के लिए चावल का विक्रय मूल्य (रु प्रति कि.ग्रा. में) क्या होना चाहिए?

Options:

1) 110

2) 105

3) 108

4) 112

Correct Answer: 110

Candidate Answer: 110

QID : 142 - If the price of an article is decreased by 33.33%, then to restore its former value the new price must be increased by what percent?

यदि किसी वस्तु के मूल्य में 33.33% की कमी आ जाती है, तो पहले के मूल्य को बनाए रखने के लिए नये मूल्य में कितने प्रतिशत की वृद्धि करनी होगी?

Options:

1) 33.33

2) 50

3) 20

4) 25

Correct Answer: 50

Candidate Answer: 50

QID : 143 - If the price of a commodity is decreased by 30% and its consumption is increased by 40%, then what will be the percentage increase or decrease in the expenditure of the commodity?

एक वस्तु की कीमत 30% कम हो जाती है तथा उसकी खपत 40% बढ़ जाती है, तो वस्तु पर खर्च में कितने प्रतिशत की वृद्धि या कमी होगी?

Options:

1) 2% decrease

2% की कमी

2) 2% increase

2% की वृद्धि

3) 12% increase

12% की वृद्धि

4) 12% decrease

12% की कमी

Correct Answer: 2% decrease

2% की कमी

Candidate Answer: 2% decrease
2% की कमी

QID : 144 - Mahesh can cover a certain distance in 24 hours if he walks at the rate of 10 km/hr. If he covers the same distance by a car at the rate of 16 km/hr, then what is the time (in hours) taken by him?

महेश यदि 10 कि.मी./घंटा की गति से चले तो वह एक निश्चित दूरी 24 घंटे में तय कर सकता है। यदि वह इसी दूरी को गाड़ी से 16 कि.मी./घंटा की गति से तय करता है, तो उसके द्वारा लिया गया समय (घंटों में) क्या है?

Options:

- 1) 12
- 2) 9
- 3) 15
- 4) 18

Correct Answer: 15

Candidate Answer: 15

QID : 145 - A man travels 1 hours of the journey at a speed of 50 km/hr and remaining 4 hours of the journey at 60 km/hr. What is the average speed (in km/hr) of the entire journey?

एक व्यक्ति यात्रा का 1 घंटा, 50 कि.मी./घंटा की गति से तथा शेष 4 घंटे, 60 कि.मी./घंटा की गति से तय करता है। सम्पूर्ण यात्रा की औसत गति (कि.मी./घंटा में) क्या है?

Options:

- 1) 55
- 2) 58
- 3) 56
- 4) 57

Correct Answer: 58

Candidate Answer: 58

QID : 146 - An amount becomes 5 times in 8 years when kept in a scheme of simple interest. In how many years will it become 16 times?

एक धनराशि साधारण ब्याज वाली योजना में निवेश करने पर 8 वर्ष में 5 गुना हो जाती है। वह 16 गुना कितने वर्षों में हो जाएगी?

Options:

- 1) 16
- 2) 30
- 3) 24
- 4) 28

Correct Answer: 30

Candidate Answer: 30

QID : 147 -

The table given below shows the number of two-wheelers stolen in two cities A and B from the years 2008 to 2015.

नीचे दी गई तालिका में वर्ष 2008 से 2015 तक दो शहरों A तथा B में चोरी हुए दुपहिया वाहनों की संख्या को दर्शाया गया है।

Year / वर्ष	City A / शहर A	City B / शहर B
2008	135	153
2009	221	182
2010	215	193
2011	187	216
2012	180	192
2013	222	204
2014	175	210
2015	169	225

In city A, the percentage change in the number of two-wheelers stolen in two consecutive years is maximum in which year?

शहर A में, क्रमागत दो वर्षों में चोरी हुए दुपहिया वाहनों की संख्या में प्रतिशत परिवर्तन किस वर्ष में अधिकतम है?

Options:

1) 2009

2) 2013

3) 2015

4) 2011

Correct Answer: 2009**Candidate Answer:** 2009**QID : 148 -**

The table given below shows the number of two-wheelers stolen in two cities A and B from the years 2008 to 2015.

नीचे दी गई तालिका में वर्ष 2008 से 2015 तक दो शहरों A तथा B में चोरी हुए दुपहिया वाहनों की संख्या को दर्शाया गया है।

Year / वर्ष	City A / शहर A	City B / शहर B
2008	135	153
2009	221	182
2010	215	193
2011	187	216
2012	180	192
2013	222	204
2014	175	210
2015	169	225

The number of two-wheelers stolen in city B is what percent of that of A in year 2014?

वर्ष 2014 में शहर B में चोरी हुए दुपहिया वाहनों की संख्या शहर A का कितना प्रतिशत है?

Options:

1) 120

2) 87.5

3) 135

4) 175

Correct Answer: 120**Candidate Answer:** 120

QID : 149 -

The table given below shows the number of two-wheelers stolen in two cities A and B from the years 2008 to 2015.

नीचे दी गई तालिका में वर्ष 2008 से 2015 तक दो शहरों A तथा B में चोरी हुए दुपहिया वाहनों की संख्या को दर्शाया गया है।

Year / वर्ष	City A / शहर A	City B / शहर B
2008	135	153
2009	221	182
2010	215	193
2011	187	216
2012	180	192
2013	222	204
2014	175	210
2015	169	225

What is the average number of two-wheelers stolen in city A in the given period?

दी गई अवधि में, शहर A में चोरी हुए दुपहिया वाहनों की औसत संख्या क्या है?

Options:

- 1) 179
- 2) 182
- 3) 188
- 4) 196

Correct Answer: 188

Candidate Answer: 188

QID : 150 -

The table given below shows the number of two-wheelers stolen in two cities A and B from the years 2008 to 2015.

नीचे दी गई तालिका में वर्ष 2008 से 2015 तक दो शहरों A तथा B में चोरी हुए दुपहिया वाहनों की संख्या को दर्शाया गया है।

Year / वर्ष	City A / शहर A	City B / शहर B
2008	135	153
2009	221	182
2010	215	193
2011	187	216
2012	180	192
2013	222	204
2014	175	210
2015	169	225

In which year, the total number of two-wheelers stolen was maximum?

किस वर्ष में, चोरी हुए दुपहिया वाहनों की कुल संख्या सबसे अधिक है?

Options:

1) 2009

2) 2010

3) 2013

4) 2015

Correct Answer: 2013

Candidate Answer: 2013

QID : 151 - In the following question, some part of the sentence may have errors. Find out which part of the sentence has an error and select the appropriate option. If a sentence is free from error, select 'No Error'.

He added that his previous employee **(1)**/ in Lucknow never paid him on time **(2)**/ or gave him his full dues. **(3)**/ No Error **(4)**

Options:

1) 1

2) 2

3) 3

4) 4

Correct Answer: 1

Candidate Answer: 3

QID : 152 - In the following question, some part of the sentence may have errors. Find out which part of the sentence has an error and select the appropriate option. If a sentence is free from error, select 'No Error'.

That was all they had to **(1)**/ pay, no water, electricity **(2)**/ nor other bills. **(3)**/ No Error **(4)**

Options:

1) 1

2) 2

3) 3

4) 4

Correct Answer: 3

Candidate Answer: 2

QID : 153 - In the following question, the sentence given with blank to be filled in with an appropriate word. Select the correct alternative out of the four and indicate it by selecting the appropriate option.

On the _____ occasion of Ganesh Chaturthi the Guptas bought a new house.

Options:

1) prosperous

2) auspicious

3) official

4) fortuitous

Correct Answer: auspicious

Candidate Answer: auspicious

QID : 154 - In the following question, the sentence given with blank to be filled in with an appropriate word. Select the correct alternative out of the four and indicate it by selecting the appropriate option.

He _____ office late that day.

Options:

1) reached

2) was reached

3) reaching

4) is reach

Correct Answer: reached

Candidate Answer: was reached

QID : 155 - In the following question, out of the given four alternatives, select the one which best expresses the meaning of the given word.

Urge

Options:

1) Depress

2) Discourage

3) Divert

4) Impulse

Correct Answer: Impulse

Candidate Answer: Impulse

QID : 156 - In the following question, out of the given four alternatives, select the one which best expresses the meaning of the given word.

Abrupt

Options:

1) Deliberate

2) Gradual

3) Sudden

4) Regular

Correct Answer: Sudden

Candidate Answer: Deliberate

QID : 157 - In the following question, out of the given four alternatives, select the one which best expresses the meaning of the given word.

Scream

Options:

- 1) Cry
- 2) Whisper
- 3) Hum
- 4) Murmur

Correct Answer: Cry

Candidate Answer: [NOT ANSWERED]

QID : 158 - In the following question, out of the given four alternatives, select the one which is opposite in meaning of the given word.

Astonish

Options:

- 1) Surprise
- 2) Shock
- 3) Startle
- 4) Calm

Correct Answer: Calm

Candidate Answer: [NOT ANSWERED]

QID : 159 - In the following question, out of the given four alternatives, select the one which is opposite in meaning of the given word.

Persuade

Options:

- 1) Advise
- 2) Affect
- 3) Assure
- 4) Prevent

Correct Answer: Prevent

Candidate Answer: Prevent

QID : 160 - In the following question, out of the given four alternatives, select the one which is opposite in meaning of the given word.

Coarse

Options:

- 1) Cheap
- 2) Common
- 3) Foul
- 4) Gentle

Correct Answer: Gentle

Candidate Answer: Gentle

QID : 161 - In the following question, out of the four given alternatives, select the alternative which best expresses the meaning of the Idiom/Phrase.

No ifs and buts

Options:

- 1) Jubilant
- 2) Low spirited
- 3) No doubts
- 4) Screaming

Correct Answer: No doubts

Candidate Answer: No doubts

QID : 162 - In the following question, out of the four given alternatives, select the alternative which best expresses the meaning of the Idiom/Phrase.

In deep water

Options:

- 1) In great difficulties
- 2) With strength and fury
- 3) Using unfair means
- 4) Struck by thunder

Correct Answer: In great difficulties

Candidate Answer: In great difficulties

QID : 163 - Improve the bracketed part of the sentence.

It was a formidable challenge that they (**offer**) going into the Glasgow championships.

Options:

- 1) offered
- 2) offering
- 3) will offering
- 4) No improvement

Correct Answer: offered

Candidate Answer: offered

QID : 164 - Improve the bracketed part of the sentence.

This rivalry is (**prove to**) be extremely beneficial for Indian badminton.

Options:

- 1) to prove to
- 2) proving to
- 3) proving by
- 4) No improvement

Correct Answer: proving to

Candidate Answer: proving to

QID : 165 - In the following question, out of the four given alternatives, select the alternative which is the best substitute of the phrase.

A person whose profession is to keep accounts.

Options:

- 1) Secretary
- 2) Treasurer
- 3) Accountant
- 4) Office boy

Correct Answer: Accountant

Candidate Answer: Accountant

QID : 166 - In the following question, out of the four given alternatives, select the alternative which is the best substitute of the phrase.

A place where clothes are washed and pressed.

Options:

- 1) Foundry
- 2) Sundry
- 3) Husbandry
- 4) Laundry

Correct Answer: Laundry

Candidate Answer: Laundry

QID : 167 - In the following question, a word has been written in four different ways out of which only one is correctly spelt. Select the correctly spelt word.

Options:

- 1) Proceger
- 2) Procedure
- 3) Proceadure
- 4) Proceger

Correct Answer: Procedure

Candidate Answer: Procedure

QID : 168 - In the following question, a word has been written in four different ways out of which only one is correctly spelt. Select the correctly spelt word.

Options:

- 1) Livaable
- 2) Lieivable
- 3) Livable
- 4) Liveble

Correct Answer: Livable

Candidate Answer: Liveble

QID : 169 - Rearrange the parts of the sentence in correct order.

The magnitude of stress

P: individual's operational style

Q: environmental forces or an

R: is determined by the

Options:

- 1) PQR
- 2) RPQ
- 3) RQP
- 4) QPR

Correct Answer: RQP

Candidate Answer: RQP

QID : 170 - Rearrange the parts of the sentence in correct order.

Time management is the

P: as to make the most of it

Q: technique to use one's

R: time efficiently so

Options:

- 1) QRP
- 2) PQR
- 3) RPQ
- 4) QPR

Correct Answer: QRP

Candidate Answer: QRP

QID : 171 - In the following passage some of the words have been left out. Read the passage carefully and select the correct answer for the given blank out of the four alternatives.

Brain Drain is an extremely _____ problem for developing countries. The destiny of such countries lies in the _____ to this great problem. India can be taken as an instance in this point. After independence this country is engaged in difficult _____ against poverty. But struggles cannot be launched in papers; they require armies of trained _____ – the scientists, technical knowhow and specialists in the field of planned development. If, instead of _____ to the prosperity of India, the Indian scientists, research scholars, engineers, doctors and economists immigrate to other countries, it is difficult to see how India can implement her development plans and attain her goal of prosperity.

Brain Drain is an extremely _____ problem

Options:

- 1) worst
- 2) serious
- 3) worth
- 4) henious

Correct Answer: serious

Candidate Answer: serious

QID : 172 - In the following passage some of the words have been left out. Read the passage carefully and select the correct answer for the given blank out of the four alternatives.

Brain Drain is an extremely _____ problem for developing countries. The destiny of such countries lies in the _____ to this great problem. India can be taken as an instance in this point. After independence this country is engaged in difficult _____ against poverty. But struggles cannot be launched in papers; they require armies of trained _____ – the scientists, technical knowhow and specialists in the field of planned development. If, instead of _____ to the prosperity of India, the Indian scientists, research scholars, engineers, doctors and economists immigrate to other countries, it is difficult to see how India can implement her development plans and attain her goal of prosperity.

in the _____ to this great

Options:

- 1) solution
- 2) question
- 3) attribute
- 4) idea

Correct Answer: solution

Candidate Answer: solution

QID : 173 - In the following passage some of the words have been left out. Read the passage carefully and select the correct answer for the given blank out of the four alternatives.

Brain Drain is an extremely _____ problem for developing countries. The destiny of such countries lies in the _____ to this great problem. India can be taken as an instance in this point. After independence this country is engaged in difficult _____ against poverty. But struggles cannot be launched in papers; they require armies of trained _____ – the scientists, technical knowhow and specialists in the field of planned development. If, instead of _____ to the prosperity of India, the Indian scientists, research scholars, engineers, doctors and economists immigrate to other countries, it is difficult to see how India can implement her development plans and attain her goal of prosperity.

Engaged in difficult _____ against poverty.

Options:

- 1) life
- 2) time
- 3) struggle
- 4) period

Correct Answer: struggle

Candidate Answer: struggle

QID : 174 - In the following passage some of the words have been left out. Read the passage carefully and select the correct answer for the given blank out of the four alternatives.

Brain Drain is an extremely _____ problem for developing countries. The destiny of such countries lies in the _____ to this great problem. India can be taken as an instance in this point. After independence this country is engaged in difficult _____ against poverty. But struggles cannot be launched in papers; they require armies of trained _____ – the scientists, technical knowhow and specialists in the field of planned development. If, instead of _____ to the prosperity of India, the Indian scientists, research scholars, engineers, doctors and economists immigrate to other countries, it is difficult to see how India can implement her development plans and attain her goal of prosperity.

They require armies of trained _____ – the scientists,

Options:

- 1) person
- 2) personified
- 3) personnel
- 4) personal

Correct Answer: personnel

Candidate Answer: personnel

QID : 175 - In the following passage some of the words have been left out. Read the passage carefully and select the correct answer for the given blank out of the four alternatives.

Brain Drain is an extremely _____ problem for developing countries. The destiny of such countries lies in the _____ to this great problem. India can be taken as an instance in this point. After independence this country is engaged in difficult _____ against poverty. But struggles cannot be launched in papers; they require armies of trained _____ – the scientists, technical knowhow and specialists in the field of planned development. If, instead of _____ to the prosperity of India, the Indian scientists, research scholars, engineers, doctors and economists immigrate to other countries, it is difficult to see how India can implement her development plans and attain her goal of prosperity.

If, instead of _____ to the prosperity of India,

Options:

- 1) distributing
- 2) creating
- 3) insulting
- 4) contributing

Correct Answer: contributing

Candidate Answer: contributing

QID : 176 - Letter D in GDP stands for _____ in economics.

अर्थशास्त्र में जी.डी.पी में अक्षर डी _____ को प्रदर्शित करता है।

Options:

- 1) Domestic
डोमेस्टिक
- 2) Development
डेवलपमेंट
- 3) Depreciation
डेप्रिसिएशन
- 4) Destruction
डिस्ट्रक्शन

Correct Answer: Domestic

डोमेस्टिक

Candidate Answer: Domestic

डोमेस्टिक

QID : 177 - Development of humans along with sustaining the ability of natural system is called _____.

प्राकृतिक तंत्र की क्षमता को बनाए रखने के साथ ही मनुष्यों का विकास _____ कहा जाता है।

Options:

- 1) Unbelievable development
अविश्वसनीय विकास
- 2) Environmental development
पर्यावरण विकास
- 3) Sustainable development
सतत् विकास
- 4) Social development
सामाजिक विकास

Correct Answer: Sustainable development

सतत् विकास

Candidate Answer: Sustainable development

सतत् विकास

QID : 178 - How many types of writs can be issued in Indian Constitution?

भारतीय संविधान में कितने प्रकार के प्रादेश जारी किये जा सकते हैं?

Options:

- 1) One
एक
- 2) Five
पाँच
- 3) Seven
सात
- 4) Eleven
ग्यारह

Correct Answer: Five

पाँच

Candidate Answer: Five

पाँच

QID : 179 - In which form of government rulers are elected by the people?

किस प्रकार के शासन में शासकों का चुनाव लोग करते हैं?

Options:

- 1) Autocratic
एकतांत्रिक
- 2) Democratic
लोकतंत्र
- 3) Aristocratic
कुलीनतंत्र
- 4) Monarchic
राजतंत्र

Correct Answer: Democratic

लोकतंत्र

Candidate Answer: Democratic

लोकतंत्र

QID : 180 - Where is the famous rust-resistant iron pillar located?

प्रसिद्ध जंग प्रतिरोधी लौह स्तंभ कहाँ पर स्थित है?

Options:

1) Mysore

मैसूर

2) Delhi

दिल्ली

3) Hyderabad

हैदराबाद

4) Kolkata

कोलकाता

Correct Answer: Delhi

दिल्ली

Candidate Answer: Delhi

दिल्ली

QID : 181 - When was Indian National Congress established?

भारतीय राष्ट्रीय कांग्रेस की स्थापना किस वर्ष में हुई थी?

Options:

1) 1880

2) 1885

3) 1890

4) 1895

Correct Answer: 1885

Candidate Answer: 1885

QID : 182 - How is the shape of Earth described?

पृथ्वी के आकार को कैसा बताया जाता है?

Options:

1) Circular

परिपत्र

2) Oval

अंडाकार

3) Oblate Spheroid

चपटा अंडाकार

4) Spherical

गोलाकार

Correct Answer: Oblate Spheroid

चपटा अंडाकार

Candidate Answer: Oblate Spheroid

चपटा अंडाकार

QID : 183 - The Ural Mountains in Russia are which type of mountains?

रुस में यूराल पर्वत किस प्रकार के पर्वत हैं?

Options:

1) Old Fold Mountains

पुराने वलित पर्वत

2) Young Fold Mountains

युवा वलित पर्वत

3) Block Mountains

भ्रंशोत्थ पर्वत

4) Volcanic Mountains

ज्वालामुखी पर्वत

Correct Answer: Old Fold Mountains

पुराने वलित पर्वत

Candidate Answer: Young Fold Mountains

युवा वलित पर्वत

QID : 184 - Which is/are not biotic components?

I. Plants

II. Rocks

III. Air

निम्न में से कौन जैव घटक नहीं है?

I. पौधे

II. चट्टान

III. वायु

Options:

- 1) Only I
केवल I
- 2) Only II
केवल II
- 3) Only III
केवल III
- 4) Both II and III
II तथा III दोनों

Correct Answer: Both II and III

II तथा III दोनों

Candidate Answer: Only II

केवल II

QID : 185 - Germs entering the body through food are mainly killed in the region of alimentary canal where pH may reach the level _____.

भोजन के माध्यम से शरीर में पहुँचने वाले कीटाणु आहार नाल के क्षेत्र में मर जाते हैं क्योंकि यहाँ पीएच का स्तर _____ तक पहुँच जाता है।

Options:

- 1) 2
- 2) 7
- 3) 14
- 4) 0

Correct Answer: 2

Candidate Answer: 2

QID : 186 - The life span of human WBC is normally _____.

मानव डब्ल्यू. बी. सी. की सामान्य जीवन अवधि _____ है।

Options:

- 1) 5 – 21 days
5 – 21 दिन
- 2) 45 – 50 days
45 – 50 दिन
- 3) 100 – 110 days
100 – 110 दिन
- 4) 6 – 8 months
6 – 8 महीने

Correct Answer: 5 – 21 days

5 – 21 दिन

Candidate Answer: 5 – 21 days

5 – 21 दिन

QID : 187 - Material which allow electricity to pass through them are _____ of electricity.

जो पदार्थ अपने अंदर विद्युत धारा का प्रवाह होने देते हैं वे _____ है।

Options:

- 1) Insulators
विद्युत रोधक
- 2) Conductors
विद्युत चालक
- 3) Dispersion
विक्षेपण
- 4) Refraction
अपवर्तन

Correct Answer: Conductors

विद्युत चालक

Candidate Answer: Conductors

विद्युत चालक

QID : 188 - What are the objects like the sun that emit light of their own called?

जो वस्तुएँ सूर्य की तरह स्वयं प्रकाश का उत्सर्जन करती हैं उन्हें क्या कहते हैं?

Options:

- 1) Transparent objects
पारदर्शी वस्तु
- 2) Opaque objects
अपारदर्शी वस्तु
- 3) Translucent objects
पारभासी वस्तु
- 4) Luminous objects
दीप्त पिंड वस्तु

Correct Answer: Luminous objects

दीप्त पिंड वस्तु

Candidate Answer: Luminous objects

दीप्त पिंड वस्तु

QID : 189 - Which among the following is portable and easy to carry?

निम्नलिखित में से कौन पोर्टेबल तथा ढोने में आसान है?

Options:

1) Super computer

सुपर कंप्यूटर

2) Mini computer

मिनी कंप्यूटर

3) Laptop

लैपटॉप

4) None of these

इनमें से कोई नहीं

Correct Answer: Laptop

लैपटॉप

Candidate Answer: Laptop

लैपटॉप

QID : 190 - Intermolecular space is the least in _____.

अंतरा-अणुक रिक्त स्थान सबसे कम _____ में है।

Options:

1) Water

पानी

2) Steam

वाष्प

3) Ice

बर्फ

4) All of them

इनमें से सभी

Correct Answer: Ice

बर्फ

Candidate Answer: Ice

बर्फ

QID : 191 - The formula of quicklime is _____.

बिना बुझा हुआ चूना का सूत्र _____ है।

Options:

1) Ca(OH)_2

2) CaF_2

3) CaO

4) Ca_2CO_3

Correct Answer: CaO

Candidate Answer: Ca_2CO_3

QID : 192 - Which among the following is not a Abiotic component of an ecosystem?

निम्नलिखित में से कौन सा परितंत्र का एक अजैव घटक नहीं है?

Options:

1) Temperature

ताप

2) Forest

वन

3) Wind

वायु

4) Soil

मृदा

Correct Answer: Forest

वन

Candidate Answer: Forest

वन

QID : 193 - Pradhan Mantri Awas Yojana is launched with an aim achieve housing for all by the year _____.

प्रधानमंत्री आवास योजना का शुभआरंभ वर्ष _____ तक सभी के लिए आवास के लक्ष्य को प्राप्त करने के लिए किया गया है।

Options:

1) 2019

2) 2020

3) 2022

4) 2024

Correct Answer: 2022

Candidate Answer: 2022

QID : 194 - Which of the following was discovered by W.C Roentgen?

डब्ल्यू. सी. रॉटजेन द्वारा निम्नलिखित में से किसकी खोज की गई थी?

Options:

1) Washing Soda

वाशिंग सोडा

2) X-rays

एक्स-रे

3) Telegraph

तार

4) Submarine

पनडुब्बी

Correct Answer: X-rays

एक्स-रे

Candidate Answer: X-rays

एक्स-रे

QID : 195 - Who became the first Indian to score a triple century in Tests?

टेस्ट में तीहरा शतक बनाने वाले पहले भारतीय कौन बने?

Options:

1) Sachin Tendulkar

सचिन तेंदुलकर

2) Virender Sehwag

वीरेंद्र सहवाग

3) Rahul Dravid

राहुल द्रविड़

4) Karun Nair

करुण नायर

Correct Answer: Virender Sehwag

वीरेंद्र सहवाग

Candidate Answer: Virender Sehwag

वीरेंद्र सहवाग

QID : 196 - Stiche clothes such as salwars, kurtas, topees, etc were brought to India by whom?

सलवार, कुर्ता, टोपीज़ आदि जैसे सिले हुए कपड़े भारत में किसके द्वारा लाए गए?

Options:

1) Mughals and Mongols

मुगलों तथा मंगोलों

2) Afghans and Turks

अफ़ग़ान तथा तुर्क

3) Kushans, Shakas and Parthians

कुशन, शाक तथा पार्थियन

4) Portuguese and Britishers

पुर्तगाली तथा अंग्रेजों

Correct Answer: Kushans, Shakas and Parthians

कुशन, शाक तथा पार्थियन

Candidate Answer: Afghans and Turks

अफ़ग़ान तथा तुर्क

QID : 197 - Who among the following is recipient of Rajiv Gandhi Khel Ratna Award 2017?

निम्नलिखित में से कौन राजीव गाँधी खेल रत्न पुरस्कार 2017 के प्राप्तकर्ता हैं?

Options:

1) Sardar Singh

सरदार सिंह

2) Roshan Lal

रोशन लाल

3) V.J Surekha

वी. जे. सुरेखा

4) Bhupender Singh

भूपेंद्र सिंह

Correct Answer: Sardar Singh

सरदार सिंह

Candidate Answer: Sardar Singh
सरदार सिंह

QID : 198 - Who is the author of book named "Anand Math"?

"आनंद मठ" नामक पुस्तक के लेखक कौन हैं?

Options:

- 1) Panini
पाणिनि
- 2) Sarojini Naidu
सरोजिनी नायडू
- 3) Bankim Chandra Chatterjee
बंकिमचंद्र चटर्जी
- 4) Rabindranath Tagore
रवीन्द्रनाथ टैगोर

Correct Answer: Bankim Chandra Chatterjee
बंकिमचंद्र चटर्जी

Candidate Answer: Bankim Chandra Chatterjee
बंकिमचंद्र चटर्जी

QID : 199 - India had signed a deal with which gulf OPEC country that allows it to fill half of an underground crude oil storage facility at Bangalore, Karnataka?

भारत ने किस ओ.पी.ई.सी. (ओपेक) देश के साथ एक समझौते पर हस्ताक्षर किया है, जो बैंगलोर, कर्नाटक में भूमिगत कच्चे तेल भंडारण की सुविधा का आधा हिस्सा भरने की इजाजत प्रदान करता है।

Options:

- 1) Saudi Arabia
सऊदी अरब
- 2) United Arab Emirates
संयुक्त अरब अमीरात
- 3) Iraq
इराक
- 4) Iran
ईरान

Correct Answer: United Arab Emirates
संयुक्त अरब अमीरात

Candidate Answer: United Arab Emirates
संयुक्त अरब अमीरात

QID : 200 - Who among the following observes and reports on ceasefire violations along and across the line of control between India and Pakistan?

निम्नलिखित में से कौन भारत तथा पाकिस्तान के बीच नियंत्रण रेखा पर युद्धविराम के उल्लंघन की निगरानी करता है तथा विवरण देता है?

Options:

- 1) NATO
एन. ए. टी. ओ.
- 2) UNMOGIP
यू. एन. एम. ओ. जी. आई. पी.
- 3) UNESCO
यू. एन. ई. एस. सी. ओ.
- 4) UNCIP
यू. एन. सी. आई. पी.

Correct Answer: UNMOGIP
यू. एन. एम. ओ. जी. आई. पी.

Candidate Answer: [NOT ANSWERED]