

QID : 101 -

In the following question, select the number which can be placed at the sign of question mark (?) from the given alternatives.

निम्नलिखित प्रश्न में दिए गए विकल्पों में से प्रश्न चिह्न (?) के स्थान पर आने वाली संख्या को चुनिए।

2	8	6
5	4	9
7	5	4
14	17	?

Options:

- 1) 20
- 2) 19
- 3) 16
- 4) 18

Correct Answer: 19

Candidate Answer: 19

QID : 102 -

How many triangles are there in the given figure?

दी गई आकृति में कितने त्रिभुज हैं?



Options:

- 1) 8
- 2) 12
- 3) 10
- 4) 7

Correct Answer: 12

Candidate Answer: 12

QID : 103 -

A word is represented by only one set of numbers as given in any one of the alternatives. The sets of numbers given in the alternatives are represented by two classes of alphabets as shown in the given two matrices. The columns and rows of **Matrix-I** are numbered from 0 to 4 and that of **Matrix-II** are numbered from 5 to 9. A letter from these matrices can be represented first by its row and next by its column, for example, 'A' can be represented by 24, 95, etc., and 'M' can be represented by 11, 66, etc. Similarly, you have to identify the set for the word "RAIN".

एक शब्द केवल एक संख्या-समूह द्वारा दर्शाया गया है, जैसा कि विकल्पों में से किसी एक में दिया गया है। विकल्पों में दिए गए संख्या-समूह अक्षरों के दो वर्गों द्वारा दर्शाए गए हैं, जैसा कि दिए गए दो आव्यूहों में है। **आव्यूह-I** के स्तम्भ और पंक्ति की संख्या 0 से 4 है और **आव्यूह-II** की 5 से 9। इन आव्यूहों से एक अक्षर को पहले उसकी पंक्ति और बाद में स्तम्भ संख्या द्वारा दर्शाया जा सकता है। उदाहरण के लिए 'A' को 24, 95, आदि द्वारा दर्शाया जा सकता है तथा 'M' को 11, 66, आदि द्वारा दर्शाया जा सकता है। इसी तरह से आपको प्रश्न में दिए शब्द "RAIN" के लिए समूह को पहचानना है।

Matrix-I
आव्यूह-I

	0	1	2	3	4
0	R	C	W	G	I
1	K	M	O	Q	S
2	U	W	Y	B	A
3	F	H	J	L	N
4	A	R	T	V	X

Matrix-II
आव्यूह-II

	5	6	7	8	9
5	O	K	D	F	X
6	G	M	N	H	V
7	E	O	Y	J	T
8	C	F	W	L	R
9	A	S	U	N	P

Options:

1) 41, 95, 69, 86

2) 00, 24, 04, 98

3) 89, 40, 88, 30

4) 86, 02, 32, 31

Correct Answer: 00, 24, 04, 98

Candidate Answer: 00, 24, 04, 98

QID : 104 -

From the given answer figures, select the one in which the question figure is hidden/embedded.

दी गई उत्तर आकृतियों में से उस उत्तर आकृति को चुनिए जिस में प्रश्न आकृति निहित है।



Options:

1)



2)



3)



4)



Correct Answer:



Candidate Answer:



QID : 105 -

Which answer figure will complete the pattern in the question figure?

कौन सी उत्तर आकृति प्रश्न आकृति के प्रतिरूप को पूरा करेगी?



Options:

1)



2)



3)



4)



Correct Answer:



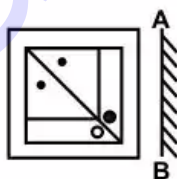
Candidate Answer:



QID : 106 -

If a mirror is placed on the line AB, then which of the answer figures is the right image of the given figure?

यदि एक दर्पण को AB रेखा पर रखा जाए, तो दी गई उत्तर आकृतियों में से कौन सी आकृति प्रश्न आकृति की सही प्रतिबिम्ब होगी?

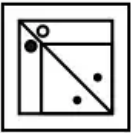


Options:

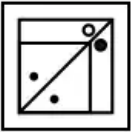
1)



2)



3)



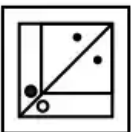
4)



Correct Answer:



Candidate Answer:



QID : 107 -

A piece of paper is folded and punched as shown below in the question figures. From the given answer figures, indicate how it will appear when opened?

नीचे के प्रश्न आकृतियों में दिखाए अनुसार कागज को मोड़कर छेदने तथा खोलने के बाद वह किस उत्तर आकृति जैसा दिखाई देगा?



Options:

1)



2)



3)



4)



Correct Answer:



Candidate Answer:



QID : 108 - If 'P' means '+', 'Q' means '-', 'R' means '÷' and 'S' means 'x', then

11 R 33 S 11 P 4 = ?

यदि 'P' का अर्थ '+', 'Q' का अर्थ '-', 'R' का अर्थ '÷' तथा 'S' का अर्थ 'x' हो, तो

11 R 33 S 11 P 4 = ?

Options:

1) 23/3

2) 13/3

3) 21/3

4) 26/3

Correct Answer: 23/3

Candidate Answer: 21/3

QID : 109 - If $12 \# 3 @ 2 = 38$ and $14 @ 2 \# 3 = 20$, then $4 \# 3 @ 1 = ?$

यदि $12 \# 3 @ 2 = 38$ तथा $14 @ 2 \# 3 = 20$ हो, तो $4 \# 3 @ 1 = ?$

Options:

1) 15

2) 11

3) 13

4) 16

Correct Answer: 13

Candidate Answer: 13

QID : 110 - Arrange the given words in the sequence in which they occur in the dictionary.

1. Brain
2. Boast
3. Brail
4. Broom
5. Boom

निम्नलिखित शब्दों को शब्दकोश में आने वाले क्रम के अनुसार लिखें।

1. Brain
2. Boast
3. Brail
4. Broom
5. Boom

Options:

1) 25134

2) 25314

3) 25341

4) 25431

Correct Answer: 25314

Candidate Answer: 25314

QID : 111 - In the following question, select the missing number from the given series.

3, 6, 11, 18, ?

निम्नलिखित प्रश्न में दिए गए विकल्पों में से लुप्त अंक ज्ञात कीजिए।

3, 6, 11, 18, ?

Options:

1) 27

2) 28

3) 26

4) 31

Correct Answer: 27

Candidate Answer: 27

QID : 112 - A series is given with one term missing. Select the correct alternative from the given ones that will complete the series.

AC, FH, KM, ?

एक अनुक्रम दिया गया है, जिसमें से एक पद लुप्त है। दिए गए विकल्पों में से वह सही विकल्प चुनिए, जो अनुक्रम को पूरा करे।

AC, FH, KM, ?

Options:

1) PQ

2) PR

3) PS

4) QS

Correct Answer: PR

Candidate Answer: PR

QID : 113 - In the following question, select the odd word from the given alternatives.

निम्नलिखित प्रश्न में दिए गए विकल्पों में से विषम शब्द को चुनिए।

Options:

1) Father

पिता

2) Mother

माता

3) Brother

भाई

4) Sister-in-law

भाभी

Correct Answer: Sister-in-law

भाभी

Candidate Answer: Sister-in-law

भाभी

QID : 114 - In the following question, select the odd number pair from the given alternatives.

निम्नलिखित प्रश्न में दिए गए विकल्पों में से विषम संख्या युग्म को चुनिए।

Options:

1) 9 – 25

2) 49 – 81

3) 121 – 179

4) 25 – 49

Correct Answer: 121 – 179

Candidate Answer: 121 – 179

QID : 115 - In the following question, select the odd letters from the given alternatives.

निम्नलिखित प्रश्न में दिए गए विकल्पों में से विषम अक्षरों को चुनिए।

Options:

1) AEI

2) PTX

3) CGK

4) MQT

Correct Answer: MQT

Candidate Answer: MQT

QID : 116 - Identify the diagram that best represents the relationship among the given classes.

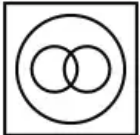
Vegetable, Peas, Orange

वह आरेख चुनिए जो नीचे दिए गए वर्गों के बीच के संबंध का सही निरूपण करता है।

सब्जी, मटर, संतरा

Options:

1)



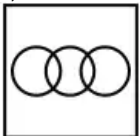
2)



3)



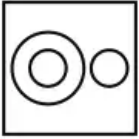
4)



Correct Answer:



Candidate Answer:



QID : 117 - In the following question, select the related word from the given alternatives.

Chair : Sit :: Bed : ?

निम्नलिखित प्रश्न में दिए गए विकल्पों में से संबंधित शब्द को चुनिए।

कुर्सी : बैठना :: पलंग : ?

Options:

1) Wood

लकड़ी

2) Iron

लोहा

3) Sleep

सोना

4) Mattress

गद्दा

Correct Answer: Sleep

सोना

Candidate Answer: Sleep

सोना

QID : 118 - In the following question, select the related number from the given alternatives.

12 : 169 :: 14 : ?

निम्नलिखित प्रश्न में दिए गए विकल्पों में से संबंधित संख्या को चुनिए।

12 : 169 :: 14 : ?

Options:

1) 125

2) 225

3) 625

4) 425

Correct Answer: 225

Candidate Answer: 225

QID : 119 - In the following question, select the related letters from the given alternatives.

DAM : FCO :: PEN : ?

निम्नलिखित प्रश्न में दिए गए विकल्पों में से संबंधित अक्षरों को चुनिए।

DAM : FCO :: PEN : ?

Options:

1) RGP

2) RGQ

3) RFP

4) RFQ

Correct Answer: RGP

Candidate Answer: RGP

QID : 120 - In the following question, select the word which cannot be formed using the letters of the given word.

ACCOMPLISHED

निम्नलिखित विकल्पों में से वह शब्द चुनिए जो दिए गए शब्द के अक्षरों का प्रयोग करके नहीं बनाया जा सकता।

ACCOMPLISHED

Options:

- 1) SHED
- 2) SLIM
- 3) READS
- 4) DISH

Correct Answer: READS

Candidate Answer: READS

QID : 121 - Amit and Chintu starts from same point and walks 20 km in opposite directions to each other. Amit turns left and walks 20 km. Chintu turns left and walks 20 km. How far (in km) are they from each other?

अमित तथा चिटू एक ही बिंदु से चलना आरंभ करते हैं तथा दोनों विपरीत दिशा में 20 कि.मी. चलते हैं। अमित बायीं ओर मुड़कर 20 कि.मी. चलता है। चिटू बायीं ओर मुड़कर 20 कि.मी. चलता है। वे एक दूसरे से कितनी दूरी (कि.मी. में) पर हैं?

Options:

- 1) 80
- 2) $40\sqrt{2}$
- 3) 160
- 4) $80\sqrt{2}$

Correct Answer: $40\sqrt{2}$

Candidate Answer: $40\sqrt{2}$

QID : 122 - Present ages of X and Y are in the ratio 5 : 6 respectively. After seven years this ratio becomes 6 : 7. What is the present age (in years) of X?

X तथा Y की वर्तमान आयु क्रमशः 5 : 6 के अनुपात में है। सात वर्ष पश्चात यह अनुपात 6 : 7 हो जाता है। X की वर्तमान आयु (वर्षों में) क्या है?

Options:

- 1) 35
- 2) 42
- 3) 49
- 4) 28

Correct Answer: 35

Candidate Answer: 35

QID : 123 - In the following question below are given some statements followed by some conclusions. Taking the given statements to be true even if they seem to be at variance from commonly known facts, read all the conclusions and then decide which of the given conclusion logically follows the given statements.

Statements:

- I. All cups are plates.
- II. All plates are blue.

Conclusions:

- I. All cups are blue.
- II. Some plates are cups.

नीचे दिए गए प्रश्न में कुछ कथन और उनके बाद उन कथनों पर आधारित कुछ निष्कर्ष दिए गए हैं, हालांकि उनमें सामान्य ज्ञात तथ्यों से भिन्नता हो सकती है। सभी निष्कर्ष पढ़ें और फिर निर्धारित करें कि दिए गए कौन से निष्कर्ष, दिए गए कथनों के आधार पर युक्तिसंगत हैं।

कथन:

- I. सभी कप प्लेट हैं।
- II. सभी प्लेट नीली हैं।

निष्कर्ष:

- I. सभी कप नीले हैं।
- II. कुछ प्लेट कप हैं।

Options:

- 1) Only conclusion (I) follows.
केवल निष्कर्ष (I) सही है।
- 2) Only conclusion (II) follows.
केवल निष्कर्ष (II) सही है।
- 3) Both conclusion follow.
दोनों ही निष्कर्ष सही हैं।
- 4) Neither conclusion (I) nor conclusion (II) follows.
न तो निष्कर्ष (I) न ही निष्कर्ष (II) सही है।

Correct Answer: Both conclusion follow.

दोनों ही निष्कर्ष सही हैं।

Candidate Answer: Both conclusion follow.
दोनों ही निष्कर्ष सही हैं।

QID : 124 - In a certain code language, "YOUR" is written as "ZPVS". How is "WITH" written in that code language?

एक विशिष्ट कोड भाषा में, "YOUR" को "ZPVS" लिखा जाता है। इस कोड भाषा में "WITH" को किस प्रकार लिखा जाएगा?

Options:

1) XKUJ

2) XJUI

3) YJUI

4) WJUI

Correct Answer: XJUI

Candidate Answer: XJUI

QID : 125 - In a certain code language, "CAR" is written as "22" and "EAR" is written as "24". How is "SIT" written in that code language?

एक विशिष्ट कोड भाषा में, "CAR" को "22" तथा "EAR" को "24" लिखा जाता है। इस कोड भाषा में "SIT" को किस प्रकार लिखा जाएगा?

Options:

1) 47

2) 48

3) 49

4) 50

Correct Answer: 48

Candidate Answer: 48

QID : 126 - How many positive factors of 333 are there?

333 के कितने धनात्मक गुणनखंड हैं?

Options:

1) 5

2) 8

3) 6

4) 9

Correct Answer: 6

Candidate Answer: 6

QID : 127 - What is the value of 603×597 ?

603×597 का मान क्या है?

Options:

1) 359991

2) 359997

3) 360003

4) 359996

Correct Answer: 359991

Candidate Answer: 359991

QID : 128 - How many multiples of 7 are there from 1 to 100 which are not multiples of 4?

1 से 100 तक 7 के ऐसे कितने गुणज हैं जो 4 के गुणज नहीं हैं?

Options:

1) 14

2) 11

3) 10

4) 12

Correct Answer: 11

Candidate Answer: 11

QID : 129 - Which of the following statement/statements is/are true?

- I. Odd \times Even = Odd
II. Odd \times Odd = Even

निम्नलिखित में से कौन सा/से कथन सत्य है?

- I. विषम \times सम = विषम
II. विषम \times विषम = सम

Options:

- 1) Only I
केवल I
2) Only II
केवल II
3) Both I and II
I तथा II दोनों
4) Neither I nor II
न तो I न ही II

Correct Answer: Neither I nor II
न तो I न ही II

Candidate Answer: Neither I nor II
न तो I न ही II

QID : 130 - What is the remainder when 622 is divided by 13?

जब 622 को 13 से विभाजित किया जाता है, तो शेषफल क्या होगा?

Options:

- 1) 2
2) 11
3) 9
4) 17

Correct Answer: 11

Candidate Answer: 11

QID : 131 - Which of the following number is not divisible by 4?

निम्नलिखित में से कौन सी संख्या 4 से विभाज्य नहीं है?

Options:

- 1) 325752
2) 111184
3) 222264
4) 444410

Correct Answer: 444410

Candidate Answer: 444410

QID : 132 - A can do a piece of work in 24 days. He worked for 6 days and B finished the remaining work in 12 days. B alone can do the whole work in how many days?

A किसी कार्य को 24 दिनों में कर सकता है। उसने 6 दिन कार्य किया तथा शेष कार्य B ने 12 दिनों में पूरा किया। B अकेला पूरे कार्य को कितने दिनों में पूरा कर सकता है?

Options:

- 1) 12
2) 16
3) 18
4) 24

Correct Answer: 16

Candidate Answer: 16

QID : 133 - If $\frac{3}{7}$ th of a cistern is filled in 36 minute, then what is the time (in minutes) needed to fill the remaining part?

यदि टंकी का $\frac{3}{7}$ -वां भाग 36 मिनट में भर जाता है, तो बचे हुए भाग को भरने में कितना समय (मिनटों में) लगेगा?

Options:

- 1) 48
2) 42
3) 44
4) 52

Correct Answer: 48

Candidate Answer: 48

QID : 134 - If the ratio of the volume of two cubes is 125 : 27, then what is the ratio of their edges?

यदि दो घनों के आयतनों का अनुपात 125 : 27 है, तो उनकी भुजाओं का अनुपात क्या है?

Options:

- 1) 5 : 3
- 2) 5 : 9
- 3) 25 : 9
- 4) 125 : 27

Correct Answer: 5 : 3

Candidate Answer: 5 : 3

QID : 135 - The marked price of an article is Rs 720 and is sold at a discount of Rs 108. What is the discount percentage?

एक वस्तु का अंकित मूल्य 720 रु है तथा उसे 108 रु की छूट पर बेचा जाता है। छूट प्रतिशत क्या है?

Options:

- 1) 15
- 2) 10
- 3) 12
- 4) 18

Correct Answer: 15

Candidate Answer: 15

QID : 136 - The marked price of an article is Rs 950. A shopkeeper gives a discount of 10% and still makes a profit of 80%. What is the cost price (in Rs) of the article?

एक वस्तु का अंकित मूल्य 950 रु है। एक दुकानदार 10% की छूट देता है तथा फिर भी वह 80% का लाभ कमाता है। वस्तु का क्रय मूल्य (रु में) क्या है?

Options:

- 1) 425
- 2) 450
- 3) 400
- 4) 475

Correct Answer: 475

Candidate Answer: 475

QID : 137 - Two numbers are in ratio 2 : 7. If their difference is 80, then what is the smallest number?

दो संख्याओं का अनुपात 2 : 7 है। यदि उनका अंतर 80 है, तो सबसे छोटी संख्या क्या है?

Options:

- 1) 18
- 2) 24
- 3) 16
- 4) 32

Correct Answer: 32

Candidate Answer: 32

QID : 138 - If $2A = 5B = 10C$, then what is $A : B : C$?

यदि $2A = 5B = 10C$ हो, तो $A : B : C$ क्या है?

Options:

- 1) 2 : 5 : 10
- 2) 5 : 2 : 1
- 3) 2 : 5 : 3
- 4) 1 : 2 : 3

Correct Answer: 5 : 2 : 1

Candidate Answer: 5 : 2 : 1

QID : 139 - The average of 35 numbers is 6. The average of the first 18 numbers is 4 and the average of the last 18 numbers be 9. What is the value of middle number?

35 संख्याओं का औसत 6 है। प्रथम 18 संख्याओं का औसत 4 एवं अंतिम 18 संख्याओं का औसत 9 है। मध्य संख्या का मान क्या है?

Options:

- 1) 21
- 2) 24
- 3) 27
- 4) 18

Correct Answer: 24

Candidate Answer: 24

QID : 140 - If the ratio of the cost price and selling price of an article is 5 : 4, then what will be the loss percentage?

यदि एक वस्तु के क्रय मूल्य तथा विक्रय मूल्य का अनुपात 5 : 4 है, तो हानि प्रतिशत क्या होगा?

Options:

- 1) 20
- 2) 25
- 3) 30
- 4) 50

Correct Answer: 20

Candidate Answer: 20

QID : 141 - If the profit is 25%, then what will be the ratio of cost price to selling price respectively?

यदि लाभ 25% है, तो क्रमशः क्रय मूल्य तथा विक्रय मूल्य का अनुपात क्या होगा?

Options:

- 1) 3 : 4
- 2) 4 : 5
- 3) 2 : 3
- 4) 5 : 6

Correct Answer: 4 : 5

Candidate Answer: 4 : 5

QID : 142 - When 120 is subtracted from 70% of a number, the result is 90. What is the value of the number?

किसी संख्या के 70% में से 120 घटाने पर परिणाम 90 आता है। संख्या का मान क्या है?

Options:

- 1) 300
- 2) 280
- 3) 450
- 4) 270

Correct Answer: 300

Candidate Answer: 300

QID : 143 - If one-third of a number is 75, then what will be the 80% of that number?

यदि किसी संख्या का एक-तिहाई 75 है, तो उस संख्या का 80% क्या होगा?

Options:

- 1) 180
- 2) 240
- 3) 270
- 4) 360

Correct Answer: 180

Candidate Answer: 180

QID : 144 - Keshav can cover a certain distance in 12 hours if he walks at the rate of 8 km/hr. If he covers the same distance by train at the rate of 16 km/hr, then what is the time (in hours) taken by him?

केशव यदि 8 कि.मी./घंटा की गति से चले तो वह एक निश्चित दूरी 12 घंटे में तय कर सकता है। यदि वह वही दूरी रेलगाड़ी से 16 कि.मी./घंटा की गति से तय करे, तो उसे कितना समय (घंटों में) लगेगा?

Options:

- 1) 3
- 2) 5
- 3) 6
- 4) 9

Correct Answer: 6

Candidate Answer: 6

QID : 145 - If 350 meters long train takes 14 seconds to cross a pole, then what is the speed (in km/hr) of the train?

यदि एक 350 मीटर लम्बी रेलगाड़ी एक खम्बे को पार करने के लिए 14 सेकण्ड लेती है, तो रेलगाड़ी की गति (कि.मी./घंटा में) क्या है?

Options:

- 1) 54
- 2) 72
- 3) 90
- 4) 36

Correct Answer: 90

Candidate Answer: 90

QID : 146 - A sum was invested for 7 years at a certain annual rate of simple interest. If the interest rate is increased by 8%, then the interest increases by Rs 2240. What is the sum (in Rs) invested?

एक धनराशि ब्याज की किसी वार्षिक दर से 7 वर्ष के लिए साधारण ब्याज पर निवेश की जाती है। यदि ब्याज दर 8% से बढ़ा दी जाए, तो ब्याज 2240 रु से बढ़ जाता है। निवेश की गई धनराशि (रु में) क्या है?

Options:

- 1) 3500
- 2) 4000
- 3) 5000
- 4) 6000

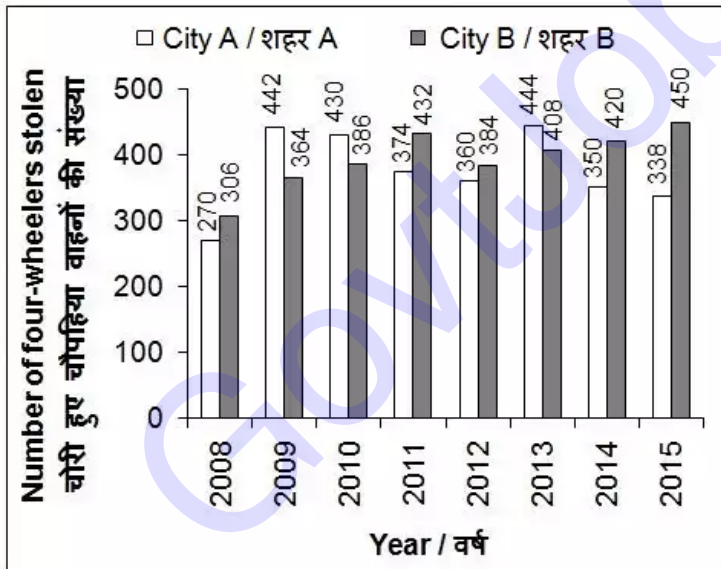
Correct Answer: 4000

Candidate Answer: 4000

QID : 147 -

The bar chart given below shows the number of four-wheelers stolen in two cities A and B from the years 2008 to 2015.

नीचे दिए गए दण्ड चित्र में वर्ष 2008 से 2015 तक दो शहरों A तथा B में चोरी हुए चौपहिया वाहनों की संख्या को दर्शाया गया है।



In which year, the total number of four-wheelers stolen was maximum?

किस वर्ष में, चोरी हुए चौपहिया वाहनों की कुल संख्या सबसे अधिक है?

Options:

- 1) 2010
- 2) 2013
- 3) 2015
- 4) 2009

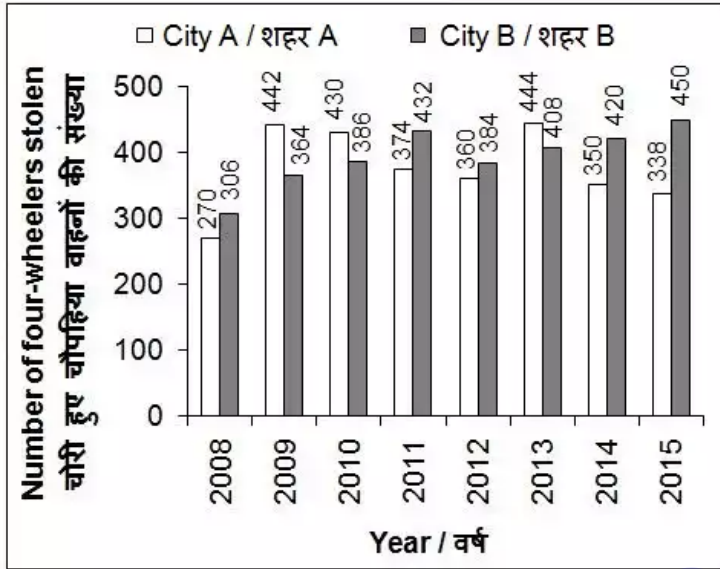
Correct Answer: 2013

Candidate Answer: 2013

QID : 148 -

The bar chart given below shows the number of four-wheelers stolen in two cities A and B from the years 2008 to 2015.

नीचे दिए गए दण्ड चित्र में वर्ष 2008 से 2015 तक दो शहरों A तथा B में चोरी हुए चौपहिया वाहनों की संख्या को दर्शाया गया है।



In city A, the percentage change in the number of four-wheelers stolen in two consecutive years is maximum in which year?

शहर A में, क्रमागत दो वर्षों में चोरी हुए चौपहिया वाहनों की संख्या में प्रतिशत परिवर्तन किस वर्ष में अधिकतम है?

Options:

1) 2009

2) 2011

3) 2012

4) 2013

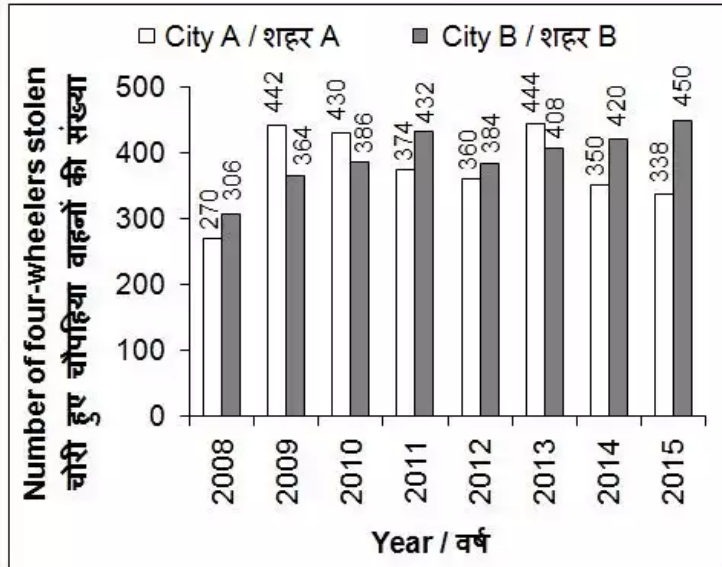
Correct Answer: 2009

Candidate Answer: 2009

QID : 149 -

The bar chart given below shows the number of four-wheelers stolen in two cities A and B from the years 2008 to 2015.

नीचे दिए गए दण्ड चित्र में वर्ष 2008 से 2015 तक दो शहरों A तथा B में चोरी हुए चौपहिया वाहनों की संख्या को दर्शाया गया है।



The number of four-wheelers stolen in city B is what percent of that of city A in 2014 ?

वर्ष 2014 में शहर B में चोरी हुए चौपहिया वाहनों की संख्या शहर A का कितना प्रतिशत है?

Options:

1) 83.33

2) 120

3) 77.77

4) 128.57

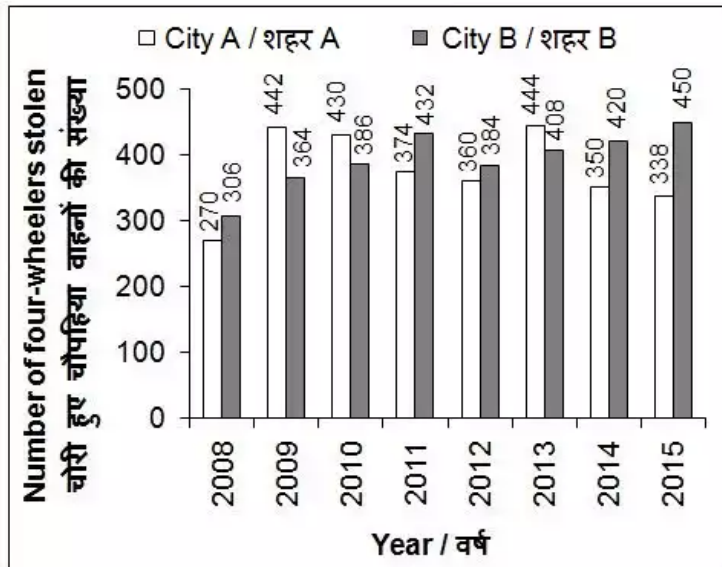
Correct Answer: 120

Candidate Answer: 83.33

QID : 150 -

The bar chart given below shows the number of four-wheelers stolen in two cities A and B from the years 2008 to 2015.

नीचे दिए गए दण्ड चित्र में वर्ष 2008 से 2015 तक दो शहरों A तथा B में चोरी हुए चौपहिया वाहनों की संख्या को दर्शाया गया है।



What is the average number of four-wheelers stolen in city A in the given period?

दी गई अवधि में, शहर A में चोरी हुए चौपहिया वाहनों की औसत संख्या क्या है?

Options:

- 1) 358
- 2) 364
- 3) 376
- 4) 396

Correct Answer: 376

Candidate Answer: 376

QID : 151 - In the following question, some part of the sentence may have errors. Find out which part of the sentence has an error and select the appropriate option. If a sentence is free from error, select 'No Error'.

It was also claim that the players (1)/ were confused with drastic changes (2)/ in the strategy of every match (3)/ No Error (4)

Options:

- 1) 1
- 2) 2
- 3) 3
- 4) 4

Correct Answer: 1

Candidate Answer: 1

QID : 152 - In the following question, some part of the sentence may have errors. Find out which part of the sentence has an error and select the appropriate option. If a sentence is free from error, select 'No Error'.

Tension prevail late on Friday after (1)/ angry protesters pelted stones at the police, (2)/ torched vehicles and vandalized public property (3)/ No Error (4)

Options:

- 1) 1
- 2) 2
- 3) 3
- 4) 4

Correct Answer: 1

Candidate Answer: 1

QID : 153 - In the following question, the sentence given with blank to be filled in with an appropriate word. Select the correct alternative out of the four and indicate it by selecting the appropriate option.

Sunita was musing _____ memories of the past.

Options:

- 1) on
- 2) off
- 3) for
- 4) to

Correct Answer: on

Candidate Answer: on

QID : 154 - In the following question, the sentence given with blank to be filled in with an appropriate word. Select the correct alternative out of the four and indicate it by selecting the appropriate option.

Karishma has not been able to recall where _____.

Options:

- 1) did she lived
- 2) does she lived
- 3) lived her
- 4) she lived

Correct Answer: she lived

Candidate Answer: she lived

QID : 155 - In the following question, out of the given four alternatives, select the one which best expresses the meaning of the given word.

Bewitched

Options:

- 1) Disgusting
- 2) Captivated
- 3) Turn of
- 4) Prevent

Correct Answer: Captivated

Candidate Answer: Disgusting

QID : 156 - In the following question, out of the given four alternatives, select the one which best expresses the meaning of the given word.

Commotion

Options:

- 1) Fuss
- 2) Calm
- 3) Silence
- 4) Quiet

Correct Answer: Fuss

Candidate Answer: Fuss

QID : 157 - In the following question, out of the given four alternatives, select the one which best expresses the meaning of the given word.

Chagrin

Options:

- 1) Embarrassment
- 2) Delight
- 3) Pleasure
- 4) Happiness

Correct Answer: Embarrassment

Candidate Answer: Embarrassment

QID : 158 - In the following question, out of the given four alternatives, select the one which is opposite in meaning of the given word.

Arid

Options:

- 1) Fertile
- 2) Desert
- 3) Thirsty
- 4) Dusty

Correct Answer: Fertile

Candidate Answer: Fertile

QID : 159 - In the following question, out of the given four alternatives, select the one which is opposite in meaning of the given word.

Circuitous

Options:

- 1) Circular
- 2) Direct
- 3) Long way
- 4) Roundabout

Correct Answer: Direct

Candidate Answer: Direct

QID : 160 - In the following question, out of the given four alternatives, select the one which is opposite in meaning of the given word.

Apposite

Options:

- 1) Suitable
- 2) Inappropriate
- 3) Timely
- 4) Relevant

Correct Answer: Inappropriate

Candidate Answer: Inappropriate

QID : 161 - In the following question, out of the four given alternatives, select the alternative which best expresses the meaning of the Idiom/Phrase.

On the wrong side of sixty

Options:

- 1) To be inexperienced
- 2) To be older than sixty
- 3) To be able to convince
- 4) To be unsuitable

Correct Answer: To be older than sixty

Candidate Answer: To be older than sixty

QID : 162 - In the following question, out of the four given alternatives, select the alternative which best expresses the meaning of the Idiom/Phrase.

A cakewalk

Options:

- 1) Leisurely walk
- 2) Romantic walk
- 3) Long drive
- 4) Something very easy

Correct Answer: Something very easy

Candidate Answer: Something very easy

QID : 163 - Improve the bracketed part of the sentence.

The Finance Minister has acknowledged that the challenge before the government now **(are to work out)** both policy and investment measures to boost momentum.

Options:

- 1) were to work out
- 2) will to work out
- 3) is to work out
- 4) No improvement

Correct Answer: is to work out

Candidate Answer: is to work out

QID : 164 - Improve the bracketed part of the sentence.

For a change, performance, and not political expedience, (**seem to have**) dictated the nature and extent of the shuffle in the Council of Ministers.

Options:

- 1) seemingly has
- 2) seems to have
- 3) seemed to
- 4) No improvement

Correct Answer: seems to have

Candidate Answer: seems to have

QID : 165 - In the following question, out of the four given alternatives, select the alternative which is the best substitute of the phrase.

Words which are opposite in meaning

Options:

- 1) Synonym
- 2) Antonym
- 3) Homonym
- 4) Pseudonym

Correct Answer: Antonym

Candidate Answer: Antonym

QID : 166 - In the following question, out of the four given alternatives, select the alternative which is the best substitute of the phrase.

Happening every second year

Options:

- 1) Bilingual
- 2) Aerial
- 3) Binomial
- 4) Biennial

Correct Answer: Biennial

Candidate Answer: Biennial

QID : 167 - In the following question, a word has been written in four different ways out of which only one is correctly spelt. Select the correctly spelt word.

Options:

- 1) Accedent
- 2) Akcident
- 3) Accident
- 4) Acciant

Correct Answer: Accident

Candidate Answer: Accident

QID : 168 - In the following question, a word has been written in four different ways out of which only one is correctly spelt. Select the correctly spelt word.

Options:

- 1) Acomplish
- 2) Accomplish
- 3) Akcomplish
- 4) Accomplish

Correct Answer: Accomplish

Candidate Answer: Accomplish

QID : 169 - Rearrange the parts of the sentence in correct order.

Small scale industry

P: and marketing of output

Q: for procuring raw material

R: needs government's support

Options:

1) PQR

2) RQP

3) QRP

4) QPR

Correct Answer: RQP

Candidate Answer: RQP

QID : 170 - Rearrange the parts of the sentence in correct order.

Sapna, a small

P: on her three

Q: acres of land

R: farmer, grows groundnuts

Options:

1) RPQ

2) RQP

3) PQR

4) PRQ

Correct Answer: RPQ

Candidate Answer: RPQ

QID : 171 - In the following passage some of the words have been left out. Read the passage carefully and select the correct answer for the given blank out of the four alternatives.

Religious ritual is "the _____ side of religion. It is behaviour with reference to _____ empirical entities and sacred- objects". It includes any kind of behavior (such as the _____ of special clothing and the immersion in certain rivers, in the Ganga for instance), prayers, hymns, creedal recitations, and other forms of reverence, usually performed _____ other people and in public. It can include singing, dancing, weeping, crawling, starving, feasting, etc. Failure to perform these acts is considered a _____.

"the _____ side of religion.

Options:

1) funny

2) active

3) observe

4) social

Correct Answer: active

Candidate Answer: social

QID : 172 - In the following passage some of the words have been left out. Read the passage carefully and select the correct answer for the given blank out of the four alternatives.

Religious ritual is "the _____ side of religion. It is behaviour with reference to _____ empirical entities and sacred- objects". It includes any kind of behavior (such as the _____ of special clothing and the immersion in certain rivers, in the Ganga for instance), prayers, hymns, creedal recitations, and other forms of reverence, usually performed _____ other people and in public. It can include singing, dancing, weeping, crawling, starving, feasting, etc. Failure to perform these acts is considered a _____.

to _____ empirical entities

Options:

1) super

2) beautiful

3) related

4) indifferent

Correct Answer: super

Candidate Answer: super

QID : 173 - In the following passage some of the words have been left out. Read the passage carefully and select the correct answer for the given blank out of the four alternatives.

Religious ritual is "the _____ side of religion. It is behaviour with reference to _____ empirical entities and sacred- objects". It includes any kind of behavior (such as the _____ of special clothing and the immersion in certain rivers, in the Ganga for instance), prayers, hymns, creedal recitations, and other forms of reverence, usually performed _____ other people and in public. It can include singing, dancing, weeping, crawling, starving, feasting, etc. Failure to perform these acts is considered a _____.

as the _____ of special clothing and the immersion

Options:

1) reminding

2) weaning

3) wearing

4) gearing

Correct Answer: wearing

Candidate Answer: wearing

QID : 174 - In the following passage some of the words have been left out. Read the passage carefully and select the correct answer for the given blank out of the four alternatives.

Religious ritual is "the _____ side of religion. It is behaviour with reference to _____ empirical entities and sacred- objects". It includes any kind of behavior (such as the _____ of special clothing and the immersion in certain rivers, in the Ganga for instance), prayers, hymns, creedal recitations, and other forms of reverence, usually performed _____ other people and in public. It can include singing, dancing, weeping, crawling, starving, feasting, etc. Failure to perform these acts is considered a _____.

performed _____ other people and in public.

Options:

1) with

2) from

3) at

4) of

Correct Answer: with

Candidate Answer: with

QID : 175 - In the following passage some of the words have been left out. Read the passage carefully and select the correct answer for the given blank out of the four alternatives.

Religious ritual is "the _____ side of religion. It is behaviour with reference to _____ empirical entities and sacred- objects". It includes any kind of behavior (such as the _____ of special clothing and the immersion in certain rivers, in the Ganga for instance), prayers, hymns, creedal recitations, and other forms of reverence, usually performed _____ other people and in public. It can include singing, dancing, weeping, crawling, starving, feasting, etc. Failure to perform these acts is considered a _____.

these acts is considered a _____.

Options:

1) honour

2) pride

3) fun

4) sin

Correct Answer: sin

Candidate Answer: sin

QID : 176 - Tax on import is an example of which among the following?

आयात पर कर निम्नलिखित में से किसका उदाहरण है?

Options:

1) Foreign trade

विदेशी व्यापार

2) Trade Barrier

व्यापार अवरोध

3) Economic growth

आर्थिक विकास

4) Globalisation

भूमंडलीकरण

Correct Answer: Trade Barrier

व्यापार अवरोध

Candidate Answer: Economic growth

आर्थिक विकास

QID : 177 - What are the things which people seek besides income in economy?

I. equal treatment

II. Freedom

III. Security

अर्थव्यवस्था में आय के अलावा लोगों द्वारा तलाश की जाने वाली चीजें क्या हैं?

I. बराबर उपचार

II. आजादी

III. सुरक्षा

Options:

- 1) only I
केवल I
- 2) only II
केवल II
- 3) Both II & III
II तथा III दोनों
- 4) All I, II & III
I, II तथा III सभी

Correct Answer: All I, II & III
I, II तथा III सभी

Candidate Answer: All I, II & III
I, II तथा III सभी

QID : 178 - Fundamental Rights is enumerated in which part of Indian Constitution?

भारतीय संविधान के किस भाग में मौलिक अधिकार वर्णित है?

Options:

- 1) Part I
भाग I
- 2) Part II
भाग II
- 3) Part III
भाग III
- 4) Part IV
भाग IV

Correct Answer: Part III
भाग III

Candidate Answer: Part III
भाग III

QID : 179 - Democracy is a form of government in which rulers are _____ by the people.

लोकतंत्र शासन का एक ऐसा रूप है, जिसमें शासक, लोगों द्वारा _____ जाता है।

Options:

- 1) Nominated
मनोनित किया
- 2) Elected
चुना
- 3) not elected
नहीं चुना
- 4) not selected
चयनित नहीं किया

Correct Answer: Elected
चुना

Candidate Answer: Elected
चुना

QID : 180 - When was the Permanent Settlement introduced by the East India Company?

ईस्ट इंडिया कंपनी द्वारा स्थायी बंदोबस्त कब लागू किया गया था?

Options:

- 1) 1793
- 2) 1765
- 3) 1776
- 4) 1765

Correct Answer: 1793

Candidate Answer: 1765

QID : 181 - Jahangir was married to whom?

जहाँगीर किसके साथ विवाहित थे?

Options:

- 1) Mehrunnissa
मेहरुन्निसा
- 2) Hazrat Mahal
हजरत महल
- 3) Jodha Bai
जोधा बाई
- 4) None of these
इनमें से कोई नहीं

Correct Answer: Mehrunnissa
मेहरुन्निसा

Candidate Answer: Hazrat Mahal
हजरत महल

QID : 182 - $66\frac{1}{2}$ degrees north latitude marks what?

$66\frac{1}{2}$ अंश उत्तरी अक्षांश क्या दर्शाता है?

Options:

- 1) Tropic of Cancer
कर्क रेखा
- 2) Tropic of Capricorn
मकर रेखा
- 3) Arctic Circle
उत्तर ध्रुव (आर्कटिक) वृत्त
- 4) Antarctic Circle
दक्षिण ध्रुव (अंटार्कटिक) वृत्त

Correct Answer: Arctic Circle
उत्तर ध्रुव (आर्कटिक) वृत्त

Candidate Answer: Tropic of Cancer
कर्क रेखा

QID : 183 - What is the duration of cold weather season (winter) in India?

भारत में ठंड के मौसम (सर्दी) की अवधि क्या है?

Options:

- 1) March to May
मार्च से मई
- 2) October and November
अक्टूबर से नवम्बर
- 3) December to February
दिसम्बर से फरवरी
- 4) June to September
जून से सितम्बर

Correct Answer: December to February
दिसम्बर से फरवरी

Candidate Answer: December to February
दिसम्बर से फरवरी

QID : 184 - Which of the following is/are Abiotic components?

- I. Rocks
- II. Plants
- III. Soil

निम्नलिखित में से कौन से अजैव घटक हैं?

- I. चट्टान
- II. पौधे
- III. मिट्टी

Options:

- 1) Only I
केवल I
- 2) Only II
केवल II
- 3) Both I and III
I तथा III दोनों
- 4) All I II and III
सभी I, II तथा III

Correct Answer: Both I and III
I तथा III दोनों

Candidate Answer: Both I and III
I तथा III दोनों

QID : 185 - The hardest part of a tooth is the _____.

एक दाँत का कठोरतम भाग _____ होता है।

Options:

- 1) Gumline
मसूड़े
- 2) Enamel
इनेमल
- 3) Pulp
मज्जा
- 4) Root
जड़

Correct Answer: Enamel

इनेमल

Candidate Answer: Enamel

इनेमल

QID : 186 - Lungs have a large number of alveoli for _____.

फेफड़ों में वायुकोशों की एक बड़ी संख्या _____ पायी जाती है।

Options:

- 1) having spongy texture and proper shape
फेफड़ों को स्पंजी बनावट और समुचित आकार देने के लिए
- 2) more surface area for diffusion of gases
गैसों के विसरण हेतु अधिक सतही क्षेत्र के लिए
- 3) more space for increasing volume of inspired air
निस्वासित वायु के बढ़ते हुए आयतन के लिए अधिक स्थान हेतु
- 4) more nerve supply
अधिक तंत्रिका आपूर्ति हेतु

Correct Answer: more surface area for diffusion of gases

गैसों के विसरण हेतु अधिक सतही क्षेत्र के लिए

Candidate Answer: more surface area for diffusion of gases

गैसों के विसरण हेतु अधिक सतही क्षेत्र के लिए

QID : 187 - When do the magnets loose their properties?

चुंबक अपने गुण कब खो देते हैं?

Options:

- 1) On heating
गर्म करने पर
- 2) On hammering
हथौड़े से पीटने पर
- 3) On dropping from some height
ऊँचाई से गिराए जाने पर
- 4) All options are correct
सभी विकल्प सही हैं

Correct Answer: All options are correct

सभी विकल्प सही हैं

Candidate Answer: On hammering

हथौड़े से पीटने पर

QID : 188 - What is the distance covered by an object in unit time called?

किसी वस्तु द्वारा एकांक समय में तय की गई दूरी को क्या कहते हैं?

Options:

- 1) Force
बल
- 2) Speed
चाल
- 3) Motion
गति
- 4) Acceleration
त्वरण

Correct Answer: Speed

चाल

Candidate Answer: Speed

चाल

QID : 189 - What does an information becomes after input into a computer?

कंप्यूटर में इनपुट के बाद जानकारी क्या कहलाती है?

Options:

- 1) Program
प्रोग्राम
- 2) Software
सॉफ्टवेयर
- 3) Hardware
हार्डवेयर
- 4) Data
आँकड़ा

Correct Answer: Data

आँकड़ा

Candidate Answer: Data

आँकड़ा

QID : 190 - The process of converting gas into liquid on cooling is called _____.

ठंडा करने पर तरल को गैस में बदलने की प्रक्रिया को _____ कहा जाता है।

Options:

- 1) Evaporation
वाष्पीकरण
- 2) Condensation
संक्षेपण
- 3) Diffusion
विषरण
- 4) Sublimation
उर्ध्वपातन

Correct Answer: Condensation
संक्षेपण

Candidate Answer: Condensation
संक्षेपण

QID : 191 - CO₂ turns lime water milky, due to the formation of _____.

CO₂ _____ के गठन के कारण चूने के पानी को दूधिया बना देता है।

Options:

- 1) Ca₂O₂
- 2) CaCO₃
- 3) Ca(OH)₂
- 4) Ca₂O₂

Correct Answer: CaCO₃

Candidate Answer: Ca₂O₂

QID : 192 - Which among the following is not a natural ecosystem?

निम्नलिखित में से कौन सा एक प्राकृतिक परितंत्र नहीं है?

Options:

- 1) Forest
वन
- 2) Pond
तालाब
- 3) Lake
झील
- 4) Gardens
बगीचा

Correct Answer: Gardens
बगीचा

Candidate Answer: Gardens
बगीचा

QID : 193 - Which among the following are the basic services provided under Smart Cities Plan?

निम्नलिखित में से कौन से स्मार्ट सिटी योजना के अंतर्गत मूल सुविधाएँ हैं?

Options:

- 1) Adequate water supply
पर्याप्त जल की आपूर्ति
- 2) Assured electric supply
निश्चित बिजली की आपूर्ति
- 3) Sanitation, including solid waste management
ठोस अपशिष्ट प्रबंधन सहित स्वच्छता
- 4) All are basic services
ये सभी मूल सुविधाएँ हैं

Correct Answer: All are basic services
ये सभी मूल सुविधाएँ हैं

Candidate Answer: All are basic services
ये सभी मूल सुविधाएँ हैं

QID : 194 - Who invented Stethoscope?

स्टेथोस्कोप का आविष्कार किसने किया?

Options:

- 1) David Bushnell
डेविड बुशनेल
- 2) James Watt
जेम्स वाट
- 3) James Harrison
जेम्स हैरिसन
- 4) Rene Laennac
रेने लाएनेक

Correct Answer: Rene Laennac
रेने लाएनेक

Candidate Answer: [NOT ANSWERED]

QID : 195 - Who was the first Indian women to scale the Mount Everest?

माउंट एवरेस्ट पर चढ़ने वाली प्रथम भारतीय महिला कौन थी?

Options:

- 1) Bachhendri Pal
बर्चेद्री पाल
- 2) Chhurim Sherpa
छुरीम शेर्पा
- 3) Anshu Jamsenpa
अंशु जमशेपा
- 4) Anita Kundu
अनिता कुंडू

Correct Answer: Bachhendri Pal
बर्चेद्री पाल

Candidate Answer: Bachhendri Pal
बर्चेद्री पाल

QID : 196 - Shirts, trousers, skirts etc were brought to India in the eighteenth century by whom?

शर्ट, पतलून, स्कर्ट आदि भारत में अठारहवीं शताब्दी में किसके द्वारा लाए गए थे?

Options:

- 1) Europeans
युरोपियन
- 2) Mongols
मंगोल
- 3) Afghans
अफ़गान
- 4) Turks
तुर्क

Correct Answer: Europeans
युरोपियन

Candidate Answer: Europeans
युरोपियन

QID : 197 - Who among the following is not a recipient of Dronacharya Award 2017?

निम्नलिखित में से कौन द्रोणाचार्य पुरस्कार 2017 का प्राप्तकर्ता नहीं है?

Options:

- 1) Dr. R Gandhi
डॉ. आर. गांधी
- 2) Sardar Singh
सरदार सिंह
- 3) Roshan Lal
रोशन लाल
- 4) G.S.S.V Prasad
जी. एस. एस. वी. प्रसाद

Correct Answer: Sardar Singh
सरदार सिंह

Candidate Answer: [NOT ANSWERED]

QID : 198 - Who is the author of book named "Essays on Gita"?

"एस्सेज़ ऑन गीता" नामक पुस्तक के लेखक कौन हैं?

Options:

- 1) Bal Gangadhar Tilak
बाल गंगाधर तिलक
- 2) Ayub Khan
अयूब खॉ
- 3) Indira Gandhi
इंदिरा गांधी
- 4) Aurobindo Ghosh
अरबिंदो घोष

Correct Answer: Aurobindo Ghosh

अरबिंदो घोष

Candidate Answer: Ayub Khan

अयूब खॉ

QID : 199 - Which among the following is an annual conference of geopolitics and geo-economics held in New Delhi?

निम्नलिखित में से कौन सा नई दिल्ली में आयोजित भू-राजनीति और भू-अर्थशास्त्र का वार्षिक सम्मेलन है?

Options:

1) Shangri-la Dialogue

शांगरी-ला वार्ता

2) Hague code

हेग कोड

3) Raisina Dialogue

रायसीना वार्ता

4) Petrapole dialogue

पेट्रापोल वार्ता

Correct Answer: Raisina Dialogue

रायसीना वार्ता

Candidate Answer: [NOT ANSWERED]

QID : 200 - Arun-III Hydro Electric Project is to be set up in which neighbouring country of India?

भारत के किस पड़ोसी देश में अरुण-III हाइड्रो इलेक्ट्रिक परियोजना की स्थापना की जानी है?

Options:

1) Myanmar

म्यांमार

2) Bangladesh

बांग्लादेश

3) Afghanistan

अफ़ग़ानिस्तान

4) Nepal

नेपाल

Correct Answer: Nepal

नेपाल

Candidate Answer: Nepal

नेपाल