

[Click to Print](#) [logout](#)[Challenges](#)

Staff Selection Commission
(Government Of India)

QID : 101 - Select the related word from the given alternatives.

Office : Colleagues :: Home : ?

दिए गए विकल्पों में से संबंधित शब्द को चुनिए।

कार्यालय : सहकर्मी :: घर : ?

Options:

- 1) Rest
आराम
- 2) Work
काम
- 3) Friends
दोस्त
- 4) Family
परिवार

Correct Answer: Family
परिवार

Candidate Answer: Family
परिवार

QID : 102 - Select the related letters from the given alternatives.

XVT : RPN :: LJH : ?

दिए गए विकल्पों में से संबंधित अक्षरों को चुनिए।

XVT : RPN :: LJH : ?

Options:

- 1) FDB
- 2) ECA
- 3) KIG
- 4) QOM

Correct Answer: FDB

Candidate Answer: FDB

QID : 103 - Select the related number from the given alternatives.

0.04 : 0.2 :: 0.09 : ?

दिए गए विकल्पों में से संबंधित संख्या को चुनिए।

0.04 : 0.2 :: 0.09 : ?

Options:

- 1) 0.3
- 2) 0.6
- 3) 0.9
- 4) 2

Correct Answer: 0.3

Candidate Answer: 0.3

QID : 104 - Select the odd word from the given alternatives.

दिए गए विकल्पों में से विषम शब्द को चुनिए।

Options:

- 1) Chair
कुर्सी
- 2) Bench
बेंच
- 3) Bed
बिस्तर
- 4) Sofa
सोफा

Correct Answer: Bed
बिस्तर

Candidate Answer: Bed
बिस्तर

QID : 105 - Select the odd letters from the given alternatives.

दिए गए विकल्पों में से विषम अक्षरों को चुनिए।

Options:

- 1) CEG
- 2) UXZ
- 3) ORT
- 4) ILN

Correct Answer: CEG

Candidate Answer: CEG

QID : 106 - Select the odd number from the given alternatives.

दिए गए विकल्पों में से विषम संख्या को चुनिए।

Options:

- 1) 75
- 2) 65
- 3) 82
- 4) 85

Correct Answer: 82

Candidate Answer: 82

QID : 107 - A series is given, with one word missing. Choose the correct alternative from the given ones that will complete the series.

isobar, artist, statute, teapot, otters, ?

एक अनुक्रम दिया गया है, जिसमें एक शब्द लुप्त है। दिए गए विकल्पों में से वह सही विकल्प चुनिए जो अनुक्रम को पूरा करे।

isobar, artist, statute, teapot, otters, ?

Options:

- 1) pencil
- 2) erect
- 3) tongue
- 4) meter

Correct Answer: erect

Candidate Answer: erect

QID : 108 - A series is given, with one term missing. Choose the correct alternative from the given ones that will complete the series.

XX, XOX, XXXX, XXOXX, XXXXXX, ?

एक अनुक्रम दिया गया है, जिसमें एक पद लुप्त है। दिए गए विकल्पों में से वह सही विकल्प चुनिए जो अनुक्रम को पूरा करे।

XX, XOX, XXXX, XXOXX, XXXXXX, ?

Options:

- 1) XXXOXXX
- 2) XXXOXX
- 3) XXXXXX
- 4) XXXOXXO

Correct Answer: XXXOXXX

Candidate Answer: XXXOXXX

QID : 109 - A series is given, with one number missing. Choose the correct alternative from the given ones that will complete the series.

3, 5/3, 1/3, ?, -7/3, -11/3

एक अनुक्रम दिया गया है, जिसमें एक संख्या लुप्त है। दिए गए विकल्पों में से वह सही विकल्प चुनिए जो अनुक्रम को पूरा करे।

3, 5/3, 1/3, ?, -7/3, -11/3

Options:

1) -2/3

2) -4/3

3) -1

4) -2

Correct Answer: -1**Candidate Answer:** -1**QID : 110** - Divit's birthday is on Friday 30th June. On what day of the week will be Samar's Birthday in the same year if Samar was born on 15th November?

दिवित का जन्मदिन शुक्रवार 30 जून को है। यदि समर का जन्म 15 नवंबर को हुआ था तो उसी वर्ष समर का जन्मदिन सप्ताह में किस दिन होगा?

Options:

1) Tuesday

मंगलवार

2) Friday

शुक्रवार

3) Wednesday

बुधवार

4) Saturday

शनिवार

Correct Answer: Wednesday

बुधवार

Candidate Answer: Wednesday

बुधवार

QID : 111 - The weights of 4 boxes are 100, 70, 50 and 90 kilograms. Which of the following cannot be the total weight, in kilograms, of any combination of these boxes and in a combination a box can be used only once?

चार बक्सों का वजन 100, 70, 50 और 90 किलोग्राम है। निम्नलिखित में से बक्सों के किसी भी संयोजन से कुल वजन, किलोग्राम में कौन सा नहीं हो सकता है और एक संयोजन में एक बक्सा एक ही बार प्रयोग में लाया जा सकता है?

Options:

1) 310

2) 260

3) 230

4) 210

Correct Answer: 230**Candidate Answer:** 230**QID : 112** - From the given words, select the word which cannot be formed using the letters of the given word.**RECLINES**

निम्नलिखित विकल्पों में से वह शब्द चुनिए जो दिए गए शब्द के अक्षरों का प्रयोग करके नहीं बनाया जा सकता:

RECLINES**Options:**

1) SINCE

2) RELIC

3) LINER

4) SCARE

Correct Answer: SCARE**Candidate Answer:** SCARE**QID : 113** - If **REGAINS** is coded as **QDFZHMR**, then how will **PRY** be coded as?यदि **REGAINS** को किसी कोड में **QDFZHMR** लिखा जाता है, तो **PRY** को उसी कोड में क्या लिखा जाएगा?**Options:**

1) BJX

2) OQX

3) LFT

4) PSU

Correct Answer: OQX**Candidate Answer:** OQX**QID : 114** - In a certain code language, '+' represents 'x', '-' represents '+', 'x' represents '÷' and '÷' represents '-'. What is the answer to the following question?**45 x 5 + 2 - 20 = ?**

किसी कोड भाषा में, '+' का मतलब 'x' है, '-' का मतलब '+' है, 'x' का मतलब '÷' है और '÷' का मतलब '-' है। निम्नलिखित प्रश्न का उत्तर क्या है?

45 x 5 + 2 - 20 = ?

Options:

- 1) 17
2) 81
3) 38
4) 64

Correct Answer: 38**Candidate Answer:** 38**QID : 115** - If $5@1=60$; $12@8=200$; $16@2=180$; then what is the value of $16@10=?$ यदि $5@1=60$; $12@8=200$; $16@2=180$; तो $16@10 = ?$ का मान ज्ञात कीजिये।**Options:**

- 1) 32
2) 11
3) 9
4) 260

Correct Answer: 260**Candidate Answer:** 260**QID : 116** -

Select the missing number from
the given responses

दिए गए विकल्पों में से लुप्त
संख्या चुनिए।

104	?	57
87	78	9
103	78	25

Options:

- 1) 35
2) 47
3) 54
4) 78

Correct Answer: 47**Candidate Answer:** 47**QID : 117** - Two women A and B are shopping in a mall. They start from the same point. A walks 150 m West, then turns to her left and walks 160 m. B walks 140 m East, then turns South and walks 160 m, then turns to her left and walks 120 m. Where is B with respect to A now?

दो महिलाएं A और B एक मॉल में खरीददारी कर रही हैं। वे एक ही बिंदु से शुरूआत करती हैं। A पश्चिम की ओर 150 मीटर तक चलती है, फिर अपनी बाईं ओर मुड़ जाती है और 160 मीटर तक चलती है। B पूर्व की ओर 140 मीटर तक चलती है, फिर दक्षिण की ओर मुड़ जाती है और 160 मीटर तक चलती है, फिर अपनी बाईं ओर मुड़ जाती है और 120 मीटर तक चलती है। A की स्थिति से अब B कहाँ पर है?

Options:

- 1) 410 m West
410 मीटर पश्चिम
2) 410 m East
410 मीटर पूर्व
3) 170 m East
170 मीटर पूर्व
4) 170 m West
170 मीटर पश्चिम

Correct Answer: 410 m East

410 मीटर पूर्व

Candidate Answer: 410 m East

410 मीटर पूर्व

QID : 118 - In the question a statement is given, followed by two arguments, I and II. You have to consider the statement to be true even if it seems to be at variance from commonly known facts. You have to decide which of the given arguments, if any, is a strong argument.

Statement : Should eating paan at public places be made punishable?

Argument I : Yes, people eat pan and spit and makes public places dirty.

Argument II : No, Indians love paan.

प्रश्न में एक कथन दिया गया है जिसके आगे दो तर्क I और II दिए गये हैं। आपको मानना है कि कथन सत्य है चाहे वह सामान्यतः ज्ञात तथ्यों से भिन्न प्रतीत होता हो। आपको निर्णय करना है की दिए गए तर्कों में से कौन-सा/कौन-से तर्क मज़बूत हैं, यदि कोई हो।

कथन: क्या सार्वजनिक स्थानों पर पान खाना दंडनीय होना चाहिए?

तर्क I: हां, लोग पान खाने के बाद थूकते हैं और सार्वजनिक स्थानों को गंदा करते हैं।

तर्क II: नहीं, भारतीयों को पान खाना पसंद है।

Options:

1) if only argument I is strong.

यदि केवल तर्क I मज़बूत है।

2) if only argument II is strong.

यदि केवल तर्क II मज़बूत है।

3) if both I and II are strong.

यदि दोनों तर्क I और II मज़बूत हैं।

4) if neither I nor II is strong.

यदि ना तो तर्क I और ना ही तर्क II मज़बूत है।

Correct Answer: if only argument I is strong.

यदि केवल तर्क I मज़बूत है।

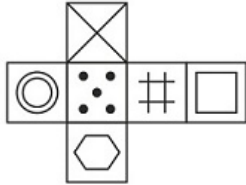
Candidate Answer: if only argument I is strong.

यदि केवल तर्क I मज़बूत है।

QID : 119 -

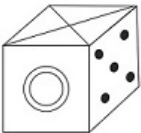
Which of the following cube in the answer figure cannot be made based on the unfolded cube in the question figure?

निम्नलिखित उत्तर आकृति में से कौन सा घन दिए गए प्रश्न आकृति में से खुले घन से बनाया नहीं जा सकता?

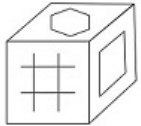


Options:

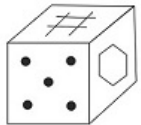
1)



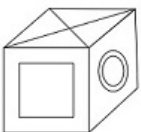
2)



3)



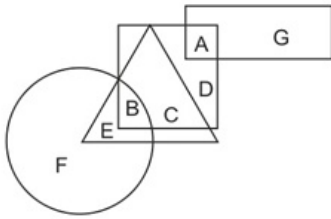
4)



Correct Answer:**Candidate Answer:** [NOT ANSWERED]**QID : 120 -**

In the following figure, square represents Optometrists, triangle represents Painters, circle represents Vegetarians and rectangle represents Men. Which set of letters represents painters who are either men or vegetarians?

निम्नलिखित आकृति में, वर्ग दृष्टिमितिज्ञों को दर्शाता है, त्रिभुज चित्रकारों को दर्शाता है, वृत्त शाकाहारीयों को दर्शाता है और आयत पुरुषों को दर्शाता है। अक्षरों का कौन सा समूह चित्रकारों को दर्शाता है जो या तो पुरुष हैं या शाकाहारी हैं?

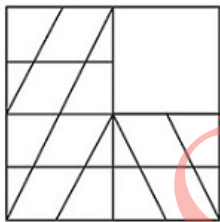
**Options:**

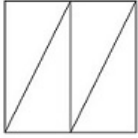
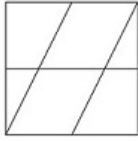
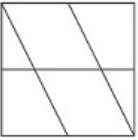
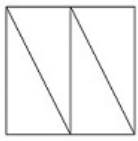
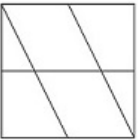
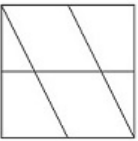
- 1) D,F
- 2) E,B
- 3) H,G,F
- 4) A,C,E

Correct Answer: E,B**Candidate Answer:** E,B**QID : 121 -**

Which answer figure will complete the pattern in the question figure?

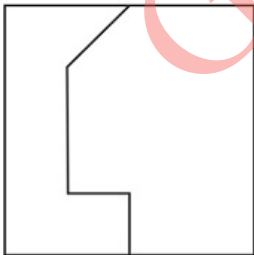
निम्नलिखित में से कौन-सी उत्तर आकृति प्रश्न आकृति के प्रतिरूप को पूरा करेगी?



Options:**1)****2)****3)****4)****Correct Answer:****Candidate Answer:****QID : 122 -**

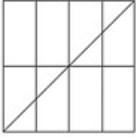
From the given answer figures, select the one in which the question figure is hidden/embedded.

दी गई उत्तर आकृतियों में से उस आकृति को चुनिए जिसमें प्रश्न आकृति निहित है।

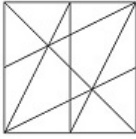


Options:

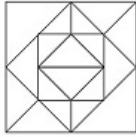
1)



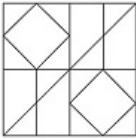
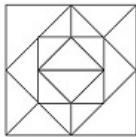
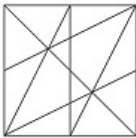
2)



3)

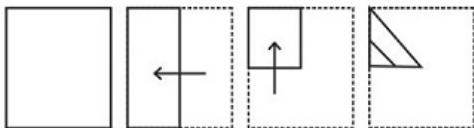


4)

**Correct Answer:****Candidate Answer:****QID : 123 -**

A piece of paper is folded and punched as shown below in the question figures. From the given answer figures, indicate how it will appear when opened.

प्रश्न आकृतियों में दिखाए अनुसार कागज को मोड़कर उसमें छेद करने तथा खोलने के बाद वह किस उत्तर आकृति जैसा दिखाई देगा?




Options:

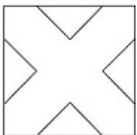
1)



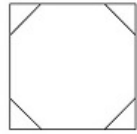
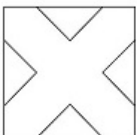
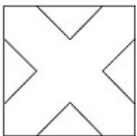
2)



3)

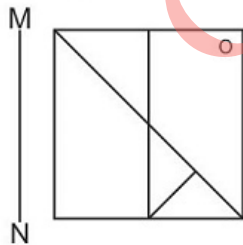


4)

**Correct Answer:****Candidate Answer:****QID : 124 -**

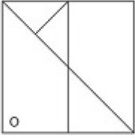
If a mirror is placed on the line MN, then which of the answer figures is the right image of the given figure?

यदि एक दर्पण को MN रेखा पर रखा जाए तो दी गई उत्तर आकृतियों में से कौन-सी आकृति प्रश्न आकृति का सही प्रतिबिम्ब होगी?

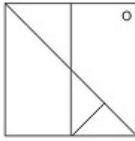


Options:

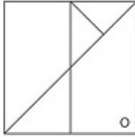
1)



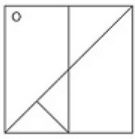
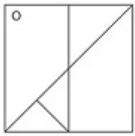
2)



3)



4)

**Correct Answer:****Candidate Answer:****QID : 125 -**

A word is represented by only one set of numbers as given in any one of the alternatives. The sets of numbers given in the alternatives are represented by two classes of alphabets as shown in the given two matrices. The columns and rows of Matrix-I are numbered from 0 to 4 and that of Matrix-II are numbered from 5 to 9. A letter from these matrices can be represented first by its row and next by its column, for example 'K' can be represented by 42, 34 etc and 'Z' can be represented by 96, 79 etc. Similarly, you have to identify the set for the word 'ROAD'.

एक शब्द केवल एक संख्या-समूह द्वारा दर्शाया गया है, जैसा कि विकल्पों में से किसी एक में दिया गया है। विकल्पों में दिए गए संख्या-समूह अक्षरों के दो वर्गों द्वारा दर्शाए गए हैं, जैसा कि दिए गए दो आव्यूहों में हैं। आव्यूह-I के स्तम्भ और पंक्ति की संख्या 0 से 4 और आव्यूह-II की 5 से 9 है। इन आव्यूहों से एक अक्षर को पहले उसकी पंक्ति और बाद में स्तम्भ संख्या द्वारा दर्शाया जा सकता है। उदाहरण के लिए 'K' को 42, 34 आदि द्वारा दर्शाया जा सकता है तथा 'Z' को 96, 79 आदि द्वारा दर्शाया जा सकता है। इसी तरह से आपको प्रश्न में दिए शब्द 'ROAD' के लिए समूह को पहचानना है।

Matrix I आव्यूह - I					
	0	1	2	3	4
0	L	K	A	F	H
1	K	I	I	C	D
2	J	E	E	E	F
3	M	I	A	E	K
4	M	B	K	C	G

Matrix II आव्यूह - II					
	5	6	7	8	9
5	Q	S	R	U	Z
6	S	R	O	V	T
7	O	U	V	S	Z
8	V	Y	T	Y	S
9	Y	Z	O	U	V

Options:

1) 24,14,67,76

2) 30,22,86,56

3) 66,67,02,14

4) 13,43,56,86

Correct Answer: 66,67,02,14**Candidate Answer:** 66,67,02,14**QID : 126** - The _____ exchange rate is the relative price of foreign goods in terms of domestic goods.

_____ विनिमय दर देशी वस्तु के रूप में विदेशी वस्तुओं की सापेक्ष कीमत है।

Options:

1) Artificial

कृत्रिम

2) Nominal

संकेतिक

3) Fixed

निश्चित

4) Real

वास्तविक

Correct Answer: Real

वास्तविक

Candidate Answer: Nominal

संकेतिक

QID : 127 - _____ is an alternative way of representing the production function.

_____ उत्पादन फलन को प्रतिनिधित्व करने का एक वैकल्पिक उपाय है।

Options:

1) The Short Run

अल्पकाल

2) The Long Run

दीर्घकाल

3) Isoquant

समान मात्रा

4) Average product

औसत उत्पाद

Correct Answer: Isoquant

समान मात्रा

Candidate Answer: Average product

औसत उत्पाद

QID : 128 - "United Nations Organization" is listed in the _____ list given in the Seventh Schedule in the Constitution of India.

"संयुक्त राष्ट्र संघ" भारत के संविधान की सातवीं अनुसूची में दी गयी _____ सूची में सूचीबद्ध है।

Options:

1) Union

केंद्रीय

2) State

राज्य

3) Global

विश्व

4) Concurrent

समवर्ती

Correct Answer: Union

केंद्रीय

Candidate Answer: Union

केंद्रीय

QID : 129 - There are total _____ parliamentary seats (Rajya Sabha constituency) in Punjab.

पंजाब में कुल _____ संसदीय सीटें (राज्यसभा निर्वाचन क्षेत्र) हैं।

Options:

1) 7

2) 1

3) 18

4) 10

Correct Answer: 7**Candidate Answer:** 7**QID : 130** - Big landlords or warrior chiefs in the seventh century were acknowledged as _____ by the existing kings?

सातवीं सदी के बड़े भूस्वामि और योद्धा-सरदार को उस समय के राजा किस रूप में मान्यता देते थे?

Options:

- 1) Rashtrakutas
राष्ट्रकूट
- 2) Chalukya
चालुक्य
- 3) Samantas
सामन्त
- 4) Brahmanas
ब्राह्मण

Correct Answer: Samantas
सामन्त

Candidate Answer: [NOT ANSWERED]

QID : 131 - The Agra fort was built by _____.

आगरा किले का निर्माण ____ ने करवाया था।

Options:

- 1) Shah Jahan
शाह जहाँ
- 2) Akbar
अकबर
- 3) Jahangir
जहाँगीर
- 4) Babur
बाबर

Correct Answer: Akbar
अकबर

Candidate Answer: Akbar
अकबर

QID : 132 - How many states does India have as of June 2017?

जून 2017 तक भारत में कितने राज्य हैं?

Options:

- 1) 26
- 2) 27
- 3) 28
- 4) 29

Correct Answer: 29

Candidate Answer: 29

QID : 133 - The northern plain of India has been formed by the interplay of the three major river systems, namely- the Indus, the Ganga and the _____.

भारत के उत्तरी मैदान तीन प्रमुख नदी प्रणालियों से बने हैं जो सिंधु, गंगा और _____ हैं।

Options:

- 1) Brahmaputra
ब्रह्मपुत्र
- 2) Krishna
कृष्णा
- 3) Kaveri
कावेरी
- 4) Mahanadi
महानदी

Correct Answer: Brahmaputra
ब्रह्मपुत्र

Candidate Answer: Brahmaputra
ब्रह्मपुत्र

QID : 134 - In the names Mangifera indica (mango), Solanum tuberosum (potato) and Panthera leo (lion), what does the three names, indica, tuberosum and leo, represent?

मैंगीफेरा इंडिका (आम), सोलेनम ट्यूबीरोसम (आलू) और पैंथेरा लियो (शेर) इन नामों में इंडिका, ट्यूबीरोसम और लियो क्या प्रतिनिधित्व करते हैं?

Options:

- 1) Binomial Nomenclature
द्विपदनाम पद्धति
- 2) Taxonomic Hierarchy
वर्गीकी पदानुक्रम
- 3) Identification
पहचानना
- 4) Specific Epithet
जाति संकेत पद

Correct Answer: Specific Epithet
जाति संकेत पद

Candidate Answer: Taxonomic Hierarchy
वर्गीकी पदानुक्रम

QID : 135 - _____ are chlorophyll-bearing, simple, thalloid, autotrophic and largely aquatic (both fresh water and marine) organisms.

_____ क्लोरोफिलयुक्त, सरल, थैलायुक्त, स्वपोषी तथा मुख्यतः जलीय (अल्पजीवी जल तथा समुद्री दोनों का) जीव है।

Options:

- 1) Pteridophytes
पैरिडोफाइट
- 2) Bryophytes
ब्रायोफाइट
- 3) Algae
शैवाल
- 4) Gymnosperms
जिम्नोस्पर्म

Correct Answer: Algae

शैवाल

Candidate Answer: Bryophytes

ब्रायोफाइट

QID : 136 - Animals like annelids and arthropods etc where the body can be divided into identical left and right halves in only one plane, exhibit _____ symmetry.

ऐनेलिड और आर्थ्रोपॉड, आदि में एक ही अक्ष से गुजरने वाली रेखा द्वारा शरीर दो समरूप दाएं व बाएं भाग में बांटा जा सकता है। इसे _____ सममिति कहते हैं।

Options:

- 1) Coelenterata
सिलेन्टेरा
- 2) Radial
अरीय
- 3) Ctenophora
टीनोफोरा
- 4) Bilateral
द्विपार्श्व

Correct Answer: Bilateral

द्विपार्श्व

Candidate Answer: Coelenterata

सिलेन्टेरा

QID : 137 - If the orbit of a planet is an ellipse then what is the point at which the Sun is located called?

यदि ग्रह की कक्षा दीर्घवृत्त है तो वह बिंदु जिस पर सूर्य होता है, क्या कहलाता है?

Options:

- 1) Centre
केंद्र
- 2) Circumcentre
परिधि
- 3) Incentre
अभिकेन्द्र
- 4) Focus
फोकस

Correct Answer: Focus

फोकस

Candidate Answer: Centre

केंद्र

QID : 138 - The sliding friction is _____ than the static friction.

सर्पी घर्षण, स्थैतिक घर्षण से _____ होता है।

Options:

- 1) double
दुगुना
- 2) same
एकाकार
- 3) greater
अधिक
- 4) smaller
कम

Correct Answer: smaller

कम

Candidate Answer: smaller

कम

QID : 139 - _____ optical data storage is a technology where data is stored in multiple layers in the optical disc.

_____ ऑप्टिकल डाटा स्टोरेज एक प्रौद्योगिकी है, जहां डाटा को ऑप्टिकल डिस्क पर कई परतों में भंडारित किया जाता है।

Options:

- 1) 3D
- 2) 30D
- 3) 300D
- 4) 3000D

Correct Answer: 3D**Candidate Answer:** 3D**QID : 140** - Kelvin (K) is the unit of measurement of _____.

केल्विन (K) _____ मापने की इकाई है।

Options:**1)** Density

घनत्व

2) Pressure

दाब

3) Mass

द्रव्यमान

4) Temperature

तापमान

Correct Answer: Temperature

तापमान

Candidate Answer: Temperature

तापमान

QID : 141 - What is the process of rust forming on iron called?

लोहे पर जंग लगने की प्रक्रिया को क्या कहते हैं?

Options:**1)** Rusting

जंग लगना

2) Crystallisation

क्रिस्टलीकरण

3) Shovel

शovel

4) Spade

खनित्र

Correct Answer: Rusting

जंग लगना

Candidate Answer: Rusting

जंग लगना

QID : 142 - _____ acts as a shield absorbing ultraviolet radiation from the sun.

_____ सूर्य से निकलने वाले पराबैंगनी विकिरण (अल्ट्रावायलेट रेडिएशन) को अवशोषित करने वाले कवच का काम करता है।

Options:**1)** Chlorofluorocarbons

क्लोरोफ्लुरोकार्बन

2) Stratosphere

समतापमंडल

3) Ozone hole

ओजोन छिद्र

4) Greenhouse

ग्रीनहाउस

Correct Answer: Stratosphere

समतापमंडल

Candidate Answer: Ozone hole

ओजोन छिद्र

QID : 143 - _____ scheme launched by the Central Government aims to spur social, economic and infrastructure development in rural areas by developing a cluster of 300 Smart Villages.

केंद्र सरकार द्वारा शुरू की गई _____ योजना का उद्देश्य 300 स्मार्ट गांवों का विकास करके ग्रामीण क्षेत्रों में सामाजिक, आर्थिक और आधारिक संरचना के विकास को प्रोत्साहित करना है।

Options:**1)** Soil Health Card

मृदा स्वास्थ्य कार्ड

2) Shyama Prasad Mukherji Rurban Mission

श्यामा प्रसाद मुखर्जी आर-अर्बन मिशन

3) Pradhan Mantri Fasal Bima Yojana

प्रधानमंत्री फसल बीमा योजना

4) Pradhanmantri rojgar yojna

प्रधानमंत्री रोजगार योजना

Correct Answer: Shyama Prasad Mukherji Rurban Mission

श्यामा प्रसाद मुखर्जी आर-अर्बन मिशन

Candidate Answer: Shyama Prasad Mukherji Rurban Mission

श्यामा प्रसाद मुखर्जी आर-अर्बन मिशन

QID : 144 - Who invented the electrocardiogram (ECG)?

इलेक्ट्रोकार्डियोग्राम (इसीजी) का आविष्कार किसने किया?

Options:

- 1) Willem Einthoven
विल्लेम एंथोवेन
- 2) Edward Jenner
एडवार्ड जेनर
- 3) Antonio de Ulloa and Charles Wood
अंतोनियो दे उल्लोया और चार्ल्स वुड
- 4) Karl Benz
कार्ल बेन्ज़

Correct Answer: Willem Einthoven
विल्लेम एंथोवेन

Candidate Answer: Karl Benz
कार्ल बेन्ज़

QID : 145 - Who is the winner of 2017 Formula One Chinese Grand Prix?

2017 फ़ॉर्मूला वन चाइनीज ग्रांप्री का विजेता कौन है?

Options:

- 1) Sebastian Vettel
सेबेस्टियन वेटेल
- 2) Lewis Hamilton
लुईस हैमिल्टन
- 3) Valtteri Bottas
वाल्तेरी बोतास
- 4) Kimi Raikkonen
किमी राइकोनेन

Correct Answer: Lewis Hamilton
लुईस हैमिल्टन

Candidate Answer: Lewis Hamilton
लुईस हैमिल्टन

QID : 146 - In which city of India is Charminar located?

चारमीनार भारत के किस शहर में स्थित है?

Options:

- 1) Pune
पुणे
- 2) Delhi
दिल्ली
- 3) Aurangabad
औरंगाबाद
- 4) Hyderabad
हैदराबाद

Correct Answer: Hyderabad
हैदराबाद

Candidate Answer: Hyderabad
हैदराबाद

QID : 147 - Which of the following was the winner of the Grammy Awards 2016 "Record of the Year"?

निम्नलिखित में से ग्रैमी पुरस्कार 2016 वर्ष का "रिकार्ड ऑफ द इयर" विजेता कौन सा था?

Options:

- 1) Uptown Funk
अपटाउन फंक
- 2) Really Love
रियली लव
- 3) Thinking Out Loud
थिंकिंग आउट लाउड
- 4) Blank Space
ब्लैंक स्पेस

Correct Answer: Uptown Funk
अपटाउन फंक

Candidate Answer: [NOT ANSWERED]

QID : 148 - 1. The author of the novel 'Darkness at Noon' is Victor LaValle.
2. The author of the novel 'The Great Gatsby' is F. Scott Fitzgerald.
3. The author of the novel 'The Sound and the Fury' is L. Ron Hubbard.
Which of the statements given above are not correct?

1. उपन्यास "डार्कनेस एट नून" के लेखक विकटर लावल्ले हैं।
 2. उपन्यास "द ग्रेट गट्सबाय" के लेखक एफ. स्कॉट फिट्ज़गेराल्ड हैं।
 3. उपन्यास "द साउंड एंड द फुरी" के लेखक एल. रोन हब्बार्ड हैं।
- उपरोक्त में से कौन से कथन नहीं है?

Options:

- 1) 1 and 2
1 और 2
2) 2 and 3
2 और 3
3) 1 and 3
1 और 3
4) 1, 2 and 3
1, 2 और 3

Correct Answer: 1 and 3

1 और 3

Candidate Answer: [NOT ANSWERED]**QID : 149** - What was Norway's rank in 2016 Human Development Index published by the United Nations Development Programme?

2016 में संयुक्त राष्ट्र विकास कार्यक्रम द्वारा प्रकाशित मानव विकास सूचकांक में नॉर्वे की श्रेणी क्या थी?

Options:

- 1) 1
2) 10
3) 100
4) 200

Correct Answer: 1**Candidate Answer:** 1**QID : 150** - Which country is not a member of Bay of Bengal Initiative for Multi-Sectoral Technical and Economic Cooperation (BIMSTEC)?

कौन सा देश बहु-क्षेत्रीय तकनीकी और आर्थिक सहयोग के लिए बंगाल की खाड़ी पहल (बीआईएमएसटीईसी) का सदस्य नहीं है?

Options:

- 1) Thailand
थाईलैंड
2) Myanmar
म्यानमार
3) India
इंडिया
4) Pakistan
पाकिस्तान

Correct Answer: Pakistan

पाकिस्तान

Candidate Answer: Pakistan

पाकिस्तान

QID : 151 - What is the value of 9991×10009 ? 9991×10009 का मान क्या है?**Options:**

- 1) 99999099
2) 99999819
3) 99999919
4) 99999019

Correct Answer: 99999919**Candidate Answer:** 99999919**QID : 152** - A can do $\frac{1}{3}$ rd of a job in 3 days and B can do half of the job in 9 days. If they work on it together, then in how many days can they finish half of the job?A किसी काम का $\frac{1}{3}$ -वां भाग 3 दिनों में पूरा कर सकता है और B उसी काम का आधा भाग 9 दिनों में पूरा कर सकता है। यदि वे इस पर एक साथ काम करते हैं तो वे कितने दिनों में आधा काम पूरा कर सकते हैं?**Options:**

- 1) 4
2) 5
3) 6
4) 3

Correct Answer: 3**Candidate Answer:** 6**QID : 153** - What is the area (in sq cm) of a rhombus if the lengths of its diagonals are 25 cm and 20 cm?

एक सम चतुर्भुज का क्षेत्रफल (वर्ग से.मी. में) क्या होगा, अगर उसके विकर्णों की लंबाई 25 से.मी. और 20 से.मी. है?

Options:

- 1) 500
2) 250
3) 125
4) 200

Correct Answer: 250**Candidate Answer:** 250

QID : 154 - If a shopkeeper sells an item at Rs 4200 which is marked as Rs 4800, then what is the discount (in %) that he is offering?

यदि एक दुकानदार 4200 रु पर एक वस्तु बेचता है जिसका अंकित मूल्य 4800 रु है, तो वह कितनी छूट (%) की पेशकश कर रहा है?

Options:

- 1) 12.5
- 2) 14.28
- 3) 10
- 4) 15

Correct Answer: 12.5

Candidate Answer: 12.5

QID : 155 - The flight fare between two cities is increased in the ratio 11:13. What is the increase (in Rs) in the fare, if the original fare was Rs 12100?

दो शहरों के बीच उड़ान का किराया 11:13 के अनुपात में बढ़ा दिया गया है। यदि मूल किराया 12100 रु था, तो किराए में हुई बढ़ोतरी (रु में) कितनी है?

Options:

- 1) 14300
- 2) 2200
- 3) 22000
- 4) 1430

Correct Answer: 2200

Candidate Answer: 2200

QID : 156 - 3 numbers whose average is 112, the first number is $\frac{1}{6}$ th the sum of other 2. What is the first number?

3 संख्याएँ जिनकी औसत 112 है, उनमें पहली संख्या का मान अन्य 2 संख्याओं के योग का $\frac{1}{6}$ -वां भाग है। पहली संख्या क्या होगी?

Options:

- 1) 45
- 2) 30
- 3) 15
- 4) 48

Correct Answer: 48

Candidate Answer: 48

QID : 157 - A trader buys 800 kgs of tomatoes for Rs 7200. 10% tomatoes are damaged in transportaion. At what rate (Rs/Kg) should he sell the rest to earn 30% profit?

एक व्यापारी 7200 रु में 800 कि.ग्रा. टमाटर खरीदता है। परिवहन में 10% टमाटर खराब हो जाते हैं। 30% लाभ अर्जित करने के लिए उसे बाकी बचे टमाटर किस दर (रु / कि.ग्रा.) पर बेचने चाहिए?

Options:

- 1) 9
- 2) 13
- 3) 10
- 4) 12

Correct Answer: 13

Candidate Answer: 13

QID : 158 - A student has to secure 35% marks to pass in a subject. If he gets 82 and fails by 23 marks. What is the maximum marks of the subject?

एक छात्र को एक विषय में पास होने के लिए 35% अंक अर्जित करने होंगे। यदि उसे 82 अंक मिलते हैं और वह 23 अंकों से फेल हो जाता है तो उस विषय के अधिकतम अंक कितने रहे होंगे?

Options:

- 1) 300
- 2) 250
- 3) 350
- 4) 400

Correct Answer: 300

Candidate Answer: 300

QID : 159 - A spaceship travels at 810 km/hr. How many metres does it travel in $\frac{1}{5}$ th of a second?

एक अंतरिक्ष यान 810 किलोमीटर / घंटे की रफ्तार से यात्रा करता है। वह $\frac{1}{5}$ -वें सेकंड में कितने मीटर की यात्रा करेगा?

Options:

- 1) 60
- 2) 45
- 3) 75
- 4) 90

Correct Answer: 45

Candidate Answer: 45

QID : 160 - If the amount received at the end of 2nd and 3rd year as Compound Interest on a certain Principal is Rs 2100, and Rs 2268 respectively, what is the rate (in %) of interest?

यदि एक निश्चित मूलधन पर चक्रवृद्धि ब्याज द्वारा दूसरे और तीसरे वर्ष प्राप्त होने वाली राशि क्रमशः 2100 रु और 2268 रु है, तो ब्याज दर (%) क्या होगी?

Options:

- 1) 7
- 2) 8
- 3) 9
- 4) 10

Correct Answer: 8

Candidate Answer: 8**QID : 161** - If $5x - (1/2)(2x - 7) = 5.5$, then what is the value of x ?यदि $5x - (1/2)(2x - 7) = 5.5$ है तो x का मान क्या है?**Options:**

- 1) $3/2$
- 2) $1/2$
- 3) $-1/2$
- 4) $-3/2$

Correct Answer: $1/2$ **Candidate Answer:** $1/2$ **QID : 162** - If $a + b = 4$ and $ab = -5$, then what is the value of $a^3 + b^3$?यदि $a + b = 4$ और $ab = -5$ है तो $a^3 + b^3$ का मान क्या है?**Options:**

- 1) 34
- 2) 36
- 3) 124
- 4) 126

Correct Answer: 124**Candidate Answer:** 124**QID : 163** - The sum of a number and 4 times its reciprocal is 5. What is the number?

एक संख्या और उसके व्युत्क्रम के 4 गुणा का योग 5 है। वह संख्या क्या है?

Options:

- 1) 4
- 2) 5
- 3) 6
- 4) 7

Correct Answer: 4**Candidate Answer:** 4**QID : 164** - The 3rd and 8th term of an arithmetic progression are -13 and 2 respectively. What is the 14th term?

समांतर श्रेणी का तीसरा और आठवां पद क्रमशः -13 और 2 है। 14-वां पद क्या है?

Options:

- 1) 23
- 2) 17
- 3) 20
- 4) 26

Correct Answer: 20**Candidate Answer:** 17**QID : 165** - What is the reflection of the point (4, -3) in the line $y = 1$?रेखा $y = 1$ में बिंदु (4, -3) का प्रतिबिंब क्या है?**Options:**

- 1) (4, -5)
- 2) (4, 5)
- 3) (-4, -5)
- 4) (-4, 5)

Correct Answer: (4, 5)**Candidate Answer:** (4, 5)**QID : 166** - In what ratio does the point T(x, 0) divide the segment joining the points S(5, 1) and U(-1, -2)?

बिंदु T(x, 0), बिंदु S(5, 1) और बिंदु U(-1, -2) को जोड़ने वाले रेखाखंड को किस अनुपात में विभाजित करता है?

Options:

- 1) 2 : 1
- 2) 1 : 2
- 3) 3 : 1
- 4) 2 : 3

Correct Answer: 1 : 2**Candidate Answer:** 2 : 1**QID : 167** - At what point does the line $3x + 2y = 12$ cuts the Y-axis?रेखा $3x + 2y = 12$ किस बिंदु पर Y-अक्ष को काटती है?**Options:**

- 1) (0, 6)
- 2) (0, -6)
- 3) (6, 0)
- 4) (-6, 0)

Correct Answer: (0, 6)**Candidate Answer:** (0, 6)

QID : 168 - The areas of two similar triangles $\triangle ABC$ and $\triangle PQR$ are 121 sq cms and 64 sq cms respectively. If $PQ = 12$ cm, what is the length (in cm) of AB ?

दो समरूप त्रिभुजों $\triangle ABC$ और $\triangle PQR$ का क्षेत्रफल क्रमशः 121 वर्ग से.मी. और 64 वर्ग से.मी. है। यदि $PQ = 12$ से.मी. हो तो AB की लंबाई (से.मी. में) कितनी है?

Options:

- 1) 7.25
- 2) 6.25
- 3) 16.5
- 4) 5.25

Correct Answer: 16.5

Candidate Answer: 16.5

QID : 169 - What is the value of $\tan 60^\circ + \operatorname{cosec} 60^\circ$?

$\tan 60^\circ + \operatorname{cosec} 60^\circ$ का मान क्या है?

Options:

- 1) $5/3$
- 2) $2/\sqrt{3}$
- 3) $5/\sqrt{3}$
- 4) $2/3$

Correct Answer: $5/\sqrt{3}$

Candidate Answer: $5/\sqrt{3}$

QID : 170 - $\triangle XYZ$ is right angled at Y . If $m\angle Z = 60^\circ$, then what is the value of $(1/\sqrt{2}) \sec X$?

$\triangle XYZ$, Y पर समकोण है। यदि $m\angle Z = 60^\circ$ है, तो $(1/\sqrt{2}) \sec X$ का मान क्या है?

Options:

- 1) $2/\sqrt{3}$
- 2) $1/\sqrt{6}$
- 3) $1/\sqrt{3}$
- 4) $2/\sqrt{6}$

Correct Answer: $2/\sqrt{6}$

Candidate Answer: $2/\sqrt{6}$

QID : 171 - If $\operatorname{cosec} \theta = 17/8$, then what is the value of $\cos \theta$?

यदि $\operatorname{cosec} \theta = 17/8$ है, तो $\cos \theta$ का मान क्या है?

Options:

- 1) $15/8$
- 2) $15/17$
- 3) $8/15$
- 4) $17/15$

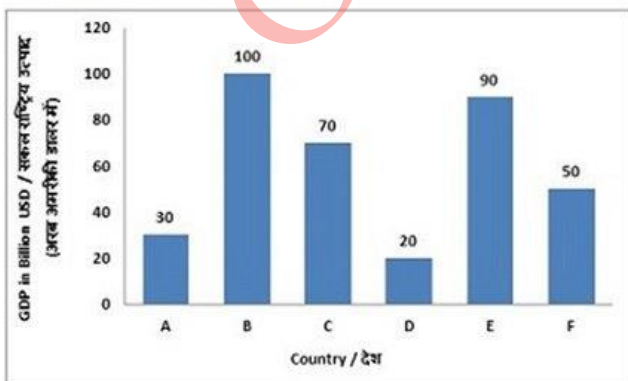
Correct Answer: $15/17$

Candidate Answer: $15/17$

QID : 172 -

The bar graph shows GDP for the year 2016 in billion USD of six countries (A, B, C, D, E, F) of a regional trade block. Study the diagram and answer the following questions.

बार ग्राफ वर्ष 2016 में एक क्षेत्रीय व्यावसायिक ब्लॉक के छह देशों (A, B, C, D, E, F) का सकल राष्ट्रीय उत्पाद (अरब अमरीकी डालर में) दर्शाता है। इस आरेख का अध्ययन करें और निम्नलिखित प्रश्नों का उत्तर दें।



Which country is the third biggest in terms of Gross Domestic Product (GDP)?

सकल राष्ट्रीय उत्पाद (जी डी पी) के संबंध में कौन सा देश तीसरे स्थान पर सबसे बड़ा है?

Options:

- 1) A
- 2) C
- 3) E
- 4) F

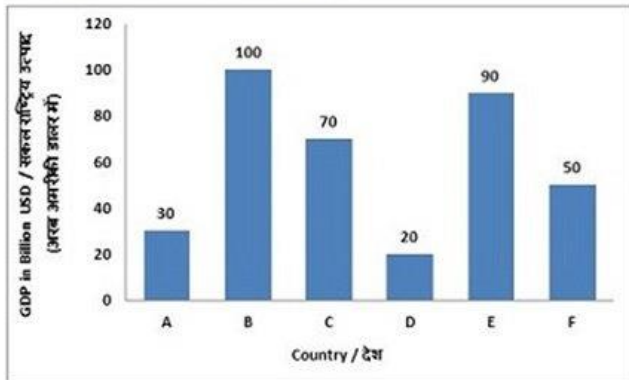
Correct Answer: C

Candidate Answer: C

QID : 173 -

The bar graph shows GDP for the year 2016 in billion USD of six countries (A, B, C, D, E, F) of a regional trade block. Study the diagram and answer the following questions.

बार ग्राफ वर्ष 2016 में एक क्षेत्रीय व्यावसायिक ब्लॉक के छह देशों (A, B, C, D, E, F) का सकल राष्ट्रीय उत्पाद (अरब अमरीकी डालर में) दर्शाता है। इस आरेख का अध्ययन करें और निम्नलिखित प्रश्नों का उत्तर दें।



By what amount (in billion USD) is the Gross Domestic Product (GDP) of Country A lesser than that of Country F?

देश A का सकल राष्ट्रीय उत्पाद (जी डी पी), देश F से कितनी राशि (अरब अमरीकी डालर में) से कम है?

Options:

- 1) 20
- 2) 50
- 3) 25
- 4) 40

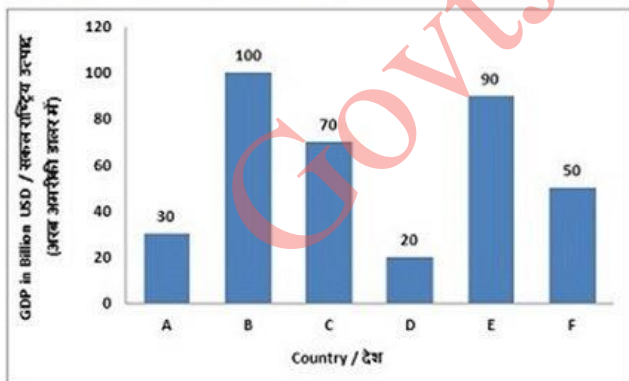
Correct Answer: 40

Candidate Answer: 20

QID : 174 -

The bar graph shows GDP for the year 2016 in billion USD of six countries (A, B, C, D, E, F) of a regional trade block. Study the diagram and answer the following questions.

बार ग्राफ वर्ष 2016 में एक क्षेत्रीय व्यावसायिक ब्लॉक के छह देशों (A, B, C, D, E, F) का सकल राष्ट्रीय उत्पाद (अरब अमरीकी डालर में) दर्शाता है। इस आरेख का अध्ययन करें और निम्नलिखित प्रश्नों का उत्तर दें।



What is the ratio of Gross Domestic Product (GDP) of Country E to Total of GDPs of countries A, C and F taken together?

देश E का देश A, C और F के कुल सकल राष्ट्रीय उत्पाद (जी डी पी) से क्या अनुपात क्या है?

Options:

- 1) 3 : 5
- 2) 5 : 3
- 3) 9 : 5
- 4) 5 : 9

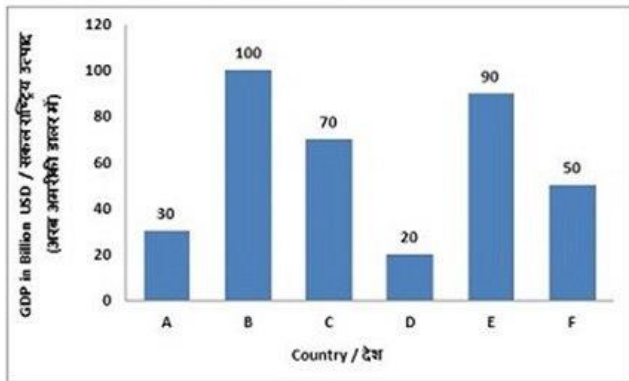
Correct Answer: 3 : 5

Candidate Answer: 3 : 5

QID : 175 -

The bar graph shows GDP for the year 2016 in billion USD of six countries (A, B, C, D, E, F) of a regional trade block. Study the diagram and answer the following questions.

बार ग्राफ वर्ष 2016 में एक क्षेत्रीय व्यावसायिक ब्लॉक के छह देशों (A, B, C, D, E, F) का सकल राष्ट्रीय उत्पाद (अरब अमरीकी डालर में) दर्शाता है। इस आरेख का अध्ययन करें और निम्नलिखित प्रश्नों का उत्तर दें।



If the combined GDP of the six countries has grown by 50% in the last decade, then what was their combined annual Gross Domestic Product (in billion USD) before 10 years?

यदि पिछले दशक में छह देशों के संयुक्त सकल राष्ट्रीय उत्पाद में 50% की वृद्धि हुई हो, तो 10 वर्ष पहले उनका संयुक्त वार्षिक सकल राष्ट्रीय उत्पाद (अरब अमरीकी डालर में) कितना था?

Options:

- 1) 540
- 2) 180
- 3) 240
- 4) 200

Correct Answer: 240**Candidate Answer:** [NOT ANSWERED]

QID : 176 - In the following question, some part of the sentence may have errors. Find out which part of the sentence has an error and select the appropriate option. If a sentence is free from error, select 'No Error'.

Water was dripping (1)/ of the trees, and (2)/ the grass was wet. (3)/No Error (4)

Options:

- 1) 1
- 2) 2
- 3) 3
- 4) 4

Correct Answer: 2**Candidate Answer:** 1

QID : 177 - In the following question, some part of the sentence may have errors. Find out which part of the sentence has an error and select the appropriate option. If a sentence is free from error, select 'No Error'.

Pravin sat up on the (1)/ sofa, with his legs (2)/ tucked down him. (3)/No Error (4)

Options:

- 1) 1
- 2) 2
- 3) 3
- 4) 4

Correct Answer: 3**Candidate Answer:** 2

QID : 178 - In the following question, the sentence given with blank to be filled in with an appropriate word. Select the correct alternative out of the four and indicate it by selecting the appropriate option.

At night, the hungry orphan would sneak into the kitchen and _____ tiny amounts of food.

Options:

- 1) prefer
- 2) lifter
- 3) differ
- 4) pilfer

Correct Answer: pilfer**Candidate Answer:** pilfer

QID : 179 - In the following question, the sentence given with blank to be filled in with an appropriate word. Select the correct alternative out of the four and indicate it by selecting the appropriate option.

As the only _____ person in the wacky family, the sensible girl felt like the odd woman out.

Options:

- 1) insane
- 2) vain
- 3) sane
- 4) main

Correct Answer: sane**Candidate Answer:** insane**QID : 180** - In the following question, out of the four alternatives, select the word similar in meaning to the word given.**Piquancy****Options:**

- 1) Bland
- 2) Flavouring
- 3) Insipid
- 4) Tedious

Correct Answer: Flavouring**Candidate Answer:** Insipid**QID : 181** - In the following question, out of the four alternatives, select the word similar in meaning to the word given.**To Confront****Options:**

- 1) To Avoid
- 2) To Dodge
- 3) To Yield
- 4) To Accost

Correct Answer: To Accost**Candidate Answer:** To Dodge**QID : 182** - In the following question, out of the four alternatives, select the word opposite in meaning to the word given.**Savant****Options:**

- 1) Amateur
- 2) Academic
- 3) Pundit
- 4) Egghead

Correct Answer: Amateur**Candidate Answer:** [NOT ANSWERED]**QID : 183** - In the following question, out of the four alternatives, select the word opposite in meaning to the word given.**To Indict****Options:**

- 1) To Arraign
- 2) To Censure
- 3) To Exonerate
- 4) To Impeach

Correct Answer: To Exonerate**Candidate Answer:** To Exonerate**QID : 184** - In the following question, out of the four alternatives, select the alternative which best expresses the meaning of the idiom/phrase.**To Have bitten off more than you can chew****Options:**

- 1) To eat voraciously and then fall sick
- 2) To behave disrespectfully towards elders and then repent the act
- 3) To have tried to do something which is too difficult
- 4) To have missed a golden opportunity and after that willing to put twice the effort to recover the loss

Correct Answer: To have tried to do something which is too difficult**Candidate Answer:** To have tried to do something which is too difficult**QID : 185** - In the following question, out of the four alternatives, select the alternative which best expresses the meaning of the idiom/phrase.**Out of print****Options:**

- 1) Not able to print due to being short on paper
- 2) A book no longer available from the publisher
- 3) Intentionally not mention some items in the article or book
- 4) All publishers refuse to publish your book

Correct Answer: A book no longer available from the publisher**Candidate Answer:** A book no longer available from the publisher**QID : 186** - In the following question, out of the four alternatives, select the alternative which will improve the bracketed part of the sentence. In case no improvement is needed, select "no improvement".I'm **(having to)** too much fun.

Options:

- 1) having
- 2) had
- 3) has
- 4) no improvement

Correct Answer: having**Candidate Answer:** having

QID : 187 - In the following question, out of the four alternatives, select the alternative which will improve the bracketed part of the sentence. In case no improvement is needed, select "no improvement".

What would the cavalry **(doing)** out here?

Options:

- 1) be doing
- 2) be done
- 3) done
- 4) no improvement

Correct Answer: be doing**Candidate Answer:** no improvement

QID : 188 - In the following question, out of the four alternatives, select the alternative which is the best substitute of the words/sentence.

In exactly the same words as were used originally

Options:

- 1) Verbatim
- 2) Offbeat
- 3) Divergent
- 4) Contrary

Correct Answer: Verbatim**Candidate Answer:** Verbatim

QID : 189 - In the following question, out of the four alternatives, select the alternative which is the best substitute of the words/sentence.

A person inclined to question or doubt accepted opinions

Options:

- 1) Adherent
- 2) Sceptic
- 3) Zealot
- 4) Disciple

Correct Answer: Sceptic**Candidate Answer:** Sceptic

QID : 190 - In the following question, four words are given out of which one word is correctly spelt. Select the correctly spelt word.

Options:

- 1) Ditheering
- 2) Dethering
- 3) Dithering
- 4) Detheering

Correct Answer: Dithering**Candidate Answer:** Dithering

QID : 191 - In the following question, four words are given out of which one word is correctly spelt. Select the correctly spelt word.

Options:

- 1) Throtled
- 2) Throttled
- 3) Throtlede
- 4) Throttled

Correct Answer: Throttled**Candidate Answer:** Throttled

QID : 192 - The question below consists of a set of labelled sentences. Out of the four options given, select the most logical order of the sentences to form a coherent paragraph.

Children are sensitive

X-to what happens around them and are

Y-enthusiastic about working on

Z-plays that reflect their lives

Options:

- 1) ZYX
- 2) XYZ
- 3) ZXY
- 4) YZX

Correct Answer: XYZ**Candidate Answer:** XYZ

QID : 193 - The question below consists of a set of labelled sentences. Out of the four options given, select the most logical order of the sentences to form a coherent paragraph.

But this does not mean
X-phenomena to the body
Y-is a meaningless expression
Z-that the reference of mental

Options:

- 1) YZX
- 2) ZXY
- 3) YXZ
- 4) XZY

Correct Answer: ZXY

Candidate Answer: ZXY

QID : 194 - In the following question, a sentence has been given in Active/Passive voice. Out of the four alternatives suggested, select the one which best expresses the same sentence in Passive/Active voice.

The travel agent is making all the reservations.

Options:

- 1) All the reservations is made by the travel agent.
- 2) All the reserving will be made by the travel agent.
- 3) All the reservations are being made by the travel agent.
- 4) All the reserving is made by the travel agent.

Correct Answer: All the reservations are being made by the travel agent.

Candidate Answer: All the reservations are being made by the travel agent.

QID : 195 - In the following question, a sentence has been given in Direct/Indirect speech. Out of the four alternatives suggested, select the one which best expresses the same sentence in Indirect/Direct speech.

He said to the dentist, "I have a toothache."

Options:

- 1) He told the dentist that I have a toothache.
- 2) He told the dentist that he had gotten a toothache.
- 3) He told the dentist that he had a toothache.
- 4) He told the dentist that I have a gotten toothache.

Correct Answer: He told the dentist that he had a toothache.

Candidate Answer: He told the dentist that he had a toothache.

QID : 196 - In the following passage, some of the words have been left out. Read the passage carefully and select the correct answer for the given blank out of the four alternatives.

The Trikonasana, or triangle pose, stimulates the function of the entire body and _____ a lateral (side) stretch to the spine. It helps reduce blood pressure, stress, and anxiety. Practise this asana every day and you'll _____ strength in the ankles, thighs, knees, hips, calves and hamstrings. All standing poses _____ the cardiovascular system, so the more you do it, the _____ your stamina will become. The aim is never to overdo it, but to engage regularly, _____ that you get stronger and more stable over time.

function of the entire body and _____ a lateral (side) stretch

Options:

- 1) given
- 2) gave
- 3) to give
- 4) gives

Correct Answer: gives

Candidate Answer: to give

QID : 197 - In the following passage, some of the words have been left out. Read the passage carefully and select the correct answer for the given blank out of the four alternatives.

The Trikonasana, or triangle pose, stimulates the function of the entire body and _____ a lateral (side) stretch to the spine. It helps reduce blood pressure, stress, and anxiety. Practise this asana every day and you'll _____ strength in the ankles, thighs, knees, hips, calves and hamstrings. All standing poses _____ the cardiovascular system, so the more you do it, the _____ your stamina will become. The aim is never to overdo it, but to engage regularly, _____ that you get stronger and more stable over time.

you'll _____ strength in the ankles, thighs, knees, hips

Options:

- 1) gaining
- 2) gain
- 3) gained
- 4) to gain

Correct Answer: gain

Candidate Answer: gain

QID : 198 - In the following passage, some of the words have been left out. Read the passage carefully and select the correct answer for the given blank out of the four alternatives.

The Trikonasana, or triangle pose, stimulates the function of the entire body and _____ a lateral (side) stretch to the spine. It helps reduce blood pressure, stress, and anxiety. Practise this asana every day and you'll _____ strength in the ankles, thighs, knees, hips, calves and hamstrings. All standing poses _____ the cardiovascular system, so the more you do it, the _____ your stamina will become. The aim is never to overdo it, but to engage regularly, _____ that you get stronger and more stable over time.

All standing poses _____ the cardiovascular system

Options:

- 1) built
- 2) build
- 3) building
- 4) to build

Correct Answer: build

Candidate Answer: build

QID : 199 - In the following passage, some of the words have been left out. Read the passage carefully and select the correct answer for the given blank out of the four alternatives.

The Trikonasana, or triangle pose, stimulates the function of the entire body and _____ a lateral (side) stretch to the spine. It helps reduce blood pressure, stress, and anxiety. Practise this asana every day and you'll _____ strength in the ankles, thighs, knees, hips, calves and hamstrings. All standing poses _____ the cardiovascular system, so the more you do it, the _____ your stamina will become. The aim is never to overdo it, but to engage regularly, _____ that you get stronger and more stable over time.

so the more you do it, the _____ your stamina.

Options:

- 1) best
- 2) better
- 3) good
- 4) too good

Correct Answer: better

Candidate Answer: better

QID : 200 - In the following passage, some of the words have been left out. Read the passage carefully and select the correct answer for the given blank out of the four alternatives.

The Trikonasana, or triangle pose, stimulates the function of the entire body and _____ a lateral (side) stretch to the spine. It helps reduce blood pressure, stress, and anxiety. Practise this asana every day and you'll _____ strength in the ankles, thighs, knees, hips, calves and hamstrings. All standing poses _____ the cardiovascular system, so the more you do it, the _____ your stamina will become. The aim is never to overdo it, but to engage regularly, _____ that you get stronger and more stable over time.

to engage regularly, _____ that you get stronger and more stable

Options:

- 1) if
- 2) of
- 3) so
- 4) to

Correct Answer: so

Candidate Answer: so