

Click to Print logout

Challenges



Staff Selection Commission
(Government Of India)

QID : 1 - Select the related word from the given alternatives.

Product : Multiplication :: Sum : ?

दिए गए विकल्पों में से संबंधित शब्द को चुनिए।

गुणनफल : गुणा :: योग : ?

Options:

1) Comparison

तुलना

2) Percentage

प्रतिशत

3) Numbers

संख्या

4) Addition

जोड़

Correct Answer: Addition

जोड़

Candidate Answer: Addition

जोड़

QID : 2 - Select the related letters from the given alternatives.

FHK : DFI :: OQT : ?

दिए गए विकल्पों में से संबंधित अक्षरों को चुनिए।

FHK : DFI :: OQT : ?

Options:

1) NPS

2) PRT

3) MOR

4) QSV

Correct Answer: MOR

Candidate Answer: MOR

QID : 3 - Select the related number from the given alternatives.

10001 : 10101 :: 101 : ?

दिए गए विकल्पों में से संबंधित संख्या को चुनिए।

10001 : 10101 :: 101 : ?

Options:

1) 11

2) 201

3) 100

4) 121

Correct Answer: 201

Candidate Answer: 201

QID : 4 - Select the odd word from the given alternatives.

दिए गए विकल्पों में से विषम शब्द को चुनिए।

Options:

1) Trousers

पतलून

2) Shirt

शर्ट

3) Pants

पैंट

4) Shorts

शॉर्ट्स

Correct Answer: Shirt

शर्ट

Candidate Answer: Shirt

शर्ट

QID : 5 - Select the odd letters from the given alternatives.

दिए गए विकल्पों में से विषम अक्षरों को चुनिए।

Options:

1) EHK

2) ZBD

3) LOR

4) SVY

Correct Answer: ZBD**Candidate Answer:** ZBD**QID : 6** - Select the odd number from the given alternatives.

दिए गए विकल्पों में से विषम संख्या को चुनिए।

Options:

1) 10

2) 20

3) 15

4) 30

Correct Answer: 15**Candidate Answer:** 15**QID : 7** - A series is given, with one word missing. Choose the correct alternative from the given ones that will complete the series.**win, note, grain, broker, ?**

एक अनुक्रम दिया गया है, जिसमें एक शब्द लुप्त है। दिए गए विकल्पों में से वह सही विकल्प चुनिए जो अनुक्रम को पूरा करे।

win, note, grain, broker, ?**Options:**

1) refund

2) pony

3) banking

4) mutually

Correct Answer: banking**Candidate Answer:** banking**QID : 8** - A series is given, with one term missing. Choose the correct alternative from the given ones that will complete the series.**KIMnO, qRsTu, WxYzA, cDeFg, ?**

एक अनुक्रम दिया गया है, जिसमें एक पद लुप्त है। दिए गए विकल्पों में से वह सही विकल्प चुनिए जो अनुक्रम को पूरा करे।

KIMnO, qRsTu, WxYzA, cDeFg, ?**Options:**

1) iJkLm

2) HiJkL

3) IjKIM

4) hIjKI

Correct Answer: IjKIM**Candidate Answer:** IjKIM

QID : 9 - A series is given, with one number missing. Choose the correct alternative from the given ones that will complete the series.

0, 3, 8, ?, 24, 35

एक अनुक्रम दिया गया है, जिसमें एक संख्या लुप्त है। दिए गए विकल्पों में से वह सही विकल्प चुनिए जो अनुक्रम को पूरा करे।

0, 3, 8, ?, 24, 35

Options:

1) 15

2) 16

3) 18

4) 9

Correct Answer: 15

Candidate Answer: 15

QID : 10 - Faiyaz's birthday is on Wednesday 12th April. On what day of the week will be Shray's Birthday in the same year if Shray was born on 2nd October?

फैयाज़ का जन्मदिन बुधवार 12 अप्रैल को है। यदि श्रेय का जन्म 2 अक्टूबर को हुआ था तो उसी वर्ष श्रेय का जन्मदिन सप्ताह में किस दिन होगा?

Options:

1) Monday

सोमवार

2) Saturday

शनिवार

3) Wednesday

बुधवार

4) Sunday

रविवार

Correct Answer: Monday

सोमवार

Candidate Answer: Wednesday

बुधवार

QID : 11 - The weights of 4 boxes are 20, 90, 40 and 60 kilograms. Which of the following cannot be the total weight, in kilograms, of any combination of these boxes and in a combination a box can be used only once?

चार बक्सों का वजन 20, 90, 40 और 60 किलोग्राम है। निम्नलिखित में से बक्सों के किसी भी संयोजन से कुल वजन, किलोग्राम में कौन सा नहीं हो सकता है और एक संयोजन में एक बक्सा एक ही बार प्रयोग में लाया जा सकता है?

Options:

1) 210

2) 170

3) 190

4) 200

Correct Answer: 200

Candidate Answer: 210

QID : 12 - From the given words, select the word which cannot be formed using the letters of the given word.

SMOTHERS

निम्नलिखित विकल्पों में से वह शब्द चुनिए जो दिए गए शब्द के अक्षरों का प्रयोग करके नहीं बनाया जा सकता:

SMOTHERS

Options:

1) THOSE

2) METRO

3) STORE

4) TEARS

Correct Answer: TEARS

Candidate Answer: TEARS

QID : 13 - If **FRISKED** is coded as **HTKUMGF**, then how will **SUN** be coded as?

यदि **FRISKED** को किसी कोड में **HTKUMGF** लिखा जाता है, तो **SUN** को उसी कोड में क्या लिखा जाएगा?

Options:

1) UWP

2) RGZ

3) KMJ

4) ZBF

Correct Answer: UWP

Candidate Answer: UWP

QID : 14 - In a certain code language, '+' represents 'x', '-' represents '+', 'x' represents '÷' and '÷' represents '-'. What is the answer to the following question?

$$80 + 2 \div 25 + 5 - 10 = ?$$

किसी कोड भाषा में, '+' का मतलब 'x' है, '-' का मतलब '+' है, 'x' का मतलब '÷' है और '÷' का मतलब '-' है। निम्नलिखित प्रश्न का उत्तर क्या है?

$$80 + 2 \div 25 + 5 - 10 = ?$$

Options:

1) 35

2) 98

3) 36

4) 45

Correct Answer: 45

Candidate Answer: 45

QID : 15 - If $45 \% 11 = 7$, $59 \% 34 = 7$ then what is the value of $55 \% 4 = ?$

यदि $45 \% 11 = 7$, $59 \% 34 = 7$ तो $55 \% 4 = ?$ का मान ज्ञात कीजिये।

Options:

1) 6

2) 40

3) 45

4) 50

Correct Answer: 6

Candidate Answer: 6

QID : 16 -

Select the missing number from the given responses

दिए गए विकल्पों में से लुप्त संख्या चुनिए।

102	89	?
87	45	25
15	44	50

Options:

1) 13

2) 25

3) 77

4) 15

Correct Answer: 77

Candidate Answer: [NOT ANSWERED]

QID : 17 - Two cars C and D start from the same point. C travels 9 km South, then turns to its left and travels another 11 km. D travels 3 km East, then turns South and travels 5 km, then turns to its left and travels another 8 km. Where is D with respect to C now?

दो कारें C और D एक ही बिंदु से शुरुआत करती हैं। C दक्षिण की ओर 9 कि.मी. की यात्रा करती है, फिर अपनी बाईं ओर मुड़ जाती है और 11 कि.मी. की यात्रा और करती है। D पूर्व की 3 कि.मी. की यात्रा करता है, फिर दक्षिण की ओर मुड़ जाती है और 5 कि.मी. की यात्रा करती है, फिर अपनी बाईं ओर मुड़ जाती है और 8 कि.मी. की यात्रा और करती है। C की स्थिति से अब D कहां पर है?

Options:

1) 4 km South

4 कि.मी. दक्षिण

2) 14 km North

14 कि.मी. उत्तर

3) 4 km North

4 कि.मी. उत्तर

4) 14 km South

14 कि.मी. दक्षिण

Correct Answer: 4 km North

4 कि.मी. उत्तर

Candidate Answer: 4 km North

4 कि.मी. उत्तर

QID : 18 - In the question a statement is given, followed by two arguments, I and II. You have to consider the statement to be true even if it seems to be at variance from commonly known facts. You have to decide which of the given arguments, if any, is a strong argument.

Statement : Should street lights be switched off after midnight?

Argument I : No, statistics show that crime and accidents increase if street lights are switched off.

Argument II : Yes, few vehicles ply after midnight, expensive electricity will be wasted.

प्रश्न में एक कथन दिया गया है जिसके आगे दो तर्क I और II दिए गये हैं। आपको मानना है कि कथन सत्य है चाहे वह सामान्यतः ज्ञात तथ्यों से भिन्न प्रतीत होता हो। आपको निर्णय करना है की दिए गए तर्कों में से कौन-सा/कौन-से तर्क मज़बूत हैं, यदि कोई हो।

कथन : क्या आधी रात के बाद सड़क की रोशनी को बंद कर देना चाहिए?

तर्क I : नहीं, आंकड़े बताते हैं कि अगर सड़क की रोशनी बंद हो जाती है तो अपराध और दुर्घटनाएं बढ़ जाती हैं।

तर्क II : हां, आधी रात के बाद कुछ वाहन चालित होते हैं, महंगी बिजली बर्बाद हो जाती है।

Options:

1) if only argument I is strong.

यदि केवल तर्क I मज़बूत है।

2) if only argument II is strong.

यदि केवल तर्क II मज़बूत है।

3) if both I and II are strong.

यदि दोनों तर्क I और II मज़बूत हैं।

4) if neither I nor II is strong.

यदि ना तो तर्क I और ना ही तर्क II मज़बूत है।

Correct Answer: if both I and II are strong.

यदि दोनों तर्क I और II मज़बूत हैं।

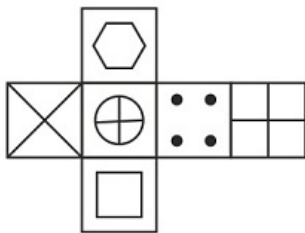
Candidate Answer: if only argument I is strong.

यदि केवल तर्क I मज़बूत है।

QID : 19 -

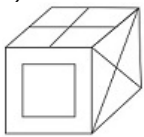
Which of the following cube in the answer figure cannot be made based on the unfolded cube in the question figure?

निम्नलिखित उत्तर आकृति में से कौन सा घन दिए गए प्रश्न आकृति में से खुले घन से बनाया नहीं जा सकता?

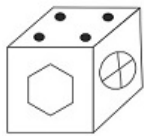


Options:

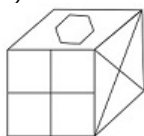
1)



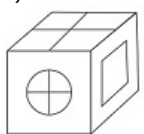
2)

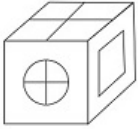
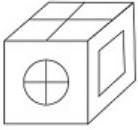


3)



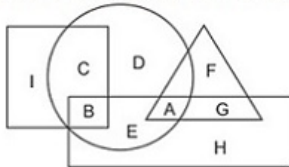
4)



Correct Answer:**Candidate Answer:****QID : 20 -**

In the following figure, square represents Painters, triangle represents women, circle represents Accountants and rectangle represents Americans. Which set of letters represents Americans who are not accountants?

निम्नलिखित आकृति में, वर्ग चित्रकारों को दर्शाता है, त्रिभुज महिलाओं को दर्शाता है, वृत्त लेखाकारों को दर्शाता है और आयत अमेरिकियों को दर्शाता है। अक्षरों का कौन सा समूह अमेरिकियों को दर्शाता है जो लेखाकार नहीं हैं?

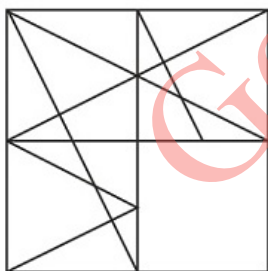
**Options:**

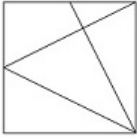
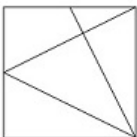
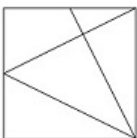
- 1) D,C,H
- 2) G,H
- 3) G,B,E
- 4) D,A

Correct Answer: G,H**Candidate Answer:** G,H**QID : 21 -**

Which answer figure will complete the pattern in the question figure?

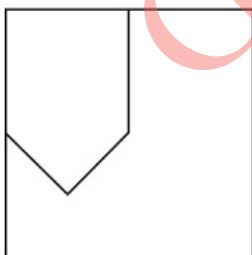
निम्नलिखित में से कौन-सी उत्तर आकृति प्रश्न आकृति के प्रतिरूप को पूरा करेगी?


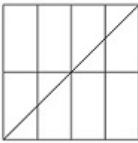
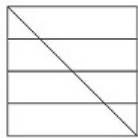
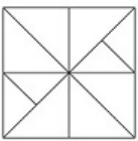
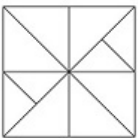
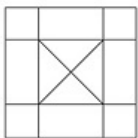


Options:**1)****2)****3)****4)****Correct Answer:****Candidate Answer:****QID : 22 -**

From the given answer figures, select the one in which the question figure is hidden/embedded.

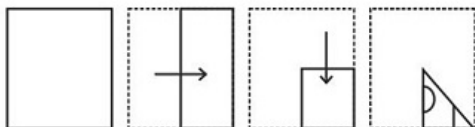
दी गई उत्तर आकृतियों में से उस आकृति को चुनिए जिसमें प्रश्न आकृति निहित है।

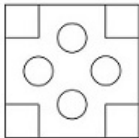
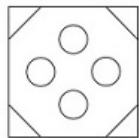
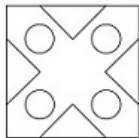
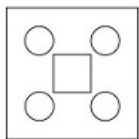
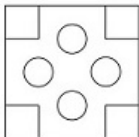
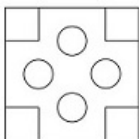


Options:**1)****2)****3)****4)****Correct Answer:****Candidate Answer:****QID : 23 -**

A piece of paper is folded and punched as shown below in the question figures. From the given answer figures, indicate how it will appear when opened.

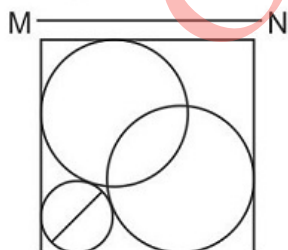
प्रश्न आकृतियों में दिखाए अनुसार कागज को मोड़कर उसमें छेद करने तथा खोलने के बाद वह किस उत्तर आकृति जैसा दिखाई देगा?

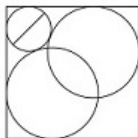
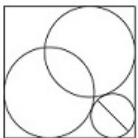
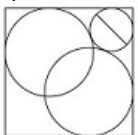
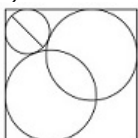
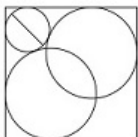
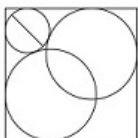


Options:**1)****2)****3)****4)****Correct Answer:****Candidate Answer:****QID : 24 -**

If a mirror is placed on the line MN, then which of the answer figures is the right image of the given figure?

यदि एक दर्पण को MN रेखा पर रखा जाए तो दी गई उत्तर आकृतियों में से कौन-सी आकृति प्रश्न आकृति का सही प्रतिबिम्ब होगी?



Options:**1)****2)****3)****4)****Correct Answer:****Candidate Answer:****QID : 25 -**

A word is represented by only one set of numbers as given in any one of the alternatives. The sets of numbers given in the alternatives are represented by two classes of alphabets as shown in the given two matrices. The columns and rows of Matrix-I are numbered from 0 to 4 and that of Matrix-II are numbered from 5 to 9. A letter from these matrices can be represented first by its row and next by its column, for example 'K' can be represented by 42, 34 etc and 'Z' can be represented by 76, 59 etc. Similarly, you have to identify the set for the word 'SELF'.

एक शब्द केवल एक संख्या-समूह द्वारा दर्शाया गया है, जैसा कि विकल्पों में से किसी एक में दिया गया है। विकल्पों में दिए गए संख्या-समूह अक्षरों के दो वर्गों द्वारा दर्शाए गए हैं, जैसा कि दिए गए दो आव्यूहों में है। आव्यूह-I के स्तम्भ और पंक्ति की संख्या 0 से 4 और आव्यूह-II की 5 से 9 है। इन आव्यूहों से एक अक्षर को पहले उसकी पंक्ति और बाद में स्तम्भ संख्या द्वारा दर्शाया जा सकता है। उदाहरण के लिए 'K' को 42, 34 आदि द्वारा दर्शाया जा सकता है तथा 'Z' को 76, 59 आदि द्वारा दर्शाया जा सकता है। इसी तरह से आपको प्रश्न में दिए शब्द 'SELF' के लिए समूह को पहचानना है।

Matrix I आव्यूह - I					
	0	1	2	3	4
0	H	H	D	I	C
1	D	A	H	I	G
2	B	K	K	E	L
3	G	H	A	B	K
4	A	F	K	C	D

Matrix II आव्यूह - II					
	5	6	7	8	9
5	O	Y	T	N	Z
6	V	Q	R	S	Q
7	V	Z	U	Q	S
8	O	P	T	O	N
9	S	N	Y	V	O

Options:

- 1) 95,23,24,41
- 2) 44,43,87,95
- 3) 04,31,85,58
- 4) 24,04,66,77

Correct Answer: 95,23,24,41**Candidate Answer:** 95,23,24,41

QID : 26 - The collection of all possible combinations of the goods and services that can be produced from a given amount of resources and a given stock of technological knowledge is called the _____ of the economy.

उपलब्ध संसाधनों की मात्रा तथा उपलब्ध प्रौद्योगिकीय ज्ञान के द्वारा उत्पादित की जा सकने वाली सभी वस्तुओं और सेवाओं के सभी संभावित संयोगों के समूह को अर्थव्यवस्था का _____ कहा जाता है।

Options:

- 1) Resource Probability Set
संसाधन संभाव्यता सेट
- 2) Production Probability Set
उत्पादन संभाव्यता सेट
- 3) Resource Possibility Set
संसाधन संभावना सेट
- 4) Production Possibility Set
उत्पादन संभावना सेट

Correct Answer: Production Possibility Set
उत्पादन संभावना सेट**Candidate Answer:** [NOT ANSWERED]

QID : 27 - If at a price, market supply is greater than market demand, we say that there is _____ in the market at that price.

यदि एक कीमत पर, बाजार आपूर्ति बाजार मांग से अधिक है, तो उस कीमत पर बाजार में _____ कहलाती है।

Options:

- 1) Equilibrium
संतुलन
- 2) Excess Demand
अधिमांग
- 3) Excess Supply
अधिपूर्ति
- 4) Marginal Revenue
सीमांत संप्राप्ति

Correct Answer: Excess Supply
अधिपूर्ति**Candidate Answer:** Excess Demand
अधिमांग

QID : 28 - In which year was All India Anna Dravida Munnetra Kazhagam (AIADMK) founded?

ऑल इंडिया अन्ना द्रविड़ मुनेत्र कड़गम (एआईएडीएमके) की स्थापना किस वर्ष में हुई?

Options:

- 1) 1949
- 2) 1999
- 3) 1972
- 4) 1997

Correct Answer: 1972**Candidate Answer:** [NOT ANSWERED]

QID : 29 - Which Fundamental Right in the Indian Constitution includes equal access to shops, bathing, ghats, hotels etc?

भारतीय संविधान के किस मौलिक अधिकार के अंतर्गत दुकानों, नहाने, घाट, होटल आदि स्थानों पर समान प्रवेश का अधिकार शामिल है?

Options:

- 1) Right to Liberty and Personal Freedom
स्वतंत्रता का अधिकार एवं व्यक्तिगत स्वतंत्रता
- 2) Right to Freedom of Religion
धार्मिक स्वतंत्रता का अधिकार
- 3) Right to Equality
समानता का अधिकार
- 4) Cultural and Educational Rights
सांस्कृतिक और शैक्षणिक अधिकार

Correct Answer: Right to Equality
समानता का अधिकार**Candidate Answer:** Right to Liberty and Personal Freedom
स्वतंत्रता का अधिकार एवं व्यक्तिगत स्वतंत्रता

QID : 30 - For how many days did Mahatma Gandhi's volunteers of the Salt satyagrah walked?

नमक सत्याग्रह में महात्मा गांधीजी की टोली कितने दिनों तक पैदल चली थी?

Options:

- 1) 24
- 2) 36
- 3) 12
- 4) 6

Correct Answer: 24**Candidate Answer:** [NOT ANSWERED]**QID : 31** - The Tomara Rajputs, were defeated in the middle of the twelfth century by the Chauhans of _____.

बारहवीं सदी के मध्य में तोमर राजपूतों को _____ के चौहानों ने परास्त किया।

Options:

- 1) Ayodhya
अयोध्या
- 2) Ajmer
अजमेर
- 3) Dwarka
द्वारका
- 4) Gwalior
ग्वालियर

Correct Answer: Ajmer

अजमेर

Candidate Answer: [NOT ANSWERED]**QID : 32** - India is the _____ largest country in the world.

भारत विश्व का _____ सबसे बड़ा देश है।

Options:

- 1) 3rd
तीसरा
- 2) 5th
पांचवां
- 3) 7th
सातवां
- 4) 9th
नौवां

Correct Answer: 7th

सातवां

Candidate Answer: 7th

सातवां

QID : 33 - The place on the earth's surface above the focus is called the _____.

उद्गम केंद्र के भूस्तर पर उसके निकटतम स्थान को _____ कहते हैं।

Options:

- 1) focus
उद्गम केंद्र
- 2) incentre
अंतःकेंद्र
- 3) epicentre
अधिकेन्द्र
- 4) circumcentre
परिकेन्द्र

Correct Answer: epicentre

अधिकेन्द्र

Candidate Answer: epicentre

अधिकेन्द्र

QID : 34 - The male sex accessory ducts include vasa efferentia, epididymis, vas deferens and _____.

पुरुष लिंग सहायक नलिकाओं के अंतर्गत शामिल होती हैं शुक्र वाहिकाएं, अधिवृषण, शुक्रवाहक और _____.

Options:

- 1) Cervix
गर्भाशय ग्रीवा
- 2) Rete Testis
वृषण जालिकाएं
- 3) Glands
ग्रंथियां
- 4) Seminiferous Tubules
शुक्रजनक नलिकाएं

Correct Answer: Rete Testis

वृषण जालिकाएं

Candidate Answer: [NOT ANSWERED]**QID : 35** - The meristem which occurs between mature tissues is known as _____ meristem.

जब मेरिस्टेम स्थायी उत्तकों के बीच होता है तब उसे _____ मेरिस्टेम कहते हैं।

Options:

- 1) Intercalary
अंतर्वेशी
- 2) Primary
प्राथमिक
- 3) Lateral
पार्श्विक
- 4) Apical
शीर्षस्थ

Correct Answer: Intercalary
अंतर्वेशी

Candidate Answer: Intercalary
अंतर्वेशी

QID : 36 - Which of the following Phylum are also called flatworms?

निम्नलिखित में से किस फाइलम को चपटे कृमि भी कहा जाता है?

Options:

- 1) Mollusca
मोलस्क
- 2) Chordata
रज्जुकी
- 3) Ctenophora
टीनोफोर
- 4) Platyhelminthes
प्लैटिहेल्मिन्थिज

Correct Answer: Platyhelminthes
प्लैटिहेल्मिन्थिज

Candidate Answer: [NOT ANSWERED]

QID : 37 - In the formula average velocity = $(u + v) / 2$, u is the _____.

औसत वेग के सूत्र = $(u + v) / 2$, में u _____ है।

Options:

- 1) Final velocity
अंतिम वेग
- 2) Initial displacement
प्रारंभिक विस्थापन
- 3) Initial velocity
प्रारंभिक वेग
- 4) Final displacement
अंतिम विस्थापन

Correct Answer: Initial velocity
प्रारंभिक वेग

Candidate Answer: Initial velocity
प्रारंभिक वेग

QID : 38 - Vocal chords in women are _____ than vocal chords in men.

महिलाओं के वाक्-तंतु पुरुषों के वाक्- तंतुओं की तुलना में _____ होते हैं।

Options:

- 1) 5mm shorter
5 मिमी. कम लंबा
- 2) 15mm shorter
15 मिमी. कम लंबा
- 3) 5mm longer
5 मिमी. अधिक लंबा
- 4) 15mm longer
15 मिमी. अधिक लंबा

Correct Answer: 5mm shorter
5 मिमी. कम लंबा

Candidate Answer: [NOT ANSWERED]

QID : 39 - The web uses the _____ to request and serve web pages and programs.

वेब में वेब पेजों और प्रोग्रामों के अनुरोध के लिए और उन्हें पूरा करने के लिए _____ का प्रयोग होता है।

Options:

- 1) Hyper Text Marketing Language
हाइपर टेक्स्ट मार्केटिंग लैंग्वेज
- 2) Hyper Text Markup Language
हाइपर टेक्स्ट मार्कअप लैंग्वेज
- 3) Hotmail Text Markup Language
हॉटमेल टेक्स्ट मार्कअप लैंग्वेज
- 4) Home Text Markup Language
होम टेक्स्ट मार्कअप लैंग्वेज

Correct Answer: Hyper Text Markup Language
हाइपर टेक्स्ट मार्कअप लैंग्वेज

Candidate Answer: Hyper Text Markup Language
हाइपर टेक्स्ट मार्कअप लैंग्वेज

QID : 40 - What is the name of the acid in grapes?

अंगूर में कौन सा एसिड पाया जाता है?

Options:

- 1) Lactic acid
लैक्टिक अम्ल
- 2) Formic acid
फॉर्मिक अम्ल
- 3) Acetic acid
एसिटिक अम्ल
- 4) Tartaric acid
टार्टरिक अम्ल

Correct Answer: Tartaric acid

टार्टरिक अम्ल

Candidate Answer: Tartaric acid

टार्टरिक अम्ल

QID : 41 - Which fibre is also called as artificial silk?

इनमें से किस रेशे (फाइबर) को कृत्रिम रेशम कहा जाता है?

Options:

- 1) Nylon
नाइलॉन
- 2) Rayon
रेयॉन
- 3) Polyester
पोलिएस्टर
- 4) Acrylic
एक्रिलिक

Correct Answer: Rayon

रेयॉन

Candidate Answer: Nylon

नाइलॉन

QID : 42 - During the past century, the temperature of Earth has increased by _____.

गत शताब्दी में पृथ्वी के तापमान में _____ बढ़ि हुई है।

Options:

- 1) 0.6°C
- 2) 1.6°C
- 3) 2.6°C
- 4) 3.6°C

Correct Answer: 0.6°C

Candidate Answer: 0.6°C

QID : 43 - _____ scheme was launched by the Central Government to give financial services to weaker section of society.

समाज के कमज़ोर वर्ग को वित्तीय सहायता देने के उद्देश्य से केंद्र सरकार ने _____ योजना प्रारंभ की।

Options:

- 1) Sukanya Samridhi Yojana
सुकन्या समृद्धि योजना
- 2) Bal Swachta Mission
बाल स्वच्छता मिशन
- 3) Pradhan Mantri Jan Dhan Yojana
प्रधानमंत्री जन धन योजना
- 4) Beti Bachao Beti Padhao Yojana
बेटी बचाओ बेटी पढ़ाओ योजना

Correct Answer: Pradhan Mantri Jan Dhan Yojana

प्रधानमंत्री जन धन योजना

Candidate Answer: Pradhan Mantri Jan Dhan Yojana

प्रधानमंत्री जन धन योजना

QID : 44 - Who discovered Uranus?

अरुण (ग्रह) की खोज किसने की थी?

Options:

- 1) Sir Isaac Newton
सर आइज़क न्यूटन
- 2) William Henry Fox Talbot
विलियम हेनरी फॉक्स टैलबोट
- 3) William Herschel
विलियम हर्शेल
- 4) Nicolaus Copernicus
निकोलस कोपरनिकस

Correct Answer: William Herschel

विलियम हर्शेल

Candidate Answer: William Henry Fox Talbot

विलियम हेनरी फॉक्स टैलबोट

QID : 45 - Who was the host nation of 2015 Men's Rugby World Cup?

कौन सा देश 2015 रग्बी विश्व कप (पुरुष) का मेजबान था?

Options:

- 1) New Zealand
न्यूज़ीलैण्ड
- 2) South Africa
दक्षिण अफ्रीका
- 3) Australia
ऑस्ट्रेलिया
- 4) England
इंग्लैण्ड

Correct Answer: England

इंग्लैण्ड

Candidate Answer: England

इंग्लैण्ड

QID : 46 - Who started construction of Nalanda (Mahavihara) ?

नालन्दा (महाविहार) का निर्माण शुरू में किसने करवाया था?

Options:

- 1) Dharmapala
धरमपाल
- 2) Ashoka
अशोक
- 3) Kumaragupta
कुमारागुप्त
- 4) Harihara
हरिहर

Correct Answer: Kumaragupta

कुमारागुप्त

Candidate Answer: Dharmapala

धरमपाल

QID : 47 - Who is not amongst the winners of Nobel Prize 2016 for Chemistry?

किसे वर्ष 2016 में रसायन विज्ञान के लिए नोबेल पुरस्कार नहीं मिला है?

Options:

- 1) Jean-Pierre Sauvage
जीन पियरे सेवेज
- 2) J. Michael Kosterlitz
जे. माइकल कोस्टरलिट्ज
- 3) Sir J. Fraser Stoddart
सर जे फ्रेजर स्टोडर्ट
- 4) Bernard L. Feringa
बर्नार्ड एल. फेरिंगा

Correct Answer: J. Michael Kosterlitz

जे. माइकल कोस्टरलिट्ज

Candidate Answer: [NOT ANSWERED]

QID : 48 - Which of the statements given below are correct?

1. The author of the novel 'Missile Gap' is Charles Stross.
2. The author of the novel 'Bird Box' is Victor LaValle.
3. The author of the novel 'The City and the City' is China Mieville.

नीचे दिये गये कथनों में से कौन से कथन सही है?

1. उपन्यास "मिसाइल गैप" के लेखक चार्ल्स स्ट्रोस हैं।
2. उपन्यास "बर्ड बॉक्स" के लेखक विक्टर लावले हैं।
3. उपन्यास "द सिटी एंड द सिटी" के लेखक चाइना मिएविले हैं।

Options:

- 1) 1 and 2
1 और 2
- 2) 2 and 3
2 और 3
- 3) 1 and 3
1 और 3
- 4) 1, 2 and 3
1, 2 और 3

Correct Answer: 1 and 3

1 और 3

Candidate Answer: [NOT ANSWERED]

QID : 49 - Which country was India's largest overseas investment destination in the year 2015-16?

वर्ष 2015-16 में, कौन सा देश भारत का सबसे बड़ा विदेशी निवेश गंतव्य था?

Options:

- 1) Mauritius
मॉरीशस
- 2) Switzerland
स्विट्जरलैंड
- 3) Saudi Arabia
सऊदी अरब
- 4) Australia
ऑस्ट्रेलिया

Correct Answer: Mauritius

मॉरीशस

Candidate Answer: Mauritius

मॉरीशस

QID : 50 - China does not share its border with which Indian state?

चीन अपनी सीमा को किस भारतीय राज्य से साझा नहीं करता है?

Options:

- 1) Bihar
बिहार
- 2) Arunachal Pradesh
अरुणाचल प्रदेश
- 3) Himachal Pradesh
हिमाचल प्रदेश
- 4) Sikkim
सिक्किम

Correct Answer: Bihar

बिहार

Candidate Answer: Bihar

बिहार

QID : 51 - What is the LCM of 64 and 56?

64 और 56 का लघुत्तम समापवर्तक क्या है?

Options:

- 1) 448
- 2) 488
- 3) 484
- 4) 408

Correct Answer: 448**Candidate Answer:** 448**QID : 52** - A and B together do a job in 6.75 days and A could do the job in 9 days if he worked alone. How many days would B take to do the job if he worked alone?

A और B मिलकर एक काम 6.75 दिनों में पूरा करते हैं और A अकेले वही काम 9 दिनों में पूरा कर सकता है। यदि B अकेले वही काम करता तो उसे काम पूरा करने में कितने दिन लगेंगे?

Options:

- 1) 27
- 2) 18
- 3) 24
- 4) 21

Correct Answer: 27**Candidate Answer:** 27**QID : 53** - What is the diameter (in cm) of a sphere of surface area 154 sq cm?

154 वर्ग से.मी. पृष्ठ क्षेत्रफल वाले गोले का व्यास (से.मी. में) क्या है?

Options:

- 1) 3.5
- 2) 14
- 3) 10.5
- 4) 7

Correct Answer: 7**Candidate Answer:** 7**QID : 54** - A Rs 100 shirt is offered at 10% discount and a Rs 300 pair of trousers at 20% discount. If Pritam bought 1 shirt and 3 pairs of trousers, what is the effective discount (in %) he got?

एक 100 रु शर्ट पर 10% छूट का प्रस्ताव दिया जाता है और एक 300 रु के पैट के जोड़े पर 20% की छूट दी जाती है। अगर प्रीतम ने 1 शर्ट और 3 जोड़े पैट खरीदे, तो उसे कितनी प्रभावी छूट (% में) मिली?

Options:

1) 19

2) 18

3) 17

4) 16

Correct Answer: 19**Candidate Answer:** 19**QID : 55** - A's wealth is $\frac{5}{7}$ times of B's and C's is $\frac{10}{7}$ times of B's. What is the ratio of C's wealth to A's?A की संपत्ति B से $\frac{5}{7}$ गुना है और C की B से $\frac{10}{7}$ गुना है। C की संपत्ति का A की संपत्ति से अनुपात क्या है?**Options:**

1) (49:100)

2) (1:2)

3) (2:1)

4) (100:49)

Correct Answer: (2:1)**Candidate Answer:** (1:2)**QID : 56** - The average of four consecutive odd numbers is 64. What is the value of largest number?

चार लगातार विषम संख्याओं का औसत 64 है। विशालतम (लार्जैस्ट) संख्या का मान क्या है?

Options:

1) 65

2) 69

3) 71

4) 67

Correct Answer: 67**Candidate Answer:** 67**QID : 57** - If a wholesaler, sells a box of chocolates at Rs 960 he gains 20%. Now if he decides to sell it at Rs 1120, what is his profit percentage?

यदि एक थोक व्यापारी चॉकलेट का बॉक्स 960 रु में बेचता है तो उसे 20% का मुनाफा होता है। अब यदि वह इसे 1120 रु में बेचने का फैसला करता है तो उसका लाभ प्रतिशत कितना है?

Options:

1) 30

2) 40

3) 50

4) 60

Correct Answer: 40**Candidate Answer:** 40**QID : 58** - A man wills 25% of his wealth to charity and rest to his family. What percent of the wealth willed to charity does the family get?

एक व्यक्ति अपनी संपत्ति का 25% दान और शेष अपने परिवार को देने की वसीयत बनाता है। दान में दि गई संपत्ति का कितना प्रतिशत परिवार को मिलता है?

Options:

1) 200

2) 33.3

3) 300

4) 25

Correct Answer: 300**Candidate Answer:** 300**QID : 59** - If a person walks at 15 km/hr instead of 9 km/hr, he would have walked 3 km more in the same time. What is the actual distance (in kms) travelled by him?

यदि कोई व्यक्ति 9 किलोमीटर / घंटा की बजाय 15 किलोमीटर / घंटा पर चलता है, तो वह उसी समय में 3 किलोमीटर अधिक चला होता। उसके द्वारा तय की गई वास्तविक दूरी (किलोमीटर में) क्या है?

Options:

1) 5.5

2) 6.5

3) 4.5

4) 7.5

Correct Answer: 4.5

Candidate Answer: 4.5

QID : 60 - Ganesh invested an amount of Rs x in a fixed deposit scheme offering 5% per annum for 1st year and 15% per annum for 2nd year and received an amount of Rs 9660 after two years. What is the value of x (in Rs)?

गणेश ने एक निश्चित जमा योजना में x रुपए की राशि का 1 वर्ष के लिए 5% प्रति वर्ष की दर से और दूसरे वर्ष के लिए 15% प्रति वर्ष की दर से निवेश किया और दो साल बाद 9660 रु की राशि प्राप्त की। x (रु में) का मान क्या है?

Options:

- 1) 9000
- 2) 8000
- 3) 8500
- 4) 8200

Correct Answer: 8000**Candidate Answer:** 8200

QID : 61 - If $[4(2x/5 - 3/2)]/3 + 7/5 = 37/5$, then what is the value of x?

यदि $[4(2x/5 - 3/2)]/3 + 7/5 = 37/5$ है, तो x का मान क्या है?

Options:

- 1) -15
- 2) 7/5
- 3) 15
- 4) -7/5

Correct Answer: 15**Candidate Answer:** 15

QID : 62 - If $a - b = 4$ and $ab = -3$, then what is the value of $a^3 - b^3$?

यदि $a - b = 4$ और $ab = -3$ है, तो $a^3 - b^3$ का मान क्या है?

Options:

- 1) 21
- 2) 28
- 3) 23
- 4) -20

Correct Answer: 28**Candidate Answer:** 28

QID : 63 - Sum of twice a fraction and 3 times its reciprocal is $29/3$. What is the fraction?

एक भिन्न के दो गुणा और उस भिन्न के व्युत्क्रम के 3 गुणा का योग $29/3$ है। वह भिन्न क्या है?

Options:

- 1) $2/9$
- 2) $5/4$
- 3) $4/5$
- 4) $9/2$

Correct Answer: $9/2$ **Candidate Answer:** $9/2$

QID : 64 - The 7th and 12th term of an arithmetic progression are -15 and 5 respectively. What is the 16th term?

समांतर श्रेणी का सातवां और बाहरवां पद क्रमशः -15 और 5 है। 16-वां पद क्या है?

Options:

- 1) 25
- 2) 29
- 3) 21
- 4) 33

Correct Answer: 21**Candidate Answer:** 21

QID : 65 - What is the reflection of the point (4, -3) in the line $y = -2$?

रेखा $y = -2$ में बिंदु (4, -3) का प्रतिबिंब क्या है?

Options:

- 1) (4, 1)
 2) (-4, 1)
 3) (-4, -1)
 4) (4, -1)

Correct Answer: (4, -1)**Candidate Answer:** (-4, 1)**QID : 66** - The distance between the points (2, 7) and (k, -5) is 13. What is the value of k?

बिंदुओं (2, 7) और (k, -5) के बीच की दूरी 13 है। k का मान क्या है?

Options:

- 1) -7
 2) 7
 3) 6
 4) -6

Correct Answer: 7**Candidate Answer:** 7**QID : 67** - What is the equation of the line perpendicular to the line $5x + 3y = 6$ and having Y-intercept -3?उस रेखा का समीकरण क्या है जोकि रेखा $5x + 3y = 6$ के लम्बवत है और जिसका Y-प्रतिच्छेद -3 है?**Options:**

- 1) $3x - 5y = 15$
 2) $3x + 5y = 15$
 3) $3x - 5y = -15$
 4) $3x + 5y = -15$

Correct Answer: $3x - 5y = 15$ **Candidate Answer:** $3x - 5y = 15$ **QID : 68** - D and E are points on side AB and AC of $\triangle ABC$. DE is parallel to BC. If $AD:DB = 2:5$ and area of $\triangle ADE$ is 8 cm sq, what is the area (in sq cm) of quadrilateral BDEC? $\triangle ABC$ की भुजाओं AB और AC पर D और E बिंदु हैं। DE BC के समांतर है। यदि $AD:DB = 2:5$ है और $\triangle ADE$ का क्षेत्रफल 8 वर्ग सें.मी. है, तो चतुर्भुज BDEC का क्षेत्रफल (वर्ग सें.मी. में) क्या है?**Options:**

- 1) 98
 2) 94
 3) 90
 4) 86

Correct Answer: 90**Candidate Answer:** 90**QID : 69** - What is the value of $\sin 30^\circ - \sqrt{2} \cos 30^\circ$? $\sin 30^\circ - \sqrt{2} \cos 30^\circ$ का मान क्या है?**Options:**

- 1) $(1 - \sqrt{6})/\sqrt{2}$
 2) $(1 - \sqrt{6})/2$
 3) $(3 - \sqrt{6})/2$
 4) $(3 - \sqrt{6})/\sqrt{2}$

Correct Answer: $(1 - \sqrt{6})/2$ **Candidate Answer:** $(1 - \sqrt{6})/2$ **QID : 70** - $\triangle XYZ$ is right angled at Y. If $m \angle Z = 60^\circ$. What is the length (in cm) of YZ, if $ZX = 9\sqrt{3}$ cm? $\triangle XYZ$, Y पर समकोण है। यदि $m \angle Z = 60^\circ$ है, तो YZ की लंबाई (सें.मी. में) क्या है, यदि $ZX = 9\sqrt{3}$ सें.मी. है?**Options:**

- 1) $3\sqrt{3}$
 2) $3\sqrt{3}/2$
 3) $9\sqrt{3}/2$
 4) $\sqrt{3}$

Correct Answer: $9\sqrt{3}/2$ **Candidate Answer:** $9\sqrt{3}/2$

QID : 71 - If $\sec \theta = 13/12$, then what is the value of $\sin \theta$?

यदि $\sec \theta = 13/12$ है, तो $\sin \theta$ का मान क्या है?

Options:

- 1) 5/13
- 2) 12/5
- 3) 12/13
- 4) 5/12

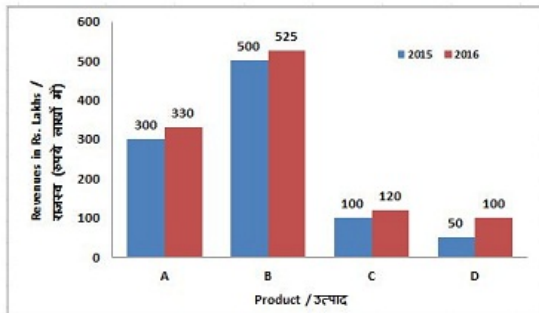
Correct Answer: 5/13

Candidate Answer: 5/13

QID : 72 -

The bar graph shows revenues in rupees lakhs from selling four different products (A, B, C, D) by a certain company. Study the diagram and answer the following questions.

बार ग्राफ एक निश्चित कंपनी को चार भिन्न-भिन्न उत्पादों (A, B, C, D) की बिक्री से हुई राजस्व (रुपये लाखों में) दर्शाता है। इस आरेख का अध्ययन करें और निम्नलिखित प्रश्नों का उत्तर दें।



Revenues from which product were the least in both the years 2015 and 2016?

वर्ष 2015 और वर्ष 2016 दोनों में किस उत्पाद का राजस्व सबसे कम था?

Options:

- 1) D
- 2) A
- 3) B
- 4) C

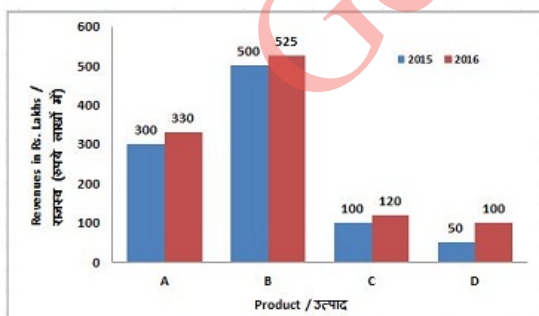
Correct Answer: D

Candidate Answer: D

QID : 73 -

The bar graph shows revenues in rupees lakhs from selling four different products (A, B, C, D) by a certain company. Study the diagram and answer the following questions.

बार ग्राफ एक निश्चित कंपनी को चार भिन्न-भिन्न उत्पादों (A, B, C, D) की बिक्री से हुई राजस्व (रुपये लाखों में) दर्शाता है। इस आरेख का अध्ययन करें और निम्नलिखित प्रश्नों का उत्तर दें।



By what value (in %) the revenue from sale of product B in 2016 was greater than that of 2015?

वर्ष 2016 में उत्पाद B की बिक्री से हुआ राजस्व वर्ष 2015 की तुलना में कितना (%) अधिक था?

Options:

- 1) 0.5
- 2) 5
- 3) 25
- 4) 2

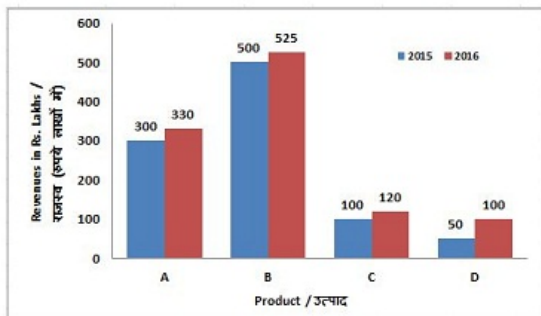
Correct Answer: 5

Candidate Answer: 5

QID : 74 -

The bar graph shows revenues in rupees lakhs from selling four different products (A, B, C, D) by a certain company. Study the diagram and answer the following questions.

बार ग्राफ एक निश्चित कंपनी को चार भिन्न-भिन्न उत्पादों (A, B, C, D) की बिक्री से हुई राजस्व (रुपये लाखों में) दर्शाता है। इस आरेख का अध्ययन करें और निम्नलिखित प्रश्नों का उत्तर दें।



By what amount (in Rs crore) the total revenue by selling all the four products in 2016 is greater than that of 2015 ?

2016 में सभी चार उत्पादों की बिक्री से हुआ कुल राजस्व वर्ष 2015 की तुलना में कितना अधिक (करोड़ रु में) है?

Options:

- 1) 1
- 2) 0.75
- 3) 1.5
- 4) 1.25

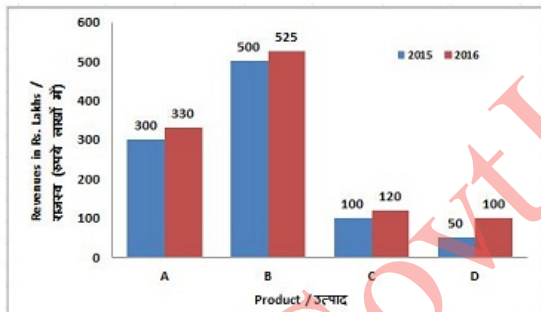
Correct Answer: 1.25

Candidate Answer: 1.25

QID : 75 -

The bar graph shows revenues in rupees lakhs from selling four different products (A, B, C, D) by a certain company. Study the diagram and answer the following questions.

बार ग्राफ एक निश्चित कंपनी को चार भिन्न-भिन्न उत्पादों (A, B, C, D) की बिक्री से हुई राजस्व (रुपये लाखों में) दर्शाता है। इस आरेख का अध्ययन करें और निम्नलिखित प्रश्नों का उत्तर दें।



If the cost of producing and selling the four products was Rs 10 crores each in 2015 and 2016 then what is the cumulative profit (in Rs Lakhs) earned in the years 2015 and 2016?

यदि वर्ष 2015 और वर्ष 2016 में चारों उत्पादों के उत्पादन और बिक्री की लागत प्रत्येक वर्ष 10 करोड़ रुपए थी तो वर्ष 2015 और वर्ष 2016 में कितना संचयित लाभ (लाखों रु में) अर्जित हुआ?

Options:

- 1) 75
- 2) 25
- 3) 50
- 4) 100

Correct Answer: 25

Candidate Answer: [NOT ANSWERED]

QID : 76 - In the following question, some part of the sentence may have errors. Find out which part of the sentence has an error and select the appropriate option. If a sentence is free from error, select 'No Error'.

The boy who (1)/ sat close him (2)/ was his son. (3)/No Error (4)

Options:

- 1) 1
- 2) 2
- 3) 3
- 4) 4

Correct Answer: 2

Candidate Answer: 2

QID : 77 - In the following question, some part of the sentence may have errors. Find out which part of the sentence has an error and select the appropriate option. If a sentence is free from error, select 'No Error'.

When I returned I felt **(1)**/ a big cat brush side me **(2)**/ as I opened the door. **(3)**/No Error **(4)**

Options:

- 1) 1
- 2) 2
- 3) 3
- 4) 4

Correct Answer: 2

Candidate Answer: 3

QID : 78 - In the following question, the sentence given with blank to be filled in with an appropriate word. Select the correct alternative out of the four and indicate it by selecting the appropriate option.

Ever since Anita lost her job, she has done _____ but wallow in self-pity.

Options:

- 1) none
- 2) nothing
- 3) no
- 4) never

Correct Answer: nothing

Candidate Answer: nothing

QID : 79 - In the following question, the sentence given with blank to be filled in with an appropriate word. Select the correct alternative out of the four and indicate it by selecting the appropriate option.

As I think back to my childhood, I _____ recall the fun summers on my grandfather's farm.

Options:

- 1) wistfully
- 2) fiscally
- 3) hopefully
- 4) Awfully

Correct Answer: wistfully

Candidate Answer: [NOT ANSWERED]

QID : 80 - In the following question, out of the four alternatives, select the word similar in meaning to the word given.

Pillage

Options:

- 1) Bequeath
- 2) Consign
- 3) Entrust
- 4) Desecrate

Correct Answer: Desecrate

Candidate Answer: Desecrate

QID : 81 - In the following question, out of the four alternatives, select the word similar in meaning to the word given.

Cluster

Options:

- 1) Individual
- 2) Assemblage
- 3) Specific
- 4) Solitary

Correct Answer: Assemblage

Candidate Answer: Solitary

QID : 82 - In the following question, out of the four alternatives, select the word opposite in meaning to the word given.

Rampart

Options:

- 1) Barricade
- 2) Fort
- 3) Embankment
- 4) Ditch

Correct Answer: Ditch

Candidate Answer: Barricade

QID : 83 - In the following question, out of the four alternatives, select the word opposite in meaning to the word given.

Epidemic

Options:

- 1) Contagious
- 2) Endemic
- 3) Limited
- 4) Infectious

Correct Answer: Limited

Candidate Answer: Infectious

QID : 84 - In the following question, out of the four alternatives, select the alternative which best expresses the meaning of the idiom/phrase.

To have at one's fingertips

Options:

- 1) To be very fast on the keyboard
- 2) To be adroit with a percussion musical instrument
- 3) Recall of factual information at one's command
- 4) To carefully note down minute details

Correct Answer: Recall of factual information at one's command

Candidate Answer: Recall of factual information at one's command

QID : 85 - In the following question, out of the four alternatives, select the alternative which best expresses the meaning of the idiom/phrase.

To not have a clue

Options:

- 1) To be extremely poor
- 2) To fail an examination
- 3) To lose confidence at the last moment
- 4) To not know about something

Correct Answer: To not know about something

Candidate Answer: To lose confidence at the last moment

QID : 86 - In the following question, out of the four alternatives, select the alternative which will improve the bracketed part of the sentence. In case no improvement is needed, select "no improvement".

Since when **(have to start)** a business been so easy?

Options:

- 1) has started
- 2) have starting
- 3) has starting
- 4) no improvement

Correct Answer: has starting

Candidate Answer: has started

QID : 87 - In the following question, out of the four alternatives, select the alternative which will improve the bracketed part of the sentence. In case no improvement is needed, select "no improvement".

Those films **(being)** made now.

Options:

- 1) was being
- 2) is being
- 3) are being
- 4) no improvement

Correct Answer: are being

Candidate Answer: are being

QID : 88 - In the following question, out of the four alternatives, select the alternative which is the best substitute of the words/sentence.

Protection of or authority over someone

Options:

- 1) Autonomous
- 2) Tutelage
- 3) Nonaligned
- 4) Unaided

Correct Answer: Tutelage

Candidate Answer: [NOT ANSWERED]

QID : 89 - In the following question, out of the four alternatives, select the alternative which is the best substitute of the words/sentence.

Optimistic in an apparently difficult situation

Options:

- 1) Sanguine
- 2) Pallid
- 3) Pessimistic
- 4) Sallow

Correct Answer: Sanguine

Candidate Answer: Sanguine

QID : 90 - In the following question, four words are given out of which one word is correctly spelt. Select the correctly spelt word.

Options:

- 1) Actuasion
- 2) Actation
- 3) Actasion
- 4) Actuation

Correct Answer: Actuation

Candidate Answer: Actuation

QID : 91 - In the following question, four words are given out of which one word is correctly spelt. Select the correctly spelt word.

Options:

- 1) Motheatan
- 2) Mothaten
- 3) Mothatan
- 4) Motheaten

Correct Answer: Motheaten

Candidate Answer: Motheaten

QID : 92 - The question below consists of a set of labelled sentences. Out of the four options given, select the most logical order of the sentences to form a coherent paragraph.

We entered, and
 X-had been assigned
 Y-to each of us
 Z-found that a hut

Options:

- 1) YZX
- 2) YXZ
- 3) ZXY
- 4) XZY

Correct Answer: ZXY

Candidate Answer: YZX

QID : 93 - The question below consists of a set of labelled sentences. Out of the four options given, select the most logical order of the sentences to form a coherent paragraph.

The resulting brain change is
 X-concomitant of
 Y-the sensation
 Z-regarded as the true

Options:

- 1) YZX
- 2) YXZ
- 3) XZY
- 4) ZXY

Correct Answer: ZXY

Candidate Answer: ZXY

QID : 94 - In the following question, a sentence has been given in Active/Passive voice. Out of the four alternatives suggested, select the one which best expresses the same sentence in Passive/Active voice.

Who taught you to ride?

Options:

- 1) By whom is you taught to ride?
- 2) By whom were you taught to ride?
- 3) Riding by you was taught by who?
- 4) Riding by you was taught by whom?

Correct Answer: By whom were you taught to ride?

Candidate Answer: By whom were you taught to ride?

QID : 95 - In the following question, a sentence has been given in Direct/Indirect speech. Out of the four alternatives suggested, select the one which best expresses the same sentence in Indirect/Direct speech.

Sheetal said to me, "How have you solved this problem?"

Options:

- 1) Sheetal asked me how I had solved that problem.
- 2) Sheetal asked me how I have solved that problem.
- 3) Sheetal asked me how I had solved this problem.
- 4) Sheetal asked me how I have solved this problem.

Correct Answer: Sheetal asked me how I had solved that problem.

Candidate Answer: Sheetal asked me how I had solved that problem.

QID : 96 - In the following passage, some of the words have been left out. Read the passage carefully and select the correct answer for the given blank out of the four alternatives.

The woodpeckers of the West (with one exception) are different _____ those of the East, and so are the flycatchers, the grosbeaks, the orioles, the tanagers, the humming-birds, _____ many of the sparrows. _____ of the purple and bronzed grackles (the latter are _____ seen on the plains of Colorado, but are not common), the Rockies boast of Brewer's blackbird, _____ habits are not as prosaic as his name would indicate.

West (with one exception) are different _____ those of the East

Options:

- 1) for
- 2) from
- 3) of
- 4) to

Correct Answer: from

Candidate Answer: from

QID : 97 - In the following passage, some of the words have been left out. Read the passage carefully and select the correct answer for the given blank out of the four alternatives.

The woodpeckers of the West (with one exception) are different _____ those of the East, and so are the flycatchers, the grosbeaks, the orioles, the tanagers, the humming-birds, _____ many of the sparrows. _____ of the purple and bronzed grackles (the latter are _____ seen on the plains of Colorado, but are not common), the Rockies boast of Brewer's blackbird, _____ habits are not as prosaic as his name would indicate.

the humming-birds, _____ many of the sparrows.

Options:

- 1) and
- 2) because
- 3) but
- 4) if

Correct Answer: and

Candidate Answer: and

QID : 98 - In the following passage, some of the words have been left out. Read the passage carefully and select the correct answer for the given blank out of the four alternatives.

The woodpeckers of the West (with one exception) are different _____ those of the East, and so are the flycatchers, the grosbeaks, the orioles, the tanagers, the humming-birds, _____ many of the sparrows. _____ of the purple and bronzed grackles (the latter are _____ seen on the plains of Colorado, but are not common), the Rockies boast of Brewer's blackbird, _____ habits are not as prosaic as his name would indicate.

_____ of the purple and bronzed grackles

Options:

- 1) Beside
- 2) Next
- 3) Instead
- 4) Near

Correct Answer: Instead

Candidate Answer: Instead

QID : 99 - In the following passage, some of the words have been left out. Read the passage carefully and select the correct answer for the given blank out of the four alternatives.

The woodpeckers of the West (with one exception) are different _____ those of the East, and so are the flycatchers, the grosbeaks, the orioles, the tanagers, the humming-birds, _____ many of the sparrows. _____ of the purple and bronzed grackles (the latter are _____ seen on the plains of Colorado, but are not common), the Rockies boast of Brewer's blackbird, _____ habits are not as prosaic as his name would indicate.

(the latter are _____ seen on the plains of Colorado, but are not common)

Options:

- 1) sometime
- 2) sometimes
- 3) at time
- 4) any time

Correct Answer: sometimes

Candidate Answer: sometimes

QID : 100 - In the following passage, some of the words have been left out. Read the passage carefully and select the correct answer for the given blank out of the four alternatives.

The woodpeckers of the West (with one exception) are different _____ those of the East, and so are the flycatchers, the grosbeaks, the orioles, the tanagers, the humming-birds, _____ many of the sparrows. _____ of the purple and bronzed grackles (the latter are _____ seen on the plains of Colorado, but are not common), the Rockies boast of Brewer's blackbird, _____ habits are not as prosaic as his name would indicate.

Brewer's blackbird, _____ habits are not as prosaic

Options:

- 1) whose
- 2) who
- 3) whom
- 4) whoever

Correct Answer: whose

Candidate Answer: whose