



Staff Selection Commission
(Government Of India)

QID : 201 - Select the related word from the given alternatives.

Car : Steering wheel :: Motorcycle : ?

दिए गए विकल्पों में से संबंधित शब्द को चुनिए।

कार : स्टीयरिंग व्हील :: मोटरसाइकिल : ?

Options:

- 1) Tyre
टायर
- 2) Headlight
हेडलाइट
- 3) Engine
इंजन
- 4) Handle bar
हैंडल बार

Correct Answer: Handle bar
हैंडल बार

Candidate Answer: Handle bar
हैंडल बार

QID : 202 - Select the related letters from the given alternatives.

EFG : VUT :: JIH : ?

दिए गए विकल्पों में से संबंधित अक्षरों को चुनिए।

EFG : VUT :: JIH : ?

Options:

- 1) SUW
- 2) QRS
- 3) QSU
- 4) HFD

Correct Answer: QRS

Candidate Answer: QRS

QID : 203 - Select the related number from the given alternatives.

0.02 : 0.002 :: 1/3 : ?

दिए गए विकल्पों में से संबंधित संख्या को चुनिए।

0.02 : 0.002 :: 1/3 : ?

Options:

- 1) 0.333
- 2) 1/30
- 3) 0.003
- 4) 3

Correct Answer: 1/30

Candidate Answer: 1/30

QID : 204 - Select the odd word from the given alternatives.

दिए गए विकल्पों में से विषम शब्द को चुनिए।

Options:

- 1) Bat
बल्ला
- 2) Umpire
अंपायर
- 3) Stumps
स्टंप
- 4) Bails
गिल्ली

Correct Answer: Umpire
अंपायर

Candidate Answer: Umpire
अंपायर

QID : 205 - Select the odd letters from the given alternatives.

दिए गए विकल्पों में से विषम अक्षरों को चुनिए।

Options:

- 1) ECA
- 2) GIK
- 3) QOM
- 4) WUS

Correct Answer: GIK

Candidate Answer: GIK

QID : 206 - Select the odd number from the given alternatives.

दिए गए विकल्पों में से विषम संख्या को चुनिए।

Options:

- 1) 133
- 2) 253
- 3) 231
- 4) 209

Correct Answer: 133

Candidate Answer: 253

QID : 207 - A series is given, with one word missing. Choose the correct alternative from the given ones that will complete the series.

rupees, arena, pursue, spare, separate, ?

एक अनुक्रम दिया गया है, जिसमें एक शब्द लुप्त है। दिए गए विकल्पों में से वह सही विकल्प चुनिए जो अनुक्रम को पूरा करे।

rupees, arena, pursue, spare, separate, ?

Options:

- 1) rapid
- 2) pusher
- 3) person
- 4) super

Correct Answer: pusher

Candidate Answer: super

QID : 208 - A series is given, with one term missing. Choose the correct alternative from the given ones that will complete the series.

U, T, R, O, K ?

एक अनुक्रम दिया गया है, जिसमें एक पद लुप्त है। दिए गए विकल्पों में से वह सही विकल्प चुनिए जो अनुक्रम को पूरा करे।

U, T, R, O, K ?

Options:

- 1) G
- 2) H
- 3) E
- 4) F

Correct Answer: F

Candidate Answer: F

QID : 209 - A series is given, with one number missing. Choose the correct alternative from the given ones that will complete the series.

-7.25, -5.75, -4.25, -2.75, ?, 0.25

एक अनुक्रम दिया गया है, जिसमें एक संख्या लुप्त है। दिए गए विकल्पों में से वह सही विकल्प चुनिए जो अनुक्रम को पूरा करे।

-7.25, -5.75, -4.25, -2.75, ?, 0.25

Options:

- 1) 1.25
- 2) -1.25
- 3) 1.5
- 4) -1.5

Correct Answer: -1.25

Candidate Answer: -1.25

QID : 210 - Aarush's birthday is on Thursday 27th April. On what day of the week will be Mitul's Birthday in the same year if Mitul was born on 28th September?

आरुष का जन्मदिन गुरुवार 27 अप्रैल को है। यदि मितुल का जन्म 28 सितंबर को हुआ था तो उसी वर्ष मितुल का जन्मदिन सप्ताह में किस दिन होगा?

Options:

- 1) Monday
सोमवार
- 2) Thursday
गुरुवार
- 3) Wednesday
बुधवार
- 4) Tuesday
मंगलवार

Correct Answer: Thursday

गुरुवार

Candidate Answer: Thursday

गुरुवार

QID : 211 - The weights of 4 boxes are 20, 30, 40 and 60 kilograms. Which of the following cannot be the total weight, in kilograms, of any combination of these boxes and in a combination a box can be used only once?

चार बक्सों का वजन 20, 30, 40 और 60 किलोग्राम है। निम्नलिखित में से बक्सों के किसी भी संयोजन से कुल वजन, किलोग्राम में कौन सा नहीं हो सकता है और एक संयोजन में एक बक्सा एक ही बार प्रयोग में लाया जा सकता है?

Options:

- 1) 150
- 2) 110
- 3) 130
- 4) 140

Correct Answer: 140

Candidate Answer: 140

QID : 212 - From the given words, select the word which cannot be formed using the letters of the given word.

HUMBLING

निम्नलिखित विकल्पों में से वह शब्द चुनिए जो दिए गए शब्द के अक्षरों का प्रयोग करके नहीं बनाया जा सकता:

HUMBLING

Options:

- 1) BLUE
- 2) NUMB
- 3) LUNG
- 4) GLUM

Correct Answer: BLUE

Candidate Answer: BLUE

QID : 213 - If **FOREIGN** is coded as **ULIVRTM**, then how will **SAP** be coded as?

यदि **FOREIGN** को किसी कोड में **ULIVRTM** लिखा जाता है, तो **SAP** को उसी कोड में क्या लिखा जाएगा?

Options:

- 1) NOL
- 2) PLQ
- 3) GYP
- 4) HZK

Correct Answer: HZK

Candidate Answer: HZK

QID : 214 - In a certain code language, '+' represents 'x', '-' represents '+', 'x' represents '÷' and '÷' represents '-'. What is the answer to the following question?

$$25 + 10 \div 240 \times 16 = ?$$

किसी कोड भाषा में, '+' का मतलब 'x' है, '-' का मतलब '+' है, 'x' का मतलब '÷' है और '÷' का मतलब '-' है। निम्नलिखित प्रश्न का उत्तर क्या है?

$$25 + 10 \div 240 \times 16 = ?$$

Options:

- 1) 85
- 2) 235
- 3) 12
- 4) 20

Correct Answer: 235

Candidate Answer: 235

QID : 215 - If $9\#3=6$; $15\#3=9$; $60\#4=32$; then what is the value of $27\#3=?$ यदि $9\#3=6$; $15\#3=9$; $60\#4=32$; तो $27\#3 = ?$ का मान ज्ञात कीजिये।

Options:

- 1) 24
- 2) 15
- 3) 13
- 4) 33

Correct Answer: 15

Candidate Answer: 15

QID : 216 -

Select the missing number from
the given responses

दिए गए विकल्पों में से लुप्त
संख्या चुनिए।

91	299	493
?	23	29
7	13	17

Options:

- 1) 13
- 2) 17
- 3) 84
- 4) 98

Correct Answer: 13

Candidate Answer: 13

QID : 217 - Priya cycles 5 km North, then turns East and cycles 4 km, then turns South and cycles 5 km, then turns to her right and cycles 6 km. Where is she now with reference to her starting position?

प्रिया, 5 कि.मी. उत्तर की ओर साईकिल चलाती है, फिर पूर्व की ओर मुड़ जाती है और 4 कि.मी. तक साईकिल चलाती है, फिर दक्षिण की ओर मुड़ जाती है, और 5 कि.मी. तक साईकिल चलाती है, फिर अपनी दाईं ओर मुड़ जाती है और 6 कि.मी. तक साईकिल चलाती है। वह अपनी प्रारंभिक स्थिति से अब कहाँ है?

Options:

- 1) 2 km East
2 कि.मी. पूर्व
- 2) 2 km West
2 कि.मी. पश्चिम
- 3) 10 km West
10 कि.मी. पश्चिम
- 4) 10 km East
10 कि.मी. पूर्व

Correct Answer: 2 km West

2 कि.मी. पश्चिम

Candidate Answer: 2 km West

2 कि.मी. पश्चिम

QID : 218 - In the question two statements are given, followed by two conclusions, I and II. You have to consider the statements to be true even if it seems to be at variance from commonly known facts. You have to decide which of the given conclusions, if any, follows from the given statements.

Statement 1 : No squares are rectangles.

Statement 2 : All rectangles are triangles.

Conclusion I : Some triangles are squares.

Conclusion II : Some triangles are rectangles.

प्रश्न में दो कथन दिये गये हैं जिसके आगे दो निष्कर्ष I और II निकाले गये हैं। आपको मानना है कि दोनों कथन सत्य हैं चाहे वह सामान्यतः ज्ञात तथ्यों से भिन्न प्रतीत होते हों। आपको निर्णय करना है कि दिए गए निष्कर्षों में से कौन-सा/कौन-से निश्चित रूप से कथन द्वारा सही निकाला जा सकता है/सकते हैं, यदि कोई हो।

कथन 1 : कोई वर्ग आयत नहीं है।

कथन 2 : सभी आयत त्रिभुज हैं।

निष्कर्ष I : कुछ त्रिभुज वर्ग हैं।

निष्कर्ष II : कुछ त्रिभुज आयत हैं।

Options:

1) Only conclusion I follows

केवल निष्कर्ष I सही है

2) Only conclusion II follows

केवल निष्कर्ष II सही है

3) Both I and II follow

दोनों निष्कर्ष I और II सही हैं

4) Neither I nor II follows

ना तो निष्कर्ष I सही है ना ही निष्कर्ष II

Correct Answer: Only conclusion II follows

केवल निष्कर्ष II सही है

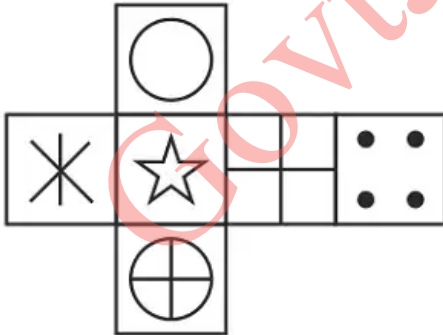
Candidate Answer: Both I and II follow

दोनों निष्कर्ष I और II सही हैं

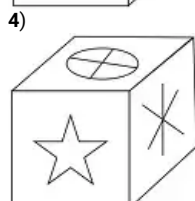
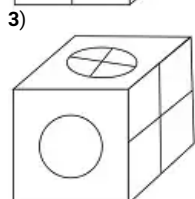
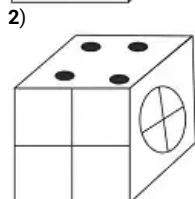
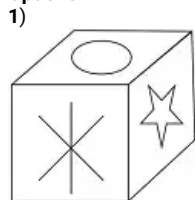
QID : 219 -

Which of the following cube in the answer figure cannot be made based on the unfolded cube in the question figure?

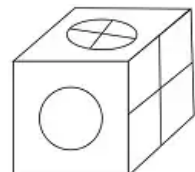
निम्नलिखित उत्तर आकृति में से कौन सा घन दिए गए प्रश्न आकृति में से खुले घन से बनाया नहीं जा सकता?



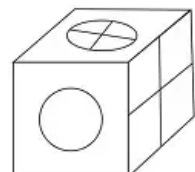
Options:



Correct Answer:



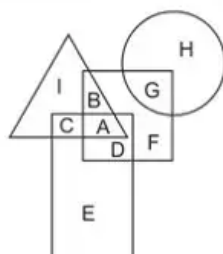
Candidate Answer:



QID : 220 -

In the following figure, square represents Teachers, triangle represents swimmers, circle represents Nurses and rectangle represents Women. Which set of letters represents Teachers who are either swimmers or nurses?

निम्नलिखित आकृति में, वर्ग शिक्षकों को दर्शाता है, त्रिभुज तैराकों को दर्शाता है, वृत्त नर्सों को दर्शाता है और आयत महिलाओं को दर्शाता है। अक्षरों का कौन सा समूह शिक्षक को दर्शाता है जो या तो तैराक हैं या नर्स हैं?



Options:

- 1) D,F
- 2) A,B,D,F,G
- 3) A,B,G
- 4) I,C,H

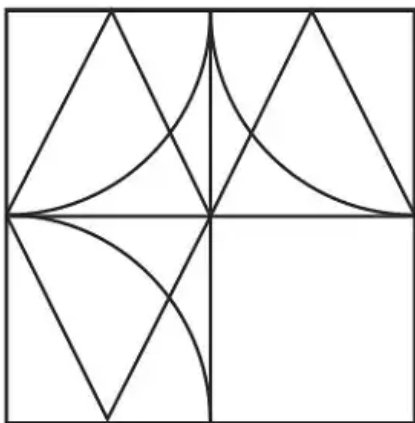
Correct Answer: A,B,G

Candidate Answer: D,F

QID : 221 -

Which answer figure will complete the pattern in the question figure?

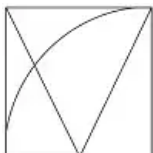
निम्नलिखित में से कौन-सी उत्तर आकृति प्रश्न आकृति के प्रतिरूप को पूरा करेगी?



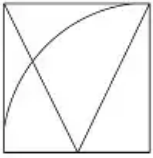
Options:

- 1)
- 2)
- 3)
- 4)

Correct Answer:



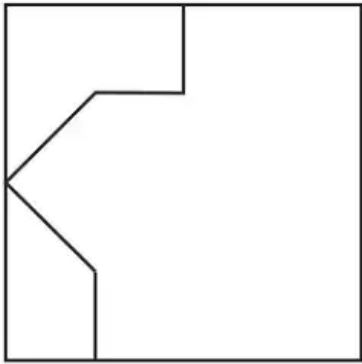
Candidate Answer:



QID : 222 -

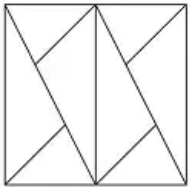
From the given answer figures, select the one in which the question figure is hidden/embedded.

दी गई उत्तर आकृतियों में से उस आकृति को चुनिए जिसमें प्रश्न आकृति निहित है।

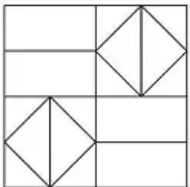


Options:

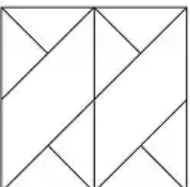
1)



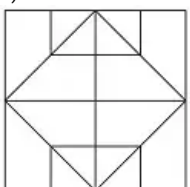
2)



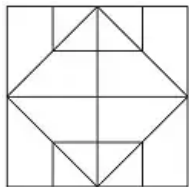
3)



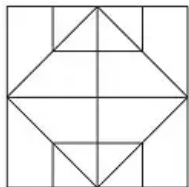
4)



Correct Answer:



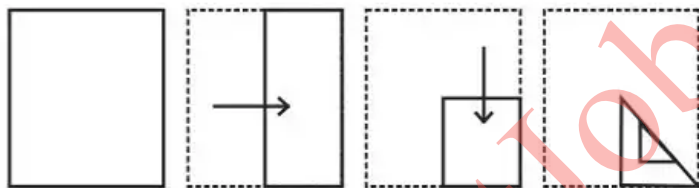
Candidate Answer:



QID : 223 -

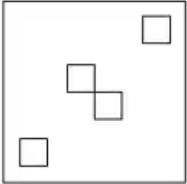
A piece of paper is folded and punched as shown below in the question figures. From the given answer figures, indicate how it will appear when opened.

प्रश्न आकृतियों में दिखाए अनुसार कागज को मोड़कर उसमें छेद करने तथा खोलने के बाद वह किस उत्तर आकृति जैसा दिखाई देगा?

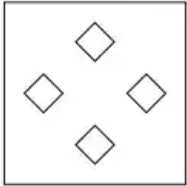


Options:

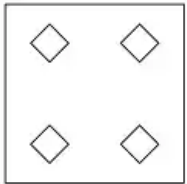
1)



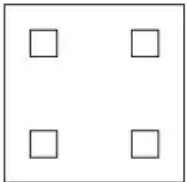
2)



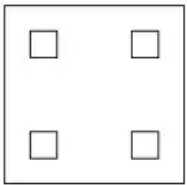
3)



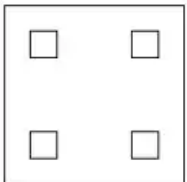
4)



Correct Answer:



Candidate Answer:

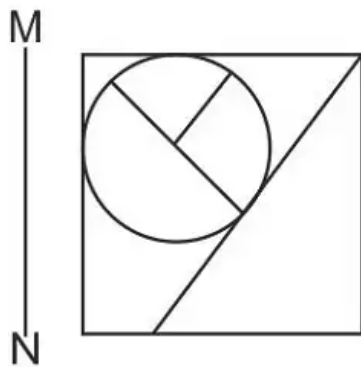


GovtJobsAlert.In

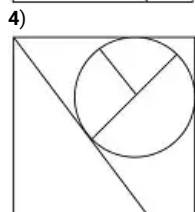
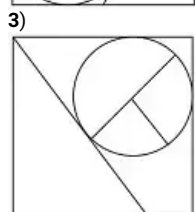
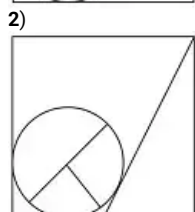
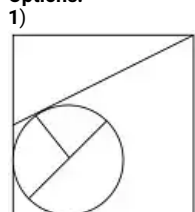
QID : 224 -

If a mirror is placed on the line MN, then which of the answer figures is the right image of the given figure?

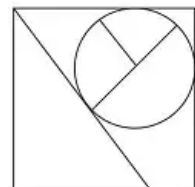
यदि एक दर्पण को MN रेखा पर रखा जाए तो दी गई उत्तर आकृतियों में से कौन-सी आकृति प्रश्न आकृति का सही प्रतिबिम्ब होगी?



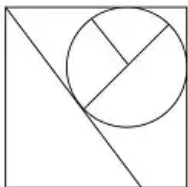
Options:



Correct Answer:



Candidate Answer:



QID : 225 -

A word is represented by only one set of numbers as given in any one of the alternatives. The sets of numbers given in the alternatives are represented by two classes of alphabets as shown in the given two matrices. The columns and rows of Matrix-I are numbered from 0 to 4 and that of Matrix-II are numbered from 5 to 9. A letter from these matrices can be represented first by its row and next by its column, for example 'K' can be represented by 42, 33 etc and 'Z' can be represented by 56, 67 etc. Similarly, you have to identify the set for the word 'NOTE'.

एक शब्द केवल एक संख्या-समूह द्वारा दर्शाया गया है, जैसा कि विकल्पों में से किसी एक में दिया गया है। विकल्पों में दिए गए संख्या-समूह अक्षरों के दो वर्गों द्वारा दर्शाए गए हैं, जैसा कि दिए गए दो आव्यूहों में हैं। आव्यूह-I के स्तम्भ और पंक्ति की संख्या 0 से 4 और आव्यूह-II की 5 से 9 है। इन आव्यूहों से एक अक्षर को पहले उसकी पंक्ति और बाद में स्तम्भ संख्या द्वारा दर्शाया जा सकता है। उदाहरण के लिए 'K' को 42, 33 आदि द्वारा दर्शाया जा सकता है तथा 'Z' को 56, 67 आदि द्वारा दर्शाया जा सकता है। इसी तरह से आपको प्रश्न में दिए शब्द 'NOTE' के लिए समूह को पहचानना है।

Matrix I आव्यूह - I					
	0	1	2	3	4
0	C	K	K	M	H
1	A	I	B	M	G
2	D	J	E	D	L
3	L	H	M	K	I
4	F	C	K	L	J

Matrix II आव्यूह - II					
	5	6	7	8	9
5	V	Z	Q	U	W
6	Y	S	Z	S	W
7	T	X	V	O	R
8	W	X	Q	T	X
9	Y	S	S	T	N

Options:

- 1) 04,30,85,66
- 2) 20,40,75,69
- 3) 40,21,69,55
- 4) 99,78,75,22

Correct Answer: 99,78,75,22

Candidate Answer: 99,78,75,22

QID : 226 - The marginal product curve is inverse ____ shaped.

सीमांत उत्पाद वक्र उल्टे ____ के आकार में है।

Options:

- 1) X
- 2) W
- 3) V
- 4) U

Correct Answer: U

Candidate Answer: U

QID : 227 - Goods which are consumed together are called?

जिन वस्तुओं का साथ साथ उपयोग किया जाता है उन्हें क्या कहा जाता है?

Options:

- 1) Inferior goods
निम्नस्तरीय वस्तुएं
- 2) Normal goods
सामान्य वस्तुएं
- 3) Complementary goods
पूरक वस्तुएं
- 4) Substitute goods
स्थानापन्न वस्तुएं

Correct Answer: Complementary goods
पूरक वस्तुएं

Candidate Answer: Substitute goods
स्थानापन्न वस्तुएं

QID : 228 - "Public health and sanitation; hospitals and dispensaries" is listed in the _____ list given in the Seventh Schedule in the Constitution of India.

"सार्वजनिक स्वास्थ्य और स्वच्छता; अस्पताल और औषधालय" भारत के संविधान की सातवीं अनुसूची में दी गयी _____ सूची में सूचीबद्ध है।

Options:

- 1) Union
केंद्रीय
- 2) State
राज्य
- 3) Global
विश्व
- 4) Concurrent
समवर्ती

Correct Answer: State
राज्य

Candidate Answer: Concurrent
समवर्ती

QID : 229 - _____ elects the President and the Vice President and removes judges of Supreme Court and High Court.

_____ राष्ट्रपति और उपराष्ट्रपति का चुनाव करती है तथा सर्वोच्च न्यायालय तथा उच्च न्यायालय के न्यायाधीशों को हटा सकती है।

Options:

- 1) Ministry of Defence
रक्षा मंत्रालय
- 2) Lok Sabha
लोक सभा
- 3) Prime Minister's Office
प्रधानमन्त्री कार्यालय
- 4) Securities and Exchange Board of India
भारतीय प्रतिभूति और विनिमय बोर्ड

Correct Answer: Lok Sabha
लोक सभा

Candidate Answer: Lok Sabha
लोक सभा

QID : 230 - According to the categories of land mentioned in the Chola inscriptions _____ was known as the land gifted to Brahmanas?

चोल अभिलेखों में उल्लेखित भूमि की विभिन्न कोटियों के अनुसार _____ को ब्राह्मणों को उपहार में दी गयी भूमि कहा जाता था।

Options:

- 1) Vellanvagai
वेल्लनवगाई
- 2) Brahmadeya
ब्रह्मदेय
- 3) Shalabhoga
शालाभोग
- 4) Devadana
देवदान

Correct Answer: Brahmadeya
ब्रह्मदेय

Candidate Answer: Vellanvagai
वेल्लनवगाई

QID : 231 - Prithviraja III (1168-1192) was a best known _____ ruler.

पृथ्वीराज तृतीय (1168-1192) _____ का सबसे प्रसिद्ध शासक था।

Options:

- 1) Chahamana
चाहमान
- 2) Gahadavala
गहडवाल
- 3) Chalukya
चालुक्य
- 4) Brahmana
ब्राह्मण

Correct Answer: Chahamana
चाहमान

Candidate Answer: Chalukya
चालुक्य

QID : 232 - _____ is the wearing away of the landscape by different agents like water, wind and ice.

भूदृश्य पर जल, पवन एवम हिम जैसे विभिन्न घटकों के द्वारा होने वाले क्षय को ____ कहते हैं।

Options:

- 1) Weathering
अपक्षय
- 2) Attrition
संघर्षण
- 3) Erosion
अपरदन
- 4) Abrasion
अपघर्षण

Correct Answer: Erosion
अपरदन

Candidate Answer: Erosion
अपरदन

QID : 233 - The method of soil conservation in which bare ground between plants is covered with layer of organic matter like straw is called?

मृदा संरक्षण की उस विधि को क्या कहते हैं जिसमें पौधों के बीच अनावरित भूमि जैव पदार्थ जैसे प्रवाल से ढक दी जाती है?

Options:

- 1) Mulching
मलच बनाना
- 2) Contour barriers
समोच्चरेखीय रोधिकाएं
- 3) Rock dam
चट्टान बांध
- 4) Terrace farming
वेदिका फ़ार्म

Correct Answer: Mulching
मलच बनाना

Candidate Answer: Contour barriers
समोच्चरेखीय रोधिकाएं

QID : 234 - Classes comprising animals like fishes, amphibians, reptiles, birds along with mammals constitute the category called?

वर्ग जिसमें जंतु जैसे मछली, उभयचर, सरीसृप, पक्षी और स्तनधारी आते हैं, किस श्रेणी को निर्मित करते हैं?

Options:

- 1) Species
जाति (स्पीशीज)
- 2) Genus
वंश (जीनस)
- 3) Kingdom
जगत (किंगडम)
- 4) Phylum
संघ (फाइलम)

Correct Answer: Phylum
संघ (फाइलम)

Candidate Answer: Species
जाति (स्पीशीज)

QID : 235 - The predominant stage of the life cycle of a moss is the gametophyte which consists of two stages. The first stage is the _____ stage.

जीवन चक्र की प्रभावी अवस्था युग्मकोदभिद होती है, जिसकी दो अवस्थाएं होती हैं। पहली अवस्था _____ है।

Options:

- 1) Agar
एगार
- 2) Leafy
पत्ती
- 3) Chlorella
क्लोरेला
- 4) protonema
प्रथम तंतु

Correct Answer: protonema
प्रथम तंतु

Candidate Answer: Agar
एगार

QID : 236 - _____ is the largest phylum of Animalia which includes insects.

_____ प्राणी जगत का सबसे बड़ा संघ है, जिसमें कीट भी सम्मिलित हैं।

Options:

- 1) Annelida
ऐनेलिडा
- 2) Chordata
कोर्डेटा
- 3) Arthropoda
आर्थ्रोपोडा
- 4) Platyhelminthes
प्लैटिहेल्मिन्थिज

Correct Answer: Arthropoda
आर्थ्रोपोडा

Candidate Answer: Arthropoda
आर्थ्रोपोडा

QID : 237 - For an object, the state of rest is considered to be the state of _____ speed.

किसी वस्तु की विराम अवस्था को _____ चाल की अवस्था माना जाता है।

Options:

- 1) increasing
बढ़ती हुई
- 2) decreasing
कम होती हुई
- 3) inverse
विपरीत
- 4) zero
शून्य

Correct Answer: zero
शून्य

Candidate Answer: zero
शून्य

QID : 238 - The laws which govern the motion of planets are called _____.

ग्रहों की गति को बताने वाले नियमों को _____ कहा जाता है।

Options:

- 1) Newton's Laws
न्यूटन के नियम
- 2) Kepler's Laws
केप्लर के नियम
- 3) Avogadro's Laws
अवोगाद्रो के नियम
- 4) De Morgan's Laws
दे मॉर्गन के नियम

Correct Answer: Kepler's Laws
केप्लर के नियम

Candidate Answer: Kepler's Laws
केप्लर के नियम

QID : 239 - In Microsoft Word, _____ allows us to change the color of selected text.

माइक्रोसॉफ्ट वर्ड में, _____ से हम चुने गए पाठ्य का रंग बदल सकते हैं।

Options:

- 1) Font Color
फॉन्ट कलर
- 2) Text Color
टेक्स्ट कलर
- 3) Change Color
चेंज कलर
- 4) Background Color
बैकग्राउंड कलर

Correct Answer: Font Color

फॉन्ट कलर

Candidate Answer: Font Color

फॉन्ट कलर

QID : 240 - Brownish film formed on iron when left in open is called?

लोहे को खुले में छोड़ने पर उस पर जो भूरी परत जम जाती है उसे क्या कहते हैं?

Options:

- 1) Dust
धूल
- 2) Shovel
शवेल
- 3) Spade
खनित्र
- 4) Rust
जंग

Correct Answer: Rust

जंग

Candidate Answer: Rust

जंग

QID : 241 - The substances which have very low ignition temperature and can easily catch fire with a flame are called _____ substances.

जिन पदार्थों का ज्वलन ताप बहुत कम होता है और जो ज्वाला के साथ सरलतापूर्वक आग पकड़ लेते हैं _____ पदार्थ कहलाते हैं।

Options:

- 1) hazardous
खतरनाक
- 2) perilous
जोखिमी
- 3) incombustible
अदाह्य
- 4) inflammable
ज्वलनशील

Correct Answer: inflammable

ज्वलनशील

Candidate Answer: inflammable

ज्वलनशील

QID : 242 - Many freshwater animals cannot live for long in sea water and vice versa because of the _____ problems, they would face.

बहुत से अलवण जल प्राणी समुद्र के पानी में और समुद्री प्राणी अलवण जल में लम्बे समय तक नहीं रह सकते; क्योंकि उन्हें _____ समस्याओं का सामना करना पड़ता है।

Options:

- 1) Osmotic
परासरणी
- 2) Eurythermal
पृथुताजापी
- 3) Stenothermal
तनुतापी
- 4) Hydrothermal
उष्णजलीय

Correct Answer: Osmotic

परासरणी

Candidate Answer: [NOT ANSWERED]

QID : 243 - _____ scheme has been introduced by the Central Government to provide equal primary education to all budding children across India.

भारत के सभी बच्चों को समान रूप से प्राथमिक शिक्षा प्राप्त हो, इस उद्देश्य से केंद्र सरकार ने _____ योजना प्रारंभ की है।

Options:

- 1) Gram Uday Se Bharat Uday Abhiyan
ग्राम उदय से भारत उदय अभियान
- 2) Pradhan Mantri Ujjwala Yojana
प्रधानमंत्री उज्ज्वला योजना
- 3) Pradhan Mantri Surakshit Matritva Yojana
प्रधानमंत्री सुरक्षित मातृत्व योजना
- 4) Vidyanjali Yojana
विद्यांजलि योजना

Correct Answer: Vidyanjali Yojana
विद्यांजलि योजना

Candidate Answer: Gram Uday Se Bharat Uday Abhiyan
ग्राम उदय से भारत उदय अभियान

QID : 244 - Who discovered Insulin?

इन्सुलिन की खोज किसने की?

Options:

- 1) Sir Alexander Fleming
सर अलेक्ज़ांडर फ्लेमिंग
- 2) Frederick Banting
फ्रेडरिक बैंटिंग
- 3) James Watt
जेम्स वाट
- 4) Sir F.G. Hopkins
सर एफ. जी. होपकिंस

Correct Answer: Frederick Banting
फ्रेडरिक बैंटिंग

Candidate Answer: Frederick Banting
फ्रेडरिक बैंटिंग

QID : 245 - Which nation will host the Summer Olympics in the year 2020?

वर्ष 2020 में होने वाले समर ओलंपिक्स में कौन सा देश मेजबानी करेगा?

Options:

- 1) China
चीन
- 2) South Korea
दक्षिण कोरिया
- 3) Canada
कनाडा
- 4) Japan
जापान

Correct Answer: Japan
जापान

Candidate Answer: Japan
जापान

QID : 246 - Dhamek Stupa was built by?

धामेक स्तूप का निर्माण किसने किया था?

Options:

- 1) Akbar
अकबर
- 2) Humayun
हुमायूँ
- 3) Ashoka
अशोक
- 4) Narasimha
नरसिंह

Correct Answer: Ashoka
अशोक

Candidate Answer: Ashoka
अशोक

QID : 247 - Which of the following is India's highest award in cinema given annually by the Government of India for lifetime contribution to Indian cinema?

भारतीय सिनेमा में जीवनभर योगदान के लिए भारत सरकार द्वारा सालाना दिया जाना वाला सिनेमा का सर्वोच्च पुरस्कार निम्नलिखित में से कौन सा है?

Options:

- 1) Ashok Chakra
अशोक चक्र
- 2) Dada Saheb Phalke Awards
दादा साहब फाल्के पुरस्कार
- 3) Arjuna Award
अर्जुन पुरस्कार
- 4) Padma Shri
पद्म श्री

Correct Answer: Dada Saheb Phalke Awards
दादा साहब फाल्के पुरस्कार

Candidate Answer: Dada Saheb Phalke Awards
दादा साहब फाल्के पुरस्कार

QID : 248 - Which of the statements given below are correct?

1. The author of the novel 'Air' is Geoff Ryman.
2. The author of the novel 'Ulysses' is James Joyce.
3. The author of the novel 'The Great Gatsby' is F. Scott Fitzgerald.

निचे दिये गये कथनों में से कौन से कथन सही हैं?

1. उपन्यास "एयर" के लेखक गेओफ्रि राइमैन हैं।
2. उपन्यास "यूलिसीज" के लेखक जैम्स जॉयस हैं।
3. उपन्यास "द ग्रेट गट्सबाय" के लेखक एफ. स्कॉट फिट्ज़गेराल्ड हैं।

Options:

- 1) 1 and 2
1 और 2
- 2) 2 and 3
2 और 3
- 3) 1 and 3
1 और 3
- 4) 1, 2 and 3
1, 2 और 3

Correct Answer: 1, 2 and 3
1, 2 और 3

Candidate Answer: [NOT ANSWERED]

QID : 249 - In 2016, which company lost high profile legal battles with HP and Google?

2016 में, कौन सी कंपनी एचपी और गूगल के साथ उच्च स्तरीय कानूनी लड़ाई हार गई थी?

Options:

- 1) Oracle
ओरेकल
- 2) Apple
एप्पल
- 3) Microsoft
माइक्रोसॉफ्ट
- 4) Intel
इंटेल

Correct Answer: Oracle
ओरेकल

Candidate Answer: Apple
एप्पल

QID : 250 - Which of the following is a major river in Bangladesh which is also the main distributary of the Ganges?

बांग्लादेश में निम्नलिखित में से कौन सी प्रमुख नदी है जो गंगा की मुख्य शाखा-नदी भी है?

Options:

- 1) Gandak
गंडक
- 2) Kosi
कोसी
- 3) Gomati
गोमती
- 4) Padma
पद्म

Correct Answer: Padma
पद्म

Candidate Answer: Padma
पद्म

QID : 251 - What least number must be subtracted from 518, so that the sum is completely divisible by 13?

518 से वह कौनसी न्यूनतम संख्या घटाई जानी चाहिए, ताकि वह राशि 13 से पूरी तरह विभाजित हो?

Options:

1) 11

2) 10

3) 9

4) 12

Correct Answer: 11

Candidate Answer: 11

QID : 252 - A and B together do a job in 12 days and A could do the job in 20 days if he worked alone. How many days would B take to do the job if he worked alone?

A और B एक साथ मिलकर 12 दिनों में कोई काम करते हैं और A अकेले काम करते हुए उसे 20 दिन में पूरा कर सकता है। अगर B ने अकेले काम किया होता तो उसे काम करने में कितने दिन लगते?

Options:

1) 30

2) 25

3) 24

4) 15

Correct Answer: 30

Candidate Answer: 24

QID : 253 - What is the area (in sq cm) of a regular hexagon of side 9 cm?

9 सें.मी. की भुजा वाले एक नियमित षट्भुज का क्षेत्रफल (वर्ग सें.मी.में) क्या है?

Options:

1) $50\sqrt{3}$

2) $300\sqrt{3}$

3) $243\sqrt{3}/2$

4) $200\sqrt{3}$

Correct Answer: $243\sqrt{3}/2$

Candidate Answer: $243\sqrt{3}/2$

QID : 254 - If 1 shirt is offered free on purchase of 4 shirts, what is the effective discount (in %) on each shirt?

यदि 4 शर्ट खरीदने पर 1 शर्ट मुफ्त देने की पेशकश की जाती है, तो प्रत्येक शर्ट पर प्रभावी छूट (%) क्या है?

Options:

1) 25

2) 20

3) 16

4) 24

Correct Answer: 20

Candidate Answer: 20

QID : 255 - The ratio of present ages of P and Q is 7:9. Before 10 years the ratio of their ages was 5:7. What is Q's present age (in years)?

P और Q के वर्तमान आयु का अनुपात 7:9 है। 10 वर्ष पहले उनकी उम्र का अनुपात 5:7 था। Q की वर्तमान उम्र (वर्षों में) क्या है?

Options:

1) 35

2) 45

3) 25

4) 55

Correct Answer: 45

Candidate Answer: 45

QID : 256 - The average marks of 40 students in an examination was 34. It was later found that the marks of one student had been wrongly entered as 62 instead of 26. what is the correct average?

एक परीक्षा में 40 छात्रों के औसत अंक 34 थे। बाद में यह पाया गया कि एक छात्र के अंक गलत तरीके से 26 के बजाय 62 के रूप में दर्ज किए गए हैं। सही औसत कितना है?

Options:

1) 33.1

2) 33.3

3) 33.5

4) 33.7

Correct Answer: 33.1

Candidate Answer: [NOT ANSWERED]

QID : 257 - A wholesaler sells a good to a retailer at a profit of 5% and the retailer sells it to a customer at a profit of 10%. If the customer pays Rs. 2,000, what had it cost (in Rs) the wholesaler?

एक थोक व्यापारी 5% के लाभ पर खुदरा व्यापारी को सामान बेचता है और खुदरा व्यापारी इसे 10% के लाभ पर ग्राहक को बेचता है। यदि ग्राहक 2,000 रु का भुगतान करता है, तो थोक व्यापारी की लागत (रु में) क्या थी?

Options:

- 1) 1731.6
- 2) 3210.6
- 3) 1931.6
- 4) 2310.6

Correct Answer: 1731.6

Candidate Answer: 1731.6

QID : 258 - When a number is increased by 69, it becomes 103% of itself. What is the number?

जब किसी संख्या में 69 की वृद्धि की जाती है, तो वह स्वयं का 103% हो जाती है। वह संख्या कौन सी है?

Options:

- 1) 1300
- 2) 3300
- 3) 2300
- 4) 4300

Correct Answer: 2300

Candidate Answer: 2300

QID : 259 - A boat goes a certain distance at 40 km/hr and comes back the same distance at 24 km/hr. What is the average speed (in km/hr) for the total journey?

एक नाव 40 कि.मी / घंटा की गति से एक निश्चित दूरी पर जाती है और 24 कि.मी/ घंटा की गति से उसी दूरी पर वापस आती है। कुल यात्रा के लिए औसत गति (कि.मी/घंटा में) क्या है?

Options:

- 1) 32
- 2) 28
- 3) 34
- 4) 30

Correct Answer: 30

Candidate Answer: 30

QID : 260 - A sum fetched a total simple interest of Rs.5,400 at the rate of 12.5 %/yr in 4 years. What is the sum (in Rs)?

एक राशि ने 4 वर्षों में 12.5% / वर्ष की दर से 5,400 रु का साधारण ब्याज प्राप्त किया। वह राशि (रु में) क्या है?

Options:

- 1) 11800
- 2) 12800
- 3) 9800
- 4) 10800

Correct Answer: 10800

Candidate Answer: 10800

QID : 261 - If $2/3(6x/5 - 1/4) + 1/3 = 9x/5$, then what is the value of x?

यदि $2/3(6x/5 - 1/4) + 1/3 = 9x/5$, तो x का मान क्या है?

Options:

- 1) 1/6
- 2) -1/6
- 3) 1/5
- 4) -1/5

Correct Answer: 1/6

Candidate Answer: [NOT ANSWERED]

QID : 262 - If $a^3 + b^3 = 341$ and $ab = 30$, then what is the value of $a + b$?

यदि $a^3 + b^3 = 341$ और $ab = 30$ है, तो $a + b$ का मान क्या है?

Options:

- 1) 1
- 2) 9
- 3) 7
- 4) 11

Correct Answer: 11

Candidate Answer: 11

QID : 263 - Sum of a fraction and thrice its reciprocal is $31/6$. What is the fraction?

एक भिन्न और उसके व्युत्क्रम के 3 गुना का योग $31/6$ है। वह भिन्न कौन सा है?

Options:

- 1) $2/9$
- 2) $9/4$
- 3) $9/2$
- 4) $4/9$

Correct Answer: $9/2$

Candidate Answer: [NOT ANSWERED]

QID : 264 - What is the sum of the first 13 terms of an arithmetic progression if the 5th term is 1 and the 8th term is -17?

एक समांतर श्रेणी के प्रथम 13 पदों का योग क्या है, यदि पांचवा पद 1 है और आठवां पद -17 है।

Options:

- 1) -140
- 2) 61
- 3) -143
- 4) 166

Correct Answer: -143

Candidate Answer: [NOT ANSWERED]

QID : 265 - What is the reflection of the point $(-4, 3)$ in the line $x = -2$?

रेखा $x = -2$ में बिंदु $(-4, 3)$ का प्रतिबिंब क्या है?

Options:

- 1) $(-4, -7)$
- 2) $(4, 3)$
- 3) $(0, 3)$
- 4) $(-4, 7)$

Correct Answer: $(0, 3)$

Candidate Answer: [NOT ANSWERED]

QID : 266 - Point A divides segment BC in the ratio 5:1. Co-ordinates of B are $(6, -4)$ and C are $(0, 8)$. What are the co-ordinates of point A?

बिंदु A रेखाखंड BC को 5:1 अनुपात में विभाजित करता है। B के निर्देशांक $(6, -4)$ हैं और C के $(0, 8)$ हैं। बिंदु A के निर्देशांक क्या हैं?

Options:

- 1) $(-1, 6)$
- 2) $(1, -6)$
- 3) $(-1, -6)$
- 4) $(1, 6)$

Correct Answer: $(1, 6)$

Candidate Answer: [NOT ANSWERED]

QID : 267 - What is the slope of the line parallel to the line passing through the points $(3, -4)$ and $(-2, 5)$?

$(3, -4)$ और $(-2, 5)$ बिंदुओं से गुजरने वाली रेखा के समानांतर रेखा का ढलान क्या है?

Options:

- 1) $9/5$
- 2) $-5/9$
- 3) $-9/5$
- 4) $5/9$

Correct Answer: $-9/5$

Candidate Answer: $-5/9$

QID : 268 - $\triangle XYZ$ is similar to $\triangle PQR$. If ratio of Perimeter of $\triangle XYZ$ and Perimeter of $\triangle PQR$ is 4:9 and if $PQ = 27$ cm, then what is the length of XY (in cm)?

$\triangle XYZ$ $\triangle PQR$ के समान है। यदि $\triangle XYZ$ और $\triangle PQR$ की परिधियों का अनुपात 4:9 है और यदि $PQ = 27$ सें.मी. है, तो XY की लंबाई (सें.मी. में) कितनी है?

Options:

- 1) 9
- 2) 12
- 3) 16
- 4) 15

Correct Answer: 12

Candidate Answer: 12

QID : 269 - What is the value of $\cot 45^\circ + \frac{1}{3} \operatorname{cosec} 60^\circ$?

$\cot 45^\circ + \frac{1}{3} \operatorname{cosec} 60^\circ$ का मान क्या है?

Options:

- 1) $\sqrt{3} + 2$
- 2) $(9 + 2\sqrt{3})/9$
- 3) $\sqrt{3}$
- 4) $(2\sqrt{2} + 3)/\sqrt{6}$

Correct Answer: $(9 + 2\sqrt{3})/9$

Candidate Answer: $\sqrt{3} + 2$

QID : 270 - ΔDEF is right angled at E. If $m\angle F = 45^\circ$, then what is the value of $\sin F \times \tan F$?

ΔDEF , E पर समकोण है। यदि $m\angle F = 45^\circ$ है, तो $\sin F \times \tan F$ का मान क्या होगा?

Options:

- 1) $\sqrt{2}$
- 2) $1/\sqrt{3}$
- 3) $1/\sqrt{2}$
- 4) $2/\sqrt{3}$

Correct Answer: $1/\sqrt{2}$

Candidate Answer: $2/\sqrt{3}$

QID : 271 - If $\cot \theta = 21/20$, then what is the value of $\sec \theta$?

यदि $\cot \theta = 21/20$, तो $\sec \theta$ का मान क्या होगा?

Options:

- 1) $29/21$
- 2) $21/29$
- 3) $29/20$
- 4) $20/29$

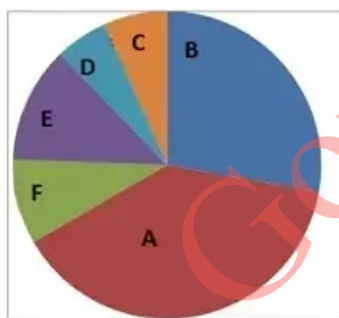
Correct Answer: $29/21$

Candidate Answer: $29/21$

QID : 272 -

A survey was conducted to find what genre of movies people liked the most. 1200 people answered the survey. The pie chart shows the results of that survey. The numbers in the pie chart are the ratios. Study the diagram and answer the following questions.

लोगों द्वारा फिल्मों की सबसे अधिक पसंद की जाने वाली शैली जानने के लिए एक सर्वेक्षण आयोजित किया गया। 1200 लोगों ने सर्वेक्षण का उत्तर दिया। पाई चार्ट उस सर्वेक्षण के परिणाम दर्शाता है। पाई चार्ट में संख्या अनुपात में है। इस आरेख का अध्ययन करें और निम्नलिखित प्रश्नों का उत्तर दें।



- | | |
|-----------------------------|------------------------|
| A. Comedy / प्रहसन, 35 | B. Action / लड़ाई, 25 |
| C. Historical / ऐतिहासिक, 6 | D. Fiction/काल्पनिक, 5 |
| E. Drama / नाटकीय, 11 | F. Romance/ रोमांस, 3 |

Which two genres of movies were liked the least?

किन दो शैलियों की फिल्मों को सबसे कम पसंद किया जाता था?

Options:

- 1) Fiction and Historical
काल्पनिक और ऐतिहासिक
- 2) Fiction and Drama
काल्पनिक और नाटकीय
- 3) Drama and Historical
नाटकीय और ऐतिहासिक
- 4) Drama and Romance
नाटकीय और रोमांस

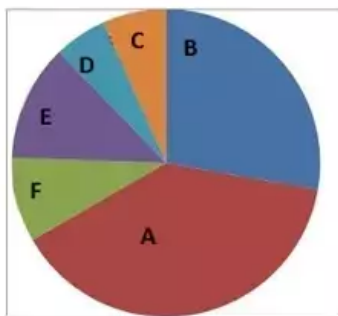
Correct Answer: Fiction and Historical
काल्पनिक और ऐतिहासिक

Candidate Answer: Fiction and Historical
काल्पनिक और ऐतिहासिक

QID : 273 -

A survey was conducted to find what genre of movies people liked the most. 1200 people answered the survey. The pie chart shows the results of that survey. The numbers in the pie chart are the ratios. Study the diagram and answer the following questions.

लोगों द्वारा फिल्मों की सबसे अधिक पसंद की जाने वाली शैली जानने के लिए एक सर्वेक्षण आयोजित किया गया। 1200 लोगों ने सर्वेक्षण का उत्तर दिया। पाई चार्ट उस सर्वेक्षण के परिणाम दर्शाता है। पाई चार्ट में संख्या अनुपात में है। इस आरेख का अध्ययन करें और निम्नलिखित प्रश्नों का उत्तर दें।



A. Comedy / प्रहसन, 35 B. Action / लड़ाई, 25
C. Historical / ऐतिहासिक, 6 D. Fiction / काल्पनिक, 5
E. Drama / नाटकीय, 11 F. Romance / रोमांस, 3

How many surveyed said they liked Historical movies?

सर्वेक्षण अधीन कितने लोगों ने यह कहा कि उन्हें ऐतिहासिक फिल्में पसंद हैं?

Options:

- 1) 6
- 2) 72
- 3) 80
- 4) 60

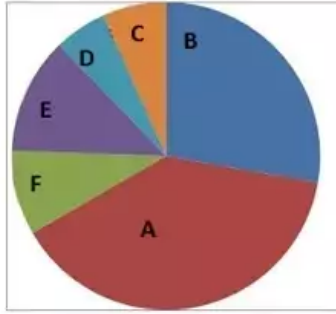
Correct Answer: 80

Candidate Answer: 72

QID : 274 -

A survey was conducted to find what genre of movies people liked the most. 1200 people answered the survey. The pie chart shows the results of that survey. The numbers in the pie chart are the ratios. Study the diagram and answer the following questions.

लोगों द्वारा फिल्मों की सबसे अधिक पसंद की जाने वाली शैली जानने के लिए एक सर्वेक्षण आयोजित किया गया। 1200 लोगों ने सर्वेक्षण का उत्तर दिया। पाई चार्ट उस सर्वेक्षण के परिणाम दर्शाता है। पाई चार्ट में संख्या अनुपात में है। इस आरेख का अध्ययन करें और निम्नलिखित प्रश्नों का उत्तर दें।



A. Comedy / प्रहसन, 35 B. Action / तड़ई, 25
C. Historical / ऐतिहासिक, 6 D. Fiction / काल्पनिक, 5
E. Drama / नाटकीय, 11 F. Romance / रोमांस, 3

How many more people surveyed like Drama movies than those who like Romance movies?

सर्वेक्षण अधीन कितने लोगों ने रोमांटिक फिल्मों की तुलना में नाटकीय फिल्मों को पसंद किया?

Options:

- 1) 3
- 2) 36
- 3) 40
- 4) 30

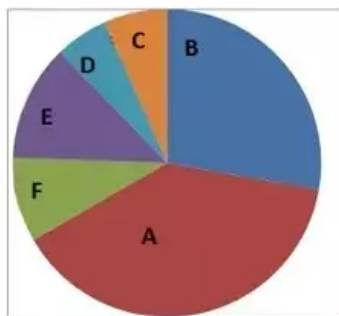
Correct Answer: 40

Candidate Answer: 36

QID : 275 -

A survey was conducted to find what genre of movies people liked the most. 1200 people answered the survey. The pie chart shows the results of that survey. The numbers in the pie chart are the ratios. Study the diagram and answer the following questions.

लोगों द्वारा फिल्मों की सबसे अधिक पसंद की जाने वाली शैली जानने के लिए एक सर्वेक्षण आयोजित किया गया। 1200 लोगों ने सर्वेक्षण का उत्तर दिया। पाई चार्ट उस सर्वेक्षण के परिणाम दर्शाता है। पाई चार्ट में संख्या अनुपात में है। इस आरेख का अध्ययन करें और निम्नलिखित प्रश्नों का उत्तर दें।



A. Comedy / प्रहसन, 35 B. Action / लड़ाई, 25
C. Historical / ऐतिहासिक, 6 D. Fiction / काल्पनिक, 5
E. Drama / नाटकीय, 11 F. Romance / रोमांस, 3

24% people who were mailed the survey questionnaire answered the survey. The survey questionnaire was mailed to how many people?

सर्वेक्षण प्रश्नावली भेजे जाने वाले लोगों में से 24% लोगों ने सर्वेक्षण का उत्तर दिया। सर्वेक्षण प्रश्नावली कितने लोगों को भेजी गई थी?

Options:

1) 5000

2) 10000

3) 1200

4) 288

Correct Answer: 5000

Candidate Answer: 5000

QID : 276 - In the following question, some part of the sentence may have errors. Find out which part of the sentence has an error and select the appropriate option. If a sentence is free from error, select 'No Error'.

The lady was knocked down (1)/by a speeding car (2)/upon crossing the road.(3)/No Error (4)

Options:

1) 1

2) 2

3) 3

4) 4

Correct Answer: 3

Candidate Answer: 3

QID : 277 - In the following question, some part of the sentence may have errors. Find out which part of the sentence has an error and select the appropriate option. If a sentence is free from error, select 'No Error'.

Grandfather led (1)/a peaceful life after his (2)/retirement from the army.(3)/No Error (4)

Options:

1) 1

2) 2

3) 3

4) 4

Correct Answer: 4

Candidate Answer: 4

QID : 278 - In the following question, the sentence given with blank to be filled in with an appropriate word. Select the correct alternative out of the four and indicate it by selecting the appropriate option.

Since my father was an _____ from India, he brought his Indian culture and traditions to the United States with him.

Options:

- 1) emigrant
- 2) immigrant
- 3) native
- 4) citizen

Correct Answer: immigrant

Candidate Answer: immigrant

QID : 279 - In the following question, the sentence given with blank to be filled in with an appropriate word. Select the correct alternative out of the four and indicate it by selecting the appropriate option.

At night, the winding roads can make driving up the mountain a _____ journey.

Options:

- 1) carefree
- 2) beastly
- 3) obnoxious
- 4) treacherous

Correct Answer: treacherous

Candidate Answer: treacherous

QID : 280 - In the following question, out of the four alternatives, select the word similar in meaning to the word given.

Stupor

Options:

- 1) Sensibility
- 2) Slumber
- 3) Liveliness
- 4) Consciousness

Correct Answer: Slumber

Candidate Answer: Slumber

QID : 281 - In the following question, out of the four alternatives, select the word similar in meaning to the word given.

Subtle

Options:

- 1) Harsh
- 2) Open
- 3) Ignorant
- 4) Understated

Correct Answer: Understated

Candidate Answer: Harsh

QID : 282 - In the following question, out of the four alternatives, select the word opposite in meaning to the word given.

Sullen

Options:

- 1) Glum
- 2) Silent
- 3) Crabby
- 4) Agreeable

Correct Answer: Agreeable

Candidate Answer: Crabby

QID : 283 - In the following question, out of the four alternatives, select the word opposite in meaning to the word given.

Summon

Options:

- 1) Dismiss
- 2) Draft
- 3) Invite
- 4) Mobilise

Correct Answer: Dismiss

Candidate Answer: Dismiss

QID : 284 - In the following question, out of the four alternatives, select the alternative which best expresses the meaning of the idiom/phrase.

At the drop of a hat

Options:

- 1) Without any hesitation; instantly.
- 2) Show outward respect to someone you hate.
- 3) Forcibly let go of something which is very personal to you.
- 4) A mistake which is of not much consequence.

Correct Answer: Without any hesitation; instantly.

Candidate Answer: Show outward respect to someone you hate.

QID : 285 - In the following question, out of the four alternatives, select the alternative which best expresses the meaning of the idiom/phrase.

Beat a dead horse

Options:

- 1) Show extreme level of cruelty especially to animals.
- 2) Exploit someone to the point of killing him/her.
- 3) To uselessly dwell on a subject far beyond its point of resolution.
- 4) To continue playing a game knowing very well that you are going to lose.

Correct Answer: To uselessly dwell on a subject far beyond its point of resolution.

Candidate Answer: To continue playing a game knowing very well that you are going to lose.

QID : 286 - In the following question, out of the four alternatives, select the alternative which will improve the bracketed part of the sentence. In case no improvement is needed, select "no improvement".

I gave up (**drinks**) many years ago.

Options:

- 1) to drink
- 2) drink
- 3) drinking
- 4) no improvement

Correct Answer: drinking

Candidate Answer: to drink

QID : 287 - In the following question, out of the four alternatives, select the alternative which will improve the bracketed part of the sentence. In case no improvement is needed, select "no improvement".

Rahul went out without (**saying**) good bye.

Options:

- 1) say even
- 2) even said
- 3) say
- 4) no improvement

Correct Answer: no improvement

Candidate Answer: say even

QID : 288 - In the following question, out of the four alternatives, select the alternative which is the best substitute of the words/sentence.

A person or thing that is likely to cause harm

Options:

- 1) Menace
- 2) Cordial
- 3) Festal
- 4) Blithe

Correct Answer: Menace

Candidate Answer: Menace

QID : 289 - In the following question, out of the four alternatives, select the alternative which is the best substitute of the words/sentence.

Having or involving an extreme or irrational fear of or aversion to something.

Options:

- 1) Valiant
- 2) Stout
- 3) Phobic
- 4) Foolhardy

Correct Answer: Phobic

Candidate Answer: Valiant

QID : 290 - In the following question, four words are given out of which one word is correctly spelt. Select the correctly spelt word.

Options:

- 1) bereaving
- 2) bereaveing
- 3) bereving
- 4) bireaving

Correct Answer: bereaving

Candidate Answer: bereaving

QID : 291 - In the following question, four words are given out of which one word is correctly spelt. Select the correctly spelt word.

Options:

- 1) deligence
- 2) diligence
- 3) delegece
- 4) diligence

Correct Answer: diligence

Candidate Answer: delegece

QID : 292 - The question below consists of a set of labelled sentences. Out of the four options given, select the most logical order of the sentences to form a coherent paragraph.

I've taken out my
X-and stay poised and vigilant
Y-ear buds so I can
Z-listen for announcements

Options:

- 1) ZXY
- 2) YZX
- 3) XZY
- 4) YXZ

Correct Answer: YZX

Candidate Answer: YXZ

QID : 293 - The question below consists of a set of labelled sentences. Out of the four options given, select the most logical order of the sentences to form a coherent paragraph.

In the Northeast, the sun
X-sets by four in the evening
Y-morning and in winter it
Z-rises as early as four in the

Options:

- 1) XYZ
- 2) YZX
- 3) ZYX
- 4) ZXY

Correct Answer: ZYX

Candidate Answer: ZYX

QID : 294 - In the following question, a sentence has been given in Active/Passive voice. Out of the four alternatives suggested, select the one which best expresses the same sentence in Passive/Active voice.

The majestic Asiatic Lions roam the sanctuary.

Options:

- 1) The Asiatic lions which are majestic roamed the sanctuary.
- 2) The sanctuary is the place where the majestic Asiatic lions roam.
- 3) The sanctuary is roamed by majestic Asiatic lions.
- 4) The majestic Asiatic Lions have been roaming the sanctuary.

Correct Answer: The sanctuary is roamed by majestic Asiatic lions.

Candidate Answer: The sanctuary is roamed by majestic Asiatic lions.

QID : 295 - In the following question, a sentence has been given in Direct/Indirect speech. Out of the four alternatives suggested, select the one which best expresses the same sentence in Indirect/Direct speech.

"How old is your grandmother?", Navneet asked her.

Options:

- 1) Navneet asked her how old her grandmother is.
- 2) Navneet asked her how old her grandmother has been.
- 3) Navneet asked her how old her grandmother was.
- 4) Navneet asked her how old is her grandmother.

Correct Answer: Navneet asked her how old her grandmother was.

Candidate Answer: Navneet asked her how old her grandmother was.

QID : 296 - In the following passage, some of the words have been left out. Read the passage carefully and select the correct answer for the given blank out of the four alternatives.

The promise of nuclear power has so _____ outweighed all of these concerns, and India has reason to be proud of its technology and determination to look for non-fossil _____ in its energy planning. However, _____ rapid progress in technology in other _____ energy sources such as wind and solar power, the collapse of oil prices and the expansion in gas projects as a viable and clean alternative, that promise _____.

nuclear power has so _____ outweighed all of these concerns

Options:

- 1) far
- 2) less
- 3) near
- 4) closely

Correct Answer: far

Candidate Answer: far

QID : 297 - In the following passage, some of the words have been left out. Read the passage carefully and select the correct answer for the given blank out of the four alternatives.

The promise of nuclear power has so _____ outweighed all of these concerns, and India has reason to be proud of its technology and determination to look for non-fossil _____ in its energy planning. However, _____ rapid progress in technology in other _____ energy sources such as wind and solar power, the collapse of oil prices and the expansion in gas projects as a viable and clean alternative, that promise _____.

look for non-fossil _____ in its energy planning.

Options:

- 1) compulsions
- 2) obligations
- 3) alternatives
- 4) constraints

Correct Answer: alternatives

Candidate Answer: alternatives

QID : 298 - In the following passage, some of the words have been left out. Read the passage carefully and select the correct answer for the given blank out of the four alternatives.

The promise of nuclear power has so _____ outweighed all of these concerns, and India has reason to be proud of its technology and determination to look for non-fossil _____ in its energy planning. However, _____ rapid progress in technology in other _____ energy sources such as wind and solar power, the collapse of oil prices and the expansion in gas projects as a viable and clean alternative, that promise _____.

However, _____ rapid progress in technology

Options:

- 1) to
- 2) from
- 3) with
- 4) for

Correct Answer: with

Candidate Answer: to

QID : 299 - In the following passage, some of the words have been left out. Read the passage carefully and select the correct answer for the given blank out of the four alternatives.

The promise of nuclear power has so _____ outweighed all of these concerns, and India has reason to be proud of its technology and determination to look for non-fossil _____ in its energy planning. However, _____ rapid progress in technology in other _____ energy sources such as wind and solar power, the collapse of oil prices and the expansion in gas projects as a viable and clean alternative, that promise _____.

other _____ energy sources such as wind and solar power

Options:

- 1) brief
- 2) renewable
- 3) untenable
- 4) temporary

Correct Answer: renewable

Candidate Answer: brief

QID : 300 - In the following passage, some of the words have been left out. Read the passage carefully and select the correct answer for the given blank out of the four alternatives.

The promise of nuclear power has so _____ outweighed all of these concerns, and India has reason to be proud of its technology and determination to look for non-fossil _____ in its energy planning. However, _____ rapid progress in technology in other _____ energy sources such as wind and solar power, the collapse of oil prices and the expansion in gas projects as a viable and clean alternative, that promise _____.

projects as a viable and clean alternative, that promise _____.

Options:

- 1) to dim
- 2) dimming
- 3) was dim
- 4) has dimmed

Correct Answer: has dimmed

Candidate Answer: to dim