

Click to Print | Logout

Challenges



Staff Selection Commission
(Government Of India)

REGISTRATION NUMBER :
EXAM DATE : 19-January-2017
EXAM NAME : SSC Examination 2016
TOTAL MARKS : 200

CANDIDATE NAME :
EXAM START TIME : 13:15:00
EXAM DURATION : 01:15 Hrs
TOTAL NO OF QUESTIONS : 100

QID : 101 - Select the related word/letters/number from the given alternatives.

Circle : Sphere :: Square : ?

दिए गए विकल्पों में से संबंधित शब्द/अक्षर/संख्या को चुनिए।

वृत्त : गोला क्षेत्र :: वर्ग : ?

Options:

1) Parallelogram

समानान्तर चतुर्भुज

2) Cuboid

घनाभ

3) Cube

घन

4) Rectangle

आयत

Correct Answer: Cube

घन

Candidate Answer: Rectangle

आयत

QID : 102 - Select the related word/letters/number from the given alternatives.

ORDINARY : RUGLQDUB :: NUMBERS : ?

दिए गए विकल्पों में से संबंधित शब्द/अक्षर/संख्या को चुनिए।

ORDINARY : RUGLQDUB :: NUMBERS : ?

Options:

1) QXPEHUV

2) QXPHEUV

3) QXPEHUV

4) QXPEHVU

Correct Answer: QXPEHUV

Candidate Answer: QXPEHUV

QID : 103 - Select the related word/letters/number from the given alternatives.

AMERICA : BPFUJFB :: INDIA : ?

दिए गए विकल्पों में से संबंधित शब्द/अक्षर/संख्या को चुनिए।

AMERICA : BPFUJFB :: INDIA : ?

Options:

1) JQLEA

2) QJELB

3) JQLEB

4) JQELB

Correct Answer: JQELB

Candidate Answer: JQELB

QID : 104 - Select the related word/letters/number from the given alternatives.

1272 : 212 :: 720 : ?

दिए गए विकल्पों में से संबंधित शब्द/अक्षर/संख्या को चुनिए।

1272 : 212 :: 720 : ?

Options:

- 1) 132
- 2) 195
- 3) 150
- 4) 120

Correct Answer: 120**Candidate Answer:** 120**QID : 105** - Find out the odd word/letters/number/number pair from the given alternatives.

दिए गए विकल्पों में से विषम शब्द/अक्षर/संख्या/संख्या युग्म को चुनिए।

Options:

- 1) Ostrich
शुतुरमुर्ग
- 2) Peacock
मोर
- 3) Sparrow
गौरैया
- 4) Kingfisher
किंगफिशर

Correct Answer: Ostrich

शुतुरमुर्ग

Candidate Answer: Kingfisher

किंगफिशर

QID : 106 - Find out the odd word/letters/number/number pair from the given alternatives.

दिए गए विकल्पों में से विषम शब्द/अक्षर/संख्या/संख्या युग्म को चुनिए।

Options:

- 1) P15
- 2) M13
- 3) G07
- 4) T20

Correct Answer: P15**Candidate Answer:** P15**QID : 107** - Find out the odd word/letters/number/number pair from the given alternatives.

दिए गए विकल्पों में से विषम शब्द/ अक्षर/ संख्या/संख्या युग्म को चुनिए।

Options:

- 1) 43,86
- 2) 15,45
- 3) 16,48
- 4) 14,42

Correct Answer: 43,86**Candidate Answer:** 43,86**QID : 108** - Find out the odd word/letters/number/number pair from the given alternatives.

दिए गए विकल्पों में से विषम शब्द/अक्षर/संख्या/ संख्या युग्म को चुनिए।

Options:

- 1) 1296
- 2) 2401
- 3) 6561
- 4) 4094

Correct Answer: 4094**Candidate Answer:** 6561**QID : 109** - A series is given with one term missing. Choose the correct alternative from the given ones that will complete the series.

Ground water, Evaporation, Condensation, Cloud formation, ?

एक अनुक्रम दिया गया है, जिसमें से एक पद लुप्त है। दिए गए विकल्पों में से वह सही विकल्प चुनिए जो अनुक्रम को पूरा करे।

भूजल, वाष्पीकरण, संक्षेपण, बादल बनना, ?

Options:

- 1) Precipitation
अवक्षेपण
- 2) Sublimation
उर्ध्वपातन
- 3) Decantation
निस्तारण
- 4) Ice
बर्फ

Correct Answer: Precipitation
अवक्षेपण

Candidate Answer: Ice
बर्फ

QID : 110 - A series is given with one term missing. Choose the correct alternative from the given ones that will complete the series.

GM, JO, KP, NR, OS, ?

एक अनुक्रम दिया गया है, जिसमें से एक पद लुप्त है। दिए गए विकल्पों में से वह सही विकल्प चुनिए जो अनुक्रम को पूरा करे।

GM, JO, KP, NR, OS, ?

Options:

- 1) QR
- 2) RU
- 3) RS
- 4) RT

Correct Answer: RU

Candidate Answer: RU

QID : 111 - A series is given with one term missing. Choose the correct alternative from the given ones that will complete the series.

XF, SK, OO, LR, ?

एक अनुक्रम दिया गया है, जिसमें से एक पद लुप्त है। दिए गए विकल्पों में से वह सही विकल्प चुनिए जो अनुक्रम को पूरा करे।

XF, SK, OO, LR, ?

Options:

- 1) KM
- 2) JT
- 3) GI
- 4) JH

Correct Answer: JT

Candidate Answer: JT

QID : 112 - A series is given with one term missing. Choose the correct alternative from the given ones that will complete the series.

0, 5, 4, 9, 8, 13, ?

एक अनुक्रम दिया गया है, जिसमें से एक पद लुप्त है। दिए गए विकल्पों में से वह सही विकल्प चुनिए जो अनुक्रम को पूरा करे।

0, 5, 4, 9, 8, 13, ?

Options:

- 1) 33
- 2) 12
- 3) 30
- 4) 19

Correct Answer: 12

Candidate Answer: 12

QID : 113 - In the following question, two statements are given each followed by two conclusions I and II. You have to consider the statement to be true even if they seem to be at variance from commonly known facts. You have to decide which of the given conclusions, if any, follows from the given statements.

Statement:

- (I) In India, the demand for cosmetic products of export quality is very high.
(II) Demand for men's cosmetic products has also been created successfully.

Conclusions:

- (I) The local cosmetic manufacturers are struggling hard to survive in market.
(II) Herbal cosmetics market is also evolved due to increased need of demand for varieties of products.

निम्नलिखित प्रश्न में, दो कथन दिए गए हैं जिनके आगे दो निष्कर्ष I और II निकाले गए हैं। आपको मानना है कि कथन सत्य है चाहे वे सामान्यतः ज्ञात तथ्यों से भिन्न प्रतीत होते हों। आपको निर्णय करना है कि दिए गए निष्कर्षों में से कौन सा/कौन से निश्चित रूप से कथनों द्वारा सही निकाला जा सकता है/सकते हैं, यदि कोई हो।

कथन:

- (I) भारत में, निर्यात गुणवत्ता वाले सौंदर्य प्रसाधनों की मांग बहुत अधिक है।
(II) पुरुषों के सौंदर्य उत्पादों की मांग भी सफलतापूर्वक सृजित की गई है।

निष्कर्ष:

- (I) स्थानीय सौंदर्य प्रसाधन निर्माता, बाजार में टिके रहने के लिए कठिन संघर्ष कर रहे हैं।
(II) उत्पाद विविधता की मांग के कारण आयुर्वेदिक के कॉस्मेटिक चीजों का भी बाजार विकसित हो गया है।

Options:

- 1) Conclusion I follows
निष्कर्ष I सही है
2) Conclusion II follows
निष्कर्ष II सही है
3) Neither I nor II follows
न तो I और न ही II सही हैं
4) Both I and II follows
I और II दोनों सही हैं

Correct Answer: Neither I nor II follows
न तो I और न ही II सही हैं

Candidate Answer: Both I and II follows
I और II दोनों सही हैं

QID : 114 - There is a jungle where only deer and peacock live. The total number of legs in the jungle is 100 and the total number of eyes is 60. Find the number of deer and peacock in the jungle.

एक जंगल में केवल हिरण और मोर रहते हैं। जंगल में पैरों और आँखों की कुल संख्या क्रमशः 100 और 60 है। तो जंगल में हिरण और मोर की संख्या ज्ञात करें।

Options:

- 1) 15, 20
2) 20, 10
3) 25, 5
4) 15, 15

Correct Answer: 20, 10

Candidate Answer: 20, 10

QID : 115 - Arrange the given words in the sequence in which they occur in the dictionary.

- i. Required
ii. Requirement
iii. Repentant
iv. Reciprocal

निम्नलिखित शब्दों को शब्दकोश में आने वाले क्रम के अनुसार लिखें।

- i. Required
ii. Requirement
iii. Repentant
iv. Reciprocal

Options:

- 1) iii, iv, ii, i
2) iv, i, iii, ii
3) iv, i, ii, iii
4) iv, iii, i, ii

Correct Answer: iv, iii, i, ii

Candidate Answer: iv, iii, i, ii

QID : 116 - In a certain code language, "MESSAGE" is written as "@!^*?!" and "VIM" is written as ">&@". How is "SAVAGE" written in that code language?

एक विशिष्ट कोड भाषा में "MESSAGE" को "@!^*?!" लिखा जाता है और "VIM" को ">&@" लिखा जाता है। इस कोड भाषा में "SAVAGE" को किस प्रकार लिखा जाएगा?

Options:

- 1) ^>**?!
2) ^*>*?!
3) ^*>*!?
4) ^**>?!
5) ^*>*!?

Correct Answer: ^*>*?!**Candidate Answer:** ^*>*?!**QID : 117 -**

In the following question, select the missing number from the given series.

निम्नलिखित प्रश्न में दिए गए विकल्पों में से लुप्त अंक ज्ञात कीजिए।

9	64	8
15	70	5
14	?	7

Options:

1) 67

2) 91

3) 37

4) 38

Correct Answer: 91**Candidate Answer:** 91**QID : 118 -** If "#" means "subtraction", "&" means "division", "@" means "addition" and "%" means "multiplication", then $408 \& 4 \# 39 @ 12 \% 7 = ?$

यदि "#" का अर्थ "घटाना" है, "&" का अर्थ "भाग" है, "@" का अर्थ "जोड़" है और "%" का अर्थ "गुणा" है, तो $408 \& 4 \# 39 @ 12 \% 7 = ?$

Options:

1) 125

2) 147

3) 174

4) 120

Correct Answer: 147**Candidate Answer:** 147**QID : 119 -** In the following question, which one set of letters when sequentially placed at the gaps in the given letter series shall complete it?

JK_LJ_KL_KK_

निम्नलिखित प्रश्न में अक्षरों का कौन सा समूह खाली स्थानों पर क्रमवार रखने से दी गई अक्षर श्रृंखला को पूरा करेगा?

JK_LJ_KL_KK_

Options:

1) KKKJ

2) JKJK

3) KKJL

4) KJKJ

Correct Answer: KKJL**Candidate Answer:** KKJL**QID : 120 -** A woman leaves from her office in a car to reach her home. She drives 50 km towards south and then takes a right turn. After driving for 25 km in that direction, she takes a left turn and drives for 50 km more. In which direction is her home with respect to her office?

एक महिला अपने घर जाने के लिए दफ्तर से कार में चलती है। वह दक्षिण दिशा में 50 कि.मी. गाड़ी चलाती है और फिर दाएं मुड़ जाती है। उसी दिशा में 25 कि.मी. गाड़ी चलाने के पश्चात, वह बाएं मुड़ जाती है और 50 कि.मी. और गाड़ी चलाती है। उसका घर, उसके दफ्तर से किस दिशा में है?

Options:

1) South-west

दक्षिण-पश्चिम

2) North-east

उत्तर-पूर्व

3) West

पश्चिम

4) East

पूर्व

Correct Answer: South-west

दक्षिण-पश्चिम

Candidate Answer: South-west

दक्षिण-पश्चिम

QID : 121 -

A word is represented by only one set of numbers as given in any one of the alternatives. The sets of numbers given in the alternatives are represented by two classes of alphabets as shown in the given two matrices. The columns and rows of Matrix-I are numbered from 0 to 4 and that of Matrix-II are numbered from 5 to 9. A letter from these matrices can be represented first by its row and next by its column, for example, 'A' can be represented by 68, 99 etc. and 'M' can be represented by 42, 02 etc. Similarly, you have to identify the set for the word 'ROSE'.

एक शब्द केवल एक संख्या-समूह द्वारा दर्शाया गया है, जैसा कि विकल्पों में से किसी एक में दिया गया है। विकल्पों में दिए गए संख्या-समूह अक्षरों के दो वर्गों द्वारा दर्शाए गए हैं, जैसा कि दिए गए दो आव्यूहों में है। आव्यूह-I के स्तम्भ और पंक्ति की संख्या 0 से 4 और आव्यूह-II की 5 से 9 है। इन आव्यूहों से एक अक्षर को पहले उसकी पंक्ति और बाद में स्तम्भ संख्या द्वारा दर्शाया जा सकता है। उदाहरण के लिए 'A' को 68, 99 आदि द्वारा दर्शाया जा सकता है तथा 'M' को 42, 02 आदि द्वारा दर्शाया जा सकता है। इसी तरह से आपको प्रश्न में दिए शब्द 'ROSE' के लिए समूह को पहचानना है।

Matrix-I**आव्यूह - I**

	0	1	2	3	4
0	E	R	M	D	O
1	S	A	N	F	I
2	R	S	Y	A	S
3	A	R	V	S	E
4	O	L	M	B	N

Matrix-II**आव्यूह - II**

	5	6	7	8	9
5	R	N	M	R	E
6	O	I	V	A	O
7	E	V	S	M	R
8	R	S	W	O	E
9	E	V	E	H	A

Options:

- 1) 01,65,86,41
- 2) 20,69,00,77
- 3) 79, 04,33,30
- 4) 85,88,21,00

Correct Answer: 85,88,21,00**Candidate Answer:** 85,88,21,00

QID : 122 - Rahul is the father of Anupreet's husband. Priya and Ankit are the only two children of Rahul. Priya is the sister-in-law of Anupreet. How is Ankit related to Anupreet?

राहुल, अनुप्रीत के पति के पिता हैं। प्रिया और अंकित, राहुल के केवल दो बच्चे हैं। प्रिया, अनुप्रीत की ननद है। अंकित, अनुप्रीत से कैसे संबंधित है?

Options:

- 1) Father
पिता
- 2) Grandson
पोता
- 3) Son
बेटा
- 4) Husband
पति

Correct Answer: Husband

पति

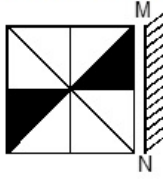
Candidate Answer: Husband

पति

QID : 123 -

If a mirror is placed on the line MN, then which of the answer figures is the right image of the given figure?

यदि एक दर्पण को MN रेखा पर रखा जाए, तो दी गई उत्तर आकृतियों में से कौन सी आकृति प्रश्न आकृति का सही प्रतिबिम्ब होगी?

**Options:**

1)



2)



3)



4)

**Correct Answer:****Candidate Answer:**

QID : 124 - Identify the diagram that best represents the relationship among the given classes.
Elephant, Rat, Cat

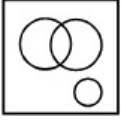
वह आरेख चुनिए जो नीचे दिए गए वर्गों के बीच के संबंध का सही निरूपण करता है।
हाथी, चूहा, बिल्ली

Options:

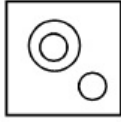
1)



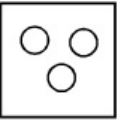
2)



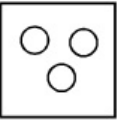
3)



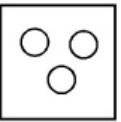
4)



Correct Answer:



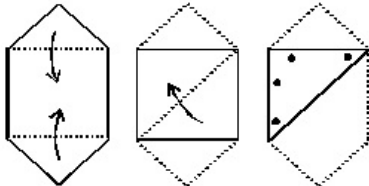
Candidate Answer:



QID : 125 -


A piece of paper is folded and punched as shown below in the question figures. From the given answer figures, indicate how it will appear when opened.

नीचे प्रश्न आकृतियों में दशयि अनुसार कागज को मोड़कर छेदने तथा खोलने के बाद वह किस उत्तर आकृति जैसा दिखाई देगा?




Options:


1)






2)



3)



4)

**Correct Answer:****Candidate Answer:****QID : 126** - A World Heritage Site is a landmark which has been officially recognized by ____.

एक विश्व विरासत स्थल एक सीमा चिन्ह होता है, जिसे आधिकारिक तौर पर ____ द्वारा स्वीकार किया जाता है।

Options:

1) UNIDO

यूनिडो

2) UNESCO

यूनेस्को

3) UNICEF

यूनिसेफ

4) UPU

यूपीयू

Correct Answer: UNESCO

यूनेस्को

Candidate Answer: [NOT ANSWERED]**QID : 127** - Rabindranath Tagore won Nobel Prize for?

रबीन्द्रनाथ टैगोर को नोबेल पुरस्कार किस के लिए मिला था?

Options:

1) Literature

साहित्य

2) Physics

भौतिकी

3) Peace

शांति

4) Economic Studies

आर्थिक अध्ययन

Correct Answer: Literature

साहित्य

Candidate Answer: Literature

साहित्य

QID : 128 - Which drug is used to cure Hypertension?

किस दवा का उच्च रक्तचाप के इलाज के लिए प्रयोग किया जाता है?

Options:

1) Risedronate

राईसड्रोनेट

2) Diazepam

डायाजेपम

3) Folic Acid

फॉलिक एसिड

4) Hydralazine

हाइड्रालेजिन

Correct Answer: Hydralazine

हाइड्रालेजिन

Candidate Answer: [NOT ANSWERED]**QID : 129** - The beetroot is the _____ portion of the beet plant.

चुकंदर, पौधे का _____ भाग है।

Options:

1) tap root

मुख्य जड़

2) adventitious

आकस्मिक

3) bulb of the stem

तने का कंद

4) rhizome

प्रकंद

Correct Answer: tap root

मुख्य जड़

Candidate Answer: rhizome

प्रकंद

QID : 130 - What is the basic unit of heredity?

आनुवंशिकता की बुनियादी इकाई क्या है?

Options:

1) DNA

डीएनए

2) RNA

आरएनए

3) Chromosome

क्रोमोसोम

4) gene

जीन

Correct Answer: gene

जीन

Candidate Answer: gene

जीन

QID : 131 - Acetic acid is known as _____.

एसिटिक एसिड को _____ कहा जाता है।

Options:

1) Caustic soda

कास्टिक सोडा

2) Spirit

स्पिरिट

3) Baking soda

बेकिंग सोडा

4) Vinegar

सिरका

Correct Answer: Vinegar

सिरका

Candidate Answer: Caustic soda

कास्टिक सोडा

QID : 132 - _____ is a polar covalent bond.

_____ एक ध्रुवीय सहसंयोजी बंध है।

Options:

- 1) P-Cl
- 2) Ne-Ne
- 3) Cl-Cl
- 4) Ca-Cl

Correct Answer: P-Cl

Candidate Answer: Cl-Cl

QID : 133 - _____ tells the computer's memory, arithmetic/logic unit and input and output devices how to respond to a program's instructions.

_____ कंप्यूटर की मेमरी, एरिथमेटिक/लॉजिक यूनिट और इनपुट आउटपुट डिवाइस को बताता है कि किसी कार्यक्रम के इंस्ट्रक्शन्स को कैसे प्रतिक्रिया देना है।

Options:

- 1) Storage Unit
स्टोरेज यूनिट
- 2) Input Device
इनपुट डिवाइस
- 3) Control Unit
कंट्रोल यूनिट
- 4) Logic Unit
लॉजिक यूनिट

Correct Answer: Control Unit

कंट्रोल यूनिट

Candidate Answer: Input Device

इनपुट डिवाइस

QID : 134 - English is the official language of _____.

अंग्रेजी _____ की शासकीय भाषा है।

Options:

- 1) Chhattisgarh
छत्तीसगढ़
- 2) Meghalaya
मेघालय
- 3) Assam
असम
- 4) Goa
गोवा

Correct Answer: Meghalaya

मेघालय

Candidate Answer: Goa

गोवा

QID : 135 - If demand curve for trekking boots is $D = 11000 - 30P$ and supply curve is $S = 4000 + 40P$, What is the equilibrium Price?

यदि ट्रेकिंग जूते के लिए मांग वक्र है: $D = 11000 - 30P$ और आपूर्ति वक्र है: $S = 4000 + 40P$, तो संतुलन कीमत ज्ञात करें।

Options:

- 1) 50
- 2) 100
- 3) 150
- 4) 200

Correct Answer: 100

Candidate Answer: [NOT ANSWERED]

QID : 136 - At same money supply, if the government reduces the tax rate which of the following is true?

एक ही मुद्रा की आपूर्ति पर, यदि सरकार ने करों की दर कम कर दी है, तो निम्न में से कौन सा सत्य है?

Options:

- 1) Government revenues will surely fall
सरकार राजस्व निश्चित रूप से गिर जाएगा।
- 2) Disposable income will surely increase
प्रयोज्य आय में निश्चित रूप से वृद्धि होगी।
- 3) Budget deficit will surely fall
बजट घाटा निश्चित रूप से गिर जाएगा।
- 4) Budget surplus will surely fall
बजट अधिशेष निश्चित रूप से गिर जाएगा।

Correct Answer: Disposable income will surely increase

प्रयोज्य आय में निश्चित रूप से वृद्धि होगी।

Candidate Answer: Disposable income will surely increase

प्रयोज्य आय में निश्चित रूप से वृद्धि होगी।

QID : 137 - Which of the following is a not a green house gas?

निम्नलिखित में से कौन सी एक ग्रीनहाउस गैस नहीं है?

Options:

- 1) Carbon Dioxide
कार्बन डाई ऑक्साइड
- 2) Water Vapour
जलवाष्प
- 3) Carbon Monoxide
कार्बन मोनो ऑक्साइड
- 4) Nitrous Oxide
नाइट्रस ऑक्साइड

Correct Answer: Carbon Monoxide
कार्बन मोनो ऑक्साइड

Candidate Answer: Water Vapour
जलवाष्प

QID : 138 - Which chemical is used to ripen mangoes artificially?

आमों को कृत्रिम रूप से पकाने के लिए किस रसायन का इस्तेमाल किया जाता है?

Options:

- 1) Sulphur Dioxide
सल्फर डाय ऑक्साइड
- 2) Nitrous Oxide
नाइट्रस ऑक्साइड
- 3) Calcium Carbide
कैल्शियम कार्बाइड
- 4) Phosphorous
फास्फोरस

Correct Answer: Calcium Carbide
कैल्शियम कार्बाइड

Candidate Answer: Nitrous Oxide
नाइट्रस ऑक्साइड

QID : 139 - The Yellow river passes through which country?

यलो नदी निम्नलिखित में से किस देश से गुजरती है?

Options:

- 1) Russia
रूस
- 2) China
चीन
- 3) USA
यूएसए
- 4) Australia
ऑस्ट्रेलिया

Correct Answer: China
चीन

Candidate Answer: [NOT ANSWERED]

QID : 140 - Capital City of Myanmar is _____.

म्यांमार की राजधानी _____ है।

Options:

- 1) Naypyidaw
नेप्यीदाव
- 2) Yangon
यांगोन
- 3) Rangoon
रंगून
- 4) Thimphu
थिफू

Correct Answer: Naypyidaw
नेप्यीदाव

Candidate Answer: Yangon
यांगोन

QID : 141 - What is the capital of Argentina?

अर्जेन्टीना की राजधानी क्या है?

Options:

- 1) Buenos Aires
ब्यूनस आयरिस
- 2) Copenhagen
कोपेनहेगन
- 3) Vienna
वियेना
- 4) Ottawa
ओटावा

Correct Answer: Buenos Aires

ब्यूनस आर्यस

Candidate Answer: [NOT ANSWERED]**QID : 142** - India and China signed 'Panchsheel Pact' in the year _____.

भारत और चीन ने _____ वर्ष में 'पंचशील संधि' पर हस्ताक्षर किए।

Options:

- 1) 1944
- 2) 1954
- 3) 1964
- 4) 1974

Correct Answer: 1954**Candidate Answer:** 1974**QID : 143** - When did 'Jallianwala Bagh' tragedy occur?

'जलियांवाला बाग' त्रासदी कब हुई थी?

Options:

- 1) 13th April 1867
13 अप्रैल 1867
- 2) 15th June 1947
15 जून 1947
- 3) 13th April 1919
13 अप्रैल 1919
- 4) 17th May 2011
17 मई 2011

Correct Answer: 13th April 1919

13 अप्रैल 1919

Candidate Answer: [NOT ANSWERED]**QID : 144** - Hypertext was invented by _____.

हाइपरटेक्स्ट का _____ द्वारा आविष्कार किया गया था।

Options:

- 1) Jean-Antoine Nollet
जीन-एंटीनी नॉलेट
- 2) Alfred Nobel
अल्फ्रेड नोबल
- 3) Joseph Nicephore Niepce
जोसेफ़ नाईसफ़ॉर निप्से
- 4) Ted Nelson
टेड नेल्सन

Correct Answer: Ted Nelson

टेड नेल्सन

Candidate Answer: [NOT ANSWERED]**QID : 145** - If an object, on a free fall from a certain height, reaches the ground in 1 second, what is its velocity on the impact with the ground?

एक वस्तु को एक निश्चित ऊंचाई से मुक्त रूप से गिराने पर वह 1 सेकेंड में जमीन तक पहुँचती है, जमीन के साथ टकराने पर उसका वेग क्या होगा?

Options:

- 1) 4.9 m/s
4.9 मी./से.
- 2) 9.8 m/s
9.8 मी/से
- 3) 14.7 m/s
14.7 मी/से
- 4) 19.6 m/s
19.6 मी/से

Correct Answer: 9.8 m/s

9.8 मी/से

Candidate Answer: 9.8 m/s

9.8 मी/से

QID : 146 - If in a motion, the axis of the rotation does not pass through the object, then the motion is called _____.

यदि गति में रहते हुए घूर्णन की धुरी वस्तु में से होकर नहीं गुजरती है, तो उस गति को _____ कहा जाता है।

Options:

- 1) Spin motion
घुमाव गति
- 2) Oscillatory motion
दोलन गति
- 3) Translatory motion
रूपांतरित गति
- 4) Orbital motion
कक्षीय गति

Correct Answer: Orbital motion

कक्षीय गति

Candidate Answer: Oscillatory motion
दोलन गति

QID : 147 - The Constitution of which country is the longest written constitution of any sovereign country in the world?

किस देश का संविधान विश्व के किसी भी सार्वभौम देश में सबसे बड़ा लिखित संविधान है?

Options:

- 1) Russia
रूस
- 2) United Kingdom
यूनाइटेड किंगडम
- 3) USA
यूएसए
- 4) India
भारत

Correct Answer: India
भारत

Candidate Answer: India
भारत

QID : 148 - The number of parliamentary seats (Lok Sabha) of Karnataka is

कर्नाटक की संसदीय सीटों (लोक सभा) की संख्या कितनी है?

Options:

- 1) 10
- 2) 26
- 3) 28
- 4) 48

Correct Answer: 28

Candidate Answer: [NOT ANSWERED]

QID : 149 - _____ is the national sport of England.

_____ इंग्लैंड का राष्ट्रीय खेल है।

Options:

- 1) Rugby
रगबी
- 2) Soccer
सॉकर
- 3) Baseball
बेसबॉल
- 4) Cricket
क्रिकेट

Correct Answer: Cricket
क्रिकेट

Candidate Answer: Cricket
क्रिकेट

QID : 150 - Who wrote "The Jungle Book"?

"द जंगल बुक" किसने लिखी थी?

Options:

- 1) R.K.Laxman
आर.के.लक्ष्मण
- 2) Roald Dahl
रोआल्ड डाल
- 3) Rudyard Kipling
रुडयार्ड किप्लिंग
- 4) Paddy Clark
पैडी क्लार्क

Correct Answer: Rudyard Kipling
रुडयार्ड किप्लिंग

Candidate Answer: [NOT ANSWERED]

QID : 151 - If $x+5(x-2) < 4 - x < 4x - 1$; then the value of x is

यदि $x+5(x-2) < 4 - x < 4x - 1$; तो x का क्या मान है?

Options:

- 1) -3/2
- 2) 3/2
- 3) 0
- 4) 3

Correct Answer: 3/2

Candidate Answer: 3/2

QID : 152 - The point Q(a,b) is first reflected in Y-axis to Q1 and Q1 is reflected in X-axis to (-4,5). The co-ordinates of point Q are

बिंदु Q(a, b) प्रथम Y- अक्ष पर Q1 पर प्रतिबिंबित होता है और फिर Q1 X- अक्ष पर (-4, 5) पर प्रतिबिंबित होता है। बिंदु Q के निर्देशांक क्या हैं?

Options:

1) (4,-5)

2) (-4,-5)

3) (4,5)

4) (-4,5)

Correct Answer: (4,-5)

Candidate Answer: [NOT ANSWERED]

QID : 153 - What is the value of 99993×100007 ?

99993 x 100007 का मान क्या है?

Options:

1) 9999999951

2) 9999899951

3) 9999999851

4) 9999999941

Correct Answer: 9999999951

Candidate Answer: [NOT ANSWERED]

QID : 154 - Which of the following is correct?

निम्न में से कौन सा सही है?

Options:

1) $(5x + y)^2 = 25x^2 + 5xy + y^2$

2) $(5x - y)^2 = 25x^2 - 10xy + y^2$

3) $(5x - y)^2 = 25x^2 + 10xy + y^2$

4) $(5x + y)^2 = 25x^2 - 5xy + y^2$

Correct Answer: $(5x - y)^2 = 25x^2 - 10xy + y^2$

Candidate Answer: $(5x - y)^2 = 25x^2 - 10xy + y^2$

QID : 155 - If $\sec 225^\circ = x$, then the value of x is

यदि $\sec 225^\circ = x$, तो x का क्या मान है?

Options:

1) -√2

2) 1/√3

3) -1

4) -1/√3

Correct Answer: -√2

Candidate Answer: [NOT ANSWERED]

QID : 156 - What are the roots of the quadratic equation $15x^2 - 2x - 8 = 0$

इस द्विघात समीकरण के मूल क्या होंगे $15x^2 - 2x - 8 = 0$

Options:

1) 2/3, -4/5

2) -2/3, 4/5

3) -3/2, 5/4

4) 3/2, -5/4

Correct Answer: -2/3, 4/5

Candidate Answer: -2/3, 4/5

QID : 157 - A rice trader buys 26 quintals of rice for Rs 1,872. 28% rice is lost in transportation. At what rate should he sell to earn 10% profit?

एक चावल व्यापारी 1,872 रु में 26 क्विंटल चावल खरीदता है। 28% चावल परिवहन में खराब/गुम हो जाता है। उसे 10% लाभ प्राप्त करने के लिए कितनी दर पर चावल बेचना चाहिए?

Options:

- 1) Rs 110 per quintal
110 रु प्रति क्विंटल
- 2) Rs 47.12 per quintal
47.12 रु प्रति क्विंटल
- 3) Rs 79.2 per quintal
79.2 रु प्रति क्विंटल
- 4) Rs 102.4 per quintal
102.4 रु प्रति क्विंटल

Correct Answer: Rs 110 per quintal
110 रु प्रति क्विंटल

Candidate Answer: Rs 110 per quintal
110 रु प्रति क्विंटल

QID : 158 - A number is greater than twice its reciprocal by $\frac{49}{5}$. What is the number.

एक संख्या अपने व्युत्क्रम के दुगने से $\frac{49}{5}$ अधिक है। वह संख्या क्या है?

Options:

- 1) 9
- 2) 8
- 3) 10
- 4) 7

Correct Answer: 10

Candidate Answer: [NOT ANSWERED]

QID : 159 - If a merchant offers a discount of 10% on the list price, then she makes a loss of 16%. What % profit or % loss will she make if she sells at a discount of 25% of the list price?

यदि एक व्यापारी सूची मूल्य पर 10% की छूट प्रदान करती है, तो उसे 16% का नुकसान होता है। अगर वह सूची मूल्य पर 25% की छूट पर माल बेचती है तो उसे कितने % लाभ या कितने % हानि होगी?

Options:

- 1) 32 percent profit
32 प्रतिशत लाभ
- 2) 33.33 percent loss
33.33 प्रतिशत हानि
- 3) 30 percent loss
30 प्रतिशत हानि
- 4) 5 percent profit
5 प्रतिशत लाभ

Correct Answer: 30 percent loss
30 प्रतिशत हानि

Candidate Answer: 33.33 percent loss
33.33 प्रतिशत हानि

QID : 160 - 31 is 0.8% of?

31 किस संख्या का 0.8% है?

Options:

- 1) 3875
- 2) 1550
- 3) 7750
- 4) 11625

Correct Answer: 3875

Candidate Answer: 11625

QID : 161 - The cross section of a canal is in the shape of an isosceles trapezium which is 2 m wide at the bottom and 3 m wide at the top. If the depth of the canal is 1 m and it is 100 m long, what is the maximum capacity of this canal?

एक नहर का अनुप्रस्थ काट एक समद्विबाहु समलम्ब के रूप में है, जो तल पर 2 मी. चौड़ा और शीर्ष पर 3 मी. चौड़ा है। यदि नहर की गहराई 1 मी. है और वह 100 मी. लम्बी है, तो इस नहर की अधिकतम क्षमता क्या है?

Options:

- 1) 500 cubic mts
500 घन मी.
- 2) 250 cubic mts
250 घन मी.
- 3) 750 cubic mts
750 घन मी.
- 4) 1000 cubic mts
1000 घन मी.

Correct Answer: 250 cubic mts
250 घन मी.

Candidate Answer: [NOT ANSWERED]

QID : 162 - The points A(2,-3), B(-2,0) and C(6,x) are collinear. What is the value of x?

बिंदु A(2,-3), B(-2,0) और C (6, x) समरेख हैं। x का क्या मान है?

Options:

- 1) -1
- 2) -6
- 3) 3
- 4) 2

Correct Answer: -6

Candidate Answer: -1

QID : 163 - The bus fare between two cities is increased in the ratio 9:11. What is the increase in the fare, if the original fare is Rs. 675?

दो शहरों के बीच का बस का भाड़ा 9:11 के अनुपात में बढ़ाया गया है। भाड़े में हुई वृद्धि का क्या है, यदि मूल भाड़ा 675 है?

Options:

- 1) Rs 825
- 825 रु
- 2) Rs 150
- 150 रु
- 3) Rs 165
- 165 रु
- 4) Rs 330
- 330 रु

Correct Answer: Rs 150

150 रु

Candidate Answer: Rs 150

150 रु

QID : 164 - Among three numbers, the first is twice the second and thrice the third. If the average of three numbers is 638, then what is the difference between the first and the third number?

तीन संख्याओं के बीच में, पहली संख्या दूसरी संख्या से दोगुनी और तीसरी संख्या से तीन गुनी है। यदि उन तीन संख्याओं का औसत 638 है, तो पहली और तीसरी संख्याओं के बीच कितना अंतर है?

Options:

- 1) 957
- 2) 503
- 3) 696
- 4) 541

Correct Answer: 696

Candidate Answer: 696

QID : 165 - If $1/\sqrt{1 - \cos^2 A} = x$, then the value of x is

यदि $1/\sqrt{1 - \cos^2 A} = x$, तो x का क्या मान है?

Options:

- 1) secA
- 2) sinA
- 3) cotA
- 4) cosecA

Correct Answer: cosecA

Candidate Answer: cosecA

QID : 166 - A car travels a certain distance at 30 km/h and comes back at 45 km/h. What is the average speed for total journey.

एक कार 30 कि.मी./घंटा से एक निश्चित दूरी तय करती है और 45 कि.मी./घंटा से वापस आती है। इस पूरी यात्रा की औसत गति क्या होगी?

Options:

- 1) 37.5 km/hr
- 37.5 कि.मी./घंटा
- 2) 34.5 km/hr
- 34.5 कि.मी./घंटा
- 3) 36 km/hr
- 36 कि.मी./घंटा
- 4) 39 km/hr
- 39 कि.मी./घंटा

Correct Answer: 36 km/hr

36 कि.मी./घंटा

Candidate Answer: [NOT ANSWERED]

QID : 167 - What is the value of $[1 / (\sin A + \cos A)] + [1 / (\sin A - \cos A)]$?

$[1 / (\sin A + \cos A)] + [1 / (\sin A - \cos A)]$ का मान क्या है?

Options:

- 1) $2\tan A/(1 - 2\cos^2 A)$
- 2) $2\cot A/(1 - 2\cos^2 A)$
- 3) $2\operatorname{cosec} A/(1 - 2\cos^2 A)$
- 4) $2\sin A/(1 - 2\cos^2 A)$

Correct Answer: $2\sin A/(1 - 2\cos^2 A)$ **Candidate Answer:** $2\operatorname{cosec} A/(1 - 2\cos^2 A)$ **QID : 168** - There is 40% increase in an amount in 8 years at simple interest. What will be the compound interest of Rs. 20000 after 3 years at the same rate?

एक राशि में 8 वर्षों में साधारण ब्याज पर 40% की वृद्धि होती है। उसी दर पर 3 वर्षों में 20000 रुं का चक्रवृद्धि ब्याज कितना होगा?

Options:

- 1) Rs 3152.5
3152.5 रुं
- 2) Rs 6305
6305 रुं
- 3) Rs 7881.25
7881.25 रुं
- 4) Rs 4728.75
4728.75 रुं

Correct Answer: Rs 3152.5

3152.5 रुं

Candidate Answer: [NOT ANSWERED]**QID : 169** - An angle is $4/5$ th of its supplementary angle. What is the measure of the angle?एक कोण अपने अनुपूरक कोण का $4/5$ है। कोण का माप क्या है?**Options:**

- 1) 100°
- 2) 50°
- 3) 40°
- 4) 80°

Correct Answer: 80° **Candidate Answer:** 80° **QID : 170** - In an isosceles trapezium _____.

एक समद्विबाहु समलम्ब में _____।

Options:

- 1) one pair of opposite sides are congruent
विपरीत भुजा की एक जोड़ी संगत होती हैं
- 2) Diagonals are not equal
विकर्ण एक बराबर नहीं होते हैं
- 3) Opposite angles are not equal
विपरीत कोण एक बराबर नहीं होते हैं
- 4) Diagonals form two congruent triangles
विकर्ण दो संगत त्रिकोण बनाते हैं

Correct Answer: one pair of opposite sides are congruent

विपरीत भुजा की एक जोड़ी संगत होती हैं

Candidate Answer: one pair of opposite sides are congruent

विपरीत भुजा की एक जोड़ी संगत होती हैं

QID : 171 - Mihir can do a piece of work in 30 hours. If he is joined by Jigya who is 50% more efficient, in what time will they together finish the work?

मिहिर काम का एक भाग 30 घंटे में पूरा कर सकता है। यदि उसे जिज्ञा ने सहायता की, जो कि 50% अधिक कार्यक्षम है, तो कितने समय में दोनों काम साथ मिलकर पूरा कर लेंगे?

Options:

- 1) 24 hours
24 घंटे
- 2) 12 hours
12 घंटे
- 3) 6 hours
6 घंटे
- 4) 3 hours
3 घंटे

Correct Answer: 12 hours

12 घंटे

Candidate Answer: 6 hours

6 घंटे

QID : 172 -

Refer the below data table and answer the following Question.

नीचे दिये गए डेटा तालिका के आधार पर निम्नलिखित प्रश्न का उत्तर दें।

	Number of employees कर्मचारियों की संख्या	Annual salary (in lakhs) वार्षिक वेतन (लाखों में)	Bonus as percent of annual salary वार्षिक वेतन के प्रतिशत के रूप में बोनस
Manager / प्रबंधक	1	36	50%
Executive / कार्यकारी	5	12	20%
Trainee / प्रशिक्षु	1	2	20%

What is the average bonus (in rupees)?

औसत बोनस (रुपये में) कितना है?

Options:

- 1) 3040002
- 2) 166666.67
- 3) 208000
- 4) 434286

Correct Answer: 434286**Candidate Answer:** [NOT ANSWERED]**QID : 173 -**

Refer the below data table and answer the following Question.

नीचे दिये गए डेटा तालिका के आधार पर निम्नलिखित प्रश्न का उत्तर दें।

	2011	2012	2013	2014	2015
Company A / कंपनी A	2000	5000	1000	4000	3000
Company B / कंपनी B	4000	4000	5000	5000	3000
Company C / कंपनी C	5000	5000	2000	5000	3000

For which of the following pairs of years the total exports from the three Companies together are equal?

(Note: Figures given are in lakh rupees)

निम्न में से वर्षों की कौन सी जोड़ी के लिए तीनों कंपनियों का कुल निर्यात बराबर है?
(नोट: दिए गए आँकड़े लाख रुपए में हैं)**Options:**

- 1) 2011 & 2013
2011 एवं 2013
- 2) 2013 & 2015
2013 एवं 2015
- 3) 2011 & 2012
2011 एवं 2012
- 4) 2014 & 2012
2014 एवं 2012

Correct Answer: 2014 & 2012

2014 एवं 2012

Candidate Answer: 2013 & 2015

2013 एवं 2015

QID : 174 -

Refer the below data table and answer the following Question.

नीचे दिये गए डेटा तालिका के आधार पर निम्नलिखित प्रश्न का उत्तर दें।

Year वर्ष	Profit or (-Loss) in Rs Crore करोड़ रूपये में लाभ या (-नुकसान)
2011	-25
2012	5
2013	-10
2014	10
2015	-10

What was the total Profit or loss of the company in last 5 years?

पिछले पांच वर्षों में कंपनी का कुल लाभ या नुकसान कितना था?

Options:

1) Loss of Rs 40 crores

40 करोड़ रु का नुकसान

2) Profit of Rs 30 crores

30 करोड़ रु का लाभ

3) Profit of Rs 40 crores

40 करोड़ रु का लाभ

4) Loss of Rs 30 crores

30 करोड़ रु का नुकसान

Correct Answer: Loss of Rs 30 crores

30 करोड़ रु का नुकसान

Candidate Answer: Loss of Rs 30 crores

30 करोड़ रु का नुकसान

QID : 175 -

Refer the below data table and answer the following Question.

नीचे दिये गए डेटा तालिका के आधार पर निम्नलिखित प्रश्न का उत्तर दें।

India's exports in 2015 वर्ष 2015 में भारत का निर्यात	Value in million US\$ मिलियन डॉलर में मूल्य
Jewellery / जेवर	925
Software / सॉफ्टवेयर	600
Cotton / कपास	825
Steel / इस्पात	850
Electronics / इलेक्ट्रॉनिक्स	550

Software was what percent of total exports?

सॉफ्टवेयर का निर्यात भारत के कुल निर्यात का कितना प्रतिशत था?

Options:

1) 18.5 percent

18.5 प्रतिशत

2) 16 percent

16 प्रतिशत

3) 21 percent

21 प्रतिशत

4) 13.5 percent

13.5 प्रतिशत

Correct Answer: 16 percent

16 प्रतिशत

Candidate Answer: 16 percent

16 प्रतिशत

QID : 176 - Improve the bracketed part of the sentence.The bus (**had left**) before I reached the stop.

Options:

- 1) left
- 2) leaves
- 3) will have left
- 4) no improvement

Correct Answer: no improvement**Candidate Answer:** no improvement**QID : 177** - Rearrange the parts of the sentence in correct order.**There is never****P-behind the persistence of such problems; it always has****Q-a single factor****R-to be a nexus of forces****Options:**

- 1) QPR
- 2) PRQ
- 3) RPQ
- 4) QRP

Correct Answer: QPR**Candidate Answer:** [NOT ANSWERED]**QID : 178** - Rearrange the parts of the sentence in correct order.**If society considers this****P-to wonder if society itself is normal****Q-to be normal or treats it with****R-indifference, one has****Options:**

- 1) PRQ
- 2) QRP
- 3) RQP
- 4) RPQ

Correct Answer: QRP**Candidate Answer:** [NOT ANSWERED]**QID : 179** - In the following question, out of the four alternatives, select the alternative which best expresses the meaning of the idiom/phrase.**There's no such thing as a free lunch****Options:**

- 1) It isn't possible to get something for nothing
- 2) There is no genuine kindness in this world
- 3) Even a mother will expect something for her love
- 4) Those who are tempted by free things, end up spending more

Correct Answer: It isn't possible to get something for nothing**Candidate Answer:** [NOT ANSWERED]**QID : 180** - Select the word with the correct spelling.**Options:**

- 1) demagoggy
- 2) galillean
- 3) pheasant
- 4) acruals

Correct Answer: pheasant**Candidate Answer:** pheasant**QID : 181** - In the following question, some part of the sentence may have errors. Find out which part of the sentence has an error and select the appropriate option. If a sentence is free from error, select 'No Error'.**Vaibhav was trying for admission in(A)/the engineering college even though his parents(B)/wanted him to take up medicine.(C)/No error****Options:**

- 1) A
- 2) B
- 3) C
- 4) D

Correct Answer: D**Candidate Answer:** A**QID : 182** - Improve the bracketed part of the sentence.I (**have been writing**) twenty pages since morning.**Options:**

- 1) was writing
- 2) am writing
- 3) have written
- 4) no improvement

Correct Answer: have written**Candidate Answer:** no improvement

QID : 183 - In the following question, the sentence given with blank to be filled in with an appropriate word. Select the correct alternative out of the four and indicate it by selecting the appropriate option.

It was _____ hot that summer.

Options:

- 1) unbelievably
- 2) unacceptably
- 3) supremely
- 4) amazingly

Correct Answer: unbelievably

Candidate Answer: unbelievably

QID : 184 - In the following question, sentence given with blank is to be filled in with an appropriate word. Select the correct alternative out of the four and indicate it by selecting the appropriate option.

In the face of the _____ cross examination, the accused remained stoic.

Options:

- 1) solid
- 2) terrible
- 3) tedious
- 4) gruelling

Correct Answer: gruelling

Candidate Answer: gruelling

QID : 185 - In the following question, out of the four alternatives, select the alternative which is the best substitute of the phrase.

a tangled mass in something such as hair or wool

Options:

- 1) knot
- 2) vortex
- 3) snot
- 4) whorl

Correct Answer: knot

Candidate Answer: vortex

QID : 186 - Select the synonym of

extrapolate

Options:

- 1) deduce
- 2) rejection
- 3) scruple
- 4) vacillate

Correct Answer: deduce

Candidate Answer: vacillate

QID : 187 - In the following question, out of the four alternatives, select the alternative which best expresses the meaning of the idiom/phrase.

By the skin of one's teeth

Options:

- 1) to hurt someone
- 2) Teeth show health of an animal or a person
- 3) Dental hygiene is critical for good health
- 4) A very narrow margin

Correct Answer: A very narrow margin

Candidate Answer: Dental hygiene is critical for good health

QID : 188 - Select the antonym of

presumption

Options:

- 1) fact
- 2) posit
- 3) assumption
- 4) conjecture

Correct Answer: fact

Candidate Answer: conjecture

QID : 189 - In the following question, a sentence has been given in Direct/Indirect speech. Out of the four alternatives suggested, select the one, which best express the same sentence in Indirect/Direct speech.

Smita says, "I like chocolates."

Options:

- 1) Smita said she like chocolates.
- 2) Smita says that she likes chocolates.
- 3) Smita says she likes chocolates.
- 4) Smita says that, that she likes chocolates.

Correct Answer: Smita says that she likes chocolates.

Candidate Answer: Smita says that she likes chocolates.

QID : 190 - In the following question, out of the four alternatives, select the alternative which is the best substitute of the phrase.

relating to or characteristic of hell or the underworld

Options:

- 1) diabolical
- 2) execrable
- 3) elysium
- 4) infernal

Correct Answer: infernal

Candidate Answer: execrable

QID : 191 - Select the antonym of

to incriminate

Options:

- 1) to inculpate
- 2) to attribute
- 3) to allege
- 4) to exonerate

Correct Answer: to exonerate

Candidate Answer: to exonerate

QID : 192 - In the following question, a sentence has been given in Active/Passive voice. Out of four alternatives suggested, select the one, which best expresses the same sentence in Passive/Active voice.

My father promised me a gift.

Options:

- 1) A gift was promised to me by my father.
- 2) My father promised that he would give me a gift.
- 3) I had been promised a gift by my father.
- 4) I was promised a gift by my father.

Correct Answer: I was promised a gift by my father.

Candidate Answer: I was promised a gift by my father.

QID : 193 - Select the synonym of

inheritance

Options:

- 1) encumbrance
- 2) obligation
- 3) manifest
- 4) bequest

Correct Answer: bequest

Candidate Answer: obligation

QID : 194 - In the following question, some part of the sentence may have errors. Find out which part of the sentence has an error and select the appropriate option. If a sentence is free from error, select 'No Error'.

Another change that(A)/I notice in her is that she(B)/avoids to speak to me(C)/No error

Options:

- 1) A
- 2) B
- 3) C
- 4) D

Correct Answer: C

Candidate Answer: C

QID : 195 - Select the word with the correct spelling.

Options:

- 1) grapled
- 2) pattered
- 3) paralel
- 4) emfathic

Correct Answer: pattered

Candidate Answer: paralel

QID : 196 - In the following passage, some of the words have been left out. Read the passage carefully and select the correct answer for the given blank out of the four alternatives.

The stomach _____ and the mind revolts _____ the media report such events. Yet, one realises that there is little follow-_____. It is almost as if such events pile up on the assembly line of memory as society seems unable to _____ such events. There is both denial and _____ in the way we consume the event.

The stomach _____ and the mind revolts

Options:

- 1) stirs
- 2) turns
- 3) twists
- 4) churns

Correct Answer: churns

Candidate Answer: [NOT ANSWERED]

QID : 197 - In the following passage, some of the words have been left out. Read the passage carefully and select the correct answer for the given blank out of the four alternatives.

The stomach _____ and the mind revolts _____ the media report such events. Yet, one realises that there is little follow-_____. It is almost as if such events pile up on the assembly line of memory as society seems unable to _____ such events. There is both denial and _____ in the way we consume the event.

_____ the media report such events.

Options:

- 1) when
- 2) if
- 3) as
- 4) being

Correct Answer: when

Candidate Answer: being

QID : 198 - In the following passage, some of the words have been left out. Read the passage carefully and select the correct answer for the given blank out of the four alternatives.

The stomach _____ and the mind revolts _____ the media report such events. Yet, one realises that there is little follow-_____. It is almost as if such events pile up on the assembly line of memory as society seems unable to _____ such events. There is both denial and _____ in the way we consume the event.

Yet, one realises that there is little follow-_____.

Options:

- 1) on
- 2) up
- 3) about
- 4) through

Correct Answer: up

Candidate Answer: about

QID : 199 - In the following passage, some of the words have been left out. Read the passage carefully and select the correct answer for the given blank out of the four alternatives.

The stomach _____ and the mind revolts _____ the media report such events. Yet, one realises that there is little follow-_____. It is almost as if such events pile up on the assembly line of memory as society seems unable to _____ such events. There is both denial and _____ in the way we consume the event.

society seems unable to _____ such events.

Options:

- 1) learn
- 2) assimilate
- 3) incorporate
- 4) strategise

Correct Answer: assimilate

Candidate Answer: learn

QID : 200 - In the following passage, some of the words have been left out. Read the passage carefully and select the correct answer for the given blank out of the four alternatives.

The stomach _____ and the mind revolts _____ the media report such events. Yet, one realises that there is little follow-_____. It is almost as if such events pile up on the assembly line of memory as society seems unable to _____ such events. There is both denial and _____ in the way we consume the event.

There is both denial and _____ in the way we consume the event.

Options:

- 1) negation
- 2) bias
- 3) indifference
- 4) refusal

Correct Answer: indifference

Candidate Answer: [NOT ANSWERED]