



Staff Selection Commission
(Government Of India)

QID : 1 - In the following question, some part of the sentence may have errors. Find out which part of the sentence has an error and select the appropriate option. If a sentence is free from error, select 'No Error'.

He fall over the (1)/ ledge after (2)/ drinking heavily last night. (3)/ No error (4)

Options:

- 1) 1
- 2) 2
- 3) 3
- 4) 4

Correct Answer: 1

Candidate Answer: 1

QID : 2 - In the following question, some part of the sentence may have errors. Find out which part of the sentence has an error and select the appropriate option. If a sentence is free from error, select 'No Error'.

The Maldives has been buffeted by one political crisis after another (1)/ since Nasheed, the first democratically elected president, (2)/ was forcibly to quit in 2012. (3)/ No error (4)

Options:

- 1) 1
- 2) 2
- 3) 3
- 4) 4

Correct Answer: 3

Candidate Answer: 4

QID : 3 - In the following question, the sentence given with blank to be filled in with an appropriate word. Select the correct alternative out of the four and indicate it by selecting the appropriate option.

The path runs _____ forests and mountains.

Options:

- 1) in
- 2) on
- 3) to
- 4) towards

Correct Answer: towards

Candidate Answer: towards

QID : 4 - In the following question, the sentence given with blank to be filled in with an appropriate word. Select the correct alternative out of the four and indicate it by selecting the appropriate option.

The worst form of violence is terrorism _____ due to religious insecurities.

Options:

- 1) repressed
- 2) quelled
- 3) evoked
- 4) halted

Correct Answer: evoked

Candidate Answer: evoked

QID : 5 - In the following question, out of the given four alternatives, select the one which best expresses the meaning of the given word.

Debonair

Options:

- 1) Elegant
- 2) Awkward
- 3) Clumsy
- 4) Difficult

Correct Answer: Elegant

Candidate Answer: Awkward

QID : 6 - In the following question, out of the given four alternatives, select the one which best expresses the meaning of the given word.

Rivet

Options:

- 1) Heavy
- 2) Joyous
- 3) Engage
- 4) Revolve

Correct Answer: Engage

Candidate Answer: Joyous

QID : 7 - In the following question, out of the given four alternatives, select the one which is opposite in meaning of the given word.

Evince

Options:

- 1) Manifest
- 2) Comply
- 3) Declare
- 4) Prove

Correct Answer: Comply

Candidate Answer: Prove

QID : 8 - In the following question, out of the given four alternatives, select the one which is opposite in meaning of the given word.

Candid

Options:

- 1) Artful
- 2) Free
- 3) Objective
- 4) Plain

Correct Answer: Artful

Candidate Answer: Objective

QID : 9 - Rearrange the parts of the sentence in correct order.

As a result of greater competition

P : while others are contracting

Q : in the US computer industry

R : some computer companies are expanding

Options:

- 1) PQR
- 2) QRP
- 3) PRQ
- 4) QPR

Correct Answer: QRP

Candidate Answer: QRP

QID : 10 - A sentence has been given in Active/Passive Voice. Out of the four given alternatives, select the one which best expresses the same sentence in Passive/Active Voice.

The teacher told him to collect assignments.

Options:

- 1) He was told to collect assignments by the teacher.
- 2) He is told by the teacher to collect assignments.
- 3) The teacher asked him to collect assignments.
- 4) He was asked to collect assignments.

Correct Answer: He was told to collect assignments by the teacher.

Candidate Answer: He was told to collect assignments by the teacher.

QID : 11 - A sentence has been given in Direct/Indirect Speech. Out of the four given alternatives, select the one which best expresses the same sentence in Indirect/Direct Speech.

"I have not seen him for years," said his mother.

Options:

- 1) She has not seen him for years said his mother.
- 2) His mother had not seen him for years.
- 3) His mother told him she had not saw him for years.
- 4) His mother said that she had not seen him for years.

Correct Answer: His mother said that she had not seen him for years.

Candidate Answer: His mother said that she had not seen him for years.

QID : 12 - In the following question, a word has been written in four different ways out of which only one is correctly spelt. Select the correctly spelt word.

Options:

- 1) Questionnaire
- 2) Qustionaire
- 3) Questionnaire
- 4) Quetionnaire

Correct Answer: Questionnaire

Candidate Answer: Qestionnaire

QID : 13 - In the following passage, some of the words have been left out. Read the passage carefully and select the correct answer for the given blank out of the four alternatives.

A century later, the philosophy community needs to take _____ the new challenge of moral deliberation on the most pressing issues of our difficult times. We have to revoke the suspension of ethics and morality _____ our lives by initiating a dialogue on it. Foregrounding ethics, however, _____ means undermining the epistemological or ontological questions that are inevitably there. One such beginning can be made by anchoring moral _____ in fairness and justice —one founded on obligatory fairness towards the people and the planet, towards the earth and the environment, and above all justice towards one _____.

community needs to take _____ the new challenge

Options:

- 1) in
- 2) down
- 3) up
- 4) into

Correct Answer: up

Candidate Answer: up

QID : 14 - In the following passage, some of the words have been left out. Read the passage carefully and select the correct answer for the given blank out of the four alternatives.

A century later, the philosophy community needs to take _____ the new challenge of moral deliberation on the most pressing issues of our difficult times. We have to revoke the suspension of ethics and morality _____ our lives by initiating a dialogue on it. Foregrounding ethics, however, _____ means undermining the epistemological or ontological questions that are inevitably there. One such beginning can be made by anchoring moral _____ in fairness and justice —one founded on obligatory fairness towards the people and the planet, towards the earth and the environment, and above all justice towards one _____.

ethics and morality _____ our lives by initiating

Options:

- 1) form
- 2) of
- 3) for
- 4) from

Correct Answer: from

Candidate Answer: from

QID : 15 - In the following passage, some of the words have been left out. Read the passage carefully and select the correct answer for the given blank out of the four alternatives.

A century later, the philosophy community needs to take _____ the new challenge of moral deliberation on the most pressing issues of our difficult times. We have to revoke the suspension of ethics and morality _____ our lives by initiating a dialogue on it. Foregrounding ethics, however, _____ means undermining the epistemological or ontological questions that are inevitably there. One such beginning can be made by anchoring moral _____ in fairness and justice —one founded on obligatory fairness towards the people and the planet, towards the earth and the environment, and above all justice towards one _____.

Foregrounding ethics, however, _____ means undermining

Options:

- 1) nor
- 2) no
- 3) never
- 4) none

Correct Answer: never

Candidate Answer: never

QID : 16 - In the following passage, some of the words have been left out. Read the passage carefully and select the correct answer for the given blank out of the four alternatives.

A century later, the philosophy community needs to take _____ the new challenge of moral deliberation on the most pressing issues of our difficult times. We have to revoke the suspension of ethics and morality _____ our lives by initiating a dialogue on it. Foregrounding ethics, however, _____ means undermining the epistemological or ontological questions that are inevitably there. One such beginning can be made by anchoring moral _____ in fairness and justice —one founded on obligatory fairness towards the people and the planet, towards the earth and the environment, and above all justice towards one _____.

by anchoring moral _____ in fairness

Options:

- 1) responsibility
- 2) responsible
- 3) responsibly
- 4) responsory

Correct Answer: responsibility

Candidate Answer: responsibility

QID : 17 - In the following passage, some of the words have been left out. Read the passage carefully and select the correct answer for the given blank out of the four alternatives.

A century later, the philosophy community needs to take _____ the new challenge of moral deliberation on the most pressing issues of our difficult times. We have to revoke the suspension of ethics and morality _____ our lives by initiating a dialogue on it. Foregrounding ethics, however, _____ means undermining the epistemological or ontological questions that are inevitably there. One such beginning can be made by anchoring moral _____ in fairness and justice —one founded on obligatory fairness towards the people and the planet, towards the earth and the environment, and above all justice towards one _____.

and above all justice towards one _____.

Options:

- 1) else
- 2) all
- 3) everybody
- 4) another

Correct Answer: another

Candidate Answer: another

QID : 18 - In the following question, out of the four alternatives, select the alternative which best expresses the meaning of the idiom/phrase.

Get on somebody's nerves

Options:

- 1) To calm an anxious person.
- 2) To be an irritant.
- 3) To crack jokes at somebody's expense.
- 4) Be angry with yourself but take out the anger on somebody else.

Correct Answer: To be an irritant.

Candidate Answer: Be angry with yourself but take out the anger on somebody else.

QID : 19 - In the following question, out of the four alternatives, select the alternative which best expresses the meaning of the idiom/phrase.

Eyebrow raising

Options:

- 1) Pretend to like something or someone even when you dislike.
- 2) Look up in defiance as a show of rebellion.
- 3) A person finally getting due punishment.
- 4) Something which surprises, shocks, or offends people.

Correct Answer: Something which surprises, shocks, or offends people.

Candidate Answer: Something which surprises, shocks, or offends people.

QID : 20 - In the following question, out of the four alternatives, select the alternative which is the best substitute of the words/sentence.

Showing a lack of respect for people or things that are generally taken seriously

Options:

- 1) Solemn
- 2) Pious
- 3) Devout
- 4) Irreverent

Correct Answer: Irreverent

Candidate Answer: Irreverent

QID : 21 - In the following question, out of the four alternatives, select the alternative which is the best substitute of the words/sentence.

Showing a skilful use of underhand tactics to achieve goals

Options:

- 1) Scrupulous
- 2) Veracious
- 3) Authentic
- 4) Devious

Correct Answer: Devious

Candidate Answer: Scrupulous

QID : 22 - In the following question, out of the four alternatives, select the alternative which will improve the bracketed part of the sentence. In case no improvement is needed, select "no improvement".

A monthly contribution by the boy's elder brother (**have made**) this move possible.

Options:

- 1) had make
- 2) had made
- 3) had making
- 4) no improvement

Correct Answer: had made

Candidate Answer: had making

QID : 23 - In the following question, out of the four alternatives, select the alternative which will improve the bracketed part of the sentence. In case no improvement is needed, select "no improvement".

He claimed that he (**have corrected**) the ringing on both the clocks.

Options:

- 1) had correct
- 2) had corrected
- 3) had correcting
- 4) no improvement

Correct Answer: had corrected

Candidate Answer: had corrected

QID : 24 - The question below consists of a set of labelled sentences. Out of the four options given, select the most logical order of the sentences to form a coherent paragraph.

One of them said my

A-teacher was being very

B-strict as she was

C-strict; not all French were as

Options:

- 1) ABC
- 2) CBA
- 3) ACB
- 4) CAB

Correct Answer: ACB

Candidate Answer: ACB

QID : 25 - In the following question, four words are given out of which one word is correctly spelt. Select the correctly spelt word.

Options:

- 1) illiterate
- 2) illiterat
- 3) illiterate
- 4) iliterat

Correct Answer: illiterate

Candidate Answer: illiterate

QID : 26 - In the following question, select the related word pair from the given alternatives.

Thursday : Friday :: ? : ?

निम्नलिखित प्रश्न में दिए गए विकल्पों में से संबंधित शब्द युग्म को चुनिए।

बृहस्पतिवार : शुक्रवार :: ? : ?

Options:

- 1) Monday : Tuesday
सोमवार : मंगलवार
- 2) Friday : Sunday
शुक्रवार : रविवार
- 3) Friday : Wednesday
शुक्रवार : बुधवार
- 4) Sunday : Tuesday
रविवार : मंगलवार

Correct Answer: Monday : Tuesday

सोमवार : मंगलवार

Candidate Answer: Monday : Tuesday

सोमवार : मंगलवार

QID : 27 - In the following question, select the related number from the given alternatives.

594 : 592 :: 368 : ?

निम्नलिखित प्रश्न में दिए गए विकल्पों में से संबंधित संख्या को चुनिए।

594 : 592 :: 368 : ?

Options:

- 1) 370
- 2) 340
- 3) 364
- 4) 366

Correct Answer: 366

Candidate Answer: 366

QID : 28 - In the following question, select the related letter/letters from the given alternatives.

KPV : LQW :: BOY : ?

निम्नलिखित प्रश्न में दिए गए विकल्पों में से संबंधित अक्षर/अक्षरों को चुनिए।

KPV : LQW :: BOY : ?

Options:

- 1) APX
- 2) CPZ
- 3) CPX
- 4) DQZ

Correct Answer: CPZ

Candidate Answer: CPZ

QID : 29 - In the following question, select the odd word from the given alternatives.

निम्नलिखित प्रश्न में दिए गए विकल्पों में से विषम शब्द को चुनिए।

Options:

- 1) Cauliflower
फूलगोभी
- 2) Potato
आलू
- 3) Grapes
अंगूर
- 4) Brinjal
बैंगन

Correct Answer: Grapes

अंगूर

Candidate Answer: Grapes

अंगूर

QID : 30 - In the following question, four number pairs are given. The number on left side of (-) is related to the number on the right side of (-) with some Logic/Rule/Relation. Three are similar on basis of same Logic/Rule/Relation. Select the odd one out from the

नीचे दिए गए प्रश्न में, चार संख्या युग्म दिए गए हैं। (-) के बायीं ओर दी संख्या (-) के दायीं ओर दी गई संख्या से तर्क/नियम से सम्बंधित है। तीन उसी एक तर्क/नियम के आधार पर समान हैं। दिए गए विकल्पों में से भिन्न को चुनिए।

Options:

- 1) 39 - 43
- 2) 23 - 27
- 3) 31 - 35
- 4) 35 - 37

Correct Answer: 35 - 37

Candidate Answer: 35 - 37

QID : 31 - In the following question, select the odd letter/letters from the given alternatives.

निम्नलिखित प्रश्न में दिए गए विकल्पों में से विषम अक्षर/अक्षरों को चुनिए।

Options:

- 1) GJMP
- 2) HKNR
- 3) PSVY
- 4) NQTW

Correct Answer: HKNR

Candidate Answer: HKNR

QID : 32 - Arrange the given words in the sequence in which they occur in the dictionary.

1. Telephone
2. Teleworker
3. Tendency
4. Temperature
5. Themselves

निम्नलिखित शब्दों को शब्दकोश में आने वाले क्रम के अनुसार लिखें।

1. Telephone
2. Teleworker
3. Tendency
4. Temperature
5. Themselves

Options:

- 1) 34521
- 2) 42153
- 3) 52314
- 4) 12435

Correct Answer: 12435

Candidate Answer: 12435

QID : 33 - In the following question, select the missing number from the given series.

4, 5, 8, 9, 12, 13, ?

निम्नलिखित प्रश्न में दिए गए विकल्पों में से लुप्त अंक ज्ञात कीजिए।

4, 5, 8, 9, 12, 13, ?

Options:

- 1) 14
- 2) 16
- 3) 15
- 4) 20

Correct Answer: 16

Candidate Answer: 16

QID : 34 - A series is given with one term missing. Select the correct alternative from the given ones that will complete the series.

EGL, DFK, CEJ, ?, ACH

एक अनुक्रम दिया गया है, जिसमें से एक पद लुप्त है। दिए गए विकल्पों में से वह सही विकल्प चुनिए, जो अनुक्रम को पूरा करे।

EGL, DFK, CEJ, ?, ACH

Options:

- 1) BFJ
- 2) CDF
- 3) HDI
- 4) BDI

Correct Answer: BDI

Candidate Answer: BDI

QID : 35 - Weight of Alok is twice the weight of Karan. Weight of Karan is one-fourth of the weight of Roma. Weight of Roma is twice of the weight of Tipu. Weight of Tipu is twice of the weight of Shivam. The weight of Roma is greater than the weight of how many persons among Alok, Karan, Shivam and Tipu?

आलोक का भार करन के भार का दोगुना है। करन का भार रोमा के भार का एक-चौथाई है। रोमा का भार टीपू के भार का दोगुना है। टीपू का भार शिवम के भार का दोगुना है। रोमा का भार, आलोक, करन, शिवम तथा टीपू में से कितने व्यक्तियों के भार से अधिक है?

Options:

- 1) 3
- 2) 4
- 3) 0
- 4) 2

Correct Answer: 4

Candidate Answer: 4

QID : 36 - From the given alternatives, select the word which **CANNOT** be formed using the letters of the given word.

Compatible

दिए गए विकल्पों में से वह शब्द चुनिए जो दिए गए शब्द के अक्षरों का प्रयोग करके नहीं बनाया जा सकता है।

Compatible

Options:

- 1) Come
- 2) Pat
- 3) Time
- 4) Most

Correct Answer: Most

Candidate Answer: Most

QID : 37 - In a certain code language, "WARD" is written as "44" and "LOAD" is written as "30". How is "BRIT" written in that code language?

एक विशिष्ट कोड भाषा में, "WARD" को "44" लिखा जाता है तथा "LOAD" को "30" लिखा जाता है। इस कोड भाषा में "BRIT" को किस प्रकार लिखा जाएगा?

Options:

- 1) 49
- 2) 47
- 3) 48
- 4) 50

Correct Answer: 47

Candidate Answer: 47

QID : 38 - In a certain code language, 'x' represents '+', '+' represents 'x', 'x' represents '-' and '-' represents 'x'. Find out the answer to the following question.

$$12 - 2 + 6 \times 20 \div 18 = ?$$

किसी निश्चित कोड भाषा में 'x', '+' को प्रदर्शित करता है, '-' को प्रदर्शित करता है, 'x' को प्रदर्शित करता है और '-' को प्रदर्शित करता है। निम्नलिखित प्रश्न का उत्तर ज्ञात करें।

$$12 - 2 + 6 \times 20 \div 18 = ?$$

Options:

- 1) 50
- 2) 2
- 3) 19
- 4) 43

Correct Answer: 2

Candidate Answer: 2

QID : 39 - The following equation is incorrect. Which two signs should be interchanged to correct the equation?

$$18 \div 2 - 25 \times 9 + 6 = 38$$

निम्नलिखित समीकरण गलत है। इस समीकरण को सही करने के लिए किन दो चिन्हों को आपस में अदला-बदली करना चाहिए?

$$18 \div 2 - 25 \times 9 + 6 = 38$$

Options:

- 1) + and x
+ और x
- 2) + and ÷
+ और ÷
- 3) - and +
- और +
- 4) ÷ and x
÷ और x

Correct Answer: + and x

+ और x

Candidate Answer: + and x

+ और x

QID : 40 - If $18a^{12} = 3$, $2a^{14} = -6$ and $4a^4 = 0$, then find the value of $2a^{16} = ?$

यदि $18a^{12} = 3$, $2a^{14} = -6$ और $4a^4 = 0$, तो $2a^{16} = ?$ का मान ज्ञात करें।

Options:

- 1) -7
- 2) 8
- 3) 10
- 4) -1

Correct Answer: -7

Candidate Answer: -7

QID : 41 - Which of the following terms follows the trend of the given list?

PQPPPPQ, PPQPPPPQ, PPPQPPQ, PPPPQPQ, PQQPPPPQ, _____.

निम्नलिखित में से कौन सा पद दी गयी सूची के क्रम के अनुसार है?

PQPPPPQ, PPQPPPPQ, PPPQPPQ, PPPPQPQ, PQQPPPPQ, _____.

Options:

- 1) QPPPPPPQ
- 2) PQQPPPPQ
- 3) PPQPPPPQ
- 4) PQQPPPPQ

Correct Answer: PQQPPPPQ

Candidate Answer: PQQPPPPQ

QID : 42 - A woman is shopping in a plaza. She walks 80 m South, then she turns East and walks 50 m, then she turns North and walks 110 m, then she turns to her left and walks 50 m. Where is she now with reference to her starting position?

एक महिला एक चौक में खरीदारी कर रही है। वह दक्षिण की तरफ 80 मी. तक चलती है, फिर वह पूर्व की तरफ मुड़ जाती है और 50 मी. की दूरी तक चलती है, फिर वह उत्तर की तरफ मुड़ती है और 110 मी. की दूरी तक चलती है, फिर वह अपनी बाईं ओर मुड़ जाती है और 50 मी. की दूरी तक चलती है। वह अब अपनी प्रारंभिक स्थिति के संदर्भ में कहाँ है?

Options:

- 1) 30 m North
30 मी. उत्तर
- 2) 190 m North
190 मी. उत्तर
- 3) 30 m South
30 मी. दक्षिण
- 4) 190 m South
190 मी. दक्षिण

Correct Answer: 30 m North
30 मी. उत्तर

Candidate Answer: 30 m North
30 मी. उत्तर

QID : 43 - In the question two statements are given, followed by two conclusions, I and II. You have to consider the statements to be true even if it seems to be at variance from commonly known facts. You have to decide which of the given conclusions, if any, follows from the given statements.

Statement I: Some flipflops are slippers

Statement II: Some footwear are flipflops

Conclusion I: All slippers are footwear

Conclusion II: All footwear are slippers

प्रश्न में दो कथन दिये गये हैं जिसके आगे दो निष्कर्ष I और II निकाले गये हैं। आपको मानना है कि दोनों कथन सत्य है चाहे वह सामान्यतः ज्ञात तथ्यों से भिन्न प्रतीत होते हों। आपको निर्णय करना है की दिए गए निष्कर्षों में से कौन-सा/कौन-से निश्चित रूप से कथन द्वारा सही निकाला जा सकता है/सकते हैं, यदि कोई हो।

कथन I: कुछ फ्लिप फ्लॉप चप्पलें होती हैं

कथन II: कुछ जूते फ्लिप फ्लॉप होते हैं

निष्कर्ष I: सभी चप्पलें जूते होती हैं

निष्कर्ष II: सभी जूते चप्पलें होती हैं

Options:

- 1) Only conclusion I follows
केवल निष्कर्ष I सही है
- 2) Only conclusion II follows
केवल निष्कर्ष II सही है
- 3) Both conclusions I and II follow
दोनों निष्कर्ष I और II सही है
- 4) Neither conclusion I nor conclusion II follows
ना तो निष्कर्ष I सही है ना ही निष्कर्ष II

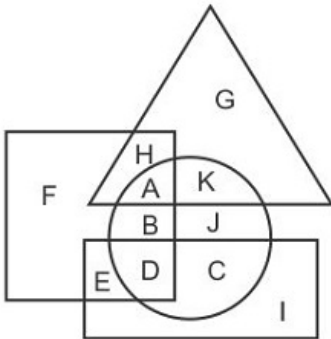
Correct Answer: Neither conclusion I nor conclusion II follows
ना तो निष्कर्ष I सही है ना ही निष्कर्ष II

Candidate Answer: Neither conclusion I nor conclusion II follows
ना तो निष्कर्ष I सही है ना ही निष्कर्ष II

QID : 44 -

In the following figure, rectangle represents Technicians, circle represents Bakers, triangle represents Playwrights and square represents Gymnasts. Which set of letters represents Technicians who are Bakers?

निम्नलिखित आकृति में, आयत तकनीशियनों को प्रदर्शित करता है, वृत्त बेकर्स को प्रदर्शित करता है, त्रिभुज प्लेराइट्स को प्रदर्शित करता है और वर्ग जिमनास्ट को प्रदर्शित करता है। अक्षरों का कौन सा समूह उन तकनीशियनों को प्रदर्शित करता है जो बेकर्स भी है?



Options:

- 1) BJ
- 2) DC
- 3) AK
- 4) BD

Correct Answer: DC

Candidate Answer: DC

QID : 45 - A series is given with one term missing. Select the correct alternative from the given ones that will complete the series.

HTC, LXG, PBK, TFO, ?

एक अनुक्रम दिया गया है, जिसमें से एक पद लुप्त है। दिए गए विकल्पों में से वह सही विकल्प चुनिए, जो अनुक्रम को पूरा करे।

HTC, LXG, PBK, TFO, ?

Options:

- 1) YKR
- 2) ZLU
- 3) WIR
- 4) XJS

Correct Answer: XJS

Candidate Answer: XJS

QID : 46 - In the following question, select the missing number from the given series.

2, 4, 6, 8, ?, 12

निम्नलिखित प्रश्न में दिए गए विकल्पों में से लुप्त अंक ज्ञात कीजिए।

2, 4, 6, 8, ?, 12

Options:

- 1) 12
- 2) 10
- 3) 9
- 4) 11

Correct Answer: 10

Candidate Answer: 10

QID : 47 - In the following question, four groups of three numbers are given. In each group the second and third number are related to the first number by a Logic/Rule/Relation. Three are similar on basis of same Logic/Rule/Relation. Select the odd one out from the given alternatives.

नीचे दिए गए प्रश्न में, तीन संख्याओं के चार समूह दिए गए हैं। प्रत्येक समूह में दूसरी तथा तीसरी संख्या पहली संख्या से किसी एक तर्क/नियम से सम्बंधित है। तीन उसी एक तर्क/नियम के आधार पर समान हैं। दिए गए विकल्पों में से भिन्न को चुनिए।

Options:

- 1) (11, 13, 15)
- 2) (16, 18, 20)
- 3) (13, 15, 18)
- 4) (22, 24, 26)

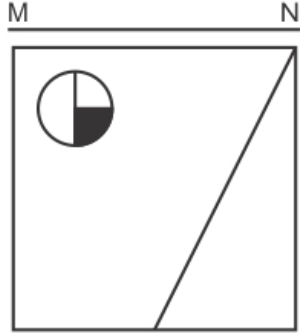
Correct Answer: (13, 15, 18)

Candidate Answer: (13, 15, 18)

QID : 48 -

If a mirror is placed on the line MN, then which of the answer figures is the right image of the given figure?

यदि एक दर्पण को MN रेखा पर रखा जाए तो दी गयी उत्तर आकृतियों में से कौन-सी आकृति प्रश्न आकृति का सही प्रतिबिम्ब होगी?



Options:

1)



2)



3)



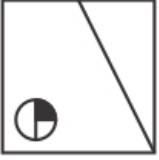
4)



Correct Answer:



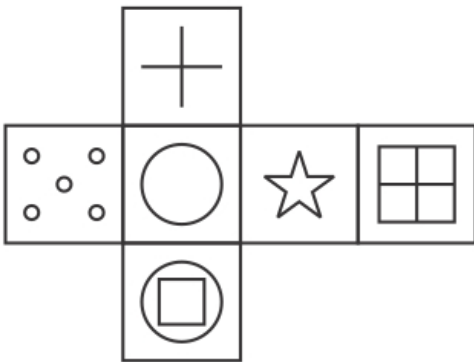
Candidate Answer:



QID : 49 -

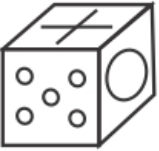
Which of the following cube in the answer figure cannot be made based on the unfolded cube in the question figure?

निम्नलिखित उत्तर आकृति में से कौन सा घन दिए गए प्रश्न आकृति में से खुले घन से बनाया नहीं जा सकता?



Options:

1)



2)



3)



4)



Correct Answer:



Candidate Answer:



QID : 50 -

A word is represented by only one set of numbers as given in any one of the alternatives. The sets of numbers given in the alternatives are represented by two classes of alphabets as shown in the given two matrices. The columns and rows of Matrix-I are numbered from 0 to 4 and that of Matrix-II are numbered from 5 to 9. A letter from these matrices can be represented first by its row and next by its column, for example 'F' can be represented by 12, 43 etc and 'Z' can be represented by 87, 98 etc. Similarly, you have to identify the set for the word 'SOCK'.

एक शब्द केवल एक संख्या-समूह द्वारा दर्शाया गया है, जैसा कि विकल्पों में से किसी एक में दिया गया है। विकल्पों में दिए गए संख्या-समूह अक्षरों के दो वर्गों द्वारा दर्शाए गए हैं, जैसा कि दिए गए दो आव्यूहों में है। आव्यूह-I के स्तम्भ और पंक्ति की संख्या 0 से 4 और आव्यूह-II की 5 से 9 है। इन आव्यूहों से एक अक्षर को पहले उसकी पंक्ति और बाद में स्तम्भ संख्या द्वारा दर्शाया जा सकता है। उदहारण के लिए 'F' को 12, 43 आदि द्वारा दर्शाया जा सकता है तथा 'Z' को 87, 98 आदि द्वारा दर्शाया जा सकता है। इसी तरह से आपको प्रश्न में दिए शब्द 'SOCK' के लिए समूह को पहचानना है।

Matrix I आव्यूह - I					
	0	1	2	3	4
0	A	E	E	G	H
1	I	A	F	M	D
2	E	M	A	E	H
3	I	A	C	H	B
4	D	K	H	F	E

Matrix II आव्यूह - II					
	5	6	7	8	9
5	Z	P	P	Q	S
6	V	U	S	R	N
7	U	U	N	V	X
8	N	O	Z	V	T
9	R	W	W	Z	N

Options:

- 1) 14,56,10,56
- 2) 67,86,32,41
- 3) 42,59,14,78
- 4) 21,68,22,57

Correct Answer: 67,86,32,41

Candidate Answer: 67,86,32,41

QID : 51 - Find the number that is as much greater than 39 as is less than 79.

वह नंबर ज्ञात करें जो 39 से जितना अधिक है, उतना ही 79 से कम है।

Options:

- 1) 42
- 2) 49
- 3) 55
- 4) 59

Correct Answer: 59

Candidate Answer: 59

QID : 52 - If $(1 / 3.197) = 0.3127$, find the value of $(1 / 0.0003197)$.

यदि $(1 / 3.197) = 0.3127$, तो $(1 / 0.0003197)$ का मान ज्ञात करें।

Options:

- 1) 3127
- 2) 3197
- 3) 312.7
- 4) 0.3127

Correct Answer: 3127

Candidate Answer: 312.7

QID : 53 - The two lines $4x+3y=0$ and $7x+5y=0$ will _____ in their graphical representation.

दो रेखाएँ $4x + 3y = 0$ और $7x + 5y = 0$ उनके चित्रात्मक निरूपण में _____ ।

Options:

- 1) be parallel to each other
एक दूसरे के समानांतर होंगी
- 2) intersect each other at one point only
एक दूसरे को केवल एक बिंदु पर काटेंगी
- 3) intersect each other at three points only
केवल तीन बिंदुओं पर एक दूसरे को काटेंगी
- 4) coincide each other
एक दूसरे पर मेल खायेंगी

Correct Answer: intersect each other at one point only

एक दूसरे को केवल एक बिंदु पर काटेंगी

Candidate Answer: intersect each other at one point only

एक दूसरे को केवल एक बिंदु पर काटेंगी

QID : 54 - If the two lines $px + 6y+3=0$ and $2x + qy+3=0$ have infinite solutions then find the value of p and q respectively.

यदि दो रेखाएँ $px + 6y + 3 = 0$ और $2x + qy + 3 = 0$ के पास अनंत समाधान हैं तो क्रमशः p और q का मान क्या होगा?

Options:

- 1) 2,6
- 2) 6,2
- 3) 2,2
- 4) 6,6

Correct Answer: 2,6

Candidate Answer: 2,6

QID : 55 - Which of the following triangle has the maximum area when inscribed inside the circle of same radius?

निम्न में से कौनसे त्रिभुज का क्षेत्रफल सबसे अधिक होगा, अगर समान त्रिज्या के वृत्त के अन्दर उनको बनाया जाए?

Options:

- 1) Scalene
विषमभुज
- 2) Isosceles
समद्विबाहु
- 3) Equilateral
समबाहु
- 4) Right angled
समकोण

Correct Answer: Equilateral

समबाहु

Candidate Answer: Equilateral

समबाहु

QID : 56 - Which of the following ratio correctly depicts the division of each median of the triangle by the centroid?

निम्नलिखित अनुपात में से कौन सा केन्द्रक द्वारा त्रिभुज के प्रत्येक माधिका विभाजन को दर्शाता है?

Options:

- 1) 1:2
- 2) 1:3
- 3) 2:1
- 4) 3:1

Correct Answer: 2:1

Candidate Answer: 2:1

QID : 57 - If A is 40% more than B, then B is how much percent less than A?

यदि A, B से 40% अधिक है, तो B, A से कितना प्रतिशत कम है?

Options:

- 1) 28.57
- 2) 40
- 3) 33.33
- 4) 66.66

Correct Answer: 28.57

Candidate Answer: 28.57

QID : 58 - If $(4/5)A = 3B = (2/3)C$, then what is A : B : C?

यदि $(4/5)A = 3B = (2/3)C$ हैं, तो A : B : C क्या हैं?

Options:

- 1) 12 : 3 : 16
- 2) 12 : 45 : 10
- 3) 15 : 4 : 18
- 4) 9 : 12 : 16

Correct Answer: 15 : 4 : 18

Candidate Answer: 15 : 4 : 18

QID : 59 - A mixture of alcohol and water contains 7% alcohol. How much mixture (in litres) is required to get 357 litres of alcohol?

अल्कोहॉल तथा जल के एक मिश्रण में, 7% अल्कोहॉल है। 357 लीटर अल्कोहॉल प्राप्त करने के लिए कितने मिश्रण (लीटर में) की आवश्यकता है?

Options:

- 1) 6300
- 2) 4200
- 3) 4900
- 4) 5100

Correct Answer: 5100

Candidate Answer: 5100

QID : 60 - What is the average of 36, 43, 51, 68, and 77?

36, 43, 51, 68 तथा 77 का औसत क्या है?

Options:

- 1) 47
- 2) 49
- 3) 55
- 4) 64

Correct Answer: 55

Candidate Answer: 55

QID : 61 - A sum of money becomes $77/50$ of itself in $18/5$ years when invested at simple interest. What is the rate (in percentage) of interest per annum?

एक राशि साधारण ब्याज से निवेश करने पर $18/5$ वर्ष में स्वयं की $77/50$ गुना हो जाती है। ब्याज की वार्षिक दर (प्रतिशत में) क्या है?

Options:

- 1) 20
- 2) 18
- 3) 12
- 4) 15

Correct Answer: 15

Candidate Answer: 15

QID : 62 - The ratio of the cost price and selling price of a bulb is 15 : 18. What is the profit percentage?

एक बल्ब के क्रय मूल्य तथा विक्रय मूल्य का अनुपात 15 : 18 है। लाभ प्रतिशत क्या है?

Options:

- 1) 16.66
- 2) 14.28
- 3) 20
- 4) 22

Correct Answer: 20

Candidate Answer: 20

QID : 63 - A shopkeeper offers the following 3 schemes. Which scheme has the maximum discount percentage?

- I. Two successive discount of 20% and 25%
- II. Buy 5 get 3 free
- III. Buy 5 get 6

एक दुकानदार निम्नलिखित 3 योजनाओं का प्रस्ताव देता है। कौन सी योजना में अधिकतम छूट प्रतिशत है?

- I. 20% तथा 25% की दो क्रमिक छूट
- II. 5 खरीदें 3 मुफ्त पाएँ
- III. 5 खरीदें 6 पाएँ

Options:

- 1) Only II
केवल II
- 2) Only I
केवल I
- 3) Only I and II
केवल I तथा II
- 4) Only I and III
केवल I तथा III

Correct Answer: Only I
केवल I

Candidate Answer: Only I
केवल I

QID : 64 -

If $9^x = \sqrt[3]{243}$, then what is the value of x ?

यदि $9^x = \sqrt[3]{243}$ है, तो x का मान क्या है?

Options:

- 1) 5/11
- 2) 5/22
- 3) 5/7
- 4) 5/33

Correct Answer: 5/22

Candidate Answer: 5/33

QID : 65 - M can complete $3/4$ part of a work in 12 days and N can complete $2/7$ part of the same work in 8 days. In how many days will both complete $11/14$ part of the total work?

M एक कार्य का $3/4$ भाग 12 दिन में कर सकता है तथा N उसी कार्य का $2/7$ भाग 8 दिन में कर सकता है। दोनों मिलकर पूरे कार्य का $11/14$ भाग कितने दिन में करेंगे?

Options:

- 1) 8
- 2) 9
- 3) 7
- 4) 6

Correct Answer: 8

Candidate Answer: 8

QID : 66 - A train starts moving from a place X at 7:00 a.m. and arrives at another place Y at 1:00 p.m. on the same day. If the speed of the train is 15 m/s, then what will be the distance (in km) covered by the train?

एक रेलगाड़ी एक स्थान X से 7:00 बजे पूर्वाह्न (ए.एम.) चलना आरंभ करती है तथा दूसरे स्थान Y पर, उसी दिन 1:00 बजे अपराह्न (पी.एम.) पहुँचती है। यदि रेलगाड़ी की गति 15 मी./से. है, तो रेलगाड़ी द्वारा तय की गई दूरी (कि.मी. में) क्या होगी?

Options:

- 1) 324
- 2) 375
- 3) 390
- 4) 245

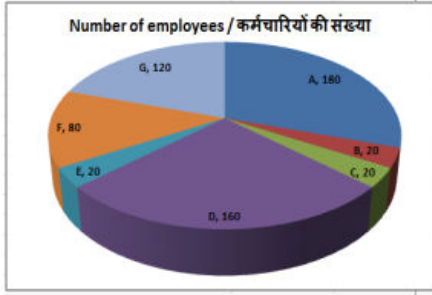
Correct Answer: 324

Candidate Answer: 324

QID : 67 -

The HR department of an MNC prepared a report. The pie chart from this report shows number of employees the MNC has in different countries. Study the diagram and answer the following questions.

एक बहुराष्ट्रीय कंपनी के मानव संसाधन विभाग ने एक रिपोर्ट तैयार की। इस रिपोर्ट का यह पाइ चार्ट विभिन्न देशों की बहुराष्ट्रीय कंपनी के कर्मचारियों की संख्या को दर्शाता है। इस आरेख का अध्ययन करें और निम्नलिखित प्रश्नों के उत्तर दें।



The most number of employees are from which country?

किस देश से सबसे ज्यादा कर्मचारियों की संख्या हैं?

Options:

- 1) F
- 2) C
- 3) D
- 4) A

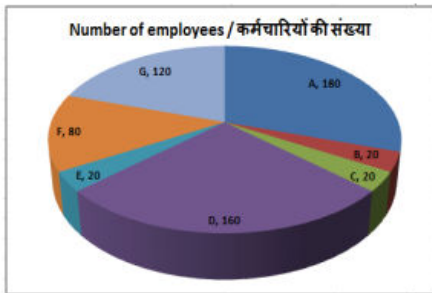
Correct Answer: A

Candidate Answer: A

QID : 68 -

The HR department of an MNC prepared a report. The pie chart from this report shows number of employees the MNC has in different countries. Study the diagram and answer the following questions.

एक बहुराष्ट्रीय कंपनी के मानव संसाधन विभाग ने एक रिपोर्ट तैयार की। इस रिपोर्ट का यह पाइ चार्ट विभिन्न देशों की बहुराष्ट्रीय कंपनी के कर्मचारियों की संख्या को दर्शाता है। इस आरेख का अध्ययन करें और निम्नलिखित प्रश्नों के उत्तर दें।



What is the total number of employees of the MNC?

इस बहुराष्ट्रीय कंपनी के कर्मचारियों की कुल संख्या क्या है?

Options:

- 1) 400
- 2) 600
- 3) 500
- 4) 300

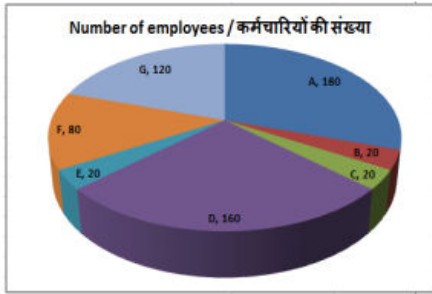
Correct Answer: 600

Candidate Answer: 600

QID : 69 -

The HR department of an MNC prepared a report. The pie chart from this report shows number of employees the MNC has in different countries. Study the diagram and answer the following questions.

एक बहुराष्ट्रीय कंपनी के मानव संसाधन विभाग ने एक रिपोर्ट तैयार की। इस रिपोर्ट का यह पाइ चार्ट विभिन्न देशों की बहुराष्ट्रीय कंपनी के कर्मचारियों की संख्या को दर्शाता है। इस आरेख का अध्ययन करें और निम्नलिखित प्रश्नों के उत्तर दें।



The measure of the central angle of the sector representing country F is _____ degrees.

देश F का प्रतिनिधित्व करने वाले क्षेत्र के केंद्रीय कोण का माप _____ डिग्री है।

Options:

- 1) 48
- 2) 80
- 3) 60
- 4) 56

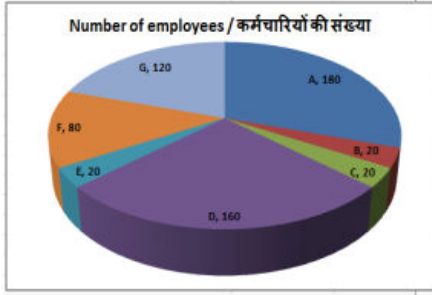
Correct Answer: 48

Candidate Answer: 48

QID : 70 -

The HR department of an MNC prepared a report. The pie chart from this report shows number of employees the MNC has in different countries. Study the diagram and answer the following questions.

एक बहुराष्ट्रीय कंपनी के मानव संसाधन विभाग ने एक रिपोर्ट तैयार की। इस रिपोर्ट का यह पाइ चार्ट विभिन्न देशों की बहुराष्ट्रीय कंपनी के कर्मचारियों की संख्या को दर्शाता है। इस आरेख का अध्ययन करें और निम्नलिखित प्रश्नों के उत्तर दें।



If the average monthly salary of the employees of this MNC is \$6000 then what is the total of the salaries (in \$ millions) paid to all the employees of this MNC?

यदि इस बहुराष्ट्रीय कंपनी के कर्मचारियों का औसत मासिक वेतन 6000 डॉलर है, तो इस बहुराष्ट्रीय कंपनी के सभी कर्मचारियों को दिए जाने वाले वेतन (दस लाख डॉलर में) की कुल राशि क्या है?

Options:

- 1) 36
- 2) 1.8
- 3) 3.6
- 4) 18

Correct Answer: 3.6

Candidate Answer: 3.6

QID : 71 - If the lengths of the two parallel sides of a trapezium are 8 cm and 10 cm and its area is 54 cm^2 . Find the distance between its parallel sides (in cm).

यदि एक समलम्ब चतुर्भुज के दो समानांतर भुजाओं की लंबाई 8 सेंटीमीटर और 10 सेंटीमीटर है और इसका क्षेत्रफल 54 वर्ग सेंटीमीटर है। इसके समानांतर भुजाओं के बीच की दूरी (सेंटीमीटर में) ज्ञात करें।

Options:

- 1) 6
- 2) 3
- 3) 12
- 4) 9

Correct Answer: 6

Candidate Answer: 6

QID : 72 - If the circumference of a circle is 22 cm, then what must be its area (in cm^2)?

यदि किसी वृत्त की परिधि 22 सेंटीमीटर है, तो उसका क्षेत्रफल (वर्ग सेंटीमीटर में) क्या होना चाहिए?

Options:

- 1) 77
- 2) 38.5
- 3) 31.5
- 4) 63

Correct Answer: 38.5

Candidate Answer: 38.5

QID : 73 - The total surface area of a cube is 337.5 cm^2 . Find its side (in cm).

एक घन के सतह का कुल क्षेत्रफल $337.5 \text{ वर्ग सेंटीमीटर}$ है। इसकी भुजा (सेंटीमीटर में) ज्ञात करें।

Options:

- 1) 8.5
- 2) 6.5
- 3) 5.5
- 4) 7.5

Correct Answer: 7.5

Candidate Answer: 7.5

QID : 74 - ΔPQR is right angled at Q. If $m\angle R = 45^\circ$, then find the value of $(\tan P - 1/2)$.

ΔPQR में Q पर समकोण है। यदि $m\angle R = 45^\circ$ है, तो $(\tan P - 1/2)$ का मान ज्ञात करें।

Options:

- 1) $(2-\sqrt{3})/\sqrt{3}$
- 2) $(2\sqrt{3}-\sqrt{6})/2\sqrt{2}$
- 3) $1/2$
- 4) $(\sqrt{6}-6)/3\sqrt{3}$

Correct Answer: 1/2

Candidate Answer: 1/2

QID : 75 - ΔDEF is right angled at E. If $\sec D = 25/7$, then what is the value of $\operatorname{cosec} F$?

ΔDEF में E पर समकोण है। यदि $\sec D = 25/7$, तो $\operatorname{cosec} F$ का मान क्या है?

Options:

- 1) $7/25$
- 2) $24/7$
- 3) $25/7$
- 4) $7/24$

Correct Answer: 25/7

Candidate Answer: 25/7

QID : 76 - Which one among the following administers the International Development Association (IDA)?

निम्नलिखित में से कौन अंतर्राष्ट्रीय विकास संगठन (IDA) का संचालन करता है?

Options:

- 1) UNDP
यूएनडीपी
- 2) UNIDO
यूएनआईडीओ
- 3) IFAD
आईएफएडी
- 4) IBRD
आईबीआरडी

Correct Answer: IBRD

आईबीआरडी

Candidate Answer: UNDP

यूएनडीपी

QID : 77 - Who decides the Minimum Support Price (MSP) for agricultural crops in India?

भारत में कृषि फसलों के लिए न्यूनतम समर्थन मूल्य (MSP) का निर्णय कौन करता है?

Options:

- 1) Ministry of Agriculture
कृषि मंत्रालय
- 2) NABARD
नाबार्ड
- 3) Commission on Agriculture Cost and Price (CACP)
कृषि लागत और मूल्य आयोग (सीएसीपी)
- 4) Ministry of Commerce
वाणिज्य मंत्रालय

Correct Answer: Commission on Agriculture Cost and Price (CACP)

कृषि लागत और मूल्य आयोग (सीएसीपी)

Candidate Answer: Commission on Agriculture Cost and Price (CACP)

कृषि लागत और मूल्य आयोग (सीएसीपी)

QID : 78 - Pidurutalagala or Mount Pedro is the highest mountain peak of which of the following countries?

पिडरूतागाला या माउंट पेद्रो निम्नलिखित में से किस देश का सर्वोच्च पर्वत शिखर है?

Options:

- 1) South Africa
दक्षिण अफ्रीका
- 2) Panama
पनामा
- 3) Sri Lanka
श्रीलंका
- 4) Cambodia
कम्बोडिया

Correct Answer: Sri Lanka

श्रीलंका

Candidate Answer: Sri Lanka

श्रीलंका

QID : 79 - Which of the following rivers flows from south to north?

निम्नलिखित में से कौन-सी नदी दक्षिण से उत्तर की ओर प्रवाहित होती है?

Options:

- 1) Godavari
गोदावरी
- 2) Cauvery
कावेरी
- 3) Krishna
कृष्णा
- 4) Betwa
बेतवा

Correct Answer: Betwa
बेतवा

Candidate Answer: Cauvery
कावेरी

QID : 80 - Sikhism was founded in which of the following centuries?

सिख धर्म को निम्नलिखित में किस शताब्दी में स्थापित किया गया था?

Options:

- 1) 13-14th century
13-14वीं शताब्दी
- 2) 11-12th century
11-12वीं शताब्दी
- 3) 15-16th century
15-16वीं शताब्दी
- 4) 12-13th century
12-13वीं शताब्दी

Correct Answer: 15-16th century
15-16वीं शताब्दी

Candidate Answer: 13-14th century
13-14वीं शताब्दी

QID : 81 - For the first time in Gujarat, who implemented Jizya tax?

गुजरात राज्य में पहली बार जजिया कर लागू करने वाला शासक कौन था?

Options:

- 1) Ahmed Shah I
अहमदशाह प्रथम
- 2) Mahmud Begda
महमूद बेगड़ा
- 3) Mujaffarshah I
मुजफ्फरशाह प्रथम
- 4) Mujaffarshah II
मुजफ्फरशाह द्वितीय

Correct Answer: Ahmed Shah I
अहमदशाह प्रथम

Candidate Answer: Ahmed Shah I
अहमदशाह प्रथम

QID : 82 - Who of the following Indian vocalist and musician established the Academy of Performing Arts and Research in Switzerland?

निम्नलिखित में किस भारतीय गायक और संगीतकार ने स्विट्जरलैंड में एकेडमी ऑफ परफॉर्मिंग आर्ट्स एंड रिसर्च की स्थापना की?

Options:

- 1) Balamuralikrishna
बालमुरलीकृष्ण
- 2) K.J. Yesudas
के.जे. यसुदास
- 3) Pandit Kumar Gandharva
पंडित कुमार गन्धर्व
- 4) Pandit Ravi Shankar
पंडित रवि शंकर

Correct Answer: Balamuralikrishna
बालमुरलीकृष्ण

Candidate Answer: K.J. Yesudas
के.जे. यसुदास

QID : 83 - India and which country, on 25 October, 2017, agreed to implement helicopter operations from ships to strengthen maritime security?

भारत और किस देश ने नौवहन सुरक्षा को दृढ़ बनाने के लिए जहाजों से हेलीकॉप्टर कार्रवाई करने पर 25 अक्टूबर, 2017 को सहमत हुए हैं?

Options:

- 1) USA
यूएसए
- 2) Somalia
सोमालिया
- 3) Japan
जापान
- 4) Germany
जर्मनी

Correct Answer: USA

यूएसए

Candidate Answer: Japan

जापान

QID : 84 - The Chief Minister of which state was, in October 2017, honoured with the Golden Peacock Award under the category 'Global Leadership in Public Service and Economic Transformation'?

अक्टूबर 2017 में किस राज्य के मुख्यमंत्री को लोक सेवा एवं आर्थिक बदलाव के वैश्विक नेतृत्व की श्रेणी में गोल्डेन पीकाॅक पुरस्कार से सम्मानित किया गया था?

Options:

- 1) Bihar
बिहार
- 2) West Bengal
पश्चिम बंगाल
- 3) Telangana
तेलंगाना
- 4) Andhara Pradesh
आंध्रप्रदेश

Correct Answer: Andhara Pradesh

आंध्रप्रदेश

Candidate Answer: Andhara Pradesh

आंध्रप्रदेश

QID : 85 - Which of the following is the largest city of Myanmar?

म्यांमार का सबसे बड़ा शहर निम्नलिखित में से कौन-सा है?

Options:

- 1) Yangon
यांगून
- 2) Mandalay
मांडले
- 3) Mawlamyine
मावलमयने
- 4) Naypyidaw
नेपिडाॅ

Correct Answer: Yangon

यांगून

Candidate Answer: Yangon

यांगून

QID : 86 - Valency of an element depends on which of the following?

- I. Number of losing electron
- II. Number of gaining electron
- III. Number of sharing electron

किसी तत्व की संयोजकता निम्नलिखित में से किस पर निर्भर करती है?

- I. त्यागे जाने वाले इलेक्ट्रॉनों की संख्या पर
- II. ग्रहण किए जाने वाले इलेक्ट्रॉनों की संख्या पर
- III. साझा किए जाने वाले इलेक्ट्रॉनों की संख्या पर

Options:

- 1) Only I and II
केवल I तथा II
- 2) Only I and III
केवल I तथा III
- 3) Only II and III
केवल II तथा III
- 4) All I, II and III
सभी I, II तथा III

Correct Answer: All I, II and III

सभी I, II तथा III

Candidate Answer: Only I and III

केवल I तथा III

QID : 87 - Which of the following statement(s) is/are **CORRECT**?

- I. Oils containing unsaturated fatty acids should be used for cooking.
- II Animal fats have saturated carbon chains.
- III. Saturated fatty acids are generally harmful for health.

निम्नलिखित में से कौन सा/से कथन **सही** है/हैं?

- I. भोजन में असंतृप्त वसायुक्त अम्ल वाले तेलों का उपयोग करना चाहिए।
- II. जंतु वसा में संतृप्त कार्बन श्रृंखलाएँ होती हैं।
- III. संतृप्त वसायुक्त अम्ल स्वास्थ्य के लिए हानिकारक होता होते हैं।

Options:

- 1) Only I and II
केवल I तथा II
- 2) Only I and III
केवल I तथा III
- 3) Only II and III
केवल II तथा III
- 4) All I, II and III
I, II तथा III सभी

Correct Answer: All I, II and III

I, II तथा III सभी

Candidate Answer: Only I and III

केवल I तथा III

QID : 88 - In India, who is considered above the law of country?

भारत में, किसे देश के कानून से ऊपर माना जाता है?

Options:

- 1) President of India
भारत के राष्ट्रपति को
- 2) Prime Minister of India
भारत के प्रधानमंत्री को
- 3) A wealthy person of India
भारत के किसी धनी व्यक्ति को
- 4) No option is correct.
कोई विकल्प सही नहीं है।

Correct Answer: No option is correct.

कोई विकल्प सही नहीं है।

Candidate Answer: No option is correct.

कोई विकल्प सही नहीं है।

QID : 89 - Which among the following Article/Articles of Indian Constitution deals with Emergency provisions?

- I. Article 352
- II. Article 356
- III. Article 360

निम्नलिखित में से भारतीय संविधान का/के कौन सा/से अनुच्छेद आपातकाल से संबंधित है/हैं?

- I. अनुच्छेद 352
- II. अनुच्छेद 356
- III. अनुच्छेद 360

Options:

- 1) Only I
केवल I
- 2) Both II and III
II तथा III दोनों
- 3) Both I and II
I तथा II दोनों
- 4) All I, II and III
I, II तथा III सभी

Correct Answer: All I, II and III

I, II तथा III सभी

Candidate Answer: All I, II and III

I, II तथा III सभी

QID : 90 - The transport of soluble products of photosynthesis is called _____.

प्रकाशसंश्लेषण के विलेय उत्पादों का वहन _____ कहलाता है।

Options:

- 1) transpiration
वाष्पीत्सर्जन
- 2) translocation
स्थानांतर
- 3) transportation
परिवहन
- 4) concentration
सांद्रण

Correct Answer: translocation
स्थानांतर

Candidate Answer: translocation
स्थानांतर

QID : 91 - Which feature of the cell allows or permits the entry and exit of some materials in and out of the cell?

कोशिका का कौन सा गुण कुछ पदार्थों को कोशिका के भीतर तथा बाहर आने-जाने की अनुमति देता है?

Options:

- 1) Cytoplasm
कोशिका द्रव्य
- 2) Protoplasm
जीव-द्रव्य
- 3) Cell wall
कोशिका भित्ति
- 4) Plasma membrane
प्लाज्मा झिल्ली

Correct Answer: Plasma membrane
प्लाज्मा झिल्ली

Candidate Answer: Cell wall
कोशिका भित्ति

QID : 92 - In November 2017, Indian Government launched 'UMANG' mobile app. What does 'G' stand for in 'UMANG'?

नवम्बर 2017 में, भारतीय सरकार ने 'उमंग' मोबाइल ऐप का लोकार्पण किया। 'उमंग' (यूएमएएनजी) में 'जी' का क्या अर्थ है?

Options:

- 1) Government
गवर्नमेंट
- 2) Governance
गवर्नेंस
- 3) Group
ग्रुप
- 4) Growth
ग्रोथ

Correct Answer: Governance
गवर्नेंस

Candidate Answer: Group
ग्रुप

QID : 93 - What is the name of first solar mission of Indian Space Research Organisation set to be launch in 2019?

2019 में प्रक्षेपित होने वाले भारतीय अंतरिक्ष अनुसंधान संगठन के पहले सौर अभियान का क्या नाम है?

Options:

- 1) Halo-L1
हैलो-एल1
- 2) Aditya-L1
आदित्य-एल1
- 3) Corona-L1
कोरोना-एल1
- 4) Ravi - L1
रवि-एल1

Correct Answer: Aditya-L1
आदित्य-एल1

Candidate Answer: Corona-L1
कोरोना-एल1

QID : 94 - In October 2017, SEBI directed the stock exchanges to impose how much fine/penalty on those companies which do not comply with the minimum public shareholding norms?

अक्टूबर 2017 में, सेबी ने स्टॉक एक्सचेंजों को उन कंपनियों पर कितना दंड/जुर्माना लगाने का निर्देश दिया जो न्यूनतम सार्वजनिक शेयरधारक मानदंडों का पालन नहीं करते हैं?

Options:

- 1) Rs 5000 per day
5000 रु प्रति दिन
- 2) Rs 12,000 per day
12,000 रु प्रति दिन
- 3) Rs 15,000 per day
15,000 रु प्रति दिन
- 4) Rs 20,000 per day
20,000 रु प्रति दिन

Correct Answer: Rs 5000 per day
5000 रु प्रति दिन

Candidate Answer: Rs 12,000 per day
12,000 रु प्रति दिन

QID : 95 - In January 2018, the Companies (Amendment) Act, 2017 was notified. Few provisions in the amendment Act have important bearing on the working of the _____.

जनवरी 2018 में, कंपनियां (संशोधन) अधिनियम, 2017 को अधिसूचित किया गया था। संशोधन अधिनियम के कुछ प्रावधानों का _____ के काम पर महत्वपूर्ण असर है।

Options:

- 1) Insolvency and Bankruptcy Code (IBC), 2016
दिवाला तथा दिवालियापन संहिता (आईबीसी), 2016
- 2) NABARD (amendment) Bill, 2017
नाबार्ड (संशोधन) विधेयक, 2017
- 3) AMASR (amendment) Bill, 2017
एएमएसआर (संशोधन) विधेयक, 2017
- 4) No option is correct.
कोई विकल्प सही नहीं है।

Correct Answer: Insolvency and Bankruptcy Code (IBC), 2016
दिवाला तथा दिवालियापन संहिता (आईबीसी), 2016

Candidate Answer: AMASR (amendment) Bill, 2017
एएमएसआर (संशोधन) विधेयक, 2017

QID : 96 - Find the potential energy gained by a body of mass 25 kg, if it is raised by 5 m. (use $g = 10 \text{ m/s}^2$)

25 किलोग्राम द्रव्यमान वाली किसी वस्तु को 5 मीटर तक उठाया जाता है। इसकी स्थितिज ऊर्जा कितनी होगी? ($g = 10 \text{ मीटर/सेकंड}^2$ का उपयोग करें)

Options:

- 1) 1250
- 2) 50
- 3) 625
- 4) 25

Correct Answer: 1250

Candidate Answer: 50

QID : 97 - If the acceleration due to gravity on the surface of earth is g , then the acceleration due to gravity on the surface of a planet whose mass is same as that of earth and radius is twice as that of earth is _____.

यदि पृथ्वी की सतह पर गुरुत्वीय त्वरण g है तो ऐसा ग्रह जिसका द्रव्यमान पृथ्वी के द्रव्यमान के बराबर तथा त्रिज्या पृथ्वी की त्रिज्या से दुगुनी हो, पर गुरुत्वीय त्वरण ____ होगा।

Options:

- 1) $g/4$
- 2) $g/2$
- 3) $4g$
- 4) $2g$

Correct Answer: $g/4$

Candidate Answer: $g/4$

QID : 98 - An _____ is a sudden shaking or trembling of the earth.

पृथ्वी के अचानक कांपने या थरथराने को ____ कहते हैं।

Options:

- 1) thunderstorm
तड़ित झंझावात
- 2) cyclone
चक्रवात
- 3) earthquake
भूकंप
- 4) hurricane
हरीकेन

Correct Answer: earthquake

भूकंप

Candidate Answer: earthquake

भूकंप

QID : 99 - Which of the statements given below are correct?

- A) In 2017 Pro Kabaddi League, Suraj Desai played for Dabang Delhi.
- B) Ryu So-yeon won the Golf 2017 WGC-Dell Technologies Match Play.
- C) Ma Long won the 2017 World Table Tennis Championships Men's Singles.

निम्नलिखित में से कौन सा कथन सत्य है?

- A) 2017 की प्रो कबड्डी लीग में सूरज देसाई दबंग दिल्ली के लिए खेले।
- B) र्यु सो-येओं ने गोल्फ 2017 डब्ल्यूजीसी-डेल टेक्नोलॉजी मैच प्ले जीता।
- C) मा लॉन्ग ने की 2017 वर्ल्ड टेबल टेनिस चैम्पियनशिप का मेन्स सिंगल्स जीता।

Options:

- 1) Only A
केवल A
- 2) Only B
केवल B
- 3) Both A and C
A और C दोनों
- 4) None of these
इनमें से कोई नहीं

Correct Answer: Both A and C

A और C दोनों

Candidate Answer: Both A and C

A और C दोनों

QID : 100 - In Microsoft Word, _____ contains tools for standard tasks like saving, printing, cutting, copying, pasting etc.

माइक्रोसॉफ्ट वर्ड में, _____ मानक कार्यों के लिए टूल होते हैं यथा सेविंग, प्रिंटिंग, कटिंग, कॉपीइंग, पेस्टिंग आदि।

Options:

- 1) Standard tool bar
एनआईसी
- 2) Menu bar
मेन्यू बार
- 3) Formatting tool bar
फॉर्मेटिंग टूलबार
- 4) Status bar
स्टेटस बार

Correct Answer: Standard tool bar

एनआईसी

Candidate Answer: Status bar

स्टेटस बार