



Staff Selection Commission
(Government Of India)

QID : 401 - In the following question, some part of the sentence may have errors. Find out which part of the sentence has an error and select the appropriate option. If a sentence is free from error, select 'No Error'.

In personification, inanimate objects **(1)/** and abstract notions are spoken of **(2)/** as life and intelligent. **(3)/** No error **(4)**

Options:

- 1) 1
- 2) 2
- 3) 3
- 4) 4

Correct Answer: 3

Candidate Answer: 3

QID : 402 - In the following question, some part of the sentence may have errors. Find out which part of the sentence has an error and select the appropriate option. If a sentence is free from error, select 'No Error'.

A woodpecker hammering away at a tree experiences **(1)/** forces in to 1,400 times that of **(2)/** Earth's gravity, or 1,400 G's. **(3)/** No error **(4)**

Options:

- 1) 1
- 2) 2
- 3) 3
- 4) 4

Correct Answer: 2

Candidate Answer: 2

QID : 403 - In the following question, the sentence given with blank to be filled in with an appropriate word. Select the correct alternative out of the four and indicate it by selecting the appropriate option.

Rachel _____ to Paris to complete her course.

Options:

- 1) returning
- 2) would returned
- 3) will return
- 4) was return

Correct Answer: will return

Candidate Answer: will return

QID : 404 - In the following question, the sentence given with blank to be filled in with an appropriate word. Select the correct alternative out of the four and indicate it by selecting the appropriate option.

The Myth of Sisyphus by Camus is _____ popular.

Options:

- 1) often
- 2) sometimes
- 3) still
- 4) enough

Correct Answer: still

Candidate Answer: still

QID : 405 - In the following question, out of the given four alternatives, select the one which best expresses the meaning of the given word.

Equanimity

Options:

- 1) Anxiety
- 2) Calm
- 3) Arousal
- 4) Upset

Correct Answer: Calm

Candidate Answer: Calm

QID : 406 - In the following question, out of the given four alternatives, select the one which best expresses the meaning of the given word.

Despicable

Options:

- 1) Hateful
- 2) Disappointing
- 3) Creditable
- 4) Nonchalance

Correct Answer: Hateful

Candidate Answer: Nonchalance

QID : 407 - In the following question, out of the given four alternatives, select the one which is opposite in meaning of the given word.

Docile

Options:

- 1) Controllable
- 2) Opposing
- 3) Mild
- 4) Subservient

Correct Answer: Opposing

Candidate Answer: Opposing

QID : 408 - In the following question, out of the given four alternatives, select the one which is opposite in meaning of the given word.

Gullible

Options:

- 1) Innocent
- 2) Silly
- 3) Wise
- 4) Naive

Correct Answer: Wise

Candidate Answer: Wise

QID : 409 - Rearrange the parts of the sentence in correct order.

The seismic-reflection

P : important tool in the

Q : method is the most

R : search of petroleum reserves

Options:

- 1) RPQ
- 2) PRQ
- 3) QPR
- 4) QRP

Correct Answer: QPR

Candidate Answer: QPR

QID : 410 - A sentence has been given in Active/Passive Voice. Out of the four given alternatives, select the one which best expresses the same sentence in Passive/Active Voice.

The students will learn the equations.

Options:

- 1) The equations are learned by the students.
- 2) The equation is learn by them.
- 3) The equations will be learned by the students.
- 4) The equations by the students will be learned.

Correct Answer: The equations will be learned by the students.

Candidate Answer: The equations will be learned by the students.

QID : 411 - A sentence has been given in Direct/Indirect Speech. Out of the four given alternatives, select the one which best expresses the same sentence in Indirect/Direct Speech.

She says, "She wants to buy this dress."

Options:

- 1) She said she want to buy this dress.
- 2) She wanted to buy this dress, she said.
- 3) She said that she want to buy this dress.
- 4) She says that she wants to buy this dress.

Correct Answer: She says that she wants to buy this dress.

Candidate Answer: She says that she wants to buy this dress.

QID : 412 - In the following question, a word has been written in four different ways out of which only one is correctly spelt. Select the correctly spelt word.

Options:

- 1) Misillaneus
- 2) Miscellaneous
- 3) Micillanous
- 4) Micsellanous

Correct Answer: Miscellaneous

Candidate Answer: Miscellaneous

QID : 413 - In the following passage, some of the words have been left out. Read the passage carefully and select the correct answer for the given blank out of the four alternatives.

Autocracy and bureaucracy must perish utterly, in East and West, and, _____ order that their germs may not re-sprout in the future, they must be _____ in the minds of men. They must be proved to be less efficient _____ the Governments of Free Peoples, even in their favourite work of War, and their iron machinery--which at first brings outer _____ and success--must be shown to be less lasting and effective than the living and flexible organisations _____ democratic Peoples.

East and West, and, _____ order that their germs

Options:

- 1) in
- 2) into
- 3) on
- 4) onto

Correct Answer: in

Candidate Answer: in

QID : 414 - In the following passage, some of the words have been left out. Read the passage carefully and select the correct answer for the given blank out of the four alternatives.

Autocracy and bureaucracy must perish utterly, in East and West, and, _____ order that their germs may not re-sprout in the future, they must be _____ in the minds of men. They must be proved to be less efficient _____ the Governments of Free Peoples, even in their favourite work of War, and their iron machinery--which at first brings outer _____ and success--must be shown to be less lasting and effective than the living and flexible organisations _____ democratic Peoples.

they must be _____ in the minds of men.

Options:

- 1) discredit
- 2) discredits
- 3) discrediting
- 4) discredited

Correct Answer: discredited

Candidate Answer: discredited

QID : 415 - In the following passage, some of the words have been left out. Read the passage carefully and select the correct answer for the given blank out of the four alternatives.

Autocracy and bureaucracy must perish utterly, in East and West, and, _____ order that their germs may not re-sprout in the future, they must be _____ in the minds of men. They must be proved to be less efficient _____ the Governments of Free Peoples, even in their favourite work of War, and their iron machinery--which at first brings outer _____ and success--must be shown to be less lasting and effective than the living and flexible organisations _____ democratic Peoples.

be less efficient _____ the Governments

Options:

- 1) then
- 2) with
- 3) than
- 4) by

Correct Answer: than

Candidate Answer: by

QID : 416 - In the following passage, some of the words have been left out. Read the passage carefully and select the correct answer for the given blank out of the four alternatives.

Autocracy and bureaucracy must perish utterly, in East and West, and, _____ order that their germs may not re-sprout in the future, they must be _____ in the minds of men. They must be proved to be less efficient _____ the Governments of Free Peoples, even in their favourite work of War, and their iron machinery--which at first brings outer _____ and success--must be shown to be less lasting and effective than the living and flexible organisations _____ democratic Peoples.

first brings outer _____ and success

Options:

- 1) prosperous
- 2) prosperity
- 3) prosper
- 4) prospered

Correct Answer: prosperity**Candidate Answer:** prosperity

QID : 417 - In the following passage, some of the words have been left out. Read the passage carefully and select the correct answer for the given blank out of the four alternatives.

Autocracy and bureaucracy must perish utterly, in East and West, and, _____ order that their germs may not re-sprout in the future, they must be _____ in the minds of men. They must be proved to be less efficient _____ the Governments of Free Peoples, even in their favourite work of War, and their iron machinery--which at first brings out _____ and success--must be shown to be less lasting and effective than the living and flexible organisations _____ democratic Peoples.

flexible organisations _____ democratic Peoples.

Options:

- 1) of
- 2) for
- 3) from
- 4) off

Correct Answer: of**Candidate Answer:** of

QID : 418 - In the following question, out of the four alternatives, select the alternative which best expresses the meaning of the idiom/phrase.

It's not rocket science**Options:**

- 1) A task so difficult that it has a slim chance of success.
- 2) Speak in jargon that is not understandable by laymen.
- 3) Used to say that you do not think that something is very difficult to do or to understand.
- 4) Refuse something that someone wants on a false pretext.

Correct Answer: Used to say that you do not think that something is very difficult to do or to understand.**Candidate Answer:** Used to say that you do not think that something is very difficult to do or to understand.

QID : 419 - In the following question, out of the four alternatives, select the alternative which best expresses the meaning of the idiom/phrase.

Pass the buck**Options:**

- 1) Pass a person by awarding a few grace marks.
- 2) Borrow small amounts of money from your friends.
- 3) Offer help even without the other person asking for it.
- 4) Shift the responsibility for something to someone else.

Correct Answer: Shift the responsibility for something to someone else.**Candidate Answer:** Shift the responsibility for something to someone else.

QID : 420 - In the following question, out of the four alternatives, select the alternative which is the best substitute of the words/sentence.

Infinite or unending time**Options:**

- 1) Ephemeral
- 2) Fugacious
- 3) Eternity
- 4) Transitory

Correct Answer: Eternity**Candidate Answer:** Eternity

QID : 421 - In the following question, out of the four alternatives, select the alternative which is the best substitute of the words/sentence.

A person falsely claiming to have a special knowledge or skill**Options:**

- 1) Indubitable
- 2) Palpable
- 3) Authentic
- 4) Charlatan

Correct Answer: Charlatan**Candidate Answer:** Charlatan

QID : 422 - In the following question, out of the four alternatives, select the alternative which will improve the bracketed part of the sentence. In case no improvement is needed, select "no improvement".

We (**had**) a horse-shoe shaped platform made of clay, but it was destroyed by the rains.

Options:

- 1) have
- 2) has
- 3) has had
- 4) no improvement

Correct Answer: no improvement

Candidate Answer: has had

QID : 423 - In the following question, out of the four alternatives, select the alternative which will improve the bracketed part of the sentence. In case no improvement is needed, select "no improvement".

My brother and I would enjoy (**chasing**) the butterflies amidst our own simple, innocuous games.

Options:

- 1) chase
- 2) chased
- 3) to chasing
- 4) no improvement

Correct Answer: no improvement

Candidate Answer: no improvement

QID : 424 - The question below consists of a set of labelled sentences. Out of the four options given, select the most logical order of the sentences to form a coherent paragraph.

- One major human**
A-frailty is that most
B-people do not want
C-to think and act

Options:

- 1) ABC
- 2) CBA
- 3) CAB
- 4) BCA

Correct Answer: ABC

Candidate Answer: ABC

QID : 425 - In the following question, four words are given out of which one word is correctly spelt. Select the correctly spelt word.

Options:

- 1) effluants
- 2) effluents
- 3) efluents
- 4) efluants

Correct Answer: effluents

Candidate Answer: effluents

QID : 426 - In the following question, select the related word pair from the given alternatives.

Sorrow : Black :: ? : ?

निम्नलिखित प्रश्न में दिए गए विकल्पों में से संबंधित शब्द युग्म को चुनिए।

शोक : काला :: ? : ?

Options:

- 1) Red : Green
लाल : हरा
- 2) Rank : Star
रैंक : सितारा
- 3) Danger : Green
खतरा : हरा
- 4) Pink : Pencil
गुलाबी : पेंसिल

Correct Answer: Rank : Star

रैंक : सितारा

Candidate Answer: Danger : Green

खतरा : हरा

QID : 427 - In the following question, select the related number from the given alternatives.

43 : 66 :: 91 : ?

निम्नलिखित प्रश्न में दिए गए विकल्पों में से संबंधित संख्या को चुनिए।

43 : 66 :: 91 : ?

Options:

- 1) 114
- 2) 124
- 3) 126
- 4) 108

Correct Answer: 114

Candidate Answer: 114

QID : 428 - In the following question, select the related letter/letters from the given alternatives.

MPQ : JMN :: KSV : ?

निम्नलिखित प्रश्न में दिए गए विकल्पों में से संबंधित अक्षर/अक्षरों को चुनिए।

MPQ : JMN :: KSV : ?

Options:

- 1) HPT
- 2) GQT
- 3) GQS
- 4) HPS

Correct Answer: HPS

Candidate Answer: HPS

QID : 429 - In the following question, select the odd word from the given alternatives.

निम्नलिखित प्रश्न में दिए गए विकल्पों में से विषम शब्द को चुनिए।

Options:

- 1) Brain
मस्तिष्क
- 2) Liver
यकृत
- 3) Eyes
नेत्र
- 4) Lungs
फेफड़े

Correct Answer: Eyes

नेत्र

Candidate Answer: Eyes

नेत्र

QID : 430 - In the following question, four number pairs are given. The number on left side of (-) is related to the number on the right side of (-) with some Logic/Rule/Relation. Three are similar on basis of same Logic/Rule/Relation. Select the odd one out from the given alternatives.

नीचे दिए गए प्रश्न में, चार संख्या युग्म दिए गए हैं। (-) के बायीं ओर दी संख्या (-) के दायीं ओर दी गई संख्या से तर्क/नियम से सम्बंधित है। तीन उसी एक तर्क/नियम के आधार पर समान हैं। दिए गए विकल्पों में से भिन्न को चुनिए।

Options:

- 1) 61 - 66
- 2) 41 - 46
- 3) 32 - 37
- 4) 43 - 46

Correct Answer: 43 - 46

Candidate Answer: 43 - 46

QID : 431 - In the following question, select the odd letter/letters from the given alternatives.

निम्नलिखित प्रश्न में दिए गए विकल्पों में से विषम अक्षर/अक्षरों को चुनिए।

Options:

- 1) ZVQM
- 2) XTPL
- 3) NJFB
- 4) TPLH

Correct Answer: ZVQM

Candidate Answer: ZVQM

QID : 432 - Arrange the given words in the sequence in which they occur in the dictionary.

1. Draining
2. Drainer
3. Draught
4. Dramatic
5. Drank

निम्नलिखित शब्दों को शब्दकोश में आने वाले क्रम के अनुसार लिखें।

1. Draining
2. Drainer
3. Draught
4. Dramatic
5. Drank

Options:

- 1) 52314
- 2) 32514
- 3) 14523
- 4) 21453

Correct Answer: 21453

Candidate Answer: 21453

QID : 433 - In the following question, select the missing number from the given series.

56, 70, 98, 140, 196, ?

निम्नलिखित प्रश्न में दिए गए विकल्पों में से लुप्त अंक ज्ञात कीजिए।

56, 70, 98, 140, 196, ?

Options:

- 1) 236
- 2) 256
- 3) 266
- 4) 206

Correct Answer: 266

Candidate Answer: 266

QID : 434 - A series is given with one term missing. Select the correct alternative from the given ones that will complete the series.

GM, KJ, OG, SD, ?

एक अनुक्रम दिया गया है, जिसमें से एक पद लुप्त है। दिए गए विकल्पों में से वह सही विकल्प चुनिए, जो अनुक्रम को पूरा करे।

GM, KJ, OG, SD, ?

Options:

- 1) WA
- 2) XB
- 3) VC
- 4) WZ

Correct Answer: WA

Candidate Answer: WA

QID : 435 - Pointing to a man in the photograph Manisha said, "He is the father of the only daughter of my mother". How is Manisha related to that man?

चित्र में एक व्यक्ति की ओर संकेत करते हुए मनीषा ने कहा, "वह मेरी माता की एकमात्र पुत्री के पिता है।" मनीषा, उस व्यक्ति से किस प्रकार संबंधित है?

Options:

- 1) Mother
माता
- 2) Daughter
पुत्री
- 3) Aunt
चाची
- 4) Niece
भतीजी

Correct Answer: Daughter

पुत्री

Candidate Answer: Daughter

पुत्री

QID : 436 - From the given alternatives, select the word which **CANNOT** be formed using the letters of the given word.

University

दिए गए विकल्पों में से वह शब्द चुनिए जो दिए गए शब्द के अक्षरों का प्रयोग करके नहीं बनाया जा सकता है।

University

Options:

- 1) Tune
- 2) Until
- 3) Very
- 4) Try

Correct Answer: Until

Candidate Answer: Until

QID : 437 - In a certain code language, "FILMY" is written as "BNORU". How is "RISKY" written in that code language?

एक विशिष्ट कोड भाषा में, "FILMY" को "BNORU" लिखा जाता है। इस कोड भाषा में "RISKY" को किस प्रकार लिखा जाएगा?

Options:

- 1) BPHRI
- 2) CRHLI
- 3) RHCHY
- 4) YBPHR

Correct Answer: BPHRI

Candidate Answer: BPHRI

QID : 438 - In a certain code language, '.' represents 'x', '÷' represents '+', '+' represents '÷' and 'x' represents '.'. Find out the answer to the following question.

15 - 12 + 5 x 9 ÷ 12 = ?

किसी निश्चित कोड भाषा में '.' , 'x' को प्रदर्शित करता है, '÷' , '+' को प्रदर्शित करता है, '+' , '÷' को प्रदर्शित करता है और 'x' , '.' को प्रदर्शित करता है। निम्नलिखित प्रश्न का उत्तर ज्ञात करें।

15 - 12 + 5 x 9 ÷ 12 = ?

Options:

- 1) 25
- 2) 7
- 3) 39
- 4) 5

Correct Answer: 39

Candidate Answer: 39

QID : 439 - The following equation is incorrect. Which two signs should be interchanged to correct the equation?

5 - 16 x 30 ÷ 10 + 4 = 49

निम्नलिखित समीकरण गलत है। इस समीकरण को सही करने के लिए किन दो चिन्हों को आपस में अदला-बदली करना चाहिए?

5 - 16 x 30 ÷ 10 + 4 = 49

Options:

- 1) - and +
- और +
- 2) ÷ and x
÷ और x
- 3) x and -
x और -
- 4) ÷ and -
÷ और -

Correct Answer: - and +

- और +

Candidate Answer: - and +

- और +

QID : 440 - If 13&8 = 10, 11&6 = 10 and 17&4 = 26, then find the value of 15&1 = ?

यदि 13&8 = 10, 11&6 = 10 और 17&4 = 26, तो 15&1 का मान ज्ञात करें।

Options:

- 1) 4
- 2) 6
- 3) 28
- 4) 18

Correct Answer: 28**Candidate Answer:** [NOT ANSWERED]**QID : 441** - Which of the following terms follows the trend of the given list?**CABABABAB, ACBABABAB, ABCABABAB, ABACBABAB, ABABCABAB, _____.**

निम्नलिखित में से कौन सा पद दी गयी सूची के क्रम के अनुसार है?

CABABABAB, ACBABABAB, ABCABABAB, ABACBABAB, ABABCABAB, _____.**Options:**

- 1) ABABABCAB
- 2) ABABACBAB
- 3) CABABABAB
- 4) ACBABABAB

Correct Answer: ABABACBAB**Candidate Answer:** ABABABCAB**QID : 442** - A villager walks 3 km East, then turns South and walks 1.5 km, then turns East and walks 2 km, then turns to his left and walks 1.5 km. Where is he now with respect to the starting position?

एक ग्रामीण पूर्व की ओर 3 कि.मी. जाता है, फिर वह दक्षिण की तरफ मुड़ जाता है और आगे 1.5 कि.मी. की दूरी तक चलता है, फिर पूर्व दिशा में मुड़ जाता है और आगे 2 कि.मी. की दूरी तक चलता है, फिर वह अपने बाईं ओर मुड़ जाता है और आगे 1.5 कि.मी. चलता है। अपने प्रारंभ की स्थिति के संबंध में अब वह कहाँ है?

Options:

- 1) 5 km East
5 कि.मी. पूर्व
- 2) 1 km East
1 कि.मी. पूर्व
- 3) 5 km West
5 कि.मी. पश्चिम
- 4) 1 km West
1 कि.मी. पश्चिम

Correct Answer: 5 km East

5 कि.मी. पूर्व

Candidate Answer: 5 km East

5 कि.मी. पूर्व

QID : 443 - In the question two statements are given, followed by two conclusions, I and II. You have to consider the statements to be true even if it seems to be at variance from commonly known facts. You have to decide which of the given conclusions, if any, follows from the given statements.**Statement I:** No wires are cables**Statement II:** No coils are wires**Conclusion I:** No cables are coils**Conclusion II:** Some coils are cables

प्रश्न में दो कथन दिये गये हैं जिसके आगे दो निष्कर्ष I और II निकाले गये हैं। आपको मानना है कि दोनों कथन सत्य है चाहे वह सामान्यतः ज्ञात तथ्यों से भिन्न प्रतीत होते हों। आपको निर्णय करना है की दिए गए निष्कर्षों में से कौन-सा/कौन-से निश्चित रूप से कथन द्वारा सही निकाला जा सकता है/सकते हैं, यदि कोई हो।

कथन I: कोई भी वायर केबल नहीं होता**कथन II:** कोई भी कॉइल वायर नहीं होती**निष्कर्ष I:** कोई भी केबल कॉइल नहीं होती**निष्कर्ष II:** कुछ कॉइल केबल होती हैं

Options:

1) Only conclusion I follows

केवल निष्कर्ष I सही है

2) Only conclusion II follows

केवल निष्कर्ष II सही है

3) Both conclusions I and II follow

दोनों निष्कर्ष I और II सही है

4) Neither conclusion I nor conclusion II follows

ना तो निष्कर्ष I सही है ना ही निष्कर्ष II

Correct Answer: Neither conclusion I nor conclusion II follows

ना तो निष्कर्ष I सही है ना ही निष्कर्ष II

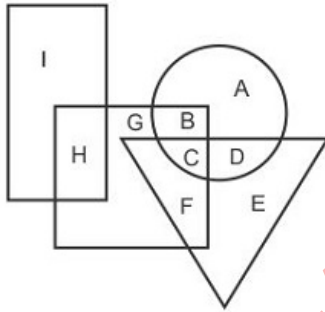
Candidate Answer: Neither conclusion I nor conclusion II follows

ना तो निष्कर्ष I सही है ना ही निष्कर्ष II

QID : 444 -

In the following figure, rectangle represents Teachers, circle represents Illustrators, triangle represents Writers and square represents Asians. Which set of letters represents Asians who are either Illustrators or Writers?

निम्नलिखित आकृति में, आयत शिक्षकों को प्रदर्शित करता है, वृत्त इलस्ट्रेटर्स को प्रदर्शित करता है, त्रिभुज लेखकों को प्रदर्शित करता है और वर्ग एशियाई को प्रदर्शित करता है। अक्षरों का कौन सा समूह उन एशियाई को प्रदर्शित करता है, जो या तो इलस्ट्रेटर्स हैं या लेखक हैं?

**Options:**

1) FCD

2) GBA

3) BCF

4) FE

Correct Answer: BCF**Candidate Answer:** BCF**QID : 445 -** A series is given with one term missing. Select the correct alternative from the given ones that will complete the series.**UHQ, OBK, IVE, CPY, ?**

एक अनुक्रम दिया गया है, जिसमें से एक पद लुप्त है। दिए गए विकल्पों में से वह सही विकल्प चुनिए, जो अनुक्रम को पूरा करे।

UHQ, OBK, IVE, CPY, ?**Options:**

1) WJS

2) XKT

3) YLU

4) VIR

Correct Answer: WJS**Candidate Answer:** WJS

QID : 446 - In the following question, select the missing number from the given series.

32, 36, 42, 50, 60, ?

निम्नलिखित प्रश्न में दिए गए विकल्पों में से लुप्त अंक ज्ञात कीजिए।

32, 36, 42, 50, 60, ?

Options:

- 1) 72
- 2) 70
- 3) 78
- 4) 68

Correct Answer: 72

Candidate Answer: 72

QID : 447 - In the following question, four groups of three numbers are given. In each group the second and third number are related to the first number by a Logic/Rule/Relation. Three are similar on basis of same Logic/Rule/Relation. Select the odd one out from the given alternatives.

नीचे दिए गए प्रश्न में, तीन संख्याओं के चार समूह दिए गए हैं। प्रत्येक समूह में दूसरी तथा तीसरी संख्या पहली संख्या से किसी एक तर्क/नियम से सम्बंधित है। तीन उसी एक तर्क/नियम के आधार पर समान हैं। दिए गए विकल्पों में से भिन्न को चुनिए।

Options:

- 1) (6, 19, 13)
- 2) (7, 21, 15)
- 3) (18, 55, 37)
- 4) (15, 46, 31)

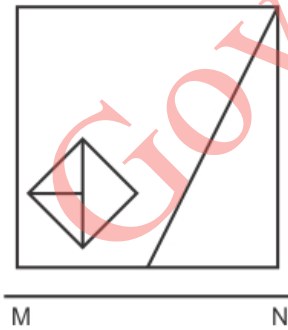
Correct Answer: (7, 21, 15)

Candidate Answer: (7, 21, 15)

QID : 448 -

If a mirror is placed on the line MN, then which of the answer figures is the right image of the given figure?

यदि एक दर्पण को MN रेखा पर रखा जाए तो दी गयी उत्तर आकृतियों में से कौन-सी आकृति प्रश्न आकृति का सही प्रतिबिम्ब होगी?



Options:

1)



2)



3)



4)



Correct Answer:



Candidate Answer:

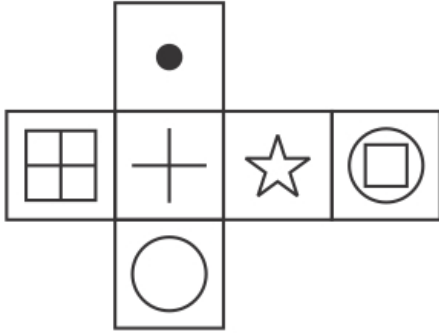


GovtJobsAler.In

QID : 449 -

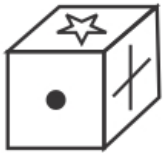
Which of the following cube in the answer figure cannot be made based on the unfolded cube in the question figure?

निम्नलिखित उत्तर आकृति में से कौन सा घन दिए गए प्रश्न आकृति में से खुले घन से बनाया नहीं जा सकता?

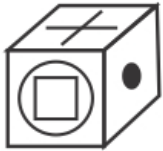


Options:

1)



2)



3)



4)



Correct Answer:



GovtJobsAler.In

Candidate Answer:**QID : 450 -**

A word is represented by only one set of numbers as given in any one of the alternatives. The sets of numbers given in the alternatives are represented by two classes of alphabets as shown in the given two matrices. The columns and rows of Matrix-I are numbered from 0 to 4 and that of Matrix-II are numbered from 5 to 9. A letter from these matrices can be represented first by its row and next by its column, for example 'J' can be represented by 32, 41 etc and 'V' can be represented by 76, 97 etc. Similarly, you have to identify the set for the word 'ANTS'.

एक शब्द केवल एक संख्या-समूह द्वारा दर्शाया गया है, जैसा कि विकल्पों में से किसी एक में दिया गया है। विकल्पों में दिए गए संख्या-समूह अक्षरों के दो वर्गों द्वारा दर्शाए गए हैं, जैसा कि दिए गए दो आव्यूहों में है। आव्यूह-I के स्तम्भ और पंक्ति की संख्या 0 से 4 और आव्यूह-II की 5 से 9 है। इन आव्यूहों से एक अक्षर को पहले उसकी पंक्ति और बाद में स्तम्भ संख्या द्वारा दर्शाया जा सकता है। उदाहरण के लिए 'J' को 32, 41 आदि द्वारा दर्शाया जा सकता है तथा 'V' को 76, 97 आदि द्वारा दर्शाया जा सकता है। इसी तरह से आपको प्रश्न में दिए शब्द 'ANTS' के लिए समूह को पहचानना है।

Matrix I आव्यूह - I						Matrix II आव्यूह - II					
	0	1	2	3	4		5	6	7	8	9
0	H	B	C	L	B	5	P	O	T	R	Q
1	F	G	M	C	H	6	P	Q	N	Q	P
2	E	D	G	H	M	7	R	V	Y	Y	U
3	L	G	J	C	A	8	N	W	N	R	W
4	K	J	E	H	I	9	S	O	V	Y	Z

Options:

- 1) 23,89,43,78
- 2) 31,66,42,95
- 3) 34,67,57,95
- 4) 22,89,13,88

Correct Answer: 34,67,57,95**Candidate Answer:** 34,67,57,95**QID : 451 -**

Find the unit place digit in $(82)^{102} + (183)^{103}$.

$(82)^{102} + (183)^{103}$ के स्थानीय इकाई अंक का मान ज्ञात कीजिये।

Options:

- 1) 1
- 2) 6
- 3) 8
- 4) 9

Correct Answer: 1**Candidate Answer:** 1

QID : 452 -Find the value of $\sqrt{5\sqrt{5\sqrt{5\sqrt{5}}}}$. $\sqrt{5\sqrt{5\sqrt{5\sqrt{5}}}}$ का मान ज्ञात कीजिये।**Options:**

1) $5^{\frac{1}{16}}$

2) $5^{\frac{15}{32}}$

3) $5^{\frac{15}{16}}$

4) $5^{\frac{1}{32}}$

Correct Answer:

$5^{\frac{15}{16}}$

Candidate Answer:

$5^{\frac{1}{16}}$

QID : 453 -If $\sqrt{y} = \sqrt{4} - \sqrt{6}$, then find the value of $y^2 - 20y + 12$.यदि $\sqrt{y} = \sqrt{4} - \sqrt{6}$ है तो $y^2 - 20y + 12$ का मान ज्ञात कीजिये।**Options:**

1) 4

2) 8

3) 10

4) 12

Correct Answer: 8**Candidate Answer:** 12**QID : 454 -**If x and y are positive integer numbers and $\frac{3x}{y} = 4$, then find the minimum value of $3x + 4y$.यदि x और y धनात्मक पूर्णांक संख्या और $\frac{3x}{y} = 4$ है तो $3x + 4y$ का न्यूनतम मान ज्ञात कीजिये।**Options:**

1) 0

2) 1

3) 6

4) 8

Correct Answer: 8**Candidate Answer:** 6**QID : 455 -** How many tangents can be drawn to the two circles, whose radii are equal to 4 cm and 5 cm respectively and the distance between the two centres is 5 cm.

दो वृत्तों के लिए कितनी स्पर्शरेखा खींची जा सकती हैं, जिनकी त्रिज्या क्रमशः 4 सेमी और 5 सेमी है और दोनो केंद्रों के बीच की दूरी 5 सेमी है।

Options:

1) 0

2) 1

3) 2

4) 3

Correct Answer: 2**Candidate Answer:** 2**QID : 456 -**

The distance between the centre of two circles having radii 5 cm and 6 cm is $\sqrt{10}$ cm. Find the length (in cm) of direct common tangent.

त्रिज्या 5 सेंटीमीटर और 6 सेंटीमीटर वाले दो वृत्तों के केंद्र के बीच की दूरी $\sqrt{10}$ सेंटीमीटर है। सीधी सामान स्पर्शरेखा की लम्बाई (सेंटीमीटर में) ज्ञात कीजिये।

Options:

- 1) 1
- 2) 2
- 3) 3
- 4) 4

Correct Answer: 3**Candidate Answer:** 3**QID : 457 -** If X is 60% more than Y, then Y is what percent of X?

यदि X, Y से 60% अधिक है, तो Y, X का कितना प्रतिशत है?

Options:

- 1) 37.5
- 2) 62.5
- 3) 44.4
- 4) 66.66

Correct Answer: 62.5**Candidate Answer:** 62.5**QID : 458 -** Rahul spends some part of his income and saves the remaining part. The ratio of his expenditure and saving is 6 : 1. If Rahul's income is Rs 42000, then what will be his expenditure (in Rs)?

राहुल अपनी आय का कुछ भाग खर्च करता है तथा शेष भाग बचाता है। उसके व्यय तथा बचत का अनुपात 6 : 1 है। यदि राहुल की आय 42000 रु है, तो उसका व्यय (रु में) क्या होगा?

Options:

- 1) 34000
- 2) 30000
- 3) 32000
- 4) 36000

Correct Answer: 36000**Candidate Answer:** 36000**QID : 459 -** Aman, Kamal and Ratan start a business. The ratio of their investments is 12 : 4 : 3. If at the end the ratio of their profits is 3 : 16 : 9, then what is the ratio of time period of their investment?

अमन, कमल तथा रतन, एक व्यापार शुरू करते हैं। उनके निवेश का अनुपात 12 : 4 : 3 है। यदि अंत में उनके लाभ का अनुपात 3 : 16 : 9 है, तो उनकी निवेश की समय अवधि का अनुपात क्या है?

Options:

- 1) 9 : 64 : 81
- 2) 4 : 36 : 9
- 3) 1 : 16 : 12
- 4) 3 : 64 : 9

Correct Answer: 1 : 16 : 12**Candidate Answer:** 1 : 16 : 12**QID : 460 -** Out of the five subjects, the average marks of Suman in first 3 Subjects was 81 and the average marks in the last 3 subjects was 74. If her marks in the third subject was 65, then what was her average marks in all the subjects?

पाँच विषयों में से, प्रथम 3 विषयों में सुमन के औसत अंक 81 थे तथा अंतिम 3 विषयों में औसत अंक 74 थे। यदि तीसरे विषय में उसके अंक 65 थे, तो सभी विषयों में उसके औसत अंक कितने थे?

Options:

- 1) 75
- 2) 76
- 3) 79
- 4) 80

Correct Answer: 80**Candidate Answer:** 80

QID : 461 - A certain sum of money becomes double of itself in 5 years at a rate of simple interest. In how many years will it become 16 times of itself at the same rate of simple interest?

एक निश्चित राशि साधारण ब्याज की एक दर से 5 वर्षों में स्वयं की दोगुनी हो जाती है। समान साधारण ब्याज दर से वह कितने वर्षों में स्वयं की 16 गुना हो जाएगी?

Options:

- 1) 20
- 2) 60
- 3) 75
- 4) No option is correct.

कोई विकल्प सही नहीं है

Correct Answer: 75**Candidate Answer:** 75

QID : 462 - Pankaj sells a trouser at a loss of 10%. If he buys it for 20% less price and sells it for Rs. 9 more, then he gains 15%. What is the cost price (in Rs) of the trouser?

पंकज एक पतलून को 10% की हानि पर बेचता है। यदि वह उस पतलून को 20% कम मूल्य में खरीदता है तथा 9 रु अधिक में बेचता है, तो उसे 15% का लाभ होता है। पतलून का क्रय मूल्य (रु में) क्या है?

Options:

- 1) 450
- 2) 400
- 3) 350
- 4) 440

Correct Answer: 450**Candidate Answer:** 450

QID : 463 - If the ratio of marked price and selling price is 14 : 11, then what is the discount percentage?

यदि अंकित मूल्य तथा विक्रय मूल्य का अनुपात 14 : 11 है, तो छूट प्रतिशत क्या है?

Options:

- 1) 42.58
- 2) 21.42
- 3) 36.36
- 4) 33.33

Correct Answer: 21.42**Candidate Answer:** 21.42

QID : 464 - Arrange the following in the decreasing order?

$(\sqrt{23} - \sqrt{21})$, $(\sqrt{19} - \sqrt{17})$, $(\sqrt{21} - \sqrt{19})$

निम्नलिखित को घटते क्रम में व्यवस्थित करें?

$(\sqrt{23} - \sqrt{21})$, $(\sqrt{19} - \sqrt{17})$, $(\sqrt{21} - \sqrt{19})$

Options:

- 1) $(\sqrt{23} - \sqrt{21}) > (\sqrt{21} - \sqrt{19}) > (\sqrt{19} - \sqrt{17})$
- 2) $(\sqrt{23} - \sqrt{21}) > (\sqrt{19} - \sqrt{17}) > (\sqrt{21} - \sqrt{19})$
- 3) $(\sqrt{19} - \sqrt{17}) > (\sqrt{21} - \sqrt{19}) > (\sqrt{23} - \sqrt{21})$
- 4) $(\sqrt{21} - \sqrt{19}) > (\sqrt{23} - \sqrt{21}) > (\sqrt{19} - \sqrt{17})$

Correct Answer: $(\sqrt{19} - \sqrt{17}) > (\sqrt{21} - \sqrt{19}) > (\sqrt{23} - \sqrt{21})$ **Candidate Answer:** $(\sqrt{19} - \sqrt{17}) > (\sqrt{21} - \sqrt{19}) > (\sqrt{23} - \sqrt{21})$

QID : 465 - X and Y can complete a work in 5 days. Y and Z can complete the same work in 6 days. Z and X can complete the same work in $15/2$ days. In how many days will X, Y and Z together complete the work?

X तथा Y एक कार्य को 5 दिन में पूरा कर सकते हैं। Y तथा Z उसी कार्य को 6 दिन में पूरा कर सकते हैं। Z तथा X उसी कार्य को $15/2$ दिन में पूरा कर सकते हैं। X, Y तथा Z मिलकर कार्य को कितने दिन में पूरा करेंगे?

Options:

- 1) 2
- 2) 4
- 3) 3
- 4) $2/5$

Correct Answer: 4

Candidate Answer: 4

QID : 466 - Two stations L and M are 180 km apart from each other. A train leaves from L to M and simultaneously another train leaves from M to L. Both trains meet after 9 hours. If the speed of the first train is 10 km/hr more than the second train, then what is the speed (in km/hr) of the slower train?

दो स्टेशन L तथा M एक दूसरे से 180 कि.मी. की दूरी पर हैं। एक रेलगाड़ी L से M के लिए प्रस्थान करती है तथा उसी समय एक अन्य रेलगाड़ी M से L के लिए प्रस्थान करती है। 9 घंटे के पश्चात् दोनों रेलगाड़ियाँ मिलती हैं। यदि पहली रेलगाड़ी की गति दूसरी रेलगाड़ी से 10 कि.मी./घंटा अधिक है, तो धीमी वाली रेलगाड़ी की गति (कि.मी./घंटा में) क्या है?

Options:

- 1) 9
- 2) 5
- 3) 12
- 4) 15

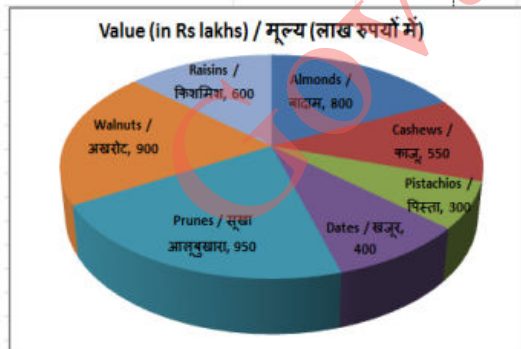
Correct Answer: 5

Candidate Answer: 5

QID : 467 -

The pie chart shows the value of the total annual production of dry fruits of a country. Study the diagram and answer the following questions.

यह पाइ चार्ट देश के सूखे मेवों के कुल वार्षिक उत्पादन का मूल्य दर्शाता है। इस आरेख का अध्ययन करें और निम्नलिखित प्रश्नों के उत्तर दें।



The value of annual production of which dry fruit item is the most?

किस सूखे मेवे का वार्षिक उत्पादन का मूल्य सबसे अधिक है?

Options:

- 1) Walnuts
अखरोट
- 2) Raisins
किशमिश
- 3) Prunes
सूखा आलुबुखारा
- 4) Almonds
बादाम

Correct Answer: Prunes

सूखा आलुबुखारा

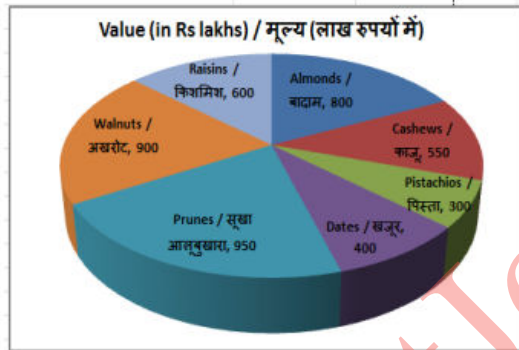
Candidate Answer: Prunes

सूखा आलुबुखारा

QID : 468 -

The pie chart shows the value of the total annual production of dry fruits of a country. Study the diagram and answer the following questions.

यह पाइ चार्ट देश के सूखे मेवों के कुल वार्षिक उत्पादन का मूल्य दर्शाता है। इस आरेख का अध्ययन करें और निम्नलिखित प्रश्नों के उत्तर दें।



What is the total value (in Rs lakhs) of the annual dry fruit production of the country?

देश के वार्षिक सूखे मेवे के उत्पादन का कुल मूल्य (लाख रुपये में) क्या है?

Options:

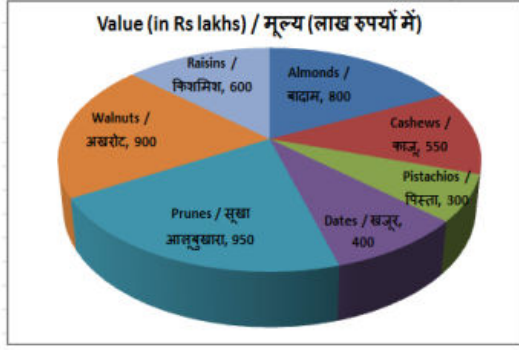
- 1) 4000
- 2) 4500
- 3) 3600
- 4) 3000

Correct Answer: 4500**Candidate Answer:** 4500

QID : 469 -

The pie chart shows the value of the total annual production of dry fruits of a country. Study the diagram and answer the following questions.

यह पाइ चार्ट देश के सूखे मेवों के कुल वार्षिक उत्पादन का मूल्य दर्शाता है। इस आरेख का अध्ययन करें और निम्नलिखित प्रश्नों के उत्तर दें।



The measure of the central angle of the sector representing the annual production of dates is _____ degrees.

खजूर के वार्षिक उत्पादन का प्रतिनिधित्व करने वाले क्षेत्र के केंद्रीय कोण का माप _____ डिग्री है।

Options:

- 1) 36
- 2) 28
- 3) 32
- 4) 24

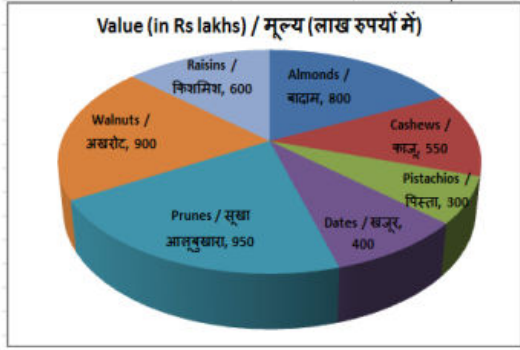
Correct Answer: 32

Candidate Answer: 32

QID : 470 -

The pie chart shows the value of the total annual production of dry fruits of a country. Study the diagram and answer the following questions.

यह पाइ चार्ट देश के सूखे मेवों के कुल वार्षिक उत्पादन का मूल्य दर्शाता है। इस आरेख का अध्ययन करें और निम्नलिखित प्रश्नों के उत्तर दें।



If the average value of almonds produced is Rs 800 per kg then how many kgs of almonds were produced?

अगर उत्पादन किये जाने वाले बादाम का औसत मूल्य 800 रुपये प्रति किये है, तो बादाम के कितने किये का उत्पादन किये गया?

Options:

- 1) 10000
- 2) 1000
- 3) 100000
- 4) 1000000

Correct Answer: 100000

Candidate Answer: 100000

QID : 471 - The length of one side and the diagonal of a rectangle are 10 cm and 26 cm respectively. Find the length of its other side (in cm).

एक आयत के एक भुजा की लंबाई और विकर्ण क्रमशः 10 सेंटीमीटर और 26 सेंटीमीटर है। इसके दूसरी भुजा की लंबाई (सेंटीमीटर में) ज्ञात करें।

Options:

- 1) 48
- 2) 29
- 3) 24
- 4) 58

Correct Answer: 24

Candidate Answer: 24

QID : 472 - If the perimeter of a semi-circle is 144 cm, then find its radius (in cm).

यदि एक अर्धवृत्त की परिमाप 144 सेंटीमीटर है, तो इसकी त्रिज्या (सेंटीमीटर में) ज्ञात करें।

Options:

- 1) 56
- 2) 29
- 3) 28
- 4) 58

Correct Answer: 28

Candidate Answer: 28

QID : 473 - Find the curved surface area (in cm^2) of a right circular cylinder of diameter 21 cm and height 10 cm.

21 सेंटीमीटर व्यास और 10 सेंटीमीटर ऊंचाई वाले एक लम्ब वृत्तीय बेलन के वक्र सतह का क्षेत्रफल (वर्ग सेंटीमीटर में) ज्ञात करें।

Options:

- 1) 594
- 2) 530
- 3) 472
- 4) 660

Correct Answer: 660

Candidate Answer: 660**QID : 474** - What is the value of $(\frac{1}{2} - \sec 30^\circ)$? $(\frac{1}{2} - \sec 30^\circ)$ का मान क्या है?**Options:**

- 1) $(\sqrt{3}-1)/2$
- 2) $(2-\sqrt{3})/\sqrt{3}$
- 3) $(1-\sqrt{6})/\sqrt{2}$
- 4) $(\sqrt{3}-4)/2\sqrt{3}$

Correct Answer: $(\sqrt{3}-4)/2\sqrt{3}$ **Candidate Answer:** $(\sqrt{3}-4)/2\sqrt{3}$ **QID : 475** - In ΔABC measure of angle B is 90° . If $\sec A = 25/7$, and $AB = 14$ cm, then what is the length (in cm) of side BC? ΔABC में कोण B का माप 90° है। यदि $\sec A = 25/7$ और $AB = 14$ सेंटीमीटर है, तो भुजा BC की लंबाई (सेंटीमीटर में) क्या है?**Options:**

- 1) 50
- 2) 48
- 3) 20
- 4) 26

Correct Answer: 48**Candidate Answer:** 48**QID : 476** - Who has written the book "The Theory of Wages"?

"द थ्योरी ऑफ वेजेज" पुस्तक किसने लिखी है?

Options:

- 1) David Hume
डेविड ह्यूम
- 2) Thomas Robert Malthus
थॉमस रॉबर्ट माल्थस
- 3) Irving Fisher
इरविंग फिशर
- 4) J.R.Hicks
जे.आर. हिक्स

Correct Answer: J.R.Hicks

जे.आर. हिक्स

Candidate Answer: [NOT ANSWERED]**QID : 477** - At present how many stock exchanges are listed in Securities and Exchange Board of India (SEBI)?

वर्तमान में भारतीय प्रतिभूति और विनिमय बोर्ड (SEBI) में कितने स्टॉक एक्सचेंज सूचीबद्ध हैं?

Options:

- 1) 20
- 2) 10
- 3) 8
- 4) 15

Correct Answer: 8**Candidate Answer:** 10**QID : 478** - Chola State had to face the attack of which of the following Rashtrakuta's rulers?

चोल राज्य को निम्न में से किस राष्ट्रकूट शासक के आक्रमण को झेलना पड़ा था?

Options:

- 1) Dhruv
ध्रुव
- 2) Govind III
गोविंद III
- 3) Krishna III
कृष्ण III
- 4) Amoghvarsha
अमोघवर्ष

Correct Answer: Krishna III

कृष्ण III

Candidate Answer: Krishna III

कृष्ण III

QID : 479 - Which of the following decisive battles had established the dominion of the British in India?

निम्नलिखित में से किस निर्णायक युद्ध ने अंग्रेजों के भारत में प्रभुत्व को संस्थापित कर दिया था?

Options:

1) Battle of Plassey

प्लासी का युद्ध

2) Battle of Buxar

बक्सर का युद्ध

3) Battle of Wandiwash

वांडीवाश का युद्ध

4) Third Battle of Panipat

पानीपत का तीसरा युद्ध

Correct Answer: Battle of Buxar

बक्सर का युद्ध

Candidate Answer: Battle of Plassey

प्लासी का युद्ध

QID : 480 - Soo Canal connects to which of the following?

सू नहर निम्नलिखित में किसको जोड़ती है?

Options:

1) Superior to Michigan

सुपीरियर को मिशीगन से

2) Superior to Huron

सुपीरियर को ह्यूरन से

3) Michigan to Huron

मिशीगन को ह्यूरन से

4) Erie to Huron

ईरी को ह्यूरन से

Correct Answer: Superior to Huron

सुपीरियर को ह्यूरन से

Candidate Answer: Superior to Huron

सुपीरियर को ह्यूरन से

QID : 481 - Idukki hydroelectric power project is situated in which state?

इडुक्की जल-विद्युत परियोजना किस राज्य में स्थित है?

Options:

1) Kerala

केरल

2) Himachal Pradesh

हिमाचल प्रदेश

3) Arunachal Pradesh

अरुणाचल प्रदेश

4) Karnataka

कर्नाटक

Correct Answer: Kerala

केरल

Candidate Answer: Kerala

केरल

QID : 482 - Maharishi Gautam is associated to which Indian philosophy (darshana)?

महर्षि गौतम का संबंध किस भारतीय दर्शन से है?

Options:

1) Samkhya

संख्य

2) Yog

योग

3) Nyaya

न्याय

4) Vaisheshika

वैशेषिक

Correct Answer: Nyaya

न्याय

Candidate Answer: Samkhya

संख्य

QID : 483 - Bangladesh on October 4, 2017 signed a \$ 4.5 billion loan deal with which country for developing its infrastructure, health and education?

बांग्लादेश ने 4 अक्टूबर, 2017 को किस देश के साथ अपने देश की आधारभूत संरचना, स्वास्थ्य और शिक्षा के विकास के लिए 4.5 बिलियन डॉलर के ऋण समझौते पर हस्ताक्षर किया है?

Options:

1) Pakistan

पाकिस्तान

2) China

चीन

3) India

भारत

4) Iran

ईरान

Correct Answer: India

भारत

Candidate Answer: India

भारत

QID : 484 - Which novel had been got the DSC Prize for South Asian Literature for 2017 held in Dhaka, Bangladesh?

ढाका, बांग्लादेश में आयोजित दक्षिण एशियाई साहित्य समारोह में वर्ष 2017 के लिए किस उपन्यास को डीएससी पुरस्कार मिला था?

Options:

1) The story of a Brief Marriage

द स्टोरी ऑफ ए ब्रीफ मैरिज

2) The Living

द लिविंग

3) Selection Day

सेलेक्शन डे

4) The Association of Small Bombs

द एसोशिएशन ऑफ स्मॉल बॉम्ब्स

Correct Answer: The story of a Brief Marriage

द स्टोरी ऑफ ए ब्रीफ मैरिज

Candidate Answer: [NOT ANSWERED]**QID : 485** - Devastating earthquake of 7.8 magnitudes came in Nepal in _____.

नेपाल में 7.8 की तीव्रता वाला भयावह भूकंप _____ में आया था।

Options:

1) February 2014

फरवरी 2014

2) September 2014

सितंबर 2014

3) April 2015

अप्रैल 2015

4) July 2015

जुलाई 2015

Correct Answer: April 2015

अप्रैल 2015

Candidate Answer: July 2015

जुलाई 2015

QID : 486 - Which of the following is a major component of German silver?

निम्नलिखित में से कौन सा जर्मन सिल्वर का एक मुख्य घटक होता है?

Options:

- 1) Tin
टिन
- 2) Copper
ताँबा
- 3) Silver
चाँदी
- 4) Chlorine
क्लोरीन

Correct Answer: Copper

ताँबा

Candidate Answer: Copper

ताँबा

QID : 487 - In nuclear reactors, which of the following is used as moderator?

नाभिकीय संयंत्रों में निम्नलिखित में से किसका उपयोग नियामक के रूप में किया जाता है?

Options:

- 1) Uranium
यूरैनियम
- 2) Iron
लोहा
- 3) Graphite
ग्रेफाइट
- 4) Platinum
प्लेटिनम

Correct Answer: Graphite

ग्रेफाइट

Candidate Answer: Graphite

ग्रेफाइट

QID : 488 - Which organ of the government consists of elected representatives of people?

सरकार के किस अंग में लोगों के निर्वाचित प्रतिनिधि होते हैं?

Options:

- 1) Media
संचार माध्यम
- 2) Legislature
विधायिकी
- 3) Judiciary
न्यायपालिका
- 4) All options are correct.
सभी विकल्प सही हैं।

Correct Answer: Legislature

विधायिकी

Candidate Answer: Legislature

विधायिकी

QID : 489 - Who gave the concept of 'Separation of Powers' related to different forms of governments?

विभिन्न प्रकार की सरकारों से संबंधित 'शक्तियों के पृथक्करण' का सिद्धांत किसने दिया था?

Options:

- 1) Montesquieu
मोंटेसक्यू
- 2) Aristotle
अरस्तु
- 3) Plato
प्लेटो
- 4) Hobbes
होब्स

Correct Answer: Montesquieu

मोंटेसक्यू

Candidate Answer: Hobbes

होब्स

QID : 490 - Which among the following forms a common passage for both the sperms and urine in human males?

निम्नलिखित में से कौन सा मानव पुरुषों में शुक्राणुओं एवं मूत्र दोनों के प्रवाह का उभयनिष्ठ मार्ग बनाता है?

Options:

1) ureter

मूत्र नलिका

2) seminal vesicle

शुक्राशय

3) vas deferens

शुक्रवाहिनी

4) urethra

मूत्र मार्ग

Correct Answer: urethra

मूत्र मार्ग

Candidate Answer: ureter

मूत्र नलिका

QID : 491 - Which of the following is **NOT** a constituent of phloem?

निम्नलिखित में से कौन सा फ्लोएम का एक घटक नहीं है?

Options:

1) Sieve tubes

चालानी नलिका

2) Companion cells

साथी कोशिकाएँ

3) Tracheids

वाहिनिका

4) Phloem parenchyma

फ्लोएम पैरेन्काइमा

Correct Answer: Tracheids

वाहिनिका

Candidate Answer: Companion cells

साथी कोशिकाएँ

QID : 492 - In November 2017, under the Credit Linked Subsidy Scheme (CLSS), increase in the carpet area for Middle Income Group II (MIG- II) has been approved. The carpet area for MIG-II will be increased to _____.

नवम्बर 2017 में, क्रेडिट लिंक्ड सब्सिडी योजना (सीएलएसएस) के अंतर्गत, मध्यम आय समूह II (एमआईजी-II) के लिए फर्श क्षेत्र में वृद्धि की गई है। एमआईजी-II के लिए फर्श क्षेत्र में _____ तक वृद्धि की जाएगी।

Options:

1) 150 square metre

150 वर्ग मीटर

2) 200 square metre

200 वर्ग मीटर

3) 250 square metre

250 वर्ग मीटर

4) 175 square metre

175 वर्ग मीटर

Correct Answer: 150 square metre

150 वर्ग मीटर

Candidate Answer: [NOT ANSWERED]**QID : 493** - Scientists have created world's shortest _____ laser pulse with a duration of just 43 attoseconds.

वैज्ञानिकों ने केवल 43 एटोसेकण्ड अवधि वाली विश्व की सबसे छोटी _____ लेजर पल्स बनाई है।

Options:

- 1) Gamma ray
गामा किरण
- 2) Alpha ray
अल्फा किरण
- 3) Beta ray
बीटा किरण
- 4) X-ray
एक्स-किरण

Correct Answer: X-ray

एक्स-किरण

Candidate Answer: [NOT ANSWERED]**QID : 494** - In August 2017, the 12th Five Year Plan was reviewed by NITI Aayog. The centre has now adopted a _____ year vision document.

अगस्त 2017 में, नीति आयोग द्वारा 12 वीं पंचवर्षीय योजना की समीक्षा की गई थी। केन्द्र ने अब एक _____ वर्षीय दृष्टि दस्तावेज को अपनाया है।

Options:

- 1) 20
- 2) 10
- 3) 15
- 4) 25

Correct Answer: 15**Candidate Answer:** 20**QID : 495** - Which edition of Rashtriya Sanskriti Mahotsava was held in Bengaluru under the 'Ek Bharat Shreshtha Bharat Programme' from 14 January to 20 January 2018?

14 जनवरी से 20 जनवरी 2018 तक 'एक भारत श्रेष्ठ भारत कार्यक्रम' के अंतर्गत बंगलुरु में राष्ट्रीय संस्कृति महोत्सव का कौन सा संस्करण आयोजित किया गया था?

Options:

- 1) First
पहला
- 2) Third
तीसरा
- 3) Fifth
पाँचवाँ
- 4) Seventh
सातवाँ

Correct Answer: Seventh

सातवाँ

Candidate Answer: [NOT ANSWERED]**QID : 496** - Find the acceleration (in m/s^2) produced in a body of mass 3 kg when a force of 6N is applied on it.यदि 3 किलोग्राम द्रव्यमान वाली वस्तु पर 6N का बल लगाया जाता है तो उसमें उत्पन्न होने वाले त्वरण की गणना (मीटर/सेकंड² में) करें।**Options:**

- 1) 18
- 2) 4
- 3) 2
- 4) 36

Correct Answer: 2**Candidate Answer:** 2**QID : 497** - In a _____ wave particles of the medium vibrate in a direction parallel to the direction of wave propagation.

_____ तरंग में माध्यम के कण अपनी माध्य स्थितियों पर तरंग संचरण की दिशा के समांतर गति करते हैं।

Options:

- 1) transverse
अनुप्रस्थ
- 2) longitudinal
अनुदैर्घ्य
- 3) surface
सतह
- 4) field
क्षेत्र

Correct Answer: longitudinal

अनुदैर्घ्य

Candidate Answer: longitudinal

अनुदैर्घ्य

QID : 498 - The underground water and the water in rivers, lakes and ponds is also _____.

भूमिगत जल और नदियों, झीलों और तालाबों का जल भी _____ होता है।

Options:

1) saline

खारा

2) fresh

शुद्ध

3) salt

नमकीन

4) sour

खट्टा

Correct Answer: fresh

शुद्ध

Candidate Answer: saline

खारा

QID : 499 - Which of the statements given below are **correct**?

- A) England won the 2017 Women's Cricket World Cup.
 B) Canada hosted the 2017 AIBA World Boxing Championships.
 C) In 2017, Rohit Sharma captained the IPL team Mumbai Indians.

निम्नलिखित में से कौन सा कथन सत्य है?

- A) इंग्लैंड ने 2017 वूमैस क्रिकेट वर्ल्ड कप जीता।
 B) कनाडा ने 2017 एआईबीए वर्ल्ड बॉक्सिंग चैंपियनशिप की मेजबानी की।
 C) 2017 में रोहित शर्मा ने आईपीएल टीम मुंबई इंडियंस की कप्तानी की।

Options:

1) Only A

केवल A

2) Only B

केवल B

3) Only C

केवल C

4) Both A and C

A और C दोनों

Correct Answer: Both A and C

A और C दोनों

Candidate Answer: Both A and C

A और C दोनों

QID : 500 - In HTML, _____ tag is used to specify each item displayed in the list.

एचटीएमएल में, _____ टैग का प्रयोग सूची में डिस्प्ले की गयी प्रत्येक मद को विनिर्दिष्ट करने के लिए किया जाता है।

Options:

1) <SELECT>

2) <OPTION>

3) <TEXTAREA>

4) <INPUT>

Correct Answer: <OPTION>**Candidate Answer:** <SELECT>