

## Combined Higher Secondary Level (10+2) Examination-2018

Roll No.	
Name	
Test Venue	Siddhi Vinayak Online Examination Center
Test Time	1:00 PM - 2:00 PM
Test Date	08/07/2019

Section : General Intelligence

Q.1 ऐसे अक्षरों के संयोजन का चयन करें जोकि दी गई अक्षर श्रृंखला के रिक्त स्थानों में क्रमिक रूप से रखे जाने पर श्रृंखला को पूरा करेगा।

u \_ \_ m p m \_ \_ u u c m \_ m m j \_ u c \_ p m m \_

- Ans
- 1. u c m j u u m m
  - 2. u c m j p u m j
  - 3. p c j m p u m j
  - 4. u c u j p m m j

Question ID : 98958016861

Status : Answered

Chosen Option : 2

Q.2 दो कथन दिए गए हैं, इसके बाद तीन निष्कर्ष I, II और III दिए गए हैं। कथनों को सत्य मानते हुए, भले ही वे आम तौर पर ज्ञात तथ्यों से अलग हों, यह निर्णय लीजिए कि कौन-सा/से निष्कर्ष कथनों का तार्किक रूप से अनुसरण करता है/करते हैं।

कथन:

कुछ पौधे सब्जी हैं।

सभी सब्जियां विटामिन हैं।

निष्कर्ष:

I. कुछ विटामिन पौधे हैं।

II. कुछ विटामिन सब्जियां हैं।

III. कोई भी विटामिन पौधा नहीं है।

- Ans
- 1. केवल निष्कर्ष II और III अनुसरण करते हैं।
  - 2. केवल निष्कर्ष I और II अनुसरण करते हैं।
  - 3. या तो निष्कर्ष I अथवा III अनुसरण करता है।
  - 4. केवल निष्कर्ष I और III अनुसरण करते हैं।

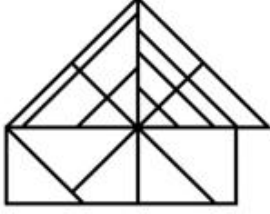
Question ID : 98958016866

Status : Answered

Chosen Option : 2

Q.3

दी गई आकृति में कितने त्रिभुज मौजूद हैं?



- Ans
- 1. 25
  - 2. 26
  - 3. 24
  - 4. 27

Question ID : 98958016876  
Status : Answered  
Chosen Option : 2

Q.4 निम्नलिखित समीकरण को सही बनाने के लिए इसमें किन दो संख्याओं को एक-दूसरे से बदलना होगा?

$$779 + 14 \times 21 - 532 \div 41 = 807$$

- Ans
- 1. 21 और 41
  - 2. 532 और 779
  - 3. 532 और 41
  - 4. 779 और 21

Question ID : 98958016868  
Status : Not Answered  
Chosen Option : --

Q.5 निम्नलिखित गतिविधियों को एक तार्किक और सार्थक क्रम में व्यवस्थित करें।

1. घड़ी में अलार्म लगाना
2. प्रश्न पत्र हल करना
3. अलार्म की घंटी बजना
4. परीक्षा केंद्र पर पहुंचना
5. कपड़े पहन कर तैयार होना
6. उत्तर पुस्तिका लौटाना

- Ans
- 1. 1, 3, 5, 4, 6, 2
  - 2. 1, 3, 4, 5, 2, 6
  - 3. 1, 3, 5, 4, 2, 6
  - 4. 3, 1, 5, 4, 2, 6

Question ID : 98958016856  
Status : Answered  
Chosen Option : 2

Q.6 उस शब्द-युग्म का चयन करें जिसमें दो शब्द उसी तरह से संबंधित हैं जैसे निम्नलिखित शब्द-युग्म में दो शब्द संबंधित हैं:

मंदिर : पूजा

- Ans
- 1. विश्वविद्यालय : प्रोफेसर

2. होटल : खर्च  
 3. विद्यालय : शिक्षा  
 4. अस्पताल : डॉक्टर

Question ID : 98958016863  
Status : Answered  
Chosen Option : 3

Q.7 उस संख्या-युग्म का चयन करें जिसमें दो संख्याएँ उसी तरह से संबंधित हैं जैसे कि निम्नलिखित संख्या-युग्म की दो संख्याएँ संबंधित हैं।

11 : 120

- Ans  1. 12 : 144  
 2. 2 : 3  
 3. 17 : 289  
 4. 8 : 65

Question ID : 98958016869  
Status : Answered  
Chosen Option : 2

Q.8 उस विकल्प का चयन करें जो तीसरे अक्षर-समूह से उसी तरह संबंधित है जैसे दूसरा अक्षर-समूह पहले अक्षर-समूह से संबंधित है।

DHMR : BJKT :: XCOE : ?

- Ans  1. UENG  
 2. VENG  
 3. VFMH  
 4. VEMG

Question ID : 98958016859  
Status : Answered  
Chosen Option : 4

Q.9 'पारा' का संबंध 'धातु' से उसी प्रकार है जैसे 'मेंढक' का संबंध '\_\_\_\_\_ ' से है।

- Ans  1. कृतक  
 2. सरीसृप  
 3. स्तनधारी  
 4. जलथलचर

Question ID : 98958016860  
Status : Answered  
Chosen Option : 2

Q.10 एक कोड भाषा में, PROXIMITY को ZQTRKAVKO के रूप में लिखा जाता है। उस भाषा में ILLOGICAL को कैसे लिखा जाएगा?

- Ans  1. QNNLINBEL  
 2. QMMKIMCEK  
 3. QNNKINCEK  
 4. RNNLINCEK

Question ID : 98958016857

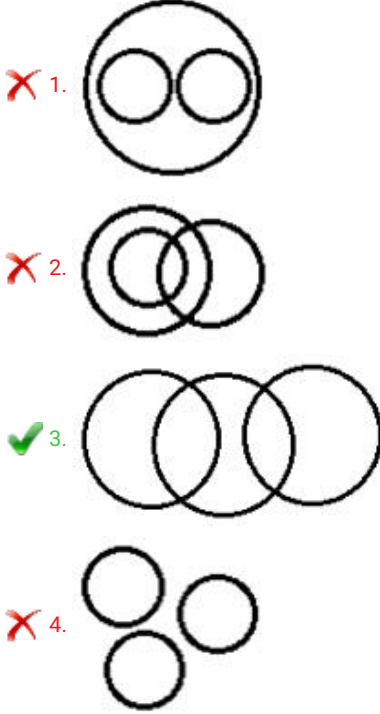
Status : Answered

Chosen Option : 4

Q.11 उस वेन आरेख का चयन करें जो निम्नलिखित वर्गों के बीच के संबंध को सबसे अच्छा दर्शाता है।

महिलाएं, वकील, बेटे

Ans



Question ID : 98958016880

Status : Answered

Chosen Option : 3

Q.12 निम्नलिखित चार शब्दों में से तीन शब्द एक निश्चित तरीके से एक जैसे हैं और एक अलग है। उस अलग शब्द को चुनिए।

Ans

1. फोड़ा
2. खून की कमी
3. हार्मोन
4. उच्च रक्तचाप

Question ID : 98958016865

Status : Answered

Chosen Option : 1

Q.13 निम्नलिखित श्रृंखला में कौन-सी संख्या प्रश्न चिह्न (?) के स्थान पर आएगी?

55, 56, 64, 91, 155, ?

Ans

1. 275
2. 265
3. 280
4. 270

Question ID : 98958016872

Status : Answered  
Chosen Option : 3

Q.14 निम्नलिखित चार संख्याओं में से तीन संख्या एक निश्चित तरीके से एक जैसे हैं और एक अलग है। उस अलग संख्या चयन कीजिए।

- Ans
- 1. 448
  - 2. 336
  - 3. 226
  - 4. 224

Question ID : 98958016873  
Status : Answered  
Chosen Option : 1

Q.15 अगर एक दर्पण को आकृति के दाईं ओर रखा जाये तो दिए गए चित्र की सही दर्पण छवि का चयन करें।

6 4 E K P C 9 2

- Ans
- 1.
  - 2.
  - 3.
  - 4.

Question ID : 98958016879  
Status : Answered  
Chosen Option : 1

Q.16 उस समुच्चय का चयन करें जिसमें संख्याएँ उसी तरह से संबंधित हैं जैसे कि निम्नलिखित समुच्चय की संख्याएँ संबंधित हैं।

(8, 39, 5)

- Ans
- 1. (14, 115, 9)
  - 2. (11, 67, 8)
  - 3. (9, 55, 4)
  - 4. (10, 60, 6)

Question ID : 98958016871  
Status : Not Answered  
Chosen Option : --

Q.17 A + B का अर्थ है 'A बहन है B की'  
A - B का अर्थ है 'A बेटा है B का'  
A × B का अर्थ है 'A पिता है B का'  
A ÷ B का अर्थ है 'A भाई है B का'

यदि  $S \times M \div U + L \times Z - I$  है, तो L किस प्रकार संबंधित है I से?

- Ans
- 1. पिता

- 2. बेटा
- 3. भाई
- 4. पति


Question ID : 98958016862  
Status : Answered  
Chosen Option : 1

Q.18 निम्नलिखित चार अक्षर-समूहों में से तीन अक्षर-समूह एक निश्चित तरीके से एक जैसे हैं और एक अलग है। उस अलग अक्षर-समूह को चुनिए।

- Ans
- 1. KNQT
  - 2. TWZC
  - 3. BDGJ
  - 4. DGJM

Question ID : 98958016864  
Status : Answered  
Chosen Option : 3

Q.19 उस विकल्प का चयन करें जिसमें चित्र-एक्स अंतर्निहित है। (आकृति को घुमाने की अनुमति नहीं है)



चित्र-एक्स

Ans

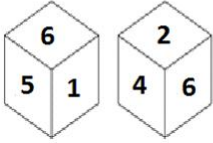
- 1.
- 2.
- 3.
- 4.

Question ID : 98958016877

Status : Answered

Chosen Option : 3

Q.20 एक ही पासे की दो अलग-अलग स्थितियों को नीचे दर्शाया गया है, जिसके छह फलकों पर 1 से 6 संख्याएँ अंकित हैं। '3' संख्या वाले फलक के सामने वाली संख्या ज्ञात कीजिए।



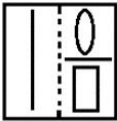
- Ans
- 1. 6
  - 2. 4
  - 3. 5
  - 4. 2

Question ID : 98958016874

Status : Answered

Chosen Option : 1

Q.21 एक पारदर्शी शीट का चित्र एक पैटर्न के साथ नीचे दिया गया है। उस विकल्प का चयन करें जो यह दिखाता है कि बिंदीदार रेखा पर पारदर्शी शीट को मोड़ने पर पैटर्न कैसा दिखाई देगा।



Ans

- 1.
- 2.
- 3.
- 4.

Question ID : 98958016878

Status : Not Answered

Chosen Option : --

Q.22 उस समुच्चय का चयन करें जिसमें संख्याएँ उसी तरह से संबंधित हैं जैसे कि निम्नलिखित समुच्चय की संख्याएँ संबंधित हैं।

(145, 65, 115)

- Ans  1. (185, 70, 95)  
 2. (185, 65, 170)  
 3. (130, 70, 100)  
 4. (80, 50, 110)

Question ID : 98958016870

Status : Answered

Chosen Option : 4

Q.23 तीन मित्रों A, B और C के पास अलग-अलग राशि हैं। यदि A, B से ₹10 लेता है, तो A के पास C से ₹4 कम होंगे। A और C के पास कुल मिला कर ₹330 हैं। C के पास कितने रुपये हैं?

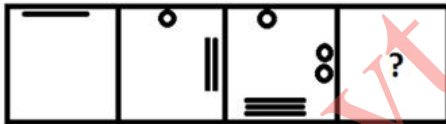
- Ans  1. 170  
 2. 174  
 3. 172  
 4. 176

Question ID : 98958016867

Status : Answered

Chosen Option : 4

Q.24 उस आकृति का चयन करें जो नीचे दी गई आकृति श्रृंखला में अगले स्थान पर आएगी।



Ans

- 1.
- 2.
- 3.



✓ 4.



Question ID : 98958016875

Status : Answered

Chosen Option : 2

Q.25 यदि CALLOSUM को 31336134 के रूप में कोडबद्ध किया गया है, तो CEREMONY को कैसे कोडबद्ध किया जाएगा?

- Ans
- 1. 35854656
  - 2. 35954657
  - 3. 25945757
  - 4. 35954547

Question ID : 98958016858

Status : Not Answered

Chosen Option : --

Section : General Awareness

Q.1 मई 2019 में पूर्व मिस वर्ल्ड प्रियंका चोपड़ा ने मानवतावादी कार्यों के लिए यूनिसेफ की सद्भावना राजदूत के रूप में \_\_\_\_\_ का दौरा किया।

- Ans
- 1. केन्या
  - 2. इथोपिया
  - 3. युगांडा
  - 4. कांगो लोकतांत्रिक गणराज्य

Question ID : 98958016552

Status : Answered

Chosen Option : 3

Q.2 निम्न में से किस भारतीय राज्य में 'चकरी' एक प्रकार का पारंपरिक संगीत लोकप्रिय है?

- Ans
- 1. जम्मू और कश्मीर
  - 2. पंजाब
  - 3. राजस्थान
  - 4. मध्य प्रदेश

Question ID : 98958016530

Status : Answered

Chosen Option : 3

Q.3 1998 में गूगल की स्थापना लैरी पेज और \_\_\_\_\_ ने की थी।

- Ans
- 1. पीटर थिएल
  - 2. सर्गी ब्रिन
  - 3. इलॉन मस्क
  - 4. स्टीव वॉज़निएक

Question ID : 98958016537  
Status : Answered  
Chosen Option : 3

Q.4 टम्बल टर्न्स शब्द निम्नलिखित में से किस खेल से जुड़ा हुआ है?

- Ans
- 1. लम्बी कूद
  - 2. साइकिलिंग
  - 3. दौड़
  - 4. तैराकी

Question ID : 98958016548  
Status : Answered  
Chosen Option : 2

Q.5 जवाहरलाल नेहरू बंदरगाह कहां स्थित है?

- Ans
- 1. केरल
  - 2. आंध्र प्रदेश
  - 3. पश्चिम बंगाल
  - 4. महाराष्ट्र

Question ID : 98958016540  
Status : Answered  
Chosen Option : 4

Q.6 \_\_\_\_\_ कंप्यूटर में मुख्य प्रिंटेड सर्किट बोर्ड (PCB) होता है।

- Ans
- 1. RAM (रैंडम एक्सेस मेमोरी)
  - 2. मदरबोर्ड
  - 3. CPU (सेंट्रल प्रोसेसिंग यूनिट)
  - 4. ROM (रीड ओनली मेमोरी)

Question ID : 98958016536  
Status : Answered  
Chosen Option : 1

Q.7 कलुमार शिखर \_\_\_\_\_ पर्वत श्रृंखला में उच्चतम बिंदु है।

- Ans
- 1. विंध्य
  - 2. काराकोरम
  - 3. अरावली
  - 4. सतपुड़ा

Question ID : 98958016541  
Status : Answered  
Chosen Option : 4

Q.8 2019 में भारत में 'विश्व मौसम विज्ञान दिवस' \_\_\_\_\_ को मनाया गया।

- Ans
- 1. 17 फरवरी
  - 2. 18 अप्रैल
  - 3. 20 मई

✗ 4. 25 जनवरी

Question ID : 98958016551  
Status : Answered  
Chosen Option : 3

Q.9 मई 2019 में पाकिस्तान ने \_\_\_\_\_ नामक सतह से सतह पर मार करने वाली बैलिस्टिक मिसाइल का सफल परीक्षण किया।

- Ans
- ✗ 1. सलाम III
  - ✗ 2. मुसाफिर II
  - ✓ 3. शाहीन II
  - ✗ 4. वतन I

Question ID : 98958016553  
Status : Answered  
Chosen Option : 2

Q.10 \_\_\_\_\_ तुर्की में खेले गये विश्व चैलेंज कप में एक ग्लोबल इवेंट में स्वर्ण पदक जीतने वाला पहला भारतीय जिम्नास्ट है।

- Ans
- ✗ 1. आशीष कुमार
  - ✓ 2. दीपा कर्माकर
  - ✗ 3. राकेश पात्रा
  - ✗ 4. अरुणा रेड्डी

Question ID : 98958016550  
Status : Not Answered  
Chosen Option : --

Q.11 संसद के दोनों सदनों और उसकी समितियों और सदस्यों की शक्तियाँ, विशेषाधिकार और बचाव के बारे में मुख्य रूप से भारत के संविधान के अनुच्छेद \_\_\_\_\_ में उल्लेख किया गया है।

- Ans
- ✗ 1. 102
  - ✓ 2. 105
  - ✗ 3. 107
  - ✗ 4. 115

Question ID : 98958016546  
Status : Answered  
Chosen Option : 3

Q.12 'एन एरा ऑफ डार्कनेस: द ब्रिटिश एम्पायर इन इंडिया' पुस्तक किसने लिखी है?

- Ans
- ✓ 1. शशि थरूर
  - ✗ 2. रामचंद्र गुहा
  - ✗ 3. सुधा मूर्ति
  - ✗ 4. ए पी जे अब्दुल कलाम

Question ID : 98958016544  
Status : Answered  
Chosen Option : 4

Q.13 चूने का रासायनिक नाम क्या है?

- Ans
- 1. कैल्शियम क्लोराइड
  - 2. कैल्शियम हाइड्रॉक्साइड
  - 3. कैल्शियम नाइट्रेट
  - 4. सोडियम क्लोराइड

Question ID : 98958016535  
Status : Answered  
Chosen Option : 2

Q.14 बिब' शब्द निम्नलिखित में से किस खेल से जुड़ा है? इस शब्द का अर्थ संख्याएँ छपी हुई शीट होता है।

- Ans
- 1. दौड़
  - 2. फुटबॉल
  - 3. लॉन टेनिस
  - 4. हॉकी

Question ID : 98958016549  
Status : Not Answered  
Chosen Option : --

Q.15 रगड़ कर सफाई (scouring) और ब्लीच की प्रक्रियाओं से गुजरने के बाद 99% कपास किस पॉलीमर से बना होता है?

- Ans
- 1. सेल्यूलोज़
  - 2. इपोक्सी
  - 3. प्रोटीन
  - 4. टेफ्लॉन

Question ID : 98958016534  
Status : Not Answered  
Chosen Option : --

Q.16 ऐतिहासिक शेरशाह सूरी मार्ग को किस मार्ग के रूप में जाना जाता है?

- Ans
- 1. राष्ट्रीय राजमार्ग संख्या 23
  - 2. राष्ट्रीय राजमार्ग संख्या 8
  - 3. राष्ट्रीय राजमार्ग संख्या 1
  - 4. राष्ट्रीय राजमार्ग संख्या 11

Question ID : 98958016539  
Status : Answered  
Chosen Option : 2

Q.17 संसद सदस्य स्थानीय क्षेत्र विकास योजना (MPLADS) को दिसंबर \_\_\_\_\_ में पेश किया गया था।

- Ans
- 1. 1991
  - 2. 2014
  - 3. 1993
  - 4. 2004

Question ID : 98958016547  
Status : Answered

Chosen Option : 2

Q.18 14 वीं शताब्दी की शुरूआत में चोल साम्राज्य पर \_\_\_\_\_ ने हमला किया था।

- Ans
- 1. तैमूर
  - 2. चंगेज खान
  - 3. मलिक काफूर
  - 4. मोहम्मद गौरी

Question ID : 98958016542

Status : Answered

Chosen Option : 4

Q.19 भारतीय इस्पात उपयोगकर्ता संघ के अनुसार वर्ष 2018 में वैश्विक कच्चे इस्पात उत्पादन में भारत का स्थान क्या था?

- Ans
- 1. तीसरा
  - 2. पहला
  - 3. दूसरा
  - 4. चौथा

Question ID : 98958016531

Status : Answered

Chosen Option : 1

Q.20 निम्नलिखित में से किस राज्य से 'भवाईया' लोकगीत संबंधित है?

- Ans
- 1. ओडिशा
  - 2. छत्तीसगढ़
  - 3. झारखंड
  - 4. पश्चिम बंगाल

Question ID : 98958016529

Status : Answered

Chosen Option : 1

Q.21 2018 में रैमन मैग्सेसे पुरस्कार से सम्मानित होने वाले दो भारतीय व्यक्ति भारत वटवानी और \_\_\_\_\_ थे।

- Ans
- 1. सत्यभामा दास बीजू
  - 2. सोनम वांगचुक
  - 3. राजेन्द्र सिंह
  - 4. अरविंद केजरीवाल

Question ID : 98958016545

Status : Answered

Chosen Option : 1

Q.22 एक बाज़ार में किसी संपत्ति को खरीदने और उसी समय किसी दूसरे बाज़ार में ऊँची कीमत पर वैसी ही संपत्ति बेचने को अर्थशास्त्र में \_\_\_\_\_ कहा जाता है।

- Ans
- 1. मूल्यहास
  - 2. गिरवी
  - 3. अन्तरपणन

✗ 4. अवमूल्यन

Question ID : 98958016532  
Status : Answered  
Chosen Option : 3

Q.23 \_\_\_\_\_ बहुत ऊंचाई पर हिमपात (Snow) और बर्फ का एक बड़ा ढेर होता है जो पहाड़ी ढलानों से नीचे गिरता है।

- Ans
- ✓ 1. हिमखलन
  - ✗ 2. चक्रवात
  - ✗ 3. ज्वालामुखी
  - ✗ 4. तूफान

Question ID : 98958016538  
Status : Answered  
Chosen Option : 1

Q.24 \_\_\_\_\_ वह प्रक्रिया है जिससे हवा में मौजूद जल-वाष्प, तरल पानी में बदल जाता है।

- Ans
- ✗ 1. वाष्पीकरण
  - ✗ 2. वर्षण
  - ✗ 3. निस्तारण
  - ✓ 4. संघनन

Question ID : 98958016533  
Status : Answered  
Chosen Option : 2

Q.25 \_\_\_\_\_ ने अरब सागर के किनारे काठियावाड़ के दक्षिणी तट पर हमला किया, जहाँ उसने 1026 में सोमनाथ शहर और उस शहर के प्रसिद्ध हिंदू मंदिर को लूटा।

- Ans
- ✗ 1. मोहम्मद गौरी
  - ✓ 2. महमूद गज़नवी
  - ✗ 3. अहमद शाह तुगलक
  - ✗ 4. फ़िरोज़ शाह तुगलक

Question ID : 98958016543  
Status : Answered  
Chosen Option : 3

Section : Quantitative Aptitude

Q.1 यदि  $(x-7)^3 + (2x+8)^3 + (2x-3)^3 = 3(x-7)(2x+8)(2x-3)$  है, तो x का मान क्या है?

- Ans
- ✗ 1. 1.6
  - ✗ 2. 1.2
  - ✗ 3. 2.4
  - ✓ 4. 0.4

Question ID : 98958017244  
Status : Answered  
Chosen Option : 1

Q.2 यदि  $\sin \theta = 3x$  और  $\cos \theta = \frac{3}{x}$ , ( $x \neq 0$ ) है, तो  $6\left(x^2 + \frac{1}{x^2}\right)$  का मान है:

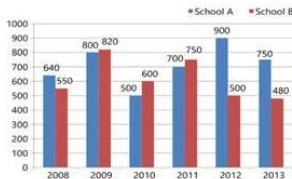
- Ans
- 1.  $\frac{1}{4}$
  - 2.  $\frac{1}{2}$
  - 3.  $\frac{1}{3}$
  - 4.  $\frac{2}{3}$

Question ID : 98958017250

Status : Answered

Chosen Option : 2

Q.3 दिया गया दंड आरेख (बार ग्राफ) छह वर्षों के दौरान दो स्कूलों में विद्यार्थियों की संख्या को दर्शाता है।



एक साथ सभी वर्षों के लिए स्कूल A और स्कूल B के कुल विद्यार्थियों की संख्याओं का अनुपात कितना है?

- Ans
- 1. 401 : 417
  - 2. 370 : 429
  - 3. 429 : 370
  - 4. 417 : 401

Question ID : 98958017253

Status : Answered

Chosen Option : 4

Q.4 यदि  $4(\operatorname{cosec}^2 66^\circ - \tan^2 24^\circ) + \frac{1}{2} \sin 90^\circ - 4 \tan^2 66^\circ y \tan^2 24^\circ = \frac{y}{2}$  है, तो  $y$  का मान है:

- Ans
- 1.  $-\frac{1}{2}$
  - 2.  $\frac{1}{2}$
  - 3.  $-1$
  - 4.  $1$

Question ID : 98958017249

Status : Answered

Chosen Option : 3

Q.5 यदि किसी आयत की प्रत्येक भुजा को 13% बढ़ाया जाए, तो इसके क्षेत्रफल में वृद्धि होगी:

- Ans
- 1. 27.69%
  - 2. 13%

✗ 3. 21.69%

✗ 4. 26%

Question ID : 98958017233  
Status : Answered  
Chosen Option : 4

Q.6 किसी वृत्त की जीवा AB और CD एक-दूसरे को बाहरी रूप से P पर काटती हैं। यदि AB = 6 cm, CD = 3 cm और PB = 4 cm है, तो PD की लंबाई (cm में) है:

Ans ✓ 1. 5

✗ 2. 2

✗ 3. 6

✗ 4. 7

Question ID : 98958017246  
Status : Answered  
Chosen Option : 2

Q.7 पंद्रह व्यक्तियों की औसत आयु 32 वर्ष है। दो और व्यक्तियों को शामिल किए जाने पर, औसत आयु 3 वर्ष बढ़ जाती है। नए व्यक्तियों की आयु में 7 वर्षों का अंतर है। नए व्यक्तियों में बड़े व्यक्ति की आयु (वर्ष में) है:

Ans ✗ 1. 58

✗ 2. 50

✓ 3. 61

✗ 4. 54

Question ID : 98958017234  
Status : Answered  
Chosen Option : 3

Q.8 दो विद्यार्थी, A और B किसी परीक्षा में शामिल हुए। A को B से 8 अंक अधिक मिले और पूर्ववर्ती का अंक, उन दोनों के अंकों के योगफल का 60% था। A और B द्वारा प्राप्त अंकों का योगफल है:

Ans ✗ 1. 75

✗ 2. 45

✓ 3. 40

✗ 4. 50

Question ID : 98958017237  
Status : Answered  
Chosen Option : 1

Q.9 एक पूर्णांक n दिया गया है,  $(6n + 3)^2$  को 9 से विभाजित करने पर शेषफल कितना होगा?

Ans ✗ 1. 2

✗ 2. 3

✗ 3. 1

✓ 4. 0

Question ID : 98958017240



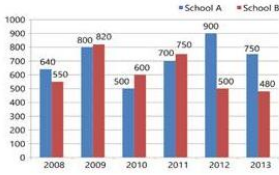
Status : **Answered**  
Chosen Option : 2

Q.10 4 cm और 2 cm विज्या वाले दो वृत्तों के केंद्रों के बीच की दूरी 10 सेमी है। अनुप्रस्थ उभयनिष्ठ स्पर्शरेखा की लंबाई (cm में) है:

- Ans  1. 8  
 2. 10  
 3. 6  
 4. 4

Question ID : **98958017245**  
Status : **Answered**  
Chosen Option : 3

Q.11 दिया गया दंड आरेख (बार ग्राफ) छह वर्षों के दौरान दो स्कूलों में विद्यार्थियों की संख्या को दर्शाता है।



किस वर्ष में, स्कूल A के विद्यार्थियों की संख्या में प्रतिशत वृद्धि इसके पिछले वर्ष की तुलना में सबसे अधिक है?

- Ans  1. 2012  
 2. 2009  
 3. 2011  
 4. 2010

Question ID : **98958017255**  
Status : **Not Answered**  
Chosen Option : --

Q.12 दो ट्रेनों की चालों का अनुपात 2 : 5 है। यदि पहली ट्रेन 5 घंटे में 350 km जाती है, तो दोनों ट्रेनों की चालों (km/h में) का योगफल है:

- Ans  1. 265  
 2. 245  
 3. 180  
 4. 350

Question ID : **98958017232**  
Status : **Answered**  
Chosen Option : 2

Q.13 यदि  $\cos x = \frac{-\sqrt{3}}{2}$  और  $\pi < x < \frac{3\pi}{2}$  है, तो  $2\cot^2 x - 3\sec^2 x$  का मान है:

- Ans  1. 4  
 2. 8  
 3. 16

✓ 4. 10

Question ID : 98958017251  
Status : Not Answered  
Chosen Option : --

Q.14 दो संख्याएं 3 : 4 के अनुपात में हैं। प्रत्येक में 30 बढ़ाने पर, उनका अनुपात 9 : 10 हो जाता है। वह संख्याएं हैं:

- Ans
- ✗ 1. 30, 40
  - ✓ 2. 15, 20
  - ✗ 3. 18, 24
  - ✗ 4. 12, 16

Question ID : 98958017238  
Status : Answered  
Chosen Option : 4

Q.15 किसी धनराशि पर 11% की दर से 2 वर्षों का चक्रवृद्धि ब्याज ₹6963 है। समान अवधि और समान दर पर इसका साधारण ब्याज (₹ में) है:

- Ans
- ✓ 1. ₹6600
  - ✗ 2. ₹6500
  - ✗ 3. ₹6000
  - ✗ 4. ₹6750

Question ID : 98958017239  
Status : Answered  
Chosen Option : 4

Q.16 एक डीलर ₹20000 के अंकित मूल्य पर 10% और 8% की दो क्रमिक छूटों के साथ एक वस्तु खरीदता है। वह मरम्मत पर ₹1440 खर्च करता है और इसे ₹20000 में बेच देता है। उसका लाभ/हानि प्रतिशत क्या है (एक दशमलव स्थान तक सही)?

- Ans
- ✗ 1. 12.3% हानि
  - ✗ 2. 12.3% लाभ
  - ✓ 3. 11.1% लाभ
  - ✗ 4. 11.1% हानि

Question ID : 98958017235  
Status : Not Answered  
Chosen Option : --

Q.17 A और B के वेतनों का योगफल ₹ 43000 है। A अपने वेतन का 95% खर्च करता है और B अपने वेतन का 80% खर्च करता है। अब यदि उनकी बचत बराबर है तो B का वेतन (₹ में) कितना है?

- Ans
- ✗ 1. 8000
  - ✗ 2. 34400
  - ✓ 3. 8600
  - ✗ 4. 10600

Question ID : 98958017236

Status : Answered

Chosen Option : 4

Q.18 यदि  $x = 2 + \sqrt{3}$  है, तो  $x^3 - x^{-3}$  का मान है:

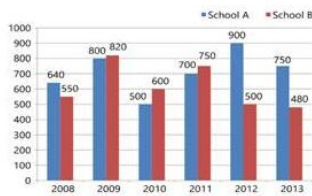
- Ans
- 1. -52
  - 2.  $-30\sqrt{3}$
  - 3.  $30\sqrt{3}$
  - 4. 52

Question ID : 98958017243

Status : Not Answered

Chosen Option : --

Q.19 दिया गया दंड आरेख (बार ग्राफ) छह वर्षों के दौरान दो स्कूलों में विद्यार्थियों की संख्या को दर्शाता है।



किस वर्ष में, दोनों स्कूलों के विद्यार्थियों की संख्या का निरपेक्ष अंतर सबसे कम है?

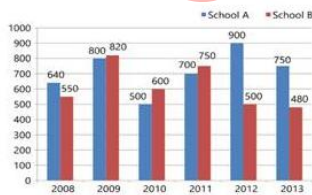
- Ans
- 1. 2008
  - 2. 2009
  - 3. 2011
  - 4. 2012

Question ID : 98958017252

Status : Not Answered

Chosen Option : --

Q.20 दिया गया दंड आरेख (बार ग्राफ) छह वर्षों के दौरान दो स्कूलों में विद्यार्थियों की संख्या को दर्शाता है।



छह वर्षों की अवधि के दौरान स्कूल A के विद्यार्थियों की औसत संख्या क्या है?

- Ans
- 1. 700
  - 2. 715
  - 3. 760
  - 4. 765

Question ID : 98958017254  
Status : Not Answered  
Chosen Option : --

Q.21 A और B किसी काम को क्रमशः 15 और 10 दिनों में पूरा कर सकते हैं। उन्हें ₹35000 में काम पूरा करने का ठेका (कॉन्ट्रैक्ट) मिला। ठेके की राशि में B का हिस्सा (₹ में) होगा:

- Ans
- 1. ₹15000
  - 2. ₹21000
  - 3. ₹7000
  - 4. ₹14000

Question ID : 98958017231  
Status : Answered  
Chosen Option : 4

Q.22  $\frac{(3\frac{1}{5} + \frac{3}{5}) \div \frac{8}{5}}{1\frac{1}{8} \div \{ \frac{5}{8} + (\frac{1}{8} \div \frac{1}{3}) \}}$  का मान है:

- Ans
- 1.  $\frac{19}{16}$
  - 2.  $\frac{19}{7}$
  - 3.  $\frac{19}{64}$
  - 4.  $\frac{19}{9}$

Question ID : 98958017241  
Status : Not Answered  
Chosen Option : --

Q.23 यदि  $6^{\sqrt{x}} + 8^{\sqrt{x}} = 10^{\sqrt{x}}$  है, तो x का मान है:

- Ans
- 1. 8
  - 2. 2
  - 3. 16
  - 4. 4

Question ID : 98958017242  
Status : Not Answered  
Chosen Option : --

Q.24 एक बहुभुज की 11 भुजाएं हैं। बहुभुज के शीर्ष-मात्र के उपयोग से कितने त्रिभुज खींचे जा सकते हैं?

- Ans
- 1. 175
  - 2. 180
  - 3. 150
  - 4. 165

Question ID : 98958017248  
Status : Answered  
Chosen Option : 4

Q.25 यदि  $\triangle ABC$  में,  $\angle B$  और  $\angle C$  के समद्विभाजक त्रिभुज के अंदर  $O$  पर मिलते हैं। यदि  $\angle BOC = 156^\circ$  है, तो  $\angle A$  की माप है:

- Ans
- 1.  $132^\circ$
  - 2.  $156^\circ$
  - 3.  $66^\circ$
  - 4.  $84^\circ$

Question ID : 98958017247  
Status : Not Answered  
Chosen Option : --

Section : English Language

Q.1 Select the most appropriate antonym of the given word.

NOVEL

- Ans
- 1. fresh
  - 2. old
  - 3. original
  - 4. new

Question ID : 98958016184  
Status : Not Answered  
Chosen Option : --

Q.2 Select the most appropriate word for the group of words.

Willing to be guided or controlled

- Ans
- 1. abominable
  - 2. amenable
  - 3. adamant
  - 4. adorable

Question ID : 98958016189  
Status : Not Answered  
Chosen Option : --

Q.3 Fill in the blank with the most appropriate word.

\_\_\_\_\_ people are remembered even after death for their good deeds.

- Ans
- 1. Virtual
  - 2. Violent
  - 3. Vicious
  - 4. Virtuous

Question ID : 98958016192

Status : **Not Answered**  
Chosen Option : --

**Q.4 Identify the segment which contains the grammatical error.**

He asked from me if I was interested in a career in modelling.

- Ans
- 1. from me if
  - 2. in a career
  - 3. I was interested
  - 4. He asked

Question ID : **98958016168**  
Status : **Not Answered**  
Chosen Option : --

**Q.5 Select the most appropriate synonym of the given word.**

**VITAL**

- Ans
- 1. needless
  - 2. insignificant
  - 3. trivial
  - 4. essential

Question ID : **98958016182**  
Status : **Not Answered**  
Chosen Option : --

**Comprehension:**

In the following passage some words have been deleted. Fill in the blanks with the help of the alternatives given. Select the most appropriate option for each blank.

For two months I have been trying to decide who (1) \_\_\_\_\_ the best ice cream. I have (2) \_\_\_\_\_ it down to my two favourite manufacturers. Let's start (3) \_\_\_\_\_ Randolph Farms who have lots of (4) \_\_\_\_\_ flavours. Then, we have Goodies who use natural (5) \_\_\_\_\_ to make excellent ice cream.

**SubQuestion No : 6**

**Q.6 Select the most appropriate option to fill in blank number 1**

- Ans
- 1. was making
  - 2. is making
  - 3. make
  - 4. makes

Question ID : **98958016175**  
Status : **Not Answered**  
Chosen Option : --

**Comprehension:**

In the following passage some words have been deleted. Fill in the blanks with the help of the alternatives given. Select the most appropriate option for each blank.

For two months I have been trying to decide who (1) \_\_\_\_\_ the best ice cream. I have (2) \_\_\_\_\_ it down to my two favourite manufacturers. Let's start (3) \_\_\_\_\_ Randolph Farms who have lots of (4) \_\_\_\_\_ flavours. Then, we have Goodies who use natural (5) \_\_\_\_\_ to make excellent ice cream.

**SubQuestion No : 7**

Q.7 Select the most appropriate option to fill in blank number 2

- Ans  1. narrowed  
 2. cancelled  
 3. chosen  
 4. selected

Question ID : 98958016176  
Status : Not Answered  
Chosen Option : --

**Comprehension:**

In the following passage some words have been deleted. Fill in the blanks with the help of the alternatives given. Select the most appropriate option for each blank.

For two months I have been trying to decide who (1) \_\_\_\_\_ the best ice cream. I have (2) \_\_\_\_\_ it down to my two favourite manufacturers. Let's start (3) \_\_\_\_\_ Randolph Farms who have lots of (4) \_\_\_\_\_ flavours. Then, we have Goodies who use natural (5) \_\_\_\_\_ to make excellent ice cream.

SubQuestion No : 8

Q.8 Select the most appropriate option to fill in blank number 3

- Ans  1. off  
 2. by  
 3. from  
 4. with

Question ID : 98958016177  
Status : Not Answered  
Chosen Option : --

**Comprehension:**

In the following passage some words have been deleted. Fill in the blanks with the help of the alternatives given. Select the most appropriate option for each blank.

For two months I have been trying to decide who (1) \_\_\_\_\_ the best ice cream. I have (2) \_\_\_\_\_ it down to my two favourite manufacturers. Let's start (3) \_\_\_\_\_ Randolph Farms who have lots of (4) \_\_\_\_\_ flavours. Then, we have Goodies who use natural (5) \_\_\_\_\_ to make excellent ice cream.

SubQuestion No : 9

Q.9 Select the most appropriate option to fill in blank number 4

- Ans  1. variety  
 2. various  
 3. unlike  
 4. different

Question ID : 98958016178  
Status : Not Answered  
Chosen Option : --

**Comprehension:**

In the following passage some words have been deleted. Fill in the blanks with the help of the alternatives given. Select the most appropriate option for each blank.

For two months I have been trying to decide who (1) \_\_\_\_\_ the best ice cream. I have (2) \_\_\_\_\_ it down to my two favourite manufacturers. Let's start (3) \_\_\_\_\_ Randolph Farms who

have lots of (4) \_\_\_\_\_ flavours. Then, we have Goodies who use natural (5) \_\_\_\_\_ to make excellent ice cream.

SubQuestion No : 10

Q.10 Select the most appropriate option to fill in blank number 5

- Ans
- 1. goods
  - 2. elements
  - 3. particles
  - 4. ingredients

Question ID : 98958016179  
Status : Not Answered  
Chosen Option : --

Q.11 Given below are four jumbled sentences. Out of the given options pick the one that gives their correct order.

- A. We even fail to recognize that their call of duty keeps them away from their families.
- B. Yet, we often fail to appreciate these sacrifices that they make.
- C. They make countless sacrifices for the nation and keep us safe from our enemies.
- D. The uniformed men and women are our unsung heroes.

- Ans
- 1. DCBA
  - 2. ABCD
  - 3. CBAD
  - 4. DABC

Question ID : 98958016181  
Status : Not Answered  
Chosen Option : --

Q.12 Given below are four jumbled sentences. Out of the given options pick the one that gives their correct order.

- A. As a result, he had gotten into a million activities and hobbies.
- B. Thus, his parents were now reluctant to spend any more money on his hobbies.
- C. John hated finishing things almost as much as he loved starting them.
- D. But he never stuck with any of them for long.

- Ans
- 1. ADCB
  - 2. CADB
  - 3. BCAD
  - 4. CDBA

Question ID : 98958016180  
Status : Not Answered  
Chosen Option : --

Q.13 Select the most appropriate synonym of the given word.

PITFALL

- Ans
- 1. haven
  - 2. retreat
  - 3. hazard
  - 4. refuge

Question ID : 98958016183



Status : **Not Answered**  
Chosen Option : --

Q.14 Select the most appropriate antonym of the given word.

OMINOUS

- Ans
- 1. foreboding
  - 2. threatening
  - 3. auspicious
  - 4. baleful

Question ID : **98958016185**  
Status : **Not Answered**  
Chosen Option : --

Q.15 Identify the most appropriate option to substitute the underlined segment. If no substitution is required, select No substitution.

The commander of the ship as well as the crew are caught by the storm.

- Ans
- 1. are caught in
  - 2. is caught in
  - 3. No substitution
  - 4. are being caught by

Question ID : **98958016172**  
Status : **Not Answered**  
Chosen Option : --

Q.16 Select the correctly spelt word.

- Ans
- 1. persue
  - 2. persoue
  - 3. pursue
  - 4. purseue

Question ID : **98958016190**  
Status : **Not Answered**  
Chosen Option : --

Q.17 Select the most appropriate meaning of the given idiom.

In a pickle

- Ans
- 1. in jubilation
  - 2. in deep sorrow
  - 3. in trouble
  - 4. in great pain

Question ID : **98958016187**  
Status : **Not Answered**  
Chosen Option : --

Q.18 Select the most appropriate meaning of the given idiom.

Red letter day

- Ans
- 1. a very hot day
  - 2. a frightful day
  - 3. a very special day
  - 4. a very cold day

Question ID : 98958016186  
Status : Not Answered  
Chosen Option : --

Q.19 Select the most appropriate word for the group of words.

That which cannot be seen through

- Ans
- 1. magical
  - 2. opaque
  - 3. transparent
  - 4. invisible

Question ID : 98958016188  
Status : Not Answered  
Chosen Option : --

Q.20 Identify the most appropriate option to substitute the underlined segment. If no substitution is required, select No substitution.

All the accident victims have been admitted and received attention.

- Ans
- 1. and have received
  - 2. but are receiving
  - 3. No substitution
  - 4. so had received

Question ID : 98958016173  
Status : Not Answered  
Chosen Option : --

Q.21 Select the most appropriate indirect form of the given sentence.

She says, "I go for a walk every morning."

- Ans
- 1. She says that she goes for a walk every morning.
  - 2. She said that she goes for a walk every morning.
  - 3. She says that I go for a walk every morning.
  - 4. She said that she went for a walk every morning.

Question ID : 98958016171  
Status : Not Answered  
Chosen Option : --

Q.22 Select the wrongly spelt word.

- Ans
- 1. acheive
  - 2. receive
  - 3. believe

4. grieve

Question ID : 98958016191  
Status : Not Answered  
Chosen Option : --

Q.23 Identify the segment which contains the grammatical error.

The picture of the king's is exactly like the king himself.

- Ans
- 1. The picture
  - 2. is exactly like
  - 3. the king himself
  - 4. of the king's

Question ID : 98958016169  
Status : Not Answered  
Chosen Option : --

Q.24 Select the most appropriate passive form of the given sentence.

He threw the ball towards his little brother.

- Ans
- 1. His little brother's ball was thrown at him.
  - 2. The ball was thrown towards his little brother.
  - 3. The ball is thrown towards his little brother.
  - 4. The ball is being thrown towards his little brother.

Question ID : 98958016170  
Status : Not Answered  
Chosen Option : --

Q.25 Fill in the blank with the most appropriate word.

She was \_\_\_\_\_ with joy at winning the talent show.

- Ans
- 1. overturned
  - 2. overruled
  - 3. overpowered
  - 4. overwhelmed

Question ID : 98958016193  
Status : Not Answered  
Chosen Option : --