

Constable GD in CAPFs SSF Rifleman GD in Assam Rifles and Sepoy in NCB Examination 2022

Roll Number	www.govtjobsalert.in
Candidate Name	www.govtjobsalert.in
Venue Name	ION Digital Zone iDZ Trinity 2 Headway 2 Kokta Bypass Road
Exam Date	17/01/2023
Exam Time	11:45 AM - 12:45 PM
Subject	Constable GD Examination 2022

Section : Part-A-General Intelligence and Reasoning

Q.1 In a certain code language, 'NATION' is written as 'MZGRLM' and 'PRINTS' is written as 'KIRMGH'. How will 'BOTTLE' be written in that language?

- Ans
- 1. OYGGLV
 - 2. YLGGOV
 - 3. OVGGYL
 - 4. YGGLOV

Question ID : 26433070330
Status : Answered
Chosen Option : 2

Q.2 Select the correct mirror image of the given figure, when the mirror is placed at MN as shown below.



- Ans
- 1. M f □ R r 7 q
 - 2. M f □ R r 7 q
 - 3. W f □ R r 7 q
 - 4. W f □ R r 7 q

Question ID : 26433090150
Status : Answered
Chosen Option : 3

Q.3 In a certain code, the word 'TEACHER' is written as 'RCYAFCP'. The word 'SCHOOL' is written as 'QAFMMJ'. How is the word 'SUBJECT' written in the same code?

- Ans
- 1. TVCKFDU
 - 2. RTAIDBS
 - 3. UWDLGEV
 - 4. QSZHCAR

Question ID : 26433090112
Status : Answered
Chosen Option : 1

Q.4 विकल्पों में दिए गए गणितीय चिह्नों का कौन सा संयोजन निम्न समीकरण में * चिह्नों के स्थान पर क्रमिक रूप से आकर समीकरण को संतुलित करेगा?

$$200 * 2 * 10 * 8 * 40 * 20$$

Ans 1. -, +, ÷, =, ×

2. ÷, =, ×, +, -

3. ×, +, =, ÷, -

4. ×, =, ÷, +, -

Question ID : 26433094997

Status : Answered

Chosen Option : 2

Q.5 Which of the following terms will replace the question mark (?) in the given series?
SDR, XHU, CLX, ?, MTD, RXG

Ans 1. GQZ

2. HPA

3. GPA

4. HQZ

Question ID : 26433069457

Status : Answered

Chosen Option : 2

Q.6 'A + B' का अर्थ है 'A, B की पुत्री है'
'A - B' का अर्थ है 'A, B का पति है'
'A × B' का अर्थ है 'A, B की माता है'
'A ÷ B' का अर्थ है 'A, B का भाई है'
यदि $D + E + F - G \times H \div I - J$ है, तो निम्न में से कौन सा कथन सही नहीं है?

Ans 1. D, I की बहन है

2. E, I की बहन है

3. E, H की बहन है

4. E, G की पुत्री है

Question ID : 26433090049

Status : Answered

Chosen Option : 3

Q.7 सात व्यक्ति P, Q, R, S, T, U और V एक दूसरे के बगल में एक सीधी पंक्ति में उत्तर की ओर मुख करके बैठे हैं (किंतु उनका इसी क्रम में होना अनिवार्य नहीं है)। U, V के बाईं ओर ठीक बगल में बैठा है। R, V के बाईं ओर पांचवें स्थान पर बैठा है। R, P और T के ठीक बगल में बैठा है। S, R के दाईं ओर तीसरे स्थान पर बैठा है।
Q के दाईं ओर ठीक बगल में कौन बैठा है?

Ans 1. U

2. V

3. T

4. S

Question ID : 26433080707

Status : Not Answered

Chosen Option : --

Q.8 तीन कथनों के बाद तीन निष्कर्ष I, II और III दिए गए हैं। यह मानते हुए कि कथनों में दी गयी जानकारी सही है, भले ही वह सामान्य रूप से ज्ञात तथ्यों से भिन्न लगे, निर्णय करें कि दिया गया कौन-सा/से निष्कर्ष तार्किक रूप से कथनों का अनुसरण करता है/करते हैं?

कथन:

सभी गाय स्तनधारी हैं।
सभी गधे स्तनधारी हैं।
सभी स्तनधारी जानवर हैं।

निष्कर्ष:

I. सभी गधे जानवर हैं।
II. सभी जानवर गधे हैं।
III. कुछ गाय गधे हैं।

- Ans
- 1. केवल निष्कर्ष II और III अनुसरण करते हैं
 - 2. केवल निष्कर्ष I अनुसरण करता है
 - 3. केवल निष्कर्ष I और II अनुसरण करते हैं
 - 4. सभी निष्कर्ष अनुसरण करते हैं

Question ID : 26433091716
Status : Answered
Chosen Option : 2

Q.9 Which option represents the correct order of the given words as they would appear in an English dictionary?

1. FLOWER
2. FLETCHER
3. FLORIST
4. FILTER
5. FLEUR

- Ans
- 1. 2, 4, 3, 5, 1
 - 2. 4, 2, 5, 3, 1
 - 3. 2, 4, 5, 3, 1
 - 4. 4, 5, 2, 3, 1

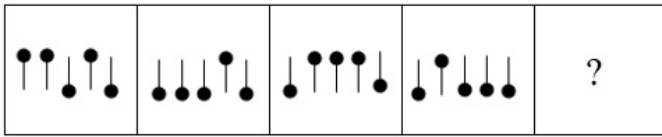
Question ID : 26433092547
Status : Answered
Chosen Option : 4

Q.10 Select the option that is related to the third term in the same way as the second term is related to the first term and the sixth term is related to the fifth term.
4 : 74 :: 6 : ? :: 7 : 353

- Ans
- 1. 256
 - 2. 450
 - 3. 216
 - 4. 226

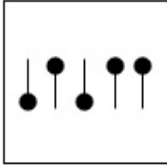
Question ID : 26433078850
Status : Not Answered
Chosen Option : --

Q.11 Select the figure from among the given options that can replace the question mark (?) in the following series.

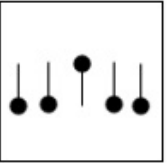


Ans

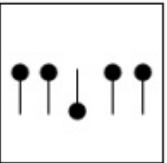
✓ 1.



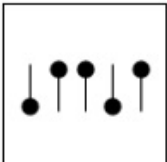
✗ 2.



✗ 3.



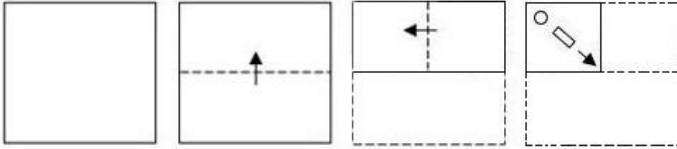
✗ 4.



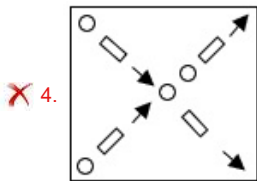
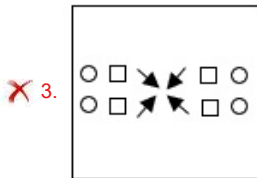
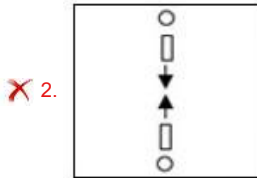
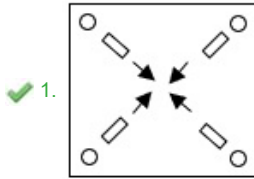
Question ID : 26433086244
Status : Answered
Chosen Option : 3

WWW.GOV TJOB S ALERT . IN

Q.12 A paper is folded and cut as shown below. How will it appear when unfolded?



Ans



Question ID : 26433090958
Status : Answered
Chosen Option : 1

Q.13 नीचे दिए गए समीकरण को गणितीय रूप से सही बनाने के लिए किन दो चिन्हों को परस्पर बदलना चाहिए?

$$63 + 5 \div 35 - 7 \times 21 = 23$$

Ans ✓ 1. × और +

✗ 2. + और -

✗ 3. ÷ और +

✗ 4. ÷ और ×

Question ID : 264330117568
Status : Answered
Chosen Option : 4

Q.14 Which of the following numbers will replace the question mark (?) in the given series?
1, 4, 27, ?, 3125

Ans ✓ 1. 256

✗ 2. 64

✗ 3. 1024

✗ 4. 128

Question ID : 26433085704
Status : Answered
Chosen Option : 3

Q.15 कौन-सा अक्षर-समूह दी गई शृंखला में प्रश्नचिह्न (?) के स्थान पर आकर शृंखला को पूर्ण करेगा?
EMRT, ?, IGVN, KDXK, MAZH

- Ans
- 1. HIUV
 - 2. IITP
 - 3. GJTQ
 - 4. HKSR

Question ID : 26433080423
Status : Answered
Chosen Option : 4

Q.16 उस विकल्प का चयन करें जो तीसरे शब्द से उसी प्रकार संबंधित है जिस प्रकार दूसरा शब्द पहले शब्द से संबंधित है।

महाराष्ट्र : मुंबई :: पश्चिम बंगाल : ?

(शब्दों को अर्थपूर्ण शब्दों के रूप में मानना है, और उन्हें शब्द में अक्षरों/व्यंजनों/स्वरों की संख्या के आधार पर एक-दूसरे से संबंधित नहीं करना है।)

- Ans
- 1. बिहार
 - 2. कोलकाता
 - 3. भोपाल
 - 4. पंजाब

Question ID : 26433087199
Status : Answered
Chosen Option : 4

Q.17 आठ व्यक्ति - D, E, G, H, K, L, S और T एक सीधी पंक्ति में उत्तर की ओर मुख करके बैठे हैं। E पंक्ति के बाएं सिरे से दूसरे स्थान पर बैठा है। H और E के बीच कोई नहीं बैठा है। G, H के दाईं ओर चौथे स्थान पर बैठा है। K, G के बाईं ओर ठीक बगल में बैठा है। K और D के बीच केवल दो व्यक्ति बैठे हैं। L, S के दाईं ओर तीसरे स्थान पर बैठा है। S और T के बीच कितने व्यक्ति बैठे हैं?

- Ans
- 1. एक
 - 2. कोई भी नहीं
 - 3. तीन
 - 4. तीन से अधिक


Question ID : 26433092757
Status : Answered
Chosen Option : 3

Q.18 Select the option figure which is embedded in the given figure. (Rotation is NOT allowed)



Ans


✓ 1.




✗ 2.



✗ 3.



✗ 4.



Question ID : 26433085751
Status : Answered
Chosen Option : 1

Q.19 Which of the following numbers will replace the question mark (?) in the given series?
5, 8, ?, 23, 35, 50, 68

Ans ✓ 1. 14

✗ 2. 10

✗ 3. 16

✗ 4. 12

Question ID : 26433090065
Status : Answered
Chosen Option : 2

Q.20 Select the option that is related to the third word in the same way as the second word is related to the first word.

(The words must be considered as meaningful English words and must not be related to each other based on the number of letters/ number of consonants / vowels in the word)

Doctor : Hospital :: Astronomer : ?

- Ans
- 1. Profession
 - 2. Observatory
 - 3. Showroom
 - 4. Ship

Question ID : 26433068056
Status : Answered
Chosen Option : 1

Section : Part-B-General Knowledge and General awareness

Q.1 Sitara Devi was famous for which of the following classical dance forms?

- Ans
- 1. Bharatnatyam
 - 2. Kathak
 - 3. Kathakali
 - 4. Manipuri

Question ID : 26433074077
Status : Answered
Chosen Option : 3

Q.2 What is the share of India in the world's water resources?

- Ans
- 1. 8%
 - 2. 15%
 - 3. 4%
 - 4. 10%

Question ID : 26433092217
Status : Answered
Chosen Option : 2

Q.3 Who inaugurated the new Durbar Hall at Raj Bhavan in Malabar Hill, Mumbai, in February 2022?

- Ans
- 1. Shri Narendra Modi
 - 2. Shri Ram Nath Kovind
 - 3. Shri Amit Shah
 - 4. Shri Uddhav Thackeray

Question ID : 26433081827
Status : Answered
Chosen Option : 4

Q.4 The Shunga dynasty was established by whom among the following rulers?

- Ans
- 1. Vasumitra
 - 2. Agnimitra
 - 3. Vajramitra
 - 4. Pushyamitra

Question ID : 26433099154
Status : Answered
Chosen Option : 4

Q.5 Who among the following has been honoured with Padma Shri for the extensive contribution in Mohiniattam?

- Ans**
- 1. K. P. Kittappa Pillai
 - 2. Suchitra Ella
 - 3. Kanak Rele
 - 4. Mahaboob Subhani

Question ID : 264330115897
Status : Answered
Chosen Option : 4

Q.6 In India, the stagnation in agriculture during the colonial rule was permanently broken by the _____.

- Ans**
- 1. credit facility
 - 2. old cropping technique
 - 3. industrial licensing
 - 4. Green Revolution

Question ID : 26433064869
Status : Answered
Chosen Option : 2

Q.7 As of November 2022, Basavaraj Bommai is the chief minister of _____ state of India.

- Ans**
- 1. Telangana
 - 2. Karnataka
 - 3. Kerala
 - 4. Tamil Nadu

Question ID : 264330114891
Status : Answered
Chosen Option : 1

Q.8 In Andhra Pradesh, who is the Chairman of the state business Advisory Committee?

- Ans**
- 1. The Governor of the state
 - 2. The Finance Minister of the state
 - 3. The Speaker of state legislature
 - 4. The Chief Minister of the state

Question ID : 26433090680
Status : Not Answered
Chosen Option : --

Q.9 Electrolysis of water is an example of _____.

- Ans**
- 1. displacement reaction
 - 2. decomposition reaction
 - 3. combination reaction
 - 4. double displacement

Question ID : 264330115268
Status : Answered
Chosen Option : 3

Q.10 कृषि उपज का वह हिस्सा जो किसानों द्वारा बाजार में बेचा जाता है, _____ अधिशेष कहलाता है।

- Ans
- 1. आयातित
 - 2. संतुलित
 - 3. संशोधित
 - 4. बाजार

Question ID : 264330115437
Status : Answered
Chosen Option : 3

Q.11 क्रिकेट में, जब नियम के अनुसार फेंकी गई गेंद, बल्ले या बल्लेबाज को छुए बिना बल्लेबाज के पास से गुजर जाती है और उस गेंद पर रन बनते हैं, तो वे रन _____ के रूप में माने जाते हैं।

- Ans
- 1. वाइड बॉल
 - 2. लेग बाई
 - 3. बाई
 - 4. एलबीडब्ल्यू

Question ID : 26433096230
Status : Answered
Chosen Option : 2

Q.12 प्रति व्यक्ति आय उस देश के एक व्यक्ति द्वारा अर्जित औसत _____ को निरूपित करता है।

- Ans
- 1. देयता
 - 2. पूंजी
 - 3. आय
 - 4. ऋण

Question ID : 264330115355
Status : Answered
Chosen Option : 3

Q.13 निम्नलिखित में से कौन सा त्योहार उत्तर प्रदेश में नहीं मनाया जाता है?

- Ans
- 1. नुआखाई
 - 2. ताज महोत्सव
 - 3. बुद्ध महोत्सव
 - 4. गंगा महोत्सव

Question ID : 264330106221
Status : Answered
Chosen Option : 1

Q.14 डेकाथलॉन में कितनी स्पर्धाएं (events) होती हैं?

- Ans
- 1. 10
 - 2. 12
 - 3. 9
 - 4. 8

Question ID : 26433092335
Status : Not Answered
Chosen Option : --

Q.15 निम्नलिखित में से किस तरल का पृष्ठ तनाव सबसे अधिक होता है?

- Ans 1. एथेन
 2. एथेनॉल
 3. जल
 4. मेथेनॉल

Question ID : 26433089651
Status : Answered
Chosen Option : 4

Q.16 Articles 25 to 28 of the Indian Constitution refer to the:

- Ans 1. right against exploitation
 2. cultural and educational rights
 3. right to constitutional remedies
 4. right to freedom of religion

Question ID : 26433090670
Status : Answered
Chosen Option : 3

Q.17 निम्नलिखित में से कौन-सी, भारतीय रेलवे ट्रैक की एक श्रेणी नहीं है?

- Ans 1. ब्रॉड गेज
 2. मीटर गेज
 3. फुट गेज
 4. नैरो गेज

Question ID : 264330115602
Status : Answered
Chosen Option : 2

Q.18 In February _____, Mahatma Gandhi decided to withdraw the Non-Cooperation Movement.

- Ans 1. 1925
 2. 1927
 3. 1922
 4. 1924

Question ID : 26433089902
Status : Answered
Chosen Option : 4

Q.19 निम्नलिखित में से कौन जून 2022 में आजमगढ़ निर्वाचन क्षेत्र, उत्तर प्रदेश से धर्मेन्द्र यादव को पराजित करके सांसद बना?

- Ans 1. दिनेश लाल यादव
 2. घनश्याम सिंह लोधी
 3. अखिलेश यादव
 4. यशवंत सिंह

Question ID : 264330114975
Status : Answered
Chosen Option : 4

Q.20 Unemployment is measured in India on the methods prescribed by the:

- Ans 1. National Employment Department
 2. National Sample Survey Organisation
 3. National Stock Exchange
 4. Reserve Bank of India

Question ID : 26433092892
Status : Not Answered
Chosen Option : --

Section : Part-C-Elementary Mathematics

Q.1 If a principal of ₹22,445 is deposited at the rate of 30% per annum for two years and interest is compounding annually, then what will be the amount (Approximately)?

- Ans 1. ₹37,339
 2. ₹37,933
 3. ₹39,733
 4. ₹39,337

Question ID : 26433092028
Status : Answered
Chosen Option : 2

Q.2 A shopkeeper sells shirts at a price of ₹ 800 per shirt. He allows a discount of 10% to all customers making full cash payment, and to customers buying 10 shirts at a time, he gives two shirts free. If a customer is willing to take both the discounts, what net effective discount can he/she avail?(the shopkeeper charges for 10 shirts but gives two additional shirts in the same amount) this is only for clarity and not a part of stem . Stem language is correct

- Ans 1. 15%
 2. 25%
 3. 12.5%
 4. 10%

Question ID : 26433092144
Status : Not Answered
Chosen Option : --

Q.3 $\frac{1}{3}$ of grocery is sold at 18% profit, $\frac{1}{4}$ is sold at 25% profit, and the rest at 30% profit. If the total profit is ₹1,980, then find the value of the grocery.

- Ans 1. ₹8,500
 2. ₹8,400
 3. ₹8,000
 4. ₹8,200

Question ID : 26433080169
Status : Answered
Chosen Option : 2

Q.4 The price of an item decreased by 8% and then increased by 12%. What is the approximate effective change in the price in percentage?

- Ans
- 1. 3.5%
 - 2. 3%
 - 3. 16.67%
 - 4. 4%

Question ID : 26433085434
Status : Answered
Chosen Option : 1

Q.5 If $42 \div 2 + m \times 3 - 22 \div 11 + 3 = 28$, then the value of m is:

- Ans
- 1. 3
 - 2. 0
 - 3. 2
 - 4. 1

Question ID : 26433087333
Status : Answered
Chosen Option : 3

Q.6 A and B can complete a work in 18 days and 27 days, respectively. They start working together and after 8 days, A leaves. In how many days B complete the remaining work?

- Ans
- 1. 9
 - 2. 8
 - 3. 5
 - 4. 7

Question ID : 26433081072
Status : Answered
Chosen Option : 1

Q.7 If the ratio of the radius and height of a cylinder is 3 : 2 and radius is 21 cm, then the curved surface area (in cm^2) is: (Use $\pi = 22/7$)

- Ans
- 1. 1848
 - 2. 1884
 - 3. 1488
 - 4. 1948

Question ID : 26433075822
Status : Answered
Chosen Option : 1

Q.8 The radius of a cylindrical vessel is increased by 50% and the height is decreased by 50%.What is the change in its volume?

- Ans
- 1. 8% increase
 - 2. 12.5% increase
 - 3. No change
 - 4. 12.5% decrease

Question ID : 26433091904
Status : Answered
Chosen Option : 3

Q.9 A thief running at 7 km/h is chased by a policeman, whose speed is 8 km/h. If the thief is 85 m ahead of the policeman, then the time required for the policeman to catch the thief will be:

- Ans
- 1. 6.2 minutes
 - 2. 3.2 minutes
 - 3. 4.3 minutes
 - 4. 5.1 minutes

Question ID : 26433080132
Status : Answered
Chosen Option : 2

Q.10 In an alloy of 60 grams, the ratio of gold and copper is 2 : 1. How much more of copper should be added to make the ratio 1 : 2?

- Ans
- 1. 80 grams
 - 2. 54 grams
 - 3. 40 grams
 - 4. 60 grams

Question ID : 26433091898
Status : Answered
Chosen Option : 1

Q.11 A and B together do a piece of work in 12 days, B and C in 15 days, and C and A in 20 days. In how many days can they finish the work if all of them work together?

- Ans
- 1. 13
 - 2. 9
 - 3. 10
 - 4. 12

Question ID : 26433090264
Status : Answered
Chosen Option : 2

Q.12 A pen costs ₹121.5 and its marked price is ₹150. What should be two equal successive percentage discounts on marked price to have no profit or loss?

- Ans
- 1. 12.56%
 - 2. 15%
 - 3. 11.56%
 - 4. 10%

Question ID : 26433081711
Status : Answered
Chosen Option : 2

Q.13 14 men can build a 55 m long wall in 5 days. What length of a similar wall can be built by 21 men in 4 days?

- Ans
- 1. 58 m
 - 2. 60 m
 - 3. 66 m
 - 4. 62 m

Question ID : 26433082396
Status : Answered
Chosen Option : 2

Q.14 Abdul paid ₹5,832 after some years to a bank. He took ₹5,000 loan at the rate of 8% per annum to be compounded annually. Find the time (in years).

- Ans 1. 5
 2. 2
 3. 4
 4. 3

Question ID : 26433091557
Status : Answered
Chosen Option : 2

Q.15 The greatest number of three digits that is divisible by 3,12, 24 and 36 is:

- Ans 1. 900
 2. 936
 3. 984
 4. 924

Question ID : 26433091514
Status : Answered
Chosen Option : 2

Q.16 R buys two cars of same prices. He sells one at a profit of 12% and the other at a loss of 8%. His overall percentage of profit or loss is :

- Ans 1. 4% profit
 2. 2% profit
 3. 4% loss
 4. 2% loss

Question ID : 26433081708
Status : Answered
Chosen Option : 2

Q.17 In what ratio must a grocer mix two varieties of tea worth Rs.120 per kg and Rs.130 per kg, so that by selling the mixture at Rs.136.40 per kg, he may gain 10%?

- Ans 1. 1 : 2
 2. 3 : 4
 3. 3 : 2
 4. 2 : 5

Question ID : 26433082708
Status : Answered
Chosen Option : 1

Q.18 A policeman starts chasing a thief who is at a distance of 600 metres. The speeds of the policeman and the thief are 12 km/h and 10 km/h respectively. In what time will the thief be caught?

- Ans 1. 15 min
 2. 16 min
 3. 17 min
 4. 18 min

Question ID : 26433080196
Status : Answered
Chosen Option : 3

Q.19 If the surface area of a sphere is $30,184 \text{ cm}^2$, then find its volume (use $\pi = \frac{22}{7}$).

- Ans
- 1. $\frac{616}{3} \times (49) \text{ cm}^3$
 - 2. $\frac{616}{3} \times (49)^3 \text{ cm}^3$
 - 3. $\frac{616}{3} \times (49)^2 \text{ cm}^3$
 - 4. $\frac{620}{3} \times (49)^2 \text{ cm}^3$

Question ID : 26433083058
Status : Not Answered
Chosen Option : --

Q.20 40 litres of a mixture has 10% alcohol and the rest water. If 4 litres of water be mixed in it, the percentage of alcohol in the new mixture will be:

- Ans
- 1. $9\frac{1}{11}\%$
 - 2. $9\frac{2}{11}\%$
 - 3. $11\frac{1}{9}\%$
 - 4. $11\frac{1}{11}\%$

Question ID : 26433080367
Status : Answered
Chosen Option : 4

Section : Part-D-English

Q.1 Select the most appropriate option to substitute the underline segment in the given sentence.

Ever since that leak of private emails, everything the CEO has done has been viewed with suspicion.

- Ans
- 1. under water
 - 2. under wood
 - 3. under a cloud
 - 4. under soil

Question ID : 264330103756
Status : Not Answered
Chosen Option : --

Q.2 Select the most appropriate homonym to fill in the blank.

In order to keep _____ I jog for 45 minutes daily.

- Ans
- 1. fitt
 - 2. feat
 - 3. fit
 - 4. feet

Question ID : 26433094734
Status : Answered
Chosen Option : 3

Q.3 Select the most appropriate option that can substitute the underlined segment in the given sentence.

The principal went a step farther to declare 12th June as a holiday for the entire group of schools.

- Ans**
- 1. went a step further more
 - 2. went a step further
 - 3. went a step farther more
 - 4. goes a step farther

Question ID : 26433091770
Status : Answered
Chosen Option : 4

Q.4 Which of the following sentences is an example of present progressive tense?

- Ans**
- 1. Why has he delayed the work?
 - 2. Why were you worried about that?
 - 3. Why is he crying like that?
 - 4. Why had he been staying in Delhi for such a long time?

Question ID : 264330108883
Status : Answered
Chosen Option : 3

Q.5 Which of the following options is most similar in meaning to the given word?
Magnificent

- Ans**
- 1. Grand
 - 2. Enlarge
 - 3. Evil
 - 4. Capable

Question ID : 26433088812
Status : Not Answered
Chosen Option : --

Q.6 Select the most appropriate synonym of the given word.

Titan

- Ans**
- 1. Puny
 - 2. Giant
 - 3. Predator
 - 4. Midget

Question ID : 26433072096
Status : Answered
Chosen Option : 4

Q.7 Select the most appropriate synonym of the word given below to fill in the blank in the following sentence.

Static

Society is not a/an _____ but a dynamic entity.

- Ans**
- 1. variable
 - 2. capable
 - 3. inert
 - 4. independent

Question ID : 26433093262
Status : Answered
Chosen Option : 1

Q.8 Select the most appropriate option that can substitute the underlined segment in the given sentence. If there is no need to substitute it, select 'No substitution'.

Although my friends begged me, I chose not to go for the reunion.

- Ans**
- 1. I choose no to go for the reunion.
 - 2. I chose not to go to the reunion.
 - 3. I have chose not to go for the reunion.
 - 4. No substitution

Question ID : 264330103767
Status : Answered
Chosen Option : 2

Q.9 Select the most appropriate option that can substitute the underlined segment in the given sentence. If there is no need to substitute it, select 'No substitution'.

She was embarrassed because her friends were laughing on her.

- Ans**
- 1. her friends were laughing to her
 - 2. No substitution
 - 3. her friends were laughing at her
 - 4. her friends were laughing upon her

Question ID : 26433092940
Status : Answered
Chosen Option : 3

Q.10 Select the most appropriate ANTONYM of the word given in brackets to fill in the blank.

The employer is too _____ (generous) to give a bonus to the employees.

- Ans**
- 1. kind
 - 2. stingy
 - 3. caring
 - 4. cripple

Question ID : 26433070460
Status : Answered
Chosen Option : 1

Q.11 Identify and correct the INCORRECTLY spelt word in the given sentence.

Many people were enduring mental agony and health issues with the change in lifestyle.

- Ans
- 1. agouny
 - 2. enduring
 - 3. mentel
 - 4. heaolth

Question ID : 26433092319
Status : Answered
Chosen Option : 2

Q.12 Select the most appropriate antonym of the bracketed word to fill in the blank.

The land near arid regions is not _____ (barren) enough for growing crops or any kind of vegetation.

- Ans
- 1. stark
 - 2. devoid
 - 3. fertile
 - 4. arid

Question ID : 26433060716
Status : Answered
Chosen Option : 3

Q.13 Select the most appropriate synonym of the underlined word.

All his attempts to save the wounded animal turned out to be futile.

- Ans
- 1. Unsuccessful
 - 2. Foresightful
 - 3. Mirthful
 - 4. Worthwhile

Question ID : 26433089060
Status : Answered
Chosen Option : 3

Q.14 Select the appropriate idiom that can replace the underlined word/phrase in the following sentence.

Grandmother revealed the secret.

- Ans
- 1. let the cat out of the bag
 - 2. let the chips fall where they may
 - 3. let things slide
 - 4. let the chance slip by

Question ID : 26433073280
Status : Answered
Chosen Option : 1

Q.15 Choose the sentence that contains correct spellings.

- Ans** 1. The sage said that life is nothing but a journey of comprimises.
 2. The sage said that life is nothing but a journey of compromises.
 3. The sage said that life is nothing but a journey of comprommizes.
 4. The sage said that life is nothing but a journey of compormises.

Question ID : **26433086499**
Status : **Answered**
Chosen Option : **2**

Comprehension:

In the following passage, some words have been deleted. Read the passage carefully and select the most appropriate option to fill in each blank.
One of the greatest (1)_____ to textiles is light. It is a form of energy that can fade colour and cause chemical and physical (2)_____ of textile fibres. Exposure to both, natural and ultra violet light can threaten the (3)_____ of textiles. Light damage occurs progressively. You must have noticed at home that the most faded folds of curtains are the first to (4)_____ and fall apart. Fading of colours and alterations of hues are the (5)_____ easy-to-detect signs of light damage.

SubQuestion No : 16

Q.16 Select the most appropriate option to fill in blank number 1.

- Ans** 1. beauties
 2. warnings
 3. additions
 4. threats

Question ID : **26433098989**
Status : **Answered**
Chosen Option : **3**

Comprehension:

In the following passage, some words have been deleted. Read the passage carefully and select the most appropriate option to fill in each blank.
One of the greatest (1)_____ to textiles is light. It is a form of energy that can fade colour and cause chemical and physical (2)_____ of textile fibres. Exposure to both, natural and ultra violet light can threaten the (3)_____ of textiles. Light damage occurs progressively. You must have noticed at home that the most faded folds of curtains are the first to (4)_____ and fall apart. Fading of colours and alterations of hues are the (5)_____ easy-to-detect signs of light damage.

SubQuestion No : 17

Q.17 Select the most appropriate option to fill in blank number 2.

- Ans** 1. degradation
 2. mortification
 3. disgrace
 4. embarrassment

Question ID : **26433098990**
Status : **Answered**
Chosen Option : **2**

Comprehension:

In the following passage, some words have been deleted. Read the passage carefully and select the most appropriate option to fill in each blank.

One of the greatest (1)_____ to textiles is light. It is a form of energy that can fade colour and cause chemical and physical (2)_____ of textile fibres. Exposure to both, natural and ultra violet light can threaten the (3)_____ of textiles. Light damage occurs progressively. You must have noticed at home that the most faded folds of curtains are the first to (4)_____ and fall apart. Fading of colours and alterations of hues are the (5)_____ easy-to-detect signs of light damage.

SubQuestion No : 18

Q.18 Select the most appropriate option to fill in blank number 3.

- Ans**
- 1. seniority
 - 2. oldness
 - 3. dexterity
 - 4. longevity

Question ID : 26433098991
Status : Answered
Chosen Option : 2

Comprehension:

In the following passage, some words have been deleted. Read the passage carefully and select the most appropriate option to fill in each blank.

One of the greatest (1)_____ to textiles is light. It is a form of energy that can fade colour and cause chemical and physical (2)_____ of textile fibres. Exposure to both, natural and ultra violet light can threaten the (3)_____ of textiles. Light damage occurs progressively. You must have noticed at home that the most faded folds of curtains are the first to (4)_____ and fall apart. Fading of colours and alterations of hues are the (5)_____ easy-to-detect signs of light damage.

SubQuestion No : 19

Q.19 Select the most appropriate option to fill in blank number 4.

- Ans**
- 1. distill
 - 2. desolate
 - 3. shred
 - 4. irate

Question ID : 26433098992
Status : Answered
Chosen Option : 2

Comprehension:

In the following passage, some words have been deleted. Read the passage carefully and select the most appropriate option to fill in each blank.

One of the greatest (1)_____ to textiles is light. It is a form of energy that can fade colour and cause chemical and physical (2)_____ of textile fibres. Exposure to both, natural and ultra violet light can threaten the (3)_____ of textiles. Light damage occurs progressively. You must have noticed at home that the most faded folds of curtains are the first to (4)_____ and fall apart. Fading of colours and alterations of hues are the (5)_____ easy-to-detect signs of light damage.

SubQuestion No : 20

Q.20 Select the most appropriate option to fill in blank number 5.

- Ans**
- 1. earliest
 - 2. prompt
 - 3. premature
 - 4. former

Question ID : 26433098993
Status : Answered
Chosen Option : 1

Q.1 'मैं रविवार के दिन तुम्हारे घर आऊंगा।' वाक्य में रेखांकित वाक्य-खंड के स्थान पर उचित वाक्य-खंड या शब्द का प्रयोग करें।

- Ans
- 1. या
 - 2. के
 - 3. में
 - 4. को

Question ID : 26433062199
Status : Not Answered
Chosen Option : --

Q.2 निम्नलिखित वाक्य में रेखांकित खंड के स्थान पर प्रयुक्त होने वाले सबसे उपयुक्त विकल्प का चयन कीजिए।
बच्चों को काटकर आम खिलाओ।

- Ans
- 1. काट आम
 - 2. आम काट
 - 3. आम काटकर
 - 4. काटकर

Question ID : 26433079574
Status : Not Answered
Chosen Option : --

Q.3 निम्न में से कौन-सा समूह 'गंगा' शब्द का पर्यायवाची समूह नहीं है?

- Ans
- 1. त्रिपथगा, सूर्यजा
 - 2. भागीरथी, सुरसरि
 - 3. सुरसरि, त्रिपथगा
 - 4. जाह्नवी, सुरसरि

Question ID : 26433067076
Status : Not Answered
Chosen Option : --

Q.4 'जो इतिहास से संबंध रखता है' वाक्यांश के लिए एक शब्द, _____ है।

- Ans
- 1. इतिहासकार
 - 2. खगोलिक
 - 3. ऐतिहासिक
 - 4. भौगोलिक

Question ID : 26433062943
Status : Not Answered
Chosen Option : --

Q.5 निम्नलिखित विकल्पों में से कौन सा एक वाक्य संकेतवाचक सर्वनाम का नहीं है?

- Ans
- 1. नदी में पानी नहीं है।
 - 2. वह आदमी एक विदेशी जासूस है।
 - 3. यह लड़का इस कक्षा का मॉनीटर है।
 - 4. ये मेरी पुस्तकें हैं।

Question ID : 26433091242
Status : Not Answered
Chosen Option : --

Q.6 निम्नलिखित वाक्यों में से शुद्ध वाक्य का चयन कीजिए।

- Ans 1. इस काम को देर होना स्वभाविक थी।
 2. काम इस में होना देर स्वभाविक था।
 3. इस काम में देरी होनी स्वाभाविक थी।
 4. इस काम में देर होनी स्वभाविक था।

Question ID : 26433091313
Status : Not Answered
Chosen Option : --

Q.7 "चारों ओर रात्रि का घोर अँधेरा छाया था।"

उक्त वाक्य में प्रयुक्त 'घोर' के स्थान पर उसके उचित समानार्थी शब्द का प्रयोग निम्न में से किस वाक्य में किया गया है?

- Ans 1. चारों ओर रात्रि का घमासान अँधेरा छाया था।
 2. चारों ओर रात्रि का गहरा अँधेरा छाया था।
 3. चारों ओर रात्रि का भयंकर अँधेरा छाया था।
 4. चारों ओर रात्रि का घनिष्ठ अँधेरा छाया था।

Question ID : 26433085148
Status : Not Answered
Chosen Option : --

Q.8 'दस रुपया में क्या आता है?' इस वाक्य में प्रयुक्त कौन सा शब्द अशुद्ध है?

- Ans 1. रुपया
 2. आता
 3. क्या
 4. दस

Question ID : 26433066801
Status : Not Answered
Chosen Option : --

Q.9 "नमन का आरोग्य अच्छा है।"

उक्त वाक्य में प्रयुक्त 'आरोग्य' के स्थान पर उसके समानार्थी शब्द का प्रयोग निम्न में से किस वाक्य में नहीं किया गया है?

- Ans 1. नमन की सेहत अच्छी है।
 2. नमन तंदुरुस्त है।
 3. नमन अस्वस्थ है।
 4. नमन का स्वास्थ्य अच्छा है।

Question ID : 26433085150
Status : Not Answered
Chosen Option : --

Q.10 ' _____ घोड़े पर सवार होना।'

उपरोक्त मुहावरे में रिक्त स्थान की पूर्ति उचित शब्द द्वारा कीजिए।

- Ans 1. हवा के
 2. तेजी के
 3. बातों के
 4. पानी के

Question ID : 26433069693
Status : Not Answered
Chosen Option : --

Q.11 निम्नलिखित विकल्पों में से प्रश्नवाचक सर्वनाम का कौन सा एक शुद्ध वाक्य नहीं है?

- Ans 1. द्विवेदी जी का मकान कौनसा है?
 2. क्या यह पत्र अपने प्राचार्य को देना है?
 3. इस थैले में क्या है?
 4. यह कौन- सी भाषा है?

Question ID : 26433091238
Status : Not Answered
Chosen Option : --

Q.12 'आँखों में _____ माला घिर आना।'
उपरोक्त मुहावरे में रिक्त स्थान की पूर्ति उचित शब्द द्वारा कीजिए।

- Ans 1. पुष्प
 2. मोती
 3. मेघ
 4. फूल

Question ID : 26433069688
Status : Not Answered
Chosen Option : --

Q.13 नीचे दिए गए वाक्य के अशुद्ध भाग का चयन कीजिए।
'रमेश को उस समय मुझसे बेफिजूल की बातें नहीं करनी चाहिए थीं।'

- Ans 1. नहीं करनी चाहिए थीं।
 2. रमेश को
 3. उस समय मुझसे
 4. बेफिजूल की बातें

Question ID : 26433085085
Status : Not Answered
Chosen Option : --

Q.14 निम्न में से कौन-सा शब्द 'पयोद' शब्द का पर्यायवाची शब्द है?

- Ans 1. मलीन
 2. बारिश
 3. सहचर
 4. जलधर

Question ID : 26433067082
Status : Not Answered
Chosen Option : --

Q.15 निम्नलिखित में से शुद्ध वाक्य का चयन कीजिए।

- Ans 1. बहनें पांच है सीमा।
 2. सीमा को पांच बहने हैं।
 3. सीमा की पांच बहनें हैं।
 4. सीमा बहनें हैं पांच।

Question ID : 26433091311
Status : Not Answered
Chosen Option : --

Comprehension:

दिए गए गद्यांश के अनुसार प्रश्न संख्या 1-5 के उत्तर दीजिए।
भारतवर्ष ने कभी भी भौतिक वस्तुओं के (1) _____ को बहुत अधिक महत्त्व नहीं दिया है। उसकी दृष्टि से मनुष्य के भीतर जो महान (2) _____ गुण स्थिर भाव से बैठा हुआ है, वही चरम और परम है। लोभ-मोह, काम-क्रोध आदि विचार मनुष्य में (3) _____ रूप से विद्यमान रहते हैं, पर उन्हें प्रधान शक्ति मान लेना और अपने मन तथा बुद्धि को उन्हीं के इशारे पर छोड़ देना बहुत बुरा (4) _____ है। भारतवर्ष ने कभी भी उन्हें उचित नहीं माना, उन्हें सदा (5) _____ के बंधन से बाँधकर रखने का प्रयत्न किया है।

SubQuestion No : 16

Q.16 दिए गए शब्दों में से उचित शब्द चुनकर रिक्त स्थान (1) की पूर्ति कीजिए।

- Ans 1. संग्रह
 2. विग्रह
 3. लाभ
 4. प्रयोग

Question ID : 26433094115
Status : Not Answered
Chosen Option : --

Comprehension:

दिए गए गद्यांश के अनुसार प्रश्न संख्या 1-5 के उत्तर दीजिए।
भारतवर्ष ने कभी भी भौतिक वस्तुओं के (1) _____ को बहुत अधिक महत्त्व नहीं दिया है। उसकी दृष्टि से मनुष्य के भीतर जो महान (2) _____ गुण स्थिर भाव से बैठा हुआ है, वही चरम और परम है। लोभ-मोह, काम-क्रोध आदि विचार मनुष्य में (3) _____ रूप से विद्यमान रहते हैं, पर उन्हें प्रधान शक्ति मान लेना और अपने मन तथा बुद्धि को उन्हीं के इशारे पर छोड़ देना बहुत बुरा (4) _____ है। भारतवर्ष ने कभी भी उन्हें उचित नहीं माना, उन्हें सदा (5) _____ के बंधन से बाँधकर रखने का प्रयत्न किया है।

SubQuestion No : 17

Q.17 दिए गए शब्दों में से उचित शब्द चुनकर रिक्त स्थान (2) की पूर्ति कीजिए।

- Ans 1. महत्त्वपूर्ण
 2. आंतरिक
 3. विशेष
 4. बाह्य

Question ID : 26433094116
Status : Not Answered
Chosen Option : --

Comprehension:

दिए गए गद्यांश के अनुसार प्रश्न संख्या 1-5 के उत्तर दीजिए।
भारतवर्ष ने कभी भी भौतिक वस्तुओं के (1) _____ को बहुत अधिक महत्त्व नहीं दिया है। उसकी दृष्टि से मनुष्य के भीतर जो महान (2) _____ गुण स्थिर भाव से बैठा हुआ है, वही चरम और परम है। लोभ-मोह, काम-क्रोध आदि विचार मनुष्य में (3) _____ रूप से विद्यमान रहते हैं, पर उन्हें प्रधान शक्ति मान लेना और अपने मन तथा बुद्धि को उन्हीं के इशारे पर छोड़ देना बहुत बुरा (4) _____ है। भारतवर्ष ने कभी भी उन्हें उचित नहीं माना, उन्हें सदा (5) _____ के बंधन से बाँधकर रखने का प्रयत्न किया है।

SubQuestion No : 18

Q.18 दिए गए शब्दों में से उचित शब्द चुनकर रिक्त स्थान (3) की पूर्ति कीजिए।

- Ans 1. विशेष
 2. ऐच्छिक
 3. अनिवार्य
 4. स्वाभाविक

Question ID : 26433094117
Status : Not Answered
Chosen Option : --

Comprehension:

दिए गए गद्यांश के अनुसार प्रश्न संख्या 1-5 के उत्तर दीजिए।
भारतवर्ष ने कभी भी भौतिक वस्तुओं के (1) _____ को बहुत अधिक महत्त्व नहीं दिया है। उसकी दृष्टि से मनुष्य के भीतर जो महान (2) _____ गुण स्थिर भाव से बैठा हुआ है, वही चरम और परम है। लोभ-मोह, काम-क्रोध आदि विचार मनुष्य में (3) _____ रूप से विद्यमान रहते हैं, पर उन्हें प्रधान शक्ति मान लेना और अपने मन तथा बुद्धि को उन्हीं के इशारे पर छोड़ देना बहुत बुरा (4) _____ है। भारतवर्ष ने कभी भी उन्हें उचित नहीं माना, उन्हें सदा (5) _____ के बंधन से बाँधकर रखने का प्रयत्न किया है।

SubQuestion No : 19

Q.19 दिए गए शब्दों में से उचित शब्द चुनकर रिक्त स्थान (4) की पूर्ति कीजिए।

- Ans 1. आचरण
 2. तरीका
 3. कार्य
 4. प्रणाली

Question ID : 26433094118
Status : Not Answered
Chosen Option : --

Comprehension:

दिए गए गद्यांश के अनुसार प्रश्न संख्या 1-5 के उत्तर दीजिए।
भारतवर्ष ने कभी भी भौतिक वस्तुओं के (1) _____ को बहुत अधिक महत्त्व नहीं दिया है। उसकी दृष्टि से मनुष्य के भीतर जो महान (2) _____ गुण स्थिर भाव से बैठा हुआ है, वही चरम और परम है। लोभ-मोह, काम-क्रोध आदि विचार मनुष्य में (3) _____ रूप से विद्यमान रहते हैं, पर उन्हें प्रधान शक्ति मान लेना और अपने मन तथा बुद्धि को उन्हीं के इशारे पर छोड़ देना बहुत बुरा (4) _____ है। भारतवर्ष ने कभी भी उन्हें उचित नहीं माना, उन्हें सदा (5) _____ के बंधन से बाँधकर रखने का प्रयत्न किया है।

SubQuestion No : 20

Q.20 दिए गए शब्दों में से उचित शब्द चुनकर रिक्त स्थान (5) की पूर्ति कीजिए।

- Ans 1. बेड़ियों
 2. संयम
 3. मोह
 4. रिश्तों

Question ID : 26433094119
Status : Not Answered
Chosen Option : --