

## Constable GD in CAPFs SSF Rifleman GD in Assam Rifles and Sepoy in NCB Examination 2022

Roll Number	www.govtjobsalert.in
Candidate Name	www.govtjobsalert.in
Venue Name	iON Digital Zone iDZ Naino Ka Bas
Exam Date	02/02/2023
Exam Time	11:45 AM - 12:45 PM
Subject	Constable GD Examination 2022

### Section : Part-A-General Intelligence and Reasoning

Q.1 कौन-सा अक्षर-समूह दी गई श्रृंखला में प्रश्नचिह्न (?) के स्थान पर आकर श्रृंखला को पूर्ण करेगा?  
JLNP, ? , LNPR, MOQS, NPRT

- Ans
- 1. KNOR
  - 2. KOMQ
  - 3. KLNP
  - 4. KMOQ

Question ID : 26433067716  
Status : Answered  
Chosen Option : 4

Q.2 नीचे तीन कथनों के बाद तीन निष्कर्ष I, II और III दिए गए हैं। दिए गए कथनों को सत्य मानते हुए भले ही वे सर्वज्ञात तथ्यों से भिन्न प्रतीत होते हों, निर्धारित कीजिए कि कौन-सा/से निष्कर्ष कथनों का तर्कसंगत रूप से अनुसरण करता/करते है/हैं।

कथन:

सभी सेब केले हैं।

सभी अंगूर केले हैं।

सभी केले आलूबुखारे हैं।

निष्कर्ष:

I. सभी सेब आलूबुखारे हैं।

II. सभी अंगूर आलूबुखारे हैं।

III. कुछ अंगूर केले हैं।

- Ans
- 1. केवल निष्कर्ष I और II अनुसरण करते हैं
  - 2. सभी निष्कर्ष अनुसरण करते हैं
  - 3. केवल निष्कर्ष I और III अनुसरण करते हैं
  - 4. केवल निष्कर्ष II और III अनुसरण करते हैं

Question ID : 26433090242  
Status : Answered  
Chosen Option : 2

Q.3 किस विकल्प में निम्नलिखित शब्दों का वह क्रम दिया गया है, जिस क्रम में वे अंग्रेजी शब्दकोश में आते हैं

- I
- 1 green
- 2 grate
- 3 greet
- 4 groom
- 5 great

- Ans
- 1. 2,4,1,3,5
  - 2. 2,1,3,5,4
  - 3. 2,5,1,3,4
  - 4. 2,3,1,5,4

Question ID : 26433069288  
Status : Answered  
Chosen Option : 3

Q.4 दिए गए समीकरण को संतुलित करने के लिए विकल्पों में दी गई किन दो संख्याओं(अंको को नहीं) को परस्पर बदलना होगा?

$$77 \div 7 - 2 \times 3 + 3 = 4$$

- Ans
- 1. 3 और 77
  - 2. 3 और 7
  - 3. 2 और 4
  - 4. 2 और 7

Question ID : 26433082478

Status : Answered

Chosen Option : 3

Q.5 कीर्ति, सुमन, शुभ, कनक, परी, चारु, श्लोक और शिवी एक वर्गाकार मेज के चारों ओर मेज के केंद्र की ओर मुख करके बैठे हैं। उनमें से कुछ कोनों पर बैठे हैं, जबकि कुछ भुजाओं के ठीक मध्य में बैठे हैं। कीर्ति, शुभ के बाईं ओर तीसरे स्थान पर बैठी है। कीर्ति किसी एक कोने पर बैठी है। कनक, परी के दाईं ओर दूसरे स्थान पर बैठी है। परी किसी भी कोने पर नहीं बैठी है। परी, कीर्ति के ठीक बगल में नहीं बैठी है। सुमन, चारु के ठीक बगल में बैठी है। सुमन किसी भी भुजा के ठीक मध्य में नहीं बैठी है। सुमन और श्लोक के बीच केवल तीन व्यक्ति बैठे हैं। शिवी के दाईं ओर दूसरे स्थान पर कौन बैठा/बैठी है?

- Ans
- 1. सुमन
  - 2. चारु
  - 3. श्लोक
  - 4. शुभ

Question ID : 26433082293

Status : Answered

Chosen Option : 3

Q.6 उस विकल्प का चयन करें जो तीसरे शब्द से उसी प्रकार संबंधित है जिस प्रकार दूसरा शब्द पहले शब्द से संबंधित है। (शब्दों को अर्थपूर्ण शब्दों के रूप में मानना है, और उन्हें शब्द में अक्षरों/व्यंजनों/स्वरों की संख्या के आधार पर एक-दूसरे से संबंधित नहीं करना है।)  
रेलगाडी : पटरी :: कार : ?

- Ans
- 1. बस
  - 2. टायर
  - 3. सड़क
  - 4. पेट्रोल

Question ID : 26433082935

Status : Answered

Chosen Option : 3

Q.7 एक निश्चित कूट भाषा में, 'TEA' को '23' के रूप में लिखा जाता है और 'SKY' को '52' के रूप में लिखा जाता है। उसी भाषा में 'JAM' को कैसे लिखा जाएगा?

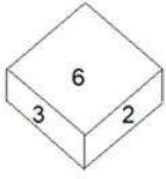
- Ans
- 1. 27
  - 2. 21
  - 3. 24
  - 4. 20

Question ID : 26433069641

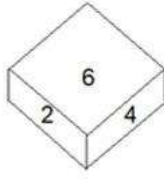
Status : Answered

Chosen Option : 2

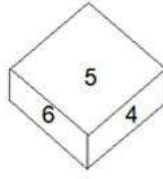
Q.8 एक ही पासे की तीन अलग-अलग स्थितियां दर्शाई गई हैं। '6' दर्शाने वाले फलक के विपरीत फलक पर संख्या ज्ञात करें।



आकृति 1



आकृति 2



आकृति 3

- Ans
- 1. 4
  - 2. 2
  - 3. 1
  - 4. 5

Question ID : 26433089452  
Status : Answered  
Chosen Option : 3

Q.9 यदि '+' का अर्थ है '.', '-' का अर्थ है 'x', 'x' का अर्थ है '-' और '-' का अर्थ है '+', तो निम्नलिखित में से कौन सा समीकरण सही होगा?

- Ans
- 1.  $96 \div 3 + 56 \times 16 - 5 = 45$
  - 2.  $20 + 44 \div 11 \times 3 - 9 = 30$
  - 3.  $108 + 3 - 36 \times 6 \div 15 = 105$
  - 4.  $15 - 6 \times 15 + 80 \div 2 = 25$

Question ID : 264330117551  
Status : Not Answered  
Chosen Option : --

Q.10 उस विकल्प का चयन कीजिए जो तीसरे शब्द से उसी प्रकार संबंधित है जिस प्रकार दूसरा शब्द पहले शब्द से संबंधित है। (शब्दों को अर्थपूर्ण शब्दों के रूप में मानना है और उन्हें शब्द में अक्षरों/व्यंजनों/स्वरों की संख्या के आधार पर एक-दूसरे से संबंधित नहीं करना है।)  
मैंढक : टेडपोल :: कीट : ?

- Ans
- 1. पक्षी
  - 2. मच्छर
  - 3. लार्वा
  - 4. गाय

Question ID : 26433067374  
Status : Answered  
Chosen Option : 3

Q.11 एक निश्चित कूट भाषा में, 'SQUARE' को 'UQSER' के रूप में लिखा जाता है और 'CIRCLE' को 'RICELC' के रूप में लिखा जाता है, उसी भाषा में 'EQUATE' को कैसे लिखा जाएगा?

- Ans
- 1. UQEETE
  - 2. UQEETA
  - 3. AUQETA
  - 4. QQEETA

Question ID : 26433079391  
Status : Answered  
Chosen Option : 2

Q.12 उस विकल्प का चयन करें, जो पाँचवीं संख्या से उसी प्रकार संबंधित है, जिस प्रकार दूसरी संख्या, पहली संख्या से संबंधित है और चौथी संख्या, तीसरी संख्या से संबंधित है।  
53 : 7 :: 77 : 10 :: 69 : ?

- Ans
- 1. 12
  - 2. 8
  - 3. 11
  - 4. 9

Question ID : 26433069421  
Status : Answered  
Chosen Option : 4

Q.13 L, M, N, O, P, Q, और R एक पंक्ति में पूर्व की ओर मुख करके बैठे हुए हैं। O, N के दाईं ओर ठीक बगल में बैठा है। Q पंक्ति के किसी एक सिरे पर बैठा है और P उसके दाईं ओर ठीक बगल में बैठा है। L, M और N के बीच में बैठा है। पंक्ति के दाएं सिरे पर कौन बैठा है?

- Ans
- 1. M
  - 2. R
  - 3. Q
  - 4. L

Question ID : 26433074625  
Status : Answered  
Chosen Option : 1

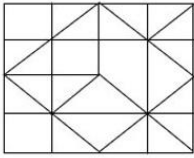
Q.14 निम्नलिखित में से कौन-सी संख्या दी गई श्रृंखला में प्रश्न चिह्न (?) के स्थान पर आएगी?  
400, 410, 425, 450, 490, ?

- Ans
- 1. 545
  - 2. 540
  - 3. 550
  - 4. 555

Question ID : 26433087033  
Status : Answered  
Chosen Option : 3

WWW.GOVtJOBSALEt.in

Q.15 उस विकल्प आकृति का चयन कीजिए, जो दी गई आकृति में अंतर्निहित है। (घूर्णन की अनुमति नहीं है।)

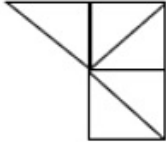


Ans

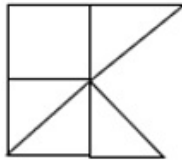
✓ 1.



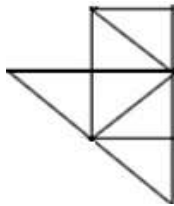
✗ 2.



✗ 3.



✗ 4.



Question ID : 26433081519

Status : Answered

Chosen Option : 4

Q.16 'P & Q' का अर्थ है 'P, Q की बहन है'  
'P % Q' का अर्थ है 'P, Q का भाई है'  
'P \$ Q' का अर्थ है 'P, Q की माता है'  
'P = Q' का अर्थ है 'P, Q का पिता है'  
A \$ B = C & D  
C, A से किस प्रकार संबंधित है?

Ans

✗ 1. पुत्री

✗ 2. बहन

✗ 3. माता

✓ 4. पोती

Question ID : 26433083115

Status : Answered

Chosen Option : 4

Q.17 यदि श्रृंखला जारी रखनी है तो कौन-सी आकृति प्रश्न चिह्न (?) के स्थान पर

आएगी?

A D	T S	S A	V T	
S R	D A	T D	A S	?
	T	R	V	D

Ans

✗ 1.

T S
V A
D

✓ 2.

T S
V A
M

✗ 3.

A V
S T
D

✗ 4.

A V
S T
M

Question ID : 26433076640  
Status : Answered  
Chosen Option : 4

Q.18 निम्न में से कौन सी संख्या दी गई श्रृंखला में प्रश्नचिह्न (?) के स्थान पर आएगी?  
133, 156, ?, 202, 225, 248

Ans

✗ 1. 173

✗ 2. 166

✓ 3. 179

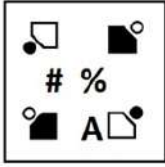
✗ 4. 186

Question ID : 26433076736  
Status : Answered  
Chosen Option : 3

Q.19 दर्पण को दाईं ओर रखे जाने पर, निम्नलिखित में से कौन-सी आकृति दी गई प्रश्न आकृति

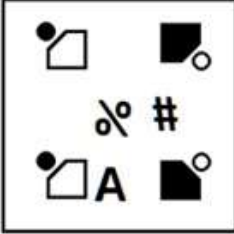
का सटीक दर्पण प्रतिबिम्ब होगी?

प्रश्न आकृति:




Ans

✗ 1.




✗ 2.



✗ 3.



✓ 4.



Question ID : 26433087085

Status : Answered

Chosen Option : 4

Q.20 दिए गए विकल्पों में से उस अक्षर-समूह का चयन कीजिए जो निम्न श्रृंखला में प्रश्न-चिह्न (?) के स्थान पर आ सकता है।  
RAP, TEV, VIB, XMH, ?

Ans ✓ 1. ZQN

✗ 2. YQN

✗ 3. YQB

✗ 4. ZQB

Question ID : 26433079032

Status : Answered

Chosen Option : 1

Section : Part-B-General Knowledge and General awareness

Q.1 प्लास्टर ऑफ पेरिस का रासायनिक नाम क्या है?

- Ans
- 1. कैल्शियम हाइड्रॉक्साइड
  - 2. कैल्शियम कार्बोनेट
  - 3. कैल्शियम ऑक्साइड
  - 4. कैल्शियम सल्फेट हेमीहाइड्रेट

Question ID : 264330115154  
Status : Answered  
Chosen Option : 2

Q.2 राष्ट्रीय आय की गणना में \_\_\_\_\_ वर्ष (वर्षों) की समयावधि को ध्यान में रखा जाता है।

- Ans
- 1. दो
  - 2. एक
  - 3. पांच
  - 4. दस

Question ID : 264330115338  
Status : Answered  
Chosen Option : 3

Q.3 नवंबर 2022 तक की स्थिति के अनुसार, भव्य बिश्रोई, जो नवंबर 2022 में आदमपुर, हरियाणा से विधान सभा के सदस्य के रूप में चुने गए थे, \_\_\_\_\_ राजनीतिक दल से संबंधित हैं।

- Ans
- 1. भारतीय जनता पार्टी
  - 2. भारतीय राष्ट्रीय कांग्रेस
  - 3. भारतीय कम्युनिस्ट पार्टी
  - 4. राष्ट्रवादी कांग्रेस पार्टी

Question ID : 264330114919  
Status : Answered  
Chosen Option : 1

Q.4 ओलंपियन नीरज चोपड़ा ने 2020 ओलंपिक खेलों में \_\_\_\_\_ की दूरी तक भाला फेंककर स्वर्ण पदक हासिल किया।

- Ans
- 1. 88.01 m
  - 2. 89.58 m
  - 3. 87.58 m
  - 4. 87.85 m

Question ID : 26433092322  
Status : Not Answered  
Chosen Option : --

Q.5 जम्मू और कश्मीर पुनर्गठन (संशोधन) विधेयक, 2021 को \_\_\_\_\_ को राज्यसभा में पेश किया गया था।

- Ans
- 1. 4 फरवरी, 2021
  - 2. 4 जनवरी, 2021
  - 3. 4 अप्रैल, 2021
  - 4. 14 मार्च, 2021

Question ID : 264330116227  
Status : Not Answered  
Chosen Option : --



Q.6 जून 2022 में, केंद्रीय प्रत्यक्ष कर बोर्ड (CBDT) के नये अध्यक्ष के रूप में किसे नियुक्त किया गया?

- Ans  1. नितिन गुप्ता  
 2. प्रमोद मोदी  
 3. संगीता सिंह  
 4. जगन्नाथ विद्याधर महापात्रा

Question ID : 264330115041  
Status : Not Answered  
Chosen Option : --

Q.7 निम्नलिखित में से किसे 2012 में केरल राज्य कथकली पुरस्कार से सम्मानित किया गया था?

- Ans  1. शोभना नारायण  
 2. कलामंडलम वसु पिशारोडी  
 3. कलामंडलम कल्याणिकुट्टी अम्मा  
 4. अनुराधा पाण्डेय

Question ID : 264330115881  
Status : Answered  
Chosen Option : 3

Q.8 अशोक ने अपने शिलालेख में उल्लेख किया है कि उसने राजा बनने के \_\_\_\_\_ बाद कलिंग पर विजय प्राप्त की थी।

- Ans  1. सात वर्ष  
 2. दस वर्ष  
 3. नौ वर्ष  
 4. आठ वर्ष

Question ID : 26433085215  
Status : Answered  
Chosen Option : 3

Q.9 निम्नलिखित में से कौन-सी, भारत की अंतिम पंचवर्षीय योजना थी?

- Ans  1. 12वीं  
 2. 11वीं  
 3. 13वीं  
 4. 10वीं

Question ID : 26433092381  
Status : Answered  
Chosen Option : 3

Q.10 \_\_\_\_\_ एक ऐसी फसल है जिसका उपयोग भोजन और चारे दोनों के रूप में किया जाता है। यह एक खरीफ फसल है जिसे 21°C से 27°C के बीच तापमान की आवश्यकता होती है और पुरानी जलोढ़ मिट्टी में अच्छी तरह से बढ़ती है।

- Ans  1. चावल  
 2. जूट  
 3. मक्का  
 4. गेहूं

Question ID : 26433054624  
Status : Answered  
Chosen Option : 1

Q.11 निम्नलिखित में से कौन सा वह पर्यावरणीय घटक नहीं है, जो वातावरण पोषकों के मुक्त होने की दर तय करते हैं?

- Ans  1. जनसंख्या  
 2. मिट्टी  
 3. ताप  
 4. आर्द्रता

Question ID : 264330115257  
Status : Answered  
Chosen Option : 1

Q.12 2021 की नीति (NITI) आयोग की रिपोर्ट के अनुसार, ग्रामीण भारत की जनसंख्या का कितना प्रतिशत गरीबी रेखा से नीचे जीवन यापन कर रही है?

- Ans  1. 7.65%  
 2. 32.75%  
 3. 12.4%  
 4. 23.4%

Question ID : 26433092886  
Status : Answered  
Chosen Option : 4

Q.13 1919 में, गांधीजी ने \_\_\_\_\_ के विरोध में सत्याग्रह का आह्वान किया था।

- Ans  1. भारतीय परिषद अधिनियम  
 2. पिट्स इंडिया एक्ट  
 3. रॉलेट एक्ट  
 4. रेगुलेटिंग एक्ट

Question ID : 26433090589  
Status : Answered  
Chosen Option : 3

Q.14 नेताजी सुभाष राष्ट्रीय खेल संस्थान निम्नलिखित में से किस शहर में स्थित है?

- Ans  1. पुणे  
 2. कोच्चि  
 3. पटियाला  
 4. जयपुर

Question ID : 264330116298  
Status : Answered  
Chosen Option : 3

Q.15 मूल अधिकारों की अवधारणा किस देश के संविधान से ली गई है?

- Ans  1. संयुक्त राज्य अमेरिका  
 2. आयरलैंड  
 3. यूनाइटेड किंगडम  
 4. रूस

Question ID : 264330115639  
Status : Not Answered  
Chosen Option : --

Q.16 रक्षाबंधन, भाई और बहन के बीच रिश्ते की भावात्मकता को व्यक्त करने वाला त्यौहार है, 2022 में यह के महीने में मनाया गया।

- Ans
- 1. जनवरी
  - 2. अगस्त
  - 3. मई
  - 4. जून

Question ID : 264330115095  
Status : Answered  
Chosen Option : 2

Q.17 \_\_\_\_\_, खुदरा विक्रेताओं के लिए गोदाम में स्टॉक रखते हैं ताकि खुदरा विक्रेताओं को जब भी उनकी आवश्यकता हो, उन्हें सामान उपलब्ध कराया जा सके।

- Ans
- 1. थोक विक्रेता
  - 2. खरीदार
  - 3. ग्राहक
  - 4. विक्रेता

Question ID : 264330115585  
Status : Answered  
Chosen Option : 1

Q.18 राज्य के महाधिवक्ता की नियुक्ति \_\_\_\_\_ द्वारा की जाती है।

- Ans
- 1. भारत के मुख्य न्यायाधीश
  - 2. राज्यपाल
  - 3. राज्य चुनाव आयुक्त
  - 4. मुख्यमंत्री

Question ID : 26433089184  
Status : Answered  
Chosen Option : 1

Q.19 गंगा नदी निम्नलिखित में से किस जल निकाय में जा मिलती है?

- Ans
- 1. प्रशांत महासागर
  - 2. अरब सागर
  - 3. दक्षिण चीन सागर
  - 4. बंगाल की खाड़ी

Question ID : 264330116009  
Status : Answered  
Chosen Option : 1

Q.20 निम्नलिखित में से कौन-सी लोक नृत्य शैली हरियाणा राज्य से संबंधित नहीं है?

- Ans
- 1. रउफ
  - 2. फाग
  - 3. गुग्गा
  - 4. खोरिया

Question ID : 26433086717  
Status : Answered  
Chosen Option : 1

Q.1 एक व्यक्ति ने 8 km की दूरी 4 km/h की चाल से, 12 km की दूरी 3 km/h की चाल से और 18 km की दूरी 2 km/h की चाल से तय की। कुल यात्रा में उसकी औसत चाल क्या है? (दशमलव के दो स्थानों तक लगभग)

- Ans  1. 2.53 km/h  
 2. 3.53 km/h  
 3. 2.83 km/h  
 4. 2.03 km/h

Question ID : 26433090284  
Status : Not Answered  
Chosen Option : --

Q.2 एक कक्षा के सभी साठ छात्र गणित की परीक्षा में शामिल हुए। 25 छात्रों ने 96 औसत अंक प्राप्त किए। शेष छात्रों को 84 औसत अंक मिले। पूरी कक्षा के औसत अंक \_\_\_\_\_ है।

- Ans  1. 89  
 2. 90  
 3. 91  
 4. 92

Question ID : 26433079909  
Status : Answered  
Chosen Option : 1

Q.3 124 m और 116 m लंबी दो ट्रेनें क्रमशः 28 km/h और 44 km/h की चाल से एक-दूसरे की ओर चल रही हैं। मिलने के बाद उन्हें एक-दूसरे को पार करने में कितना समय लगेगा?

- Ans  1. 16 सेकंड  
 2. 12 सेकंड  
 3. 10 सेकंड  
 4. 14 सेकंड

Question ID : 26433075199  
Status : Not Answered  
Chosen Option : --

Q.4 रवि के पास एक केक है, जो 6 cm त्रिज्या के गोले के आकार का है। फिर उसने इसे चॉकलेट में डुबोकर फ्रीजर में रख दिया। कुछ समय बाद उसने देखा कि चॉकलेट ने केक के ऊपर 2 cm मोटी परत बनाई। केक को चॉकलेट में डुबाने के बाद उसके पृष्ठीय क्षेत्रफल में कितने प्रतिशत परिवर्तन होता है?

- Ans  1. 77.78%  
 2. 64.23%  
 3. 47.45%  
 4. 34.89%

Question ID : 26433075328  
Status : Answered  
Chosen Option : 2

Q.5 लता ने Rs.2,160 में दो पंखे खरीदे। एक पंखे को 15% के लाभ पर और दूसरे को 9% की हानि पर बेचने पर, उसे पूरे लेन-देन में न तो लाभ होता है और न ही हानि। प्रत्येक पंखे का क्रय मूल्य ज्ञात करें।

- Ans  1. Rs.640, Rs.1,520  
 2. Rs.1,000, Rs.1,160  
 3. Rs.960, Rs.1,200  
 4. Rs.810, Rs.1,350

Question ID : 26433073123  
Status : Answered  
Chosen Option : 4

Q.6 कुछ वस्तुएं Rs.4,500 में खरीदी जाती हैं। यदि एक तिहाई वस्तुएं 15% की हानि पर बेची गई हैं, तो शेष वस्तुओं को कितने प्रतिशत लाभ पर बेचा जाना चाहिए, ताकि पूरे लेनदेन पर 20% का लाभ प्राप्त हो?

- Ans
- 1. 35%
  - 2. 17.5%
  - 3. 37.5%
  - 4. 27.5%

Question ID : 26433074987  
Status : Not Answered  
Chosen Option : --

Q.7 एक व्यापारी किसी उत्पाद के अंकित मूल्य पर 20% छूट देता है। व्यापारी इस घटे मूल्य पर एक और 36.5% की छूट देता है। दोनों कटौतियाँ, एकल कटौती \_\_\_\_\_ के बराबर है।

- Ans
- 1. 49.2%
  - 2. 43.5%
  - 3. 53.4%
  - 4. 58.6%

Question ID : 26433066310  
Status : Answered  
Chosen Option : 1

Q.8 निम्नलिखित व्यंजक का मान ज्ञात करें।  
 $95 - [144 \div 12 \text{ of } 12 - (-4) - \{3 - 17 - 10\}]$

- Ans
- 1. 78
  - 2. 48
  - 3. 66
  - 4. 92

Question ID : 26433076320  
Status : Answered  
Chosen Option : 3

Q.9 एक मोबाइल फोन Rs.15,500 में खरीदा गया था। इसके मूल्य में 20% प्रति वर्ष की दर से मूल्यहास होता है। दो वर्ष बाद इसका मूल्य ज्ञात कीजिए।

- Ans
- 1. Rs.9920
  - 2. Rs.6200
  - 3. Rs.10200
  - 4. Rs.12400

Question ID : 26433075736  
Status : Answered  
Chosen Option : 2

Q.10 10 प्रतिशत वार्षिक चक्रवृद्धि ब्याज दर से ₹1 लाख का मूलधन 3 वर्ष में बढ़कर कितना (₹ में) हो जाएगा? (ब्याज वार्षिक रूप से चक्रवृद्धि किया जाता है)

- Ans
- 1. ₹1,31,000
  - 2. ₹1,33,100
  - 3. ₹1,21,000
  - 4. ₹1,50,000

Question ID : 26433076012  
Status : Answered  
Chosen Option : 2

Q.11 एक 185 m लंबाई की और दूसरी 175 m लंबाई की, दो रेलगाड़ियाँ समानांतर पटरियों पर विपरीत दिशाओं में दौड़ रही हैं, पहली और दूसरी की चाल क्रमशः 80 km/h और 64 km/h हैं। एक-दूसरे को पार करने में वे कितना समय लेंगी?

- Ans
- 1. 7 सेकंड
  - 2. 9 सेकंड
  - 3. 9.5 सेकंड
  - 4. 8 सेकंड

Question ID : 26433075519  
Status : Not Answered  
Chosen Option : --

Q.12 A और B मिलकर कोई काम 24 दिन में कर सकते हैं। A, B से दोगुना कार्यकुशल है। B अकेले उस काम को कितने दिन में पूरा कर सकता है?

- Ans
- 1. 78
  - 2. 84
  - 3. 72
  - 4. 86

Question ID : 26433079893  
Status : Answered  
Chosen Option : 2

Q.13 M और N मिलकर एक कार्य को 18 दिनों में, N और P 26 दिनों में, और M और P 14 दिनों में पूरा कर सकते हैं। दिनों की अनुमानित संख्या ज्ञात करें, जहाँ सभी एक साथ काम करके कार्य को पूरा करते हैं।

- Ans
- 1. 12 दिन
  - 2. 13 दिन
  - 3. 11 दिन
  - 4. 15 दिन

Question ID : 264330116911  
Status : Answered  
Chosen Option : 2

Q.14 17 से विभाज्य 3 अंकीय सबसे छोटी संख्या और 34 से विभाज्य 2 अंकीय सबसे बड़ी संख्या का लघुत्तम समापवर्त्य ज्ञात करें।

- Ans
- 1. 102
  - 2. 204
  - 3. 408
  - 4. 816

Question ID : 264330116636  
Status : Answered  
Chosen Option : 3

Q.15 यदि H अपनी आय में से  $\frac{1}{3}$  की बचत करता है और ₹15,600 प्रति माह खर्च करता है, तो उसकी प्रति माह बचत की गणना ₹ में करें।

- Ans
- 1. ₹7,800
  - 2. ₹10,400
  - 3. ₹11,700
  - 4. ₹5,200

Question ID : 26433081706  
Status : Answered  
Chosen Option : 2

Q.16 जय के पेटीएम वॉलेट में ₹500 हैं। उसने पहले अपने बैलेंस में 20% और फिर 25% की वृद्धि की। प्रारंभिक बैलेंस की तुलना में बैलेंस में प्रतिशत वृद्धि ज्ञात कीजिए।

- Ans
- 1. 52.5%
  - 2. 50%
  - 3. 55%
  - 4. 47.5%

Question ID : 26433076409  
Status : Answered  
Chosen Option : 2

Q.17 यदि पहली संख्या का 20% दूसरी संख्या के  $\frac{1}{3}$  के बराबर है, तो दूसरी संख्या का पहली संख्या से अनुपात होगा:

- Ans
- 1. 5 : 3
  - 2. 2 : 3
  - 3. 3 : 2
  - 4. 3 : 5

Question ID : 26433082423  
Status : Not Answered  
Chosen Option : --

Q.18 एक शंकु की त्रिज्या और तिर्यक ऊंचाई का अनुपात क्रमशः 5 : 7 है। यदि इसका वक्र पृष्ठीय क्षेत्रफल 1,760

cm<sup>2</sup> है, तो इसकी त्रिज्या ज्ञात करें।  $\pi = \frac{22}{7}$  लें

- Ans
- 1. 24 cm
  - 2. 20 cm
  - 3. 28 cm
  - 4. 21 cm

Question ID : 26433076254  
Status : Not Answered  
Chosen Option : --

Q.19 5, 10 और 17 का चतुर्थानुपाती क्या है?

- Ans
- 1. 51
  - 2. 15
  - 3. 34
  - 4. 43

Question ID : 26433080328  
Status : Answered  
Chosen Option : 3

Q.20 एकल छूट, जो 20%, 22% और 25% की तीन क्रमिक छूटों के बराबर है, \_\_\_\_\_ है।

- Ans
- 1.  $\frac{234}{5}\%$
  - 2.  $\frac{267}{5}\%$
  - 3.  $\frac{233}{5}\%$
  - 4.  $\frac{266}{5}\%$

Question ID : 26433090288  
Status : Answered  
Chosen Option : 1

Section : Part-D-English

Q.1 Select the most appropriate option to fill in the blank.  
He decided not to go for the picnic as he was feeling a little \_\_\_\_\_.

- Ans
- 1. as right as rain
  - 2. under the weather
  - 3. head in the clouds
  - 4. calm before the storm

Question ID : 26433084652  
Status : Not Answered  
Chosen Option : --



**Q.2** Select the most appropriate option that can substitute the underlined segment in the given sentence. If there is no need to substitute it, select 'No substitution'.

I am born in the United States, yet I consider myself Indian.

- Ans**  1. I was born in the United States,  
 2. No substitution  
 3. I was born at the United States,  
 4. I was born in United States,

Question ID : 264330101020  
Status : Not Answered  
Chosen Option : --

**Q.3** Select the most appropriate ANTONYM of the given word.

**Sluggish**

- Ans**  1. Flatter  
 2. Humiliate  
 3. Active  
 4. Lethargic

Question ID : 26433090791  
Status : Not Answered  
Chosen Option : --

**Q.4** Select the most appropriate option to fill in the blank.

He received a \_\_\_\_\_ during the ceremony.

- Ans**  1. metal  
 2. medal  
 3. meddle  
 4. mettle

Question ID : 26433084714  
Status : Not Answered  
Chosen Option : --

**Q.5** Select the most appropriate antonym of the given word.

**Betray**

- Ans**  1. Disloyal  
 2. Sympathy  
 3. Adverse  
 4. Protect

Question ID : 26433072356  
Status : Not Answered  
Chosen Option : --

**Q.6** Select the most appropriate meaning of the given idiom.  
**Spick and span**

- Ans**  1. To leave a place quickly  
 2. To be in trouble  
 3. To be neat and clean  
 4. To be untidy

Question ID : 26433086378  
Status : Not Answered  
Chosen Option : --

Q.7 Select the most appropriate meaning of the given idiom.

Blaze the trail

- Ans  1. To be defeated  
 2. To receive fame  
 3. To cause a damage  
 4. Be first to do something important

Question ID : 26433074058  
Status : Not Answered  
Chosen Option : --

Q.8 Select the most appropriate synonym of the capitalised word in the given sentence.

I had the PRIVILEGE of meeting the magistrate.

- Ans  1. Recommendation  
 2. Guidance  
 3. Honour  
 4. Atrocity

Question ID : 26433088207  
Status : Not Answered  
Chosen Option : --

Q.9 Identify the correctly spelt sentence.

- Ans  1. Celastial objects are not visible to the naked eye.  
 2. Kelestial objects are not visible to the naked eye.  
 3. Celesteal objects are not visible to the naked eye.  
 4. Celestial objects are not visible to the naked eye.

Question ID : 26433072839  
Status : Not Answered  
Chosen Option : --

Q.10 The following sentence has been split into four segments. Identify the segment that contains an error.

Nyra have/ been taking / dance classes / this year.

- Ans  1. dance classes  
 2. been taking  
 3. Nyra have  
 4. this year

Question ID : 26433088297  
Status : Not Answered  
Chosen Option : --

Q.11 Select the most appropriate synonym of the given word.

Cherish

- Ans  1. Condemn  
 2. Abandon  
 3. Neglect  
 4. Admire

Question ID : 26433073685  
Status : Not Answered  
Chosen Option : --

Q.12 Select the most appropriate synonym of the underlined word in the given sentence.

I was startled by his entry into the hall.

- Ans  1. glad  
 2. cherished  
 3. frightened  
 4. miserable

Question ID : 26433092104  
Status : Not Answered  
Chosen Option : --

Q.13 Select the most appropriate option that can substitute the underlined segment in the given sentence.

The objective of Robotics are to interrogate smart machines that can help people in a variety of ways.

- Ans  1. is to develop  
 2. is to bully  
 3. are to facilitate  
 4. are to levitate

Question ID : 26433089798  
Status : Not Answered  
Chosen Option : --

Q.14 The sentence given below has one misspelt word. Spot the INCORRECTLY spelt word and select its correct spelling.

A trimphant smile appeared on his face.

- Ans  1. Trimphant  
 2. Triumphant  
 3. Triumpant  
 4. Tremphant

Question ID : 26433073560  
Status : Not Answered  
Chosen Option : --

Q.15 Select the correct word for the blanks in the given sentence.

He \_\_\_\_\_ to success after winning a lottery and \_\_\_\_\_ is everyone's favourite flower.

- Ans  1. got  
 2. rise  
 3. zenith  
 4. rose

Question ID : 26433060541  
Status : Not Answered  
Chosen Option : --

**Comprehension:**

In the following passage, some words have been deleted. Read the passage carefully and select the most appropriate option to fill in each blank.

It is often said that (1) \_\_\_\_\_ you want a pet to look up to you, get a dog. If you want a pet that looks straight (2) \_\_\_\_\_ you, get a horse. For an animal that looks down (3) \_\_\_\_\_ you, the cat must surely (4) \_\_\_\_\_ this description.

Cats are their own bosses. They have little or no regard for anyone or anything. If you have (5) \_\_\_\_\_ looked closely at the cat, you will observe that it looks at you from the corner of its eyes, almost condescendingly.

**SubQuestion No : 16**

**Q.16 Select the most appropriate option to fill in blank number 1.**

- Ans  1. whenever  
 2. whether  
 3. ever  
 4. if

Question ID : 26433072453  
Status : Not Answered  
Chosen Option : --

**Comprehension:**

In the following passage, some words have been deleted. Read the passage carefully and select the most appropriate option to fill in each blank.

It is often said that (1) \_\_\_\_\_ you want a pet to look up to you, get a dog. If you want a pet that looks straight (2) \_\_\_\_\_ you, get a horse. For an animal that looks down (3) \_\_\_\_\_ you, the cat must surely (4) \_\_\_\_\_ this description.

Cats are their own bosses. They have little or no regard for anyone or anything. If you have (5) \_\_\_\_\_ looked closely at the cat, you will observe that it looks at you from the corner of its eyes, almost condescendingly.

**SubQuestion No : 17**

**Q.17 Select the most appropriate option to fill in blank number 2.**

- Ans  1. by  
 2. to  
 3. at  
 4. over

Question ID : 26433072454  
Status : Not Answered  
Chosen Option : --

**Comprehension:**

In the following passage, some words have been deleted. Read the passage carefully and select the most appropriate option to fill in each blank.

It is often said that (1) \_\_\_\_\_ you want a pet to look up to you, get a dog. If you want a pet that looks straight (2) \_\_\_\_\_ you, get a horse. For an animal that looks down (3) \_\_\_\_\_ you, the cat must surely (4) \_\_\_\_\_ this description.

Cats are their own bosses. They have little or no regard for anyone or anything. If you have (5) \_\_\_\_\_ looked closely at the cat, you will observe that it looks at you from the corner of its eyes, almost condescendingly.

**SubQuestion No : 18**

**Q.18 Select the most appropriate option to fill in blank number 3.**

- Ans  1. on  
 2. with  
 3. at  
 4. in

Question ID : 26433072455  
Status : Not Answered  
Chosen Option : --

**Comprehension:**

In the following passage, some words have been deleted. Read the passage carefully and select the most appropriate option to fill in each blank.

It is often said that (1) \_\_\_\_\_ you want a pet to look up to you, get a dog. If you want a pet that looks straight (2) \_\_\_\_\_ you, get a horse. For an animal that looks down (3) \_\_\_\_\_ you, the cat must surely (4) \_\_\_\_\_ this description.

Cats are their own bosses. They have little or no regard for anyone or anything. If you have (5) \_\_\_\_\_ looked closely at the cat, you will observe that it looks at you from the corner of its eyes, almost condescendingly.

**SubQuestion No : 19**

**Q.19** Select the most appropriate option to fill in blank number 4.

**Ans** ✓ 1. fit

✗ 2. find

✗ 3. mist

✗ 4. feat

Question ID : 26433072456

Status : Not Answered

Chosen Option : --

**Comprehension:**

In the following passage, some words have been deleted. Read the passage carefully and select the most appropriate option to fill in each blank.

It is often said that (1) \_\_\_\_\_ you want a pet to look up to you, get a dog. If you want a pet that looks straight (2) \_\_\_\_\_ you, get a horse. For an animal that looks down (3) \_\_\_\_\_ you, the cat must surely (4) \_\_\_\_\_ this description.

Cats are their own bosses. They have little or no regard for anyone or anything. If you have (5) \_\_\_\_\_ looked closely at the cat, you will observe that it looks at you from the corner of its eyes, almost condescendingly.

**SubQuestion No : 20**

**Q.20** Select the most appropriate option to fill in blank number 5.

**Ans** ✓ 1. ever

✗ 2. never

✗ 3. sometime

✗ 4. whenever

Question ID : 26433072457

Status : Not Answered

Chosen Option : --

**Section : Part-D-Hindi**

**Q.1** 'वायु' के एकार्थी शब्द से निम्न वाक्य की पूर्ति कीजिए।  
सारे विशाल पेड़ \_\_\_\_\_ से गिर पड़े।

**Ans** ✓ 1. प्रभञ्जन

✗ 2. धूप

✗ 3. भूकंप

✗ 4. वर्षा

Question ID : 26433063081

Status : Answered

Chosen Option : 1

Q.2 'जिसे पान करने से अमर हो जाए'  
ऊपर दिए गए वाक्यांश के लिए एक शब्द क्या होगा?

- Ans  1. अमृत  
 2. अनिल  
 3. सलिल  
 4. अखाद्य

Question ID : 26433070054  
Status : Answered  
Chosen Option : 1

Q.3 निम्नलिखित में से शुद्ध वाक्य है-

- Ans  1. अब तुम मैं को बेवकूफ नहीं बना सकते।  
 2. अब तुम मुझे बेवकूफ नहीं बना सकते।  
 3. अब तुम मुझे बेवकूफ नहीं बना सकते।  
 4. अब तुम मुझको बेवकूफ ना बना सकते।

Question ID : 26433066845  
Status : Answered  
Chosen Option : 2

Q.4 झूठ बोलना पाप है।  
उपरोक्त वाक्य में रेखांकित पद बदलकर लिखिए।

- Ans  1. दूसरों को हानि पहुँचाना  
 2. मनुष्य को न मारना  
 3. सच बोलना  
 4. फूल बिछाना

Question ID : 26433062694  
Status : Answered  
Chosen Option : 1

Q.5 निम्न वाक्य में रेखांकित अंश के स्थान पर सबसे उपयुक्त विकल्प कौन-सा होगा?  
बात-बात में इस तरह झगड़ना-लड़ना ठीक नहीं है।

- Ans  1. लड़ना-मरना  
 2. मरना-लड़ना  
 3. झगड़ना-मारना  
 4. लड़ना-झगड़ना

Question ID : 26433066873  
Status : Answered  
Chosen Option : 4

Q.6 नीचे दिए गये वाक्यांश के लिए सार्थक शब्द बताइए-  
'रात और संध्या के बीच का समय'

- Ans  1. बेला  
 2. अस्ताचल  
 3. गोधूलि  
 4. सायंकाल

Question ID : 26433062594  
Status : Answered  
Chosen Option : 2

Q.7 निम्नलिखित विकल्पों में से 'उल्लू सीधा करना' मुहावरे का अर्थ क्या है?

- Ans  1. स्वार्थ सिद्ध करना  
 2. सबकी मदद करना  
 3. सबको साथ लेकर चलना  
 4. निरर्थक साबित होना

Question ID : 26433062549  
Status : Answered  
Chosen Option : 1

Q.8 निम्न मुहावरे को पूर्ण कीजिए।  
हाथ की \_\_\_\_\_ बनना

- Ans  1. कठ-जामुन  
 2. कठ-मांड़  
 3. कठ-पुतली  
 4. कठ-गुलाब

Question ID : 26433062817  
Status : Answered  
Chosen Option : 3

Q.9 निम्नलिखित में से शुद्ध वाक्य कौन-सा है?

- Ans  1. भगत सिंह का राष्ट्र आभारी है।  
 2. आकाश जानता है कि शायद उसका मित्र सो रहा है।  
 3. उसका सौन्दर्य कभी कम न होगा।  
 4. गाय का ताकतवर दूध होता है।

Question ID : 26433066992  
Status : Answered  
Chosen Option : 1

Q.10 निम्न में से किस वाक्य में 'खल' के सही पर्यायवाची शब्द का प्रयोग हुआ है?

- Ans  1. नयन अत्यंत दुष्ट है।  
 2. किसान बहुत परिश्रम करते हैं।  
 3. समुद्र का तट अत्यंत विस्तृत है।  
 4. उस पर खूनी हमला हुआ।

Question ID : 26433067018  
Status : Answered  
Chosen Option : 3

Q.11 ' \_\_\_\_\_ उत्पादक और उपभोक्ता को सम्पर्क में लाता है।'  
उपरोक्त वाक्य में रिक्त स्थान की पूर्ति निम्न में से उपयुक्त शब्द द्वारा कीजिए।

- Ans  1. निर्देशक  
 2. डाकिया  
 3. मुखिया  
 4. विज्ञापन

Question ID : 26433080899  
Status : Answered  
Chosen Option : 4

Q.12 विकल्पों में दिए गए समानार्थी शब्दों में से निम्न वाक्य के लिए सर्वोचित शब्द का प्रयोग करके रिक्त स्थान की पूर्ति कीजिए।

पांडु पुत्र अर्जुन \_\_\_\_\_ निशानेबाज़ वीर था।

- Ans
- 1. अनुपम
  - 2. अद्वितीय
  - 3. अनोखा
  - 4. अनूठा

Question ID : 26433062932  
Status : Answered  
Chosen Option : 2

Q.13 दिए गए विकल्पों में से कौन सा शब्द, निम्नलिखित वाक्य में रेखांकित शब्द का पर्यायवाची नहीं है।  
मदमस्त हाथी अपनी ही धुन में चलते हैं।

- Ans
- 1. कुंजर
  - 2. हाथ
  - 3. गज
  - 4. हस्ति

Question ID : 26433091336  
Status : Answered  
Chosen Option : 2

Q.14 कर्म के आधार पर क्रिया के दो भेद हैं-

- Ans
- 1. अकर्मक, सकर्मक
  - 2. सजातीय, विजातीय
  - 3. एककर्मक, द्विकर्मक
  - 4. गुणवाचक, सर्वनामिक

Question ID : 26433085041  
Status : Answered  
Chosen Option : 1

Q.15 निम्नलिखित में से कौन-सा वाक्य संज्ञा के प्रयोग की दृष्टि से शुद्ध है?

- Ans
- 1. वृद्धता मानव जीवन के विकास का अंतिम चरण है।
  - 2. वार्धक्य मानव जीवन के विकास का अंतिम चरण है।
  - 3. वृद्धमान मानव जीवन के विकास का अंतिम चरण है।
  - 4. वृद्ध मानव जीवन के विकास का अंतिम चरण है।

Question ID : 26433066956  
Status : Answered  
Chosen Option : 1



**Comprehension:**

निम्नलिखित गद्यांश में कुछ शब्दों को हटा दिया गया है। दिए गए विकल्पों की सहायता से रिक्त स्थानों की पूर्ति कीजिए। प्रत्येक संख्या के लिए सबसे उपयुक्त विकल्प का चयन कीजिए।  
मानव जीवन सुख और दुःख का मिला-जुला 1. \_\_\_\_\_ होता है। मनुष्य जीवन भर संघर्ष करता है। बचपन से लेकर वृद्धावस्था तक यदि वह 2. \_\_\_\_\_ रहेगा तो उसका जीवन नीरस हो जाएगा। जीवन को सरस बनाने के लिए 3. \_\_\_\_\_ के विभिन्न साधनों की आवश्यकता होती है। वैसे भी मनोरंजन मनुष्य की 4. \_\_\_\_\_ प्रवृत्ति है। सच पूछा जाए तो मनोरंजन के बिना जीवन 5. \_\_\_\_\_ है।

**SubQuestion No : 16**

Q.16 रिक्त स्थान 1 की पूर्ति के लिए सबसे उपयुक्त विकल्प का चयन कीजिए।

- Ans  1. स्थान  
 2. रूप  
 3. कार्य  
 4. साधन

Question ID : 264330111011  
Status : Answered  
Chosen Option : 2

**Comprehension:**

निम्नलिखित गद्यांश में कुछ शब्दों को हटा दिया गया है। दिए गए विकल्पों की सहायता से रिक्त स्थानों की पूर्ति कीजिए। प्रत्येक संख्या के लिए सबसे उपयुक्त विकल्प का चयन कीजिए।  
मानव जीवन सुख और दुःख का मिला-जुला 1. \_\_\_\_\_ होता है। मनुष्य जीवन भर संघर्ष करता है। बचपन से लेकर वृद्धावस्था तक यदि वह 2. \_\_\_\_\_ रहेगा तो उसका जीवन नीरस हो जाएगा। जीवन को सरस बनाने के लिए 3. \_\_\_\_\_ के विभिन्न साधनों की आवश्यकता होती है। वैसे भी मनोरंजन मनुष्य की 4. \_\_\_\_\_ प्रवृत्ति है। सच पूछा जाए तो मनोरंजन के बिना जीवन 5. \_\_\_\_\_ है।

**SubQuestion No : 17**

Q.17 रिक्त स्थान 2 की पूर्ति के लिए सबसे उपयुक्त विकल्प का चयन कीजिए।

- Ans  1. संघर्षशील  
 2. प्रचलित  
 3. प्रभावित  
 4. मिलनसार

Question ID : 264330111012  
Status : Answered  
Chosen Option : 1

**Comprehension:**

निम्नलिखित गद्यांश में कुछ शब्दों को हटा दिया गया है। दिए गए विकल्पों की सहायता से रिक्त स्थानों की पूर्ति कीजिए। प्रत्येक संख्या के लिए सबसे उपयुक्त विकल्प का चयन कीजिए।  
मानव जीवन सुख और दुःख का मिला-जुला 1. \_\_\_\_\_ होता है। मनुष्य जीवन भर संघर्ष करता है। बचपन से लेकर वृद्धावस्था तक यदि वह 2. \_\_\_\_\_ रहेगा तो उसका जीवन नीरस हो जाएगा। जीवन को सरस बनाने के लिए 3. \_\_\_\_\_ के विभिन्न साधनों की आवश्यकता होती है। वैसे भी मनोरंजन मनुष्य की 4. \_\_\_\_\_ प्रवृत्ति है। सच पूछा जाए तो मनोरंजन के बिना जीवन 5. \_\_\_\_\_ है।

**SubQuestion No : 18**

Q.18 रिक्त स्थान 3 की पूर्ति के लिए सबसे उपयुक्त विकल्प का चयन कीजिए।

- Ans  1. परिवार  
 2. मनोरंजन  
 3. कार्य  
 4. आकर्षण

Question ID : 264330111013  
Status : Answered  
Chosen Option : 2

**Comprehension:**

निम्नलिखित गद्यांश में कुछ शब्दों को हटा दिया गया है। दिए गए विकल्पों की सहायता से रिक्त स्थानों की पूर्ति कीजिए। प्रत्येक संख्या के लिए सबसे उपयुक्त विकल्प का चयन कीजिए।  
मानव जीवन सुख और दुःख का मिला-जुला 1. \_\_\_\_\_ होता है। मनुष्य जीवन भर संघर्ष करता है। बचपन से लेकर वृद्धावस्था तक यदि वह 2. \_\_\_\_\_ रहेगा तो उसका जीवन नीरस हो जाएगा। जीवन को सरस बनाने के लिए 3. \_\_\_\_\_ के विभिन्न साधनों की आवश्यकता होती है। वैसे भी मनोरंजन मनुष्य की 4. \_\_\_\_\_ प्रवृत्ति है। सच पूछा जाए तो मनोरंजन के बिना जीवन 5. \_\_\_\_\_ है।

**SubQuestion No : 19****Q.19 रिक्त स्थान 4 की पूर्ति के लिए सबसे उपयुक्त विकल्प का चयन कीजिए।**

- Ans  1. बड़ी  
 2. स्वाभाविक  
 3. मध्यम  
 4. अप्रत्यक्ष

Question ID : 264330111014  
Status : Answered  
Chosen Option : 2

**Comprehension:**

निम्नलिखित गद्यांश में कुछ शब्दों को हटा दिया गया है। दिए गए विकल्पों की सहायता से रिक्त स्थानों की पूर्ति कीजिए। प्रत्येक संख्या के लिए सबसे उपयुक्त विकल्प का चयन कीजिए।  
मानव जीवन सुख और दुःख का मिला-जुला 1. \_\_\_\_\_ होता है। मनुष्य जीवन भर संघर्ष करता है। बचपन से लेकर वृद्धावस्था तक यदि वह 2. \_\_\_\_\_ रहेगा तो उसका जीवन नीरस हो जाएगा। जीवन को सरस बनाने के लिए 3. \_\_\_\_\_ के विभिन्न साधनों की आवश्यकता होती है। वैसे भी मनोरंजन मनुष्य की 4. \_\_\_\_\_ प्रवृत्ति है। सच पूछा जाए तो मनोरंजन के बिना जीवन 5. \_\_\_\_\_ है।

**SubQuestion No : 20****Q.20 रिक्त स्थान 5 की पूर्ति के लिए सबसे उपयुक्त विकल्प का चयन कीजिए।**

- Ans  1. वर्चस्व  
 2. पूरा  
 3. उचित  
 4. अधूरा

Question ID : 264330111015  
Status : Answered  
Chosen Option : 4