

# Constable GD in CAPFs SSF Rifleman GD in Assam Rifles and Sepoy in NCB Examination 2022

Roll Number	<a href="http://www.govtjobsalert.in">www.govtjobsalert.in</a>
Candidate Name	<a href="http://www.govtjobsalert.in">www.govtjobsalert.in</a>
Venue Name	iON Digital Zone iDZ5 Patliputra
Exam Date	13/02/2023
Exam Time	2:30 PM - 3:30 PM
Subject	Constable GD Examination 2022

## Section : Part-A-General Intelligence and Reasoning

**Q.1** Six students Melanie, Sucheta, Martin, Suzanne, Danish and Jacob are sitting around a circular table facing the centre. Melanie is sitting second to the right of Sucheta. Suzanne is an immediate neighbour of Melanie and Sucheta. Danish is sitting third to the right of Suzanne. Martin is an immediate neighbour of Sucheta and Danish. Jacob is sitting third to the right of Sucheta. Who is sitting between Martin and Suzanne?

- Ans
- 1. Jacob
  - 2. Melanie
  - 3. Sucheta
  - 4. Danish

Question ID : 26433081789  
Status : Answered  
Chosen Option : 3

**Q.2** Which of the following numbers will replace the question marks (?) in the given series?  
99, 110, 132, ?, 209, ?, 330

- Ans
- 1. 165, 264
  - 2. 188, 294
  - 3. 168, 268
  - 4. 169, 288

Question ID : 26433070226  
Status : Answered  
Chosen Option : 1

**Q.3** In a certain code language, 'FOREST' is written as 'SPGVUG' and 'FRENCH' is written as 'FSGJEP'. How will 'FRIEND' be written as in that language?

- Ans
- 1. IRFDNE
  - 2. IRFFPG
  - 3. JSGDNE
  - 4. JSGFPG

Question ID : 26433090045  
Status : Answered  
Chosen Option : 4

Q.4 There are six members of a family- A, B, C, D, E and F. D has 3 sons A, B and C. D is not the father of the children. B has one son E. C has one daughter F. How is B related to F?

- Ans  1. Father's brother  
 2. Son  
 3. Father's father  
 4. Father

Question ID : 26433074595  
Status : Answered  
Chosen Option : 1

Q.5 Select the option that is related to the third term in the same way as the second term is related to the first term.  
ELECTRIC : GNGEVTKE :: NUCLEAR : ?

- Ans  1. PWENGCT  
 2. MTBKDZQ  
 3. PDZQDBS  
 4. OVDMDBS

Question ID : 26433067261  
Status : Answered  
Chosen Option : 1

Q.6 Three statements are given followed by three conclusions numbered I, II and III. Assuming the statements to be true, even if they seem to be at variance with commonly known facts, decide which of the conclusions logically follow(s) from the statements.

Statements:

All hands are fingers.

All legs are fingers.

All fingers are toes.

Conclusions:

I. All legs are toes.

II. All toes are hands.

III. Some toes are legs.

- Ans  1. Only conclusions I and II follow  
 2. Only conclusions II and III follow  
 3. Only conclusions I and III follow  
 4. All conclusions follow

Question ID : 26433082313  
Status : Answered  
Chosen Option : 3

Q.7 Select the correct combination of mathematical signs to sequentially replace the \* signs and to balance the given equation.

$$420 * 42 * 10 * 2 * 102$$

- Ans
- 1. =, +, x, ÷
  - 2. ÷, x, +, =
  - 3. ÷, +, =, x
  - 4. x, ÷, =, +

Question ID : 26433094987

Status : Answered

Chosen Option : 2

Q.8 Select the option that is related to the third word in the same way as the second word is related to the first word.

(The words must be considered as meaningful English words and must not be related to each other based on the number of letters/number of consonants/vowels in the word)

Tiger : India :: Giant Panda : ?

- Ans
- 1. Taiwan
  - 2. Vietnam
  - 3. China
  - 4. Russia

Question ID : 26433079480

Status : Not Answered

Chosen Option : --

Q.9 Select the correct mirror image of the given figure when the mirror is placed at MN as shown below.

biBLioGraPHy

M

|

N

- Ans
- 1. yH9rGoiidd
  - 2. yH9rGoiidd
  - 3. YH9rGoiidd
  - 4. YH9rGoiidd

Question ID : 26433085547

Status : Answered

Chosen Option : 1

Q.10 Select the option that is related to the third term in the same way as the second term is related to the first term and the sixth term is related to the fifth term.

13 : 196 :: 16 : ? :: 17 : 324

- Ans  1. 289  
 2. 298  
 3. 258  
 4. 292

Question ID : 26433069096  
Status : Answered  
Chosen Option : 1

Q.11 Which of the following terms will replace the question mark (?) in the given series?  
MDVG, NFYK, OHBO, PJES, ?

- Ans  1. QIGQ  
 2. QKGU  
 3. QLFU  
 4. QLHW

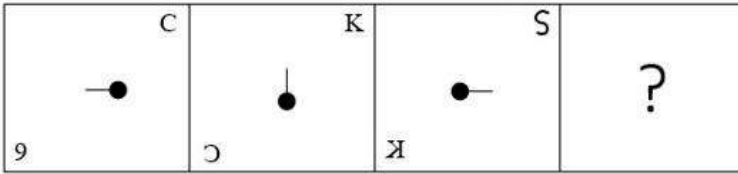
Question ID : 26433069447  
Status : Answered  
Chosen Option : 4

Q.12 Seven people, A, B, C, D, E, F and G are sitting in a straight row, facing north. A sits second from the left. Only two people sit between A and C. Only three people sit between D and F and D is an immediate neighbour of A. B is an immediate neighbour of D and E is not an immediate neighbour of C. Who sits to the immediate left of F?

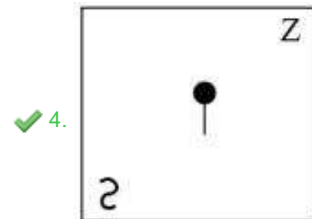
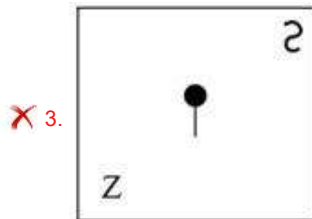
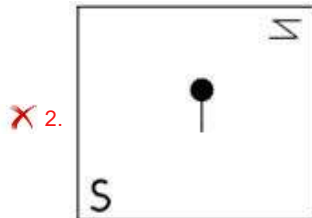
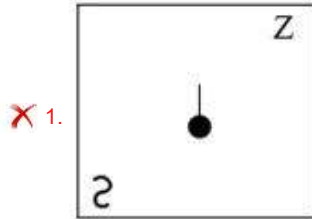
- Ans  1. E  
 2. B  
 3. C  
 4. G

Question ID : 26433056933  
Status : Answered  
Chosen Option : 4

Q.13 Select the figure from among the given options that can replace the question mark (?) in the following series.



Ans



Question ID : 26433080763

Status : Answered

Chosen Option : 4

Q.14 Which of the following numbers will replace the question mark (?) in the given series?  
2, 5, 18, 41, ?

Ans ✓ 1. 74

✗ 2. 43

✗ 3. 31

✗ 4. 67

Question ID : 26433082738

Status : Answered

Chosen Option : 1

Q.15 Which of the following letter-clusters will replace the question mark (?) in the given series?

PDYI, MGVL, ?, GMPR, DPMU

- Ans
- 1. KJRO
  - 2. JJTP
  - 3. IJSO
  - 4. JJSO

Question ID : 26433076434  
Status : Answered  
Chosen Option : 4

Q.16 In a certain code language, 'COGENT' is written as 'FMJCQR' and 'BRINK' is written as 'EPLLN'. How will 'RANKED' be written in that language?

- Ans
- 1. UZRJGA
  - 2. NVLOZA
  - 3. UYQIHB
  - 4. MXCHVI

Question ID : 26433069462  
Status : Answered  
Chosen Option : 3

Q.17 Which two signs should be interchanged to make the below equation mathematically correct?

$$24 + 72 \div 12 \times 36 - 12 = 168$$

- Ans
- 1. + and -
  - 2.  $\times$  and +
  - 3.  $\times$  and +
  - 4. + and -

Question ID : 264330117530  
Status : Answered  
Chosen Option : 2

Q.18 Select the option that represents the correct order of the given words as they would appear in an English dictionary.

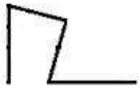
1. PRISM
2. PRINT
3. PRIOR
4. PRISE
5. PROBE
6. PRIZE

- Ans
- 1. 5, 6, 4, 1, 2, 3
  - 2. 1, 3, 2, 4, 6, 5
  - 3. 2, 3, 4, 1, 6, 5
  - 4. 3, 2, 4, 1, 6, 5

Question ID : 26433079382  
Status : Answered  
Chosen Option : 3

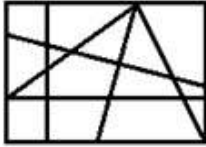
Q.19

Select the option figure in which the given figure is embedded as its part (rotation is not allowed).

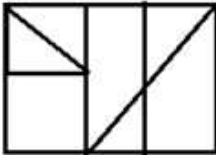


Ans

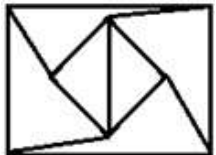
✓ 1.



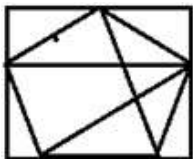
✗ 2.



✗ 3.



✗ 4.



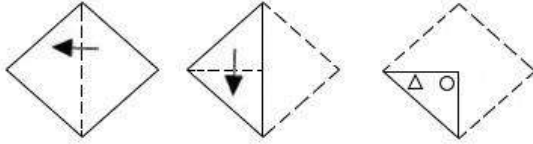
Question ID : 26433069542

Status : Answered

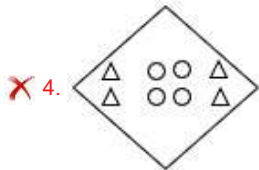
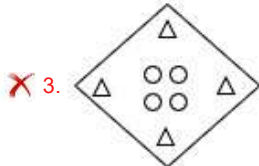
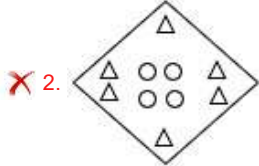
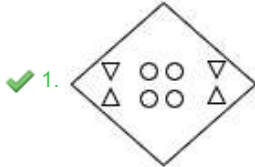
Chosen Option : 1

WWW.GOVtJOBSALERT.IN

Q.20 A paper is folded and cut as shown below. How will it appear when unfolded?



Ans



Question ID : 26433090092  
Status : Answered  
Chosen Option : 1

Section : Part-B-General Knowledge and General awareness

Q.1 Who became Punjab's Chief Minister after election in 2022?

- Ans
- ✗ 1. Amarinder Singh
  - ✗ 2. Charanjit Singh Channi
  - ✓ 3. Bhagwant Mann
  - ✗ 4. Parkash Singh Badal

Question ID : 264330115020  
Status : Answered  
Chosen Option : 3



Q.2 The Narmada river rises in which of the following place?

- Ans
- 1. Satpura
  - 2. Nasik
  - 3. Amarkantak hills
  - 4. Mahabaleshwar

Question ID : 264330116000  
Status : Answered  
Chosen Option : 3

Q.3 Which of the following Indian states does not share its border with China?

- Ans
- 1. Sikkim
  - 2. Arunachal Pradesh
  - 3. Himachal Pradesh
  - 4. Uttar Pradesh

Question ID : 264330116101  
Status : Answered  
Chosen Option : 4

Q.4 The five-day long Ganga Mahotsav is celebrated in which city of Uttar Pradesh?

- Ans
- 1. Varanasi
  - 2. Lucknow
  - 3. Noida
  - 4. Kanpur

Question ID : 26433092392  
Status : Answered  
Chosen Option : 1

Q.5 Wangala is the famous folk dance of \_\_\_\_\_.

- Ans
- 1. Mizoram
  - 2. Bihar
  - 3. West Bengal
  - 4. Meghalaya

Question ID : 26433071661  
Status : Answered  
Chosen Option : 4

Q.6 The Code of Criminal Procedure was enacted in year \_\_\_\_\_ in India.

- Ans
- 1. 1971
  - 2. 1975
  - 3. 1973
  - 4. 1977

Question ID : 264330116209  
Status : Answered  
Chosen Option : 1

Q.7 The term 'shooting guard' is used in which of the following games/sports?

- Ans  1. Basketball  
 2. Tennis  
 3. Volleyball  
 4. Table tennis

Question ID : 26433071573  
Status : Not Answered  
Chosen Option : --

Q.8 In the Tamil region, landless labourers, including slaves, were known as \_\_\_\_\_ during Sangam age.

- Ans  1. kadaiyar and adimai  
 2. vellalar and adimai  
 3. kadaiyar and uzhar  
 4. vellalar and uzhar

Question ID : 26433085226  
Status : Not Answered  
Chosen Option : --

Q.9 As of November 2022, who is the Union Minister for Law and Justice in India?

- Ans  1. Devendra Fadnis  
 2. Kiren Rijju  
 3. Ashwini Vaishnav  
 4. Piyush Goyal

Question ID : 264330114965  
Status : Answered  
Chosen Option : 2

Q.10 Who was responsible for the Jallianwala Bagh massacre?

- Ans  1. General Dawson  
 2. General Dyer  
 3. General Haunters  
 4. General Panters

Question ID : 264330115698  
Status : Answered  
Chosen Option : 2

Q.11 \_\_\_\_\_ is an electronic payment system that enables customers of a bank or other financial institution to conduct a range of financial transactions through the financial institution's website.

- Ans
- 1. Internet banking
  - 2. Interstate banking
  - 3. Single entry system
  - 4. Inter corporate banking

Question ID : 264330115317  
Status : Answered  
Chosen Option : 1

Q.12 The first ever Khelo India University Games were organised in which of the following state?

- Ans
- 1. Maharashtra
  - 2. Punjab
  - 3. Odisha
  - 4. Assam

Question ID : 264330116277  
Status : Answered  
Chosen Option : 1

Q.13 Guru Bipin Singh won various accolades in which dance form?

- Ans
- 1. Kathak
  - 2. Kathakali
  - 3. Lavani
  - 4. Manipuri

Question ID : 264330115863  
Status : Not Answered  
Chosen Option : --

Q.14 Manufacturing sectors are considered as the \_\_\_\_\_ of general and economic development.

- Ans
- 1. hand
  - 2. foot
  - 3. knee
  - 4. backbone

Question ID : 264330115564  
Status : Answered  
Chosen Option : 4

Q.15 Which of the following equations is correct for one mole of gas?

- Ans
- 1.  $V_1/V_2 = T_1^2/T_2^2$  (at constant pressure)
  - 2.  $V_1/V_2 = \sqrt{T_1/\sqrt{T_2}}$  (at constant pressure)
  - 3.  $V_1/V_2 = T_1/T_2$  (at constant pressure)
  - 4.  $p_1/V_1 = p_1/V_2$  (at constant temperature)

Question ID : 26433066473  
Status : Answered  
Chosen Option : 3

Q.16 Cell is the \_\_\_\_\_ living part of an organism.

- Ans
- 1. longest
  - 2. smallest
  - 3. finest
  - 4. thinnest

Question ID : 264330115242  
Status : Answered  
Chosen Option : 2

Q.17 What does Sub-Section (g) of the list of Fundamental Duties deal with?

- Ans
- 1. Education of Child
  - 2. Protect and improve the natural environment
  - 3. Safeguarding public property
  - 4. Preserve the rich heritage of our composite culture

Question ID : 26433054522  
Status : Not Answered  
Chosen Option : --

Q.18 In India, Green Revolution aimed at:

- Ans
- 1. national food security
  - 2. dependency on other countries
  - 3. national armed force security
  - 4. ozone depletion

Question ID : 264330115427  
Status : Answered  
Chosen Option : 1

Q.19 Quorum in a parliamentary procedure can be understood as the \_\_\_\_\_.

- Ans
- 1. total number of strength of the house
  - 2. minimum number of strength to run the business of the house
  - 3. total members of Lok Sabha
  - 4. total number of ministers present in Rajya Sabha

Question ID : 26433074911  
Status : Answered  
Chosen Option : 1

Q.20 IPR-1956 laid the foundation of the \_\_\_\_\_ Five-Year Plan.

- Ans
- 1. Second
  - 2. Sixth
  - 3. Fourth
  - 4. Tenth

Question ID : 26433054784  
Status : Answered  
Chosen Option : 1

Section : Part-C-Elementary Mathematics

Q.1 Two boats A and B start moving towards each other from two places, 272 km apart. The speed of the boat A and B in still water are 32 km/h and 36 km/h, respectively. If A moves in downstream and B moves in upstream, then in how much time they will meet each other?

- Ans
- 1. 4 hours
  - 2. 3 hours
  - 3. 5 hours
  - 4. 6 hours

Question ID : 26433075520  
Status : Not Answered  
Chosen Option : --

Q.2 What is the value of 10% of 20% of 1750?

- Ans
- 1. 30
  - 2. 35
  - 3. 28
  - 4. 32

Question ID : 26433075646  
Status : Answered  
Chosen Option : 2

Q.3 A shopkeeper allows a discount of 20% on an article. What will be the selling price of the article marked for ₹600?

- Ans
- 1. ₹400
  - 2. ₹480
  - 3. ₹450
  - 4. ₹420

Question ID : 26433087363  
Status : Answered  
Chosen Option : 2

Q.4 A boat can travel at a speed of 10 km/h in still water. If the speed of the stream is 2 km/h, find the time taken by the boat to go 72 km downstream.

- Ans
- 1. 4 hours
  - 2. 7 hours
  - 3. 5 hours
  - 4. 6 hours

Question ID : 26433080133  
Status : Not Answered  
Chosen Option : --

Q.5 A solid metallic cylinder of base radius 3 cm and height 4 cm is melted to form cones, each of height 2 cm and radius 1 cm. The number of cones is:

- Ans
- 1. 58
  - 2. 64
  - 3. 56
  - 4. 54

Question ID : 26433076089  
Status : Answered  
Chosen Option : 4

Q.6 Simplify  $\left[ 3\frac{1}{2} \div \left\{ 1\frac{1}{4} - \left( \frac{1}{2} + \frac{1}{3} \right) \right\} + \frac{7}{5} \right]$ .

- Ans
- 1. 5
  - 2. 7
  - 3.  $9\frac{4}{5}$
  - 4.  $8\frac{5}{6}$

Question ID : 26433074446  
Status : Answered  
Chosen Option : 3

Q.7 Find the compound interest, compounding annually on ₹75,000 for 3 years, if the rate of interest is 5% for the first year, 6% for the second year and 8% for the third year.

- Ans
- 1. ₹15,150
  - 2. ₹15,153
  - 3. ₹15,160
  - 4. ₹15,260

Question ID : 26433080193  
Status : Answered  
Chosen Option : 2

Q.8 The average of 3, 5, 10 and x is 5. The average of 8, 12, 15, x and y is 9. x and y, respectively, are:

- Ans
- 1. 3 and 8
  - 2. 3 and 9
  - 3. 2 and 3
  - 4. 2 and 8

Question ID : 26433082643  
Status : Answered  
Chosen Option : 4

Q.9 A carton of mango juice contains 500 ml. A special offer carton contains an extra 15 percent. How much mango juice is there in the special offer carton?

- Ans
- 1. 575 ml
  - 2. 640 ml
  - 3. 590 ml
  - 4. 545 ml

Question ID : 264330116813  
Status : Answered  
Chosen Option : 1

Q.10 A dishonest seller sells rice at Rs.24/kg, which he has bought at Rs.20/kg, and he gives 800 g instead of 1 kg. His actual profit percentage is:

- Ans
- 1. 43.75%
  - 2. 40%
  - 3. 50%
  - 4. 56.25%

Question ID : 26433072968  
Status : Answered  
Chosen Option : 2

Q.11 The greatest common divisor of 2.16, 2.44 and 3.36 is:

- Ans
- 1. 0.05
  - 2. 0.02
  - 3. 0.03
  - 4. 0.04

Question ID : 26433091510  
Status : Answered  
Chosen Option : 4

Q.12 A and B can do a piece of work in 60 days and 75 days respectively. How many days are required to complete the task if they work together?

- Ans
- 1. 35
  - 2. 35.5
  - 3.  $33\frac{1}{3}$
  - 4. 36

Question ID : 26433079890  
Status : Answered  
Chosen Option : 3

Q.13 Rakesh has to fill water in a cylindrical container of height 10 cm and radius 10 cm with a hemispherical bowl of radius 5 cm. How many times does he have to pour water into the cylindrical container with the hemispherical bowl to fill the tank completely with water?

- Ans
- 1. 16
  - 2. 19
  - 3. 12
  - 4. 15

Question ID : 26433075329  
Status : Not Answered  
Chosen Option : --

Q.14 What will be the amount on a sum of Rs.1,000 for 3 years at 10% compound interest per annum compounding annually?

- Ans
- 1. Rs.1,331
  - 2. Rs.2,311
  - 3. Rs.4,121
  - 4. Rs.3,122

Question ID : 26433064917  
Status : Answered  
Chosen Option : 1



Q.15 A dealer professes to sell his articles at cost price but he uses a false weight of 735 grams for a kilogram. The gain percent of the dealer is: (correct to 2 decimal places)

- Ans
- 1. 38.15%
  - 2. 36.05%
  - 3. 35.25%
  - 4. 40.05%

Question ID : 26433074924  
Status : Answered  
Chosen Option : 2

Q.16 Aman, Raman and Yash together can complete a piece of work in 29 days. Raman and Yash together can complete the same work in 58 days. Aman, Raman and Yash started working together but Aman left the work after 15 days from starting. Find the number of days in which Raman and Yash completed the remaining work.

- Ans
- 1. 21 days
  - 2. 50 days
  - 3. 28 days
  - 4. 54 days

Question ID : 264330116893  
Status : Not Answered  
Chosen Option : --

Q.17 Determine the list price of an item if a 10% discount on the item amounts to ₹100.

- Ans
- 1. ₹800
  - 2. ₹1,000
  - 3. ₹1,500
  - 4. ₹1,200

Question ID : 26433061359  
Status : Answered  
Chosen Option : 2

Q.18 20 kg of rice priced at ₹9 per kg has been mixed with 25 kg of rice priced at ₹10 per kg. What is the average price of 1 kg of the mixed rice? (Rounded off to one decimal place)

- Ans
- 1. ₹7.2
  - 2. ₹6.3
  - 3. ₹8.5
  - 4. ₹9.5

Question ID : 26433079999  
Status : Answered  
Chosen Option : 4

Q.19 Two numbers are in the ratio 2 : 3. If 7 is subtracted from each number, the new numbers are in the ratio 7 : 11. The smaller number is:

- Ans
- 1. 65
  - 2. 54
  - 3. 56
  - 4. 45

Question ID : 26433076375  
Status : Answered  
Chosen Option : 3

Q.20 If 48,  $x^2$  and 27 are in proportion, then the value of x is:

- Ans
- 1. 4
  - 2. 36
  - 3. 6
  - 4. 16

Question ID : 26433075437  
Status : Answered  
Chosen Option : 3

Section : Part-D-English

Q.1 Select the correctly spelt word.

- Ans
- 1. Entrepreneur
  - 2. Entreprineyour
  - 3. Enterpreneur
  - 4. Entripreiniur

Question ID : 26433086496  
Status : Answered  
Chosen Option : 1

Q.2 Select the most appropriate option that can substitute the underlined segment in the given sentence.

The marksheets of many students have been withheld by the university.

- Ans
- 1. kept back
  - 2. gone through
  - 3. handed out
  - 4. given away

Question ID : 26433099872  
Status : Answered  
Chosen Option : 4

**Q.3** Parts of the following sentence have been given as options. One of them may contain an error. Select the part that contains the error from the given options. If you don't find any error, mark 'No error' as your answer.

How foolish I was to have believe that young woman!

- Ans
- 1. to have believe
  - 2. No error
  - 3. How foolish I was
  - 4. that young woman

Question ID : 26433090483  
Status : Answered  
Chosen Option : 1

**Q.4** Select the most appropriate ANTONYM of the underlined word in the given sentence.

She is found to pass derogatory remarks to others.

- Ans
- 1. cunning
  - 2. appreciative
  - 3. critical
  - 4. sarcastic

Question ID : 26433092094  
Status : Answered  
Chosen Option : 2

**Q.5** Select the INCORRECTLY spelt word.

- Ans
- 1. Hapily
  - 2. Quickly
  - 3. Bravely
  - 4. Slowly

Question ID : 26433071818  
Status : Answered  
Chosen Option : 1

**Q.6** Select the most appropriate synonym of the word given in brackets to fill in the blank.

Some women have reached the \_\_\_\_\_(peak) in their profession.

- Ans
- 1. zenith
  - 2. finale
  - 3. sky
  - 4. crossroads

Question ID : 26433070469  
Status : Answered  
Chosen Option : 1

Q.7 Select the most appropriate ANTONYM of the given word.

Smart

- Ans  1. Elegant  
 2. Shabby  
 3. Speedy  
 4. Leisurely

Question ID : 26433084686  
Status : Answered  
Chosen Option : 2

Q.8 Select the most appropriate option that can substitute the underlined segment in the given sentence. If there is no need to substitute it, select 'No substitution'.

You cannot walk throughout deserts by bare feet or they'll get burned.

- Ans  1. through deserts on  
 2. through deserts by  
 3. No substitution  
 4. though deserts on

Question ID : 26433088910  
Status : Answered  
Chosen Option : 3

Q.9 Select the most appropriate meaning of the underlined idiom in the given sentence.

An ox on their tongue was the only way officers would have allowed him to carry on the unlawful activities he was involved in.

- Ans  1. Bribed to remain silent  
 2. Being frank  
 3. Telling lies  
 4. Getting no appreciation

Question ID : 26433072091  
Status : Answered  
Chosen Option : 1

Q.10 Select the most appropriate synonym of the given word.

Hypocrisy

- Ans  1. Trickery  
 2. Honesty  
 3. Inaccuracy  
 4. Sincerity

Question ID : 26433074049  
Status : Answered  
Chosen Option : 1

Q.11 Select the most appropriate ANTONYM of the given word.

Flexible

- Ans  1. Obstinate  
 2. Snobbish  
 3. Hysterical  
 4. Staunch

Question ID : 26433091822  
Status : Answered  
Chosen Option : 1

Q.12 Select the most appropriate synonym of the given word.

Obliterate

- Ans  1. Erase  
 2. Assist  
 3. Construct  
 4. Create

Question ID : 26433088203  
Status : Answered  
Chosen Option : 3

Q.13 Select the most appropriate option that can substitute the underlined segment in the given sentence.

His wife has a bad habit for accusing him for others' mistakes too.

- Ans  1. habit of accusing him  
 2. habit at accusing him  
 3. habit on accusing him  
 4. habit in accusing him

Question ID : 26433091966  
Status : Answered  
Chosen Option : 1

Q.14 Select the most appropriate meaning of the given idiom.

Up a creek without a paddle

- Ans  1. In an unfinished mission  
 2. In a partially complete construction work  
 3. In a satisfied and calm atmosphere  
 4. In a troublesome and serious situation

Question ID : 26433073481  
Status : Answered  
Chosen Option : 1

**Q.15 Select the most appropriate synonym of the word given in brackets to fill in the blank.**

I suppose it is a \_\_\_\_\_ (fair) solution to the problem at hand.

- Ans  1. pale  
 2. reasonable  
 3. bright  
 4. exhibition

Question ID : 26433072110  
Status : Answered  
Chosen Option : 2

**Comprehension:**

In the following passage, some words have been deleted. Read the passage carefully and select the most appropriate option to fill in each blank.

Road rage is a common (1)\_\_\_\_\_ in most parts of the world. Although there are a few countries where the drivers involved just stay stationed (2)\_\_\_\_\_ the police arrive, without getting into any argument, it is not the case in many other countries. There have been instances where people (3)\_\_\_\_\_ killed due to road rage because of the collision or even a minor scratch to one or two of the vehicles involved. Although the insurance companies are doing their best to (4)\_\_\_\_\_ for the losses, the number of instances of road rage continues to (5)\_\_\_\_\_.

**SubQuestion No : 16**

**Q.16 Select the most appropriate option to fill in blank number 1.**

- Ans  1. dominion  
 2. structure  
 3. phenomenon  
 4. pavilion

Question ID : 26433091794  
Status : Answered  
Chosen Option : 3

**Comprehension:**

In the following passage, some words have been deleted. Read the passage carefully and select the most appropriate option to fill in each blank.

Road rage is a common (1)\_\_\_\_\_ in most parts of the world. Although there are a few countries where the drivers involved just stay stationed (2)\_\_\_\_\_ the police arrive, without getting into any argument, it is not the case in many other countries. There have been instances where people (3)\_\_\_\_\_ killed due to road rage because of the collision or even a minor scratch to one or two of the vehicles involved. Although the insurance companies are doing their best to (4)\_\_\_\_\_ for the losses, the number of instances of road rage continues to (5)\_\_\_\_\_.

**SubQuestion No : 17**

**Q.17 Select the most appropriate option to fill in blank number 2.**

- Ans  1. besides  
 2. for  
 3. along  
 4. till

Question ID : 26433091795  
Status : Answered  
Chosen Option : 4

**Comprehension:**

In the following passage, some words have been deleted. Read the passage carefully and select the most appropriate option to fill in each blank.

Road rage is a common (1)\_\_\_\_\_ in most parts of the world. Although there are a few countries where the drivers involved just stay stationed (2)\_\_\_\_\_ the police arrive, without getting into any argument, it is not the case in many other countries. There have been instances where people (3)\_\_\_\_\_ killed due to road rage because of the collision or even a minor scratch to one or two of the vehicles involved. Although the insurance companies are doing their best to (4)\_\_\_\_\_ for the losses, the number of instances of road rage continues to (5)\_\_\_\_\_.

**SubQuestion No : 18**

**Q.18 Select the most appropriate option to fill in blank number 3.**

Ans  1. were

2. where

3. would

4. are

Question ID : 26433091796

Status : Answered

Chosen Option : 4

**Comprehension:**

In the following passage, some words have been deleted. Read the passage carefully and select the most appropriate option to fill in each blank.

Road rage is a common (1)\_\_\_\_\_ in most parts of the world. Although there are a few countries where the drivers involved just stay stationed (2)\_\_\_\_\_ the police arrive, without getting into any argument, it is not the case in many other countries. There have been instances where people (3)\_\_\_\_\_ killed due to road rage because of the collision or even a minor scratch to one or two of the vehicles involved. Although the insurance companies are doing their best to (4)\_\_\_\_\_ for the losses, the number of instances of road rage continues to (5)\_\_\_\_\_.

**SubQuestion No : 19**

**Q.19 Select the most appropriate option to fill in blank number 4.**

Ans  1. compensate

2. infiltrate

3. compete

4. hesitate

Question ID : 26433091797

Status : Answered

Chosen Option : 1

**Comprehension:**

In the following passage, some words have been deleted. Read the passage carefully and select the most appropriate option to fill in each blank.

Road rage is a common (1)\_\_\_\_\_ in most parts of the world. Although there are a few countries where the drivers involved just stay stationed (2)\_\_\_\_\_ the police arrive, without getting into any argument, it is not the case in many other countries. There have been instances where people (3)\_\_\_\_\_ killed due to road rage because of the collision or even a minor scratch to one or two of the vehicles involved. Although the insurance companies are doing their best to (4)\_\_\_\_\_ for the losses, the number of instances of road rage continues to (5)\_\_\_\_\_.

**SubQuestion No : 20**

**Q.20** Select the most appropriate option to fill in blank number 5.

- Ans
- 1. oscillate
  - 2. weaken
  - 3. ruminate
  - 4. escalate

Question ID : 26433091798

Status : Answered

Chosen Option : 2

**Section : Part-D-Hindi**

**Q.1** वर्तनी की दृष्टि से अशुद्ध वाक्य का चयन कीजिए-

- Ans
- 1. मैं आपसे असहमत नहीं हूँ।
  - 2. यह प्रस्ताव सब को स्वीकार्य है।
  - 3. माउंट आबू के मंदिर देखने लायक हैं।
  - 4. मेरे पास चार रूपए से अधिक नहीं हैं।

Question ID : 26433062889

Status : Not Answered

Chosen Option : --

**Q.2** 'अव्यवस्था' के लिए विलोम शब्द होगा-

- Ans
- 1. कुव्यवस्था
  - 2. सुव्यवस्था
  - 3. गड़बड़
  - 4. अराजकता

Question ID : 26433085077

Status : Not Answered

Chosen Option : --



Q.3 नीचे दिए गए वाक्य में रेखांकित अंश के स्थान पर सबसे उपयुक्त विकल्प कौन-सा होगा?  
मेरे को दिल्ली जाना है।

- Ans
- 1. इसका
  - 2. तेरे को
  - 3. मुझे
  - 4. इसकी

Question ID : 26433066716  
Status : Not Answered  
Chosen Option : --

Q.4 वर्तनी की दृष्टि से अशुद्ध वाक्य का चयन कीजिए-

- Ans
- 1. यदि दवा लगे तो बूखार कम हो जाएगा।
  - 2. मनोहर या तो स्वयं आयेगा या तार भेजेगा।
  - 3. यद्यपि शेर घायल हो गया तथापि वह मारा नहीं गया।
  - 4. मोहन एक पुस्तक चाहता था और वह उसे मिल गई।

Question ID : 26433062897  
Status : Not Answered  
Chosen Option : --

Q.5 निम्नलिखित शब्दों में से कौन सा शब्द द्रव्यवाचक संज्ञा शब्द है?

- Ans
- 1. कोयला
  - 2. साहस
  - 3. सूरज
  - 4. विद्यार्थी

Question ID : 26433085026  
Status : Not Answered  
Chosen Option : --

Q.6 दिए गए मुहावरे में रेखांकित अंश के स्थान पर सबसे उपयुक्त विकल्प कौन-सा होगा?  
'करत करत अभ्यास के आदमी होत सुजान'

- Ans
- 1. मनुष्य
  - 2. राजा
  - 3. जड़मति
  - 4. बुद्धिमति

Question ID : 26433066741  
Status : Not Answered  
Chosen Option : --

Q.7 निम्नलिखित शब्दों में से कौन सा शब्द क्रिया विशेषण शब्द नहीं है?

- Ans  1. कब  
 2. कल  
 3. जब  
 4. क्या

Question ID : 26433085045  
Status : Not Answered  
Chosen Option : --

Q.8 चाँद की अपनी रौशनी नहीं होती अपितु वह \_\_\_\_\_ से प्रकाश पाता है।  
'सूरज' के पर्याय से उपरोक्त वाक्य के रिक्त स्थान की पूर्ति कीजिए।

- Ans  1. ललित  
 2. भूधर  
 3. आदित्य  
 4. हिमकर

Question ID : 26433084987  
Status : Not Answered  
Chosen Option : --

Q.9 निम्नलिखित विकल्पों में से 'जो जाना न जा सके' वाक्यांश के लिए एक सार्थक शब्द क्या होगा?

- Ans  1. अनन्य  
 2. अज्ञेय  
 3. प्रमेय  
 4. सर्वज्ञ

Question ID : 26433062472  
Status : Not Answered  
Chosen Option : --

Q.10 'जो भू के गर्भ का हाल जानता हो' वाक्यांश के लिए इनमें से सही शब्द क्या है?

- Ans  1. परमज्ञानी  
 2. परमेश्वर  
 3. भूगर्भवित्त  
 4. ब्रह्मज्ञानी

Question ID : 26433070149  
Status : Not Answered  
Chosen Option : --

Q.11 निम्नलिखित वाक्य में रेखांकित खंड के स्थान पर प्रयुक्त होने वाले सबसे उपयुक्त विकल्प का चयन कीजिए।

अंशु ने अलमारी से पुस्तक निकाला।

- Ans
- 1. निकाले
  - 2. निकाली
  - 3. निकाल
  - 4. निकली

Question ID : 26433079568

Status : Not Answered

Chosen Option : --

Q.12 निम्न वाक्य में रेखांकित शब्द के विलोम से रिक्त स्थान की पूर्ति कीजिए।  
'जब आदि से सब कुछ अच्छा हो तो \_\_\_\_\_ भी भला ही होता है।'

- Ans
- 1. परिणाम
  - 2. भविष्य
  - 3. आरम्भ
  - 4. अंत

Question ID : 26433085001

Status : Not Answered

Chosen Option : --

Q.13 'हथेली पर सरसों जमाना' मुहावरे का सही अर्थ है -

- Ans
- 1. कम समय में कठिन कार्य करने की कोशिश करना
  - 2. कृषि करना
  - 3. दूसरे की भलाई के लिए खुद को मुश्किल में डालना
  - 4. अच्छी फ़सल होना

Question ID : 26433065929

Status : Not Answered

Chosen Option : --

Q.14 'जिसमें दया की भावना न हो' वाक्यांश के लिए उचित शब्द क्या होगा?

- Ans
- 1. अभय
  - 2. निर्दय
  - 3. निर्जीव
  - 4. निर्भय

Question ID : 26433067066

Status : Not Answered

Chosen Option : --

Q.15 निम्न में से किस वाक्य में 'अधम' के सही पर्यायवाची शब्द का प्रयोग हुआ है?

- Ans
- 1. राकेश सदैव अधर्म का पक्ष लेता है।
  - 2. यह रास्ता नीचे की ओर जाता है।
  - 3. मोहन अत्यंत विद्वान है।
  - 4. वह बहुत नीच व्यक्ति है।

Question ID : 26433067011

Status : Not Answered

Chosen Option : --

**Comprehension:**

निम्न गद्यांश के आधार पर प्रश्न संख्या 1-5 के उत्तर दीजिए।  
निबंध शब्द अंग्रेजी के 'Essay' का हिंदी पर्याय है। जिसका शाब्दिक अर्थ है- किसी विषय पर विचारों को सूत्रबद्ध करना, एकत्र करना, संचित कर संगठित करना आदि। विचार प्रधान रचना ही निबंध का अर्थ वहन करने में सक्षम कही जा सकती है। विषय का तार्किक विश्लेषण, रोचकता, सरसता, पाठकों से आत्मीयता, कलात्मक वैशिष्ट्य निबंध के प्रमुख गुण हैं। निबंध विधा का विकास आधुनिक युग में हुआ है। संस्कृत साहित्य में निबंध बौद्धिक अभिव्यक्ति का माध्यम भर थे। निजी अनुभूति, सहजता, स्वच्छन्दता, प्रभावान्विति जैसे गुणों का इनमें अभाव था। आधुनिक युग का निबंध साहित्य इससे सर्वथा भिन्न है। किसी भी विषय पर व्यक्तिगत विचारों को अभिव्यक्ति प्रदान करते हुए निबंधकार स्वच्छंद चिंतन द्वारा विषय के प्रतिपादन में नवीनता लाता है। किसी भी विषय पर निबंध रचना की जा सकती है। यथा- सुधारात्मक प्रवृत्ति प्रधान, समीक्षात्मक, भाव प्रवण, राष्ट्रीय चेतना प्रधान, मनोविकारों संबंधी। सुगठित कलेवर में श्रृंखलाबद्ध ढंग से विवेचन कर निबंधकार श्रेष्ठ निबंधों की रचना कर सकता है। संस्कृत की इस उक्ति कि- "गद्य कवियों की कसौटी है।" पर आचार्य रामचंद्र शुक्ल का यह कथन- "कि यदि पद्य कवियों की कसौटी तो निबंधकार गद्य की कसौटी है।" निबंध कला का महत्व दर्शाने के लिए पर्याप्त है।

SubQuestion No : 16

Q.16 गद्यांश के अनुसार किस प्रकार की रचना निबंध का अर्थ वहन करने में सक्षम है?

- Ans
- 1. विशेष रचना
  - 2. राष्ट्रीय रचना
  - 3. विचार प्रधान रचना
  - 4. स्वच्छंद

Question ID : 26433080960

Status : Not Answered

Chosen Option : --

**Comprehension:**

निम्न गद्यांश के आधार पर प्रश्न संख्या 1-5 के उत्तर दीजिए।  
निबंध शब्द अंग्रेजी के 'Essay' का हिंदी पर्याय है। जिसका शाब्दिक अर्थ है- किसी विषय पर विचारों को सूत्रबद्ध करना, एकत्र करना, संचित कर संगठित करना आदि। विचार प्रधान रचना ही निबंध का अर्थ वहन करने में सक्षम कही जा सकती है। विषय का तार्किक विश्लेषण, रोचकता, सरसता, पाठकों से आत्मीयता, कलात्मक वैशिष्ट्य निबंध के प्रमुख गुण हैं। निबंध विधा का विकास आधुनिक युग में हुआ है। संस्कृत साहित्य में निबंध बौद्धिक अभिव्यक्ति का माध्यम भर था। निजी अनुभूति, सहजता, स्वच्छन्दता, प्रभावान्विति जैसे गुणों का इनमें अभाव था। आधुनिक युग का निबंध साहित्य इससे सर्वथा भिन्न है। किसी भी विषय पर व्यक्तिगत विचारों को अभिव्यक्ति प्रदान करते हुए निबंधकार स्वच्छंद चिंतन द्वारा विषय के प्रतिपादन में नवीनता लाता है। किसी भी विषय पर निबंध रचना की जा सकती है। यथा- सुधारात्मक प्रवृत्ति प्रधान, समीक्षात्मक, भाव प्रवण, राष्ट्रीय चेतना प्रधान, मनोविकारों संबंधी। सुगठित कलेवर में श्रृंखलाबद्ध ढंग से विवेचन कर निबंधकार श्रेष्ठ निबंधों की रचना कर सकता है। संस्कृत की इस उक्ति कि- "गद्य कवियों की कसौटी है।" पर आचार्य रामचंद्र शुक्ल का यह कथन- "कि यदि पद्य कवियों की कसौटी तो निबंधकार गद्य की कसौटी है।" निबंध कला का महत्व दर्शाने के लिए पर्याप्त है।

**SubQuestion No : 17**

Q.17 निम्नलिखित में से क्या निबंध का प्रमुख गुण नहीं है?

- Ans
- 1. पाठकों से आत्मीयता
  - 2. विषय का तार्किक विश्लेषण
  - 3. कवि की कलात्मकता
  - 4. कलात्मक वैशिष्ट्य

Question ID : 26433080961

Status : Not Answered

Chosen Option : --

**Comprehension:**

निम्न गद्यांश के आधार पर प्रश्न संख्या 1-5 के उत्तर दीजिए।  
निबंध शब्द अंग्रेजी के 'Essay' का हिंदी पर्याय है। जिसका शाब्दिक अर्थ है- किसी विषय पर विचारों को सूत्रबद्ध करना, एकत्र करना, संचित कर संगठित करना आदि। विचार प्रधान रचना ही निबंध का अर्थ वहन करने में सक्षम कही जा सकती है। विषय का तार्किक विश्लेषण, रोचकता, सरसता, पाठकों से आत्मीयता, कलात्मक वैशिष्ट्य निबंध के प्रमुख गुण हैं। निबंध विधा का विकास आधुनिक युग में हुआ है। संस्कृत साहित्य में निबंध बौद्धिक अभिव्यक्ति का माध्यम भर था। निजी अनुभूति, सहजता, स्वच्छन्दता, प्रभावान्विति जैसे गुणों का इनमें अभाव था। आधुनिक युग का निबंध साहित्य इससे सर्वथा भिन्न है। किसी भी विषय पर व्यक्तिगत विचारों को अभिव्यक्ति प्रदान करते हुए निबंधकार स्वच्छंद चिंतन द्वारा विषय के प्रतिपादन में नवीनता लाता है। किसी भी विषय पर निबंध रचना की जा सकती है। यथा- सुधारात्मक प्रवृत्ति प्रधान, समीक्षात्मक, भाव प्रवण, राष्ट्रीय चेतना प्रधान, मनोविकारों संबंधी। सुगठित कलेवर में श्रृंखलाबद्ध ढंग से विवेचन कर निबंधकार श्रेष्ठ निबंधों की रचना कर सकता है। संस्कृत की इस उक्ति कि- "गद्य कवियों की कसौटी है।" पर आचार्य रामचंद्र शुक्ल का यह कथन- "कि यदि पद्य कवियों की कसौटी तो निबंधकार गद्य की कसौटी है।" निबंध कला का महत्व दर्शाने के लिए पर्याप्त है।

**SubQuestion No : 18**

Q.18 गद्यांश के अनुसार विषय में नवीनता किस प्रकार से आती है?

- Ans
- 1. आधुनिकता से
  - 2. निरन्तरता से
  - 3. नैतिकता से
  - 4. स्वच्छंद चिन्तन से

Question ID : 26433080962

Status : Not Answered

Chosen Option : --

**Comprehension:**

निम्न गद्यांश के आधार पर प्रश्न संख्या 1-5 के उत्तर दीजिए।  
निबंध शब्द अंग्रेजी के 'Essay' का हिंदी पर्याय है। जिसका शाब्दिक अर्थ है- किसी विषय पर विचारों को सूत्रबद्ध करना, एकत्र करना, संचित कर संगठित करना आदि। विचार प्रधान रचना ही निबंध का अर्थ वहन करने में सक्षम कही जा सकती है। विषय का तार्किक विश्लेषण, रोचकता, सरसता, पाठकों से आत्मीयता, कलात्मक वैशिष्ट्य निबंध के प्रमुख गुण हैं। निबंध विधा का विकास आधुनिक युग में हुआ है। संस्कृत साहित्य में निबंध बौद्धिक अभिव्यक्ति का माध्यम भर था। निजी अनुभूति, सहजता, स्वच्छन्दता, प्रभावान्विति जैसे गुणों का इनमें अभाव था। आधुनिक युग का निबंध साहित्य इससे सर्वथा भिन्न है। किसी भी विषय पर व्यक्तिगत विचारों को अभिव्यक्ति प्रदान करते हुए निबंधकार स्वच्छंद चिंतन द्वारा विषय के प्रतिपादन में नवीनता लाता है। किसी भी विषय पर निबंध रचना की जा सकती है। यथा- सुधारात्मक प्रवृत्ति प्रधान, समीक्षात्मक, भाव प्रवण, राष्ट्रीय चेतना प्रधान, मनोविकारों संबंधी। सुगठित कलेवर में श्रृंखलाबद्ध ढंग से विवेचन कर निबंधकार श्रेष्ठ निबंधों की रचना कर सकता है। संस्कृत की इस उक्ति कि- "गद्य कवियों की कसौटी है।" पर आचार्य रामचंद्र शुक्ल का यह कथन- "कि यदि पद्य कवियों की कसौटी तो निबंधकार गद्य की कसौटी है।" निबंध कला का महत्व दर्शाने के लिए पर्याप्त है।

**SubQuestion No : 19**

Q.19 आचार्य रामचंद्र शुक्ल ने गद्यकार की कसौटी किसे माना है?

- Ans
- 1. एकांकी
  - 2. कहानी
  - 3. निबंध
  - 4. नाटक

Question ID : 26433080963

Status : Not Answered

Chosen Option : --

**Comprehension:**

निम्न गद्यांश के आधार पर प्रश्न संख्या 1-5 के उत्तर दीजिए।  
निबंध शब्द अंग्रेजी के 'Essay' का हिंदी पर्याय है। जिसका शाब्दिक अर्थ है- किसी विषय पर विचारों को सूत्रबद्ध करना, एकत्र करना, संचित कर संगठित करना आदि। विचार प्रधान रचना ही निबंध का अर्थ वहन करने में सक्षम कही जा सकती है। विषय का तार्किक विश्लेषण, रोचकता, सरसता, पाठकों से आत्मीयता, कलात्मक वैशिष्ट्य निबंध के प्रमुख गुण हैं। निबंध विधा का विकास आधुनिक युग में हुआ है। संस्कृत साहित्य में निबंध बौद्धिक अभिव्यक्ति का माध्यम भर था। निजी अनुभूति, सहजता, स्वच्छन्दता, प्रभावान्विति जैसे गुणों का इनमें अभाव था। आधुनिक युग का निबंध साहित्य इससे सर्वथा भिन्न है। किसी भी विषय पर व्यक्तिगत विचारों को अभिव्यक्ति प्रदान करते हुए निबंधकार स्वच्छंद चिंतन द्वारा विषय के प्रतिपादन में नवीनता लाता है। किसी भी विषय पर निबंध रचना की जा सकती है। यथा- सुधारात्मक प्रवृत्ति प्रधान, समीक्षात्मक, भाव प्रवण, राष्ट्रीय चेतना प्रधान, मनोविकारों संबंधी। सुगठित कलेवर में श्रृंखलाबद्ध ढंग से विवेचन कर निबंधकार श्रेष्ठ निबंधों की रचना कर सकता है। संस्कृत की इस उक्ति कि- "गद्य कवियों की कसौटी है।" पर आचार्य रामचंद्र शुक्ल का यह कथन- "कि यदि पद्य कवियों की कसौटी तो निबंधकार गद्य की कसौटी है।" निबंध कला का महत्व दर्शाने के लिए पर्याप्त है।

**SubQuestion No : 20**

Q.20 वैशिष्ट्य शब्द का समानार्थी होगा-

- Ans
- 1. बनावट
  - 2. विशेषता
  - 3. विषय
  - 4. भिन्नता

Question ID : 26433080964

Status : Not Answered

Chosen Option : --