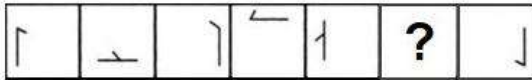


Constable GD in CAPFs SSF Rifleman GD in Assam Rifles and Sepoy in NCB Examination 2022

Roll Number	www.govtjobsalert.in
Candidate Name	www.govtjobsalert.in
Venue Name	iON Digital Zone iDZ 2 Sector 62
Exam Date	17/01/2023
Exam Time	9:00 AM - 10:00 AM
Subject	Constable GD Examination 2022

Section : Part-A-General Intelligence and Reasoning

Q.1 Select the figure from among the given options that can replace the question mark (?) in the following series.



Ans

- 1.
- 2.
- 3.
- 4.

Question ID : 26433080498

Status : Answered

Chosen Option : 2

Q.2 Select the option that is related to the third word in the same way as the second word is related to the first word. (The words must be considered as meaningful English words and must not be related to each other based on the number of letters/number of consonants/vowels in the word)
2D : Triangle :: 3D : _____

- 1. Square
- 2. Rectangle
- 3. Figure
- 4. Hemisphere

Question ID : 26433082658

Status : Answered

Chosen Option : 4

Q.3 Which two signs should be interchanged to make the below equation mathematically correct?

$$63 \div 3 \times 21 - 15 + 12 = 6$$

- Ans
- 1. - and +
 - 2. ÷ and ×
 - 3. × and -
 - 4. ÷ and -

Question ID : 264330117547

Status : Answered

Chosen Option : 2

Q.4 Six people M, N, O, P, Q and R are sitting in a straight row, facing north. O is sitting to the immediate right of N. P is sitting to the immediate right of O. Q is sitting to the immediate right of P. R is sitting to the immediate left of N. If there are only five people sitting to the right of M, who is at the extreme right end of the row?

- Ans
- 1. Q
 - 2. R
 - 3. P
 - 4. N

Question ID : 26433069154

Status : Answered

Chosen Option : 1

Q.5 Three statements are given followed by two conclusions numbered 1 and 2. Assuming the statements to be true, even if they seem to be at variance with commonly known facts, decide which of the conclusions logically follow(s) from the statements.

Statements:

No red is black.

All blues are black.

No blue is pink.

Conclusions:

1. No blue is red.

2. No red is pink.

- Ans
- 1. Neither conclusion 1 nor 2 follows
 - 2. Both conclusions 1 and 2 follow
 - 3. Only conclusion 1 follows
 - 4. Only conclusion 2 follows

Question ID : 26433087133

Status : Answered

Chosen Option : 3

Q.6 Select the option that is related to the third word in the same way as the second word is related to the first word. (The words must be considered as meaningful English words and must not be related to each other based on the number of letters/number of consonants/vowels in the word.)

Gardener : Harrow :: Farmer : ?

- Ans
- 1. Plough
 - 2. Water
 - 3. Seed
 - 4. Land

Question ID : 26433067366

Status : Answered

Chosen Option : 1

Q.7 'A + B' means 'A is the brother of B'
'A - B' means 'A is the mother of B'
'A × B' means 'A is the husband of B'
'A ÷ B' means 'A is the sister of B'

If $B \times D \div F - H + J \div S$, then which of the following statements is NOT correct?

- Ans
- 1. H is the son of D.
 - 2. J is the sister of H.
 - 3. F is the sister of D.
 - 4. B is the husband of the sister of F.

Question ID : 26433082636

Status : Answered

Chosen Option : 1

Q.8 Which letter-cluster will replace the question mark (?) to complete the given series?
XERJ, THPK, ?, LNLM, HQJN

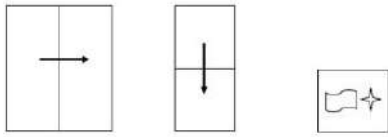
- Ans
- 1. RKNM
 - 2. PKNL
 - 3. SLKM
 - 4. QKLN

Question ID : 26433068578

Status : Answered

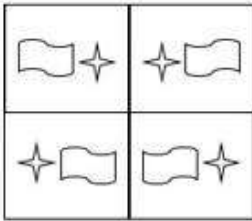
Chosen Option : 2

Q.9 A paper is folded and cut as shown below. How will it appear when unfolded?

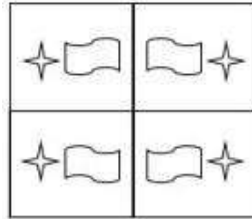


Ans

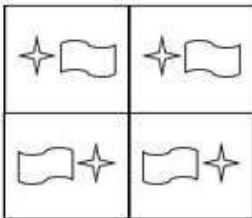
1.



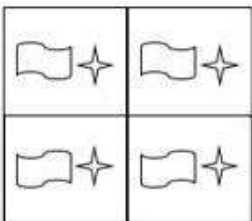
2.



3.



4.



Question ID : 26433089783

Status : Answered

Chosen Option : 2

Q.10 Which of the following interchange of numbers(not digits) would make the given equation correct?

$$15 \div 5 \times 12 + 6 = 65 - 35$$

Ans 1. 5, 15

2. 6, 12

3. 5, 35

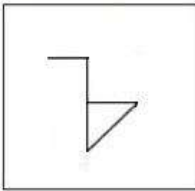
4. 12, 65

Question ID : 26433087049

Status : Answered

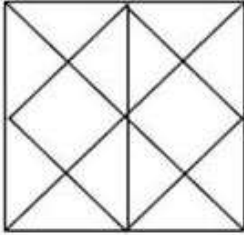
Chosen Option : 2

Q.11 Select the option in which the given figure is embedded (rotation is NOT allowed).

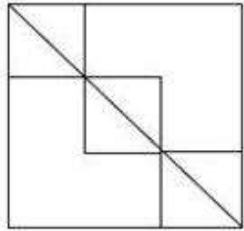


Ans

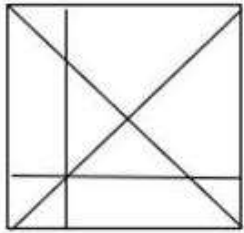
✗ 1.



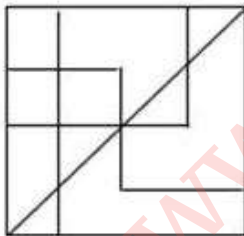
✗ 2.



✗ 3.



✓ 4.



Question ID : 26433076717

Status : Answered

Chosen Option : 4

Q.12 In a code language, 'fast track him' is coded as 'le pa da', 'we give fast' is coded as 'da jo he', 'track my order' is coded as 'vu ba le'. What is the code for the word 'him'?

Ans ✓ 1. pa

✗ 2. jo

✗ 3. de

✗ 4. le

Question ID : 26433086984

Status : Answered

Chosen Option : 1

Q.13 Select the correct mirror image of the given figure when the mirror is placed at MN as shown below.

tOgeTHer



Ans

1. RəŋTəgəT

2. ɹəHTəgət

3. ɹəHTəgəT

4. RəŋTəgəT

Question ID : 26433085557

Status : Answered

Chosen Option : 2

Q.14 Select the option that is related to the fifth number in the same way as the second number is related to the first number and the fourth number is related to the third number.

1 : 36 :: 2 : 49 :: 4 : ?

Ans 1. 82

2. 81

3. 90

4. 93

Question ID : 26433069413

Status : Answered

Chosen Option : 2

Q.15 Which of the following numbers will replace the question mark (?) in the given series?
98, 93, 89, ?, 84

Ans 1. 90

2. 87

3. 86

4. 85

Question ID : 26433085349

Status : Answered

Chosen Option : 3

Q.16 Which option represents the correct order of the given words as they would appear in the English dictionary?

1. track
2. trace
3. trade
4. treasure
5. triangle

- Ans 1. 3,2,1,4,5
2. 2,1,3,4,5
3. 2,3,1,5,4
4. 3,4,1,2,5

Question ID : 26433069321

Status : Answered

Chosen Option : 2

Q.17 Kirti, Suman, Shubh, Kanak, Pari, Charu, Shlok and Shivi are sitting around a square table facing the centre of the table. Some of them are sitting at the corners, while some are sitting at the exact centre of the sides. Kirti sits third to the left of Shubh. Kirti sits at one of the corners. Kanak sits second to the right of Pari. Pari does not sit at any of the corners. Pari is not an immediate neighbour of Kirti. Suman is an immediate neighbour of Charu. Suman does not sit at any of the middle of the sides. Only three people sit between Suman and Shlok from either sides. Who does NOT sit at any of the corners?

- Ans 1. Charu
2. Kirti
3. Shlok
4. Shivi

Question ID : 26433082289

Status : Answered

Chosen Option : 1

Q.18 Which of the following numbers will replace the question mark (?) in the given series?
5, 7, 12, 21, 35, 55, ?

- Ans 1. 69
2. 72
3. 82
4. 65

Question ID : 26433082006

Status : Answered

Chosen Option : 3

Q.19 Which of the following letter-clusters will replace the question mark (?) in the given series?

BVfy, FRJU, JNNQ, ?, RFVI

- Ans 1. NJRM
2. NKRN
3. MJQM
4. NJQM

Question ID : 26433076451

Status : Answered

Chosen Option : 1

Q.20 In a certain code language, 'CLOAKED' is written as '39' and 'FLANK' is written as '32'. How will 'FLOCKED' be written in that language?

- Ans
- 1. 42
 - 2. 46
 - 3. 44
 - 4. 48

Question ID : 26433069473
Status : Answered
Chosen Option : 3

Section : Part-B-General Knowledge and General awareness

Q.1 The Mahatma Gandhi National Rural Employment Guarantee Act, (MGNREGA) Government of India, comes under the flagship of _____.

- Ans
- 1. Ministry of Social Justice and Empowerment
 - 2. Ministry of Health and Family Welfare
 - 3. Ministry of Housing and Urban Affairs
 - 4. Ministry of Rural Development

Question ID : 264330116219
Status : Answered
Chosen Option : 1

Q.2 Which article of the Indian Constitution provides for right to education?

- Ans
- 1. 23
 - 2. 22
 - 3. 21A
 - 4. 20

Question ID : 264330115635
Status : Answered
Chosen Option : 3

Q.3 Which dynasty ruled over Delhi during 1290 to 1320?

- Ans
- 1. Tughluq
 - 2. Khalji
 - 3. Lodi
 - 4. Sayyid

Question ID : 26433085224
Status : Answered
Chosen Option : 2

Q.4 Sangeet Natak Akademi Fellow (Akademi Ratna) has been awarded to

- Ans** 1. Jatin Goswami
 2. Anita Sharma
 3. Manik Barbayan
 4. Tankeswar Hazarika Borbayan

Question ID : 264330115873
Status : Answered
Chosen Option : 4

Q.5 Which among the following is an "S" shaped ocean?

- Ans** 1. Indian Ocean
 2. Arctic Ocean
 3. Pacific Ocean
 4. Atlantic Ocean

Question ID : 264330116005
Status : Answered
Chosen Option : 4

Q.6 The Sport Jallikattu belongs to which Country?

- Ans** 1. Nepal
 2. Spain
 3. Rome
 4. India

Question ID : 264330116287
Status : Answered
Chosen Option : 4

Q.7 What is the minimum age required to be appointed as the Governor of State?

- Ans** 1. 35 years
 2. 25 years
 3. 30 years
 4. 27 years

Question ID : 26433074912
Status : Answered
Chosen Option : 1

Q.8 The Green Revolution in India was initiated in the 1960s by introducing high-yielding varieties of _____.

- Ans 1. jowar and maize
 2. rice and wheat
 3. millet and jute
 4. jute and cotton

Question ID : 264330116153
Status : Answered
Chosen Option : 2

Q.9 Which Union Minister of India inaugurated largest South Asian film market-Film Bazaar in November 2022?

- Ans 1. Smriti Irani
 2. Nirmala Sitharaman
 3. Anurag Singh Thakur
 4. Gajendra Singh Shekhawat

Question ID : 264330114952
Status : Answered
Chosen Option : 3

Q.10 गणेश चतुर्थी हिंदू पंचांग के निम्नलिखित में से किस माह के चौथे दिन से शुरू होती है?

- Ans 1. कार्तिक
 2. माघ
 3. भाद्रपद
 4. अश्विन

Question ID : 26433094887
Status : Answered
Chosen Option : 3

Q.11 How is the distribution of species done in stratification?

- Ans 1. centrally
 2. diagonally
 3. vertically
 4. horizontally

Question ID : 264330115249
Status : Answered
Chosen Option : 3

Q.12 Koli is the folk dance of which of the following Indian states?

- Ans 1. Maharashtra
 2. Jharkhand
 3. West Bengal
 4. Tamil Nadu

Question ID : 26433086712
Status : Answered
Chosen Option : 2

Q.13 Who introduced the concept of poverty line in pre-independent India?

- Ans 1. Manabendra Nath Roy
 2. Amartya Sen
 3. Dadabhai Naoroji
 4. Mysore Narasimhachar Srinivas

Question ID : 264330116073
Status : Answered
Chosen Option : 3

Q.14 Which of the following element has atomic number 12?

- Ans 1. Ca
 2. O
 3. He
 4. Mg

Question ID : 264330115171
Status : Answered
Chosen Option : 1

Q.15 What is the last step in the process of manufacturing of steel?

- Ans 1. production of liquid steel
 2. heating limestone, coke and iron in a blast furnace
 3. shaping of steel
 4. production of pig iron

Question ID : 264330115581
Status : Answered
Chosen Option : 2

Q.16 Who became the foreign secretary of India in May 2022?

- Ans 1. Vinay Mohan Kwatra
 2. Subrahmanyam Jaishankar
 3. Yashwant Sinha
 4. Harsh Vardhan Shringla

Question ID : 264330115037
Status : Answered
Chosen Option : 1

Q.17 How many players on each side are allowed on the field at a time in the game of Volleyball?

Ans 1. 6

2. 8

3. 7

4. 5

Question ID : 264330115932

Status : Answered

Chosen Option : 1

Q.18 Bahadur Shah Zafar and his sons were arrested by the British officials from _____ in Delhi.

Ans 1. Humayun's Tomb

2. Safdarjung's Tomb

3. Jama Masjid

4. Red Fort

Question ID : 26433089894

Status : Answered

Chosen Option : 4

Q.19 Father of Green Revolution in the world is :

Ans 1. Norman Borlaug

2. Adam Smith

3. Jawahar Lal Nehru

4. Kourien

Question ID : 264330115414

Status : Answered

Chosen Option : 1

Q.20 National income accounting is a bookkeeping system to measure the level of the country's _____ activity in a given time period.

Ans 1. economic

2. chemical

3. democratic

4. medical

Question ID : 264330115334

Status : Answered

Chosen Option : 1

Q.1 A man's weekly wage was Rs. 1200, but now he earns Rs. 1800. What is the percent increase in the man's wage?

- Ans
- 1. 20 percent
 - 2. 80 percent
 - 3. 50 percent
 - 4. 30 percent

Question ID : 264330116823
Status : Answered
Chosen Option : 3

Q.2 Three cubes, each of side 5 cm, are joined end to end. What is the total surface area of the resulting cuboid?

- Ans
- 1. 325 cm^2
 - 2. 375 cm^2
 - 3. 350 cm^2
 - 4. 380 cm^2

Question ID : 26433066368
Status : Answered
Chosen Option : 3

Q.3 Akhil, Sahil and Amit can do a certain work in 64 days. While Akhil and Sahil can do the same work in 80 days, then in how many days can Amit do the same work?

- Ans
- 1. 330 days
 - 2. 320 days
 - 3. 340 days
 - 4. 380 days

Question ID : 264330116903
Status : Answered
Chosen Option : 2

Q.4 Which of the following is NOT correct?

- Ans
- 1. $13 - 7 + 8 \times 9 + 63 \div 9 = 88$
 - 2. $8 \times 3 + 63 \div 9 - 6 = 25$
 - 3. $42 \div 6 + (2 \times 5) \times 1 + 9 = 26$
 - 4. $9 \times 4 + (12 + 2) - 30 \div 3 = 40$

Question ID : 26433076091
Status : Answered
Chosen Option : 1

Q.5 Mohan and Sohan started running from the points P and Q at the same time towards each other. The speeds of Mohan and Sohan are 24km/h and 18km/h respectively. If they meet after 10 min, then what is the distance between P and Q?

- Ans
- 1. 9 km
 - 2. 10 km
 - 3. 8 km
 - 4. 7 km

Question ID : 26433075698
Status : Answered
Chosen Option : 4

Q.6 Three solid cubes of sides 8 cm, 1 cm, and 6 cm, respectively, are melted to form a new cube. Find the longest diagonal of the new cube.

- Ans
- 1. $9\sqrt{3}$ cm
 - 2. $9\sqrt{2}$ cm
 - 3. $7\sqrt{3}$ cm
 - 4. $7\sqrt{2}$ cm

Question ID : 26433083063
Status : Answered
Chosen Option : 1

Q.7 Samantha takes 3 hours to travel from place X to place Y at a speed of 75 miles per hour. She takes 2 hours to travel from place Y to Z with 30% increased speed. Find her average speed during the entire journey.

- Ans
- 1. 84 miles per hour
 - 2. 65 miles per hour
 - 3. 72 miles per hour
 - 4. 90 miles per hour

Question ID : 26433081551
Status : Answered
Chosen Option : 1

Q.8 If a : b is 4 : 6 and b : c is 10 : 11, then c : a is :

- Ans
- 1. 33 : 21
 - 2. 21 : 33
 - 3. 33 : 20
 - 4. 20 : 33

Question ID : 26433076305
Status : Answered
Chosen Option : 3

Q.9 The present population of a city is 92,61,000. If it has been increasing at the rate of 5% per annum, find its population 3 years ago.

- Ans
- 1. 60,00,000
 - 2. 80,00,000
 - 3. 40,00,000
 - 4. 20,00,000

Question ID : 26433073131
Status : Answered
Chosen Option : 2

Q.10 A retailer announces a discount of 40% for selling a food processor marked at ₹86,000. The cost price of the food processor is 60% below the marked price. He offers a further discount of 10% if the buyer presents his membership card of the retailer's store. The profit of the retailer with the membership card scheme is what percentage of the profit of the retailer without the membership card scheme?

- Ans
- 1. 70%
 - 2. 67%
 - 3. 82%
 - 4. 73%

Question ID : 26433061892
Status : Answered
Chosen Option : 1

Q.11 The ratio of money with Jack and John is 7 : 13, and that with John and Jonas is 9 : 11. If Jack has ₹6,300, then how much money does Jonas have?

- Ans
- 1. ₹14,100
 - 2. ₹14,500
 - 3. ₹14,200
 - 4. ₹14,300

Question ID : 26433080175
Status : Answered
Chosen Option : 4

Q.12 After a certain time period, a sum of Rs.24,000 invested in a bank will amount to Rs.26,460 when the compound rate of interest is 5% p.a., being compounded annually. In how many months will it amount to Rs.26,460?

- Ans
- 1. 12
 - 2. 30
 - 3. 24
 - 4. 36

Question ID : 26433075073
Status : Answered
Chosen Option : 3

Q.13 The HCF of two numbers is 24 and their LCM is 2400. If one of the numbers is 180, then the other number is:

- Ans
- 1. 334
 - 2. 320
 - 3. 336
 - 4. 338

Question ID : 26433082351
Status : Answered
Chosen Option : 2

Q.14 An article marked at ₹2,000 is sold with two successive discounts of 20% and 10%. Find the selling price.

- Ans
- 1. ₹1,640
 - 2. ₹1,540
 - 3. ₹1,240
 - 4. ₹1,440

Question ID : 26433082613
Status : Answered
Chosen Option : 4

Q.15 Two trains, starting at the same time from two stations 100 km apart are travelling towards each other and they cross each other at a distance of 70 km from one of the stations. What is the ratio of their speeds?

- Ans
- 1. 3 : 4
 - 2. 4 : 5
 - 3. 7 : 3
 - 4. 5 : 7

Question ID : 26433073037
Status : Answered
Chosen Option : 3

Q.16 A dealer buys 50 chairs for ₹50,000 but 20 of them are damaged. He decides to sell each of the damaged chair at $\frac{3}{4}$ th of the selling price of normal chair. What should be the selling price of normal chair so that he may make a profit of 35% on the whole transaction?

- Ans
- 1. ₹1,125
 - 2. ₹5,000
 - 3. ₹6,750
 - 4. ₹1,500

Question ID : 26433075879
Status : Answered
Chosen Option : 4

Q.17 The population of a village reduced from 15,750 to 14,490 because of the outbreak of the Covid-19 pandemic. What is the percentage decrease in the population of that village?

- Ans 1. 9%
 2. 8%
 3. 7%
 4. 6%

Question ID : 26433080291
Status : Answered
Chosen Option : 2

Q.18 A dealer professes to sell his goods at cost price. If by using false weights he gains $5\frac{5}{19}\%$, then find the error in weight of 1 kg.

- Ans 1. 50 g
 2. 55 g
 3. 45 g
 4. 60 g

Question ID : 26433081567
Status : Answered
Chosen Option : 1

Q.19 A is twice as efficient as B and takes 45 days less than B to complete a job. Find the number of days in which they can finish the job together.

- Ans 1. 32
 2. 36
 3. 30
 4. 38

Question ID : 26433075396
Status : Answered
Chosen Option : 3

Q.20 Anand covers a distance of 20 km at the speed of 4 km/h and he covers remaining distance at the speed of 5 km/h in 5 hours. What is the average speed (in km/h) of Anand for the whole journey?

- Ans 1. 4.5
 2. 5
 3. 4
 4. 4.7

Question ID : 26433082501
Status : Answered
Chosen Option : 1

Q.1 Select the most appropriate meaning of the given idiom.

Raining cats and dogs

- Ans 1. A very heavy downpour
 2. To escape from the situation
 3. Cats and dogs getting wet in rain
 4. At the exact time

Question ID : 26433073709
Status : Answered
Chosen Option : 1

Q.2 Select the most appropriate synonym of the given word.

Anger

- Ans 1. Delight
 2. Fury
 3. Frenzy
 4. Dismay

Question ID : 26433086370
Status : Answered
Chosen Option : 2

Q.3 Identify the correctly spelt sentence.

- Ans 1. My favourite subject is Mathimatics.
 2. My favourite subject is Mathematecs.
 3. My favourite subject is Mathematiks.
 4. My favourite subject is Mathematics.

Question ID : 26433072835
Status : Answered
Chosen Option : 4

Q.4 Select the most appropriate option to substitute the underlined segment in the given sentence.

Dowry completely violates women's rights and denies them similar opportunities in society.

- Ans 1. an equal standing
 2. an appropriate desire
 3. an increasing honour
 4. an accurate place

Question ID : 26433089833
Status : Answered
Chosen Option : 3

Q.5 Select the most appropriate synonym of the word given below to fill in the blank in the following sentence.

Imminent

The king was changing his hiding place every now and then because of _____ danger to his life.

- Ans
- 1. happening
 - 2. approaching
 - 3. participating
 - 4. losing

Question ID : 26433084778
Status : Answered
Chosen Option : 2

Q.6 The sentence given below has one misspelt word. Spot the INCORRECTLY spelt word and select its correct spelling.

She comes from an illustrios political family.

- Ans
- 1. Illustrious
 - 2. Ilustreous
 - 3. Illustreous
 - 4. Illustrious

Question ID : 26433073552
Status : Answered
Chosen Option : 3

Q.7 Select the most appropriate ANTONYM of the given word.

Austere

- Ans
- 1. Affordable
 - 2. Stiff
 - 3. Gruff
 - 4. Genial

Question ID : 26433088323
Status : Answered
Chosen Option : 4

Q.8 Select the most appropriate synonym of the underlined word in the given sentence.

It is of paramount importance that you read the instructions before attempting the test.

- Ans
- 1. Remind
 - 2. Rephrase
 - 3. Rehearse
 - 4. Central

Question ID : 26433087920
Status : Answered
Chosen Option : 4

Q.9 Select the most appropriate **ANTONYM** of the given word.
Scintillating

- Ans** 1. Dark
 2. Wonderful
 3. Bright
 4. Amazing

Question ID : 26433086490
Status : Answered
Chosen Option : 1

Q.10 Select the most appropriate meaning of the given idiom.

Level playing field

- Ans** 1. Avoiding differences
 2. Lack of intelligence
 3. Forgetting conflicts
 4. A fair competition

Question ID : 26433073719
Status : Answered
Chosen Option : 4

Q.11 Select the most appropriate option to fill in the blank.

Anne's eye _____ is very good for someone of her age.

- Ans** 1. sight
 2. cite
 3. side
 4. site

Question ID : 26433090395
Status : Answered
Chosen Option : 4

Q.12 Choose the sentence that is in simple past tense.

- A. My uncle broke his promise to keep up with the trend of being healthy.
B. My uncle had been breaking his promise to keep up with the trend of being healthy.
C. My uncle had broken his promise to keep up with the trend of being healthy.
D. My uncle was breaking his promise to keep up with the trend of being healthy.

- Ans** 1. B
 2. D
 3. A
 4. C

Question ID : 26433096222
Status : Answered
Chosen Option : 3

Q.13 Select the most appropriate option to fill in the blank.

You might be wrong, you can't always be _____.

- Ans 1. rite
 2. right
 3. write
 4. riot

Question ID : 26433084615
Status : Answered
Chosen Option : 2

Q.14 Select the most appropriate option to substitute the underlined segment in the given sentence.

The lizard moves from one whole to another and eats insects hidden in the hole.

- Ans 1. moves from one whole to another and eat
 2. moves from one to another and eats
 3. moves from one hole to another and eats
 4. moves from one hole to another but eats

Question ID : 264330100292
Status : Answered
Chosen Option : 3

Q.15 Select the option that can be used as a one-word substitute for the given group of words.

A perfect society in which people work well with each other and are happy

- Ans 1. Gala land
 2. Dystopia
 3. Homeland
 4. Utopia

Question ID : 26433089377
Status : Answered
Chosen Option : 4

Comprehension:

In the following passage, some words have been deleted. Read the passage carefully and select the most appropriate option to fill in each blank.

Cancer is a disease in which some of the body's cells grow (1)_____ and spread to other parts of the body. Cancer can start (2)_____ anywhere in the human body, which is made up of trillions of cells. Normally, human cells grow and multiply (through a process called cell division) to (3)_____ new cells as the body needs them. When cells grow old or become damaged, they die, and new cells take their place. Sometimes, this orderly process (4)_____ down, and abnormal or damaged cells grow and multiply when they shouldn't. These cells may form tumours, which are lumps of tissue. Tumours can be cancerous or (5)_____.

SubQuestion No : 16

Q.16 Select the most appropriate option to fill in blank 1.

- Ans** ✓ 1. uncontrollably
 ✗ 2. inadequately
 ✗ 3. unwontedly
 ✗ 4. inversely

Question ID : 26433090513
Status : Answered
Chosen Option : 1

Comprehension:

In the following passage, some words have been deleted. Read the passage carefully and select the most appropriate option to fill in each blank.

Cancer is a disease in which some of the body's cells grow (1)_____ and spread to other parts of the body. Cancer can start (2)_____ anywhere in the human body, which is made up of trillions of cells. Normally, human cells grow and multiply (through a process called cell division) to (3)_____ new cells as the body needs them. When cells grow old or become damaged, they die, and new cells take their place. Sometimes, this orderly process (4)_____ down, and abnormal or damaged cells grow and multiply when they shouldn't. These cells may form tumours, which are lumps of tissue. Tumours can be cancerous or (5)_____.

SubQuestion No : 17

Q.17 Select the most appropriate option to fill in blank 2.

- Ans** ✓ 1. almost
 ✗ 2. just
 ✗ 3. barely
 ✗ 4. simply

Question ID : 26433090514
Status : Answered
Chosen Option : 4

Comprehension:

In the following passage, some words have been deleted. Read the passage carefully and select the most appropriate option to fill in each blank.

Cancer is a disease in which some of the body's cells grow (1)_____ and spread to other parts of the body. Cancer can start (2)_____ anywhere in the human body, which is made up of trillions of cells. Normally, human cells grow and multiply (through a process called cell division) to (3)_____ new cells as the body needs them. When cells grow old or become damaged, they die, and new cells take their place. Sometimes, this orderly process (4)_____ down, and abnormal or damaged cells grow and multiply when they shouldn't. These cells may form tumours, which are lumps of tissue. Tumours can be cancerous or (5)_____.

SubQuestion No : 18

Q.18 Select the most appropriate option to fill in blank 3.

- Ans
- 1. shape
 - 2. build
 - 3. form
 - 4. formulate

Question ID : 26433090515
Status : Answered
Chosen Option : 3

Comprehension:

In the following passage, some words have been deleted. Read the passage carefully and select the most appropriate option to fill in each blank.

Cancer is a disease in which some of the body's cells grow (1)_____ and spread to other parts of the body. Cancer can start (2)_____ anywhere in the human body, which is made up of trillions of cells. Normally, human cells grow and multiply (through a process called cell division) to (3)_____ new cells as the body needs them. When cells grow old or become damaged, they die, and new cells take their place. Sometimes, this orderly process (4)_____ down, and abnormal or damaged cells grow and multiply when they shouldn't. These cells may form tumours, which are lumps of tissue. Tumours can be cancerous or (5)_____.

SubQuestion No : 19

Q.19 Select the most appropriate option to fill in blank 4.

- Ans
- 1. breaks
 - 2. slows
 - 3. powers
 - 4. blows

Question ID : 26433090516
Status : Answered
Chosen Option : 1

Comprehension:

In the following passage, some words have been deleted. Read the passage carefully and select the most appropriate option to fill in each blank.

Cancer is a disease in which some of the body's cells grow (1)_____ and spread to other parts of the body. Cancer can start (2)_____ anywhere in the human body, which is made up of trillions of cells. Normally, human cells grow and multiply (through a process called cell division) to (3)_____ new cells as the body needs them. When cells grow old or become damaged, they die, and new cells take their place. Sometimes, this orderly process (4)_____ down, and abnormal or damaged cells grow and multiply when they shouldn't. These cells may form tumours, which are lumps of tissue. Tumours can be cancerous or (5)_____.

SubQuestion No : 20**Q.20 Select the most appropriate option to fill in blank 5.**

- Ans 1. benign
 2. benevolent
 3. malignant
 4. mild

Question ID : 26433090517
Status : Answered
Chosen Option : 3

Section : Part-D-Hindi

Q.1 निम्नलिखित वाक्य में रेखांकित शब्द के विलोम शब्द का प्रयोग करके रिक्त स्थान की पूर्ति कीजिए।
यदि उन्नति उचित दिशा में न हो तो वह _____ का कारण बनती है।

- Ans 1. अपमान
 2. अउन्नति
 3. अवनति
 4. दुराग्रह

Question ID : 26433091343
Status : Not Answered
Chosen Option : --

Q.2 नीचे दिए शब्द के लिए उचित वाक्यांश दिए गए विकल्पों में से चुनिए।
गोचर

- Ans 1. जिसका ज्ञान इंद्रियों द्वारा हो सके
 2. गाय को चराने वाला
 3. जिसका ज्ञान इंद्रियों द्वारा न हो सके
 4. जो गाय के साथ चलता है

Question ID : 26433079209
Status : Not Answered
Chosen Option : --

Q.3 निम्न वाक्य में त्रुटि पहचानकर वाक्य शुद्ध कीजिए।
चतुर से काम करे तो सफलता अवश्य मिलती है।

- Ans 1. चतुराई से काम करने से सफलता अवश्य मिलती है।
 2. चतुर होकर काम करने से सफल अवश्य मिलता है।
 3. चतुराई से काम करने से सफल अवश्य मिलता है।
 4. चतुरी से काम करे तो सफलता अवश्य मिलती है।

Question ID : 26433063028
Status : Not Answered
Chosen Option : --

Q.4 विकल्पों में दिए गए किस वाक्य में निम्न शब्द के सही पर्यायवाची शब्द का प्रयोग किया गया है?
पंडित

- Ans 1. मनिषी मेरे द्वार पर आये हैं।
 2. मनीशी मेरे द्वार पर आये हैं।
 3. मनीषी मेरे द्वार पर आये हैं।
 4. मनीसी ज्ञान से पूर्ण हैं।

Question ID : 26433091217
Status : Not Answered
Chosen Option : --

Q.5 निम्न में से कौन-सा शब्द 'जानकी' का पर्यायवाची नहीं है?

- Ans 1. वैदेही
 2. सीता
 3. सूर्यसुता
 4. जनकसुता

Question ID : 26433066897
Status : Not Answered
Chosen Option : --

Q.6 निम्नलिखित अर्थ को व्यक्त करने वाले मुहावरे का चयन विकल्पों में से कीजिए।
बहुत खुश होना

- Ans 1. मूसलों ढोल बजाना
 2. मुँह पर नाक न होना
 3. मैदान हाथ आना
 4. मुँह में तिनका लेना

Question ID : 26433070014
Status : Not Answered
Chosen Option : --

Q.7 'शहर का आधा भाग _____ चुका है।' इस वाक्य में रिक्त स्थान की पूर्ति उपयुक्त वाक्य-खंड द्वारा कीजिए।

- Ans
- 1. जल में निमग्न हो
 - 2. जलमग्न हो
 - 3. जल से मग्न हो
 - 4. पानी में तैर रहा हो

Question ID : 26433080895
Status : Not Answered
Chosen Option : --

Q.8 इस साल व्यापार में बहुत लाभ हुआ।
उपरोक्त वाक्य में रेखांकित शब्द के विलोम शब्द का चयन विकल्पों में से कीजिए।

- Ans
- 1. खतरा
 - 2. फायदा
 - 3. तकादा
 - 4. हानि

Question ID : 26433079745
Status : Not Answered
Chosen Option : --

Q.9 निम्नलिखित वाक्यांश के लिए सार्थक शब्द क्या होगा?
जो व्यक्ति दूर की बात सोचता है

- Ans
- 1. दूरभाषी
 - 2. दूरबीन
 - 3. दूरदर्शी
 - 4. दूरदृष्टि

Question ID : 26433069984
Status : Not Answered
Chosen Option : --

Q.10 दिए गए वाक्यांश के लिए सार्थक शब्द बताइए।
जो काम से जी चुराता हो

- Ans
- 1. कामचोर
 - 2. चालाक
 - 3. निकम्मा
 - 4. कमजोर

Question ID : 26433062590
Status : Not Answered
Chosen Option : --

Q.11 निम्नलिखित मुहावरे के उपयुक्त अर्थ का चयन विकल्पों में से कीजिए।
धज्जियां उड़ाना

- Ans
- 1. चम्पत हो जाना
 - 2. प्रयास करना
 - 3. नष्ट – भ्रष्ट करना
 - 4. क्रोध करना

Question ID : 26433070001
Status : Not Answered
Chosen Option : --

Q.12 निम्नलिखित वाक्य के किस शब्द में अशुद्धि है?
उनकी दृष्टि शुन्य आकाश की ओर थी।

- Ans
- 1. दृष्टि
 - 2. उनकी
 - 3. शुन्य
 - 4. आकाश

Question ID : 26433066772
Status : Not Answered
Chosen Option : --

Q.13 निम्नलिखित में से शुद्ध वाक्य कौन सा है?

- Ans
- 1. काली गाय अच्छी होती है।
 - 2. काली गाय अच्छा होती है।
 - 3. काली गाय अच्छी होता है।
 - 4. काला गाय अच्छी होती है।

Question ID : 26433066834
Status : Not Answered
Chosen Option : --

Q.14 तपस्वी ने बहुत तपने के पश्चात यह सिद्धि प्राप्त की है।
वाक्य के रेखांकित शब्द के स्थान पर भाववाचक संज्ञा शब्द होगा-

- Ans
- 1. तपन
 - 2. तपभूमि
 - 3. तपस्या
 - 4. तपोवन

Question ID : 26433062855
Status : Not Answered
Chosen Option : --

Q.15 लोग रंगीन चाँदनी में नौका विहार का आनंद ले रहे थे।
उपरोक्त वाक्य में रेखांकित शब्द के स्थान पर सर्वोचित शब्द का चयन विकल्पों में से कीजिए।

- Ans
- 1. सुनहरी
 - 2. रोशन
 - 3. पीली
 - 4. धवल

Question ID : 26433065692

Status : Not Answered

Chosen Option : --

Comprehension:

नीचे पूछे गए प्रश्न संख्या 1-5 के उत्तर दिए गए गद्यांश के आधार पर दीजिए।
विदेशी भाषाओं या दूसरों की भाषाओं को पढ़ने से पहले अपनी राष्ट्रभाषा और (1) _____ का ज्ञान नितांत आवश्यक है। अपनी भाषा में हृदय बोलता है, इससे माँ की ममता, राष्ट्रीय संबंधों का माधुर्य और अपने को जानने-पहचानने की सरलता रहती है। अपनी भाषा में अपनापन रहता है। इसके लिए हमें विशेष श्रम नहीं करना पड़ता, व्यर्थ की (2) _____ और समय की बर्बादी नहीं करनी पड़ती। हिंदी हमारी मातृभाषा है। इसलिए इसके व्यवहार में हमें जितनी सहजता और सुविधा का बोध होता है, उतनी सहजता और सुविधा का बोध विदेशी भाषाओं में नहीं होता। कारण यह है कि हिंदी हम घर – बाहर सभी जगह बोलते हैं, इसी में हम अपने मन में बातें सोचते हैं, किसी (3) _____ भाषा में नहीं। इसीलिए भाषा हर तरह की शिक्षा का माध्यम होती है, चाहे वह अन्य किसी भाषा की शिक्षा हो या कला कारीगरों की। अगर हम कोई विदेशी भाषा सीखते हैं तो अपनी मातृभाषा के माध्यम से ही। इसलिए अब हम किसी दूसरी सीखी हुई भाषा को बोलते हैं, तो मातृभाषा में मन में जो हम सोचते हैं, वह उसी का (4) _____ होता है। इसलिए इसके बिना हम रह नहीं सकते। यह हमारे दैनिक जीवन के साथ (5) _____ है। जैसे – दूध में पानी घुला होता है उसी तरह मातृभाषा में भी हमारी माँ का संस्कार, उसका प्यार और मिठास है। अतः अपनी भाषा सर्वोपरि है। भाषाओं के अध्ययन में इसी का सबसे ऊँचा स्थान है। यही कारण है कि सभी सभ्य देशों में शिक्षा मातृभाषा के माध्यम से दी जाती है।

SubQuestion No : 16

Q.16 विकल्पों में से उपयुक्त शब्द का चयन कर रिक्त स्थान (1) की पूर्ति कीजिए।

- Ans
- 1. मातृभाषा
 - 2. अपभाषा
 - 3. कूटभाषा
 - 4. भाषा

Question ID : 26433079177

Status : Not Answered

Chosen Option : --

Comprehension:

नीचे पूछे गए प्रश्न संख्या 1-5 के उत्तर दिए गए गद्यांश के आधार पर दीजिए।
विदेशी भाषाओं या दूसरों की भाषाओं को पढ़ने से पहले अपनी राष्ट्रभाषा और (1) _____ का ज्ञान नितांत आवश्यक है। अपनी भाषा में हृदय बोलता है, इससे माँ की ममता, राष्ट्रीय संबंधों का माधुर्य और अपने को जानने-पहचानने की सरलता रहती है। अपनी भाषा में अपनापन रहता है। इसके लिए हमें विशेष श्रम नहीं करना पड़ता, व्यर्थ की (2) _____ और समय की बर्बादी नहीं करनी पड़ती। हिंदी हमारी मातृभाषा है। इसलिए इसके व्यवहार में हमें जितनी सहजता और सुविधा का बोध होता है, उतनी सहजता और सुविधा का बोध विदेशी भाषाओं में नहीं होता। कारण यह है कि हिंदी हम घर – बाहर सभी जगह बोलते हैं, इसी में हम अपने मन में बातें सोचते हैं, किसी (3) _____ भाषा में नहीं। इसीलिए भाषा हर तरह की शिक्षा का माध्यम होती है, चाहे वह अन्य किसी भाषा की शिक्षा हो या कला कारीगरों की। अगर हम कोई विदेशी भाषा सीखते हैं तो अपनी मातृभाषा के माध्यम से ही। इसलिए अब हम किसी दूसरी सीखी हुई भाषा को बोलते हैं, तो मातृभाषा में मन में जो हम सोचते हैं, वह उसी का (4) _____ होता है। इसलिए इसके बिना हम रह नहीं सकते। यह हमारे दैनिक जीवन के साथ (5) _____ है। जैसे – दूध में पानी घुला होता है उसी तरह मातृभाषा में भी हमारी माँ का संस्कार, उसका प्यार और मिठास है। अतः अपनी भाषा सर्वोपरि है। भाषाओं के अध्ययन में इसी का सबसे ऊँचा स्थान है। यही कारण है कि सभी सभ्य देशों में शिक्षा मातृभाषा के माध्यम से दी जाती है।

SubQuestion No : 17

Q.17 निम्नलिखित विकल्पों में से स्त्रीलिंग शब्द का चयन कर रिक्त स्थान (2) की पूर्ति कीजिए।

- Ans 1. माथा पिट्टन
 2. माथापच्ची
 3. माथा घिसना
 4. माथा टेकना

Question ID : 26433079178

Status : Not Answered

Chosen Option : --

Comprehension:

नीचे पूछे गए प्रश्न संख्या 1-5 के उत्तर दिए गए गद्यांश के आधार पर दीजिए।
विदेशी भाषाओं या दूसरों की भाषाओं को पढ़ने से पहले अपनी राष्ट्रभाषा और (1) _____ का ज्ञान नितांत आवश्यक है। अपनी भाषा में हृदय बोलता है, इससे माँ की ममता, राष्ट्रीय संबंधों का माधुर्य और अपने को जानने-पहचानने की सरलता रहती है। अपनी भाषा में अपनापन रहता है। इसके लिए हमें विशेष श्रम नहीं करना पड़ता, व्यर्थ की (2) _____ और समय की बर्बादी नहीं करनी पड़ती। हिंदी हमारी मातृभाषा है। इसलिए इसके व्यवहार में हमें जितनी सहजता और सुविधा का बोध होता है, उतनी सहजता और सुविधा का बोध विदेशी भाषाओं में नहीं होता। कारण यह है कि हिंदी हम घर – बाहर सभी जगह बोलते हैं, इसी में हम अपने मन में बातें सोचते हैं, किसी (3) _____ भाषा में नहीं। इसीलिए भाषा हर तरह की शिक्षा का माध्यम होती है, चाहे वह अन्य किसी भाषा की शिक्षा हो या कला कारीगरों की। अगर हम कोई विदेशी भाषा सीखते हैं तो अपनी मातृभाषा के माध्यम से ही। इसलिए अब हम किसी दूसरी सीखी हुई भाषा को बोलते हैं, तो मातृभाषा में मन में जो हम सोचते हैं, वह उसी का (4) _____ होता है। इसलिए इसके बिना हम रह नहीं सकते। यह हमारे दैनिक जीवन के साथ (5) _____ है। जैसे – दूध में पानी घुला होता है उसी तरह मातृभाषा में भी हमारी माँ का संस्कार, उसका प्यार और मिठास है। अतः अपनी भाषा सर्वोपरि है। भाषाओं के अध्ययन में इसी का सबसे ऊँचा स्थान है। यही कारण है कि सभी सभ्य देशों में शिक्षा मातृभाषा के माध्यम से दी जाती है।

SubQuestion No : 18

Q.18 'स्वदेशी' के विलोम शब्द से रिक्त स्थान (3) की पूर्ति कीजिए।

- Ans 1. शहरी
 2. विदेशी
 3. देशी
 4. ग्रामीण

Question ID : 26433079179

Status : Not Answered

Chosen Option : --

Comprehension:

नीचे पूछे गए प्रश्न संख्या 1-5 के उत्तर दिए गए गद्यांश के आधार पर दीजिए।
विदेशी भाषाओं या दूसरों की भाषाओं को पढ़ने से पहले अपनी राष्ट्रभाषा और (1) _____ का ज्ञान नितांत आवश्यक है। अपनी भाषा में हृदय बोलता है, इससे माँ की ममता, राष्ट्रीय संबंधों का माधुर्य और अपने को जानने-पहचानने की सरलता रहती है। अपनी भाषा में अपनापन रहता है। इसके लिए हमें विशेष श्रम नहीं करना पड़ता, व्यर्थ की (2) _____ और समय की बर्बादी नहीं करनी पड़ती। हिंदी हमारी मातृभाषा है। इसलिए इसके व्यवहार में हमें जितनी सहजता और सुविधा का बोध होता है, उतनी सहजता और सुविधा का बोध विदेशी भाषाओं में नहीं होता। कारण यह है कि हिंदी हम घर – बाहर सभी जगह बोलते हैं, इसी में हम अपने मन में बातें सोचते हैं, किसी (3) _____ भाषा में नहीं। इसीलिए भाषा हर तरह की शिक्षा का माध्यम होती है, चाहे वह अन्य किसी भाषा की शिक्षा हो या कला कारीगरों की। अगर हम कोई विदेशी भाषा सीखते हैं तो अपनी मातृभाषा के माध्यम से ही। इसलिए अब हम किसी दूसरी सीखी हुई भाषा को बोलते हैं, तो मातृभाषा में मन में जो हम सोचते हैं, वह उसी का (4) _____ होता है। इसलिए इसके बिना हम रह नहीं सकते। यह हमारे दैनिक जीवन के साथ (5) _____ है। जैसे – दूध में पानी घुला होता है उसी तरह मातृभाषा में भी हमारी माँ का संस्कार, उसका प्यार और मिठास है। अतः अपनी भाषा सर्वोपरि है। भाषाओं के अध्ययन में इसी का सबसे ऊँचा स्थान है। यही कारण है कि सभी सभ्य देशों में शिक्षा मातृभाषा के माध्यम से दी जाती है।

SubQuestion No : 19

Q.19 'किसी के कहने के बाद कहना' इस वाक्यांश के लिए उपयोग किए जाने वाले एक शब्द से रिक्त स्थान (4) की पूर्ति कीजिए।

- Ans
- 1. टिप्पण
 - 2. आलेखन
 - 3. संक्षेपण
 - 4. अनुवाद

Question ID : 26433079180

Status : Not Answered

Chosen Option : --

Comprehension:

नीचे पूछे गए प्रश्न संख्या 1-5 के उत्तर दिए गए गद्यांश के आधार पर दीजिए।
विदेशी भाषाओं या दूसरों की भाषाओं को पढ़ने से पहले अपनी राष्ट्रभाषा और (1) _____ का ज्ञान नितांत आवश्यक है। अपनी भाषा में हृदय बोलता है, इससे माँ की ममता, राष्ट्रीय संबंधों का माधुर्य और अपने को जानने-पहचानने की सरलता रहती है। अपनी भाषा में अपनापन रहता है। इसके लिए हमें विशेष श्रम नहीं करना पड़ता, व्यर्थ की (2) _____ और समय की बर्बादी नहीं करनी पड़ती। हिंदी हमारी मातृभाषा है। इसलिए इसके व्यवहार में हमें जितनी सहजता और सुविधा का बोध होता है, उतनी सहजता और सुविधा का बोध विदेशी भाषाओं में नहीं होता। कारण यह है कि हिंदी हम घर – बाहर सभी जगह बोलते हैं, इसी में हम अपने मन में बातें सोचते हैं, किसी (3) _____ भाषा में नहीं। इसीलिए भाषा हर तरह की शिक्षा का माध्यम होती है, चाहे वह अन्य किसी भाषा की शिक्षा हो या कला कारीगरों की। अगर हम कोई विदेशी भाषा सीखते हैं तो अपनी मातृभाषा के माध्यम से ही। इसलिए अब हम किसी दूसरी सीखी हुई भाषा को बोलते हैं, तो मातृभाषा में मन में जो हम सोचते हैं, वह उसी का (4) _____ होता है। इसलिए इसके बिना हम रह नहीं सकते। यह हमारे दैनिक जीवन के साथ (5) _____ है। जैसे – दूध में पानी घुला होता है उसी तरह मातृभाषा में भी हमारी माँ का संस्कार, उसका प्यार और मिठास है। अतः अपनी भाषा सर्वोपरि है। भाषाओं के अध्ययन में इसी का सबसे ऊँचा स्थान है। यही कारण है कि सभी सभ्य देशों में शिक्षा मातृभाषा के माध्यम से दी जाती है।

SubQuestion No : 20

Q.20 विकल्पों में से उपयुक्त शब्द का चयन कर रिक्तस्थान (5) की पूर्ति कीजिए।

- Ans
- 1. घुली - मिली
 - 2. चुलबुली
 - 3. हिली - डुली
 - 4. मिली - जुली

Question ID : 26433079181

Status : Not Answered

Chosen Option : --