

Constable GD in CAPFs SSF Rifleman GD in Assam Rifles and Sepoy in NCB Examination 2022

Roll Number	www.govtjobsalert.in
Candidate Name	www.govtjobsalert.in
Venue Name	Shri Bhawani Niketan Institute of Technology and Management
Exam Date	23/01/2023
Exam Time	9:00 AM - 10:00 AM
Subject	Constable GD Examination 2022

Section : Part-A-General Intelligence and Reasoning

Q.1 Which two signs should be interchanged to make the below equation mathematically correct?

$$35 + 21 - 192 \div 32 \times 7 = 154$$

- Ans 1. \times and $-$
 2. $+$ and $-$
 3. $-$ and $+$
 4. $+$ and \div

Question ID : 264330117558

Status : Answered

Chosen Option : 1

Q.2 Select the correct mirror image of the given figure when the mirror is placed at MN as shown below.



- Ans 1. b J 7 c ! i n g
 2. d J 7 c ! i n g
 3. b 7 J c ! i n g
 4. b h i c 7 L d

Question ID : 26433082330

Status : Answered

Chosen Option : 1

Q.3 Select the correct combination of mathematical signs to sequentially replace the * signs and to balance the given equation.

$$78 * 39 * 46 * 5 * 10 * 2$$

- Ans
- 1. ÷, +, =, ×, -
 - 2. +, ÷, =, ×, -
 - 3. ÷, +, -, ×, =
 - 4. ÷, -, =, ×, +

Question ID : 26433094986

Status : Answered

Chosen Option : 1

Q.4 Six people are sitting in two parallel rows with 3 people each, in such a way that there is equal distance between adjacent persons. P, O and T are seated in the same row facing South. A, E and R are seated in the same row facing North. E sits at the extreme right end of their row and is exactly opposite T. A sits at the extreme left end of their row and is exactly opposite O. (Persons facing south are exactly opposite to persons facing north)

Who sits at the centre of the row of people facing South?

- Ans
- 1. E
 - 2. O
 - 3. T
 - 4. P

Question ID : 26433068744

Status : Answered

Chosen Option : 4

Q.5 In a certain code language, 'FACTOR' is written as 'DBGTQV' and 'FAMILY' is written as 'NBGANK'. How will 'FATHER' be written as in that language?

- Ans
- 1. TAFREH
 - 2. UBG TGJ
 - 3. REHTAF
 - 4. UBGREH

Question ID : 26433090044

Status : Marked For Review

Chosen Option : 2

Q.6 Which of the following numbers will replace the question mark (?) in the given series?
8, 14, 26, 50, ?

- Ans
- 1. 98
 - 2. 32
 - 3. 113
 - 4. 54

Question ID : 26433082737

Status : Answered

Chosen Option : 1

Q.7 Which of the following options will replace the question mark (?) in the given series?
52, 86, 121, ?, 194, 232

- Ans
- 1. 176
 - 2. 155
 - 3. 157
 - 4. 141

Question ID : 26433089440
Status : Answered
Chosen Option : 3

Q.8 Select the figure from among the given options that can replace the question mark (?) in the following series.

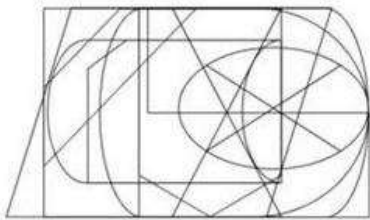


Ans

- 1.
- 2.
- 3.
- 4.

Question ID : 26433080762
Status : Answered
Chosen Option : 3

Q.9 Select the option figure which is embedded in the given figure. (Rotation is NOT allowed)

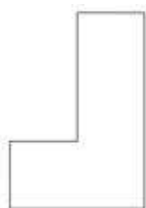


Ans

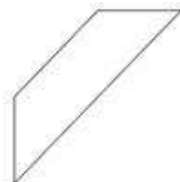
✗ 1.



✗ 2.



✓ 3.



✗ 4.



Question ID : 26433085741

Status : Answered

Chosen Option : 3

Q.10 Select the option that is related to the fifth letter-cluster in the same way as the second letter-cluster is related to the first letter-cluster and the fourth letter-cluster is related to the third letter-cluster.

PEAR : EPRA :: LION : ILNO :: BEAT : ?

Ans ✓ 1. EBTA

✗ 2. HEAR

✗ 3. THEF

✗ 4. ROAR

Question ID : 26433083109

Status : Answered

Chosen Option : 1

Q.11 Select the option that is related to the fifth letter-cluster in the same way as the second letter-cluster is related to the first letter-cluster and the fourth letter-cluster is related to the third letter-cluster.

NGC : OJH :: BQJ : CTO :: PTC : ?

- Ans 1. QWH
 2. OQH
 3. QUD
 4. OWH

Question ID : 26433057744
Status : Answered
Chosen Option : 1

Q.12 Which of the following terms will replace the question mark (?) in the given series?
ARHT, YOJW, WLLZ, ?, SFPP

- Ans 1. UINC
 2. TIKC
 3. TINC
 4. UJNB

Question ID : 26433069446
Status : Answered
Chosen Option : 1

Q.13 Eight people, D, E, M, P, T, W, Y and Z are sitting in a straight line, facing north. D sits third from the left end of the line. Only one person sits between D and Z. P sits third to the right of Z. Only two people sit between P and W. E sits to the immediate right of Y. M does not sit at any of the extreme ends of the line. What is the position of T from the right end of the line?

- Ans 1. Fourth
 2. Third
 3. Second
 4. First

Question ID : 26433092421
Status : Answered
Chosen Option : 4

Q.14 In a certain code language, 'POWDER' is written as 'QPXEFS' and 'SHAMPOO' is written as 'TIBNQQP'. How will 'PERFUME' be written in that language?

- Ans 1. QFSFGVN
 2. QFSGVNF
 3. QFSNGVF
 4. QFSGNVF

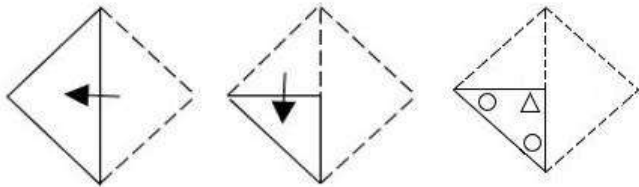
Question ID : 26433068227
Status : Answered
Chosen Option : 2

Q.15 'P % Q' means 'P is the brother of Q'.
 'P + Q' means 'P is the daughter of Q'.
 'P = Q' means 'P is the son of Q'.
 'P # Q' means 'P is the wife of Q'.
 If $L = M \# N \% O + P$, how is L related to P?

- Ans
- 1. Father's father
 - 2. Son's son
 - 3. Brother's son
 - 4. Daughter's son

Question ID : 26433087001
 Status : Answered
 Chosen Option : 1

Q.16 A paper is folded and cut as shown below. How will it appear when unfolded?



Ans

- 1.
- 2.
- 3.
- 4.

Question ID : 26433090091
 Status : Answered
 Chosen Option : 1

Q.17 Select the set in which the numbers are related in the same way as are the numbers of the following sets.

(NOTE : Operations should be performed on the whole numbers, without breaking down the numbers into its constituent digits. E.g. 13 – Operations on 13 such as adding/subtracting/multiplying etc. to 13 can be performed. Breaking down 13 into 1 and 3 and then performing mathematical operations on 1 and 3 is not allowed)
(16, 350, 19)
(14, 310, 17)

- Ans
- 1. (17, 380, 19)
 - 2. (12, 300, 19)
 - 3. (12, 240, 17)
 - 4. (13, 320, 19)

Question ID : 26433076545

Status : Not Attempted and Marked For Review

Chosen Option : --

Q.18 Select the option that represents the correct order of the given words as they would appear in an English dictionary.

1. FAWN
2. FAVOUR
3. FATHER
4. FATIGUE
5. FAT
6. FATE

- Ans
- 1. 5, 3, 6, 4, 1, 2
 - 2. 2, 6, 3, 4, 5, 1
 - 3. 5, 6, 3, 4, 2, 1
 - 4. 6, 4, 3, 2, 1, 5

Question ID : 26433079381

Status : Answered

Chosen Option : 3

Q.19 Three Statements are given followed by Three conclusions numbered I, II and III. Assuming the statements to be true, even if they seem to be at variance with commonly known facts, decide which of the conclusions logically follow(s) from the statements.

Statements:

All boys are tomatoes.

Some tomatoes are ladders.

No ladder is small.

Conclusions:

I. Some boys are not tomatoes.

II. Some ladders are tomatoes.

III. Some boys are ladders.

- Ans
- 1. Only conclusion I follows.
 - 2. None of the conclusions follow.
 - 3. Only conclusion II follows.
 - 4. Only conclusion III follows.

Question ID : 26433081791

Status : Answered

Chosen Option : 3

Q.20 Which letter cluster will replace the question mark (?) to complete the given series?
FOWC, KWLI, ?, UMPU, ZUEA

- Ans
- 1. SDCO
 - 2. PEAO
 - 3. SEQO
 - 4. PWQO

Question ID : 26433079421
Status : Answered
Chosen Option : 2

Section : Part-B-General Knowledge and General awareness

Q.1 In which year did the Indian gymnast Dipa Karmakar participate in the Olympics?

- Ans
- 1. 2008
 - 2. 2012
 - 3. 2016
 - 4. 2020

Question ID : 26433092328
Status : Marked For Review
Chosen Option : 4

Q.2 Which Union Minister of India launched the Transport 4 All Challenge Stage-2 in 2022?

- Ans
- 1. Dharmendra Pradhan
 - 2. Hardeep Singh Puri
 - 3. Sarbananda Sonowal
 - 4. Raj Kumar Singh

Question ID : 264330114964
Status : Answered
Chosen Option : 2

Q.3 Skill India is an initiative launched by the government in _____ to train over 40 crore Indians in different industry-related jobs.

- Ans
- 1. 2017
 - 2. 2015
 - 3. 2010
 - 4. 2012

Question ID : 264330116189
Status : Not Answered
Chosen Option : --

Q.4 What is the maximum length of the tennis racquet for professional play?

- Ans 1. 35 inches
 2. 29 inches
 3. 30 inches
 4. 40 inches

Question ID : 26433071572
Status : Answered
Chosen Option : 2

Q.5 What is the Indian postal network famous for in the world?

- Ans 1. It is the oldest postal network
 2. It is the smallest postal network
 3. It is the largest postal network
 4. It is the cheapest postal network

Question ID : 264330115592
Status : Answered
Chosen Option : 3

Q.6 राष्ट्रिय आय को _____ की तरह परिभाषित किया जाता है।

- Ans 1. कारक लागत पर एन. एन. पी.
 2. एन. एन. पी.
 3. कारक लागत पर जी. एन. पी.
 4. बाजार मूल्य पर जी. एन. पी.

Question ID : 264330115345
Status : Not Answered
Chosen Option : --

Q.7 As per the Census 2011, which is the second least populous state in the country?

- Ans 1. Mizoram
 2. Sikkim
 3. Meghalaya
 4. Arunachal Pradesh

Question ID : 264330116052
Status : Answered
Chosen Option : 2

Q.8 As a result of Green Revolution, import of food crops was _____ in India,.

- Ans 1. increased
 2. reduced
 3. unaffected
 4. banned

Question ID : 264330115426
Status : Answered
Chosen Option : 2

Q.9 Who inaugurated Bengaluru Tech Summit 2022?

- Ans
- 1. Satya Nadella
 - 2. Sudha KV
 - 3. Narendra Modi
 - 4. Droupadi Murmu

Question ID : 264330115048
Status : Answered
Chosen Option : 3

Q.10 What is the atomic number of Carbon?

- Ans
- 1. 6
 - 2. 8
 - 3. 9
 - 4. 7

Question ID : 26433066472
Status : Answered
Chosen Option : 1

Q.11 What is the name of the largest waterfall in Kerala?

- Ans
- 1. Dudhsagar falls
 - 2. Vazhachal falls
 - 3. Kunchikal falls
 - 4. Athirappilly falls

Question ID : 264330116016
Status : Answered
Chosen Option : 3

Q.12 Pandit Birju Maharaj was associated with which of the following dance forms?

- Ans
- 1. Kuchipudi
 - 2. Manipuri
 - 3. Odissi
 - 4. Kathak

Question ID : 26433071452
Status : Answered
Chosen Option : 4

Q.13 आयरन की कमी से क्या होता है?

- Ans
- 1. थाइरॉइड
 - 2. हाइपोकेल्शियमिया
 - 3. एनीमिया
 - 4. काशिओरकोर

Question ID : 264330115226
Status : Answered
Chosen Option : 3

Q.14 Who among the following had termed the Right to Constitutional Remedy as a 'soul of the constitution'?

- Ans 1. Vallabhbhai Patel
 2. B.R. Ambedkar
 3. Jawaharlal Nehru
 4. Rajendra Prasad

Question ID : 26433086802
Status : Answered
Chosen Option : 2

Q.15 मौर्योत्तर काल में, _____ वे पुरुष और महिलाएं थे, जिनके पास जमीनें नहीं थी।

- Ans 1. भूमिहार
 2. गृहपति
 3. ग्राम भोजक
 4. दास कर्मकार

Question ID : 26433085225
Status : Answered
Chosen Option : 4

Q.16 Name the Bengali reformer and book writer who supported widow remarriage.

- Ans 1. Bal Gangadhar Tilak
 2. Bipin Chandra Pal
 3. Ishwar Chandra Vidyasagar
 4. Jawaharlal Nehru

Question ID : 264330115709
Status : Answered
Chosen Option : 3

Q.17 अटलांटा के मेयर ने, किस नृत्य गुरु के सम्मान में 3 नवंबर 1994 को कुचिपुड़ी नृत्य नाट्य दिवस घोषित किया था?

- Ans 1. जिया मोहिउद्दीन डागर
 2. एन राजम
 3. वेम्पति चिन्ना सत्यम
 4. उदय शंकर

Question ID : 264330115843
Status : Not Answered
Chosen Option : --

Q.18 चुनाव आयोग _____, राज्य विधानमंडल और राष्ट्रपति एवं उपराष्ट्रपति के पदों के लिए चुनाव का संचालन करता है।

- Ans
- 1. डेप्युटी स्पीकर
 - 2. स्पीकर
 - 3. संसद
 - 4. प्रधानमंत्री

Question ID : 26433086834
Status : Answered
Chosen Option : 3

Q.19 Which Five Year Plan Focused on rapid industrialization of heavy & basic industries?

- Ans
- 1. 1st
 - 2. 4th
 - 3. 2nd
 - 4. 3rd

Question ID : 264330116138
Status : Answered
Chosen Option : 3

Q.20 तोरग्या, एक _____-दिवसीय मठ उत्सव है, जो अरुणाचल प्रदेश की मोनपा जनजाति द्वारा मनाया जाता है।

- Ans
- 1. चार
 - 2. छह
 - 3. तीन
 - 4. सात

Question ID : 264330115129
Status : Answered
Chosen Option : 2

Section : Part-C-Elementary Mathematics

Q.1 Applied to a bill of Rs. 10000 the difference between a discount of 32 percent and two successive discounts of 20 percent and 12 percent is:

- Ans
- 1. Rs. 190
 - 2. Rs. 180
 - 3. Rs. 240
 - 4. Rs. 260

Question ID : 264330116758
Status : Marked For Review
Chosen Option : 3

Q.2 By selling 25 articles for a rupee a man gains 20%. How many for a rupee did he buy?

- Ans 1. 40
 2. 25
 3. 35
 4. 30

Question ID : 26433075495
Status : Answered
Chosen Option : 4

Q.3 If 45 men can do a work in 30 hours, then in how many hours will 20 men do the same work?

- Ans 1. 65.5
 2. 52.0
 3. 45.0
 4. 67.5

Question ID : 26433075950
Status : Answered
Chosen Option : 4

Q.4 Two trains start at the same time from Vijayawada and Calcutta and proceed towards each other at the speed of 24 km/h and 42 km/h, respectively. When they meet, it is found that one train has travelled 140 km more than the other. The distance between the two stations is: (Consider up to two decimals)

- Ans 1. 413.33 km
 2. 540.33 km
 3. 510.33 km
 4. 513.33 km

Question ID : 26433081043
Status : Not Answered
Chosen Option : --

Q.5 Two buckets are filled with milk and water in the ratio of 4 : 1 and 7 : 2. If these mixtures are mixed in the ratio of 1 : 5 respectively, then the resulting mixture will have water and milk in the ratio of:

- Ans 1. 59 : 111
 2. 59 : 211
 3. 211 : 59
 4. 34 : 211

Question ID : 26433075792
Status : Answered
Chosen Option : 2

Q.6 A principal becomes ₹1,458 at the rate of 8% per annum on compound interest in 2 years and interest is compounding annually. What is the principal?

- Ans
- 1. ₹1,250
 - 2. ₹1,210
 - 3. ₹1,180
 - 4. ₹1,280

Question ID : 26433080129
Status : Answered
Chosen Option : 1

Q.7 A number is first increased by 20% and then reduced by 20%. What would be the percentage change in the number?

- Ans
- 1. No change
 - 2. Increase by 4%
 - 3. Decrease by 4%
 - 4. Increase by 2%

Question ID : 26433075139
Status : Answered
Chosen Option : 3

Q.8 A trader gains 10% after selling an item at a 15% discount on the marked price. The ratio of cost price and the marked price is:

- Ans
- 1. 17:22
 - 2. 12:17
 - 3. 13:21
 - 4. 15:22

Question ID : 26433075470
Status : Answered
Chosen Option : 1

Q.9 Kuldeep is twice as efficient as Manish to do a work. Working together they can finish a piece of work in 36 days. Kuldeep alone can finish the work in:

- Ans
- 1. 56 days
 - 2. 50 days
 - 3. 54 days
 - 4. 52 days

Question ID : 26433076430
Status : Answered
Chosen Option : 3

Q.10 A can do as much work as B and C together can do. A and B can together do a piece of work in 7 hours 12 minutes and C can do it in 36 hours. Find the time (in hours) that B needs to do the work alone.

- Ans
- 1. 13 hours
 - 2. 14 hours
 - 3. 15 hours
 - 4. 18 hours

Question ID : 264330116873
Status : Answered
Chosen Option : 1

Q.11 How much time a person take to cover a distance of 300 metre, if he runs at a speed of 10 km/h?

- Ans
- 1. 5 min
 - 2. 1 min 48 sec
 - 3. 8 min
 - 4. 4 min

Question ID : 26433075392
Status : Answered
Chosen Option : 2

Q.12 A sum of ₹10,000 was taken from a bank at the rate of 6% per annum to be compounded half yearly. How much has to be returned after one and half years?

- Ans
- 1. ₹10,215
 - 2. ₹10,927
 - 3. ₹10,879
 - 4. ₹10,567

Question ID : 26433085763
Status : Answered
Chosen Option : 2

Q.13 If the diameter of the base and the height of a cylinder are 16cm and 20 cm respectively, then what is the total surface area of the cylinder? (Use $\pi = 22/7$)

- Ans
- 1. 1408 cm²
 - 2. 1428 cm²
 - 3. 1454 cm²
 - 4. 1488 cm²

Question ID : 26433075711
Status : Answered
Chosen Option : 1

Q.14 If the radius of a sphere is 70 feet, then find its surface area. (Use $\pi = \frac{22}{7}$)

- Ans
- 1. 71542 feet²
 - 2. 61600 feet²
 - 3. 43200 feet²
 - 4. 53124 feet²

Question ID : 26433080064
Status : Answered
Chosen Option : 2

Q.15 Simplify the following.
{8.4 ÷ 12 × [(27 - 6)² ÷ 3] (7 - 5)}

- Ans
- 1. 132.5
 - 2. 182.4
 - 3. 205.8
 - 4. 176.4

Question ID : 26433079990
Status : Answered
Chosen Option : 3

Q.16 Johns monthly expenditure is 85% of his monthly salary and Jack's monthly expenditure is 90% of his monthly salary. Their combined expenditure is 88%. If John's monthly salary is ₹60000, then what is the monthly salary of Jack?

- Ans
- 1. ₹1,00,000
 - 2. ₹80,000
 - 3. ₹70,000
 - 4. ₹90,000

Question ID : 26433079912
Status : Not Answered
Chosen Option : --

Q.17 Ram covers 500 km distance in 20 hours in traffic; he covered some distance by bike at 30 km/h, and rest by car at 20 km/h. The distance covered by bike (in km) is:

- Ans
- 1. 300
 - 2. 250
 - 3. 200
 - 4. 100

Question ID : 26433079914
Status : Answered
Chosen Option : 1

Q.18 16 m, 14 m and 10 m are the dimensions of a room. Find the length of the greatest possible scale to measure all dimensions exactly.

- Ans 1. 3 m
 2. 4 m
 3. 2 m
 4. 10 m

Question ID : 26433090275
Status : Answered
Chosen Option : 3

Q.19 Revanth sold 8 shirts for a total profit of Rs.480 and 12 shirts for a total profit of Rs.160. At what profit per shirt should he sell the remaining 20 shirts so that he gets an average profit of Rs.20 per shirt?

- Ans 1. Rs.4
 2. Rs.2
 3. Rs.8
 4. Rs.6

Question ID : 26433073007
Status : Not Answered
Chosen Option : --

Q.20 According to the wildlife census, there were 550 panthers in 2021 in Rajasthan. If it is expected to increase by 2 percent the next year, then what is the population of the panthers in the year 2022?

- Ans 1. 581
 2. 566
 3. 578
 4. 561

Question ID : 264330116793
Status : Answered
Chosen Option : 4

Section : Part-D-English

Q.1 Select the most appropriate option to fill in the blanks and make the sentence meaningful.

The _____ from my window is of the _____.

- Ans 1. seen; sea
 2. seen; see
 3. scene; sea
 4. scene; see

Question ID : 26433092100
Status : Not Answered
Chosen Option : --

Q.2 Select the most appropriate meaning of the underlined idiom that can be substituted in the following sentence.

The fate of the accused hangs in the balance.

- Ans 1. remains undecided
 2. gets a fair decision
 3. gets an unfair decision
 4. gets a very fast decision

Question ID : 26433072231
Status : Not Answered
Chosen Option : --

Q.3 Select the correct option to substitute the underlined segment in the given sentence. If no substitution is required, select 'No substitution'.

They is going to Delhi with their friends.

- Ans 1. was going
 2. will going
 3. No substitution
 4. are going

Question ID : 26433090805
Status : Not Answered
Chosen Option : --

Q.4 Select the most appropriate ANTONYM of the given word.

Jaded

- Ans 1. Renewed
 2. Impressed
 3. Settled
 4. Unflinching

Question ID : 26433091821
Status : Not Answered
Chosen Option : --

Q.5 The sentence given below has one misspelt word. Spot the INCORRECTLY spelt word and select its correct spelling.

Ashish was flabbergasted when we told him about our latest achievement.

- Ans 1. Flabgersted
 2. Flabergasted
 3. Flabbergasted
 4. Fabbergasted

Question ID : 26433073549
Status : Not Answered
Chosen Option : --

Q.6 Select the most appropriate synonym of the underlined word.

It was a perilous journey.

- Ans
- 1. Tremendous
 - 2. Dangerous
 - 3. Loud
 - 4. Nasty

Question ID : 26433088763
Status : Not Answered
Chosen Option : --

Q.7 Select the most appropriate synonym of the given word.

Immune

- Ans
- 1. Resistant
 - 2. Sensitive
 - 3. Provoked
 - 4. Vulnerable

Question ID : 26433088202
Status : Not Answered
Chosen Option : --

Q.8 Select the most appropriate ANTONYM of the given word.

Vicinity

- Ans
- 1. Remote
 - 2. Natural
 - 3. Adjacent
 - 4. Proximity

Question ID : 26433072215
Status : Not Answered
Chosen Option : --

Q.9 Select the most appropriate option that can substitute the underlined segment in the given sentence.

The student repeatedly referred about one particular author during his presentation.

- Ans
- 1. referenced on one particular
 - 2. referred of one particular
 - 3. referred for one particular
 - 4. referred to one particular

Question ID : 26433091965
Status : Not Answered
Chosen Option : --

Q.10 Select the correct pair of synonyms to fill in the blanks.

Seema was shivering, and her body was almost _____ due to the long exposure to _____ winds from the mountains.

- Ans
- 1. frozen, icy
 - 2. warm, steamy
 - 3. dry, arid
 - 4. wet, humid

Question ID : 26433061052
Status : Not Answered
Chosen Option : --

Q.11 Select the most appropriate homonym of the given word.
Idol

- Ans
- 1. eye lid
 - 2. doll
 - 3. Idle
 - 4. dull

Question ID : 26433086348
Status : Not Answered
Chosen Option : --

Q.12 Select the most appropriate meaning of the given idiom.

Bone to pick

- Ans
- 1. Having a fond memory to tell
 - 2. Cleaning the floor for any garbage
 - 3. Having a complaint that needs to be discussed
 - 4. Making a feast

Question ID : 26433084602
Status : Not Answered
Chosen Option : --

Q.13 Select the INCORRECTLY spelt word.

- Ans
- 1. Irrelevant
 - 2. Miniature
 - 3. Condolance
 - 4. Millennium

Question ID : 26433073737
Status : Not Answered
Chosen Option : --

Q.14 Select the most appropriate option that can substitute the underlined segment in the given sentence. If there is no need to substitute it, select 'No substitution'.
The young girl was so afraid of her seniors that she refused to go to school.

- Ans
- 1. so afraid to her seniors
 - 2. so afraid at her seniors
 - 3. No substitution
 - 4. so afraid over her seniors

Question ID : **26433093076**
Status : **Not Answered**
Chosen Option : --

Q.15 The following sentence has been split into four segments. Identify the segment that contains a grammatical error.

The teacher will / certainly help you / if you will / ask her.

- Ans
- 1. The teacher will
 - 2. ask her
 - 3. certainly help you
 - 4. if you will

Question ID : **264330108877**
Status : **Not Answered**
Chosen Option : --

Comprehension:

In the following passage, some words have been deleted. Read the passage carefully and select the most appropriate option to fill in each blank.

A beautiful spectacle for anyone to (1)_____ would be the crowds that throng to see the Indian cricket team playing, whether it be in India or in other parts of the globe. This (2)_____ is the occasion where the spirit of oneness is all pervasive. India with all its diversity (3)_____ be seen either rejoicing or moaning depending on the sway of the game (4)_____ watched. Unity in diversity is (5)_____ in all its glory.

SubQuestion No : 16

Q.16 Select the most appropriate option to fill in blank number 1.

- Ans
- 1. behold
 - 2. tarnish
 - 3. vanish
 - 4. sold

Question ID : **26433091788**
Status : **Not Answered**
Chosen Option : --

Comprehension:

In the following passage, some words have been deleted. Read the passage carefully and select the most appropriate option to fill in each blank.

A beautiful spectacle for anyone to (1)_____ would be the crowds that throng to see the Indian cricket team playing, whether it be in India or in other parts of the globe. This (2)_____ is the occasion where the spirit of oneness is all pervasive. India with all its diversity (3)_____ be seen either rejoicing or moaning depending on the sway of the game (4)_____ watched. Unity in diversity is (5)_____ in all its glory.

SubQuestion No : 17

Q.17 Select the most appropriate option to fill in blank number 2.

- Ans 1. ruthlessly
 2. undoubtedly
 3. doubtfully
 4. indefinitely

Question ID : 26433091789
Status : Not Answered
Chosen Option : --

Comprehension:

In the following passage, some words have been deleted. Read the passage carefully and select the most appropriate option to fill in each blank.

A beautiful spectacle for anyone to (1)_____ would be the crowds that throng to see the Indian cricket team playing, whether it be in India or in other parts of the globe. This (2)_____ is the occasion where the spirit of oneness is all pervasive. India with all its diversity (3)_____ be seen either rejoicing or moaning depending on the sway of the game (4)_____ watched. Unity in diversity is (5)_____ in all its glory.

SubQuestion No : 18

Q.18 Select the most appropriate option to fill in blank number 3.

- Ans 1. could
 2. shouldn't
 3. won't
 4. shan't

Question ID : 26433091790
Status : Not Answered
Chosen Option : --

Comprehension:

In the following passage, some words have been deleted. Read the passage carefully and select the most appropriate option to fill in each blank.

A beautiful spectacle for anyone to (1)_____ would be the crowds that throng to see the Indian cricket team playing, whether it be in India or in other parts of the globe. This (2)_____ is the occasion where the spirit of oneness is all pervasive. India with all its diversity (3)_____ be seen either rejoicing or moaning depending on the sway of the game (4)_____ watched. Unity in diversity is (5)_____ in all its glory.

SubQuestion No : 19

Q.19 Select the most appropriate option to fill in blank number 4.

- Ans 1. going
 2. on
 3. seeing
 4. being

Question ID : 26433091791
Status : Not Answered
Chosen Option : --

Comprehension:

In the following passage, some words have been deleted. Read the passage carefully and select the most appropriate option to fill in each blank.

A beautiful spectacle for anyone to (1)_____ would be the crowds that throng to see the Indian cricket team playing, whether it be in India or in other parts of the globe. This (2)_____ is the occasion where the spirit of oneness is all pervasive. India with all its diversity (3)_____ be seen either rejoicing or moaning depending on the sway of the game (4)_____ watched. Unity in diversity is (5)_____ in all its glory.

SubQuestion No : 20

Q.20 Select the most appropriate option to fill in blank number 5.

- Ans 1. redressed
 2. terraced
 3. witnessed
 4. procured

Question ID : 26433091792
Status : Not Answered
Chosen Option : --

Section : Part-D-Hindi

Q.1 निम्नलिखित वाक्यांशों के लिए उपयुक्त शब्द का चयन विकल्पों में से कीजिए।
बिजली की तरह चमकने वाला

- Ans 1. जाजुल्यमान
 2. विद्युतगामी
 3. विद्युत्प्रभ
 4. आकाशवृत्ति

Question ID : 26433069996
Status : Answered
Chosen Option : 2

Q.2 नीचे दिए गए वाक्य में रेखांकित अंश के स्थान पर सबसे उपयुक्त विकल्प कौन-सा होगा?
हमें अपने माता-पिता की शुश्रूषा करनी चाहिए।

- Ans
- 1. सेवा
 - 2. भक्ति
 - 3. गुस्सा
 - 4. नौकरी

Question ID : 26433066715
Status : Answered
Chosen Option : 1

Q.3 निम्न वाक्य में रेखांकित शब्द के स्थान पर सर्वोचित विकल्प चुनिए।
सूखा पड़ गया है, इसलिए इस बार हरियाली कम है।

- Ans
- 1. मेहनत
 - 2. समृद्धि
 - 3. उत्पादन
 - 4. फसल

Question ID : 26433084959
Status : Answered
Chosen Option : 4

Q.4 'महाभारत के युद्ध में कृष्ण ने कौरवों की मदद के लिए ग्यारह अक्षोहिणी सेनाएं दी थीं।' वाक्य में अशुद्ध वर्तनी वाला शब्द निम्न में से कौन सा है?

- Ans
- 1. महाभारत
 - 2. कौरवों
 - 3. कृष्ण
 - 4. अक्षोहिणी

Question ID : 26433069697
Status : Answered
Chosen Option : 4

Q.5 नीचे दिए गए मुहावरे में रेखांकित अंश के स्थान पर सबसे उपयुक्त विकल्प कौन-सा होगा?
'एक और एक बारह होना'

- Ans
- 1. ग्यारह
 - 2. दस
 - 3. नौ
 - 4. तेरह

Question ID : 26433066740
Status : Answered
Chosen Option : 1

Q.6 निम्नलिखित मुहावरे के लिए उपयुक्त अर्थ क्या होगा?
उल्टी गंगा बहाना

- Ans 1. नियम के विरुद्ध काम करना
 2. नदी की धारा को मोड़ देना
 3. बिना मतलब की बातें करना
 4. दूसरों की वस्तु चुरा लेना

Question ID : 26433065775
Status : Answered
Chosen Option : 1

Q.7 निम्न विकल्पों में से अशुद्ध योगरूढ़ संज्ञा शब्द क्रम पहचानिए।

- Ans 1. लंबाउदर, दशोनन, पीताअंबर
 2. गिरिधर, पंचानन, नीरद
 3. पंकज, जलज, चक्रपाणि
 4. चतुर्भुज, चतुरानन, नीलकंठ

Question ID : 26433079225
Status : Answered
Chosen Option : 1

Q.8 निम्न में से किस वाक्य में 'अचल' के सही पर्यायवाची शब्द का प्रयोग हुआ है?

- Ans 1. शुभदा बहुत चंचल है।
 2. अस्थिरता उसके स्वभाव की विशेषता है।
 3. उसके चित्त की अवस्था दोलायमान थी।
 4. वह अपने निर्णय पर अटल रहा।

Question ID : 26433067010
Status : Answered
Chosen Option : 4

Q.9 'कौरवों के चक्रव्यूह के कारण अल्पायु में अभिमन्यु को वीरगति मिली।' वाक्य में प्रयुक्त 'अल्पायु' का विलोम शब्द होगा-

- Ans 1. चिरायु
 2. विरक्ति
 3. चिरंजीव
 4. लघुआयु

Question ID : 26433069744
Status : Answered
Chosen Option : 1

Q.10 'जिसे जीता न जा सके' वाक्यांश के लिए उचित शब्द बताइए-

- Ans 1. विजयी
 2. अजेय
 3. विजेता
 4. अजातशत्रु

Question ID : 26433065905
Status : Answered
Chosen Option : 2

Q.11 निम्नलिखित शब्द के सही वर्तनी वाले पर्यायवाची शब्द का चयन कीजिए।
किरण

- Ans 1. किरन
 2. रश्मि
 3. अंसु
 4. रस्मि

Question ID : 26433066937
Status : Answered
Chosen Option : 2

Q.12 निम्न वाक्य में रिक्त स्थान की पूर्ति उपयुक्त संज्ञा शब्द से करें।
जीवन में _____ होना अति आवश्यक है।

- Ans 1. कोई
 2. मधुरता
 3. आप
 4. अपना

Question ID : 26433085024
Status : Answered
Chosen Option : 2

Q.13 उसने तरह - तरह के चमड़े के जूते खरीदे।
उपरोक्त वाक्य का शुद्ध रूप क्या होगा?

- Ans 1. उसने चमड़े के अलग - अलग जूता खरीदे।
 2. वह तरह - तरह के चमड़े जूते खरीदे।
 3. उन्होंने तरह - तरह की चमड़े जूते खरीदी।
 4. उसने चमड़े के तरह - तरह के जूते खरीदे।

Question ID : 26433079235
Status : Answered
Chosen Option : 4

Q.14 निम्नलिखित वाक्यांश के लिए एक सार्थक शब्द चुनिए।
दूसरों का भला चाहने वाला

- Ans 1. स्वार्थी
 2. वादी
 3. परार्थी
 4. पार्थिव

Question ID : 26433062736

Status : Answered

Chosen Option : 3

Q.15 निम्नलिखित वाक्य में रेखांकित शब्द का विलोम बताइए।
दिनकर समाज के लिए 'परमार्थ' का कार्य करता है।

- Ans 1. स्वार्थ
 2. निस्वार्थ
 3. सुकार्य
 4. सेवक

Question ID : 26433085076

Status : Answered

Chosen Option : 4

Comprehension:

प्रश्न 1 से 5 तक के उत्तर निम्नांकित गद्यावतरण के आधार पर दीजिए।
संसार के समस्त जीवों में मनुष्य को श्रेष्ठ माना गया है, क्योंकि वह अन्य जीवों की अपेक्षा अधिक 1. _____
और विवेकशील है। वह केवल वर्तमान की ही नहीं सोचता बल्कि भविष्य के बारे में विचार करता है। वह केवल
अपनी ओर ध्यान नहीं देता वरन् दूसरों का भी खयाल रखता है। उसमें उचित और अनुचित का ज्ञान कराने वाली
बुद्धि होती है। इसी आधार पर बुद्धि के दो पक्ष हैं : एक सुबुद्धि और दूसरी दुर्बुद्धि। सुबुद्धि की बड़ी महिमा है।
इसी को सुमति अर्थात् अच्छी मति भी कहा जाता है। जब तक मनुष्य में सुमति रहती है तब तक उसमें अच्छे –
बुरे का विवेक भी होता है। जब वह सुमति से हटकर कुमति या दुर्बुद्धि में आ जाता है तब वह बुरे एवं अनुचित
कार्य में लग जाता है। सुमति के द्वारा 2. _____ की भी प्राप्ति होती है अर्थात् उसे धन, सम्मान, स्त्री, पुत्र
आदि का सुख मिलता है। इन सभी की प्राप्ति विवेक अथवा सुबुद्धि द्वारा संभव है। जो लोग मिल – जुलकर और
3. _____ से कार्य करते हैं उन पर लक्ष्मी की कृपा रहती है। उन्हें सभी की ओर से आदर मिलता है। इससे
उनमें ऐसी शक्ति पैदा होती है जिससे वे देश, जाति और परिवार को गौरवमय बनाते हैं। सुमति ही सफलता की
जननी है। जीवन में वही व्यक्ति सफल होता है जो कठिन से कठिन परिस्थितियों में अपनी बुद्धि पर विश्वास रखता
है तथा है परिश्रम, ईमानदारी और विवेक से काम करता है। सभी का आदर करना, बड़ों के प्रति अप्रिय न
बोलना, सभी से नम्र और 4. _____ बने रहना सुमति के अंतर्गत आते हैं। जहाँ सुमति नहीं रहती वहाँ दंभ,
अहंकार, क्रोध और अधैर्य का साम्राज्य रहता है। सुमति – हीन लोगों से संपत्ति भी 5. _____ दूर रहती है
और वे विपत्तियों में घिरे रहते हैं।

SubQuestion No : 16

Q.16 'बुद्धिमती' के पुल्लिंग शब्द से रिक्त स्थान 1 की पूर्ति कीजिए।

- Ans 1. बुद्धिमान
 2. बुद्धिजीवी
 3. बुद्धिवादी
 4. बुद्धिहीन

Question ID : 26433080951

Status : Answered

Chosen Option : 1

Comprehension:

प्रश्न 1 से 5 तक के उत्तर निम्नांकित गद्यावतरण के आधार पर दीजिए।
संसार के समस्त जीवों में मनुष्य को श्रेष्ठ माना गया है, क्योंकि वह अन्य जीवों की अपेक्षा अधिक 1. _____
और विवेकशील है। वह केवल वर्तमान की ही नहीं सोचता बल्कि भविष्य के बारे में विचार करता है। वह केवल
अपनी ओर ध्यान नहीं देता वरन् दूसरों का भी खयाल रखता है। उसमें उचित और अनुचित का ज्ञान कराने वाली
बुद्धि होती है। इसी आधार पर बुद्धि के दो पक्ष हैं : एक सुबुद्धि और दूसरी दुर्बुद्धि। सुबुद्धि की बड़ी महिमा है।
इसी को सुमति अर्थात् अच्छी मति भी कहा जाता है। जब तक मनुष्य में सुमति रहती है तब तक उसमें अच्छे –
बुरे का विवेक भी होता है। जब वह सुमति से हटकर कुमति या दुर्बुद्धि में आ जाता है तब वह बुरे एवं अनुचित
कार्य में लग जाता है। सुमति के द्वारा 2. _____ की भी प्राप्ति होती है अर्थात् उसे धन, सम्मान, स्त्री, पुत्र
आदि का सुख मिलता है। इन सभी की प्राप्ति विवेक अथवा सुबुद्धि द्वारा संभव है। जो लोग मिल – जुलकर और
3. _____ से कार्य करते हैं उन पर लक्ष्मी की कृपा रहती है। उन्हें सभी की ओर से आदर मिलता है। इससे
उनमें ऐसी शक्ति पैदा होती है जिससे वे देश, जाति और परिवार को गौरवमय बनाते हैं। सुमति ही सफलता की
जननी है। जीवन में वही व्यक्ति सफल होता है जो कठिन से कठिन परिस्थितियों में अपनी बुद्धि पर विश्वास रखता
है तथा है परिश्रम, ईमानदारी और विवेक से काम करता है। सभी का आदर करना, बड़ों के प्रति अप्रिय न
बोलना, सभी से नम्र और 4. _____ बने रहना सुमति के अंतर्गत आते हैं। जहाँ सुमति नहीं रहती वहाँ दंभ,
अहंकार, क्रोध और अधैर्य का साम्राज्य रहता है। सुमति – हीन लोगों से संपत्ति भी 5. _____ दूर रहती है
और वे विपत्तियों में घिरे रहते हैं।

SubQuestion No : 17

Q.17 'दौलत' के पर्यायवाची शब्द से रिक्त स्थान 2 की पूर्ति कीजिए।

- Ans 1. ऐश - आराम
 2. विपत्ति
 3. संपत्ति
 4. भोग - विलास

Question ID : 26433080952

Status : Answered

Chosen Option : 4

Comprehension:

प्रश्न 1 से 5 तक के उत्तर निम्नांकित गद्यावतरण के आधार पर दीजिए।
संसार के समस्त जीवों में मनुष्य को श्रेष्ठ माना गया है, क्योंकि वह अन्य जीवों की अपेक्षा अधिक 1. _____
और विवेकशील है। वह केवल वर्तमान की ही नहीं सोचता बल्कि भविष्य के बारे में विचार करता है। वह केवल
अपनी ओर ध्यान नहीं देता वरन् दूसरों का भी खयाल रखता है। उसमें उचित और अनुचित का ज्ञान कराने वाली
बुद्धि होती है। इसी आधार पर बुद्धि के दो पक्ष हैं : एक सुबुद्धि और दूसरी दुर्बुद्धि। सुबुद्धि की बड़ी महिमा है।
इसी को सुमति अर्थात् अच्छी मति भी कहा जाता है। जब तक मनुष्य में सुमति रहती है तब तक उसमें अच्छे –
बुरे का विवेक भी होता है। जब वह सुमति से हटकर कुमति या दुर्बुद्धि में आ जाता है तब वह बुरे एवं अनुचित
कार्य में लग जाता है। सुमति के द्वारा 2. _____ की भी प्राप्ति होती है अर्थात् उसे धन, सम्मान, स्त्री, पुत्र
आदि का सुख मिलता है। इन सभी की प्राप्ति विवेक अथवा सुबुद्धि द्वारा संभव है। जो लोग मिल – जुलकर और
3. _____ से कार्य करते हैं उन पर लक्ष्मी की कृपा रहती है। उन्हें सभी की ओर से आदर मिलता है। इससे
उनमें ऐसी शक्ति पैदा होती है जिससे वे देश, जाति और परिवार को गौरवमय बनाते हैं। सुमति ही सफलता की
जननी है। जीवन में वही व्यक्ति सफल होता है जो कठिन से कठिन परिस्थितियों में अपनी बुद्धि पर विश्वास रखता
है तथा है परिश्रम, ईमानदारी और विवेक से काम करता है। सभी का आदर करना, बड़ों के प्रति अप्रिय न
बोलना, सभी से नम्र और 4. _____ बने रहना सुमति के अंतर्गत आते हैं। जहाँ सुमति नहीं रहती वहाँ दंभ,
अहंकार, क्रोध और अधैर्य का साम्राज्य रहता है। सुमति – हीन लोगों से संपत्ति भी 5. _____ दूर रहती है
और वे विपत्तियों में घिरे रहते हैं।

SubQuestion No : 18

Q.18 निम्न विकल्पों में से उपयुक्त प्रत्यय युक्त शब्द से रिक्त स्थान 3 की पूर्ति कीजिए।

- Ans 1. ईमानदारी
 2. अनुरागी
 3. वैरागी
 4. चौकीदारी

Question ID : 26433080953

Status : Answered

Chosen Option : 1

Comprehension:

प्रश्न 1 से 5 तक के उत्तर निम्नांकित गद्यावतरण के आधार पर दीजिए।
संसार के समस्त जीवों में मनुष्य को श्रेष्ठ माना गया है, क्योंकि वह अन्य जीवों की अपेक्षा अधिक 1. _____
और विवेकशील है। वह केवल वर्तमान की ही नहीं सोचता बल्कि भविष्य के बारे में विचार करता है। वह केवल
अपनी ओर ध्यान नहीं देता वरन् दूसरों का भी खयाल रखता है। उसमें उचित और अनुचित का ज्ञान कराने वाली
बुद्धि होती है। इसी आधार पर बुद्धि के दो पक्ष हैं : एक सुबुद्धि और दूसरी दुर्बुद्धि। सुबुद्धि की बड़ी महिमा है।
इसी को सुमति अर्थात् अच्छी मति भी कहा जाता है। जब तक मनुष्य में सुमति रहती है तब तक उसमें अच्छे –
बुरे का विवेक भी होता है। जब वह सुमति से हटकर कुमति या दुर्बुद्धि में आ जाता है तब वह बुरे एवं अनुचित
कार्य में लग जाता है। सुमति के द्वारा 2. _____ की भी प्राप्ति होती है अर्थात् उसे धन, सम्मान, स्त्री, पुत्र
आदि का सुख मिलता है। इन सभी की प्राप्ति विवेक अथवा सुबुद्धि द्वारा संभव है। जो लोग मिल – जुलकर और
3. _____ से कार्य करते हैं उन पर लक्ष्मी की कृपा रहती है। उन्हें सभी की ओर से आदर मिलता है। इससे
उनमें ऐसी शक्ति पैदा होती है जिससे वे देश, जाति और परिवार को गौरवमय बनाते हैं। सुमति ही सफलता की
जननी है। जीवन में वही व्यक्ति सफल होता है जो कठिन से कठिन परिस्थितियों में अपनी बुद्धि पर विश्वास रखता
है तथा है परिश्रम, ईमानदारी और विवेक से काम करता है। सभी का आदर करना, बड़ों के प्रति अप्रिय न
बोलना, सभी से नम्र और 4. _____ बने रहना सुमति के अंतर्गत आते हैं। जहाँ सुमति नहीं रहती वहाँ दंभ,
अहंकार, क्रोध और अधैर्य का साम्राज्य रहता है। सुमति – हीन लोगों से संपत्ति भी 5. _____ दूर रहती है
और वे विपत्तियों में घिरे रहते हैं।

SubQuestion No : 19

Q.19 निम्नलिखित विकल्पों में से सही शब्द चुनकर रिक्त स्थान 4 की पूर्ति कीजिए।

- Ans 1. अहंकार
 2. उदार
 3. निष्ठुर
 4. अनुदार

Question ID : 26433080954

Status : Answered

Chosen Option : 2

Comprehension:

प्रश्न 1 से 5 तक के उत्तर निम्नांकित गद्यावतरण के आधार पर दीजिए।
संसार के समस्त जीवों में मनुष्य को श्रेष्ठ माना गया है, क्योंकि वह अन्य जीवों की अपेक्षा अधिक 1. _____
और विवेकशील है। वह केवल वर्तमान की ही नहीं सोचता बल्कि भविष्य के बारे में विचार करता है। वह केवल
अपनी ओर ध्यान नहीं देता वरन् दूसरों का भी खयाल रखता है। उसमें उचित और अनुचित का ज्ञान कराने वाली
बुद्धि होती है। इसी आधार पर बुद्धि के दो पक्ष हैं : एक सुबुद्धि और दूसरी दुर्बुद्धि। सुबुद्धि की बड़ी महिमा है।
इसी को सुमति अर्थात् अच्छी मति भी कहा जाता है। जब तक मनुष्य में सुमति रहती है तब तक उसमें अच्छे –
बुरे का विवेक भी होता है। जब वह सुमति से हटकर कुमति या दुर्बुद्धि में आ जाता है तब वह बुरे एवं अनुचित
कार्य में लग जाता है। सुमति के द्वारा 2. _____ की भी प्राप्ति होती है अर्थात् उसे धन, सम्मान, स्त्री, पुत्र
आदि का सुख मिलता है। इन सभी की प्राप्ति विवेक अथवा सुबुद्धि द्वारा संभव है। जो लोग मिल – जुलकर और
3. _____ से कार्य करते हैं उन पर लक्ष्मी की कृपा रहती है। उन्हें सभी की ओर से आदर मिलता है। इससे
उनमें ऐसी शक्ति पैदा होती है जिससे वे देश, जाति और परिवार को गौरवमय बनाते हैं। सुमति ही सफलता की
जननी है। जीवन में वही व्यक्ति सफल होता है जो कठिन से कठिन परिस्थितियों में अपनी बुद्धि पर विश्वास रखता
है तथा है परिश्रम, ईमानदारी और विवेक से काम करता है। सभी का आदर करना, बड़ों के प्रति अप्रिय न
बोलना, सभी से नम्र और 4. _____ बने रहना सुमति के अंतर्गत आते हैं। जहाँ सुमति नहीं रहती वहाँ दंभ,
अहंकार, क्रोध और अधैर्य का साम्राज्य रहता है। सुमति – हीन लोगों से संपत्ति भी 5. _____ दूर रहती है
और वे विपत्तियों में घिरे रहते हैं।

SubQuestion No : 20

Q.20 उपयुक्त संधि शब्द से रिक्त स्थान 5 की पूर्ति कीजिए।

- Ans 1. सम् + चय = संचय
 2. सदा + एव = सदैव
 3. सम + तोष = संतोष
 4. सम + योग = संयोग

Question ID : 26433080955

Status : Answered

Chosen Option : 2