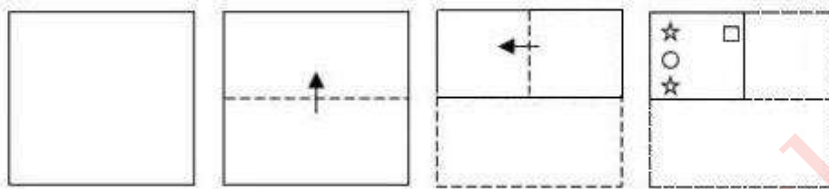


Constable GD in CAPFs SSF Rifleman GD in Assam Rifles and Sepoy in NCB Examination 2022

Roll Number	www.govtjobsalert.in
Candidate Name	www.govtjobsalert.in
Venue Name	Bhartiya Institute of Engineering and Technology
Exam Date	13/01/2023
Exam Time	11:45 AM - 12:45 PM
Subject	Constable GD Examination 2022


Section : Part-A-General Intelligence and Reasoning

Q.1 एक कागज को नीचे दिखाए अनुसार मोड़ा और काटा गया है। कागज की तह खुलने पर यह कैसा दिखाई देगा?




Ans

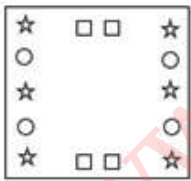
✓ 1.



✗ 2.



✗ 3.



✗ 4.



Question ID : 26433090957

Status : Answered

Chosen Option : 1

Q.2 निम्नलिखित में से कौन सी संख्या दी गई श्रृंखला में प्रश्न चिह्न (?) के स्थान पर आएगी?
9, 17, ?, 57, 89, 129

- Ans 1. 20
 2. 23
 3. 33
 4. 35

Question ID : 26433090064
Status : Answered
Chosen Option : 3

Q.3 कौन-सा अक्षर-समूह दी गई श्रृंखला में प्रश्नचिह्न (?) के स्थान पर आकर श्रृंखला को पूर्ण करेगा?
YAFU, CRRE, ?, KZPY, OQBI

- Ans 1. FYWD
 2. FMBR
 3. GRXO
 4. GIDO

Question ID : 26433079430
Status : Not Answered
Chosen Option : --

Q.4 नीचे दिए गए समीकरण को गणितीय रूप से सही बनाने के लिए किन दो चिन्हों को परस्पर बदलना चाहिए?

$$128 - 8 + 96 \div 16 \times 20 = 16$$

- Ans 1. \times और \div
 2. $+$ और \div
 3. $-$ और \times
 4. $-$ और $+$

Question ID : 264330117567
Status : Answered
Chosen Option : 4

Q.5 दस मित्र दोपहर का भोजन करने के लिए एक रेस्टोरेंट में गए और दो समानांतर पंक्तियों में एक-दूसरे की ओर मुख करके इस प्रकार बैठे कि प्रत्येक पंक्ति में पाँच सदस्य बैठते हैं। K, L, M, N, O उत्तर की ओर मुख करके पंक्ति 1 में बैठे हैं, जबकि व्यक्ति F, G, H, I, J दक्षिण की ओर मुख करके पंक्ति 2 में बैठे हैं। N का मुख J के बगल में बैठे व्यक्ति की ओर है। J और H के बीच में दो व्यक्ति बैठे हैं। पंक्ति के ठीक मध्य में बैठता है। G किसी भी किनारे पर नहीं बैठता है; G का मुख न तो M की ओर है, और न ही K की ओर है। K, M के बाईं ओर बैठा है, लेकिन उसके ठीक बगल में नहीं बैठा है। J किनारे पर बैठे व्यक्ति के ठीक बगल में है। N किसी भी किनारे पर नहीं बैठता है। L, N के बाईं ओर दूसरे स्थान पर बैठा है। J और G के बीच में कितने व्यक्ति बैठे हैं?

- Ans 1. दो
 2. तीन
 3. शून्य
 4. एक

Question ID : 26433079070
Status : Answered
Chosen Option : 4

Q.6 'विस्तार' का जो संबंध 'फैलाव' से है, वही संबंध 'संकुचन' का ' _____ ' से है।
(शब्दों को अर्थपूर्ण शब्दों के रूप में मानना है और उन्हें शब्द में अक्षरों/व्यंजनों/स्वरों की संख्या के आधार पर एक-दूसरे से संबंधित नहीं करना है।)

- Ans 1. परास
 2. सिकुड़न
 3. विशाल
 4. आयतन

Question ID : 26433057750
Status : Answered
Chosen Option : 2

Q.7 उस विकल्प का चयन करें जो तीसरे शब्द से उसी प्रकार संबंधित है जिस प्रकार दूसरा शब्द पहले शब्द से संबंधित है।
(शब्दों को अर्थपूर्ण शब्दों के रूप में मानना है, और उन्हें शब्द में अक्षरों/व्यंजनों/स्वरों की संख्या के आधार पर एक-दूसरे से संबंधित नहीं करना है।)
बल्ला : क्रिकेट :: रैकेट : ?

- Ans 1. बेसबॉल
 2. हॉकी
 3. टेनिस
 4. गोल्फ़

Question ID : 26433087198
Status : Answered
Chosen Option : 4

Q.8 एक निश्चित कूट भाषा में 'FORM' शब्द को आंकिक तरीके से 25 के रूप में कूटबद्ध किया जाता है। 'SUIT' शब्द को आंकिक तरीके से 96 के रूप में कूटबद्ध किया जाता है। उसी कूट भाषा में 'RING' शब्द को आंकिक तरीके से किस रूप में कूटबद्ध किया जाएगा?

- Ans 1. 84
 2. 48
 3. 24
 4. 42

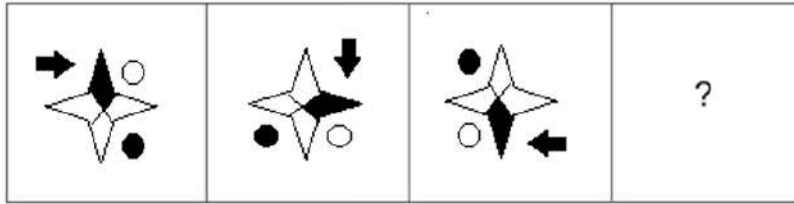
Question ID : 26433090110
Status : Answered
Chosen Option : 1

Q.9 निम्नलिखित में से कौन सी संख्या दी गई श्रृंखला में प्रश्न चिह्न (?) के स्थान पर आएगी?
4, 9, 17, 35, ?, 139

- Ans 1. 71
 2. 96
 3. 69
 4. 70

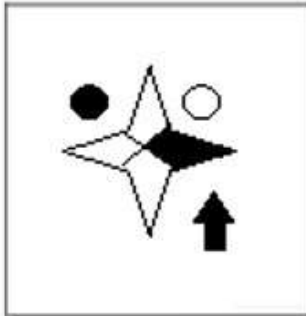
Question ID : 26433085644
Status : Answered
Chosen Option : 3

Q.10 उस आकृति का चयन कीजिए, जो निम्नलिखित आकृति शृंखला में अगले स्थान पर आएगी।

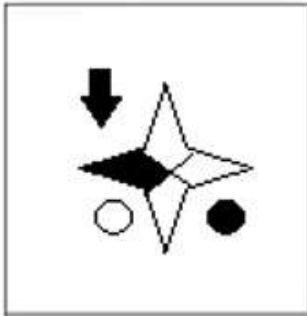


Ans

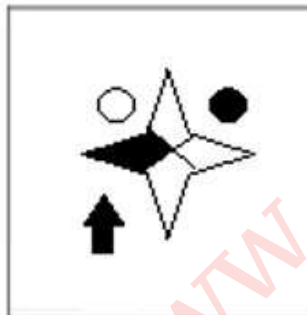
✗ 1.



✗ 2.



✓ 3.



✗ 4.



Question ID : 26433083100
Status : Answered
Chosen Option : 3

Q.11 तीन कथनों के बाद तीन निष्कर्ष I, II और III दिए गए हैं। कथनों को सत्य मानते हुए, भले ही वे सामान्य रूप से ज्ञात तथ्यों से भिन्न प्रतीत होते हों, निर्धारित करें कि कौन-सा/से निष्कर्ष, कथनों का तार्किक रूप से अनुसरण करता है/करते हैं।

कथन:

सभी पानी स्याही हैं।

सभी गोंद स्याही हैं।

सभी स्याही पेन हैं।

निष्कर्ष:

I. सभी गोंद पेन हैं।

II. सभी पेन पानी हैं।

III. कुछ पेन गोंद हैं।

- Ans
- 1. केवल निष्कर्ष I और II अनुसरण करते हैं
 - 2. सभी निष्कर्ष अनुसरण करते हैं
 - 3. केवल निष्कर्ष I और III अनुसरण करते हैं
 - 4. केवल निष्कर्ष II और III अनुसरण करते हैं

Question ID : 26433082299

Status : Answered

Chosen Option : 3

Q.12 विकल्पों में दिए गए गणितीय चिह्नों का कौन सा संयोजन निम्न समीकरण में * चिह्नों के स्थान पर क्रमिक रूप से आकर समीकरण को संतुलित करेगा?

$$64 * 140 * 2 * 4 * 10$$

- Ans
- 1. =, ÷, -, +
 - 2. =, ÷, +, -
 - 3. +, -, =, +
 - 4. -, +, ÷, =

Question ID : 26433094996

Status : Answered

Chosen Option : 2

Q.13 दिए गए संयोजन की सही दर्पण छवि का चयन करें जब दर्पण को 'PQ' पर रखा जाता है जैसा कि नीचे दिखाया गया है।

& @ 5436 ARE 

Ans

✗ 1. & @ 5436 ARE

✗ 2. & @ 5439 ARE

✓ 3. & @ 5436 ARE

✗ 4. & @ 5486 ARE

Question ID : 26433082744

Status : Answered

Chosen Option : 3

Q.14 कौन सा विकल्प नीचे दिए गए शब्दों के उस क्रम को निरूपित करता है जिस क्रम में वे अंग्रेजी शब्दकोश में आते हैं?

1. MISTER
2. MASTER
3. MARTYR
4. MISTRESS
5. MARTHA

Ans

✗ 1. 3, 5, 1, 2, 4

✓ 2. 5, 3, 2, 1, 4

✗ 3. 5, 3, 1, 2, 4

✗ 4. 3, 5, 2, 1, 4

Question ID : 26433092546

Status : Answered

Chosen Option : 2

Q.15 आठ व्यक्ति, A, B, C, D, E, F, G और H एक सीधी पंक्ति में उत्तर की ओर मुख करके बैठे हैं। A के दाईं ओर केवल तीन व्यक्ति बैठे हैं। A और B के बीच केवल एक व्यक्ति बैठा है। B और D के बीच केवल चार व्यक्ति बैठे हैं। F, D के दाईं ओर ठीक बगल में बैठा है। C न तो B के, और न ही D के ठीक बगल में बैठा है। E, G के दाईं ओर दूसरे स्थान पर बैठा है। H और A के बीच में कितने व्यक्ति बैठे हैं?

Ans

✗ 1. कोई भी नहीं

✓ 2. तीन

✗ 3. दो

✗ 4. एक

Question ID : 26433092756

Status : Answered

Chosen Option : 4

Q.16 एक निश्चित कूट भाषा में, 'FRUIT' को 'HTUKV' लिखा जाता है और 'TWEAK' को 'VYECM' लिखा जाता है। उसी भाषा में 'VOWEL' कैसे लिखा जाएगा?

- Ans
- 1. QXWVG
 - 2. XQGWV
 - 3. XQWGN
 - 4. QXWGM

Question ID : 26433068895
Status : Answered
Chosen Option : 3

Q.17 निम्नलिखित में से कौन-सा पद दी गई श्रृंखला में प्रश्न-चिह्न (?) के स्थान पर आएगा?
FPA, HSB, IVD, KYE, ?, NEH

- Ans
- 1. LAH
 - 2. LBG
 - 3. MAG
 - 4. MBG

Question ID : 26433069456
Status : Answered
Chosen Option : 2

Q.18 उस विकल्प का चयन करें जो तीसरी संख्या से उसी प्रकार संबंधित है जिस प्रकार दूसरी संख्या पहली संख्या से संबंधित है और छठी संख्या पांचवीं संख्या से संबंधित है।
4 : 30 :: 7 : ? :: 6 : 56

- Ans
- 1. 72
 - 2. 76
 - 3. 70
 - 4. 80

Question ID : 26433067897
Status : Answered
Chosen Option : 1

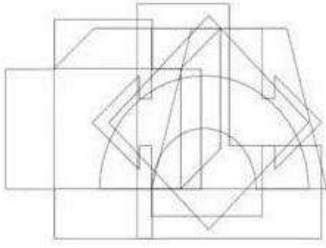
Q.19 'A + B' का अर्थ है 'A, B की पत्नी है'
'A - B' का अर्थ है 'A, B का पति है'
'A × B' का अर्थ है 'A, B का भाई है'
'A ÷ B' का अर्थ है 'A, B की माता है'
यदि $R + T \times S - P \div Q + N$ है, तो निम्न में से कौन सा कथन सही नहीं है?

- Ans
- 1. Q, T की माता है।
 - 2. R, T की पत्नी है।
 - 3. P, Q की माता है।
 - 4. T, S का भाई है।

Question ID : 26433090048
Status : Answered
Chosen Option : 1

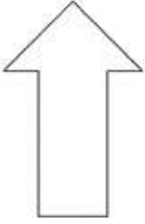
Q.20

उस विकल्प आकृति का चयन करें जो नीचे दी गई आकृति में अंतर्निहित है।
(आकृति घुमाने की अनुमति नहीं है)

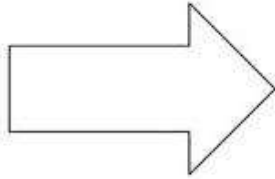


Ans

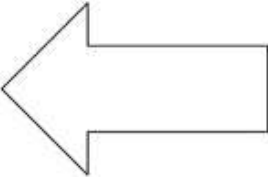
✗ 1.



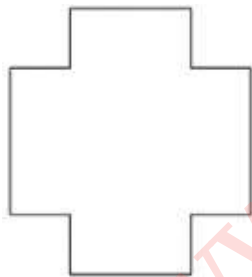
✗ 2.



✗ 3.



✓ 4.



Question ID : 26433085750

Status : Answered

Chosen Option : 4

Section : Part-B-General Knowledge and General awareness

Q.1 _____ का कार्किडका वावु बली पूर्वजों को खुश करने के लिए एक हिंदू अनुष्ठान है।

Ans ✓ 1. केरल

✗ 2. गोवा

✗ 3. महाराष्ट्र

✗ 4. मेघालय

Question ID : 264330106220

Status : Not Answered

Chosen Option : --

Q.2 भोपाल झील, जोकि अपने समय की सबसे बड़ी कृत्रिम झीलों में से एक है, का निर्माण किस शताब्दी में किया गया था?

- Ans 1. 19वीं
 2. 11वीं
 3. 15वीं
 4. 13वीं

Question ID : 26433091499
Status : Not Answered
Chosen Option : --

Q.3 भारतीय संविधान में न्यायपालिका की स्वतंत्रता का प्रावधान निम्नलिखित में से किस देश के संविधान से लिया गया है?

- Ans 1. यूनाइटेड किंगडम
 2. फ्रांस
 3. यूएसएसआर
 4. संयुक्त राज्य अमेरिका

Question ID : 26433090669
Status : Answered
Chosen Option : 1

Q.4 ईडेन गार्डेन क्रिकेट मैदान निम्नलिखित में से किस शहर में स्थित है?

- Ans 1. जयपुर
 2. चेन्नई
 3. लखनऊ
 4. कोलकाता

Question ID : 264330116263
Status : Answered
Chosen Option : 4

Q.5 किसी देश की प्रति व्यक्ति आय की गणना, देश की राष्ट्रीय आय को उसके/उसकी _____ से भाग देकर की जाती है।

- Ans 1. ऋण
 2. जनसंख्या
 3. देयता
 4. परिसंपत्ति

Question ID : 264330115354
Status : Answered
Chosen Option : 2

Q.6 फरवरी 2022 में सीबीएसई (CBSE) के नए अध्यक्ष के रूप में किसे नियुक्त किया गया था?

- Ans
- 1. प्रो. दिनेश प्रसाद सकलानी
 - 2. विनीत जोशी
 - 3. प्रो. एम जगदीश कुमार
 - 4. राजकुमार रंजन सिंह

Question ID : 26433081826
Status : Answered
Chosen Option : 1

Q.7 भारतीय संविधान की विशेषता; संघवाद का केंद्रीकृत रूप, जिसमें केंद्र के पास राज्यों से अधिक शक्तियां होती हैं, किस मॉडल पर आधारित है?

- Ans
- 1. कनाडाई मॉडल
 - 2. जापान मॉडल
 - 3. ब्रिटेन मॉडल
 - 4. यूएसए मॉडल

Question ID : 26433090676
Status : Answered
Chosen Option : 3

Q.8 सोडियम निम्नलिखित में से किसमें रखा जाता है?

- Ans
- 1. केरोसीन
 - 2. दूध
 - 3. चीनी के घोल
 - 4. पानी

Question ID : 26433089650
Status : Answered
Chosen Option : 1

Q.9 निम्नलिखित में से क्या केंद्रक में मौजूद नहीं होता है?

- Ans
- 1. रिक्तिका
 - 2. डिऑक्सीराइबोन्यूक्लिक अम्ल
 - 3. केंद्रिका
 - 4. जीन

Question ID : 264330115191
Status : Answered
Chosen Option : 1

Q.10 वर्ष 2019 के लिए बालासरस्वती पुरस्कार निम्नलिखित में से किसने जीता?

- Ans
- 1. महबूब सुभानी
 - 2. अलरमेल वल्ली
 - 3. अनुराधा पाण्डेय
 - 4. कृष्णा एला

Question ID : 264330115849
Status : Answered
Chosen Option : 4

Q.11 वॉलीबॉल की पुरुष की टीम के लिए भू-तल से नेट की मानक ऊंचाई कितनी होती है?

- Ans
- 1. 2.33 मीटर
 - 2. 2.53 मीटर
 - 3. 2.23 मीटर
 - 4. 2.43 मीटर

Question ID : 26433096229
Status : Answered
Chosen Option : 2

Q.12 हरित क्रांति की शुरुआत _____ में हुई थी।

- Ans
- 1. संयुक्त राज्य अमेरिका
 - 2. मेक्सिको
 - 3. ब्राज़ील
 - 4. ऑस्ट्रेलिया

Question ID : 264330115436
Status : Answered
Chosen Option : 1

Q.13 सोनल मानसिंह को निम्नलिखित में से किस शास्त्रीय नृत्य के लिए संगीत नाटक अकादमी पुरस्कार से सम्मानित किया गया?

- Ans
- 1. मणिपुरी
 - 2. ओडिसी
 - 3. कथकली
 - 4. मोहिनीअट्टम

Question ID : 26433074076
Status : Answered
Chosen Option : 1

Q.14 नवंबर 2022 तक की स्थिति के अनुसार, निम्नलिखित में से कौन दिल्ली के मुख्यमंत्री है?

- Ans
- 1. पेमा खांडू
 - 2. मनोज सिन्हा
 - 3. अरविंद केजरीवाल
 - 4. वी. नारायणस्वामी

Question ID : 264330114974
Status : Answered
Chosen Option : 3

Q.15 औद्योगिक नीति संकल्प, 1956 ने उद्योगों को _____ श्रेणियों में वर्गीकृत किया है।

- Ans
- 1. तीन
 - 2. एक
 - 3. दो
 - 4. चार

Question ID : 264330116144
Status : Answered
Chosen Option : 1

Q.16 निम्नलिखित में से कौन शुंग वंश का प्रथम शासक था?

- Ans
- 1. पारसमित्र शुंग
 - 2. परममित्र शुंग
 - 3. पुष्पमित्र शुंग
 - 4. पशुपतिनाथ शुंग

Question ID : 26433090575
Status : Answered
Chosen Option : 3

Q.17 अटल पेंशन योजना (APY), भारतीय नागरिकों के लिए एक पेंशन योजना है, जो _____ क्षेत्र के श्रमिकों पर केंद्रित है।

- Ans
- 1. संगठित
 - 2. असंगठित
 - 3. जटिल
 - 4. अनिर्दिष्ट

Question ID : 264330116195
Status : Answered
Chosen Option : 2

Q.18 कौन-सी योजना गैर प्रमुख बंदरगाहों और प्रमुख बंदरगाहों की कनेक्टिविटी सहित तटीय सीमा क्षेत्रों के साथ राज्य सड़कों के विकास के लिए प्रस्तावित की गई है?

- Ans
- 1. राष्ट्रीय राजमार्ग विकास परियोजना
 - 2. सागरमाला परियोजना
 - 3. गोल्डन क्वार्टिलेटरल परियोजना
 - 4. सेतुभारतम परियोजना

Question ID : 264330115601
Status : Answered
Chosen Option : 4

Q.19 जनगणना 2011 के अनुसार भारत में पुरुषों की साक्षरता दर कितनी है?

- Ans
- 1. 81.17%
 - 2. 80.65%
 - 3. 84.35%
 - 4. 82.14%

Question ID : 264330116058
Status : Answered
Chosen Option : 4

Q.20 अंग्रेजों द्वारा पारित निम्नलिखित में से किस अधिनियम ने भारतीयों को हथियार रखने की अनुमति नहीं दी?

- Ans
- 1. आर्म्स एक्ट 1888
 - 2. आर्म्स एक्ट 1850
 - 3. आर्म्स एक्ट 1878
 - 4. आर्म्स एक्ट 1868

Question ID : 26433089901
Status : Not Answered
Chosen Option : --

Section : Part-C-Elementary Mathematics

Q.1 12 cm ऊँचाई और 6 cm व्यास वाले एक ठोस धातु के बेलन को पिघलाकर बनाए जाने वाले प्रत्येक 6 cm व्यास वाले ठोस गोलों की संख्या ज्ञात कीजिए।

- Ans
- 1. 2
 - 2. 6
 - 3. 4
 - 4. 3

Question ID : 26433080063
Status : Answered
Chosen Option : 1

Q.2 Rs.10 प्रति लीटर का मिश्रण प्राप्त करने के लिए पानी और Rs.15 प्रति लीटर के दूध का क्या अनुपात होना चाहिए? (पानी निःशुल्क उपलब्ध है)

- Ans
- 1. 2 : 5
 - 2. 1 : 2
 - 3. 2 : 3
 - 4. 1 : 3

Question ID : 26433082707
Status : Answered
Chosen Option : 1

Q.3 यदि 24 महिलाएं एक कार्य को 16 दिनों में पूरा कर सकती हैं, तो 32 महिलाएं उसी कार्य को कितने दिनों में पूरा कर लेंगी?

- Ans
- 1. 9
 - 2. 11
 - 3. 10
 - 4. 12

Question ID : 26433080331
Status : Answered
Chosen Option : 4

Q.4 टीना को 8200 रुपए के ग्राइंडर पर 15 प्रतिशत की छूट मिलती है। चूंकि वह नकद भुगतान करती है, इसलिए उसे 3 प्रतिशत की अतिरिक्त छूट भी मिलती है। वह कितना भुगतान करती है?

- Ans
- 1. 6970 रुपए
 - 2. 6850.80 रुपए
 - 3. 6760.90 रुपए
 - 4. 6560 रुपए

Question ID : 264330116764
Status : Answered
Chosen Option : 3

Q.5 एक खिलौने की कार की लागत 1800 रुपए हैं। इसके मूल्य को सेल में घटाकर 1500 रुपए कर दिया गया। मूल्य में कितने प्रतिशत कमी की गई?

- Ans
- 1. 80/9 प्रतिशत
 - 2. 50/3 प्रतिशत
 - 3. 100/7 प्रतिशत
 - 4. 60/7 प्रतिशत

Question ID : 264330116799
Status : Answered
Chosen Option : 2

Q.6 एक मूलधन 2 वर्षों में 15% वार्षिक की दर से चक्रवृद्धि ब्याज पर ₹26,450 का मिश्रधन देता है, ब्याज का संयोजन वार्षिक रूप से किया गया है। मूलधन क्या है?

- Ans
- 1. ₹23,000
 - 2. ₹22,000
 - 3. ₹20,000
 - 4. ₹21,000

Question ID : 26433091994
Status : Answered
Chosen Option : 4

Q.7 एक दुकानदार ने 2 साड़ियों और 4 कमीजों का मूल्य ₹1,600 तय किया। उसी पैसे से कोई व्यक्ति 1 साड़ी और 6 कमीज खरीद सकता है। यदि मुझे 12 कमीजें खरीदनी हैं, तो मुझे कितना भुगतान करना होगा?

- Ans
- 1. ₹2,400
 - 2. ₹4,800
 - 3. ₹1,800
 - 4. ₹1,600

Question ID : 26433075877
Status : Answered
Chosen Option : 1

Q.8 यदि किसी धनराशि पर 5% वार्षिक की दर से दो वर्ष का साधारण ब्याज Rs.50 है, तो समान दर और समान अवधि के लिए चक्रवृद्धि ब्याज कितना होगा, जब ब्याज वार्षिक रूप से चक्रवृद्धि होता है?

- Ans
- 1. Rs.51.25
 - 2. Rs.53.50
 - 3. Rs.50.50
 - 4. Rs.53.00

Question ID : 26433065291
Status : Answered
Chosen Option : 1

Q.9 तीन संख्याओ, 120, 240 और 480 का लघुत्तम समापवर्त्य ज्ञात कीजिए।

- Ans
- 1. 960
 - 2. 1080
 - 3. 480
 - 4. 720

Question ID : 26433091513
Status : Answered
Chosen Option : 3

Q.10 अखिल एक कार्य को 26 दिनों में पूरा कर सकता है। साक्षी और अखिल दोनों समान कार्य को 20 दिनों में पूरा कर सकते हैं। उन्होंने एक साथ शुरू किया लेकिन साक्षी ने 6 दिन काम करने के बाद छोड़ दिया। दिनों की संख्या ज्ञात करें जिसमें अखिल शेष कार्य को पूरा करेगा।

- Ans
- 1. 12/5 दिन
 - 2. 91/5 दिन
 - 3. 55/4 दिन
 - 4. 89/5 दिन

Question ID : 264330116879
Status : Answered
Chosen Option : 2

Q.11 एक कुत्ता, खरगोश की प्रत्येक 6 छलांग के लिए 5 छलांग लेता है, लेकिन कुत्ते की 4 छलांग खरगोश की 5 छलांग के बराबर होती है। कुत्ते और खरगोश की चाल का अनुपात क्या है?

- Ans
- 1. 24 : 25
 - 2. 16 : 24
 - 3. 24 : 16
 - 4. 25 : 24

Question ID : 26433076381
Status : Answered
Chosen Option : 1

Q.12 चार कुर्सियों की कीमत दो मेजों की कीमत के बराबर है। चार मेजों की कीमत दो बोर्ड की कीमत के बराबर है और चार बोर्ड की कीमत दो पंखों की कीमत के बराबर है। यदि एक पंखे की कीमत ₹850 है, तो एक कुर्सी की कीमत _____ है।

- Ans
- 1. ₹106.25
 - 2. ₹425
 - 3. ₹237.50
 - 4. ₹475

Question ID : 26433081565
Status : Answered
Chosen Option : 3

Q.13 व्यंजक $2\frac{3}{7} \times \left[\left(11\frac{2}{6} \div \left(\frac{25}{18} + 2\frac{5}{6} - \frac{7}{36} \right) \right) \right] = y \div 72.5 \times 204$ में y का मान

ज्ञात कीजिए।

Ans

1. $\frac{19}{3}$

2. $\frac{15}{2}$

3. $\frac{17}{7}$

4. $\frac{21}{5}$

Question ID : 26433086266

Status : Not Answered

Chosen Option : --

Q.14 A और B दो टाइपिस्ट हैं। एक दिन अपराह्न में, उनमें से प्रत्येक को टाइपिंग के लिए 80 पृष्ठ दिए गए। उन्होंने कार्य को समान रूप से विभाजित किया, लेकिन B ने A से 40 मिनट पहले समाप्त किया, जिसने उसी कार्य के लिए 4 घंटे का समय लिया था। अगले अपराह्न, उन्हें फिर से टाइप करने के लिए 121 पृष्ठ दिए गए। हालाँकि, इस बार उन्होंने कार्य को इस तरह विभाजित करने का फैसला किया कि वे एक साथ टाइपिंग समाप्त कर लें। A को कितने पृष्ठ टाइप करने थे?

Ans

1. 60 पृष्ठ

2. 55 पृष्ठ

3. 77 पृष्ठ

4. 50 पृष्ठ

Question ID : 26433081047

Status : Not Answered

Chosen Option : --

Q.15 यदि 40 kg भार का व्यक्ति शामिल हो जाता है, तो एक समूह का औसत भार 1 kg बढ़ जाता है। यदि इस व्यक्ति का भार 28 kg रहा होता, तो समूह का औसत भार 1 kg कम हो जाता। समूह का वास्तविक औसत भार कितना है?

Ans

1. 34 kg

2. 24 kg

3. 39 kg

4. 29 kg

Question ID : 26433087346

Status : Answered

Chosen Option : 1

Q.16 मार्च में, एक दुकानदार ने जींस की खरीद पर 20% छूट और एक कोट पर 12% छूट के लिए छूट योजना शुरू की है। साथ ही, वह भुगतान करने के लिए केवल SBI कार्ड का उपयोग करने पर 5% की छूट दे रहा है। आनंद ने Rs.1,200 के अंकित मूल्य की जींस और Rs.4,500 के अंकित मूल्य का एक कोट खरीदा। यदि वह HDFC बैंक कार्ड के माध्यम से भुगतान करता है तो उसे कितना भुगतान करना होगा?

- Ans
- 1. Rs.5,016
 - 2. Rs.4,560
 - 3. Rs.4,920
 - 4. Rs.4,674

Question ID : 26433080391
Status : Answered
Chosen Option : 3

Q.17 यदि एक बेलन के आधार की त्रिज्या और ऊँचाई क्रमशः 17 cm और 49 cm है, तो बेलन का वक्र पृष्ठीय क्षेत्रफल क्या होगा? ($\pi = 22/7$ का उपयोग करे)

- Ans
- 1. 5244 cm²
 - 2. 5288 cm²
 - 3. 5236 cm²
 - 4. 5256 cm²

Question ID : 26433075710
Status : Answered
Chosen Option : 3

Q.18 एक पुलिसकर्मी को 380 m की दूरी से एक चोर दिखाई देता है। चोर भागने लगता है और पुलिसकर्मी उसका पीछा करता है। चोर और पुलिसकर्मी क्रमशः 25 m/sec और 30 m/sec की चाल से दौड़ते हैं। पुलिसकर्मी को चोर को पकड़ने में कितना समय लगेगा?

- Ans
- 1. 76 सेकंड
 - 2. 82 सेकंड
 - 3. 92 सेकंड
 - 4. 56 सेकंड

Question ID : 26433076402
Status : Not Answered
Chosen Option : --

Q.19 एक गतिमान वस्तु द्वारा तय की गई दूरी 'd', समय 't' के अनुक्रमानुपाती है। जब एक ट्रेन 3 घंटे में 120 मील की यात्रा करती है, तो वह 8 घंटे में कितने मील की यात्रा करेगी?

- Ans
- 1. 40
 - 2. 320
 - 3. 80
 - 4. 160

Question ID : 26433081581
Status : Not Answered
Chosen Option : --

Q.20 एक परीक्षा में, प्रत्येक 100 अंकों के तीन विषय हैं। एक छात्र पहले विषय में 75% और दूसरे विषय में 86% अंक प्राप्त करता है। उसने कुल मिलाकर 68% अंक हासिल किए। तीसरे विषय में उसके अंकों का प्रतिशत कितना है?

- Ans
- 1. 43%
 - 2. 56%
 - 3. 48%
 - 4. 65%

Question ID : 26433081013
Status : Not Answered
Chosen Option : --

Section : Part-D-English

Q.1 Select the most appropriate option that can substitute the underlined segment in the given sentence.

To insure peace and calm, the government imposed a countrywide curfew for three days.

- Ans
- 1. To insure peace along calm
 - 2. In to ensure peace and calm
 - 3. To ensure peace and calm
 - 4. Insure peace and calm

Question ID : 26433091769
Status : Not Answered
Chosen Option : --

Q.2 Which of the following options is most similar in meaning to the given word?
Seize

- Ans
- 1. Catch
 - 2. Ocean
 - 3. Filter
 - 4. End

Question ID : 26433088811
Status : Not Answered
Chosen Option : --

Q.3 Select the most appropriate option to fill in the blank.

Affluent classes live a life high on the _____.

- Ans
- 1. level
 - 2. state
 - 3. end
 - 4. hog

Question ID : 26433073214
Status : Not Answered
Chosen Option : --

Q.4 Select the most appropriate option that can substitute the underlined segment in the given sentence.

During the lockdown, many families were barely able to make both the ends meet.

- Ans
- 1. barely managed to make ends meet
 - 2. were making both the ends meet
 - 3. could make both the ends meet
 - 4. can manage to make both the ends meet

Question ID : 26433094277
Status : Not Answered
Chosen Option : --

Q.5 Select the most appropriate option to fill in the blank.

The students arranged an open _____ on the topic of pandemics and social life after them.

- Ans
- 1. debase
 - 2. drought
 - 3. debate
 - 4. debt

Question ID : 26433073785
Status : Not Answered
Chosen Option : --

Q.6 Select the most appropriate synonym of the word given below to fill in the blank in the following sentence.

Austere

My uncle said, "Think about a monk who lives a _____ life".

- Ans
- 1. luxurious
 - 2. logical
 - 3. strict
 - 4. dark

Question ID : 26433093261
Status : Not Answered
Chosen Option : --

Q.7 Select the most appropriate ANTONYM of the given word.

Ready

- Ans
- 1. Set
 - 2. Holistic
 - 3. Unresponsive
 - 4. Humble

Question ID : 26433072419
Status : Not Answered
Chosen Option : --

Q.8 Select the most appropriate option to substitute the underlined segment in the given sentence.

The surveyor wrote a report on the property after doing an on-field evaluation.

- Ans
- 1. official collection
 - 2. off-field tracking
 - 3. off-site assignment
 - 4. on-site assessment

Question ID : 26433092915
Status : Not Answered
Chosen Option : --

Q.9 Select the most appropriate meaning of the given idiom.

Add fuel to the flames

- Ans
- 1. On the point of dying
 - 2. Performing a desirable action
 - 3. At the slightest signal or provocation
 - 4. Making a bad situation even worse

Question ID : 26433086431
Status : Not Answered
Chosen Option : --

Q.10 Select the INCORRECTLY spelt word.

- Ans
- 1. Deseive
 - 2. Deposit
 - 3. Decision
 - 4. Definite

Question ID : 26433073926
Status : Not Answered
Chosen Option : --

Q.11 Fill in the blanks with appropriate homonym.

If you want to _____ the world, you should be the one to take the first step.

- Ans
- 1. change (switch)
 - 2. change (loose money)
 - 3. change (transfer)
 - 4. change (alter)

Question ID : 26433092932
Status : Not Answered
Chosen Option : --

Q.12 Select the most appropriate ANTONYM of the word given in the bracket to fill in the blank.

He carried his method into every detail of life and lived on his earnings with extreme _____ (frugality).

- Ans 1. luxury
 2. assist
 3. spare
 4. ease

Question ID : 26433060327
Status : Not Answered
Chosen Option : --

Q.13 Select the most appropriate synonym of the underlined word.

The manager would like to talk to the team member about an important issue immediately.

- Ans 1. a significant
 2. a bad
 3. an enormous
 4. a good

Question ID : 26433089001
Status : Not Answered
Chosen Option : --

Q.14 Select the option that expresses the given sentence in simple past tense.

- A. I was calling you some time back to resolve this issue.
B. I had been calling you some time back to resolve this issue.
C. I have called you some time back to resolve this issue.
D. I called you some time back to resolve this issue.

- Ans 1. B
 2. D
 3. A
 4. C

Question ID : 26433073519
Status : Not Answered
Chosen Option : --

Q.15 Select the most appropriate option to fill in the blank.

Computers are able to process _____ amounts of data in mere seconds.

- Ans 1. bulge
 2. foster
 3. massive
 4. peer

Question ID : 26433060335
Status : Not Answered
Chosen Option : --

Comprehension:

In the following passage, some words have been deleted. Read the passage carefully and select the most appropriate option to fill in each blank.

It's no less than a pilgrimage for those who come to our shores for medical treatments. Medical tourism in India is on an upswing, with about 5,00,000 foreign patients travelling to India for medical care. The (1) _____ worth of the industry is estimated at ₹1,000 crores, with a growth potential of 100 per cent every year. The industry is poised to bring in as much as ₹5,000 to ₹10,000 crores by 2012.

Many factors contribute to the expansion of this sector, one of them being the (2) _____ facilities. "Only when we go to different countries do we realise how much better off we are in terms of infrastructure and quality. The country has the resources to be on the global map for medical tourism as it has a combination of all the right ingredients," says Dr. Rajendra Prasad, senior consultancy neurosurgery.

India is also renowned for its talent pool and the doctors are known for their (3) _____ and knowledge. Cutting edge medical technologies and drugs available are on a par with the developed world. The cost factor is another big reason for the popularity of India as the medical destination, the difference being as much as 10 or 20 times.

The culture of 'Atithi Devo Bhava' extends into medical tourism, with quality facilities being offered by hospitals to international patients. Super speciality hospitals are successfully providing unparalleled medical treatment to patients, resulting in (4) _____ outcomes, very low risk of infections and excellent post surgery care. The whole experience can be simply termed as 'value for money'.

Medical tourism is (5) _____ a fast-growing sector. It is felt that the government is not doing enough to promote this sector. The Ministry of Tourism should pitch in a big way with more financial support to stakeholders and better infrastructure facilities. More liberal loans, tax benefits and incentives to medical service providers will go a long way in giving a boost to this industry. Promoting medical tourism would mean more employment opportunities for our people, more goodwill for the country and more dollars for the government treasury.

SubQuestion No : 16

Q.16 Select the most appropriate option to fill in blank number 1.

- Ans 1. current
 2. prevalent
 3. living
 4. modern

Question ID : 26433097072

Status : Not Answered

Chosen Option : --

Comprehension:

In the following passage, some words have been deleted. Read the passage carefully and select the most appropriate option to fill in each blank.

It's no less than a pilgrimage for those who come to our shores for medical treatments. Medical tourism in India is on an upswing, with about 5,00,000 foreign patients travelling to India for medical care. The (1) _____ worth of the industry is estimated at ₹1,000 crores, with a growth potential of 100 per cent every year. The industry is poised to bring in as much as ₹5,000 to ₹10,000 crores by 2012.

Many factors contribute to the expansion of this sector, one of them being the (2) _____ facilities. "Only when we go to different countries do we realise how much better off we are in terms of infrastructure and quality. The country has the resources to be on the global map for medical tourism as it has a combination of all the right ingredients," says Dr. Rajendra Prasad, senior consultancy neurosurgery.

India is also renowned for its talent pool and the doctors are known for their (3) _____ and knowledge. Cutting edge medical technologies and drugs available are on a par with the developed world. The cost factor is another big reason for the popularity of India as the medical destination, the difference being as much as 10 or 20 times.

The culture of 'Atithi Devo Bhava' extends into medical tourism, with quality facilities being offered by hospitals to international patients. Super speciality hospitals are successfully providing unparalleled medical treatment to patients, resulting in (4) _____ outcomes, very low risk of infections and excellent post surgery care. The whole experience can be simply termed as 'value for money'.

Medical tourism is (5) _____ a fast-growing sector. It is felt that the government is not doing enough to promote this sector. The Ministry of Tourism should pitch in a big way with more financial support to stakeholders and better infrastructure facilities. More liberal loans, tax benefits and incentives to medical service providers will go a long way in giving a boost to this industry. Promoting medical tourism would mean more employment opportunities for our people, more goodwill for the country and more dollars for the government treasury.

SubQuestion No : 17

Q.17 Select the most appropriate option to fill in blank number 2.

- Ans 1. showy
 2. high-end
 3. fashionable
 4. ostentatious

Question ID : 26433097073

Status : Not Answered

Chosen Option : --

Comprehension:

In the following passage, some words have been deleted. Read the passage carefully and select the most appropriate option to fill in each blank.

It's no less than a pilgrimage for those who come to our shores for medical treatments. Medical tourism in India is on an upswing, with about 5,00,000 foreign patients travelling to India for medical care. The (1) _____ worth of the industry is estimated at ₹1,000 crores, with a growth potential of 100 per cent every year. The industry is poised to bring in as much as ₹5,000 to ₹10,000 crores by 2012.

Many factors contribute to the expansion of this sector, one of them being the (2) _____ facilities. "Only when we go to different countries do we realise how much better off we are in terms of infrastructure and quality. The country has the resources to be on the global map for medical tourism as it has a combination of all the right ingredients," says Dr. Rajendra Prasad, senior consultancy neurosurgery.

India is also renowned for its talent pool and the doctors are known for their (3) _____ and knowledge. Cutting edge medical technologies and drugs available are on a par with the developed world. The cost factor is another big reason for the popularity of India as the medical destination, the difference being as much as 10 or 20 times.

The culture of 'Atithi Devo Bhava' extends into medical tourism, with quality facilities being offered by hospitals to international patients. Super speciality hospitals are successfully providing unparalleled medical treatment to patients, resulting in (4) _____ outcomes, very low risk of infections and excellent post surgery care. The whole experience can be simply termed as 'value for money'.

Medical tourism is (5) _____ a fast-growing sector. It is felt that the government is not doing enough to promote this sector. The Ministry of Tourism should pitch in a big way with more financial support to stakeholders and better infrastructure facilities. More liberal loans, tax benefits and incentives to medical service providers will go a long way in giving a boost to this industry. Promoting medical tourism would mean more employment opportunities for our people, more goodwill for the country and more dollars for the government treasury.

SubQuestion No : 18

Q.18 Select the most appropriate option to fill in blank number 3.

- Ans 1. expertise
 2. intimacy
 3. acquaintance
 4. conversance

Question ID : 26433097074

Status : Not Answered

Chosen Option : --

Comprehension:

In the following passage, some words have been deleted. Read the passage carefully and select the most appropriate option to fill in each blank.

It's no less than a pilgrimage for those who come to our shores for medical treatments. Medical tourism in India is on an upswing, with about 5,00,000 foreign patients travelling to India for medical care. The (1) _____ worth of the industry is estimated at ₹1,000 crores, with a growth potential of 100 per cent every year. The industry is poised to bring in as much as ₹5,000 to ₹10,000 crores by 2012.

Many factors contribute to the expansion of this sector, one of them being the (2) _____ facilities. "Only when we go to different countries do we realise how much better off we are in terms of infrastructure and quality. The country has the resources to be on the global map for medical tourism as it has a combination of all the right ingredients," says Dr. Rajendra Prasad, senior consultancy neurosurgery.

India is also renowned for its talent pool and the doctors are known for their (3) _____ and knowledge. Cutting edge medical technologies and drugs available are on a par with the developed world. The cost factor is another big reason for the popularity of India as the medical destination, the difference being as much as 10 or 20 times.

The culture of 'Atithi Devo Bhava' extends into medical tourism, with quality facilities being offered by hospitals to international patients. Super speciality hospitals are successfully providing unparalleled medical treatment to patients, resulting in (4) _____ outcomes, very low risk of infections and excellent post surgery care. The whole experience can be simply termed as 'value for money'.

Medical tourism is (5) _____ a fast-growing sector. It is felt that the government is not doing enough to promote this sector. The Ministry of Tourism should pitch in a big way with more financial support to stakeholders and better infrastructure facilities. More liberal loans, tax benefits and incentives to medical service providers will go a long way in giving a boost to this industry. Promoting medical tourism would mean more employment opportunities for our people, more goodwill for the country and more dollars for the government treasury.

SubQuestion No : 19

Q.19 Select the most appropriate option to fill in blank number 4.

Ans 1. superior

2. fancy

3. premium

4. ultimate

Question ID : 26433097075

Status : Not Answered

Chosen Option : --

Comprehension:

In the following passage, some words have been deleted. Read the passage carefully and select the most appropriate option to fill in each blank.

It's no less than a pilgrimage for those who come to our shores for medical treatments. Medical tourism in India is on an upswing, with about 5,00,000 foreign patients travelling to India for medical care. The (1) _____ worth of the industry is estimated at ₹1,000 crores, with a growth potential of 100 per cent every year. The industry is poised to bring in as much as ₹5,000 to ₹10,000 crores by 2012.

Many factors contribute to the expansion of this sector, one of them being the (2) _____ facilities. "Only when we go to different countries do we realise how much better off we are in terms of infrastructure and quality. The country has the resources to be on the global map for medical tourism as it has a combination of all the right ingredients," says Dr. Rajendra Prasad, senior consultancy neurosurgery.

India is also renowned for its talent pool and the doctors are known for their (3) _____ and knowledge. Cutting edge medical technologies and drugs available are on a par with the developed world. The cost factor is another big reason for the popularity of India as the medical destination, the difference being as much as 10 or 20 times.

The culture of 'Atithi Devo Bhava' extends into medical tourism, with quality facilities being offered by hospitals to international patients. Super speciality hospitals are successfully providing unparalleled medical treatment to patients, resulting in (4) _____ outcomes, very low risk of infections and excellent post surgery care. The whole experience can be simply termed as 'value for money'.

Medical tourism is (5) _____ a fast-growing sector. It is felt that the government is not doing enough to promote this sector. The Ministry of Tourism should pitch in a big way with more financial support to stakeholders and better infrastructure facilities. More liberal loans, tax benefits and incentives to medical service providers will go a long way in giving a boost to this industry. Promoting medical tourism would mean more employment opportunities for our people, more goodwill for the country and more dollars for the government treasury.

SubQuestion No : 20

Q.20 Select the most appropriate option to fill in blank number 5.

- Ans 1. forsooth
 2. undoubtedly
 3. conceivably
 4. alright

Question ID : 26433097076

Status : Not Answered

Chosen Option : --

Section : Part-D-Hindi

Q.1 निम्नलिखित विकल्पों में से कौन सा एक वाक्य सम्बन्धवाचक सर्वनाम का उदाहरण नहीं है?

- Ans 1. जो व्यक्ति आपत्ति में विचलित नहीं होता, वह अवश्य अपनी मंजिल पाता है।
 2. यह अच्छा विचार है।
 3. जो दूसरों के लिए गड्ढा खोदता है, वह स्वयं उसमें गिरता है।
 4. जिसे चोट लगती है, वही पीर समझता है।

Question ID : 26433091241

Status : Answered

Chosen Option : 4

Q.2 "यह घटना अद्भुत है।"
उक्त वाक्य में प्रयुक्त 'अद्भुत' के स्थान पर उसके समानार्थी शब्द का प्रयोग निम्न में से किस वाक्य में नहीं किया गया है?

- Ans
- 1. यह घटना आश्चर्यजनक है।
 - 2. यह घटना विलक्षण है।
 - 3. यह घटना भयानक है।
 - 4. यह घटना अपूर्व है।

Question ID : 26433085149
Status : Answered
Chosen Option : 1

Q.3 निम्नलिखित वाक्य में से अशुद्धि पहचानें।
आपकी घड़ी में कै बजे है?

- Ans
- 1. बजे
 - 2. घड़ी
 - 3. कै
 - 4. आपकी

Question ID : 26433080930
Status : Answered
Chosen Option : 3

Q.4 निम्नलिखित मुहावरे के उचित अर्थ का चयन कीजिए-
चेहरे पर हवाईयाँ उड़ना

- Ans
- 1. उड़ान भरना
 - 2. अचानक गिरना
 - 3. घबराना
 - 4. चुप रहना

Question ID : 26433065883
Status : Answered
Chosen Option : 3

Q.5 निम्न में से कौन-सा शब्द 'कमल' शब्द का पर्यायवाची है?

- Ans
- 1. नीरद
 - 2. कंचन
 - 3. जलद
 - 4. राजीव

Question ID : 26433067075
Status : Answered
Chosen Option : 4

Q.6 'मुझे आप पुराने पते पर पत्र दीजिएगा।' इस वाक्य में 'दीजिएगा' के स्थान पर उपयुक्त शब्द क्या होगा?

- Ans 1. भेजिएगा
 2. लीजिएगा
 3. सोचिएगा
 4. आइएगा

Question ID : 26433066800
Status : Answered
Chosen Option : 1

Q.7 ऊपर की ओर जाने वाला।
उपरोक्त वाक्यांश के लिए एक शब्द होगा-

- Ans 1. उपही
 2. उरक्षत
 3. ऊर्ध्वगामी
 4. अस्ताचल

Question ID : 26433070062
Status : Answered
Chosen Option : 3

Q.8 निम्नलिखित में से किस विकल्प में सर्वनाम शब्द त्रुटिपूर्ण है?

- Ans 1. तुम तो बहुत व्यस्त हो।
 2. उसने अपने माली को काम से निकाल दिया।
 3. हमारे से अब यह सब नहीं होता।
 4. आप लोग बहुत बड़े आदमी हैं।

Question ID : 26433063003
Status : Answered
Chosen Option : 3

Q.9 'जिसमें शक्ति न हो' वाक्यांश के लिए इनमें से उपयुक्त शब्द कौन-सा है?

- Ans 1. अशक्त
 2. शक्त
 3. अशक्य
 4. अशोक

Question ID : 26433066890
Status : Answered
Chosen Option : 1

Q.10 'जो स्त्री प्रिय बोलती है', वाक्यांश के लिए एक शब्द _____ है।

- Ans
- 1. कर्णप्रिय
 - 2. प्रेयसी
 - 3. प्रियंवदा
 - 4. कोमलांगी

Question ID : 26433062942
Status : Answered
Chosen Option : 3

Q.11 'राई का _____ बनाना।'
उपरोक्त मुहावरे में रिक्त स्थान की पूर्ति उचित शब्द द्वारा कीजिए।

- Ans
- 1. घर
 - 2. दीवार
 - 3. पहाड़
 - 4. किला

Question ID : 26433069687
Status : Answered
Chosen Option : 3

Q.12 निम्नलिखित में से शुद्ध वाक्य कौन-सा है?

- Ans
- 1. राघव अपने मामे के साथ घूमने गया है।
 - 2. रमेश आगरे गया था।
 - 3. सीता पटने से आयी है।
 - 4. अल्पेश सवेरे जल्दी उठता है।

Question ID : 26433085139
Status : Answered
Chosen Option : 4

Q.13 नीचे दिए गए वाक्य के अशुद्ध भाग का चयन कीजिए।
अध्यापक ने आपकी अभ्यास पुस्तिका का अवलोकन करके देख लिया है।

- Ans
- 1. अध्यापक ने आपकी
 - 2. अभ्यास पुस्तिका का
 - 3. लिया है।
 - 4. अवलोकन करके देख

Question ID : 26433085084
Status : Answered
Chosen Option : 4

Q.14 राहुल का बेटा नित उन्नति की ओर अग्रसर है।
उपरोक्त वाक्य में रेखांकित शब्द का उपयुक्त विलोम शब्द निम्न में से क्या होगा?

- Ans 1. अवनति
 2. पदोन्नति
 3. अननति
 4. अउन्नति

Question ID : 26433079637
Status : Answered
Chosen Option : 1

Q.15 निम्न में से कौन-सा शब्द 'बिजली' शब्द का पर्यायवाची शब्द नहीं है?

- Ans 1. चंचला
 2. तटिनी
 3. दामिनी
 4. तड़ित

Question ID : 26433067081
Status : Answered
Chosen Option : 2

Comprehension:

दिए गए गद्यांश के अनुसार प्रश्न संख्या 1-5 के उत्तर दीजिए।
पृथ्वी के ऊपर वायुमण्डल के स्ट्रेटोस्फियर में ओज़ोन गैस की एक मोटी परत है। यह धरती के जीवन का रक्षा कवच है जिससे (1) _____ से आने वाली हानिकारक (2) _____ रोक ली जाती हैं। किंतु पृथ्वी के ऊपर ज़हरीली गैसों के बादल बढ़ते जाने के कारण सूर्य की अनावश्यक किरणें बाह्य अंतरिक्ष में वर्तित नहीं हो पातीं जिसके कारण पृथ्वी का (3) _____ (ग्लोबल वार्मिंग) बढ़ता जा रहा है। इससे छोटे-बड़े सभी द्वीपसमूहों एवं महाद्वीपों के (4) _____ क्षेत्रों के डूब जाने का खतरा बढ़ गया है। इसे 'ग्रीन हाउस प्रभाव' कहते हैं। यही स्थिति रही तो मुंबई जैसे महानगर प्रलय की गोद में समा सकते हैं। पृथ्वी पर बढ़ते तापमान के कारण विश्व (5) _____ को अमृत एवं पोषक जल प्रदान करने वाले ग्लेशियर या तो लुप्त हो गए हैं या लुप्त होने की ओर बढ़ते जा रहे हैं।

SubQuestion No : 16

Q.16 दिए गए शब्दों में से उचित शब्द चुनकर रिक्त स्थान (1) की पूर्ति कीजिए।

- Ans 1. चंद्रमा
 2. तारामण्डल
 3. सूर्य
 4. शनि ग्रह

Question ID : 26433094109
Status : Answered
Chosen Option : 3

Comprehension:

दिए गए गद्यांश के अनुसार प्रश्न संख्या 1-5 के उत्तर दीजिए।
पृथ्वी के ऊपर वायुमण्डल के स्ट्रेटोस्फियर में ओज़ोन गैस की एक मोटी परत है। यह धरती के जीवन का रक्षा कवच है जिससे (1) _____ से आने वाली हानिकारक (2) _____ रोक ली जाती हैं। किंतु पृथ्वी के ऊपर ज़हरीली गैसों के बादल बढ़ते जाने के कारण सूर्य की अनावश्यक किरणें बाह्य अंतरिक्ष में वर्तित नहीं हो पातीं जिसके कारण पृथ्वी का (3) _____ (ग्लोबल वार्मिंग) बढ़ता जा रहा है। इससे छोटे-बड़े सभी द्वीपसमूहों एवं महाद्वीपों के (4) _____ क्षेत्रों के डूब जाने का खतरा बढ़ गया है। इसे 'ग्रीन हाउस प्रभाव' कहते हैं। यही स्थिति रही तो मुंबई जैसे महानगर प्रलय की गोद में समा सकते हैं। पृथ्वी पर बढ़ते तापमान के कारण विश्व (5) _____ को अमृत एवं पोषक जल प्रदान करने वाले ग्लेशियर या तो लुप्त हो गए हैं या लुप्त होने की ओर बढ़ते जा रहे हैं।

SubQuestion No : 17

Q.17 दिए गए शब्दों में से उचित शब्द चुनकर रिक्त स्थान (2) की पूर्ति कीजिए।

- Ans 1. हवाएँ
 2. रौशनी
 3. तरंगें
 4. किरणें

Question ID : 26433094110

Status : Answered

Chosen Option : 4

Comprehension:

दिए गए गद्यांश के अनुसार प्रश्न संख्या 1-5 के उत्तर दीजिए।
पृथ्वी के ऊपर वायुमण्डल के स्ट्रेटोस्फियर में ओज़ोन गैस की एक मोटी परत है। यह धरती के जीवन का रक्षा कवच है जिससे (1) _____ से आने वाली हानिकारक (2) _____ रोक ली जाती हैं। किंतु पृथ्वी के ऊपर ज़हरीली गैसों के बादल बढ़ते जाने के कारण सूर्य की अनावश्यक किरणें बाह्य अंतरिक्ष में वर्तित नहीं हो पातीं जिसके कारण पृथ्वी का (3) _____ (ग्लोबल वार्मिंग) बढ़ता जा रहा है। इससे छोटे-बड़े सभी द्वीपसमूहों एवं महाद्वीपों के (4) _____ क्षेत्रों के डूब जाने का खतरा बढ़ गया है। इसे 'ग्रीन हाउस प्रभाव' कहते हैं। यही स्थिति रही तो मुंबई जैसे महानगर प्रलय की गोद में समा सकते हैं। पृथ्वी पर बढ़ते तापमान के कारण विश्व (5) _____ को अमृत एवं पोषक जल प्रदान करने वाले ग्लेशियर या तो लुप्त हो गए हैं या लुप्त होने की ओर बढ़ते जा रहे हैं।

SubQuestion No : 18

Q.18 दिए गए शब्दों में से उचित शब्द चुनकर रिक्त स्थान (3) की पूर्ति कीजिए।

- Ans 1. तापमान
 2. बोझ
 3. प्रदूषण
 4. क्षेत्रफल

Question ID : 26433094111

Status : Answered

Chosen Option : 1

Comprehension:

दिए गए गद्यांश के अनुसार प्रश्न संख्या 1-5 के उत्तर दीजिए।
पृथ्वी के ऊपर वायुमण्डल के स्ट्रेटोस्फियर में ओज़ोन गैस की एक मोटी परत है। यह धरती के जीवन का रक्षा कवच है जिससे (1) _____ से आने वाली हानिकारक (2) _____ रोक ली जाती हैं। किंतु पृथ्वी के ऊपर ज़हरीली गैसों के बादल बढ़ते जाने के कारण सूर्य की अनावश्यक किरणें बाह्य अंतरिक्ष में वर्तित नहीं हो पातीं जिसके कारण पृथ्वी का (3) _____ (ग्लोबल वार्मिंग) बढ़ता जा रहा है। इससे छोटे-बड़े सभी द्वीपसमूहों एवं महाद्वीपों के (4) _____ क्षेत्रों के डूब जाने का खतरा बढ़ गया है। इसे 'ग्रीन हाउस प्रभाव' कहते हैं। यही स्थिति रही तो मुंबई जैसे महानगर प्रलय की गोद में समा सकते हैं। पृथ्वी पर बढ़ते तापमान के कारण विश्व (5) _____ को अमृत एवं पोषक जल प्रदान करने वाले ग्लेशियर या तो लुप्त हो गए हैं या लुप्त होने की ओर बढ़ते जा रहे हैं।

SubQuestion No : 19

Q.19 दिए गए शब्दों में से उचित शब्द चुनकर रिक्त स्थान (4) की पूर्ति कीजिए।

- Ans 1. पहाड़ी
 2. तटीय
 3. मैदानी
 4. रेगिस्तानी

Question ID : 26433094112

Status : Answered

Chosen Option : 2

Comprehension:

दिए गए गद्यांश के अनुसार प्रश्न संख्या 1-5 के उत्तर दीजिए।
पृथ्वी के ऊपर वायुमण्डल के स्ट्रेटोस्फियर में ओज़ोन गैस की एक मोटी परत है। यह धरती के जीवन का रक्षा कवच है जिससे (1) _____ से आने वाली हानिकारक (2) _____ रोक ली जाती हैं। किंतु पृथ्वी के ऊपर ज़हरीली गैसों के बादल बढ़ते जाने के कारण सूर्य की अनावश्यक किरणें बाह्य अंतरिक्ष में वर्तित नहीं हो पातीं जिसके कारण पृथ्वी का (3) _____ (ग्लोबल वार्मिंग) बढ़ता जा रहा है। इससे छोटे-बड़े सभी द्वीपसमूहों एवं महाद्वीपों के (4) _____ क्षेत्रों के डूब जाने का खतरा बढ़ गया है। इसे 'ग्रीन हाउस प्रभाव' कहते हैं। यही स्थिति रही तो मुंबई जैसे महानगर प्रलय की गोद में समा सकते हैं। पृथ्वी पर बढ़ते तापमान के कारण विश्व (5) _____ को अमृत एवं पोषक जल प्रदान करने वाले ग्लेशियर या तो लुप्त हो गए हैं या लुप्त होने की ओर बढ़ते जा रहे हैं।

SubQuestion No : 20

Q.20 दिए गए शब्दों में से उचित शब्द चुनकर रिक्त स्थान (5) की पूर्ति कीजिए।

- Ans 1. बिरादरी
 2. सभ्यता
 3. परिवेश
 4. संस्कृति

Question ID : 26433094113

Status : Answered

Chosen Option : 2