

Constable GD in CAPFs SSF Rifleman GD in Assam Rifles and Sepoy in NCB Examination 2022

Roll Number	www.govtjobsalert.in
Candidate Name	www.govtjobsalert.in
Venue Name	iON Digital Zone iDZ Arrah
Exam Date	07/02/2023
Exam Time	9:00 AM - 10:00 AM
Subject	Constable GD Examination 2022

Section : Part-A-General Intelligence and Reasoning

Q.1 D \$ E का अर्थ है 'D, E की पुत्री है'
D @ E का अर्थ है 'D, E की माता है'
D + E का अर्थ है 'D, E का पिता है'
D * E का अर्थ है 'D, E का पति है'
यदि P * T \$ X + Z है, तो P, Z से किस प्रकार संबंधित है?

- Ans
- 1. बहन का पति
 - 2. पुत्री
 - 3. पिता का भाई
 - 4. बहन

Question ID : 26433080430

Status : Answered

Chosen Option : 1

Q.2 कौन-सा अक्षर-समूह दी गई श्रृंखला में प्रश्नचिह्न (?) के स्थान पर आकर श्रृंखला को पूर्ण करेगा?
NUZD, LSXB, ?, HOTX, FMRV

- Ans
- 1. JQVA
 - 2. JQVZ
 - 3. JQWZ
 - 4. JRVZ

Question ID : 26433067951

Status : Answered

Chosen Option : 2

Q.3 सात व्यक्ति P, Q, R, S, T, U और V एक सीधी पंक्ति में उत्तर की ओर मुख करके बैठे हैं। P के दाईं ओर केवल चार व्यक्ति बैठे हैं। P और S के बीच केवल दो व्यक्ति बैठे हैं। Q, V के दाईं ओर तीसरे स्थान पर बैठा है। T, V के दाईं ओर दूसरे स्थान पर बैठा है। U, T के बाईं ओर तीसरे स्थान पर बैठा है। पंक्ति के अंतिम दाएं सिरे पर कौन बैठा है?

- Ans
- 1. S
 - 2. P
 - 3. T
 - 4. R

Question ID : 26433068279

Status : Answered

Chosen Option : 4

Q.4 नीचे दिए गए समीकरण में, किन 2 चिहनों को आपस में बदलने की आवश्यकता है ताकि यह संतुलित हो जाए?

$$\frac{1}{4} \div \frac{1}{16} - 5 + 45 \times 25 = 40$$

- Ans 1. × और -
 2. + और ×
 3. + और -
 4. ÷ और ×

Question ID : 26433085656
Status : Answered
Chosen Option : 1

Q.5 निम्नलिखित में से कौन-सा अक्षर-समूह दी गई शृंखला में प्रश्न-चिह्न (?) के स्थान पर आएगा?
AVXE, DSUH, GPRK, ?, MJLQ

- Ans 1. JJPM
 2. KJON
 3. KKON
 4. JMON

Question ID : 26433076444
Status : Answered
Chosen Option : 4

Q.6 किस विकल्प में निम्नलिखित शब्दों का वह क्रम दिया गया है, जिस क्रम में वे अंग्रेजी शब्दकोश में आते हैं?

- 1 domestic
- 2 dozen
- 3 double
- 4 doctor
- 5 down

- Ans 1. 4,1,3,2,5
 2. 4,1,3,5,2
 3. 4,3,1,5,2
 4. 4,3,1,2,5

Question ID : 26433069310
Status : Answered
Chosen Option : 2

Q.7 तीन कथनों के बाद तीन निष्कर्ष I, II और III दिए गए हैं। कथनों को सत्य मानते हुए, भले ही वे सामान्य रूप से ज्ञात तथ्यों से भिन्न प्रतीत होते हों, निर्धारित करें कि कौन-सा/से निष्कर्ष, कथनों का तार्किक रूप से अनुसरण करता है/करते हैं।

कथन:

सभी मास्क सैनिटाइज़र हैं।

सभी हैंडवाश सैनिटाइज़र हैं।

सभी सैनिटाइज़र दवाएँ हैं।

निष्कर्ष:

I. सभी हैंडवाश दवाएँ हैं।

II. सभी दवाएँ मास्क हैं।

III. कुछ दवाएँ हैंडवाश हैं।

- Ans
- 1. केवल निष्कर्ष I और II अनुसरण करते हैं
 - 2. सभी निष्कर्ष अनुसरण करते हैं
 - 3. केवल निष्कर्ष I और III अनुसरण करते हैं
 - 4. केवल निष्कर्ष II और III अनुसरण करते हैं

Question ID : 26433082316

Status : Answered

Chosen Option : 3

Q.8 एक कूट भाषा में 'sweet fruits' को 're de', 'mango is sweet' को 'de me ke', 'orange is citrus' को 'ke le pe', 'eat orange' को 'pe ne' के रूप में कूटबद्ध किया जाता है। शब्द 'mango' के लिए कूट क्या होगा?

- Ans
- 1. me
 - 2. pe
 - 3. ke
 - 4. de

Question ID : 26433082269

Status : Answered

Chosen Option : 1

Q.9 नीचे दिए गए समीकरण को सही बनाने के लिए किन दो चिन्हों को गणितीय रूप से परस्पर बदलना चाहिए?

$$72 \times 3 + 48 \div 6 - 16 = 296$$

- Ans
- 1. + और -
 - 2. ÷ और -
 - 3. × और +
 - 4. × और ÷

Question ID : 264330117540

Status : Answered

Chosen Option : 4

Q.10 दिए गए विकल्पों में से वह संख्या चुनिए, जो निम्नलिखित श्रृंखला में प्रश्न-चिह्न (?) को प्रतिस्थापित कर सके।
8, 10, 17, 19, 35, 37, ?

- Ans 1. 71
 2. 47
 3. 74
 4. 77

Question ID : 26433078918

Status : Not Answered

Chosen Option : --

Q.11 छः मित्र (अमन, बिप्लब, चिरंतन, दिव्या, एलिजाबेथ और फिरोज) एक वृत्ताकार मेज के परितः मेज के केंद्र की ओर मुख करके बैठे हैं। अमन, बिप्लब के बाईं ओर तीसरे स्थान पर बैठा है। चिरंतन, अमन के ठीक बगल में है। एलिजाबेथ, दिव्या के दाईं ओर दूसरे स्थान पर बैठी है। चिरंतन, दिव्या के ठीक बगल में नहीं है। बिप्लब के बाईं ओर ठीक बगल में कौन बैठा है?

- Ans 1. चिरंतन
 2. दिव्या
 3. एलिजाबेथ
 4. फिरोज

Question ID : 26433092771

Status : Answered

Chosen Option : 2

Q.12 उस विकल्प का चयन करें जो तीसरे शब्द से उसी प्रकार संबंधित है, जिस प्रकार दूसरा शब्द पहले शब्द से संबंधित है।
(शब्दों को अर्थपूर्ण शब्दों के रूप में माना जाना चाहिए और शब्द में अक्षरों की संख्या/व्यंजनों की संख्या/स्वरों की संख्या के आधार पर उन्हें एक-दूसरे से संबंधित नहीं किया जाना चाहिए)
मकड़ी : मकड़ी का जाला :: घोड़ा : ?

- Ans 1. कारवान
 2. हवेली
 3. अस्तबल
 4. गुफा

Question ID : 26433082575




Status : Answered

Chosen Option : 3

Q.13 दी गई आकृति के सही दर्पण प्रतिबिम्ब का चयन करें जब दर्पण को MN पर रखा जाए जैसा कि नीचे दर्शाया गया है।



Ans

- ✗ 1. 
- ✓ 2. 
- ✗ 3. 
- ✗ 4. 

Question ID : 26433085550

Status : Answered

Chosen Option : 2

Q.14 दिए गए विकल्पों में से वह संख्या चुनिए, जो निम्नलिखित श्रृंखला में प्रश्न-चिह्न (?) को प्रतिस्थापित कर सके।
14, 12, 27, 25, 53, 51, ?

Ans ✓ 1. 105

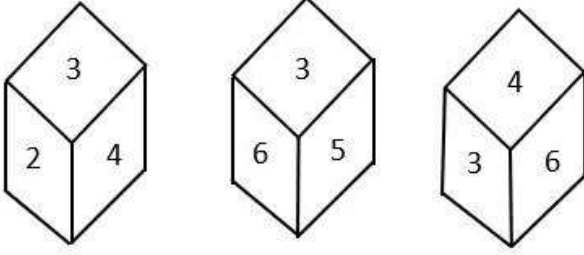
- ✗ 2. 180
- ✗ 3. 150
- ✗ 4. 108

Question ID : 26433078926

Status : Not Answered

Chosen Option : --

Q.15 एक ही पासे की तीन अलग-अलग स्थितियों को दर्शाया गया है। '3' दर्शाने वाले फलक के विपरीत फलक की संख्या ज्ञात कीजिए।



- Ans
- 1. 2
 - 2. 1
 - 3. 4
 - 4. 5

Question ID : 26433090080

Status : Answered

Chosen Option : 2

Q.16 उस विकल्प का चयन करें जो तीसरी संख्या से उसी प्रकार संबंधित है जिस प्रकार दूसरी संख्या पहली संख्या से संबंधित है और छठवीं संख्या पाँचवीं संख्या से संबंधित है।
42 : 91 :: 84 : ? :: 149 : 198

- Ans
- 1. 128
 - 2. 133
 - 3. 142
 - 4. 131

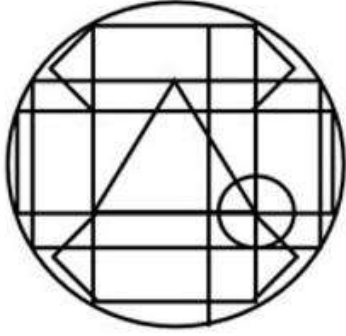
Question ID : 26433069189

Status : Not Answered

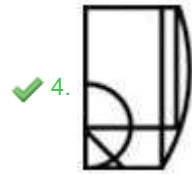
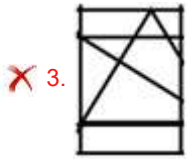
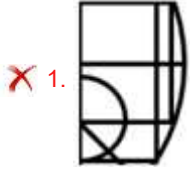
Chosen Option : --

Q.17 उस विकल्प-आकृति का चयन कीजिए, जो प्रस्तुत आकृति में अंतर्निहित है।

(घुमाना अनुमन्य नहीं है)



Ans

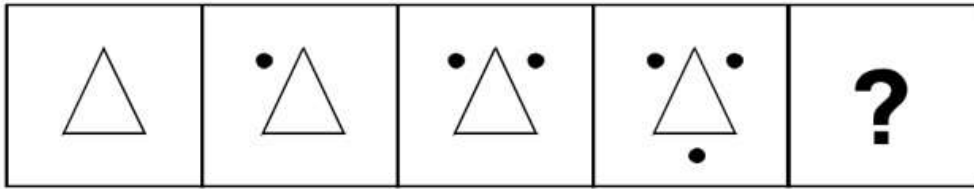


Question ID : 26433076577

Status : Answered

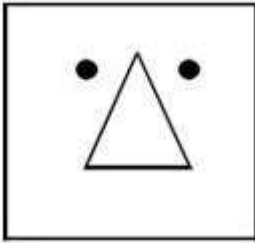
Chosen Option : 1

Q.18 दिए गए विकल्पों में से उस आकृति का चयन करें जो निम्नलिखित श्रृंखला में प्रश्नवाचक चिह्न (?) का स्थान ले सकती है।

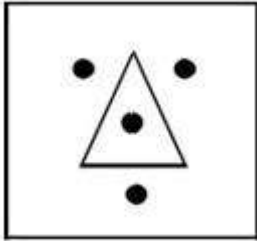


Ans

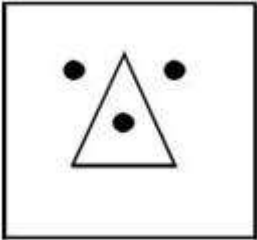
✗ 1.



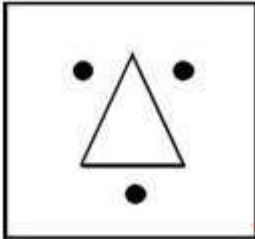
✓ 2.



✗ 3.



✗ 4.



Question ID : 26433080487

Status : Answered

Chosen Option : 2

Q.19 उस विकल्प का चयन करें जो पाँचवें पद से उसी तरह से संबंधित है, जिस तरह से दूसरा पद पहले पद से संबंधित है और चौथा पद तीसरे पद से संबंधित है।

PREPARE : ERAPERP :: COMPARE : ERAPMOC :: DESPAIR : ?

Ans ✗ 1. RIASPED

✗ 2. SPAIRDE

✗ 3. ESPAIRD

✓ 4. RIAPSED

Question ID : 26433067264

Status : Answered

Chosen Option : 4

Q.20 एक निश्चित कूट भाषा में, 'TRIFLED' को 'YQNEQDI' और 'BRIEF' को 'GQNDK' के रूप में लिखा जाता है। उसी कूट भाषा में 'FALTER' को किस प्रकार से लिखा जाएगा?

- Ans
- 1. KZQSJQ
 - 2. KYQTHP
 - 3. KZQSHR
 - 4. KYPSJQ

Question ID : 26433069465
Status : Answered
Chosen Option : 1

Section : Part-B-General Knowledge and General awareness

Q.1 सुल्तान जोहोर कप किस खेल से संबंधित है?

- Ans
- 1. क्रिकेट
 - 2. हॉकी
 - 3. फुटबॉल
 - 4. बास्केटबॉल

Question ID : 264330116280
Status : Not Answered
Chosen Option : --

Q.2 निम्नलिखित में से कौन सी एक कायांतरित चट्टान है?

- Ans
- 1. शैल
 - 2. ग्रेनाइट
 - 3. बलुआ पत्थर
 - 4. कार्टजाइट

Question ID : 26433089663
Status : Answered
Chosen Option : 1

Q.3 निम्नलिखित में से कौन-सा एक मौलिक कर्तव्य है?

- Ans
- 1. अधिवक्ताओं की गरिमा के लिए अपमानजनक प्रथाओं का त्याग करना
 - 2. किसी भी प्रशासनिक अधिकारी की गरिमा के लिए अपमानजनक प्रथाओं का त्याग करना
 - 3. पुरुषों की गरिमा के लिए अपमानजनक प्रथाओं का त्याग करना
 - 4. ऐसी प्रथाओं का त्याग करे जो स्त्रियों के सम्मान के वीरुध हैं

Question ID : 26433089953
Status : Not Answered
Chosen Option : --

Q.4 The _____ of a country is measured by the development of manufacturing industries.

- Ans
- 1. economic strength
 - 2. debt
 - 3. expenditure
 - 4. liability

Question ID : 264330115405
Status : Answered
Chosen Option : 1

Q.5 निम्नलिखित में से कौन सी गतिविधि अर्थव्यवस्था के तृतीयक क्षेत्र से संबंधित है?

- Ans
- 1. कपड़ा बुनना
 - 2. ऑटोमोबाइल निर्माण
 - 3. मत्स्यन
 - 4. भंडारण

Question ID : 264330115574
Status : Answered
Chosen Option : 2

Q.6 निम्नलिखित में से कौन जून 2022 में सूरमा, त्रिपुरा की विधान सभा के सदस्य बने?

- Ans
- 1. स्वप्ना दास पॉल
 - 2. सुदीप रॉय बर्मन
 - 3. राजनाथ सिंह
 - 4. साधन पांडे

Question ID : 264330114941
Status : Answered
Chosen Option : 2

Q.7 अनबुझा चूना कैसे निर्मित होता है?

- Ans
- 1. कैल्शियम ऑक्साइड और जल के दोहरे अपघटन द्वारा
 - 2. कैल्शियम ऑक्साइड और कैल्शियम कार्बोनेट के विस्थापन द्वारा
 - 3. कैल्शियम कार्बोनेट और कैल्शियम हीड्राक्साइड के अपघटन द्वारा
 - 4. तापन पर कैल्शियम कार्बोनेट के कैल्शियम ऑक्साइड और कार्बन डाइऑक्साइड में अपघटन द्वारा

Question ID : 26433087846
Status : Not Answered
Chosen Option : --

Q.8 निम्नलिखित में से किस बिहू को रोंगाली बिहू के नाम से भी जाना जाता है?

- Ans
- 1. माघ बिहू
 - 2. भोगली बिहू
 - 3. बोहाग बिहू
 - 4. कोंगाली बिहू

Question ID : 264330115117

Status : Not Answered

Chosen Option : --

Q.9 लोक नृत्य 'चेराव' मुख्य रूप से किस भारतीय राज्य से संबंधित है?

- Ans
- 1. ओडिशा
 - 2. बिहार
 - 3. मिजोरम
 - 4. गोवा

Question ID : 26433072925

Status : Answered

Chosen Option : 3

Q.10 निवल मूल्य = परिसंपत्तियां - _____

- Ans
- 1. मौजूदा परिसंपत्तियां
 - 2. देयताएं
 - 3. हिस्सेदारी
 - 4. बही ऋण

Question ID : 264330115327

Status : Answered

Chosen Option : 4

Q.11 उत्तर प्रदेश के निम्नलिखित में से किस पूर्व मुख्यमंत्री का अक्टूबर 2022 में निधन हो गया?

- Ans
- 1. विजय कश्यप
 - 2. नारायण दत्त तिवारी
 - 3. मुलायम सिंह यादव
 - 4. कल्याण सिंह

Question ID : 264330115030

Status : Answered

Chosen Option : 3

Q.12 भारत में कौन से दो सामाजिक समूह हैं जो गरीबी के प्रति अत्यन्त संवेदनशील हैं?

- Ans
- 1. सवर्ण और ब्राह्मण
 - 2. अनुसूचित जनजाति और अनुसूचित जाति
 - 3. अनुसूचित जनजाति और अन्य पिछड़ा वर्ग
 - 4. ब्राह्मण और अनुसूचित जाति

Question ID : 264330116066

Status : Answered

Chosen Option : 2

Q.13 हर्षवर्धन ने नर्मदा नदी पार करके दक्कन की ओर बढ़ने की कोशिश की तब चालुक्य नरेश, _____ ने उन्हें रोक दिया।

- Ans
- 1. पुलकेशिन द्वितीय
 - 2. समुद्रगुप्त प्रथम
 - 3. चंद्रगुप्ता
 - 4. समुद्रगुप्त द्वितीय

Question ID : 264330115459

Status : Not Answered

Chosen Option : --

Q.14 2016 में भारत सरकार द्वारा किन करेंसी नोटों का विमुद्रीकरण किया गया था?

- Ans
- 1. ₹500 and ₹100
 - 2. ₹100 and ₹1,000
 - 3. ₹500 and ₹1,000
 - 4. ₹500 and ₹50

Question ID : 26433072953

Status : Answered

Chosen Option : 3

Q.15 _____ भगोड़े आर्थिक अपराधियों को भारतीय अदालतों के अधिकार क्षेत्र से बाहर रहकर भारत में कानून की प्रक्रिया से बचने से रोकने के उपाय प्रदान करता है।

- Ans
- 1. विदेशी आर्थिक अपराधी अधिनियम, 2018
 - 2. आर्थिक अपराधी अधिनियम, 2018
 - 3. भगोड़ा अपराधी अधिनियम, 2015
 - 4. भगोड़ा आर्थिक अपराधी अधिनियम, 2018

Question ID : 264330116212

Status : Not Attempted and Marked For Review

Chosen Option : --

Q.16 दिए गए कथनों में से कौन सा सही है?
I. अम्ल लाल लिटमस को नीला कर देता है।
II. अम्ल स्वाद में कड़वे होते हैं।

- Ans 1. ना तो I ना तो II
 2. केवल I
 3. केवल II
 4. I तथा II दोनों

Question ID : 264330115245
Status : Answered
Chosen Option : 4

Q.17 पहली निर्वाचित संसद निम्नलिखित में से किस वर्ष में अस्तित्व में आई थी?

- Ans 1. 1949
 2. 1955
 3. 1952
 4. 1950

Question ID : 26433086844
Status : Answered
Chosen Option : 4

Q.18 हीरो इंडियन सुपर लीग (ISL) के उद्घाटन मैच का विजेता ATK था, जो _____ में स्थित एक फुटबॉल क्लब है।

- Ans 1. कोलकाता
 2. बेंगलुरु
 3. चेन्नई
 4. मुंबई

Question ID : 26433089928
Status : Answered
Chosen Option : 2

Q.19 गोपिका वर्मा ने _____ के लिए 2018 संगीत नाटक अकादमी पुरस्कार जीता।

- Ans 1. भरतनाट्यम
 2. ओड़िसी
 3. मणिपुरी
 4. मोहिनीअट्टम

Question ID : 264330115866
Status : Not Answered
Chosen Option : --

Q.20 वे 1893 में शिकागो में हुई विश्व धर्म संसद में दिए गए उनके भाषण के लिए लोकप्रिय हैं। यहां 'वे' किसे कहा जा रहा है?

- Ans
- 1. केशव चन्द्र सेन
 - 2. स्वामी दयानंद सरस्वती
 - 3. महात्मा गांधी
 - 4. स्वामी विवेकानंद

Question ID : 264330115717

Status : Answered

Chosen Option : 2

Section : Part-C-Elementary Mathematics

Q.1 एक मकान का वर्तमान मूल्य ₹46,40,000 है। यदि इसके मूल्य में 5% प्रतिवर्ष की दर से अवमूल्यन होता है, तो 3 वर्ष बाद मकान का मूल्य क्या होगा?

- Ans
- 1. ₹39,78,220
 - 2. ₹44,08,000
 - 3. ₹41,87,600
 - 4. ₹40,70,520

Question ID : 26433087384

Status : Answered

Chosen Option : 4

Q.2 एक पेंटिंग की क्रीमत 140000 रुपए से बढ़कर 182000 रुपए हो गई। पेंटिंग की क्रीमत में प्रतिशत वृद्धि है:

- Ans
- 1. 50 प्रतिशत
 - 2. 10 प्रतिशत
 - 3. 30 प्रतिशत
 - 4. 40 प्रतिशत

Question ID : 264330116816

Status : Answered

Chosen Option : 3

Q.3 10%, 5% और $3\frac{1}{2}\%$ की क्रमिक छूटों के बराबर एक एकल छूट _____ होगी।

- Ans
- 1. 14.5%
 - 2. 16.9475%
 - 3. 17.4925%
 - 4. 18.5%

Question ID : 26433080316

Status : Answered

Chosen Option : 3

Q.4 चक्रवृद्धि ब्याज की किस दर से कोई धनराशि 3 वर्षों में वार्षिक रूप से चक्रवृद्धि होते हुए 3.375 गुनी हो जाती है?

- Ans 1. 50%
2. 150%
3. 100%
4. 200%

Question ID : 26433065091

Status : Answered

Chosen Option : 1

Q.5 एक थोक व्यापारी के पास 1000 kg चीनी है, जिसका एक भाग वह 6% लाभ पर और शेष 12% लाभ पर बेचता है। उसका लाभ कुल मिलाकर 10% है। 6% लाभ पर बेची गई मात्रा कितनी है? (दो दशमलव तक विचार करें)

- Ans 1. 666.66 kg
2. 333.33 kg
3. 663.66 kg
4. 336.33 kg

Question ID : 26433076269

Status : Answered

Chosen Option : 2

Q.6 राम और रमेश दो किलोमीटर दौड़ते हैं और राम 40 सेकंड से जीत जाता है। राम और नरेश दो किलोमीटर दौड़ते हैं और राम 650 मीटर से जीत जाता है। जब रमेश और नरेश समान दूरी दौड़ते हैं, तो रमेश 25 सेकंड से जीत जाता है। राम द्वारा दो किलोमीटर दौड़ने में लिया गया समय ज्ञात कीजिए।

- Ans 1. 2 मिनट, 35 सेकंड
2. 3 मिनट, 35 सेकंड
3. 3 मिनट, 15 सेकंड
4. 2 मिनट, 15 सेकंड

Question ID : 26433065003

Status : Not Answered

Chosen Option : --

Q.7 यदि एक ठोस लम्ब वृत्तीय शंकु का आयतन $v \text{ cm}^3$ है और इसकी ऊँचाई $h \text{ cm}$ है, तो शंकु की त्रिज्या _____ है।

- Ans
- 1. $\frac{3v}{\pi h^2} \text{ cm}$
 - 2. $\sqrt{\frac{v}{\pi h}} \text{ cm}$
 - 3. $\frac{v}{\pi h^2} \text{ cm}$
 - 4. $\sqrt{\frac{3v}{\pi h}} \text{ cm}$

Question ID : 26433079973

Status : Answered

Chosen Option : 4

Q.8 ₹936 को P, Q और R में गलती से $\frac{1}{2} : \frac{1}{3} : \frac{1}{4}$ के बजाय 2 : 3 : 4 के अनुपात में विभाजित कर दिया जाता है। वितरण में R का लाभ _____ है।

- Ans
- 1. ₹24
 - 2. ₹200
 - 3. ₹216
 - 4. ₹124

Question ID : 26433073110

Status : Answered

Chosen Option : 2

Q.9 निम्नलिखित को सरल कीजिए।
30% of [{ (820% of 40) - 28 }] % of 600

- Ans
- 1. 200
 - 2. 540
 - 3. 500
 - 4. 250

Question ID : 26433075342

Status : Answered

Chosen Option : 2

Q.10 वह सबसे छोटी धनात्मक संख्या कौन सी है, जिसे 12 और 21 दोनों में से घटाए जाने पर उनका तृतीयानुपात 36 होता है?

- Ans
- 1. 5
 - 2. 4
 - 3. 3
 - 4. 2

Question ID : 26433080118

Status : Answered

Chosen Option : 3

Q.11 एक व्यक्ति 2 km/h, 3 km/h और 4 km/h की चाल से तीन समान दूरियाँ तय करता है और कुल 52 मिनट का समय लेता है। कुल दूरी ज्ञात कीजिए।

- Ans
- 1. 2.5 km
 - 2. 2.7 km
 - 3. 2.8 km
 - 4. 2.4 km

Question ID : 26433076371

Status : Answered

Chosen Option : 4

Q.12 A, B और C क्रमशः $5 \frac{m}{s}$, $3 \frac{m}{s}$ और $8 \frac{m}{s}$ की चाल से दौड़ते हैं। वे एक ही समय पर एक ही बिंदु से दौड़ना शुरू करते हैं। कुछ समय बाद, यह पाया गया कि A और C के बीच की दूरी 6 m है। A और B के बीच की दूरी ज्ञात कीजिए।

- Ans
- 1. 2 m
 - 2. 5 m
 - 3. 4 m
 - 4. 3 m

Question ID : 26433071338

Status : Answered

Chosen Option : 3

Q.13 16 के घन और 48 के वर्ग का महत्तम समापवर्तक ज्ञात करें।

- Ans
- 1. 256
 - 2. 128
 - 3. 512
 - 4. 768

Question ID : 264330116658

Status : Answered

Chosen Option : 1

Q.14 बलवेंद्र सीसीटीवी कैमरे की बिक्री पर पहले 9% और 4% की दो क्रमिक छूट देता है और फिर वह Rs.268 की नकद छूट भी देता है। यदि सीसीटीवी कैमरे का अंकित मूल्य Rs.5,000 है, तो किसी ग्राहक के लिए सीसीटीवी कैमरे का अंतिम मूल्य क्या होगा?

- Ans
- 1. Rs.4,000
 - 2. Rs.4,636
 - 3. Rs.4,368
 - 4. Rs.4,100

Question ID : 26433080319

Status : Answered

Chosen Option : 4

Q.15 एक बेईमान दुकानदार क्रय मूल्य पर चावल बेचता है लेकिन वह 1000 ग्राम की जगह 925 ग्राम के गलत वजन का उपयोग करता है। उसका लाभ प्रतिशत ज्ञात कीजिए।

- Ans 1. 8.11 प्रतिशत
 2. 5.3 प्रतिशत
 3. 6.01 प्रतिशत
 4. 7.0 प्रतिशत

Question ID : 26433074336

Status : Answered

Chosen Option : 1

Q.16 एक ठोस लम्ब वृत्तीय बेलन, जिसके आधार की त्रिज्या 22.5 cm है और जिसकी ऊँचाई 24 cm है, को पिघलाकर एक लंब वृत्तीय शंकु के आकार में ढाला जाता है जिसके आधार की त्रिज्या 36 cm है। इस शंकु की ऊँचाई कितनी होगी?

- Ans 1. 28.125 cm
 2. 30.25 cm
 3. 26.225 cm
 4. 29.105 cm

Question ID : 26433075301

Status : Answered

Chosen Option : 1

Q.17 24 पुरुष एक काम को 9 दिनों में पूरा करते हैं। उनके काम शुरू करने के 3 दिन बाद, 8 और पुरुष उनके साथ जुड़ गए। उन सभी को शेष कार्य को पूरा करने में कितने दिन लगेंगे?

- Ans 1. 5.5
 2. 9
 3. 4.5
 4. 4

Question ID : 26433076211

Status : Answered

Chosen Option : 3

Q.18 यदि चाय के मूल्य में 20% की वृद्धि की जाती है, तो चाय की खपत में कितने प्रतिशत की कमी की जानी चाहिए, ताकि चाय पर खर्च में वृद्धि न हो?

- Ans 1. $16\frac{2}{3}\%$
 2. $33\frac{1}{3}\%$
 3. 20%
 4. 25%

Question ID : 26433075138

Status : Answered

Chosen Option : 1

Q.19 एक वस्तु 2.6 मिनट में 15 m और अगले 26 km को 30 km /h की चाल से चलती है। इस पूरी क्रिया के लिए इसकी औसत चाल (m/sec में) ज्ञात कीजिए।

- Ans
- 1. 8.59
 - 2. 2.92
 - 3. 7.94
 - 4. 3.76

Question ID : 26433080002

Status : Not Answered

Chosen Option : --

Q.20 अमन एक कार्य को 78 दिनों में कर सकता है। राम यह कार्य 39 दिनों में कर सकता है। अमन ने अकेले काम शुरू किया। कितने दिनों के बाद राम को उसके साथ जुड़ना चाहिए, ताकि काम 39 दिनों में समाप्त हो जाए?

- Ans
- 1. 39/2 दिन
 - 2. 17/2 दिन
 - 3. 77/2 दिन
 - 4. 27/2 दिन

Question ID : 264330116896

Status : Not Answered

Chosen Option : --

Section : Part-D-English

Q.1 Select the most appropriate option to fill in the blanks in the given sentence.

Shelley is good at _____ and also has a new _____ of the Oxford dictionary launched last month.

- Ans
- 1. addition; edition
 - 2. edition; addition
 - 3. edition; edition
 - 4. addition; addition

Question ID : 26433084774

Status : Answered

Chosen Option : 1

Q.2 Select the most appropriate meaning of the given idiom.

Has bigger fish to fry

- Ans
- 1. Has easier plans to solve the issue
 - 2. Has better choice of food
 - 3. Has greater plans to discuss
 - 4. Has more important work to do

Question ID : 26433073494

Status : Answered

Chosen Option : 4

Q.3 Select the most appropriate synonym of the given word.
Swindle

- Ans**
- 1. Threat
 - 2. Observation
 - 3. Fraud
 - 4. Ride

Question ID : 26433086487
Status : Not Answered
Chosen Option : --

Q.4 Identify the spelling error in the given sentence and select the option that rectifies the error.

He dared to compete against the experienced boxer.

- Ans**
- 1. deired
 - 2. experianced
 - 3. compete
 - 4. ageinst

Question ID : 26433060320
Status : Answered
Chosen Option : 3

Q.5 Select the most appropriate ANTONYM of the given word.
Escalate

- Ans**
- 1. Diminish
 - 2. Enlarge
 - 3. Corrupt
 - 4. Intensify

Question ID : 26433084751
Status : Answered
Chosen Option : 1

Q.6 Select the most appropriate meaning of the given idiom.

A cakewalk

- Ans**
- 1. An easy task or victory
 - 2. An unexpected twist
 - 3. A precious memory to cherish
 - 4. A stylish walk

Question ID : 26433073484
Status : Answered
Chosen Option : 1

Q.7 Select the most appropriate synonym of the word given in the bracket to fill in the blank.

Rohan _____ (insufficient) the compassion required to be a doctor.

- Ans
- 1. voided
 - 2. oversized
 - 3. lacked
 - 4. was deprived

Question ID : 26433084620
Status : Answered
Chosen Option : 3

Q.8 Select the correct word for the blanks in the given sentence.

I need a blue _____ for writing and my brother runs a _____ for dogs.

- Ans
- 1. herd
 - 2. shelter
 - 3. pen
 - 4. nib

Question ID : 26433060531
Status : Answered
Chosen Option : 3

Q.9 Select the most appropriate ANTONYM of the given word.

Follow

- Ans
- 1. Supplant
 - 2. Displace
 - 3. Predate
 - 4. Ensnare

Question ID : 26433084599
Status : Answered
Chosen Option : 4

Q.10 Select the most appropriate option to fill in the blank.

When the separatist tendencies become very active, the unity of any nation can be in _____.

- Ans
- 1. docile
 - 2. solitaire
 - 3. negotiation
 - 4. peril

Question ID : 26433092407
Status : Not Answered
Chosen Option : --

Q.11 Select the most appropriate option that can substitute the underlined segment in the given sentence.

The library is the right place to write an article from a journal.

- Ans
- 1. to fill an article
 - 2. to correct an article
 - 3. to find the article
 - 4. to read an article

Question ID : 26433088986
Status : Answered
Chosen Option : 4

Q.12 Select the most appropriate synonym of the given word.

Calamity

- Ans
- 1. Windfall
 - 2. Prosperity
 - 3. Disaster
 - 4. Fortune

Question ID : 26433074044
Status : Answered
Chosen Option : 3

Q.13 Select the correct spelling of the underlined word in the following sentence.

You can eat anything you like accept the rice pudding.

- Ans
- 1. accede
 - 2. assess
 - 3. except
 - 4. axcept

Question ID : 26433072369
Status : Answered
Chosen Option : 3

Q.14 Select the most appropriate option that can substitute the underlined segment in the given sentence.

The treaty was signed by both the parties to retain the status-quo.

- Ans
- 1. current situation
 - 2. unnatural behaviour
 - 3. class of societies
 - 4. previous condition

Question ID : 26433099875
Status : Not Answered
Chosen Option : --

Q.15 Parts of the following sentence have been given as options. One of them may contain an error. Select the part that contains the error from the given options. If you don't find any error, mark 'No error' as your answer.

Last night I played my guitar loudly and the neighbours complain.

- Ans
- 1. No error
 - 2. Last night I played
 - 3. my guitar loudly
 - 4. and the neighbours complain

Question ID : 26433090486

Status : Answered

Chosen Option : 4

Comprehension:

In the following passage, some words have been deleted. Read the passage carefully and select the most appropriate option to fill in each blank.

Looking at the stars is a glimpse (1) _____ history. Some of the things we see (2) _____ millions of light-years (3) _____. Everything in the universe (4) _____ a past but stars don't try to hide it. They just (5) _____ shining, for everyone to see.

SubQuestion No : 16

Q.16 Select the most appropriate option to fill in blank number 1.

- Ans
- 1. besides
 - 2. up
 - 3. among
 - 4. of

Question ID : 26433089313

Status : Answered

Chosen Option : 4

Comprehension:

In the following passage, some words have been deleted. Read the passage carefully and select the most appropriate option to fill in each blank.

Looking at the stars is a glimpse (1) _____ history. Some of the things we see (2) _____ millions of light-years (3) _____. Everything in the universe (4) _____ a past but stars don't try to hide it. They just (5) _____ shining, for everyone to see.

SubQuestion No : 17

Q.17 Select the most appropriate option to fill in blank number 2.

- Ans
- 1. flush
 - 2. are
 - 3. grow
 - 4. separate

Question ID : 26433089314

Status : Answered

Chosen Option : 3

Comprehension:

In the following passage, some words have been deleted. Read the passage carefully and select the most appropriate option to fill in each blank.

Looking at the stars is a glimpse (1) _____ history. Some of the things we see (2) _____ millions of light-years (3) _____. Everything in the universe (4) _____ a past but stars don't try to hide it. They just (5) _____ shining, for everyone to see.

SubQuestion No : 18

Q.18 Select the most appropriate option to fill in blank number 3.

Ans 1. between

2. away

3. close

4. now

Question ID : 26433089315

Status : Answered

Chosen Option : 2

Comprehension:

In the following passage, some words have been deleted. Read the passage carefully and select the most appropriate option to fill in each blank.

Looking at the stars is a glimpse (1) _____ history. Some of the things we see (2) _____ millions of light-years (3) _____. Everything in the universe (4) _____ a past but stars don't try to hide it. They just (5) _____ shining, for everyone to see.

SubQuestion No : 19

Q.19 Select the most appropriate option to fill in blank number 4.

Ans 1. can

2. has

3. should

4. have

Question ID : 26433089316

Status : Answered

Chosen Option : 2

Comprehension:

In the following passage, some words have been deleted. Read the passage carefully and select the most appropriate option to fill in each blank.

Looking at the stars is a glimpse (1) _____ history. Some of the things we see (2) _____ millions of light-years (3) _____. Everything in the universe (4) _____ a past but stars don't try to hide it. They just (5) _____ shining, for everyone to see.

SubQuestion No : 20

Q.20 Select the most appropriate option to fill in blank number 5.

- Ans
- 1. part
 - 2. blight
 - 3. keep
 - 4. force

Question ID : 26433089317

Status : Answered

Chosen Option : 3

Section : Part-D-Hindi

Q.1 'खाक में मिलाना' मुहावरे का सही अर्थ क्या है?

- Ans
- 1. मिट्टी में मिलाना
 - 2. नष्ट करना
 - 3. जला देना
 - 4. प्रमाण नष्ट कर देना

Question ID : 26433065916

Status : Not Answered

Chosen Option : --

Q.2 'अमृत' का पर्याय निम्न में से क्या है?

- Ans
- 1. पीयूष
 - 2. अभ्र
 - 3. हय
 - 4. तोय

Question ID : 26433062914

Status : Not Answered

Chosen Option : --

Q.3 निम्नलिखित विकल्पों में से 'जो किसी व्यक्ति या संस्था का प्रतिनिधित्व करता हो' वाक्यांश के लिए एक सार्थक शब्द क्या होगा?

- Ans
- 1. प्रतिनिधि
 - 2. कर्तव्यपरायण
 - 3. उत्तरदायी
 - 4. निष्ठावान

Question ID : 26433062538

Status : Not Answered

Chosen Option : --

Q.4 'हमें गरीब लोगों की मदद करनी चाहिए।' ऊपर दिए वाक्य में रेखांकित स्थान पर आने वाले शब्द का पर्यायवाची क्या होगा?

- Ans
- 1. सहायता
 - 2. परोपकार
 - 3. अवहेलना
 - 4. दया

Question ID : 26433085104
Status : Not Answered
Chosen Option : --

Q.5 निम्न वाक्य में रेखांकित शब्द के विलोम शब्द से रिक्त स्थान की पूर्ति कीजिए।
'कुरूप' होना केवल बाहरी गुण है जबकि _____ होना आंतरिक।

- Ans
- 1. मलिन
 - 2. धनवान
 - 3. धैर्य
 - 4. सुंदर

Question ID : 26433085073
Status : Not Answered
Chosen Option : --

Q.6 निम्नलिखित विकल्पों में से किस एक वाक्य में संख्यावाचक विशेषण का उचित प्रयोग नहीं किया गया है?

- Ans
- 1. मैं शौभाग्यशाली हूँ, जिसका ऐसा मित्र है।
 - 2. गिलास में आधा पानी बचा है।
 - 3. कार में तीन लोग थे।
 - 4. ट्रेन में पचास आदमी थे।

Question ID : 26433062970
Status : Not Answered
Chosen Option : --

Q.7 'खगोल' शब्द का विलोम क्या होगा?

- Ans
- 1. पाताल
 - 2. पृथ्वी
 - 3. भूगोल
 - 4. पहाड़

Question ID : 26433067095
Status : Not Answered
Chosen Option : --

Q.8 निम्न विकल्पों में से शुद्ध वाक्य का चयन कीजिए।

- Ans
- 1. मैंने आज भात नहीं खाया हूँ।
 - 2. विश्वेश्वर ने दो मकान खरीदे।
 - 3. पत्नी ने एक पत्र लिखी।
 - 4. वह बैठे और एक कहानी सुनाया।

Question ID : 26433063076

Status : Not Answered

Chosen Option : --

Q.9 निम्न वाक्य में रेखांकित शब्द को विकल्पों में दिए गए शब्दों में से सर्वाधिक उपयुक्त शब्द से बदलें।
समालोचक साहित्य का अन्वेषण करते हैं।

- Ans
- 1. अध्ययन
 - 2. अनुसंधान
 - 3. विरेचन
 - 4. अनुशीलन

Question ID : 26433062877

Status : Not Answered

Chosen Option : --

Q.10 निम्नलिखित वाक्य में रेखांकित खंड के स्थान पर प्रयुक्त होने वाले सबसे उपयुक्त विकल्प का चयन कीजिए।

मुख्य अतिथि ने छात्रों से पुरस्कार प्रदान किए।

- Ans
- 1. के साथ
 - 2. का
 - 3. को
 - 4. में

Question ID : 26433079664

Status : Not Answered

Chosen Option : --

Q.11 निम्नलिखित में से विशेषण सम्बन्धी अशुद्धि युक्त वाक्य का चयन कीजिए।

- Ans
- 1. यह एक बढ़िया किताब है।
 - 2. तुम बहुत धीरे स्वर में बोलते हो।
 - 3. यह एक अच्छा विकल्प है।
 - 4. यह पीले फूलों की माला है।

Question ID : 26433062998

Status : Not Answered

Chosen Option : --

Q.12 'नयनों को सुंदर लगने वाला' वाक्यांश के लिए उचित शब्द क्या होगा?

- Ans
- 1. मनोहर
 - 2. नयनाभिराम
 - 3. अनुपम
 - 4. अतुलनीय

Question ID : 26433067069
Status : Not Answered
Chosen Option : --

Q.13 'मन वृन्दावन होना' मुहावरे का सही अर्थ है -

- Ans
- 1. अत्यधिक प्रसन्न होना
 - 2. प्रेम हो जाना
 - 3. भक्ति भाव होना
 - 4. घूमने जाना

Question ID : 26433065932
Status : Not Answered
Chosen Option : --

Q.14 निम्नलिखित वाक्य के किस शब्द में अशुद्धि है?
राम और श्याम विद्यालय जा रहे हैं।

- Ans
- 1. श्याम
 - 2. राम
 - 3. रहे
 - 4. विद्यालय

Question ID : 26433066764
Status : Not Answered
Chosen Option : --

Q.15 निम्नलिखित वाक्यांश के लिए उपयुक्त सार्थक शब्द क्या होगा?
सूर्य के डूबने का समय

- Ans
- 1. अस्ताचल
 - 2. क्षितिज
 - 3. सूर्यास्त
 - 4. उदयाचल

Question ID : 26433073310
Status : Not Answered
Chosen Option : --

Comprehension:

प्रश्न संख्या 1 से 5 तक के उत्तर दिए गए गद्यांश के आधार पर दीजिए।
मिठाइयों के बाद कुछ दुकानें लोहे की चीज़ों की हैं, कुछ गिलट और कुछ नकली गहनों की। लड़कों के लिए यहाँ कोई 1. _____ न था। वे सब आगे बढ़ जाते हैं। हामिद लोहे की दुकान पर रुक जाता है। कई चिमटे रखे हुए थे। उसे ख्याल आया, दादी के पास चिमटा नहीं है। तब से 2. _____ उतारती हैं तो हाथ जल जाता है। अगर वह चिमटा ले जाकर दादी को दे दे, तो वह कितनी 3. _____ होंगी ! फिर उनकी उँगलियाँ कभी न जलेंगी। घर में काम की चीज़ हो जाएगी। खिलौनों से क्या फायदा ? व्यर्थ में पैसे खराब होते हैं। ज़रा देर ही तो 4. _____ होती है। फिर तो खिलौने को कोई आँख उठाकर नहीं देखता। ये तो घर पहुँचते-पहुँचते टूट-फूट कर बराबर हो जाएँगे। 5. _____ कितने काम की चीज़ है! रोटियाँ तब से उतार लो, चूल्हे में सेंक लो।

SubQuestion No : 16

Q.16 विकल्पों में से उपयुक्त शब्द के चयन द्वारा रिक्त स्थान 1 की पूर्ति कीजिए।

- Ans 1. आवश्यक
 2. आकर्षण
 3. विशेषता
 4. आसरा

Question ID : 26433069919

Status : Not Answered

Chosen Option : --

Comprehension:

प्रश्न संख्या 1 से 5 तक के उत्तर दिए गए गद्यांश के आधार पर दीजिए।
मिठाइयों के बाद कुछ दुकानें लोहे की चीज़ों की हैं, कुछ गिलट और कुछ नकली गहनों की। लड़कों के लिए यहाँ कोई 1. _____ न था। वे सब आगे बढ़ जाते हैं। हामिद लोहे की दुकान पर रुक जाता है। कई चिमटे रखे हुए थे। उसे ख्याल आया, दादी के पास चिमटा नहीं है। तब से 2. _____ उतारती हैं तो हाथ जल जाता है। अगर वह चिमटा ले जाकर दादी को दे दे, तो वह कितनी 3. _____ होंगी ! फिर उनकी उँगलियाँ कभी न जलेंगी। घर में काम की चीज़ हो जाएगी। खिलौनों से क्या फायदा ? व्यर्थ में पैसे खराब होते हैं। ज़रा देर ही तो 4. _____ होती है। फिर तो खिलौने को कोई आँख उठाकर नहीं देखता। ये तो घर पहुँचते-पहुँचते टूट-फूट कर बराबर हो जाएँगे। 5. _____ कितने काम की चीज़ है! रोटियाँ तब से उतार लो, चूल्हे में सेंक लो।

SubQuestion No : 17

Q.17 विकल्पों में से उपयुक्त शब्द के चयन द्वारा रिक्त स्थान 2 की पूर्ति कीजिए।

- Ans 1. पूरियाँ
 2. फुलकियाँ
 3. कचौरियाँ
 4. रोटियाँ

Question ID : 26433069920

Status : Not Answered

Chosen Option : --

Comprehension:

प्रश्न संख्या 1 से 5 तक के उत्तर दिए गए गद्यांश के आधार पर दीजिए।
मिठाइयों के बाद कुछ दुकानें लोहे की चीज़ों की हैं, कुछ गिलट और कुछ नकली गहनों की। लड़कों के लिए यहाँ कोई 1. _____ न था। वे सब आगे बढ़ जाते हैं। हामिद लोहे की दुकान पर रुक जाता है। कई चिमटे रखे हुए थे। उसे ख्याल आया, दादी के पास चिमटा नहीं है। तब से 2. _____ उतारती हैं तो हाथ जल जाता है। अगर वह चिमटा ले जाकर दादी को दे दे, तो वह कितनी 3. _____ होंगी ! फिर उनकी उँगलियाँ कभी न जलेंगी। घर में काम की चीज़ हो जाएगी। खिलौनों से क्या फायदा ? व्यर्थ में पैसे खराब होते हैं। ज़रा देर ही तो 4. _____ होती है। फिर तो खिलौने को कोई आँख उठाकर नहीं देखता। ये तो घर पहुँचते-पहुँचते टूट-फूट कर बराबर हो जाएँगे। 5. _____ कितने काम की चीज़ है! रोटियाँ तब से उतार लो, चूल्हे में सेंक लो।

SubQuestion No : 18

Q.18 विकल्पों में से उपयुक्त शब्द के चयन द्वारा रिक्त स्थान 3 की पूर्ति कीजिए।

- Ans 1. दुःखी
 2. सौभाग्यशाली
 3. प्रसन्न
 4. निराश

Question ID : 26433069921

Status : Not Answered

Chosen Option : --

Comprehension:

प्रश्न संख्या 1 से 5 तक के उत्तर दिए गए गद्यांश के आधार पर दीजिए।
मिठाइयों के बाद कुछ दुकानें लोहे की चीज़ों की हैं, कुछ गिलट और कुछ नकली गहनों की। लड़कों के लिए यहाँ कोई 1. _____ न था। वे सब आगे बढ़ जाते हैं। हामिद लोहे की दुकान पर रुक जाता है। कई चिमटे रखे हुए थे। उसे ख्याल आया, दादी के पास चिमटा नहीं है। तब से 2. _____ उतारती हैं तो हाथ जल जाता है। अगर वह चिमटा ले जाकर दादी को दे दे, तो वह कितनी 3. _____ होंगी ! फिर उनकी उँगलियाँ कभी न जलेंगी। घर में काम की चीज़ हो जाएगी। खिलौनों से क्या फायदा ? व्यर्थ में पैसे खराब होते हैं। ज़रा देर ही तो 4. _____ होती है। फिर तो खिलौने को कोई आँख उठाकर नहीं देखता। ये तो घर पहुँचते-पहुँचते टूट-फूट कर बराबर हो जाएँगे। 5. _____ कितने काम की चीज़ है! रोटियाँ तब से उतार लो, चूल्हे में सेंक लो।

SubQuestion No : 19

Q.19 विकल्पों में से उपयुक्त शब्द के चयन द्वारा रिक्त स्थान 4 की पूर्ति कीजिए।

- Ans 1. आशा
 2. खुशी
 3. उत्सुकता
 4. आस

Question ID : 26433069922

Status : Not Answered

Chosen Option : --

Comprehension:

प्रश्न संख्या 1 से 5 तक के उत्तर दिए गए गद्यांश के आधार पर दीजिए।
मिठाइयों के बाद कुछ दुकानों लोहे की चीजों की हैं, कुछ गिलट और कुछ नकली गहनों की। लड़कों के लिए यहाँ कोई 1. _____ न था। वे सब आगे बढ़ जाते हैं। हामिद लोहे की दुकान पर रुक जाता है। कई चिमटे रखे हुए थे। उसे ख्याल आया, दादी के पास चिमटा नहीं है। तब से 2. _____ उतारती हैं तो हाथ जल जाता है। अगर वह चिमटा ले जाकर दादी को दे दे, तो वह कितनी 3. _____ होंगी ! फिर उनकी उँगलियाँ कभी न जलेंगी। घर में काम की चीज़ हो जाएगी। खिलौनों से क्या फायदा ? व्यर्थ में पैसे खराब होते हैं। ज़रा देर ही तो 4. _____ होती है। फिर तो खिलौने को कोई आँख उठाकर नहीं देखता। ये तो घर पहुँचते-पहुँचते टूट-फूट कर बराबर हो जाएँगे। 5. _____ कितने काम की चीज़ है! रोटियाँ तब से उतार लो, चूल्हे में सेंक लो।

SubQuestion No : 20

Q.20 विकल्पों में से उपयुक्त शब्द के चयन द्वारा रिक्त स्थान 5 की पूर्ति कीजिए।

- Ans 1. चिमटा
 2. चिमटी
 3. प्लास
 4. पेचकस

Question ID : 26433069923

Status : Not Answered

Chosen Option : --

WWW.GOVtjobsale.in