

Constable GD in CAPFs SSF Rifleman GD in Assam Rifles and Sepoy in NCB Examination 2022

Roll Number	www.govtjobsalert.in
Candidate Name	www.govtjobsalert.in
Venue Name	iON Digital Zone iDZ 1 Sector 62
Exam Date	09/02/2023
Exam Time	5:15 PM - 6:15 PM
Subject	Constable GD Examination 2022

Section : Part-A-General Intelligence and Reasoning

Q.1 उस विकल्प का चयन कीजिए जो तीसरे शब्द से उसी प्रकार संबंधित है जिस प्रकार दूसरा शब्द पहले शब्द से संबंधित है। (शब्दों को अर्थपूर्ण शब्दों के रूप में मानना है और उन्हें शब्द में अक्षरों/व्यंजनों/स्वरों की संख्या के आधार पर एक-दूसरे से संबंधित नहीं करना है।)
लीची : फल :: जाइव : ?

- Ans 1. नृत्य
 2. कंप्यूटर
 3. घोड़ा
 4. काला


Question ID : 26433079479

Status : Answered

Chosen Option : 1

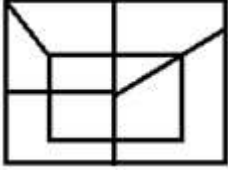
Q.2 निम्नलिखित विकल्पों में से उस आकृति का चयन करें जिसमें नीचे दी गई

आकृति निहित है (आकृति को घुमाने की अनुमति नहीं है)।

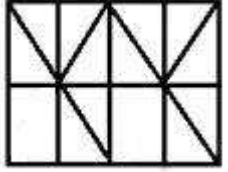


Ans

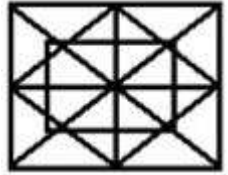
✗ 1.



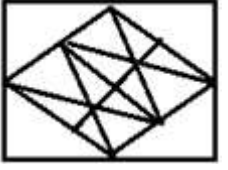
✗ 2.



✓ 3.



✗ 4.



Question ID : 26433069541

Status : Answered

Chosen Option : 3

Q.3 छः छात्र - फर्नाडीस, डिसूजा, मार्क, डमेलो, एंथनी और चार्लीन एक वृत्ताकार मेज के परितः मेज के केंद्र की ओर मुख करके बैठे हैं। फर्नाडीस, डिसूजा के दाईं ओर ठीक बगल में बैठा है। मार्क, फर्नाडीस के बाईं ओर दूसरे स्थान पर बैठा है। एंथनी, डिसूजा के दाईं ओर दूसरे स्थान पर बैठा है। डमेलो, मार्क के बाईं ओर ठीक बगल में बैठा है। चार्लीन, एंथनी के दाईं ओर ठीक बगल में बैठी है। फर्नाडीस और चार्लीन के बीच में कौन बैठा है?

Ans

✗ 1. मार्क

✗ 2. डिसूजा

✗ 3. डमेलो

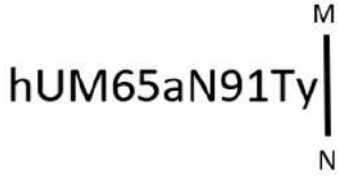
✓ 4. एंथनी

Question ID : 26433081788

Status : Answered

Chosen Option : 4

Q.4 दी गई आकृति के सही दर्पण प्रतिबिम्ब का चयन करें जब दर्पण को MN पर रखा जाए जैसा कि नीचे दर्शाया गया है।



Ans

- 1. yT1eN6z@MUh
- 2. yTe1N6z@MUh
- 3. yT1eN6z@MUh
- 4. yT1eN6z@MUh

Question ID : 26433085541

Status : Answered

Chosen Option : 4

Q.5 एक निश्चित कूट भाषा में 'PASTE' शब्द को 'FUTBQ' लिखा जाता है। 'VIBES' शब्द को 'TFCJW' लिखा जाता है। उसी भाषा में 'START' शब्द को कैसे लिखा जाएगा?

- Ans
- 1. SUTBU
 - 2. USUBT
 - 3. TUBSU
 - 4. USBUT

Question ID : 26433090106

Status : Answered

Chosen Option : 4

Q.6 निम्नलिखित में से कौन-सा पद दी गई शृंखला में प्रश्न-चिह्न (?) के स्थान पर आएगा?
BTLW, YXIA, VBFE, SFCI, ?

- Ans
- 1. PBZI
 - 2. VJCN
 - 3. PJZM
 - 4. VJCM

Question ID : 26433069452

Status : Answered

Chosen Option : 3

Q.7 In a certain code language,
'A + B' means 'A is the brother of B',
'A - B' means 'A is the mother of B',
'A × B' means 'A is the son of B' and
'A ÷ B' means 'A is the sister of B'.
If $C + D - L ÷ P × Q × V$, then which of the following statements is NOT correct?

- Ans
- 1. D is V's son's wife.
 - 2. C is P's father's brother.
 - 3. L is Q's daughter.
 - 4. D is P's mother.

Question ID : 26433070376

Status : Answered

Chosen Option : 2

Q.8 किसी निश्चित कूट भाषा में, 'war door' को, 'plane potato' के रूप में कूटबद्ध किया जाता है, 'cauliflower war' को, 'racecar plane' के रूप में कूटबद्ध किया जाता है, और 'door tower' को, 'potato mountain' के रूप में कूटबद्ध किया जाता है। 'tower' शब्द का कूट क्या है?

- Ans
- 1. plane
 - 2. mountain
 - 3. potato
 - 4. racecar

Question ID : 26433069038

Status : Answered

Chosen Option : 2

Q.9 तीन कथनों के बाद तीन निष्कर्ष I, II और III दिए गए हैं। कथनों को सत्य मानते हुए, भले ही वे सामान्य रूप से ज्ञात तथ्यों से भिन्न प्रतीत होते हों, निर्धारित करें कि कौन-सा/से निष्कर्ष, कथनों का तार्किक रूप से अनुसरण करता है/करते हैं।

कथन:

सभी पेय शोक हैं।

सभी चाय शोक हैं।

सभी शोक कॉफी हैं।

निष्कर्ष:

I. सभी कॉफी चाय हैं।

II. सभी कॉफी पेय हैं।

III. कुछ कॉफी शोक हैं।

- Ans
- 1. केवल निष्कर्ष I और III अनुसरण करते हैं
 - 2. केवल निष्कर्ष II अनुसरण करता है
 - 3. केवल निष्कर्ष III अनुसरण करता है
 - 4. केवल निष्कर्ष I और II अनुसरण करते हैं

Question ID : 26433082308

Status : Answered

Chosen Option : 3

Q.10 उस विकल्प का चयन कीजिए, जो पाँचवें पद से उसी प्रकार संबंधित है, जिस प्रकार दूसरा पद पहले पद से और चौथा पद तीसरे पद से संबंधित है।
HONK : MPRK :: STAR : TCWV :: LONE : ?

- Ans
- 1. MQQH
 - 2. QPRE
 - 3. GPRO
 - 4. GPQO

Question ID : 26433058007
Status : Answered
Chosen Option : 3

Q.11 निम्नलिखित में से कौन सा विकल्प नीचे दिए गए शब्दों के उस क्रम को निरूपित करता है जिस क्रम में वे अंग्रेजी शब्दकोश में आते हैं?

1. Desist
2. Desert
3. Design
4. Deserve
5. Designate

- Ans
- 1. 2, 4, 3, 5, 1
 - 2. 2, 4, 3, 1, 5
 - 3. 3, 4, 2, 1, 5
 - 4. 2, 3, 5, 4, 1

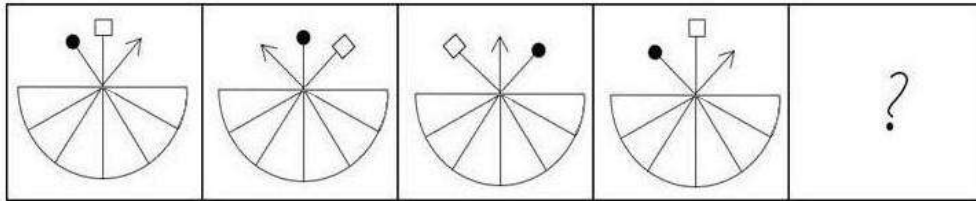
Question ID : 26433086967
Status : Answered
Chosen Option : 1

Q.12 निम्नलिखित में से कौन-सी संख्याएँ दी गई श्रृंखला में प्रश्न चिह्न (?) के स्थान पर आएंगी?
44, 47, 52, 59, 68, ?, ?, 107

- Ans
- 1. 80, 94
 - 2. 79, 92
 - 3. 82, 98
 - 4. 88, 100

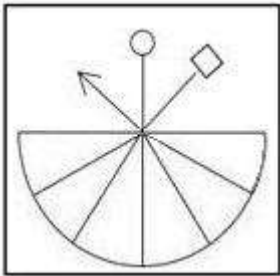
Question ID : 26433070225
Status : Answered
Chosen Option : 2

Q.13 निम्नलिखित आकृति श्रृंखला में प्रश्न-चिह्न (?) के स्थान पर नीचे दिए गए विकल्पों में से कौन-सी आकृति आएगी?

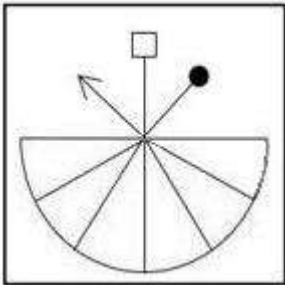


Ans

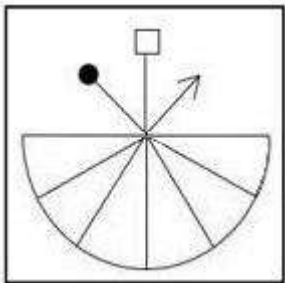
✗ 1.



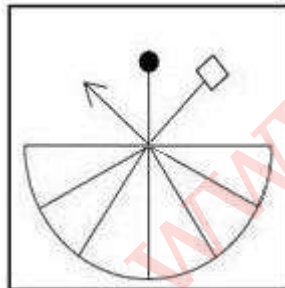
✗ 2.



✗ 3.



✓ 4.

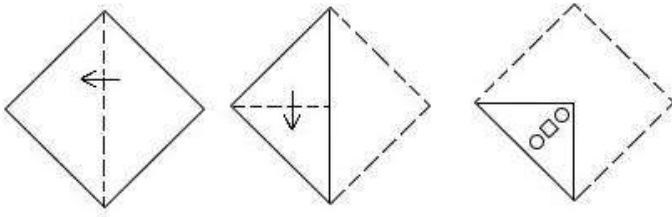


Question ID : 26433081691

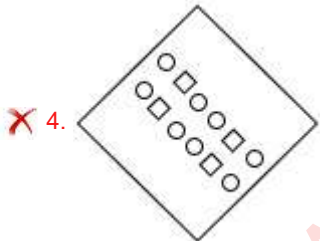
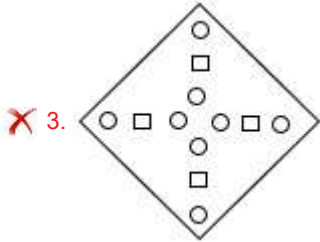
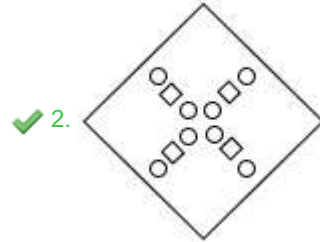
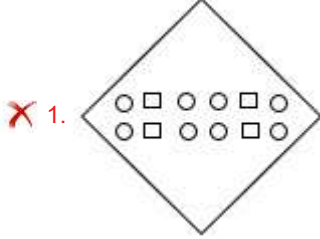
Status : Answered

Chosen Option : 4

Q.14 एक कागज को नीचे दिखाए अनुसार मोड़ा और काटा गया है। कागज की तह खुलने पर यह कैसा दिखाई देगा?



Ans



WWW.GOVtjobsalert.in

Question ID : 26433090953
 Status : Answered
 Chosen Option : 2

Q.15 नीचे दिए गए समीकरण को गणितीय रूप से सही बनाने के लिए किन संख्याओ(अंकों को नहीं) को परस्पर बदलना चाहिए?
 $162 \div 9 \times 16 + 18 - 27 = 126$

- Ans
- ✗ 1. 16 और 9
 - ✓ 2. 9 और 18
 - ✗ 3. 27 और 9
 - ✗ 4. 18 और 27

Question ID : 264330117529
 Status : Answered
 Chosen Option : 2

Q.16 सात व्यक्ति A, B, C, D, E, F और G एक सीधी पंक्ति में उत्तर की ओर मुख करके बैठे हैं। A, D के बाईं ओर तीसरे स्थान पर बैठा है। D अंतिम दाएं सिरे पर बैठा है। A और F के बीच केवल दो व्यक्ति बैठे हैं। B, F के ठीक बगल में है। C और D के बीच केवल एक व्यक्ति बैठा है। G, A के ठीक बगल में नहीं है। अंतिम बाएं सिरे पर कौन बैठा है?

- Ans 1. B
 2. F
 3. G
 4. E

Question ID : 26433056928

Status : Answered

Chosen Option : 2

Q.17 विकल्पों में दिए गए गणितीय चिह्नों का कौन सा संयोजन निम्न समीकरण में * चिह्नों के स्थान पर क्रमिक रूप से आकर समीकरण को संतुलित करेगा?
 $92 * 4 * 5 * 5 * 5 * 7$

- Ans 1. $\times, \div, =, -, +$
 2. $-, +, =, \div, \times$
 3. $\div, =, \times, +, -$
 4. $=, +, -, \times, \div$

Question ID : 26433094992

Status : Answered

Chosen Option : 3

Q.18 निम्नलिखित में से कौन-सा अक्षर-समूह दी गई श्रृंखला में प्रश्न-चिह्न (?) के स्थान पर आएगा?
EINT, DJMU, CKLV, ?, AMJX

- Ans 1. BLKW
 2. ALXW
 3. BMKV
 4. BMKX

Question ID : 26433076433

Status : Answered

Chosen Option : 1

Q.19 निम्नलिखित में से कौन सी संख्या दी गई श्रृंखला में प्रश्न चिह्न (?) के स्थान पर आएगी?
27, 28, 36, 63, ?, 252

- Ans 1. 130
 2. 127
 3. 125
 4. 131

Question ID : 26433085640

Status : Answered

Chosen Option : 2

Q.20 उस विकल्प का चयन करें जो तीसरे पद से उसी प्रकार संबंधित है, जिस प्रकार दूसरा पद पहले पद से और छठा पद पांचवे पद से संबंधित है।
14 : 203 :: 16 : ? :: 18 : 333

- Ans
- 1. 274
 - 2. 224
 - 3. 230
 - 4. 264

Question ID : 26433069091
Status : Answered
Chosen Option : 4

Section : Part-B-General Knowledge and General awareness

Q.1 _____ एक अंतरराष्ट्रीय निकाय है, जो विभिन्न देशों की सरकार को पूंजी उधार देता है।

- Ans
- 1. भारतीय रिजर्व बैंक
 - 2. विश्व बैंक
 - 3. सेंट्रल बैंक ऑफ इंडिया
 - 4. भारतीय स्टेट बैंक

Question ID : 264330115316
Status : Answered
Chosen Option : 2

Q.2 सीमा रेखा के भीतरी किनारे से बास्केटबॉल कोर्ट की भुजाओं का माप _____ होता है।

- Ans
- 1. 28 × 12 m
 - 2. 30 × 45 m
 - 3. 30 × 15 m
 - 4. 28 × 15 m

Question ID : 26433089940
Status : Answered
Chosen Option : 4

Q.3 क्षेत्रफल की दृष्टि से भारत का सबसे छोटा पड़ोसी देश कौन-सा है?

- Ans
- 1. नेपाल
 - 2. मालदीव
 - 3. भूटान
 - 4. श्रीलंका

Question ID : 264330116096
Status : Answered
Chosen Option : 2

Q.4 Charu Sija Mathur is a name that is synonymous with _____ dance.

- Ans
- 1. Chhau
 - 2. Manipuri
 - 3. Odissi
 - 4. Kuchipudi

Question ID : 264330115858
Status : Answered
Chosen Option : 1

Q.5 मेजर ध्यानचंद का जन्म भारत के निम्नलिखित में से किस शहर में हुआ था?

- Ans
- 1. इलाहाबाद
 - 2. अलीगढ़
 - 3. लखनऊ
 - 4. देहरादून

Question ID : 264330116272
Status : Answered
Chosen Option : 1

Q.6 एक ऐसे तत्व की पहचान करें, जो तीसरे आवर्त से संबंधित नहीं है।

- Ans
- 1. ब्रोमीन
 - 2. फास्फोरस
 - 3. सिलिकॉन
 - 4. आर्गन

Question ID : 26433087851
Status : Answered
Chosen Option : 1

Q.7 त्रिपुरा के मुख्यमंत्री माणिक साहा जून 2022 में हुए उपचुनाव में _____ निर्वाचन क्षेत्र से विधान सभा के सदस्य बने।

- Ans
- 1. अगरतला
 - 2. टाऊन बारडोवली
 - 3. बेलोनिया
 - 4. गकुलनगर

Question ID : 264330114970
Status : Answered
Chosen Option : 2

Q.8 2022 से भारत के 34वें विदेश सचिव के रूप में कौन कार्यरत है?

- Ans 1. विनय मोहन क्रात्रा
 2. हर्ष वर्धन श्रृंगला
 3. सुब्रह्मण्यम जयशंकर
 4. विजय केशव गोखले

Question ID : 264330115019

Status : Answered

Chosen Option : 1

Q.9 प्रधानमंत्री मुद्रा योजना (PMMY) भारत के माननीय प्रधानमंत्री द्वारा 8 अप्रैल, 2015 को गैर-कॉर्पोरेट एंटरप्राइज को _____ प्रदान करने के लिए शुरू की गई एक योजना है।

- Ans 1. ऋण
 2. कौशल प्रशिक्षण
 3. मकान
 4. सब्सिडी

Question ID : 264330116204

Status : Answered

Chosen Option : 1

Q.10 गणगौर के पर्व के दौरान निम्नलिखित में से किस हिंदू देवी की पूजा की जाती है?

- Ans 1. पार्वती
 2. काली
 3. लक्ष्मी
 4. सरस्वती

Question ID : 26433094894

Status : Answered

Chosen Option : 1

Q.11 Which of the following is an example of direct tax?

- Ans 1. G.S.T.
 2. Custom duty
 3. Personal income tax
 4. Excise tax

Question ID : 26433054778

Status : Answered

Chosen Option : 3

Q.12 भारतीय संविधान का कौन-सा अनुच्छेद भारतीय नागरिकों के लिए विभिन्न मूल कर्तव्यों को निर्धारित करता है?

- Ans
- 1. अनुच्छेद 44B
 - 2. अनुच्छेद 51A
 - 3. अनुच्छेद 74A
 - 4. अनुच्छेद 88B

Question ID : 26433054520
Status : Answered
Chosen Option : 2

Q.13 विश्व में हरित क्रांति के जनक नॉर्मन बोरलॉग को _____ से सम्मानित किया गया था।

- Ans
- 1. नोबेल शांति पुरस्कार
 - 2. वीरता पुरस्कार
 - 3. भारत रत्न
 - 4. ओलंपिक पदक

Question ID : 264330115432
Status : Answered
Chosen Option : 1

Q.14 निम्नलिखित में से कौन-सा अंतर्जनित बलों का एक उदाहरण है?

- Ans
- 1. समुद्र की लहरें
 - 2. हिमनद
 - 3. पर्वतों का निर्माण
 - 4. पवन

Question ID : 264330115999
Status : Answered
Chosen Option : 3

Q.15 भारतीय संविधान का अनुच्छेद 76 _____ से संबंधित है।

- Ans
- 1. भारत के राज्यपाल
 - 2. ग्रहमंत्री
 - 3. भारत के लिए महान्यायवादी
 - 4. मंत्री परिषद्

Question ID : 264330115660
Status : Answered
Chosen Option : 3

Q.16 1885 में आयोजित कांग्रेस के पहले अधिवेशन के अध्यक्ष कौन थे?

- Ans
- 1. दिनशॉ वाचा
 - 2. एलन ऑक्टैवियन ह्यूम
 - 3. दादाभाई नौरोजी
 - 4. व्योमेश चंद्र बनर्जी

Question ID : 26433099170

Status : Answered

Chosen Option : 4

Q.17 _____ are known as the powerhouses of the cell.

- Ans
- 1. Nucleus
 - 2. Mitochondria
 - 3. Ribosome
 - 4. Lysosomes

Question ID : 264330115237

Status : Answered

Chosen Option : 2

Q.18 Which of the following cities emerged as the second capital of the Kushanas during their empire?

- Ans
- 1. Mathura
 - 2. Pataliputra
 - 3. Kannauj
 - 4. Purushpur

Question ID : 26433089861

Status : Answered

Chosen Option : 3

Q.19 निम्नलिखित में से मिज़ोरम का लोक नृत्य कौन-सा है?

- Ans
- 1. कोली नृत्य
 - 2. धूमल नृत्य
 - 3. छाऊ नृत्य
 - 4. चेराव नृत्य

Question ID : 26433071660

Status : Answered

Chosen Option : 4

Q.20 In order to provide basic healthcare to all, _____ and _____ need to be integrated in our basic health infrastructure.

- Ans
- 1. communication and technology
 - 2. accessibility and affordability
 - 3. education and medicine
 - 4. education and technology

Question ID : 264330115563

Status : Answered

Chosen Option : 1

Section : Part-C-Elementary Mathematics

Q.1 एक व्यक्ति ने एक पुरानी साइकिल ₹1,200 में खरीदी और उसकी मरम्मत पर ₹1,800 खर्च किए। उसने इसे ₹2,400 में बेच दिया। उसका हानि प्रतिशत कितना है?

- Ans
- 1. 30 प्रतिशत
 - 2. 10 प्रतिशत
 - 3. 40 प्रतिशत
 - 4. 20 प्रतिशत

Question ID : 26433080219

Status : Answered

Chosen Option : 4

Q.2 वह छोटी से छोटी संख्या ज्ञात कीजिए, जो 8, 24 और 30 से पूर्णतः विभाज्य हो।

- Ans
- 1. 120
 - 2. 130
 - 3. 150
 - 4. 60

Question ID : 26433090278

Status : Answered

Chosen Option : 1

Q.3 एक परीक्षा में 20% छात्र अंग्रेजी में अनुत्तीर्ण हुए, 60% छात्र गणित में अनुत्तीर्ण हुए और 15% छात्र दोनों विषयों में अनुत्तीर्ण हुए। उन छात्रों का प्रतिशत ज्ञात कीजिए, जो दोनों विषयों में उत्तीर्ण हुए।

- Ans
- 1. 36%
 - 2. 40%
 - 3. 35%
 - 4. 34%

Question ID : 26433080157

Status : Answered

Chosen Option : 3

Q.4 केवल लड़कों और लड़कियों की एक कक्षा में, लड़कियों की संख्या लड़कों की संख्या से आधी है और लड़कियों के औसत अंक लड़कों के औसत अंक के दोगुने हैं। यदि कक्षा के औसत अंक 56 हैं, तो लड़कों के औसत अंक क्या हैं?

Ans 1. 42

2. 44

3. 40

4. 38

Question ID : 26433081703

Status : Answered

Chosen Option : 1

Q.5 यदि एक त्रिभुज ABC में, $AB = AC$ है और $\angle ACD = 95^\circ$ है, जहाँ रेखा BC को बढ़ाने पर D एक बाह्य बिंदु है, तो $\angle BAC$ का माप क्या है?

Ans 1. 15°

2. 10°

3. 65°

4. 55°

Question ID : 26433074241

Status : Answered

Chosen Option : 2

Q.6 यदि नियत तिथि से पहले बिजली बिल का भुगतान किया जाता है, तो बिल की राशि पर 5% की छूट प्राप्त होती है। यदि एक व्यक्ति को Rs.350 की छूट राशि प्राप्त होती है, तो बिजली बिल की राशि क्या होगी?

Ans 1. Rs.8,000

2. Rs.6,500

3. Rs.7,000

4. Rs.6,000

Question ID : 26433061073

Status : Answered

Chosen Option : 3

Q.7 अक्षरा ने एक वस्तु Rs.25,000 में बेची। यदि उसने विक्रय मूल्य पर 15% की छूट की पेशकश की होती, तो उसे 10% का लाभ होता। क्रय मूल्य क्या है?

- Ans
- 1. Rs.25,519.20
 - 2. Rs.20,318.18
 - 3. Rs.18,318.20
 - 4. Rs.19,318.18

Question ID : 26433082714

Status : Answered

Chosen Option : 3

Q.8 A, B और C एक ही समय, एक ही बिंदु से और एक ही दिशा में एक वृत्ताकार मैदान के चारों ओर दौड़ना शुरू करते हैं। A एक चक्कर 240 सेकंड में, B 300 सेकंड में और C 160 सेकंड में पूरा करता है। कितने समय के बाद वे फिर से शुरुआती बिंदु पर मिलेंगे?

- Ans
- 1. 43 मिनट
 - 2. 41 मिनट
 - 3. 42 मिनट
 - 4. 40 मिनट

Question ID : 26433082605

Status : Answered

Chosen Option : 4

Q.9 एक मूलधन 5% वार्षिक चक्रवृद्धि ब्याज की दर से 2 वर्षों में ₹441 हो जाएगा, जब ब्याज की गणना वार्षिक चक्रवृद्धि आधार पर होती है। मूलधन क्या है?

- Ans
- 1. ₹350
 - 2. ₹405
 - 3. ₹400
 - 4. ₹300

Question ID : 26433082927

Status : Answered

Chosen Option : 3

Q.10 यदि एक ठोस अर्धगोले का वक्र पृष्ठीय क्षेत्रफल $2,772 \text{ cm}^2$ है, तो उसका

आयतन ज्ञात कीजिए। (मान लीजिए $\pi = \frac{22}{7}$).

- Ans
- 1. $19,404 \text{ cm}^3$
 - 2. $29,414 \text{ cm}^3$
 - 3. $12,324 \text{ cm}^3$
 - 4. $21,134 \text{ cm}^3$

Question ID : 26433075250

Status : Answered

Chosen Option : 1

Q.11 A एक काम को 15 दिनों में कर सकता है और B उसी काम को 25 दिनों में कर सकता है। A और B मिलकर इस काम को कितने दिनों में पूरा करेंगे?

Ans

✓ 1. $9\frac{3}{8}$

✗ 2. $6\frac{5}{16}$

✗ 3. $7\frac{5}{16}$

✗ 4. $8\frac{5}{16}$

Question ID : 26433080228

Status : Answered

Chosen Option : 1

Q.12 एक राशि के लिए एक निश्चित वार्षिक दर पर वार्षिक रूप से चक्रवृद्धि होने वाला 2 वर्षों का चक्रवृद्धि ब्याज Rs.832 है और उसी राशि पर उसी अवधि और उतनी ही ब्याज दर पर साधारण ब्याज Rs.800 है। 3 वर्ष की अवधि के चक्रवृद्धि ब्याज और साधारण ब्याज में अंतर ज्ञात कीजिए।

Ans ✓ 1. Rs.98.56

✗ 2. Rs.48.00

✗ 3. Rs.66.52

✗ 4. Rs.99.48

Question ID : 26433076042

Status : Answered

Chosen Option : 1

Q.13 संख्या 'a' संख्या 'e' के व्युत्क्रमानुपाती है, और $a = 50$ होने पर $e = 22$ है। 'a' और 'e' से संबंधित समीकरण ज्ञात कीजिए।

Ans

✓ 1. $a = \frac{1100}{e}$

✗ 2. $e = 11a$

✗ 3. $a = 13e$

✗ 4. $a = \frac{1213}{e}$

Question ID : 26433080035

Status : Answered

Chosen Option : 1

Q.14 एक व्यक्ति ने ₹900 प्रत्येक की दर से 5 बैग चावल, ₹1,000 प्रत्येक की दर से 7 बैग चावल और ₹1,200 प्रत्येक की दर से 8 बैग चावल खरीदे। यदि प्रत्येक बैग में 50 kg चावल है, तो 1 kg चावल का औसत मूल्य क्या है?

- Ans
- 1. ₹19.1
 - 2. ₹21.1
 - 3. ₹25.5
 - 4. ₹20.5

Question ID : 26433081010

Status : Answered

Chosen Option : 2

Q.15 एक बेईमान दुकानदार 1 kg के बजाय 900 gm वजन का उपयोग करता है और 1 kg दाल को उसके क्रय मूल्य पर बेचता है। 10 kg दाल बेचने पर उसका लाभ प्रतिशत कितना होगा?

- Ans
- 1. $\frac{10}{9}$ %
 - 2. $1\frac{10}{9}$ %
 - 3. $1\frac{100}{9}$ %
 - 4. $\frac{100}{9}$ %

Question ID : 26433074281

Status : Answered

Chosen Option : 4

Q.16 एक रेलगाड़ी में यात्रियों की औसत संख्या पिछले वर्ष के 135408 से बढ़कर इस वर्ष 141050 हो गई। वृद्धि प्रतिशत क्या था?

- Ans
- 1. 14.15 प्रतिशत
 - 2. 10.64 प्रतिशत
 - 3. 4.16 प्रतिशत
 - 4. 5.25 प्रतिशत

Question ID : 264330116808

Status : Answered

Chosen Option : 3

Q.17 एक व्यक्ति धारा के विपरीत दिशा में 8 km/h और धारा के दिशा में 12 km/h की चाल से नौकायन कर सकता है। क्रमशः शांत जल में उस व्यक्ति की चाल और धारा की चाल ज्ञात कीजिए।

- Ans
- 1. 12 km/h और 8 km/h
 - 2. 8 km/h और 12 km/h
 - 3. 10 km/h और 2 km/h
 - 4. 2 km/h और 10 km/h

Question ID : 26433073040

Status : Answered

Chosen Option : 3

Q.18 A और B एक कार्य को 42 दिनों में कर सकते हैं, और B और C इसे 56 दिनों में कर सकते हैं। यदि B अकेला उस कार्य को 70 दिनों में कर सकता है, तो C उस कार्य को कितने दिनों में कर सकता है?

- Ans 1. 280 दिन
 2. 550 दिन
 3. 200 दिन
 4. 340 दिन

Question ID : 264330116888

Status : Answered

Chosen Option : 1

Q.19 धारा की विपरीत दिशा में 144 km जाने के लिए, एक नाविक को 12 घंटे लगते हैं, जबकि समान दूरी को धारा की दिशा में तय करने में उसे केवल 9 घंटे लगते हैं। धारा की चाल (km/h में) ज्ञात करें।

- Ans 1. 1.5 km/h
 2. 1 km/h
 3. 2 km/h
 4. 3 km/h

Question ID : 26433075815

Status : Answered

Chosen Option : 4

Q.20 a^2b और $3ab$ का तृतीय समानुपाती _____ है।

- Ans 1. $9a$
 2. $9b$
 3. $9ab$
 4. ab

Question ID : 26433075154

Status : Answered

Chosen Option : 2

Section : Part-D-English

Q.1 Select the most appropriate meaning of the underlined idiom in the given sentence.

The matrimonial alliance between the two kingdoms was actually a Judas kiss.

- Ans 1. Made through intense bloodshed
 2. Incestuous relationship
 3. A strong bond
 4. Deceitful pretence of friendship

Question ID : 26433072090

Status : Answered

Chosen Option : 4

Q.2 Select the INCORRECTLY spelt word.

- Ans 1. Contagious
 2. Irreparable
 3. Teelotaler
 4. Unanimously

Question ID : 26433084698
Status : Answered
Chosen Option : 3

Q.3 A part of the given sentence which has been underlined may contain a spelling error. Select the option that correctly rectifies the spelling error. If there is no error, select 'No error'.

Writing under a pseudonym might not give one the actual recognition that he/she deserves.

- Ans 1. No error
 2. Pseudonym
 3. Pseudoniem
 4. Psaudonym

Question ID : 26433071790
Status : Answered
Chosen Option : 2

Q.4 Select the most appropriate synonym of the given word.

Gigantic

- Ans 1. Small
 2. Huge
 3. Idle
 4. Tiny

Question ID : 26433074048
Status : Answered
Chosen Option : 2

Q.5 Select the most appropriate ANTONYM of the word given in the bracket to fill in the blank.

He was absolutely (courteous)_____ to me.

- Ans 1. discourteous
 2. polite
 3. genteel
 4. solicitous

Question ID : 26433059596
Status : Answered
Chosen Option : 1

Q.6 Parts of the following sentence have been given as options. Select the option that contains an error.

I told Jack that we seen a good film last week with our friends from Mexico.

- Ans
- 1. week with our
 - 2. I told Jack that we
 - 3. friends from Mexico
 - 4. seen a good film last

Question ID : 26433088468
Status : Answered
Chosen Option : 4

Q.7 Select the most appropriate ANTONYM of the underlined word in the given sentence.

Sanjeev is always busy with his business activities.

- Ans
- 1. idle
 - 2. enthusiastic
 - 3. engaged
 - 4. active

Question ID : 26433092093
Status : Answered
Chosen Option : 1

Q.8 Select the word that is similar in meaning to the underlined word.

This course will provide you with a rudimentary knowledge of Sanskrit.

- Ans
- 1. Exhaustive
 - 2. Extensive
 - 3. Intricate
 - 4. Elementary

Question ID : 26433087947
Status : Answered
Chosen Option : 4

Q.9 Select the most appropriate option that can substitute the underlined segment in the given sentence. If there is no need to substitute it, select 'No substitution required'.

The purchase of computers is sure to cost more than you estimate.

- Ans
- 1. is sure of costing
 - 2. is sure of cost
 - 3. No substitution required
 - 4. is sure to costing

Question ID : 26433092110
Status : Answered
Chosen Option : 1

Q.10 Select the most appropriate meaning of the underlined idiom.

One can always start off with a clean slate for a new and better life.

- Ans
- 1. An innocent man who has nothing to spend
 - 2. A person with no crimes to his record
 - 3. Situation in which you can start again
 - 4. Provide a clear record to one's superiors

Question ID : 26433073207
Status : Answered
Chosen Option : 1

Q.11 Select the most appropriate option to substitute the underlined segment in the given sentence.

My friend has been a teacher since 10 years.

- Ans
- 1. from 10 years
 - 2. within 10 years
 - 3. till 10 years
 - 4. for 10 years

Question ID : 26433099059
Status : Answered
Chosen Option : 4

Q.12 Select the most appropriate synonym of the word given in brackets to fill in the blank.

Technology has _____ (supreme) importance in the life of modern men.

- Ans
- 1. profuse
 - 2. magnanimous
 - 3. miraculous
 - 4. paramount

Question ID : 26433070466
Status : Answered
Chosen Option : 4

Q.13 Select the most appropriate synonym of the given word.

Confined

- Ans
- 1. Extravagant
 - 2. Diluted
 - 3. Limited
 - 4. Halted

Question ID : 26433088758
Status : Answered
Chosen Option : 3

Q.14 Select the most appropriate option that can substitute the underlined segment in the given sentence. If there is no need to substitute it, select 'No substitution'.

Alice won't be coming to the concert as she was ill.

- Ans
- 1. she is going to be
 - 2. she will be
 - 3. No substitution
 - 4. she is

Question ID : 26433088909
Status : Answered
Chosen Option : 4

Q.15 Select the most appropriate ANTONYM of the given word.

Enormous

- Ans
- 1. Gorgeous
 - 2. Tiny
 - 3. Broad
 - 4. Huge

Question ID : 26433073921
Status : Answered
Chosen Option : 2

Comprehension:

In the following passage, some words have been deleted. Read the passage carefully and select the most appropriate option to fill in each blank.

Management like any other art can be learnt and developed. Management means managing all our (1)_____ - money, material, machines and most importantly, manpower. Since we can maximise (2)_____ only through people they have to be treated well. (3)_____ is the key to man-management. People can be forced to work but they have to be motivated to work well. People can be motivated as much through (4)_____ for doing their best as through timely and brief reprimands for poor performance. In order to maximise production, a manager will have to be 'tough and nice', not 'nice and tough' because everyone needs not only to be praised but also (5)_____.

SubQuestion No : 16

Q.16 Select the most appropriate option to fill in blank 1.

- Ans
- 1. Activities
 - 2. Resources
 - 3. Features
 - 4. Characters

Question ID : 26433092904
Status : Answered
Chosen Option : 2

Comprehension:

In the following passage, some words have been deleted. Read the passage carefully and select the most appropriate option to fill in each blank.

Management like any other art can be learnt and developed. Management means managing all our (1)_____ - money, material, machines and most importantly, manpower. Since we can maximise (2)_____ only through people they have to be treated well. (3)_____ is the key to man-management. People can be forced to work but they have to be motivated to work well. People can be motivated as much through (4)_____ for doing their best as through timely and brief reprimands for poor performance. In order to maximise production, a manager will have to be 'tough and nice', not 'nice and tough' because everyone needs not only to be praised but also (5)_____.

SubQuestion No : 17

Q.17 Select the most appropriate option to fill in blank 2.

- Ans 1. affection
 2. productivity
 3. richness
 4. complexity

Question ID : 26433092905

Status : Answered

Chosen Option : 2

Comprehension:

In the following passage, some words have been deleted. Read the passage carefully and select the most appropriate option to fill in each blank.

Management like any other art can be learnt and developed. Management means managing all our (1)_____ - money, material, machines and most importantly, manpower. Since we can maximise (2)_____ only through people they have to be treated well. (3)_____ is the key to man-management. People can be forced to work but they have to be motivated to work well. People can be motivated as much through (4)_____ for doing their best as through timely and brief reprimands for poor performance. In order to maximise production, a manager will have to be 'tough and nice', not 'nice and tough' because everyone needs not only to be praised but also (5)_____.

SubQuestion No : 18

Q.18 Select the most appropriate option to fill in blank 3.

- Ans 1. Mindfulness
 2. Motivation
 3. Preservation
 4. Observation

Question ID : 26433092906

Status : Answered

Chosen Option : 3

Comprehension:

In the following passage, some words have been deleted. Read the passage carefully and select the most appropriate option to fill in each blank.

Management like any other art can be learnt and developed. Management means managing all our (1)_____ - money, material, machines and most importantly, manpower. Since we can maximise (2)_____ only through people they have to be treated well. (3)_____ is the key to man-management. People can be forced to work but they have to be motivated to work well. People can be motivated as much through (4)_____ for doing their best as through timely and brief reprimands for poor performance. In order to maximise production, a manager will have to be 'tough and nice', not 'nice and tough' because everyone needs not only to be praised but also (5)_____.

SubQuestion No : 19

Q.19 Select the most appropriate option to fill in blank 4.

- Ans
- 1. power
 - 2. pampering
 - 3. penalty
 - 4. praise

Question ID : 26433092907

Status : Answered

Chosen Option : 4

Comprehension:

In the following passage, some words have been deleted. Read the passage carefully and select the most appropriate option to fill in each blank.

Management like any other art can be learnt and developed. Management means managing all our (1)_____ - money, material, machines and most importantly, manpower. Since we can maximise (2)_____ only through people they have to be treated well. (3)_____ is the key to man-management. People can be forced to work but they have to be motivated to work well. People can be motivated as much through (4)_____ for doing their best as through timely and brief reprimands for poor performance. In order to maximise production, a manager will have to be 'tough and nice', not 'nice and tough' because everyone needs not only to be praised but also (5)_____.

SubQuestion No : 20

Q.20 Select the most appropriate option to fill in blank 5.

- Ans
- 1. commanded
 - 2. disappointed
 - 3. emphasised
 - 4. reprimanded

Question ID : 26433092908

Status : Answered

Chosen Option : 4

Q.1 जो शब्द क्रिया की विशेषता बताएं उन्हें कहते हैं-

- Ans
- 1. सर्वनाम
 - 2. क्रिया विशेषण
 - 3. समुच्चयबोधक
 - 4. विशेषण

Question ID : 26433085044

Status : Not Answered

Chosen Option : --

Q.2 निम्न में से कौन-सा शब्द समूह 'तालाब' शब्द का पर्यायवाची समूह नहीं है?

- Ans
- 1. तड़ाग, सर, सरोवर
 - 2. सरिता, हिम, सागर
 - 3. जलाशय, पुष्कर, सरोवर
 - 4. सर, तड़ाग, पुष्कर

Question ID : 26433067071

Status : Not Answered

Chosen Option : --

Q.3 निम्न वाक्यांश के लिए सार्थक शब्द/सही विकल्प चुनें।
जो सब कुछ जानता है

- Ans
- 1. सामंत
 - 2. सर्वेसर्वा
 - 3. सर्वस्व
 - 4. सर्वज्ञ

Question ID : 26433066929

Status : Not Answered

Chosen Option : --

Q.4 "अजय की बुद्धि भ्रष्ट हो गई है।"
उक्त वाक्य में प्रयुक्त 'बुद्धि' के स्थान पर उसके समानार्थी शब्द का प्रयोग निम्न में से किस वाक्य में नहीं किया गया है?

- Ans
- 1. अजय की अक्ल भ्रष्ट हो गई है।
 - 2. अजय की विधु भ्रष्ट हो गई है।
 - 3. अजय की मति भ्रष्ट हो गई है।
 - 4. अजय की समझ भ्रष्ट हो गई है।

Question ID : 26433067032

Status : Not Answered

Chosen Option : --

Q.5 'थाली का बैंगन होना' मुहावरे का सही अर्थ है -

- Ans
- 1. जल्दी दोस्त बन जाना
 - 2. सिद्धांतहीन व्यक्ति होना
 - 3. इधर उधर की बातें करना
 - 4. बैंगन की सब्जी बनाना

Question ID : 26433065924

Status : Not Answered

Chosen Option : --

Q.6 विधवा स्त्री हिंदू समाज की सबसे दयनीय प्राणी है और _____ स्त्री हर रीति-रिवाज को निभाने की अधिकारिणी।

'विधवा' के विलोम शब्द से उक्त वाक्य के रिक्त स्थान की पूर्ति करें।

- Ans
- 1. सधवा
 - 2. सबला
 - 3. सौभाग्यशालिनी
 - 4. सुलक्षणा

Question ID : 26433080870

Status : Not Answered

Chosen Option : --

Q.7 निम्नलिखित में से 'सर्वनाम' सम्बन्धी अशुद्धि वाले वाक्य की पहचान कीजिये-

- Ans
- 1. तुम तुम्हारा काम करो।
 - 2. मैं सदैव समय पर कार्यालय जाता हूँ।
 - 3. कृपया आप जल्दी आयें।
 - 4. रमा तुम्हें विद्यालय पहुँचा देगी।

Question ID : 26433063005

Status : Not Answered

Chosen Option : --

Q.8 '_____ पोछना' इस मुहावरे को पूरा करें।

- Ans
- 1. कान
 - 2. आँसू
 - 3. हाथ
 - 4. पैर

Question ID : 26433066814

Status : Not Answered

Chosen Option : --

Q.9 'शराब पीनी बुरी आदत है।' इस वाक्य में अशुद्ध शब्द है-

- Ans 1. पीनी
 2. शराब
 3. बुरी
 4. आदत

Question ID : 26433066796

Status : Not Answered

Chosen Option : --

Q.10 'आज खेत में एक विषधर देखा वह बहुत ही खतरनाक _____ था।'
'साँप' के पर्याय से उक्त वाक्य के रिक्त स्थान की पूर्ति कीजिए।

- Ans 1. सारंग
 2. भुजंग
 3. नाराच
 4. केशरी

Question ID : 26433084986

Status : Not Answered

Chosen Option : --

Q.11 निम्नलिखित वाक्य में रेखांकित खंड के स्थान पर प्रयुक्त होने वाले सबसे उपयुक्त विकल्प का चयन कीजिए।
ऑचल ने सबकी नाक में द्राम कर रखा है।

- Ans 1. मूल्य
 2. कीमत
 3. दम
 4. बाम

Question ID : 26433079567

Status : Not Answered

Chosen Option : --

Q.12 निम्न वाक्यांश के लिए एक शब्द क्या होगा?
जो स्मरण करने योग्य है

- Ans 1. पूजनीय
 2. अनुकरणीय
 3. स्मरणीय
 4. गवेषणीय

Question ID : 26433070098

Status : Not Answered

Chosen Option : --

Q.13 निम्नलिखित विकल्पों में से 'परम्परा से सुना हुआ' वाक्यांश के लिए एक सार्थक शब्द क्या होगा?

- Ans 1. आशातीत
 2. आनुश्राविक
 3. वन्दनीय
 4. कर्णप्रिय

Question ID : 26433062471

Status : Not Answered

Chosen Option : --

Q.14 'रोहन रात में भोजन नहीं खाता।'
उपरोक्त वाक्य के किस भाग में अशुद्धि है?

- Ans 1. रोहन
 2. नहीं खाता।
 3. भोजन
 4. रात में

Question ID : 26433092142

Status : Not Answered

Chosen Option : --

Q.15 निम्नलिखित में से शुद्ध वाक्य का चयन कीजिये-

- Ans 1. तमाम देश भर में यह बात फैल गई।
 2. देशभर में यह बात फैल गयी।
 3. तमाम देश भर में फैल गई है बात।
 4. देशभर में यह बात फैली गई।

Question ID : 26433062824

Status : Not Answered

Chosen Option : --

Comprehension:

निम्न गद्यांश के आधार पर प्रश्न संख्या 1-5 के उत्तर दीजिए।

बच्चों पर ही 1. _____ निर्भर है और वही हमारी 2. _____ हैं। इसलिए आज संसार में 3. _____ की मनोवृत्ति और विचार शैली को शिक्षा द्वारा बदलने का प्रयास किया जा रहा है। यदि हमें 4. _____ की चिन्ता है, तो हमें 5. _____ की भी चिन्ता करनी होगी।

SubQuestion No : 16

Q.16 गद्यांश में रिक्त स्थान 1 की पूर्ति के लिए सबसे उपयुक्त विकल्प का चयन विकल्पों में से कीजिए।

- Ans 1. भविष्य
 2. ब्रह्मांड
 3. भूत
 4. वर्तमान

Question ID : 26433092001

Status : Not Answered

Chosen Option : --

Comprehension:

निम्न गद्यांश के आधार पर प्रश्न संख्या 1-5 के उत्तर दीजिए।

बच्चों पर ही 1. _____ निर्भर है और वही हमारी 2. _____ हैं। इसलिए आज संसार में 3. _____ की मनोवृत्ति और विचार शैली को शिक्षा द्वारा बदलने का प्रयास किया जा रहा है। यदि हमें 4. _____ की चिन्ता है, तो हमें 5. _____ की भी चिन्ता करनी होगी।

SubQuestion No : 17

Q.17 गद्यांश में रिक्त स्थान 2 की पूर्ति के लिए सबसे उपयुक्त विकल्प का चयन विकल्पों में से कीजिए।

- Ans
- 1. बेसहारा
 - 2. भविष्य
 - 3. निराशा
 - 4. आशा

Question ID : 26433092002

Status : Not Answered

Chosen Option : --

Comprehension:

निम्न गद्यांश के आधार पर प्रश्न संख्या 1-5 के उत्तर दीजिए।

बच्चों पर ही 1. _____ निर्भर है और वही हमारी 2. _____ हैं। इसलिए आज संसार में 3. _____ की मनोवृत्ति और विचार शैली को शिक्षा द्वारा बदलने का प्रयास किया जा रहा है। यदि हमें 4. _____ की चिन्ता है, तो हमें 5. _____ की भी चिन्ता करनी होगी।

SubQuestion No : 18

Q.18 गद्यांश में रिक्त स्थान 3 की पूर्ति के लिए सबसे उपयुक्त विकल्प का चयन विकल्पों में से कीजिए।

- Ans
- 1. बुजुर्गों
 - 2. नेता
 - 3. बच्चों
 - 4. विचार

Question ID : 26433092003

Status : Not Answered

Chosen Option : --

Comprehension:

निम्न गद्यांश के आधार पर प्रश्न संख्या 1-5 के उत्तर दीजिए।

बच्चों पर ही 1. _____ निर्भर है और वही हमारी 2. _____ हैं। इसलिए आज संसार में 3. _____ की मनोवृत्ति और विचार शैली को शिक्षा द्वारा बदलने का प्रयास किया जा रहा है। यदि हमें 4. _____ की चिन्ता है, तो हमें 5. _____ की भी चिन्ता करनी होगी।

SubQuestion No : 19

Q.19 गद्यांश में रिक्त स्थान 4 की पूर्ति के लिए सबसे उपयुक्त विकल्प का चयन विकल्पों में से कीजिए।

- Ans
- 1. भूत
 - 2. वर्तमान
 - 3. भविष्य
 - 4. ब्रह्मांड

Question ID : 26433092004

Status : Not Answered

Chosen Option : --

Comprehension:

निम्न गद्यांश के आधार पर प्रश्न संख्या 1-5 के उत्तर दीजिए।

बच्चों पर ही 1. _____ निर्भर है और वही हमारी 2. _____ हैं। इसलिए आज संसार में 3. _____ की मनोवृत्ति और विचार शैली को शिक्षा द्वारा बदलने का प्रयास किया जा रहा है। यदि हमें 4. _____ की चिन्ता है, तो हमें 5. _____ की भी चिन्ता करनी होगी।

SubQuestion No : 20

Q.20 गद्यांश में रिक्त स्थान 5 की पूर्ति के लिए सबसे उपयुक्त विकल्प का चयन विकल्पों में से कीजिए।

- Ans**
- 1. बुजुर्गों
 - 2. प्रौढ़ों
 - 3. बच्चों
 - 4. कल्याण

Question ID : 26433092005

Status : Not Answered

Chosen Option : --

WWW.GOVtJOBSALERT.IN