

Constable GD in CAPFs SSF Rifleman GD in Assam Rifles and Sepoy in NCB Examination 2022

Roll Number	www.govtjobsalert.in
Candidate Name	www.govtjobsalert.in
Venue Name	Jaipur Engineering College
Exam Date	13/02/2023
Exam Time	2:30 PM - 3:30 PM
Subject	Constable GD Examination 2022

Section : Part-A-General Intelligence and Reasoning

Q.1 निम्नलिखित में से कौन-सा पद दी गई श्रृंखला में प्रश्न-चिह्न (?) के स्थान पर आएगा?
MDVG, NFYK, OHBO, PJES, ?

- Ans
- 1. QIGQ
 - 2. QLHW
 - 3. QLFU
 - 4. QKGU

Question ID : 26433069447

Status : Answered

Chosen Option : 2

Q.2 तीन कथनों के बाद तीन निष्कर्ष I, II और III दिए गए हैं। कथनों को सत्य मानते हुए, भले ही वे सामान्य रूप से ज्ञात तथ्यों से भिन्न प्रतीत होते हों, निर्धारित करें कि कौन-सा/से निष्कर्ष, कथनों का तार्किक रूप से अनुसरण करता है/करते हैं।

कथन:

सभी हाथ उंगलियां हैं।

सभी पैर उंगलियां हैं।

सभी उंगलियां 'पैर के अंगूठे' हैं।

निष्कर्ष:

I. सभी पैर, पैर के अंगूठे हैं।

II. सभी पैर के अंगूठे हाथ हैं।

III. कुछ पैर के अंगूठे पैर हैं।

- Ans
- 1. केवल निष्कर्ष II और III अनुसरण करते हैं
 - 2. केवल निष्कर्ष I और III अनुसरण करते हैं
 - 3. सभी निष्कर्ष अनुसरण करते हैं
 - 4. केवल निष्कर्ष I और II अनुसरण करते हैं

Question ID : 26433082313

Status : Answered

Chosen Option : 2

Q.3 निम्नलिखित में से कौन-सी संख्या दी गई श्रृंखला में प्रश्न चिह्न (?) के स्थान पर आएगी?
2, 5, 18, 41, ?

- Ans
- 1. 43
 - 2. 67
 - 3. 31
 - 4. 74

Question ID : 26433082738

Status : Answered

Chosen Option : 4

Q.4 उस विकल्प का चयन कीजिए जो नीचे दिए गए शब्दों के उस क्रम को निरूपित करता है जिस क्रम में वे अंग्रेजी शब्दकोश में आते हैं।

1. PRISM
2. PRINT
3. PRIOR
4. PRISE
5. PROBE
6. PRIZE

- Ans
- 1. 1, 3, 2, 4, 6, 5
 - 2. 5, 6, 4, 1, 2, 3
 - 3. 3, 2, 4, 1, 6, 5
 - 4. 2, 3, 4, 1, 6, 5

Question ID : 26433079382

Status : Answered

Chosen Option : 4

Q.5 छः छात्र - मेलानी, सुचेता, मार्टिन, सुज़ैन, दानिश और जैकब एक वृत्ताकार मेज के परितः मेज के केंद्र की ओर मुख करके बैठे हैं। मेलानी, सुचेता के दाईं ओर दूसरे स्थान पर बैठी है। सुज़ैन, मेलानी और सुचेता के ठीक बगल में है। दानिश, सुज़ैन के दाईं ओर तीसरे स्थान पर बैठा है। मार्टिन, सुचेता और दानिश के ठीक बगल में है। जैकब, सुचेता के दाईं ओर तीसरे स्थान पर बैठा है। मार्टिन और सुज़ैन के बीच में कौन बैठा/बैठी है?

- Ans
- 1. दानिश
 - 2. जैकब
 - 3. सुचेता
 - 4. मेलानी

Question ID : 26433081789

Status : Answered

Chosen Option : 3

Q.6 निम्नलिखित में से कौन-सा अक्षर-समूह दी गई श्रृंखला में प्रश्न-चिह्न (?) के स्थान पर आएगा?
PDYI, MGVL, ?, GMPR, DPMU

- Ans
- 1. JJSO
 - 2. KJRO
 - 3. JJTP
 - 4. IJSO

Question ID : 26433076434

Status : Answered

Chosen Option : 1

Q.7 एक परिवार में छः सदस्य A, B, C, D, E और F हैं। D के 3 बेटे A, B और C हैं। D बच्चों का पिता नहीं है। B का एक बेटा E है। C की एक बेटी F है। B, F से किस प्रकार संबंधित है?

- Ans
- 1. दादा
 - 2. बेटा
 - 3. चाचा/ताऊ
 - 4. पिता

Question ID : 26433074595

Status : Answered

Chosen Option : 3

Q.8 एक निश्चित कूट भाषा में, 'COGENT' को 'FMJCQR' और 'BRINK' को 'EPLLN' के रूप में लिखा जाता है। उसी कूट भाषा में 'RANKED' को किस प्रकार से लिखा जाएगा?

- Ans
- 1. UZRJGA
 - 2. NVLOZA
 - 3. UYQIHB
 - 4. MXCHVI

Question ID : 26433069462

Status : Answered

Chosen Option : 3

Q.9 नीचे दिए गए समीकरण को गणितीय रूप से सही बनाने के लिए किन दो चिन्हों को परस्पर बदलना चाहिए?

$$24 + 72 \div 12 \times 36 - 12 = 168$$

- Ans
- 1. ÷ और -
 - 2. × और +
 - 3. + और -
 - 4. × और ÷

Question ID : 264330117530

Status : Answered

Chosen Option : 2

Q.10 उस विकल्प का चयन करें जो तीसरे पद से उसी तरह से संबंधित है, जिस तरह से दूसरा पद पहले पद से संबंधित है।

ELECTRIC : GNGEVTKE :: NUCLEAR : ?

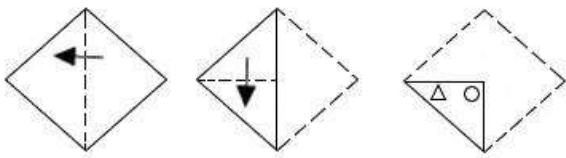
- Ans
- 1. MTBKDZQ
 - 2. OVDMDBS
 - 3. PDZQDBS
 - 4. PWENGCT

Question ID : 26433067261

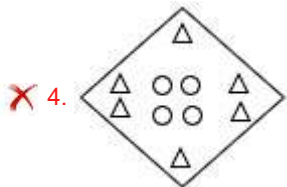
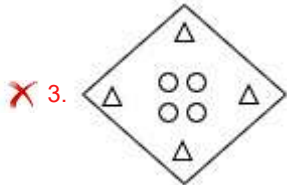
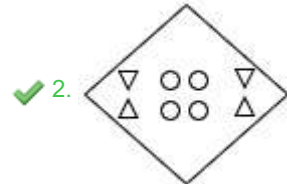
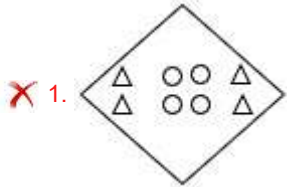
Status : Answered

Chosen Option : 4

Q.11 एक कागज को नीचे दर्शाए गए अनुसार मोड़ा और काटा जाता है। खोले जाने पर यह कैसा दिखाई देगा?



Ans



Question ID : 26433090092

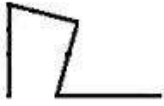
Status : Answered

Chosen Option : 2

Q.12

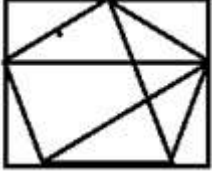
निम्नलिखित विकल्पों में से उस आकृति का चयन करें जिसमें नीचे दी गई

आकृति सन्निहित है (आकृति को घुमाने की अनुमति नहीं है)।

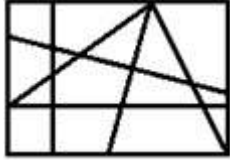


Ans

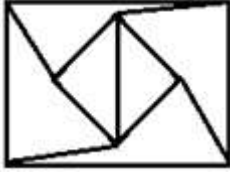
✗ 1.



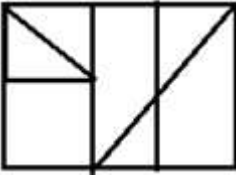
✓ 2.



✗ 3.



✗ 4.



Question ID : 26433069542

Status : Answered

Chosen Option : 2

Q.13 उस विकल्प का चयन करें जो तिसरा पद से उसी प्रकार संबंधित है, जिस प्रकार दुसरा पद पहले पद से और छठा पद पांचवे पद से संबंधित है।

13 : 196 :: 16 : ? :: 17 : 324

Ans ✗ 1. 258

✗ 2. 298

✓ 3. 289

✗ 4. 292

Question ID : 26433069096

Status : Answered

Chosen Option : 3

Q.14 निम्नलिखित में से कौन-सी संख्याएं दी गई श्रंखला में प्रश्न-चिह्नों (?) के स्थान पर आएंगी?
99, 110, 132, ?, 209, ?, 330

- Ans
- 1. 168, 268
 - 2. 169, 288
 - 3. 188, 294
 - 4. 165, 264

Question ID : 26433070226

Status : Answered

Chosen Option : 4

Q.15 दी गई आकृति के सही दर्पण प्रतिबिम्ब का चयन करें जब दर्पण को MN पर रखा जाए जैसा कि नीचे दर्शाया गया है।



- Ans
- 1. yH96a0iJdid
 - 2. Yh96a0iJdid
 - 3. yH96a0iJdid
 - 4. Yh96a0iJdid

Question ID : 26433085547

Status : Answered

Chosen Option : 3

Q.16 एक निश्चित कूट भाषा में, 'FOREST' को 'SPGVUG' के रूप में लिखा जाता है और 'FRENCH' को 'FSGJEP' के रूप में लिखा जाता है। उसी भाषा में 'FRIEND' को कैसे लिखा जाएगा?

- Ans
- 1. JSGDNE
 - 2. IRFFPG
 - 3. JSGFPG
 - 4. IRFDNE

Question ID : 26433090045

Status : Answered

Chosen Option : 3

Q.17 सात व्यक्ति A, B, C, D, E, F और G एक सीधी पंक्ति में उत्तर की ओर मुख करके बैठे हैं। A बाईं ओर से दूसरे स्थान पर बैठा है। A और C के बीच केवल दो व्यक्ति बैठे हैं। D और F के बीच केवल तीन व्यक्ति बैठे हैं, और D, A के ठीक बगल में है। B, D के ठीक बगल में है, और E, C के ठीक बगल में नहीं है। F के बाईं ओर ठीक बगल में कौन बैठा है?

- Ans 1. G
 2. B
 3. C
 4. E

Question ID : 26433056933

Status : Answered

Chosen Option : 1

Q.18 उस विकल्प का चयन कीजिए जो तीसरे शब्द से उसी प्रकार संबंधित है जिस प्रकार दूसरा शब्द पहले शब्द से संबंधित है। (शब्दों को अर्थपूर्ण शब्दों के रूप में मानना है और उन्हें शब्द में अक्षरों/व्यंजनों/स्वरों की संख्या के आधार पर एक-दूसरे से संबंधित नहीं करना है।)
बाघ : भारत :: ज़ायंट पांडा : ?

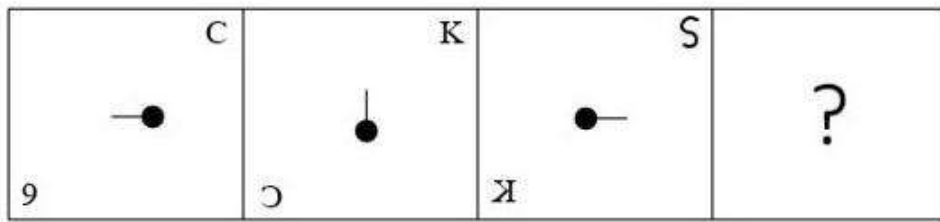
- Ans 1. ताइवान
 2. वियतनाम
 3. रूस
 4. चीन

Question ID : 26433079480

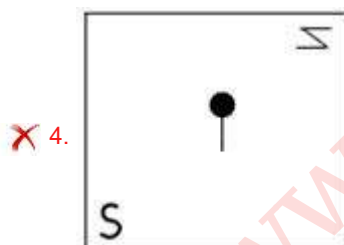
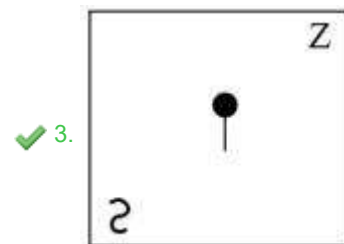
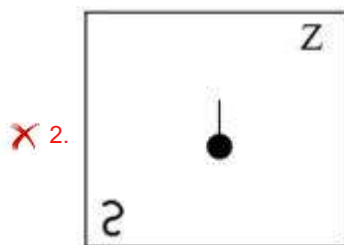
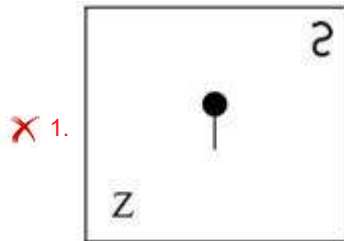
Status : Not Answered

Chosen Option : --

Q.19 दिए गए विकल्पों में से उस आकृति का चयन करें जो निम्न श्रृंखला में प्रश्नवाचक चिन्ह (?) के स्थान पर आ सकती है।



Ans



Question ID : 26433080763

Status : Answered

Chosen Option : 3

Q.20 विकल्पों में दिए गए गणितीय चिह्नों का कौन सा संयोजन निम्न समीकरण में * चिह्नों के स्थान पर क्रमिक रूप से आकर समीकरण को संतुलित करेगा?
420 * 42 * 10 * 2 * 102

- Ans
- 1. x, ÷, =, +
 - 2. =, +, x, ÷
 - 3. ÷, x, +, =
 - 4. ÷, +, =, x

Question ID : 26433094987
Status : Answered
Chosen Option : 3

Section : Part-B-General Knowledge and General awareness

Q.1 नवंबर 2022 तक की स्थिति के अनुसार, भारत में केंद्रीय कानून मंत्री कौन हैं?

- Ans
- 1. देवेन्द्र फडणवीस
 - 2. अश्विनी वैष्णव
 - 3. किरण रिजिजू
 - 4. पीयूष गोयल

Question ID : 264330114965
Status : Not Answered
Chosen Option : --

Q.2 पांच दिवसीय गंगा महोत्सव उत्तर प्रदेश के किस शहर में मनाया जाता है?

- Ans
- 1. नोएडा
 - 2. लखनऊ
 - 3. वाराणसी
 - 4. कानपुर

Question ID : 26433092392
Status : Answered
Chosen Option : 3

Q.3 कोशिका, किसी जीव का _____ जीवित भाग होता है।

- Ans
- 1. सबसे बारीक
 - 2. सबसे छोटा
 - 3. सबसे पतला
 - 4. सबसे लंबा

Question ID : 264330115242
Status : Answered
Chosen Option : 4

Q.4 वांगला _____ का प्रसिद्ध लोक नृत्य है।

- Ans
- 1. पश्चिम बंगाल
 - 2. मेघालय
 - 3. बिहार
 - 4. मिज़ोरम

Question ID : 26433071661

Status : Not Answered

Chosen Option : --

Q.5 मूल कर्तव्यों की सूची की उप-धारा (g) किससे संबंधित है?

- Ans
- 1. प्रकृतिक पर्यावरण की रक्षा और उसका संवर्धन करना
 - 2. हमारी मिली-जुली संस्कृति की समृद्ध विरासत का संरक्षण करना
 - 3. सार्वजनिक संपत्ति की सुरक्षा
 - 4. बच्चों की शिक्षा

Question ID : 26433054522

Status : Not Answered

Chosen Option : --

Q.6 निम्नलिखित में से कौन-सा भारतीय राज्य, चीन के साथ अपनी सीमा साझा नहीं करता है?

- Ans
- 1. अरुणाचल प्रदेश
 - 2. हिमाचल प्रदेश
 - 3. उत्तर प्रदेश
 - 4. सिक्किम

Question ID : 264330116101

Status : Not Answered

Chosen Option : --

Q.7 _____ एक इलेक्ट्रॉनिक भुगतान प्रणाली है जो किसी बैंक या अन्य किसी वित्तीय संस्थान के ग्राहकों को वित्तीय संस्थान की वेबसाइट के माध्यम से कई प्रकार के वित्तीय लेनदेन करने में सक्षम बनाती है।

- Ans
- 1. अंतरराज्यीय बैंकिंग
 - 2. एकल प्रविष्टि प्रणाली
 - 3. इंटरनेट बैंकिंग
 - 4. इंटर कॉर्पोरेट बैंकिंग

Question ID : 264330115317

Status : Answered

Chosen Option : 3

Q.8 भारत में दंड प्रक्रिया संहिता वर्ष _____ में अधिनियमित की गई थी।

- Ans
- 1. 1977
 - 2. 1975
 - 3. 1971
 - 4. 1973

Question ID : 264330116209
Status : Not Answered
Chosen Option : --

Q.9 जलियांवाला बाग हत्याकांड के लिए कौन जिम्मेदार था?

- Ans
- 1. सत्य पाल
 - 2. जनरल हंटर्स
 - 3. जनरल डायर
 - 4. जनरल पैटर्स

Question ID : 264330115698
Status : Answered
Chosen Option : 3

Q.10 विनिर्माण क्षेत्रों को सामान्य और आर्थिक विकास का/की _____ माना जाता/मानी जाती है।

- Ans
- 1. रीढ़ की हड्डी
 - 2. घुटना
 - 3. हाथ
 - 4. पैर

Question ID : 264330115564
Status : Answered
Chosen Option : 1

Q.11 IPR-1956 ने _____ पंचवर्षीय योजना की नींव रखी।

- Ans
- 1. चौथी
 - 2. दूसरी
 - 3. छठवीं
 - 4. दसवीं

Question ID : 26433054784
Status : Answered
Chosen Option : 2

Q.12 निम्नलिखित में से किस राज्य में पहली बार खेलो इंडिया यूनिवर्सिटी गेम्स का आयोजन किया गया था?

- Ans
- 1. ओडिशा
 - 2. असम
 - 3. महाराष्ट्र
 - 4. पंजाब

Question ID : 264330116277
Status : Answered
Chosen Option : 2

Q.13 संसदीय प्रक्रिया में कोरम को _____ के रूप में समझा जा सकता है।

- Ans
- 1. सदन की कार्य प्रणाली को सुचारु रूप से चलाने के लिए सदस्यों की न्यूनतम संख्या
 - 2. लोकसभा के कुल सदस्य
 - 3. राज्यसभा में उपस्थित मंत्रियों की कुल संख्या
 - 4. सदन के सदस्यों की कुल संख्या

Question ID : 26433074911
Status : Answered
Chosen Option : 1

Q.14 संगम काल के दौरान तमिल क्षेत्र में, भूमिहीन मजदूरों जिनमें दास भी शामिल होते थे, को _____ के रूप में जाना जाता था।

- Ans
- 1. वेल्लालार और उझावार
 - 2. कडैसियार और उझावार
 - 3. वेल्लालार और अदिमई
 - 4. कडैसियार और अदिमई

Question ID : 26433085226
Status : Not Answered
Chosen Option : --

Q.15 भारत में, हरित क्रांति का उद्देश्य _____ था।

- Ans
- 1. राष्ट्रीय सशस्त्र बल सुरक्षा
 - 2. अन्य देशों पर निर्भरता
 - 3. राष्ट्रीय खाद्य सुरक्षा
 - 4. ओज़ोन रिक्तीकरण

Question ID : 264330115427
Status : Answered
Chosen Option : 3

Q.16 निम्नलिखित में से कौन-सा समीकरण गैस के एक मोल के लिए सही है?

- Ans
- 1. $V_1/ V_2 = T_1^2/ T_2^2$ (स्थिर दाब पर)
 - 2. $V_1/ V_2 = \sqrt{T_1/ T_2}$ (स्थिर दाब पर)
 - 3. $V_1/ V_2 = T_1/ T_2$ (स्थिर दाब पर)
 - 4. $p_1/ V_1 = p_1/ V_2$ (स्थिर ताप पर)

Question ID : 26433066473

Status : Not Answered

Chosen Option : --

Q.17 गुरु बिपिन सिंह ने किस नृत्य शैली में विभिन्न पुरस्कार जीते हैं?

- Ans
- 1. मणिपुरी
 - 2. कथक
 - 3. कथकली
 - 4. लावणी

Question ID : 264330115863

Status : Not Answered

Chosen Option : --

Q.18 'शूटिंग गार्ड' शब्द का उपयोग निम्नलिखित में से किस खेल/क्रीड़ा में किया जाता है?

- Ans
- 1. वॉलीबॉल
 - 2. टेनिस
 - 3. बास्केटबॉल
 - 4. टेबल टेनिस

Question ID : 26433071573

Status : Not Answered

Chosen Option : --

Q.19 नर्मदा नदी निम्नलिखित में से किस स्थान से निकलती है?

- Ans
- 1. नासिक
 - 2. सतपुड़ा की श्रृंखलाएँ
 - 3. महाबलेश्वर
 - 4. अमरकंटक पहाड़ी

Question ID : 264330116000

Status : Answered

Chosen Option : 4

Q.20 2022 में हुए चुनाव के बाद पंजाब के मुख्यमंत्री कौन बने?

- Ans
- 1. अमरिंदर सिंह
 - 2. चरणजीत सिंह चन्नी
 - 3. प्रकाश सिंह बादल
 - 4. भागवंत मान

Question ID : 264330115020

Status : Answered

Chosen Option : 4

Section : Part-C-Elementary Mathematics

Q.1 3, 5, 10 और x का औसत 5 है। 8, 12, 15, x और y का औसत 9 है। x और y का क्रमशः मान _____ है।

- Ans
- 1. 3 और 9
 - 2. 2 और 3
 - 3. 3 और 8
 - 4. 2 और 8

Question ID : 26433082643

Status : Answered

Chosen Option : 4

Q.2 3 cm आधार त्रिज्या और 4 cm ऊंचाई के एक ठोस धातु बेलन को 2 cm ऊंचाई और 1 cm त्रिज्या वाले शंकु बनाने के लिए पिघलाया जाता है। निर्मित शंकुओं की संख्या कितनी है?

- Ans
- 1. 54
 - 2. 64
 - 3. 56
 - 4. 58

Question ID : 26433076089

Status : Not Answered

Chosen Option : --

Q.3 Rs.1,000 की धनराशि के लिए 10% वार्षिक चक्रवृद्धि ब्याज पर 3 वर्ष में प्राप्त मिश्रधन क्या होगा, यदि ब्याज वार्षिक रूप से चक्रवृद्धि हो?

- Ans
- 1. Rs.3,122
 - 2. Rs.2,311
 - 3. Rs.1,331
 - 4. Rs.4,121

Question ID : 26433064917

Status : Answered

Chosen Option : 3

Q.4 एक बेईमान विक्रेता चावल को Rs.24/ kg पर बेचता है, जिसे उसने Rs.20/ kg पर खरीदा है, और वह 1 kg के बजाय 800 g देता है। उसका वास्तविक लाभ प्रतिशत क्या है?

- Ans
- 1. 43.75%
 - 2. 40%
 - 3. 56.25%
 - 4. 50%

Question ID : 26433072968

Status : Answered

Chosen Option : 1

Q.5 ₹9 प्रति kg की कीमत वाले 20 kg चावल को ₹10 प्रति kg की कीमत वाले 25 kg चावल के साथ मिलाया गया है। 1 kg मिश्रित चावल की औसत कीमत क्या है? (एक दशमलव स्थान तक पूर्णांकित)

- Ans
- 1. ₹9.5
 - 2. ₹7.2
 - 3. ₹6.3
 - 4. ₹8.5

Question ID : 26433079999

Status : Answered

Chosen Option : 1

Q.6 1750 के 20% के 10% का मान क्या होगा?

- Ans
- 1. 30
 - 2. 35
 - 3. 32
 - 4. 28

Question ID : 26433075646

Status : Answered

Chosen Option : 1

Q.7 2.16, 2.44 और 3.36 का सबसे बड़ा उभयनिष्ठ भाजक (महत्तम समापवर्तक) ज्ञात कीजिए।

- Ans
- 1. 0.03
 - 2. 0.05
 - 3. 0.02
 - 4. 0.04

Question ID : 26433091510

Status : Not Attempted and Marked For Review

Chosen Option : --

Q.8 एक नाव स्थिर जल में 10 km/h की चाल से चल सकती है। यदि धारा की चाल 2 km/h है, तो धारा की दिशा में 72 km जाने में नाव द्वारा लिया गया समय ज्ञात करें।

- Ans
- 1. 6 घंटा
 - 2. 7 घंटा
 - 3. 5 घंटा
 - 4. 4 घंटा

Question ID : 26433080133

Status : Answered

Chosen Option : 1

Q.9 एक डीलर अपनी वस्तुओं को क्रय मूल्य पर बेचने का खुलेआम दावा करता है, लेकिन वह एक किलोग्राम वाले बाट के स्थान पर 735 ग्राम वाले गलत बाट को व्यवहार में लाता है। डीलर का लाभ प्रतिशत (दशमलव के दो स्थान तक सही) _____ है।

- Ans
- 1. 38.15%
 - 2. 36.05%
 - 3. 40.05%
 - 4. 35.25%

Question ID : 26433074924

Status : Answered

Chosen Option : 2

Q.10 यदि $48, x^2$ और 27 समानुपात में हों, तो x का मान क्या है?

- Ans
- 1. 36
 - 2. 16
 - 3. 6
 - 4. 4

Question ID : 26433075437

Status : Answered

Chosen Option : 3

Q.11 A और B एक काम क्रमशः 60 दिन और 75 दिन में पूरा कर सकते हैं। यदि वे एक साथ कार्य करते हैं तो काम पूरा करने में कितने दिन लगेंगे?

- Ans
- 1. 35.5
 - 2. 35
 - 3. $33\frac{1}{3}$
 - 4. 36

Question ID : 26433079890

Status : Answered

Chosen Option : 3

Q.12 अमन, रमन और यश मिलकर एक कार्य को 29 दिनों में पूरा कर सकते हैं। रमन और यश मिलकर समान कार्य को 58 दिनों में पूरा कर सकते हैं। अमन, रमन और यश मिलकर एक साथ कार्य शुरू करते हैं लेकिन अमन 15 दिनों के बाद कार्य छोड़ देता है। दिनों की संख्या ज्ञात करें जिसमें रमन और यश ने शेष कार्य को पूरा किया।

- Ans
- 1. 28 दिन
 - 2. 54 दिन
 - 3. 21 दिन
 - 4. 50 दिन

Question ID : 264330116893

Status : Not Attempted and Marked For Review

Chosen Option : --

Q.13 एक दुकानदार एक वस्तु पर 20% की छूट देता है। ₹600 अंकित मूल्य वाली वस्तु का विक्रय मूल्य क्या होगा?

- Ans
- 1. ₹400
 - 2. ₹420
 - 3. ₹450
 - 4. ₹480

Question ID : 26433087363

Status : Answered

Chosen Option : 4

Q.14 आम रस के एक कार्टन में 500 ml होता है। एक विशेष ऑफर के कार्टन में अतिरिक्त 15 प्रतिशत होता है। विशेष ऑफर कार्टन में कितना आम रस है?

- Ans
- 1. 640 ml
 - 2. 590 ml
 - 3. 545 ml
 - 4. 575 ml

Question ID : 264330116813

Status : Answered

Chosen Option : 4

Q.15 दो नाव A और B एक दूसरे की ओर 272 km की दूरी पर स्थित दो स्थानों से चलना आरंभ होती हैं। शांत जल में नाव A और B की चाल क्रमशः 32 km/h और 36 km/h है। यदि A धारा के दिशा में चलती है और B धारा के विपरीत दिशा में चलती है, तो वे एक-दूसरे से कितने समय में मिलेंगी?

- Ans
- 1. 5 घंटे
 - 2. 3 घंटे
 - 3. 6 घंटे
 - 4. 4 घंटे

Question ID : 26433075520

Status : Not Answered

Chosen Option : --

Q.16 किसी वस्तु का सूची मूल्य निर्धारित कीजिए यदि उस वस्तु पर 10% की छूट ₹100 होती है।

- Ans
- 1. ₹1,500
 - 2. ₹1,200
 - 3. ₹800
 - 4. ₹1,000

Question ID : 26433061359

Status : Answered

Chosen Option : 4

Q.17 3 वर्षों में ₹75,000 का वार्षिक चक्रवृद्धि आधार पर गणना करने पर चक्रवृद्धि ब्याज कितना होगा, यदि ब्याज दर पहले वर्ष के लिए 5% और दूसरे वर्ष के लिए 6% तथा तीसरे वर्ष के लिए 8% हो?

- Ans
- 1. ₹15,153
 - 2. ₹15,150
 - 3. ₹15,160
 - 4. ₹15,260

Question ID : 26433080193

Status : Not Answered

Chosen Option : --

Q.18 राकेश को 10 cm ऊँचाई और 10 cm त्रिज्या वाले एक बेलनाकार कंटेनर को 5 cm त्रिज्या के एक अर्धगोलाकार कटोरे से पानी भरना है। टैंक को पूरी तरह से पानी से भरने के लिए उसे अर्धगोलाकार कटोरे से बेलनाकार कंटेनर में कितनी बार पानी डालना होगा?

- Ans
- 1. 15
 - 2. 12
 - 3. 16
 - 4. 19

Question ID : 26433075329

Status : Not Answered

Chosen Option : --

Q.19

$\left[3\frac{1}{2} \div \left\{1\frac{1}{4} - \left(\frac{1}{2} + \frac{1}{3}\right)\right\} + \frac{7}{5}\right]$ का मान ज्ञात कीजिए।

Ans

1. 5

2. $9\frac{4}{5}$

3. $8\frac{5}{6}$

4. 7

Question ID : 26433074446

Status : Not Answered

Chosen Option : --

Q.20 दो संख्याएँ 2 : 3 के अनुपात में हैं। यदि प्रत्येक संख्या में से 7 घटाया जाए, तो नई संख्याएँ 7 : 11 के अनुपात में होती हैं। छोटी संख्या कौन-सी है?

Ans 1. 45

2. 65

3. 54

4. 56

Question ID : 26433076375

Status : Not Answered

Chosen Option : --

Section : Part-D-English

Q.1 Select the most appropriate ANTONYM of the given word.

Smart

Ans 1. Speedy

2. Elegant

3. Shabby

4. Leisurely

Question ID : 26433084686

Status : Not Answered

Chosen Option : --

Q.2 Parts of the following sentence have been given as options. One of them may contain an error. Select the part that contains the error from the given options. If you don't find any error, mark 'No error' as your answer.

How foolish I was to have believe that young woman!

- Ans
- 1. How foolish I was
 - 2. to have believe
 - 3. that young woman
 - 4. No error

Question ID : 26433090483
Status : Not Answered
Chosen Option : --

Q.3 Select the correctly spelt word.

- Ans
- 1. Entrepreneur
 - 2. Entreprineyour
 - 3. Entrepreneur
 - 4. Entripreiniur

Question ID : 26433086496
Status : Not Answered
Chosen Option : --

Q.4 Select the most appropriate synonym of the word given in brackets to fill in the blank.

Some women have reached the _____ (peak) in their profession.

- Ans
- 1. crossroads
 - 2. sky
 - 3. finale
 - 4. zenith

Question ID : 26433070469
Status : Not Answered
Chosen Option : --

Q.5 Select the most appropriate meaning of the given idiom.

Up a creek without a paddle

- Ans
- 1. In a troublesome and serious situation
 - 2. In a satisfied and calm atmosphere
 - 3. In a partially complete construction work
 - 4. In an unfinished mission

Question ID : 26433073481
Status : Not Answered
Chosen Option : --

Q.6 Select the INCORRECTLY spelt word.

- Ans
- 1. Quickly
 - 2. Bravely
 - 3. Slowly
 - 4. Hapily

Question ID : 26433071818
Status : Not Answered
Chosen Option : --

Q.7 Select the most appropriate meaning of the underlined idiom in the given sentence.

An ox on their tongue was the only way officers would have allowed him to carry on the unlawful activities he was involved in.

- Ans
- 1. Bribed to remain silent
 - 2. Being frank
 - 3. Telling lies
 - 4. Getting no appreciation

Question ID : 26433072091
Status : Not Answered
Chosen Option : --

Q.8 Select the most appropriate ANTONYM of the underlined word in the given sentence.

She is found to pass derogatory remarks to others.

- Ans
- 1. critical
 - 2. cunning
 - 3. sarcastic
 - 4. appreciative

Question ID : 26433092094
Status : Not Answered
Chosen Option : --

Q.9 Select the most appropriate option that can substitute the underlined segment in the given sentence.

The marksheets of many students have been withheld by the university.

- Ans
- 1. kept back
 - 2. handed out
 - 3. gone through
 - 4. given away

Question ID : 26433099872
Status : Not Answered
Chosen Option : --

Q.10 Select the most appropriate option that can substitute the underlined segment in the given sentence. If there is no need to substitute it, select 'No substitution'.

You cannot walk throughout deserts by bare feet or they'll get burned.

- Ans 1. No substitution
 2. through deserts on
 3. through deserts by
 4. though deserts on

Question ID : 26433088910
Status : Not Answered
Chosen Option : --

Q.11 Select the most appropriate synonym of the given word.

Obliterate

- Ans 1. Assist
 2. Erase
 3. Create
 4. Construct

Question ID : 26433088203
Status : Not Answered
Chosen Option : --

Q.12 Select the most appropriate ANTONYM of the given word.

Flexible

- Ans 1. Staunch
 2. Snobbish
 3. Hysterical
 4. Obstinate

Question ID : 26433091822
Status : Not Answered
Chosen Option : --

Q.13 Select the most appropriate synonym of the word given in brackets to fill in the blank.

I suppose it is a _____ (fair) solution to the problem at hand.

- Ans 1. exhibition
 2. pale
 3. bright
 4. reasonable

Question ID : 26433072110
Status : Not Answered
Chosen Option : --

Q.14 Select the most appropriate option that can substitute the underlined segment in the given sentence.

His wife has a bad habit for accusing him for others' mistakes too.

- Ans
- 1. habit in accusing him
 - 2. habit of accusing him
 - 3. habit at accusing him
 - 4. habit on accusing him

Question ID : 26433091966

Status : Not Answered

Chosen Option : --

Q.15 Select the most appropriate synonym of the given word.

Hypocrisy

- Ans
- 1. Inaccuracy
 - 2. Trickery
 - 3. Honesty
 - 4. Sincerity

Question ID : 26433074049

Status : Not Answered

Chosen Option : --

Comprehension:

In the following passage, some words have been deleted. Read the passage carefully and select the most appropriate option to fill in each blank.

Road rage is a common (1)_____ in most parts of the world. Although there are a few countries where the drivers involved just stay stationed (2)_____ the police arrive, without getting into any argument, it is not the case in many other countries. There have been instances where people (3)_____ killed due to road rage because of the collision or even a minor scratch to one or two of the vehicles involved. Although the insurance companies are doing their best to (4)_____ for the losses, the number of instances of road rage continues to (5)_____.

SubQuestion No : 16

Q.16 Select the most appropriate option to fill in blank number 1.

- Ans
- 1. structure
 - 2. dominion
 - 3. phenomenon
 - 4. pavilion

Question ID : 26433091794

Status : Not Answered

Chosen Option : --

Comprehension:

In the following passage, some words have been deleted. Read the passage carefully and select the most appropriate option to fill in each blank.

Road rage is a common (1)_____ in most parts of the world. Although there are a few countries where the drivers involved just stay stationed (2)_____ the police arrive, without getting into any argument, it is not the case in many other countries. There have been instances where people (3)_____ killed due to road rage because of the collision or even a minor scratch to one or two of the vehicles involved. Although the insurance companies are doing their best to (4)_____ for the losses, the number of instances of road rage continues to (5)_____.

SubQuestion No : 17

Q.17 Select the most appropriate option to fill in blank number 2.

- Ans** 1. along
 2. besides
 3. till
 4. for

Question ID : 26433091795

Status : Not Answered

Chosen Option : --

Comprehension:

In the following passage, some words have been deleted. Read the passage carefully and select the most appropriate option to fill in each blank.

Road rage is a common (1)_____ in most parts of the world. Although there are a few countries where the drivers involved just stay stationed (2)_____ the police arrive, without getting into any argument, it is not the case in many other countries. There have been instances where people (3)_____ killed due to road rage because of the collision or even a minor scratch to one or two of the vehicles involved. Although the insurance companies are doing their best to (4)_____ for the losses, the number of instances of road rage continues to (5)_____.

SubQuestion No : 18

Q.18 Select the most appropriate option to fill in blank number 3.

- Ans** 1. where
 2. are
 3. would
 4. were

Question ID : 26433091796

Status : Not Answered

Chosen Option : --

Comprehension:

In the following passage, some words have been deleted. Read the passage carefully and select the most appropriate option to fill in each blank.

Road rage is a common (1)_____ in most parts of the world. Although there are a few countries where the drivers involved just stay stationed (2)_____ the police arrive, without getting into any argument, it is not the case in many other countries. There have been instances where people (3)_____ killed due to road rage because of the collision or even a minor scratch to one or two of the vehicles involved. Although the insurance companies are doing their best to (4)_____ for the losses, the number of instances of road rage continues to (5)_____.

SubQuestion No : 19

Q.19 Select the most appropriate option to fill in blank number 4.

Ans ✓ 1. compensate

✗ 2. compete

✗ 3. infiltrate

✗ 4. hesitate

Question ID : 26433091797

Status : Not Answered

Chosen Option : --

Comprehension:

In the following passage, some words have been deleted. Read the passage carefully and select the most appropriate option to fill in each blank.

Road rage is a common (1)_____ in most parts of the world. Although there are a few countries where the drivers involved just stay stationed (2)_____ the police arrive, without getting into any argument, it is not the case in many other countries. There have been instances where people (3)_____ killed due to road rage because of the collision or even a minor scratch to one or two of the vehicles involved. Although the insurance companies are doing their best to (4)_____ for the losses, the number of instances of road rage continues to (5)_____.

SubQuestion No : 20

Q.20 Select the most appropriate option to fill in blank number 5.

Ans ✗ 1. oscillate

✓ 2. escalate

✗ 3. ruminare

✗ 4. weaken

Question ID : 26433091798

Status : Not Answered

Chosen Option : --

Q.1 वर्तनी की दृष्टि से अशुद्ध वाक्य का चयन कीजिए-

- Ans
- 1. मैं आपसे असहमत नहीं हूँ।
 - 2. माउंट आबू के मंदिर देखने लायक हैं।
 - 3. मेरे पास चार रूपए से अधिक नहीं हैं।
 - 4. यह प्रस्ताव सब को स्वीकार्य है।

Question ID : 26433062889

Status : Answered

Chosen Option : 1

Q.2 निम्न में से किस वाक्य में 'अधम' के सही पर्यायवाची शब्द का प्रयोग हुआ है?

- Ans
- 1. वह बहुत नीच व्यक्ति है।
 - 2. मोहन अत्यंत विद्वान है।
 - 3. यह रास्ता नीचे की ओर जाता है।
 - 4. राकेश सदैव अधर्म का पक्ष लेता है।

Question ID : 26433067011

Status : Answered

Chosen Option : 1

Q.3 निम्नलिखित शब्दों में से कौन सा शब्द द्रव्यवाचक संज्ञा शब्द है?

- Ans
- 1. कोयला
 - 2. साहस
 - 3. सूरज
 - 4. विद्यार्थी

Question ID : 26433085026

Status : Not Answered

Chosen Option : --

Q.4 'जिसमें दया की भावना न हो' वाक्यांश के लिए उचित शब्द क्या होगा?

- Ans
- 1. अभय
 - 2. निर्जीव
 - 3. निर्भय
 - 4. निर्दय

Question ID : 26433067066

Status : Answered

Chosen Option : 4

Q.5 निम्नलिखित विकल्पों में से 'जो जाना न जा सके' वाक्यांश के लिए एक सार्थक शब्द क्या होगा?

- Ans
- 1. सर्वज्ञ
 - 2. अनन्य
 - 3. अज्ञेय
 - 4. प्रमेय

Question ID : 26433062472

Status : Not Answered

Chosen Option : --

Q.6 निम्नलिखित वाक्य में रेखांकित खंड के स्थान पर प्रयुक्त होने वाले सबसे उपयुक्त विकल्प का चयन कीजिए।

अंशु ने अलमारी से पुस्तक निकाला।

- Ans
- 1. निकाल
 - 2. निकाले
 - 3. निकाली
 - 4. निकली

Question ID : 26433079568

Status : Answered

Chosen Option : 3

Q.7 'अव्यवस्था' के लिए विलोम शब्द होगा-

- Ans
- 1. गड़बड़
 - 2. कुव्यवस्था
 - 3. सुव्यवस्था
 - 4. अराजकता

Question ID : 26433085077

Status : Answered

Chosen Option : 3

Q.8 वर्तनी की दृष्टि से अशुद्ध वाक्य का चयन कीजिए-

- Ans
- 1. यद्यपि शेर घायल हो गया तथापि वह मारा नहीं गया।
 - 2. यदि दवा लगे तो बूखार कम हो जाएगा।
 - 3. मोहन एक पुस्तक चाहता था और वह उसे मिल गई।
 - 4. मनोहर या तो स्वयं आयेगा या तार भेजेगा।

Question ID : 26433062897

Status : Not Answered

Chosen Option : --

Q.9 चाँद की अपनी रौशनी नहीं होती अपितु वह _____ से प्रकाश पाता है।
'सूरज' के पर्याय से उपरोक्त वाक्य के रिक्त स्थान की पूर्ति कीजिए।

- Ans
- 1. ललित
 - 2. भूधर
 - 3. आदित्य
 - 4. हिमकर

Question ID : 26433084987

Status : Answered

Chosen Option : 3

Q.10 'जो भू के गर्भ का हाल जानता हो' वाक्यांश के लिए इनमें से सही शब्द क्या है?

- Ans
- 1. भूगर्भवेत्ता
 - 2. ब्रह्मज्ञानी
 - 3. परमेश्वर
 - 4. परमज्ञानी

Question ID : 26433070149

Status : Answered

Chosen Option : 1

Q.11 निम्नलिखित शब्दों में से कौन सा शब्द क्रिया विशेषण शब्द नहीं है?

- Ans
- 1. कल
 - 2. क्या
 - 3. जब
 - 4. कब

Question ID : 26433085045

Status : Answered

Chosen Option : 1

Q.12 दिए गए मुहावरे में रेखांकित अंश के स्थान पर सबसे उपयुक्त विकल्प कौन-सा होगा?
'करत करत अभ्यास के आदमी होत सुजान'

- Ans
- 1. राजा
 - 2. जड़मति
 - 3. बुद्धिमति
 - 4. मनुष्य

Question ID : 26433066741

Status : Answered

Chosen Option : 4

Q.13 'हथेली पर सरसों जमाना' मुहावरे का सही अर्थ है -

- Ans
- 1. अच्छी फ़सल होना
 - 2. कम समय में कठिन कार्य करने की कोशिश करना
 - 3. दूसरे की भलाई के लिए खुद को मुश्किल में डालना
 - 4. कृषि करना

Question ID : 26433065929

Status : Answered

Chosen Option : 2

Q.14 निम्न वाक्य में रेखांकित शब्द के विलोम से रिक्त स्थान की पूर्ति कीजिए।
'जब आदि से सब कुछ अच्छा हो तो _____ भी भला ही होता है।'

- Ans
- 1. परिणाम
 - 2. अंत
 - 3. भविष्य
 - 4. आरम्भ

Question ID : 26433085001

Status : Answered

Chosen Option : 1

Q.15 नीचे दिए गए वाक्य में रेखांकित अंश के स्थान पर सबसे उपयुक्त विकल्प कौन-सा होगा?
मेरे को दिल्ली जाना है।

- Ans
- 1. तेरे को
 - 2. इसका
 - 3. इसकी
 - 4. मुझे

Question ID : 26433066716

Status : Answered

Chosen Option : 4

Comprehension:

निम्न गद्यांश के आधार पर प्रश्न संख्या 1-5 के उत्तर दीजिए।

निबंध शब्द अंग्रेजी के 'Essay' का हिंदी पर्याय है। जिसका शाब्दिक अर्थ है- किसी विषय पर विचारों को सूत्रबद्ध करना, एकत्र करना, संचित कर संगठित करना आदि। विचार प्रधान रचना ही निबंध का अर्थ वहन करने में सक्षम कही जा सकती है। विषय का तार्किक विश्लेषण, रोचकता, सरसता, पाठकों से आत्मीयता, कलात्मक वैशिष्ट्य निबंध के प्रमुख गुण हैं। निबंध विधा का विकास आधुनिक युग में हुआ है। संस्कृत साहित्य में निबंध बौद्धिक अभिव्यक्ति का माध्यम भर थे। निजी अनुभूति, सहजता, स्वच्छन्दता, प्रभावान्विति जैसे गुणों का इनमें अभाव था। आधुनिक युग का निबंध साहित्य इससे सर्वथा भिन्न है। किसी भी विषय पर व्यक्तिगत विचारों को अभिव्यक्ति प्रदान करते हुए निबंधकार स्वच्छंद चिंतन द्वारा विषय के प्रतिपादन में नवीनता लाता है। किसी भी विषय पर निबंध रचना की जा सकती है। यथा- सुधारात्मक प्रवृत्ति प्रधान, समीक्षात्मक, भाव प्रवण, राष्ट्रीय चेतना प्रधान, मनोविकारों संबंधी। सुगठित कलेवर में श्रृंखलाबद्ध ढंग से विवेचन कर निबंधकार श्रेष्ठ निबंधों की रचना कर सकता है। संस्कृत की इस उक्ति कि- "गद्य कवियों की कसौटी है।" पर आचार्य रामचंद्र शुक्ल का यह कथन- "कि यदि पद्य कवियों की कसौटी तो निबंधकार गद्य की कसौटी है।" निबंध कला का महत्व दर्शाने के लिए पर्याप्त है।

SubQuestion No : 16

Q.16 गद्यांश के अनुसार किस प्रकार की रचना निबंध का अर्थ वहन करने में सक्षम है?

Ans 1. राष्ट्रीय रचना

2. विचार प्रधान रचना

3. विशेष रचना

4. स्वच्छंद

Question ID : 26433080960

Status : Not Answered

Chosen Option : --

Comprehension:

निम्न गद्यांश के आधार पर प्रश्न संख्या 1-5 के उत्तर दीजिए।

निबंध शब्द अंग्रेजी के 'Essay' का हिंदी पर्याय है। जिसका शाब्दिक अर्थ है- किसी विषय पर विचारों को सूत्रबद्ध करना, एकत्र करना, संचित कर संगठित करना आदि। विचार प्रधान रचना ही निबंध का अर्थ वहन करने में सक्षम कही जा सकती है। विषय का तार्किक विश्लेषण, रोचकता, सरसता, पाठकों से आत्मीयता, कलात्मक वैशिष्ट्य निबंध के प्रमुख गुण हैं। निबंध विधा का विकास आधुनिक युग में हुआ है। संस्कृत साहित्य में निबंध बौद्धिक अभिव्यक्ति का माध्यम भर थे। निजी अनुभूति, सहजता, स्वच्छन्दता, प्रभावान्विति जैसे गुणों का इनमें अभाव था। आधुनिक युग का निबंध साहित्य इससे सर्वथा भिन्न है। किसी भी विषय पर व्यक्तिगत विचारों को अभिव्यक्ति प्रदान करते हुए निबंधकार स्वच्छंद चिंतन द्वारा विषय के प्रतिपादन में नवीनता लाता है। किसी भी विषय पर निबंध रचना की जा सकती है। यथा- सुधारात्मक प्रवृत्ति प्रधान, समीक्षात्मक, भाव प्रवण, राष्ट्रीय चेतना प्रधान, मनोविकारों संबंधी। सुगठित कलेवर में श्रृंखलाबद्ध ढंग से विवेचन कर निबंधकार श्रेष्ठ निबंधों की रचना कर सकता है। संस्कृत की इस उक्ति कि- "गद्य कवियों की कसौटी है।" पर आचार्य रामचंद्र शुक्ल का यह कथन- "कि यदि पद्य कवियों की कसौटी तो निबंधकार गद्य की कसौटी है।" निबंध कला का महत्व दर्शाने के लिए पर्याप्त है।

SubQuestion No : 17

Q.17 निम्नलिखित में से क्या निबंध का प्रमुख गुण नहीं है?

Ans 1. विषय का तार्किक विश्लेषण

2. कलात्मक वैशिष्ट्य

3. कवि की कलात्मकता

4. पाठकों से आत्मीयता

Question ID : 26433080961

Status : Answered

Chosen Option : 3

Comprehension:

निम्न गद्यांश के आधार पर प्रश्न संख्या 1-5 के उत्तर दीजिए।

निबंध शब्द अंग्रेजी के 'Essay' का हिंदी पर्याय है। जिसका शाब्दिक अर्थ है- किसी विषय पर विचारों को सूत्रबद्ध करना, एकत्र करना, संचित कर संगठित करना आदि। विचार प्रधान रचना ही निबंध का अर्थ वहन करने में सक्षम कही जा सकती है। विषय का तार्किक विश्लेषण, रोचकता, सरसता, पाठकों से आत्मीयता, कलात्मक वैशिष्ट्य निबंध के प्रमुख गुण हैं। निबंध विधा का विकास आधुनिक युग में हुआ है। संस्कृत साहित्य में निबंध बौद्धिक अभिव्यक्ति का माध्यम भर थे। निजी अनुभूति, सहजता, स्वच्छन्दता, प्रभावान्विति जैसे गुणों का इनमें अभाव था। आधुनिक युग का निबंध साहित्य इससे सर्वथा भिन्न है। किसी भी विषय पर व्यक्तिगत विचारों को अभिव्यक्ति प्रदान करते हुए निबंधकार स्वच्छंद चिंतन द्वारा विषय के प्रतिपादन में नवीनता लाता है। किसी भी विषय पर निबंध रचना की जा सकती है। यथा- सुधारात्मक प्रवृत्ति प्रधान, समीक्षात्मक, भाव प्रवण, राष्ट्रीय चेतना प्रधान, मनोविकारों संबंधी। सुगठित कलेवर में श्रृंखलाबद्ध ढंग से विवेचन कर निबंधकार श्रेष्ठ निबंधों की रचना कर सकता है। संस्कृत की इस उक्ति कि- "गद्य कवियों की कसौटी है।" पर आचार्य रामचंद्र शुक्ल का यह कथन- "कि यदि पद्य कवियों की कसौटी तो निबंधकार गद्य की कसौटी है।" निबंध कला का महत्व दर्शाने के लिए पर्याप्त है।

SubQuestion No : 18

Q.18 गद्यांश के अनुसार विषय में नवीनता किस प्रकार से आती है?

Ans 1. निरन्तरता से

2. स्वच्छंद चिन्तन से

3. नैतिकता से

4. आधुनिकता से

Question ID : 26433080962

Status : Answered

Chosen Option : 4

Comprehension:

निम्न गद्यांश के आधार पर प्रश्न संख्या 1-5 के उत्तर दीजिए।

निबंध शब्द अंग्रेजी के 'Essay' का हिंदी पर्याय है। जिसका शाब्दिक अर्थ है- किसी विषय पर विचारों को सूत्रबद्ध करना, एकत्र करना, संचित कर संगठित करना आदि। विचार प्रधान रचना ही निबंध का अर्थ वहन करने में सक्षम कही जा सकती है। विषय का तार्किक विश्लेषण, रोचकता, सरसता, पाठकों से आत्मीयता, कलात्मक वैशिष्ट्य निबंध के प्रमुख गुण हैं। निबंध विधा का विकास आधुनिक युग में हुआ है। संस्कृत साहित्य में निबंध बौद्धिक अभिव्यक्ति का माध्यम भर थे। निजी अनुभूति, सहजता, स्वच्छन्दता, प्रभावान्विति जैसे गुणों का इनमें अभाव था। आधुनिक युग का निबंध साहित्य इससे सर्वथा भिन्न है। किसी भी विषय पर व्यक्तिगत विचारों को अभिव्यक्ति प्रदान करते हुए निबंधकार स्वच्छंद चिंतन द्वारा विषय के प्रतिपादन में नवीनता लाता है। किसी भी विषय पर निबंध रचना की जा सकती है। यथा- सुधारात्मक प्रवृत्ति प्रधान, समीक्षात्मक, भाव प्रवण, राष्ट्रीय चेतना प्रधान, मनोविकारों संबंधी। सुगठित कलेवर में श्रृंखलाबद्ध ढंग से विवेचन कर निबंधकार श्रेष्ठ निबंधों की रचना कर सकता है। संस्कृत की इस उक्ति कि- "गद्य कवियों की कसौटी है।" पर आचार्य रामचंद्र शुक्ल का यह कथन- "कि यदि पद्य कवियों की कसौटी तो निबंधकार गद्य की कसौटी है।" निबंध कला का महत्व दर्शाने के लिए पर्याप्त है।

SubQuestion No : 19

Q.19 आचार्य रामचंद्र शुक्ल ने गद्यकार की कसौटी किसे माना है?

Ans 1. नाटक

2. निबंध

3. कहानी

4. एकांकी

Question ID : 26433080963

Status : Answered

Chosen Option : 2

Comprehension:

निम्न गद्यांश के आधार पर प्रश्न संख्या 1-5 के उत्तर दीजिए।

निबंध शब्द अंग्रेजी के 'Essay' का हिंदी पर्याय है। जिसका शाब्दिक अर्थ है- किसी विषय पर विचारों को सूत्रबद्ध करना, एकत्र करना, संचित कर संगठित करना आदि। विचार प्रधान रचना ही निबंध का अर्थ वहन करने में सक्षम कही जा सकती है। विषय का तार्किक विश्लेषण, रोचकता, सरसता, पाठकों से आत्मीयता, कलात्मक वैशिष्ट्य निबंध के प्रमुख गुण हैं। निबंध विधा का विकास आधुनिक युग में हुआ है। संस्कृत साहित्य में निबंध बौद्धिक अभिव्यक्ति का माध्यम भर थे। निजी अनुभूति, सहजता, स्वच्छन्दता, प्रभावान्विति जैसे गुणों का इनमें अभाव था। आधुनिक युग का निबंध साहित्य इससे सर्वथा भिन्न है। किसी भी विषय पर व्यक्तिगत विचारों को अभिव्यक्ति प्रदान करते हुए निबंधकार स्वच्छंद चिंतन द्वारा विषय के प्रतिपादन में नवीनता लाता है। किसी भी विषय पर निबंध रचना की जा सकती है। यथा- सुधारात्मक प्रवृत्ति प्रधान, समीक्षात्मक, भाव प्रवण, राष्ट्रीय चेतना प्रधान, मनोविकारों संबंधी। सुगठित कलेवर में श्रृंखलाबद्ध ढंग से विवेचन कर निबंधकार श्रेष्ठ निबंधों की रचना कर सकता है। संस्कृत की इस उक्ति कि- "गद्य कवियों की कसौटी है।" पर आचार्य रामचंद्र शुक्ल का यह कथन- "कि यदि पद्य कवियों की कसौटी तो निबंधकार गद्य की कसौटी है।" निबंध कला का महत्व दर्शाने के लिए पर्याप्त है।

SubQuestion No : 20

Q.20 वैशिष्ट्य शब्द का समानार्थी होगा-

- Ans
- 1. भिन्नता
 - 2. बनावट
 - 3. विशेषता
 - 4. विषय

Question ID : 26433080964

Status : Answered

Chosen Option : 3

WWW.GOVtJOBSAlert.in