

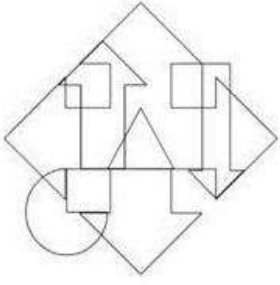
Constable GD in CAPFs SSF Rifleman GD in Assam Rifles and Sepoy in NCB Examination 2022

Roll Number	www.govtjobsalert.in
Candidate Name	www.govtjobsalert.in
Venue Name	iON Digital Zone iDZ Gram Gangedi Near Mahaveer Tapobhumi
Exam Date	10/01/2023
Exam Time	2:30 PM - 3:30 PM
Subject	Constable GD Examination 2022

Section : Part-A-General Intelligence and Reasoning

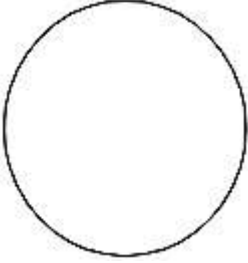
www.govtjobsalert.in

Q.1 उस विकल्प आकृति का चयन करें जो नीचे दी गई आकृति में अंतर्निहित है।
(आकृति घुमाने की अनुमति नहीं है)

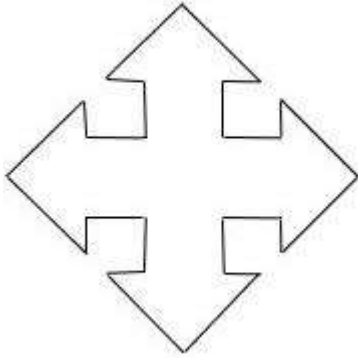


Ans


✗ 1.




✓ 2.



✗ 3.



✗ 4.



Question ID : 26433085754

Status : Answered

Chosen Option : 2

Q.2 निम्नलिखित में से कौन-सा अक्षर-समूह दी गई शृंखला में प्रश्न-चिह्न (?) के स्थान पर आएगा?
LPKT, NNMR, PLOP, ?, THSL

Ans ✗ 1. RIQN

✗ 2. SJQN

✗ 3. SJQO

✓ 4. RJQN

Question ID : 26433080688

Status : Answered

Chosen Option : 4

Q.3 एक निश्चित कूट भाषा में, 'find a solution' को '418' के रूप में कूटबद्ध किया जाता है, 'be attentive' को '29' के रूप में कूटबद्ध किया जाता है और 'answers are correct' को '737' के रूप में कूटबद्ध किया जाता है। उसी भाषा में 'check the question' को किस प्रकार कूटबद्ध किया जाएगा?

- Ans
- 1. 427
 - 2. 649
 - 3. 538
 - 4. 835

Question ID : 26433067779

Status : Answered

Chosen Option : 3

Q.4 उस विकल्प का चयन करें जो तीसरे शब्द से उसी प्रकार संबंधित है जिस प्रकार दूसरा शब्द पहले शब्द से संबंधित है।

(शब्दों को अर्थपूर्ण शब्दों के रूप में मानना है, और उन्हें शब्द में अक्षरों/व्यंजनों/स्वरों की संख्या के आधार पर एक-दूसरे से संबंधित नहीं करना है।)

मुंबई : महाराष्ट्र :: भोपाल : ?

- Ans
- 1. उत्तर प्रदेश
 - 2. मध्य प्रदेश
 - 3. दिल्ली
 - 4. आंध्र प्रदेश

Question ID : 26433087260

Status : Answered

Chosen Option : 2

Q.5 निम्नलिखित में से कौन-सी संख्या दी गई श्रृंखला में प्रश्न-चिह्न (?) का स्थान लेगी?
3, 21, 147, ?, 7203

- Ans
- 1. 1218
 - 2. 882
 - 3. 1323
 - 4. 1029

Question ID : 26433092490

Status : Answered

Chosen Option : 4

Q.6 दिए गए विकल्पों में से वह संख्या चुनिए, जो निम्नलिखित श्रृंखला में प्रश्न-चिह्न (?) को प्रतिस्थापित कर सके।

213, 216, 225, 240, 261, ?

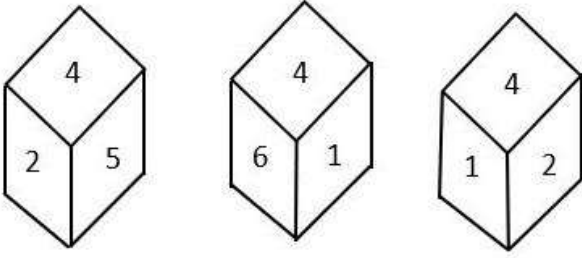
- Ans
- 1. 288
 - 2. 286
 - 3. 289
 - 4. 268

Question ID : 26433078921

Status : Answered

Chosen Option : 1

Q.7 एक ही पासे की तीन अलग-अलग स्थितियों को दर्शाया गया है। '4' दर्शाने वाले फलक के विपरीत फलक पर मौजूद संख्या ज्ञात कीजिए।



- Ans
- 1. 1
 - 2. 2
 - 3. 3
 - 4. 5

Question ID : 26433090076

Status : Answered

Chosen Option : 3

Q.8 इस प्रश्न में तीन कथन दिए गए हैं, जिसके बाद दो निष्कर्ष I और II दिए गए हैं। कथनों को सत्य मानते हुए, भले ही वे सर्वज्ञात तथ्यों से भिन्न प्रतीत होते हों, निर्णय कीजिए कि कौन-सा/से निष्कर्ष कथनों का तार्किक रूप से अनुसरण करता है/अनुसरण करते हैं।

कथन:

सभी पंखे बल्ब हैं।

सभी बल्ब ट्यूब लाइटें हैं।

कुछ ट्यूबलाइटें नए हैं।

निष्कर्ष:

I. सभी पंखे नए हैं।

II. सभी ट्यूब लाइटें पंखे हैं।

- Ans
- 1. न तो निष्कर्ष I और न ही II अनुसरण करता है।
 - 2. केवल निष्कर्ष I अनुसरण करता है।
 - 3. निष्कर्ष I और II दोनों अनुसरण करते हैं।
 - 4. केवल निष्कर्ष II अनुसरण करता है।

Question ID : 26433070381

Status : Answered

Chosen Option : 1

Q.9 सात व्यक्ति A, H, D, F, T, E और G एक सीधी पंक्ति में उत्तर की ओर मुख करके बैठे हैं। E के बाईं ओर केवल तीन व्यक्ति बैठे हैं। G और H, E के ठीक बगल में हैं। A पंक्ति के दाएं सिरे पर बैठा है। D, A के ठीक बगल में है। F, E के बाईं ओर दूसरे स्थान पर बैठा है। पंक्ति के बाएं सिरे पर कौन बैठा है?

- Ans
- 1. T
 - 2. A
 - 3. F
 - 4. D

Question ID : 26433095009

Status : Answered

Chosen Option : 1

Q.10 एक निश्चित कूट भाषा में 'FINGER' को 'HHPIDT' और 'DESTINY' को 'FDUVHPA' लिखा जाता है। उसी भाषा में 'GRANTED' किस प्रकार लिखा जाएगा?

- Ans 1. ITZPVDF
 2. IQCMVDF
 3. HTZPVCE
 4. HTCOVCE

Question ID : 26433081767

Status : Marked For Review

Chosen Option : 1

Q.11 किस विकल्प में निम्नलिखित शब्दों का वह क्रम दिया गया है, जिस क्रम में वे अंग्रेजी शब्दकोश में आते हैं?

- 1 Seminar
- 2 Semolina
- 3 Senior
- 4 September
- 5 Serious

- Ans 1. 1,3,4,2,5
 2. 5,4,3,2,1
 3. 1,2,3,4,5
 4. 5,3,4,1,2

Question ID : 26433069306

Status : Marked For Review

Chosen Option : 3

Q.12 'A + B' का अर्थ है 'A, B का पुत्र है'
'A - B' का अर्थ है 'A, B की बहन है'
'A × B' का अर्थ है 'A, B का भाई है'
'A ÷ B' का अर्थ है 'A, B की पत्नी है'
यदि $A + B ÷ C × D - E + F$ है, तो निम्न में से कौन सा कथन सही नहीं है।

- Ans 1. D, F की पुत्री है।
 2. A, C का पुत्र है।
 3. A, F का पोता है।
 4. E, B का भाई है।

Question ID : 26433090050

Status : Answered

Chosen Option : 4

Q.13 कौन-सा अक्षर-समूह दी गई शृंखला में प्रश्नचिह्न (?) के स्थान पर आकर शृंखला को पूर्ण करेगा?
AJRZ, DMTC, ?, JSXI, MVZL

- Ans 1. HRVF
 2. HPVF
 3. GPVF
 4. GRVF

Question ID : 26433067947

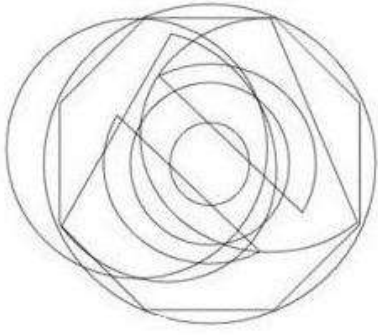
Status : Marked For Review

Chosen Option : 3

Q.14


उस विकल्प आकृति का चयन करें जो नीचे दी गई आकृति में अंतर्निहित है।

(आकृति घुमाने की अनुमति नहीं है)



Ans

✗ 1.



✗ 2.



✓ 3.



✗ 4.



Question ID : 26433085752

Status : Marked For Review

Chosen Option : 3

Q.15 उस विकल्प का चयन करें जो पांचवें अक्षर-समूह से उसी प्रकार संबंधित है जिस प्रकार दूसरा अक्षर-समूह पहले अक्षर-समूह से संबंधित है और चौथा अक्षर-समूह तीसरे अक्षर-समूह से संबंधित है।
 ROOT : QQTV :: STEM : VGUO :: LEAF : ?

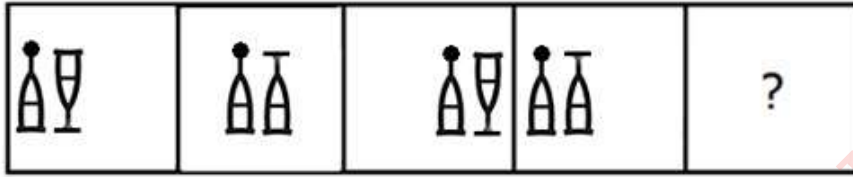
- Ans
- 1. GDNH
 - 2. GCHN
 - 3. GCNH
 - 4. NGCH

Question ID : 26433057247

Status : Not Attempted and Marked For Review

Chosen Option : --

Q.16 उस आकृति का चयन कीजिए, जो निम्नलिखित शृंखला में आगे आएगी।



Ans

- 1.
- 2.
- 3.
- 4.

Question ID : 26433079024

Status : Answered

Chosen Option : 4

Q.17 6 मित्र F, U, K, S, M और A, एक वृत्ताकार मेज के परितः केंद्र की ओर मुख करके बैठे हैं। A और S, K के ठीक बगल में बैठे हैं। F, K के सामने बैठा है। S, F के बगल में नहीं बैठा है। M, A और F के ठीक बगल में बैठा है। यदि M और S अपने स्थान आपस में परस्पर बदल लेते हैं, तो A और F के ठीक बगल में कौन बैठा है?

- Ans
- 1. M
 - 2. U
 - 3. S
 - 4. K

Question ID : 26433068077

Status : Marked For Review

Chosen Option : 3

Q.18 गणितीय चिहनों के उस सही संयोजन का चयन करें, जिसे क्रमिक रूप से * चिहनों के स्थान पर रखे जाने पर दिया गया समीकरण संतुलित हो जाएगा।

89 * 5 * 15 * 32 * 8 * 18

- Ans
- 1. $\div, +, -, \times, =$
 - 2. $-, \times, +, \div, =$
 - 3. $\times, +, \div, -, =$
 - 4. $+, -, \div, \times, =$

Question ID : 26433085357

Status : Not Attempted and Marked For Review

Chosen Option : --

Q.19 उस समुच्चय का चयन करें, जिसमें संख्याएँ उसी प्रकार संबंधित हैं, जिस प्रकार निम्नलिखित समुच्चयों की संख्याएँ हैं।

(नोट: संख्याओं को उसके घटक अंकों में विभाजित किए बिना, पूर्ण संख्याओं पर ही गणितीय संक्रियाएँ की जानी चाहिए। जैसे 13 - मान लीजिए 13 पर गणितीय संक्रियाएँ जैसे कि 13 में जोड़ना/घटाना/गुणा करना आदि किया जा सकता है। 13 को 1 और 3 में तोड़कर और फिर 1 और 3 पर गणितीय संक्रियाएँ करने की अनुमति नहीं है।)

(216, 12, 15)

(432, 23, 31)

- Ans
- 1. (304, 14, 24)
 - 2. (484, 16, 32)
 - 3. (380, 24, 18)
 - 4. (150, 11, 14)

Question ID : 26433076475

Status : Marked For Review

Chosen Option : 2

Q.20 नीचे दिए गए समीकरण को गणितीय रूप से सही बनाने के लिए किन दो चिन्हों को परस्पर बदलना चाहिए?

$$136 \div 17 + 102 - 3 \times 2 = 187$$

- Ans
- 1. + और ×
 - 2. × और -
 - 3. ÷ और -
 - 4. ÷ और ×

Question ID : 264330117569

Status : Not Attempted and Marked For Review

Chosen Option : --

Section : Part-B-General Knowledge and General awareness

Q.1 25 जून 2015 को _____ को लॉन्च किया गया, जिसका उद्देश्य वर्ष 2022 तक शहरी क्षेत्रों में सभी के लिए आवास उपलब्ध कराना है।

- Ans
- 1. वैश्विक आवास प्रौद्योगिकी चुनौती
 - 2. प्रधानमंत्री आवास योजना (शहरी)
 - 3. प्रधानमंत्री गरीब कल्याण अन्न योजना
 - 4. O-SMART योजना

Question ID : 264330116161

Status : Answered

Chosen Option : 2

Q.2 निम्नलिखित में से कौन-सा देश लुसोफोनिया खेलों का हिस्सा नहीं है?

- Ans
- 1. पुर्तगाल
 - 2. मकाउ
 - 3. जर्मनी
 - 4. भारत

Question ID : 264330115941

Status : Marked For Review

Chosen Option : 4

Q.3 RBI के अनुसार, 1980 के दशक में भारत की GDP में सेवा क्षेत्र की हिस्सेदारी कितने प्रतिशत थी?

- Ans
- 1. 38.6 प्रतिशत
 - 2. 18.6 प्रतिशत
 - 3. 58.6 प्रतिशत
 - 4. 78.6 प्रतिशत

Question ID : 264330116114

Status : Marked For Review

Chosen Option : 2

Q.4 निम्नलिखित में से कौन सा त्यौहार असम में देवी कामाख्या के मासिक धर्म की अवधि को चिह्नित करता है?

- Ans 1. अम्बुबाची मेला
 2. मोत्सु
 3. वंगाला
 4. चापचर कुट

Question ID : 264330115113
Status : Answered
Chosen Option : 1

Q.5 The _____ industry covers a wide range of products from transistor sets to television.

- Ans 1. canal irrigation
 2. fertilizer
 3. jute processing
 4. electronics

Question ID : 264330115401
Status : Answered
Chosen Option : 4

Q.6 In the Indian Constitution 'the abolition of untouchability' provision is mentioned in _____.

- Ans 1. Article 14
 2. Article 19
 3. Article 17
 4. Article 32

Question ID : 26433090671
Status : Answered
Chosen Option : 3

Q.7 In which of the following places was the Indian Grand Prix-4 held in June 2021?

- Ans 1. Jalandhar
 2. Ludhiana
 3. Amritsar
 4. Patiala

Question ID : 26433072892
Status : Marked For Review
Chosen Option : 1

Q.8 What is the colour of the flame when magnesium burns in the presence of oxygen?

- Ans
- 1. Green
 - 2. Yellow
 - 3. White
 - 4. Red

Question ID : 26433087842

Status : Marked For Review

Chosen Option : 1

Q.9 Three of the following four are examples of Coelenterata phylum, and therefore form a group. Which is the one that does not belong to that group?

- Ans
- 1. Brain coral
 - 2. Sea anemone
 - 3. Liver fluke
 - 4. Sea-pen

Question ID : 264330115186

Status : Not Attempted and
Marked For Review

Chosen Option : --

Q.10 स्वामी दयानंद सरस्वती ने एक संगठन _____, जिसने हिंदू धर्म में सुधार का प्रयास किया, की स्थापना की।

- Ans
- 1. आदि हिंदू समाज
 - 2. वेदांत समाज
 - 3. आदि धर्म समाज
 - 4. आर्य समाज

Question ID : 264330103802

Status : Answered

Chosen Option : 4

Q.11 भारत में रेडियो प्रसारण 1923 में _____ द्वारा शुरू किया गया था।

- Ans
- 1. लायंस क्लब ऑफ बॉम्बे
 - 2. रेडियो क्लब ऑफ बॉम्बे
 - 3. रोटरेक्ट क्लब ऑफ बॉम्बे
 - 4. रोटरी क्लब ऑफ बॉम्बे

Question ID : 264330115603

Status : Marked For Review

Chosen Option : 3

Q.12 निम्नलिखित में से किस गुप्त शासक को उसकी सैन्य उपलब्धियों के कारण 'भारत का नेपोलियन' कहा जाता था?

- Ans
- 1. श्रीगुप्त
 - 2. चंद्रगुप्त द्वितीय
 - 3. समुद्रगुप्त
 - 4. चंद्रगुप्त प्रथम

Question ID : 264330115455

Status : Answered

Chosen Option : 3

Q.13 While computing the national income, _____ is taken as a factor.

- Ans
- 1. Export
 - 2. Electricity bill
 - 3. Chemical used
 - 4. Road construction

Question ID : 264330115356

Status : Marked For Review

Chosen Option : 1

Q.14 2018 में, भरतनाट्यम में संगीत नाटक अकादमी पुरस्कार किसने जीता?

- Ans
- 1. राधा श्रीधर
 - 2. पसुमूर्ति रामलिंग शास्त्री
 - 3. मादम्बी सुब्रमण्यम नंबूदरी
 - 4. अखम लक्ष्मी देवी

Question ID : 264330115815

Status : Marked For Review

Chosen Option : 2

Q.15 Which Article of the Constitution of India talks about Superintendence, direction and control of elections?

- Ans
- 1. Article 324
 - 2. Article 356
 - 3. Article 367
 - 4. Article 333

Question ID : 26433074899

Status : Answered

Chosen Option : 1

Q.16 नवंबर 2022 तक की स्थिति के अनुसार, निम्नलिखित में से कौन दिल्ली, भारत का उपराज्यपाल है?

- Ans
- 1. अनिल बैजल
 - 2. मनोज सिन्हा
 - 3. अरविंद केजरीवाल
 - 4. विनय कुमार सक्सेना

Question ID : 264330114937

Status : Marked For Review

Chosen Option : 4

Q.17 ई.कृष्ण अय्यर का संबंध किस नृत्य शैली से है?

- Ans
- 1. भरतनाट्यम
 - 2. ओडिसी
 - 3. कथक
 - 4. कुचिपुड़ी

Question ID : 26433086576

Status : Answered

Chosen Option : 1

Q.18 भारत में, प्रत्येक _____ में एक बार जनसंख्या जनगणना की जाती है।

- Ans
- 1. 5 वर्ष
 - 2. 12 वर्ष
 - 3. 10 वर्ष
 - 4. 15 वर्ष

Question ID : 264330116024

Status : Answered

Chosen Option : 3

Q.19 मार्च 2022 में किस केंद्रीय मंत्री ने इंडिया वाटर पिच-पायलट-स्केल स्टार्ट-अप चैलेंज (India Water Pitch-Pilot-Scale Start-up Challenge) लॉन्च किया?

- Ans
- 1. हरदीप सिंह पुरी
 - 2. डी. थारा
 - 3. मनोज जोशी
 - 4. कौशल किशोर

Question ID : 26433081828

Status : Not Answered

Chosen Option : --

Q.20 A _____ is a barrier across flowing water that obstructs, directs or retards the flow, often creating a reservoir, lake or impoundment.

- Ans
- 1. tributary
 - 2. moat
 - 3. dam
 - 4. meander

Question ID : 26433092218

Status : Not Answered

Chosen Option : --

Section : Part-C-Elementary Mathematics

Q.1 रामू और मोहन अलग-अलग एक कार्य को क्रमशः 10 घंटे और 16 घंटे में पूरा कर सकते हैं। 2 घंटे एक साथ कार्य करने के बाद, मोहन कार्य छोड़ देता है। रामू शेष कार्य को कितने घंटे में पूरा करेगा?

- Ans
- 1. $5\frac{3}{4}$
 - 2. $7\frac{3}{4}$
 - 3. $6\frac{3}{4}$
 - 4. $6\frac{1}{4}$

Question ID : 26433075573

Status : Marked For Review

Chosen Option : 3

Q.2 20 लीटर और 36 लीटर के दो कंटेनरों में दूध और पानी का अनुपात क्रमशः 3 : 7 और 7 : 5 है। यदि दोनों कंटेनरों को एक दूसरे में मिश्रित कर दिया जाए, तो दूध और पानी का अनुपात क्या होगा?

- Ans
- 1. 21 : 23
 - 2. 21 : 25
 - 3. 27 : 29
 - 4. 9 : 13

Question ID : 26433091899

Status : Answered

Chosen Option : 3

Q.3 हर्षि ने स्टोर से एक नई स्वेटशर्ट खरीदी, जब वे 40 प्रतिशत की छूट दे रहे थे। यदि स्वेटशर्ट का अंकित मूल्य 2999 रुपए है, तो हर्षि ने छूट के साथ कितना भुगतान किया?

- Ans
- 1. 2099.20 रुपए
 - 2. 1799.40 रुपए
 - 3. 1899.80 रुपए
 - 4. 2399.50 रुपए

Question ID : 264330116730

Status : Answered

Chosen Option : 2

Q.4 एक व्यक्ति ने दो कुर्सियाँ Rs.475 प्रत्येक में बेचीं, एक पर 25% का लाभ और दूसरी पर 20% की हानि हुई। यदि उसने दोनों कुर्सियों को Rs.575 प्रत्येक में बेचा होता, तो उसका लाभ/ हानि प्रतिशत (निकटतम पूर्णांक तक पूर्णांकित) कितना होता?

- Ans
- 1. 45% लाभ
 - 2. 41% लाभ
 - 3. 25% हानि
 - 4. 18% लाभ

Question ID : 26433071284

Status : Not Attempted and Marked For Review

Chosen Option : --

Q.5 एक कार 108 km/h की चाल से एक निश्चित दूरी 3 घंटे में तय करती है। यदि चाल 27 km/h कम कर दी जाती है, तो कार द्वारा समान दूरी को तय करने में लगने वाला समय क्या होगा?

- Ans
- 1. $2\frac{1}{2}$ h
 - 2. $3\frac{1}{2}$ h
 - 3. 2 h
 - 4. 4 h

Question ID : 26433087375

Status : Answered

Chosen Option : 4

Q.6 एक चोर ने अपनी यात्रा 60 km/h की चाल से शुरू की। 30 मिनट के बाद, पुलिस ने उसी जगह से 80 km/h की चाल से पीछा करना शुरू किया। पुलिस को चोर को पकड़ने में कितना समय (घंटे में) लगेगा?

Ans

✗ 1. $\frac{5}{2}$ घंटे

✓ 2. $\frac{3}{2}$ घंटे

✗ 3. $\frac{1}{2}$ घंटे

✗ 4. $\frac{1}{3}$ घंटे

Question ID : 26433081044

Status : Answered

Chosen Option : 2

Q.7 राहुल एक निश्चित दूरी 4 km/h की चाल से तय करता है और उसी मार्ग से 3 km/h की चाल से वापस आता है। पूरी यात्रा के लिए उसकी औसत चाल क्या थी (2 दशमलव स्थानों तक सही)?

Ans

✗ 1. 5.92 km/h

✗ 2. 2.5 km/h

✓ 3. 3.43 km/h

✗ 4. 1.23 km/h

Question ID : 26433065293

Status : Answered

Chosen Option : 3

Q.8 रोहन अपनी पूरी यात्रा को तीन बराबर भागों में विभाजित करता है और अपनी कार से पहले भाग को 30 km/h की चाल से, दूसरे भाग को 40 km/h की चाल से और अंतिम भाग को 50 km/h की चाल से तय करता है। उसकी पूरी यात्रा के दौरान उसकी कार की औसत चाल (km/h में) क्या है?

Ans

✗ 1. $35\frac{14}{47}$

✗ 2. 45

✗ 3. 40

✓ 4. $38\frac{14}{47}$

Question ID : 26433075541

Status : Answered

Chosen Option : 1

Q.9 A एक कार्य को 8 दिनों में और B 24 दिनों में कर सकता है। वे एक साथ शुरू करते हैं, लेकिन कार्य पूरा होने से 4 दिन पहले, A छोड़ देता है। सम्पूर्ण कार्य को पूरा करने के लिए A और B द्वारा लिए गए दिनों की संख्या ज्ञात करें।

- Ans
- 1. 11 दिन
 - 2. 7 दिन
 - 3. 8 दिन
 - 4. 9 दिन

Question ID : 264330116845
Status : Answered
Chosen Option : 4

Q.10 एक वस्तु का मूल्य 2 वर्ष में घटकर ₹18,000 से ₹14,580 हो गया। वस्तु के मूल्य में मूल्यहास की वार्षिक दर ज्ञात करें।

- Ans
- 1. 8%
 - 2. 12%
 - 3. 10%
 - 4. 9%

Question ID : 26433082406
Status : Answered
Chosen Option : 4

Q.11 24 और 36 का तृतीय समानुपाती क्या होगा?

- Ans
- 1. 45
 - 2. 46
 - 3. 64
 - 4. 54

Question ID : 26433074993
Status : Answered
Chosen Option : 4

Q.12 दो शंकुओं के आयतन 3 : 2 के अनुपात में हैं और उनकी त्रिज्याएँ 3 : 4 के अनुपात में हैं। उनकी ऊँचाई का अनुपात क्या है?

- Ans
- 1. 9:4
 - 2. 2:1
 - 3. 4:9
 - 4. 8:3

Question ID : 26433075481
Status : Answered
Chosen Option : 4

Q.13 Rs.5,750 पर एक वर्ष के लिए 16% की दर से वार्षिक रूप से चक्रवृद्धि होने वाले ब्याज और अर्ध-वार्षिक रूप से चक्रवृद्धि होने वाले ब्याज के बीच कितना अंतर है?

- Ans
- 1. Rs.49.76
 - 2. Rs.32.58
 - 3. Rs.29.50
 - 4. Rs.36.80

Question ID : 26433064989

Status : Answered

Chosen Option : 4

Q.14 निम्नलिखित व्यंजक का मूल्यांकन कीजिए।

$$\left[\frac{-4}{7} \div \frac{1}{12}\right] \div \left[-\frac{4}{5} \times \{(-2) - (-\frac{2}{7})\}\right]$$

- Ans
- 1. 5
 - 2. -5
 - 3. $\frac{1}{5}$
 - 4. $-\frac{1}{5}$

Question ID : 26433090248

Status : Marked For Review

Chosen Option : 2

Q.15 28 के वर्ग को उस सबसे बड़ी संख्या से विभाजित किया जाता है जो 42 और 56 दोनों को पूर्णतः विभाजित कर सकती है। परिणाम क्या है?

- Ans
- 1. 56
 - 2. 28
 - 3. 42
 - 4. 14

Question ID : 264330116654

Status : Answered

Chosen Option : 1

Q.16 The curved surface area of a sphere is 1386 cm^2 . The volume of this sphere is:

- Ans
- 1. 2425.5 cm^3
 - 2. 4815 cm^3
 - 3. 4851 cm^3
 - 4. 1617 cm^3

Question ID : 26433087406

Status : Answered

Chosen Option : 3

Q.17 डिस्काउंट स्कीम के तहत 20% की छूट देने के बाद भी 10% का लाभ होता है। यह बताएं कि अंकित मूल्य क्रय मूल्य से कितने प्रतिशत अधिक है?

- Ans
- 1. 40%
 - 2. 35.2%
 - 3. 39%
 - 4. 37.5%

Question ID : 26433083042

Status : Answered

Chosen Option : 4

Q.18 एक मेज जिसका अंकित मूल्य रु. 300 है, को 20% और 10% की दो क्रमिक छूट पर बेचा जाता है। अगर इसके अलावा, नकद भुगतान पर 5% की छूट की पेशकश की जाती है, तो मेज के लिए नकद मूल्य _____ है।

- Ans
- 1. ₹240.25
 - 2. ₹205.20
 - 3. ₹210.25
 - 4. ₹216.50

Question ID : 26433082095

Status : Marked For Review

Chosen Option : 2

Q.19 एक चुनाव में दो उम्मीदवार A और B थे। निर्वाचन क्षेत्र में मतदाताओं की कुल संख्या 90000 थी और कुल मतों का 70% मतदान हुआ था। यदि मतदान में से 60% मत A के पक्ष में डाले गए, तो B को कितने मत प्राप्त हुए?

- Ans
- 1. 28600
 - 2. 28500
 - 3. 25200
 - 4. 28700

Question ID : 26433079770

Status : Answered

Chosen Option : 3

Q.20 पेट्रोल की कीमत Rs.92 प्रति लीटर से बढ़ाकर Rs.96.5 प्रति लीटर कर दी गई है। पेट्रोल की कीमत में कितने प्रतिशत की वृद्धि हुई है?

- Ans 1. 4.9%
2. 4.7%
3. 4.5%
4. 5.1%

Question ID : 26433071246

Status : Marked For Review

Chosen Option : 1

Section : Part-D-English

Q.1 Select the most appropriate option that can substitute the underlined segment in the given sentence.

The participants are rehearse their roles.

- Ans 1. has been rehearsing
2. are rehearsing
3. are rehearsed
4. have rehearse

Question ID : 26433091869

Status : Not Answered

Chosen Option : --

Q.2 Select the most appropriate synonym of the given word.

Sumptuous

- Ans 1. Humble
2. Mammoth
3. Lavish
4. Minuscule

Question ID : 26433073980

Status : Not Answered

Chosen Option : --

Q.3 Identify the correctly spelt sentence.

- Ans 1. My grandfather planted cauliflower in the garden.
2. My grandfather planted cauleflower in the garden.
3. My grandfather planted couliflower in the garden.
4. My grandfather planted kauliflower in the garden.

Question ID : 26433072831

Status : Not Answered

Chosen Option : --

Q.4 Select the most appropriate ANTONYM of the given word.

Anxious

- Ans
- 1. Considerate
 - 2. Stealthy
 - 3. Unconcerned
 - 4. Haughty

Question ID : 26433074380
Status : Not Answered
Chosen Option : --

Q.5 Select the most appropriate option to fill in the blank.

_____ men command respect.

- Ans
- 1. Wholly
 - 2. Holy
 - 3. Holly
 - 4. Holey

Question ID : 26433073934
Status : Not Answered
Chosen Option : --

Q.6 Select the most appropriate meaning of the given idiom.

After one's own heart

- Ans
- 1. Having likes and dislikes similar to one's own
 - 2. Having likes and dislikes dissimilar to one's own
 - 3. Having likes and dislikes far to one's own
 - 4. Having a face as one's own

Question ID : 26433072278
Status : Not Answered
Chosen Option : --

Q.7 Select the most appropriate homonym to fill in the blank.
He confessed about his affairs as the _____ made him sleepless.

- Ans
- 1. gild
 - 2. guilt
 - 3. gilled
 - 4. guild

Question ID : 26433058525
Status : Not Answered
Chosen Option : --

Q.8 Select the most appropriate ANTONYM of the italicised word in the given sentence.

It is *absurd* to argue about this.

- Ans
- 1. fundamental
 - 2. reasonable
 - 3. facetious
 - 4. amazing

Question ID : 26433096209
Status : Not Answered
Chosen Option : --

Q.9 Select the most appropriate idiom to substitute the underlined group of words in the given sentence.

Once in a year, the management of the institute surveys the whole situation.

- Ans
- 1. comes to the front
 - 2. take stock of
 - 3. makes a mark
 - 4. perplexed with

Question ID : 26433073878
Status : Not Answered
Chosen Option : --

Q.10 Select the most appropriate synonym of the underlined word.

Music is a therapy for everyone – plants, birds, animals and human-beings – to flourish and rejuvenate.

- Ans
- 1. fortify
 - 2. refreshen
 - 3. modify
 - 4. prosper

Question ID : 26433089100
Status : Not Answered
Chosen Option : --

Q.11 Select the most appropriate option to fill in the blank.

We would _____ to travel by train rather than bus due to the poor road conditions in the village.

- Ans
- 1. drop
 - 2. assure
 - 3. prefer
 - 4. make it

Question ID : 26433091877
Status : Not Answered
Chosen Option : --

Q.12 Select the correct pair of words for the blanks in the given sentence.

My cousin likes _____ root and _____ around the bush is one of the idioms in English.

- Ans
- 1. beat; beet
 - 2. beat; beat
 - 3. beet; beet
 - 4. beet; beat

Question ID : 26433060543

Status : Not Answered

Chosen Option : --

Q.13 Select the option with the correct spelling to replace the underlined word in the given sentence.

She hit him in a moment of abomination.

- Ans
- 1. aberration
 - 2. aberattion
 - 3. aberation
 - 4. abberation

Question ID : 26433094408

Status : Not Answered

Chosen Option : --

Q.14 Select the most appropriate option that can substitute the underlined segment in the given sentence.

The students were boring by the lecture delivered on environmental issues.

- Ans
- 1. The students were bores
 - 2. The students bored
 - 3. The students were barring
 - 4. The students were bored

Question ID : 26433091771

Status : Not Answered

Chosen Option : --

Q.15 The following sentence has been divided into parts. One of them may contain an error. Select the part that contains the error from the given options. If you don't find any error, mark 'No error' as your answer.

Our soldiers have being / making a clean sweep of the / sheep and poultry on the route.

- Ans
- 1. sheep and poultry on the route
 - 2. Our soldiers have being
 - 3. No error
 - 4. making a clean sweep of the

Question ID : 264330114510

Status : Not Answered

Chosen Option : --

Comprehension:

In the following passage, some words have been deleted. Read the passage carefully and select the most appropriate option to fill in each blank.

Children especially (1)_____ avoid such foods or try to reduce intake and instead, eat healthy food for (2)_____ growth. Schools can (3)_____ the quality of the food being sold in the canteens and also ensure that the children bring wholesome nutrition food (4)_____ home. (5)_____ should be appointed to check the calories content and food value of food served in the canteens and setting definite tiffin patterns.

SubQuestion No : 16

Q.16 Select the most appropriate option to fill in blank number 1.

Ans ✓ 1. should

✗ 2. will

✗ 3. shall

✗ 4. might

Question ID : 26433089046

Status : Not Answered

Chosen Option : --

Comprehension:

In the following passage, some words have been deleted. Read the passage carefully and select the most appropriate option to fill in each blank.

Children especially (1)_____ avoid such foods or try to reduce intake and instead, eat healthy food for (2)_____ growth. Schools can (3)_____ the quality of the food being sold in the canteens and also ensure that the children bring wholesome nutrition food (4)_____ home. (5)_____ should be appointed to check the calories content and food value of food served in the canteens and setting definite tiffin patterns.

SubQuestion No : 17

Q.17 Select the most appropriate option to fill in blank number 2.

Ans ✗ 1. awkward

✗ 2. elegant

✓ 3. proper

✗ 4. interesting

Question ID : 26433089047

Status : Not Answered

Chosen Option : --

Comprehension:

In the following passage, some words have been deleted. Read the passage carefully and select the most appropriate option to fill in each blank.

Children especially (1)_____ avoid such foods or try to reduce intake and instead, eat healthy food for (2)_____ growth. Schools can (3)_____ the quality of the food being sold in the canteens and also ensure that the children bring wholesome nutrition food (4)_____ home. (5)_____ should be appointed to check the calories content and food value of food served in the canteens and setting definite tiffin patterns.

SubQuestion No : 18

Q.18 Select the most appropriate option to fill in blank number 3.

- Ans** 1. monitor
 2. proclaim
 3. allow
 4. show

Question ID : 26433089048

Status : Not Answered

Chosen Option : --

Comprehension:

In the following passage, some words have been deleted. Read the passage carefully and select the most appropriate option to fill in each blank.

Children especially (1)_____ avoid such foods or try to reduce intake and instead, eat healthy food for (2)_____ growth. Schools can (3)_____ the quality of the food being sold in the canteens and also ensure that the children bring wholesome nutrition food (4)_____ home. (5)_____ should be appointed to check the calories content and food value of food served in the canteens and setting definite tiffin patterns.

SubQuestion No : 19

Q.19 Select the most appropriate option to fill in blank number 4.

- Ans** 1. from
 2. in
 3. through
 4. with

Question ID : 26433089049

Status : Not Answered

Chosen Option : --

Comprehension:

In the following passage, some words have been deleted. Read the passage carefully and select the most appropriate option to fill in each blank.

Children especially (1)_____ avoid such foods or try to reduce intake and instead, eat healthy food for (2)_____ growth. Schools can (3)_____ the quality of the food being sold in the canteens and also ensure that the children bring wholesome nutrition food (4)_____ home. (5)_____ should be appointed to check the calories content and food value of food served in the canteens and setting definite tiffin patterns.

SubQuestion No : 20

Q.20 Select the most appropriate option to fill in blank number 5.

- Ans 1. Opticians
 2. Technicians
 3. Dieticians
 4. Paediatricians

Question ID : 26433089050

Status : Not Answered

Chosen Option : --

Section : Part-D-Hindi

Q.1 'किसी पदार्थ या राज्य का दूसरे पदार्थ या राज्य में मिल जाना'- वाक्यांश के लिए एक शब्द होगा-

- Ans 1. एकीकरण
 2. विलय
 3. संगम
 4. सहयोग

Question ID : 26433065727

Status : Marked For Review

Chosen Option : 2

Q.2 वर्तनी की दृष्टि से दिए गए वाक्य के अशुद्ध भाग का चयन कीजिए-
पूर्ण स्वस्थ के लिए शुद्ध आहार-विहार आवश्यक है।

- Ans 1. आवश्यक है।
 2. आहार-विहार
 3. पूर्ण स्वस्थ
 4. के लिए शुद्ध

Question ID : 26433062885

Status : Marked For Review

Chosen Option : 3

Q.3 'वह धन जो आधिकारिक रूप से राज्य को मिलता हो' - वाक्यांश के लिए एक शब्द होगा

- Ans
- 1. राजस्व
 - 2. चुंगी
 - 3. कर
 - 4. राजधन

Question ID : 26433065729

Status : Answered

Chosen Option : 1

Q.4 निम्नलिखित वाक्यों में रिक्त स्थान की पूर्ति उचित एकार्थी शब्द-युग्म से करें-
साहसी व्यक्ति _____ हो जाता है। कछुआ _____-चर जीव है।

- Ans
- 1. जिसमें भय हो- जिसमें भय ना हो
 - 2. अभय-उभय
 - 3. भय सहित- केवल एक
 - 4. साथ साथ- ऊपर

Question ID : 26433091326

Status : Answered

Chosen Option : 2

Q.5 निम्न में से कौन-सा शब्द 'हाथ' शब्द का पर्यायवाची शब्द नहीं है?

- Ans
- 1. कर
 - 2. पाणि
 - 3. बाहु
 - 4. दन्त

Question ID : 26433067083

Status : Marked For Review

Chosen Option : 4

Q.6 निम्न में से कौन-सा शब्द 'कुबेर' शब्द का पर्यायवाची शब्द नहीं है?

- Ans
- 1. किन्नरपति
 - 2. धनपति
 - 3. यक्ष
 - 4. मुनि

Question ID : 26433067085

Status : Marked For Review

Chosen Option : 4

Q.7 'हिमालय की चोटियाँ तो _____ करती हैं।' वाक्य में रिक्त स्थान की पूर्ति उचित मुहावरे द्वारा कीजिए।

- Ans
- 1. राई का पहाड़ है
 - 2. गगनचुम्बी हैं
 - 3. आसमान से बातें करती हैं
 - 4. आसमान चूमती है

Question ID : 26433062610

Status : Answered

Chosen Option : 3

Q.8 वाक्य में रेखांकित शब्द को दिए गए शब्दों में से उचित शब्द से बदलें।
भरत को कैकयी की करनी पर करूणा हुई।

- Ans
- 1. पश्चात्ताप
 - 2. दया
 - 3. दुःख
 - 4. क्षोभ

Question ID : 26433062873

Status : Marked For Review

Chosen Option : 4

Q.9 निम्नलिखित विकल्पों में से किस एक वाक्य में संख्यावाचक विशेषण का उचित प्रयोग नहीं किया गया है?

- Ans
- 1. दुर्घटना में पहलवान को अधिक घाव हो गए हैं।
 - 2. हमारी बगिया में कुछ अधिक वृक्ष हो गए हैं।
 - 3. महात्मा गाँधी बहुत थोड़े कपड़े पहनते थे।
 - 4. नव्या के काले बाल हैं।

Question ID : 26433062966

Status : Answered

Chosen Option : 3

Q.10 'नव्या ने सुमति की बहुत भर्त्सना की'
उक्त वाक्य में प्रयुक्त 'भर्त्सना' के स्थान पर उसके विलोम शब्द का प्रयोग निम्न में से किस वाक्य में किया गया है?

- Ans
- 1. नव्या ने सुमति की बहुत बुराई की।
 - 2. नव्या ने सुमति की बहुत आलोचना की।
 - 3. नव्या ने सुमति की बहुत प्रशंसा की।
 - 4. नव्या ने सुमति की बहुत निंदा की।

Question ID : 26433067027

Status : Answered

Chosen Option : 3

Q.11 दिए गये वाक्य के अशुद्ध भाग का चयन कीजिए।
एक मेरे प्रिय मेधावी छात्र ने अच्छा नाम कमाया।

- Ans 1. एक मेरे
 2. छात्र ने अच्छा
 3. नाम कमाया।
 4. प्रिय मेधावी

Question ID : 26433085086
Status : Answered
Chosen Option : 1

Q.12 निम्नलिखित में से शुद्ध वाक्य का चयन कीजिए-

- Ans 1. आप कब आए?
 2. आप कब आयो?
 3. आप कब्बे आए?
 4. आप कब आया?

Question ID : 26433091312
Status : Answered
Chosen Option : 1

Q.13 निम्नलिखित विकल्पों में से कौन सा एक वाक्य प्रश्नवाचक सर्वनाम से संबंधित नहीं है?

- Ans 1. यह मूर्खता किसने की है?
 2. किसी ने जोर से चीत्कार की?
 3. संसार का संचालन और नियमन कौन करता है?
 4. यह गाड़ी किसकी है?

Question ID : 26433091239
Status : Answered
Chosen Option : 2

Q.14 निम्नलिखित वाक्यांश के लिय उपयुक्त सार्थक शब्द है-
बिना स्वार्थ के कार्य करने वाला

- Ans 1. निस्वार्थी
 2. सहायक
 3. हितेषी
 4. स्वार्थी

Question ID : 26433065765
Status : Marked For Review
Chosen Option : 1

Q.15 'लेने के देने पड़ना' मुहावरे का उचित अर्थ है-

- Ans
- 1. बहुत अधिक लाभ होना
 - 2. लाभ के बदले हानि
 - 3. व्यापार करना
 - 4. कुछ न देना

Question ID : 26433065879

Status : Answered

Chosen Option : 2

Comprehension:

निम्नलिखित गद्यांश में कुछ शब्दों को हटा दिया गया है। दिए गए विकल्पों की सहायता से रिक्त स्थानों की पूर्ति कीजिए। प्रत्येक संख्या के लिए सबसे उपयुक्त विकल्प का चयन करें।

आज का जीवन 1. _____ से भरा है। महत्वपूर्ण और अनिवार्य 2. _____ को पूरा करने में अत्यधिक संघर्ष करना पड़ता है। महँगाई बहुत 3. _____ गई है। इसके साथ ही बच्चों से लेकर 4. _____ तक की आवश्यकताएँ इतनी अधिक हो गई हैं कि परिवार के प्रत्येक सदस्य को धनोपार्जन के लिए घर से बाहर जाना पड़ता है। घर और अपनों के लिए समय ही नहीं होता। जीवन संघर्ष का 5. _____ बन गया है।

SubQuestion No : 16

Q.16 रिक्त स्थान 1 की पूर्ति के लिए सबसे उपयुक्त विकल्प का चयन कीजिए।

- Ans
- 1. कार्य
 - 2. सदस्यों
 - 3. भागदौड़
 - 4. खेल-कूद

Question ID : 264330111119

Status : Answered

Chosen Option : 3

Comprehension:

निम्नलिखित गद्यांश में कुछ शब्दों को हटा दिया गया है। दिए गए विकल्पों की सहायता से रिक्त स्थानों की पूर्ति कीजिए। प्रत्येक संख्या के लिए सबसे उपयुक्त विकल्प का चयन करें।

आज का जीवन 1. _____ से भरा है। महत्वपूर्ण और अनिवार्य 2. _____ को पूरा करने में अत्यधिक संघर्ष करना पड़ता है। महँगाई बहुत 3. _____ गई है। इसके साथ ही बच्चों से लेकर 4. _____ तक की आवश्यकताएँ इतनी अधिक हो गई हैं कि परिवार के प्रत्येक सदस्य को धनोपार्जन के लिए घर से बाहर जाना पड़ता है। घर और अपनों के लिए समय ही नहीं होता। जीवन संघर्ष का 5. _____ बन गया है।

SubQuestion No : 17

Q.17 रिक्त स्थान 2 की पूर्ति के लिए सबसे उपयुक्त विकल्प का चयन कीजिए।

- Ans
- 1. अवसर
 - 2. घटना
 - 3. भावना
 - 4. आवश्यकताओं

Question ID : 264330111120

Status : Answered

Chosen Option : 4

Comprehension:

निम्नलिखित गद्यांश में कुछ शब्दों को हटा दिया गया है। दिए गए विकल्पों की सहायता से रिक्त स्थानों की पूर्ति कीजिए। प्रत्येक संख्या के लिए सबसे उपयुक्त विकल्प का चयन करें।

आज का जीवन 1. _____ से भरा है। महत्त्वपूर्ण और अनिवार्य 2. _____ को पूरा करने में अत्यधिक संघर्ष करना पड़ता है। महँगाई बहुत 3. _____ गई है। इसके साथ ही बच्चों से लेकर 4. _____ तक की आवश्यकताएँ इतनी अधिक हो गई हैं कि परिवार के प्रत्येक सदस्य को धनोपार्जन के लिए घर से बाहर जाना पड़ता है। घर और अपनों के लिए समय ही नहीं होता। जीवन संघर्ष का 5. _____ बन गया है।

SubQuestion No : 18

Q.18 रिक्त स्थान 3 की पूर्ति के लिए सबसे उपयुक्त विकल्प का चयन कीजिए।

- Ans 1. कम
 2. बढ़
 3. बन
 4. नीचे

Question ID : 264330111121

Status : Answered

Chosen Option : 2

Comprehension:

निम्नलिखित गद्यांश में कुछ शब्दों को हटा दिया गया है। दिए गए विकल्पों की सहायता से रिक्त स्थानों की पूर्ति कीजिए। प्रत्येक संख्या के लिए सबसे उपयुक्त विकल्प का चयन करें।

आज का जीवन 1. _____ से भरा है। महत्त्वपूर्ण और अनिवार्य 2. _____ को पूरा करने में अत्यधिक संघर्ष करना पड़ता है। महँगाई बहुत 3. _____ गई है। इसके साथ ही बच्चों से लेकर 4. _____ तक की आवश्यकताएँ इतनी अधिक हो गई हैं कि परिवार के प्रत्येक सदस्य को धनोपार्जन के लिए घर से बाहर जाना पड़ता है। घर और अपनों के लिए समय ही नहीं होता। जीवन संघर्ष का 5. _____ बन गया है।

SubQuestion No : 19

Q.19 रिक्त स्थान 4 की पूर्ति के लिए सबसे उपयुक्त विकल्प का चयन कीजिए।

- Ans 1. बूढ़ों
 2. सरकार
 3. बाहर
 4. किसी की भी

Question ID : 264330111122

Status : Answered

Chosen Option : 1

Comprehension:

निम्नलिखित गद्यांश में कुछ शब्दों को हटा दिया गया है। दिए गए विकल्पों की सहायता से रिक्त स्थानों की पूर्ति कीजिए। प्रत्येक संख्या के लिए सबसे उपयुक्त विकल्प का चयन करें।

आज का जीवन 1. _____ से भरा है। महत्वपूर्ण और अनिवार्य 2. _____ को पूरा करने में अत्यधिक संघर्ष करना पड़ता है। महँगाई बहुत 3. _____ गई है। इसके साथ ही बच्चों से लेकर 4. _____ तक की आवश्यकताएँ इतनी अधिक हो गई हैं कि परिवार के प्रत्येक सदस्य को धनोपार्जन के लिए घर से बाहर जाना पड़ता है। घर और अपनों के लिए समय ही नहीं होता। जीवन संघर्ष का 5. _____ बन गया है।

SubQuestion No : 20

Q.20 रिक्त स्थान 5 की पूर्ति के लिए सबसे उपयुक्त विकल्प का चयन कीजिए।

- Ans
- 1. प्रकार
 - 2. सहायक
 - 3. पर्याय
 - 4. कारण

Question ID : 264330111123

Status : Marked For Review

Chosen Option : 3

WWW.GOVtJOBSALET.in