

Constable GD in CAPFs SSF Rifleman GD in Assam Rifles and Sepoy in NCB Examination 2022

Roll Number	www.govtjobsalert.in
Candidate Name	www.govtjobsalert.in
Venue Name	iON DIGITAL ZONE iDZ 2 WADI MIDC
Exam Date	01/02/2023
Exam Time	9:00 AM - 10:00 AM
Subject	Constable GD Examination 2022

Section : Part-A-General Intelligence and Reasoning

Q.1 एक निश्चित कूट भाषा में 'MARINE' को '100' और 'NORMAL' को '126' के रूप में कूटबद्ध किया जाता है। उसी भाषा में 'REALM' को किस प्रकार कूटबद्ध किया जाएगा?

- Ans 1. 78
 2. 88
 3. 98
 4. 70

Question ID : 26433081514

Status : Answered

Chosen Option : 1

Q.2 आठ व्यक्ति, D, E, G, H, M, N, Y और Z एक सीधी पंक्ति में उत्तर की ओर मुख करके बैठे हैं। Y पंक्ति के किसी एक सिरे पर बैठा है। Y और Z के बीच केवल तीन व्यक्ति बैठे हैं। E, Z के दाईं ओर दूसरे स्थान पर बैठा है। E और D के बीच केवल तीन व्यक्ति बैठे हैं। G, D के बाईं ओर किसी एक स्थान पर बैठा है, लेकिन पंक्ति के किसी भी सिरे पर नहीं बैठा है। M, Z के ठीक बगल में नहीं बैठा है। N, H के दाईं ओर दूसरे स्थान पर बैठा है। H के बाईं ओर कितने व्यक्ति बैठे हैं?

- Ans 1. तीन
 2. दो
 3. एक
 4. कोई नहीं

Question ID : 26433092424

Status : Answered

Chosen Option : 2

Q.3 कौन-सा अक्षर-समूह दी गई श्रृंखला में प्रश्नचिह्न (?) के स्थान पर आकर श्रृंखला को पूर्ण करेगा?
DKBN, ENWS, ?, GTMC, HWHH

- Ans 1. RQFX
 2. QRFG
 3. FQRX
 4. GQFR

Question ID : 26433079424

Status : Answered

Chosen Option : 3

Q.4 उस विकल्प का चयन कीजिए जो तीसरे शब्द से उसी प्रकार संबंधित है जिस प्रकार दूसरा शब्द पहले शब्द से संबंधित है। (शब्दों को अर्थपूर्ण शब्दों के रूप में मानना है और उन्हें शब्द में अक्षरों/व्यंजनों/स्वरों की संख्या के आधार पर एक-दूसरे से संबंधित नहीं करना है।)
दोस्त : दुश्मन :: मरना : ?

- Ans
- 1. रोना
 - 2. जीवन
 - 3. अंत
 - 4. जीना

Question ID : 26433067976

Status : Answered

Chosen Option : 4

Q.5 दी गई आकृति के सही दर्पण प्रतिबिंब का चयन करें जब दर्पण नीचे दर्शाए गए

अनुसार MN पर रखा जाता है।

GRO36VEt | M
N

- Ans
- 1. tEVθεORθ
 - 2. tEV6εORθ
 - 3. tEVθεORθ
 - 4. tEVθεORθ

Question ID : 26433089460

Status : Answered

Chosen Option : 3

Q.6 नीचे दिए गए समीकरण को गणितीय रूप से सही बनाने के लिए किन दो गणितीय चिन्हों को परस्पर बदलना चाहिए?
 $72 - 6 + 2 \times 216 \div 24 = 420$

- Ans
- 1. - और ÷
 - 2. - और ×
 - 3. × और ÷
 - 4. - और +

Question ID : 264330117561

Status : Answered

Chosen Option : 1

Q.7 तीन कथन दिए गए हैं, जिनके बाद तीन निष्कर्ष I, II और III दिए गए हैं। कथनों को सत्य मानते हुए, भले ही वे सामान्य रूप से ज्ञात तथ्यों से भिन्न प्रतीत होते हों, निर्धारित करें कि कौन-सा/से निष्कर्ष कथनों का तार्किक रूप से अनुसरण करता है/करते हैं।

कथन:

कुछ पेंट ब्रश हैं।

सभी ब्रश चित्रफलक हैं।

कुछ चित्रफलक टेबल हैं।

निष्कर्ष:

I. कुछ ब्रश टेबल हैं।

II. कुछ पेंट चित्रफलक हैं।

III. कुछ चित्रफलक ब्रश हैं।

- Ans
- 1. सभी निष्कर्ष अनुसरण करते हैं
 - 2. केवल निष्कर्ष III अनुसरण करता है
 - 3. केवल निष्कर्ष II और III अनुसरण करते हैं
 - 4. केवल निष्कर्ष I और III अनुसरण करते हैं

Question ID : 26433090996

Status : Answered

Chosen Option : 3

Q.8 दिए गए समीकरण को संतुलित करने के लिए विकल्पों में दिए गए किन दो चिह्नों को परस्पर बदलना होगा?

$$790 + 5 \div 58 \times 5 - 96 = 352$$

- Ans
- 1. + और ÷
 - 2. + और -
 - 3. ÷ और ×
 - 4. ÷ और -

Question ID : 26433082666

Status : Answered

Chosen Option : 1

Q.9 उस विकल्प का चयन करें, जो चौथे पद से उसी प्रकार संबंधित है, जिस प्रकार पहला पद दूसरे पद से संबंधित है और पाँचवाँ पद छठे पद से संबंधित है।

$$104 : 13 :: ? : 37 :: 168 : 21$$

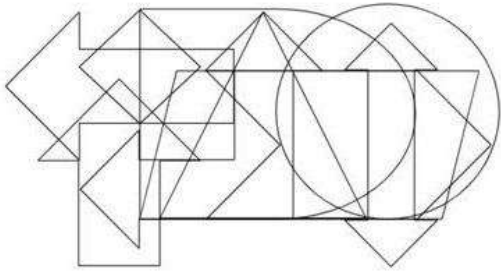
- Ans
- 1. 296
 - 2. 248
 - 3. 304
 - 4. 280

Question ID : 26433074548

Status : Answered

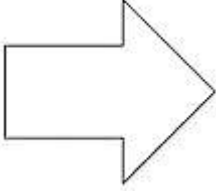
Chosen Option : 1

Q.10 उस विकल्प आकृति का चयन करें जो नीचे दी गई आकृति में अंतर्निहित है।
(आकृति घुमाने की अनुमति नहीं है)

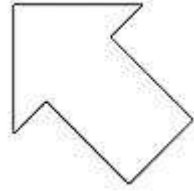


Ans


✗ 1.




✗ 2.



✓ 3.



✗ 4.



Question ID : 26433085744

Status : Answered

Chosen Option : 3

Q.11 एक निश्चित कूट भाषा में, 'DANCE' को 'AECDN' के रूप में लिखा जाता है, 'MUSIC' को 'IUCMS' के रूप में लिखा जाता है, उसी भाषा में 'SONG' को कैसे लिखा जाएगा?

Ans ✗ 1. SNGO

✗ 2. OSNG

✗ 3. GNSO

✓ 4. OGNS

Question ID : 26433069654

Status : Answered

Chosen Option : 4

Q.12 कौनसा विकल्प दी गयी शृंखला में प्रश्नचिन्ह (?) के स्थान पर आकर आकृति शृंखला को पूर्ण करेगा?



Ans

✗ 1.



✓ 2.



✗ 3.



✗ 4.



Question ID : 26433078967

Status : Answered

Chosen Option : 2

Q.13 निम्नलिखित में से कौन सा विकल्प दी गई शृंखला में प्रश्न चिह्न (?) को प्रतिस्थापित करेगा?
103, 110, 105, ?, 107, 114, 109

Ans ✗ 1. 111

✗ 2. 110

✓ 3. 112

✗ 4. 108

Question ID : 26433089445

Status : Answered

Chosen Option : 3

Q.14 निम्न में से कौन सी संख्या दी गई श्रृंखला में प्रश्नचिह्न (?) के स्थान पर आएगी?
2880, 480, 96, ?, 8, 4

- Ans 1. 24
 2. 46
 3. 56
 4. 76

Question ID : 26433076748

Status : Answered

Chosen Option : 1

Q.15 छः दोस्त - M, N, O, P, Q और R दक्षिण की ओर मुख करके एक पंक्ति में बैठे हैं। N, P और Q के ठीक मध्य में है। O, R के बाईं ओर ठीक बगल में है। M, P के दाईं ओर ठीक बगल में है। यदि Q पंक्ति के बाएं सिरे पर बैठा है, तो O के बाईं ओर ठीक बगल में कौन बैठा है?

- Ans 1. N
 2. M
 3. Q
 4. P

Question ID : 26433079062

Status : Answered

Chosen Option : 2

Q.16 कौन-सा अक्षर-समूह दी गई श्रृंखला में प्रश्नचिह्न (?) के स्थान पर आकर श्रृंखला को पूर्ण करेगा?
AZME, CYOG, ?, GWSK, IVUM

- Ans 1. FXQJ
 2. FYRJ
 3. FXRJ
 4. EXQI

Question ID : 26433067939

Status : Answered

Chosen Option : 4

Q.17 किस विकल्प में निम्नलिखित शब्दों का वह क्रम दिया गया है, जिस क्रम में वे अंग्रेजी शब्दकोश में आते हैं?

- 1 pointed
2 pollen
3 populate
4 popular
5 podium

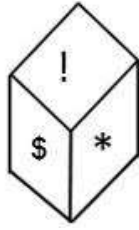
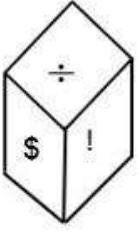
- Ans 1. 5,3,1,4,2
 2. 5,3,4,2,1
 3. 5,4,2,3,1
 4. 5,1,2,4,3

Question ID : 26433069298

Status : Answered

Chosen Option : 4

Q.18 \$, @, !, *, ∞, ÷ प्रतीकों वाले एक ही पासे की दो अलग-अलग स्थितियों को दर्शाया गया है। '÷' दर्शाने वाले फलक के विपरीत फलक पर प्रतीक ज्ञात कीजिए।



- Ans
- 1. !
 - 2. @
 - 3. *
 - 4. ∞

Question ID : 26433089512
Status : Answered
Chosen Option : 1

Q.19 उस विकल्प का चयन करें जो पाँचवें पद से उसी प्रकार संबंधित है जिस प्रकार दूसरा पद पहले पद से संबंधित है और चौथा पद तीसरे पद से संबंधित है।
QUEST : VUGWS :: REACH : JECGT :: SOLVE : ?

- Ans
- 1. UQNXG
 - 2. VONXG
 - 3. GXNQU
 - 4. GXNOV

Question ID : 26433087192
Status : Answered
Chosen Option : 3

Q.20 'P % Q' का अर्थ है 'P, Q का भाई है'।
'P + Q' का अर्थ है 'P, Q की बेटी है'।
'P = Q' का अर्थ है 'P, Q का बेटा है'।
'P # Q' का अर्थ है 'P, Q की पत्नी है'।
यदि $L + M \% N = O \# P$ है, तो P, L से किस प्रकार संबंधित है?

- Ans
- 1. मामा
 - 2. दादा
 - 3. जीजा
 - 4. ताऊ/चाचा

Question ID : 26433087004
Status : Answered
Chosen Option : 2

Q.1 1873 में, उन्होंने 'सत्य-शोधक समाज' की स्थापना की। यहां 'उन्होंने' किसे कहा जा रहा है?

- Ans
- 1. जोतिबा फुले
 - 2. गोविंदराव फुले
 - 3. गोपाल हरि देशमुख
 - 4. सावित्रीबाई फुले

Question ID : 264330115725
Status : Answered
Chosen Option : 1

Q.2 देवप्रयाग में भागीरथी _____ से मिलती है।

- Ans
- 1. कोसी
 - 2. यमुना
 - 3. अलकनंदा
 - 4. धाधरा

Question ID : 26433087891
Status : Answered
Chosen Option : 3

Q.3 भारत में अंतर्देशीय जलमार्गों के विकास, रखरखाव और प्रबंधन की देखभाल कौन करता है?

- Ans
- 1. भारतीय इस्पात प्राधिकरण
 - 2. भारतीय विमानपत्तन प्राधिकरण
 - 3. भारतीय अंतर्देशीय जलमार्ग प्राधिकरण
 - 4. भारतीय राष्ट्रीय राजमार्ग प्राधिकरण

Question ID : 264330115595
Status : Answered
Chosen Option : 3

Q.4 'अर्थशास्त्र' किसके द्वारा लिखा गया था?

- Ans
- 1. वासुदेव
 - 2. कौटिल्य
 - 3. मेगस्थनीज
 - 4. विशाखदत्त

Question ID : 26433090572
Status : Answered
Chosen Option : 2

Q.5 किस खेल का मैदान प्रायः अंडाकार होता है जिसके बीच में एक आयताकार क्षेत्र होता है, जो 22 गज (20.12 मीटर) लंबा और 10 फीट (3.04 मीटर) चौड़ा होता है?

- Ans
- 1. क्रिकेट
 - 2. लॉन टेनिस
 - 3. वॉलीबॉल
 - 4. बास्केटबॉल

Question ID : 26433089937

Status : Answered

Chosen Option : 1

Q.6 भारत के संविधान का निम्नलिखित में से कौन सा अनुच्छेद 'कुछ दशाओं में गिरफ्तारी और निरोध से संरक्षण' प्रदान करता है?

- Ans
- 1. अनुच्छेद 35
 - 2. अनुच्छेद 22
 - 3. अनुच्छेद 47
 - 4. अनुच्छेद 10

Question ID : 26433086806

Status : Answered

Chosen Option : 2

Q.7 राजस्थान की विवाहित महिलाओं द्वारा मनाया जाने वाला गणगौर का वार्षिक त्यौहार, हिंदू माह _____ में मनाया जाता है।

- Ans
- 1. कार्तिक
 - 2. अश्विन
 - 3. फाल्गुन
 - 4. चैत्र

Question ID : 264330115105

Status : Answered

Chosen Option : 2

Q.8 2020 ग्रीष्मकालीन पैरालंपिक में किस देश ने सर्वाधिक स्वर्ण पदक जीता?

- Ans
- 1. चीन
 - 2. संयुक्त राज्य अमेरिका
 - 3. ग्रेट ब्रिटेन
 - 4. रूस

Question ID : 264330115924

Status : Marked For Review

Chosen Option : 2

Q.9 निम्नलिखित में से कौन सा अप्रत्यक्ष कर का उदाहरण है ?

- Ans
- 1. फिर्मों के लिए निगम कर
 - 2. उपहार कर
 - 3. जी. एस. टी.
 - 4. संपत्ति कर

Question ID : 26433054802

Status : Answered

Chosen Option : 3

Q.10 वैयक्तिक प्रयोज्य आय, वह धन है जो घरेलू उपभोग, _____ और आयकर के लेखांकन के बाद खर्च के लिए उपलब्ध होता है।

- Ans
- 1. बचत
 - 2. माल और सेवा कर
 - 3. बिक्री कर
 - 4. ब्याज

Question ID : 264330115348

Status : Not Attempted and Marked For Review

Chosen Option : --

Q.11 यदि चार मजदूरों की जरूरत है और सात काम कर रहे हैं तो तीन अतिरिक्त मजदूर किस तरह की बेरोजगारी से पीड़ित हैं?

- Ans
- 1. चक्रीय बेरोजगारी
 - 2. प्रच्छन्न बेरोजगारी
 - 3. संरचनात्मक बेरोजगारी
 - 4. संघर्षजनित बेरोजगारी

Question ID : 264330116091

Status : Answered

Chosen Option : 2

Q.12 चूना-पत्थर, खड़िया एवं संगमरमर _____ के विविध रूप है।

- Ans
- 1. कैल्शियम फॉस्फेट
 - 2. कैल्शियम ऑक्साइड
 - 3. कैल्शियम हाइड्रोऑक्साइड
 - 4. कैल्शियम कार्बोनेट

Question ID : 264330115164

Status : Answered

Chosen Option : 4

Q.13 सीवी चन्द्रशेखर को _____ में उनके योगदान के लिए पद्म भूषण से सम्मानित किया गया था।

- Ans
- 1. मणिपुरी
 - 2. कथक
 - 3. कुचिपुड़ी
 - 4. भरतनाट्यम

Question ID : 264330115893

Status : Not Attempted and Marked For Review

Chosen Option : --

Q.14 क्षारक लाल लिटमस पत्र को _____ कर देता है।

- Ans
- 1. बैंगनी
 - 2. गुलाबी
 - 3. नीला
 - 4. पीला

Question ID : 264330115264

Status : Answered

Chosen Option : 3

Q.15 निम्न में से क्या औद्योगिक विकास की हानि है?

- Ans
- 1. प्रदूषण
 - 2. उच्च राजस्व संग्रह
 - 3. सतत विकास
 - 4. आर्थिक विकास

Question ID : 264330115393

Status : Answered

Chosen Option : 1

Q.16 निम्नलिखित राजनेताओं में से कौन जुलाई 2022 में भारत के राष्ट्रपति बने?

- Ans
- 1. रामनाथ कोविंद
 - 2. द्रौपदी मुर्मू
 - 3. जयराम ठाकुर
 - 4. स्मृति ईरानी

Question ID : 264330114887

Status : Answered

Chosen Option : 2

Q.17 _____ कैबिनेट और राज्यपाल के बीच संपर्क की एकमात्र कड़ी है।

- Ans
- 1. मुख्यमंत्री
 - 2. राज्य लोक सेवा आयोग अध्यक्ष
 - 3. महाधिवक्ता
 - 4. मुख्य चुनाव आयुक्त

Question ID : 26433089186
Status : Answered
Chosen Option : 1

Q.18 30 अप्रैल, 2022 को चीफ ऑफ आर्मी स्टाफ का पदभार किसने संभाला?

- Ans
- 1. मनोज पांडे
 - 2. नितिन परांजपे
 - 3. विनीत जोशी
 - 4. मनोज मुकुंद नरवणे

Question ID : 264330115051
Status : Answered
Chosen Option : 4

Q.19 नवंबर 2022 तक की स्थिति के अनुसार, भारत में केंद्रीय सूचना और प्रसारण, और युवा कार्यक्रम और खेल मंत्री कौन हैं?

- Ans
- 1. अश्विनी वैष्णव
 - 2. अनुराग सिंह ठाकुर
 - 3. नारायण राणे
 - 4. किरण रिजिजू

Question ID : 264330114929
Status : Answered
Chosen Option : 4

Q.20 अलरमेल वल्ली निम्नलिखित में से किस शास्त्रीय नृत्य के प्रतिपादक हैं?

- Ans
- 1. भरतनाट्यम
 - 2. कथकली
 - 3. ओडिसी
 - 4. कथक

Question ID : 26433071666
Status : Not Answered
Chosen Option : --

Q.1 एक मोबाइल की कीमत में पहले क्रमिक रूप से 5%, 2% की कमी होती है और उसके बाद कीमत में क्रमिक रूप से क्रमशः 10%, 20% की वृद्धि होती है। मोबाइल की कीमत में अंतिम परिवर्तन क्या है?

Ans

✓ 1. $22\frac{223}{250}\%$

✗ 2. $22\frac{123}{250}\%$

✗ 3. $17\frac{153}{250}\%$

✗ 4. $21\frac{113}{250}\%$

Question ID : 26433076073

Status : Not Answered

Chosen Option : --

Q.2 एक पुलिस अधिकारी एक चोर का पीछा करता है जो उससे 800 m की दूरी पर है। यदि वे क्रमशः 8 km/h और 7 km/h की चाल से दौड़ते हैं, तो चोर को पकड़ने के लिए पुलिस अधिकारी को कितनी दूर तक दौड़ना होगा?

Ans ✗ 1. 4000 m

✓ 2. 6400 m

✗ 3. 5600 m

✗ 4. 4800 m

Question ID : 26433073133

Status : Answered

Chosen Option : 3

Q.3 यदि एक गोले की त्रिज्या में 5% की वृद्धि की जाती है, तो गोले के पृष्ठीय क्षेत्रफल में कितने प्रतिशत की वृद्धि होगी?

Ans ✓ 1. 10.25%

✗ 2. 25%

✗ 3. 15.25%

✗ 4. 18%

Question ID : 26433083059

Status : Not Answered

Chosen Option : --

Q.4 $\frac{5}{16}$ of $\frac{7}{8} \times 6 + 15 - 10$ का सरलीकृत मान क्या है?

- Ans
- 1. $\frac{850}{64}$
 - 2. $\frac{425}{128}$
 - 3. $\frac{425}{64}$
 - 4. $\frac{525}{64}$

Question ID : 26433081002

Status : Answered

Chosen Option : 3

Q.5 वर्तमान जन्म दर प्रति दस हजार 450 है, जबकि संगत मृत्यु दर प्रति दस हजार 120 है। प्रतिशत में जनसंख्या वृद्धि के संदर्भ में शुद्ध संवृद्धि दर ज्ञात करें।

- Ans
- 1. 3%
 - 2. 3.3%
 - 3. 2.3%
 - 4. 2%

Question ID : 26433080127

Status : Not Answered

Chosen Option : --

Q.6 एक चोर 15 m/s की चाल से दौड़ना शुरू करता है, 12 सेकंड दौड़ने के बाद एक पुलिसकर्मी उसी दिशा में 20 m/s की चाल से चोर को पकड़ने के लिए दौड़ना शुरू करता है। पुलिसकर्मी को चोर को पकड़ने के लिए कितने मीटर तक दौड़ना पड़ेगा?

- Ans
- 1. 754 m
 - 2. 720 m
 - 3. 740 m
 - 4. 744 m

Question ID : 26433075694

Status : Answered

Chosen Option : 2

Q.7 एक घंटे में, A 5 कुर्सियों पर पेंट कर सकता है और B 3 कुर्सियों पर पेंट कर सकता है। निर्धारित कीजिए कि जब वे एक साथ मिलकर काम करेंगे तो उन्हें 40 कुर्सियों को पेंट करने में कितना समय लगेगा?

- Ans
- 1. 10 घंटे
 - 2. 5 घंटे
 - 3. 12 घंटे
 - 4. 8 घंटे

Question ID : 26433071340

Status : Answered

Chosen Option : 2

Q.8 सोनी ने एक मोबाइल फोन राजू को 10% के लाभ पर बेचा, राजू ने इसे आलोक को 5% की हानि पर बेच दिया और आलोक ने इसे सोहन को 20% के लाभ पर बेच दिया। यदि सोहन ने इसे ₹ 6,270 में खरीदा, तो सोनी के लिए मोबाइल का क्रय मूल्य (₹ में) क्या था?

- Ans
- 1. ₹4,650
 - 2. ₹5,000
 - 3. ₹4,500
 - 4. ₹5,500

Question ID : 26433075546

Status : Answered

Chosen Option : 2

Q.9 यदि आप ₹2,500 में एक जैकेट खरीद रहे हों और ₹4,500 में वैसे ही दो जैकेट खरीद रहे हों, तो छूट प्रतिशत ज्ञात कीजिये। (एक जैकेट का अंकित मूल्य ₹2500 है)

- Ans
- 1. 18 प्रतिशत
 - 2. 10 प्रतिशत
 - 3. 12 प्रतिशत
 - 4. 15 प्रतिशत

Question ID : 26433080173

Status : Answered

Chosen Option : 2

Q.10 12, 25 और 18 से विभाज्य 3 अंकीय सबसे बड़ी संख्या और 4 अंकीय सबसे छोटी संख्या के बीच पूर्ण अंतर ज्ञात करें।

- Ans
- 1. 1200
 - 2. 600
 - 3. 900
 - 4. 300

Question ID : 264330116646

Status : Answered

Chosen Option : 3

Q.11 एक दुकानदार किसी वस्तु की खरीद पर निम्नलिखित तीन छूट योजनाओं की घोषणा करता है। इनमें से कौन-सी योजना ग्राहक के लिए सबसे अच्छी योजना है?

- A. 15% और 18% की दो क्रमागत छूट
- B. 6 वस्तुएँ खरीदें और 2 मुफ्त पाएँ
- C. 30% की एक एकल छूट

Ans 1. A और C दोनों योजनाएँ समान छूट प्रदान करती हैं

2. योजना A

3. योजना B

4. योजना C

Question ID : 26433075762

Status : Answered

Chosen Option : 2

Q.12 यदि 24 cm ऊँचाई वाले एक लम्ब वृत्तीय शंकु का आयतन $392\pi \text{ cm}^3$ है, तो उसका वक्र पृष्ठीय क्षेत्रफल क्या है?

Ans 1. $185\pi \text{ cm}^2$

2. $191\pi \text{ cm}^2$

3. $163\pi \text{ cm}^2$

4. $175\pi \text{ cm}^2$

Question ID : 26433076088

Status : Not Answered

Chosen Option : --

Q.13 दो व्यक्तियों A और B के भार का अनुपात क्रमशः 5 : 3 है। यदि A के भार में 5% की वृद्धि हो जाए और A तथा B का कुल भार 15% बढ़कर 92 kg हो जाए, तो B के भार में हुई प्रतिशत-वृद्धि (दशमलव के 2 स्थान तक शुद्ध) ज्ञात कीजिए।

Ans 1. 31.67 प्रतिशत

2. 36.66 प्रतिशत

3. 32.66 प्रतिशत

4. 30.66 प्रतिशत

Question ID : 26433080162

Status : Not Answered

Chosen Option : --

Q.14 क्रमशः 50 और 80 के औसत अंक वाले छात्रों की दो कक्षाओं A और B को मिलाने पर, प्राप्त औसत अंक 60 है। कक्षा A और B में छात्रों का क्रमशः अनुपात ज्ञात कीजिए।

Ans 1. 3 : 2

2. 1 : 2

3. 2 : 1

4. 2 : 3

Question ID : 26433081009

Status : Answered

Chosen Option : 3

Q.15 एक धनराशि वार्षिक रूप से चक्रवृद्धि होकर 3 वर्षों में 20% प्रतिवर्ष की दर से ₹14,112 हो जाती है।
धनराशि ज्ञात कीजिए।

- Ans
- 1. ₹8,099.60
 - 2. ₹9,166.87
 - 3. ₹7,167.70
 - 4. ₹8,166.67

Question ID : 26433082722

Status : Not Answered

Chosen Option : --

Q.16 $\frac{x}{y}$ और $\frac{y}{z}$ के वर्गों का मध्यानुपाती ज्ञात करें।

- Ans
- 1. $\left(\frac{x}{z}\right)^2$
 - 2. $\left(\frac{x}{z}\right)^{3/2}$
 - 3. $\sqrt{\frac{x}{z}}$
 - 4. $\frac{x}{z}$

Question ID : 26433079938

Status : Answered

Chosen Option : 3

Q.17 3 सीटी की कीमत ₹3,300 है। 10 सीटी की कीमत (₹ में) क्या होगी?

- Ans
- 1. ₹10,000
 - 2. ₹12,000
 - 3. ₹11,000
 - 4. ₹33,000

Question ID : 26433076010

Status : Answered

Chosen Option : 3

Q.18 यदि 12 पुरुष या 9 महिलाएं किसी काम को 36 दिन में कर सकती हैं, तो 16 पुरुष और 18 महिलाएं उसी काम को पूरा करने में कितने दिन का समय लेंगी?

- Ans
- 1. $13\frac{1}{5}$
 - 2. $14\frac{3}{5}$
 - 3. $10\frac{4}{5}$
 - 4. $12\frac{4}{5}$

Question ID : 26433082929

Status : Not Answered

Chosen Option : --

Q.19 Rs.1,00,000 का एक घर A द्वारा B को 6% के लाभ पर बेचा जाता है। B घर वापस A को 3% हानि पर बेचता है। पूरे लेनदेन में A का लाभ/हानि क्या है?

- Ans
- 1. Rs.2,280 की हानि
 - 2. Rs.3,280 की हानि
 - 3. Rs.2,802 का लाभ
 - 4. Rs.2,820 का लाभ

Question ID : 26433076373

Status : Not Answered

Chosen Option : --

Q.20 एक कॉलेज में दो कोर्स होते हैं। एम. कॉम. में 500 में से 450 छात्र पास हुए, जबकि एम.ए. में 2000 छात्रों में से 1500 छात्र पास हुए। कॉलेज का संयुक्त पास प्रतिशत क्या है?

- Ans
- 1. 76.75%
 - 2. 75.5%
 - 3. 78%
 - 4. 79%

Question ID : 26433082497

Status : Not Answered

Chosen Option : --

Q.1 Select the correct idiom that can substitute the italicised group of words in the given sentence.

Prof. Ram Prasad was an environmental activist, and apparently, he became *annoying and irritating* to leather factories over the years.

- Ans
- 1. a vexed question
 - 2. a slow coach
 - 3. an uphill task
 - 4. a thorn in the flesh

Question ID : 26433084762

Status : Not Answered

Chosen Option : --

Q.2 Select the correct option to substitute the underlined segment in the given sentence. If no substitution is required, select 'No substitution'.

Slow and steady wins the race.

- Ans
- 1. will win the race
 - 2. No substitution
 - 3. had won the race
 - 4. won the race

Question ID : 26433090808

Status : Not Answered

Chosen Option : --

Q.3 Select the most appropriate synonym of the given word.

Blend

- Ans
- 1. Scatter
 - 2. Disunity
 - 3. Fusion
 - 4. Destruction

Question ID : 26433072072

Status : Not Answered

Chosen Option : --

Q.4 Select the most appropriate homonym to fill in the blank.

This nation is _____ to each of its citizens.

- Ans
- 1. fur
 - 2. fair
 - 3. fare
 - 4. feel

Question ID : 26433088790

Status : Not Answered

Chosen Option : --

Q.5 Select the most appropriate ANTONYM of the underlined word in the following sentence.

It is quite comprehensible that now young people's minds are constantly being reshaped by the media's constant meddling of certain unfathomable ideas and moral standards.

- Ans
- 1. Constantly
 - 2. Meddling
 - 3. Comprehensible
 - 4. Reshape

Question ID : 26433092863
Status : Not Answered
Chosen Option : --

Q.6 Select the most appropriate synonym for the underlined word in the given sentence.

The moral failure was the result of his lassitude.

- Ans
- 1. luxury
 - 2. derision
 - 3. indulgence
 - 4. weariness

Question ID : 26433073752
Status : Not Answered
Chosen Option : --

Q.7 Select the most appropriate synonym of the underlined word.

A leading actor has said in a new interview that nepotism does not matter, and she is the best example of that.

- Ans
- 1. unbiasedness
 - 2. objectivity
 - 3. neutrality
 - 4. favouritism

Question ID : 26433088839
Status : Not Answered
Chosen Option : --

Q.8 The following sentence has been divided into parts. One of them may contain an error. Select the part that contains the error from the given options. If you don't find any error, mark 'No error' as your answer.

The shield used by the / warrior have been one / made of strong iron.

- Ans
- 1. No error
 - 2. made of strong iron
 - 3. warrior have been one
 - 4. The shield used by the

Question ID : 26433099906
Status : Not Answered
Chosen Option : --

Q.9 Select the correct spelling of the word to fill in the blank in the given sentence.

Shyam _____ an _____ letter from his employer.

- Ans
- 1. reseived; knowledgement
 - 2. recievid; acknowledgment
 - 3. recieved; aknowlegdement
 - 4. received; acknowledgment

Question ID : 26433084767

Status : Not Answered

Chosen Option : --

Q.10 Select the most appropriate meaning of the underlined idiom that can be substituted in the following sentence.

The robber showed a clean pair of heels when the policeman came nearer.

- Ans
- 1. stole and ran away with heels
 - 2. showed how clean the heels were
 - 3. stood so as to show the heels
 - 4. ran away

Question ID : 26433072234

Status : Not Answered

Chosen Option : --

Q.11 Select the most appropriate ANTONYM of the given word.

Truth

- Ans
- 1. Reality
 - 2. Lay
 - 3. Loyalty
 - 4. Falsity

Question ID : 26433072859

Status : Not Answered

Chosen Option : --

Q.12 Select the option with the correct spelling of the underlined word in the given sentence.

They waited for him in the adjcent room.

- Ans
- 1. adgencent
 - 2. adjacent
 - 3. adjacentt
 - 4. addjacent

Question ID : 26433073610

Status : Not Answered

Chosen Option : --

Q.13 Select the most appropriate option to fill in the blank.

He seized a thief by his _____ and forced him to answer.

- Ans
- 1. colour
 - 2. caller
 - 3. choler
 - 4. collar

Question ID : 26433087942
Status : Not Answered
Chosen Option : --

Q.14 Select the most appropriate option that can substitute the underlined segment in the given sentence.

The teacher asked me to tell him what is his name?

- Ans
- 1. what he is called is.
 - 2. what the name is.
 - 3. what his name was.
 - 4. what name is he?

Question ID : 264330102392
Status : Not Answered
Chosen Option : --

Q.15 Select the most appropriate option to fill in the blank.
The child _____ not guilty of shoplifting.

- Ans
- 1. questioned
 - 2. said
 - 3. pleaded
 - 4. nagged

Question ID : 26433085599
Status : Not Answered
Chosen Option : --

Comprehension:

In the following passage, some words have been deleted. Read the passage carefully and select the most appropriate option to fill in each blank.

Transformation of a sentence means (1) _____ the words or forms of the sentence without changing (2) _____ meaning. Such changes can be in the form (3) _____ changes from negative sentences into assertive, interrogative or exclamatory sentences and vice versa (4) _____ change in narration or change in voice or changes from simple to (5) _____ or complex sentences.

SubQuestion No : 16

Q.16 Select the most appropriate option to fill in blank number 1.

- Ans
- 1. change
 - 2. of change
 - 3. to change
 - 4. changing

Question ID : 26433088564

Status : Not Answered

Chosen Option : --

Comprehension:

In the following passage, some words have been deleted. Read the passage carefully and select the most appropriate option to fill in each blank.

Transformation of a sentence means (1) _____ the words or forms of the sentence without changing (2) _____ meaning. Such changes can be in the form (3) _____ changes from negative sentences into assertive, interrogative or exclamatory sentences and vice versa (4) _____ change in narration or change in voice or changes from simple to (5) _____ or complex sentences.

SubQuestion No : 17

Q.17 Select the most appropriate option to fill in blank number 2.

- Ans
- 1. its
 - 2. her
 - 3. his
 - 4. their

Question ID : 26433088565

Status : Not Answered

Chosen Option : --

Comprehension:

In the following passage, some words have been deleted. Read the passage carefully and select the most appropriate option to fill in each blank.

Transformation of a sentence means (1) _____ the words or forms of the sentence without changing (2) _____ meaning. Such changes can be in the form (3) _____ changes from negative sentences into assertive, interrogative or exclamatory sentences and vice versa (4) _____ change in narration or change in voice or changes from simple to (5) _____ or complex sentences.

SubQuestion No : 18

Q.18 Select the most appropriate option to fill in blank number 3.

- Ans 1. in
 2. on
 3. at
 4. of

Question ID : 26433088566

Status : Not Answered

Chosen Option : --

Comprehension:

In the following passage, some words have been deleted. Read the passage carefully and select the most appropriate option to fill in each blank.

Transformation of a sentence means (1) _____ the words or forms of the sentence without changing (2) _____ meaning. Such changes can be in the form (3) _____ changes from negative sentences into assertive, interrogative or exclamatory sentences and vice versa (4) _____ change in narration or change in voice or changes from simple to (5) _____ or complex sentences.

SubQuestion No : 19

Q.19 Select the most appropriate option to fill in blank number 4.

- Ans 1. but
 2. or
 3. so
 4. yet

Question ID : 26433088567

Status : Not Answered

Chosen Option : --

Comprehension:

In the following passage, some words have been deleted. Read the passage carefully and select the most appropriate option to fill in each blank.

Transformation of a sentence means (1) _____ the words or forms of the sentence without changing (2) _____ meaning. Such changes can be in the form (3) _____ changes from negative sentences into assertive, interrogative or exclamatory sentences and vice versa (4) _____ change in narration or change in voice or changes from simple to (5) _____ or complex sentences.

SubQuestion No : 20

Q.20 Select the most appropriate option to fill in blank number 5.

- Ans
- 1. negative
 - 2. assertive
 - 3. positive
 - 4. compound

Question ID : 26433088568

Status : Not Answered

Chosen Option : --

Section : Part-D-Hindi

Q.1 'आग में _____ डालना'
उपर्युक्त मुहावरे में रिक्त स्थान की पूर्ति उचित शब्द द्वारा कीजिए।

- Ans
- 1. घी
 - 2. तेल
 - 3. नमक
 - 4. मिर्च

Question ID : 26433069689

Status : Answered

Chosen Option : 1

Q.2 निम्नलिखित वाक्यांश के लिए एक सार्थक शब्द चुनिए।
जो अस्त-व्यस्त हो

- Ans
- 1. विपर्यस्त
 - 2. विद्युत्प्रभ
 - 3. विकीर्ण
 - 4. विज्ञप्ति

Question ID : 26433062739

Status : Answered

Chosen Option : 1

Q.3 'महात्मा गांधी की साधना _____ थी।'
उपरोक्त वाक्य में 'अलौकिक' शब्द के एकार्थी शब्द से वाक्य पूर्ण कीजिए।

- Ans
- 1. अकथनीय
 - 2. असाधारण
 - 3. असहनीय
 - 4. अनुस्यूत

Question ID : 26433079241
Status : Answered
Chosen Option : 2

Q.4 निम्नलिखित में से शुद्ध वाक्य कौन सा है?

- Ans
- 1. राधा अच्छा लड़की है।
 - 2. राधा अच्छी लड़का है।
 - 3. राध अच्छ लड़की है।
 - 4. राधा अच्छी लड़की है।

Question ID : 26433080931
Status : Answered
Chosen Option : 4

Q.5 निम्नलिखित विकल्पों में से किस एक वाक्य में सर्वनाम के प्रयोग सम्बन्धी अशुद्धि है?

- Ans
- 1. माता जी ! मुझे आपकी बहुत याद आती है।
 - 2. उसके हाथ में जो कलम है, यह मेरी है।
 - 3. मैंने अपना काम कर लिया।
 - 4. पुनीत ने महेश से कहा, तुम घर चलो मैं दो घंटे बाद आऊँगा।

Question ID : 26433062975
Status : Not Attempted and Marked For Review
Chosen Option : --

Q.6 दिए गए विकल्पों में से कौन सा शब्द निम्नलिखित वाक्य में रेखांकित शब्द का पर्यायवाची नहीं है?
भारतीय जनमानस के बीच माता 'सरस्वती' संगीत कला की जननी के रूप में पूजनीय हैं।

- Ans
- 1. हंस वाहिनी
 - 2. विमला
 - 3. सहचरी
 - 4. शारदा

Question ID : 26433091339
Status : Answered
Chosen Option : 3

Q.7 'कैंसर रोग बड़ा _____ है।' इस वाक्य में रिक्त स्थान की पूर्ति शुद्ध शब्द द्वारा कीजिए।

- Ans
- 1. दुसाध्य
 - 2. दुरसाध्य
 - 3. दूसाध्य
 - 4. दुःसाध्य

Question ID : 26433080906

Status : Answered

Chosen Option : 4

Q.8 निम्न वाक्यांश के लिए उपयुक्त एक शब्द का चयन विकल्पों में से कीजिए।
'जो युद्ध में स्थिर रहता है'

- Ans
- 1. योजक
 - 2. युद्धस्थ
 - 3. युयुत्सु
 - 4. युधिष्ठिर

Question ID : 26433070092

Status : Answered

Chosen Option : 4

Q.9 निम्न वाक्य में रेखांकित शब्द के स्थान पर सर्वोचित विकल्प चुनिए।
'वह अमीर होने पर भी संतुष्ट नहीं है।'

- Ans
- 1. सुखी
 - 2. योगी
 - 3. मर्यादित
 - 4. दुःखी

Question ID : 26433084962

Status : Answered

Chosen Option : 1

Q.10 'दीक्षांत समारोह _____।' उपर्युक्त वाक्य में रिक्त स्थान के लिए उपयुक्त विकल्प निम्न में से क्या होगा?

- Ans
- 1. से अभिप्राय विवाह पूर्व किए जाने वाले रीति-रिवाज से है
 - 2. से अभिप्राय संन्यास लेने के लिए किए जाने वाले रीति-रिवाज से है
 - 3. से अभिप्राय उपनयन संस्कार से होता है
 - 4. से अभिप्राय शिक्षा के समापन पर किए जाने वाले संस्कार से है

Question ID : 26433067049

Status : Answered

Chosen Option : 4

Q.11 'कुछ समय उपरान्त हमारा साहित्य उच्चकोटि का था।' उपरोक्त वाक्य के किस भाग में अनुपयुक्त शब्द का प्रयोग किया गया है?

- Ans
- 1. साहित्य उच्चकोटि
 - 2. कुछ समय उपरान्त
 - 3. का था
 - 4. हमारा

Question ID : 26433062804
Status : Answered
Chosen Option : 2

Q.12 'अनु बहुत सुंदर लड़की है।' उपरोक्त वाक्य में रेखांकित शब्द क्या है?

- Ans
- 1. प्रविशेषण
 - 2. विशेषण
 - 3. विशेष्य
 - 4. क्रियाविशेषण

Question ID : 26433063053
Status : Answered
Chosen Option : 3

Q.13 निम्नलिखित शब्द के सही पर्यायवाची शब्द का चयन विकल्पों में से कीजिए।
बिजली

- Ans
- 1. पद्मा
 - 2. यामा
 - 3. दामिनी
 - 4. अर्कजा

Question ID : 26433066940
Status : Answered
Chosen Option : 4

Q.14 निम्नलिखित में से 'माता' का समानार्थी शब्द नहीं है-

- Ans
- 1. जननी
 - 2. वामा
 - 3. अंबा
 - 4. मैया

Question ID : 26433085081
Status : Answered
Chosen Option : 2

Q.15 निम्नलिखित मुहावरे के लिए उपयुक्त सार्थक शब्द क्या होगा?
आसमान पर चढ़ना

- Ans 1. बहुत नाराज होना
 2. अभिमान होना
 3. डर लगना
 4. उड़ते रहना

Question ID : 26433065769

Status : Answered

Chosen Option : 2

Comprehension:

निम्नलिखित गद्यांश में कुछ शब्दों को हटा दिया गया है। दिए गए विकल्पों की सहायता से रिक्त स्थानों की पूर्ति कीजिए। प्रत्येक संख्या के लिए सबसे उपयुक्त विकल्प का चयन कीजिए।

विद्या अभ्यास से 1. _____ होती है। जन्म से ही कोई व्यक्ति किसी काम में 2. _____ नहीं होता। अभ्यास के द्वारा जड़ बुद्धि वाले व्यक्ति सुजान अर्थात् 3. _____ बन जाते हैं। जो पहले से सुजान होते हैं, अभ्यास उन्हें और अधिक 4. _____ बना देता है, जिससे वे कार्य में पारंगत हो जाते हैं। अभ्यास को 5. _____ की सीमा में नहीं बाँधा जा सकता है।

SubQuestion No : 16

Q.16 रिक्त स्थान 1 की पूर्ति के लिए सबसे उपयुक्त विकल्प का चयन कीजिए।

- Ans 1. दूर
 2. प्राप्त
 3. समझ
 4. सफल

Question ID : 264330111071

Status : Answered

Chosen Option : 2

Comprehension:

निम्नलिखित गद्यांश में कुछ शब्दों को हटा दिया गया है। दिए गए विकल्पों की सहायता से रिक्त स्थानों की पूर्ति कीजिए। प्रत्येक संख्या के लिए सबसे उपयुक्त विकल्प का चयन कीजिए।

विद्या अभ्यास से 1. _____ होती है। जन्म से ही कोई व्यक्ति किसी काम में 2. _____ नहीं होता। अभ्यास के द्वारा जड़ बुद्धि वाले व्यक्ति सुजान अर्थात् 3. _____ बन जाते हैं। जो पहले से सुजान होते हैं, अभ्यास उन्हें और अधिक 4. _____ बना देता है, जिससे वे कार्य में पारंगत हो जाते हैं। अभ्यास को 5. _____ की सीमा में नहीं बाँधा जा सकता है।

SubQuestion No : 17

Q.17 रिक्त स्थान 2 की पूर्ति के लिए सबसे उपयुक्त विकल्प का चयन कीजिए।

- Ans 1. हार
 2. उत्पन्न
 3. धैर्य
 4. पारंगत

Question ID : 264330111072

Status : Answered

Chosen Option : 4

Comprehension:

निम्नलिखित गद्यांश में कुछ शब्दों को हटा दिया गया है। दिए गए विकल्पों की सहायता से रिक्त स्थानों की पूर्ति कीजिए। प्रत्येक संख्या के लिए सबसे उपयुक्त विकल्प का चयन कीजिए।

विद्या अभ्यास से 1. _____ होती है। जन्म से ही कोई व्यक्ति किसी काम में 2. _____ नहीं होता। अभ्यास के द्वारा जड़ बुद्धि वाले व्यक्ति सुजान अर्थात् 3. _____ बन जाते हैं। जो पहले से सुजान होते हैं, अभ्यास उन्हें और अधिक 4. _____ बना देता है, जिससे वे कार्य में पारंगत हो जाते हैं। अभ्यास को 5. _____ की सीमा में नहीं बाँधा जा सकता है।

SubQuestion No : 18

Q.18 रिक्त स्थान 3 की पूर्ति के लिए सबसे उपयुक्त विकल्प का चयन कीजिए।

- Ans
- 1. कमज़ोर
 - 2. बुद्धिमान
 - 3. बुद्धि
 - 4. अभ्यास

Question ID : 264330111073

Status : Answered

Chosen Option : 2

Comprehension:

निम्नलिखित गद्यांश में कुछ शब्दों को हटा दिया गया है। दिए गए विकल्पों की सहायता से रिक्त स्थानों की पूर्ति कीजिए। प्रत्येक संख्या के लिए सबसे उपयुक्त विकल्प का चयन कीजिए।

विद्या अभ्यास से 1. _____ होती है। जन्म से ही कोई व्यक्ति किसी काम में 2. _____ नहीं होता। अभ्यास के द्वारा जड़ बुद्धि वाले व्यक्ति सुजान अर्थात् 3. _____ बन जाते हैं। जो पहले से सुजान होते हैं, अभ्यास उन्हें और अधिक 4. _____ बना देता है, जिससे वे कार्य में पारंगत हो जाते हैं। अभ्यास को 5. _____ की सीमा में नहीं बाँधा जा सकता है।

SubQuestion No : 19

Q.19 रिक्त स्थान 4 की पूर्ति के लिए सबसे उपयुक्त विकल्प का चयन कीजिए।

- Ans
- 1. अकुशल
 - 2. मजबूत
 - 3. सफलता
 - 4. कुशल

Question ID : 264330111074

Status : Answered

Chosen Option : 4

Comprehension:

निम्नलिखित गद्यांश में कुछ शब्दों को हटा दिया गया है। दिए गए विकल्पों की सहायता से रिक्त स्थानों की पूर्ति कीजिए। प्रत्येक संख्या के लिए सबसे उपयुक्त विकल्प का चयन कीजिए।

विद्या अभ्यास से 1. _____ होती है। जन्म से ही कोई व्यक्ति किसी काम में 2. _____ नहीं होता। अभ्यास के द्वारा जड़ बुद्धि वाले व्यक्ति सुजान अर्थात् 3. _____ बन जाते हैं। जो पहले से सुजान होते हैं, अभ्यास उन्हें और अधिक 4. _____ बना देता है, जिससे वे कार्य में पारंगत हो जाते हैं। अभ्यास को 5. _____ की सीमा में नहीं बाँधा जा सकता है।

SubQuestion No : 20

Q.20 रिक्त स्थान 5 की पूर्ति के लिए सबसे उपयुक्त विकल्प का चयन कीजिए।

- Ans
- 1. शिक्षा
 - 2. मात्रा
 - 3. मज़बूती
 - 4. समय

Question ID : 264330111075

Status : Answered

Chosen Option : 4

WWW.GOVtJOBSAlert.COM