

Constable GD in CAPFs SSF Rifleman GD in Assam Rifles and Sepoy in NCB Examination 2022

Roll Number	www.govtjobsalert.in
Candidate Name	www.govtjobsalert.in
Venue Name	Purnodaya Mahila Mahavidyalaya
Exam Date	25/01/2023
Exam Time	2:30 PM - 3:30 PM
Subject	Constable GD Examination 2022

Section : Part-A-General Intelligence and Reasoning

Q.1 उस विकल्प का चयन कीजिए जो पांचवें अक्षर-समूह से उसी प्रकार संबंधित है जिस प्रकार दूसरा अक्षर-समूह पहले अक्षर-समूह से संबंधित है और चौथा अक्षर-समूह तीसरे अक्षर-समूह से संबंधित है।
CAPTURE : PACERUT :: BANKING : NABGNIK :: CHARITY : ?

- Ans
- 1. RAHCYTI
 - 2. AHCYTIR
 - 3. YTIRAHC
 - 4. RITYCHA

Question ID : 26433069632

Status : Answered

Chosen Option : 2

Q.2 सात दोस्त M, N, O, P, Q, R और S एक सीधी बेंच पर पूर्व की ओर मुख करके बैठे हैं। P ठीक मध्य स्थान पर बैठा है। M के बाईं ओर केवल चार दोस्त बैठे हैं। R और S के बीच में केवल Q बैठा है। O, S के दाईं ओर तीसरे स्थान पर बैठा है। दाएं सिरे से दूसरे स्थान पर कौन बैठा है?

- Ans
- 1. N
 - 2. M
 - 3. O
 - 4. R

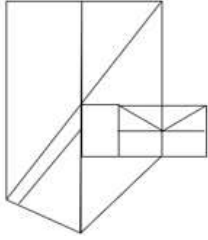
Question ID : 26433079060

Status : Answered

Chosen Option : 3

Q.3 वह विकल्प चित्र चुनिए, जो प्रस्तुत चित्र में अंतर्निहित है। (घुमाना अनुमन्य नहीं

है)



Ans

✗ 1.



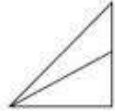
✓ 2.



✗ 3.



✗ 4.



Question ID : 26433069336

Status : Answered

Chosen Option : 2

Q.4 एक निश्चित कूट भाषा में, 'GOLDEN' को 'MPHPGF' के रूप में लिखा जाता है और 'GERMAN' को 'SFHPCO' के रूप में लिखा जाता है। उसी भाषा में 'GLOBAL' को कैसे लिखा जाएगा?

Ans

✓ 1. PMHNCD

✗ 2. OLGNCD

✗ 3. PMHLAB

✗ 4. OLGLAB

Question ID : 26433090046

Status : Answered

Chosen Option : 1

Q.5 छह विद्यार्थी एक वृत्ताकार मेज के परितः केंद्र की ओर मुख करके बैठे हैं। जितेंद्र, शाहिद और जया दोनों के ठीक बगल में हैं। कोमल, शाहिद के दाईं ओर दूसरे स्थान पर बैठी है। तरुण, जया के बाईं ओर तीसरे स्थान पर बैठा है। विजय, कोमल और जया दोनों के ठीक बगल में है। जितेंद्र और तरुण के ठीक बगल में कौन बैठा/बैठी है?

Ans

✗ 1. विजय

✓ 2. शाहिद

✗ 3. कोमल

✗ 4. जया

Question ID : 26433069664

Status : Answered

Chosen Option : 2

Q.6 निम्नलिखित में से कौन-सी संख्या दी गई श्रृंखला में प्रश्न चिह्न (?) के स्थान पर आएगी?
-1, 0, 3, 8, 15, ?

- Ans 1. 13
 2. 56
 3. 24
 4. 32

Question ID : 26433082739
Status : Answered
Chosen Option : 3

Q.7 उस विकल्प का चयन कीजिए जो नीचे दिए गए शब्दों के उस क्रम को निरूपित करता है जिस क्रम में वे अंग्रेजी शब्दकोश में आते हैं?

1. RAY
2. RAVISH
3. RATIONAL
4. RATABLE
5. RASH
6. RAPTURE

- Ans 1. 6, 5, 4, 3, 2, 1
 2. 5, 6, 4, 3, 2, 1
 3. 3, 6, 5, 4, 2, 1
 4. 4, 6, 5, 3, 2, 1

Question ID : 26433079383
Status : Answered
Chosen Option : 1

Q.8 निम्नलिखित में से कौन-सी संख्या दी गई श्रृंखला में प्रश्न-चिह्न (?) के स्थान पर आकर उसे पूर्ण करेगी?
5, 293, 437, 509, ?

- Ans 1. 535
 2. 540
 3. 545
 4. 550

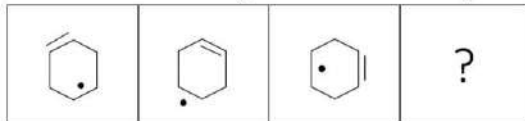
Question ID : 26433067859
Status : Not Answered
Chosen Option : --

Q.9 उस विकल्प का चयन कीजिए जो तीसरे शब्द से उसी प्रकार संबंधित है जिस प्रकार दूसरा शब्द पहले शब्द से संबंधित है। (शब्दों को अर्थपूर्ण शब्दों के रूप में मानना है और उन्हें शब्द में अक्षरों/व्यंजनों/स्वरों की संख्या के आधार पर एक-दूसरे से संबंधित नहीं करना है।)
कार : सीट बेल्ट :: पंखा : ?

- Ans 1. हवा
 2. बिजली
 3. ब्लेड
 4. कमरा

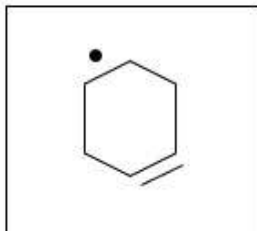
Question ID : 26433067974
Status : Answered
Chosen Option : 3

Q.10 दिए गए विकल्पों में से उस आकृति का चयन करें जो निम्न श्रृंखला में प्रश्नवाचक चिन्ह (?) के स्थान पर आ सकती है।

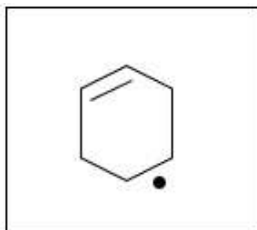


Ans

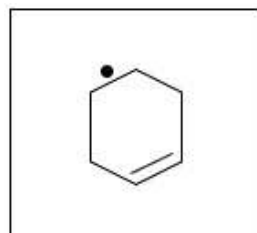
✗ 1.



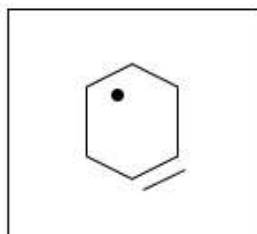
✗ 2.



✓ 3.



✗ 4.



Question ID : 26433080764

Status : Answered

Chosen Option : 3

Q.11 निम्नलिखित में से कौन-सा पद दी गई श्रृंखला में प्रश्न-चिह्न (?) के स्थान पर आएगा?
XDZA, VFXC, ?, LPNM, DXFU

Ans ✓ 1. RJTG

✗ 2. RITH

✗ 3. SJIG

✗ 4. SJTH

Question ID : 26433068303

Status : Answered

Chosen Option : 1

Q.12 निम्नलिखित में से कौन-सा पद दी गई शृंखला में प्रश्न-चिह्न (?) के स्थान पर आएगा?
BDPY, HITB, ?, TSBH, ZXFK

- Ans 1. NMXE
 2. NMXF
 3. NNXE
 4. NNYF

Question ID : 26433069448
Status : Answered
Chosen Option : 3

Q.13 नीचे दिए गए समीकरण को गणितीय रूप से सही बनाने के लिए किन दो चिन्हों को परस्पर बदलना चाहिए?

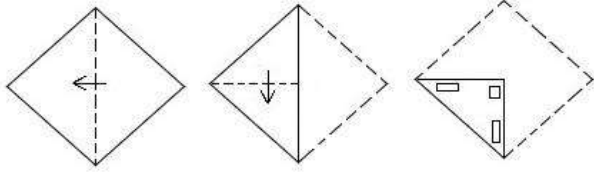
$$18 + 60 \div 15 \times 24 - 12 = 84$$

- Ans 1. + और -
 2. + और -
 3. \times और +
 4. \times और +

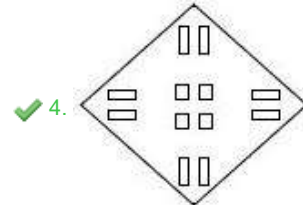
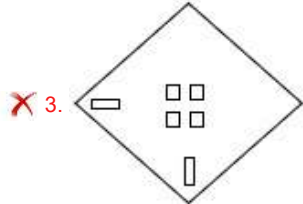
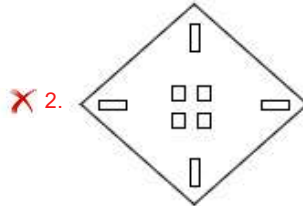
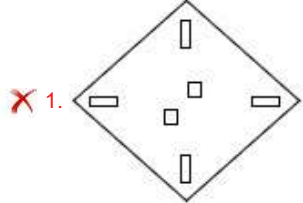
Question ID : 264330117494
Status : Not Answered
Chosen Option : --

WWW.GOVtJOBSAlert.in

Q.14 एक कागज को नीचे दर्शाए गए अनुसार मोड़ा और काटा जाता है। खोले जाने पर यह कैसा दिखाई देगा?



Ans



Question ID : 26433090093

Status : Answered

Chosen Option : 4

Q.15 एक निश्चित कूट भाषा में, 'CRAZE' को 'DTDDJ' के रूप में लिखा जाता है, 'GLORY' को 'HNRVD' के रूप में लिखा जाता है, उसी भाषा में 'FAME' को कैसे लिखा जाएगा?

Ans ✗ 1. GCIP

✗ 2. GOPI

✗ 3. IPCG

✓ 4. GCPI

Question ID : 26433069652

Status : Answered

Chosen Option : 4

Q.16 तीन कथन दिए गए हैं, जिनके बाद तीन निष्कर्ष I, II और III दिए गए हैं। कथनों को सत्य मानते हुए, भले ही वे सामान्य रूप से ज्ञात तथ्यों से भिन्न प्रतीत होते हों, निर्धारित करें कि कौन-सा/से निष्कर्ष कथनों का तार्किक रूप से अनुसरण करता है/करते हैं।

कथन:

कोई टाई पैंट नहीं है।

सभी पैंट शर्ट हैं।

सभी टाई शर्ट हैं।

निष्कर्ष:

I. कुछ शर्ट टाई हैं।

II. कुछ शर्ट पैंट हैं।

III. कुछ टाई शर्ट हैं।

- Ans 1. सभी निष्कर्ष अनुसरण करते हैं
2. केवल निष्कर्ष II और III अनुसरण करते हैं
3. केवल निष्कर्ष III अनुसरण करता है
4. केवल निष्कर्ष I और III अनुसरण करते हैं

Question ID : 26433090994

Status : Answered

Chosen Option : 1

Q.17 विकल्पों में दिए गए गणितीय चिह्नों का कौन सा संयोजन निम्न समीकरण में * चिह्नों के स्थान पर क्रमिक रूप से आकर समीकरण को संतुलित करेगा?
 $720 * 24 * 4 * 100 * 40 * 20$

- Ans 1. ÷, ×, =, +, -
2. +, =, ×, ÷, -
3. -, +, ÷, ×, =
4. ×, ÷, +, =, -

Question ID : 26433094988

Status : Not Answered

Chosen Option : --

Q.18 'A # B' का अर्थ है 'B, A की बहन है'
'A @ B' का अर्थ है 'B, A का भाई है'
'A % B' का अर्थ है 'B, A की पुत्री है'
'A \$ B' का अर्थ है 'B, A का पति है'
यदि A \$ B % C # D @ E है, तो E, A से किस प्रकार संबंधित है?

- Ans 1. पुत्र
2. भाई
3. पति
4. पिता

Question ID : 26433068534

Status : Answered

Chosen Option : 2

Q.19 दी गई आकृति के सही दर्पण प्रतिबिंब का चयन करें जब दर्पण नीचे दर्शाए गए अनुसार MN पर रखा जाता है।



- Ans
- 1. G E n 2 1 X F 9
 - 2. 9 E n 1 5 X 7 9
 - 3. 9 E n 2 1 X 7 9
 - 4. 9 E n 2 1 X F 9

Question ID : 26433089458
Status : Answered
Chosen Option : 3

Q.20 उस विकल्प का चयन करें, जो चौथे पद से उसी प्रकार संबंधित है, जिस प्रकार पहला पद दूसरे पद से संबंधित है और पाँचवाँ पद छठे पद से संबंधित है।
512 : 10 :: ? : 11 :: 1331 : 13

- Ans
- 1. 441
 - 2. 1000
 - 3. 729
 - 4. 343

Question ID : 26433074546
Status : Answered
Chosen Option : 3

Section : Part-B-General Knowledge and General awareness

Q.1 निम्नलिखित में से किस राजवंश ने मौर्योत्तर काल में रेशम मार्ग को नियंत्रित किया था?

- Ans
- 1. शुंग
 - 2. सातवाहन
 - 3. चेर
 - 4. कुषाण

Question ID : 26433085227
Status : Answered
Chosen Option : 4

Q.2 इनमें से किसने उपचुनाव जीता और जून 2022 में ओडिशा, भारत में ब्रजराजनगर निर्वाचन क्षेत्र से विधान सभा के सदस्य बने?

- Ans
- 1. पीयूष गोयल
 - 2. अलका मोहंती
 - 3. सुदीप रॉय बर्मन
 - 4. आशीष दास

Question ID : 264330114966
Status : Not Answered
Chosen Option : --

Q.3 चौरी-चौरा की घटना किस आंदोलन के दौरान हुई थी?

- Ans
- 1. चंपारण आंदोलन
 - 2. सविनय अवज्ञा आन्दोलन
 - 3. असहयोग आंदोलन
 - 4. भारत छोड़ो आंदोलन

Question ID : 264330115690
Status : Answered
Chosen Option : 3

Q.4 आधुनिक आवर्त नियम (Modern Periodic Law) का प्रतिपादन किसने किया?

- Ans
- 1. लोथर मेयर (Lothar Meyer)
 - 2. मेंडलीफ (Mendeleev)
 - 3. मोसले (Moseley)
 - 4. डोबेराइनर (Dobereiner)

Question ID : 26433066698
Status : Answered
Chosen Option : 2

Q.5 _____ का संबंध खाद्य पदार्थों के खराब होने, स्वाद बिगड़ने, संरचना बिगड़ने, रंग उड़ जाने और पोषण मूल्य में कमी से है।

- Ans
- 1. खाद्य परिरक्षण
 - 2. खाद्य संसाधन
 - 3. खाद्य संरक्षण
 - 4. खाद्य विकृति

Question ID : 264330115262
Status : Answered
Chosen Option : 4

Q.6 _____ सार्वजनिक वस्तुओं और सेवाओं के उदाहरण हैं।

- Ans
- 1. बिस्किट के पैकेट
 - 2. कपड़े
 - 3. सड़कें
 - 4. प्रसाधन उत्पाद

Question ID : 264330115281
Status : Answered
Chosen Option : 1

Q.7 'खर्ची पूजा' मुख्य रूप से भारत के निम्नलिखित में से किस राज्य में मनाया जाता है?

- Ans
- 1. तमिलनाडु
 - 2. बिहार
 - 3. त्रिपुरा
 - 4. राजस्थान

Question ID : 26433094890
Status : Not Answered
Chosen Option : --

Q.8 भारतीय संविधान का कौन सा भाग पंचायत से संबंधित है?

- Ans
- 1. भाग XI
 - 2. भाग X
 - 3. भाग VIII
 - 4. भाग IX

Question ID : 264330115616
Status : Answered
Chosen Option : 4

Q.9 जून 2022 में, संयुक्त राष्ट्र में भारत के स्थायी प्रतिनिधि के रूप में किसे नियुक्त किया गया?

- Ans
- 1. सैयद अकबरुद्दीन
 - 2. अशोक कुमार मुखर्जी
 - 3. रुचिरा कंबोज
 - 4. निरुपम सेन

Question ID : 264330114984
Status : Not Answered
Chosen Option : --

Q.10 मुक्केबाजी (बॉक्सिंग) के सबसे भारी भार वर्ग का नाम क्या है?

- Ans
- 1. फ्लाइ
 - 2. लाइट
 - 3. फेदर
 - 4. पिन

Question ID : 26433086733
Status : Not Answered
Chosen Option : --

Q.11 उपभोक्ता संरक्षण नियम, 2021 के अनुसार, राष्ट्रीय आयोग के पास उन शिकायतों पर विचार करने का अधिकार होगा जहां प्रतिफल के रूप में भुगतान की गई वस्तुओं या सेवाओं का मूल्य से अधिक है।

- Ans
- 1. दस करोड़ रुपए
 - 2. दो करोड़ रुपए
 - 3. पांच करोड़ रुपए
 - 4. एक करोड़ रुपए

Question ID : 264330116237
Status : Not Answered
Chosen Option : --

Q.12 तेज गड़गड़ाहट और बिजली के साथ अचानक और लगातार होने वाली वर्षा को _____ कहा जाता है।

- Ans
- 1. वर्षाक्रतु की शुरुआत
 - 2. मूसलधार वर्षाक्रतु (Cloudburst monsoon)
 - 3. वर्षाक्रतु का अंतराल
 - 4. वर्षाक्रतु का प्रस्फोट (Burst of the monsoon)

Question ID : 264330115983
Status : Answered
Chosen Option : 2

Q.13 मार्च 2022 तक प्राप्त जानकारी के अनुसार, संगीत नाटक अकादमी द्वारा शास्त्रीय नृत्य की श्रेणी में शामिल नृत्य निम्न में से कौन सा है?

- Ans
- 1. कालबेलिया
 - 2. बिहू
 - 3. घूमर
 - 4. मणिपुरी

Question ID : 26433070805
Status : Answered
Chosen Option : 4

Q.14 _____ एक अभ्यास है जिसका उद्देश्य वैकल्पिक मौसम में एक से अधिक फसलों की खेती करना है।

- Ans
- 1. बहुविध फसल खेती
 - 2. वन कृषि
 - 3. सीढ़ीदार खेती
 - 4. खरीफ फसल लेना

Question ID : 264330115428
Status : Answered
Chosen Option : 1

Q.15 निम्नलिखित में से किस राज्य में द्विसदनीय विधायिका है?

- Ans
- 1. पंजाब
 - 2. कर्नाटक
 - 3. हरियाणा
 - 4. तमिलनाडु

Question ID : 26433086861
Status : Answered
Chosen Option : 1

Q.16 भारतीय रिजर्व बैंक की स्थापना _____ को हुई थी।

- Ans
- 1. 1 मई 1932
 - 2. 1 अप्रैल 1935
 - 3. 1 जनवरी 1945
 - 4. 1 जून 1935

Question ID : 26433054800
Status : Answered
Chosen Option : 2

Q.17 छऊ में उनके योगदान के लिए वर्ष 2016 में संगीत नाटक अकादमी पुरस्कार से किसे सम्मानित किया गया?

- Ans
- 1. गोपाल प्रसाद दुबे
 - 2. सुचित्रा एला
 - 3. महबूब सुभानी
 - 4. विदुषी केएस जयलक्ष्मी

Question ID : 264330115891
Status : Not Answered
Chosen Option : --

Q.18 निम्नलिखित में से कौन-सी वस्तु गन्ने से प्राप्त नहीं होती है?

- Ans
- 1. गुडरस (molasses)
 - 2. चीनी
 - 3. खांडसारी (khandsari)
 - 4. शहद

Question ID : 264330115528
Status : Answered
Chosen Option : 4

Q.19 क्षेत्रफल की दृष्टि से भारत का सबसे बड़ा राज्य _____ है।

- Ans 1. राजस्थान
 2. मध्य प्रदेश
 3. महाराष्ट्र
 4. उत्तर प्रदेश

Question ID : 264330116089
Status : Answered
Chosen Option : 1

Q.20 कबड्डी मैच में एक टीम से एक बार में कितने खिलाड़ी खेलते हैं?

- Ans 1. 7
 2. 8
 3. 5
 4. 6

Question ID : 26433071574
Status : Answered
Chosen Option : 1

Section : Part-C-Elementary Mathematics

Q.1 ₹10,000 की राशि वार्षिक रूप से चक्रवृद्धि की जाने वाली एक निश्चित ब्याज दर पर 2 वर्ष में ₹12,100 हो जाती है। 4 वर्ष बाद यह राशि कितनी हो जाएगी?

- Ans 1. ₹16,461
 2. ₹14,641
 3. ₹13,431
 4. ₹14,341

Question ID : 26433081719
Status : Answered
Chosen Option : 2

Q.2 एक डीलर एक एयर-कंडीशनर का अंकित मूल्य ₹1,20,000 अंकित करता है और उस पर 12% की छूट देता है। इसके विक्रय मूल्य (₹ में) की गणना करें।

- Ans 1. 1,10,500
 2. 1,05,600
 3. 1,16,000
 4. 1,06,050

Question ID : 26433061890
Status : Answered
Chosen Option : 2

Q.3 यदि Rs.200 से Rs.350 तक की कीमतों पर खरीदी गई पुस्तकों को Rs.300 से Rs.450 तक की कीमतों पर बेचा जा रहा है, तो 8 पुस्तकों को बेचने पर अधिकतम संभावित लाभ क्या हो सकता है?

- Ans
- 1. Rs.2,000
 - 2. Rs.400
 - 3. Rs.1,600
 - 4. Rs.1,800

Question ID : 26433076036
Status : Not Answered
Chosen Option : --

Q.4 मिट्टी के तेल और पेट्रोल से बने 65 लीटर मिश्रण में, मिट्टी के तेल और पेट्रोल का अनुपात 3 : 2 है। इस अनुपात को 4 : 5 करने के लिए, दिए गए मिश्रण में कितने लीटर पेट्रोल मिलाना चाहिए?

- Ans
- 1. 24.5
 - 2. 22.75
 - 3. 29.25
 - 4. 23.25

Question ID : 26433080000
Status : Answered
Chosen Option : 2

Q.5 यदि संख्या 'a', 18 से विभाज्य है और एक अन्य संख्या 'b', 12 से विभाज्य है, तो $(a^2 - b^2)$ किससे विभाज्य होगी?

- Ans
- 1. 30
 - 2. 36
 - 3. 40
 - 4. 48

Question ID : 26433081701
Status : Not Answered
Chosen Option : --

Q.6 एक कार चालक को एक निश्चित दूरी तय करने में लगने वाले समय को 40% कम करने के लिए कार की चाल में कितने प्रतिशत की वृद्धि करनी चाहिए?

- Ans
- 1. $66\frac{2}{3}\%$
 - 2. $68\frac{1}{3}\%$
 - 3. $53\frac{1}{6}\%$
 - 4. $64\frac{1}{3}\%$

Question ID : 26433091505
Status : Not Answered
Chosen Option : --

Q.7 एक व्यक्ति, जो दौड़ने का अभ्यास करता है, दूरी के पहले आधे हिस्से को 4 किमी/घंटा की चाल से और शेष आधी दूरी को 6 किमी/घंटा की चाल से तय करता है। उसकी औसत चाल क्या है?

- Ans
- 1. 5 किमी/घंटा
 - 2. 5.2 किमी/घंटा
 - 3. 4.5 किमी/घंटा
 - 4. 4.8 किमी/घंटा

Question ID : 26433075921
Status : Answered
Chosen Option : 2

Q.8 यदि बेलन की त्रिज्या और ऊँचाई क्रमशः 91 m और 2.5 m है, तो बेलन का वक्र पृष्ठीय क्षेत्रफल और कुल पृष्ठीय क्षेत्रफल क्रमशः क्या है? ($\pi = 22/7$ लें)

- Ans
- 1. 1340 m² और 54382 m²
 - 2. 1420 m² और 53582 m²
 - 3. 1430 m² और 53482 m²
 - 4. 2430 m² और 73482 m²

Question ID : 26433085493
Status : Answered
Chosen Option : 3

Q.9 एक छाता Rs.80 में खरीदा जाता है और Rs.68 में बेचा जाता है। हानि का प्रतिशत क्या है?

- Ans
- 1. 15%
 - 2. 12%
 - 3. 13%
 - 4. 14%

Question ID : 26433075143
Status : Answered
Chosen Option : 1

Q.10 एक दुकानदार ने एक मेज के अंकित मूल्य को एक निश्चित राशि के रूप में सूचीबद्ध किया और उसने 10% तथा 10% की दो क्रमिक छूट दीं। यदि दुकानदार ने इसे ₹1,458 रुपये में बेचा, तो अंकित मूल्य _____ है।

- Ans
- 1. ₹1,870
 - 2. ₹1,830
 - 3. ₹1,800
 - 4. ₹1,850

Question ID : 26433090303
Status : Answered
Chosen Option : 3

Q.11 यदि x और y व्युत्क्रमानुपाती हैं और y = 7 होने पर x = 27 है, तो y = 21 होने पर x का मान क्या होगा?

Ans 1. 9

2. 21

3. 7

4. 27

Question ID : 26433079776

Status : Not Answered

Chosen Option : --

Q.12 $\frac{3}{4}$, $\frac{5}{7}$, $\frac{7}{9}$ और $\frac{1}{12}$ का महत्तम समापवर्तक क्या होगा?

Ans

1. $\frac{1}{63}$

2. $\frac{1}{126}$

3. $\frac{1}{252}$

4. $\frac{1}{378}$

Question ID : 26433091511

Status : Answered

Chosen Option : 3

Q.13 राहुल ने तीन वर्ष पहले, 10% वार्षिक चक्रवृद्धि ब्याज दर और वार्षिक चक्रवृद्धि आधार पर एक धनराशि उधार ली थी। यदि उस उधार ली गई धनराशि का वर्तमान मूल्य Rs.11,979 है, तो राहुल ने कितनी धनराशि उधार ली थी?

Ans 1. Rs.8,000

2. Rs.9,979

3. Rs.8,979

4. Rs.9,000

Question ID : 26433080340

Status : Answered

Chosen Option : 4

Q.14 20 लोगों का औसत भार 75 kgs है। उनमें से 10 लोगो का औसत भार 70 kgs है। बचे हुए लोगों में से 5 लोगों का औसत भार 75 kgs है। अंत में बचे हुए 5 लोगो का औसत भार ज्ञात करें।

- Ans
- 1. 75 kgs
 - 2. 80 kgs
 - 3. 85 kgs
 - 4. 90 kgs

Question ID : 264330116688
Status : Answered
Chosen Option : 3

Q.15 एक संख्या में 8% की वृद्धि की जाती है और फिर, बढ़ी हुई संख्या में 8% की कमी की जाती है। संख्या में शुद्ध वृद्धि या कमी क्या है?

- Ans
- 1. 0.36% की वृद्धि
 - 2. 0.36% की कमी
 - 3. 0.64% की वृद्धि
 - 4. 0.64% की कमी

Question ID : 26433075968
Status : Answered
Chosen Option : 4

Q.16 एक चोर 40 km/h की चाल से चलते हुए एक निश्चित दूरी को 5 घंटे 15 मिनट में तय करता है। यदि पुलिस उसका पीछा करते हुए समान दूरी 50 km/h की चाल से तय करती है, तो पुलिस उसी दूरी को तय करने में कितना समय लेगी?

- Ans
- 1. 4 घंटे 12 मिनट
 - 2. 5 घंटे 20 मिनट
 - 3. 4 घंटे 50 मिनट
 - 4. 3 घंटे 15 मिनट

Question ID : 26433074996
Status : Answered
Chosen Option : 4

Q.17 यदि A, B और C अलग-अलग कार्य करते हैं, तो वे एक काम क्रमशः 27, 36 और 45 दिन में पूरा कर सकते हैं। यदि वे एक साथ कार्य करते हैं तो काम पूरा करने में कितने दिन लगेंगे?

- Ans
- 1. $15\frac{9}{47}$
 - 2. $10\frac{33}{47}$
 - 3. $13\frac{11}{47}$
 - 4. $11\frac{23}{47}$

Question ID : 26433079891
Status : Answered
Chosen Option : 4

Q.18 राम अपने कमरे की सभी दीवारों और छत को व्यक्तिगत रूप से पेंट करना चाहता है। उसने अपने कमरे को पेंट करना शुरू किया और 16 m^2 क्षेत्र पेंट करने के बाद, 4 लीटर पेंट का टिन खाली हो गया। यदि पेंट किए जाने वाले उसके कमरे का कुल क्षेत्रफल 176 m^2 है, तो शेष क्षेत्र को पेंट करने के लिए कितने पेंट के टिन की आवश्यकता होगी?

- Ans
- 1. 20
 - 2. 40
 - 3. 30
 - 4. 10

Question ID : 26433079940
Status : Not Answered
Chosen Option : --

Q.19 उस बेलन के संपूर्ण पृष्ठीय क्षेत्रफल का उसके वक्र पृष्ठीय क्षेत्रफल से अनुपात ज्ञात कीजिए, जिसकी त्रिज्या 20 cm और ऊँचाई 50 cm है।

- Ans
- 1. 3 : 5
 - 2. 5 : 3
 - 3. 7 : 5
 - 4. 5 : 7

Question ID : 26433066327
Status : Answered
Chosen Option : 3

Q.20 A, B से तीन गुना कुशल कारीगर है। A ने कार्य करना शुरू किया और उन्होंने मिलकर एकांतर दिनों में कार्य किया और 24 दिनों में कार्य को पूरा कर दिया। A अकेले कार्य को पूरा करने में कितने दिन लेगा?

- Ans
- 1. 24
 - 2. 21
 - 3. 16
 - 4. 18

Question ID : 26433087394
Status : Not Answered
Chosen Option : --

Section : Part-D-English

Q.1 Select the most appropriate synonym of the given word.

Annoyance

- Ans
- 1. Emotion
 - 2. Agony
 - 3. Anger
 - 4. Hatred

Question ID : 26433088204
Status : Not Answered
Chosen Option : --

Q.2 Select the most appropriate meaning of the given idiom.

Lay hands on

- Ans** ✓ 1. To touch or grasp someone, often with the threat of violence
✗ 2. To give up
✗ 3. To gently lay one's hand on someone
✗ 4. To try new things

Question ID : **26433072223**
Status : **Not Answered**
Chosen Option : --

Q.3 Select the most appropriate synonym of the given word.

Stratified

- Ans** ✓ 1. Laminated
✗ 2. Consolidated
✗ 3. Ungraded
✗ 4. Scattered

Question ID : **26433089099**
Status : **Not Answered**
Chosen Option : --

Q.4 Identify the correctly spelt sentence.

- Ans** ✗ 1. Human persunality is classified into three types- introvert, extrovert and ambivert.
✗ 2. Human persunality is classifide into three types- introvert, extrovert and ambivert.
✓ 3. Human persunality is classified into three types- introvert, extrovert and ambivert.
✗ 4. Human persunality is classified into three types- introvert, extrovert and ambivert

Question ID : **26433072825**
Status : **Not Answered**
Chosen Option : --

Q.5 Select the most appropriate synonym of the given word.

Gloomy

- Ans** ✗ 1. Hopeful
✗ 2. Blissful
✗ 3. Light
✓ 4. Unhappy

Question ID : **26433072070**
Status : **Not Answered**
Chosen Option : --

Q.6 Select the word segment that substitutes (replaces) the bracketed word segment correctly and completes the sentence meaningfully:
Distribute these fruits and desserts (WITHIN) the girls, the boys and the teachers.

- Ans 1. among
 2. for
 3. across
 4. in

Question ID : 264330101434
Status : Not Answered
Chosen Option : --

Q.7 Select the most appropriate option that can substitute the underlined segment in the given sentence.

My boss have insured me that my salary will be credited next week.

- Ans 1. has cautioned
 2. has assured
 3. had entrusted
 4. have ensured

Question ID : 26433088162
Status : Not Answered
Chosen Option : --

Q.8 Select the most appropriate ANTONYM of the underlined word in the following sentence.

My brother became very frail after his long sickness.

- Ans 1. Violent
 2. Feeble
 3. Strong
 4. Docile

Question ID : 26433072242
Status : Not Answered
Chosen Option : --

Q.9 Select the most appropriate synonym to substitute the underlined word in the given sentence.

The strict measures employed by the government ensured there was peace.

- Ans 1. valiant
 2. orthodox
 3. austere
 4. liberal

Question ID : 26433074018
Status : Not Answered
Chosen Option : --

Q.10 The following sentence has been split into four segments. Identify the segment that contains a grammatical error.
They have / always take / an hour's walk / before breakfast.

- Ans
- 1. always take
 - 2. They have
 - 3. an hour's walk
 - 4. before breakfast

Question ID : 26433099633
Status : Not Answered
Chosen Option : --

Q.11 Select the correct idiom that can substitute the italicised group of words in the given sentence.

To succeed in competitive exams is not *an easy task*.

- Ans
- 1. cat's paw
 - 2. a black sheep
 - 3. child's play
 - 4. a bed of thorns

Question ID : 26433084760
Status : Not Answered
Chosen Option : --

Q.12 Select the most appropriate ANTONYM of the given word.

Obvious

- Ans
- 1. Ambiguous
 - 2. Apparent
 - 3. Inherent
 - 4. Evident

Question ID : 26433092072
Status : Not Answered
Chosen Option : --

Q.13 Select the most appropriate option that can substitute the underlined segment in the given sentence. If there is no need to substitute it, select 'No substitution'.

Henry worked for a few years as a sargent in the army.

- Ans
- 1. sergant
 - 2. sergeant
 - 3. sergent
 - 4. No substitution

Question ID : 26433074005
Status : Not Answered
Chosen Option : --

Q.14 Select the most appropriate ANTONYM of the given word.

Enormous

- Ans 1. Negligible
 2. Stumble
 3. Enjoyable
 4. Mammoth

Question ID : 26433092069
Status : Not Answered
Chosen Option : --

Q.15 Select the most appropriate option that can substitute the underlined segment in the given sentence.

Josephine confessed that she couldn't stand another hour out daylight.

- Ans 1. couldn't wait another hour from
 2. couldn't stand another hour of
 3. couldn't stand another hour for
 4. couldn't stand other hour in

Question ID : 26433091967
Status : Not Answered
Chosen Option : --

Comprehension:

In the following passage, some words have been deleted. Read the passage carefully and select the most appropriate option to fill in each blank.

Inevitably, my approach will often be a personal one; how the idea grew in my mind, what shapes it took, how it (1) _____ me and affected my action. There will also be some (2) _____ personal experiences which have nothing to do with the subject in its wider aspects, but which coloured my mind and influenced my approach to the whole problem. Our judgments of countries and peoples are based on many factors; among them our personal contacts, if there have been any, have a (3) _____ influence. If we do not personally know the people of a country we are apt to misjudge them even (4) _____ than otherwise, and (5) _____ them entirely alien and different.

SubQuestion No : 16

Q.16 Select the most appropriate option to fill in blank number 1.

- Ans 1. will influence
 2. is influenced
 3. influenced
 4. is influencing

Question ID : 26433092117
Status : Not Answered
Chosen Option : --

Comprehension:

In the following passage, some words have been deleted. Read the passage carefully and select the most appropriate option to fill in each blank.

Inevitably, my approach will often be a personal one; how the idea grew in my mind, what shapes it took, how it (1) _____ me and affected my action. There will also be some (2) _____ personal experiences which have nothing to do with the subject in its wider aspects, but which coloured my mind and influenced my approach to the whole problem. Our judgments of countries and peoples are based on many factors; among them our personal contacts, if there have been any, have a (3) _____ influence. If we do not personally know the people of a country we are apt to misjudge them even (4) _____ than otherwise, and (5) _____ them entirely alien and different.

SubQuestion No : 17

Q.17 Select the most appropriate option to fill in blank number 2.

- Ans 1. entirely
 2. entirety
 3. entire
 4. untiredly

Question ID : 26433092118
Status : Not Answered
Chosen Option : --

Comprehension:

In the following passage, some words have been deleted. Read the passage carefully and select the most appropriate option to fill in each blank.

Inevitably, my approach will often be a personal one; how the idea grew in my mind, what shapes it took, how it (1) _____ me and affected my action. There will also be some (2) _____ personal experiences which have nothing to do with the subject in its wider aspects, but which coloured my mind and influenced my approach to the whole problem. Our judgments of countries and peoples are based on many factors; among them our personal contacts, if there have been any, have a (3) _____ influence. If we do not personally know the people of a country we are apt to misjudge them even (4) _____ than otherwise, and (5) _____ them entirely alien and different.

SubQuestion No : 18

Q.18 Select the most appropriate option to fill in blank number 3.

- Ans 1. marked
 2. marks
 3. mark
 4. marking

Question ID : 26433092119
Status : Not Answered
Chosen Option : --

Comprehension:

In the following passage, some words have been deleted. Read the passage carefully and select the most appropriate option to fill in each blank.

Inevitably, my approach will often be a personal one; how the idea grew in my mind, what shapes it took, how it (1) _____ me and affected my action. There will also be some (2) _____ personal experiences which have nothing to do with the subject in its wider aspects, but which coloured my mind and influenced my approach to the whole problem. Our judgments of countries and peoples are based on many factors; among them our personal contacts, if there have been any, have a (3) _____ influence. If we do not personally know the people of a country we are apt to misjudge them even (4) _____ than otherwise, and (5) _____ them entirely alien and different.

SubQuestion No : 19

Q.19 Select the most appropriate option to fill in blank number 4.

- Ans
- 1. most
 - 2. much
 - 3. more
 - 4. very much

Question ID : 26433092120
Status : Not Answered
Chosen Option : --

Comprehension:

In the following passage, some words have been deleted. Read the passage carefully and select the most appropriate option to fill in each blank.

Inevitably, my approach will often be a personal one; how the idea grew in my mind, what shapes it took, how it (1) _____ me and affected my action. There will also be some (2) _____ personal experiences which have nothing to do with the subject in its wider aspects, but which coloured my mind and influenced my approach to the whole problem. Our judgments of countries and peoples are based on many factors; among them our personal contacts, if there have been any, have a (3) _____ influence. If we do not personally know the people of a country we are apt to misjudge them even (4) _____ than otherwise, and (5) _____ them entirely alien and different.

SubQuestion No : 20

Q.20 Select the most appropriate option to fill in blank number 5.

- Ans
- 1. considered
 - 2. consider
 - 3. had considered
 - 4. to consider

Question ID : 26433092121
Status : Not Answered
Chosen Option : --

Q.1 पवन तेज गति से चल रही है।
उपरोक्त वाक्य के रेखांकित पद का पर्यायवाची किस विकल्प में है?

- Ans
- 1. मोषक
 - 2. दुश्मन
 - 3. अयन
 - 4. मृगवाहन

Question ID : 26433079183
Status : Not Answered
Chosen Option : --

Q.2 निम्न वाक्यांश के लिए एक शब्द क्या होगा?
जो सब कुछ जानता है

- Ans
- 1. समान
 - 2. सर्वस्व
 - 3. सामाजिक
 - 4. सर्वज्ञ

Question ID : 26433070090
Status : Answered
Chosen Option : 4

Q.3 निम्नलिखित वाक्य का शुद्ध रूप किस वाक्य में लिखा गया है?
'गोपाल ने रसगुल्ले या जलेबी खाया।'

- Ans
- 1. गोपाल ने रसगुल्ला या जलेबी खायीं।
 - 2. गोपाल ने रसगुल्ले या जलेबी खाए।
 - 3. गोपाल ने रसगुल्ला या जलेबी खायी।
 - 4. गोपाल ने रसगुल्ला या जलेबी खाया।

Question ID : 26433079236
Status : Answered
Chosen Option : 4

Q.4 एक साथ प्रयुक्त होने वाला कौन-सा समानार्थी शब्द निम्न वाक्य के लिए उपयुक्त होगा?
साधु संत _____ भोजन से खूब संतुष्ट होते हैं।

- Ans
- 1. मांस - मछली
 - 2. शाक - भाजी
 - 3. घिसा - पिटा
 - 4. घास - पात

Question ID : 26433079244
Status : Answered
Chosen Option : 3

Q.5 'यज्ञशाला _____।' उपर्युक्त वाक्य में रिक्त स्थान के लिए उपयुक्त विकल्प निम्न में से क्या होगा?

- Ans
- 1. वह स्थान है, जहां न्याय किया जाता है
 - 2. वह स्थान है, जहां हवन किया जाता है
 - 3. वह स्थान है, जहां बैठकर चर्चा होती है
 - 4. वह स्थान है, जहां व्यायाम होता है

Question ID : 26433067047
Status : Answered
Chosen Option : 2

Q.6 दिए गए वाक्य में रेखांकित अंश के स्थान पर सबसे उपयुक्त विकल्प कौन-सा होगा? दुर्गा के अनेकों नाम हैं।

- Ans
- 1. अनेक
 - 2. लाखों
 - 3. बहुतों
 - 4. करोड़ों

Question ID : 26433066717
Status : Answered
Chosen Option : 1

Q.7 निम्नलिखित वाक्य के किस शब्द में अशुद्धि है? दिल्ली से जयपूर तक चौड़ी सड़क है।

- Ans
- 1. सड़क
 - 2. दिल्ली
 - 3. चौड़ी
 - 4. जयपूर

Question ID : 26433066752
Status : Answered
Chosen Option : 4

Q.8 'अपने मुंह _____ बनना' इस मुहावरे को पूरा करें।

- Ans
- 1. अच्छा
 - 2. चालाक
 - 3. सुंदर
 - 4. मियां मिट्टू

Question ID : 26433066818
Status : Answered
Chosen Option : 4

Q.9 निम्न में से किस वाक्य में 'निजी' के सही पर्यायवाची शब्द का प्रयोग हुआ है?

- Ans 1. आज प्रत्येक व्यक्ति वैयक्तिक लाभ के पीछे दौड़ रहा है।
 2. विनय अत्यंत सभ्य है।
 3. राघव सामाजिक कार्यों में रूचि लेता है।
 4. इस प्रकार के कार्यों से ही देश का सर्वांगीण विकास होगा।

Question ID : 26433067012
Status : Answered
Chosen Option : 1

Q.10 "अभ्युदय दिल्ली की किताबें लाकर पढ़ता है।"

उपरोक्त वाक्य में कारक सम्बन्धी त्रुटि पहचानकर निम्नलिखित में से शुद्ध वाक्य का चयन कीजिए।

- Ans 1. अभ्युदय दिल्ली के किताबें लाकर पढ़ता है।
 2. अभ्युदय दिल्ली से किताबें लाकर पढ़ता है।
 3. अभ्युदय दिल्ली पर किताबें लाकर पढ़ता है।
 4. अभ्युदय दिल्ली को किताबें लाकर पढ़ता है।

Question ID : 26433066966
Status : Answered
Chosen Option : 2

Q.11 'वह गाड़ी के पास सो रहा है।'

अनिश्चयवाचक सर्वनाम का प्रयोग कर इस वाक्य को पुनः लिखिए।

- Ans 1. कोई गाड़ी के पास सो रहा है।
 2. वह स्वयं गाड़ी के पास सो रहा है।
 3. वे गाड़ी के पास सो रहे हैं।
 4. कौन गाड़ी के पास सो रहा है?

Question ID : 26433066979
Status : Answered
Chosen Option : 1

Q.12 'बिना पलक गिराए' वाक्यांश के लिए सार्थक शब्द है-

- Ans 1. निद्रा
 2. अपलक
 3. बंधक
 4. पलक

Question ID : 26433062229
Status : Answered
Chosen Option : 2

Q.13 दिए गए मुहावरे में रेखांकित अंश के स्थान पर सबसे उपयुक्त विकल्प कौन-सा होगा?
गज भर की मकान होना।

- Ans
- 1. दुकान
 - 2. जुबान
 - 3. पहचान
 - 4. दीवार

Question ID : 26433066742
Status : Not Answered
Chosen Option : --

Q.14 'असफल' का विलोम शब्द क्या होगा?

- Ans
- 1. सफल
 - 2. विगत
 - 3. निष्फल
 - 4. विफल

Question ID : 26433085078
Status : Answered
Chosen Option : 1

Q.15 निम्नलिखित में से कौन सा शब्द भाववाचक संज्ञा नहीं है?

- Ans
- 1. आलस्य
 - 2. समृद्धि
 - 3. सजावट
 - 4. लघुता

Question ID : 26433085027
Status : Answered
Chosen Option : 4

Comprehension:

निम्न गद्यांश के आधार पर प्रश्न संख्या 1-5 के उत्तर दीजिए।
दूर संचार के साधनों को 1. _____ कहा जाता है। किसी भी देश के 2. _____ दूरसंचार के विकसित साधनों की अहम भूमिका रहती है। 3. _____ को जल्दी-से-जल्दी भेजने या प्राप्त करने के लिए मनुष्य पुरातन काल से ही साधन खोजता आ रहा है। पुरातन काल में संदेश भेजने के लिए हम 4. _____ सहायता लिया करते थे। कवियों की कल्पना के संदेशवाहक मेघ व चंद्रमा थे। समय के परिवर्तन के फलस्वरूप विज्ञान के क्षेत्र में आई क्रांति के कारण कबूतरों के स्थान पर आकाश में 5. _____ उड़ने लगे, ऊँट एवं घोड़ों का स्थान रेल एवं मोटर गाड़ियों ने ले लिया, मेघदूत के स्थान पर प्रयोग की जाने लगी रेडियो व सूक्ष्म तरंगें तथा चंद्रमा का स्थान ले लिया कृत्रिम उपग्रहों ने।

SubQuestion No : 16

Q.16 गद्यांश में दिए गए रिक्त स्थान 1 के लिए सर्वाधिक उपयुक्त शब्द का चयन विकल्पों में से कीजिए।

- Ans
- 1. 'बेईमान व्यक्ति'
 - 2. 'ईमानदार व्यक्ति'
 - 3. 'सबका साथ'
 - 4. 'वर्तमान समाज का स्नायुतंत्र'

Question ID : 26433086293
Status : Answered
Chosen Option : 4

Comprehension:

निम्न गद्यांश के आधार पर प्रश्न संख्या 1-5 के उत्तर दीजिए।

दूर संचार के साधनों को 1. _____ कहा जाता है। किसी भी देश के 2. _____ दूरसंचार के विकसित साधनों की अहम भूमिका रहती है। 3. _____ को जल्दी-से-जल्दी भेजने या प्राप्त करने के लिए मनुष्य पुरातन काल से ही साधन खोजता आ रहा है। पुरातन काल में संदेश भेजने के लिए हम 4. _____ सहायता लिया करते थे। कवियों की कल्पना के संदेशवाहक मेघ व चंद्रमा थे। समय के परिवर्तन के फलस्वरूप विज्ञान के क्षेत्र में आई क्रांति के कारण कबूतरों के स्थान पर आकाश में 5. _____ उड़ने लगे, ऊँट एवं घोड़ों का स्थान रेल एवं मोटर गाड़ियों ने ले लिया, मेघदूत के स्थान पर प्रयोग की जाने लगी रेडियो व सूक्ष्म तरंगें तथा चंद्रमा का स्थान ले लिया कृत्रिम उपग्रहों ने।

SubQuestion No : 17

Q.17 गद्यांश में दिए गए रिक्त स्थान 2 के लिए सर्वाधिक उपयुक्त शब्द का चयन विकल्पों में से कीजिए।

- Ans
- 1. साहित्यिक परिवेश
 - 2. सामाजिक भूमिका
 - 3. समसामयिक परिवेश
 - 4. आर्थिक विकास में

Question ID : 26433086294

Status : Answered

Chosen Option : 4

Comprehension:

निम्न गद्यांश के आधार पर प्रश्न संख्या 1-5 के उत्तर दीजिए।

दूर संचार के साधनों को 1. _____ कहा जाता है। किसी भी देश के 2. _____ दूरसंचार के विकसित साधनों की अहम भूमिका रहती है। 3. _____ को जल्दी-से-जल्दी भेजने या प्राप्त करने के लिए मनुष्य पुरातन काल से ही साधन खोजता आ रहा है। पुरातन काल में संदेश भेजने के लिए हम 4. _____ सहायता लिया करते थे। कवियों की कल्पना के संदेशवाहक मेघ व चंद्रमा थे। समय के परिवर्तन के फलस्वरूप विज्ञान के क्षेत्र में आई क्रांति के कारण कबूतरों के स्थान पर आकाश में 5. _____ उड़ने लगे, ऊँट एवं घोड़ों का स्थान रेल एवं मोटर गाड़ियों ने ले लिया, मेघदूत के स्थान पर प्रयोग की जाने लगी रेडियो व सूक्ष्म तरंगें तथा चंद्रमा का स्थान ले लिया कृत्रिम उपग्रहों ने।

SubQuestion No : 18

Q.18 गद्यांश में दिए गए रिक्त स्थान 3 के लिए सर्वाधिक उपयुक्त शब्द का चयन विकल्पों में से कीजिए।

- Ans
- 1. सूचनाओं/समाचारों
 - 2. आकलन/प्राकलन
 - 3. संकल्प/विकल्प
 - 4. रिक्तियों/विकल्पों

Question ID : 26433086295

Status : Answered

Chosen Option : 1

Comprehension:

निम्न गद्यांश के आधार पर प्रश्न संख्या 1-5 के उत्तर दीजिए।
दूर संचार के साधनों को 1. _____ कहा जाता है। किसी भी देश के 2. _____ दूरसंचार के विकसित साधनों की अहम भूमिका रहती है। 3. _____ को जल्दी-से-जल्दी भेजने या प्राप्त करने के लिए मनुष्य पुरातन काल से ही साधन खोजता आ रहा है। पुरातन काल में संदेश भेजने के लिए हम 4. _____ सहायता लिया करते थे। कवियों की कल्पना के संदेशवाहक मेघ व चंद्रमा थे। समय के परिवर्तन के फलस्वरूप विज्ञान के क्षेत्र में आई क्रांति के कारण कबूतरों के स्थान पर आकाश में 5. _____ उड़ने लगे, ऊँट एवं घोड़ों का स्थान रेल एवं मोटर गाड़ियों ने ले लिया, मेघदूत के स्थान पर प्रयोग की जाने लगी रेडियो व सूक्ष्म तरंगें तथा चंद्रमा का स्थान ले लिया कृत्रिम उपग्रहों ने।

SubQuestion No : 19

Q.19 गद्यांश में दिए गए रिक्त स्थान 4 के लिए सर्वाधिक उपयुक्त शब्द का चयन विकल्पों में से कीजिए।

- Ans
- 1. फोन/मोबाईल
 - 2. इन्टरनेट/सोशल मीडिया
 - 3. कबूतर, ऊँट, घोड़ों तथा अन्य जानवरों की
 - 4. आवाज देकर/ बुलाकर

Question ID : 26433086296

Status : Answered

Chosen Option : 3

Comprehension:

निम्न गद्यांश के आधार पर प्रश्न संख्या 1-5 के उत्तर दीजिए।
दूर संचार के साधनों को 1. _____ कहा जाता है। किसी भी देश के 2. _____ दूरसंचार के विकसित साधनों की अहम भूमिका रहती है। 3. _____ को जल्दी-से-जल्दी भेजने या प्राप्त करने के लिए मनुष्य पुरातन काल से ही साधन खोजता आ रहा है। पुरातन काल में संदेश भेजने के लिए हम 4. _____ सहायता लिया करते थे। कवियों की कल्पना के संदेशवाहक मेघ व चंद्रमा थे। समय के परिवर्तन के फलस्वरूप विज्ञान के क्षेत्र में आई क्रांति के कारण कबूतरों के स्थान पर आकाश में 5. _____ उड़ने लगे, ऊँट एवं घोड़ों का स्थान रेल एवं मोटर गाड़ियों ने ले लिया, मेघदूत के स्थान पर प्रयोग की जाने लगी रेडियो व सूक्ष्म तरंगें तथा चंद्रमा का स्थान ले लिया कृत्रिम उपग्रहों ने।

SubQuestion No : 20

Q.20 गद्यांश में दिए गए रिक्त स्थान 5 के लिए सर्वाधिक उपयुक्त शब्द का चयन विकल्पों में से कीजिए।

- Ans
- 1. बस
 - 2. वायुयान
 - 3. ट्रैक्टर
 - 4. बैलगाड़ी

Question ID : 26433086297

Status : Answered

Chosen Option : 2