

Constable GD in CAPFs SSF Rifleman GD in Assam Rifles and Sepoy in NCB Examination 2022

Roll Number	www.govtjobsalert.in
Candidate Name	www.govtjobsalert.in
Venue Name	iON Digital Zone iDZ Sallahapur
Exam Date	25/01/2023
Exam Time	11:45 AM - 12:45 PM
Subject	Constable GD Examination 2022

Section : Part-A-General Intelligence and Reasoning

Q.1 यदि 'A' का अर्थ है 'घटाना', 'B' का अर्थ है 'भाग', 'C' का अर्थ है 'गुणा' और 'D' का अर्थ है 'जोड़', तो निम्नलिखित अभिव्यक्ति का मान क्या होगा?
8 A 80 B 16 C 90 D 21

- Ans
- 1. 421
 - 2. 463
 - 3. -463
 - 4. -421

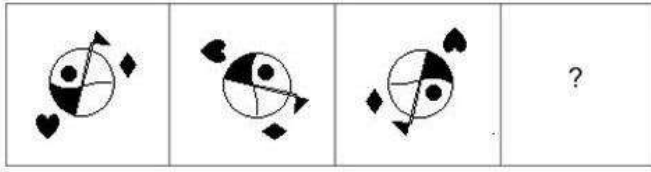
Question ID : 264330114178

Status : Answered

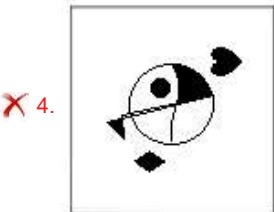
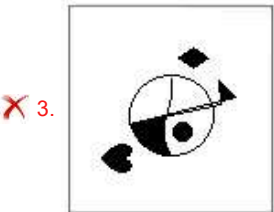
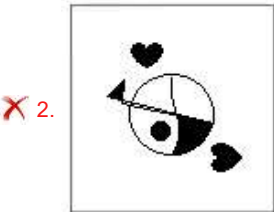
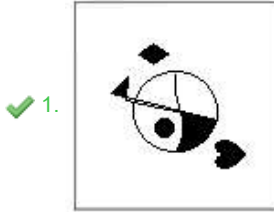
Chosen Option : 4

Q.2 उस आकृति का चयन कीजिए जो नीचे दी गई श्रृंखला में प्रश्न चिह्न (?) के स्थान

पर आएगी।



Ans



Question ID : 26433070423

Status : Answered

Chosen Option : 1

Q.3 'निकट' का जो संबंध 'पास' से है, वही संबंध 'दूरस्थ' का '_____' से है।
(शब्दों को अर्थपूर्ण शब्दों के रूप में मानना है और उन्हें शब्द में अक्षरों/व्यंजनों/स्वरों की संख्या के आधार पर एक-दूसरे से संबंधित नहीं करना है।)

- Ans
- ✗ 1. नजदीक
 - ✗ 2. दौड़ना
 - ✗ 3. कम्पास
 - ✓ 4. दूर

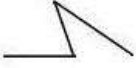
Question ID : 26433057751

Status : Answered

Chosen Option : 4

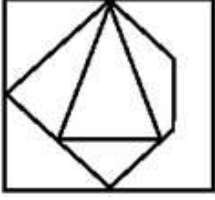
Q.4 निम्नलिखित विकल्पों में से उस आकृति का चयन करें जिसमें नीचे दी गई

आकृति निहित है (आकृति को घुमाने की अनुमति नहीं है)।




Ans

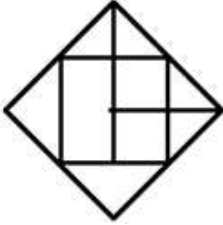
✗ 1.



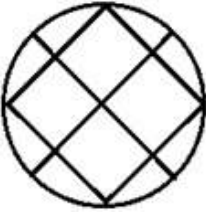
✓ 2.



✗ 3.



✗ 4.



Question ID : 26433069538

Status : Answered

Chosen Option : 2

Q.5 उस विकल्प का चयन करें जो तीसरी संख्या से उसी प्रकार संबंधित है जिस प्रकार दूसरी संख्या पहली संख्या से संबंधित है और छठी संख्या पांचवीं संख्या से संबंधित है।

27 : 189 :: 32 : ? :: 18 : 126

Ans ✗ 1. 236

✗ 2. 220

✓ 3. 224

✗ 4. 238

Question ID : 26433067937

Status : Answered

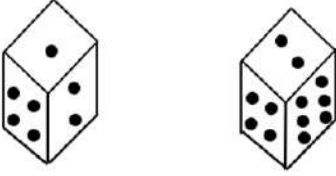
Chosen Option : 3

Q.6 एक निश्चित कूट भाषा में 'FLY' को 43 के रूप में और 'HAT' को 29 के रूप में कूटबद्ध किया गया है। उस भाषा में 'BEACH' को कैसे कूटबद्ध किया जाएगा?

- Ans 1. 39
 2. 19
 3. 40
 4. 22

Question ID : 26433074517
Status : Answered
Chosen Option : 2

Q.7 एक ही पासे की दो अलग-अलग स्थितियों को दर्शाया गया है जिस पर 1 से 6 तक की संख्याएं बिंदु के रूप में निरूपित हैं। '1' दर्शाने वाले फलक के विपरीत फलक पर स्थित संख्या ज्ञात कीजिए।



- Ans 1. 4
 2. 6
 3. 2
 4. 3

Question ID : 26433085507
Status : Answered
Chosen Option : 2

Q.8 निम्नलिखित में से कौन-सी संख्याएं दी गई श्रृंखला में प्रश्न-चिह्न (?) के स्थान पर आएंगी?
31, 33, 36, 41, 48, ?, ?

- Ans 1. 70, 82
 2. 59, 72
 3. 64, 78
 4. 60, 74

Question ID : 26433070222
Status : Answered
Chosen Option : 2

Q.9 एक कूट भाषा में 'She will come' को 'vu de ja' लिखा जाता है, 'Come and eat' को 'te vu ma' लिखा जाता है, 'all will eat' को 'ma nu ja' लिखा जाता है। उसी भाषा में 'all' शब्द के लिए क्या कूट है?

- Ans 1. nu
 2. ja
 3. ma
 4. te

Question ID : 26433068932
Status : Answered
Chosen Option : 1

Q.10 A, B, C, D, E, F, G और H एक वर्गाकार मेज के चारों ओर मेज के केंद्र की ओर मुख करके बैठे हैं। उनमें से कुछ कोनों पर बैठे हैं, जबकि कुछ भुजाओं के ठीक मध्य में बैठे हैं। E, G के बाईं ओर तीसरे स्थान पर बैठा है। E किसी एक कोने पर बैठा है। B, F के दाईं ओर दूसरे स्थान पर बैठा है। F किसी भी कोने पर नहीं बैठा है। F, E के ठीक बगल में नहीं बैठा है। H, A के ठीक बगल में बैठा है। H, किसी भी भुजा के मध्य में नहीं बैठा है। किसी भी एक दिशा से H और C के बीच में केवल तीन व्यक्ति बैठे हैं। यदि सभी व्यक्तियों को A से शुरू करके दक्षिणावर्त दिशा में वर्णानुक्रम में बैठाया जाता है, तो B, अपनी पिछली स्थिति के सापेक्ष किसी भी दिशा में कितने स्थान शिफ्ट होता है?

- Ans
- 1. 4
 - 2. 2
 - 3. 3
 - 4. 1

Question ID : 26433069666

Status : Answered

Chosen Option : 4

Q.11 छः विद्यार्थी - जेसन, तुषार, आनंद, स्टेसी, स्टीवन और मैक्स एक वृत्ताकार मेज के परितः मेज के केंद्र की ओर मुख करके बैठे हैं। जेसन, तुषार के दाईं ओर तीसरे स्थान पर बैठा है। आनंद, जेसन के बाईं ओर दूसरे स्थान पर बैठा है। स्टीवन, आनंद और जेसन के ठीक बगल में है। मैक्स, जेसन के दाईं ओर ठीक बगल में बैठा है। स्टेसी, तुषार के बाईं ओर ठीक बगल में है। मैक्स और स्टीवन के बीच में कौन बैठा है?

- Ans
- 1. आनंद
 - 2. जेसन
 - 3. स्टेसी
 - 4. तुषार

Question ID : 26433081785

Status : Answered

Chosen Option : 2

Q.12 उस विकल्प का चयन कीजिए जो तीसरे शब्द से उसी प्रकार संबंधित है जिस प्रकार दूसरा शब्द पहले शब्द से संबंधित है। (शब्दों को अर्थपूर्ण शब्दों के रूप में मानना है और उन्हें शब्द में अक्षरों/व्यंजनों/स्वरों की संख्या के आधार पर एक-दूसरे से संबंधित नहीं करना है।)
अतिरिक्त : अपर्याप्त :: प्रकट होना : ?

- Ans
- 1. गायब होना
 - 2. व्यक्ति
 - 3. डूबना
 - 4. पिघलना

Question ID : 26433079476

Status : Answered

Chosen Option : 1

Q.13 किस विकल्प में निम्नलिखित शब्दों का वह क्रम दिया गया है, जिस क्रम में वे अंग्रेजी शब्दकोश में आते हैं?

- 1 Ranked
- 2 Ragging
- 3 Rack
- 4 Rainbow
- 5 Radar

Ans 1. 3,5,2,4,1

2. 3,4,2,5,1

3. 3,4,2,1,5

4. 3,5,2,1,4

Question ID : 26433069266

Status : Answered

Chosen Option : 1

Q.14 निम्नलिखित में से कौन-सी संख्या दी गई श्रृंखला में प्रश्न-चिह्न (?) के स्थान पर आएगी?
10, 0, 20, 10, 30, 20, 40, 30, ?

Ans 1. 50

2. 70

3. 20

4. 40

Question ID : 26433069044

Status : Answered

Chosen Option : 1

Q.15 दिए गए विकल्पों में से उस अक्षर-समूह का चयन कीजिए जो निम्न श्रृंखला में प्रश्न-चिह्न (?) के स्थान पर आ सकता है।

FYBL, CVFP, ZSJT, ? , TMRB

Ans 1. WLXP

2. NKEC

3. NTPS

4. WPNX

Question ID : 26433074754

Status : Answered

Chosen Option : 4

Q.16 एक निश्चित कूट भाषा में,

'A + B' का अर्थ है कि 'A, B की माता है',

'A - B' का अर्थ है कि 'A, B का पिता है',

'A x B' का अर्थ है कि 'A, B का भाई है' और

'A & B' का अर्थ है कि 'A, B की पुत्री है'।

यदि $N \times L - T \& G + V$ है, तो N का V से क्या संबंध है?

Ans 1. ताऊ/चाचा

2. पिता

3. भाई

4. दादा

Question ID : 26433070373

Status : Answered

Chosen Option : 1

Q.17 दिए गए संयोजन की सही दर्पण छवि का चयन करें जब दर्पण को 'PQ' पर रखा

जाता है जैसा कि नीचे दिखाया गया है।



Ans

✗ 1. $2\overline{3}$

✗ 2. $\overline{2}3$

✓ 3. $\overline{2}\overline{3}$

✗ 4. $2\overline{3}$

Question ID : 26433082745

Status : Answered

Chosen Option : 3

Q.18 नीचे दिए गए समीकरण को गणितीय रूप से सही बनाने के लिए किन दो चिन्हों को परस्पर बदलना चाहिए?

$$192 - 16 + 18 \times 6 \div 24 = 96$$

Ans

✓ 1. - और ÷

✗ 2. × और +

✗ 3. - और ×

✗ 4. - और +

Question ID : 264330117526

Status : Answered

Chosen Option : 1

Q.19 तीन कथनों के बाद तीन निष्कर्ष I, II और III दिए गए हैं। कथनों को सत्य मानते हुए, भले ही वे सामान्य रूप से ज्ञात तथ्यों से भिन्न प्रतीत होते हों, निर्धारित करें कि कौन-सा/से निष्कर्ष, कथनों का तार्किक रूप से अनुसरण करता है/करते हैं।

कथन:

सभी चॉकलेट बिस्कुट हैं।

सभी चिप्स बिस्कुट हैं।

सभी बिस्कुट आलू हैं।

निष्कर्ष:

I. सभी चिप्स आलू हैं।

II. सभी आलू चॉकलेट हैं।

III. कुछ आलू चिप्स हैं।

- Ans
- 1. केवल निष्कर्ष II और III अनुसरण करते हैं
 - 2. केवल निष्कर्ष I और III अनुसरण करते हैं
 - 3. केवल निष्कर्ष I और II अनुसरण करते हैं
 - 4. सभी निष्कर्ष अनुसरण करते हैं

Question ID : 26433082300

Status : Answered

Chosen Option : 2

Q.20 निम्नलिखित में से कौन-सा अक्षर-समूह नीचे दी गई अक्षर-समूह श्रृंखला में प्रश्न-चिह्न (?) के स्थान पर आकर श्रृंखला को पूर्ण करेगा?
GS, EU, AW, UY, MA, ?

- Ans
- 1. DC
 - 2. CB
 - 3. CC
 - 4. BC

Question ID : 26433067280

Status : Answered

Chosen Option : 3

Section : Part-B-General Knowledge and General awareness

Q.1 निम्नलिखित में से कौन सा वेद सबसे पुराना है?

- Ans
- 1. अथर्व
 - 2. साम
 - 3. ऋग
 - 4. यजुर

Question ID : 264330115443

Status : Answered

Chosen Option : 3

Q.2 भारत में अधिकतम मुद्रास्फीति वर्ष _____ में 25.2 प्रतिशत दर्ज की गई थी, जो मुख्य रूप से उसके पिछले वर्ष खरीफ फसलों के खराब हो जाने और कच्चे तेल के मूल्यों में बढ़ोतरी के कारण हुआ था।

- Ans
- 1. 1998-99
 - 2. 2019-20
 - 3. 2015-16
 - 4. 1974-75

Question ID : 264330116145
Status : Answered
Chosen Option : 4

Q.3 SME का पूर्ण रूप Small And (स्माल एंड) _____ एंटरप्राइजेज़ (Enterprises) है।

- Ans
- 1. manufacturing (मैन्यूफैक्चरिंग)
 - 2. medium-sized (मीडियम साइज्ड)
 - 3. modern-sized (मॉडर्न साइज्ड)
 - 4. mid-term (मिड-टर्म)

Question ID : 264330115313
Status : Marked For Review
Chosen Option : 4

Q.4 राउत नाचा, पंथी और सुआ निम्नलिखित में से किस राज्य की प्रसिद्ध नृत्य शैलियां हैं?

- Ans
- 1. राजस्थान
 - 2. गुजरात
 - 3. छत्तीसगढ़
 - 4. झारखंड

Question ID : 26433071451
Status : Answered
Chosen Option : 3

Q.5 ज्वालामुखी से निकलकर पृथ्वी की सतह पर फैलने वाले मैग्मा को क्या कहते हैं?

- Ans
- 1. ज्वलखंडाशमी प्रवाह
 - 2. लावा
 - 3. प्रपात
 - 4. राख

Question ID : 264330115996
Status : Answered
Chosen Option : 2

Q.6 किस संवैधानिक संशोधन के द्वारा संविधान में मूल कर्तव्यों को जोड़ा गया?

- Ans
- 1. 41वें
 - 2. 43वें
 - 3. 42वें
 - 4. 44वें

Question ID : 264330115631
Status : Answered
Chosen Option : 3

Q.7 _____ को पांचवीं पंचवर्षीय योजना के दौरान पेश किया गया था।

- Ans
- 1. दिवा-विद्यालय
 - 2. न्यूनतम आवश्यकता कार्यक्रम
 - 3. बेटी बचाओ
 - 4. स्वच्छ भारत

Question ID : 264330115363
Status : Marked For Review
Chosen Option : 1

Q.8 निम्नलिखित में से कौन BCCI के पहले अध्यक्ष थे?

- Ans
- 1. जेसी मुखर्जी
 - 2. आरई ग्रंट गोवन
 - 3. एंथोनी डीमेलो
 - 4. रोजर बिन्नी

Question ID : 264330116264
Status : Marked For Review
Chosen Option : 1

Q.9 2015 में, संगीत अकादमी मद्रास द्वारा दिए जाने वाले एमएन सुब्रमण्यम धर्मादा पुरस्कार से निम्न में से किसे सम्मानित किया गया है?

- Ans
- 1. अलरमेल वल्ली
 - 2. अनुराधा पाण्डेय
 - 3. महबूब सुभानी
 - 4. कृष्णा एला

Question ID : 264330115850
Status : Marked For Review
Chosen Option : 2

Q.10 नवंबर 2022 तक की स्थिति के अनुसार, निम्नलिखित में से कौन भारत के आंध्र प्रदेश राज्य के राज्यपाल हैं?

- Ans
- 1. विश्वभूषण हरिचंदन
 - 2. अनुसुइया उइके
 - 3. भगत सिंह कोशारी
 - 4. हेमंत सोरेन

Question ID : 264330114897
Status : Answered
Chosen Option : 1

Q.11 निम्नलिखित में से किस मंत्री द्वारा कोयला प्रेषण को ट्रैक करने के लिए SEVA ऐप को लॉन्च किया गया था?

- Ans
- 1. सुरेश प्रभु
 - 2. नितिन गडकरी
 - 3. रामविलास पासवान
 - 4. पीयूष गोयल

Question ID : 264330115016
Status : Marked For Review
Chosen Option : 2

Q.12 2011 में निम्नलिखित में से किस केंद्र शासित प्रदेश में उच्चतम साक्षरता दर दर्ज की गई थी?

- Ans
- 1. अण्डमान और निकोबार
 - 2. लक्षद्वीप
 - 3. दमन और दीव
 - 4. पुदुचेरी

Question ID : 264330116059
Status : Marked For Review
Chosen Option : 2

Q.13 जैनियों के दिगंबर संप्रदाय द्वारा पर्युषण पर्व का आयोजन _____ दिनों के लिए किया जाता है।

- Ans
- 1. 12
 - 2. 16
 - 3. 14
 - 4. 10

Question ID : 264330115083
Status : Not Attempted and Marked For Review
Chosen Option : --

Q.14 अवोगाद्रो की संख्या 6.022 X _____ है

- Ans 1. 10^{25}
 2. 10^{23}
 3. 10^{22}
 4. 10^{24}

Question ID : 264330115145
Status : Marked For Review
Chosen Option : 2

Q.15 2022 तक प्राप्त जानकारी के अनुसार, भारत में कितने उच्च न्यायालय हैं?

- Ans 1. 25
 2. 20
 3. 23
 4. 22

Question ID : 264330115667
Status : Answered
Chosen Option : 1

Q.16 पत्तियों की कोशिकाओं में आप लवक (plastids) कहाँ पाएंगे?

- Ans 1. कोशिका भित्ति
 2. कोशिका द्रव्य
 3. कोशिका झिल्ली
 4. केंद्रक

Question ID : 264330115192
Status : Marked For Review
Chosen Option : 1

Q.17 एशियाई खेल 2018 के समापन समारोह के लिए भारत का/की ध्वजवाहक कौन थे/थी?

- Ans 1. संजीव राजपूत
 2. दीपक कुमार
 3. नीरज चोपड़ा
 4. रानी रामपाल

Question ID : 264330115912
Status : Marked For Review
Chosen Option : 4

Q.18 पूना पैक्ट के परिणामस्वरूप हरिजन सेवक संघ की स्थापना कब हुई थी?

- Ans 1. 1938
 2. 1932
 3. 1936
 4. 1940

Question ID : 26433089892
Status : Marked For Review
Chosen Option : 2

Q.19 अटल पेंशन योजना (APY) के अंतर्गत ग्राहक (subscriber) की आयु _____ के बीच होनी चाहिए।

- Ans
- 1. 15-30 वर्ष
 - 2. 18-40 वर्ष
 - 3. 25-50 वर्ष
 - 4. 40-60 वर्ष

Question ID : 264330116196
Status : Marked For Review
Chosen Option : 4

Q.20 _____, विशेषज्ञों द्वारा किसी विशेष बीमारी के कारण समय से पहले मरने वाले लोगों की संख्या का पता लगाने के लिए उपयोग किया जाने वाला एक संकेतक है।

- Ans
- 1. सकल राष्ट्रीय उत्पाद
 - 2. माल एवं सेवा कर
 - 3. रोग का वैश्विक बोझ
 - 4. सकल घरेलू रोग

Question ID : 264330115560
Status : Marked For Review
Chosen Option : 4

Section : Part-C-Elementary Mathematics

Q.1 समलम्ब चतुर्भुज में सम्मुख समांतर भुजाओं की लंबाई क्रमशः 12 cm और 8 cm है, और उनके बीच की सबसे छोटी दूरी 16 cm है, समलम्ब चतुर्भुज का क्षेत्रफल ज्ञात करें।

- Ans
- 1. 84.5 cm^2
 - 2. 160 cm^2
 - 3. 144 cm^2
 - 4. 62.5 cm^2

Question ID : 26433079972
Status : Answered
Chosen Option : 2

Q.2 एक गोलार्ध का आयतन, 3 इकाई की त्रिज्या वाले गोले के आयतन का 32 गुना है। गोलार्ध का व्यास _____ इकाई है।

- Ans
- 1. 6
 - 2. 24
 - 3. 12
 - 4. 18

Question ID : 26433071268
Status : Answered
Chosen Option : 2

Q.3 1845 मे कोन सी सबसे छोटी संख्या को जोड़ा जाना चाहिए ताकि यह 3, 4, 5 और 6 से विभाज्य हो जाए।

- Ans 1. 15
 2. 9
 3. 3
 4. 12

Question ID : 26433082347
Status : Answered
Chosen Option : 1

Q.4 जिया को एक बिल पर 30 प्रतिशत और 10 प्रतिशत की छूट मिलती है। उसे मिली कुल छूट है:

- Ans 1. 35 प्रतिशत
 2. 37 प्रतिशत
 3. 40 प्रतिशत
 4. 39 प्रतिशत

Question ID : 264330116765
Status : Answered
Chosen Option : 2

Q.5 एक कार्य को 10 पुरुषों द्वारा 8 दिनों में और 10 महिलाओं द्वारा 7 दिनों में पूरा किया जा सकता है। यदि 10 महिलाएं एवं 10 पुरुष बारी-बारी से एक-एक दिन कार्य करते हैं और महिलाएं पहले दिन से कार्य करना शुरू करती हैं, तो कार्य कितने दिनों में पूरा हो जाएगा?

- Ans 1. $7\frac{4}{7}$
 2. $7\frac{3}{7}$
 3. 7.5
 4. $7\frac{3}{8}$

Question ID : 26433071266
Status : Answered
Chosen Option : 2

Q.6 एक सामान्य अध्ययन पुस्तक का अंकित मूल्य Rs.800 है। यदि इसे 15% और 20% क्रमिक छूट पर बेचा जाता है, तो इसका विक्रय मूल्य ज्ञात कीजिए।

- Ans 1. Rs.520
 2. Rs.534
 3. Rs.544
 4. Rs.528

Question ID : 26433082973
Status : Answered
Chosen Option : 3

Q.7 8 संख्याओं का औसत 24 है। यदि इन संख्याओं में से एक संख्या को हटा दिया जाता है, तो औसत 22 हो जाता है। हटाई गई संख्या ज्ञात कीजिए।

- Ans
- 1. 37
 - 2. 35
 - 3. 38
 - 4. 36

Question ID : 26433075462
Status : Answered
Chosen Option : 3

Q.8 एक हवाई जहाज एक निश्चित दूरी को 510 km /h की गति से 3 घंटे में तय करता है। उसी दूरी को $10\frac{1}{5}$ घंटे में तय करने के लिए, उसे कितनी गति से उड़ना चाहिए?

- Ans
- 1. 150 km/h
 - 2. 230 km/h
 - 3. 305 km/h
 - 4. 250 km/h

Question ID : 26433080046
Status : Answered
Chosen Option : 1

Q.9 यदि एक प्राकृत संख्या को 5, 6 और 7 से विभाजित करने पर प्रत्येक स्थिति में 4 शेषफल बचता है, तो तीन अंकों की सबसे छोटी प्राकृत संख्या क्या होगी?

- Ans
- 1. 216
 - 2. 214
 - 3. 218
 - 4. 212

Question ID : 26433075636
Status : Answered
Chosen Option : 2

Q.10 यदि तेल का मूल्य 25 प्रतिशत से बढ़ता है और अर्पित तेल पर किए गए खर्च को 10 प्रतिशत से बढ़ाता है, तो वह खरीदे गए तेल की मात्रा को कितने प्रतिशत कम करेगा?

- Ans
- 1. 12 प्रतिशत
 - 2. 88 प्रतिशत
 - 3. 42 प्रतिशत
 - 4. 22 प्रतिशत

Question ID : 264330116800
Status : Answered
Chosen Option : 1

Q.11 एक फल विक्रेता Rs.150, Rs.90 और Rs.75 प्रति kg के भाव पर संतरा खरीदता है। तीन अलग-अलग कीमतों पर खरीदे गए इन संतरे को क्रमशः 4 : 5 : 6 के अनुपात में मिलाया जाता है, और 40% के लाभ पर बेचा जाता है। संतरे का प्रति kg विक्रय मूल्य (Rs. में) ज्ञात कीजिए।

- Ans
- 1. 210
 - 2. 140
 - 3. 150
 - 4. 160

Question ID : 26433075911
Status : Answered
Chosen Option : 2

Q.12 एक चुनाव में संतोष ने मंतोष से 24000 अधिक मत प्राप्त किए। यदि मंतोष और संतोष ने कुल मतों के क्रमशः 30% और 40% मत प्राप्त किए, तो कुल मतों की संख्या ज्ञात कीजिए।

- Ans
- 1. 240000
 - 2. 250000
 - 3. 254000
 - 4. 245000

Question ID : 26433080159
Status : Answered
Chosen Option : 1

Q.13 एक राशि का भुगतान Rs.1,25,000 प्रत्येक की दो वार्षिक किश्तों में किया जाता है। यदि ब्याज की दर 6% वार्षिक है तथा ब्याज का संयोजन वार्षिक रूप से किया गया है, तो उधार ली गई राशि ज्ञात कीजिए। (उत्तर निकटतम पूर्ण संख्या में ज्ञात कीजिए)

- Ans
- 1. Rs.2,29,174
 - 2. Rs.2,39,174
 - 3. Rs.1,50,375
 - 4. Rs.1,19,375

Question ID : 26433074995
Status : Answered
Chosen Option : 1

Q.14 एक दुकानदार ने ₹9 प्रति दर्जन की दर से 240 चॉकलेट खरीदी। यदि वह उन सभी को ₹1 प्रत्येक पर बेचता है, तो उसका लाभ प्रतिशत क्या था?

- Ans
- 1. 27%
 - 2. $33\frac{1}{3}\%$
 - 3. $66\frac{1}{6}\%$
 - 4. 24%

Question ID : 26433082094
Status : Answered
Chosen Option : 2

Q.15 एक व्यक्ति धारा की दिशा में 66 km की दूरी 6 घंटे में, और धारा के विपरीत दिशा में 72 km की दूरी 8 घंटे में तय कर सकता है। धारा की चाल ज्ञात कीजिए।

- Ans
- 1. 4 km/h
 - 2. 2 km/h
 - 3. 3 km/h
 - 4. 1 km/h

Question ID : 26433064924
Status : Answered
Chosen Option : 4

Q.16 एक विशेष वर्ष में विपिन का औसत मासिक व्यय पहले 4 महीनों के दौरान ₹6,250, अगले 4 महीनों के दौरान ₹6,500 और वर्ष के शेष महीनों के दौरान ₹x था। यदि वर्ष में कुल बचत ₹15,000 थी और उसका मासिक वेतन ₹9,600 है, तो x का मान ज्ञात करें।

- Ans
- 1. ₹12,750
 - 2. ₹13,000
 - 3. ₹12,300
 - 4. ₹12,000

Question ID : 26433079911
Status : Answered
Chosen Option : 3

Q.17 सोनल, कृति और प्रीति मिलकर एक कार्य को 6 दिनों में पूरा कर सकती हैं जबकि कृति और प्रीति समान कार्य को अलग-अलग 30 और 18 दिनों में कर सकती हैं, तो सोनल अकेले समान कार्य को कितने दिनों में कर सकती है?

- Ans
- 1. 66/5 दिन
 - 2. 14/5 दिन
 - 3. 88/7 दिन
 - 4. 90/7 दिन

Question ID : 264330116880
Status : Answered
Chosen Option : 4

Q.18 ₹8,300 पर 10% वार्षिक की दर से 2 वर्षों के वार्षिक रूप से चक्रवृद्धि हुए, चक्रवृद्धि ब्याज और साधारण ब्याज में अंतर कितना है?

- Ans
- 1. ₹38
 - 2. ₹83
 - 3. ₹1,660
 - 4. ₹1,743

Question ID : 26433066057
Status : Answered
Chosen Option : 2

Q.19 एक सह-शिक्षा विद्यालय के छात्रों की संख्या 3,000 है। यदि विद्यालय में लड़कों की संख्या का लड़कियों की संख्या से अनुपात 4 : 1 है, तो विद्यालय में लड़कों और लड़कियों की संख्या का मध्यानुपात क्या है, यह देखते हुए कि स्कूल में केवल लड़के और लड़कियां ही छात्र हैं?

- Ans
- 1. 1300
 - 2. 1400
 - 3. 1200
 - 4. 1100

Question ID : 26433090252
Status : Answered
Chosen Option : 3

Q.20 2 पेन और 3 नोटबुक का क्रय मूल्य ₹220 है और 2 पेन और 4 नोटबुक का क्रय मूल्य ₹250 है। पेन और नोटबुक के क्रय मूल्य के बीच का अनुपात ज्ञात कीजिए।

- Ans
- 1. 1 : 2
 - 2. 5 : 13
 - 3. 5 : 12
 - 4. 13 : 6

Question ID : 26433076411
Status : Answered
Chosen Option : 4

Section : Part-D-English

Q.1 Select the most appropriate option that can substitute the underlined segment in the given sentence.

This blue shirt you have wearing really looks expensive.

- Ans
- 1. are wearing
 - 2. has wear
 - 3. will wearing
 - 4. had wear

Question ID : 26433096155
Status : Not Answered
Chosen Option : --

Q.2 Select the most appropriate meaning of the italicised idiom in the given sentence.

"Hold your horses !" said Mom as I reached for a cookie. "They are still too hot to eat."

- Ans
- 1. Be in a rage
 - 2. Be patient
 - 3. Be in a hurry
 - 4. Be docile

Question ID : 264330101305
Status : Not Answered
Chosen Option : --

Q.3 Choose the option that can substitute the underlined segment correctly and complete the meaning of the sentence.

The grandmother asked Rita to close the window as she suddenly started feeling extremely cold.

- Ans
- 1. Icing
 - 2. Frosting
 - 3. Freezing
 - 4. Cold

Question ID : 26433088879
Status : Not Answered
Chosen Option : --

Q.4 Select the option that expresses the given sentence in simple past tense.

- A. Last year, I have travelled to Japan.
- B. Last year, I was travelling to Japan.
- C. Last year, I travelled to Japan.
- D. Last year, I had been travelling to Japan.

- Ans
- 1. C
 - 2. A
 - 3. D
 - 4. B

Question ID : 26433073520
Status : Not Answered
Chosen Option : --

Q.5 A part of the given sentence which has been underlined may contain a spelling error. Select the option that correctly rectifies the spelling error. If there is no error, select 'No error'.

Technology has become an indispensable element in our day-to-day activities.

- Ans
- 1. Endispensible
 - 2. No error
 - 3. Indispensible
 - 4. Indispinsable

Question ID : 26433071787
Status : Not Answered
Chosen Option : --

Q.6 Select the most appropriate ANTONYM of the given word.

Hasty

- Ans
- 1. Cautious
 - 2. Reckless
 - 3. Quick
 - 4. Brisk

Question ID : 26433072668
Status : Not Answered
Chosen Option : --

Q.7 Select the most appropriate synonym of the given word to fill in the blank in the sentence.

Casual

Sita wore a _____ yet stunning dress at the birthday party of her son.

- Ans
- 1. formal
 - 2. uniform
 - 3. regular
 - 4. temporary

Question ID : 26433060549
Status : Not Answered
Chosen Option : --

Q.8 Select the most appropriate meaning of the given idiom.
Throw caution to the wind

- Ans
- 1. Careful
 - 2. Be cautious
 - 3. Ignore the risk
 - 4. Carefree

Question ID : 26433070803
Status : Not Answered
Chosen Option : --

Q.9 Select the INCORRECTLY spelt word.

- Ans
- 1. Apparatus
 - 2. Appearanse
 - 3. Appreciate
 - 4. Appropriate

Question ID : 26433073927
Status : Not Answered
Chosen Option : --

Q.10 Select the most appropriate option to fill in the blank.

The moon looks bright and beautiful in the cloudless night sky. Yet it is very small compared _____ Earth.

- Ans
- 1. than
 - 2. to
 - 3. with
 - 4. in

Question ID : 26433072726
Status : Not Answered
Chosen Option : --

Q.11 Select the most appropriate ANTONYM of the word given in the brackets to fill in the blank and complete the sentence.

The water was too _____ (profound) to take a swim.

- Ans
- 1. turbid
 - 2. dangerous
 - 3. hot
 - 4. shallow

Question ID : 26433089839
Status : Not Answered
Chosen Option : --

Q.12 Select the most appropriate synonym of the given word.

Beautiful

- Ans
- 1. Drab
 - 2. Dull
 - 3. Homely
 - 4. Pretty

Question ID : 26433072532
Status : Not Answered
Chosen Option : --

Q.13 Select the most appropriate ANTONYM of the given word.

Celebrate

- Ans
- 1. Disgrace
 - 2. Manipulate
 - 3. Instigate
 - 4. Tabulate

Question ID : 26433073803
Status : Not Answered
Chosen Option : --

Q.14 Select the most appropriate synonym of the given word.

Heyday

- Ans
- 1. Yesteryears
 - 2. Dreamy
 - 3. Fateful
 - 4. Prime

Question ID : 26433073985
Status : Not Answered
Chosen Option : --

Q.15 Select the most appropriate **ANTONYM** of the underlined word.

The authority tries to subjugate the marginalised people.

- Ans
- 1. enslave
 - 2. subordinate
 - 3. liberate
 - 4. trap

Question ID : 26433093937

Status : Not Answered

Chosen Option : --

Comprehension:

In the following passage, some words have been deleted. Read the passage carefully and select the most appropriate option to fill in each blank.

Residents of Victorian Street in Thornton (1)_____ disturbed last night by an unusual accident. At eleven o'clock a car broke down near the end of the street and the driver left his vehicle (2)_____ while he went on with his journey by taxi. An hour later, the car's alarm went off when it was hit (3)_____ a stolen van. The engine of the van blew up, so the thief tried to drive away in the car. But he gave up when the car would not (4)_____ and (5)_____ a bicycle instead.

SubQuestion No : 16

Q.16 Select the most appropriate option to fill in blank number 1.

- Ans
- 1. is
 - 2. were
 - 3. are
 - 4. was

Question ID : 26433060287

Status : Not Answered

Chosen Option : --

Comprehension:

In the following passage, some words have been deleted. Read the passage carefully and select the most appropriate option to fill in each blank.

Residents of Victorian Street in Thornton (1)_____ disturbed last night by an unusual accident. At eleven o'clock a car broke down near the end of the street and the driver left his vehicle (2)_____ while he went on with his journey by taxi. An hour later, the car's alarm went off when it was hit (3)_____ a stolen van. The engine of the van blew up, so the thief tried to drive away in the car. But he gave up when the car would not (4)_____ and (5)_____ a bicycle instead.

SubQuestion No : 17

Q.17 Select the most appropriate option to fill in blank number 2.

- Ans
- 1. here
 - 2. there
 - 3. then
 - 4. their

Question ID : 26433060288

Status : Not Answered

Chosen Option : --

Comprehension:

In the following passage, some words have been deleted. Read the passage carefully and select the most appropriate option to fill in each blank.

Residents of Victorian Street in Thornton (1)_____ disturbed last night by an unusual accident. At eleven o'clock a car broke down near the end of the street and the driver left his vehicle (2)_____ while he went on with his journey by taxi. An hour later, the car's alarm went off when it was hit (3)_____ a stolen van. The engine of the van blew up, so the thief tried to drive away in the car. But he gave up when the car would not (4)_____ and (5)_____ a bicycle instead.

SubQuestion No : 18

Q.18 Select the most appropriate option to fill in blank number 3.

- Ans 1. by
 2. on
 3. in
 4. above

Question ID : 26433060289

Status : Not Answered

Chosen Option : --

Comprehension:

In the following passage, some words have been deleted. Read the passage carefully and select the most appropriate option to fill in each blank.

Residents of Victorian Street in Thornton (1)_____ disturbed last night by an unusual accident. At eleven o'clock a car broke down near the end of the street and the driver left his vehicle (2)_____ while he went on with his journey by taxi. An hour later, the car's alarm went off when it was hit (3)_____ a stolen van. The engine of the van blew up, so the thief tried to drive away in the car. But he gave up when the car would not (4)_____ and (5)_____ a bicycle instead.

SubQuestion No : 19

Q.19 Select the most appropriate option to fill in blank number 4.

- Ans 1. started
 2. start
 3. starting
 4. starts

Question ID : 26433060290

Status : Not Answered

Chosen Option : --

Comprehension:

In the following passage, some words have been deleted. Read the passage carefully and select the most appropriate option to fill in each blank.

Residents of Victorian Street in Thornton (1)_____ disturbed last night by an unusual accident. At eleven o'clock a car broke down near the end of the street and the driver left his vehicle (2)_____ while he went on with his journey by taxi. An hour later, the car's alarm went off when it was hit (3)_____ a stolen van. The engine of the van blew up, so the thief tried to drive away in the car. But he gave up when the car would not (4)_____ and (5)_____ a bicycle instead.

SubQuestion No : 20

Q.20 Select the most appropriate option to fill in blank number 5.

- Ans 1. parked
 2. lent
 3. stole
 4. bought

Question ID : 26433060291
Status : Not Answered
Chosen Option : --

Section : Part-D-Hindi

Q.1 'एकमात्र दो उपाय हैं।' रेखांकित शब्द के स्थान पर उपयुक्त शब्द क्या होगा?

- Ans 1. कुछ
 2. क्या
 3. केवल
 4. दोमात्र

Question ID : 26433062205
Status : Answered
Chosen Option : 3

Q.2 निम्न वाक्यांश के लिए एक शब्द क्या होगा?
जिसका दूसरा उपाय न हो

- Ans 1. अन्यग
 2. अनन्योपाय
 3. अन्योन्य
 4. अन्यतम

Question ID : 26433070063
Status : Answered
Chosen Option : 2

Q.3 निम्नलिखित वाक्य में रेखांकित खंड के स्थान पर प्रयुक्त होने वाले सबसे उपयुक्त विकल्प का चयन कीजिए।

आज से यह नियम चालू है।

- Ans
- 1. आगे
 - 2. लागू
 - 3. ऊपर
 - 4. पीछे

Question ID : 26433079564
Status : Answered
Chosen Option : 2

Q.4 निम्नलिखित मुहावरे के उचित अर्थ का चयन कीजिए-
टाँग अड़ाना

- Ans
- 1. लँगड़ी मारना
 - 2. अड़चन डालना
 - 3. चापलूसी करना
 - 4. उन्नति न करना

Question ID : 26433065884
Status : Answered
Chosen Option : 2

Q.5 'शब' के अर्थ से निम्न वाक्य की पूर्ति कीजिए।
शमशानघाट में शव को _____ दस बजे पहुँचाया गया।

- Ans
- 1. रात
 - 2. सुबह
 - 3. दिन
 - 4. दोपहर

Question ID : 26433079237
Status : Answered
Chosen Option : 2

Q.6 'मेरे पास एक बहुत लंबी खड़ी है।' इस वाक्य में अशुद्ध शब्द का प्रयोग पहचानिए।

- Ans
- 1. बहुत
 - 2. एक
 - 3. खड़ी
 - 4. लंबी-सी

Question ID : 26433085060
Status : Answered
Chosen Option : 1

Q.7 निम्न में से कौन सा वाक्य क्रिया विशेषण का उदाहरण नहीं है?

- Ans
- 1. वह धीरे-धीरे चलता है।
 - 2. आज तेज़ बारिश होगी।
 - 3. तुम्हें कम बोलना चाहिए।
 - 4. अब उठ भी जाओ।

Question ID : 26433063050
Status : Answered
Chosen Option : 4

Q.8 'आप इस पत्र पर हस्ताक्षर बना दीजिए।' इस वाक्य में अनुपयुक्त शब्द क्या है?

- Ans
- 1. पत्र
 - 2. हस्ताक्षर
 - 3. इस
 - 4. बना

Question ID : 26433091304
Status : Answered
Chosen Option : 4

Q.9 निम्नलिखित विकल्पों में से 'जो अपने मत का अनुयायी हो' वाक्यांश के लिए एक सार्थक शब्द क्या होगा ?

- Ans
- 1. परिवेश
 - 2. स्वाभिमान
 - 3. आलोचक
 - 4. आत्माभिमत

Question ID : 26433062468
Status : Answered
Chosen Option : 4

Q.10 'उल्टा चोर कोतवाल को डांटे' मुहावरे का सही अर्थ क्या है?

- Ans
- 1. चोर को सजा देना
 - 2. बड़े व्यक्ति में दोष होना
 - 3. छोटों को धमकाना
 - 4. स्वयं दोषी होते हुए भी निर्दोष को धमकाना

Question ID : 26433062605
Status : Answered
Chosen Option : 4

Q.11 'फल देने वाला' वाक्यांश के लिए इनमें से उपयुक्त शब्द कौन-सा है?

- Ans 1. फलदायी
 2. फलाहारी
 3. फलहरी
 4. फलदार

Question ID : 26433066891
Status : Answered
Chosen Option : 1

Q.12 बलराम विनय का ज्येष्ठ भाई है।
उपरोक्त वाक्य में रेखांकित शब्द के विलोम शब्द का चयन कीजिए।

- Ans 1. घनिष्ठ
 2. प्रिय
 3. कनिष्ठ
 4. बड़ा

Question ID : 26433079638
Status : Answered
Chosen Option : 4

Q.13 निम्नलिखित में से क्या 'इंगित' का क्या अर्थ नहीं होता है?

- Ans 1. इशारा
 2. संकेत
 3. अभिप्राय
 4. अवस्था

Question ID : 26433080946
Status : Answered
Chosen Option : 4

Q.14 विष्णु जी को माधव के नाम से पुकारो या _____ के नाम से वह हमेशा सुनते हैं।
'विष्णु' के पर्याय से उपरोक्त वाक्य पूर्ण कीजिए।

- Ans 1. अमर
 2. ईश्वर
 3. गिरीश
 4. जनार्दन

Question ID : 26433084983
Status : Answered
Chosen Option : 3

Q.15 निम्न वाक्य में त्रुटि पहचानिए।
लड़कियों में सहनशीलता पाई जाती है।

- Ans
- 1. सहनशीलता
 - 2. लड़कियों में
 - 3. लड़कियों, हैं
 - 4. पाई जाती है

Question ID : 26433063038

Status : Answered

Chosen Option : 3

Comprehension:

निम्नलिखित गद्यांश में कुछ शब्दों को हटा दिया गया है। दिए गए विकल्पों की सहायता से रिक्त स्थानों की पूर्ति कीजिए। प्रत्येक संख्या के लिए सबसे उपयुक्त विकल्प का चयन कीजिए।

1. _____ पर चलना अत्यंत कठिन है। इस पर चलने वाले को कठिनाइयां भले ही आएँ, किन्तु वह 2. _____ नहीं है। जो लोग कठिनता देखकर 3. _____ हो जाते हैं, वे जल्दी ही अपना मार्ग बदल लेते हैं। मार्ग बदलने का अर्थ है कि वे असत्य की ओर बढ़ जाते हैं। इस प्रकार वे 4. _____ हो जाते हैं। इससे जीवन का 5. _____ ही नष्ट हो जाता है। ऐसा जीवन असफल हो जाता है।

SubQuestion No : 16

Q.16 रिक्त स्थान 1 की पूर्ति के लिए सबसे उपयुक्त विकल्प का चयन करें।

- Ans
- 1. अनीति के मार्ग
 - 2. प्रवचना के मार्ग
 - 3. सत्य के मार्ग
 - 4. मिथ्या के मार्ग

Question ID : 264330110879

Status : Answered

Chosen Option : 3

Comprehension:

निम्नलिखित गद्यांश में कुछ शब्दों को हटा दिया गया है। दिए गए विकल्पों की सहायता से रिक्त स्थानों की पूर्ति कीजिए। प्रत्येक संख्या के लिए सबसे उपयुक्त विकल्प का चयन कीजिए।

1. _____ पर चलना अत्यंत कठिन है। इस पर चलने वाले को कठिनाइयां भले ही आएँ, किन्तु वह 2. _____ नहीं है। जो लोग कठिनता देखकर 3. _____ हो जाते हैं, वे जल्दी ही अपना मार्ग बदल लेते हैं। मार्ग बदलने का अर्थ है कि वे असत्य की ओर बढ़ जाते हैं। इस प्रकार वे 4. _____ हो जाते हैं। इससे जीवन का 5. _____ ही नष्ट हो जाता है। ऐसा जीवन असफल हो जाता है।

SubQuestion No : 17

Q.17 रिक्त स्थान 2 की पूर्ति के लिए सबसे उपयुक्त विकल्प का चयन करें।

- Ans
- 1. सोता
 - 2. भटकता
 - 3. खोता
 - 4. पटकता

Question ID : 264330110880

Status : Answered

Chosen Option : 2

Comprehension:

निम्नलिखित गद्यांश में कुछ शब्दों को हटा दिया गया है। दिए गए विकल्पों की सहायता से रिक्त स्थानों की पूर्ति कीजिए। प्रत्येक संख्या के लिए सबसे उपयुक्त विकल्प का चयन कीजिए।

1. _____ पर चलना अत्यंत कठिन है। इस पर चलने वाले को कठिनाइयां भले ही आएँ, किन्तु वह 2. _____ नहीं है। जो लोग कठिनता देखकर 3. _____ हो जाते हैं, वे जल्दी ही अपना मार्ग बदल लेते हैं। मार्ग बदलने का अर्थ है कि वे असत्य की ओर बढ़ जाते हैं। इस प्रकार वे 4. _____ हो जाते हैं। इससे जीवन का 5. _____ ही नष्ट हो जाता है। ऐसा जीवन असफल हो जाता है।

SubQuestion No : 18

Q.18 रिक्त स्थान 3 की पूर्ति के लिए सबसे उपयुक्त विकल्प का चयन करें।

- Ans 1. विचलित
 2. कायर
 3. अविचलित
 4. सजग

Question ID : 264330110881

Status : Answered

Chosen Option : 1

Comprehension:

निम्नलिखित गद्यांश में कुछ शब्दों को हटा दिया गया है। दिए गए विकल्पों की सहायता से रिक्त स्थानों की पूर्ति कीजिए। प्रत्येक संख्या के लिए सबसे उपयुक्त विकल्प का चयन कीजिए।

1. _____ पर चलना अत्यंत कठिन है। इस पर चलने वाले को कठिनाइयां भले ही आएँ, किन्तु वह 2. _____ नहीं है। जो लोग कठिनता देखकर 3. _____ हो जाते हैं, वे जल्दी ही अपना मार्ग बदल लेते हैं। मार्ग बदलने का अर्थ है कि वे असत्य की ओर बढ़ जाते हैं। इस प्रकार वे 4. _____ हो जाते हैं। इससे जीवन का 5. _____ ही नष्ट हो जाता है। ऐसा जीवन असफल हो जाता है।

SubQuestion No : 19

Q.19 रिक्त स्थान 4 की पूर्ति के लिए सबसे उपयुक्त विकल्प का चयन करें।

- Ans 1. लूटमार
 2. अनाश्रमी
 3. पथभ्रष्ट
 4. बुद्धिभ्रष्ट

Question ID : 264330110882

Status : Answered

Chosen Option : 3

Comprehension:

निम्नलिखित गद्यांश में कुछ शब्दों को हटा दिया गया है। दिए गए विकल्पों की सहायता से रिक्त स्थानों की पूर्ति कीजिए। प्रत्येक संख्या के लिए सबसे उपयुक्त विकल्प का चयन कीजिए।

1. _____ पर चलना अत्यंत कठिन है। इस पर चलने वाले को कठिनाइयां भले ही आएँ, किन्तु वह 2. _____ नहीं है। जो लोग कठिनता देखकर 3. _____ हो जाते हैं, वे जल्दी ही अपना मार्ग बदल लेते हैं। मार्ग बदलने का अर्थ है कि वे असत्य की ओर बढ़ जाते हैं। इस प्रकार वे 4. _____ हो जाते हैं। इससे जीवन का 5. _____ ही नष्ट हो जाता है। ऐसा जीवन असफल हो जाता है।

SubQuestion No : 20

Q.20 रिक्त स्थान 5 की पूर्ति के लिए सबसे उपयुक्त विकल्प का चयन करें।

- Ans 1. निमित्त
 2. अभिप्राय
 3. नियत
 4. मंशा

Question ID : 264330110883

Status : Answered

Chosen Option : 1

WWW.GOV TJOB SALTER