

Constable GD in CAPFs SSF Rifleman GD in Assam Rifles and Sepoy in NCB Examination 2022

Roll Number	www.govtjobsalert.in
Candidate Name	www.govtjobsalert.in
Venue Name	iON Digital Zone iDZ 2 Sector 62
Exam Date	09/02/2023
Exam Time	11:45 AM - 12:45 PM
Subject	Constable GD Examination 2022

Section : Part-A-General Intelligence and Reasoning

Q.1 छः छात्र - पर्पल, ब्लैक, ग्रे, इंडिगो, सियान और येलो एक वृत्ताकार मेज के परितः मेज के केंद्र की ओर मुख करके बैठे हैं। पर्पल, ब्लैक के बाईं ओर ठीक बगल में बैठा है। सियान, ब्लैक के बाईं ओर तीसरे स्थान पर बैठा है। ग्रे, पर्पल और सियान के ठीक बगल में है। इंडिगो, ब्लैक के दाईं ओर दूसरे स्थान पर बैठा है। येलो, ग्रे के दाईं ओर तीसरे स्थान पर बैठा है। ग्रे और इंडिगो के बीच में कौन बैठा है?

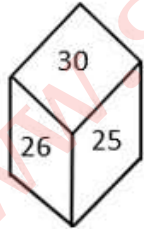
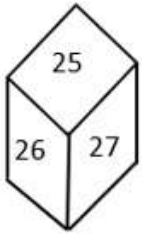
- Ans
- 1. पर्पल
 - 2. येलो
 - 3. सियान
 - 4. ब्लैक

Question ID : 26433081787

Status : Answered

Chosen Option : 3

Q.2 एक ही पासे की दो अलग-अलग स्थितियों को दिखाया गया है। '27' दर्शाने वाले फलक के विपरीत फलक पर संख्या ज्ञात कीजिए।



- Ans
- 1. 30
 - 2. 28
 - 3. 29
 - 4. 25

Question ID : 26433089510

Status : Answered

Chosen Option : 1

Q.3 उस विकल्प का चयन करें जो तिसरे पद से उसी प्रकार संबंधित है, जिस प्रकार दूसरा पद पहले पद से और छठा पद पांचवे पद से संबंधित है।
14 : 103 :: 16 : ? :: 18 : 167

Ans 1. 133

2. 135

3. 139

4. 140

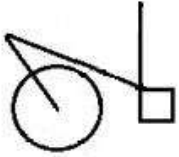
Question ID : 26433069092

Status : Answered

Chosen Option : 1

Q.4 निम्नलिखित विकल्पों में से उस आकृति का चयन करें जिसमें नीचे दी गई

आकृति निहित है (आकृति को घुमाने की अनुमति नहीं है)।

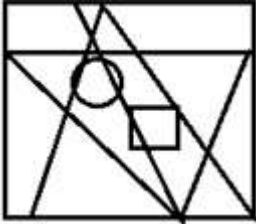


Ans

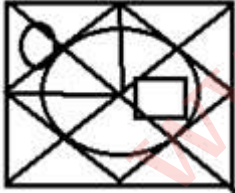
1.




2.



3.



4.



Question ID : 26433069540

Status : Answered

Chosen Option : 4

Q.5 निम्नलिखित में से कौन-सा अक्षर-समूह दी गई शृंखला में प्रश्न-चिह्न (?) के स्थान पर आएगा?
KPQZ, MNSX, OLUV, ?, SHYR

- Ans 1. QJVU
 2. RJVX
 3. QJWT
 4. QLWT

Question ID : 26433076432

Status : Answered

Chosen Option : 3

Q.6 दिए गए समीकरण को संतुलित करने के लिए विकल्पों में दी गई किन दो संख्याओं को परस्पर बदलना होगा?

$$180 \div 20 - 27 \div (6 \times 4 - 19) + 175 = 1$$

- Ans 1. 4 और 20
 2. 175 और 27
 3. 6 और 19
 4. 6 और 20

Question ID : 26433082486

Status : Answered

Chosen Option : 2

Q.7 कौन-सा अक्षर-समूह दी गई शृंखला में प्रश्नचिह्न (?) के स्थान पर आकर शृंखला को पूर्ण करेगा?
KMLN, PRQS, ?, ZBAC, EGFH

- Ans 1. UWXV
 2. WUVX
 3. UVWX
 4. UWVX

Question ID : 26433067724

Status : Answered

Chosen Option : 4

Q.8 तीन कथनों के बाद तीन निष्कर्ष I, II और III दिए गए हैं। कथनों को सत्य मानते हुए, भले ही वे सामान्य रूप से ज्ञात तथ्यों से भिन्न प्रतीत होते हों, निर्धारित करें कि कौन-सा/से निष्कर्ष, कथनों का तार्किक रूप से अनुसरण करता है/करते हैं।

कथन:

सभी ग्लव्स बेट हैं।

सभी स्टंप बेट हैं।

सभी बेट बॉल हैं।

निष्कर्ष:

I. सभी स्टंप ग्लव्स हैं।

II. कुछ बॉल ग्लव्स हैं।

III. कुछ बॉल स्टंप हैं।

- Ans
- 1. केवल निष्कर्ष I और III अनुसरण करते हैं
 - 2. केवल निष्कर्ष I और II अनुसरण करते हैं
 - 3. सभी निष्कर्ष अनुसरण करते हैं
 - 4. केवल निष्कर्ष II और III अनुसरण करते हैं

Question ID : 26433082309

Status : Answered

Chosen Option : 4

Q.9 किस विकल्प में निम्नलिखित शब्दों का वह क्रम दिया गया है, जिस क्रम में वे अंग्रेजी शब्दकोश में आते हैं?

1 drain

2 dried

3 dreamt

4 drown

5 drunk

- Ans
- 1. 1,2,3,4,5
 - 2. 2,3,1,4,5
 - 3. 1,4,3,5,2
 - 4. 1,3,2,4,5

Question ID : 26433069296

Status : Answered

Chosen Option : 4

Q.10 उस विकल्प का चयन कीजिए, जो पाँचवें पद से उसी प्रकार संबंधित है, जिस प्रकार दूसरा पद पहले पद से और चौथा पद तीसरे पद से संबंधित है।

MEND : KHLG :: STIR : QWGU :: DESK : ?

- Ans
- 1. AGQN
 - 2. BHQN
 - 3. BHPM
 - 4. AGPM

Question ID : 26433058008

Status : Answered

Chosen Option : 2

Q.11 एक कूट भाषा में 'ALMOND' को LAOMDN के रूप में कूटबद्ध किया जाता है और 'RAISIN' को ARSINI के रूप में कूटबद्ध किया जाता है। उसी भाषा में 'CASHEW' को किस प्रकार कूटबद्ध किया जाएगा?

Ans 1. CAHSWE

2. ACHSWE

3. ACSHWE

4. CASHWE

Question ID : 26433081084

Status : Answered

Chosen Option : 2

Q.12 निम्न में से कौन सी संख्या दी गई श्रृंखला में प्रश्नचिह्न (?) के स्थान पर आएगी?
56, 59, 68, ?, 176

Ans 1. 102

2. 89

3. 138

4. 95

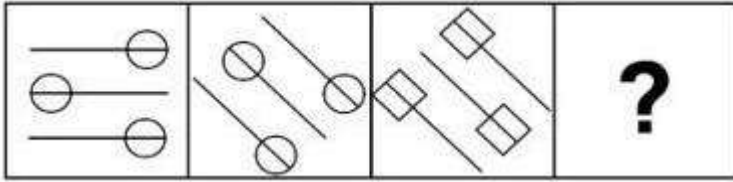
Question ID : 26433076746

Status : Answered

Chosen Option : 4

www.govtjobsalert.in

Q.13 वह विकल्प ज्ञात कीजिए जो तीसरी आकृति से उसी प्रकार संबंधित है जैसे दूसरी आकृति पहली आकृति से संबंधित है।
(पहला आकृति सबसे बाईं ओर की आकृति है।)



Ans

- ✗ 1.
- ✗ 2.
- ✓ 3.
- ✗ 4.

Question ID : 26433078863

Status : Answered

Chosen Option : 3

Q.14 एक निश्चित कूट भाषा में,
'A + B' का अर्थ है कि 'A, B का भाई है',
'A - B' का अर्थ है कि 'A, B की माता है',
'A × B' का अर्थ है कि 'A, B का पिता है' और
'A ÷ B' का अर्थ है कि 'A, B की बहन है'।
यदि $A \times G - T - N \div D + B$ है, तो निम्नलिखित में से कौन-सा कथन सही नहीं है?

- Ans ✗ 1. A, T का पिता है।
- ✗ 2. D, T का पुत्र है।
- ✗ 3. A, N का नाना है।
- ✓ 4. G, B की दादी है।

Question ID : 26433070375

Status : Answered

Chosen Option : 1

Q.15 सात व्यक्ति A, B, C, D, E, F और G एक सीधी पंक्ति में उत्तर की ओर मुख करके बैठे हैं। A, D के बाईं ओर तीसरे स्थान पर बैठा है। D अंतिम दाएं सिरे पर बैठा है। A और F के बीच केवल दो व्यक्ति बैठे हैं। B, F के ठीक बगल में है। C और D के बीच केवल एक व्यक्ति बैठा है। G, A के ठीक बगल में नहीं है। B और A के बीच में कौन बैठा है?

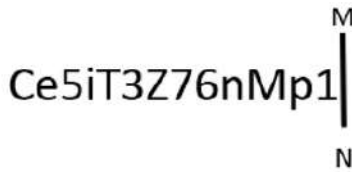
- Ans
- 1. C
 - 2. G
 - 3. E
 - 4. F

Question ID : 26433056929

Status : Answered

Chosen Option : 3

Q.16 दी गई आकृति के सही दर्पण प्रतिबिम्ब का चयन करें जब दर्पण को MN पर रखा जाए जैसा कि नीचे दर्शाया गया है।



- Ans
- 1. 1qmiT3Z76nMp1
 - 2. 1qMNt3Z76nMp1
 - 3. 1qmiT3Z76nMp1
 - 4. 1qMnT3Z76nMp1

Question ID : 26433085543

Status : Answered

Chosen Option : 4

Q.17 Select the option that is related to the third word in the same way as the second word is related to the first word.

(The words must be considered as meaningful English words and must not be related to each other based on the number of letters/number of consonants/vowels in the word)

Soft : Hard :: Create : ?

- Ans
- 1. Destroy
 - 2. Maintain
 - 3. Building
 - 4. Save

Question ID : 26433079478

Status : Answered

Chosen Option : 1

Q.18 निम्नलिखित में से कौन-सी संख्याएं दी गई श्रृंखला में प्रश्न-चिह्नों (?) के स्थान पर आएंगी?
229, 230, 232, ?, 244, ?, 292

- Ans 1. 236, 260
 2. 240, 280
 3. 238, 268
 4. 239, 270

Question ID : 26433070224
Status : Answered
Chosen Option : 1

Q.19 नीचे दिए गए समीकरण को गणितीय रूप से सही बनाने के लिए किन दो चिह्नों को परस्पर बदलना चाहिए?
 $135 \div 15 \times 54 + 6 - 18 = 252$

- Ans 1. \div और \times
 2. $+$ और \times
 3. $+$ और $-$
 4. \div और $+$

Question ID : 264330117528
Status : Answered
Chosen Option : 4

Q.20 किसी निश्चित कूट भाषा में, 'berry mango' को, 'xi xa' के रूप में कूटबद्ध किया जाता है, 'alpha berry tango' को, 'cun xi our' के रूप में कूटबद्ध किया जाता है, 'mango alpha' को, 'xa cun' के रूप में कूटबद्ध किया जाता है और 'berry tango' को, 'xi our' के रूप में कूटबद्ध किया जाता है। 'alpha' शब्द का कूट क्या है?

- Ans 1. xa
 2. cun
 3. xi
 4. our

Question ID : 26433069039
Status : Answered
Chosen Option : 2

Section : Part-B-General Knowledge and General awareness

Q.1 संस्कृति मंत्रालय ने देश के लिए पिंगली वैकैया के योगदान का उत्सव मनाने के लिए _____, 2022 को "तिरंगा उत्सव" का आयोजन किया।

- Ans 1. 2 अगस्त
 2. 5 सितंबर
 3. 1 जुलाई
 4. 9 मई

Question ID : 264330115103
Status : Not Answered
Chosen Option : --

Q.2 भारतीय संविधान का कौन सा अनुच्छेद राष्ट्रपति और उपराष्ट्रपति के निर्वाचन से संबंधित या संसक्त विषय से संबंधित है?

- Ans
- 1. 69
 - 2. 70
 - 3. 71
 - 4. 68

Question ID : 264330115661
Status : Answered
Chosen Option : 4

Q.3 नवंबर 2022 तक की स्थिति के अनुसार, निम्नलिखित में से कौन केरल, भारत के राज्यपाल हैं?

- Ans
- 1. भगत सिंह कोश्यारी
 - 2. आरिफ मोहम्मद खान
 - 3. मंगूभाई छगनभाई पटेल
 - 4. गणेश लाल माधुर

Question ID : 264330114927
Status : Answered
Chosen Option : 2

Q.4 Exports in excess of imports result in trade _____.

- Ans
- 1. surplus
 - 2. zero budget
 - 3. deficit
 - 4. liability

Question ID : 264330115391
Status : Not Answered
Chosen Option : --

Q.5 2022 के राष्ट्रपति चुनाव में द्रौपदी मुर्मू की प्रतिद्वंद्वी कौन थे?

- Ans
- 1. यशवंत सिन्हा
 - 2. प्रणब मुखर्जी
 - 3. मल्लिकार्जुन खड़गे
 - 4. शशि थरूर

Question ID : 264330115018
Status : Answered
Chosen Option : 1

Q.6 निम्नलिखित में से कौन सी ट्रॉफी महिला बैडमिंटन से संबंधित है?

- Ans
- 1. उबेर कप
 - 2. FIFA विश्व कप
 - 3. आगा खान कप
 - 4. डेविस कप

Question ID : 264330116273

Status : Answered

Chosen Option : 3

Q.7 What best defines prokaryotic cells?

I. Single chromosome

II. Membrane-bound cell organelles absent

- Ans
- 1. Neither I nor II
 - 2. Only I
 - 3. Both I and II
 - 4. Only II

Question ID : 264330115238

Status : Not Answered

Chosen Option : --

Q.8 'माता-पिता या अभिभावक द्वारा अपने बच्चे या अपने प्रतिपाल्य को शिक्षा के अवसर प्रदान करना', इस कर्तव्य को किस संविधान संशोधन अधिनियम द्वारा मौलिक कर्तव्यों में शामिल किया गया था?

- Ans
- 1. 84 वें
 - 2. 83वें
 - 3. 85 वें
 - 4. 86वें

Question ID : 264330115633

Status : Answered

Chosen Option : 2

Q.9 निम्नलिखित में से कौन-सा भारतीय राज्य बांग्लादेश और म्यांमार दोनों के साथ सीमा साझा करता है?

- Ans
- 1. मिज़ोरम
 - 2. मणिपुर
 - 3. नागालैंड
 - 4. असम

Question ID : 264330116097

Status : Answered

Chosen Option : 1

Q.10 मार्च 1919 में एक खिलाफ़त समिति का गठन _____ में किया गया था।

- Ans
- 1. अमृतसर
 - 2. कलकत्ता
 - 3. बंबई
 - 4. दिल्ली

Question ID : 26433090587

Status : Answered

Chosen Option : 1

Q.11 _____ is an example of plastic money.

- Ans
- 1. Hard cash
 - 2. Legal tender
 - 3. Coins
 - 4. Credit card

Question ID : 264330115315

Status : Answered

Chosen Option : 4

Q.12 नृत्य-नाटक, गवरी, भारत के निम्नलिखित में से किस राज्य में प्रमुख रूप से अभिनीत किया जाता है?

- Ans
- 1. ओडिशा
 - 2. केरल
 - 3. राजस्थान
 - 4. मणिपुर

Question ID : 26433071486

Status : Answered

Chosen Option : 3

Q.13 The chemical name of Blue Vitriol is _____.

- Ans
- 1. Sulphuric Acid
 - 2. Copper Sulphate
 - 3. Sodium Hydroxide
 - 4. Zinc Sulphate

Question ID : 264330115162

Status : Not Answered

Chosen Option : --

Q.14 निम्न में से किसे लोक और जनजातीय नृत्य में उनके योगदान के लिए संगीत नाटक अकादमी पुरस्कार और मध्य प्रदेश सरकार द्वारा तुलसी सम्मान से सम्मानित किया गया है?

- Ans
- 1. वेम्पति चिन्ना सत्यम
 - 2. जिया मोहिउद्दीन डागर
 - 3. अर्जुन सिंह धुर्वे
 - 4. महबूब सुभानी

Question ID : 264330115859
Status : Not Answered
Chosen Option : --

Q.15 सरकार की लाइसेंस नीति का मुख्य उद्देश्य _____ को बढ़ावा देना था।

- Ans
- 1. छोटे राज्यों में स्कूलों और अस्पतालों का विकास
 - 2. पूर्वोत्तर राज्यों में रोजगार
 - 3. क्षेत्रीय समानता
 - 4. भारत के दक्षिणी भाग में वस्त्र उद्योगों का विकास

Question ID : 26433054779
Status : Answered
Chosen Option : 1

Q.16 निम्नलिखित में से किस मौर्य शासक ने बौद्ध धम्म के प्रचार-प्रसार का बीड़ा उठाया था?

- Ans
- 1. बिंदुसार
 - 2. अशोक
 - 3. देववर्मन
 - 4. सम्प्रति

Question ID : 26433089857
Status : Not Answered
Chosen Option : --

Q.17 _____ खातों में कोई न्यूनतम शेष राशि बनाए रखने की कोई आवश्यकता नहीं है।

- Ans
- 1. जन कल्याण योजना
 - 2. प्रधानमंत्री जन धन योजना
 - 3. प्रधान सेवक जन धन योजना
 - 4. प्रधानमंत्री जन जन योजना

Question ID : 264330116205
Status : Answered
Chosen Option : 2

Q.18 वह पथ जो प्रशांत महासागर के साथ-साथ लगाकर है, जहां सक्रिय ज्वालामुखी पाएँ जाते हैं और वहाँ बार-बार भूकंप आते रहते हैं, उसे क्या नाम दिया गया है?

- Ans
- 1. ज्वाला-वृत्त (Ring of Fire)
 - 2. बरमूडा ट्राइंगल (Bermuda Triangle)
 - 3. ड्रेक जलमार्ग (Drake Passage)
 - 4. केप हॉर्न (Cape Horn)

Question ID : 264330115998
Status : Answered
Chosen Option : 1

Q.19 Which year among the following did India host the Commonwealth Games?

- Ans
- 1. 2012
 - 2. 2010
 - 3. 2014
 - 4. 2008

Question ID : 264330115922
Status : Answered
Chosen Option : 1

Q.20 नवंबर 2022 में, किस रेलवे स्टेशन को 4-स्टार रेटिंग के साथ 'ईट राइट स्टेशन' प्रमाणन से सम्मानित किया गया?

- Ans
- 1. भोपाल जंक्शन रेलवे स्टेशन
 - 2. हावड़ा जंक्शन रेलवे स्टेशन
 - 3. छत्रपति शिवाजी टर्मिनस
 - 4. नई दिल्ली रेलवे स्टेशन

Question ID : 264330115562
Status : Answered
Chosen Option : 3

Section : Part-C-Elementary Mathematics

Q.1 ऐसे 45 डिब्बे हैं जिनका औसत भार 52 g है। कुछ डिब्बे नीले हैं, जबकि अन्य हरे हैं। यदि 40 g के औसत भार वाले पांच नीले डिब्बे और 43 g के औसत भार वाले आठ हरे डिब्बे शामिल किए जाते हैं, तो अब औसत भार (g में) क्या है?

- Ans
- 1. 49.72
 - 2. 51.25
 - 3. 52.5
 - 4. 52.25

Question ID : 26433081637
Status : Not Answered
Chosen Option : --

Q.2 एक दुकान में ₹1,00,000 का बिल हुआ। 30% की एक छूट और 25% और 5% की दो क्रमिक छूटों के बीच का अंतर क्या होगा?

- Ans
- 1. ₹1,520
 - 2. ₹1,025
 - 3. ₹1,250
 - 4. ₹1,205

Question ID : 26433082791

Status : Answered

Chosen Option : 3

Q.3 यदि 8% वार्षिक की दर से 2 वर्ष के लिए उधार ली गई एक निश्चित धनराशि पर साधारण ब्याज और वार्षिक चक्रवृद्धि आधार पर गणना किए गए चक्रवृद्धि ब्याज के बीच का अंतर ₹512 है, तो उधार ली गई धनराशि (₹ में) ज्ञात करें।

- Ans
- 1. ₹1,200
 - 2. ₹62,100
 - 3. ₹2,100
 - 4. ₹80,000

Question ID : 26433079953

Status : Answered

Chosen Option : 4

Q.4 R एक पेंटिंग कार्य को 12 दिनों में पूरा कर सकता है। दो सहायकों की मदद से वह इसे 8 दिनों में पूरा कर सकता है। अकेले एक सहायक द्वारा कार्य को कितने दिनों में पूरा किया जाएगा?

- Ans
- 1. 42
 - 2. 48
 - 3. 24
 - 4. 36

Question ID : 26433066180

Status : Answered

Chosen Option : 2

Q.5 What is the mean proportional between 121 and 169?

- Ans
- 1. 153
 - 2. 157
 - 3. 143
 - 4. 147

Question ID : 26433075664

Status : Not Answered

Chosen Option : --

Q.6 एक व्यापारी ने 20% की छूट देने के बाद, 20% का लाभ प्राप्त करने के लिए अपने माल पर मूल्य अंकित किया। अंकित मूल्य, क्रय मूल्य से कितना प्रतिशत अधिक है?

- Ans
- 1. 50%
 - 2. 35%
 - 3. 40%
 - 4. 20%

Question ID : 26433080240

Status : Answered

Chosen Option : 1

Q.7 जॉन और तन्वी की आयु का अनुपात 8:15 है। 9 वर्ष बाद, उनकी आयु का अनुपात 11:18 हो जाएगा। उनकी आयु के बीच कितना अंतर (वर्षों में) है?

- Ans
- 1. 45 years
 - 2. 24 years
 - 3. 7 years
 - 4. 21 years

Question ID : 26433073127

Status : Answered

Chosen Option : 4

Q.8 What is the volume of a hemisphere with radius 2.8 cm? (Use $\pi = \frac{22}{7}$) (Rounded up to three places of decimal).

- Ans
- 1. 38.268 cm³
 - 2. 28 cm³
 - 3. 45.995 cm³
 - 4. 41 cm³

Question ID : 26433075174

Status : Not Attempted and Marked For Review

Chosen Option : --

Q.9 एक डीलर ₹50,000 में 50 कुर्सियाँ खरीदता है, लेकिन उनमें से 20 कुर्सियाँ खराब निकल जाती हैं। वह प्रत्येक खराब कुर्सी को उसकी सामान्य कीमत के $\frac{3}{4}$ पर बेचने का फैसला करता है। कुर्सी की सामान्य कीमत कितनी होनी चाहिए जिससे उसे पूरे लेन-देन में 35% का लाभ हो?

- Ans
- 1. Rs.5,000
 - 2. Rs.6,750
 - 3. Rs.1,500
 - 4. Rs.1,125

Question ID : 26433073124

Status : Not Answered

Chosen Option : --

Q.10 शांत जल में एक नाव की चाल 8 km/h है और धारा की चाल 2 km/h है। एक व्यक्ति 90 km की दूरी पर स्थित एक स्थान पर नाव से जाता है और प्रारंभिक बिंदु पर वापस आ जाता है। इस दोतरफा आवागमन में उसे कुल कितना समय लगा?

- Ans
- 1. 30 hours
 - 2. 21 hours
 - 3. 20 hours
 - 4. 24 hours

Question ID : 26433076234
Status : Answered
Chosen Option : 1

Q.11 किसी गाँव की जनसंख्या 68000 है। इसमें पहले वर्ष में 5 प्रतिशत की दर से वृद्धि होती है और अगले 2 वर्ष में 10 प्रतिशत वार्षिक दर से कमी होती है। 3 वर्ष बाद गाँव की जनसंख्या कितनी होगी?

- Ans
- 1. 62823
 - 2. 57834
 - 3. 60832
 - 4. 56840

Question ID : 26433079882
Status : Answered
Chosen Option : 2

Q.12 जब किसी संख्या के 40 प्रतिशत में से 40 घटाया जाता है तो शेषफल 40 प्राप्त होता है। वह संख्या ज्ञात करें।

- Ans
- 1. 100
 - 2. 150
 - 3. 300
 - 4. 200

Question ID : 26433079856
Status : Answered
Chosen Option : 4

Q.13 36 और 45 से विभाज्य 4-अंकीय सबसे बड़ी संख्या को 10,000 में से घटाया जाता है। परिणाम ज्ञात करें।

- Ans
- 1. 180
 - 2. 100
 - 3. 120
 - 4. 150

Question ID : 264330116644
Status : Answered
Chosen Option : 2

Q.14 एक संख्या के 110% और समान संख्या के 94.5% के बीच का अंतर 34.1 है। वास्तविक संख्या क्या है?

Ans 1. 134

2. 220

3. 190

4. 110

Question ID : 264330116809

Status : Answered

Chosen Option : 2

Q.15 दो अलग-अलग रोड क्रॉसिंग पर ट्रैफिक लाइट क्रमशः प्रत्येक 54 सेकंड और 76 सेकंड के बाद बदल जाती है। यदि वे 10:15:00 बजे एक साथ बदलते हैं, तो पता करें कि अगली बार वे एक साथ किस समय बदलेंगी।

Ans 1. 10:59:12 बजे

2. 10:49:12 बजे

3. 10:52:34 बजे

4. 10:34:12 बजे

Question ID : 26433082604

Status : Answered

Chosen Option : 2

Q.16 P, Q और R अलग-अलग काम करते हुए एक कार्य को क्रमशः 50, 100 और 300 दिनों में पूरा कर सकते हैं। यदि वे बारी-बारी से एक-एक दिन काम करते हैं, P पहले दिन कार्य करता है, Q दूसरे दिन कार्य करता है, R तीसरे दिन कार्य करता है तथा फिर से P चौथे दिन कार्य करता है और इसी क्रम में आगे बढ़ते हैं, तो कार्य कितने दिनों में पूरा होगा?

Ans 1. 50 दिन

2. 90 दिन

3. 60 दिन

4. 40 दिन

Question ID : 264330116889

Status : Answered

Chosen Option : 2

Q.17 एक कक्षा में 80 विद्यार्थी हैं। लड़कियों का औसत वजन 40 kg है तथा लड़कों का औसत वजन 50 kg है। यदि लड़कों की संख्या 50 है, तो कक्षा का औसत वजन क्या होगा?

Ans 1. 47.75 kg

2. 48.25 kg

3. 45.5 kg

4. 46.25 kg

Question ID : 26433082495

Status : Answered

Chosen Option : 4

Q.18 एक नाव शांत जल में 30 km/h की चाल से यात्रा कर सकती है। यदि धारा के प्रवाह की चाल 2 km/h है, तो नाव को धारा के विपरीत दिशा में 56 km की यात्रा करने में कितना समय लगेगा?

Ans 1. 2 घंटे

2. $\frac{28}{15}$ घंटे

3. 28 घंटे

4. 3 घंटे

Question ID : 26433071337

Status : Answered

Chosen Option : 1

Q.19 10%, 30% और 25% की क्रमिक छूट कितनी एकल छूट के बराबर है? (निकटतम पूर्ण संख्या तक पूर्णांकित)

Ans 1. 47%

2. 53%

3. 55%

4. 65%

Question ID : 26433083040

Status : Answered

Chosen Option : 2

Q.20 A heap of wheat is in the form of a cone of diameter 30 m and height 8 m. How much canvas cloth will be required to just cover the heap (take $\pi = 3.14$)?

Ans 1. 900.9 m²

2. 900.8 m²

3. 700.8 m²

4. 800.7 m²

Question ID : 26433075522

Status : Answered

Chosen Option : 2

Q.1 Select the most appropriate option to fill in the blank.
The audience was asked to dress _____, since it was a formal occasion at the Royal Palace.

- Ans** 1. appropriately
 2. gaudily
 3. casually
 4. informally

Question ID : 26433085596
Status : Answered
Chosen Option : 3

Q.2 Choose the option that can substitute the underlined segment correctly and complete the meaning of the sentence.

Our possessions and other items, while travelling to Europe last year, was misplaced by the travelling agency.

- Ans** 1. Goods
 2. Luggage
 3. Cases
 4. Kit

Question ID : 26433088881
Status : Answered
Chosen Option : 1

Q.3 Select the most appropriate option to fill in the blank.

I was looking forward to a _____ evening at home.

- Ans** 1. quite
 2. quote
 3. quit
 4. quiet

Question ID : 26433088235
Status : Answered
Chosen Option : 1

Q.4 Select the most appropriate meaning of the given idiom.

A slap on the wrist

- Ans** 1. A tiny gift
 2. A secret alliance
 3. A wrist watch
 4. A small punishment

Question ID : 26433073476
Status : Answered
Chosen Option : 4

Q.5 Select the most appropriate synonym of the given word.

Frantic

- Ans
- 1. Loyal
 - 2. Lazy
 - 3. Gentle
 - 4. Violent

Question ID : 26433074047
Status : Answered
Chosen Option : 1

Q.6 Select the most appropriate synonym of the word given in brackets to fill in the blank.

A real warrior does not _____ (surrender) to his enemies.

- Ans
- 1. cooperate
 - 2. smile
 - 3. yield
 - 4. expose

Question ID : 26433070467
Status : Answered
Chosen Option : 4

Q.7 Select the most appropriate ANTONYM of the given word.

Dismal

- Ans
- 1. Candid
 - 2. Frantic
 - 3. Horrible
 - 4. Intelligent

Question ID : 26433073988
Status : Answered
Chosen Option : 1

Q.8 Select the INCORRECTLY spelt word.

- Ans
- 1. Aalign
 - 2. Fantastic
 - 3. Mirror
 - 4. Secretly

Question ID : 26433085206
Status : Answered
Chosen Option : 1

Q.9 Select the most appropriate meaning of the underlined idiom in the given sentence.

He had to bite the bullet when the doctor told him that his injured foot had to be amputated.

- Ans
- 1. Expedite the procedure
 - 2. Commit suicide
 - 3. Refuse to do something
 - 4. To accept a difficult or unpleasant situation

Question ID : 26433072089

Status : Answered

Chosen Option : 4

Q.10 A part of the given sentence which has been underlined may contain a spelling error. Select the option that correctly rectifies the spelling error. If there is no error, select 'No error'.

The doctor prescribed to put the patient in quarrantine for a few days.

- Ans
- 1. Quarantintine
 - 2. No error
 - 3. Qurantine
 - 4. Quarantine

Question ID : 26433071789

Status : Answered

Chosen Option : 4

Q.11 Select the most appropriate ANTONYM of the underlined word to fill in the blank.

The people of that remote island, who were considered savage by many were actually _____ islanders.

- Ans
- 1. civilised
 - 2. mobilised
 - 3. efficient
 - 4. organised

Question ID : 26433091846

Status : Not Answered

Chosen Option : --

Q.12 Select the most appropriate synonym for the underlined word in the given sentence.

Those unwilling to capitulate to the new Chancellor's demands will be ruthlessly fired.

- Ans
- 1. listen
 - 2. surrender
 - 3. torture
 - 4. believe

Question ID : 26433073750

Status : Not Answered

Chosen Option : --

Q.13 Select the most appropriate ANTONYM of the given word.

Silent

- Ans
- 1. Mute
 - 2. Utterable
 - 3. Noisy
 - 4. Mum

Question ID : 26433072810
Status : Answered
Chosen Option : 3

Q.14 Select the option that contains a grammatical error in the underlined portion.

I had take a vow of celibacy which was a part of my training while I was in the temple.

- Ans
- 1. I had take a vow of celibacy which was a part of my training while I was in the temple.
 - 2. I had take a vow of celibacy which was a part of my training while I was in the temple.
 - 3. I had take a vow of celibacy which was a part of my training while I was in the temple.
 - 4. I had take a vow of celibacy which was a part of my training while I was in the temple.

Question ID : 26433088593
Status : Answered
Chosen Option : 2

Q.15 Select the most appropriate option to substitute the underlined segment in the given sentence. If no substitution is required, select 'No substitution'.

Do you have to stay home last week?

- Ans
- 1. No substitution
 - 2. Does you have
 - 3. Did you have
 - 4. Have you had

Question ID : 26433099060
Status : Answered
Chosen Option : 3

Comprehension:

In the following passage, some words have been deleted. Read the passage carefully and select the most appropriate option to fill in each blank.

A flood occurs when water overflows its natural (1) _____ and lands on typically dry ground. Floods have always been an (2) _____ component of life on the planet. A legend about a (3) _____ flood exists in almost every civilisation. Many people have (4) _____ to live near bodies of water in order to have access to transportation routes, fishing, and water for drinking, farming, and industry. The majority of the world's major cities are (5) _____ on or near oceans, lakes, or rivers.

SubQuestion No : 16

Q.16 Select the most appropriate option to fill in blank number 1.

- Ans
- 1. currents
 - 2. streams
 - 3. barriers
 - 4. volumes

Question ID : 26433088521

Status : Answered

Chosen Option : 1

Comprehension:

In the following passage, some words have been deleted. Read the passage carefully and select the most appropriate option to fill in each blank.

A flood occurs when water overflows its natural (1) _____ and lands on typically dry ground. Floods have always been an (2) _____ component of life on the planet. A legend about a (3) _____ flood exists in almost every civilisation. Many people have (4) _____ to live near bodies of water in order to have access to transportation routes, fishing, and water for drinking, farming, and industry. The majority of the world's major cities are (5) _____ on or near oceans, lakes, or rivers.

SubQuestion No : 17

Q.17 Select the most appropriate option to fill in blank number 2.

- Ans
- 1. evitable
 - 2. unavoidable
 - 3. accessible
 - 4. amendable

Question ID : 26433088522

Status : Answered

Chosen Option : 2

Comprehension:

In the following passage, some words have been deleted. Read the passage carefully and select the most appropriate option to fill in each blank.

A flood occurs when water overflows its natural (1) _____ and lands on typically dry ground. Floods have always been an (2) _____ component of life on the planet. A legend about a (3) _____ flood exists in almost every civilisation. Many people have (4) _____ to live near bodies of water in order to have access to transportation routes, fishing, and water for drinking, farming, and industry. The majority of the world's major cities are (5) _____ on or near oceans, lakes, or rivers.

SubQuestion No : 18**Q.18 Select the most appropriate option to fill in blank number 3.**

- Ans 1. huge
 2. controlled
 3. induced
 4. limit

Question ID : 26433088523

Status : Answered

Chosen Option : 1

Comprehension:

In the following passage, some words have been deleted. Read the passage carefully and select the most appropriate option to fill in each blank.

A flood occurs when water overflows its natural (1) _____ and lands on typically dry ground. Floods have always been an (2) _____ component of life on the planet. A legend about a (3) _____ flood exists in almost every civilisation. Many people have (4) _____ to live near bodies of water in order to have access to transportation routes, fishing, and water for drinking, farming, and industry. The majority of the world's major cities are (5) _____ on or near oceans, lakes, or rivers.

SubQuestion No : 19**Q.19 Select the most appropriate option to fill in blank number 4.**

- Ans 1. conquered
 2. left
 3. avoided
 4. chosen

Question ID : 26433088524

Status : Answered

Chosen Option : 3

Comprehension:

In the following passage, some words have been deleted. Read the passage carefully and select the most appropriate option to fill in each blank.

A flood occurs when water overflows its natural (1) _____ and lands on typically dry ground. Floods have always been an (2) _____ component of life on the planet. A legend about a (3) _____ flood exists in almost every civilisation. Many people have (4) _____ to live near bodies of water in order to have access to transportation routes, fishing, and water for drinking, farming, and industry. The majority of the world's major cities are (5) _____ on or near oceans, lakes, or rivers.

SubQuestion No : 20

Q.20 Select the most appropriate option to fill in blank number 5.

- Ans
- 1. confiscated
 - 2. endangered
 - 3. banned
 - 4. located

Question ID : 26433088525

Status : Answered

Chosen Option : 4

Section : Part-D-Hindi

Q.1 'कान काटना' मुहावरे का सही अर्थ है-

- Ans
- 1. आसानी से कहने में आ जाना
 - 2. झूठ बोलना
 - 3. किसी की चुगली करना
 - 4. चालाकी में आगे होना

Question ID : 26433065925

Status : Not Answered

Chosen Option : --

Q.2 निम्नलिखित विकल्पों में से 'नवीन बनाने की क्रिया' वाक्यांश के लिए एक सार्थक शब्द क्या होगा?

- Ans
- 1. आर्थिक
 - 2. सर्वमत
 - 3. परम्परावादी
 - 4. आधुनिकीकरण

Question ID : 26433062470

Status : Not Answered

Chosen Option : --

Q.3 कौन से विकल्प में दिए गए सभी शब्द रीतिवाचक क्रिया विशेषण के उदाहरण हैं?

- Ans
- 1. आज, आजकल, प्रतिदिन
 - 2. ज्योंही, तक, पर
 - 3. ऊपर, नीचे, बाहर
 - 4. केवल, कदाचित, शायद

Question ID : 26433063051

Status : Not Answered

Chosen Option : --

Q.4 निम्नलिखित वाक्य में रेखांकित खंड के स्थान पर प्रयुक्त होने वाले सबसे उपयुक्त विकल्प का चयन कीजिए।

प्लेट में अंगूर का झुंड रखा है।

- Ans
- 1. गुच्छा
 - 2. छल्ला
 - 3. दल
 - 4. समूह

Question ID : 26433079566

Status : Not Answered

Chosen Option : --

Q.5 निम्न वाक्यांश के लिए एक शब्द क्या होगा?
जो किये हुए उपकार को मानता है

- Ans
- 1. कृतार्थ
 - 2. कृतकृत्य
 - 3. कृतघ्न
 - 4. कृतज्ञ

Question ID : 26433070099

Status : Not Answered

Chosen Option : --

Q.6 निम्नलिखित मुहावरे का उपयुक्त अर्थ क्या होगा?
चट कर जाना

- Ans
- 1. खा जाना
 - 2. मर जाना
 - 3. सो जाना
 - 4. घूस लेना

Question ID : 26433065767

Status : Not Answered

Chosen Option : --

Q.7 मैंने गुलाब का पुष्प मँगाया था पर तुम कमल के _____ ले के आए।
'फूल' के पर्याय से उपरोक्त वाक्य में रिक्त स्थान की पूर्ति करें।

- Ans
- 1. वारिद
 - 2. सुमन
 - 3. कुमुद
 - 4. पुन्डरिक

Question ID : 26433084985
Status : Not Answered
Chosen Option : --

Q.8 'पांच टन कोयले।' इस वाक्य में रेखांकित शब्द के स्थान पर उचित शब्द क्या होगा?

- Ans
- 1. कोयल
 - 2. कोयलों
 - 3. कोयला सा
 - 4. कोयला

Question ID : 26433062784
Status : Not Answered
Chosen Option : --

Q.9 क्रिया-विशेषण के प्रकार और उनके उदाहरण का निम्न में से कौन सा युग्म सही नहीं है?

- Ans
- 1. परिमाणवाचक क्रिया विशेषण - सर्वत्र
 - 2. समयवाचक क्रिया विशेषण - पीछे
 - 3. निश्चयबोधक क्रिया विशेषण - बेशक
 - 4. स्थितिबोधक क्रिया विशेषण - कहीं न कहीं

Question ID : 26433079230
Status : Not Answered
Chosen Option : --

Q.10 'शिवजी का वह मंदिर जंगल में बहुत दुर्गम स्थान पर है।' वाक्य में प्रयुक्त 'दुर्गम' शब्द का अर्थ है-

- Ans
- 1. जहाँ पहुँचना संभव हो
 - 2. जहाँ पहुँचना कठिन हो
 - 3. जहाँ जाना अच्छा लगता हो
 - 4. जहाँ का रास्ता अच्छा हो

Question ID : 26433069733
Status : Not Answered
Chosen Option : --

Q.11 शालीन व्यक्ति का समाज में हमेशा सम्मान होता है और _____ का अपमान।
'शालीन' के विलोम शब्द से उपरोक्त वाक्य में रिक्त स्थान की पूर्ति कीजिए।

- Ans
- 1. धृष्ट
 - 2. सुकुमार
 - 3. सौम्य
 - 4. वृद्ध

Question ID : 26433080871
Status : Not Answered
Chosen Option : --

Q.12 निम्न में से किस वाक्य में 'सुकुमार' के सही पर्यायवाची शब्द का प्रयोग हुआ है?

- Ans
- 1. रमेश बहुत भोला है।
 - 2. यौवन चिरकाल नहीं रहता।
 - 3. वह छोटा बालक है।
 - 4. पुष्प अत्यंत कोमल होते हैं।

Question ID : 26433085146
Status : Not Answered
Chosen Option : --

Q.13 'सोहन की व्यवहार अच्छा नहीं है।' इस वाक्य में अशुद्धि पहचानिए।

- Ans
- 1. की
 - 2. अच्छा
 - 3. है
 - 4. नहीं

Question ID : 26433091306
Status : Not Answered
Chosen Option : --

Q.14 निम्न वाक्यांश के लिए सार्थक शब्द/सही विकल्प चुनें।
जिसकी कोई सीमा न हो

- Ans
- 1. सीमांत
 - 2. सीमित
 - 3. असीम
 - 4. ससीम

Question ID : 26433066930
Status : Not Answered
Chosen Option : --

Q.15 निम्नलिखित वाक्यों में से शुद्ध वाक्य का चयन कीजिए।

- Ans 1. निराशा की किरण छाई हुई है।
 2. निराशा के बादल छाये हुए हैं।
 3. निराशा का प्रकाश छाया हुआ है।
 4. निराशा का उजाला छाया हुआ है।

Question ID : 26433062825

Status : Not Answered

Chosen Option : --

Comprehension:

निम्नलिखित गद्यांश में कुछ शब्दों को हटा दिया गया है। दिए गए विकल्पों की सहायता से रिक्त स्थानों की पूर्ति कीजिए। प्रत्येक संख्या के लिए सबसे उपयुक्त विकल्प का चयन कीजिए।

पर्यटन या देशाटन एक ही अर्थवाची 1. _____ हैं। इसका शाब्दिक अर्थ है- देश-विदेश में 2. _____ करना। एक स्थान पर रहते-रहते मनुष्य ऊब जाता है। वह कहीं 3. _____ जाना चाहता है। मनुष्य में जिज्ञासा वृत्ति होती है, जो उसे अपने देश के विषय में ही नहीं, 4. _____ के बारे में भी जानने की प्रेरणा देती है। वह नई वस्तुओं को जानना चाहता है, उनके सौंदर्य को 5. _____ चाहता है।

SubQuestion No : 16

Q.16 रिक्त स्थान 1 की पूर्ति के लिए सबसे उपयुक्त विकल्प का चयन कीजिए।

- Ans 1. वस्तु
 2. शब्द
 3. विकास
 4. ज्ञान

Question ID : 264330111059

Status : Not Answered

Chosen Option : --

Comprehension:

निम्नलिखित गद्यांश में कुछ शब्दों को हटा दिया गया है। दिए गए विकल्पों की सहायता से रिक्त स्थानों की पूर्ति कीजिए। प्रत्येक संख्या के लिए सबसे उपयुक्त विकल्प का चयन कीजिए।

पर्यटन या देशाटन एक ही अर्थवाची 1. _____ हैं। इसका शाब्दिक अर्थ है- देश-विदेश में 2. _____ करना। एक स्थान पर रहते-रहते मनुष्य ऊब जाता है। वह कहीं 3. _____ जाना चाहता है। मनुष्य में जिज्ञासा वृत्ति होती है, जो उसे अपने देश के विषय में ही नहीं, 4. _____ के बारे में भी जानने की प्रेरणा देती है। वह नई वस्तुओं को जानना चाहता है, उनके सौंदर्य को 5. _____ चाहता है।

SubQuestion No : 17

Q.17 रिक्त स्थान 2 की पूर्ति के लिए सबसे उपयुक्त विकल्प का चयन कीजिए।

- Ans 1. आश्चर्य
 2. मैत्री
 3. निकल
 4. भ्रमण

Question ID : 264330111060

Status : Not Answered

Chosen Option : --

Comprehension:

निम्नलिखित गद्यांश में कुछ शब्दों को हटा दिया गया है। दिए गए विकल्पों की सहायता से रिक्त स्थानों की पूर्ति कीजिए। प्रत्येक संख्या के लिए सबसे उपयुक्त विकल्प का चयन कीजिए।
पर्यटन या देशाटन एक ही अर्थवाची 1. _____ हैं। इसका शाब्दिक अर्थ है- देश-विदेश में 2. _____ करना। एक स्थान पर रहते-रहते मनुष्य ऊब जाता है। वह कहीं 3. _____ जाना चाहता है। मनुष्य में जिज्ञासा वृत्ति होती है, जो उसे अपने देश के विषय में ही नहीं, 4. _____ के बारे में भी जानने की प्रेरणा देती है। वह नई वस्तुओं को जानना चाहता है, उनके सौंदर्य को 5. _____ चाहता है।

SubQuestion No : 18

Q.18 रिक्त स्थान 3 की पूर्ति के लिए सबसे उपयुक्त विकल्प का चयन कीजिए।

- Ans 1. स्थानों
 2. घूमने
 3. देखने
 4. पढ़ने

Question ID : 264330111061

Status : Not Answered

Chosen Option : --

Comprehension:

निम्नलिखित गद्यांश में कुछ शब्दों को हटा दिया गया है। दिए गए विकल्पों की सहायता से रिक्त स्थानों की पूर्ति कीजिए। प्रत्येक संख्या के लिए सबसे उपयुक्त विकल्प का चयन कीजिए।
पर्यटन या देशाटन एक ही अर्थवाची 1. _____ हैं। इसका शाब्दिक अर्थ है- देश-विदेश में 2. _____ करना। एक स्थान पर रहते-रहते मनुष्य ऊब जाता है। वह कहीं 3. _____ जाना चाहता है। मनुष्य में जिज्ञासा वृत्ति होती है, जो उसे अपने देश के विषय में ही नहीं, 4. _____ के बारे में भी जानने की प्रेरणा देती है। वह नई वस्तुओं को जानना चाहता है, उनके सौंदर्य को 5. _____ चाहता है।

SubQuestion No : 19

Q.19 रिक्त स्थान 4 की पूर्ति के लिए सबसे उपयुक्त विकल्प का चयन कीजिए।

- Ans 1. यात्राओं
 2. विदेश
 3. राष्ट्र
 4. दूर

Question ID : 264330111062

Status : Not Answered

Chosen Option : --

Comprehension:

निम्नलिखित गद्यांश में कुछ शब्दों को हटा दिया गया है। दिए गए विकल्पों की सहायता से रिक्त स्थानों की पूर्ति कीजिए। प्रत्येक संख्या के लिए सबसे उपयुक्त विकल्प का चयन कीजिए। पर्यटन या देशाटन एक ही अर्थवाची 1. _____ हैं। इसका शाब्दिक अर्थ है- देश-विदेश में 2. _____ करना। एक स्थान पर रहते-रहते मनुष्य ऊब जाता है। वह कहीं 3. _____ जाना चाहता है। मनुष्य में जिज्ञासा वृत्ति होती है, जो उसे अपने देश के विषय में ही नहीं, 4. _____ के बारे में भी जानने की प्रेरणा देती है। वह नई वस्तुओं को जानना चाहता है, उनके सौंदर्य को 5. _____ चाहता है।

SubQuestion No : 20

Q.20 रिक्त स्थान 5 की पूर्ति के लिए सबसे उपयुक्त विकल्प का चयन कीजिए।

Ans 1. निहारना

2. पखारना

3. भेजना

4. लाभ

Question ID : 264330111063

Status : Not Answered

Chosen Option : --

WWW.GOVtjobsalert.in