

Constable GD in CAPFs SSF Rifleman GD in Assam Rifles and Sepoy in NCB Examination 2022

| | |
|----------------|--|
| Roll Number | www.govtjobsalert.in |
| Candidate Name | www.govtjobsalert.in |
| Venue Name | Shri Bhawani Niketan Institute of Technology and Management |
| Exam Date | 06/02/2023 |
| Exam Time | 5:15 PM - 6:15 PM |
| Subject | Constable GD Examination 2022 |

Section : Part-A-General Intelligence and Reasoning

Q.1 उस विकल्प का चयन कीजिए जो नीचे दिए गए शब्दों के उस क्रम को निरूपित करता है जिस क्रम में वे अंग्रेजी शब्दकोश में आते हैं।

1. TOPOLOGY
2. TOPIC
3. TOPAZ
4. TOUR
5. TORTILLA
6. TORN

Ans 1. 1, 2, 3, 6, 5, 4

2. 1, 3, 2, 6, 5, 4

3. 2, 3, 1, 6, 5, 4

4. 3, 2, 1, 6, 5, 4

Question ID : 26433079380

Status : Answered

Chosen Option : 4

Q.2 निम्नलिखित में से कौन-सी संख्या दी गई श्रृंखला में प्रश्न चिह्न (?) के स्थान पर आएगी?
12, 23, 45, 56, 78, 89, 111, 122, ?

Ans 1. 144

2. 133

3. 322

4. 43

Question ID : 26433082736

Status : Answered

Chosen Option : 1

Q.3 उस विकल्प का चयन कीजिए जो पांचवें अक्षर-समूह से उसी प्रकार संबंधित है जिस प्रकार दूसरा अक्षर-समूह पहले अक्षर-समूह से संबंधित है और चौथा अक्षर-समूह तीसरे अक्षर-समूह से संबंधित है।
 REALITY : YEALITR :: SCIENCE : ECIENCS :: ADVERSE : ?

Ans 1. EDVERSA

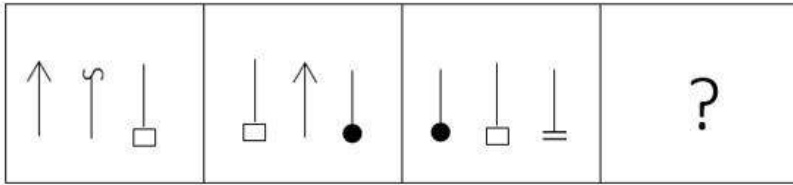
2. VDAERSE

3. VERSEAD

4. ESREVDA

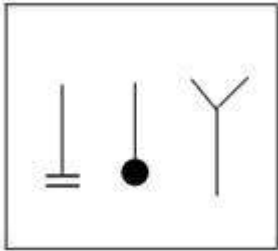
Question ID : 26433069636
 Status : Answered
 Chosen Option : 1

Q.4 दिए गए विकल्पों में से उस आकृति का चयन करें जो निम्न श्रृंखला में प्रश्नवाचक चिन्ह (?) के स्थान पर आ सकती है।

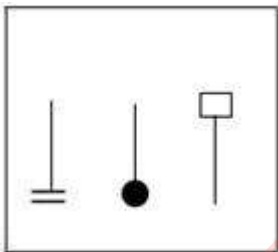


Ans

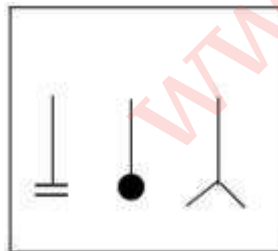
1.



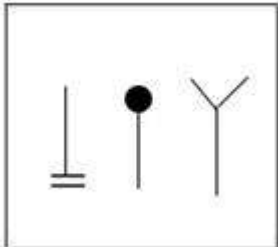
2.



3.



4.



Question ID : 26433080760
 Status : Answered
 Chosen Option : 1

Q.5 निम्नलिखित में से कौन-सी संख्या दी गई श्रृंखला में प्रश्न-चिह्न (?) के स्थान पर आएगी?
96, 48, 60, 30, 42, 21, ?

- Ans
- 1. 37
 - 2. 32
 - 3. 30
 - 4. 33

Question ID : 26433067882

Status : Answered

Chosen Option : 4

Q.6 उस समुच्चय का चयन करें, जिसमें संख्याएँ उसी प्रकार संबंधित हैं, जिस प्रकार निम्नलिखित समुच्चयों की संख्याएँ हैं।
(नोट: संख्याओं को उसके घटक अंकों में विभाजित किए बिना, पूर्ण संख्याओं पर ही गणितीय संक्रियाएँ की जानी चाहिए। जैसे 13 - मान लीजिए 13 पर गणितीय संक्रियाएँ जैसे कि 13 में जोड़ना/घटाना/गुणा करना आदि किया जा सकता है। 13 को 1 और 3 में तोड़कर और फिर 1 और 3 पर गणितीय संक्रियाएँ करने की अनुमति नहीं है।)
(9, 14, 161)
(12, 18, 210)

- Ans
- 1. (23, 40, 371)
 - 2. (29, 17, 322)
 - 3. (11, 33, 348)
 - 4. (40, 20, 340)

Question ID : 26433076486

Status : Answered

Chosen Option : 2

Q.7 निम्नलिखित में से कौन-सा पद दी गई श्रृंखला में प्रश्न-चिह्न (?) के स्थान पर आएगा?
FSCW, HQEU, JOGS, LMIQ, ?

- Ans
- 1. MNKO
 - 2. MLJP
 - 3. NKLO
 - 4. NKKO

Question ID : 26433069445

Status : Answered

Chosen Option : 4

Q.8 निम्नलिखित में से कौन-सा पद दी गई श्रृंखला में प्रश्न-चिह्न (?) के स्थान पर आएगा?
ADLU, EGOO, ? , OMUE, UPXA

- Ans
- 1. IJRI
 - 2. IKRI
 - 3. JIIR
 - 4. ILIR

Question ID : 26433068307

Status : Answered

Chosen Option : 1

Q.9 O, P, Q, R और S एक वृत्ताकार मेज पर केंद्र की ओर मुख करके बैठे हैं। R, S के बाईं ओर ठीक बगल में बैठा है। Q, O के दाईं ओर ठीक बगल में बैठा है। S, R और O के ठीक बगल में बैठा है। P, R के बाईं ओर ठीक बगल में बैठा है। Q के दाईं ओर ठीक बगल में कौन बैठा है?

- Ans
- 1. O
 - 2. R
 - 3. P
 - 4. S

Question ID : 26433074606

Status : Answered

Chosen Option : 3

Q.10 छः मित्र सारथी, परी, वाणी, कबीर, अर्शी और कमल एक वृत्ताकार स्थिति में बैठे हैं। उन सभी का मुख वृत्त के केंद्र की ओर है। सारथी, परी के बाईं ओर दूसरे स्थान पर बैठा है। वाणी, कबीर के दाईं ओर तीसरे स्थान पर बैठी है। अर्शी, परी और कबीर के ठीक बगल में बैठी है। वाणी के बाईं ओर चौथे स्थान पर कौन बैठा/बैठी है?

- Ans
- 1. परी
 - 2. अर्शी
 - 3. कमल
 - 4. कबीर

Question ID : 26433069506

Status : Answered

Chosen Option : 4

Q.11 एक निश्चित कूट भाषा में, 'ENTITY' को 'UOFAVK' के रूप में लिखा जाता है और 'EQUITY' को 'VRFAVK' के रूप में लिखा जाता है। उसी भाषा में 'ESCAPE' को कैसे लिखा जाएगा?

- Ans
- 1. EPACSE
 - 2. DTFGRG
 - 3. CSEEPA
 - 4. DTFEPA

Question ID : 26433090043

Status : Answered

Chosen Option : 2

Q.12 एक निश्चित कूट भाषा में, STAR को 58 के रूप में कूटबद्ध किया जाता है और ALARM को 45 के रूप में कूटबद्ध किया जाता है। STAGE को उसी भाषा में किस प्रकार कूटबद्ध किया जाएगा?

- Ans
- 1. 52
 - 2. 51
 - 3. 49
 - 4. 50

Question ID : 26433067994

Status : Answered

Chosen Option : 1

Q.13 दर्पण को नीचे दिए गए चित्र के अनुसार MN पर रखे जाने पर दी गई आकृति

का दर्पण में निर्मित सही प्रतिबिंब चयनित कीजिए।

R S 2 T z x w

M _____ N

Ans

✓ 1. B 2 S 1 z X M

✗ 2. R 2 S 1 z X M

✗ 3. B 2 S T z X M

✗ 4. B 2 2 1 z X M

Question ID : 26433080803

Status : Answered

Chosen Option : 1

Q.14 A @ B का अर्थ है 'A, B की बहन है'।

A & B का अर्थ है 'A, B का भाई है'।

A # B का अर्थ है 'A, B की पत्नी है'।

A ^ B का अर्थ है 'A, B की माता है'।

A + B का अर्थ है 'A, B के पिता हैं'।

यदि A & C + E ^ G # I & K + M @ O है, तो निम्नलिखित में से कौन-सा कथन सही नहीं है?

Ans ✗ 1. C, G के नाना हैं।

✓ 2. I, E का पुत्र है।

✗ 3. M, K की पुत्री है।

✗ 4. K, O के पिता हैं।

Question ID : 26433068951

Status : Answered

Chosen Option : 3

Q.15 नीचे दिए गए समीकरण को गणितीय रूप से सही बनाने के लिए किन दो चिन्हों को परस्पर बदलना चाहिए?

$$104 \div 13 + 60 - 5 \times 2 = 115$$

Ans ✗ 1. + और ×

✗ 2. ÷ और ×

✗ 3. × और -

✓ 4. ÷ और -

Question ID : 264330117498

Status : Answered

Chosen Option : 4

Q.16 इस प्रश्न में तीन कथन दिए गए हैं, जिसके बाद दो निष्कर्ष I और II दिए गए हैं। कथनों को सत्य मानते हुए, भले ही वे सर्वज्ञात तथ्यों से भिन्न प्रतीत होते हों, निर्णय कीजिए कि कौन-सा/से निष्कर्ष कथनों का तार्किक रूप से अनुसरण करता है/अनुसरण करते हैं।

कथन:

सभी चूड़ियां सिक्के हैं।

सभी सिक्के पायलें हैं।

सभी पायलें लॉकेट हैं।

निष्कर्ष:

I. सभी लॉकेट चूड़ियां हैं।

II. कुछ लॉकेट सिक्के हैं।

Ans 1. केवल निष्कर्ष II अनुसरण करता है।

2. केवल निष्कर्ष I अनुसरण करता है।

3. न तो निष्कर्ष I और न ही II अनुसरण करता है।

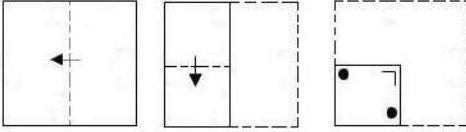
4. निष्कर्ष I और II दोनों अनुसरण करते हैं।

Question ID : 26433070392

Status : Answered

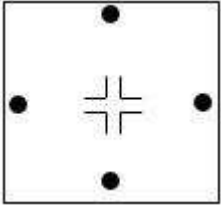
Chosen Option : 1

Q.17 एक कागज को नीचे दर्शाए गए अनुसार मोड़ा और काटा जाता है। खोले जाने पर यह कैसा दिखाई देगा?

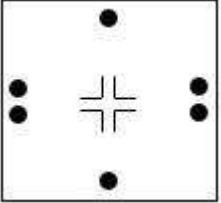


Ans


1.



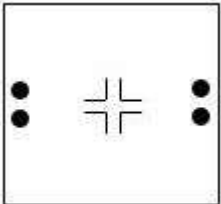
2.



3.



4.



Question ID : 26433090090

Status : Answered

Chosen Option : 3

Q.18 उस विकल्प का चयन कीजिए जो पांचवें अक्षर-समूह से उसी प्रकार संबंधित है जिस प्रकार दूसरा अक्षर-समूह पहले अक्षर-समूह से संबंधित है और चौथा अक्षर-समूह तीसरे अक्षर-समूह से संबंधित है।
GLOW: SOMF :: LIKE: NRQX :: SAVE: ?

- Ans 1. HZEW
 2. GZFX
 3. GYEW
 4. UCTX

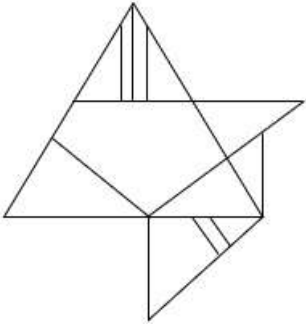
Question ID : 26433057493

Status : Answered

Chosen Option : 2

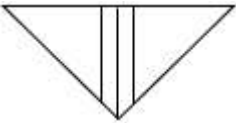
Q.19 वह विकल्प चित्र चुनिए, जो प्रस्तुत चित्र में अंतर्निहित है। (घुमाना अनुमन्य नहीं

गए)

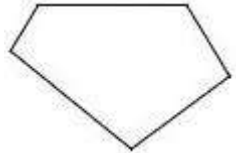


Ans

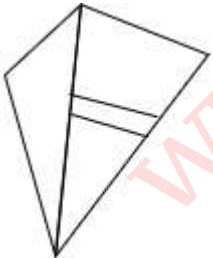
1.



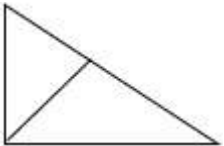
2.



3.



4.



Question ID : 26433069341

Status : Answered

Chosen Option : 2

Q.20 यदि A का अर्थ + है, B का अर्थ - है और C का अर्थ \times है, तो निम्नलिखित समीकरण का मान क्या होगा?
20 C 5 A 3 C 2 B 16

- Ans 1. 90
 2. 85
 3. 80
 4. 100

Question ID : 26433092971
Status : Answered
Chosen Option : 1

Section : Part-B-General Knowledge and General awareness

Q.1 असहयोग आंदोलन के प्रस्ताव की पुष्टि दिसंबर 1920 में _____ में आयोजित भारतीय राष्ट्रीय कांग्रेस के वार्षिक अधिवेशन में की गई थी।

- Ans 1. भोपाल
 2. नागपुर
 3. सूरत
 4. मद्रास

Question ID : 26433089882
Status : Answered
Chosen Option : 2

Q.2 संगमरमर का रासायनिक सूत्र _____ है।

- Ans 1. Ca(OH)_2
 2. CaCO_3
 3. CO_2
 4. CaO

Question ID : 26433066471
Status : Answered
Chosen Option : 2

Q.3 अरब सागर से आने वाली दक्षिण-पश्चिम मानसून पवनों को अंतः उष्णकटिबंधीय अभिसरण क्षेत्र की ओर प्रवाहित करने में कौन बाधा डालता है?

- Ans 1. पूर्वी घाट
 2. पश्चिमी घाट
 3. अरावली पर्वतमाला
 4. महान हिमालय पर्वतमाला

Question ID : 264330115987
Status : Answered
Chosen Option : 4

Q.4 भारत के 35वें राष्ट्रीय खेलों का आयोजन किस वर्ष हुआ था?

- Ans
- 1. 2013
 - 2. 2014
 - 3. 2015
 - 4. 2017

Question ID : 264330116254
Status : Answered
Chosen Option : 4

Q.5 प्लाज्मा झिल्ली के अंदर _____ एक तरल पदार्थ है।

- Ans
- 1. क्रोमेटिन
 - 2. कोशिका द्रव्य
 - 3. केंद्रक
 - 4. माइटोकॉण्ड्रियन

Question ID : 264330115209
Status : Answered
Chosen Option : 2

Q.6 निम्नलिखित में से किस नर्तक ने 2004 में संगीत नाटक अकादमी पुरस्कार जीता था?

- Ans
- 1. अनुराधा पाण्डेय
 - 2. अमला अक्किनेनी
 - 3. कृष्णा एला
 - 4. जतिन गोस्वामी

Question ID : 264330115826
Status : Not Answered
Chosen Option : --

Q.7 विश्व का सबसे बड़ा लोकतंत्र कौन सा है?

- Ans
- 1. ब्राज़ील
 - 2. चीन
 - 3. भारत
 - 4. यूएसए

Question ID : 264330115620
Status : Answered
Chosen Option : 3

Q.8 जुलाई 2022 में, महाराष्ट्र राज्य विधानसभा के इतिहास में सबसे कम आयु के स्पीकर कौन बने?

- Ans
- 1. साजन शाह
 - 2. विवेक बिंद्रा
 - 3. संदीप माहेश्वरी
 - 4. राहुल नार्वेकर

Question ID : 264330114988

Status : Answered

Chosen Option : 4

Q.9 करागा, _____ के सबसे पुराने त्यौहारों में से एक, यह देवी शक्ति के सम्मान में मनाया जाता है।

- Ans
- 1. केरल
 - 2. तमिलनाडु
 - 3. आंध्र प्रदेश
 - 4. कर्नाटक

Question ID : 264330115128

Status : Not Answered

Chosen Option : --

Q.10 छठी पंचवर्षीय योजना के अनुसार, लक्षित आर्थिक विकास दर क्या थी?

- Ans
- 1. 6.0
 - 2. 5.8
 - 3. 5.2
 - 4. 6.3

Question ID : 264330116125

Status : Answered

Chosen Option : 3

Q.11 _____, संगठित क्षेत्र में कताई और बुनाई को छोड़कर संपूर्ण वस्त्र मूल्य श्रृंखला (textile value chain) में कौशल विकास और प्लेसमेंट उन्मुख प्रशिक्षण प्रदान करने का प्रायोजन रखता/रखती है।

- Ans
- 1. सेवा योजना
 - 2. समर्थ योजना
 - 3. मर्चेन्डाइज एक्सपोर्ट फ्रॉम इंडिया योजना
 - 4. MPLADS (संसद सदस्य स्थानीय क्षेत्र विकास योजना)

Question ID : 264330116172

Status : Not Answered

Chosen Option : --

Q.12 यदि सार्वजनिक ऋण से भविष्य में निर्गत में वृद्धि _____ होती है, तो यह एक प्रकार का बोझ है।

- Ans
- 1. कम
 - 2. बढ़ती
 - 3. विस्तारित
 - 4. अवर्धित

Question ID : 264330115285
Status : Not Answered
Chosen Option : --

Q.13 निम्नलिखित में से, _____ एक खाद्य फसल है

- Ans
- 1. जूट
 - 2. रबड़
 - 3. कपास
 - 4. चावल

Question ID : 264330115425
Status : Answered
Chosen Option : 4

Q.14 निम्नलिखित में से किस जलवायु में आप रबर की फसल नहीं उगा सकते हैं?

- Ans
- 1. उपोष्णकटिबंधीय जलवायु
 - 2. उष्णकटिबंधी जलवायु
 - 3. भूमध्यरेखीय जलवायु
 - 4. ध्रुवीय जलवायु

Question ID : 264330115532
Status : Answered
Chosen Option : 2

Q.15 भारत के शास्त्रीय नृत्यों में से एक सत्रीया नृत्य निम्नलिखित में से किस धर्म की शिक्षाओं को दर्शाता है?

- Ans
- 1. हिंदू धर्म
 - 2. सिख धर्म
 - 3. जैन धर्म
 - 4. बौद्ध धर्म

Question ID : 26433071484
Status : Answered
Chosen Option : 1

Q.16 जनगणना 2011 के अनुसार भारत का दूसरा सबसे अधिक जनसंख्या वाला राज्य कौन-सा है?

- Ans
- 1. महाराष्ट्र
 - 2. बिहार
 - 3. झारखंड
 - 4. उत्तर प्रदेश

Question ID : 264330116035

Status : Answered

Chosen Option : 1

Q.17 नवंबर 2022 में महाराष्ट्र, भारत में अंधेरी पूर्व निर्वाचन क्षेत्र से विधान सभा के सदस्य कौन बने?

- Ans
- 1. देवेन्द्र फडणवीस
 - 2. नारायण राणे
 - 3. ऋतुजा लटके
 - 4. चंद्रकांत जाधव

Question ID : 264330114963

Status : Not Answered

Chosen Option : --

Q.18 साइखोम मीराबाई चानू एक _____ हैं।

- Ans
- 1. भारतीय साइक्लिस्ट
 - 2. भारतीय भारोत्तोलक
 - 3. भारतीय बॉक्सर
 - 4. भारतीय पहलवान

Question ID : 264330115956

Status : Answered

Chosen Option : 2

Q.19 सातवाहन साम्राज्य की स्थापना लगभग कितने वर्ष पूर्व हुई थी?

- Ans
- 1. 1700
 - 2. 2100
 - 3. 2800
 - 4. 2400

Question ID : 264330115465

Status : Not Answered

Chosen Option : --

Q.20 भारत का राष्ट्रपति बनने के लिए उम्मीदवार की न्यूनतम आयु कितनी होनी चाहिए?

Ans 1. 30

2. 35

3. 20

4. 25

Question ID : 264330115662

Status : Answered

Chosen Option : 2

Section : Part-C-Elementary Mathematics

Q.1 यदि एक बेलन के आधार की त्रिज्या और ऊँचाई क्रमशः 11 cm और 21 cm है, तो बेलन का आयतन क्या होगा? ($\pi = 22/7$ लें)

Ans 1. 8986 cm³

2. 8988 cm³

3. 7988 cm³

4. 7986 cm³

Question ID : 26433075709

Status : Answered

Chosen Option : 4

Q.2 एक निश्चित आयत में, आयत की लंबाई और चौड़ाई का अनुपात 3 : 2 है और क्षेत्रफल 150 cm² है। आयत की परिमाप _____ है।

Ans 1. 30 cm

2. 50 cm

3. 100 cm

4. 25 cm

Question ID : 26433075881

Status : Answered

Chosen Option : 2

Q.3 एक वस्तु पर 20% की छूट एक दूसरी वस्तु पर 25% की छूट के बराबर है। दोनों वस्तुओं का अंकित मूल्य _____ हो सकता है।

Ans 1. ₹100 और ₹120

2. ₹100 और ₹40

3. ₹100 और ₹ 60

4. ₹100 और ₹ 80

Question ID : 26433073010

Status : Answered

Chosen Option : 4

Q.4 20 पुरुष एक कार्य को 5 दिनों में समाप्त कर सकते हैं, जबकि 24 महिलाएं इसे 5 दिनों में समाप्त करती हैं। यदि 30 पुरुष और 12 महिलाएं कार्य को पूरा करने के लिए कार्य करना शुरू करते हैं, तो वे इसे पूरा करने में कितने दिन लेंगे?

- Ans
- 1. 3
 - 2. 5
 - 3. 1.5
 - 4. 2.5

Question ID : 26433076207

Status : Answered

Chosen Option : 4

Q.5 मुकेश ने एक बैंक से वार्षिक आधार पर चक्रवृद्धि किए जाने वाले 5% वार्षिक ब्याज दर से कुछ ऋण लिया। यदि उसने 2 वर्ष के अंत में ₹ 7,05,600 का भुगतान करके अपना ऋण चुकाया, तो उसने कितना ऋण लिया था?

- Ans
- 1. ₹6,40,000
 - 2. ₹5,60,000
 - 3. ₹5,96,000
 - 4. ₹6,68,000

Question ID : 26433080045

Status : Answered

Chosen Option : 1

Q.6 A और B के वेतन का अनुपात 4 : 5 है और उनके व्यय का अनुपात 5 : 6 है। यदि दोनों क्रमशः ₹200 और ₹300 बचाते हैं, तो A का वेतन कितना है?

- Ans
- 1. ₹1,100
 - 2. ₹1,000
 - 3. ₹1,200
 - 4. ₹1,300

Question ID : 26433080217

Status : Answered

Chosen Option : 3

Q.7 A, B और C एक कार्य को क्रमशः 4 दिन, 8 दिन और 16 दिन में पूरा कर सकते हैं। यदि तीनों बारी-बारी से एक-एक दिन इस प्रकार कार्य करते हैं, की A पहले दिन कार्य करता है, B दूसरे दिन कार्य करता है, C तीसरे दिन कार्य करता है और A चौथे दिन कार्य करता है और इसी क्रम में कार्य पूरा करते हैं, तो दिनों की संख्या ज्ञात करें जिसमें 175% कार्य पूरा हो गया है।

- Ans
- 1. 9 दिन
 - 2. 11 दिन
 - 3. 12 दिन
 - 4. 5 दिन

Question ID : 264330116856

Status : Answered

Chosen Option : 2

Q.8 एक स्कूल में लड़के और लड़कियों का अनुपात 7 : 11 है। यदि स्कूल में 3420 छात्र हैं, तो स्कूल में कितनी लड़कियां हैं? (स्कूल में केवल लड़के और लड़कियां हैं।)

- Ans
- 1. 902
 - 2. 760
 - 3. 2090
 - 4. 1330

Question ID : 26433082719

Status : Answered

Chosen Option : 3

Q.9 एक वस्तु की कीमत में 5% और 5% की दो क्रमिक वृद्धि निम्नलिखित में से किस एकल वृद्धि के बराबर हैं?

- Ans
- 1. 10.50%
 - 2. 10.00%
 - 3. 9.75%
 - 4. 10.25%

Question ID : 26433075100

Status : Answered

Chosen Option : 4

Q.10 10000 रुपए के बिल के लिए लागू, 30 प्रतिशत की छूट और 22 प्रतिशत और 8 प्रतिशत की दो क्रमिक छूट के बीच का अंतर है:

- Ans
- 1. 138 रुपए
 - 2. 144 रुपए
 - 3. 124 रुपए
 - 4. 176 रुपए

Question ID : 264330116741

Status : Answered

Chosen Option : 4

Q.11 एक व्यापारी Rs.2 प्रति kg मूल्य वाले 26 kg अपरिष्कृत नमक को Rs.3.60 प्रति kg मूल्य वाले 30 kg अपरिष्कृत नमक के साथ मिलाता है। यदि वह उस मिश्रण को Rs.3 प्रति kg मूल्य पर बेचता है, तो उसका लाभ % ज्ञात कीजिए।

- Ans 1. 5%
 2. 8%
 3. 10%
 4. 3%

Question ID : 26433075494
Status : Answered
Chosen Option : 1

Q.12 यदि A प्रथम 5 प्राकृत संख्याओं का औसत है और B प्रथम 5 ऐसी प्राकृत संख्याओं का औसत है जो पूर्ण वर्ग हैं, तो A और B का औसत क्या है?

- Ans 1. 10
 2. 7
 3. 8
 4. 9

Question ID : 264330116692
Status : Answered
Chosen Option : 4

Q.13 एक व्यापारी को ₹18 प्रति kg और ₹27 प्रति kg वाली दो सामग्रियों को किस अनुपात में मिलाना चाहिए, ताकि मिश्रण की कीमत ₹25 प्रति kg हो जाए?

- Ans 1. 2 : 7
 2. 2 : 5
 3. 3 : 7
 4. 1 : 7

Question ID : 26433079845
Status : Answered
Chosen Option : 1

Q.14 एक बेलनाकार मीनार का व्यास और ऊँचाई क्रमशः 10 मीटर और 21 मीटर है। Rs.8 प्रति वर्गमीटर की दर से इसकी वक्र सतह को रंगने की लागत क्या होगी? ($\pi = 22/7$ लें)

- Ans 1. Rs.5,130
 2. Rs.4,980
 3. Rs.5,490
 4. Rs.5,280

Question ID : 26433075484
Status : Answered
Chosen Option : 4

Q.15 एक व्यक्ति ने Rs.25 प्रति लीटर के क्रय मूल्य पर 25 लीटर दूध खरीदा। अब उसने इसमें 5 लीटर पानी मिला दिया और मिश्रण को क्रय मूल्य पर बेच दिया। व्यक्ति के लिए लाभ प्रतिशत ज्ञात कीजिए।

- Ans
- 1. 10%
 - 2. 20%
 - 3. 15%
 - 4. 25%

Question ID : 26433075941

Status : Answered

Chosen Option : 2

Q.16 एक धनराशि 20% प्रति वर्ष की चक्रवृद्धि ब्याज दर पर दो वर्षों के लिए उधार दी जाती है, जिसमें ब्याज की गणना वार्षिक रूप से चक्रवृद्धि आधार पर की जाती है। यदि ब्याज अर्धवार्षिक रूप से चक्रवृद्धि किया जाता है तो इस धनराशि पर ₹3,133 ब्याज अधिक प्राप्त होगा। धनराशि ज्ञात कीजिए।

- Ans
- 1. ₹1,30,000
 - 2. ₹65,000
 - 3. ₹13,000
 - 4. ₹1,20,000

Question ID : 26433076194

Status : Not Answered

Chosen Option : --

Q.17 एक मोटर साइकिल 25 km/hr की चाल से 50 km की दूरी तय करती है। अगले 50 km की यात्रा के लिए मोटर साइकिल की चाल क्या होनी चाहिए, ताकि पूरी यात्रा की औसत चाल 30 km/hr हो?

- Ans
- 1. $35 \frac{1}{2}$ km/hr
 - 2. $25 \frac{1}{2}$ km/hr
 - 3. $37 \frac{1}{2}$ km/hr
 - 4. $38 \frac{1}{2}$ km/hr

Question ID : 26433081593

Status : Not Answered

Chosen Option : --

Q.18 राजधानी ट्रेन एक विशेष दूरी 'd' के लिए 75 km/h की नियत चाल से एक सीधी रेखा में यात्रा करती है और फिर '2d' के बराबर दूसरी दूरी के लिए 100 km/h की नियत चाल से पहले वाली दिशा में ही यात्रा करती है। पूरी यात्रा के दौरान ट्रेन की औसत चाल ज्ञात करें।

- Ans
- 1. 84 km/h
 - 2. 96 km/h
 - 3. 90 km/h
 - 4. 88 km/h

Question ID : 26433076233
Status : Not Answered
Chosen Option : --

Q.19 वह सबसे बड़ी संख्या कौन सी है, जिससे जब संख्या 1658 और 2038 को विभाजित किया जाता है, तो शेषफल क्रमशः 7 और 6 प्राप्त होता है?

- Ans
- 1. 127
 - 2. 137
 - 3. 112
 - 4. 117

Question ID : 26433087336
Status : Answered
Chosen Option : 1

Q.20 कौन सी संख्या, 2310 के सभी अभाज्य गुणनखंडों के योग से एक कम है?

- Ans
- 1. 33
 - 2. 25
 - 3. 29
 - 4. 27

Question ID : 26433080374
Status : Answered
Chosen Option : 4

Section : Part-D-English

Q.1 Select the most appropriate synonym of the given word.

Culpable

- Ans
- 1. Absolved
 - 2. Vindicated
 - 3. Acquitted
 - 4. Guilty

Question ID : 26433088201
Status : Not Answered
Chosen Option : --

Q.2 Select the most appropriate meaning of the given idiom.

Like oil and water

- Ans
- 1. Two people who are similar to each other
 - 2. Two people who are different from each other
 - 3. Two people who like to work with each other
 - 4. Two people who like each other

Question ID : 26433072674
Status : Not Answered
Chosen Option : --

Q.3 Select the INCORRECTLY spelt word.

- Ans
- 1. Reverberation
 - 2. Ockupation
 - 3. Hallucination
 - 4. Constipation

Question ID : 26433073512
Status : Not Answered
Chosen Option : --

Q.4 Select the most appropriate meaning of the given idiom.

White elephant

- Ans
- 1. A business company in bankruptcy
 - 2. A big lie that is concealed from all
 - 3. Something that costs a lot of money but has no useful purpose
 - 4. Something very rare and precious

Question ID : 26433072361
Status : Not Answered
Chosen Option : --

Q.5 Select the most appropriate synonym of the given word to fill in the blank in the sentence.

Deceive

My mother said, "Don't _____ yourself, Adi. Pay attention to your studies."

- Ans
- 1. shine
 - 2. believe
 - 3. handle
 - 4. trick

Question ID : 26433060558
Status : Not Answered
Chosen Option : --

Q.6 Select the most appropriate ANTONYM of the given word.

Mandatory

- Ans 1. Optional
 2. Unavoidable
 3. Imperative
 4. Requisite

Question ID : 26433073574
Status : Not Answered
Chosen Option : --

Q.7 Select the most appropriate ANTONYM of the given word.

Abolish

- Ans 1. Pontificate
 2. Reverberate
 3. Construct
 4. Eradicate

Question ID : 26433071849
Status : Not Answered
Chosen Option : --

Q.8 Select the most appropriate homophone to fill in the blank.

There was a big hole in the wall which they are trying to close. It took a _____ day for them to do the job.

- Ans 1. while
 2. whale
 3. whole
 4. hold

Question ID : 26433088792
Status : Not Answered
Chosen Option : --

Q.9 Select the most appropriate option to substitute the underlined segment in the given sentence.

Experiences lead you towards the most fascinating stage of your living that you will cherish forever.

- Ans 1. glory of your day
 2. part of your life
 3. set of your routine
 4. feature of your work

Question ID : 26433092913
Status : Not Answered
Chosen Option : --

Q.10 Select the most appropriate ANTONYM of the given word.

Worthless

- Ans
- 1. Ineffective
 - 2. Productive
 - 3. Insult
 - 4. Kind

Question ID : 26433090789

Status : Not Answered

Chosen Option : --

Q.11 Select the most appropriate option that can substitute the underlined segment in the given sentence. If there is no need to substitute it, select 'No substitution required'.

Nalini was not satisfy with her birthday dress, but she wore it anyway.

- Ans
- 1. Nalini was not satisfied for her birthday dress
 - 2. Nalini was not satisfied with her birthday dress
 - 3. No substitution required
 - 4. Nalini were not satisfied by her birthday dress

Question ID : 26433091873

Status : Not Answered

Chosen Option : --

Q.12 Select the most appropriate option that can substitute the underlined segment in the given sentence.

The captain feels very proudly as his team has won the match.

- Ans
- 1. feels very proud
 - 2. feels much proud
 - 3. feel very proudly
 - 4. feels most pride

Question ID : 26433088166

Status : Not Answered

Chosen Option : --

Q.13 Identify the correctly spelt sentence.

- Ans
- 1. Scientists are looking for alternative energy to save non-renewable resources.
 - 2. Scientists are looking for alternative energy to save non-reneable resources.
 - 3. Scientists are looking for allternative energy to save non-renewable resources.
 - 4. Scientists are looking for alternetive energy to save non-renewable resources.

Question ID : 26433072829

Status : Not Answered

Chosen Option : --

Q.14 Select the most appropriate synonym of the underlined word in the given sentence.

The novelist depicted the moral decay of the society through his novels.

- Ans
- 1. Integrity
 - 2. Conviction
 - 3. Indignation
 - 4. Degeneration

Question ID : 26433071959
Status : Not Answered
Chosen Option : --

Q.15 Parts of the following sentence have been given as options. Select the option that contains an error.

Sam shall went to / the office tomorrow to / get back his original documents / lying with the staff.

- Ans
- 1. the office tomorrow to
 - 2. Sam shall went to
 - 3. get back his original documents
 - 4. lying with the staff

Question ID : 26433088464
Status : Not Answered
Chosen Option : --

Comprehension:

In the following passage, some words have been deleted. Read the passage carefully and select the most appropriate option to fill in each blank.

Amidst all the chaos and suffering caused by the pandemic, there are some positive stories of grit, (1)_____ and bravado. Some businesses understood the needs of the times to make (2)_____ profits. Businesses diversified and (3)_____ successful. Although there are numerous stories of people and business owners (4)_____ due to lockdowns, this small percentage of success stories is like the light at the end of the (5)_____.

SubQuestion No : 16

Q.16 Select the most appropriate option to fill in blank number 1.

- Ans
- 1. silence
 - 2. perspiration
 - 3. persistence
 - 4. laxity

Question ID : 26433091782
Status : Not Answered
Chosen Option : --

Comprehension:

In the following passage, some words have been deleted. Read the passage carefully and select the most appropriate option to fill in each blank.

Amidst all the chaos and suffering caused by the pandemic, there are some positive stories of grit, (1)_____ and bravado. Some businesses understood the needs of the times to make (2)_____ profits. Businesses diversified and (3)_____ successful. Although there are numerous stories of people and business owners (4)_____ due to lockdowns, this small percentage of success stories is like the light at the end of the (5)_____.

SubQuestion No : 17

Q.17 Select the most appropriate option to fill in blank number 2.

- Ans 1. slow
 2. elite
 3. tiny
 4. huge

Question ID : 26433091783

Status : Not Answered

Chosen Option : --

Comprehension:

In the following passage, some words have been deleted. Read the passage carefully and select the most appropriate option to fill in each blank.

Amidst all the chaos and suffering caused by the pandemic, there are some positive stories of grit, (1)_____ and bravado. Some businesses understood the needs of the times to make (2)_____ profits. Businesses diversified and (3)_____ successful. Although there are numerous stories of people and business owners (4)_____ due to lockdowns, this small percentage of success stories is like the light at the end of the (5)_____.

SubQuestion No : 18

Q.18 Select the most appropriate option to fill in blank number 3.

- Ans 1. are
 2. can
 3. aren't
 4. were

Question ID : 26433091784

Status : Not Answered

Chosen Option : --

Comprehension:

In the following passage, some words have been deleted. Read the passage carefully and select the most appropriate option to fill in each blank.

Amidst all the chaos and suffering caused by the pandemic, there are some positive stories of grit, (1)_____ and bravado. Some businesses understood the needs of the times to make (2)_____ profits. Businesses diversified and (3)_____ successful. Although there are numerous stories of people and business owners (4)_____ due to lockdowns, this small percentage of success stories is like the light at the end of the (5)_____.

SubQuestion No : 19

Q.19 Select the most appropriate option to fill in blank number 4.

- Ans 1. emptying
 2. pushing
 3. suffering
 4. relishing

Question ID : 26433091785

Status : Not Answered

Chosen Option : --

Comprehension:

In the following passage, some words have been deleted. Read the passage carefully and select the most appropriate option to fill in each blank.

Amidst all the chaos and suffering caused by the pandemic, there are some positive stories of grit, (1)_____ and bravado. Some businesses understood the needs of the times to make (2)_____ profits. Businesses diversified and (3)_____ successful. Although there are numerous stories of people and business owners (4)_____ due to lockdowns, this small percentage of success stories is like the light at the end of the (5)_____.

SubQuestion No : 20

Q.20 Select the most appropriate option to fill in blank number 5.

- Ans 1. tunnel
 2. kernel
 3. hill
 4. rope

Question ID : 26433091786

Status : Not Answered

Chosen Option : --

Section : Part-D-Hindi

Q.1 “शायद विद्युत आज घर आ जाए।”
सामान्य भविष्य काल का प्रयोग करते हुए उपरोक्त वाक्य को पुनः लिखिए।

- Ans 1. विद्युत आज घर आएगा।
 2. विद्युत आज घर आ रहा होगा।
 3. विद्युत घर आया था।
 4. विद्युत आज घर आया।

Question ID : 26433066983

Status : Answered

Chosen Option : 1

Q.2 निम्न वाक्य में रेखांकित शब्द के सही विलोम शब्द से रिक्त स्थान की पूर्ति कीजिए।
'सज्जन मृदुभाषी होते हैं लेकिन दुर्जन _____ होते हैं।'

- Ans
- 1. सिग्ध
 - 2. कटुभाषी
 - 3. मधुर
 - 4. ललित

Question ID : 26433066908
Status : Answered
Chosen Option : 2

Q.3 निम्न वाक्य में रेखांकित शब्द-समूह के लिए सर्वाधिक उपयुक्त विकल्प चुनें।
जिसके पास कुछ भी न हो, वह क्या खोएगा।

- Ans
- 1. बेसहारा
 - 2. अभावग्रस्त
 - 3. अकिंचन
 - 4. अपाहिज

Question ID : 26433062280
Status : Answered
Chosen Option : 3

Q.4 'यशोदा' व्यक्तिवाचक संज्ञा शब्द है। इसे जातिवाचक संज्ञा के रूप में प्रयोग करने से कौन सा विकल्प शुद्ध होगा?

- Ans
- 1. कृष्ण की माँ यशोदा थी।
 - 2. यशोदा की तस्वीर मैंने देखी है।
 - 3. यशोदा हमारे घर की लक्ष्मी है।
 - 4. वह यशोदा है।

Question ID : 26433079224
Status : Answered
Chosen Option : 2

Q.5 निम्नलिखित वाक्यों में अशुद्ध वर्तनी वाले वाक्य का चयन कीजिए।

- Ans
- 1. यद्यपि हम अपढ़ हैं तथापि बूद्धु नहीं है।
 - 2. घर में बिस्तर और बर्तन आदि हैं।
 - 3. राम कसरत करता है ताकि वह पहलवान बन जाए।
 - 4. जो धन का भूखा है, वह साधु नहीं है।

Question ID : 26433063070
Status : Answered
Chosen Option : 1

Q.6 निम्न वाक्य में रेखांकित शब्द के लिए विकल्पों में से सर्वाधिक उपयुक्त शब्द कौन सा होगा?
'मैं आज भारी दुखी हूँ।'

- Ans
- 1. बहुत
 - 2. गंभीर
 - 3. सही
 - 4. हल्का

Question ID : 26433066714
Status : Answered
Chosen Option : 1

Q.7 'जिस पर मुकदमा चल रहा हो' वाक्यांश के लिए उचित शब्द बताइए -

- Ans
- 1. मुक्किल
 - 2. कैदी
 - 3. मुजरिम
 - 4. अभियुक्त

Question ID : 26433065907
Status : Answered
Chosen Option : 3

Q.8 निम्नलिखित वाक्यांश के लिए उपयुक्त सार्थक शब्द क्या होगा?
जो व्यर्थ की बातें करता हो

- Ans
- 1. वाचाल
 - 2. जड़
 - 3. कठोर
 - 4. वक्ता

Question ID : 26433065755
Status : Answered
Chosen Option : 4

Q.9 विकल्पों में दिए गए किस वाक्य में निम्न शब्द के सही पर्यायवाची का प्रयोग किया गया है?
मछली

- Ans
- 1. सर्पगंधा पानी में रहती है।
 - 2. मत्स्य जल में रहती है।
 - 3. हस्ति जल में रहती है।
 - 4. इग्लू पानी में ही रहती है।

Question ID : 26433066936
Status : Answered
Chosen Option : 2

Q.10 दिए गए मुहावरे में रेखांकित अंश के स्थान पर सबसे उपयुक्त विकल्प कौन-सा होगा?
'आकाश से गिरा, जमीन पर अटका'

- Ans
- 1. आम
 - 2. अमरूद
 - 3. नारियल
 - 4. खजूर

Question ID : 26433066739
Status : Answered
Chosen Option : 4

Q.11 धरती माता की पूजा करनी चाहिए।
उपरोक्त वाक्य में रेखांकित शब्द के उचित पर्यायवाची शब्द का चयन विकल्पों में से कीजिए।

- Ans
- 1. दारा
 - 2. धीया
 - 3. वसुधा
 - 4. तनया

Question ID : 26433079619
Status : Answered
Chosen Option : 3

Q.12 निम्नलिखित में से किस मुहावरे का अर्थ 'जी दुखाना' है?

- Ans
- 1. छाती पर सांप लोटना
 - 2. छक्के छुड़ाना
 - 3. धज्जियां उड़ाना
 - 4. छाती पर मूंग दलना

Question ID : 26433066810
Status : Answered
Chosen Option : 4

Q.13 निम्न वाक्य में रेखांकित शब्द के विलोम से दिए गए वाक्य का रिक्त स्थान पूर्ण करें।
परिश्रमी व्यक्ति सदैव अपना लक्ष्य प्राप्त करते हैं और _____ व्यर्थ में समय नष्ट करते हैं।

- Ans
- 1. दुष्ट
 - 2. आलसी
 - 3. साहसी
 - 4. वीर

Question ID : 26433085006
Status : Answered
Chosen Option : 2

Q.14 निम्नलिखित वाक्य में त्रुटि पहचानें-
उसने चार मन चावल खरीदी।

- Ans 1. खरीदी
 2. चार
 3. उसने
 4. चावल

Question ID : 26433066820
Status : Answered
Chosen Option : 1

Q.15 निम्नलिखित में से कौन-सा शब्द संबंध कारक चिह्न नहीं है?

- Ans 1. हे
 2. की
 3. के
 4. का

Question ID : 26433085030
Status : Answered
Chosen Option : 1

Comprehension:

प्रश्न संख्या 1 से 5 तक के प्रश्नों का उत्तर दिए गए गद्यांश के आधार पर दिजिए।
तानाशाह जनमानस के 1. _____ को कोई महत्त्व नहीं देता। उसका निर्माण ऊपर से चलता है, किंतु यह लादा हुआ भार-स्वरूप निर्माण हो जाता है। सच्चा राष्ट्र-निर्माण वह है, जो जनमानस की तैयारी पर आधारित रहता है। योजनाएँ शासन और सत्ता बनाएँ, उन्हें कार्यरूप में परिणत भी करें; किंतु साथ ही उन्हें चिर-स्थायी बनाए रखने एवं पूर्णतया उद्देश्य-पूर्ति के लिए यह आवश्यक है कि जनमानस उन योजनाओं के लिए तैयार हो। स्पष्ट शब्दों में हम कह सकते हैं कि सत्ता राष्ट्र-निर्माण रूपी 2. _____ के लिए हल चलाने वाले किसान का कार्य तो कर सकती है, किंतु उसकी भूमि जनमानस को ही बनानी पड़ेगी। अन्यथा फसल या तो हवाई होगी या फिर गमलों की फसल होगी। इस फसल को किस-किस बुभुक्षित के सामने रखेगी शासन-सत्ता? यह प्रश्न 3. _____ में चक्कर ही काटा करता है। यह जनमानस किस प्रकार तैयार होता है? इस प्रश्न का उत्तर आपको समाचार-पत्र देगा। निर्माण-काल में यदि समाचार-पत्र सत्समालोचना से उतरकर ध्वंसात्मक हो गया तो निश्चित रूप से वह 4. _____ हो जाता है, किंतु सत्समालोचना निर्माण के लिए उतनी ही आवश्यक है, जितना निर्माण का समर्थन। जनमानस को तैयार करने के लिए समाचार-पत्र किस नीति को अपनाएँ? यह प्रश्न अपने में एक विवाद लिए हुए है; क्योंकि भिन्न-भिन्न समाचार-पत्र भिन्न-भिन्न नीतियों को उद्देश्य बनाकर 5. _____ होते हैं।

SubQuestion No : 16

Q.16 विकल्पों में से उपयुक्त शब्द के चयन द्वारा गद्यांश के रिक्त स्थान 1 की पूर्ति करें।

- Ans 1. सुषुप्ता
 2. जागरण
 3. आचरण
 4. स्वरूप

Question ID : 26433080845
Status : Answered
Chosen Option : 4

Comprehension:

प्रश्न संख्या 1 से 5 तक के प्रश्नों का उत्तर दिए गए गद्यांश के आधार पर दिजिए।
तानाशाह जनमानस के 1. _____ को कोई महत्त्व नहीं देता। उसका निर्माण ऊपर से चलता है, किंतु यह लादा हुआ भार-स्वरूप निर्माण हो जाता है। सच्चा राष्ट्र-निर्माण वह है, जो जनमानस की तैयारी पर आधारित रहता है। योजनाएँ शासन और सत्ता बनाएँ, उन्हें कार्यरूप में परिणत भी करें; किंतु साथ ही उन्हें चिर-स्थायी बनाए रखने एवं पूर्णतया उद्देश्य-पूर्ति के लिए यह आवश्यक है कि जनमानस उन योजनाओं के लिए तैयार हो। स्पष्ट शब्दों में हम कह सकते हैं कि सत्ता राष्ट्र-निर्माण रूपी 2. _____ के लिए हल चलाने वाले किसान का कार्य तो कर सकती है, किंतु उसकी भूमि जनमानस को ही बनानी पड़ेगी। अन्यथा फसल या तो हवाई होगी या फिर गमलों की फसल होगी। इस फसल को किस-किस बुभुक्षित के सामने रखेगी शासन-सत्ता? यह प्रश्न 3. _____ में चक्कर ही काटा करता है। यह जनमानस किस प्रकार तैयार होता है? इस प्रश्न का उत्तर आपको समाचार-पत्र देगा। निर्माण-काल में यदि समाचार-पत्र सत्समालोचना से उतरकर ध्वंसात्मक हो गया तो निश्चित रूप से वह 4. _____ हो जाता है, किंतु सत्समालोचना निर्माण के लिए उतनी ही आवश्यक है, जितना निर्माण का समर्थन। जनमानस को तैयार करने के लिए समाचार-पत्र किस नीति को अपनाएँ? यह प्रश्न अपने में एक विवाद लिए हुए है; क्योंकि भिन्न-भिन्न समाचार-पत्र भिन्न-भिन्न नीतियों को उद्देश्य बनाकर 5. _____ होते हैं।

SubQuestion No : 17

Q.17 विकल्पों में से उपयुक्त शब्द के चयन द्वारा गद्यांश के रिक्त स्थान 2 की पूर्ति करें।

- Ans 1. फसल
 2. परियोजना
 3. जंगल
 4. मशीन

Question ID : 26433080846

Status : Answered

Chosen Option : 1

Comprehension:

प्रश्न संख्या 1 से 5 तक के प्रश्नों का उत्तर दिए गए गद्यांश के आधार पर दिजिए।
तानाशाह जनमानस के 1. _____ को कोई महत्त्व नहीं देता। उसका निर्माण ऊपर से चलता है, किंतु यह लादा हुआ भार-स्वरूप निर्माण हो जाता है। सच्चा राष्ट्र-निर्माण वह है, जो जनमानस की तैयारी पर आधारित रहता है। योजनाएँ शासन और सत्ता बनाएँ, उन्हें कार्यरूप में परिणत भी करें; किंतु साथ ही उन्हें चिर-स्थायी बनाए रखने एवं पूर्णतया उद्देश्य-पूर्ति के लिए यह आवश्यक है कि जनमानस उन योजनाओं के लिए तैयार हो। स्पष्ट शब्दों में हम कह सकते हैं कि सत्ता राष्ट्र-निर्माण रूपी 2. _____ के लिए हल चलाने वाले किसान का कार्य तो कर सकती है, किंतु उसकी भूमि जनमानस को ही बनानी पड़ेगी। अन्यथा फसल या तो हवाई होगी या फिर गमलों की फसल होगी। इस फसल को किस-किस बुभुक्षित के सामने रखेगी शासन-सत्ता? यह प्रश्न 3. _____ में चक्कर ही काटा करता है। यह जनमानस किस प्रकार तैयार होता है? इस प्रश्न का उत्तर आपको समाचार-पत्र देगा। निर्माण-काल में यदि समाचार-पत्र सत्समालोचना से उतरकर ध्वंसात्मक हो गया तो निश्चित रूप से वह 4. _____ हो जाता है, किंतु सत्समालोचना निर्माण के लिए उतनी ही आवश्यक है, जितना निर्माण का समर्थन। जनमानस को तैयार करने के लिए समाचार-पत्र किस नीति को अपनाएँ? यह प्रश्न अपने में एक विवाद लिए हुए है; क्योंकि भिन्न-भिन्न समाचार-पत्र भिन्न-भिन्न नीतियों को उद्देश्य बनाकर 5. _____ होते हैं।

SubQuestion No : 18

Q.18 विकल्पों में से उपयुक्त शब्द के चयन द्वारा गद्यांश के रिक्त स्थान 3 की पूर्ति करें।

- Ans 1. मस्तिष्क
 2. चित्त
 3. कलेजे
 4. हृदय

Question ID : 26433080847

Status : Answered

Chosen Option : 1

Comprehension:

प्रश्न संख्या 1 से 5 तक के प्रश्नों का उत्तर दिए गए गद्यांश के आधार पर दिजिए।
तानाशाह जनमानस के 1. _____ को कोई महत्त्व नहीं देता। उसका निर्माण ऊपर से चलता है, किंतु यह लादा हुआ भार-स्वरूप निर्माण हो जाता है। सच्चा राष्ट्र-निर्माण वह है, जो जनमानस की तैयारी पर आधारित रहता है। योजनाएँ शासन और सत्ता बनाएँ, उन्हें कार्यरूप में परिणत भी करें; किंतु साथ ही उन्हें चिर-स्थायी बनाए रखने एवं पूर्णतया उद्देश्य-पूर्ति के लिए यह आवश्यक है कि जनमानस उन योजनाओं के लिए तैयार हो। स्पष्ट शब्दों में हम कह सकते हैं कि सत्ता राष्ट्र-निर्माण रूपी 2. _____ के लिए हल चलाने वाले किसान का कार्य तो कर सकती है, किंतु उसकी भूमि जनमानस को ही बनानी पड़ेगी। अन्यथा फसल या तो हवाई होगी या फिर गमलों की फसल होगी। इस फसल को किस-किस बुभुक्षित के सामने रखेगी शासन-सत्ता? यह प्रश्न 3. _____ में चक्कर ही काटा करता है। यह जनमानस किस प्रकार तैयार होता है? इस प्रश्न का उत्तर आपको समाचार-पत्र देगा। निर्माण-काल में यदि समाचार-पत्र सत्समालोचना से उतरकर ध्वंसात्मक हो गया तो निश्चित रूप से वह 4. _____ हो जाता है, किंतु सत्समालोचना निर्माण के लिए उतनी ही आवश्यक है, जितना निर्माण का समर्थन। जनमानस को तैयार करने के लिए समाचार-पत्र किस नीति को अपनाएँ? यह प्रश्न अपने में एक विवाद लिए हुए है; क्योंकि भिन्न-भिन्न समाचार-पत्र भिन्न-भिन्न नीतियों को उद्देश्य बनाकर 5. _____ होते हैं।

SubQuestion No : 19

Q.19 विकल्पों में से उपयुक्त शब्द के चयन द्वारा गद्यांश के रिक्त स्थान 4 की पूर्ति करें।

- Ans 1. सफल
 2. कर्मनिष्ठ
 3. कर्तव्यच्युत
 4. कर्मठ

Question ID : 26433080848

Status : Answered

Chosen Option : 4

Comprehension:

प्रश्न संख्या 1 से 5 तक के प्रश्नों का उत्तर दिए गए गद्यांश के आधार पर दिजिए।
तानाशाह जनमानस के 1. _____ को कोई महत्त्व नहीं देता। उसका निर्माण ऊपर से चलता है, किंतु यह लादा हुआ भार-स्वरूप निर्माण हो जाता है। सच्चा राष्ट्र-निर्माण वह है, जो जनमानस की तैयारी पर आधारित रहता है। योजनाएँ शासन और सत्ता बनाएँ, उन्हें कार्यरूप में परिणत भी करें; किंतु साथ ही उन्हें चिर-स्थायी बनाए रखने एवं पूर्णतया उद्देश्य-पूर्ति के लिए यह आवश्यक है कि जनमानस उन योजनाओं के लिए तैयार हो। स्पष्ट शब्दों में हम कह सकते हैं कि सत्ता राष्ट्र-निर्माण रूपी 2. _____ के लिए हल चलाने वाले किसान का कार्य तो कर सकती है, किंतु उसकी भूमि जनमानस को ही बनानी पड़ेगी। अन्यथा फसल या तो हवाई होगी या फिर गमलों की फसल होगी। इस फसल को किस-किस बुभुक्षित के सामने रखेगी शासन-सत्ता? यह प्रश्न 3. _____ में चक्कर ही काटा करता है। यह जनमानस किस प्रकार तैयार होता है? इस प्रश्न का उत्तर आपको समाचार-पत्र देगा। निर्माण-काल में यदि समाचार-पत्र सत्समालोचना से उतरकर ध्वंसात्मक हो गया तो निश्चित रूप से वह 4. _____ हो जाता है, किंतु सत्समालोचना निर्माण के लिए उतनी ही आवश्यक है, जितना निर्माण का समर्थन। जनमानस को तैयार करने के लिए समाचार-पत्र किस नीति को अपनाएँ? यह प्रश्न अपने में एक विवाद लिए हुए है; क्योंकि भिन्न-भिन्न समाचार-पत्र भिन्न-भिन्न नीतियों को उद्देश्य बनाकर 5. _____ होते हैं।

SubQuestion No : 20

Q.20 विकल्पों में से उपयुक्त शब्द के चयन द्वारा गद्यांश के रिक्त स्थान 5 की पूर्ति करें।

- Ans 1. रचित
 2. मुद्रित
 3. प्रकाशित
 4. प्रचारित

Question ID : 26433080849

Status : Answered

Chosen Option : 3