

Constable GD in CAPFs SSF Rifleman GD in Assam Rifles and Sepoy in NCB Examination 2022

Roll Number	www.govtjobsalert.in
Candidate Name	www.govtjobsalert.in
Venue Name	Shri Bhawani Niketan Institute of Technology and Management
Exam Date	06/02/2023
Exam Time	9:00 AM - 10:00 AM
Subject	Constable GD Examination 2022

Section : Part-A-General Intelligence and Reasoning

Q.1 'A + B' का अर्थ है कि 'A, B का पिता है'
'A - B' का अर्थ है कि 'A, B की पत्नी है'
'A × B' का अर्थ है कि 'A, B का भाई है'
'A ÷ B' का अर्थ है कि 'A, B की पुत्री है'
निम्नलिखित में से किस व्यंजक के अनुसार 'S, P की पत्नी है'?

- Ans 1. $S \times Q + R \times P$
 2. $P + Q \times R + S$
 3. $S + Q \times R + P$
 4. $S \times Q + R + P$

Question ID : 26433082760
Status : Answered
Chosen Option : 2

Q.2 एक निश्चित कूट भाषा में 'FIRST' को 79191921 और 'TIME' को 219145 के रूप में कूटबद्ध किया जाता है। उसी भाषा में 'BETTER' को किस प्रकार कूटबद्ध किया जाएगा?

- Ans 1. 352120618
 2. 252020518
 3. 262021519
 4. 362121619

Question ID : 26433074512
Status : Answered
Chosen Option : 4

Q.3 दिए गए विकल्पों में से उस अक्षर-समूह का चयन कीजिए जो निम्न श्रृंखला में प्रश्न-चिह्न (?) के स्थान पर आ सकता है।
KILT, OMPX, SQTB, WUXF, ?

- Ans 1. AYBJ
 2. AYBK
 3. AZBK
 4. AZBJ

Question ID : 26433079031
Status : Answered
Chosen Option : 1

Q.4 एक निश्चित कूट भाषा में, 'HEALTH' को 'CGJJVN' के रूप में लिखा जाता है और 'CHARGE' को 'CJEGIT' के रूप में लिखा जाता है। उसी भाषा में 'HOURSE' को किस प्रकार लिखा जाएगा?

- Ans 1. WQJGUT
 2. GNSSTF
 3. TNGDRQ
 4. VPIFTS

Question ID : 26433069640
Status : Answered
Chosen Option : 1

Q.5 निम्न श्रंखला में प्रश्न-चिह्न (?) के स्थान पर कौन सी संख्या आएगी?
18, 20, ?, 128, 514, 2572

- Ans 1. 42
 2. 40
 3. 22
 4. 80

Question ID : 26433068968
Status : Not Answered
Chosen Option : --

Q.6 दिए गए कथनों और निष्कर्षों को ध्यानपूर्वक पढ़ें। यह मानते हुए कि कथनों में दी गई जानकारी सत्य है, भले ही वह सामान्य रूप से ज्ञात तथ्यों से भिन्न प्रतीत होती हो, तब कीजिये कि दिए गए निष्कर्षों में से कौन सा/से कथनों का तार्किक रूप से अनुसरण करता है/करते हैं।

कथन:

सभी ऊंट फ्रैक्टल हैं।
कोई भी फ्रैक्टल ट्यूब नहीं है।
सभी पियानो ऊंट हैं।

निष्कर्ष:

- I. कुछ ट्यूब ऊंट हैं।
II. कोई भी पियानो ट्यूब नहीं है।

- Ans 1. केवल निष्कर्ष II अनुसरण करता है।
 2. न तो निष्कर्ष I और न ही II अनुसरण करता है।
 3. या तो निष्कर्ष I या II अनुसरण करता है।
 4. केवल निष्कर्ष I अनुसरण करता है।

Question ID : 26433089548
Status : Answered
Chosen Option : 1

Q.7 उस विकल्प का चयन करें जो तीसरे शब्द से उसी प्रकार संबंधित है जिस प्रकार दूसरा शब्द पहले शब्द से संबंधित है। (शब्दों को अर्थपूर्ण शब्दों के रूप में मानना है, और उन्हें शब्द में अक्षरों/व्यंजनों/स्वरों की संख्या के आधार पर एक-दूसरे से संबंधित नहीं करना है।)
अयस्क: धातु :: दूध : ?

- Ans
- 1. गाय
 - 2. ग्लास
 - 3. कपडा
 - 4. दही

Question ID : 26433082934

Status : Answered

Chosen Option : 4

Q.8 आमिर, बंटी, लेस्ली, प्रदीप, ईशान, फैज, गौरव और हरीश एक वर्गाकार मेज के चारों ओर मेज के केंद्र की ओर मुख करके बैठे हैं। उनमें से कुछ कोनों पर बैठे हैं, जबकि कुछ भुजाओं के ठीक मध्य में बैठे हैं। प्रदीप, गौरव के दाईं ओर तीसरे स्थान पर बैठा है। प्रदीप किसी एक कोने पर बैठा है। बंटी, फैज के दाईं ओर दूसरे स्थान पर बैठा है। फैज किसी भी कोने पर नहीं बैठा है। बंटी, प्रदीप के ठीक बगल में नहीं बैठा है। हरीश, आमिर के ठीक बगल में बैठा है। हरीश किसी भी भुजा के ठीक मध्य में नहीं बैठा है। हरीश और लेस्ली के बीच केवल एक व्यक्ति बैठा है। आमिर के दाईं ओर तीसरे स्थान पर कौन बैठा/बैठी है?

- Ans
- 1. लेस्ली
 - 2. बंटी
 - 3. गौरव
 - 4. ईशान

Question ID : 26433082292

Status : Answered

Chosen Option : 4

Q.9 उस विकल्प का चयन कीजिए जो तीसरे शब्द से उसी प्रकार संबंधित है जिस प्रकार दूसरा शब्द पहले शब्द से संबंधित है। (शब्दों को अर्थपूर्ण शब्दों के रूप में मानना है और उन्हें शब्द में अक्षरों/व्यंजनों/स्वरों की संख्या के आधार पर एक-दूसरे से संबंधित नहीं करना है।)
यहूदी : तौरात :: ईसाई : ?

- Ans
- 1. ओल्ड टेस्टामेंट
 - 2. बाइबिल
 - 3. न्यू टेस्टामेंट
 - 4. चर्च

Question ID : 26433067373

Status : Answered

Chosen Option : 2

Q.10 नीचे दिए गए समीकरण को गणितीय रूप से सही बनाने के लिए किन दो गणितीय चिह्नों को परस्पर बदलना चाहिए?

$$360 \times 8 - 320 + 72 \div 5 = 85$$

Ans 1. + और ÷

2. × और ÷

3. + और ×

4. - और ÷

Question ID : 264330114173

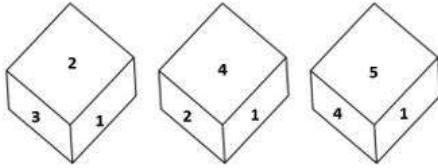
Status : Answered

Chosen Option : 2

Q.11

एक ही पासे की तीन अलग-अलग स्थितियाँ यहाँ दर्शायी गई हैं। '6' दर्शाने वाले

फलक के विपरीत वाले फलक पर आने वाली संख्या ज्ञात कीजिए।



Ans 1. 5

2. 1

3. 3

4. 2

Question ID : 26433082888

Status : Answered

Chosen Option : 2

Q.12 A, B, C, D, E, F और G एक पंक्ति में उत्तर की ओर मुख करके बैठे हैं। G, E के दाईं ओर ठीक बगल में बैठा है। G, पंक्ति के अंतिम दाएं सिरे पर बैठा है। A, E के बाईं ओर तीसरे स्थान पर बैठा है। B, A के दाईं ओर ठीक बगल में बैठा है। C, B के दाईं ओर बैठा है। D, A के बाईं ओर ठीक बगल में बैठा है। पंक्ति के अंतिम बाएं सिरे कौन बैठा है?

Ans 1. G

2. F

3. D

4. A

Question ID : 26433074624

Status : Answered

Chosen Option : 2

Q.13 निम्नलिखित में से कौन-सा अक्षर-समूह नीचे दी गई अक्षर-समूह श्रृंखला में प्रश्न-चिह्न (?) के स्थान पर आकर श्रृंखला को पूर्ण करेगा?
HSU, JQO, LOI, NME, ?

Ans 1. PKA

2. OKA

3. PLA

4. PKB


Question ID : 26433067275

Status : Answered

Chosen Option : 1


Q.14 उस आकृति का चयन कीजिए जो नीचे दी गई श्रृंखला में प्रश्न चिह्न (?) के

स्थान पर आएगी।




Ans

1.




2.



3.



4.



Question ID : 26433070418

Status : Answered

Chosen Option : 2

Q.15 निम्नलिखित में से कौन-सी संख्या दी गई श्रंखला में प्रश्न-चिह्न (?) के स्थान पर आएगी?
1995, 1895, 1695, 1395, ?

- Ans 1. 1195
 2. 995
 3. 1005
 4. 885

Question ID : 26433085352
Status : Answered
Chosen Option : 2

Q.16 किस विकल्प में निम्नलिखित शब्दों का वह क्रम दिया गया है, जिस क्रम में वे अंग्रेजी शब्दकोश में आते हैं।

- 1 Broken
- 2 Bread
- 3 Bridge
- 4 Bride
- 5 Broom

- Ans 1. 2,4,3,1,5
 2. 4,5,2,1,3
 3. 2,4,5,1,3
 4. 4,2,3,5,1

Question ID : 26433069256
Status : Answered
Chosen Option : 1

Q.17 उस विकल्प का चयन करें, जो पाँचवीं संख्या से उसी प्रकार संबंधित है, जिस प्रकार दूसरी संख्या, पहली संख्या से संबंधित है और चौथी संख्या, तीसरी संख्या से संबंधित है।
12 : 3 :: 28 : 7 :: 32 : ?

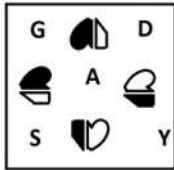
- Ans 1. 12
 2. 8
 3. 11
 4. 6

Question ID : 26433069420
Status : Answered
Chosen Option : 2

Q.18 दर्पण को दाईं ओर रखे जाने पर, निम्नलिखित में से कौन-सी आकृति दी गई प्रश्न आकृति

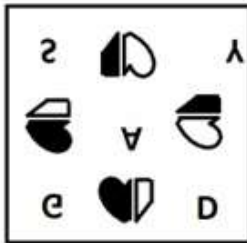
का सटीक दर्पण प्रतिबिम्ब होगी?

प्रश्न आकृति:

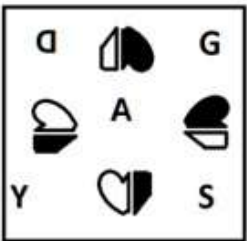


Ans

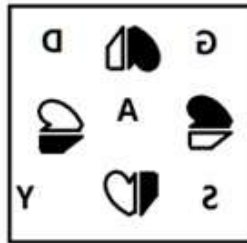
✗ 1.



✗ 2.



✓ 3.



✗ 4.

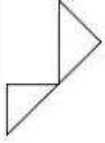


Question ID : 26433087084

Status : Answered

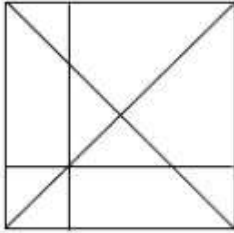
Chosen Option : 3

Q.19 उस विकल्प का चयन कीजिए, जिसमें प्रस्तुत चित्र अंतर्निहित है (घुमाना अनुमन्य नहीं है)

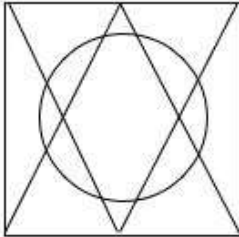


Ans

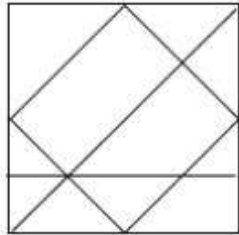
✓ 1.



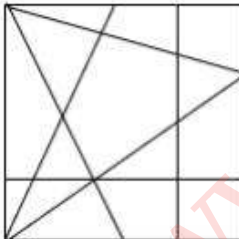
✗ 2.



✗ 3.



✗ 4.



Question ID : 26433076720

Status : Answered

Chosen Option : 1

Q.20 नीचे दिए गए समीकरण को गणितीय रूप से सही बनाने के लिए किन दो चिन्हों को परस्पर बदलना चाहिए?

$$24 \times 108 - 36 \div 6 + 18 = 84$$

Ans 1. - और +

2. + और -

3. + और ÷

4. + और ×

Question ID : 264330117550

Status : Answered

Chosen Option : 2

Section : Part-B-General Knowledge and General awareness

Q.1 भारत के संविधान का कौन सा अनुच्छेद 'अस्पृश्यता' की अवधारणा को समाप्त करता है और किसी भी रूप में इसके व्यवहार को निषिद्ध करता है?

Ans 1. 16

2. 15

3. 14

4. 17

Question ID : 264330115638

Status : Answered

Chosen Option : 4

Q.2 निम्नलिखित में से कौन भारत के स्वतंत्रता आंदोलन के "लाल-बाल-पाल" में से एक थे?

Ans 1. जवाहर लाल नेहरू

2. लाला लाजपत राय

3. चित्तरंजन दास

4. लाल बहादुर शास्त्री

Question ID : 26433089897

Status : Answered

Chosen Option : 2

Q.3 केवल _____ वर्ष से अधिक की आयु के भारतीय नागरिक ही किसी राज्य के राज्यपाल के पद पर नियुक्ति के लिए पात्र होते हैं।

Ans 1. 28

2. 25

3. 40

4. 35

Question ID : 26433086854

Status : Answered

Chosen Option : 4

Q.4 विषम का चयन करें। (संकेत: वस्त्र उद्योग)

- Ans
- 1. कपास उद्योग
 - 2. रेशम उद्योग
 - 3. विद्युत उद्योग
 - 4. ऊन उद्योग

Question ID : 264330115584
Status : Answered
Chosen Option : 3

Q.5 निम्नलिखित में से कौन सी भारत में मीठे पानी की झील नहीं है?

- Ans
- 1. लोकतक
 - 2. सांभर
 - 3. बड़ापानी
 - 4. भीमताल

Question ID : 264330116008
Status : Answered
Chosen Option : 2

Q.6 निम्नलिखित में से किस उपकरण का उपयोग हवा या गैस की आर्द्रता को मापने के लिए किया जाता है?

- Ans
- 1. वायुवेगमापी
 - 2. हाइड्रोमीटर
 - 3. तेजमापी
 - 4. आर्द्रतामापी

Question ID : 264330115140
Status : Answered
Chosen Option : 4

Q.7 राजस्थान का प्रसिद्ध पुष्कर मेला एक वर्ष में _____ आयोजित होता है।

- Ans
- 1. चार बार
 - 2. एक बार
 - 3. तीन बार
 - 4. दो बार

Question ID : 264330115078
Status : Answered
Chosen Option : 2

Q.8 युकी भांबरी निम्नलिखित में से किस खेल से संबंधित है?

- Ans
- 1. टेनिस
 - 2. क्रिकेट
 - 3. बैडमिंटन
 - 4. बेसबॉल

Question ID : 264330116297
Status : Answered
Chosen Option : 1

Q.9 मानव विकास सूचकांक 2021 के संदर्भ में भारत की रैंक क्या है?

- Ans 1. 112
 2. 132
 3. 124
 4. 154

Question ID : 26433092885
Status : Answered
Chosen Option : 4

Q.10 दर्शना झावेरी को किस नृत्य शैली के लिए पद्मश्री प्राप्त हुआ था?

- Ans 1. मणिपुरी
 2. लावणी
 3. कथकली
 4. कथक

Question ID : 264330115880
Status : Answered
Chosen Option : 1

Q.11 निम्नलिखित में से किसने मार्च 2022 में गोवा के मुख्यमंत्री के रूप में शपथ ली?

- Ans 1. दिगंबर कामत
 2. प्रमोद सावंत
 3. सुदिन ढवळीकर
 4. मनोहर पर्रिकर

Question ID : 264330114892
Status : Answered
Chosen Option : 2

Q.12 स्वतंत्रता के समय, भारत की लगभग 75 प्रतिशत जनसंख्या _____ पर निर्भर थी।

- Ans 1. कृषि
 2. सेवा
 3. विनिर्माण
 4. खनन

Question ID : 26433054623
Status : Answered
Chosen Option : 1

Q.13 वह प्रजाति जो खाली एवं नग्न क्षेत्र पर _____ करती है मूल अन्वेषक प्रजाति कहलाती है।

- Ans 1. अंदर रहती
 2. आक्रमण
 3. छोड़ती
 4. बचती

Question ID : 264330115256
Status : Answered
Chosen Option : 2

Q.14 राजगृह कई वर्षों तक मगध की राजधानी रहा। बाद में राजधानी को _____ में स्थानांतरित कर दिया गया।

- Ans 1. उज्जैन
 2. पाटलिपुत्र
 3. काँचीपुरम
 4. तक्षशिला

Question ID : 264330115438
Status : Answered
Chosen Option : 2

Q.15 एशियाई खेल 2018 के उद्घाटन समारोह के लिए भारत के/की ध्वजवाहक कौन थे/थी?

- Ans 1. रानी रामपाल
 2. संजीव राजपूत
 3. नीरज चोपड़ा
 4. दीपक कुमार

Question ID : 264330115907
Status : Answered
Chosen Option : 3

Q.16 एक लेखा वर्ष के दौरान घरेलू क्षेत्र के _____ उत्पादित अंतिम माल और सेवाओं का कुल मूल्य, घरेलू आय कहलाती है।

- Ans 1. बाहर
 2. दूर
 3. भीतर
 4. के अलावा अन्य

Question ID : 264330115337
Status : Answered
Chosen Option : 3

Q.17 निम्नलिखित में से कौन-सा लोक नृत्य तमिलनाडु राज्य से संबंधित है?

- Ans 1. घपाल
 2. भांड
 3. लावणी
 4. कुम्मी

Question ID : 26433086716
Status : Answered
Chosen Option : 4

Q.18 भारत की पांचवीं पंचवर्षीय योजना का मुख्य उद्देश्य क्या था?

- Ans 1. गरीबी उन्मूलन
 2. अपशिष्ट प्रबंधन
 3. वनोन्मूलन
 4. राज्यों का केंद्रीकरण

Question ID : 264330115358
Status : Answered
Chosen Option : 1

Q.19 24 जून 2022 को, इंटेलिजेंस ब्यूरो के निदेशक के रूप में पदभार किसने संभाला?

- Ans 1. दिनेश्वर शर्मा
 2. तपन कुमार डेका
 3. अरविंद कुमार
 4. राजीव जैन

Question ID : 264330115040
Status : Answered
Chosen Option : 4

Q.20 _____ को 2019 में पारित किया गया था और इसके फलस्वरूप भारत के प्रधान मंत्री और अन्य पूर्व प्रधानमंत्रियों की सुरक्षा प्रतिबंधित कर दी गई थी।

- Ans 1. विशेष सुरक्षा समूह (संशोधन) अधिनियम, 2019
 2. सुरक्षा संरक्षण समूह (संशोधन) अधिनियम, 2019
 3. आकस्मिक संरक्षण समूह (संशोधन) अधिनियम, 2019
 4. विशेष प्रोटोकॉल समूह (संशोधन) अधिनियम, 2019

Question ID : 264330116226
Status : Answered
Chosen Option : 4

Section : Part-C-Elementary Mathematics

Q.1 एक कार्य को P और Q, 8 दिनों में, Q और R, 12 दिनों में तथा R और P, 15 दिनों में पूरा कर सकते हैं। R अकेले कार्य को पूरा करने में कितने दिन लेगा?

- Ans 1. 80
 2. 90
 3. 50
 4. 70

Question ID : 26433064932
Status : Answered
Chosen Option : 1

Q.2 निम्नलिखित को हल कीजिए।

$$15.2625 - [5.2 + 0.25 \times (4.78 - 1.5 \times 3.02)]$$

- Ans
- 1. 1.8
 - 2. 11
 - 3. 9
 - 4. 10

Question ID : 26433076300
Status : Not Answered
Chosen Option : --

Q.3 अंकित मूल्य पर 10% की छूट देने के बाद, एक वाशिंग मशीन का मूल्य Rs.28,800 है। यदि कोई छूट नहीं दी जाती है, तो दुकानदार को 25% लाभ होता है। वाशिंग मशीन का क्रय मूल्य _____ है।

- Ans
- 1. Rs.26,600
 - 2. Rs.25,600
 - 3. Rs.26,200
 - 4. Rs.28,000

Question ID : 26433074960
Status : Answered
Chosen Option : 2

Q.4 दो ट्रेनें एक ही समय पर दो स्टेशनों से चलना शुरू करती हैं, और क्रमशः 40 km/h और 45 km/h की चाल से एक-दूसरे की ओर बढ़ती हैं। जब वे मिलती हैं, तो पता चलता है कि एक ट्रेन ने दूसरी से 20 km अधिक दूरी तय की है। दोनों स्टेशनों के बीच की दूरी ज्ञात कीजिए।

- Ans
- 1. 400 km
 - 2. 340 km
 - 3. 395 km
 - 4. 390 km

Question ID : 26433074967
Status : Not Answered
Chosen Option : --

Q.5 एक स्टोर '4 खरीदें 1 मुफ्त पाएँ' प्रमोशन स्कीम चला रहा है। शुद्ध छूट प्रतिशत क्या है?

- Ans
- 1. 15%
 - 2. 20%
 - 3. 18.5%
 - 4. 22%

Question ID : 26433065277
Status : Answered
Chosen Option : 2

Q.6 एक व्यापारी ₹85,000 मूल्य पर अंकित एक पुरानी कार खरीदता है और 20% और 10% की क्रमिक छूट प्राप्त करता है। वह इसकी मरम्मत पर ₹3,800 खर्च करता है और इसे 20% के लाभ पर बेच देता है। कार का विक्रय मूल्य ज्ञात कीजिए।

- Ans
- 1. ₹75,000
 - 2. ₹1,00,000
 - 3. ₹80,000
 - 4. ₹78,000

Question ID : 26433090287
Status : Answered
Chosen Option : 4

Q.7 एक शहर में 12000 मतदाता हैं। उनमें से 30% ने A को, 25% ने B को और 40% ने C को मत दिया। उन मतदाताओं की संख्या निर्धारित कीजिए, जिन्होंने इन तीन उम्मीदवारों में से किसी को भी मत नहीं दिया।

- Ans
- 1. 500
 - 2. 800
 - 3. 400
 - 4. 600

Question ID : 26433071303
Status : Answered
Chosen Option : 4

Q.8 आठ विद्यार्थियों के औसत अंक 7 हैं। यह पाया गया कि एक विद्यार्थी के अंक 6 के स्थान पर 10 लिए गए हैं। सही औसत ज्ञात कीजिए।

- Ans
- 1. 7
 - 2. 6.8
 - 3. 6.5
 - 4. 7.5

Question ID : 26433074563
Status : Answered
Chosen Option : 3

Q.9 x का ऐसा न्यूनतम मान ज्ञात कीजिए, ताकि 5 अंकीय संख्या 725x3, 9 से विभाज्य हो जाए।

- Ans
- 1. 1
 - 2. 6
 - 3. 0
 - 4. 3

Question ID : 26433074450
Status : Answered
Chosen Option : 1

Q.10 किसी वस्तु के 5% और 10% के लाभ पर विक्रय मूल्यों के बीच का नकद अंतर Rs.5 है। दोनों विक्रय मूल्यों का अनुपात ज्ञात कीजिए।

- Ans 1. 5 : 10
 2. 21 : 22
 3. 23 : 25
 4. 10 : 5

Question ID : 26433073008
Status : Answered
Chosen Option : 2

Q.11 यदि एक गोले का व्यास 14 cm है, तो उसका आयतन ज्ञात कीजिए। (मान लीजिए $\pi = \frac{22}{7}$).

- Ans 1. 2437.34 cm³
 2. 1537.23 cm³
 3. 1437.33 cm³
 4. 1637.13 cm³

Question ID : 26433075249
Status : Answered
Chosen Option : 3

Q.12 अनीश एक कार्य 88 दिनों में कर सकता है। युग यह कार्य 66 दिनों में कर सकता है। अनीश ने अकेले कार्य शुरू किया। कितने दिनों के बाद युग को उसके साथ जुड़ना चाहिए, ताकि कार्य 44 दिनों में समाप्त हो जाए?

- Ans 1. 11 दिन
 2. 13 दिन
 3. 15 दिन
 4. 12 दिन

Question ID : 264330116910
Status : Answered
Chosen Option : 1

Q.13 एक समबाहु त्रिभुज, जिसकी भुजा a इकाई है, को एक समषट्भुज बनाने के लिए शीर्षों पर काटा जाता है। षट्भुज का क्षेत्रफल कितना है?

- Ans 1. $\frac{2a^2}{\sqrt{3}}$ वर्ग इकाई
 2. $\frac{a^2}{2\sqrt{3}}$ वर्ग इकाई
 3. $\frac{3a^2}{2\sqrt{3}}$ वर्ग इकाई
 4. $\frac{2a^2}{3\sqrt{3}}$ वर्ग इकाई

Question ID : 26433071368
Status : Not Answered
Chosen Option : --

Q.14 A, B और C एक क्रिकेट टीम के तीन बल्लेबाज हैं। एक निश्चित मैच में उनके द्वारा बनाए गए रनों का अनुपात दिया गया है।

A : B = 6 : 7 और B : C = 5 : 6 है। मैच के अंत में, A, B और C ने मिलकर 856 रन बनाए। B ने कितने रन बनाए?

- Ans
- 1. 216
 - 2. 224
 - 3. 265
 - 4. 280

Question ID : 26433074992

Status : Answered

Chosen Option : 4

Q.15 एक निश्चित राशि पर 2 वर्ष के लिए 10% प्रतिवर्ष की दर से वार्षिक संयोजन पर चक्रवृद्धि ब्याज लिया जाता है। यदि मिश्रधन ₹605 हो जाता है, तो मूलधन (₹ में) _____ है।

- Ans
- 1. 650
 - 2. 600
 - 3. 500
 - 4. 550

Question ID : 26433075884

Status : Answered

Chosen Option : 3

Q.16 A, B और C ने क्रमशः ₹10,000, ₹15,000 और ₹20,000 का निवेश किया। एक वर्ष बाद A और B प्रत्येक ने ₹5,000 अधिक निवेश किए, जबकि C ने ₹10,000 निकाल लिए। शुरू होने के 3 वर्ष बाद A, B और C के लाभ का अनुपात क्या होगा?

- Ans
- 1. 8 : 8 : 11
 - 2. 2 : 2 : 4
 - 3. 8 : 11 : 8
 - 4. 2 : 3 : 4

Question ID : 26433082098

Status : Not Answered

Chosen Option : --

Q.17 एक ट्रेन विपरीत दिशा में समान चाल से चल रही दूसरी ट्रेन को 5 सेकंड में पार करती है। यदि पहली ट्रेन की चाल दोगुनी हो जाती है, और दूसरी ट्रेन की चाल आधी हो जाती है, तो दोनों ट्रेनों द्वारा एक दूसरे को पार करने में लिया गया समय _____ सेकंड होगा।

- Ans
- 1. 5
 - 2. 4
 - 3. 6
 - 4. 3

Question ID : 26433071263

Status : Not Answered

Chosen Option : --

Q.18 यदि किसी घन की प्रत्येक भुजा में 15% की वृद्धि की जाती है, तो घन के आयतन में कितने प्रतिशत वृद्धि होगी? (केवल पूर्णांक भाग पर विचार करें)

- Ans
- ✓ 1. 52%
 - ✗ 2. 35%
 - ✗ 3. 42%
 - ✗ 4. 45%

Question ID : 26433076264
Status : Not Answered
Chosen Option : --

Q.19 एक ट्रेन स्टेशन P से चलना आरंभ होती है, स्टेशनों Q, R, S, T से होती हुई चलती है और स्टेशन U तक पहुँचती है। यह स्टेशनों Q, R, S और T पर क्रमशः 2 मिनट, 4 मिनट, 6 मिनट और 8 मिनट के लिए रुकती है। P और U के बीच की दूरी 50 km है। स्टेशन P और U के बीच ट्रेन की औसत चाल (km/h में) क्या है, यदि यह स्टेशनों के बीच 70 मिनट के लिए एक समान चाल से चलती है?

- Ans
- ✓ 1. $\frac{100}{3}$
 - ✗ 2. $\frac{110}{3}$
 - ✗ 3. $\frac{100}{6}$
 - ✗ 4. $\frac{110}{4}$

Question ID : 26433085431
Status : Not Answered
Chosen Option : --

Q.20 ₹10,00,000 पर 3% वार्षिक की दर से वार्षिक चक्रवृद्धि आधार पर गणना किया गया चक्रवृद्धि ब्याज ₹92,727 है। इसके लिए अपेक्षित वर्षों की संख्या है:

- Ans
- ✗ 1. 4
 - ✓ 2. 3
 - ✗ 3. 5
 - ✗ 4. 2

Question ID : 26433091993
Status : Answered
Chosen Option : 2

Q.1 Select the most appropriate synonym of the given word.

Antagonist

- Ans 1. Adversary
 2. Evil
 3. Nerd
 4. Amiable

Question ID : 26433072346
Status : Not Answered
Chosen Option : --

Q.2 Select the most appropriate option to fill in the blank.

He used to _____ letters to his parents from Bangalore.

- Ans 1. wright
 2. rite
 3. right
 4. write

Question ID : 26433084713
Status : Not Answered
Chosen Option : --

Q.3 Select the most appropriate ANTONYM of the given word.

Diminish

- Ans 1. Futile
 2. Decline
 3. Empty
 4. Grow

Question ID : 26433090790
Status : Not Answered
Chosen Option : --

Q.4 Select the most appropriate option to fill in the blank.

History is not only a very vast subject _____ very intriguing.

- Ans 1. and
 2. besides
 3. also
 4. but also

Question ID : 26433071814
Status : Not Answered
Chosen Option : --

Q.5 Select the most appropriate option that can substitute the underlined segment in the given sentence. If there is no need to substitute it, select 'No substitution'.

Having a party is a bad idea because the neighbours are complain.

- Ans
- 1. No substitution
 - 2. because the neighbours will complain
 - 3. because the neighbours has been complaining
 - 4. because the neighbours had complained

Question ID : 264330101019
Status : Not Answered
Chosen Option : --

Q.6 Select the most appropriate meaning of the given idiom.

Be riding high

- Ans
- 1. To be very successful
 - 2. A drunken person
 - 3. A person who is a pilot
 - 4. To be in good mood

Question ID : 26433085200
Status : Not Answered
Chosen Option : --

Q.7 The sentence given below has one misspelt word. Spot the INCORRECTLY spelt word and select its correct spelling.

There are some venmous snakes which spit and hiss when they are cornered.

- Ans
- 1. Venomous
 - 2. Venomos
 - 3. Wenomos
 - 4. Wenomous

Question ID : 26433073559
Status : Not Answered
Chosen Option : --

Q.8 Select the most appropriate ANTONYM of the word given in the bracket to fill in the blank.

She looks like a young Sigourney Weaver and plays the (naïve) _____ heroine well, if a little too credulous for my taste.

- Ans
- 1. tricked
 - 2. childish
 - 3. careless
 - 4. sophisticated

Question ID : 26433072046
Status : Not Answered
Chosen Option : --

Q.9 Select the most appropriate **ANTONYM** of the given word.
Cruel

- Ans**
- 1. Unkind
 - 2. Sensible
 - 3. Derogatory
 - 4. Sympathetic

Question ID : **26433093033**
Status : **Not Answered**
Chosen Option : --

Q.10 Identify the correctly spelt sentence.

- Ans**
- 1. Egypt is famous for its piramid.
 - 2. Egypt is famous for its pyramid.
 - 3. Egypt is famous for its peramid.
 - 4. Egypt is famous for its peryamid.

Question ID : **26433072838**
Status : **Not Answered**
Chosen Option : --

Q.11 Select the most appropriate meaning of the given idiom.

A vicious cycle

- Ans**
- 1. Series of fortunate events
 - 2. When one problem causes another problem
 - 3. Cyclical relationships
 - 4. Victorious efforts

Question ID : **26433073998**
Status : **Not Answered**
Chosen Option : --

Q.12 The following sentence has been split into four segments. Identify the segment that contains a grammatical error.

Very few animals / was / as faithful as / the dog.

- Ans**
- 1. Very few animals
 - 2. was
 - 3. as faithful as
 - 4. the dog

Question ID : **26433088100**
Status : **Not Answered**
Chosen Option : --

Q.13 Select the most appropriate option that can substitute the underlined segment in the given sentence. If there is no need to substitute it, select 'No substitution required'.

Rising prices are causing great concern on Indian economists at the present moment.

- Ans
- 1. are causing a great concern to Indian economists
 - 2. are causing a great concern for Indian economists
 - 3. No substitution required
 - 4. are causing great concern to Indian economists

Question ID : 26433089401
Status : Not Answered
Chosen Option : --

Q.14 Complete the sentence with the most appropriate synonym of the word in brackets.

The _____ (glowing) fireflies lit up the field like city lights at night.

- Ans
- 1. devious
 - 2. furious
 - 3. gracious
 - 4. dazzling

Question ID : 26433089752
Status : Not Answered
Chosen Option : --

Q.15 Select the most appropriate synonym of the capitalised word in the given sentence.

We paid her a FLEETING visit before leaving the country.

- Ans
- 1. Final
 - 2. Brief
 - 3. Last
 - 4. Hasty

Question ID : 26433088206
Status : Not Answered
Chosen Option : --

Comprehension:

In the following passage, some words have been deleted. Read the passage carefully and select the most appropriate option to fill in each blank.

A puzzle is a game, challenge, or toy that (1)_____ one's inventiveness or knowledge. The solver of a puzzle is supposed to (2)_____ parts together logically to arrive at the correct or enjoyable solution to the challenge. Crossword puzzles, word-search puzzles, number puzzles, relational puzzles, and logic puzzles are examples of puzzle (3)_____. Puzzles are frequently developed for fun purposes, but they may also result from (4)_____ mathematical or logical challenges. In such circumstances, its answer might make an important (5)_____ to mathematical research.

SubQuestion No : 16**Q.16 Select the most appropriate option to fill in blank no. 1.**

- Ans 1. elicits
 2. tests
 3. invokes
 4. enjoys

Question ID : 26433058709

Status : Not Answered

Chosen Option : --

Comprehension:

In the following passage, some words have been deleted. Read the passage carefully and select the most appropriate option to fill in each blank.

A puzzle is a game, challenge, or toy that (1)_____ one's inventiveness or knowledge. The solver of a puzzle is supposed to (2)_____ parts together logically to arrive at the correct or enjoyable solution to the challenge. Crossword puzzles, word-search puzzles, number puzzles, relational puzzles, and logic puzzles are examples of puzzle (3)_____. Puzzles are frequently developed for fun purposes, but they may also result from (4)_____ mathematical or logical challenges. In such circumstances, its answer might make an important (5)_____ to mathematical research.

SubQuestion No : 17**Q.17 Select the most appropriate option to fill in blank no. 2.**

- Ans 1. paste
 2. fit
 3. manifest
 4. disintegrate

Question ID : 26433058710

Status : Not Answered

Chosen Option : --

Comprehension:

In the following passage, some words have been deleted. Read the passage carefully and select the most appropriate option to fill in each blank.

A puzzle is a game, challenge, or toy that (1)_____ one's inventiveness or knowledge. The solver of a puzzle is supposed to (2)_____ parts together logically to arrive at the correct or enjoyable solution to the challenge. Crossword puzzles, word-search puzzles, number puzzles, relational puzzles, and logic puzzles are examples of puzzle (3)_____. Puzzles are frequently developed for fun purposes, but they may also result from (4)_____ mathematical or logical challenges. In such circumstances, its answer might make an important (5)_____ to mathematical research.

SubQuestion No : 18

Q.18 Select the most appropriate option to fill in blank no. 3.

- Ans 1. attachment
 2. genres
 3. species
 4. aggregates

Question ID : 26433058711

Status : Not Answered

Chosen Option : --

Comprehension:

In the following passage, some words have been deleted. Read the passage carefully and select the most appropriate option to fill in each blank.

A puzzle is a game, challenge, or toy that (1)_____ one's inventiveness or knowledge. The solver of a puzzle is supposed to (2)_____ parts together logically to arrive at the correct or enjoyable solution to the challenge. Crossword puzzles, word-search puzzles, number puzzles, relational puzzles, and logic puzzles are examples of puzzle (3)_____. Puzzles are frequently developed for fun purposes, but they may also result from (4)_____ mathematical or logical challenges. In such circumstances, its answer might make an important (5)_____ to mathematical research.

SubQuestion No : 19

Q.19 Select the most appropriate option to fill in blank no. 4.

- Ans 1. subordinate
 2. servile
 3. significant
 4. subsidiary

Question ID : 26433058712

Status : Not Answered

Chosen Option : --

Comprehension:

In the following passage, some words have been deleted. Read the passage carefully and select the most appropriate option to fill in each blank.

A puzzle is a game, challenge, or toy that (1)_____ one's inventiveness or knowledge. The solver of a puzzle is supposed to (2)_____ parts together logically to arrive at the correct or enjoyable solution to the challenge. Crossword puzzles, word-search puzzles, number puzzles, relational puzzles, and logic puzzles are examples of puzzle (3)_____. Puzzles are frequently developed for fun purposes, but they may also result from (4)_____ mathematical or logical challenges. In such circumstances, its answer might make an important (5)_____ to mathematical research.

SubQuestion No : 20

Q.20 Select the most appropriate option to fill in blank no. 5.

- Ans 1. annexation
 2. deviation
 3. inspection
 4. addition

Question ID : 26433058713
Status : Not Answered
Chosen Option : --

Section : Part-D-Hindi

Q.1 निम्नलिखित में से कौन-सा वाक्य संज्ञा के प्रयोग की दृष्टि से सर्वाधिक उपयुक्त है?

- Ans 1. उन्नति के मार्ग में बड़े दुःख हैं।
 2. उन्नति के मार्ग में अनेक बाधाएँ हैं।
 3. उन्नति के मार्ग में बहुत संकट हैं।
 4. उन्नति के मार्ग में बहुत आपत्ति हैं।

Question ID : 26433066955
Status : Answered
Chosen Option : 2

Q.2 विकल्पों में दिया गया कौन सा शब्द निम्नलिखित वाक्य में रेखांकित शब्द का पर्यायवाची नहीं है?
मेरा घर मेरे विद्यालय के 'पास' ही है।

- Ans 1. निकट
 2. समीप
 3. दूर
 4. सन्निकट

Question ID : 26433091335
Status : Answered
Chosen Option : 3

Q.3 'कुत्ता रेंकता है।' इस वाक्य में रेखांकित शब्द के स्थान पर कौनसा शब्द उपयुक्त होगा?

- Ans
- 1. दहाड़ता
 - 2. भौंकता
 - 3. चिंघाड़ता
 - 4. रम्भाता

Question ID : 26433062200
Status : Answered
Chosen Option : 2

Q.4 'जिसे मापा न जा सके'
ऊपर दिए गए वाक्यांश के लिए एक शब्द क्या होगा?

- Ans
- 1. अपरिमेय
 - 2. सीमित
 - 3. परिमाण
 - 4. अप्रमेय

Question ID : 26433070053
Status : Answered
Chosen Option : 1

Q.5 दिए गए वाक्यों में से किस वाक्य में सही विभक्ति चिह्न का प्रयोग नहीं हुआ है?

- Ans
- 1. वह आज हम सब के लिए मिठाई लाया था।
 - 2. अमिताभ बच्चन की फिल्में अच्छी होती हैं।
 - 3. आंटी ने उसे एक डिब्बे में मिठाई दी थी।
 - 4. सारा तीलियों ने एक पेंटिंग बना रही है।

Question ID : 26433062863
Status : Answered
Chosen Option : 4

Q.6 निम्नलिखित में से शुद्ध वाक्य है-

- Ans
- 1. लाल रोशन देखकर सावधान हो जाओ।
 - 2. लाल रोशनी देखकर सावधान हो जाओ।
 - 3. लाल रोशनी देखकर शवधान हो जाओ।
 - 4. लाल रोशनी देखकर सावधान हो जाओ।

Question ID : 26433066844
Status : Answered
Chosen Option : 4

Q.7 'सुकृति' का अर्थ है, पुण्य। आप 'सुकृती' के अर्थ से निम्न वाक्य पूर्ति कीजिए।
व्यक्ति ही मोक्ष प्राप्त करता है।

- Ans 1. पुण्यवान
 2. पंडित
 3. अमीर
 4. सुंदर

Question ID : 26433063079
Status : Answered
Chosen Option : 1

Q.8 'अपना हाथ जगन्नाथ' मुहावरे का सही अर्थ क्या है?

- Ans 1. अपना काम खुद करने से भला होता है
 2. आशीर्वाद देना
 3. आशीर्वाद पाना
 4. किसी व्यक्ति के हाथ से सब अच्छा होना

Question ID : 26433062600
Status : Answered
Chosen Option : 1

Q.9 निम्नलिखित में से शुद्ध वाक्य है-

- Ans 1. सीता किताब पठित है।
 2. सीता किताब पढ़ती है।
 3. सीता कितब पढ़ती है।
 4. सीता किताब पढ़ है।

Question ID : 26433066837
Status : Answered
Chosen Option : 2

Q.10 निम्न वाक्य में रेखांकित अंश के स्थान पर सबसे उपयुक्त विकल्प इनमें से कौन-सा होगा?
दूध में जामुन डालने से दही बनता है।

- Ans 1. जामन
 2. इमली
 3. आम
 4. लीची

Question ID : 26433066872
Status : Answered
Chosen Option : 1

Q.11 'आँख में अंजन दांत में मंजन।' वाक्य में प्रयुक्त 'अंजन' शब्द निम्न में से किस अर्थ को व्यक्त करता है?

- Ans 1. रात
 2. काजल
 3. लेप
 4. माया

Question ID : 26433069729
Status : Answered
Chosen Option : 2

Q.12 'समाचार पत्रों में _____ के लिए सूचना प्रकाशित की जाती है।' उपरोक्त वाक्य के रिक्त स्थान की पूर्ति विकल्पों में से सर्वोचित शब्द के चयन द्वारा कीजिए।

- Ans 1. आपके
 2. सर्वसाधारण
 3. हमारे
 4. साधारण

Question ID : 26433080898
Status : Not Answered
Chosen Option : --

Q.13 दिए गये वाक्यांश के लिए सार्थक शब्द बताइए - 'जो गाँव से सम्बन्धित हो'

- Ans 1. ग्रमागत
 2. देशज
 3. ग्रामीण
 4. ग्रामसेवी

Question ID : 26433062593
Status : Answered
Chosen Option : 3

Q.14 निम्न समानार्थी शब्दों में से उचित शब्द का प्रयोग करके दिए गए वाक्य के रिक्त स्थान की पूर्ति करें—
विधानसभा का चुनाव एक निश्चित _____ के लिए होता है।

- Ans 1. समय
 2. अवधि
 3. काल
 4. युग

Question ID : 26433062931
Status : Answered
Chosen Option : 2

Q.15 'बंदर क्या जाने नीबू का स्वाद।' इस मुहावरे में कौन सा शब्द अशुद्ध है?

- Ans
- 1. क्या
 - 2. नीबू
 - 3. स्वाद
 - 4. बंदर

Question ID : 26433062816

Status : Answered

Chosen Option : 2

Comprehension:

निम्नलिखित गद्यांश में कुछ शब्दों को हटा दिया गया है। दिए गए विकल्पों की सहायता से रिक्त स्थानों की पूर्ति कीजिए। प्रत्येक संख्या के लिए सबसे उपयुक्त विकल्प का चयन करें।
सच्चा मित्र एक 1. _____ की तरह होता है। सच्चा मित्र खोज पाना 2. _____ काम नहीं है। ऐसा मित्र 3. _____ नहीं होता। उसे आपकी 4. _____ से कोई मोह नहीं होता। वह अपने मित्र की 5. _____ को किसी के सामने उजागर नहीं करता।

SubQuestion No : 16

Q.16 रिक्त स्थान 1 की पूर्ति के लिए सबसे उपयुक्त विकल्प का चयन करें।

- Ans
- 1. सोना
 - 2. मंडन
 - 3. रूपए
 - 4. खजाने

Question ID : 264330110849

Status : Answered

Chosen Option : 4

Comprehension:

निम्नलिखित गद्यांश में कुछ शब्दों को हटा दिया गया है। दिए गए विकल्पों की सहायता से रिक्त स्थानों की पूर्ति कीजिए। प्रत्येक संख्या के लिए सबसे उपयुक्त विकल्प का चयन करें।
सच्चा मित्र एक 1. _____ की तरह होता है। सच्चा मित्र खोज पाना 2. _____ काम नहीं है। ऐसा मित्र 3. _____ नहीं होता। उसे आपकी 4. _____ से कोई मोह नहीं होता। वह अपने मित्र की 5. _____ को किसी के सामने उजागर नहीं करता।

SubQuestion No : 17

Q.17 रिक्त स्थान 2 की पूर्ति के लिए सबसे उपयुक्त विकल्प का चयन करें।

- Ans
- 1. विकट
 - 2. सरल
 - 3. दुर्बोध
 - 4. कठिन

Question ID : 264330110850

Status : Answered

Chosen Option : 2

Comprehension:

निम्नलिखित गद्यांश में कुछ शब्दों को हटा दिया गया है। दिए गए विकल्पों की सहायता से रिक्त स्थानों की पूर्ति कीजिए। प्रत्येक संख्या के लिए सबसे उपयुक्त विकल्प का चयन करें।
सच्चा मित्र एक 1. _____ की तरह होता है। सच्चा मित्र खोज पाना 2. _____ काम नहीं है। ऐसा मित्र 3. _____ नहीं होता। उसे आपकी 4. _____ से कोई मोह नहीं होता। वह अपने मित्र की 5. _____ को किसी के सामने उजागर नहीं करता।

SubQuestion No : 18

Q.18 रिक्त स्थान 3 की पूर्ति के लिए सबसे उपयुक्त विकल्प का चयन करें।

- Ans 1. स्वार्थी
 2. परमार्थ
 3. सामान्य
 4. प्रयोजन

Question ID : 264330110851
Status : Answered
Chosen Option : 1

Comprehension:

निम्नलिखित गद्यांश में कुछ शब्दों को हटा दिया गया है। दिए गए विकल्पों की सहायता से रिक्त स्थानों की पूर्ति कीजिए। प्रत्येक संख्या के लिए सबसे उपयुक्त विकल्प का चयन करें।
सच्चा मित्र एक 1. _____ की तरह होता है। सच्चा मित्र खोज पाना 2. _____ काम नहीं है। ऐसा मित्र 3. _____ नहीं होता। उसे आपकी 4. _____ से कोई मोह नहीं होता। वह अपने मित्र की 5. _____ को किसी के सामने उजागर नहीं करता।

SubQuestion No : 19

Q.19 रिक्त स्थान 4 की पूर्ति के लिए सबसे उपयुक्त विकल्प का चयन करें।

- Ans 1. उदारता
 2. धन-दौलत
 3. नाकामयाबी
 4. प्रसिद्धि

Question ID : 264330110852
Status : Answered
Chosen Option : 2

Comprehension:

निम्नलिखित गद्यांश में कुछ शब्दों को हटा दिया गया है। दिए गए विकल्पों की सहायता से रिक्त स्थानों की पूर्ति कीजिए। प्रत्येक संख्या के लिए सबसे उपयुक्त विकल्प का चयन करें।
सच्चा मित्र एक 1. _____ की तरह होता है। सच्चा मित्र खोज पाना 2. _____ काम नहीं है। ऐसा मित्र 3. _____ नहीं होता। उसे आपकी 4. _____ से कोई मोह नहीं होता। वह अपने मित्र की 5. _____ को किसी के सामने उजागर नहीं करता।

SubQuestion No : 20

Q.20 रिक्त स्थान 5 की पूर्ति के लिए सबसे उपयुक्त विकल्प का चयन करें।

- Ans 1. लोकप्रियता
 2. कामयाबी
 3. कमजोरी
 4. गुमनामी

Question ID : 264330110853
Status : Answered
Chosen Option : 3