

# Constable GD in CAPFs SSF Rifleman GD in Assam Rifles and Sepoy in NCB Examination 2022

Roll Number	<a href="http://www.govtjobsalert.in">www.govtjobsalert.in</a>
Candidate Name	<a href="http://www.govtjobsalert.in">www.govtjobsalert.in</a>
Venue Name	Thirumala Education Academy
Exam Date	10/01/2023
Exam Time	9:00 AM - 10:00 AM
Subject	Constable GD Examination 2022

## Section : Part-A-General Intelligence and Reasoning

Q.1 उस विकल्प का चयन कीजिए जो पांचवें अक्षर-समूह से उसी प्रकार संबंधित है जिस प्रकार दूसरा अक्षर-समूह पहले अक्षर-समूह से संबंधित है और चौथा अक्षर-समूह तीसरे अक्षर-समूह से संबंधित है।  
YOUR: XPEJ :: TONE: SPLW :: BANK: ?

- Ans
- 1. CBOL
  - 2. ABLQ
  - 3. YZMP
  - 4. XYOP

Question ID : 26433057494

Status : Answered

Chosen Option : 2

Q.2 उस विकल्प का चयन कीजिए जो पांचवें अक्षर-समूह से उसी प्रकार संबंधित है जिस प्रकार दूसरा अक्षर-समूह पहले अक्षर-समूह से संबंधित है और चौथा अक्षर-समूह तीसरे अक्षर-समूह से संबंधित है।  
COMFORT : OCFMTRO :: CONTROL : OCTNLOR :: DIGITAL : ?

- Ans
- 1. GITALDI
  - 2. GIDLATI
  - 3. LATIGID
  - 4. IDIGLAT

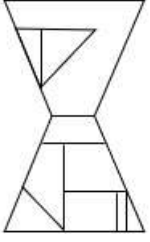
Question ID : 26433069633

Status : Answered

Chosen Option : 4

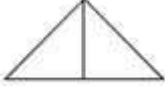
Q.3 वह विकल्प चित्र चुनिए, जो प्रस्तुत चित्र में अंतर्निहित है। (घुमाना अनुमन्य नहीं है)

है)



Ans

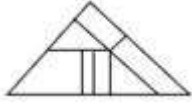
✗ 1.



✓ 2.



✗ 3.



✗ 4.



Question ID : 26433069337

Status : Answered

Chosen Option : 2

Q.4 किस विकल्प में निम्नलिखित शब्दों का वह क्रम दिया गया है, जिस क्रम में वे अंग्रेजी शब्दकोश में आते हैं?

1 manner

2 manage

3 masculine

4 magic

5 matter

Ans ✓ 1. 4,2,1,3,5

✗ 2. 1,4,3,2,5

✗ 3. 4,1,2,5,3

✗ 4. 1,2,4,3,5

Question ID : 26433069285

Status : Answered

Chosen Option : 1

Q.5 छह व्यक्ति एक वृत्ताकार मेज के परितः केंद्र की ओर मुख करके बैठे हैं। काया, जया और तारा के ठीक बगल में है। सोनल, प्रिया और स्वाति के ठीक बगल में है। सोनल, प्रिया के दाईं ओर ठीक बगल में बैठी है, तारा और स्वाति एक दूसरे के ठीक बगल में नहीं बैठी हैं। प्रिया के बाईं ओर ठीक बगल में कौन बैठी है?

- Ans
- 1. स्वाति
  - 2. जया
  - 3. काया
  - 4. तारा

Question ID : 26433069665

Status : Answered

Chosen Option : 4

Q.6 नीचे दिए गए समीकरण को गणितीय रूप से सही बनाने के लिए किन दो चिन्हों को परस्पर बदलना चाहिए?

$$72 \times 6 + 18 \div 5 - 9 = 93$$

- Ans
- 1. ÷ और -
  - 2. × और +
  - 3. + और -
  - 4. × और ÷

Question ID : 264330117495

Status : Answered

Chosen Option : 4

Q.7 'A + B' का अर्थ है 'B, A का पिता है'  
'A # B' का अर्थ है 'B, A की बहन है'  
'A @ B' का अर्थ है 'B, A का भाई है'  
यदि A @ B # C + D + E है, तो E, A से किस प्रकार संबंधित है?

- Ans
- 1. दादा
  - 2. पिता
  - 3. चाचा/ताऊ
  - 4. पुत्र

Question ID : 26433068535

Status : Answered

Chosen Option : 1

Q.8 यदि श्रृंखला जारी रखनी है तो कौन-सी आकृति प्रश्न चिह्न (?) के स्थान पर

आएगी?

↑ O 2 B Δ	O 2 B Δ ↑	Δ ↑ U O 2	↑ U O 2 Δ	?
-----------	-----------	-----------	-----------	---

Ans

✓ 1. 2 Δ ☆ ↑ U

✗ 2. Δ 2 F U ↑

✗ 3. Δ 2 O U ↑

✗ 4. 2 Δ O ↑ U

Question ID : 26433076637

Status : Answered

Chosen Option : 4

Q.9 उस समुच्चय का चयन करें, जिसमें संख्याएँ उसी प्रकार संबंधित हैं, जिस प्रकार निम्नलिखित समुच्चयों की संख्याएँ हैं।  
(नोट: संख्याओं को उसके घटक अंकों में विभाजित किए बिना, पूर्ण संख्याओं पर ही गणितीय संक्रियाएँ की जानी चाहिए। जैसे 13 - मान लीजिए 13 पर गणितीय संक्रियाएँ जैसे कि 13 में जोड़ना/घटाना/गुणा करना आदि किया जा सकता है। 13 को 1 और 3 में तोड़कर और फिर 1 और 3 पर गणितीय संक्रियाएँ करने की अनुमति नहीं है।)  
(20, 30, 450)  
(35, 25, 540)

- Ans  1. (7, 18, 225)  
 2. (20, 9, 297)  
 3. (8, 15, 227)  
 4. (9, 17, 264)

Question ID : 26433076487

Status : Answered

Chosen Option : 1

Q.10 एक निश्चित कूट भाषा में, 'cart light' को 'straw handle' के रूप में कूटबद्ध किया जाता है, 'plug light' को 'toes handle' के रूप में कूटबद्ध किया जाता है और 'cart plug' को 'toes straw' के रूप में कूटबद्ध किया जाता है। 'cart' के लिए कूट शब्द क्या होगा?

- Ans  1. handle  
 2. straw  
 3. toes  
 4. plug

Question ID : 26433079367

Status : Answered

Chosen Option : 2

Q.11 कौन-सा अक्षर-समूह दी गई श्रृंखला में प्रश्नचिह्न (?) के स्थान पर आकर श्रृंखला को पूर्ण करेगा?  
ZACF, WXZC, ?, QRTW, NOQT

- Ans  1. XUVZ  
 2. TUWZ  
 3. XUYZ  
 4. VWZC

Question ID : 26433067712

Status : Answered

Chosen Option : 2

Q.12 निम्नलिखित में से कौन-सी संख्या दी गई श्रृंखला में प्रश्नचिह्न (?) के स्थान पर आएगी?  
33, 47, 44, 58, 56, 70, 69, ?

- Ans  1. 80  
 2. 83  
 3. 84  
 4. 82

Question ID : 26433067879

Status : Answered

Chosen Option : 2

Q.13 एक निश्चित कूट भाषा में, FORCE को 47 के रूप में कूटबद्ध किया जाता और GREEN को 49 के रूप में कूटबद्ध किया जाता है। उसी भाषा में FLAVOUR को किस प्रकार कूटबद्ध किया जाएगा?

- Ans  1. 95  
 2. 100  
 3. 98  
 4. 92

Question ID : 26433067995

Status : Answered

Chosen Option : 1

Q.14 नीचे दिए गए समीकरण को गणितीय रूप से सही बनाने के लिए किन दो गणितीय चिह्नों को परस्पर बदलना चाहिए?

$$42 + 16 \div 7 - 36 \times 16 = 76$$

- Ans  1. + और -  
 2. ÷ और ×  
 3. × और +  
 4. ÷ और +

Question ID : 264330114197

Status : Answered

Chosen Option : 3

Q.15 इस प्रश्न में तीन कथन दिए गए हैं, जिसके बाद दो निष्कर्ष I और II दिए गए हैं। कथनों को सत्य मानते हुए, भले ही वे सर्वज्ञात तथ्यों से भिन्न प्रतीत होते हों, निर्णय कीजिए कि कौन-सा/से निष्कर्ष कथनों का तार्किक रूप से अनुसरण करता है/अनुसरण करते हैं।

कथन:

सभी बोतलें बैग हैं।

कुछ बैग पेंसिलें हैं।

कुछ पेंसिलें शार्पनर हैं।

निष्कर्ष:

I. कुछ शार्पनर बोतलें हैं।

II. कुछ बोतलें पेंसिलें हैं।

- Ans  1. निष्कर्ष I और II दोनों अनुसरण करते हैं।  
 2. केवल निष्कर्ष II अनुसरण करता है।  
 3. न तो निष्कर्ष I और न ही II अनुसरण करता है।  
 4. केवल निष्कर्ष I अनुसरण करता है।

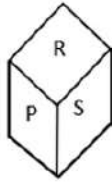
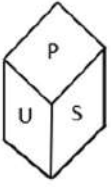
Question ID : 26433070393

Status : Answered

Chosen Option : 3

Q.16 एक ही पासे की दो अलग-अलग स्थितियों को दर्शाया गया है जिस पर P से U अक्षर बने है। 'U' दर्शाने

वाले फलक के विपरीत फलक पर बना अक्षर ज्ञात कीजिए।



- Ans
- 1. Q
  - 2. T
  - 3. S
  - 4. R

Question ID : 26433085526

Status : Answered

Chosen Option : 4

Q.17 छः सहकर्मी - A, B, C, D, E और F, एक साथ एक वृत्ताकार मेज पर वृत्त के केंद्र की ओर मुख करके एक दूसरे से समान दूरी पर बैठकर भोजन कर रहे हैं। D, E और B के ठीक बगल में बैठा है, जबकि C, A और F के ठीक बगल में बैठा है। यदि A, E के बाईं ओर ठीक बगल में बैठा है, तो C के बाईं ओर ठीक बगल में कौन बैठा है?

- Ans
- 1. B
  - 2. F
  - 3. D
  - 4. E

Question ID : 26433079052

Status : Answered

Chosen Option : 2

Q.18 निम्नलिखित में से कौन-सी संख्या दी गई श्रृंखला में प्रश्न चिह्न (?) के स्थान पर आएगी?  
1, 6, 31, 156, ?, 3906

- Ans
- 1. 2125
  - 2. 781
  - 3. 1225
  - 4. 985

Question ID : 26433070219

Status : Answered

Chosen Option : 2

Q.19 दर्पण को नीचे दिए गए चित्र के अनुसार MN पर रखे जाने पर दी गई आकृति

का दर्पण में निर्मित सही प्रतिबिंब चयनित कीजिए।

C L k v 3 8 z

M \_\_\_\_\_ N

- Ans
- ✗ 1. C T K ^ E 8 z
  - ✗ 2. C T K ^ 3 8 z
  - ✓ 3. C T K ^ 3 8 z
  - ✗ 4. z 8 E v k j c

Question ID : 26433080804

Status : Answered

Chosen Option : 3

Q.20 निम्नलिखित में से कौन-सा पद दी गई श्रृंखला में प्रश्न-चिह्न (?) के स्थान पर आएगा?  
EZf, GXH, KTL, QNR, ?

- Ans
- ✗ 1. YGY
  - ✗ 2. XFZ
  - ✗ 3. WEY
  - ✓ 4. YFZ

Question ID : 26433068304

Status : Answered

Chosen Option : 1

Section : Part-B-General Knowledge and General awareness

Q.1 निम्नलिखित में से कौन सा महाराष्ट्र का धन्यवादज्ञापन (thanksgiving) उत्सव है, जहाँ बैलों को सम्मानित किया जाता है क्योंकि उन्हें खेती के लिए अत्यावश्यक माना जाता है?

- Ans
- ✗ 1. काला घोड़ा कला महोत्सव
  - ✗ 2. गुड़ी पड़वा
  - ✗ 3. मकर संक्रांति
  - ✓ 4. पोला महोत्सव

Question ID : 264330106205

Status : Answered

Chosen Option : 2



Q.2 मॉस और मार्केशिया, निम्नलिखित में से किस के अंतर्गत आते हैं?

- Ans
- 1. शैवाल
  - 2. अनावृतबीजी
  - 3. ब्रायोफ़ाइटा
  - 4. टेरेडोफ़ाइटा

Question ID : 264330115210

Status : Not Answered

Chosen Option : --

Q.3 जागोई भारतीय शास्त्रीय नृत्य के निम्नलिखित में से किस नृत्य रूप की एक प्रमुख शैली है?

- Ans
- 1. मणिपुरी
  - 2. सत्रीया
  - 3. ओडिसी
  - 4. कथक

Question ID : 26433070839

Status : Not Answered

Chosen Option : --

Q.4 जीवाश्म ईंधन के जलने से होने वाले प्रदूषण को कम करने के तरीके की पहचान करें।

- Ans
- 1. गुप्त ऊष्मा को कम करके
  - 2. कार्बन अणुओं की संख्या में वृद्धि करके
  - 3. दहन प्रक्रिया की दक्षता में वृद्धि करके
  - 4. प्रदाह का तापमान कम करके

Question ID : 26433096234

Status : Not Answered

Chosen Option : --

Q.5 निम्न में से क्या सातवीं पंचवर्षीय योजना के मुख्य उद्देश्यों में से एक था?

- Ans
- 1. जीवन स्तर में सुधार
  - 2. खाद्यान्नों के उत्पादन में वृद्धि
  - 3. अवसंरचना में वृद्धि
  - 4. गरीबी उन्मूलन

Question ID : 264330116126

Status : Not Answered

Chosen Option : --

Q.6 किसने सितंबर 2022 में कोच्चि में भारत के पहले स्वदेशी एयरक्राफ्ट कैरियर आईएनएस विक्रान्त को प्रमाणित (कमीशंड) किया?

- Ans
- 1. अमित शाह
  - 2. नरेंद्र मोदी
  - 3. ज्योतिरादित्य सिंधिया
  - 4. राजनाथ सिंह

Question ID : 264330114916  
Status : Answered  
Chosen Option : 2

Q.7 \_\_\_\_\_ वस्त्र मंत्रालय के अंतर्गत आता/आती है।

- Ans
- 1. MPLADS (संसद सदस्य स्थानीय क्षेत्र विकास योजना)
  - 2. अम्बेकर सोशल इनोवेशन एंड इनक्यूबेशन मिशन
  - 3. समर्थ योजना
  - 4. मर्चेडाइज एक्सपोर्ट फ्रॉम इंडिया स्कीम

Question ID : 264330116173  
Status : Not Answered  
Chosen Option : --

Q.8 निम्नलिखित में से किस मौर्य राजा के शासनकाल में कलिंग युद्ध लड़ा गया था?

- Ans
- 1. दशरथ
  - 2. चंद्रगुप्त
  - 3. बिंदुसार
  - 4. अशोक

Question ID : 264330115454  
Status : Answered  
Chosen Option : 4

Q.9 भारत के राष्ट्रपति का चुनाव \_\_\_\_\_ द्वारा किया जाता है।

- Ans
- 1. केवल राज्यसभा के सदस्यों
  - 2. संसद के दोनों सदनों के निर्वाचित सदस्यों और राज्य विधान सभाओं
  - 3. केवल राज्य विधानसभाओं के सदस्यों
  - 4. केवल संसद के दोनों सदनों के निर्वाचित सदस्यों

Question ID : 264330115663  
Status : Answered  
Chosen Option : 2

Q.10 तपन कुमार पटनायक ने किस नृत्य शैली में संगीत नाटक अकादमी पुरस्कार जीता है?

- Ans
- 1. कुचिपुड़ी
  - 2. ओडिसी
  - 3. सत्रीया
  - 4. छऊ

Question ID : 264330115827  
Status : Not Answered  
Chosen Option : --

Q.11 महात्मा गांधी (नई) शृंखला के 2000 रु के बैंकनोट के पृष्ठभाग पर \_\_\_\_\_ का चित्र है।

- Ans
- 1. लाल किला
  - 2. मंगलयान
  - 3. सूर्य मंदिर, कोणार्क
  - 4. रानी की वाव

Question ID : 264330115382  
Status : Answered  
Chosen Option : 2

Q.12 भारतीय संविधान के मूल लेख में \_\_\_\_\_ अनुच्छेद थे।

- Ans
- 1. 395
  - 2. 440
  - 3. 386
  - 4. 376

Question ID : 264330115691  
Status : Answered  
Chosen Option : 1

Q.13 आपातकाल के दौरान किन मौलिक अधिकारों को निलंबित नहीं किया जा सकता है?

- Ans
- 1. अनुच्छेद 16-17
  - 2. अनुच्छेद 14-15
  - 3. अनुच्छेद 20-21
  - 4. अनुच्छेद 18-19

Question ID : 264330115617  
Status : Answered  
Chosen Option : 3

Q.14 1958 में डोवर से कैलिस तक इंग्लिश चैनल को पार करने वाले पहले भारतीय कौन थे, जो 1966 में एक कैलेंडर वर्ष में पांच महाद्वीपों के महासागरों में तैराकी करने वाले एकमात्र व्यक्ति भी थे?

- Ans
- 1. मिहिर सेन
  - 2. खशाबा जाधव
  - 3. अजीत पटेल
  - 4. रामनाथन कृष्णन

Question ID : 26433089924  
Status : Answered  
Chosen Option : 1

Q.15 कौन-सी अक्षांश रेखा भारत के मध्य से होकर गुजरती है जो देश की जलवायु को प्रभावित करती है?

- Ans
- 1. मकर रेखा
  - 2. भूमध्य रेखा
  - 3. अंटार्कटिक वृत्त
  - 4. कर्क रेखा

Question ID : 264330115984  
Status : Answered  
Chosen Option : 4

Q.16 ऐसी राजस्व प्राप्तियां जिनका सरकार पर दावा नहीं होता है, क्या कहलाती हैं?

- Ans
- 1. गैर प्रतिदेय
  - 2. पूंजीगत प्राप्तियां
  - 3. सुदृढ़ करने में सक्षम
  - 4. प्रतिदेय

Question ID : 264330115282  
Status : Not Answered  
Chosen Option : --

Q.17 2017-18 में विजय हजारे ट्रॉफी किस राज्य ने जीती थी?

- Ans
- 1. कर्नाटक
  - 2. महाराष्ट्र
  - 3. केरल
  - 4. उत्तर प्रदेश

Question ID : 264330116255  
Status : Not Answered  
Chosen Option : --

Q.18 अगस्त 2022 में, उत्तराखंड सरकार के "राज्य ब्रांड एंबेसडर" के रूप में किसे नियुक्त किया गया?

- Ans
- 1. रोहित शेटी
  - 2. अक्षय कुमार
  - 3. ऋषभ पंत
  - 4. दिनेश कार्तिक

Question ID : 264330114985

Status : Answered

Chosen Option : 3

Q.19 भारत में अरेबिका कॉफी कौन-से राज्य में उगाई जाती है?

- Ans
- 1. असम
  - 2. उत्तराखंड
  - 3. पश्चिम बंगाल
  - 4. कर्नाटक

Question ID : 264330115529

Status : Answered

Chosen Option : 4

Q.20 भारत में पहली संपूर्ण जनगणना कब की गई थी?

- Ans
- 1. 1887
  - 2. 1882
  - 3. 1880
  - 4. 1881

Question ID : 264330116036

Status : Answered

Chosen Option : 2

Section : Part-C-Elementary Mathematics

Q.1 एक व्यक्ति गंतव्य तक पहुँचने के लिए चार अलग-अलग रास्तों से साइकिल चलाता है। इस पूरी यात्रा के दौरान औसत गति ज्ञात कीजिए।

रास्ता	गति (km/h)	दूरी (km)
A	5	20
B	3	15
C	2	10
D	4	24

Ans  
✓ 1.  $3.45 \frac{\text{km}}{\text{hr}}$

✗ 2.  $4.5 \frac{\text{km}}{\text{hr}}$

✗ 3.  $5.5 \frac{\text{km}}{\text{hr}}$

✗ 4.  $2.45 \frac{\text{km}}{\text{hr}}$

Question ID : 26433076001

Status : Answered

Chosen Option : 1

Q.2 यदि  $(5x - 2y) : (x - 2y) = 9 : 17$  है, तो  $\frac{9x}{13y}$  का मान ज्ञात कीजिए।

Ans  
✓ 1.  $\frac{36}{247}$

✗ 2.  $\frac{151}{1731}$

✗ 3.  $\frac{144}{1001}$

✗ 4.  $\frac{72}{421}$

Question ID : 26433080030

Status : Answered

Chosen Option : 1

Q.3 एक डीलर ने एक वस्तु पर 72000 रुपए के अंकित मूल्य पर 20 प्रतिशत की छूट दी और 10 प्रतिशत की हानि व्यय की। अंकित मूल्य पर उसे कितनी छूट देनी चाहिए, जिससे उसे वस्तु पर 440 रुपए का लाभ हो?

- Ans
- 1. 10.5 प्रतिशत
  - 2. 8.5 प्रतिशत
  - 3. 11.5 प्रतिशत
  - 4. 9.5 प्रतिशत

Question ID : 264330116742

Status : Answered

Chosen Option : 1

Q.4 एक व्यक्ति की आय ₹95,000 है और उसका व्यय ₹75,000 है। यदि उसकी आय में 18% और व्यय में 12% की वृद्धि होती है, तो उसकी बचत में कितने प्रतिशत की वृद्धि होगी?

- Ans
- 1. 40.4%
  - 2. 40.6%
  - 3. 40.5%
  - 4. 40.8%

Question ID : 26433080161

Status : Answered

Chosen Option : 3

Q.5 दिव्या ने एक कार ₹ 3,50,000 में खरीदी और ₹ 4,35,000 में बेची। उसका लाभ प्रतिशत कितना है (एक दशमलव स्थान तक सही)?

- Ans
- 1. 21.5%
  - 2. 23.3%
  - 3. 24.3%
  - 4. 20.7%

Question ID : 26433075543

Status : Answered

Chosen Option : 3

Q.6 एक लम्ब वृत्तीय बेलन का व्यास 14 cm और ऊँचाई 2 cm है। इसके वक्र पृष्ठीय क्षेत्रफल और संपूर्ण पृष्ठीय क्षेत्रफल का योग ज्ञात कीजिए। ( $\pi = \frac{22}{7}$  का उपयोग कीजिए)

- Ans
- 1. 484 cm<sup>2</sup>
  - 2. 308 cm<sup>2</sup>
  - 3. 176 cm<sup>2</sup>
  - 4. 968 cm<sup>2</sup>

Question ID : 26433087416

Status : Answered

Chosen Option : 1

Q.7 एक शहर में भालुओं की जनसंख्या प्रति वर्ष 3% की दर से बढ़ रही है। यदि शहर में भालुओं की वर्तमान जनसंख्या 21,218 है, तो दो वर्ष पूर्व भालुओं की जनसंख्या कितनी थी?

- Ans
- 1. 18500
  - 2. 19000
  - 3. 20000
  - 4. 18000

Question ID : 26433075412

Status : Answered

Chosen Option : 2

Q.8 X ने कुल 180 रुपये में 40 पेंसिल खरीदी और 180 रुपये में 2 दर्जन पेन खरीदे। एक पेन और एक पेंसिल के मूल्य के बीच का अंतर ज्ञात करें।

- Ans
- 1. 2.5 रुपए
  - 2. 3.5 रुपए
  - 3. 3 रुपए
  - 4. 2 रुपए

Question ID : 264330116689

Status : Answered

Chosen Option : 3

Q.9 A अपने वेतन का 45% भोजन पर खर्च करता है और अपने वेतन का 5% वृद्धाश्रम में दान कर देता है। वह भोजन तथा वृद्धाश्रम पर कुल Rs.28,500 खर्च करता है, तो A की आय क्या होगी?

- Ans
- 1. Rs. 52,000
  - 2. Rs. 57,000
  - 3. Rs. 55,000
  - 4. Rs. 50,000

Question ID : 26433081016

Status : Answered

Chosen Option : 2

Q.10 A एक पेंटिंग को 12 दिनों में पेंट कर सकता है। B उसी को 8 दिनों में पेंट कर सकता है। C उसी को 10 दिनों में पेंट कर सकता है। दिनों की संख्या (लगभग) ज्ञात करें जिनमें A द्वारा पेंटिंग पेंट की जा सकती है, यदि B और C दोनों साथ मिलकर एक दिन छोड़कर एक दिन उसका साथ दे, पहले दिन A अकेला पेंट करना आरंभ करता है।

- Ans
- 1. 5.4 दिन
  - 2. 8.5 दिन
  - 3. 4.4 दिन
  - 4. 7.2 दिन

Question ID : 264330116857

Status : Answered

Chosen Option : 1



Q.11 5 महिलाएं एक काम को 8 दिनों में पूरा कर सकती हैं, जबकि 8 बच्चे उसी काम को 10 दिन में पूरा कर सकते हैं। 2 महिलाएं और 4 बच्चे काम को कितने दिन में पूरा करेंगे?

- Ans
- 1. 12
  - 2. 8
  - 3. 10
  - 4. 40

Question ID : 26433076384  
Status : Answered  
Chosen Option : 3

Q.12  $\sqrt{6}$ ,  $\sqrt{8}$  और  $\sqrt{21}$  का चतुर्थानुपाती क्या है?

- Ans
- 1.  $2\sqrt{7}$
  - 2.  $8\sqrt{7}$
  - 3.  $5\sqrt{7}$
  - 4.  $3\sqrt{7}$

Question ID : 26433079869  
Status : Answered  
Chosen Option : 1

Q.13 एक कार 5 घंटे में 240 किमी की दूरी तय करती है। यदि वह अपनी सामान्य गति से आधी गति से यात्रा करती है, तो उसी दूरी को तय करने में कितना अधिक समय लगेगा?

- Ans
- 1. 4 घंटे
  - 2. 5 घंटे
  - 3. 3 घंटे
  - 4. 10 घंटे

Question ID : 26433076306  
Status : Answered  
Chosen Option : 2

Q.14 एक दुकानदार अपनों वस्तुओं पर 40% की छूट देता है और उसके बाद भी 20% का लाभ अर्जित करता है। ₹ 2,400 अंकित मूल्य वाली एक वस्तु के लिए दुकानदार कितना क्रय मूल्य भुगतान करता है?

- Ans
- 1. ₹1,132
  - 2. ₹1,728
  - 3. ₹1,200
  - 4. ₹1,440

Question ID : 26433062686  
Status : Answered  
Chosen Option : 3

Q.15 एक व्यक्ति स्कूटर द्वारा 64 km/h की चाल से एक निश्चित दूरी तय करता है और वह साइकिल चलाकर 16 km/h की चाल से प्रारंभिक स्थान पर लौट आता है। पूरी यात्रा के लिए औसत चाल ज्ञात कीजिए।

- Ans
- 1. 25.6 km/h
  - 2. 40 km/h
  - 3. 51.2 km/h
  - 4. 26.5 km/h

Question ID : 26433076200

Status : Answered

Chosen Option : 2

Q.16 5 घंटियाँ सुबह 9 बजे एक साथ बजती हैं। ये 12 सेकंड, 18 सेकंड, 24 सेकंड, 36 सेकंड और 45 सेकंड के अंतराल पर बजती हैं। घंटियाँ पुनः किस समय पर एक साथ बजती हैं?

- Ans
- 1. 9:08 AM
  - 2. 9:10 AM
  - 3. 9:06 AM
  - 4. 9:05 AM

Question ID : 264330116633

Status : Answered

Chosen Option : 3

Q.17 ₹80,000 की राशि 10% वार्षिक ब्याज दर पर, ब्याज के वार्षिक रूप से चक्रवृद्धि होने पर, कितने समय में (वर्षों में) ₹1,17,128 हो जाएगी?

- Ans
- 1. 3.5 वर्ष
  - 2. 4 वर्ष
  - 3. 2.5 वर्ष
  - 4. 2 वर्ष

Question ID : 26433076229

Status : Answered

Chosen Option : 2

Q.18 9 cm त्रिज्या और 15 cm ऊँचाई वाले एक शंकु को पिघलाकर 45 cm ऊँचाई का एक बेलन बनाया जाता है। बेलन का व्यास है:

- Ans
- 1. 5 cm
  - 2. 6 cm
  - 3. 10 cm
  - 4. 3 cm

Question ID : 26433075332

Status : Answered

Chosen Option : 2

Q.19 मोहन एक टेबल को Rs.2,832 पर बेच रहा है। यदि उसका लाभ 18% है, तो टेबल का क्रय मूल्य क्या होगा?

- Ans
- 1. Rs.2,480
  - 2. Rs.2,500
  - 3. Rs.2,400
  - 4. Rs.2,440

Question ID : 26433075652  
Status : Answered  
Chosen Option : 3

Q.20 40 और 50 के बीच कितनी अभाज्य संख्याएँ हैं?

- Ans
- 1. 3
  - 2. 2
  - 3. 5
  - 4. 4

Question ID : 26433080282  
Status : Answered  
Chosen Option : 1

Section : Part-D-English

Q.1 Select the most appropriate option to substitute the underlined segment in the given sentence.

Purchasing furniture at a low cost could not involve abandoning design or quality.

- Ans
- 1. did not provoke compromising
  - 2. have not done regretting
  - 3. cannot force forgetting
  - 4. should not entail sacrificing

Question ID : 26433092914  
Status : Answered  
Chosen Option : 1

Q.2 Select the most appropriate option to fill in the blank.

Truthfully speaking, the victories of peace and harmony have a more \_\_\_\_\_ impact on human civilisation than the so-called victories of war.

- Ans
- 1. Lasting
  - 2. Greater
  - 3. Transient
  - 4. Superior

Question ID : 26433074420  
Status : Answered  
Chosen Option : 3

Q.3 Select the most appropriate ANTONYM of the given word.

Timid

- Ans  1. Bold  
 2. Fearful  
 3. Shy  
 4. Diffident

Question ID : 26433073571  
Status : Answered  
Chosen Option : 1

Q.4 Select the option that expresses the given sentence in future tense form.

There are multiple facilities available for reaching the island.

- Ans  1. There had been multiple facilities available for reaching the island.  
 2. There will be multiple facilities available for reaching the island.  
 3. There have been multiple facilities available for reaching the island.  
 4. There were multiple facilities available for reaching the island.

Question ID : 26433089292  
Status : Answered  
Chosen Option : 2

Q.5 Identify the correctly spelt sentence.

- Ans  1. The events arranged or organised in order of time are known as chronoloigal order.  
 2. The events arranged or organised in order of time are known as chronologikal order.  
 3. The events arranged or organised in order of time are known as chronological order.  
 4. The events arranged or organised in order of time are known as chronoligal order.

Question ID : 26433072826  
Status : Answered  
Chosen Option : 3

Q.6 Select the most appropriate synonym of the given word.

Blast

- Ans  1. Recall  
 2. Share  
 3. Blow up  
 4. Plead

Question ID : 26433089107  
Status : Answered  
Chosen Option : 3

Q.7 Select the correct word for the blanks in the given sentence.

Sivakashi is famous for its \_\_\_\_\_ box industry, and I am unable to find a \_\_\_\_\_ for my purple dress.

- Ans
- 1. bread
  - 2. chatter
  - 3. sweat
  - 4. match

Question ID : 26433060538  
Status : Answered  
Chosen Option : 4

Q.8 Select the INCORRECTLY spelt word.

- Ans
- 1. Stakeholder
  - 2. Permenent
  - 3. Longitude
  - 4. Maladjusted

Question ID : 26433073513  
Status : Answered  
Chosen Option : 2

Q.9 Select the most appropriate meaning of the given idiom.

At your beck and call

- Ans
- 1. To have no control over someone
  - 2. To call someone and then deny
  - 3. To have absolute control over someone
  - 4. To call someone respectfully

Question ID : 26433072224  
Status : Answered  
Chosen Option : 3

Q.10 Select the most appropriate homophone to fill in the blank.

In many road accidents people break their bones mainly because their vehicle \_\_\_\_\_ fails.

- Ans
- 1. bleak
  - 2. broke
  - 3. brake
  - 4. brow

Question ID : 26433088794  
Status : Answered  
Chosen Option : 3

Q.11 Select the most appropriate ANTONYM of the given word.

Liability

- Ans
- 1. Resource
  - 2. Strike
  - 3. Asset
  - 4. Responsibility

Question ID : 26433072269  
Status : Answered  
Chosen Option : 2

Q.12 Select the most appropriate meaning of the given idiom.

A night owl

- Ans
- 1. Someone who works very hard
  - 2. Someone who never works
  - 3. Someone who has good eyesight
  - 4. A person who prefers to be awake late at night

Question ID : 26433072675  
Status : Answered  
Chosen Option : 4

Q.13 Select the most appropriate option that can substitute the underlined segment in the given sentence.

I regarded my brother on passing his graduation examination.

- Ans
- 1. kowtowed
  - 2. congratulated
  - 3. flattered
  - 4. disparaged

Question ID : 26433088163  
Status : Answered  
Chosen Option : 2

Q.14 Select the most appropriate synonym of the given word.

Colloquial

- Ans
- 1. Lexical
  - 2. Prosodic
  - 3. Conversational
  - 4. Linguistic

Question ID : 26433073635  
Status : Answered  
Chosen Option : 4

Q.15 Select the most appropriate ANTONYM of the given word.

Rancid

- Ans  1. Fresh  
 2. Rotten  
 3. Rough  
 4. Urgent

Question ID : 26433071977

Status : Answered

Chosen Option : 1

**Comprehension:**

In the following passage, some words have been deleted. Read the passage carefully and select the most appropriate option to fill in each blank.

The companies in the present era (1) \_\_\_\_\_ priority, during recruitment, to the candidates who have Emotional Intelligence. EI is the ability to understand, analyse and control emotions. Possessing very high EI creates a (2) \_\_\_\_\_ impact on a person's life. People who have EI always maintain emotional stability even in difficult situations. They can be nice even in socially awkward situations. As they are very good at controlling emotions, they make others feel (3) \_\_\_\_\_. It is proven that it will make leaders more effective as they understand the feelings of teammates. It allows one (4) \_\_\_\_\_ impactfully with others. Stress and conflict can be handled so easily. As it allows great empathy towards others, they can be very good at interpersonal relationship. These people strengthen the relationship (5) \_\_\_\_\_ the people with their interaction and coordination both in personal and professional life. Companies are well aware of the benefits with the employees who have EI.

**SubQuestion No : 16**

Q.16 Select the most appropriate option to fill in blank number 1.

- Ans  1. has been giving  
 2. is giving  
 3. are giving  
 4. have been given

Question ID : 26433072166

Status : Answered

Chosen Option : 3

### Comprehension:

In the following passage, some words have been deleted. Read the passage carefully and select the most appropriate option to fill in each blank.

The companies in the present era (1) \_\_\_\_\_ priority, during recruitment, to the candidates who have Emotional Intelligence. EI is the ability to understand, analyse and control emotions. Possessing very high EI creates a (2) \_\_\_\_\_ impact on a person's life. People who have EI always maintain emotional stability even in difficult situations. They can be nice even in socially awkward situations. As they are very good at controlling emotions, they make others feel (3) \_\_\_\_\_. It is proven that it will make leaders more effective as they understand the feelings of teammates. It allows one (4) \_\_\_\_\_ impactfully with others. Stress and conflict can be handled so easily. As it allows great empathy towards others, they can be very good at interpersonal relationship. These people strengthen the relationship (5) \_\_\_\_\_ the people with their interaction and coordination both in personal and professional life. Companies are well aware of the benefits with the employees who have EI.

#### SubQuestion No : 17

Q.17 Select the most appropriate option to fill in blank number 2.

- Ans
- 1. creative
  - 2. positive
  - 3. memorable
  - 4. colonial

Question ID : 26433072167

Status : Answered

Chosen Option : 2

### Comprehension:

In the following passage, some words have been deleted. Read the passage carefully and select the most appropriate option to fill in each blank.

The companies in the present era (1) \_\_\_\_\_ priority, during recruitment, to the candidates who have Emotional Intelligence. EI is the ability to understand, analyse and control emotions. Possessing very high EI creates a (2) \_\_\_\_\_ impact on a person's life. People who have EI always maintain emotional stability even in difficult situations. They can be nice even in socially awkward situations. As they are very good at controlling emotions, they make others feel (3) \_\_\_\_\_. It is proven that it will make leaders more effective as they understand the feelings of teammates. It allows one (4) \_\_\_\_\_ impactfully with others. Stress and conflict can be handled so easily. As it allows great empathy towards others, they can be very good at interpersonal relationship. These people strengthen the relationship (5) \_\_\_\_\_ the people with their interaction and coordination both in personal and professional life. Companies are well aware of the benefits with the employees who have EI.

#### SubQuestion No : 18

Q.18 Select the most appropriate option to fill in blank number 3.

- Ans
- 1. manageable
  - 2. favourable
  - 3. tolerable
  - 4. comfortable

Question ID : 26433072168

Status : Answered

Chosen Option : 4



### Comprehension:

In the following passage, some words have been deleted. Read the passage carefully and select the most appropriate option to fill in each blank.

The companies in the present era (1) \_\_\_\_\_ priority, during recruitment, to the candidates who have Emotional Intelligence. EI is the ability to understand, analyse and control emotions. Possessing very high EI creates a (2) \_\_\_\_\_ impact on a person's life. People who have EI always maintain emotional stability even in difficult situations. They can be nice even in socially awkward situations. As they are very good at controlling emotions, they make others feel (3) \_\_\_\_\_. It is proven that it will make leaders more effective as they understand the feelings of teammates. It allows one (4) \_\_\_\_\_ impactfully with others. Stress and conflict can be handled so easily. As it allows great empathy towards others, they can be very good at interpersonal relationship. These people strengthen the relationship (5) \_\_\_\_\_ the people with their interaction and coordination both in personal and professional life. Companies are well aware of the benefits with the employees who have EI.

#### SubQuestion No : 19

**Q.19** Select the most appropriate option to fill in blank number 4.

Ans  1. to communicate

2. to be communicated

3. communicate

4. to communicating

Question ID : 26433072169

Status : Answered

Chosen Option : 1

### Comprehension:

In the following passage, some words have been deleted. Read the passage carefully and select the most appropriate option to fill in each blank.

The companies in the present era (1) \_\_\_\_\_ priority, during recruitment, to the candidates who have Emotional Intelligence. EI is the ability to understand, analyse and control emotions. Possessing very high EI creates a (2) \_\_\_\_\_ impact on a person's life. People who have EI always maintain emotional stability even in difficult situations. They can be nice even in socially awkward situations. As they are very good at controlling emotions, they make others feel (3) \_\_\_\_\_. It is proven that it will make leaders more effective as they understand the feelings of teammates. It allows one (4) \_\_\_\_\_ impactfully with others. Stress and conflict can be handled so easily. As it allows great empathy towards others, they can be very good at interpersonal relationship. These people strengthen the relationship (5) \_\_\_\_\_ the people with their interaction and coordination both in personal and professional life. Companies are well aware of the benefits with the employees who have EI.

#### SubQuestion No : 20

**Q.20** Select the most appropriate option to fill in blank number 5.

Ans  1. along with

2. among

3. between

4. in reference with

Question ID : 26433072170

Status : Answered

Chosen Option : 2

Q.1 पेड़ बढ़ता गया।

इस वाक्य में प्रयुक्त संयुक्त क्रिया का नाम बताइए।

- Ans
- 1. नित्यताबोधक संयुक्त क्रिया
  - 2. अनुमतिबोधक संयुक्त क्रिया
  - 3. अवकाशबोधक संयुक्त क्रिया
  - 4. समाप्तिबोधक संयुक्त क्रिया

Question ID : 26433063048

Status : Not Answered

Chosen Option : --

Q.2 'टिप्पस भिड़ाना' मुहावरे का अर्थ होगा-

- Ans
- 1. अकल लगाना
  - 2. नयी योजना बनाना
  - 3. लोगों को आपस में लड़वाना
  - 4. सिफारिश करवाना

Question ID : 26433069947

Status : Not Answered

Chosen Option : --

Q.3 इस वाक्य के रिक्त स्थान पर रेखांकित शब्द का उपयुक्त विलोम शब्द कौन-सा होगा?

भारत मे कहीं अतिवृष्टि से बाढ़ आती है तो कहीं \_\_\_\_\_ से सूखा पड़ता है।

- Ans
- 1. सुवरिष्टि
  - 2. अनावृष्टि
  - 3. वृष्टि
  - 4. लघुवृष्टि

Question ID : 26433066909

Status : Not Answered

Chosen Option : --

Q.4 निम्न में से किस वाक्य में 'उत्कंठा' के सही पर्यायवाची शब्द का प्रयोग हुआ है?

- Ans
- 1. रघु में उत्साह की कमी है।
  - 2. नव्या में अब कोई लालसा शेष नहीं थी।
  - 3. लता ने अपनी उदारता का परिचय दिया।
  - 4. नेहा श्रेष्ठ गायिका है।

Question ID : 26433067015

Status : Not Answered

Chosen Option : --

Q.5 लकड़ियों का समूह।  
रेखांकित पद 'समूह' के बदले उपयुक्त शब्द का प्रयोग कीजिए।

- Ans
- 1. गट्टर
  - 2. रेवड़
  - 3. टुकड़ा
  - 4. ढेर

Question ID : 26433062691  
Status : Not Answered  
Chosen Option : --

Q.6 निम्नलिखित वाक्य के किस खंड में त्रुटि है?  
जीवन और साहित्य का घोर संबंध है।

- Ans
- 1. जीवन
  - 2. संबंध
  - 3. साहित्य
  - 4. घोर

Question ID : 26433066756  
Status : Not Answered  
Chosen Option : --

Q.7 दिए गए शब्दों में से उचित शब्द से वाक्य पूर्ण करें --  
वैद्य जी \_\_\_\_\_ देखकर इलाज करते हैं।

- Ans
- 1. नारी
  - 2. नाड़ी
  - 3. नीर
  - 4. नीड़

Question ID : 26433062909  
Status : Not Answered  
Chosen Option : --

Q.8 'सरस्वती' के पर्यायवाची शब्द से वाक्य की पूर्ति कीजिए।

प्रातःकाल \_\_\_\_\_ का स्तोत्र पढ़िए।

- Ans
- 1. शारदा
  - 2. उमा
  - 3. कान्ता
  - 4. धात्री

Question ID : 26433079242  
Status : Not Answered  
Chosen Option : --

Q.9 'वह व्यक्ति जो विद्यार्थियों को पढ़ाने का कार्य करता है' वाक्यांश के लिए सार्थक शब्द है-

- Ans
- 1. विद्यार्थी
  - 2. शिक्षक
  - 3. शिक्षार्थी
  - 4. छात्र

Question ID : 26433062230

Status : Not Answered

Chosen Option : --

Q.10 निम्नलिखित वाक्यांश के लिए उपयुक्त सार्थक शब्द है:  
जो कहा न जा सके

- Ans
- 1. अकथ्य
  - 2. कथन
  - 3. कहानी
  - 4. कहना

Question ID : 26433065756

Status : Not Answered

Chosen Option : --

Q.11 वाक्य में रेखांकित अंश के लिए उचित मुहावरा दिए गए विकल्पों में से चुनिए-  
तुम किस काम के हो!

- Ans
- 1. कोल्हू का बैल
  - 2. कूप मंडूक
  - 3. किस मर्ज की दवा
  - 4. कोढ़ में खाज

Question ID : 26433062304

Status : Not Answered

Chosen Option : --

Q.12 'शरीर का कोई भाग' वाक्यांश के लिए उचित शब्द बताइए -

- Ans
- 1. अवयव
  - 2. कृशांग
  - 3. दृष्टि
  - 4. अभिन्न

Question ID : 26433065908

Status : Not Answered

Chosen Option : --

Q.13 निम्नलिखित वाक्य के किस खंड में अशुद्धि है?  
गौतम बुद्ध ने पाली भाषा में उपदेश दिया

- Ans
- 1. उपदेश
  - 2. दिया
  - 3. पाली
  - 4. भाषा

Question ID : 26433066753

Status : Not Answered

Chosen Option : --

Q.14 'करण खाने बीच मिठाई लाया'  
उपरोक्त वाक्य में कारक सम्बन्धी त्रुटि पहचानकर निम्नलिखित में से शुद्ध वाक्य चुनिए।

- Ans
- 1. करण खाने साथ मिठाई लाया।
  - 2. करण खाने की मिठाई लाया।
  - 3. करण खाने बाद मिठाई लाया।
  - 4. करण खाने के लिए मिठाई लाया।

Question ID : 26433066967

Status : Not Answered

Chosen Option : --

Q.15 'सुनैना खाना खा रही है'  
उपरोक्त वाक्य का भाववाच्य में रूपांतरण होगा-

- Ans
- 1. सुनैना खाना खा रही थी।
  - 2. सुनैना खाना नहीं खा रही है।
  - 3. सुनैना खाना खा रही होगी।
  - 4. सुनैना से खाना नहीं खाया जाता।

Question ID : 26433066980

Status : Not Answered

Chosen Option : --

**Comprehension:**

निम्नलिखित गद्यांश में कुछ शब्दों को हटा दिया गया है। दिए गए विकल्पों की सहायता से रिक्त स्थानों की पूर्ति कीजिए। प्रत्येक संख्या के लिए सबसे उपयुक्त विकल्प का चयन करें।

मैत्री भाव सकारात्मक तथा 1. \_\_\_\_\_ वर्ग में गिना जाता है। मित्रता ऐसा उपहार है जो 2. \_\_\_\_\_ को प्राप्त होता है। सच्चा मित्र वही होता है जिसके कारण हमें कभी भी 3. \_\_\_\_\_ ना हो। जब भी हमारी ऐसी कोई आदत होती है जिससे दूसरे को परेशानी होती है तो ऐसी आदत 4. \_\_\_\_\_ में ही भलाई है। मनुष्य तो 5. \_\_\_\_\_ प्राणी है।

**SubQuestion No : 16**

Q.16 रिक्त स्थान 1 की पूर्ति के लिए सबसे उपयुक्त विकल्प का चयन कीजिए।

- Ans
- 1. नकारात्मक
  - 2. निम्न
  - 3. उच्च
  - 4. मध्यम

Question ID : 264330110993

Status : Not Answered

Chosen Option : --

**Comprehension:**

निम्नलिखित गद्यांश में कुछ शब्दों को हटा दिया गया है। दिए गए विकल्पों की सहायता से रिक्त स्थानों की पूर्ति कीजिए। प्रत्येक संख्या के लिए सबसे उपयुक्त विकल्प का चयन करें।

मैत्री भाव सकारात्मक तथा 1. \_\_\_\_\_ वर्ग में गिना जाता है। मित्रता ऐसा उपहार है जो 2. \_\_\_\_\_ को प्राप्त होता है। सच्चा मित्र वही होता है जिसके कारण हमें कभी भी 3. \_\_\_\_\_ ना हो। जब भी हमारी ऐसी कोई आदत होती है जिससे दूसरे को परेशानी होती है तो ऐसी आदत 4. \_\_\_\_\_ में ही भलाई है। मनुष्य तो 5. \_\_\_\_\_ प्राणी है।

**SubQuestion No : 17**

Q.17 रिक्त स्थान 2 की पूर्ति के लिए सबसे उपयुक्त विकल्प का चयन कीजिए।

- Ans
- 1. गरीब
  - 2. सबको
  - 3. अमीर
  - 4. भाग्यशाली

Question ID : 264330110994

Status : Not Answered

Chosen Option : --

**Comprehension:**

निम्नलिखित गद्यांश में कुछ शब्दों को हटा दिया गया है। दिए गए विकल्पों की सहायता से रिक्त स्थानों की पूर्ति कीजिए। प्रत्येक संख्या के लिए सबसे उपयुक्त विकल्प का चयन करें।

मैत्री भाव सकारात्मक तथा 1. \_\_\_\_\_ वर्ग में गिना जाता है। मित्रता ऐसा उपहार है जो 2. \_\_\_\_\_ को प्राप्त होता है। सच्चा मित्र वही होता है जिसके कारण हमें कभी भी 3. \_\_\_\_\_ ना हो। जब भी हमारी ऐसी कोई आदत होती है जिससे दूसरे को परेशानी होती है तो ऐसी आदत 4. \_\_\_\_\_ में ही भलाई है। मनुष्य तो 5. \_\_\_\_\_ प्राणी है।

**SubQuestion No : 18**

Q.18 रिक्त स्थान 3 की पूर्ति के लिए सबसे उपयुक्त विकल्प का चयन कीजिए।

- Ans
- 1. खुशी
  - 2. उत्साह
  - 3. भलाई
  - 4. पश्चाताप

Question ID : 264330110995

Status : Not Answered

Chosen Option : --

**Comprehension:**

निम्नलिखित गद्यांश में कुछ शब्दों को हटा दिया गया है। दिए गए विकल्पों की सहायता से रिक्त स्थानों की पूर्ति कीजिए। प्रत्येक संख्या के लिए सबसे उपयुक्त विकल्प का चयन करें।

मैत्री भाव सकारात्मक तथा 1. \_\_\_\_\_ वर्ग में गिना जाता है। मित्रता ऐसा उपहार है जो 2. \_\_\_\_\_ को प्राप्त होता है। सच्चा मित्र वही होता है जिसके कारण हमें कभी भी 3. \_\_\_\_\_ ना हो। जब भी हमारी ऐसी कोई आदत होती है जिससे दूसरे को परेशानी होती है तो ऐसी आदत 4. \_\_\_\_\_ में ही भलाई है। मनुष्य तो 5. \_\_\_\_\_ प्राणी है।

**SubQuestion No : 19**

Q.19 रिक्त स्थान 4 की पूर्ति के लिए सबसे उपयुक्त विकल्प का चयन कीजिए।

- Ans
- 1. दिखाने
  - 2. गिनाने
  - 3. छोड़ने
  - 4. अपनाने

Question ID : 264330110996

Status : Not Answered

Chosen Option : --

**Comprehension:**

निम्नलिखित गद्यांश में कुछ शब्दों को हटा दिया गया है। दिए गए विकल्पों की सहायता से रिक्त स्थानों की पूर्ति कीजिए। प्रत्येक संख्या के लिए सबसे उपयुक्त विकल्प का चयन करें।

मैत्री भाव सकारात्मक तथा 1. \_\_\_\_\_ वर्ग में गिना जाता है। मित्रता ऐसा उपहार है जो 2. \_\_\_\_\_ को प्राप्त होता है। सच्चा मित्र वही होता है जिसके कारण हमें कभी भी 3. \_\_\_\_\_ ना हो। जब भी हमारी ऐसी कोई आदत होती है जिससे दूसरे को परेशानी होती है तो ऐसी आदत 4. \_\_\_\_\_ में ही भलाई है। मनुष्य तो 5. \_\_\_\_\_ प्राणी है।

**SubQuestion No : 20**

Q.20 रिक्त स्थान 5 की पूर्ति के लिए सबसे उपयुक्त विकल्प का चयन कीजिए।

- Ans
- 1. भयानक
  - 2. परेशान
  - 3. सामाजिक
  - 4. दिखावा

Question ID : 264330110997

Status : Not Answered

Chosen Option : --

WWW.GOV TJOB SALE