

Constable GD in CAPFs SSF Rifleman GD in Assam Rifles and Sepoy in NCB Examination 2022

Roll Number	www.govtjobsalert.in
Candidate Name	www.govtjobsalert.in
Venue Name	iON Digital Zone iDZ Jamshedpur
Exam Date	12/01/2023
Exam Time	2:30 PM - 3:30 PM
Subject	Constable GD Examination 2022

Section : Part-A-General Intelligence and Reasoning

Q.1 एक निश्चित कूट भाषा में, 'PARENT' को '148' और 'WRANGLE' को '160' के रूप में लिखा जाता है। उसी कूट भाषा में 'GRANTED' को किस प्रकार से लिखा जाएगा?

- Ans
- 1. 134
 - 2. 69
 - 3. 67
 - 4. 138

Question ID : 26433069472

Status : Answered

Chosen Option : 4

Q.2 एक निश्चित कूट भाषा में, 'fruit hat string' को 'worm bee wheel' के रूप में कूटबद्ध किया जाता है, 'hat fruit' को 'bee worm' के रूप में कूटबद्ध किया जाता है और 'string hat' को 'wheel bee' के रूप में कूटबद्ध किया जाता है। 'fruit' के लिए कूट शब्द क्या होगा?

- Ans
- 1. wheel
 - 2. bee
 - 3. hat
 - 4. worm

Question ID : 26433079368

Status : Answered

Chosen Option : 4

Q.3 निम्न में से कौन सी संख्या दी गई श्रृंखला में प्रश्नचिह्न (?) के स्थान पर आएगी?
20, 24, 33, ?, 107, 228, 397

- Ans
- 1. 86
 - 2. 29
 - 3. 58
 - 4. 82

Question ID : 26433076753

Status : Answered

Chosen Option : 3

Q.4 छः मित्र (अमन, बिप्लब, चिरंतन, दिव्या, एलिजाबेथ और फिरोज) एक वृत्ताकार मेज के परितः मेज के केंद्र की ओर मुख करके बैठे हैं। अमन, बिप्लब के बाईं ओर तीसरे स्थान पर बैठा है। चिरंतन, अमन के ठीक बगल में है। एलिजाबेथ, दिव्या के दाईं ओर दूसरे स्थान पर बैठी है। चिरंतन, दिव्या के ठीक बगल में नहीं है। अमन और एलिजाबेथ के बीच में कौन बैठा/बैठी है?

- Ans
- 1. बिप्लब
 - 2. दिव्या
 - 3. चिरंतन
 - 4. फिरोज

Question ID : 26433092769

Status : Answered

Chosen Option : 3

Q.5 उस विकल्प का चयन करें, जो पाँचवीं संख्या से उसी प्रकार संबंधित है, जिस प्रकार दूसरी संख्या, पहली संख्या से संबंधित है और चौथी संख्या, तीसरी संख्या से संबंधित है।
18 : 4 :: 36 : 16 :: 27 : ?

- Ans
- 1. 7
 - 2. 8
 - 3. 9
 - 4. 10

Question ID : 26433069412

Status : Answered

Chosen Option : 3

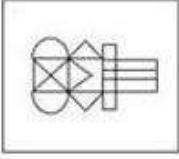
WWW.GOV TJOB.SALERT.IN

Q.6 निम्न विकल्पों में से उस उत्तर आकृति का चयन करें जिसमें नीचे दी गई प्रश्न आकृति निहित है (आकृति घुमाने की अनुमति नहीं है)।

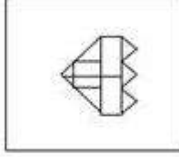


Ans

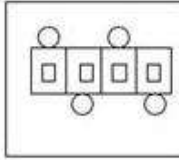
✓ 1.



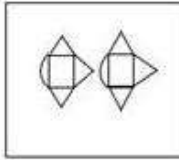
✗ 2.



✗ 3.



✗ 4.



Question ID : 26433070209

Status : Answered

Chosen Option : 1

Q.7 तीन कथनों के बाद 1, 2 और 3 से संख्यांकित तीन निष्कर्ष दिए गए हैं। कथनों को सत्य मानते हुए, भले ही वे सामान्यतः ज्ञात तथ्यों से भिन्न प्रतीत होते हों, निर्णय लें कि कौन-सा/से निष्कर्ष कथनों का तार्किक रूप से अनुसरण करता है/करते हैं।

कथन:

कुछ जूते चप्पल हैं।

कुछ चप्पल मोड़े हैं।

सभी मोड़े सैंडल हैं।

निष्कर्ष:

1. कुछ सैंडल जूते हैं।

2. कुछ सैंडल चप्पल हैं।

3. कुछ मोड़े जूते हैं।

Ans

✓ 1. केवल निष्कर्ष 2 अनुसरण करता है

✗ 2. केवल निष्कर्ष 3 अनुसरण करता है

✗ 3. केवल निष्कर्ष 1 और 2 अनुसरण करते हैं

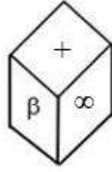
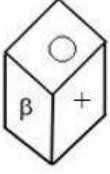
✗ 4. केवल निष्कर्ष 2 और 3 अनुसरण करते हैं

Question ID : 26433087132

Status : Answered

Chosen Option : 1

Q.8 एक ही पासे की दो अलग-अलग स्थितियों को दर्शाया गया है जिस पर +, @, O, ∞, € और β चिह्न बने हैं। 'O' दर्शाने वाले फलक के विपरीत फलक पर बना चिह्न ज्ञात कीजिए।



- Ans
- 1. @
 - 2. ∞
 - 3. +
 - 4. €

Question ID : 26433085527
Status : Answered
Chosen Option : 2

Q.9 नीचे दिए गए समीकरण को गणितीय रूप से सही बनाने के लिए किन दो चिन्हों को परस्पर बदलना चाहिए?

$$120 + 18 \times 40 - 10 \div 20 = 172$$

- Ans
- 1. + और -
 - 2. + और +
 - 3. - और +
 - 4. + और ×

Question ID : 264330117538
Status : Answered
Chosen Option : 1

Q.10 A, Z से विवाहित है। Z के 3 बच्चे L, M और N हैं। Z बच्चों का पिता नहीं है। P, A की माँ है। L, D का पति है। M की 2 बेटियाँ H और J हैं। Z, P से किस प्रकार संबंधित है?

- Ans
- 1. माँ
 - 2. बेटा
 - 3. बहू
 - 4. बेटी

Question ID : 26433074603
Status : Answered
Chosen Option : 3

Q.11 सात व्यक्ति D, E, F, G, H, I और J एक सीधी पंक्ति में उत्तर की ओर मुख करके बैठे हैं। D और H के बीच केवल तीन व्यक्ति बैठे हैं। E, J के बाईं ओर चौथे स्थान पर बैठा है। E और I के बीच में केवल D बैठा है। J, F के दाईं ओर तीसरे स्थान पर बैठा है। पंक्ति के दाएं सिरे से दूसरे स्थान पर कौन बैठा है?

- Ans
- 1. E
 - 2. I
 - 3. D
 - 4. H

Question ID : 26433068285
Status : Answered
Chosen Option : 4

Q.12 निम्नलिखित में से कौन-सी संख्या दी गई श्रृंखला में प्रश्न चिह्न (?) के स्थान पर आएगी?
6, 10, 19, 35, ?, 96

- Ans
- 1. 70
 - 2. 74
 - 3. 60
 - 4. 68

Question ID : 26433070220
Status : Answered
Chosen Option : 3

Q.13 उस विकल्प का चयन कीजिए जो तीसरे शब्द से उसी प्रकार संबंधित है जिस प्रकार दूसरा शब्द पहले शब्द से संबंधित है। (शब्दों को अर्थपूर्ण शब्दों के रूप में मानना है और उन्हें शब्द में अक्षरों/व्यंजनों/स्वरों की संख्या के आधार पर एक-दूसरे से संबंधित नहीं करना है।)
वायरोलॉजी : विषाणु :: कार्डियोलॉजी : ?

- Ans
- 1. खोपड़ी
 - 2. सिर
 - 3. हृदय
 - 4. फेफड़े

Question ID : 26433067365
Status : Answered
Chosen Option : 3

Q.14 उस विकल्प का चयन करें, जो पांचवे अक्षर-समूह से उसी प्रकार संबंधित है, जिस प्रकार दूसरा अक्षर-समूह पहले अक्षर-समूह से संबंधित है, और चौथा अक्षर-समूह तीसरे अक्षर-समूह से संबंधित है।
IFHO : LCEK :: HIJK : KFGG :: QL GK : ?

- Ans
- 1. ITHD
 - 2. ITDH
 - 3. TIDG
 - 4. TIHD

Question ID : 26433080465
Status : Answered
Chosen Option : 3

Q.15 किस विकल्प में निम्नलिखित शब्दों का वह क्रम दिया गया है, जिस क्रम में वे अंग्रेजी शब्दकोश में आते हैं?

- 1 culture
- 2 cult
- 3 cultivate
- 4 cupid
- 5 cumin

Ans 1. 2,3,1,5,4

2. 2,3,1,4,5

3. 3,2,1,4,5

4. 2,1,3,5,4

Question ID : 26433069286

Status : Answered

Chosen Option : 1

Q.16 यदि श्रृंखला जारी रखनी है तो कौन-सी आकृति प्रश्न चिह्न (?) के स्थान पर आएगी?

P	L	=	□	O	=	L	S	
O	Z	□	P	S	△	△	P	S
=	△	O	L	L	□	△	=	?

Ans

1.

S	=
□	O
L	△

2.

△	L
□	↑
=	S

3.

△	L
□	O
=	S

4.

△	□
L	↑
O	S

Question ID : 26433076638

Status : Answered

Chosen Option : 3

Q.17 दी गई आकृति के सही दर्पण प्रतिबिम्ब का चयन करें जब दर्पण को MN पर रखा जाए जैसा कि नीचे दर्शाया गया है।

JudGEmenT
M
|
N

Ans

- ✗ 1. TnəMəGəbul
✗ 2. TnəməɛGəbul
✓ 3. TnəməɛGəbul
✗ 4. TnəMəGəbul

Question ID : 26433085556

Status : Answered

Chosen Option : 3

Q.18 निम्नलिखित में से कौन-सा अक्षर-समूह दी गई श्रृंखला में प्रश्न-चिह्न (?) के स्थान पर आएगा?
GMPJ, HLOK, IKNL, JJMM, ?

Ans

- ✗ 1. LKLO
✓ 2. KILN
✗ 3. KKMN
✗ 4. LKLN

Question ID : 26433076442

Status : Answered

Chosen Option : 2

Q.19 कौन-सा अक्षर-समूह दी गई श्रृंखला में प्रश्नचिह्न (?) के स्थान पर आकर श्रृंखला को पूर्ण करेगा?
BDGF, ACFE, ?, YADC, XZCB

Ans

- ✗ 1. YAFD
✓ 2. ZBED
✗ 3. YBED
✗ 4. ZAFE

Question ID : 26433067713

Status : Answered

Chosen Option : 2

Q.20 * चिहनों को क्रमानुसार प्रतिस्थापित करने और दिए गए समीकरण को संतुलित करने के लिए गणितीय चिहनों के सही संयोजन का चयन कीजिए।

$$(120 * 15) * 9 * \sqrt[4]{81} * 17 * 28 * 95$$

- Ans
- 1. $\times, =, -, +, +, -$
 - 2. $+, -, =, -, \times, -$
 - 3. $+, \times, +, \times, -, =$
 - 4. $+, -, =, -, +, \times$

Question ID : 26433081000
Status : Answered
Chosen Option : 3

Section : Part-B-General Knowledge and General awareness

Q.1 28 मार्च को लोकसभा में आपराधिक प्रक्रिया (पहचान) विधेयक, 2022 किसने पेश किया?

- Ans
- 1. कृष्ण पाल
 - 2. मीनाक्षी लेखी
 - 3. राव इंद्रजीत सिंह
 - 4. अजय कुमार मिश्रा

Question ID : 264330116218
Status : Answered
Chosen Option : 2

Q.2 अक्टूबर 2022 में, भारत सरकार द्वारा राजस्व सचिव के रूप में किसे नियुक्त किया गया?

- Ans
- 1. एसएस नकुल
 - 2. तरुण बजाज
 - 3. अजय भूषण पांडे
 - 4. संजय मल्होत्रा

Question ID : 264330115028
Status : Answered
Chosen Option : 4

Q.3 भारत की पहली पंचवर्षीय योजना _____ में शुरू की गई थी।

- Ans
- 1. 1961
 - 2. 1901
 - 3. 1951
 - 4. 1971

Question ID : 264330115383
Status : Answered
Chosen Option : 3

Q.4 महात्मा गांधी राष्ट्रीय ग्रामीण रोजगार गारंटी अधिनियम (MGNREGA) किस वर्ष में पारित किया गया था?

- Ans
- 1. 1993
 - 2. 1995
 - 3. 2005
 - 4. 2000

Question ID : 264330116072
Status : Answered
Chosen Option : 3

Q.5 राज्यपाल के बारे में निम्नलिखित में से कौन-सा कथन सही नहीं है?

- Ans
- 1. वह मुख्यमंत्री और अन्य मंत्रियों की नियुक्ति करता है।
 - 2. उसके पास किसी व्यक्ति के मृत्युदंड को क्षमा प्रदान करने, प्रविलंबन करने या माफ करने की शक्ति होती है।
 - 3. राज्य की कार्यपालिका शक्ति राज्यपाल में निहित है।
 - 4. वह कतिपय परिस्थितियों में अध्यादेश जारी कर सकता है।

Question ID : 26433054107
Status : Answered
Chosen Option : 3

Q.6 तिरुवातिरकली त्योहार मुख्यतः निम्न में से किस राज्य में मनाया जाता है?

- Ans
- 1. असम
 - 2. केरल
 - 3. पंजाब
 - 4. ओडिशा

Question ID : 264330109305
Status : Answered
Chosen Option : 2

Q.7 निम्नलिखित में से कौन सा त्यौहार अगस्त-सितंबर में फसल की कटाई के मौसम को मनाता है?

- Ans
- 1. बैसाखी
 - 2. लोहड़ी
 - 3. मकर संक्रांति
 - 4. ओणम

Question ID : 264330115872
Status : Answered
Chosen Option : 1

Q.8 _____ को प्रकृति की एक कार्यात्मक इकाई के रूप में देखा जा सकता है, जहां जीवित जीव आपस में और आसपास के भौतिक वातावरण के साथ भी अंतःक्रिया करते हैं।

- Ans
- 1. ब्रह्मांड
 - 2. पारिस्थितिकी तंत्र
 - 3. झुंड
 - 4. परिवार

Question ID : 264330115248
Status : Answered
Chosen Option : 2

Q.9 कांग्रेस और मुस्लिम लीग ने लखनऊ समझौता किस वर्ष में किया था?

- Ans
- 1. 1916
 - 2. 1914
 - 3. 1910
 - 4. 1912

Question ID : 264330115706
Status : Answered
Chosen Option : 1

Q.10 हरित क्रांति मुख्य रूप से _____ पर निर्भर है।

- Ans
- 1. हाई यील्ड वैरायटी प्रोग्राम
 - 2. प्राकृतिक वनस्पति
 - 3. वर्षा जल संचयन
 - 4. प्राकृतिक उर्वरकों के उपयोग

Question ID : 264330116152
Status : Answered
Chosen Option : 4

Q.11 किस भारतीय प्रधानमंत्री के कार्यकाल में भारतीय संविधान में मौलिक कर्तव्यों को शामिल किया गया?

- Ans
- 1. मनमोहन सिंह
 - 2. राजीव गांधी
 - 3. जवाहर लाल नेहरू
 - 4. इंदिरा गांधी

Question ID : 26433089951
Status : Answered
Chosen Option : 4

Q.12 मेगस्थनीज के अनुसार, चंद्रगुप्त के रक्षक शाही जुलूसों के दौरान सोने और चांदी से सजाए गए की सवारी करते थे।

- Ans
- 1. घोड़ों
 - 2. हाथियों
 - 3. बैलों
 - 4. एकसिंगे (यूनिकॉर्न)

Question ID : 26433085212
Status : Answered
Chosen Option : 2

Q.13 भारत के राष्ट्रपति ने सितंबर 2022 में वरिष्ठ अधिवक्ता _____ को भारत के लिए अगला महान्यायवादी (अटॉर्नी-जनरल) नियुक्त किया।

- Ans
- 1. आर वेंकटरमणि
 - 2. जसबीना अहलवालिया
 - 3. राम जेठमलानी
 - 4. प्रवीन आनंद

Question ID : 264330114917
Status : Answered
Chosen Option : 1

Q.14 BCCI का पूर्ण रूप क्या है?

- Ans
- 1. Board of Control for Cricket in India (बोर्ड ऑफ कंट्रोल फॉर क्रिकेट इन इंडिया)
 - 2. Board of Control of Cycling in India (बोर्ड ऑफ कंट्रोल ऑफ साइकिलिंग इन इंडिया)
 - 3. Basic Cricket Control Board (बेसिक क्रिकेट कंट्रोल बोर्ड)
 - 4. Board of Cricket Control (बोर्ड ऑफ क्रिकेट कंट्रोल)

Question ID : 264330116286
Status : Answered
Chosen Option : 1

Q.15 सिंथेटिक फाइबर, सिंथेटिक रबर, प्लास्टिक, डार्ड-स्टफ, ड्रग्स और फार्मास्यूटिकल्स के निर्माण के लिए किसका उपयोग किया जाता है?

- Ans
- 1. प्राकृतिक गैस
 - 2. कोयला
 - 3. गन्ना
 - 4. पेट्रोरसायन

Question ID : 264330115572
Status : Answered
Chosen Option : 1

Q.16 नकद आरक्षित अनुपात के अलावा, बैंकों को अल्पावधि में नकद रूप में कुछ रिज़र्व रखने की भी आवश्यकता होती है, जिसे _____ कहा जाता है।

- Ans
- 1. राज्य तरलता अनुपात
 - 2. वैधानिक लाइसेंस अनुपात
 - 3. वैधानिक तरलता अनुपात
 - 4. वैधानिक तरलता रेपो

Question ID : 264330115325
Status : Answered
Chosen Option : 4

Q.17 निम्नलिखित में से कौन सी एक अवसादी चट्टान नहीं है?

- Ans
- 1. मृत्तिका
 - 2. शैल
 - 3. बलुआ पत्थर
 - 4. ग्रेनाइट

Question ID : 26433089661
Status : Answered
Chosen Option : 4

Q.18 'पवनों का देश' कहे जाने वाले देश की पहचान करें।

- Ans
- 1. जर्मनी
 - 2. पोलैंड
 - 3. चेक गणराज्य
 - 4. डेनमार्क

Question ID : 26433096236
Status : Not Answered
Chosen Option : --

Q.19 कालबेलिया किस भारतीय राज्य का प्रसिद्ध लोक नृत्य है?

- Ans
- 1. बिहार
 - 2. ओडिशा
 - 3. पश्चिम बंगाल
 - 4. राजस्थान

Question ID : 26433072923
Status : Answered
Chosen Option : 4

Q.20 ICC U19 विश्व कप में U -19 भारतीय क्रिकेट टीम के कोच कौन थे?

- Ans
- 1. मोहम्मद कैफ
 - 2. श्रधिकेश कनितकर
 - 3. अजीत अगरकर
 - 4. अनिल कुंबले

Question ID : 26433090750
Status : Answered
Chosen Option : 1

Section : Part-C-Elementary Mathematics

Q.1 $1 \div 2 + 3 - 5 \times \frac{1}{3}$ of $15 - \{75 \div (28 - 3)\}$ का मान क्या होगा?

- Ans
- 1. $\frac{49}{2}$
 - 2. 25
 - 3. -25
 - 4. $-\frac{49}{2}$

Question ID : 26433075177
Status : Answered
Chosen Option : 4

Q.2 एक डबल बेड का अंकित मूल्य ₹42,000 है। ग्राहक को ₹1,000 की नकद छूट मिलती है और 5% से 10% छूट का वादा करने वाला एक स्क्रेच कार्ड मिलता है। बेड के न्यूनतम और अधिकतम विक्रय मूल्य के बीच का अंतर ज्ञात करें।

- Ans
- 1. ₹2,050
 - 2. ₹1,910
 - 3. ₹1,940
 - 4. ₹1,880

Question ID : 26433080111
Status : Not Answered
Chosen Option : --

Q.3 18, 24 और 25 से विभाज्य 6 अंकीय सबसे छोटी संख्या के अंकों का योग ज्ञात करें।

- Ans
- 1. 12
 - 2. 9
 - 3. 10
 - 4. 15

Question ID : 264330116634
Status : Not Answered
Chosen Option : --

Q.4 श्री शर्मा अपनी कुल आय का 15% किराए पर और शेष भाग का 75% अन्य खर्चों पर खर्च करते हैं और तब भी Rs.1,700 मासिक बचाते हैं। उसकी मासिक आय क्या है?

- Ans
- 1. Rs.7,000
 - 2. Rs.7,500
 - 3. Rs.8,000
 - 4. Rs.8,500

Question ID : 26433080296
Status : Answered
Chosen Option : 3

Q.5 3, 12, 14 का चतुर्थानुपाती _____ होता है।

- Ans
- 1. 28
 - 2. 49
 - 3. 56
 - 4. 35

Question ID : 26433080119
Status : Answered
Chosen Option : 3

Q.6 एक सब्जी विक्रेता अपनी बिक्री वास्तविक वजन से 12% कम वजन का उपयोग करके करता है और फिर क्रय मूल्य पर 32% का लाभ कमाता है। कुल प्रतिशत लाभ ज्ञात कीजिए।

- Ans
- 1. 44%
 - 2. 45%
 - 3. 50%
 - 4. 40%

Question ID : 26433075913
Status : Answered
Chosen Option : 3

Q.7 ₹500 की धनराशि पर 2 वर्षों के लिए वार्षिक रूप से चक्रवृद्धि हुए चक्रवृद्धि ब्याज और साधारण ब्याज के बीच का अंतर ₹1.25 है। वार्षिक ब्याज दर ज्ञात कीजिए।

- Ans
- 1. 5%
 - 2. 3%
 - 3. 2%
 - 4. 4%

Question ID : 26433074296
Status : Answered
Chosen Option : 1

Q.8 A, B और C एक कार्य को क्रमशः 30, 60 और 120 दिनों में पूरा कर सकते हैं। A कार्य पूरा होने से 10 दिन पहले काम छोड़ देता है और B कार्य पूरा होने से 5 दिन पहले काम छोड़ देता है। सम्पूर्ण कार्य को पूरा करने के लिए आवश्यक दिनों की संख्या ज्ञात करें।

- Ans
- 1. 144/7 दिन
 - 2. 170/7 दिन
 - 3. 190/7 दिन
 - 4. 89/7 दिन

Question ID : 264330116902
Status : Answered
Chosen Option : 2

Q.9 21 cm त्रिज्या वाली लोहे की एक गेंद को पिघलाकर पुनः 7 cm त्रिज्या वाली गोलाकार गेंदों में ढाला जाता है। गोलाकार गेंदों की संख्या ज्ञात कीजिए।

- Ans
- 1. 27
 - 2. 21
 - 3. 9
 - 4. 18

Question ID : 26433073052
Status : Answered
Chosen Option : 1

Q.10 5 और 12 के तृतीयानुपाती का 5, 8 और 9 के चतुर्थानुपाती से क्या अनुपात है?

- Ans
- 1. 2 : 1
 - 2. 2 : 3
 - 3. 3 : 2
 - 4. 1 : 2

Question ID : 26433087372
Status : Answered
Chosen Option : 1

Q.11 अनिल ने सुबह अपनी यात्रा शुरू की। सुबह 10 A.M. तक उसने अपनी यात्रा का $\frac{1}{2}$ भाग पूरा किया और उसी दिन दोपहर 1 A.M. तक उसने अपनी यात्रा का $\frac{3}{4}$ भाग पूरा किया। उसने अपनी यात्रा किस समय शुरू की?

- Ans
- 1. 3.30 a.m.
 - 2. 2.00 a.m.
 - 3. 4.00 a.m.
 - 4. 5.00 a.m.

Question ID : 26433075350
Status : Not Answered
Chosen Option : --

Q.12 3 के पहले 10 गुणजों का औसत ज्ञात करें।

- Ans
- 1. 15.5
 - 2. 14.5
 - 3. 11.5
 - 4. 16.5

Question ID : 26433076393
Status : Answered
Chosen Option : 4

Q.13 एक वस्तु ₹1,200 पर सूचीबद्ध है। एक ग्राहक दो क्रमागत छूट प्राप्त करने के बाद इसके लिए ₹972 का भुगतान करता है। यदि पहली छूट की दर 10% है, तो दूसरी छूट की दर _____ है।

- Ans
- 1. 16%
 - 2. 10%
 - 3. 14%
 - 4. 12%

Question ID : 26433082384
Status : Answered
Chosen Option : 2

Q.14 यदि आलू का मूल्य 10 प्रतिशत से बढ़ जाता है, तो एक उपयोगकर्ता को अपनी आलू की खपत में कितने प्रतिशत की कटौती करनी होगी, ताकि आलू पर खर्च अपरिवर्तित रहे?

- Ans
- 1. 16.4 प्रतिशत
 - 2. 12.5 प्रतिशत
 - 3. 9.1 प्रतिशत
 - 4. 15.8 प्रतिशत

Question ID : 264330116822
Status : Answered
Chosen Option : 3

Q.15 A और B एक काम को क्रमशः 18 दिन और 36 दिन में पूरा कर सकते हैं। वे 8 दिन तक एक साथ काम करते हैं और फिर A काम छोड़ देता है। शेष काम को पूरा करने में B को कितने दिन लगेंगे?

- Ans
- 1. 15
 - 2. 18
 - 3. 10
 - 4. 12

Question ID : 26433076403
Status : Answered
Chosen Option : 4

Q.16 8 cm ऊँचाई और 4 cm आधार त्रिज्या वाले एक शंकु को 8 cm × 6 cm × 4 cm के लकड़ी के आयताकार ब्लॉक से बनाया जाता है। व्यर्थ हुई लकड़ी का प्रतिशत लगभग _____ होगा।

- Ans
- 1. 48%
 - 2. 56%
 - 3. 30%
 - 4. 58%

Question ID : 26433075399
Status : Not Answered
Chosen Option : --

Q.17 अरविंद, भानु से $\frac{5}{4}$ गुना तेज दौड़ता है। यदि किसी दौड़ में, अरविंद भानु को 60m की लीड देता है, तो प्रारंभिक बिंदु से वह दूरी ज्ञात कीजिए, जहाँ वे दोनों मिलेंगे।

- Ans
- 1. 340 m
 - 2. 300 m
 - 3. 360 m
 - 4. 320 m

Question ID : 26433063957
Status : Answered
Chosen Option : 2

Q.18 अर्जुन 30 km/h की औसत चाल से 10 km की दूरी तक अपनी बाइक चलाता है, और फिर से 25 km/h की औसत चाल से 14 km की यात्रा करता है। पूरी यात्रा के लिए उसकी औसत चाल (लगभग) क्या है?

- Ans
- 1. 29.81 km/h
 - 2. 28.76 km/h
 - 3. 27.68 km/h
 - 4. 26.87 km/h

Question ID : 26433076221
Status : Answered
Chosen Option : 3

Q.19 एक कार का वर्तमान मूल्य ₹ 8,50,000 है और इसका मूल्य 10% प्रति वर्ष की दर से मूल्यहास हो रहा है। 4 वर्ष बाद इसका मूल्य (₹ में) क्या होगा?

- Ans
- 1. 5,47,685
 - 2. 5,57,685
 - 3. 5,57,865
 - 4. 5,67,685

Question ID : 26433075560
Status : Answered
Chosen Option : 2

Q.20 25% का लाभ प्राप्त करने के लिए 1 kg के वास्तविक वजन के बजाय एक बेईमान दुकानदार द्वारा उपयोग किया जाने वाला दोषपूर्ण वजन कितना है?

- Ans
- 1. 980 ग्राम
 - 2. 250 ग्राम
 - 3. 640 ग्राम
 - 4. 800 ग्राम

Question ID : 26433075810
Status : Answered
Chosen Option : 2

Section : Part-D-English

Q.1 Select the most appropriate synonym of the given word.
Earn

- Ans
- 1. Surrender
 - 2. Receive
 - 3. Lose
 - 4. Accord

Question ID : 26433086427
Status : Not Answered
Chosen Option : --

Q.2 Select the most appropriate meaning of the given idiom.

Fit as a fiddle

- Ans
- 1. Limited in scope
 - 2. To be of perfect size
 - 3. Emergency situation
 - 4. In good health

Question ID : 26433073708
Status : Not Answered
Chosen Option : --

Q.3 Select the most appropriate synonym of the given word.

Consistent

- Ans
- 1. Alter
 - 2. Evolve
 - 3. Change
 - 4. Constant

Question ID : 26433073636
Status : Not Answered
Chosen Option : --

Q.4 Select the most appropriate option to fill in the blank.
The private _____ has contributed immensely to the country's economy.

- Ans
- 1. division
 - 2. section
 - 3. sector
 - 4. segment

Question ID : 26433084650
Status : Not Answered
Chosen Option : --

Q.5 Select the word segment that substitutes (replaces) the bracketed word segment correctly and completes the sentence meaningfully.

When the last Tsar of Russia (were arrested by revolutionaries), he and his family were hiding at a palace near St. Petersburg; now that palace is open to tourists.

- Ans
- 1. were arrest by revolutionaries
 - 2. is arrested by revolutionaries
 - 3. is arresting from revolutionaries
 - 4. was arrested by revolutionaries

Question ID : 26433088964
Status : Not Answered
Chosen Option : --

Q.6 Select the most appropriate synonym of the word given below to fill in the blank in the following sentence.

Pamper
My grandmother said, "Don't _____ the kid. He will get spoiled".

- Ans
- 1. coddle
 - 2. bend
 - 3. attend
 - 4. comfortable

Question ID : 26433084777
Status : Not Answered
Chosen Option : --

Q.7 Select the most appropriate option to substitute the underlined segment in the given sentence.

This is an olden building of historical importance.

- Ans
- 1. older
 - 2. very older
 - 3. ancient
 - 4. elder

Question ID : 264330100291
Status : Not Answered
Chosen Option : --

Q.8 Select the correct word for the blanks in the given sentence.

Sushant is a very _____ person and the _____ of first ten natural numbers is 5.5.

- Ans
- 1. honest
 - 2. clever
 - 3. shrewd
 - 4. mean

Question ID : 26433060539
Status : Not Answered
Chosen Option : --

Q.9 Select the most appropriate ANTONYM of the given word.

Generous

- Ans
- 1. Liberal
 - 2. Free
 - 3. Selfless
 - 4. Selfish

Question ID : 26433072270
Status : Not Answered
Chosen Option : --

Q.10 Select the most appropriate meaning of the given idiom.

Take it with a grain of salt

- Ans
- 1. To imagine that someone is working against you
 - 2. To calculate things with utmost precision
 - 3. To understand that something is likely to be untrue
 - 4. To misinterpret that the real situation is hidden

Question ID : 26433073492
Status : Not Answered
Chosen Option : --

Q.11 The sentence given below has one misspelt word. Spot the INCORRECTLY spelt word and select its correct spelling.

Some diseases are due to neurological disorders.

- Ans
- 1. Neurological
 - 2. Neurologecal
 - 3. Newrologecal
 - 4. Newrological

Question ID : 26433073551
Status : Not Answered
Chosen Option : --

Q.12 Select the correct word for the blanks in the given sentence.

The tree has a brown _____ and the dogs _____ at the stranger.

- Ans
- 1. sound
 - 2. tail
 - 3. bark
 - 4. trunk

Question ID : 26433060529
Status : Not Answered
Chosen Option : --

Q.13 Fill in the blank by selecting the meaningful and correctly spelt word from the given options.

Nowadays, the police get a long _____ of drug peddlers every day.

- Ans
- 1. leest
 - 2. least
 - 3. lest
 - 4. list

Question ID : 26433072064
Status : Not Answered
Chosen Option : --

Q.14 The following sentence has been split into four segments. Identify the segment that contains a grammatical error.

The peon / was brought / a cup of / coffee for Naina.

- Ans
- 1. The peon
 - 2. was brought
 - 3. a cup of
 - 4. coffee for Naina

Question ID : 26433094743
Status : Not Answered
Chosen Option : --

Q.15 Select the most appropriate ANTONYM of the given word.
Hope

- Ans
- 1. Despair
 - 2. Fantasy
 - 3. Craving
 - 4. Promise

Question ID : 26433086377
Status : Not Answered
Chosen Option : --

Comprehension:

In the following passage, some words have been deleted. Read the passage carefully and select the most appropriate option to fill in each blank.

An initiative has been (1) _____ in the educational reform sector in form of Social and Emotional Learning (SEL). This novel (2) _____ helps students to understand and manage their own emotions. The students (3) _____ and learn in a constructive manner. This concept (4) _____ momentum with the publication of the best seller by Daniel Goleman titled 'Emotional Intelligence: Why it can matter more than IQ'. It (5) _____ the enhancement of the given competencies: speaking and listening, cooperative skills and problem solving.

SubQuestion No : 16

Q.16 Select the most appropriate option to fill in blank no. 1.

- Ans
- 1. reckoned
 - 2. discovered
 - 3. started
 - 4. established

Question ID : 26433072244

Status : Not Answered

Chosen Option : --

Comprehension:

In the following passage, some words have been deleted. Read the passage carefully and select the most appropriate option to fill in each blank.

An initiative has been (1) _____ in the educational reform sector in form of Social and Emotional Learning (SEL). This novel (2) _____ helps students to understand and manage their own emotions. The students (3) _____ and learn in a constructive manner. This concept (4) _____ momentum with the publication of the best seller by Daniel Goleman titled 'Emotional Intelligence: Why it can matter more than IQ'. It (5) _____ the enhancement of the given competencies: speaking and listening, cooperative skills and problem solving.

SubQuestion No : 17

Q.17 Select the most appropriate option to fill in blank no. 2.

- Ans
- 1. application
 - 2. concept
 - 3. intention
 - 4. experiment

Question ID : 26433072245

Status : Not Answered

Chosen Option : --

Comprehension:

In the following passage, some words have been deleted. Read the passage carefully and select the most appropriate option to fill in each blank.

An initiative has been (1) _____ in the educational reform sector in form of Social and Emotional Learning (SEL). This novel (2) _____ helps students to understand and manage their own emotions. The students (3) _____ and learn in a constructive manner. This concept (4) _____ momentum with the publication of the best seller by Daniel Goleman titled 'Emotional Intelligence: Why it can matter more than IQ'. It (5) _____ the enhancement of the given competencies: speaking and listening, cooperative skills and problem solving.

SubQuestion No : 18**Q.18 Select the most appropriate option to fill in blank no. 3.****Ans** ✓ 1. interact

✗ 2. act

✗ 3. mingle

✗ 4. affect

Question ID : 26433072246

Status : Not Answered

Chosen Option : --

Comprehension:

In the following passage, some words have been deleted. Read the passage carefully and select the most appropriate option to fill in each blank.

An initiative has been (1) _____ in the educational reform sector in form of Social and Emotional Learning (SEL). This novel (2) _____ helps students to understand and manage their own emotions. The students (3) _____ and learn in a constructive manner. This concept (4) _____ momentum with the publication of the best seller by Daniel Goleman titled 'Emotional Intelligence: Why it can matter more than IQ'. It (5) _____ the enhancement of the given competencies: speaking and listening, cooperative skills and problem solving.

SubQuestion No : 19**Q.19 Select the most appropriate option to fill in blank no. 4.****Ans** ✓ 1. gained

✗ 2. gratified

✗ 3. relieved

✗ 4. profited

Question ID : 26433072247

Status : Not Answered

Chosen Option : --

Comprehension:

In the following passage, some words have been deleted. Read the passage carefully and select the most appropriate option to fill in each blank.

An initiative has been (1) _____ in the educational reform sector in form of Social and Emotional Learning (SEL). This novel (2) _____ helps students to understand and manage their own emotions. The students (3) _____ and learn in a constructive manner. This concept (4) _____ momentum with the publication of the best seller by Daniel Goleman titled 'Emotional Intelligence: Why it can matter more than IQ'. It (5) _____ the enhancement of the given competencies: speaking and listening, cooperative skills and problem solving.

SubQuestion No : 20

Q.20 Select the most appropriate option to fill in blank no. 5.

- Ans
- 1. merges
 - 2. influences
 - 3. compares
 - 4. incorporates

Question ID : 26433072248

Status : Not Answered

Chosen Option : --

Section : Part-D-Hindi

Q.1 निम्न में से शुद्ध वाक्य का चयन कीजिए।

- Ans
- 1. उन लोगों की मनोवृत्ति ठीक नहीं लगती।
 - 2. खुदा की कसम गजब हो गई।
 - 3. इस लड़की का चाल ठीक नहीं है।
 - 4. यहाँ के हवा – पानी बहुत खराब है।

Question ID : 26433063074

Status : Answered

Chosen Option : 2

Q.2 निम्नलिखित वाक्य में रेखांकित खंड के स्थान पर प्रयुक्त होने वाले सबसे उपयुक्त विकल्प का चयन कीजिए-

विनय के पुस्तक पढ़ी।

- Ans
- 1. ने
 - 2. से
 - 3. को
 - 4. में

Question ID : 26433079662

Status : Answered

Chosen Option : 1

Q.3 निम्नलिखित में से किस वाक्य में 'अग्रज' के सही विलोम शब्द का उपयोग हुआ है?

- Ans
- 1. मोहन मेरा ही आनुज है।
 - 2. मोहन मेरा अपना अनुज्य है।
 - 3. मोहन मेरा अनुज है।
 - 4. मोहन मेरा अनूज है।

Question ID : 26433091220
Status : Answered
Chosen Option : 3

Q.4 दिए गए शब्दों में से उचित शब्द से वाक्य पूर्ण करें --
महानगरों में कई जगह कूड़े के _____ दिखाई देते हैं।

- Ans
- 1. अंबरसारी
 - 2. अंबार
 - 3. अंबर
 - 4. अंबारी

Question ID : 26433062910
Status : Answered
Chosen Option : 2

Q.5 निम्नलिखित वाक्य में रेखांकित शब्द का दिए गये विकल्पों में से कौन-सा शब्द पर्यायवाची नहीं है?
सरदार पटेल की प्रतिमा 'लोहे' की बनी है।

- Ans
- 1. अयस
 - 2. लाह
 - 3. लौह
 - 4. आहन

Question ID : 26433085072
Status : Answered
Chosen Option : 4

Q.6 निम्न में से किस वाक्य में 'कलह' के सही पर्यायवाची शब्द का प्रयोग हुआ है?

- Ans
- 1. राधा ने उन दोनों की सुलह कराई।
 - 2. सर्वत्र शांति छाई हुई है।
 - 3. रतन और मयंक के बीच कल विवाद हो गया।
 - 4. निशा का सुजय से कोई रिश्ता नहीं है।

Question ID : 26433067016
Status : Answered
Chosen Option : 3

Q.7 निम्न वाक्य में रेखांकित शब्द-समूह के लिए सर्वाधिक उपयुक्त विकल्प चुनें।
तुम्हारा अपराध क्षमा किए जाने योग्य है।

- Ans 1. अशोभनीय
 2. क्षम्य
 3. अक्षम्य
 4. गलत

Question ID : 26433079208
Status : Answered
Chosen Option : 2

Q.8 'यथासंभव' के लिए कौन सा वाक्यांश उपयुक्त होगा?

- Ans 1. जहाँ तक हो सके
 2. संभवतः
 3. यथारूप
 4. संभव हो

Question ID : 26433062692
Status : Answered
Chosen Option : 1

Q.9 वाक्य में रेखांकित अंश के लिए उचित मुहावरा दिए गए विकल्पों में से चुनिए-
न माया मिली न राम, वह कहीं का नहीं रहा।

- Ans 1. घड़ों पानी पड़ना
 2. गूलर का फूल
 3. घर का न घाट का
 4. चल बसना

Question ID : 26433062305
Status : Answered
Chosen Option : 3

Q.10 निम्नलिखित अर्थ को समझाने वाले मुहावरे का चयन विकल्पों में से कीजिए।
इज्जत उतारना

- Ans 1. मिट्टी पलीद करना
 2. मखमली जूते मारना
 3. मुँह की बात छीनना
 4. मुँह चाटना

Question ID : 26433070013
Status : Answered
Chosen Option : 1

Q.11 निम्नलिखित वाक्य के किस शब्द में अशुद्धि है?
प्रत्येक छोटी-मोटी विशेषता को देखनि चाहिए।

- Ans
- 1. प्रत्येक
 - 2. विशेषता
 - 3. चाहिए।
 - 4. देखनि

Question ID : 26433066771
Status : Answered
Chosen Option : 4

Q.12 निम्नलिखित विकल्पों में से 'जो उचित समय पर न हो' वाक्यांश के लिए एक सार्थक शब्द क्या होगा ?

- Ans
- 1. सामयिक
 - 2. असामयिक
 - 3. काल्पनिक
 - 4. कल्पनाजन्य

Question ID : 26433062536
Status : Answered
Chosen Option : 2

Q.13 समझ-बुझकर काम करना चाहिए।
विकल्पों में से चुनकर बताइए कि उक्त वाक्य में रेखांकित पद किस प्रकार की क्रिया है?

- Ans
- 1. पुनरुक्त क्रिया
 - 2. संयुक्त क्रिया
 - 3. प्रेरणार्थक क्रिया
 - 4. नाम बोधक क्रिया

Question ID : 26433079228
Status : Answered
Chosen Option : 3

Q.14 निम्नलिखित में से किस वाक्य में तुलनात्मक विशेषण की उत्तमावस्था के अशुद्ध रूप का उपयोग हुआ है?

- Ans
- 1. इन सब में से तुम सबसे सुन्दर हो।
 - 2. उसका स्वभाव कोमलरतम है।
 - 3. सभी महासागरों में प्रशांत महासागर विशालतम है।
 - 4. हल्क सबसे ज्यादा बलवान है।

Question ID : 26433062996
Status : Answered
Chosen Option : 2

Q.15 निम्नलिखित वाक्यांश के लिए सार्थक शब्द का चयन विकल्पों में से कीजिए।
जिस घटना को वचन से व्यक्त न किया जा सके

- Ans 1. अनुकरणीय
 2. अनिर्वचनीय
 3. अविस्मरणीय
 4. अतुलनीय

Question ID : 26433069983
Status : Answered
Chosen Option : 2

Comprehension:

निम्नलिखित गद्यांश में कुछ शब्दों को हटा दिया गया है। दिए गए विकल्पों की सहायता से रिक्त स्थानों की पूर्ति कीजिए। प्रत्येक संख्या के लिए सबसे उपयुक्त विकल्प का चयन कीजिए।
मानव सभ्यता वनों में पलकर 1. _____ हुई है। आदिमानव का जन्म वहीं हुआ तथा वहां के वृक्षों के फल
2. _____ ही वह बड़ा हुआ। भारतीय 3. _____ के अधिकांश महान ग्रन्थ ऋषि मुनियों द्वारा
4. _____ में ही रचे गए। आज की स्थिति यह है कि मनुष्य पेड़-पौधों को नष्ट करने के लिए
5. _____ हो गया है।

SubQuestion No : 16

Q.16 रिक्त स्थान 1 की पूर्ति के लिए सबसे उपयुक्त विकल्प का चयन कीजिए।

- Ans 1. खत्म
 2. अमूल्य
 3. बड़ा
 4. विकसित

Question ID : 264330110999
Status : Answered
Chosen Option : 4

Comprehension:

निम्नलिखित गद्यांश में कुछ शब्दों को हटा दिया गया है। दिए गए विकल्पों की सहायता से रिक्त स्थानों की पूर्ति कीजिए। प्रत्येक संख्या के लिए सबसे उपयुक्त विकल्प का चयन कीजिए।
मानव सभ्यता वनों में पलकर 1. _____ हुई है। आदिमानव का जन्म वहीं हुआ तथा वहां के वृक्षों के फल
2. _____ ही वह बड़ा हुआ। भारतीय 3. _____ के अधिकांश महान ग्रन्थ ऋषि मुनियों द्वारा
4. _____ में ही रचे गए। आज की स्थिति यह है कि मनुष्य पेड़-पौधों को नष्ट करने के लिए
5. _____ हो गया है।

SubQuestion No : 17

Q.17 रिक्त स्थान 2 की पूर्ति के लिए सबसे उपयुक्त विकल्प का चयन कीजिए।

- Ans 1. देखकर
 2. तोड़कर
 3. खाकर
 4. नुकसानकर

Question ID : 264330111000
Status : Answered
Chosen Option : 3

Comprehension:

निम्नलिखित गद्यांश में कुछ शब्दों को हटा दिया गया है। दिए गए विकल्पों की सहायता से रिक्त स्थानों की पूर्ति कीजिए। प्रत्येक संख्या के लिए सबसे उपयुक्त विकल्प का चयन कीजिए।
मानव सभ्यता वनों में पलकर 1. _____ हुई है। आदिमानव का जन्म वहीं हुआ तथा वहां के वृक्षों के फल
2. _____ ही वह बड़ा हुआ। भारतीय 3. _____ के अधिकांश महान ग्रन्थ ऋषि मुनियों द्वारा
4. _____ में ही रचे गए। आज की स्थिति यह है कि मनुष्य पेड़-पौधों को नष्ट करने के लिए
5. _____ हो गया है।

SubQuestion No : 18

Q.18 रिक्त स्थान 3 की पूर्ति के लिए सबसे उपयुक्त विकल्प का चयन कीजिए।

- Ans
- 1. परिवार
 - 2. देख-रेख
 - 3. संरक्षण
 - 4. संस्कृति

Question ID : 264330111001

Status : Answered

Chosen Option : 4

Comprehension:

निम्नलिखित गद्यांश में कुछ शब्दों को हटा दिया गया है। दिए गए विकल्पों की सहायता से रिक्त स्थानों की पूर्ति कीजिए। प्रत्येक संख्या के लिए सबसे उपयुक्त विकल्प का चयन कीजिए।
मानव सभ्यता वनों में पलकर 1. _____ हुई है। आदिमानव का जन्म वहीं हुआ तथा वहां के वृक्षों के फल
2. _____ ही वह बड़ा हुआ। भारतीय 3. _____ के अधिकांश महान ग्रन्थ ऋषि मुनियों द्वारा
4. _____ में ही रचे गए। आज की स्थिति यह है कि मनुष्य पेड़-पौधों को नष्ट करने के लिए
5. _____ हो गया है।

SubQuestion No : 19

Q.19 रिक्त स्थान 4 की पूर्ति के लिए सबसे उपयुक्त विकल्प का चयन कीजिए।

- Ans
- 1. महल
 - 2. वातावरण
 - 3. आवश्यक
 - 4. तपोवन

Question ID : 264330111002

Status : Answered

Chosen Option : 2

Comprehension:

निम्नलिखित गद्यांश में कुछ शब्दों को हटा दिया गया है। दिए गए विकल्पों की सहायता से रिक्त स्थानों की पूर्ति कीजिए। प्रत्येक संख्या के लिए सबसे उपयुक्त विकल्प का चयन कीजिए।
मानव सभ्यता वनों में पलकर 1. _____ हुई है। आदिमानव का जन्म वहीं हुआ तथा वहां के वृक्षों के फल
2. _____ ही वह बड़ा हुआ। भारतीय 3. _____ के अधिकांश महान ग्रन्थ ऋषि मुनियों द्वारा
4. _____ में ही रचे गए। आज की स्थिति यह है कि मनुष्य पेड़-पौधों को नष्ट करने के लिए
5. _____ हो गया है।

SubQuestion No : 20

Q.20 रिक्त स्थान 5 की पूर्ति के लिए सबसे उपयुक्त विकल्प का चयन कीजिए।

- Ans 1. विचरण
 2. तत्पर
 3. सहज
 4. संभव

Question ID : 264330111003

Status : Answered

Chosen Option : 2

WWW.GOVtJOBSALERT.COM