

Constable GD in CAPFs SSF Rifleman GD in Assam Rifles and Sepoy in NCB Examination 2022

Roll Number	www.govtjobsalert.in
Candidate Name	www.govtjobsalert.in
Venue Name	iON Digital Zone iDZ Kuberpur
Exam Date	16/01/2023
Exam Time	5:15 PM - 6:15 PM
Subject	Constable GD Examination 2022

Section : Part-A-General Intelligence and Reasoning

Q.1 निम्नलिखित में से कौन-सा अक्षर-समूह दी गई श्रृंखला में प्रश्न-चिह्न (?) के स्थान पर आएगा?
YSEA, WQGC, UOIE, ?, QKMI

- Ans
- 1. RMLH
 - 2. RMLG
 - 3. SMLH
 - 4. SMKG

Question ID : 26433076439

Status : Answered

Chosen Option : 4

Q.2 एक निश्चित कूट भाषा में, 'STORK' को 'URROO' के रूप में लिखा जाता है और 'ASHES' को 'CQKBW' के रूप में लिखा जाता है। उसी भाषा में 'BUNKE' को कैसे लिखा जाएगा?

- Ans
- 1. DSQHI
 - 2. DSPHG
 - 3. DSQGI
 - 4. DRPGI

Question ID : 26433069607

Status : Answered

Chosen Option : 1

Q.3 यदि श्रृंखला जारी रखनी है तो कौन-सी आकृति प्रश्न चिह्न (?) के स्थान पर

आएगी?

\cup X	C P	P X	
=	X =	= \cap	=
<input type="radio"/>	<input type="radio"/>	X	<input type="radio"/>

Ans

✗ 1.

X	P
=	
	\cup

✗ 2.

T	
X	=
C	

✗ 3.

	P
=	
X	\cup

✓ 4.

	T
X	=
\cup	

Question ID : 26433076641

Status : Answered

Chosen Option : 4

Q.4 उस विकल्प का चयन करें, जो पांचवे अक्षर-समूह से उसी प्रकार संबंधित है, जिस प्रकार दूसरा अक्षर-समूह पहले अक्षर-समूह से संबंधित है, और चौथा अक्षर-समूह तीसरे अक्षर-समूह से संबंधित है।
LEAP : KFZQ :: CLOS : BMNT :: EJOT : ?

Ans ✓ 1. DKNU

✗ 2. KCNS

✗ 3. DKNS

✗ 4. KDZO

Question ID : 26433080462

Status : Answered

Chosen Option : 1

Q.5 X और Z बहनें हैं। Y, Z का भाई है। S, Z की बेटी है। T, S का भाई है। T, U से विवाहित है। Y, S से किस प्रकार संबंधित है?

- Ans 1. मामा
 2. नाना
 3. भाई
 4. पिता

Question ID : 26433074600

Status : Answered

Chosen Option : 1

Q.6 दिए गए समीकरण को संतुलित करने के लिए विकल्पों में दी गई किन दो संख्याओं (अंकों को नहीं) को परस्पर बदलना होगा?

$$158 - 64 \times 6 \div 2 = 4 \times 15 \div 3$$

- Ans 1. 6 और 4
 2. 64 और 6
 3. 15 और 158
 4. 64 और 4

Question ID : 26433082479

Status : Answered

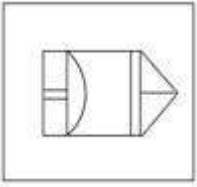
Chosen Option : 1

Q.7 निम्न विकल्पों में से उस उत्तर आकृति का चयन करें जिसमें नीचे दी गई प्रश्न आकृति निहित है (आकृति घुमाने की अनुमति नहीं है)।

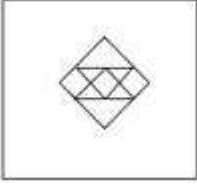


Ans

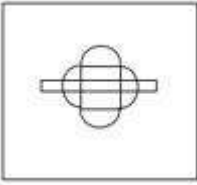
✗ 1.



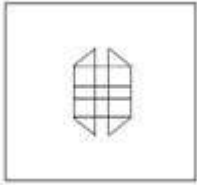
✗ 2.



✗ 3.



✓ 4.



Question ID : 26433070206

Status : Answered

Chosen Option : 4

Q.8 दिए गए विकल्पों में से वह संख्या चुनिए, जो निम्नलिखित श्रृंखला में प्रश्न-चिह्न (?) को प्रतिस्थापित कर सके।

784, 568, 443, ?, 352

Ans ✗ 1. 382

✗ 2. 361

✓ 3. 379

✗ 4. 427

Question ID : 26433074535

Status : Answered

Chosen Option : 3

Q.9 एक निश्चित कूट भाषा में, 'LEAF' को 'EZDK' के रूप में लिखा जाता है और 'PLANT' को 'SMZKO' के रूप में लिखा जाता है, उसी भाषा में 'FLOWER' को कैसे लिखा जाएगा?

- Ans
- 1. QDWNKE
 - 2. EDVNKE
 - 3. QDVNKE
 - 4. QDVNKD

Question ID : 26433079392

Status : Answered

Chosen Option : 3

Q.10 उस विकल्प का चयन करें, जो पाँचवीं संख्या से उसी प्रकार संबंधित है, जिस प्रकार दूसरी संख्या, पहली संख्या से संबंधित है और चौथी संख्या, तीसरी संख्या से संबंधित है।
46 : 11 :: 30 : 7 :: 50 : ?

- Ans
- 1. 13
 - 2. 8
 - 3. 12
 - 4. 9

Question ID : 26433069417

Status : Answered

Chosen Option : 3

Q.11 पांच व्यक्ति A, B, C, D और E एक सीधी पंक्ति में उत्तर की ओर मुख करके बैठे हैं। A, C के बाईं ओर ठीक बगल में बैठा है। A और E के बीच में केवल C बैठा है। B, E के दाईं ओर बैठा है। D, B के दाईं ओर बैठा है। पंक्ति के अंतिम बाएं सिरे पर कौन बैठा है?

- Ans
- 1. D
 - 2. A
 - 3. C
 - 4. B

Question ID : 26433074621

Status : Answered

Chosen Option : 2

Q.12 दो गई आकृति के सही दर्पण प्रतिबिम्ब का चयन करें जब दर्पण को MN पर रखा जाए जैसा कि नीचे दर्शाया गया है।



Ans

- ✓ 1. YmoNoiOTz6
✗ 2. YmoNoRTz6
✗ 3. YmoNoRt26
✗ 4. YmoNoRTz6

Question ID : 26433085561

Status : Answered

Chosen Option : 1

Q.13 किस विकल्प में निम्नलिखित शब्दों का वह क्रम दिया गया है, जिस क्रम में वे अंग्रेजी शब्दकोश में आते हैं?

- 1 dream
2 drown
3 drone
4 dropped
5 drama

- Ans ✗ 1. 5,4,3,1,2
✓ 2. 5,1,3,4,2
✗ 3. 5,3,1,4,2
✗ 4. 5,2,3,1,4

Question ID : 26433069289

Status : Answered

Chosen Option : 2

Q.14 नीचे दिए गए समीकरण को गणितीय रूप से सही बनाने के लिए किन दो चिन्हों को परस्पर बदलना चाहिए?

$$72 - 36 \times 4 \div 6 + 24 = 42$$

- Ans ✗ 1. + और -
✗ 2. - और ÷
✓ 3. ÷ और x
✗ 4. x और +

Question ID : 264330117535

Status : Answered

Chosen Option : 3

Q.15 तीन कथनों के बाद दो निष्कर्ष दिए गए हैं। कथनों को सत्य मानते हुए, भले ही वे सामान्य रूप से ज्ञात तथ्यों से भिन्न प्रतीत होते हों, निर्णय करें कि कौन सा/से निष्कर्ष कथनों का तार्किक रूप से अनुसरण करता/करते है/हैं।

कथन:

कुछ ट्रेन बस हैं।

कोई भी बस कार नहीं है।

कुछ कार बाइक हैं।

निष्कर्ष:

1. कुछ बाइक कार हैं।

2. कुछ बाइक ट्रेन हैं।

Ans 1. केवल निष्कर्ष 2 अनुसरण करता है।

2. केवल निष्कर्ष 1 अनुसरण करता है।

3. न तो निष्कर्ष 1 और न ही 2 अनुसरण करता है।

4. निष्कर्ष 1 और 2 दोनों अनुसरण करते हैं।

Question ID : 26433089423

Status : Answered

Chosen Option : 2

Q.16 कौन-सा अक्षर-समूह दी गई श्रृंखला में प्रश्नचिह्न (?) के स्थान पर आकर श्रृंखला को पूर्ण करेगा?
ABDG, DEGJ, ?, JKMP, MNPS

Ans 1. FGIL

2. FHIK

3. GHJM

4. GHKM

Question ID : 26433067717

Status : Answered

Chosen Option : 3

Q.17 उस विकल्प का चयन कीजिए जो तीसरे शब्द से उसी प्रकार संबंधित है जिस प्रकार दूसरा शब्द पहले शब्द से संबंधित है। (शब्दों को अर्थपूर्ण शब्दों के रूप में मानना है और उन्हें शब्द में अक्षरों/व्यंजनों/स्वरों की संख्या के आधार पर एक-दूसरे से संबंधित नहीं करना है।)
प्रतिरोध : ओम :: ऊर्जा : ?

Ans 1. वाट

2. जूल

3. वोल्ट

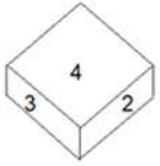
4. प्रबलता

Question ID : 26433067370

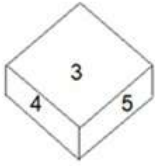
Status : Answered

Chosen Option : 2

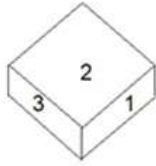
Q.18 एक ही पासे की तीन अलग-अलग स्थितियां दर्शाई गई हैं। '3' दर्शाने वाले फलक के विपरीत फलक पर संख्या ज्ञात करें।



आकृति 1



आकृति 2



आकृति 3

- Ans
- 1. 5
 - 2. 2
 - 3. 4
 - 4. 6

Question ID : 26433089453

Status : Answered

Chosen Option : 4

Q.19 निम्न में से कौन सी संख्या दी गई श्रृंखला में प्रश्नचिह्न (?) के स्थान पर आएगी?
8, 17, 36, ?, 154

- Ans
- 1. 75
 - 2. 46
 - 3. 86
 - 4. 57

Question ID : 26433076737

Status : Answered

Chosen Option : 1

Q.20 छः विद्यार्थी एक वृत्ताकार मेज के परितः मेज के केंद्र की ओर मुख करके बैठे हैं। F, A के ठीक बगल में है। D, E के दाईं ओर दूसरे स्थान पर बैठा है। B, E के ठीक बगल में है, और C के दाईं ओर दूसरे स्थान पर बैठा है। F, D के दाईं ओर दूसरे स्थान पर बैठा है। A, E के ठीक बगल में नहीं है। D और E के बीच में कौन बैठा है?

- Ans
- 1. A
 - 2. F
 - 3. B
 - 4. C

Question ID : 26433092766

Status : Answered

Chosen Option : 3

Q.1 जून 2022 में विपक्षी दलों द्वारा भारत के राष्ट्रपति पद का उम्मीदवार कौन था?

- Ans
- 1. द्रौपदी मुर्मू
 - 2. सोनिया गांधी
 - 3. यशवंत सिन्हा
 - 4. जयराम रमेश

Question ID : 264330114920

Status : Answered

Chosen Option : 3

Q.2 _____ मूल कर्तव्यों को भारतीय संविधान के भाग IV A के अनुच्छेद _____ में सूचीबद्ध किया गया है।

- Ans
- 1. 11; 51A
 - 2. 11; 52A
 - 3. 13; 52A
 - 4. 13; 51A

Question ID : 26433089910

Status : Answered

Chosen Option : 1

Q.3 भारत में, इस अधिनियम के अंतर्गत अंतर-धर्म विवाह किए जाते हैं:

- Ans
- 1. हिंदू विवाह एवं दत्तक ग्रहण अधिनियम
 - 2. विशेष विवाह अधिनियम
 - 3. भारतीय उत्तराधिकार अधिनियम
 - 4. सिविल प्रक्रिया संहिता

Question ID : 264330116223

Status : Answered

Chosen Option : 2

Q.4 सितंबर 2022 में, भारत के 16वें अटॉर्नी जनरल के रूप में किसे नियुक्त किया गया?

- Ans
- 1. गुलाम एस्साजी वाहनवती
 - 2. आर. वेंकटरमणि
 - 3. कोट्टयन कटंकोट वेणुगोपाल
 - 4. मुकुल रोहतगी

Question ID : 264330115025

Status : Answered

Chosen Option : 3

Q.5 निम्नलिखित सूची में से एक वामन ग्रह की पहचान करें।

- Ans
- 1. बुध
 - 2. प्लूटो
 - 3. नेपच्यून
 - 4. मंगल

Question ID : 26433087885

Status : Answered

Chosen Option : 2

Q.6 किसी राज्य में मंत्रियों को रैंक और विभागों का आवंटन निम्न में से किसके द्वारा किया जाता है?

- Ans
- 1. मुख्यमंत्री
 - 2. राजनीतिक दल के प्रमुख
 - 3. राज्यपाल
 - 4. स्पीकर

Question ID : 26433086673

Status : Answered

Chosen Option : 1

Q.7 खाद्य श्रृंखला में किसी जीव की विशिष्ट स्थिति क्या कहलाती है?

- Ans
- 1. उपभोक्ता
 - 2. पोषी स्तर
 - 3. बायोमास
 - 4. खड़ी फसल

Question ID : 264330115253

Status : Not Answered

Chosen Option : --

Q.8 2020 ग्रीष्मकालीन पैरालिम्पिक्स की मेजबानी _____ द्वारा की गई थी।

- Ans
- 1. रूस
 - 2. फ्रांस
 - 3. कोरिया
 - 4. जापान

Question ID : 264330115915

Status : Answered

Chosen Option : 4

Q.9 निम्नलिखित में से कौन से अशोक के शासन में एक प्रांतीय राजधानी थी?

I. तक्षशिला

II. उज्जैन

- Ans 1. I तथा II दोनों
 2. केवल II
 3. ना तो I ना तो II
 4. केवल I

Question ID : 26433085216

Status : Answered

Chosen Option : 4

Q.10 चेक लिखने वाले व्यक्ति या संस्था को भुगतानकर्ता या _____ के रूप में जाना जाता है।

- Ans 1. आहर्ता
 2. अदाकर्ता
 3. विक्रेता
 4. निर्माता

Question ID : 264330115322

Status : Answered

Chosen Option : 4

Q.11 मकर संक्रांति, 'उत्तरायण' की शुरुआत का प्रतीक है। यह _____ को मनाई जाती है।

- Ans 1. 20 जनवरी
 2. 16 मार्च
 3. 15 फरवरी
 4. 14 जनवरी

Question ID : 264330115096

Status : Answered

Chosen Option : 4

Q.12 भारत में हरित क्रांति 1960 के दशक के अंत में _____ में शुरू हुई थी।

- Ans 1. आंध्र प्रदेश
 2. महाराष्ट्र
 3. पंजाब
 4. उत्तराखंड

Question ID : 264330116157

Status : Answered

Chosen Option : 3

Q.13 उन लोगों के लिए क्या शब्द प्रयोग किया जाता है जो नियमित रूप से निर्धनता रेखा के अंदर और उससे बाहर होते रहते हैं?

- Ans
- 1. समान्यतः निर्धन
 - 2. चक्रीय निर्धन
 - 3. अनियमित निर्धन
 - 4. चिरकालिक निर्धन

Question ID : 264330116077
Status : Not Answered
Chosen Option : --

Q.14 निम्नलिखित में से कौन-सा नृत्य प्रकार झारखंड से संबंधित नहीं है?

- Ans
- 1. लावणी
 - 2. अग्नि
 - 3. फगुआ
 - 4. मर्दाना झूमर

Question ID : 26433071688
Status : Answered
Chosen Option : 1

Q.15 निम्नलिखित में से किस भारतीय शास्त्रीय नर्तक को संगीत नाटक अकादमी फेलो (अकादमी रत्न) से सम्मानित किया गया है?

- Ans
- 1. जोगेन दत्ता बयान
 - 2. सरोदी सैकिया
 - 3. सोनल मानसिंह
 - 4. टंकेश्वर हजारिका बोरबयान

Question ID : 264330115877
Status : Not Answered
Chosen Option : --

Q.16 LBW शब्द किस खेल से संबंधित है?

- Ans
- 1. वॉलीबॉल
 - 2. फुटबॉल
 - 3. बैडमिंटन
 - 4. क्रिकेट

Question ID : 264330116291
Status : Answered
Chosen Option : 4

Q.17 शेर खान ने _____ में चौसा में हुमायूँ को हराया।

- Ans
- 1. 1545
 - 2. 1537
 - 3. 1541
 - 4. 1539

Question ID : 264330115703
Status : Answered
Chosen Option : 4

Q.18 _____ एथेनॉइक एसिड का रासायनिक सूत्र है।

- Ans
- 1. CH_2COOH
 - 2. CH_3COOH
 - 3. CH_3OH
 - 4. CH_2OH

Question ID : 264330115155
Status : Not Answered
Chosen Option : --

Q.19 औद्योगिक रूप से विकसित शहरी केंद्र आमतौर पर किससे घिरे होते हैं?

- Ans
- 1. कृषि शहरी पृष्ठप्रदेश
 - 2. कृषि ग्रामीण पृष्ठप्रदेश
 - 3. बंदरगाह पृष्ठप्रदेश
 - 4. कॉस्टल पृष्ठप्रदेश

Question ID : 264330115569
Status : Answered
Chosen Option : 3

Q.20 Which of the following organization governs the international trade?

- Ans
- 1. Securities and Exchange Board of India
 - 2. International Labor Organization
 - 3. United Nations Educational, Scientific and Cultural Organization
 - 4. World Trade Organization

Question ID : 264330115384
Status : Answered
Chosen Option : 4

Q.1 $60 \div 5 \times \left(\frac{9}{8} \text{ of } \frac{4}{3} \div \frac{3}{4} \text{ of } \frac{2}{3}\right)$ का मान ज्ञात कीजिए।

- Ans
- 1. 24
 - 2. 12
 - 3. 48
 - 4. 36

Question ID : 26433074976

Status : Answered

Chosen Option : 4

Q.2 s^3, s^2t , और st^2 का चतुर्थानुपाती ज्ञात कीजिए।

- Ans
- 1. t^2
 - 2. s^2t^2
 - 3. t^3
 - 4. st

Question ID : 26433080329

Status : Answered

Chosen Option : 3

Q.3 दो कारें दोपहर 12:00 बजे एक ही समय में 3.6 kms के एक वृत्ताकार पथ का चक्कर लगाना शुरू करती हैं। वे समान बिंदु से शुरू करती हैं तथा समान दिशा में चलती हैं। इनकी गति क्रमशः 72 kmph और 90 kmph है। कारें पुनः किस समय मिलेंगी?

- Ans
- 1. 12:03 PM
 - 2. 12:12 PM
 - 3. 12:09 PM
 - 4. 12:06 PM

Question ID : 264330116637

Status : Answered

Chosen Option : 4

Q.4 सुमन और अरुण मिलकर एक कार्य को 96 दिनों में, अरुण और राहुल 48 दिनों में और राहुल और सुमन 80 दिनों में पूरा कर सकते हैं, फिर राहुल, सुमन और अरुण मिलकर उसी कार्य को लगभग कितने दिनों में पूरा कर सकते हैं?

- Ans
- 1. 46 दिन
 - 2. 55 दिन
 - 3. 44 दिन
 - 4. 54 दिन

Question ID : 264330116907

Status : Answered

Chosen Option : 3

Q.5 एक दुकानदार ₹200 प्रति लीटर पर तेल बेचता है, जिसे उसने ₹160 प्रति लीटर में खरीदा था, लेकिन वह बेचते समय 1 लीटर के स्थान पर केवल 800 ml तेल देता है। लाभ का वास्तविक प्रतिशत ज्ञात करें।

- Ans
- 1. 52.25%
 - 2. 58.25%
 - 3. 54.25%
 - 4. 56.25%

Question ID : 26433080108

Status : Answered

Chosen Option : 4

Q.6 500 मीटर की दौड़ में, P, 2 kmph की चाल से दौड़ता है। P, Q को 20 मीटर की शुरुआती बढ़त देता है और फिर भी उसे 60 सेकंड से हरा देता है। Q की चाल ज्ञात कीजिए।

- Ans
- 1. 1.8 kmph
 - 2. 1.5 kmph
 - 3. 1.6 kmph
 - 4. 1.9 kmph

Question ID : 26433080243

Status : Answered

Chosen Option : 1

Q.7 $5x^2$ और $3xy$ का तृतीयानुपाती ज्ञात करें।

- Ans
- 1. $\frac{(9x^2)}{5}$
 - 2. $\frac{(9xy)}{5x}$
 - 3. $\frac{(9y^2)}{5}$
 - 4. $\frac{(9x^2y^2)}{5}$

Question ID : 26433076226

Status : Answered

Chosen Option : 3

Q.8 रीता कहती है कि वह अपना माल, क्रय मूल्य पर बेचती है। यदि वह 100 ग्राम के स्थान पर 80 ग्राम भार का उपयोग करती है, तो उसका लाभ प्रतिशत क्या होगा?

- Ans
- 1. 10%
 - 2. 20%
 - 3. 15%
 - 4. 25%

Question ID : 26433075654

Status : Answered

Chosen Option : 4

Q.9 मनोज म्यूचुअल फंड में Rs.57,695 का निवेश करता है, जो उसकी वार्षिक आय का 11% है। उसकी मासिक आय क्या होगी? (2 दशमलव स्थानों तक पूर्णांकित)

- Ans
- 1. Rs.63,441.99
 - 2. Rs.54,329.89
 - 3. Rs.43,708.33
 - 4. Rs.77,266.54

Question ID : 26433082711

Status : Answered

Chosen Option : 3

Q.10 10 व्यक्तियों के समूह में 20 kg वजन वाले एक व्यक्ति के स्थान पर एक नए व्यक्ति के शामिल होने पर उनका औसत वजन 7.9 kg बढ़ जाता है। नए व्यक्ति का वजन क्या है?

- Ans
- 1. 72 kg
 - 2. 99 kg
 - 3. 170 kg
 - 4. 86 kg

Question ID : 26433079996

Status : Answered

Chosen Option : 2

Q.11 यदि 9 व्यक्ति एक काम 18 दिन में कर सकते हैं, तो दोगुनी दक्षता वाले 18 व्यक्ति उसी काम को कितने दिन में कर सकते हैं?

- Ans
- 1. $\frac{7}{2}$ दिन
 - 2. $\frac{11}{2}$ दिन
 - 3. $\frac{5}{2}$ दिन
 - 4. $\frac{9}{2}$ दिन

Question ID : 26433080137

Status : Answered

Chosen Option : 4

Q.12 एक बल्लेबाज ने 96 रन बनाए जिसमें 2 चौके और 6 छक्के शामिल हैं। विकेटों के बीच दौड़कर उसने अपने कुल स्कोर का कितना प्रतिशत बनाया?

- Ans
- 1. 54.16 प्रतिशत
 - 2. 52.68 प्रतिशत
 - 3. 72.16 प्रतिशत
 - 4. 64.18 प्रतिशत

Question ID : 264330116827

Status : Answered

Chosen Option : 1

Q.13 एक घर का मूल्यांकन उस वर्ष की शुरुआत में उसके मूल्य की तुलना में एक वर्ष में 10% की दर से मूल्यहास होता है। यदि घर का वर्तमान मूल्य ₹40,00,000 है, तो तीन वर्ष बाद घर का मूल्य क्या होगा।

- Ans
- 1. ₹29,16,000
 - 2. ₹28,00,000
 - 3. ₹29,06,000
 - 4. ₹29,26,000

Question ID : 26433075885

Status : Answered

Chosen Option : 1

Q.14 आनंद स्थिर पानी में 8 km/h की चाल से नौकायन कर सकता है। उसे धारा के दिशा में नौकायन में जितना समय लगता है, उससे तीन गुना समय धारा के विपरीत दिशा में नौकायन में लगता है। धारा की चाल ज्ञात कीजिए।

- Ans
- 1. 4 km/h
 - 2. 4.5 km/h
 - 3. 3.5 km/h
 - 4. 3 km/h

Question ID : 26433080197

Status : Answered

Chosen Option : 1

Q.15 एक दुकान, नियमित रूप से, अंकित मूल्य पर 12% की छूट प्रदान करती है। त्योहारी सीजन के दौरान, यह 10% की क्रमिक छूट भी प्रदान करती है और मालिक अभी भी 5% लाभ अर्जित करता है। यदि नियमित छूट के साथ केवल 4% की क्रमिक छूट प्रदान की जाती, तो लाभ प्रतिशत कितना होता?

- Ans
- 1. 11%
 - 2. 12%
 - 3. 11.5%
 - 4. 12.5%

Question ID : 26433085449

Status : Not Answered

Chosen Option : --

Q.16 एक खिलौने का अंकित मूल्य Rs.1,600 है। यदि दुकानदार 10% की छूट और फिर 10% नकद छूट देता है, तो खिलौने का विक्रय मूल्य क्या होगा?

- Ans
- 1. Rs.1,096
 - 2. Rs.1,296
 - 3. Rs.1,088
 - 4. Rs.1,240

Question ID : 26433075661

Status : Answered

Chosen Option : 2

Q.17 राम, श्याम और मोहन के वज़न का अनुपात क्रमशः 7 : 8 : 5 है। राम, श्याम और मोहन का औसत वज़न 80 kg है। राम और श्याम का औसत वज़न क्या है?

- Ans
- 1. 95 kg
 - 2. 90 kg
 - 3. 80 kg
 - 4. 85 kg

Question ID : 26433075526

Status : Answered

Chosen Option : 2

Q.18 6 m त्रिज्या वाले एक गोले को दो बराबर भागों में काटा जाता है। इस प्रकार बने प्रत्येक अर्धगोले का

आयतन ज्ञात कीजिए। ($\pi = \frac{22}{7}$ का प्रयोग करें)

- Ans
- 1. 331.14 m³
 - 2. 452.57 m³
 - 3. 562.18 m³
 - 4. 531.11 m³

Question ID : 26433080066

Status : Not Answered

Chosen Option : --

Q.19 एक ठोस शंकु को 30 पैसे प्रति cm^2 की दर से रंगने की लागत ₹660 है। शंकु की तिर्यक ऊँचाई 15

cm है तो इसकी त्रिज्या ज्ञात कीजिए। ($\pi = \frac{22}{7}$ का प्रयोग करें)

- Ans
- 1. 40 cm
 - 2. 20 cm
 - 3. 30 cm
 - 4. 50 cm

Question ID : 26433080071

Status : Not Answered

Chosen Option : --

Q.20 एक निश्चित राशि पर, दूसरे वर्ष के लिए 20% प्रति वर्ष की दर से वार्षिक रूप से संयोजित चक्रवृद्धि ब्याज Rs.1,300 है। राशि होगी (निकटतम पूर्णांकीय मान ज्ञात करें):

- Ans
- 1. Rs.4,416
 - 2. Rs.5,600
 - 3. Rs.5,416
 - 4. Rs.5,400

Question ID : 26433075390

Status : Answered

Chosen Option : 3

Section : Part-D-English

Q.1 The following sentence has been divided into parts. One of them may contain an error. Select the part that contains the error from the given options. If you don't find any error, mark 'No error' as your answer.

The blind man can perform / wonderfully well even though / he was old now.

- Ans
- 1. wonderfully well even though
 - 2. he was old now
 - 3. The blind man can perform
 - 4. No error

Question ID : 26433073764

Status : Not Answered

Chosen Option : --

Q.2 Select the most appropriate synonym of the word given in brackets to fill in the blank.

The soldiers exhibited their _____ (courage) during the war.

- Ans
- 1. timidity
 - 2. anchor
 - 3. candour
 - 4. valour

Question ID : 26433089075

Status : Not Answered

Chosen Option : --

Q.3 Select the most appropriate ANTONYM of the given word.

Disdain

- Ans 1. Respect
 2. Scorn
 3. Antipathy
 4. Dislike

Question ID : 26433072663
Status : Not Answered
Chosen Option : --

Q.4 Select the most appropriate option to fill in the blank.
He fell unconscious due to a snake bite, so the doctor quickly gave him _____.

- Ans 1. the antibiotic
 2. the antidote
 3. the antigen
 4. the antiquary

Question ID : 26433084653
Status : Not Answered
Chosen Option : --

Q.5 Select the most appropriate option that can substitute the underlined segment in the given sentence.

An unexpected power failure which happened besides the recording disheartened all of them.

- Ans 1. happened until the recording
 2. happen between the recording
 3. happened during the recording
 4. happened among the recording

Question ID : 264330100990
Status : Not Answered
Chosen Option : --

Q.6 Select the most appropriate spelling that can correctly substitute the misspelt underlined segment in the given sentence.

Who will adjuddicate on this matter?

- Ans 1. adjudiccate
 2. adjudicate
 3. adjjudicate
 4. addjudicate

Question ID : 26433071938
Status : Not Answered
Chosen Option : --

Q.7 Identify from the following options the word which is OPPOSITE in meaning to the given word.
Valiant

- Ans 1. Dull
 2. Cowardly
 3. Similar
 4. Heroic

Question ID : 26433088817
Status : Not Answered
Chosen Option : --

Q.8 Select the most appropriate meaning of the underlined idiom in the following sentence.

The local police were working hand in glove with Federal Bureau of Investigation to find the reasons behind the murder.

- Ans 1. In keeping with
 2. To be in close association
 3. To progress at equal rate
 4. To have liking for each other

Question ID : 26433073877
Status : Not Answered
Chosen Option : --

Q.9 Select the word segment that substitutes (replaces) the bracketed word segment correctly and completes the sentence meaningfully.

People in temperate (country pay little attention) to mangroves.

- Ans 1. country paid little attention
 2. countries pay little attention
 3. country pays little attention
 4. countries pays little attention

Question ID : 26433088960
Status : Not Answered
Chosen Option : --

Q.10 Select the correct pair of homonyms to fill in the blanks.

The Prime Minister _____ the nation asking for the _____ of the traitors.

- Ans 1. mean, meant
 2. meant, mean
 3. address, addressed
 4. addressed, address

Question ID : 26433061050
Status : Not Answered
Chosen Option : --

Q.11 Select the most appropriate synonym of the given word.

Timid

- Ans 1. Adventurous
 2. Fearful
 3. Bold
 4. Forthcoming

Question ID : 26433073686
Status : Not Answered
Chosen Option : --

Q.12 Select the most appropriate meaning of the given idiom.

Bounce something off someone

- Ans 1. Distribute materials to the poor and the needy
 2. Select members for something without their consent
 3. Throw stones at others without any reason
 4. Discuss ideas with someone to get their views

Question ID : 26433073489
Status : Not Answered
Chosen Option : --

Q.13 The sentence given below has one misspelt word. Spot the INCORRECTLY spelt word and select its correct spelling.

He picked up his lugage and crossed the road.

- Ans 1. Lagage
 2. Luggage
 3. Laggage
 4. Lugaze

Question ID : 26433073556
Status : Not Answered
Chosen Option : --

Q.14 Select the most appropriate synonym of the underlined word.

The price of fuel is declining as the elections are approaching.

- Ans 1. Extending
 2. Increasing
 3. Exalting
 4. Decreasing

Question ID : 26433084684
Status : Not Answered
Chosen Option : --

Q.15 Select the most appropriate homonym to fill in the blank.
I think he is the _____ person for this job.

- Ans** 1. right
 2. write
 3. wright
 4. rite

Question ID : 26433060049

Status : Not Answered

Chosen Option : --

Comprehension:

In the following passage, some words have been deleted. Read the passage carefully and select the most appropriate option to fill in each blank.

While stone sculptures and reliefs (1)_____ the exterior of great religious monuments for many centuries, bronze sculptures of the gods were probably a later development. In southern India, kings and queens of the Chola dynasty were well- known patrons of great Hindu (2)_____. Marvellous bronze sculptures were worshipped in the temple context, and carried through the streets in (3)_____ during religious festivals. Such great temple festivals, involving massive carts that transport divine images, still (4)_____ today throughout India, and major celebrations may draw hundreds of thousands of participants. Such images were popular during the Chola dynasty because people increasingly wanted a more intimate, emotional relationship with the gods. These ideas were (5)_____ to the religious movement known as 'Bhakti', a personal and emotional experience of divinity.

SubQuestion No : 16

Q.16 Select the most appropriate option to fill in blank number 1.

- Ans** 1. ornamented
 2. ruined
 3. overshadowed
 4. monitored

Question ID : 26433072736

Status : Not Answered

Chosen Option : --

Comprehension:

In the following passage, some words have been deleted. Read the passage carefully and select the most appropriate option to fill in each blank.

While stone sculptures and reliefs (1)_____ the exterior of great religious monuments for many centuries, bronze sculptures of the gods were probably a later development. In southern India, kings and queens of the Chola dynasty were well- known patrons of great Hindu (2)_____. Marvellous bronze sculptures were worshipped in the temple context, and carried through the streets in (3)_____ during religious festivals. Such great temple festivals, involving massive carts that transport divine images, still (4)_____ today throughout India, and major celebrations may draw hundreds of thousands of participants. Such images were popular during the Chola dynasty because people increasingly wanted a more intimate, emotional relationship with the gods. These ideas were (5)_____ to the religious movement known as 'Bhakti', a personal and emotional experience of divinity.

SubQuestion No : 17

Q.17 Select the most appropriate option to fill in blank number 2.

- Ans 1. states
 2. saints
 3. regulations
 4. temples

Question ID : 26433072737

Status : Not Answered

Chosen Option : --

Comprehension:

In the following passage, some words have been deleted. Read the passage carefully and select the most appropriate option to fill in each blank.

While stone sculptures and reliefs (1)_____ the exterior of great religious monuments for many centuries, bronze sculptures of the gods were probably a later development. In southern India, kings and queens of the Chola dynasty were well- known patrons of great Hindu (2)_____. Marvellous bronze sculptures were worshipped in the temple context, and carried through the streets in (3)_____ during religious festivals. Such great temple festivals, involving massive carts that transport divine images, still (4)_____ today throughout India, and major celebrations may draw hundreds of thousands of participants. Such images were popular during the Chola dynasty because people increasingly wanted a more intimate, emotional relationship with the gods. These ideas were (5)_____ to the religious movement known as 'Bhakti', a personal and emotional experience of divinity.

SubQuestion No : 18

Q.18 Select the most appropriate option to fill in blank number 3.

- Ans 1. competitions
 2. vessels
 3. patterns
 4. processions

Question ID : 26433072738

Status : Not Answered

Chosen Option : --

Comprehension:

In the following passage, some words have been deleted. Read the passage carefully and select the most appropriate option to fill in each blank.

While stone sculptures and reliefs (1)_____ the exterior of great religious monuments for many centuries, bronze sculptures of the gods were probably a later development. In southern India, kings and queens of the Chola dynasty were well- known patrons of great Hindu (2)_____. Marvellous bronze sculptures were worshipped in the temple context, and carried through the streets in (3)_____ during religious festivals. Such great temple festivals, involving massive carts that transport divine images, still (4)_____ today throughout India, and major celebrations may draw hundreds of thousands of participants. Such images were popular during the Chola dynasty because people increasingly wanted a more intimate, emotional relationship with the gods. These ideas were (5)_____ to the religious movement known as 'Bhakti', a personal and emotional experience of divinity.

SubQuestion No : 19

Q.19 Select the most appropriate option to fill in blank number 4.

- Ans 1. inspire
 2. herald
 3. occur
 4. accede

Question ID : 26433072739

Status : Not Answered

Chosen Option : --

Comprehension:

In the following passage, some words have been deleted. Read the passage carefully and select the most appropriate option to fill in each blank.

While stone sculptures and reliefs (1)_____ the exterior of great religious monuments for many centuries, bronze sculptures of the gods were probably a later development. In southern India, kings and queens of the Chola dynasty were well- known patrons of great Hindu (2)_____. Marvellous bronze sculptures were worshipped in the temple context, and carried through the streets in (3)_____ during religious festivals. Such great temple festivals, involving massive carts that transport divine images, still (4)_____ today throughout India, and major celebrations may draw hundreds of thousands of participants. Such images were popular during the Chola dynasty because people increasingly wanted a more intimate, emotional relationship with the gods. These ideas were (5)_____ to the religious movement known as 'Bhakti', a personal and emotional experience of divinity.

SubQuestion No : 20

Q.20 Select the most appropriate option to fill in blank number 5.

- Ans 1. contrary
 2. foreign
 3. central
 4. analogous

Question ID : 26433072740

Status : Not Answered

Chosen Option : --

Q.1 निम्नलिखित में से शुद्ध वाक्य है-

- Ans
- 1. कई खिलाड़ी वह जमा हो गए।
 - 2. कई खिलाड़ी वहां जमा हो गए।
 - 3. कई खिड़की वहां जमा हो गए।
 - 4. कई खिलाड़ी वहां जम हो गए।

Question ID : 26433066841

Status : Answered

Chosen Option : 2

Q.2 निम्नलिखित विकल्पों में से 'कान भरना' मुहावरे का अर्थ क्या है?

- Ans
- 1. बुराई करना
 - 2. सम्मान करना
 - 3. भलाई करना
 - 4. निरादर करना

Question ID : 26433062550

Status : Answered

Chosen Option : 1

Q.3 निम्नलिखित विकल्पों में से किस एक वाक्य में विशेषण का उचित प्रयोग किया गया है?

- Ans
- 1. उसका घोड़ा सुन्दर है।
 - 2. रमेश घर में है।
 - 3. मोहन गाँव में रहता है।
 - 4. सोहन प्रयागराज में है।

Question ID : 26433062963

Status : Answered

Chosen Option : 1

Q.4 निम्नलिखित में से कौन सा एक अकर्मक क्रिया का उदाहरण नहीं है?

- Ans
- 1. सीता खाना बनाती है।
 - 2. अशोक हंसता है।
 - 3. हनसा रोती है।
 - 4. सोना चमकता है।

Question ID : 26433085042

Status : Answered

Chosen Option : 4

Q.5 निम्नलिखित विकल्पों में से 'ऐसे स्थान का वास जहाँ कोई पता न पा सके' वाक्यांश के लिए एक सार्थक शब्द क्या होगा ?

- Ans
- 1. निवास
 - 2. दूरस्थ
 - 3. निकटवास
 - 4. अज्ञातवास

Question ID : 26433062533

Status : Answered

Chosen Option : 4

Q.6 निम्नलिखित विकल्पों में से 'जिसका एक-एक शब्द मिलता हो' वाक्यांश के लिए एक सार्थक शब्द कौन सा है?

- Ans
- 1. सहगान
 - 2. समदर्शी
 - 3. अथाह
 - 4. शब्दशः

Question ID : 264330109528

Status : Answered

Chosen Option : 4

Q.7 'जंगल का राजा शेर होता है।' वाक्य में प्रयुक्त 'जंगल' शब्द का पर्यायवाची शब्द नहीं है-

- Ans
- 1. कांतार
 - 2. अयस
 - 3. विपिन
 - 4. कानन

Question ID : 26433069740

Status : Answered

Chosen Option : 4

Q.8 निम्नलिखित वाक्य में रेखांकित खंड के स्थान पर प्रयुक्त होने वाले सबसे उपयुक्त विकल्प का चयन कीजिए।
आपकी घड़ी में कितनी बजे हैं?

- Ans
- 1. कितने
 - 2. कब
 - 3. किते
 - 4. कैसे

Question ID : 26433079573

Status : Answered

Chosen Option : 1

Q.9 निम्नलिखित वाक्य में रेखांकित शब्द का, विकल्पों में दिए गये शब्दों में से कौन-सा शब्द पर्यायवाची नहीं है?
मेरे जीवन का यही एकमात्र 'लक्ष्य' है।

- Ans
- 1. उद्देश
 - 2. भवन
 - 3. मंजिल
 - 4. निशाना

Question ID : 26433085069
Status : Answered
Chosen Option : 1

Q.10 एक दिन के उपवास के बाद मोहन के पेट में _____ कूदने लगे।
उपरोक्त वाक्य में रिक्त स्थान की पूर्ति उचित शब्द द्वारा कीजिए।

- Ans
- 1. बिल्ली
 - 2. चूहे
 - 3. कुत्ते
 - 4. मेढ़क

Question ID : 26433062617
Status : Answered
Chosen Option : 2

Q.11 'आदि से अंत तक' वाक्यांश के लिए एक शब्द क्या होगा?

- Ans
- 1. आपादमस्तक
 - 2. अभ्याख्यान
 - 3. आद्योपान्त
 - 4. प्रारम्भिक

Question ID : 26433070050
Status : Answered
Chosen Option : 3

Q.12 निम्नलिखित वाक्य में रेखांकित शब्द के विलोम शब्द का प्रयोग करके रिक्त स्थान की पूर्ति कीजिए।
ऊपर से सोने का स्वभाव स्थिर है जबकि वास्तव में वह _____ है।

- Ans
- 1. चंचल
 - 2. सूक्ष्म
 - 3. जागरण
 - 4. अचल

Question ID : 26433091347
Status : Answered
Chosen Option : 1

Q.13 'उपकरण' के एकार्थी शब्द चयन कर निम्न वाक्य वाक्य में रिक्त स्थान की पूर्ति कीजिए।
आप सारे _____ को एकत्रित कीजिए।

- Ans 1. उपादानों
 2. उदाहरणों
 3. वस्तुओं
 4. साधनाओं

Question ID : 26433063082
Status : Answered
Chosen Option : 3

Q.14 राजपथ से झाकियाँ वापस लौट गयीं।
इस गलत वाक्य के बदले सही वाक्य का चयन कीजिए।

- Ans 1. राजपथ से झाकियाँ वापस लौट गईं।
 2. राजपथ से झाकियाँ सारी फूट पड़ीं।
 3. राजपथ से झाकियाँ लौट गयीं।
 4. राजपथ से एक झाकियाँ निकल पड़ीं।

Question ID : 26433062695
Status : Answered
Chosen Option : 3

Q.15 नीचे दिए गए वाक्य के शुद्ध रूप का चयन विकल्पों में से कीजिए।
वह चारपाई पर बिछोना बिछा दिया।

- Ans 1. वह चारपाई में बिछोना बिछा दिया।
 2. उसने चारपाई में बिछोना बिछाए।
 3. वह चारपाई में बिछोना बिछा दी।
 4. उसने चारपाई पर बिछौना बिछा दिया।

Question ID : 26433063071
Status : Answered
Chosen Option : 4

Comprehension:

निम्नलिखित गद्यांश में कुछ शब्दों को हटा दिया गया है। दिए गए विकल्पों की सहायता से रिक्त स्थानों की पूर्ति कीजिए। प्रत्येक संख्या के लिए सबसे उपयुक्त विकल्प का चयन कीजिए।
बुद्धिजीवी से तात्पर्य उन व्यक्तियों से है जो 1. _____ का अधिक उपयोग करके जीवन चलाते हैं अर्थात् 2. _____ अर्जित करते हैं। समाज में मुख्यतः दो प्रकार के व्यक्ति हैं- एक वे जो अपने जीवन में 3. _____ श्रम अधिक करते हैं और दूसरे वे जो शारीरिक श्रम की अपेक्षा 4. _____ बल से काम करते हैं। समाज के लिए दोनों की 5. _____ भूमिका है।

SubQuestion No : 16

Q.16 रिक्त स्थान 1 की पूर्ति के लिए सबसे उपयुक्त विकल्प का चयन कीजिए।

- Ans 1. बुद्धि
 2. बल
 3. दिखावे
 4. दृष्टि

Question ID : 264330111017
Status : Answered
Chosen Option : 1

Comprehension:

निम्नलिखित गद्यांश में कुछ शब्दों को हटा दिया गया है। दिए गए विकल्पों की सहायता से रिक्त स्थानों की पूर्ति कीजिए। प्रत्येक संख्या के लिए सबसे उपयुक्त विकल्प का चयन कीजिए।
बुद्धिजीवी से तात्पर्य उन व्यक्तियों से है जो 1. _____ का अधिक उपयोग करके जीवन चलाते हैं अर्थात् 2. _____ अर्जित करते हैं। समाज में मुख्यतः दो प्रकार के व्यक्ति हैं- एक वे जो अपने जीवन में 3. _____ श्रम अधिक करते हैं और दूसरे वे जो शारीरिक श्रम की अपेक्षा 4. _____ बल से काम करते हैं। समाज के लिए दोनों की 5. _____ भूमिका है।

SubQuestion No : 17

Q.17 रिक्त स्थान 2 की पूर्ति के लिए सबसे उपयुक्त विकल्प का चयन कीजिए।

- Ans 1. भूमिका
 2. जीविका
 3. श्रम
 4. परिवर्तन

Question ID : 264330111018

Status : Answered

Chosen Option : 1

Comprehension:

निम्नलिखित गद्यांश में कुछ शब्दों को हटा दिया गया है। दिए गए विकल्पों की सहायता से रिक्त स्थानों की पूर्ति कीजिए। प्रत्येक संख्या के लिए सबसे उपयुक्त विकल्प का चयन कीजिए।
बुद्धिजीवी से तात्पर्य उन व्यक्तियों से है जो 1. _____ का अधिक उपयोग करके जीवन चलाते हैं अर्थात् 2. _____ अर्जित करते हैं। समाज में मुख्यतः दो प्रकार के व्यक्ति हैं- एक वे जो अपने जीवन में 3. _____ श्रम अधिक करते हैं और दूसरे वे जो शारीरिक श्रम की अपेक्षा 4. _____ बल से काम करते हैं। समाज के लिए दोनों की 5. _____ भूमिका है।

SubQuestion No : 18

Q.18 रिक्त स्थान 3 की पूर्ति के लिए सबसे उपयुक्त विकल्प का चयन कीजिए।

- Ans 1. शारीरिक
 2. मज़दूरी
 3. प्राचीन
 4. दिखावा

Question ID : 264330111019

Status : Answered

Chosen Option : 1

Comprehension:

निम्नलिखित गद्यांश में कुछ शब्दों को हटा दिया गया है। दिए गए विकल्पों की सहायता से रिक्त स्थानों की पूर्ति कीजिए। प्रत्येक संख्या के लिए सबसे उपयुक्त विकल्प का चयन कीजिए।
बुद्धिजीवी से तात्पर्य उन व्यक्तियों से है जो 1. _____ का अधिक उपयोग करके जीवन चलाते हैं अर्थात् 2. _____ अर्जित करते हैं। समाज में मुख्यतः दो प्रकार के व्यक्ति हैं- एक वे जो अपने जीवन में 3. _____ श्रम अधिक करते हैं और दूसरे वे जो शारीरिक श्रम की अपेक्षा 4. _____ बल से काम करते हैं। समाज के लिए दोनों की 5. _____ भूमिका है।

SubQuestion No : 19

Q.19 रिक्त स्थान 4 की पूर्ति के लिए सबसे उपयुक्त विकल्प का चयन कीजिए।

- Ans
- 1. बाहु
 - 2. शस्त्र
 - 3. बड़े
 - 4. बुद्धि

Question ID : 264330111020

Status : Answered

Chosen Option : 4

Comprehension:

निम्नलिखित गद्यांश में कुछ शब्दों को हटा दिया गया है। दिए गए विकल्पों की सहायता से रिक्त स्थानों की पूर्ति कीजिए। प्रत्येक संख्या के लिए सबसे उपयुक्त विकल्प का चयन कीजिए।
बुद्धिजीवी से तात्पर्य उन व्यक्तियों से है जो 1. _____ का अधिक उपयोग करके जीवन चलाते हैं अर्थात् 2. _____ अर्जित करते हैं। समाज में मुख्यतः दो प्रकार के व्यक्ति हैं- एक वे जो अपने जीवन में 3. _____ श्रम अधिक करते हैं और दूसरे वे जो शारीरिक श्रम की अपेक्षा 4. _____ बल से काम करते हैं। समाज के लिए दोनों की 5. _____ भूमिका है।

SubQuestion No : 20

Q.20 रिक्त स्थान 5 की पूर्ति के लिए सबसे उपयुक्त विकल्प का चयन कीजिए।

- Ans
- 1. चिंतित
 - 2. कम
 - 3. अनिवार्य
 - 4. विवश

Question ID : 264330111021

Status : Answered

Chosen Option : 3