

Constable GD in CAPFs SSF Rifleman GD in Assam Rifles and Sepoy in NCB Examination 2022

Roll Number	www.govtjobsalert.in
Candidate Name	www.govtjobsalert.in
Venue Name	Pawan Ganga Educational Centre 1
Exam Date	16/01/2023
Exam Time	11:45 AM - 12:45 PM
Subject	Constable GD Examination 2022

Section : Part-A-General Intelligence and Reasoning

Q.1 उस विकल्प का चयन करें जो पांचवें पद से उसी प्रकार संबंधित है जैसे दूसरा पद पहले पद से और चौथा पद तीसरे पद से संबंधित है।

MEMORY : NFNPSZ :: BRAIN: CSBJO :: DREAM : ?

- Ans
- 1. NBFEF
 - 2. ESFBN
 - 3. EFFSE
 - 4. NBFSE

Question ID : 26433057688

Status : Answered

Chosen Option : 2

Q.2 दर्पण को नीचे दिए गए चित्र के अनुसार MN पर रखे जाने पर दी गई आकृति का दर्पण में निर्मित सही प्रतिबिंब चयनित कीजिए।



- Ans
- 1. 7 8 p f B G 2 T
 - 2. 7 8 b f B G 2 T
 - 3. 7 8 p f B G 2 T
 - 4. 7 8 b f B G 2 T

Question ID : 26433080811

Status : Answered

Chosen Option : 2

Q.3 तीन कथनों के बाद तीन निष्कर्ष I, II और III दिए गए हैं। कथनों को सत्य मानते हुए, भले ही वे सामान्य रूप से ज्ञात तथ्यों से भिन्न प्रतीत होते हों, निर्धारित करें कि कौन-सा/से निष्कर्ष कथनों का तार्किक रूप से अनुसरण करता है/करते हैं।

कथन:

सभी पेंसिल घर हैं।

सभी घर कार हैं।

सभी कार ट्रक हैं।

निष्कर्ष:

I. कुछ घर पेंसिल हैं।

II. कुछ कार घर हैं।

III. कुछ ट्रक कार हैं।

Ans 1. सभी निष्कर्ष अनुसरण करते हैं।

2. निष्कर्ष I और II दोनों अनुसरण करते हैं।

3. निष्कर्ष I और III दोनों अनुसरण करते हैं।

4. निष्कर्ष II और III दोनों अनुसरण करते हैं।

Question ID : 26433074634

Status : Answered

Chosen Option : 1

Q.4 उस विकल्प का चयन करें जो तीसरे शब्द से उसी प्रकार संबंधित है जैसे दूसरा शब्द पहले शब्द से संबंधित है। (शब्दों को अर्थपूर्ण शब्दों के रूप में मानना है, और उन्हें शब्द में अक्षरों/व्यंजनों/स्वरों की संख्या के आधार पर एक-दूसरे से संबंधित नहीं करना है।)
डॉक्टर : स्टेथोस्कोप :: लोहार : ?

Ans 1. निहाई (एनविल)

2. कुल्हाड़ी

3. लोहा

4. कलम

Question ID : 26433086257

Status : Answered

Chosen Option : 3

Q.5 आठ व्यक्ति, D, E, G, H, K, L, S और T एक सीधी पंक्ति में उत्तर की ओर मुख करके बैठे हैं। E पंक्ति के दाएं सिरे से चौथे स्थान पर बैठा है। G और E के बीच में कोई नहीं बैठा है। G, H के दाईं ओर तीसरे स्थान पर बैठा है। K और H के बीच केवल पांच व्यक्ति बैठे हैं। L, T के दाईं ओर ठीक बगल में बैठा है। S पंक्ति के किसी भी सिरे पर नहीं बैठा है। S और D के मध्य कितने व्यक्ति बैठे हैं?

Ans 1. एक

2. दो

3. दो से अधिक

4. कोई नहीं

Question ID : 26433092423

Status : Answered

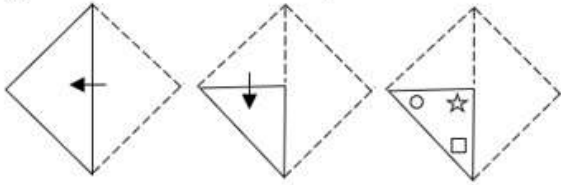
Chosen Option : 1

Q.6 'A + B' का अर्थ है 'A, B का भाई है'।
 'A - B' का अर्थ है 'A, B की माँ है'।
 'A × B' का अर्थ है 'A, B का पति है'।
 'A ÷ B' का अर्थ है 'A, B की बहन है'।
 'A @ B' का अर्थ है 'A, B का बेटा है'।
 यदि $C ÷ D @ E × F - G$ है, तो C, G से किस प्रकार संबंधित है?

- Ans
- 1. जीजा
 - 2. भाई
 - 3. मौसी
 - 4. बहन

Question ID : 26433087003
 Status : Answered
 Chosen Option : 4

Q.7 एक कागज को नीचे दिखाए अनुसार मोड़ा और काटा गया है। कागज की तह खुलने पर यह कैसा दिखाई देगा?




Ans

- 1.
- 2.
- 3.
- 4.

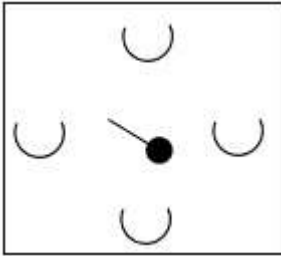
Question ID : 26433090951
 Status : Answered
 Chosen Option : 3

Q.8 दिए गए विकल्पों में से उस आकृति का चयन करें जो निम्न श्रृंखला में प्रश्नवाचक चिन्ह (?) के स्थान पर आ सकती है।

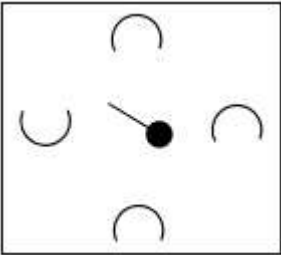


Ans

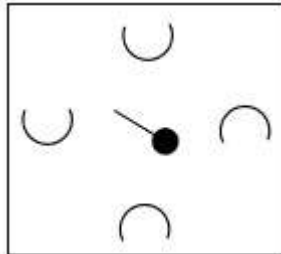
✗ 1.



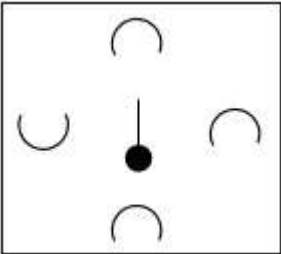
✗ 2.



✓ 3.



✗ 4.



Question ID : 26433080766

Status : Answered

Chosen Option : 3

Q.9 निम्नलिखित में से कौन सा विकल्प दी गई श्रृंखला में प्रश्न चिह्न (?) को प्रतिस्थापित करेगा?
7, 14, 28, 56, ?, 224, 448

Ans ✗ 1. 124

✗ 2. 116

✗ 3. 108

✓ 4. 112

Question ID : 26433089443

Status : Answered

Chosen Option : 4

Q.10 उस समुच्चय का चयन करें, जिसकी संख्याओं के बीच ठीक वही संबंध है, जो संबंध निम्नांकित समुच्चयों की संख्याओं में हैं।
(नोट: संख्याओं को उसके घटक अंकों में विभाजित किए बिना, पूर्ण संख्याओं पर ही गणितीय संक्रियाएँ की जानी चाहिए। जैसे 13 - मान लीजिए 13 पर गणितीय संक्रियाएँ जैसे कि 13 में जोड़ना/घटाना/गुणा करना आदि किया जा सकता है। 13 को 1 और 3 में तोड़कर और फिर 1 और 3 पर गणितीय संक्रियाएँ करने की अनुमति नहीं है।)
(10, 450, 5)
(8, 360, 5)

Ans 1. (7, 189, 3)

2. (9, 223, 3)

3. (9, 340, 4)

4. (7, 285, 5)

Question ID : 26433076536

Status : Answered

Chosen Option : 1

Q.11 एक निश्चित कूट भाषा में, यदि FLED को 3921 के रूप में और GIFT को 46317 के रूप में कूटबद्ध किया जाता है, तो उसी भाषा में HUNK को कैसे कूटबद्ध किया जाएगा?

Ans 1. 720107

2. 19211316

3. 518118

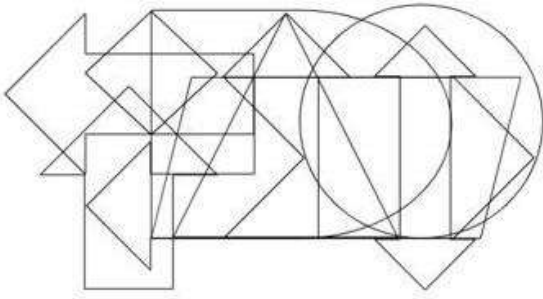
4. 8211411

Question ID : 26433068066

Status : Answered

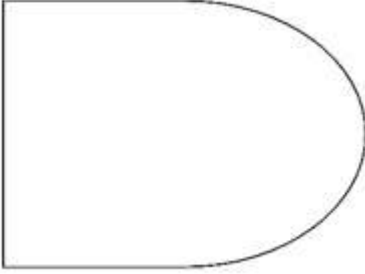
Chosen Option : 3

Q.12 उस विकल्प आकृति का चयन करें जो नीचे दी गई आकृति में अंतर्निहित है। (आकृति घुमाने की अनुमति नहीं है)

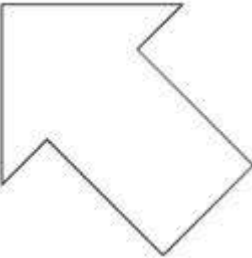


Ans

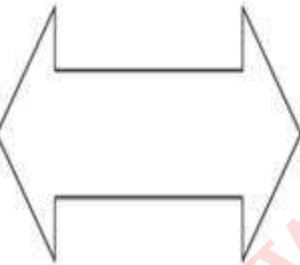
✓ 1.



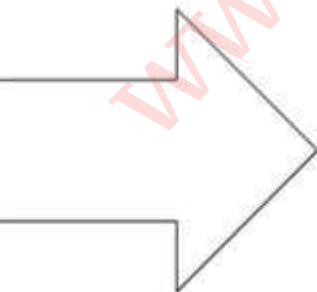
✗ 2.



✗ 3.



✗ 4.



Question ID : 26433085743

Status : Answered

Chosen Option : 1

Q.13 कौन-सा अक्षर-समूह दी गई शृंखला में प्रश्नचिह्न (?) के स्थान पर आकर शृंखला को पूर्ण करेगा?
DKBN, EMYP, ?, GQST, HSPV

- Ans 1. HVRO
 2. FOVR
 3. GHVR
 4. ROVF

Question ID : 26433079423

Status : Answered

Chosen Option : 2

Q.14 एक निश्चित कूट भाषा में शब्द 'FAME' को 'IDPH' लिखा जाता है। शब्द 'PINK' को 'SLQN' लिखा जाता है। उसी भाषा में शब्द 'RUDE' को कैसे लिखा जाएगा?

- Ans 1. TWHG
 2. TXGI
 3. UXGH
 4. UVIG

Question ID : 26433090104

Status : Answered

Chosen Option : 3

Q.15 निम्नलिखित में से कौन-सा पद दी गई शृंखला में प्रश्न-चिह्न (?) के स्थान पर आएगा?
BWGV, CUJR, DSMN, EQPJ, ?

- Ans 1. FSSN
 2. FOSF
 3. FSSF
 4. FOSE

Question ID : 26433069450

Status : Answered

Chosen Option : 2

Q.16 किस विकल्प में निम्नलिखित शब्दों का वह क्रम दिया गया है, जिस क्रम में वे अंग्रेजी शब्दकोश में आते हैं?

- 1 Mountain
- 2 Mould
- 3 Monster
- 4 Mouth
- 5 Moving

- Ans 1. 4, 3, 2, 1, 5
 2. 1, 2, 3, 4, 5
 3. 2, 3, 1, 4, 5
 4. 3, 2, 1, 4, 5

Question ID : 26433081635

Status : Answered

Chosen Option : 4

Q.17 छ: विद्यार्थी एक वृत्ताकार मेज के परितः मेज के केंद्र की ओर मुख करके बैठे हैं। A, C के बाईं ओर ठीक बगल में बैठा है। E, D के दाईं ओर तीसरे स्थान पर बैठा है। D, C के ठीक बगल में बैठा है। B, E और F दोनों के ठीक बगल में बैठा है। किसी भी ओर से C और B के बीच में कितने व्यक्ति बैठे हैं?

- Ans 1. 2
 2. 3
 3. 0
 4. 1

Question ID : 26433079504

Status : Answered

Chosen Option : 1

Q.18 विकल्पों में दिए गए गणितीय चिह्नों का कौन सा संयोजन निम्न समीकरण में * चिह्नों के स्थान पर क्रमिक रूप से आकर समीकरण को संतुलित करेगा?

$$14 * 3 * 8 * 8 * 6 * 7$$

- Ans 1. +, ×, ×, -, =
 2. ×, +, -, =, ×
 3. -, =, +, ×, ×
 4. +, ×, =, -, ×

Question ID : 26433094990

Status : Answered

Chosen Option : 2

Q.19 निम्नलिखित में से कौन-सी संख्या दी गई श्रृंखला में प्रश्न-चिह्न (?) को प्रतिस्थापित करेगी?
2, 4, 6, 10, 14, ?, 26, 34, 42

- Ans 1. 24
 2. 20
 3. 25
 4. 22

Question ID : 26433083119

Status : Answered

Chosen Option : 2

Q.20 नीचे दिए गए समीकरण को गणितीय रूप से सही बनाने के लिए किन दो चिह्नों को परस्पर बदलना चाहिए?

$$3 \times 144 - 6 \div 40 + 20 = 52$$

- Ans 1. + और ÷
 2. + और ×
 3. - और +
 4. ÷ और -

Question ID : 264330117560

Status : Answered

Chosen Option : 4

Q.1 पाटलिपुत्र में स्थानांतरित होने से पहले _____ कई वर्षों तक मगध की राजधानी थी।

- Ans
- 1. राजगृह
 - 2. सारनाथ
 - 3. उज्जैन
 - 4. तक्षशीला

Question ID : 26433085230

Status : Answered

Chosen Option : 1

Q.2 कायाकल्प और शहरी परिवर्तन के लिए अटल मिशन (AMRUT) 2.0 दिशानिर्देश हमारे शहरों को _____ बनाने में राज्यों की सहायता करने के उद्देश्य से तैयार किए गए हैं।

- Ans
- 1. तकनीकी रूप से अनुकूल
 - 2. आर्थिक रूप से सुरक्षित
 - 3. जल सुरक्षित
 - 4. ऋण सुरक्षित

Question ID : 264330116180

Status : Not Answered

Chosen Option : --

Q.3 रेलवे ईयरबुक 2019-20 के अनुसार, भारत में छोटी लाइन की लंबाई (कि.मी. में) कितनी है?

- Ans
- 1. 12365
 - 2. 9876
 - 3. 20334
 - 4. 1604

Question ID : 264330115594

Status : Not Answered

Chosen Option : --

Q.4 निम्नलिखित में से किस भारतीय मंत्री ने संयुक्त राष्ट्र जलवायु परिवर्तन रूपरेखा सम्मेलन (COP27) में स्वीडन के साथ लीडआईटी (LeadIT) शिखर सम्मेलन की मेजबानी की?

- Ans
- 1. गजेन्द्र सिंह शेखावत
 - 2. नारायण राणे
 - 3. भूपेंद्र यादव
 - 4. किरण रिजिजू

Question ID : 264330115050

Status : Not Answered

Chosen Option : --

Q.5 निम्नलिखित में से कौन सा सही है?

- Ans
- ✓ 1. एन. एन. पी. \equiv जी. एन. पी. – मूल्यहास
 - ✗ 2. एन. एन. पी. \equiv जी. एन. पी. + मूल्यहास
 - ✗ 3. एन. एन. पी. \equiv जी. एन. पी. + मूल्यहास
 - ✗ 4. एन. एन. पी. \equiv जी. एन. पी. \times मूल्यहास

Question ID : 264330115347

Status : Not Answered

Chosen Option : --

Q.6 1867 में बंबई में किस संस्था की स्थापना हुई?

- Ans
- ✓ 1. प्रार्थना समाज
 - ✗ 2. थियोसोफिकल सोसाइटी
 - ✗ 3. युवा बंगाल आंदोलन
 - ✗ 4. राम कृष्ण मिशन

Question ID : 264330115724

Status : Answered

Chosen Option : 1

Q.7 निम्नलिखित में से कौन सा कथन बास्केटबॉल के संदर्भ में सही है?

- Ans
- ✗ 1. बास्केटबॉल खेल का आविष्कार 1981 में हुआ था।
 - ✗ 2. एक खिलाड़ी को 20 सेकंड के भीतर प्रतिस्थापित किया जाना होता है।
 - ✗ 3. प्रत्येक बास्केटबॉल का भार कम से कम 700 ग्राम होना चाहिए।
 - ✓ 4. खेल शुरू करने के लिए पांच-पांच खिलाड़ियों की दो टीमों की आवश्यकता होती है।

Question ID : 26433089938

Status : Not Answered

Chosen Option : --

Q.8 वर्ष 2015 में योजना आयोग के स्थान पर _____ का गठन किया गया था।

- Ans
- ✗ 1. भारतीय प्रतिस्पर्धा आयोग
 - ✗ 2. मौद्रिक नीति समिति
 - ✗ 3. NaBFID
 - ✓ 4. नीति आयोग

Question ID : 26433066658

Status : Answered

Chosen Option : 4

Q.9 निम्नलिखित में से कौन-सा राज्य बाँस ड्रिप सिंचाई तंत्र का उपयोग करता है?

- Ans
- 1. सिक्किम
 - 2. मेघालय
 - 3. असम
 - 4. त्रिपुरा

Question ID : 26433087890

Status : Not Answered

Chosen Option : --

Q.10 निम्नलिखित में से किसके अभाव के कारण कमजोर अस्थियाँ और दंतक्षय होता है?

- Ans
- 1. आयोडिन
 - 2. कैल्शियम
 - 3. लोह
 - 4. विटामिन A

Question ID : 264330115217

Status : Answered

Chosen Option : 2

Q.11 राष्ट्रीय महिला आयोग की स्थापना जनवरी _____ में सांविधिक निकाय के रूप में की गई थी।

- Ans
- 1. 1992
 - 2. 1999
 - 3. 1989
 - 4. 1995

Question ID : 264330116043

Status : Not Answered

Chosen Option : --

Q.12 कुसुकुंतला प्रभाकर रेड्डी, नवंबर 2022 में तेलंगाना में _____ निर्वाचन क्षेत्र से विधान सभा के सदस्य बने।

- Ans
- 1. वारंगल
 - 2. मुनुगोडे
 - 3. सिकंदराबाद
 - 4. हैदराबाद

Question ID : 264330114968

Status : Not Answered

Chosen Option : --

Q.13 विश्व में हरित क्रांति के जनक नॉर्मन बोरलॉग, (राष्ट्रीयता की दृष्टि से) _____ थे।

- Ans
- 1. भारतीय
 - 2. चीनी
 - 3. स्पेनिश
 - 4. अमेरिकी

Question ID : 264330115430

Status : Answered

Chosen Option : 1

Q.14 उस तत्व की पहचान कीजिए जो उपधातु नहीं है।

- Ans
- 1. टेल्यूरियम
 - 2. जर्मेनियम
 - 3. पोलोनियम
 - 4. ज़ेनॉन

Question ID : 26433086745

Status : Answered

Chosen Option : 2

Q.15 'फूलदेई', जोकि एक फसल उत्सव है, मुख्य रूप से भारत के निम्नलिखित में से किस राज्य में मनाया जाता है?

- Ans
- 1. गुजरात
 - 2. मेघालय
 - 3. उत्तराखंड
 - 4. आंध्र प्रदेश

Question ID : 26433094892

Status : Answered

Chosen Option : 2

Q.16 विश्व प्रसिद्ध नृत्यांगना गुलाबो सपेरा को निम्नलिखित में से किस नृत्य शैली के लिए जाना जाता है?

- Ans
- 1. कालबेलिया
 - 2. चकरी
 - 3. भवाई
 - 4. घूमर

Question ID : 26433071454

Status : Not Answered

Chosen Option : --

Q.17 भारतीय संविधान का निम्नलिखित में से कौन सा अनुच्छेद, शोषण के विरुद्ध अधिकार से संबंधित है?

- Ans
- 1. अनुच्छेद 27 - 28
 - 2. अनुच्छेद 23 - 24
 - 3. अनुच्छेद 33 - 34
 - 4. अनुच्छेद 37 - 38

Question ID : 26433086805

Status : Answered

Chosen Option : 2

Q.18 निम्नलिखित में से कौन, तब अध्यादेश जारी कर सकता है जब राज्य विधानमंडल सत्र में न हो और वह संतुष्ट हों कि तत्काल कार्रवाई की आवश्यकता है?

- Ans
- 1. विधानसभा अध्यक्ष
 - 2. राज्यपाल
 - 3. राष्ट्रपति
 - 4. मुख्यमंत्री

Question ID : 26433086827

Status : Answered

Chosen Option : 2

Q.19 निम्नलिखित में से किस देश में आई.सी.सी. (ICC) U19 क्रिकेट विश्व कप 2022 का आयोजन किया गया था?

- Ans
- 1. दक्षिण अफ्रीका
 - 2. वेस्ट इंडीज
 - 3. न्यूजीलैंड
 - 4. बांग्लादेश

Question ID : 26433086731

Status : Answered

Chosen Option : 4

Q.20 असम सरकार की ओर से सर्वश्रेष्ठ नृत्य निर्देशक के पुरस्कार से किसे सम्मानित किया गया?

- Ans
- 1. कृष्णा एला
 - 2. जतिन गोस्वामी
 - 3. अमाला अक्किनेनी
 - 4. अनुराधा पाण्डेय

Question ID : 264330115834

Status : Not Answered

Chosen Option : --

Q.1 यदि $\frac{2a+b}{a+4b} = 1$ है तो $\frac{a+b}{a-b}$ का मान क्या है?

- Ans
- 1. 4
 - 2. 1
 - 3. 2
 - 4. 3

Question ID : 26433079870
Status : Answered
Chosen Option : 3

Q.2 एक बल्लेबाज ने जब अपनी 13वीं पारी में 85 रन बनाए, तो उसके औसत में पाँच रन बढ़ गए। 13वीं पारी के बाद में, उसके औसत रन ज्ञात कीजिए।

- Ans
- 1. 23
 - 2. 20
 - 3. 25
 - 4. 26

Question ID : 26433080153
Status : Answered
Chosen Option : 3

Q.3 यदि 18 श्रमिक एक सड़क को 15 घंटे में बना सकते हैं, तो उसी सड़क को 9 घंटे में बनाने के लिए कितने और श्रमिकों की आवश्यकता होगी?

- Ans
- 1. 12
 - 2. 30
 - 3. 15
 - 4. 18

Question ID : 26433075915
Status : Answered
Chosen Option : 1

Q.4 2700 m की एक वृत्ताकार दौड़ में, P और Q बिंदु A से विपरीत दिशाओं में क्रमशः 23 km/h और 49 km/h की चाल से दौड़ना प्रारंभ करते हैं। वे कितने समय बाद पहली बार मिलेंगे?

- Ans
- 1. 135 sec
 - 2. 145 sec
 - 3. 130 sec
 - 4. 140 sec

Question ID : 26433074462
Status : Answered
Chosen Option : 1

Q.5 2 वर्षों में ₹22,500 का वार्षिक चक्रवृद्धि आधार पर गणना करने पर चक्रवृद्धि ब्याज कितना होगा, यदि ब्याज दर पहले वर्ष के लिए 5% और दूसरे वर्ष के लिए 8% हो?

- Ans
- 1. ₹3,015
 - 2. ₹3,115
 - 3. ₹3,215
 - 4. ₹3,315

Question ID : 26433080191

Status : Answered

Chosen Option : 1

Q.6 कोई चोर एक पुलिसकर्मी द्वारा 150 m की दूरी पर देखा जाता है। चोर भागना शुरू करता है और पुलिसकर्मी उसका पीछा करता है। चोर और पुलिसकर्मी क्रमशः 11 km/h और 12 km/h की चाल से दौड़ते हैं। 6 मिनट के बाद उनके बीच की दूरी ज्ञात कीजिए।

- Ans
- 1. 50 m
 - 2. 150 m
 - 3. 100 m
 - 4. 200 m

Question ID : 26433073038

Status : Answered

Chosen Option : 1

Q.7 15 परीक्षाफलों का औसत 60 है। यदि प्रथम आठ परीक्षाफलों का औसत 58 है और अंतिम छः परीक्षाफलों का औसत 62 है, तो नौवें परीक्षाफल के अंक ज्ञात कीजिए।

- Ans
- 1. 60
 - 2. 64
 - 3. 62
 - 4. 63

Question ID : 26433080152

Status : Answered

Chosen Option : 2

Q.8 रवि ने दो बाइक ₹ 42,188 प्रत्येक में बेचीं। एक बाइक पर उसे 20% का लाभ हुआ जबकि दूसरी पर उसे 20% की हानि हुई। उसे कुल मिलाकर कितना प्रतिशत लाभ या हानि हुई है?

- Ans
- 1. 4% लाभ
 - 2. 10% लाभ
 - 3. 10% हानि
 - 4. 4% हानि

Question ID : 26433075545

Status : Answered

Chosen Option : 4

Q.9 एक बेलन के वक्रपृष्ठीय क्षेत्रफल में कितना परिवर्तन होगा, जब उसकी त्रिज्या दोगुनी और उसकी ऊँचाई आधी कर दी जाती है?

- Ans
- 1. दोगुना
 - 2. कोई परिवर्तन नहीं
 - 3. तिगुना
 - 4. चार गुना

Question ID : 26433073049

Status : Answered

Chosen Option : 2

Q.10 एक व्यापारी अपने माल को लागत मूल्य से 50 प्रतिशत अधिक पर अंकित करता है और 30 प्रतिशत की छूट देता है। उसका लाभ प्रतिशत क्या है?

- Ans
- 1. 10 प्रतिशत
 - 2. 6 प्रतिशत
 - 3. 5 प्रतिशत
 - 4. 8 प्रतिशत

Question ID : 264330116749

Status : Answered

Chosen Option : 3

Q.11 ऋषभ ने ₹252 में 3 टी-शर्ट के दाम पर कुछ टी-शर्ट खरीदी और उन्हें ₹200 में 5 टी-शर्ट के दाम पर बेच दिया। उसका लाभ या हानि प्रतिशत ज्ञात कीजिए।

- Ans
- 1. 72.5% हानि
 - 2. 52.4% हानि
 - 3. 83.2% लाभ
 - 4. 62.5% लाभ

Question ID : 26433080014

Status : Answered

Chosen Option : 2

Q.12 ₹4,800 के 25 प्रतिशत के 15 प्रतिशत का 10 प्रतिशत कितना होता है?

- Ans
- 1. ₹18
 - 2. ₹24
 - 3. ₹16
 - 4. ₹21

Question ID : 26433079850

Status : Answered

Chosen Option : 1

Q.13 30% पुरुष 25 वर्ष से अधिक आयु के हैं, और 80% पुरुष 50 वर्ष से कम या उसके बराबर आयु के हैं। सभी पुरुषों में से 20% पुरुष फुटबॉल खेलते हैं। यदि 50 वर्ष से अधिक आयु के 20% पुरुष फुटबॉल खेलते हैं, तो कितने प्रतिशत फुटबॉल खिलाड़ी 50 वर्ष से कम या उसके बराबर आयु के हैं?

- Ans
- 1. 82%
 - 2. 77%
 - 3. 71%
 - 4. 80%

Question ID : 26433076324

Status : Answered

Chosen Option : 4

Q.14 A और B मिलकर एक कार्य को 26 दिनों में पूरा कर सकते हैं। A अकेले इसे 52 दिनों में पूरा कर सकता है। यदि B 50% क्षमता पर कार्य करता है, तो A और B मिलकर कार्य को कितने दिनों में पूरा करेंगे?

- Ans
- 1. 58/3 दिन
 - 2. 67/3 दिन
 - 3. 107/3 दिन
 - 4. 104/3 दिन

Question ID : 264330116864

Status : Answered

Chosen Option : 4

Q.15 एक कार खरीदने के लिए 2 वर्ष बाद ₹8,00,000 की राशि की आवश्यकता है। एक बैंक में जमा की गई राशि पर 8% वार्षिक का ब्याज मिलता है। आवश्यकता को पूरा करने के लिए बैंक में वर्तमान में लगभग कितनी राशि जमा करनी चाहिए; यदि ब्याज वार्षिक रूप से चक्रवृद्धि किया जाता है?

- Ans
- 1. ₹6,44,457
 - 2. ₹6,85,871
 - 3. ₹5,66,647
 - 4. ₹4,55,567

Question ID : 26433081723

Status : Answered

Chosen Option : 2

Q.16 6 और 110 का लघुत्तम समापवर्त्य क्या है?

- Ans
- 1. 330
 - 2. 440
 - 3. 660
 - 4. 300

Question ID : 26433082493

Status : Answered

Chosen Option : 1

Q.17 निम्नलिखित का मान ज्ञात कीजिए।
 $75 - 50 \div 5 \text{ of } 2 + 36 \div 6 \text{ of } 4 \times 2 (18 - 5 \text{ of } 2)$

- Ans 1. 94
 2. 97
 3. 98
 4. 96

Question ID : 26433080146
Status : Answered
Chosen Option : 1

Q.18 20 आदमी 6 दिन में ₹520 अर्जित कर सकते हैं। 18 आदमी 10 दिन में कितना धन अर्जित करेंगे?

- Ans 1. ₹660
 2. ₹780
 3. ₹740
 4. ₹620

Question ID : 26433080134
Status : Answered
Chosen Option : 2

Q.19 '5 खरीदें 3 मुफ्त पाएं' पर छूट का प्रतिशत कितना है?

- Ans 1. 36.5%
 2. 37.5%
 3. 35.5%
 4. 39.25%

Question ID : 26433075729
Status : Answered
Chosen Option : 2

Q.20 21 cm व्यास वाले एक गोले का पृष्ठीय क्षेत्रफल (cm² में) क्या होगा?

- Ans 1. 2772
 2. 1386
 3. 3465
 4. 5544

Question ID : 26433081074
Status : Answered
Chosen Option : 4

Q.1 Select the most appropriate option to fill in the blank.

The patient suffered an epileptic _____.

- Ans
- 1. sizar
 - 2. caesar
 - 3. seizure
 - 4. scissors

Question ID : 26433087941
Status : Answered
Chosen Option : 2

Q.2 The following sentence has been divided into parts. One of them may contain an error. Select the part that contains the error from the given options.

My friend Ragini /shall completed/ her task/ by then.

- Ans
- 1. her task
 - 2. My friend Ragini
 - 3. shall completed
 - 4. by then

Question ID : 26433089825
Status : Answered
Chosen Option : 3

Q.3 Select the option with the correct spelling of the underlined word in the given sentence.

In order to find the anamoly, scientists had to repeat the experiment over a hundred times.

- Ans
- 1. anomaly
 - 2. anemoly
 - 3. anomaly
 - 4. anomally

Question ID : 26433073607
Status : Answered
Chosen Option : 3

Q.4 Select the most appropriate ANTONYM of the given word.

Sublime

- Ans
- 1. Apparent
 - 2. Singular
 - 3. Ordinary
 - 4. Equal

Question ID : 26433071984
Status : Not Answered
Chosen Option : --

Q.5 Select the most appropriate synonym of the given word.

Dodge

- Ans
- 1. Determine
 - 2. Advice
 - 3. Announce
 - 4. Cheat

Question ID : 26433088490
Status : Answered
Chosen Option : 1

Q.6 Select the most appropriate option to substitute the underlined segment in the given sentence.

We hope these measure will take us further to a good position.

- Ans
- 1. hopes these measures will take us
 - 2. hope these measures will taking
 - 3. hope those measure will take us
 - 4. hope these measures will take us

Question ID : 26433093018
Status : Answered
Chosen Option : 4

Q.7 Select the most appropriate synonym of the underlined word.

There was palpable tension in the negotiation room.

- Ans
- 1. detectable
 - 2. indistinguishable
 - 3. imperceptible
 - 4. insensible

Question ID : 26433088838
Status : Answered
Chosen Option : 4

Q.8 Select the most appropriate meaning of the underlined idiom that can be substituted in the following sentence.

She knows Spanish after a fashion.

- Ans
- 1. in a fashionable way
 - 2. only after the fashion is done
 - 3. in a certain fashion
 - 4. to only a certain extent

Question ID : 26433072233
Status : Answered
Chosen Option : 1

Q.9 In the given sentence, a word is given in brackets. Select the most appropriate ANTONYM of the word to fill in the blank.
The boss wanted complete information. He asked about every _____ (huge) detail.

- Ans
- 1. significant
 - 2. solid
 - 3. mighty
 - 4. minute

Question ID : 26433058368
Status : Answered
Chosen Option : 4

Q.10 Select the most appropriate option to substitute the underlined segment in the given sentence to make it a meaningful sentence. If no substitution is required, select 'No substitution'.

Patients who do previous heart attacks and those with cardiac failure are at a higher risk of having a cardiac arrest.

- Ans
- 1. who have had previous heart attacks and those of cardiac failure are at a higher risk of having
 - 2. who have had previous heart attack and they with cardiac failure are at a higher risk of having
 - 3. who have had previous heart attacks and those with cardiac failure are at a higher risk of having
 - 4. No substitution

Question ID : 26433092047
Status : Answered
Chosen Option : 1

Q.11 Select the most appropriate option to fill in the blank.

He is determined to _____ any kind of task to prove his talent.

- Ans
- 1. undertake
 - 2. avoid
 - 3. entrust
 - 4. escape

Question ID : 26433074068
Status : Answered
Chosen Option : 1

Q.12 Select the INCORRECTLY spelt word.

- Ans
- 1. Fractural
 - 2. Historigraphy
 - 3. Antagonistic
 - 4. Periphery

Question ID : 26433073656
Status : Answered
Chosen Option : 1

Q.13 Fill in the blanks with the correct homophone.

I _____ some essential items from the supermarket.

- Ans
- 1. boat
 - 2. bot
 - 3. bought
 - 4. bout

Question ID : 26433089750
Status : Answered
Chosen Option : 3

Q.14 Select the most appropriate meaning of the given idiom.

A herculean task

- Ans
- 1. A simple work
 - 2. A machine work
 - 3. A tough job
 - 4. An important work

Question ID : 26433072814
Status : Answered
Chosen Option : 3

Q.15 Select the correct option to substitute the underlined segment in the given sentence. If no substitution is required, select 'No substitution'.

The patient had died before the doctor came.

- Ans
- 1. is dead
 - 2. No substitution
 - 3. will be dead
 - 4. died

Question ID : 26433090807
Status : Answered
Chosen Option : 2

Comprehension:

In the following passage, some words have been deleted. Read the passage carefully and select the most appropriate option to fill in each blank.

I looked out (1) _____ the city. The sun hung low in the sky, shining weakly (2) _____ the clouds, casting long shadows on the grass. I realised that it would be (3) _____ soon. The sun would set, finally, the (4) _____ would rise in the sky. Another day (5) _____ end. Another day lost.

SubQuestion No : 16

Q.16 Select the most appropriate option to fill in blank number 1.

- Ans 1. outside
 2. across
 3. inside
 4. under

Question ID : 26433092835

Status : Answered

Chosen Option : 2

Comprehension:

In the following passage, some words have been deleted. Read the passage carefully and select the most appropriate option to fill in each blank.

I looked out (1) _____ the city. The sun hung low in the sky, shining weakly (2) _____ the clouds, casting long shadows on the grass. I realised that it would be (3) _____ soon. The sun would set, finally, the (4) _____ would rise in the sky. Another day (5) _____ end. Another day lost.

SubQuestion No : 17

Q.17 Select the most appropriate option to fill in blank number 2.

- Ans 1. into
 2. though
 3. through
 4. upon

Question ID : 26433092836

Status : Answered

Chosen Option : 1

Comprehension:

In the following passage, some words have been deleted. Read the passage carefully and select the most appropriate option to fill in each blank.

I looked out (1) _____ the city. The sun hung low in the sky, shining weakly (2) _____ the clouds, casting long shadows on the grass. I realised that it would be (3) _____ soon. The sun would set, finally, the (4) _____ would rise in the sky. Another day (5) _____ end. Another day lost.

SubQuestion No : 18

Q.18 Select the most appropriate option to fill in blank number 3.

- Ans 1. bright
 2. light
 3. colourful
 4. dark

Question ID : 26433092837

Status : Answered

Chosen Option : 4

Comprehension:

In the following passage, some words have been deleted. Read the passage carefully and select the most appropriate option to fill in each blank.

I looked out (1) _____ the city. The sun hung low in the sky, shining weakly (2) _____ the clouds, casting long shadows on the grass. I realised that it would be (3) _____ soon. The sun would set, finally, the (4) _____ would rise in the sky. Another day (5) _____ end. Another day lost.

SubQuestion No : 19

Q.19 Select the most appropriate option to fill in blank number 4.

- Ans 1. stars
 2. planets
 3. moon
 4. sun

Question ID : 26433092838

Status : Answered

Chosen Option : 3

Comprehension:

In the following passage, some words have been deleted. Read the passage carefully and select the most appropriate option to fill in each blank.

I looked out (1) _____ the city. The sun hung low in the sky, shining weakly (2) _____ the clouds, casting long shadows on the grass. I realised that it would be (3) _____ soon. The sun would set, finally, the (4) _____ would rise in the sky. Another day (5) _____ end. Another day lost.

SubQuestion No : 20

Q.20 Select the most appropriate option to fill in blank number 5.

- Ans 1. would
 2. cannot
 3. will
 4. should

Question ID : 26433092839

Status : Answered

Chosen Option : 1

Section : Part-D-Hindi

Q.1 निम्नलिखित वाक्यांश के लिए एक सार्थक शब्द चुनिए।
ऐसी बात जो लोग परंपरा से सुनते आये हों

- Ans 1. स्मरणीय
 2. शैव
 3. अनुसूया
 4. किंवदंती

Question ID : 26433062738

Status : Not Answered

Chosen Option : --

Q.2 'पूरब और उत्तर के बीच की दिशा' वाक्यांश के लिए उचित शब्द बताइए -

- Ans 1. पूर्व
 2. ईशान
 3. पश्चिम
 4. वायव्य

Question ID : 26433065915

Status : Not Answered

Chosen Option : --

Q.3 निम्नलिखित विकल्पों में से कौन सा एक वाक्य संकेतवाचक सर्वनाम का नहीं है?

- Ans
- 1. वह भिखारी हमेशा मन्दिर के सामने बैठता है।
 - 2. वे पुरानी फाइलें हैं।
 - 3. राम का घर कौन सा है?
 - 4. यह लड़का हमारे विद्यालय का चपरासी नीरज है।

Question ID : 26433062978

Status : Not Answered

Chosen Option : --

Q.4 निम्नलिखित में से किस एक वाक्य में सर्वनाम के प्रयोग सम्बन्धी अशुद्धि है?

- Ans
- 1. मैं आपके केबिन में बैठा था।
 - 2. सभी छात्र अपने-अपने घर जाएं।
 - 3. सबकी अपनी-अपनी मजबूरियां थीं।
 - 4. जो लोग अन्दर आना चाहते हैं, वह आ सकते हैं।

Question ID : 26433062974

Status : Not Answered

Chosen Option : --

Q.5 निम्नलिखित शब्द का सही पर्यायवाची शब्द विकल्पों में से चुनिए।
नदी

- Ans
- 1. तरंगिणी
 - 2. सरोज
 - 3. हिमनद
 - 4. चपला

Question ID : 26433066939

Status : Not Answered

Chosen Option : --

Q.6 निम्न मुहावरे को किस विकल्प द्वारा पूर्ण किया जा सकता है?
'गागर में _____'

- Ans
- 1. सागर भरना
 - 2. पैसा भरना
 - 3. पानी भरना
 - 4. दूध भरना

Question ID : 26433066812

Status : Not Answered

Chosen Option : --

Q.7 नीचे दिए गए वाक्य में रेखांकित अंश के स्थान पर सबसे उपयुक्त विकल्प कौन-सा होगा?
वह धीमी स्वर में बोला।

- Ans
- 1. धीमे
 - 2. धीमों
 - 3. करुण
 - 4. गुस्से

Question ID : 26433066719

Status : Not Answered

Chosen Option : --

Q.8 "राहुल के स्वभाव में क्रोध का भाव अधिक है।"
उक्त वाक्य में प्रयुक्त 'क्रोध' के स्थान पर उसके विलोम शब्द का प्रयोग निम्न में से किस वाक्य में किया गया है?

- Ans
- 1. राहुल के स्वभाव में घृणा का भाव अधिक है।
 - 2. राहुल के स्वभाव में क्षमा का भाव अधिक है।
 - 3. राहुल के स्वभाव में ईर्ष्या का भाव अधिक है।
 - 4. राहुल के स्वभाव में दया का भाव अधिक है।

Question ID : 26433067020

Status : Not Answered

Chosen Option : --

Q.9 'यह रास्ता _____ है, सावधानी से चलें।'
उपरोक्त वाक्य में रिक्त स्थान की पूर्ति शुद्ध वर्तनी वाले सही शब्द द्वारा कीजिए।

- Ans
- 1. दुर्गम
 - 2. दुग्रम
 - 3. दुरगम
 - 4. दुगर्म

Question ID : 26433080904

Status : Not Answered

Chosen Option : --

Q.10 निम्न वाक्य में रेखांकित शब्द को विकल्पों में दिए गए किस शब्द से बदला जा सकता है, जिससे वाक्य के अर्थ में कोई परिवर्तन न हो?
प्रतिदिन रियाज़ करने के कारण वह प्रवीण हो गया।

- Ans
- 1. कसरत
 - 2. अभ्यास
 - 3. उपासना
 - 4. आसन

Question ID : 26433084961

Status : Not Answered

Chosen Option : --

Q.11 निम्नलिखित में से किस वाक्य में 'निर्माण' के विलोम शब्द का प्रयोग हुआ है?

- Ans
- 1. प्रकाश हमेशा तिमिर का नाश करता है।
 - 2. हमारे सामने वाला मकान जर्जर अवस्था में है।
 - 3. उत्तर भारत का मैदान एक समतल भूमि है।
 - 4. तरुण भारत संघ भारत का गैर सरकारी संगठन है।

Question ID : 26433091174

Status : Not Answered

Chosen Option : --

Q.12 निम्नलिखित वाक्य में से अशुद्धि पहचानें-
तलवार एक अच्छा अस्त है।

- Ans
- 1. अस्त
 - 2. तलवार
 - 3. अच्छा
 - 4. एक

Question ID : 26433066828

Status : Not Answered

Chosen Option : --

Q.13 निम्न में से किस वाक्य में 'खिन्न' के सही पर्यायवाची शब्द का प्रयोग हुआ है?

- Ans
- 1. रंजन उसके प्रति अनासक्त था।
 - 2. राजीव आज बेहद प्रसन्न था।
 - 3. सुनैना ने मुक्त कंठ से उसकी प्रशंसा की।
 - 4. जया का मन उदास हो गया।

Question ID : 26433067014

Status : Not Answered

Chosen Option : --

Q.14 'जिसके दो पद (पैर) हैं' वाक्यांश के लिए सार्थक शब्द क्या होगा?

- Ans
- 1. द्विज
 - 2. द्वापर
 - 3. चतुष्पद
 - 4. द्विपद

Question ID : 26433065859

Status : Not Answered

Chosen Option : --

Q.15 नीचे दिए गद्यांश में से कुछ शब्दों को हटा दिया गया है। गद्यांश के आधार पर पूछे गए प्रश्नों में उन रिक्त स्थानों के लिए सर्वाधिक उपयुक्त शब्दों का चयन विकल्पों में से कीजिए।
लँगोटी में फाग खेलना

- Ans
- 1. होली खेलना
 - 2. दरिद्रता में आनंद लूटना
 - 3. लँगोट पहनना
 - 4. बचपन से होली के गीत गाना

Question ID : 26433062314

Status : Not Answered

Chosen Option : --

Comprehension:

दिए गए गद्यांश में से कुछ शब्दों को हटा दिया गया है। गद्यांश के आधार पर पूछे गए प्रश्नों में उन रिक्त स्थानों के लिए सर्वाधिक उपयुक्त शब्दों का चयन विकल्पों में से कीजिए।

भारतवर्ष ने कभी भी भौतिक वस्तुओं के (1). _____ को बहुत अधिक महत्त्व नहीं दिया है। उसकी दृष्टि से मनुष्य के भीतर जो महान (2). _____ गुण स्थिर भाव से बैठा हुआ है, वही चरम और परम है। लोभ-मोह, काम-क्रोध आदि विचार मनुष्य में (3). _____ रूप से विद्यमान रहते हैं, पर उन्हें प्रधान शक्ति मान लेना और अपने मन तथा बुद्धि को उन्हीं के इशारे पर छोड़ देना बहुत बुरा (4). _____ है। भारतवर्ष ने कभी भी उन्हें उचित नहीं माना, उन्हें सदा (5). _____ के बंधन से बांधकर रखने का प्रयत्न किया है।

SubQuestion No : 16

Q.16 दिए गए शब्दों में से उचित शब्द चुनकर रिक्त स्थान (1) की पूर्ति कीजिए।

- Ans
- 1. संग्रह
 - 2. विग्रह
 - 3. लाभ
 - 4. प्रयोग

Question ID : 26433090343

Status : Not Answered

Chosen Option : --

Comprehension:

दिए गए गद्यांश में से कुछ शब्दों को हटा दिया गया है। गद्यांश के आधार पर पूछे गए प्रश्नों में उन रिक्त स्थानों के लिए सर्वाधिक उपयुक्त शब्दों का चयन विकल्पों में से कीजिए।

भारतवर्ष ने कभी भी भौतिक वस्तुओं के (1). _____ को बहुत अधिक महत्त्व नहीं दिया है। उसकी दृष्टि से मनुष्य के भीतर जो महान (2). _____ गुण स्थिर भाव से बैठा हुआ है, वही चरम और परम है। लोभ-मोह, काम-क्रोध आदि विचार मनुष्य में (3). _____ रूप से विद्यमान रहते हैं, पर उन्हें प्रधान शक्ति मान लेना और अपने मन तथा बुद्धि को उन्हीं के इशारे पर छोड़ देना बहुत बुरा (4). _____ है। भारतवर्ष ने कभी भी उन्हें उचित नहीं माना, उन्हें सदा (5). _____ के बंधन से बांधकर रखने का प्रयत्न किया है।

SubQuestion No : 17

Q.17 दिए गए शब्दों में से उचित शब्द चुनकर रिक्त स्थान (2) की पूर्ति कीजिए।

- Ans
- 1. महत्त्वपूर्ण
 - 2. बाह्य
 - 3. आंतरिक
 - 4. विशेष

Question ID : 26433090344

Status : Not Answered

Chosen Option : --

Comprehension:

दिए गए गद्यांश में से कुछ शब्दों को हटा दिया गया है। गद्यांश के आधार पर पूछे गए प्रश्नों में उन रिक्त स्थानों के लिए सर्वाधिक उपयुक्त शब्दों का चयन विकल्पों में से कीजिए।
भारतवर्ष ने कभी भी भौतिक वस्तुओं के (1). _____ को बहुत अधिक महत्त्व नहीं दिया है। उसकी दृष्टि से मनुष्य के भीतर जो महान (2). _____ गुण स्थिर भाव से बैठा हुआ है, वही चरम और परम है। लोभ-मोह, काम-क्रोध आदि विचार मनुष्य में (3). _____ रूप से विद्यमान रहते हैं, पर उन्हें प्रधान शक्ति मान लेना और अपने मन तथा बुद्धि को उन्हीं के इशारे पर छोड़ देना बहुत बुरा (4). _____ है। भारतवर्ष ने कभी भी उन्हें उचित नहीं माना, उन्हें सदा (5). _____ के बंधन से बांधकर रखने का प्रयत्न किया है।

SubQuestion No : 18

Q.18 दिए गए शब्दों में से उचित शब्द चुनकर रिक्त स्थान (3) की पूर्ति कीजिए।

- Ans
- 1. अनिवार्य
 - 2. स्वाभाविक
 - 3. ऐच्छिक
 - 4. विशेष

Question ID : 26433090345

Status : Not Answered

Chosen Option : --

Comprehension:

दिए गए गद्यांश में से कुछ शब्दों को हटा दिया गया है। गद्यांश के आधार पर पूछे गए प्रश्नों में उन रिक्त स्थानों के लिए सर्वाधिक उपयुक्त शब्दों का चयन विकल्पों में से कीजिए।
भारतवर्ष ने कभी भी भौतिक वस्तुओं के (1). _____ को बहुत अधिक महत्त्व नहीं दिया है। उसकी दृष्टि से मनुष्य के भीतर जो महान (2). _____ गुण स्थिर भाव से बैठा हुआ है, वही चरम और परम है। लोभ-मोह, काम-क्रोध आदि विचार मनुष्य में (3). _____ रूप से विद्यमान रहते हैं, पर उन्हें प्रधान शक्ति मान लेना और अपने मन तथा बुद्धि को उन्हीं के इशारे पर छोड़ देना बहुत बुरा (4). _____ है। भारतवर्ष ने कभी भी उन्हें उचित नहीं माना, उन्हें सदा (5). _____ के बंधन से बांधकर रखने का प्रयत्न किया है।

SubQuestion No : 19

Q.19 दिए गए शब्दों में से उचित शब्द चुनकर रिक्त स्थान (4) की पूर्ति कीजिए।

- Ans
- 1. प्रणाली
 - 2. कार्य
 - 3. तरीका
 - 4. आचरण

Question ID : 26433090346

Status : Not Answered

Chosen Option : --

Comprehension:

दिए गए गद्यांश में से कुछ शब्दों को हटा दिया गया है। गद्यांश के आधार पर पूछे गए प्रश्नों में उन रिक्त स्थानों के लिए सर्वाधिक उपयुक्त शब्दों का चयन विकल्पों में से कीजिए।

भारतवर्ष ने कभी भी भौतिक वस्तुओं के (1). _____ को बहुत अधिक महत्त्व नहीं दिया है। उसकी दृष्टि से मनुष्य के भीतर जो महान (2). _____ गुण स्थिर भाव से बैठा हुआ है, वही चरम और परम है। लोभ-मोह, काम-क्रोध आदि विचार मनुष्य में (3). _____ रूप से विद्यमान रहते हैं, पर उन्हें प्रधान शक्ति मान लेना और अपने मन तथा बुद्धि को उन्हीं के इशारे पर छोड़ देना बहुत बुरा (4). _____ है। भारतवर्ष ने कभी भी उन्हें उचित नहीं माना, उन्हें सदा (5). _____ के बंधन से बाँधकर रखने का प्रयत्न किया है।

SubQuestion No : 20

Q.20 दिए गए शब्दों में से उचित शब्द चुनकर रिक्त स्थान (5) की पूर्ति कीजिए।

Ans 1. संयम

2. मोह

3. बेड़ियों

4. रिशतों

Question ID : 26433090347

Status : Not Answered

Chosen Option : --

WWW.GOV TJOB SALE