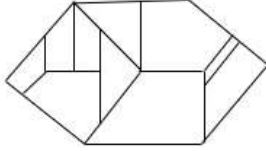


# Constable GD in CAPFs SSF Rifleman GD in Assam Rifles and Sepoy in NCB Examination 2022

Roll Number	<a href="http://www.govtjobsalert.in">www.govtjobsalert.in</a>
Candidate Name	<a href="http://www.govtjobsalert.in">www.govtjobsalert.in</a>
Venue Name	iON Digital Zone iDZ 1 Patliputra
Exam Date	25/01/2023
Exam Time	5:15 PM - 6:15 PM
Subject	Constable GD Examination 2022

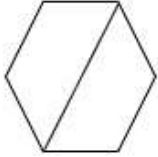
Section : Part-A-General Intelligence and Reasoning

Q.1 वह विकल्प चित्र चुनिए, जो प्रस्तुत चित्र में अंतर्निहित है। (घुमाना अनुमन्य नहीं है)




Ans

✗ 1.



✗ 2.



✗ 3.



✓ 4.



Question ID : 26433069347

Status : Answered

Chosen Option : 4

Q.2 इस प्रश्न में तीन कथन दिए गए हैं, जिसके बाद दो निष्कर्ष I और II दिए गए हैं। कथनों को सत्य मानते हुए, भले ही वे सर्वज्ञात तथ्यों से भिन्न प्रतीत होते हों, निर्णय कीजिए कि कौन-सा/से निष्कर्ष कथनों का तार्किक रूप से अनुसरण करता है/अनुसरण करते हैं।

कथन:

कुछ फ्लैट घर हैं।

सभी घर इमारतें हैं।

सभी इमारतें बगीचे हैं।

निष्कर्ष:

I. कुछ फ्लैट बगीचे हैं।

II. सभी फ्लैट इमारतें हैं।

- Ans
- 1. निष्कर्ष I और II दोनों अनुसरण करते हैं।
  - 2. न तो निष्कर्ष I और न ही II अनुसरण करता है।
  - 3. केवल निष्कर्ष II अनुसरण करता है।
  - 4. केवल निष्कर्ष I अनुसरण करता है।

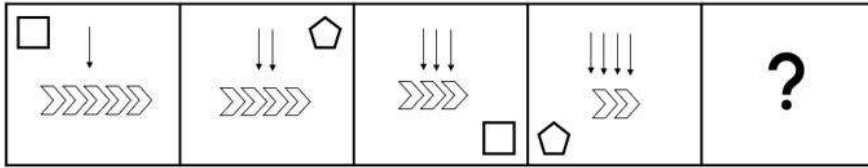
Question ID : 26433070380

Status : Answered

Chosen Option : 4

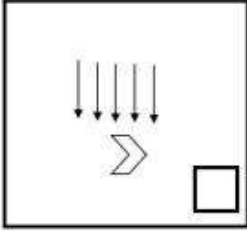
WWW.GOVtJOBSALERT.IN

Q.3 उस आकृति का चयन करें, जो निम्न आकृति श्रृंखला में आगे आएगी।

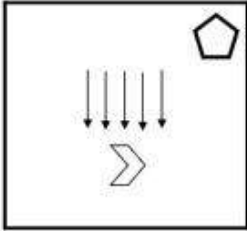


Ans

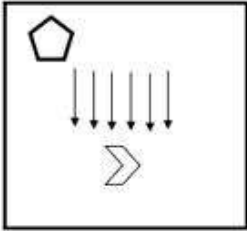
✗ 1.



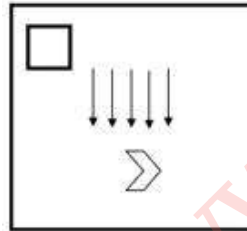
✗ 2.



✗ 3.



✓ 4.



Question ID : 26433076495  
 Status : Answered  
 Chosen Option : 4

Q.4 एक ही पासे की दो अलग-अलग स्थितियों को दर्शाया गया है जिस पर 'A' से 'F' तक के वर्णाक्षर बने हैं। 'E'

दर्शाने वाले फलक के विपरीत फलक पर स्थित वर्णाक्षर ज्ञात कीजिए।



- Ans
- 1. D
  - 2. C
  - 3. B
  - 4. A

Question ID : 26433085512

Status : Answered

Chosen Option : 3

Q.5 यदि '\$' का अर्थ है 'जोड़', '@' का अर्थ है 'घटाव', '#' का अर्थ है 'गुणा' और '&' का अर्थ है 'भाग', तो निम्नलिखित अभिव्यक्ति का मान क्या होगा?

54 & 6 # 2 \$ 8 @ 4

- Ans
- 1. 22
  - 2. 30
  - 3. 23
  - 4. 29

Question ID : 264330114183

Status : Answered

Chosen Option : 1

Q.6 'D + E' का अर्थ है 'D, E की बहन है'।

'D - E' का अर्थ है 'D, E का पति है'।

'D × E' का अर्थ है 'D, E का पिता है'।

'D ÷ E' का अर्थ है 'D, E की पुत्री है'।

यदि,  $L \div R + T \div W - M$  है, तो T, L से किस प्रकार संबंधित है?

- Ans
- 1. मौसी
  - 2. भांजी
  - 3. माँ
  - 4. पुत्री

Question ID : 26433069175

Status : Answered

Chosen Option : 1

Q.7 निम्नलिखित में से कौन-सी संख्या दी गई श्रृंखला में प्रश्न-चिह्न (?) का स्थान लेगी?  
5, 8, 16, 19, 38, ?, 82

- Ans  1. 46  
 2. 41  
 3. 76  
 4. 69

Question ID : 26433068094  
Status : Answered  
Chosen Option : 2

Q.8 P, Q, R, S, T और U एक वृत्ताकार स्थिति में केंद्र के विपरीत दिशा की ओर मुख करके बैठे हैं। S, R के दाईं ओर ठीक बगल में, और U के बाईं ओर ठीक बगल में बैठा है। Q, R और P के बीच में बैठा है। T, U के दाईं ओर ठीक बगल में, और P के बाईं ओर ठीक बगल में बैठा है। P के दाईं ओर ठीक बगल में कौन बैठा है?

- Ans  1. T  
 2. Q  
 3. S  
 4. R

Question ID : 26433074611  
Status : Answered  
Chosen Option : 2

Q.9 एक निश्चित भाषा में COFFEE को 12 और FOUR को 8 के रूप में कूटबद्ध किया जाता है। इसी भाषा में ANDROID को किस प्रकार कूटबद्ध किया जाएगा?

- Ans  1. 65  
 2. 10  
 3. 7  
 4. 14

Question ID : 26433074590  
Status : Answered  
Chosen Option : 4

Q.10 उस विकल्प का चयन करें जो पांचवे अक्षर-समूह से उसी प्रकार संबंधित है जिस प्रकार दूसरा अक्षर-समूह पहले अक्षर-समूह से संबंधित है और चौथा अक्षर-समूह तीसरे अक्षर-समूह से संबंधित है।  
MUSIC : NFHRX:: DANCE : WZMXV:: CONCERT : ?

- Ans  1. XLVIMXG  
 2. XLMXVIG  
 3. XMXVIGL  
 4. XLVIGMX

Question ID : 26433070325  
Status : Answered  
Chosen Option : 2

Q.11 उस विकल्प का चयन करें जो पांचवें अक्षर-समूह से उसी प्रकार संबंधित है जिस प्रकार दूसरा अक्षर-समूह पहले अक्षर-समूह से संबंधित है और चौथा अक्षर-समूह तीसरे अक्षर-समूह से संबंधित है।  
HELLO : QNNGJ :: NAMASTE : GVUCOCP :: SALAM : ?

- Ans
- 1. OCMBT
  - 2. OCNCU
  - 3. UCNCO
  - 4. OCNBU

Question ID : 26433057246

Status : Answered

Chosen Option : 2

Q.12 एक निश्चित कूट भाषा में, 'the shirt is dirty' को '3525' के रूप में कूटबद्ध किया जाता है, 'exercise regularly' को '89' के रूप में कूटबद्ध किया जाता है और 'comb your hair' को '444' के रूप में कूटबद्ध किया जाता है। उसी भाषा में 'empty your vessel' को किस प्रकार कूटबद्ध किया जाएगा?

- Ans
- 1. 456
  - 2. 657
  - 3. 654
  - 4. 546

Question ID : 26433067778

Status : Answered

Chosen Option : 4

Q.13 किस विकल्प में निम्नलिखित शब्दों का वह क्रम दिया गया है, जिस क्रम में वे अंग्रेजी शब्दकोश में आते हैं?

- 1 Pollution
- 2 Popular
- 3 Population
- 4 Pocket
- 5 Pool

- Ans
- 1. 4,1,3,2,5
  - 2. 4,5,1,2,3
  - 3. 4,5,3,2,1
  - 4. 4,1,5,2,3

Question ID : 26433069271

Status : Answered

Chosen Option : 4

Q.14 पाँच मित्र S, U, K, N और M एक वृताकार मेज के चारों ओर केंद्र की ओर मुख करके बैठे हैं। K, S और M के ठीक बगल में बैठा है। S, U के ठीक बगल में नहीं है। N, M के ठीक बगल में नहीं है। K और N के ठीक बगल में कौन बैठा है?

- Ans
- 1. U
  - 2. M
  - 3. S
  - 4. N

Question ID : 26433068076

Status : Answered

Chosen Option : 3

Q.15 नीचे दिए गए समीकरण को गणितीय रूप से सही बनाने के लिए किन दो चिन्हों को परस्पर बदलना चाहिए?

$$26 - 13 + 18 \div 54 \times 24 = 31$$

- Ans
- 1.  $\times$  और  $\div$
  - 2.  $-$  और  $\times$
  - 3.  $+$  और  $\div$
  - 4.  $-$  और  $+$

Question ID : 264330117503

Status : Answered

Chosen Option : 4

Q.16 दिए गए विकल्पों में से उस अक्षर-समूह का चयन कीजिए, जो निम्नलिखित श्रृंखला में प्रश्न-चिह्न (?) को प्रतिस्थापित कर सकता है।  
PQHI, ?, TULM, VWNO

- Ans
- 1. RSCD
  - 2. XYJK
  - 3. NOFG
  - 4. RSJK

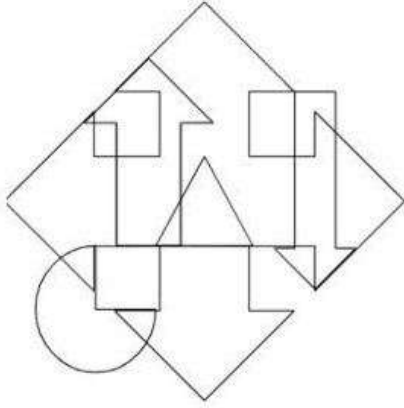
Question ID : 26433068350

Status : Answered

Chosen Option : 4

WWW.GOVtJOBSAlert.in

Q.17 उस विकल्प आकृति का चयन करें जो नीचे दी गई आकृति में अंतर्निहित है।  
(आकृति घुमाने की अनुमति नहीं है)



Ans



Question ID : 26433085753

Status : Answered

Chosen Option : 2

Q.18 निम्नलिखित में से कौन-सी संख्या दी गई श्रृंखला में प्रश्न-चिह्न (?) के स्थान पर आएगी?  
100, 80, 63, 49, 38, 30, ?

Ans ✗ 1. 27

✗ 2. 22

✗ 3. 24

✓ 4. 25

Question ID : 26433069049

Status : Answered

Chosen Option : 4



Q.19 उस समुच्चय का चयन करें, जिसमें संख्याएँ उसी प्रकार संबंधित हैं, जिस प्रकार निम्नलिखित समुच्चयों की संख्याएँ हैं।  
(नोट: संख्याओं को उसके घटक अंकों में विभाजित किए बिना, पूर्ण संख्याओं पर ही गणितीय संक्रियाएँ की जानी चाहिए। जैसे 13 - मान लीजिए 13 पर गणितीय संक्रियाएँ जैसे कि 13 में जोड़ना/घटाना/गुणा करना आदि किया जा सकता है। 13 को 1 और 3 में तोड़कर और फिर 1 और 3 पर गणितीय संक्रियाएँ करने की अनुमति नहीं है।)  
(174, 14, 15)  
(228, 24, 14)

- Ans
- 1. (192, 20, 13)
  - 2. (384, 45, 19)
  - 3. (180, 17, 15)
  - 4. (334, 16, 23)

Question ID : 26433076474  
Status : Not Answered  
Chosen Option : --

Q.20 निम्नलिखित में से कौन-सा अक्षर-समूह नीचे दी गई अक्षर-समूह श्रृंखला में प्रश्न-चिह्न (?) के स्थान पर आकर श्रृंखला को पूर्ण करेगा?  
KU, NT, PS, SR, UQ, ?

- Ans
- 1. YP
  - 2. XQ
  - 3. YQ
  - 4. XP

Question ID : 26433067285  
Status : Answered  
Chosen Option : 4

Section : Part-B-General Knowledge and General awareness

Q.1 Plants that do not have well-differentiated body design fall in this group. The plants in this group are commonly called algae. This group is \_\_\_\_\_.

- Ans
- 1. Pteridophytes
  - 2. Gymnosperms
  - 3. Bryophytes
  - 4. Thallophytes

Question ID : 264330115185  
Status : Answered  
Chosen Option : 4

Q.2 Identify the place in India where tropical cyclones originate from.

- Ans
- 1. Pacific ocean
  - 2. Arctic ocean
  - 3. Arabian sea and Pacific ocean
  - 4. Bay of Bengal and Indian ocean

Question ID : 26433086707  
Status : Answered  
Chosen Option : 3

Q.3 निम्नलिखित में से कौन-सा शब्द 42वें संशोधन के दौरान प्रस्तावना में जोड़ा गया था?

- Ans  1. पंथनिरपेक्ष  
 2. स्वतंत्रता  
 3. धर्म  
 4. राष्ट्र राज्य

Question ID : 26433089179  
Status : Answered  
Chosen Option : 1

Q.4 प्रधान मंत्री कौशल विकास योजना (PMKVY) \_\_\_\_\_ की प्रमुख योजना है।

- Ans  1. वाणिज्य एवं उद्योग मंत्रालय  
 2. कृषि एवं किसान कल्याण मंत्रालय  
 3. सूक्ष्म, लघु एवं मध्यम उद्यम मंत्रालय (MSME)  
 4. कौशल विकास एवं उद्यमशीलता मंत्रालय

Question ID : 264330116160  
Status : Answered  
Chosen Option : 4

Q.5 Pick the odd one out (Hint: Millets)

- Ans  1. Jowar  
 2. Potato  
 3. Ragi  
 4. Bajra

Question ID : 264330115537  
Status : Answered  
Chosen Option : 2

Q.6 मेदराम जात्रा महोत्सव कोया जनजाति द्वारा मनाया जाने वाला एक \_\_\_\_-दिवसीय त्यौहार है।

- Ans  1. 5  
 2. 4  
 3. 3  
 4. 2

Question ID : 264330115088  
Status : Not Answered  
Chosen Option : --

Q.7 भारत में योजना आयोग की स्थापना किस वर्ष की गई थी?

- Ans  1. 1960  
 2. 1955  
 3. 1947  
 4. 1950

Question ID : 264330116113  
Status : Answered  
Chosen Option : 2

Q.8 प्रथम पंचवर्षीय योजना में \_\_\_\_\_ मॉडल का पालन किया गया था।

- Ans
- 1. एकीकरण
  - 2. महालनोबिस
  - 3. पूंजी
  - 4. हेरोड-डोमर

Question ID : 264330115368  
Status : Answered  
Chosen Option : 2

Q.9 अक्टूबर 2022 में, जम्मू-कश्मीर और लद्दाख के नए मुख्य न्यायाधीश के रूप में किसे नियुक्त किया गया है?

- Ans
- 1. न्यायमूर्ति अली मोहम्मद मागरे
  - 2. न्यायमूर्ति पंकज मित्तल
  - 3. न्यायमूर्ति जयश्री ठाकुर
  - 4. न्यायमूर्ति प्रसन्ना भालचंद्र वराले

Question ID : 264330114993  
Status : Not Answered  
Chosen Option : --

Q.10 \_\_\_\_\_ के जन्मदिवस के अवसर पर अभिनंदन सरोजा राष्ट्रीय पुरस्कार शुरू किया गया था।

- Ans
- 1. पद्म भूषण सरोजा मूर्ति
  - 2. पद्म भूषण सरोजा नायर
  - 3. पद्म भूषण सरोजा वैद्यनाथन
  - 4. पद्मश्री सरोजा विश्वनाथ

Question ID : 264330115814  
Status : Not Answered  
Chosen Option : --

Q.11 ऋग्वेद के मंत्रों के समूह \_\_\_\_\_ कहलाते हैं।

- Ans
- 1. सूक्त
  - 2. सूत्र
  - 3. यामी
  - 4. अध्याय

Question ID : 26433089849  
Status : Answered  
Chosen Option : 1

Q.12 निम्नलिखित में से कौन जून 2022 में उत्तर प्रदेश के रामपुर से संसद सदस्य बने?

- Ans
- 1. दिनेश लाल यादव "निरहुआ"
  - 2. योगी आदित्यनाथ
  - 3. घनश्याम सिंह लोधी
  - 4. अखिलेश यादव

Question ID : 264330114902  
Status : Answered  
Chosen Option : 1

Q.13 भारत में, मुख्य चुनाव आयुक्त की नियुक्ति कौन करता है?

- Ans
- 1. लोकसभा अध्यक्ष
  - 2. राष्ट्रपति
  - 3. प्रधान मंत्री
  - 4. उप-राष्ट्रपति

Question ID : 26433074898  
Status : Answered  
Chosen Option : 2

Q.14 Which among the following waves is not an electromagnetic wave?

- Ans
- 1. Gamma Rays
  - 2. Cathode Rays
  - 3. Infra-red Rays
  - 4. Ultra Violet Rays

Question ID : 264330115150  
Status : Not Answered  
Chosen Option : --

Q.15 ग्रीष्मकालीन ओलंपिक खेल 2020 का शुभारम्भ आधिकारिक तौर पर किसने किया?

- Ans
- 1. मिशेल टेमर
  - 2. शी जिनपिंग
  - 3. सम्राट नारुहितो
  - 4. व्लादिमीर पुतिन

Question ID : 264330115951  
Status : Not Answered  
Chosen Option : --

Q.16 निम्नलिखित में से किस शास्त्रीय नृत्य की उत्पत्ति असम में हुई है?

- Ans
- 1. कथक
  - 2. ओडिसी
  - 3. कुचिपुड़ी
  - 4. सत्रीया

Question ID : 26433072921  
Status : Answered  
Chosen Option : 4

Q.17 जनगणना 2011 के अनुसार भारत के किस केंद्र शासित प्रदेश की साक्षरता दर सर्वाधिक है?

- Ans  1. चंडीगढ़  
 2. लक्षद्वीप  
 3. पुदुचेरी  
 4. दमन और दीव

Question ID : 264330116023  
Status : Answered  
Chosen Option : 2

Q.18 Which of the following Satyagraha was led by Dr. BR Ambedkar?

- Ans  1. Individual Satyagraha  
 2. Kanpur Satyagraha  
 3. Mahad Satyagraha  
 4. Kheda Satyagraha

Question ID : 26433089887  
Status : Answered  
Chosen Option : 1

Q.19 जनता के/की \_\_\_\_\_ को ध्यान में रखते हुए सरकार द्वारा सब्सिडी प्रदान की जाती है।

- Ans  1. कल्याण  
 2. पसंद  
 3. घनत्व  
 4. प्रकृति

Question ID : 264330115290  
Status : Answered  
Chosen Option : 1

Q.20 26 फरवरी 2021 को जम्मू और कश्मीर के \_\_\_\_\_ जिले में 'खेलो इंडिया नेशनल विंटर गेम्स 2021' के दूसरे संस्करण का उद्घाटन किया गया।

- Ans  1. रामबन  
 2. गुलमर्ग  
 3. कठुआ  
 4. डोडा

Question ID : 26433072891  
Status : Not Answered  
Chosen Option : --

Q.1 11,15, 19 और 25 प्रत्येक में एक निश्चित संख्या जोड़ी जाती है। जोड़ने के बाद, ये संख्याएँ समानुपाती हो जाती हैं। जोड़ी गई संख्या क्या है?

- Ans
- 1. 4
  - 2. 6
  - 3. 5
  - 4. 3

Question ID : 26433075671  
Status : Answered  
Chosen Option : 3

Q.2 Rs.4,900 की धनराशि पर 2 वर्षों में चक्रवृद्धि ब्याज Rs.725 है, जब ब्याज वार्षिक रूप से चक्रवृद्धि होता है। वार्षिक ब्याज दर ज्ञात कीजिए।

- Ans
- 1.  $7\frac{1}{7}\%$
  - 2.  $3\frac{1}{2}\%$
  - 3.  $9\frac{1}{7}\%$
  - 4.  $8\frac{6}{7}\%$

Question ID : 26433064920  
Status : Answered  
Chosen Option : 1

Q.3 रवि और सुमंत एक कार्य को क्रमशः 40 और 50 दिनों में पूरा कर सकते हैं। यदि वे पहले दिन रवि से शुरू करते हुए एकांतर दिनों में (बारी बारी से) उस पर कार्य करते हैं, तो कार्य कितने दिनों में समाप्त हो जाएगा?

- Ans
- 1.  $44\frac{1}{5}$  दिन
  - 2.  $44\frac{2}{5}$  दिन
  - 3.  $42\frac{2}{5}$  दिन
  - 4.  $44\frac{3}{5}$  दिन

Question ID : 26433075245  
Status : Answered  
Chosen Option : 4

Q.4 एक व्यापारी अपने सभी सामानों पर 8% की छूट देता है और फिर भी 15% का लाभ अर्जित करता है। यदि किसी सामान का अंकित मूल्य ₹250 है, तो उसका क्रय मूल्य क्या होगा?

- Ans
- 1. ₹176
  - 2. ₹185
  - 3. ₹180
  - 4. ₹200

Question ID : 26433076326  
Status : Answered  
Chosen Option : 4

Q.5 दो दोस्त 720 मीटर के एक वृत्ताकार ट्रैक पर दौड़ रहे हैं। उन्होंने एक ही बिंदु से दौड़ना शुरू किया और समान दिशा में 1.5 मीटर/सेकंड और 3.5 मीटर/सेकंड की चाल से दौड़ रहे हैं। कितने समय बाद वे दूसरी बार एक-दूसरे को पार करेंगे?

- Ans
- 1. 7 मिनट
  - 2. 12 मिनट
  - 3. 3.5 मिनट
  - 4. 10 मिनट

Question ID : 26433073113  
Status : Answered  
Chosen Option : 4

Q.6 एक विधानसभा चुनाव में, एक उम्मीदवार को कुल वैध मतों का 72% प्राप्त हुआ। कुल मतों में से 1.2% मत अवैध घोषित कर दिए गए। यदि मतदाताओं की कुल संख्या 3,32,000 है, तो उम्मीदवार के पक्ष में डाले गए वैध मतों की संख्या कितनी है? (केवल पूर्ण संख्या में मान लें)

- Ans
- 1. 133666
  - 2. 136188
  - 3. 236171
  - 4. 337877

Question ID : 26433081015  
Status : Not Answered  
Chosen Option : --

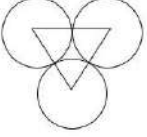
Q.7 एक दुकानदार चावल बेचता है। वह इसे विक्रय मूल्य से 15% कम दर पर खरीदता है। एक महीने में उसकी कुल बिक्री Rs. 5,50,000 है और वह महीने की शुरुआत में दुकान के किराए के रूप में Rs. 8,000 का भुगतान करता है। महीने में उसका लाभ प्रतिशत कितना है?

- Ans
- 1. 17.5%
  - 2. 15.7%
  - 3. 14.5%
  - 4. 12.7%

Question ID : 26433071252  
Status : Not Answered  
Chosen Option : --

Q.8 दी गई आकृति में, प्रत्येक 3.5 cm त्रिज्या वाले तीन वृत्तों को इस प्रकार रखा गया है कि प्रत्येक वृत्त अन्य दो को स्पर्श करता है।

वृत्तों से घिरे भाग का क्षेत्रफल \_\_\_\_\_ है। (दशमलव के ठीक दो स्थानों तक) ( $\pi = \frac{22}{7}$  लें)



- Ans
- 1. 3.42 cm<sup>2</sup>
  - 2. 2.34 cm<sup>2</sup>
  - 3. 1.48 cm<sup>2</sup>
  - 4. 1.97 cm<sup>2</sup>

Question ID : 26433075895

Status : Not Answered

Chosen Option : --

Q.9 कृष्ण ने पहली तथा दूसरी वस्तु क्रमशः ₹150 और ₹300 में खरीदीं। उसने पहली वस्तु को 20% लाभ पर और दूसरी वस्तु को 20% हानि पर बेचा। उसका कुल लाभ या हानि प्रतिशत ज्ञात करें। (दो दशमलव स्थान तक पूर्णांकित)

- Ans
- 1. 13.33% हानि
  - 2. 6.67% लाभ
  - 3. 13.33% लाभ
  - 4. 6.67% हानि

Question ID : 26433079925

Status : Answered

Chosen Option : 4

Q.10 एक संख्या 'y' को 225 से विभाजित करने पर शेषफल 33 बचता है। वही संख्या जब 15 से विभाजित की जाती है, तो शेषफल 'z' बचता है। z का मान \_\_\_\_\_ है।

- Ans
- 1. 4
  - 2. 3
  - 3. 2
  - 4. 1

Question ID : 26433081536

Status : Answered

Chosen Option : 2



Q.11 प्रथम पांच अभाज्य संख्याओं का औसत क्या है?

Ans

✓ 1.  $5\frac{3}{5}$

✗ 2.  $5\frac{1}{5}$

✗ 3.  $5\frac{4}{5}$

✗ 4.  $5\frac{2}{5}$

Question ID : 26433079842

Status : Answered

Chosen Option : 1

Q.12 A एक कार्य को 51 दिनों में कर सकता है और B उसी कार्य को 34 दिनों में कर सकता है। समान कार्य को पूरा करने में लगने वाला समय ज्ञात करें यदि वे बारी-बारी से एक-एक दिन कार्य करते हैं तथा A कार्य शुरू करता है।

Ans ✓ 1. 41 दिन

✗ 2. 46 दिन

✗ 3. 42 दिन

✗ 4. 44 दिन

Question ID : 264330116844

Status : Not Answered

Chosen Option : --

Q.13 एक वस्तु का अंकित मूल्य 4000 रुपए था। लेकिन दुकानदार ने 5 प्रतिशत और 7 प्रतिशत की दोहरी छूट दी। उसने अंततः वस्तु को कितने में बेचा?

Ans ✗ 1. 3665 रुपए

✗ 2. 3872 रुपए

✓ 3. 3534 रुपए

✗ 4. 3948 रुपए

Question ID : 264330116729

Status : Answered

Chosen Option : 3

Q.14 संख्याओं 9, 22, 14 और 32 में क्या जोड़ा जाना चाहिए ताकि इस प्रकार प्राप्त संख्याएँ समानुपाती हों जाएँ?

Ans ✗ 1. 5

✗ 2. 6

✓ 3. 4

✗ 4. 3

Question ID : 26433080325

Status : Answered

Chosen Option : 3

Q.15 एक चुनाव में 12% मतदाताओं ने अपना मत नहीं डाला और 2% डाले गए मतों को अमान्य घोषित कर दिया गया। इस चुनाव में केवल दो उम्मीदवार थे। विजेता ने कुल पंजीकृत मतदाताओं के 46% मत प्राप्त करके अपने प्रतिद्वंद्वी को 1,044 मतों से हराया। चुनाव में पंजीकृत मतदाताओं की कुल संख्या ज्ञात करें।

- Ans
- 1. 10440
  - 2. 14400
  - 3. 16750
  - 4. 18125

Question ID : 26433076223  
Status : Not Answered  
Chosen Option : --

Q.16 यदि एक बेलन की त्रिज्या 7 m है और इसका संपूर्ण पृष्ठीय क्षेत्रफल  $440 \text{ m}^2$  है, तो बेलन की ऊँचाई ज्ञात कीजिए। ( $\pi = 22/7$  लें)

- Ans
- 1. 3 m
  - 2. 5 m
  - 3. 7 m
  - 4. 4 m

Question ID : 26433076385  
Status : Not Answered  
Chosen Option : --

Q.17 29 प्रेक्षणों का औसत 40 है। यदि पहले 15 प्रेक्षणों का औसत 38 है, और अंतिम 15 प्रेक्षणों का औसत 45 है, तो 15वां प्रेक्षण क्या है?

- Ans
- 1. 0
  - 2. 29.5
  - 3. 85
  - 4. 30

Question ID : 26433075431  
Status : Answered  
Chosen Option : 3

Q.18 What is the LCM of two co-prime numbers whose product is 323?

- Ans
- 1. 646
  - 2. 1
  - 3. 323
  - 4. 161.5

Question ID : 26433075049  
Status : Answered  
Chosen Option : 3

Q.19 रमेश और नरेश एक दूसरे की ओर क्रमशः 26 km/h और 18 km/h की चाल से दौड़ना शुरू करते हैं, वे एक घंटे और 45 मिनट के बाद मिलते हैं। दौड़ना शुरू करते समय वे एक दूसरे से कितनी दूर (मीटर में) थे?

Ans  1. 77000

2. 66000

3. 75000

4. 65000

Question ID : 26433064997

Status : Answered

Chosen Option : 1

Q.20 A sum of P was borrowed and paid back in three equal yearly instalments, each of ₹30,000. If the rate of interest was 5% compounded annually, then the value of P (approximate) is:

Ans  1. ₹80,697

2. ₹80,597

3. ₹81,597

4. ₹81,697

Question ID : 26433079805

Status : Not Answered

Chosen Option : --

Section : Part-D-English

Q.1 Select the most appropriate synonym of the given word.

Adversity

Ans  1. Misfortune

2. Progress

3. Anxiety

4. Allegiance

Question ID : 26433073430

Status : Answered

Chosen Option : 2

Q.2 Identify the correctly spelt sentence.

Ans  1. It is believed that a caterpillar can become a butterfly.

2. It is believed that a caterpillar can become a butterfly.

3. It is believed that a catarpillar can become a butterfly.

4. It is believed that a catterpillar can become a butterfly.

Question ID : 26433072830

Status : Answered

Chosen Option : 1

Q.3 Select the most appropriate ANTONYM of the given word.

Quietness

- Ans  1. Kindness  
 2. Agitation  
 3. Slowness  
 4. Speed

Question ID : 26433073801  
Status : Answered  
Chosen Option : 4

Q.4 Select the INCORRECTLY spelt word.

- Ans  1. Percist  
 2. Conceive  
 3. Repair  
 4. Strict

Question ID : 26433073499  
Status : Answered  
Chosen Option : 1

Q.5 Select the most appropriate ANTONYM of the italicised word in the given sentence.

The *miser* hated spending money.

- Ans  1. skinflint  
 2. spendthrift  
 3. scrooge  
 4. tightwad

Question ID : 26433096208  
Status : Answered  
Chosen Option : 2

Q.6 Select the most appropriate meaning of the given idiom.

Wrangle for an ass's shadow

- Ans  1. Losing temper easily  
 2. Making false allegations  
 3. Fighting for a just cause  
 4. Argue over petty issues

Question ID : 26433072438  
Status : Answered  
Chosen Option : 4

Q.7 Select the most appropriate option to substitute the underlined segment in the given sentence.

They have decided to visit Konark, have they?

- Ans
- 1. do they?
  - 2. is it?
  - 3. haven't they?
  - 4. don't they?

Question ID : 26433088483  
Status : Answered  
Chosen Option : 3

Q.8 Select the most appropriate option to fill in the blank.

The cloth is \_\_\_\_\_ to touch so it is not suitable for apparels.

- Ans
- 1. coarse
  - 2. irregular
  - 3. smooth
  - 4. soft

Question ID : 26433074067  
Status : Answered  
Chosen Option : 1

Q.9 Select the most appropriate ANTONYM of the given word.

Eradicate

- Ans
- 1. Abolish
  - 2. Deteriorate
  - 3. Culminate
  - 4. Conserve

Question ID : 26433071970  
Status : Answered  
Chosen Option : 4

Q.10 Select the most appropriate meaning of the given idiom.

Snake in the grass

- Ans
- 1. Friendly person
  - 2. Loyal person
  - 3. Treacherous person
  - 4. Clever person

Question ID : 26433072277  
Status : Answered  
Chosen Option : 3

Q.11 Select the most appropriate synonym of the given word.

**Bargain**

- Ans  1. Deal  
 2. Revoke  
 3. Real  
 4. Alert

Question ID : 26433072185  
Status : Answered  
Chosen Option : 1

Q.12 Select the most appropriate option to fill in the blank.

Indian society is a complex mix of \_\_\_\_\_ cultures, people and languages.

- Ans  1. diversion  
 2. diverges  
 3. diversity  
 4. diverse

Question ID : 26433072731  
Status : Answered  
Chosen Option : 4

Q.13 Select the most appropriate option that can substitute the underlined segment in the given sentence.

The flyover that connecting the two cities is broken.

- Ans  1. has connect  
 2. had connect  
 3. connects  
 4. has been connected

Question ID : 26433091868  
Status : Answered  
Chosen Option : 3

Q.14 Select the correct pair of words for the blanks in the given sentence.

My teacher asked me to read \_\_\_\_\_ and also \_\_\_\_\_ my best friend to celebrate his birthday in the school.

- Ans  1. loud; allow  
 2. a loud; aloud  
 3. allowed; aloud  
 4. aloud; allowed

Question ID : 26433060542  
Status : Answered  
Chosen Option : 4

**Q.15** The following sentence has been divided into parts. One of them may contain an error. Select the part that contains the error from the given options. If you don't find any error, mark 'No error' as your answer.  
If the charge that he conspired / to raze a building is valid,/ there is great deal to answer for.

- Ans
- 1. to raze a building is valid
  - 2. If the charge that he conspired
  - 3. No error
  - 4. there is great deal to answer for

Question ID : 264330114509  
Status : Answered  
Chosen Option : 2

**Comprehension:**

In the following passage, some words have been deleted. Read the passage carefully and select the most appropriate option to fill in each blank.

The death penalty, often known as capital (1)\_\_\_\_\_, is the most severe form of punishment that may be meted out to an individual under any criminal legislation in (2)\_\_\_\_\_ anywhere in the world. The legal (3)\_\_\_\_\_ through which the state uses its power to take an individual's life is known as the death penalty. It has (4)\_\_\_\_\_ since the establishment of the State itself. The (5)\_\_\_\_\_ of independence heralded the beginning of a new era in India's judicial system.

**SubQuestion No : 16**

**Q.16** Select the most appropriate option to fill in blank number 1.

- Ans
- 1. gain
  - 2. punishment
  - 3. attainment
  - 4. loss

Question ID : 26433060989  
Status : Answered  
Chosen Option : 2

**Comprehension:**

In the following passage, some words have been deleted. Read the passage carefully and select the most appropriate option to fill in each blank.

The death penalty, often known as capital (1)\_\_\_\_\_, is the most severe form of punishment that may be meted out to an individual under any criminal legislation in (2)\_\_\_\_\_ anywhere in the world. The legal (3)\_\_\_\_\_ through which the state uses its power to take an individual's life is known as the death penalty. It has (4)\_\_\_\_\_ since the establishment of the State itself. The (5)\_\_\_\_\_ of independence heralded the beginning of a new era in India's judicial system.

**SubQuestion No : 17**

**Q.17** Select the most appropriate option to fill in blank number 2.

- Ans
- 1. resistance
  - 2. existence
  - 3. persistence
  - 4. maintenance

Question ID : 26433060990  
Status : Answered  
Chosen Option : 2

**Comprehension:**

In the following passage, some words have been deleted. Read the passage carefully and select the most appropriate option to fill in each blank.

The death penalty, often known as capital (1)\_\_\_\_\_, is the most severe form of punishment that may be meted out to an individual under any criminal legislation in (2)\_\_\_\_\_ anywhere in the world. The legal (3)\_\_\_\_\_ through which the state uses its power to take an individual's life is known as the death penalty. It has (4)\_\_\_\_\_ since the establishment of the State itself. The (5)\_\_\_\_\_ of independence heralded the beginning of a new era in India's judicial system.

**SubQuestion No : 18**

**Q.18 Select the most appropriate option to fill in blank number 3.**

- Ans  1. method  
 2. lawyer  
 3. intention  
 4. custody

Question ID : 26433060991  
Status : Answered  
Chosen Option : 1

**Comprehension:**

In the following passage, some words have been deleted. Read the passage carefully and select the most appropriate option to fill in each blank.

The death penalty, often known as capital (1)\_\_\_\_\_, is the most severe form of punishment that may be meted out to an individual under any criminal legislation in (2)\_\_\_\_\_ anywhere in the world. The legal (3)\_\_\_\_\_ through which the state uses its power to take an individual's life is known as the death penalty. It has (4)\_\_\_\_\_ since the establishment of the State itself. The (5)\_\_\_\_\_ of independence heralded the beginning of a new era in India's judicial system.

**SubQuestion No : 19**

**Q.19 Select the most appropriate option to fill in blank number 4.**

- Ans  1. considered  
 2. published  
 3. authorised  
 4. existed

Question ID : 26433060992  
Status : Answered  
Chosen Option : 4



**Comprehension:**

In the following passage, some words have been deleted. Read the passage carefully and select the most appropriate option to fill in each blank.

The death penalty, often known as capital (1)\_\_\_\_\_, is the most severe form of punishment that may be meted out to an individual under any criminal legislation in (2)\_\_\_\_\_ anywhere in the world. The legal (3)\_\_\_\_\_ through which the state uses its power to take an individual's life is known as the death penalty. It has (4)\_\_\_\_\_ since the establishment of the State itself. The (5)\_\_\_\_\_ of independence heralded the beginning of a new era in India's judicial system.

**SubQuestion No : 20****Q.20 Select the most appropriate option to fill in blank number 5.**

- Ans  1. birth  
 2. verity  
 3. end  
 4. enlightenment

Question ID : 26433060993  
Status : Answered  
Chosen Option : 1

Section : Part-D-Hindi

**Q.1 'आस्तीन का सांप' मुहावरे का सही अर्थ होगा -**

- Ans  1. शातिर मित्र  
 2. सांप पालना  
 3. कपटी मित्र  
 4. बगल में सांप रहना

Question ID : 26433062609  
Status : Not Answered  
Chosen Option : --

**Q.2 निम्नलिखित शब्दों में से कौन सा शब्द अनेकार्थी शब्द है?**

- Ans  1. फल  
 2. अर्चना  
 3. उपहार  
 4. पूजा

Question ID : 26433091319  
Status : Not Answered  
Chosen Option : --

Q.3 निम्नलिखित वाक्यांश के लिए उपयुक्त सार्थक शब्द क्या होगा?  
तेज गति से चलने वाला

- Ans
- 1. कर्मठ
  - 2. बलवान
  - 3. द्रुतगामी
  - 4. प्रगतिशील

Question ID : 26433065764  
Status : Not Answered  
Chosen Option : --

Q.4 निम्न में से कौन-सा शब्द 'आसमान' का पर्यायवाची शब्द है?

- Ans
- 1. प्रभात
  - 2. द्रुत
  - 3. दहन
  - 4. आकाश

Question ID : 26433067084  
Status : Not Answered  
Chosen Option : --

Q.5 'कुलश्रेष्ठ \_\_\_\_\_।' उपर्युक्त वाक्य में रिक्त स्थान के लिए उपयुक्त विकल्प निम्न में से क्या होगा?

- Ans
- 1. का अर्थ होता है कुल में वृद्ध
  - 2. का अर्थ होता है कुल में बड़ा
  - 3. का अर्थ होता है कुल में श्रेष्ठ
  - 4. का अर्थ होता है कुल में छोटा

Question ID : 26433067039  
Status : Not Answered  
Chosen Option : --

Q.6 उसने नहाने के बाद भोजन किया। उपरोक्त वाक्य में रेखांकित पद के बदले उचित पूर्वकालिक क्रिया पद भरकर वाक्य पूर्ण कीजिए।

- Ans
- 1. नहाना और
  - 2. नहाया
  - 3. नहाकर
  - 4. नहलवाया

Question ID : 26433063042  
Status : Not Answered  
Chosen Option : --

Q.7 निम्नलिखित वाक्य के रिक्त स्थान में सबसे उपयुक्त मुहावरा क्या होगा?  
'वह तो अपनी माँ की \_\_\_\_\_ है।'

- Ans
- 1. धुन का पक्का
  - 2. अक्ल का दुश्मन
  - 3. तिल का ताड़
  - 4. आँखों का तारा

Question ID : 26433066722  
Status : Not Answered  
Chosen Option : --

Q.8 'आज कल सभी के पास स्मार्ट फोन होना आम बात है।' वाक्य में प्रयुक्त 'आम' शब्द निम्न में से किस अर्थ को व्यक्त करता है?

- Ans
- 1. सामान्य
  - 2. अच्छी
  - 3. सभी
  - 4. आम का फल

Question ID : 26433080913  
Status : Not Answered  
Chosen Option : --

Q.9 'जिसकी जानकारी बहुत अधिक हो' वाक्यांश के लिए एक शब्द क्या होगा?

- Ans
- 1. विज्ञ
  - 2. अज्ञ
  - 3. अज
  - 4. अजान

Question ID : 26433065728  
Status : Not Answered  
Chosen Option : --

Q.10 निम्न वाक्य में रेखांकित शब्द-समूह के लिए सर्वाधिक उपयुक्त विकल्प चुनें।  
जो कम जानता है, वही अधिक उछलता है।

- Ans
- 1. अल्पज्ञ
  - 2. विज्ञानी
  - 3. विज्ञ
  - 4. जिज्ञासु

Question ID : 26433062285  
Status : Not Answered  
Chosen Option : --

Q.11 निम्नलिखित वाक्य में प्रयुक्त अशुद्ध शब्द पहचानें।  
'सेनिक सदैव सीमा की सुरक्षा के लिए तत्पर रहते हैं।'

- Ans
- 1. सदैव
  - 2. तत्पर
  - 3. सुरक्षा
  - 4. सेनिक

Question ID : 26433066825  
Status : Not Answered  
Chosen Option : --

Q.12 "यह दवा रोग में समूल से नष्ट करती है।"  
उपरोक्त वाक्य में कारक सम्बन्धी त्रुटि पहचानकर निम्नलिखित में से शुद्ध वाक्य चुनिए।

- Ans
- 1. यह दवा रोग पर मूल से नष्ट करती है।
  - 2. यह दवा रोग के लिए मूल से नष्ट करती है।
  - 3. यह दवा रोग को समूल नष्ट करती है।
  - 4. यह दवा रोग को समूल से नष्ट करती है।

Question ID : 26433066971  
Status : Not Answered  
Chosen Option : --

Q.13 'नमन पुस्तक पढ़ता है।' इस वाक्य का कर्मवाच्य में रूपांतरण होगा -

- Ans
- 1. नमन पुस्तक पढ़ रहा है।
  - 2. नमन पुस्तक पढ़ेगा।
  - 3. नमन से पुस्तक पढ़ी नहीं जाती।
  - 4. नमन द्वारा पुस्तक पढ़ी गई।

Question ID : 26433062321  
Status : Not Answered  
Chosen Option : --

Q.14 यह आश्रम अत्यंत शांत है।  
उपरोक्त वाक्य में रेखांकित शब्द के उचित पर्यायवाची शब्द का चयन विकल्पों में से कीजिए।

- Ans
- 1. कुटी
  - 2. रैन
  - 3. मधवा
  - 4. रासभ

Question ID : 26433079624  
Status : Not Answered  
Chosen Option : --

Q.15 वर्तनी की दृष्टि से दिए गए वाक्य के अशुद्ध भाग का चयन कीजिए-  
विदेश में मेरे मरने पर मेरी अस्थियाँ इलाहाबाद भेज दी जाएँ।

- Ans
- 1. मरने पर मेरी
  - 2. भेज दी जाएँ।
  - 3. विदेश में मेरे
  - 4. अस्थियाँ इलाहाबाद

Question ID : 26433062884

Status : Not Answered

Chosen Option : --

**Comprehension:**

निम्नलिखित गद्यांश में कुछ शब्दों को हटा दिया गया है। दिए गए विकल्पों की सहायता से रिक्त स्थानों की पूर्ति कीजिए। प्रत्येक संख्या के लिए सबसे उपयुक्त विकल्प का चयन कीजिए।  
मनुष्य को गुण, कर्म और स्वभाव से 1. \_\_\_\_\_ प्रकृति वाला प्राणी माना जाता है; यद्यपि हर आदमी के 2. \_\_\_\_\_ कोने में अज्ञात रूप से एक 3. \_\_\_\_\_ प्राणी भी छिपा रहा करता है। प्रायः मनुष्य भरसक चेष्टा कर के भी उसे जागने नहीं देता। जब किसी कारणवश वह जाग ही पड़ता है, तभी 4. \_\_\_\_\_ संघर्षात्मक क्रिया-प्रतिक्रियाओं का भी 5. \_\_\_\_\_ हुआ करता है। उन्हीं के घर्षण-प्रत्याघर्षण से उत्पन्न हुआ करती है युद्धों की ज्वाला।

SubQuestion No : 16

Q.16 रिक्त स्थान 1 की पूर्ति के लिए सबसे उपयुक्त विकल्प का चयन करें।

- Ans
- 1. क्रोधी
  - 2. अभिमानी
  - 3. शांत
  - 4. जंगली

Question ID : 264330110909

Status : Not Answered

Chosen Option : --

**Comprehension:**

निम्नलिखित गद्यांश में कुछ शब्दों को हटा दिया गया है। दिए गए विकल्पों की सहायता से रिक्त स्थानों की पूर्ति कीजिए। प्रत्येक संख्या के लिए सबसे उपयुक्त विकल्प का चयन कीजिए।  
मनुष्य को गुण, कर्म और स्वभाव से 1. \_\_\_\_\_ प्रकृति वाला प्राणी माना जाता है; यद्यपि हर आदमी के 2. \_\_\_\_\_ कोने में अज्ञात रूप से एक 3. \_\_\_\_\_ प्राणी भी छिपा रहा करता है। प्रायः मनुष्य भरसक चेष्टा कर के भी उसे जागने नहीं देता। जब किसी कारणवश वह जाग ही पड़ता है, तभी 4. \_\_\_\_\_ संघर्षात्मक क्रिया-प्रतिक्रियाओं का भी 5. \_\_\_\_\_ हुआ करता है। उन्हीं के घर्षण-प्रत्याघर्षण से उत्पन्न हुआ करती है युद्धों की ज्वाला।

SubQuestion No : 17

Q.17 रिक्त स्थान 2 की पूर्ति के लिए सबसे उपयुक्त विकल्प का चयन करें।

- Ans
- 1. बाह्य
  - 2. भीतरी
  - 3. बाहरी
  - 4. बाहारी

Question ID : 264330110910

Status : Not Answered

Chosen Option : --

**Comprehension:**

निम्नलिखित गद्यांश में कुछ शब्दों को हटा दिया गया है। दिए गए विकल्पों की सहायता से रिक्त स्थानों की पूर्ति कीजिए। प्रत्येक संख्या के लिए सबसे उपयुक्त विकल्प का चयन कीजिए।  
मनुष्य को गुण, कर्म और स्वभाव से 1. \_\_\_\_\_ प्रकृति वाला प्राणी माना जाता है; यद्यपि हर आदमी के 2. \_\_\_\_\_ कोने में अज्ञात रूप से एक 3. \_\_\_\_\_ प्राणी भी छिपा रहा करता है। प्रायः मनुष्य भरसक चेष्टा कर के भी उसे जागने नहीं देता। जब किसी कारणवश वह जाग ही पड़ता है, तभी 4. \_\_\_\_\_ संघर्षात्मक क्रिया-प्रतिक्रियाओं का भी 5. \_\_\_\_\_ हुआ करता है। उन्हीं के घर्षण-प्रत्याघर्षण से उत्पन्न हुआ करती है युद्धों की ज्वाला।

**SubQuestion No : 18**

Q.18 रिक्त स्थान 3 की पूर्ति के लिए सबसे उपयुक्त विकल्प का चयन करें।

- Ans
- 1. नभचर
  - 2. जलचर
  - 3. हिंसक
  - 4. थलचर

Question ID : 264330110911

Status : Not Answered

Chosen Option : --

**Comprehension:**

निम्नलिखित गद्यांश में कुछ शब्दों को हटा दिया गया है। दिए गए विकल्पों की सहायता से रिक्त स्थानों की पूर्ति कीजिए। प्रत्येक संख्या के लिए सबसे उपयुक्त विकल्प का चयन कीजिए।  
मनुष्य को गुण, कर्म और स्वभाव से 1. \_\_\_\_\_ प्रकृति वाला प्राणी माना जाता है; यद्यपि हर आदमी के 2. \_\_\_\_\_ कोने में अज्ञात रूप से एक 3. \_\_\_\_\_ प्राणी भी छिपा रहा करता है। प्रायः मनुष्य भरसक चेष्टा कर के भी उसे जागने नहीं देता। जब किसी कारणवश वह जाग ही पड़ता है, तभी 4. \_\_\_\_\_ संघर्षात्मक क्रिया-प्रतिक्रियाओं का भी 5. \_\_\_\_\_ हुआ करता है। उन्हीं के घर्षण-प्रत्याघर्षण से उत्पन्न हुआ करती है युद्धों की ज्वाला।

**SubQuestion No : 19**

Q.19 रिक्त स्थान 4 की पूर्ति के लिए सबसे उपयुक्त विकल्प का चयन करें।

- Ans
- 1. तरह-तरह के
  - 2. इधर-उधर
  - 3. कभी कभी
  - 4. आस-पास

Question ID : 264330110912

Status : Not Answered

Chosen Option : --

**Comprehension:**

निम्नलिखित गद्यांश में कुछ शब्दों को हटा दिया गया है। दिए गए विकल्पों की सहायता से रिक्त स्थानों की पूर्ति कीजिए। प्रत्येक संख्या के लिए सबसे उपयुक्त विकल्प का चयन कीजिए।  
मनुष्य को गुण, कर्म और स्वभाव से 1. \_\_\_\_\_ प्रकृति वाला प्राणी माना जाता है; यद्यपि हर आदमी के 2. \_\_\_\_\_ कोने में अज्ञात रूप से एक 3. \_\_\_\_\_ प्राणी भी छिपा रहा करता है। प्रायः मनुष्य भरसक चेष्टा कर के भी उसे जागने नहीं देता। जब किसी कारणवश वह जाग ही पड़ता है, तभी 4. \_\_\_\_\_ संघर्षात्मक क्रिया-प्रतिक्रियाओं का भी 5. \_\_\_\_\_ हुआ करता है। उन्हीं के घर्षण-प्रत्याघर्षण से उत्पन्न हुआ करती है युद्धों की ज्वाला।

**SubQuestion No : 20**

Q.20 रिक्त स्थान 5 की पूर्ति के लिए सबसे उपयुक्त विकल्प का चयन करें।

- Ans  1. मृत्यु  
 2. जन्म  
 3. समाप्त  
 4. अंत

Question ID : 264330110913

Status : Not Answered

Chosen Option : --

WWW.GOV TJOB SALE