

## Constable GD in CAPFs SSF Rifleman GD in Assam Rifles and Sepoy in NCB Examination 2022

Roll Number	<a href="http://www.govtjobsalert.in">www.govtjobsalert.in</a>
Candidate Name	<a href="http://www.govtjobsalert.in">www.govtjobsalert.in</a>
Venue Name	iON Digital Zone iDZ Chandpura
Exam Date	09/02/2023
Exam Time	2:30 PM - 3:30 PM
Subject	Constable GD Examination 2022

### Section : Part-A-General Intelligence and Reasoning

Q.1 एक निश्चित कूट भाषा में, 'BABY' को '20' और 'ADULTS' को '30' के रूप में लिखा जाता है। इसी कूट भाषा में 'WOMAN' को किस प्रकार से लिखा जाएगा?

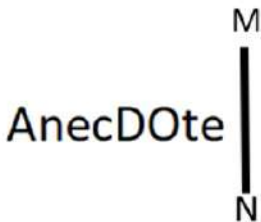
- Ans
- 1. 20
  - 2. 25
  - 3. 30
  - 4. 35

Question ID : 26433069551

Status : Answered

Chosen Option : 2

Q.2 दी गई आकृति के सही दर्पण प्रतिबिम्ब का चयन करें जब दर्पण को MN पर रखा जाए जैसा कि नीचे दर्शाया गया है।



Ans

- 1. Anecdote
- 2. Anecdote
- 3. Anecdote
- 4. Anecdote

Question ID : 26433085559

Status : Answered

Chosen Option : 2

Q.3 निम्नलिखित में से कौन-सी संख्या दी गई श्रृंखला में प्रश्न-चिह्न (?) के स्थान पर पर आएगी?  
6, 8, 13, 15, 27, 29, 55, 57, ?

- Ans  1. 110  
 2. 102  
 3. 111  
 4. 101

Question ID : 26433069117  
Status : Answered  
Chosen Option : 3

Q.4 उस विकल्प का चयन कीजिए जो तीसरे शब्द से उसी प्रकार संबंधित है जिस प्रकार दूसरा शब्द पहले शब्द से संबंधित है। (शब्दों को अर्थपूर्ण शब्दों के रूप में मानना है और उन्हें शब्द में अक्षरों/व्यंजनों/स्वरों की संख्या के आधार पर एक-दूसरे से संबंधित नहीं करना है।)

रोगाणु : रोग :: युद्ध : \_\_\_\_\_

- Ans  1. बम  
 2. देश  
 3. विनाश  
 4. बंदूक

Question ID : 26433078828  
Status : Answered  
Chosen Option : 3

Q.5 निम्नलिखित में से कौन-सा अक्षर नीचे दी गई अक्षर श्रृंखला में प्रश्न-चिह्न (?) के स्थान पर आकर श्रृंखला को पूर्ण करेगा?  
S, N, G, V, I, ?

- Ans  1. Q  
 2. S  
 3. T  
 4. R

Question ID : 26433067283  
Status : Answered  
Chosen Option : 4

Q.6 नीचे दिए गए समीकरण को गणितीय रूप से सही बनाने के लिए किन दो चिन्हों को परस्पर बदलना चाहिए?

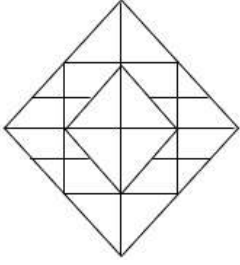
$$40 + 14 \div 35 - 30 \times 15 = 1$$

- Ans  1. + और +  
 2. + और ×  
 3. + और -  
 4. - और +

Question ID : 264330117510  
Status : Answered  
Chosen Option : 2

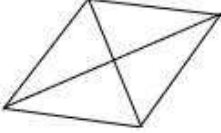
Q.7 वह विकल्प चित्र चुनिए, जो प्रस्तुत चित्र में अंतर्निहित है। (घुमाना अनुमन्य नहीं

है)

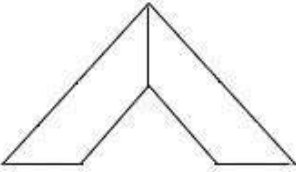


Ans

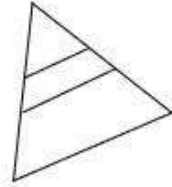
✗ 1.



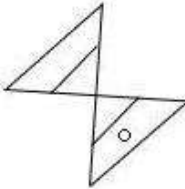
✓ 2.



✗ 3.



✗ 4.



Question ID : 26433069354

Status : Answered

Chosen Option : 2

Q.8 उस विकल्प का चयन कीजिए जो तीसरे शब्द से उसी प्रकार संबंधित है जिस प्रकार दूसरा शब्द पहले शब्द से संबंधित है। (शब्दों को अर्थपूर्ण शब्दों के रूप में मानना है और उन्हें शब्द में अक्षरों/व्यंजनों/स्वरों की संख्या के आधार पर एक-दूसरे से संबंधित नहीं करना है।)  
संगीतकार : बैड :: सैनिक : ?

Ans ✗ 1. पुलिस

✓ 2. सेना

✗ 3. सीमा

✗ 4. युद्ध

Question ID : 26433067368

Status : Answered

Chosen Option : 2

Q.9 एक ही पासे की दो अलग-अलग स्थितियों को दर्शाया गया है जिस पर 'G' से 'L' तक के वर्णाक्षर बने हैं।

'L' दर्शाने वाले फलक के विपरीत फलक पर स्थित वर्णाक्षर ज्ञात कीजिए।



- Ans  1. J  
 2. K  
 3. I  
 4. H

Question ID : 26433085510

Status : Answered

Chosen Option : 1

Q.10 दिए गए विकल्पों में से उस अक्षर-समूह का चयन कीजिए जो निम्न श्रृंखला में प्रश्न-चिह्न (?) के स्थान पर आ सकता है।  
UCZE, BXGL, ISNS, ?, WIBG

- Ans  1. FQNR  
 2. FMVT  
 3. PBNW  
 4. PNUZ

Question ID : 26433074738

Status : Answered

Chosen Option : 4

Q.11 निम्नलिखित में से कौन-सी संख्या दी गई श्रृंखला में प्रश्न-चिह्न (?) के स्थान पर आएगी?  
10, 20, 11, 22, 14, 26, 19, 32, ?

- Ans  1. 32  
 2. 29  
 3. 26  
 4. 28

Question ID : 26433069047

Status : Answered

Chosen Option : 3

Q.12 एक निश्चित भाषा में ABROAD को RBAOAD और ACCEPT को CCAEPT लिखा जाता है। इसी भाषा में ACTIVE को कैसे लिखा जाएगा?

- Ans
- 1. ZXGREV
  - 2. TCAIVE
  - 3. TCAEVI
  - 4. EVITCA

Question ID : 26433074588  
Status : Answered  
Chosen Option : 2

Q.13 पांच व्यक्ति P, Q, R, S और T एक सीधी पंक्ति में उत्तर की ओर मुख करके बैठे हैं। S के दाईं ओर केवल तीन व्यक्ति बैठे हैं। P और Q किसी भी सिरे पर मौजूद सीट पर नहीं बैठे हैं। T, Q के बाईं ओर तीसरे स्थान पर बैठा है। R कहाँ बैठा है?

- Ans
- 1. S के बाईं ओर दूसरे स्थान पर
  - 2. Q के दाईं ओर ठीक बगल में
  - 3. T के बाईं ओर दूसरे स्थान पर
  - 4. Q के बाईं ओर ठीक बगल में

Question ID : 26433074525  
Status : Answered  
Chosen Option : 2

Q.14 किस विकल्प में निम्नलिखित शब्दों का वह क्रम दिया गया है, जिस क्रम में वे अंग्रेजी शब्दकोश में आते हैं।

1. Stool
2. Store
3. Stair
4. Strong
5. Stream

- Ans
- 1. 3,1,4,2,5
  - 2. 3,1,5,4,2
  - 3. 3,2,1,5,4
  - 4. 3,1,2,5,4

Question ID : 26433069269  
Status : Answered  
Chosen Option : 4

Q.15 तीन कथनों के बाद तीन निष्कर्ष दिए गए हैं। कथनों को सत्य मानते हुए, भले ही वे सामान्य रूप से ज्ञात तथ्यों से भिन्न प्रतीत होते हों, निर्णय करें कि कौन सा/से निष्कर्ष कथनों का तार्किक रूप से अनुसरण करता/करते है/हैं।

कथन:

सभी काले नीले हैं।

सभी नीले गुलाबी हैं।

कोई भी गुलाबी हरा नहीं है।

निष्कर्ष:

1. सभी हरे नीले हो सकते हैं।

2. कुछ गुलाबी काले हैं।

3. सभी काले हरे हैं।

- Ans
- 1. सभी निष्कर्ष अनुसरण करते हैं।
  - 2. केवल निष्कर्ष 1 अनुसरण करता है।
  - 3. केवल निष्कर्ष 2 अनुसरण करता है।
  - 4. केवल निष्कर्ष 1 और 2 अनुसरण करते हैं।

Question ID : 26433089421

Status : Answered

Chosen Option : 3

Q.16 छः व्यक्ति J, K, L, M, N और O, एक वृत्ताकार मेज के परितः मेज के केंद्र की ओर मुख करके बैठे हैं। M, O और J के ठीक बगल में बैठा है। J, K के दाईं ओर दूसरे स्थान पर बैठा है। L, N के दाईं ओर दूसरे स्थान पर बैठा है। N के दाईं ओर से गणना करने पर, L और N के बीच में कौन बैठा है?

- Ans
- 1. O
  - 2. K
  - 3. J
  - 4. M

Question ID : 26433081518

Status : Answered

Chosen Option : 2

Q.17 A @ B का अर्थ है 'A, B की सास है'।  
A & B का अर्थ है 'A, B की माता है'।  
A # B का अर्थ है 'A, B का पति है'।  
A % B का अर्थ है 'A, B का भाई है'।  
यदि G @ V # K & C % M है तो G, M से किस प्रकार संबंधित है?

- Ans
- 1. मौसी
  - 2. नानी
  - 3. माता
  - 4. परदादी/परनानी

Question ID : 26433069619

Status : Answered

Chosen Option : 2

Q.18 उस विकल्प का चयन करें, जो पाँचवीं संख्या से उसी प्रकार संबंधित है, जिस प्रकार दूसरी संख्या, पहली संख्या से संबंधित है और चौथी संख्या, तीसरी संख्या से संबंधित है।  
9 : 3 :: 243 : 9 :: 6561 : ?

Ans  1. 81

2. 27

3. 17

4. 12

Question ID : 26433069415

Status : Answered

Chosen Option : 2

Q.19 यदि '+' का अर्थ है '-', '-' का अर्थ है '+', '÷' का अर्थ है '×', और '×' का अर्थ है '+', तो निम्नलिखित में से कौन-सा, अभिव्यक्ति का मान होगा?  
 $125 - 25 \div 3 + 14 \times 36$

Ans  1. 37

2. 35

3. 43

4. 48

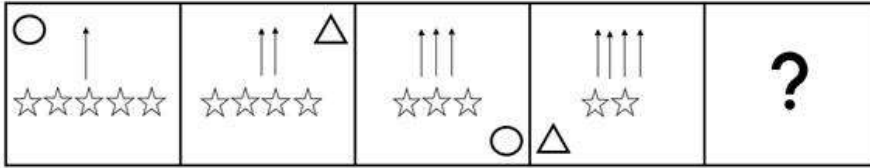
Question ID : 264330114181

Status : Answered

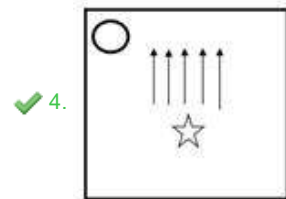
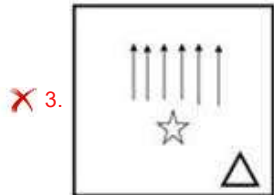
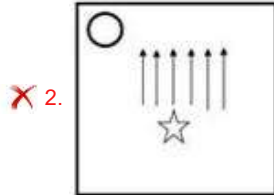
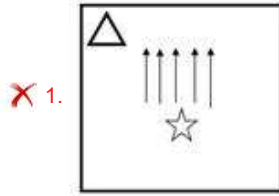
Chosen Option : 1

WWW.GOVtJOBSAlert.in

Q.20 उस आकृति का चयन करें, जो निम्न आकृति श्रृंखला में आगे आएगी।



Ans



Question ID : 26433076493

Status : Answered

Chosen Option : 4

Section : Part-B-General Knowledge and General awareness

Q.1 भारत में स्वर्णजयंती ग्राम स्वरोजगार योजना किस वर्ष में शुरू की गई थी?

Ans ✓ 1. 1999

✗ 2. 2008

✗ 3. 2005

✗ 4. 2000

Question ID : 264330116075

Status : Answered

Chosen Option : 3



Q.2 भारत में पहली पंचवर्षीय योजना के दौरान स्थापित उच्च शिक्षा का सांविधिक निकाय कौन सा था?

- Ans
- 1. भारतीय आयुर्विज्ञान परिषद
  - 2. विश्वविद्यालय अनुदान आयोग
  - 3. अखिल भारतीय तकनीकी शिक्षा परिषद
  - 4. राष्ट्रीय शिक्षक शिक्षण परिषद

Question ID : 264330115366  
Status : Answered  
Chosen Option : 2

Q.3 ध्यानचंद निम्नलिखित में से किस खेल के एक महान खिलाड़ी थे?

- Ans
- 1. फुटबॉल
  - 2. टेनिस
  - 3. क्रिकेट
  - 4. हॉकी

Question ID : 264330116289  
Status : Answered  
Chosen Option : 4

Q.4 ह्यूमस, एक गहरे रंग का अक्रिस्टलीय पदार्थ है। यह किस प्रक्रिया के परिणामस्वरूप बनता है?

- Ans
- 1. निक्षालन
  - 2. विखंडन
  - 3. खनिजन
  - 4. ह्यूमसीभवन

Question ID : 264330115251  
Status : Answered  
Chosen Option : 4

Q.5 दीनदयाल बंदरगाह, गुजरात के कंडला में स्थित एक \_\_\_\_\_ बंदरगाह है।

- Ans
- 1. छोटा
  - 2. नया
  - 3. ज्वारीय
  - 4. अस्थायी

Question ID : 264330115544  
Status : Answered  
Chosen Option : 3

Q.6 निम्नलिखित राजनीतिक नेताओं में से कौन अगस्त 2022 में बिहार, भारत के मुख्यमंत्री बने?

- Ans
- 1. रेणु देवी
  - 2. तेजस्वी यादव
  - 3. नीतीश कुमार
  - 4. तारकिशोर प्रसाद

Question ID : 264330114900  
Status : Answered  
Chosen Option : 3

Q.7 शास्त्रीय नृत्य छऊ का संबंध निम्न में से किस राज्य से नहीं है?

- Ans
- 1. झारखंड
  - 2. तमिलनाडु
  - 3. ओडिशा
  - 4. पश्चिम बंगाल

Question ID : 26433086709  
Status : Answered  
Chosen Option : 2

Q.8 \_\_\_\_\_ में गांधीजी ने शहर में एक सूती मिल के मालिकों और श्रमिकों के बीच विवाद को समाधान करने के लिए अहमदाबाद में एक सत्याग्रह किया था।

- Ans
- 1. 1915
  - 2. 1916
  - 3. 1917
  - 4. 1918

Question ID : 264330106574  
Status : Answered  
Chosen Option : 4

Q.9 किशोर न्याय (बच्चों की देखभाल और संरक्षण) अधिनियम, 2015 के अंतर्गत "किशोर" शब्द एक ऐसे व्यक्ति को संदर्भित करता है, जिसकी आयु \_\_\_\_\_ है।

- Ans
- 1. 16 वर्ष से कम
  - 2. 18 वर्ष से कम
  - 3. 12 वर्ष से कम
  - 4. 15 वर्ष से कम

Question ID : 264330116221  
Status : Answered  
Chosen Option : 2

Q.10 राजस्थान अंतर्राष्ट्रीय लोक महोत्सव का \_\_\_\_\_ संस्करण 6 से 10 अक्टूबर 2022 तक आयोजित किया गया था।

- Ans
- 1. 11वां
  - 2. 12वां
  - 3. 13वां
  - 4. 10वां

Question ID : 264330115086  
Status : Answered  
Chosen Option : 3

Q.11 जापान में अगले भारतीय राजदूत के रूप में संजय कुमार वर्मा का स्थान किसने लिया?

- Ans
- 1. नवीन श्रीवास्तव
  - 2. सिबी जॉर्ज
  - 3. गोपाल बागले
  - 4. सुनील अरोड़ा

Question ID : 264330115000  
Status : Answered  
Chosen Option : 1

Q.12 अंत्योदय अन्न योजना (AAY) किस वर्ष शुरू की गई थी?

- Ans
- 1. 1999
  - 2. 2000
  - 3. 1998
  - 4. 1997

Question ID : 264330116155  
Status : Answered  
Chosen Option : 1

Q.13 निम्नलिखित में से कौन सा भौतिक मात्रा और माप की इकाई की गलत जोड़ी है?

- Ans
- 1. ऊर्जा - जूल
  - 2. आवृत्ति - हर्ट्ज
  - 3. दाब - न्यूटन
  - 4. शक्ति - वाट

Question ID : 264330115148  
Status : Answered  
Chosen Option : 3

Q.14 श्रीमंत शंकरदेव ने किस नृत्य शैली में अपनी पहचान बनाई?

- Ans
- 1. रचनात्मक नृत्य
  - 2. सत्रीया
  - 3. मोहिनीअट्टम
  - 4. कुचिपुड़ी

Question ID : 264330115875  
Status : Answered  
Chosen Option : 2

Q.15 भारत के राष्ट्रीय खेल 2022 के 36वें संस्करण का आधिकारिक आदर्श वाक्य (मोटो) था।

- Ans
- 1. खेलों के माध्यम से आजादी का उत्सव मनाना
  - 2. खेलों के माध्यम से एकता का उत्सव मनाना
  - 3. खेलों के माध्यम से धर्मनिरपेक्षता का उत्सव मनाना
  - 4. खेलों के माध्यम से स्वास्थ्य का उत्सव मनाना

Question ID : 264330115949  
Status : Answered  
Chosen Option : 1

Q.16 भारतीय संविधान के किस संवैधानिक संशोधन अधिनियम के लिए 'मिनी संविधान' शब्द का प्रयोग किया गया है?

- Ans
- 1. 38<sup>वें</sup>
  - 2. 40<sup>वें</sup>
  - 3. 42<sup>वें</sup>
  - 4. 44<sup>वें</sup>

Question ID : 26433090661  
Status : Answered  
Chosen Option : 3

Q.17 राज्य के राज्यपाल की नियुक्ति \_\_\_\_\_ द्वारा की जाती है।

- Ans
- 1. प्रधानमंत्री (केंद्र सरकार की सलाह पर)
  - 2. राष्ट्रपति
  - 3. प्रधानमंत्री
  - 4. मुख्यमंत्री (केंद्र सरकार की सलाह पर)

Question ID : 26433086671  
Status : Answered  
Chosen Option : 2

Q.18 भारत के उत्तर-पश्चिम भाग में \_\_\_\_\_ के कारण सर्दियों में वर्षा होती है।

- Ans
- 1. पश्चिमी विक्षोभ
  - 2. उत्तर-पश्चिम मानसून
  - 3. दक्षिण-पश्चिम मानसून
  - 4. निवर्तन की ऋतु

Question ID : 26433089657  
Status : Answered  
Chosen Option : 3

Q.19 यदि ऋण जोखिम संपार्श्विक द्वारा समर्थित है, तो इसे \_\_\_\_\_ कहा जाता है।

- Ans
- 1. असुरक्षित क्रेडिट
  - 2. खराब क्रेडिट
  - 3. सुरक्षित क्रेडिट
  - 4. उच्च क्रेडिट

Question ID : 264330115297  
Status : Answered  
Chosen Option : 1

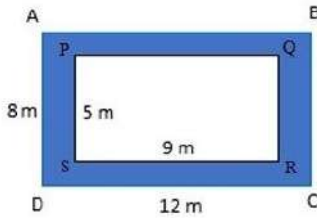
Q.20 जैन धर्म के नियमों का पालन करना निम्नलिखित में से किसके लिए अधिक कठिन था?

- Ans
- 1. कारीगरों
  - 2. व्यापारियों
  - 3. किसानों
  - 4. महाजनों

Question ID : 26433085211  
Status : Answered  
Chosen Option : 4

Section : Part-C-Elementary Mathematics

Q.1 दिए गए आयत ABCD के छायांकित भाग का क्षेत्रफल ज्ञात कीजिए। (PQRS भी एक आयत है)



- Ans
- 1.  $51 \text{ m}^2$
  - 2.  $52 \text{ m}^2$
  - 3.  $53 \text{ m}^2$
  - 4.  $50 \text{ m}^2$

Question ID : 26433075525  
Status : Answered  
Chosen Option : 1

Q.2 एक दुकानदार अपनी वस्तुओं को Rs.40 प्रति किग्रा की दर से बेचने का दावा करता है, जिसकी कीमत उसके लिए Rs.50 प्रति किग्रा है। लेकिन बेचते समय वह गलत वजन का उपयोग करता है और 1 किलो के बजाय केवल 640 ग्राम देता है। उसका लाभ प्रतिशत क्या है?

- Ans
- 1. 10%
  - 2. 15%
  - 3. 25%
  - 4. 20%

Question ID : 26433076093  
Status : Answered  
Chosen Option : 3

Q.3  $45a + 45b = 6750$  है, तो a और b का औसत ज्ञात कीजिए।

Ans  1. 75

2. 150

3. 85

4. 95

Question ID : 26433076171

Status : Answered

Chosen Option : 1

Q.4 5 km की एक दौड़ में, X, Y और Z, प्रत्येक समान चाल से दौड़ते हुए, क्रमशः स्वर्ण, रजत और कांस्य पदक प्राप्त करते हैं। यदि X, Y को 0.5 km से हराता है और Y, Z को 0.5 km से हराता है, तो X, Z को कितने मीटर से हराता है?

Ans  1. 975 m

2. 960 m

3. 950 m

4. 1,000 m

Question ID : 26433076235

Status : Answered

Chosen Option : 3

Q.5 सोमराज ने Rs.11,550 की राशि, 10% की वार्षिक ब्याज दर पर उधार ली, जिसमें ब्याज वार्षिक रूप से चक्रवृद्धि किया जाता है। उसने पूरी राशि दो बराबर वार्षिक किश्तों में चुका दी। प्रत्येक किश्त का मूल्य क्या होगा?

Ans  1. Rs.4455

2. Rs.5775

3. Rs.6655

4. Rs.7755

Question ID : 26433075737

Status : Answered

Chosen Option : 3

Q.6 यदि संख्या  $715*42324$ , 3 से पूर्णतः विभाज्य है, तो \* के स्थान पर सबसे बड़ी पूर्ण संख्या ज्ञात करें।

Ans  1. 3

2. 2

3. 5

4. 8

Question ID : 26433079902

Status : Answered

Chosen Option : 2

Q.7 अमोल एक कार्य को 96 दिनों में और ईशा समान कार्य को 60 दिनों में कर सकती है। उन्होंने 30 दिनों तक साथ काम किया और फिर ईशा ने काम छोड़ दिया। शेष कार्य को पूरा करने के लिए अमोल द्वारा लिए गए दिन ज्ञात करें।

- Ans
- 1. 22 दिन
  - 2. 24 दिन
  - 3. 12 दिन
  - 4. 18 दिन

Question ID : 264330116905  
Status : Answered  
Chosen Option : 4

Q.8 यदि दो संख्याओं का योग 60 है और इन संख्याओं का महत्तम समापवर्तक और लघुत्तम समापवर्त्य क्रमशः 5 और 175 है, तो संख्याओं के व्युत्क्रमों का योग \_\_\_\_\_ है।

- Ans
- 1.  $\frac{14}{120}$
  - 2.  $\frac{11}{120}$
  - 3.  $\frac{14}{175}$
  - 4.  $\frac{12}{175}$

Question ID : 26433082353  
Status : Answered  
Chosen Option : 4

Q.9 चक्रवृद्धि ब्याज पर एक राशि 2 वर्षों में Rs.2,809 और 3 वर्षों में Rs.2,977.54 हो जाती है। प्रति वर्ष की दर प्रतिशत \_\_\_\_\_ है।

- Ans
- 1. 10%
  - 2. 8%
  - 3. 12%
  - 4. 6%

Question ID : 26433075157  
Status : Answered  
Chosen Option : 4

Q.10 20%, 10% और 2% की तीन क्रमागत छूट के बराबर एक छूट क्या होगी?

- Ans
- 1. 32%
  - 2. 29.44%
  - 3. 29.56%
  - 4. 30.44%

Question ID : 26433062635  
Status : Answered  
Chosen Option : 2

Q.11 देव और रोहित किसी कार्य को क्रमशः 12 और 36 दिनों में कर सकते हैं। देव से प्रारंभ करते हुए वे एकांतर दिनों पर कार्य करते हैं। कार्य कितने दिनों में पूरा हो जाएगा?

- Ans  1. 18 दिन  
 2. 20 दिन  
 3. 25 दिन  
 4. 12 दिन

Question ID : 26433074942  
Status : Answered  
Chosen Option : 1

Q.12 125 m, 118 m, 88 m का चतुर्धनुषाती निर्धारित करें। (दो दशमलव स्थान तक मान लें)

- Ans  1. 73.07 m  
 2. 79.07 m  
 3. 89.07 m  
 4. 83.07 m

Question ID : 26433081031  
Status : Answered  
Chosen Option : 4

Q.13 4 वर्ष पूर्व, 4 सदस्यों के एक परिवार की औसत आयु 16 वर्ष थी। आज एक बच्चे का जन्म हुआ है। परिवार के 5 सदस्यों की वर्तमान औसत आयु क्या होगी?

- Ans  1. 22 वर्ष  
 2. 15 वर्ष  
 3. 18 वर्ष  
 4. 16 वर्ष

Question ID : 26433079762  
Status : Answered  
Chosen Option : 4

Q.14 अशोक ने एक लैपटॉप ₹60,000 में खरीदा और उसे ₹72,000 में बेचा। लैपटॉप की बिक्री पर प्रतिशत लाभ कितना है?

- Ans  1. 30%  
 2. 20%  
 3. 12%  
 4. 25%

Question ID : 26433082502  
Status : Answered  
Chosen Option : 2



Q.15 एक चुनाव में, दो उम्मीदवार एक दूसरे के खिलाफ थे। एक उम्मीदवार को 44% मत प्राप्त हुए और वह 7488 मतों से चुनाव हार गया। विजेता को कितने मत प्राप्त हुए?

- Ans
- 1. 35944
  - 2. 39544
  - 3. 34944
  - 4. 39444

Question ID : 26433080377  
Status : Answered  
Chosen Option : 3

Q.16 500 मीटर की एक दौड़ में, दौड़ को समान समय में पूरा करने के लिए Q, P को 50 मीटर की प्रारंभिक शुरुआत (हेड स्टार्ट) देता है और R, Q को 100 मीटर की प्रारंभिक शुरुआत (हेड स्टार्ट) देता है। उसी दौड़ को एक ही समय पर पूरा करने के लिए R, P को जो प्रारंभिक शुरुआत (हेड स्टार्ट) दे सकता है, वह \_\_\_\_\_ है।

- Ans
- 1. 260 मीटर
  - 2. 140 मीटर
  - 3. 160 मीटर
  - 4. 240 मीटर

Question ID : 26433076278  
Status : Answered  
Chosen Option : 2

Q.17 तीन संख्याओं का योग 135 है। यदि पहली संख्या और दूसरी संख्या का अनुपात 4 : 5 है, तथा दूसरी और तीसरी संख्या का अनुपात 5 : 6 है, तो पहली संख्या \_\_\_\_\_ है।

- Ans
- 1. 54
  - 2. 36
  - 3. 64
  - 4. 45

Question ID : 26433080116  
Status : Answered  
Chosen Option : 2

Q.18 एक नई कार की लागत 1280000 रूपए हैं। पहले वर्ष में इसकी कीमत 25 प्रतिशत से कम हो जाती है। पहले वर्ष के अंत में इसका क्या मूल्य है?

- Ans
- 1. 990000 रूपए
  - 2. 960000 रूपए
  - 3. 1050000 रूपए
  - 4. 850000 रूपए

Question ID : 264330116825  
Status : Answered  
Chosen Option : 2

Q.19 एक कंपनी किसी उत्पाद के अंकित मूल्य पर 30% की छूट प्रदान करती है। खुदरा विक्रेता घटी हुई कीमत पर एक और 15% छूट प्रदान करता है। दोनों छूट \_\_\_\_\_ वाली एकल छूट के बराबर होगी।

- Ans
- 1. 42.0 प्रतिशत
  - 2. 40.5 प्रतिशत
  - 3. 35.5 प्रतिशत
  - 4. 45.5 प्रतिशत

Question ID : 26433082715  
Status : Answered  
Chosen Option : 2

Q.20 6.3 cm की आंतरिक त्रिज्या वाली एक खोखली गोलाकार धातु की गेंद को दो बराबर भागों में काटा गया था। एक भाग में पानी भरा हुआ था जबकि दूसरे भाग को खाली रखा गया था। पहले वाले भाग में रखे पानी का आयतन ( $\text{cm}^3$  में, एक दशमलव स्थान तक पूर्णांकित) कितना है? (मान लीजिए  $\pi = \frac{22}{7}$ )

- Ans
- 1. 523.9
  - 2. 520.9
  - 3. 550.9
  - 4. 433.8

Question ID : 26433075252  
Status : Answered  
Chosen Option : 1

Section : Part-D-English

Q.1 Select the most appropriate synonym of the word 'stimulate' from the following sentence.

His jovial nature energises and charms the whole auditorium.

- Ans
- 1. Energises
  - 2. Charms
  - 3. Jovial
  - 4. Auditorium

Question ID : 26433072261  
Status : Not Answered  
Chosen Option : --

Q.2 Select the most appropriate option that can substitute the underlined segment in the given sentence.

The division of labour is the second strategy to possess money.

- Ans
- 1. to make strategy
  - 2. to make physique
  - 3. to build wealth
  - 4. to give support

Question ID : 26433088510  
Status : Not Answered  
Chosen Option : --

**Q.3** Select the most appropriate synonym of the given word.

**Impress**

- Ans  1. Suffice  
 2. Endure  
 3. Anxious  
 4. Influence

Question ID : 26433073395  
Status : Not Answered  
Chosen Option : --

**Q.4** Select the most appropriate ANTONYM of the given word.

**Reluctant**

- Ans  1. Resistant  
 2. Willing  
 3. Cautious  
 4. Miserable

Question ID : 26433071968  
Status : Not Answered  
Chosen Option : --

**Q.5** Select the most appropriate ANTONYM of the given word.

**Hesitate**

- Ans  1. Imitate  
 2. Vacillate  
 3. Resolve  
 4. Reform

Question ID : 26433088494  
Status : Not Answered  
Chosen Option : --

**Q.6** Select the INCORRECTLY spelt word.

- Ans  1. Reckless  
 2. Palpable  
 3. Endavour  
 4. Rubbish

Question ID : 26433073651  
Status : Not Answered  
Chosen Option : --

Q.7 Select the most appropriate meaning of the given idiom.

Armed to the teeth

- Ans  1. Carrying a lot of weapons  
 2. Very frustrated  
 3. Decide to continue in spite of difficulties  
 4. Very difficult to do

Question ID : 26433072682  
Status : Not Answered  
Chosen Option : --

Q.8 Select the word that is similar in meaning to the underlined word.

It was difficult to find a police officer who was not partial.

- Ans  1. Weak  
 2. Coward  
 3. Corrupt  
 4. Biased

Question ID : 26433087946  
Status : Not Answered  
Chosen Option : --

Q.9 The sentence given below has one misspelt word. Spot the INCORRECTLY spelt word and select its correct spelling.

She needs to visit a physiotherapist.

- Ans  1. Physiotherapist  
 2. Physeotherapist  
 3. Fiziotherapist  
 4. Fisiiotherapist

Question ID : 26433073554  
Status : Not Answered  
Chosen Option : --

Q.10 Select the most appropriate option to fill in the blank.

There was a story about a kind tree and a little boy. He used to sit \_\_\_\_\_ the shade of the tree.

- Ans  1. near  
 2. beside  
 3. with  
 4. in

Question ID : 26433072729  
Status : Not Answered  
Chosen Option : --

Q.11 Select the most appropriate ANTONYM to substitute the underlined word in the given sentence.

The evasive nature of the politician is what is making her a poor choice for the post.

- Ans  1. truthful  
 2. freaky  
 3. elusive  
 4. greasy

Question ID : 26433074012  
Status : Not Answered  
Chosen Option : --

Q.12 Select the most appropriate option that can substitute the underlined segment in the given sentence.

The invitation card very clearly mentions that the entry in the show will be closed at 6 p.m.

- Ans  1. entry on the show will be  
 2. entry about the show will be  
 3. entry to the show will be  
 4. entry over the show will be

Question ID : 264330100988  
Status : Not Answered  
Chosen Option : --

Q.13 Select the most appropriate ANTONYM of the given word.  
Capture

- Ans  1. Liberate  
 2. Abolish  
 3. Seize  
 4. Establish

Question ID : 26433086343  
Status : Not Answered  
Chosen Option : --

Q.14 The following sentence has been divided into parts. One of them may contain an error. Select the part that contains the error from the given options. If you don't find any error, mark 'No error' as your answer.

The forest ranger always / treats all the wild animals / in his area very kindly.

- Ans  1. in his area very kindly  
 2. treats all the wild animals  
 3. No error  
 4. The forest ranger always

Question ID : 26433073762  
Status : Not Answered  
Chosen Option : --

**Q.15 Select the most appropriate meaning of the given idiom.**

**In the long run**

- Ans**  1. Purposeful refusing  
 2. In the end  
 3. Simultaneously  
 4. Careful running

Question ID : 26433073711

Status : **Not Answered**

Chosen Option : --

**Comprehension:**

In the following passage, some words have been deleted. Read the passage carefully and select the most appropriate option to fill in each blank.

Tourists Travelling (1) \_\_\_\_\_ Jammu and Kashmir have another attraction – a floating post office on the Dal Lake in Srinagar, the first in the country. 'Floating Post Office, Dal Lake – claimed to be the only one such post office in the world – is (2) \_\_\_\_\_ on an intricately carved maroon houseboat, fastened on the western edge of the Dal Lake.

This post office lets you (3) \_\_\_\_\_ all the regular postal services available in the country while being afloat. The seal used on everything posted from the Floating Post Office is unique – along with the date and address. It bears the design of a boatman rowing a Shikara on the Dal Lake. The special feature of this post office is that letters posted from here carry a special design which has the picturesque scenery of Dal Lake and Srinagar city. These pictures reach wherever these letters are posted to and (4) \_\_\_\_\_ promote Kashmir as a tourist destination across the world.

This is actually a heritage post office that has existed since British times. It was called the Nehru Park Post Office before 2011. But after that the chief postmaster John Samuel renamed it as 'Floating Post Office'.

The post office's houseboat has two small rooms – one (5) \_\_\_\_\_ as the office and the other a small museum that traces the philatelic history of the state postal department. It has a shop that sells postage stamps and other products.

**SubQuestion No : 16**

**Q.16 Select the most appropriate option to fill in blank number 1.**

- Ans**  1. by  
 2. from  
 3. beside  
 4. to

Question ID : 26433060960

Status : **Not Answered**

Chosen Option : --

**Comprehension:**

In the following passage, some words have been deleted. Read the passage carefully and select the most appropriate option to fill in each blank.

Tourists Travelling (1) \_\_\_\_\_ Jammu and Kashmir have another attraction – a floating post office on the Dal Lake in Srinagar, the first in the country. 'Floating Post Office, Dal Lake – claimed to be the only one such post office in the world – is (2) \_\_\_\_\_ on an intricately carved maroon houseboat, fastened on the western edge of the Dal Lake.

This post office lets you (3) \_\_\_\_\_ all the regular postal services available in the country while being afloat. The seal used on everything posted from the Floating Post Office is unique – along with the date and address. It bears the design of a boatman rowing a Shikara on the Dal Lake. The special feature of this post office is that letters posted from here carry a special design which has the picturesque scenery of Dal Lake and Srinagar city. These pictures reach wherever these letters are posted to and (4) \_\_\_\_\_ promote Kashmir as a tourist destination across the world.

This is actually a heritage post office that has existed since British times. It was called the Nehru Park Post Office before 2011. But after that the chief postmaster John Samuel renamed it as 'Floating Post Office'.

The post office's houseboat has two small rooms – one (5) \_\_\_\_\_ as the office and the other a small museum that traces the philatelic history of the state postal department. It has a shop that sells postage stamps and other products.

**SubQuestion No : 17**

**Q.17** Select the most appropriate option to fill in blank number 2.

Ans  1. was built

2. built

3. build

4. building

Question ID : 26433060961

Status : Not Answered

Chosen Option : --

**Comprehension:**

In the following passage, some words have been deleted. Read the passage carefully and select the most appropriate option to fill in each blank.

Tourists Travelling (1) \_\_\_\_\_ Jammu and Kashmir have another attraction – a floating post office on the Dal Lake in Srinagar, the first in the country. 'Floating Post Office, Dal Lake – claimed to be the only one such post office in the world – is (2) \_\_\_\_\_ on an intricately carved maroon houseboat, fastened on the western edge of the Dal Lake.

This post office lets you (3) \_\_\_\_\_ all the regular postal services available in the country while being afloat. The seal used on everything posted from the Floating Post Office is unique – along with the date and address. It bears the design of a boatman rowing a Shikara on the Dal Lake. The special feature of this post office is that letters posted from here carry a special design which has the picturesque scenery of Dal Lake and Srinagar city. These pictures reach wherever these letters are posted to and (4) \_\_\_\_\_ promote Kashmir as a tourist destination across the world.

This is actually a heritage post office that has existed since British times. It was called the Nehru Park Post Office before 2011. But after that the chief postmaster John Samuel renamed it as 'Floating Post Office'.

The post office's houseboat has two small rooms – one (5) \_\_\_\_\_ as the office and the other a small museum that traces the philatelic history of the state postal department. It has a shop that sells postage stamps and other products.

**SubQuestion No : 18**

**Q.18** Select the most appropriate option to fill in blank number 3.

- Ans  1. account  
 2. avail  
 3. mileage  
 4. seen

Question ID : 26433060962

Status : Not Answered

Chosen Option : --



**Comprehension:**

In the following passage, some words have been deleted. Read the passage carefully and select the most appropriate option to fill in each blank.

Tourists Travelling (1) \_\_\_\_\_ Jammu and Kashmir have another attraction – a floating post office on the Dal Lake in Srinagar, the first in the country. 'Floating Post Office, Dal Lake – claimed to be the only one such post office in the world – is (2) \_\_\_\_\_ on an intricately carved maroon houseboat, fastened on the western edge of the Dal Lake.

This post office lets you (3) \_\_\_\_\_ all the regular postal services available in the country while being afloat. The seal used on everything posted from the Floating Post Office is unique – along with the date and address. It bears the design of a boatman rowing a Shikara on the Dal Lake. The special feature of this post office is that letters posted from here carry a special design which has the picturesque scenery of Dal Lake and Srinagar city. These pictures reach wherever these letters are posted to and (4) \_\_\_\_\_ promote Kashmir as a tourist destination across the world.

This is actually a heritage post office that has existed since British times. It was called the Nehru Park Post Office before 2011. But after that the chief postmaster John Samuel renamed it as 'Floating Post Office'.

The post office's houseboat has two small rooms – one (5) \_\_\_\_\_ as the office and the other a small museum that traces the philatelic history of the state postal department. It has a shop that sells postage stamps and other products.

**SubQuestion No : 19**

**Q.19** Select the most appropriate option to fill in blank number 4.

- Ans  1. than  
 2. in hindsight  
 3. hence  
 4. however

Question ID : 26433060963

Status : Not Answered

Chosen Option : --

**Comprehension:**

In the following passage, some words have been deleted. Read the passage carefully and select the most appropriate option to fill in each blank.

Tourists Travelling (1) \_\_\_\_\_ Jammu and Kashmir have another attraction – a floating post office on the Dal Lake in Srinagar, the first in the country. 'Floating Post Office, Dal Lake – claimed to be the only one such post office in the world – is (2) \_\_\_\_\_ on an intricately carved maroon houseboat, fastened on the western edge of the Dal Lake.

This post office lets you (3) \_\_\_\_\_ all the regular postal services available in the country while being afloat. The seal used on everything posted from the Floating Post Office is unique – along with the date and address. It bears the design of a boatman rowing a Shikara on the Dal Lake. The special feature of this post office is that letters posted from here carry a special design which has the picturesque scenery of Dal Lake and Srinagar city. These pictures reach wherever these letters are posted to and (4) \_\_\_\_\_ promote Kashmir as a tourist destination across the world.

This is actually a heritage post office that has existed since British times. It was called the Nehru Park Post Office before 2011. But after that the chief postmaster John Samuel renamed it as 'Floating Post Office'.

The post office's houseboat has two small rooms – one (5) \_\_\_\_\_ as the office and the other a small museum that traces the philatelic history of the state postal department. It has a shop that sells postage stamps and other products.

**SubQuestion No : 20**

**Q.20** Select the most appropriate option to fill in blank number 5.

- Ans  1. guides  
 2. serves  
 3. directs  
 4. handles

Question ID : 26433060964

Status : Not Answered

Chosen Option : --

**Section : Part-D-Hindi**

**Q.1** निम्नलिखित वाक्य में रेखांकित शब्द के विलोम शब्द का प्रयोग करके रिक्त स्थान की पूर्ति कीजिए।  
सगुण और \_\_\_\_\_ दोनों ही परमात्मा के स्वरूप हैं।

- Ans  1. सांख्य  
 2. निर्गुण  
 3. निर्मल  
 4. विपुल

Question ID : 26433091345

Status : Answered

Chosen Option : 2

**Q.2** 'काला अक्षर भैस बराबर' मुहावरे का सही अर्थ है-

- Ans  1. निरक्षर होना  
 2. बहुत होशियार होना  
 3. अच्छी भैस होना  
 4. पढ़ने में अच्छा होना

Question ID : 26433062608

Status : Answered

Chosen Option : 1

Q.3 "पत्र में जो कहा है, सब झूठ है।"  
उपरोक्त वाक्य में क्रिया सम्बन्धी त्रुटि पहचानकर निम्नलिखित में से शुद्ध वाक्य का चयन कीजिए।

- Ans
- 1. पत्र में जो स्पष्ट है, सब झूठ है।
  - 2. पत्र में जो बताया है, सब झूठ है।
  - 3. पत्र में जो लिखा है, सब झूठ है।
  - 4. पत्र में जो भेजा है, सब झूठ है।

Question ID : 26433066976  
Status : Answered  
Chosen Option : 3

Q.4 पुलिस ने मयंक से जब चोरी के बारे में पूछा तो मयंक \_\_\_\_\_ झूठ बोल गया।  
रिक्त स्थान की पूर्ति उचित मुहावरा शब्द द्वारा कीजिए।

- Ans
- 1. एकदम
  - 2. सफेद
  - 3. सभी
  - 4. काला

Question ID : 26433062615  
Status : Answered  
Chosen Option : 2

Q.5 निम्नलिखित वाक्यांश के लिए एक सार्थक शब्द चुनिए।  
जिसे न जीता जा सके

- Ans
- 1. अमर
  - 2. अपराजय
  - 3. अजेय
  - 4. अजर

Question ID : 26433069986  
Status : Answered  
Chosen Option : 3

Q.6 'जैसा उचित हो वैसा' इस वाक्यांश के लिए सार्थक शब्द है -

- Ans
- 1. अभीप्सित
  - 2. यथोचित
  - 3. यथालाभ
  - 4. वाञ्छित

Question ID : 26433062335  
Status : Answered  
Chosen Option : 2

Q.7 'यह नाटक बहुत अच्छी है' – इस वाक्य में किस प्रकार की त्रुटि है, पहचान करें?

- Ans  1. लिंग संबंधी  
 2. अनावश्यक शब्द संबंधी  
 3. पदक्रम संबंधी  
 4. वचन संबंधी

Question ID : 26433067107  
Status : Answered  
Chosen Option : 1

Q.8 निम्नलिखित वाक्य में रेखांकित खंड के स्थान पर प्रयुक्त होने वाले सबसे उपयुक्त विकल्प का चयन कीजिए-

उसकी आँखों से शोले टपक पड़े।

- Ans  1. क्रोध  
 2. आँसू  
 3. पसीना  
 4. अँगारे

Question ID : 26433069748  
Status : Answered  
Chosen Option : 2

Q.9 निम्नलिखित में से शुद्ध वाक्य है-

- Ans  1. तुम किताब पढ़ते हो।  
 2. तुम किताब पठते हो।  
 3. तुम किताब पढ़ते हो।  
 4. तुम कितब पढ़ते हो।

Question ID : 26433066839  
Status : Answered  
Chosen Option : 3

Q.10 समुद्र की आग ऊपर दिए गए वाक्यांश के लिए एक शब्द क्या होगा?

- Ans  1. जठरानल  
 2. बड़वानल  
 3. दावानल  
 4. बड़वामुख

Question ID : 26433090350  
Status : Answered  
Chosen Option : 3

Q.11 'वह द्वार पर खड़ा है।' अनिश्चयवाचक सर्वनाम का प्रयोग कर इस वाक्य को लिखिए।

- Ans  1. मैं द्वार पर खड़ा हूँ।  
 2. कोई द्वार पर खड़ा है।  
 3. वह स्वयं द्वार पर खड़ा है।  
 4. वे द्वार पर खड़े हैं।

Question ID : 26433062319  
Status : Answered  
Chosen Option : 2

Q.12 निम्नलिखित में से 'चपला' का अर्थ नहीं होता है-

- Ans  1. मन  
 2. लक्ष्मी  
 3. चंचल  
 4. बिजली

Question ID : 26433080949  
Status : Answered  
Chosen Option : 1

Q.13 वृक्ष पर ढेरों फल लगे हैं।

उपरोक्त वाक्य में रेखांकित शब्द के उचित पर्यायवाची शब्द का चयन विकल्पों में से कीजिए।

- Ans  1. मृगेंद्र  
 2. तरु  
 3. अनार  
 4. वसन

Question ID : 26433079723  
Status : Answered  
Chosen Option : 2

Q.14 'मनुष्य अपने कर्म के अनुसार फल पाता है।'

उपरोक्त वाक्य में प्रयुक्त 'फल' शब्द निम्न में से किस अर्थ को व्यक्त करता है?

- Ans  1. परिणाम  
 2. वृक्ष का फल  
 3. विकास  
 4. विनाश

Question ID : 26433080911  
Status : Answered  
Chosen Option : 1

Q.15 "आज संसद में बजट के ऊपर बहस होगी।"

उपरोक्त वाक्य में कारक सम्बन्धी त्रुटि पहचानकर निम्नलिखित में से शुद्ध वाक्य का चयन कीजिए।

- Ans
- 1. आज संसद की बजट के ऊपर बहस होगी।
  - 2. आज संसद में बजट पर बहस होगी।
  - 3. आज संसद पर बजट की बहस होगी।
  - 4. आज संसद से बजट पर बहस होगी।

Question ID : 26433066969

Status : Answered

Chosen Option : 2

**Comprehension:**

निम्नलिखित गद्यांश में कुछ शब्दों को हटा दिया गया है। दिए गए विकल्पों की सहायता से रिक्त स्थानों की पूर्ति कीजिए। प्रत्येक संख्या के लिए सबसे उपयुक्त विकल्प का चयन कीजिए।

अनुशासन के बिना जीवन निष्क्रिय और 1. \_\_\_\_\_ हो जाता है क्योंकि योजना के अनुसार कुछ भी नहीं होता है। 2. \_\_\_\_\_ हमें किसी भी कार्य को पूरा करना है, और सही तरीके से अपनी रणनीति को लागू करना है, तो हमें पहले अनुशासन में रहने की 3. \_\_\_\_\_ है। अनुशासन चीजों को 4. \_\_\_\_\_ बनाता है और हमारे जीवन में 5. \_\_\_\_\_ लाता है।

**SubQuestion No : 16**

Q.16 रिक्त स्थान 1 की पूर्ति के लिए सबसे उपयुक्त विकल्प का चयन करें।

- Ans
- 1. सहज
  - 2. मज़ेदार
  - 3. आसान
  - 4. बेकार

Question ID : 264330110897

Status : Answered

Chosen Option : 4

**Comprehension:**

निम्नलिखित गद्यांश में कुछ शब्दों को हटा दिया गया है। दिए गए विकल्पों की सहायता से रिक्त स्थानों की पूर्ति कीजिए। प्रत्येक संख्या के लिए सबसे उपयुक्त विकल्प का चयन कीजिए।

अनुशासन के बिना जीवन निष्क्रिय और 1. \_\_\_\_\_ हो जाता है क्योंकि योजना के अनुसार कुछ भी नहीं होता है। 2. \_\_\_\_\_ हमें किसी भी कार्य को पूरा करना है, और सही तरीके से अपनी रणनीति को लागू करना है, तो हमें पहले अनुशासन में रहने की 3. \_\_\_\_\_ है। अनुशासन चीजों को 4. \_\_\_\_\_ बनाता है और हमारे जीवन में 5. \_\_\_\_\_ लाता है।

**SubQuestion No : 17**

Q.17 रिक्त स्थान 2 की पूर्ति के लिए सबसे उपयुक्त विकल्प का चयन करें।

- Ans
- 1. जबकि
  - 2. मगर
  - 3. अगर
  - 4. कभी

Question ID : 264330110898

Status : Answered

Chosen Option : 3

**Comprehension:**

निम्नलिखित गद्यांश में कुछ शब्दों को हटा दिया गया है। दिए गए विकल्पों की सहायता से रिक्त स्थानों की पूर्ति कीजिए। प्रत्येक संख्या के लिए सबसे उपयुक्त विकल्प का चयन कीजिए।  
अनुशासन के बिना जीवन निष्क्रिय और 1. \_\_\_\_\_ हो जाता है क्योंकि योजना के अनुसार कुछ भी नहीं होता है। 2. \_\_\_\_\_ हमें किसी भी कार्य को पूरा करना है, और सही तरीके से अपनी रणनीति को लागू करना है, तो हमें पहले अनुशासन में रहने की 3. \_\_\_\_\_ है। अनुशासन चीजों को 4. \_\_\_\_\_ बनाता है और हमारे जीवन में 5. \_\_\_\_\_ लाता है।

**SubQuestion No : 18**

Q.18 रिक्त स्थान 3 की पूर्ति के लिए सबसे उपयुक्त विकल्प का चयन करें।

- Ans
- 1. मूल्यहीन
  - 2. अवश्यक
  - 3. अनावश्यकता
  - 4. आवश्यकता

Question ID : 264330110899

Status : Answered

Chosen Option : 4

**Comprehension:**

निम्नलिखित गद्यांश में कुछ शब्दों को हटा दिया गया है। दिए गए विकल्पों की सहायता से रिक्त स्थानों की पूर्ति कीजिए। प्रत्येक संख्या के लिए सबसे उपयुक्त विकल्प का चयन कीजिए।  
अनुशासन के बिना जीवन निष्क्रिय और 1. \_\_\_\_\_ हो जाता है क्योंकि योजना के अनुसार कुछ भी नहीं होता है। 2. \_\_\_\_\_ हमें किसी भी कार्य को पूरा करना है, और सही तरीके से अपनी रणनीति को लागू करना है, तो हमें पहले अनुशासन में रहने की 3. \_\_\_\_\_ है। अनुशासन चीजों को 4. \_\_\_\_\_ बनाता है और हमारे जीवन में 5. \_\_\_\_\_ लाता है।

**SubQuestion No : 19**

Q.19 रिक्त स्थान 4 की पूर्ति के लिए सबसे उपयुक्त विकल्प का चयन करें।

- Ans
- 1. दुर्गम
  - 2. दुर्भेद्य
  - 3. कठिन
  - 4. आसान

Question ID : 264330110900

Status : Answered

Chosen Option : 4

**Comprehension:**

निम्नलिखित गद्यांश में कुछ शब्दों को हटा दिया गया है। दिए गए विकल्पों की सहायता से रिक्त स्थानों की पूर्ति कीजिए। प्रत्येक संख्या के लिए सबसे उपयुक्त विकल्प का चयन कीजिए।  
अनुशासन के बिना जीवन निष्क्रिय और 1. \_\_\_\_\_ हो जाता है क्योंकि योजना के अनुसार कुछ भी नहीं होता है। 2. \_\_\_\_\_ हमें किसी भी कार्य को पूरा करना है, और सही तरीके से अपनी रणनीति को लागू करना है, तो हमें पहले अनुशासन में रहने की 3. \_\_\_\_\_ है। अनुशासन चीजों को 4. \_\_\_\_\_ बनाता है और हमारे जीवन में 5. \_\_\_\_\_ लाता है।

**SubQuestion No : 20**

Q.20 रिक्त स्थान 5 की पूर्ति के लिए सबसे उपयुक्त विकल्प का चयन करें।

- Ans  1. बेरोजगारी  
 2. सफलता  
 3. कठिनता  
 4. असफलता

Question ID : 264330110901

Status : Answered

Chosen Option : 2

WWW.GOV TJOB SALE