

# Constable GD in CAPFs SSF Rifleman GD in Assam Rifles and Sepoy in NCB Examination 2022

Roll Number	<a href="http://www.govtjobsalert.in">www.govtjobsalert.in</a>
Candidate Name	<a href="http://www.govtjobsalert.in">www.govtjobsalert.in</a>
Venue Name	B.S.M. College of Engineering
Exam Date	24/01/2023
Exam Time	5:15 PM - 6:15 PM
Subject	Constable GD Examination 2022

## Section : Part-A-General Intelligence and Reasoning

- Q.1 'A + B' का अर्थ है 'B, A का पिता है'  
'A - B' का अर्थ है 'B, A की माता है'  
'A # B' का अर्थ है 'B, A की बहन है'  
'A & B' का अर्थ है 'B, A की पत्नी है'  
यदि A # B + C & D - E है, तो E, A से किस प्रकार संबंधित है?

- Ans  1. नानी  
 2. पत्नी  
 3. माता  
 4. मौसी

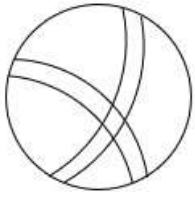
Question ID : 26433068533

Status : Answered

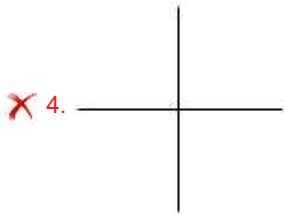
Chosen Option : 1

Q.2 वह विकल्प चित्र चुनिए, जो प्रस्तुत चित्र में अंतर्निहित है। (घुमाना अनुमन्य नहीं

है)



Ans



Question ID : 26433069335

Status : Answered

Chosen Option : 3

Q.3 पाँच व्यक्ति Q, R, S, T और U एक सीधी पंक्ति में उत्तर की ओर मुख करके बैठे हैं। S, T और R दोनों के ठीक बगल में है। R, Q के ठीक बगल में है। यदि Q पंक्ति के अंतिम दाएँ सिरे पर है, तो अंतिम बाएँ सिरे पर कौन बैठा है?

Ans ✗ 1. S

✗ 2. R

✓ 3. U

✗ 4. T

Question ID : 26433056046

Status : Answered

Chosen Option : 3

Q.4 निम्नलिखित में से कौन-सा अक्षर-समूह नीचे दी गई अक्षर-समूह श्रृंखला में प्रश्न-चिह्न (?) के स्थान पर आकर श्रृंखला को पूर्ण करेगा?  
EE, GF, JH, OK, VO, ?

- Ans  1. FU  
 2. FT  
 3. GT  
 4. GS

Question ID : 26433067279  
Status : Answered  
Chosen Option : 3

Q.5 यदि 'A' का अर्थ है 'घटाव', 'B' का अर्थ है 'भाग', 'C' का अर्थ है 'गुणा' और 'D' का अर्थ है 'जोड़', तो निम्नलिखित अभिव्यक्ति का मान क्या होगा?  
28 A 80 B 16 C 5 D 21

- Ans  1. 4  
 2. 34  
 3. 24  
 4. 14

Question ID : 264330117493  
Status : Answered  
Chosen Option : 3

Q.6 एक निश्चित कूट भाषा में 'AGENT' को ZHGOG और 'CHAIR' को XICJI के रूप में कूटबद्ध किया जाता है। उसी भाषा में 'FAITH' को किस प्रकार कूटबद्ध किया जाएगा?

- Ans  1. UZRGS  
 2. GCJVI  
 3. HCKVJ  
 4. UBKUS

Question ID : 26433074516  
Status : Answered  
Chosen Option : 4

Q.7 किस विकल्प में निम्नलिखित शब्दों का वह क्रम दिया गया है, जिस क्रम में वे अंग्रेजी शब्दकोश में आते हैं।

- 1 Distinct
- 2 Discipline
- 3 Different
- 4 Distinguish
- 5 Disregard

- Ans  1. 3,2,5,1,4  
 2. 3,4,1,2,5  
 3. 2,3,5,1,4  
 4. 2,5,4,1,3

Question ID : 26433069265  
Status : Answered  
Chosen Option : 1

Q.8 जब दर्पण को दर्शाए गए तरीके से MN पर रखा जाता है तो दिए गए पैटर्न की सही दर्पण छवि का चयन कीजिए।

W O n D E r 7 F U L

M  
|  
N

- Ans
- 1. M O n D E r 7 F U L
  - 2. W O n D E r 7 F U L
  - 3. 7 O n D E r 7 F U L
  - 4. W O n D E r 7 F U L

Question ID : 26433082900  
Status : Answered  
Chosen Option : 4

Q.9 उस विकल्प का चयन कीजिए जो पांचवें अक्षर-समूह से उसी प्रकार संबंधित है जिस प्रकार दूसरा अक्षर-समूह पहले अक्षर-समूह से संबंधित है और चौथा अक्षर-समूह तीसरे अक्षर-समूह से संबंधित है।  
CAPABLE : PACELBA :: AUCTION : CUANOIT : : CAREFUL : ?

- Ans
- 1. EFULCAR
  - 2. RACELUF
  - 3. RACLUFE
  - 4. LUFERAC

Question ID : 26433069631  
Status : Answered  
Chosen Option : 3

Q.10 उस विकल्प का चयन करें जो तीसरे पद से उसी प्रकार संबंधित है, जिस प्रकार दूसरा पद पहले पद से और छठा पद पांचवें पद से संबंधित है।  
8 : 520 :: 9 : ? :: 10 : 1010

- Ans
- 1. 756
  - 2. 690
  - 3. 738
  - 4. 752

Question ID : 26433069086  
Status : Not Attempted and Marked For Review  
Chosen Option : --

Q.11 निम्नलिखित में से कौन-सी संख्या दी गई श्रृंखला में प्रश्न-चिह्न (?) के स्थान पर आएगी?  
13, 30, 47, ?, 81, 98, 115, 132

Ans  1. 74

2. 64

3. 62

4. 52

Question ID : 26433069043

Status : Answered

Chosen Option : 2

Q.12 छह विद्यार्थी एक वृत्ताकार मेज के परितः केंद्र की ओर मुख करके बैठे हैं। अरुण, कृष्णा और बाँबी के ठीक बगल में है। शमा, अजय और सुमन के ठीक बगल में है। अजय, बाँबी के बाईं ओर ठीक बगल में है। इनमें से कौन बाँबी के दाईं ओर ठीक बगल में है?

Ans  1. अरुण

2. कृष्णा

3. शमा

4. सुमन

Question ID : 26433069663

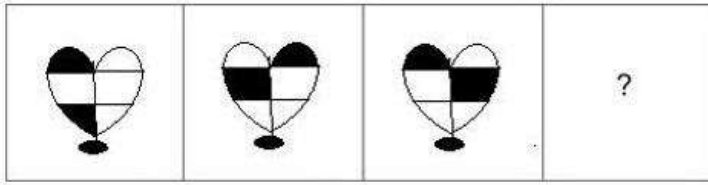
Status : Answered

Chosen Option : 1

www.govtjobsalert.in


Q.13 उस आकृति का चयन कीजिए जो नीचे दी गई श्रृंखला में प्रश्न चिह्न (?) के स्थान

पर आएगी।




Ans


✗ 1.



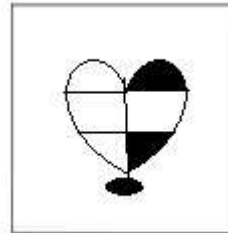
✗ 2.



✗ 3.



✓ 4.



Question ID : 26433070422

Status : Answered

Chosen Option : 4

Q.14 उस विकल्प का चयन करें जो पांचवें अक्षर-समूह से उसी प्रकार संबंधित है जिस प्रकार दूसरा अक्षर-समूह, पहले अक्षर-समूह से संबंधित है और चौथा अक्षर-समूह, तीसरे अक्षर-समूह से संबंधित है।  
PLC : EOT :: DLG : IOH :: HCN : ?

Ans ✓ 1. PFL

✗ 2. QGM

✗ 3. QEL

✗ 4. PEM

Question ID : 26433057887

Status : Not Answered

Chosen Option : --

Q.15 तीन कथनों के बाद तीन निष्कर्ष I, II और III दिए गए हैं। कथनों को सत्य मानते हुए, भले ही वे सामान्य रूप से ज्ञात तथ्यों से भिन्न प्रतीत होते हों, निर्धारित करें कि कौन-सा/से निष्कर्ष, कथनों का तार्किक रूप से अनुसरण करता है/करते हैं।

कथन:

सभी टॉप बॉटम हैं।

सभी पुलओवर बॉटम हैं।

सभी बॉटम पैट हैं।

निष्कर्ष:

I. सभी पुलओवर पैट हैं।

II. सभी पैट टॉप हैं।

III. कुछ पैट पुलओवर हैं।

- Ans
- 1. केवल निष्कर्ष I और III अनुसरण करते हैं
  - 2. केवल निष्कर्ष II और III अनुसरण करते हैं
  - 3. केवल निष्कर्ष I और II अनुसरण करते हैं
  - 4. सभी निष्कर्ष अनुसरण करते हैं

Question ID : 26433082303

Status : Answered

Chosen Option : 1

Q.16 कौन-सा अक्षर-समूह दी गई श्रृंखला में प्रश्नचिह्न (?) के स्थान पर आकर श्रृंखला को पूर्ण करेगा?  
ZDFA, CIMJ, ?, ISAB, LXHK

- Ans
- 1. EKJN
  - 2. FNST
  - 3. GLPP
  - 4. HNRT

Question ID : 26433068040

Status : Answered

Chosen Option : 2

Q.17 निम्न श्रृंखला में प्रश्न-चिह्न (?) के स्थान पर कौन सी संख्या आएगी?  
4, 36, 144, ?, 900, 1764

- Ans
- 1. 500
  - 2. 200
  - 3. 300
  - 4. 400

Question ID : 26433067843

Status : Answered

Chosen Option : 4

Q.18 एक कूट भाषा में 'ECTOPIC' को '71' लिखा जाता है और 'EDIFY' को '49' लिखा जाता है। उसी भाषा में 'ECONOMY' को कैसे लिखा जाएगा?

Ans  1. 90

2. 88

3. 87



4. 92

Question ID : 26433068935

Status : Answered

Chosen Option : 1

Q.19 एक ही पासे की दो अलग-अलग स्थितियों को दर्शाया गया है जिस पर 1 से 6 तक की संख्याएं बिंदु के रूप में निरूपित हैं। '2' दर्शाने वाले फलक के विपरीत फलक पर स्थित संख्या ज्ञात कीजिए।



Ans  1. 4

2. 3

3. 1

4. 5

Question ID : 26433085505

Status : Answered

Chosen Option : 3

Q.20 नीचे दिए गए समीकरण को गणितीय रूप से सही बनाने के लिए किन दो संख्याओं (अंकों को नहीं) को परस्पर बदलना चाहिए?  
 $42 \div 3 \times 6 + 9 - 7 = 23$

Ans  1. 3 और 6

2. 7 और 9

3. 6 और 7

4. 3 और 7

Question ID : 264330114177

Status : Answered

Chosen Option : 1



Q.1 मेक्सिको के बैले फोकलोरिको के लिए कोरियोग्राफी के लिए स्वर्ण पदक किसने प्राप्त किया?

- Ans
- 1. अमाला अक्किनेनी
  - 2. जतिन गोस्वामी
  - 3. अलरमेल वल्ली
  - 4. मृणालिनी साराभाई

Question ID : 264330115853

Status : Not Answered

Chosen Option : --

Q.2 एक से अधिक कोशिकाओं से बने जीवों को आप क्या कहते हैं?

- Ans
- 1. परिकोशिकीय
  - 2. बहुकोशिकीय
  - 3. उपकोशिकीय
  - 4. एककोशिकीय

Question ID : 264330115232

Status : Answered

Chosen Option : 2

Q.3 निम्नलिखित में से कौन-सा एक प्रमुख गेहूं उत्पादक राज्य "नहीं" है?

- Ans
- 1. पंजाब
  - 2. उत्तर प्रदेश
  - 3. गोवा
  - 4. हरियाणा

Question ID : 264330115527

Status : Answered

Chosen Option : 3

Q.4 1877 में, वायसराय लिटन ने \_\_\_\_\_ को भारत की साम्राज्ञी के रूप में स्वीकार करने के लिए एक दरबार का आयोजन किया।

- Ans
- 1. महारानी एलिज़ाबेथ
  - 2. महारानी एंजेलिया
  - 3. महारानी विक्टोरिया
  - 4. महारानी एलिज़ाबेथ II

Question ID : 264330115689

Status : Answered

Chosen Option : 3

Q.5 भारत के संविधान का कौन सा भाग भारत के सर्वोच्च न्यायालय की शक्तियों और कार्यप्रणाली से संबंधित है?

- Ans
- 1. भाग VI
  - 2. भाग V
  - 3. भाग X
  - 4. भाग XI

Question ID : 26433074908

Status : Not Answered

Chosen Option : --

Q.6 निम्नलिखित में से किस राज्य में प्रियंका गांधी वाड़ा नवंबर 2022 में पहली बार "भारत जोड़ो यात्रा" में शामिल हुईं?

- Ans
- 1. केरल
  - 2. उत्तर प्रदेश
  - 3. मध्य प्रदेश
  - 4. कर्नाटक

Question ID : 264330114896

Status : Not Answered

Chosen Option : --

Q.7 आर.बी.आई. के निम्नलिखित मौद्रिक लिखतों में से कौन सा प्रकृति में गुणात्मक है?

- Ans
- 1. आरक्षित नकद अनुपात
  - 2. मोरल सुएशन
  - 3. खुला बाजार करवाई
  - 4. बैंक दर

Question ID : 26433054612

Status : Not Answered

Chosen Option : --

Q.8 केंद्रीय रिजर्व पुलिस बल की रैपिड एक्शन फोर्स का नेतृत्व करने वाली पहली महिला महानिरीक्षक का नाम क्या है?

- Ans
- 1. एनी अब्राहम
  - 2. संजुक्ता पराशर
  - 3. मेरिन जोसेफ
  - 4. सीमा धुंडिया

Question ID : 264330114983

Status : Not Answered

Chosen Option : --

Q.9 कार, कपड़े, चॉकलेट जैसी वस्तुएं, जो सीधे उपभोक्ताओं को बेची जाती हैं, \_\_\_\_\_ कहलाती हैं।

- Ans
- 1. सार्वजनिक वस्तुएं
  - 2. पूँजीगत वस्तुएं
  - 3. निजी वस्तुएं
  - 4. महंगी वस्तुएं

Question ID : 264330115280

Status : Marked For Review

Chosen Option : 2

Q.10 भारत के राष्ट्रीय खेल 2022 के 36वें संस्करण में किस राज्य ने सर्वाधिक कांस्य पदक जीते?

- Ans
- 1. हरियाणा
  - 2. महाराष्ट्र
  - 3. केरल
  - 4. उत्तर प्रदेश

Question ID : 264330115911

Status : Not Answered

Chosen Option : --

Q.11 भारत में आपातकाल की उद्घोषणा केवल \_\_\_\_\_ ही कर सकता है।

- Ans
- 1. प्रधानमंत्री
  - 2. राष्ट्रपति
  - 3. मुख्यमंत्री
  - 4. राज्यपाल

Question ID : 264330115615

Status : Answered

Chosen Option : 2

Q.12 शुभमंग लीला उत्सव निम्नलिखित में से किस राज्य से संबंधित है?

- Ans
- 1. बिहार
  - 2. असम
  - 3. मणिपुर
  - 4. झारखंड

Question ID : 264330115082

Status : Not Answered

Chosen Option : --

Q.13 वेद, चारों वेदों में सबसे छोटा है, यह हिंदू परंपरा में एक दिव्य स्थिति रखता है और धुनों और मंत्रों का संग्रह है।

- Ans
- 1. ऋग
  - 2. साम
  - 3. अथर्व
  - 4. यजुर

Question ID : 264330115442  
Status : Answered  
Chosen Option : 2

Q.14 गर्म मौसम की ऋतु में पश्चिम बंगाल क्षेत्र में गरज के साथ भारी वर्षा की घटना को क्या कहा जाता है?

- Ans
- 1. कालबैसाखी
  - 2. आम्र वर्षा
  - 3. निवर्तन वर्षाऋतु
  - 4. लू

Question ID : 264330115982  
Status : Not Answered  
Chosen Option : --

Q.15 'भामा कलपम' किस भारतीय शास्त्रीय नृत्य से संबंधित शास्त्रीय नृत्य-नाटिका है?

- Ans
- 1. कुचिपुड़ी
  - 2. सत्रीया
  - 3. ओडिसी
  - 4. मोहिनीअट्टम

Question ID : 26433069903  
Status : Not Answered  
Chosen Option : --

Q.16 सरकार के प्रमुख कार्यक्रम 'मेक इन इंडिया' ने 25 सितंबर, 2022 को कितने वर्ष पूरे किए?

- Ans
- 1. 9 वर्ष
  - 2. 5 वर्ष
  - 3. 4 वर्ष
  - 4. 8 वर्ष

Question ID : 264330116199  
Status : Not Attempted and Marked For Review  
Chosen Option : --

Q.17 एक ऐसी प्रक्रिया है जिसमें दो निकटम-फिटिंग भागों को एक फिलर सामग्री का उपयोग करके जोड़ा जाता है जिसे उसके गलनांक से ऊपर गर्म किया जाता है और केशिका क्रिया द्वारा अंतराल में वितरित किया जाता है।

- Ans
- 1. सोल्डरिंग
  - 2. कठोरीकरण
  - 3. टांकना
  - 4. वेल्डिंग

Question ID : 264330115144  
Status : Answered  
Chosen Option : 4

Q.18 वयस्क साक्षरता दर की गणना करते समय किस आयु और उससे अधिक के लोगों को शामिल किया जाता है?

- Ans
- 1. 15 वर्ष
  - 2. 18 वर्ष
  - 3. 12 वर्ष
  - 4. 14 वर्ष

Question ID : 264330116062  
Status : Answered  
Chosen Option : 2

Q.19 भारत में, \_\_\_\_\_ पंचवर्षीय योजनाओं के लिए अंतिम अनुमोदन प्राधिकरण था।

- Ans
- 1. राष्ट्रीय विकास परिषद
  - 2. राष्ट्रीय कृषि एवं विकास परिषद
  - 3. अंतर्राष्ट्रीय विकास परिषद
  - 4. राष्ट्रीय विकास केंद्र

Question ID : 264330115362  
Status : Answered  
Chosen Option : 1

Q.20 अर्जुन पुरस्कार की शुरुआत किस वर्ष से हुई?

- Ans
- 1. 1961
  - 2. 1970
  - 3. 1972
  - 4. 1978

Question ID : 264330116267  
Status : Not Answered  
Chosen Option : --

Q.1 एक दुकानदार किसी वस्तु के अंकित मूल्य पर 12% की छूट देता है। यदि वस्तु का विक्रय मूल्य Rs.13,200 है, तो वस्तु का अंकित मूल्य क्या है?

- Ans
- 1. Rs.16,000
  - 2. Rs.20,000
  - 3. Rs.15,000
  - 4. Rs.12,000

Question ID : 26433061305

Status : Answered

Chosen Option : 3

Q.2 अमृत, भगत की अपेक्षा तीन गुना अच्छा काम करता है। इसलिए अमृत एक काम को भगत की तुलना में 50 दिन कम में पूरा करने में सक्षम है। वह समय (दिनों में) ज्ञात कीजिए, जिसमें वे एक साथ मिलकर उस कार्य को पूरा कर सकते हैं।

- Ans
- 1.  $19\frac{5}{4}$  दिन
  - 2.  $18\frac{3}{4}$  दिन
  - 3.  $17\frac{4}{3}$  दिन
  - 4.  $15\frac{3}{4}$  दिन

Question ID : 26433066321

Status : Answered

Chosen Option : 2

Q.3 दो उम्मीदवारों के बीच एक चुनाव में, 75% मत प्राप्त करने वाला व्यक्ति 520 मतों के बहुमत से निर्वाचित होता है। डाले गए मतों की कुल संख्या कितनी है?

- Ans
- 1. 1212
  - 2. 1040
  - 3. 1604
  - 4. 1314

Question ID : 26433080008

Status : Answered

Chosen Option : 2

Q.4 एक दुकानदार अपने माल पर क्रय मूल्य से 20% अधिक मूल्य अंकित करता है, लेकिन अपने ग्राहकों से चालाकी करने के लिए, वह अंकित मूल्य पर 10% की छूट प्रदान करता है और एक दोषपूर्ण वजन का भी उपयोग करता है जिसका वजन 1 kg के लिए 800 g होता है। उसका कुल लाभ प्रतिशत ज्ञात कीजिए।

- Ans
- 1. 37.5%
  - 2. 32%
  - 3. 27.5%
  - 4. 35%

Question ID : 26433076410

Status : Not Attempted and Marked For Review

Chosen Option : --

Q.5 यदि  $l:m=2:7$ ,  $m:n=3:4$  और  $n:k=14:5$  है, तो  $l:m:n:k$  का मान क्या होगा?

- Ans
- 1. 6:21:7:10
  - 2. 6:7:14:10
  - 3. 6:21:28:10
  - 4. 6:21:14: 10

Question ID : 26433075731

Status : Answered

Chosen Option : 3

Q.6 शांत जल में एक नाव की चाल धारा की विपरीत दिशा में उसकी चाल से 50 प्रतिशत अधिक है। यदि बिंदु P से धारा की दिशा में बिंदु Q तक, नाव को पहुंचने में 20 मिनट लगते हैं, तो बिंदु Q से धारा की विपरीत दिशा में बिंदु P तक पहुंचने में उसे कितना समय लगेगा?

- Ans
- 1. 30 मिनट
  - 2. 40 मिनट
  - 3. 35 मिनट
  - 4. 45 मिनट

Question ID : 26433066178

Status : Not Answered

Chosen Option : --

Q.7 किरण ने किशोर को Rs.5,00,000 उधार दिए, जो 12% प्रतिवर्ष की दर से वार्षिक रूप से संयोजित होता है। किशोर ने काव्या को 15% प्रतिवर्ष की दर से साधारण ब्याज पर राशि उधार दी। किरण और किशोर द्वारा 3 वर्ष बाद अर्जित ब्याज में कितना अंतर है?

- Ans
- 1. Rs.24,536
  - 2. Rs.25,536
  - 3. Rs.26,536
  - 4. Rs.22,536

Question ID : 26433075323

Status : Not Answered

Chosen Option : --

Q.8 सात छात्रों द्वारा प्राप्त अंक 70, 85, 95, 86, 74, 83 और 67 हैं। उनके द्वारा प्राप्त औसत अंक क्या हैं?

- Ans
- 1. 50
  - 2. 80
  - 3. 60
  - 4. 70

Question ID : 26433075136

Status : Answered

Chosen Option : 2

Q.9 यदि एक प्राकृत संख्या को 4,5 और 6 से विभाजित करने पर प्रत्येक स्थिति में 3 शेषफल बचता है, तो तीन अंकों की सबसे छोटी प्राकृत संख्या क्या होगी?

- Ans
- 1. 113
  - 2. 123
  - 3. 117
  - 4. 129

Question ID : 26433075635

Status : Answered

Chosen Option : 2

Q.10 X ने कुल 60 रुपये में एक दर्जन पेंसिल और 200 रुपये में 20 कलम खरीदे। X द्वारा खरीदी गई स्टेशनरी का कुल औसत मूल्य ज्ञात करें।

- Ans
- 1. 8.000 रुपए
  - 2. 8.375 रुपए
  - 3. 8.250 रुपए
  - 4. 8.125 रुपए

Question ID : 264330116687

Status : Answered

Chosen Option : 4

Q.11 यदि आकाश एक कार्य को 63 दिनों में कर सकता है और दिशा उसी कार्य को 84 दिनों में कर सकती है। उन्होंने 12 दिनों तक साथ मिलकर कार्य किया और इसके बाद दिशा ने कार्य छोड़ दिया और आकाश ने शेष कार्य पूरा किया, तो कार्य को समाप्त करने के लिए आवश्यक कुल दिनों की संख्या ज्ञात करें।

- Ans
- 1. 40 दिन
  - 2. 66 दिन
  - 3. 74 दिन
  - 4. 54 दिन

Question ID : 264330116883

Status : Answered

Chosen Option : 4



Q.12 ऐसे बेलन का संपूर्ण पृष्ठीय क्षेत्रफल ज्ञात कीजिए जिसकी त्रिज्या 7 cm है और वक्र पृष्ठीय क्षेत्रफल  $3520\text{cm}^2$  है ( $\pi = \frac{22}{7}$  का इस्तेमाल कीजिए)

- Ans
- 1.  $3850\text{ cm}^2$
  - 2.  $3828\text{ cm}^2$
  - 3.  $3820\text{ cm}^2$
  - 4.  $2838\text{ cm}^2$

Question ID : 26433083061

Status : Answered

Chosen Option : 2

Q.13 एक विक्रेता उसके पास स्थित 40 प्रतिशत संतरे बेचता है और शेष का 10 प्रतिशत फेंक देता है। अगले दिन वह शेष का 50 प्रतिशत बेचता है और शेष को फेंक देता है। विक्रेता अपने संतरे का कितने प्रतिशत फेंकता है?

- Ans
- 1. 45 प्रतिशत
  - 2. 27 प्रतिशत
  - 3. 60 प्रतिशत
  - 4. 33 प्रतिशत

Question ID : 264330116803

Status : Answered

Chosen Option : 4

Q.14 7 cm और 6 cm के विकर्णों वाले एक समचतुर्भुज के क्षेत्रफल की गणना करें।

- Ans
- 1.  $21\text{ cm}^2$
  - 2.  $18\text{ cm}^2$
  - 3.  $24\text{ cm}^2$
  - 4.  $28\text{ cm}^2$

Question ID : 26433076333

Status : Answered

Chosen Option : 1

Q.15 ₹1,900 को 4 लड़कों, 5 लड़कियों और 6 महिलाओं के बीच इस प्रकार विभाजित किया जाता है कि एक लड़के, एक लड़की और एक महिला के हिस्से का अनुपात 9 : 8 : 4 है। एक लड़की का हिस्सा क्या है?

- Ans
- 1. ₹608
  - 2. ₹760
  - 3. ₹304
  - 4. ₹152

Question ID : 26433076186

Status : Not Answered

Chosen Option : --

Q.16 एक ब्लूटूथ स्पीकर को ₹3,500 नकद या ₹1000 नकद डाउन पेमेंट एंव शेष राशि के लिए 3 समान वार्षिक किश्तों पर बेचा जाता है। यदि वार्षिक ब्याज दर 12.5% है और ब्याज का संयोजन वार्षिक रूप से किया गया है, तो किश्त की राशि (दो दशमलव स्थान तक सही) ज्ञात कीजिये।

- Ans
- 1. ₹1,149.83
  - 2. ₹1,249.83
  - 3. ₹1,049.83
  - 4. ₹1,019.83

Question ID : 26433074937

Status : Not Answered

Chosen Option : --

Q.17 एक एसी का अंकित मूल्य ₹48,000 है। दुकानदार 12% की छूट देता है और 10% लाभ अर्जित करता है। यदि कोई भी छूट ना दी जाए, तो उसका लाभ प्रतिशत ज्ञात कीजिए।

- Ans
- 1. 24 प्रतिशत
  - 2. 25 प्रतिशत
  - 3. 20 प्रतिशत
  - 4. 26 प्रतिशत

Question ID : 26433080171

Status : Answered

Chosen Option : 2

Q.18 रीता घर से 40 km/h की चाल से कार्यालय जाती है। यदि वह कार्यालय से 60 km/h की चाल से घर लौटती है, तो उसकी औसत चाल क्या होगी?

- Ans
- 1. 48 km/h
  - 2. 44 km/h
  - 3. 50 km/h
  - 4. 52 km/h

Question ID : 26433075689

Status : Answered

Chosen Option : 1

Q.19 यदि  $N = (24^3 + 25^3 + 26^3 + 27^3)$  है, तो N को 102 से विभाजित करने पर \_\_\_\_\_ शेषफल प्राप्त होगा।

- Ans
- 1. 1
  - 2. 12
  - 3. 18
  - 4. 0

Question ID : 26433081537

Status : Not Answered

Chosen Option : --

Q.20 राजू एक पुराना मोबाइल Rs.3,200 में खरीदता है और Rs.800 इसकी मरम्मत पर खर्च करता है। यदि वह मोबाइल को Rs.4,800 में बेचता है, तो उसका लाभ प्रतिशत \_\_\_\_\_ होगा।

- Ans
- 1. 15%
  - 2. 25%
  - 3. 30%
  - 4. 20%

Question ID : 26433074957  
Status : Answered  
Chosen Option : 4

Section : Part-D-English

Q.1 Select the INCORRECTLY spelt word.

- Ans
- 1. Cherish
  - 2. Mice
  - 3. Wisdom
  - 4. Calandar

Question ID : 26433072760  
Status : Not Answered  
Chosen Option : --

Q.2 Select the appropriate idiom that can replace the underlined phrase in the following sentence.

He is straightforward and honest and that's why everyone appreciates him.

- Ans
- 1. an open book
  - 2. an apple of one's eyes
  - 3. a big hit
  - 4. bad blood

Question ID : 26433072517  
Status : Not Answered  
Chosen Option : --

Q.3 Select the most appropriate option that can substitute the underlined segment in the given sentence. If there is no need to substitute it, select 'No substitution'.

You do not have access to this content currently.

- Ans
- 1. have excess
  - 2. No substitution
  - 3. have permission
  - 4. have permit

Question ID : 26433087893  
Status : Not Answered  
Chosen Option : --

Q.4 Select the INCORRECTLY spelt word.

- Ans  1. Convertible  
 2. Cancellation  
 3. Credible  
 4. Conscious

Question ID : 26433074061  
Status : Not Answered  
Chosen Option : --

Q.5 Select the most appropriate meaning of the given idiom.

Beside oneself

- Ans  1. Very shocked or distraught  
 2. To remain silent  
 3. To be happy  
 4. Feeling overwhelming fear or worry

Question ID : 26433072222  
Status : Not Answered  
Chosen Option : --

Q.6 Select the most appropriate ANTONYM of the underlined word in the following sentence.

The accident made his face look horrible.

- Ans  1. Ugly  
 2. Pleasant  
 3. Frightful  
 4. Surgical

Question ID : 26433072241  
Status : Not Answered  
Chosen Option : --

Q.7 Select the most appropriate ANTONYM of the underlined word.

Many bosses at workplace consider their subordinate on equal planes.

- Ans  1. Ordinary  
 2. Superior  
 3. Inferior  
 4. Mediocre

Question ID : 26433073195  
Status : Not Answered  
Chosen Option : --

Q.8 Select the most appropriate ANTONYM of the given word.

Jovial

- Ans
- 1. Nauseating
  - 2. Cheerful
  - 3. Abrupt
  - 4. Gloomy

Question ID : 26433073802  
Status : Not Answered  
Chosen Option : --

Q.9 Select the most appropriate synonym of the given word.

Brave

- Ans
- 1. Daring
  - 2. Cautious
  - 3. Mild
  - 4. Timid

Question ID : 26433072531  
Status : Not Answered  
Chosen Option : --

Q.10 Select the most appropriate option that can substitute the underlined segment in the given sentence.

Machines can only accomplish a maximum set of tasks, as machines do not hold any thought process of their own.

- Ans
- 1. accomplish a valued set of tasks
  - 2. accomplish a difficult set of tasks
  - 3. accomplish a gist set of tasks
  - 4. accomplish a restricted set of tasks

Question ID : 26433096158  
Status : Not Answered  
Chosen Option : --

Q.11 Select the most appropriate option to fill in the blank.

Education, no doubt, \_\_\_\_\_ bring about the all-round development of a child.

- Ans
- 1. get rid at
  - 2. aims to
  - 3. aim at
  - 4. aims for

Question ID : 26433072724  
Status : Not Answered  
Chosen Option : --

Q.12 The following sentence has been split into four segments. Identify the segment that contains a grammatical error.

He said that / he had want / to read a / novel by Enid Blyton.

- Ans
- 1. novel by Enid Blyton
  - 2. he had want
  - 3. He said that
  - 4. to read a

Question ID : 26433086452  
Status : Not Answered  
Chosen Option : --

Q.13 Select the most appropriate synonym of the word given in brackets to fill in the blank.

Locating directions through the location of stars and constellations is a \_\_\_\_\_  
(handy) way at the sea.

- Ans
- 1. simple
  - 2. nice
  - 3. near
  - 4. useful

Question ID : 26433061051  
Status : Not Answered  
Chosen Option : --

Q.14 Select the most appropriate ANTONYM of the underlined word.

The boy has benevolence towards animals.

- Ans
- 1. Kindness
  - 2. Cruelty
  - 3. Pardon
  - 4. Hardness

Question ID : 26433093495  
Status : Not Answered  
Chosen Option : --

Q.15 Select the most appropriate synonym of the given word.

Earned

- Ans
- 1. Gained
  - 2. Offered
  - 3. Accorded
  - 4. Gave

Question ID : 26433088998  
Status : Not Answered  
Chosen Option : --

### Comprehension:

In the following passage, some words have been deleted. Read the passage carefully and select the most appropriate option to fill in each blank.

Technological innovations have led to marked improvements in (1) \_\_\_\_\_, productivity, quality, inclusion and competitiveness in extension of financial services, especially in the area of digital lending. However, there have been (2) \_\_\_\_\_ consequences on account of greater reliance on third-party lending service providers mis-selling to the unsuspecting customers, concerns over (3) \_\_\_\_\_ of data privacy, unethical business conduct and illegitimate operations. While the current share of digital lending in overall credit pie of the financial sector is not significant for it to affect financial stability, the growth momentum has (4) \_\_\_\_\_ stability implications. The larger issue here is protecting the customers from widespread unethical practices and (5) \_\_\_\_\_ orderly growth.

#### SubQuestion No : 16

Q.16 Select the most appropriate option to fill in blank number 1.

- Ans
- 1. inefficiency
  - 2. inadequacy
  - 3. efficiency
  - 4. adequacy

Question ID : 26433058872  
Status : Not Answered  
Chosen Option : --

### Comprehension:

In the following passage, some words have been deleted. Read the passage carefully and select the most appropriate option to fill in each blank.

Technological innovations have led to marked improvements in (1) \_\_\_\_\_, productivity, quality, inclusion and competitiveness in extension of financial services, especially in the area of digital lending. However, there have been (2) \_\_\_\_\_ consequences on account of greater reliance on third-party lending service providers mis-selling to the unsuspecting customers, concerns over (3) \_\_\_\_\_ of data privacy, unethical business conduct and illegitimate operations. While the current share of digital lending in overall credit pie of the financial sector is not significant for it to affect financial stability, the growth momentum has (4) \_\_\_\_\_ stability implications. The larger issue here is protecting the customers from widespread unethical practices and (5) \_\_\_\_\_ orderly growth.

#### SubQuestion No : 17

Q.17 Select the most appropriate option to fill in blank number 2.

- Ans
- 1. expected
  - 2. planned
  - 3. intentional
  - 4. unintended

Question ID : 26433058873  
Status : Not Answered  
Chosen Option : --

**Comprehension:**

In the following passage, some words have been deleted. Read the passage carefully and select the most appropriate option to fill in each blank.

Technological innovations have led to marked improvements in (1) \_\_\_\_\_, productivity, quality, inclusion and competitiveness in extension of financial services, especially in the area of digital lending. However, there have been (2) \_\_\_\_\_ consequences on account of greater reliance on third-party lending service providers mis-selling to the unsuspecting customers, concerns over (3) \_\_\_\_\_ of data privacy, unethical business conduct and illegitimate operations. While the current share of digital lending in overall credit pie of the financial sector is not significant for it to affect financial stability, the growth momentum has (4) \_\_\_\_\_ stability implications. The larger issue here is protecting the customers from widespread unethical practices and (5) \_\_\_\_\_ orderly growth.

**SubQuestion No : 18**

**Q.18** Select the most appropriate option to fill in blank number 3.

- Ans
- 1. spread
  - 2. closure
  - 3. agreement
  - 4. breach

Question ID : 26433058874  
Status : Not Answered  
Chosen Option : --

**Comprehension:**

In the following passage, some words have been deleted. Read the passage carefully and select the most appropriate option to fill in each blank.

Technological innovations have led to marked improvements in (1) \_\_\_\_\_, productivity, quality, inclusion and competitiveness in extension of financial services, especially in the area of digital lending. However, there have been (2) \_\_\_\_\_ consequences on account of greater reliance on third-party lending service providers mis-selling to the unsuspecting customers, concerns over (3) \_\_\_\_\_ of data privacy, unethical business conduct and illegitimate operations. While the current share of digital lending in overall credit pie of the financial sector is not significant for it to affect financial stability, the growth momentum has (4) \_\_\_\_\_ stability implications. The larger issue here is protecting the customers from widespread unethical practices and (5) \_\_\_\_\_ orderly growth.

**SubQuestion No : 19**

**Q.19** Select the most appropriate option to fill in blank number 4.

- Ans
- 1. optional
  - 2. discretionary
  - 3. compelling
  - 4. insignificant

Question ID : 26433058875  
Status : Not Answered  
Chosen Option : --



### Comprehension:

In the following passage, some words have been deleted. Read the passage carefully and select the most appropriate option to fill in each blank.

Technological innovations have led to marked improvements in (1) \_\_\_\_\_, productivity, quality, inclusion and competitiveness in extension of financial services, especially in the area of digital lending. However, there have been (2) \_\_\_\_\_ consequences on account of greater reliance on third-party lending service providers mis-selling to the unsuspecting customers, concerns over (3) \_\_\_\_\_ of data privacy, unethical business conduct and illegitimate operations. While the current share of digital lending in overall credit pie of the financial sector is not significant for it to affect financial stability, the growth momentum has (4) \_\_\_\_\_ stability implications. The larger issue here is protecting the customers from widespread unethical practices and (5) \_\_\_\_\_ orderly growth.

#### SubQuestion No : 20

Q.20 Select the most appropriate option to fill in blank number 5.

- Ans
- 1. invalidating
  - 2. repudiating
  - 3. rejecting
  - 4. ensuring

Question ID : 26433058876  
Status : Not Answered  
Chosen Option : --

#### Section : Part-D-Hindi

Q.1 'पगड़ी ओढ़कर आओ।' वाक्य में रेखांकित शब्द के स्थान पर उपयुक्त शब्द क्या होगा?

- Ans
- 1. पहनकर
  - 2. बिछाकर
  - 3. बांधकर
  - 4. डालकर

Question ID : 26433062204  
Status : Answered  
Chosen Option : 3

Q.2 'केवल मात्र आपके दर्शन पर्याप्त होंगे।' इस वाक्य में अनुपयुक्त शब्द है-

- Ans
- 1. होंगे
  - 2. केवल
  - 3. आपके
  - 4. दर्शन

Question ID : 26433091307  
Status : Answered  
Chosen Option : 2

Q.3 निम्नलिखित वाक्यांश के लिए उपयुक्त एक शब्द क्या होगा?  
किसी को भय से बचाने के लिए वचन देना

- Ans  1. अभयदान  
 2. सहयोग  
 3. सलाह  
 4. निर्भय

Question ID : 26433070066  
Status : Answered  
Chosen Option : 1

Q.4 'अमृत' का अर्थ निम्न में से नहीं है-

- Ans  1. मोती  
 2. स्वर्ण  
 3. जल  
 4. पारा

Question ID : 26433074413  
Status : Not Attempted and  
Marked For Review  
Chosen Option : --

Q.5 'वह जो पढ़ता हो' वाक्यांश के लिए सार्थक शब्द है-

- Ans  1. बुद्धिमान  
 2. पढ़ाकू  
 3. पाठक  
 4. साक्षर

Question ID : 26433062228  
Status : Answered  
Chosen Option : 3

Q.6 "अभ्युदय पाठशाला जा रहा है।"  
उपरोक्त वाक्य का सामान्य भविष्य काल में रूपांतरण क्या होगा?

- Ans  1. अभ्युदय शायद पाठशाला जाए।  
 2. अभ्युदय पाठशाला जा रहा था।  
 3. अभ्युदय पाठशाला चला गया होगा।  
 4. अभ्युदय पाठशाला जाएगा।

Question ID : 26433066978  
Status : Answered  
Chosen Option : 4

Q.7 विकल्पों में से 'केशरी' शब्द के पर्यायवाची से निम्न वाक्य के रिक्त स्थान की पूर्ति कीजिए।  
जंगल में \_\_\_\_\_ दहाड़ता है।

- Ans
- 1. गदर्भ
  - 2. अंडज
  - 3. व्याल
  - 4. शार्दूल

Question ID : 26433079182

Status : Answered

Chosen Option : 4

Q.8 'वर्तमान समय में योग अत्यंत आवश्यक है।'  
उक्त वाक्य में रेखांकित शब्द के विलोम शब्द का चयन विकल्पों में से कीजिए।

- Ans
- 1. योगी
  - 2. भोग
  - 3. व्यायाम
  - 4. मनोयोग

Question ID : 26433079739

Status : Answered

Chosen Option : 2

Q.9 'ऊँची दुकान फीके पकवान' मुहावरे का सही अर्थ है-

- Ans
- 1. नाममात्र का बड़प्पन
  - 2. बड़ा मकान होना
  - 3. खाने में स्वाद न होना
  - 4. बड़ी इमारत में दुकान होना

Question ID : 26433062604

Status : Answered

Chosen Option : 1

Q.10 निम्नलिखित में से 'प्रकृति' का अर्थ इनमें से क्या नहीं होता है?

- Ans
- 1. पूज्य
  - 2. स्वामी
  - 3. माया
  - 4. स्वभाव

Question ID : 26433080945

Status : Not Attempted and  
Marked For Review

Chosen Option : --

Q.11 निम्नलिखित वाक्य के किस खंड में अशुद्धि है?  
आकासवानी से समाचार प्रसारित हो रहे हैं।

- Ans
- 1. आकासवानी
  - 2. समाचार
  - 3. हैं।
  - 4. प्रसारित

Question ID : 26433066751

Status : Answered

Chosen Option : 1

Q.12 निम्नलिखित मुहावरे के उचित अर्थ का चयन कीजिए-  
चाँद पर थूकना

- Ans
- 1. गलत बातें कहना
  - 2. किसी का आदर करना
  - 3. ऊपर की ओर थूकना
  - 4. सम्माननीय का अनादर करना

Question ID : 26433065887

Status : Answered

Chosen Option : 4

Q.13 निम्न वाक्यांश के लिए सार्थक शब्द/सही विकल्प चुनें।  
जिसके हृदय में ममता नहीं है

- Ans
- 1. निरंकुश
  - 2. निर्दय
  - 3. निर्वाचित
  - 4. निर्मम

Question ID : 26433066924

Status : Answered

Chosen Option : 4

Q.14 “राहुल ने सभी मित्रों में कहानी सुनाई।”  
उपरोक्त वाक्य में कारक सम्बन्धी त्रुटि पहचानकर निम्नलिखित में से शुद्धतम वाक्य का चयन कीजिए।

- Ans
- 1. राहुल ने सभी मित्रों को कहानी सुनाई।
  - 2. राहुल ने सभी मित्रों से कहानी सुनाई।
  - 3. राहुल ने सभी मित्रों के साथ कहानी सुनाई।
  - 4. राहुल ने सभी मित्रों के पास कहानी सुनाई।

Question ID : 26433066965

Status : Answered

Chosen Option : 1

Q.15 संप्रदान कारक का बहुवचन रूप किस विकल्प में मौजूद है?

- Ans  1. हमारे लिए  
 2. हमारे द्वारा  
 3. हमारे पर  
 4. हममें

Question ID : 26433063037

Status : Answered

Chosen Option : 1

**Comprehension:**

निम्नलिखित गद्यांश में कुछ शब्दों को हटा दिया गया है। दिए गए विकल्पों की सहायता से रिक्त स्थानों की पूर्ति कीजिए। प्रत्येक संख्या के लिए सबसे उपयुक्त विकल्प का चयन कीजिए।

जीवन 1. \_\_\_\_\_ से बना है। संघर्ष के समय ही सारी 2. \_\_\_\_\_ प्रकट हो उठती है। मनुष्य संघर्ष के समय जितना प्रखर, 3. \_\_\_\_\_ और कर्मठ हो उठता है, उतना और किसी अवसर पर नहीं दिखाई देता। संघर्ष का अर्थ 4. \_\_\_\_\_ नहीं है। जब मनुष्य पूरे मन से कर्म करता है, तो उसे 5. \_\_\_\_\_ मिलता है।

**SubQuestion No : 16**

Q.16 रिक्त स्थान 1 की पूर्ति के लिए सबसे उपयुक्त विकल्प का चयन करें।

- Ans  1. समानता  
 2. बराबरी  
 3. मेल  
 4. संघर्ष

Question ID : 264330110873

Status : Answered

Chosen Option : 4

**Comprehension:**

निम्नलिखित गद्यांश में कुछ शब्दों को हटा दिया गया है। दिए गए विकल्पों की सहायता से रिक्त स्थानों की पूर्ति कीजिए। प्रत्येक संख्या के लिए सबसे उपयुक्त विकल्प का चयन कीजिए।

जीवन 1. \_\_\_\_\_ से बना है। संघर्ष के समय ही सारी 2. \_\_\_\_\_ प्रकट हो उठती है। मनुष्य संघर्ष के समय जितना प्रखर, 3. \_\_\_\_\_ और कर्मठ हो उठता है, उतना और किसी अवसर पर नहीं दिखाई देता। संघर्ष का अर्थ 4. \_\_\_\_\_ नहीं है। जब मनुष्य पूरे मन से कर्म करता है, तो उसे 5. \_\_\_\_\_ मिलता है।

**SubQuestion No : 17**

Q.17 रिक्त स्थान 2 की पूर्ति के लिए सबसे उपयुक्त विकल्प का चयन करें।

- Ans  1. जीवनी-शक्ति  
 2. वाह्य शक्ति  
 3. शारीरिक शक्ति  
 4. प्रचंड शक्ति

Question ID : 264330110874

Status : Marked For Review

Chosen Option : 3

**Comprehension:**

निम्नलिखित गद्यांश में कुछ शब्दों को हटा दिया गया है। दिए गए विकल्पों की सहायता से रिक्त स्थानों की पूर्ति कीजिए। प्रत्येक संख्या के लिए सबसे उपयुक्त विकल्प का चयन कीजिए।  
जीवन 1. \_\_\_\_\_ से बना है। संघर्ष के समय ही सारी 2. \_\_\_\_\_ प्रकट हो उठती है। मनुष्य संघर्ष के समय जितना प्रखर, 3. \_\_\_\_\_ और कर्मठ हो उठता है, उतना और किसी अवसर पर नहीं दिखाई देता। संघर्ष का अर्थ 4. \_\_\_\_\_ नहीं है। जब मनुष्य पूरे मन से कर्म करता है, तो उसे 5. \_\_\_\_\_ मिलता है।

**SubQuestion No : 18**

Q.18 रिक्त स्थान 3 की पूर्ति के लिए सबसे उपयुक्त विकल्प का चयन करें।

- Ans
- ✓ 1. तेजस्वी
  - ✗ 2. निस्तेज
  - ✗ 3. कांतिहीन
  - ✗ 4. कुरूप

Question ID : 264330110875

Status : Answered

Chosen Option : 1

**Comprehension:**

निम्नलिखित गद्यांश में कुछ शब्दों को हटा दिया गया है। दिए गए विकल्पों की सहायता से रिक्त स्थानों की पूर्ति कीजिए। प्रत्येक संख्या के लिए सबसे उपयुक्त विकल्प का चयन कीजिए।  
जीवन 1. \_\_\_\_\_ से बना है। संघर्ष के समय ही सारी 2. \_\_\_\_\_ प्रकट हो उठती है। मनुष्य संघर्ष के समय जितना प्रखर, 3. \_\_\_\_\_ और कर्मठ हो उठता है, उतना और किसी अवसर पर नहीं दिखाई देता। संघर्ष का अर्थ 4. \_\_\_\_\_ नहीं है। जब मनुष्य पूरे मन से कर्म करता है, तो उसे 5. \_\_\_\_\_ मिलता है।

**SubQuestion No : 19**

Q.19 रिक्त स्थान 4 की पूर्ति के लिए सबसे उपयुक्त विकल्प का चयन करें।

- Ans
- ✗ 1. खेलना-कूदना
  - ✗ 2. खाना-पीना
  - ✗ 3. हँसना-रोना
  - ✓ 4. लड़ना-भिड़ना

Question ID : 264330110876

Status : Answered

Chosen Option : 4

**Comprehension:**

निम्नलिखित गद्यांश में कुछ शब्दों को हटा दिया गया है। दिए गए विकल्पों की सहायता से रिक्त स्थानों की पूर्ति कीजिए। प्रत्येक संख्या के लिए सबसे उपयुक्त विकल्प का चयन कीजिए।  
जीवन 1. \_\_\_\_\_ से बना है। संघर्ष के समय ही सारी 2. \_\_\_\_\_ प्रकट हो उठती है। मनुष्य संघर्ष के समय जितना प्रखर, 3. \_\_\_\_\_ और कर्मठ हो उठता है, उतना और किसी अवसर पर नहीं दिखाई देता। संघर्ष का अर्थ 4. \_\_\_\_\_ नहीं है। जब मनुष्य पूरे मन से कर्म करता है, तो उसे 5. \_\_\_\_\_ मिलता है।

**SubQuestion No : 20**

Q.20 रिक्त स्थान 5 की पूर्ति के लिए सबसे उपयुक्त विकल्प का चयन करें।

- Ans
- ✗ 1. पीड़ा
  - ✗ 2. वेदना
  - ✗ 3. दुःख
  - ✓ 4. असीम आनंद

Question ID : 264330110877

Status : Answered

Chosen Option : 4

[www.govtjobsalert.in](http://www.govtjobsalert.in)