

Constable GD in CAPFs SSF Rifleman GD in Assam Rifles and Sepoy in NCB Examination 2022

Roll Number	www.govtjobsalert.in
Candidate Name	www.govtjobsalert.in
Venue Name	Eduhive Palestra
Exam Date	31/01/2023
Exam Time	9:00 AM - 10:00 AM
Subject	Constable GD Examination 2022

Section : Part-A-General Intelligence and Reasoning

Q.1 दिए गए विकल्पों में से उस अक्षर-समूह का चयन कीजिए जो निम्न श्रृंखला में प्रश्न-चिह्न (?) के स्थान पर आ सकता है।
KRBP, IPHV, GNNB, ? , CJZN

- Ans
- 1. PRSB
 - 2. ELTH
 - 3. ETLH
 - 4. PDLR

Question ID : 26433074753
Status : Answered
Chosen Option : 2

Q.2 दिए गए समीकरण को संतुलित करने के लिए विकल्पों में दिए गए किन दो गणितीय चिह्नों को परस्पर बदलना होगा?
 $87 \times 24 \div 12 - 16 + 14 = 176$

- Ans
- 1. + और +
 - 2. - और +
 - 3. \times और +
 - 4. \times और \div

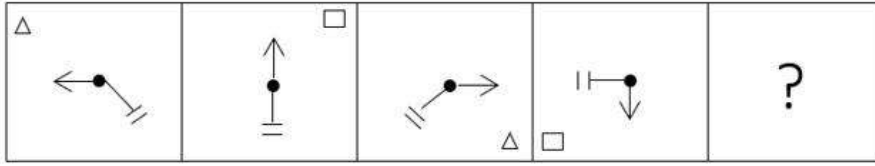
Question ID : 26433090137
Status : Answered
Chosen Option : 2

Q.3 उस विकल्प का चयन करें, जो पाँचवीं संख्या से उसी प्रकार संबंधित है, जिस प्रकार दूसरी संख्या, पहली संख्या से संबंधित है और चौथी संख्या, तीसरी संख्या से संबंधित है।
18 : 3 :: 55 : 4 :: 334 : ?

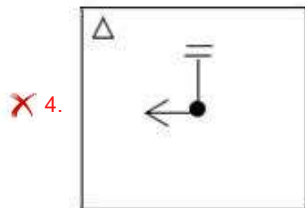
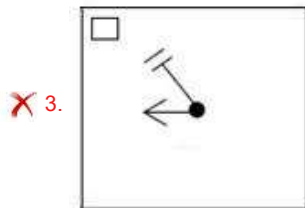
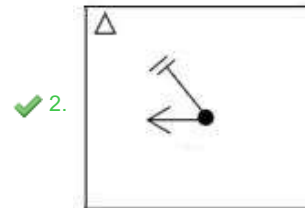
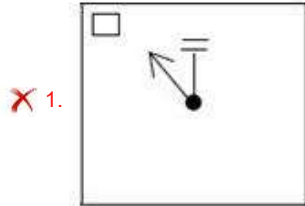
- Ans
- 1. 6
 - 2. 7
 - 3. 8
 - 4. 5

Question ID : 26433069423
Status : Not Answered
Chosen Option : --

Q.4 दिए गए विकल्पों में से उस आकृति का चयन करें जो निम्न श्रृंखला में प्रश्नवाचक चिन्ह (?) के स्थान पर आ सकती है।



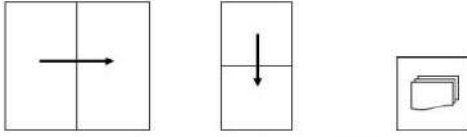
Ans



Question ID : 26433080751
 Status : Answered
 Chosen Option : 3

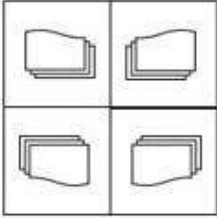
Q.5 एक कागज को नीचे दिखाये गए रूप में मोड़ा और काटा जाता है। खोलने पर यह कैसे

दिखाई देगा?

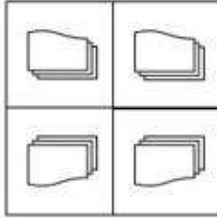


Ans

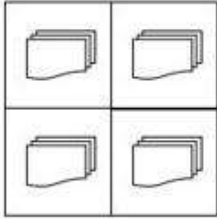
✗ 1.



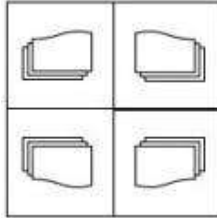
✗ 2.



✗ 3.



✓ 4.



Question ID : 26433089788

Status : Answered

Chosen Option : 2

Q.6 नीचे दिए गए समीकरण को गणितीय रूप से सही बनाने के लिए किन दो चिन्हों को परस्पर बदलना चाहिए?

$$320 \times 8 - 216 + 72 \div 5 = 184$$

Ans ✗ 1. - और +

✓ 2. × और ÷

✗ 3. + और ×

✗ 4. + और ×

Question ID : 264330117525

Status : Answered

Chosen Option : 2

Q.7 एक निश्चित कूट भाषा में,
'A + B' का अर्थ है कि 'A, B की माता है',
'A - B' का अर्थ है कि 'A, B का पिता है',
'A x B' का अर्थ है कि 'A, B का भाई है' और
'A & B' का अर्थ है कि 'A, B की पत्नी है'।
यदि $N \& P - Q + T \times R$ है, तो N का R से क्या संबंध है?

- Ans 1. नानी
 2. माता
 3. दादी
 4. मौसी

Question ID : 26433070372
Status : Answered
Chosen Option : 1

Q.8 एक निश्चित कूट भाषा में, 'SHIP' को 'T17O' के रूप में लिखा जाता है और 'KITE' को 'L29D' के रूप में लिखा जाता है। उसी भाषा में 'HOPE' को कैसे लिखा जाएगा?

- Ans 1. I31D
 2. D31I
 3. I30D
 4. H31E

Question ID : 26433069644
Status : Answered
Chosen Option : 1

Q.9 एक निश्चित कूट भाषा में, 'AROUND' को 'PSBFPW' के रूप में लिखा जाता है और 'ARTIST' को 'USBVUK' के रूप में लिखा जाता है। उसी भाषा में 'AUTHOR' को किस प्रकार लिखा जाएगा?

- Ans 1. UVBTQJ
 2. ROHTUA
 3. TUAROH
 4. UVBROH

Question ID : 26433090037
Status : Answered
Chosen Option : 1

Q.10 निम्नलिखित में से कौन-सी संख्या दी गई श्रृंखला में प्रश्न-चिह्न (?) के स्थान पर आएगी?
1, 3, 4, 7, ?, ?, 29

- Ans 1. 12, 22
 2. 10, 20
 3. 14, 24
 4. 11, 18

Question ID : 26433070221
Status : Answered
Chosen Option : 4

Q.11 छः व्यक्ति P, Q, R, S, T, और U एक दीवार पर दक्षिण की ओर मुख करके बैठे हैं। P और S के बीच में केवल Q बैठा है। U, R के बाईं ओर ठीक बगल में बैठा है। T, S के दाईं ओर बैठा है। Q, P के दाईं ओर ठीक बगल में बैठा है। T और R के बीच में केवल U बैठा है। S के दाईं ओर ठीक बगल में कौन बैठा है?

Ans 1. R

2. T

3. U

4. P

Question ID : 26433074627

Status : Answered

Chosen Option : 2

Q.12 उस विकल्प का चयन कीजिए जो तीसरे शब्द से उसी प्रकार संबंधित है जिस प्रकार दूसरा शब्द पहले शब्द से संबंधित है। (शब्दों को अर्थपूर्ण शब्दों के रूप में मानना है और उन्हें शब्द में अक्षरों/व्यंजनों/स्वरों की संख्या के आधार पर एक-दूसरे से संबंधित नहीं करना है।)
सफलता : असफलता :: संभवतः : ?

Ans 1. तत्काल

2. निश्चित रूप से

3. शीघ्र

4. शायद

Question ID : 26433067376

Status : Answered

Chosen Option : 2

Q.13 छः विद्यार्थी - लूसी, लोरेन, सिमरन, डॉली, विकास और फ्रांसिस एक वृत्ताकार मेज के परितः मेज के केंद्र की ओर मुख करके बैठे हैं। लूसी, फ्रांसिस के बाईं ओर दूसरे स्थान पर बैठी है। लोरेन, लूसी के बाईं ओर दूसरे स्थान पर बैठा है। विकास, लोरेन के दाईं ओर ठीक बगल में बैठा है। सिमरन, विकास के बाईं ओर दूसरे स्थान पर बैठी है। डॉली, लूसी के ठीक बगल में है। फ्रांसिस और लोरेन के बीच में कौन बैठा/बैठी है?

Ans 1. डॉली

2. सिमरन

3. विकास

4. लूसी

Question ID : 26433081784

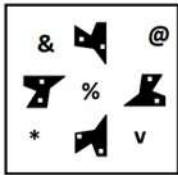
Status : Answered

Chosen Option : 1

Q.14 दर्पण को दाईं ओर रखे जाने पर, निम्नलिखित में से कौन-सी आकृति दी गई प्रश्न आकृति


का सटीक दर्पण प्रतिबिम्ब होगी?

प्रश्न आकृति:

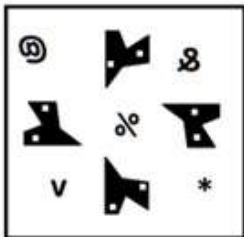


Ans


✗ 1.



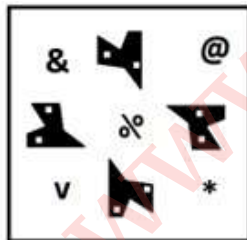
✓ 2.



✗ 3.



✗ 4.



Question ID : 26433087087

Status : Answered

Chosen Option : 2


Q.15 निम्नलिखित विकल्पों में से उस आकृति का चयन करें जिसमें नीचे दी गई

आकृति सन्निहित है (आकृति को घुमाने की अनुमति नहीं है)।

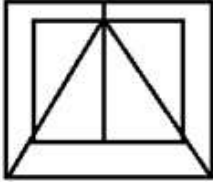


Ans

✗ 1.



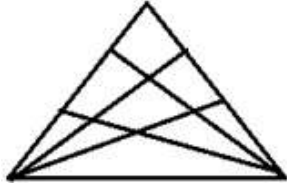
✓ 2.



✗ 3.



✗ 4.



Question ID : 26433069537

Status : Answered

Chosen Option : 2

Q.16 किस विकल्प में निम्नलिखित शब्दों का वह क्रम दिया गया है, जिस क्रम में वे अंग्रेजी शब्दकोश में आते हैं?

- 1 gather
- 2 garbage
- 3 gamble
- 4 garnish
- 5 gastronomy

Ans ✓ 1. 3,2,4,5,1

✗ 2. 3,4,1,2,5

✗ 3. 3,5,2,1,3

✗ 4. 3,4,2,5,1

Question ID : 26433069326

Status : Answered

Chosen Option : 1

Q.17 निम्नलिखित में से कौन-सी संख्या दी गई श्रृंखला में प्रश्न-चिह्न (?) के स्थान पर आएगी?
1, 9, 65, 457, ?

- Ans 1. 5289
 2. 3201
 3. 3125
 4. 4258

Question ID : 26433082011
Status : Not Answered
Chosen Option : --

Q.18 तीन कथन दिए गए हैं, जिनके बाद तीन निष्कर्ष I, II और III दिए गए हैं। कथनों को सत्य मानते हुए, भले ही वे सामान्य रूप से ज्ञात तथ्यों से भिन्न प्रतीत होते हों, निर्धारित करें कि कौन-सा/से निष्कर्ष कथनों का तार्किक रूप से अनुसरण करता है/करते हैं।

कथन:
सभी पेंसिल इरेज़र हैं।
सभी पेन इरेज़र हैं।
सभी इरेज़र स्केल हैं।
निष्कर्ष:
I. सभी पेन स्केल हैं।
II. सभी इरेज़र पेंसिल हैं।
III. कुछ इरेज़र पेन हैं।

- Ans 1. केवल निष्कर्ष II और III अनुसरण करते हैं
 2. केवल निष्कर्ष I और II अनुसरण करते हैं
 3. केवल निष्कर्ष I और III अनुसरण करते हैं
 4. सभी निष्कर्ष अनुसरण करते हैं

Question ID : 26433090986
Status : Answered
Chosen Option : 3

Q.19 निम्नलिखित में से कौन-सा पद दी गई श्रृंखला में प्रश्न-चिह्न (?) के स्थान पर आएगा?
UNEO, TLBK, SJYG, ?, QFSY

- Ans 1. VRCH
 2. CVHR
 3. RHVC
 4. HCVR

Question ID : 26433068984
Status : Answered
Chosen Option : 3

Q.20 उस विकल्प का चयन कीजिए, जो तीसरे शब्द से उसी प्रकार संबंधित है, जिस प्रकार दूसरा शब्द पहले शब्द से संबंधित है। (शब्दों को अर्थपूर्ण शब्दों के रूप में मानना है और उन्हें शब्द में अक्षरों/व्यंजनों/स्वरों की संख्या के आधार पर एक-दूसरे से संबंधित नहीं करना है।)
रंग : हरा :: आकृति : ?

- Ans
- 1. विकर्ण
 - 2. कोण
 - 3. त्रिभुज
 - 4. बिन्दु

Question ID : 26433079475
Status : Not Answered
Chosen Option : --

Section : Part-B-General Knowledge and General awareness

Q.1 दूध और फेस क्रीम _____ के उदाहरण हैं।

- Ans
- 1. ऐरोसोल
 - 2. इमल्शन
 - 3. सोल
 - 4. फ़ोम

Question ID : 264330115176
Status : Not Answered
Chosen Option : --

Q.2 निम्नलिखित में से किसे स्वास्थ्य अवसंरचना संकेतक (health infrastructure indicator) के रूप में नहीं माना जा सकता है?

- Ans
- 1. जीवन यापन लागत
 - 2. शिशु मृत्युदर
 - 3. मातृ मृत्युदर
 - 4. जीवन प्रत्याशा

Question ID : 264330115559
Status : Answered
Chosen Option : 1

Q.3 हम जो कचरा उत्पन्न करते हैं वह _____ होता है।
I. जैव निम्नीकरणीय
II. अजैव निम्नीकरणीय

- Ans
- 1. केवल II
 - 2. केवल I
 - 3. न तो I और न ही II
 - 4. I और II दोनों

Question ID : 264330115259
Status : Answered
Chosen Option : 1

Q.4 माइक्रोफाइनेंस संस्था _____ को वित्तीय सेवाएं प्रदान करती है।

- Ans
- 1. उच्च आय वाले व्यक्तियों
 - 2. पूर्व सैनिकों
 - 3. कम आय वाले व्यक्तियों
 - 4. अवैध-आय वाले व्यक्तियों

Question ID : 264330115312
Status : Answered
Chosen Option : 3

Q.5 भारतीय खेल प्राधिकरण का गठन किस वर्ष हुआ था?

- Ans
- 1. 1984
 - 2. 1987
 - 3. 1982
 - 4. 1983

Question ID : 264330116300
Status : Not Answered
Chosen Option : --

Q.6 छठ पूजा निम्नलिखित में से किस देवता को समर्पित है?

- Ans
- 1. सूर्य देव
 - 2. राम
 - 3. कृष्ण
 - 4. शिव

Question ID : 264330105969
Status : Answered
Chosen Option : 1

Q.7 भारतीय संविधान में मूल कर्तव्यों को _____ की सिफारिश पर शामिल किया गया था।

- Ans
- 1. शाह आयोग
 - 2. मंडल आयोग
 - 3. प्रशासनिक सुधार आयोग
 - 4. स्वर्ण सिंह समिति

Question ID : 264330115630
Status : Answered
Chosen Option : 4

Q.8 हरित क्रांति का मुख्य उद्देश्य _____ था।

- Ans
- 1. अधिक उपज देने वाली खाद्य फसलों के उत्पादन में वृद्धि करना
 - 2. दूध का उत्पादन कम करना
 - 3. भूमि के कुल क्षेत्रफल में वृद्धि करना
 - 4. क्लोरो फ्लोरो रसायन की खपत को कम करना

Question ID : 264330115419
Status : Answered
Chosen Option : 1

Q.9 भारतीय संविधान के अनुच्छेद 157 में कहा गया है कि किसी राज्य के राज्यपाल नियुक्त होने के लिए किसी व्यक्ति द्वारा निम्नलिखित में से कौन सी योग्यताएं पूरी की जानी चाहिए?

- (i) उसे एक भारतीय नागरिक होना चाहिए।
(ii) उसने 35 वर्ष की आयु पूरी कर ली हो।

- Ans 1. केवल (i)
 2. केवल (ii)
 3. दोनों (i) और (ii)
 4. न तो (i) और न ही (ii)

Question ID : 26433089916
Status : Answered
Chosen Option : 3

Q.10 निजी क्षेत्र संस्था का प्राथमिक उद्देश्य क्या होता है?

- Ans 1. सार्वजनिक कल्याण (Public welfare)
 2. धर्मदान (Charity)
 3. सरकारी नीतियों का प्रचार करना
 4. लाभ

Question ID : 264330116081
Status : Answered
Chosen Option : 1

Q.11 जम्मू और कश्मीर के दूसरे लेफ्टिनेंट गवर्नर कौन बने?

- Ans 1. श्री राधा कृष्ण माथुर
 2. श्री प्रफुल पटेल
 3. श्री मनोज सिन्हा
 4. श्री गिरीश चंद्र मुर्मू

Question ID : 264330115015
Status : Answered
Chosen Option : 3

Q.12 भारतीय संविधान के _____ वें संशोधन (वर्ष 2020 में) ने अनुसूचित जाति और अनुसूचित जनजाति के आरक्षण को बढ़ा दिया।

- Ans 1. 107
 2. 106
 3. 104
 4. 105

Question ID : 264330116229
Status : Answered
Chosen Option : 3

Q.13 पृथ्वी की सबसे बाहरी परत कौन-सी है जो भूपर्पटी तथा ऊपरी मेंटल से बनी है?

- Ans
- 1. बाह्य कोर
 - 2. स्थलमंडल
 - 3. मध्यमंडल
 - 4. दुर्बलतामंडल

Question ID : 264330115995
Status : Answered
Chosen Option : 2

Q.14 दूसरा गोलमेज सम्मेलन _____ में आयोजित किया गया था।

- Ans
- 1. दिसंबर 1931
 - 2. दिसंबर 1929
 - 3. मार्च 1931
 - 4. अक्टूबर 1930

Question ID : 26433089891
Status : Answered
Chosen Option : 3

Q.15 1981 में, निम्नलिखित में से किसे अखिल भारतीय गंधर्व महाविद्यालय द्वारा डॉक्टरेट की उपाधि से सम्मानित किया गया था?

- Ans
- 1. अमाला अक्किनेनी
 - 2. एम आर कृष्णमूर्ति
 - 3. केलूचरण महापात्रा
 - 4. पंडित बिरजू महाराज

Question ID : 264330115883
Status : Not Answered
Chosen Option : --

Q.16 अप्रैल 2022 में नागालैंड से भारत में राज्यसभा की पहली महिला सदस्य के रूप में किसे चुना गया है?

- Ans
- 1. प्रियंका गांधी
 - 2. फांगनोन कोन्याक
 - 3. मरियम रेंग्मा
 - 4. जेस्मिना ज़ेलियांग

Question ID : 264330114957
Status : Answered
Chosen Option : 3

Q.17 निम्नलिखित में से किस लोक-नृत्य शैली का संबंध मुख्यतः पंजाब से नहीं है?

- Ans
- 1. लुड़ी
 - 2. भांगड़ा
 - 3. लावणी
 - 4. गिद्धा

Question ID : 26433071450
Status : Answered
Chosen Option : 3

Q.18 हरित क्रांति का प्रथम चरण कब प्रारंभ हुआ था?

- Ans
- 1. 1950 के दशक के मध्य में
 - 2. 1960 के दशक के मध्य में
 - 3. 1970 के दशक के मध्य में
 - 4. 1980 के दशक के मध्य में

Question ID : 26433054626
Status : Answered
Chosen Option : 3

Q.19 इलाहाबाद में अशोक-स्तम्भ पर किसकी प्रशस्ति की खुदाई की गयी है?

- Ans
- 1. चंद्रगुप्त II
 - 2. समुद्रगुप्त II
 - 3. चंद्रगुप्त
 - 4. समुद्रगुप्त

Question ID : 26433089191
Status : Answered
Chosen Option : 4

Q.20 FIFA के नियमों के अनुसार, आधिकारिक स्वीकृत मैचों में उपयोग की जाने वाली फुटबॉल गेंद की परिधि का माप निम्न के बीच होना चाहिए:

- Ans
- 1. 24 और 25 इंच
 - 2. 29 और 30 इंच
 - 3. 25 और 26 इंच
 - 4. 27 और 28 इंच

Question ID : 264330115943
Status : Not Answered
Chosen Option : --

Q.1 एक बर्तन में 36 लीटर पानी है। इस बर्तन से 6 लीटर सामग्री निकाल ली गई और उसे तेल से प्रतिस्थापित कर दिया गया। यह प्रक्रिया दो बार दोहराई गई। बर्तन के अंदर कितना पानी है?

- Ans
- 1. 30 लीटर
 - 2. 20 लीटर
 - 3. 28 लीटर
 - 4. 25 लीटर

Question ID : 26433076068
Status : Answered
Chosen Option : 1

Q.2 यदि दो संख्याओं का योग 15 है और उनका महत्तम समापवर्तक और लघुत्तम समापवर्त्य क्रमशः 3 और 18 है, तो दोनों संख्याओं के व्युत्क्रमों का योग ज्ञात कीजिए।

- Ans
- 1. $\frac{1}{6}$
 - 2. $\frac{2}{9}$
 - 3. $\frac{1}{9}$
 - 4. $\frac{5}{18}$

Question ID : 26433091982
Status : Answered
Chosen Option : 4

Q.3 2 वर्ष पहले मेरी कार का मूल्य ₹3,62,500 था। यदि मूल्य में प्रति वर्ष 2% का हास होता है, तो अब इसका मूल्य (₹ में) कितना है?

- Ans
- 1. 342254
 - 2. 354425
 - 3. 338455
 - 4. 348145

Question ID : 26433076276
Status : Not Answered
Chosen Option : --

Q.4 अंकित मूल्य पर 12% की छूट देने के बाद, एक मोबाइल फोन का विक्रय मूल्य Rs.22,352 है। यदि कोई छूट नहीं दी जाती, तो दुकानदार को 25% का लाभ हुआ होता। मोबाइल फोन का क्रय मूल्य क्या है?

- Ans
- 1. Rs.20,320
 - 2. Rs.22,560
 - 3. Rs.22,320
 - 4. Rs.20,230

Question ID : 26433075188
Status : Not Answered
Chosen Option : --

Q.5 एक दुकानदार अपने माल का एक चौथाई 20% के लाभ पर, अन्य एक चौथाई 25% के लाभ पर, और अन्य एक चौथाई को 10% के लाभ पर और शेष 5% की हानि पर बेचता है। उसका कुल लाभ प्रतिशत _____ है।

- Ans
- 1. 10 प्रतिशत
 - 2. 20 प्रतिशत
 - 3. 25 प्रतिशत
 - 4. 12.5 प्रतिशत

Question ID : 26433081563
Status : Not Answered
Chosen Option : --

Q.6 दो संख्याओं में से, पहली का 28% दूसरी के 64% के बराबर है। पहली और दूसरी संख्या का अनुपात क्या है?

- Ans
- 1. 16 : 7
 - 2. 7 : 16
 - 3. 8 : 5
 - 4. 5 : 8

Question ID : 26433082386
Status : Answered
Chosen Option : 1

Q.7 Rs.4,500 के अंकित मूल्य वाला एक कॉफी मेकर 20%, 10% और 5% की क्रमिक छूट पर उपलब्ध है। कॉफी मेकर का विक्रय मूल्य ज्ञात कीजिए।

- Ans
- 1. Rs.3,078
 - 2. Rs.3,072
 - 3. Rs.3,074
 - 4. Rs.3,076

Question ID : 26433082972
Status : Answered
Chosen Option : 1

Q.8 एक गाँव की जनसंख्या एक वर्ष में 12,500 से बढ़कर 15,000 हो गई। एक वर्ष में जनसंख्या में कितने प्रतिशत वृद्धि हुई है?

- Ans
- 1. 25%
 - 2. 20%
 - 3. 15%
 - 4. 10%

Question ID : 26433085432
Status : Answered
Chosen Option : 2

Q.9 एक नाव शांत जल में 15.5 km/h की चाल से यात्रा कर सकती है। यदि धारा की चाल 4.5 km/h है, तो धारा की दिशा में 76 km और धारा की विपरीत दिशा में 104.5 km जाने में कितना समय लगेगा?

- Ans
- 1. 18 घंटे 13 मिनट
 - 2. 12 घंटे 30 मिनट
 - 3. 15 घंटे 20 मिनट
 - 4. 13 घंटे 18 मिनट

Question ID : 26433063239
Status : Not Answered
Chosen Option : --

Q.10 ₹80000 के बिल पर लागू बिल पर दी गई 15% की छूट तथा 10% और 5% की दो क्रमिक छूटों के बीच का अंतर ज्ञात कीजिए।

- Ans
- 1. ₹200
 - 2. कोई अंतर नहीं
 - 3. ₹400
 - 4. ₹600

Question ID : 26433092160
Status : Answered
Chosen Option : 3

Q.11 तीन घटियाँ एक साथ बजना शुरू होती हैं और क्रमशः 8 sec, 10 sec और 12 sec के अंतराल पर बजती हैं। 30 min में वे कितनी बार एक साथ बजती हैं?

- Ans
- 1. 18
 - 2. 17
 - 3. 16
 - 4. 14

Question ID : 26433082344
Status : Not Answered
Chosen Option : --

Q.12 0.09 और 0.64 के बीच का मध्यानुपाती क्या है?

- Ans
- 1. 0.24
 - 2. 0.72
 - 3. 5.76
 - 4. 2.4

Question ID : 26433087369
Status : Answered
Chosen Option : 4

Q.13 राकेश एक कार्य को 45 दिनों में कर सकता है और मनोज उसी कार्य को 90 दिनों में कर सकता है। समान कार्य को पूरा करने में लगने वाला समय ज्ञात करें यदि वे बारी-बारी से एक-एक दिन कार्य करते हैं तथा राकेश कार्य शुरू करता है।

- Ans
- 1. 50 दिन
 - 2. 40 दिन
 - 3. 66 दिन
 - 4. 60 दिन

Question ID : 264330116913
Status : Not Answered
Chosen Option : --

Q.14 एक अर्धगोले की त्रिज्या 14 cm है। इसका वक्र पृष्ठीय क्षेत्रफल (cm^2 में) _____ होगा। ($\pi = 22/7$ लें)

- Ans
- 1. 1232
 - 2. 1132
 - 3. 1098
 - 4. 1188

Question ID : 26433085770
Status : Answered
Chosen Option : 1

Q.15 सिद्धू एक कॉलेज में दाखिल होना चाहता है और कैंपस प्लेसमेंट के लिए 10 में से 9 और शिक्षण के लिए 10 में से 8 की रेटिंग प्राप्त करता है। अपनी आवश्यकता के आधार पर सिद्धू कैंपस प्लेसमेंट को 55% महत्त्व और शिक्षण को 45% महत्त्व देता है। कॉलेज की अंतिम रेटिंग 10 में से _____ है।

- Ans
- 1. 8.55
 - 2. 7.45
 - 3. 8.15
 - 4. 9.15

Question ID : 26433079910
Status : Not Answered
Chosen Option : --

Q.16 राजू एक काम को 10 घंटे में और राम उसी काम को 15 घंटे में पूरा कर सकता है। यदि वे एक साथ मिलकर काम करते हैं तो काम को पूरा होने में कितना समय लगेगा?

- Ans
- 1. 4 घंटे
 - 2. 5 घंटे
 - 3. 7 घंटे
 - 4. 6 घंटे

Question ID : 26433075795
Status : Answered
Chosen Option : 4

Q.17 प्रत्येक 4096 cm^3 आयतन वाले तीन घनों को एक सिरे से दूसरे सिरे तक जोड़कर एक नया ठोस बनाया जाता है। नए ठोस का पृष्ठीय क्षेत्रफल कितना है?

- Ans
- 1. 1536 cm^2
 - 2. 1792 cm^2
 - 3. 3584 cm^2
 - 4. 1280 cm^2

Question ID : 26433087418
Status : Not Answered
Chosen Option : --

Q.18 यदि एक गोले S_1 का पृष्ठीय क्षेत्रफल गोले S_2 से 800% अधिक है और गोले S_2 का आयतन गोले S_1 से $x\%$ कम है, तो प्रतिशत के संदर्भ में 'x' _____ है। (दशमलव के दो स्थान तक पूर्णांकित)

- Ans
- 1. 96.29%
 - 2. 2.68%
 - 3. 3.70%
 - 4. 80.30%

Question ID : 26433079918
Status : Not Answered
Chosen Option : --

Q.19 सोहन ने भविष्य के लिए Rs.6,250 का निवेश किया और उसे 5 वर्ष बाद Rs.15,552 प्राप्त हुए। यदि ब्याज वार्षिक रूप से चक्रवृद्धि है, तो ब्याज की दर क्या होगी?

- Ans
- 1. 15%
 - 2. 20%
 - 3. 10%
 - 4. 18%

Question ID : 26433075684
Status : Not Answered
Chosen Option : --

Q.20 65 km/h की चाल से चलने वाली एक ट्रेन 10:00 A.M. को बंबई से छूटती है और 76 km/h की चाल से चलने वाली एक अन्य ट्रेन 12:00 P.M. को उसी दिशा में चलना प्रारंभ करती है। बंबई से कितनी दूरी पर (km में) वे एक साथ होंगी?

- Ans
- 1. 925 km
 - 2. 988 km
 - 3. 1,000 km
 - 4. 898.18 km

Question ID : 26433075505
Status : Not Answered
Chosen Option : --

Q.1 Parts of the following sentence have been given as options. One of them may contain an error. Select the part that contains the error from the given options. If you don't find any error, mark 'No error' as your answer.

He goes to Shimla every year but this year he was going to Goa.

- Ans
- 1. He goes to Shimla every year
 - 2. No error
 - 3. he was going to Goa
 - 4. but this year

Question ID : 26433088856
Status : Not Answered
Chosen Option : --

Q.2 Select the most appropriate option that can substitute the underlined segment in the given sentence.

Between the 11 members of the team, there was great discord and this led to their dismal performance.

- Ans
- 1. Among the 11 members of the team
 - 2. Between the 11 members in the team
 - 3. Beside the 11 members of the team
 - 4. Between the 11 member off the team

Question ID : 26433091772
Status : Not Answered
Chosen Option : --

Q.3 The sentence given below has one misspelt word. Spot the INCORRECTLY spelt word and select its correct spelling.

She wraped the gift in a gift paper.

- Ans
- 1. Wrraped
 - 2. Vraped
 - 3. Vrapped
 - 4. Wrapped

Question ID : 26433073562
Status : Not Answered
Chosen Option : --

Q.4 Select the most appropriate option that can substitute the underlined segment in the given sentence.

When we went to the cinema, the film already started.

- Ans
- 1. was already start
 - 2. has started
 - 3. had already started
 - 4. would already start

Question ID : 26433088830
Status : Not Answered
Chosen Option : --

Q.5 Select the most appropriate synonym of the given word to fill in the blank in the sentence.

Compulsion

Some people have a disorder from which comes the _____ to check doors and ensure that they are properly locked.

- Ans
- 1. passion
 - 2. exertion
 - 3. obligation
 - 4. agreement

Question ID : 26433060552
Status : Not Answered
Chosen Option : --

Q.6 Select the most appropriate synonym of the given word.

Serpentine

- Ans
- 1. Prosthetic
 - 2. Fiery
 - 3. Nascent
 - 4. Zigzag

Question ID : 26433073984
Status : Not Answered
Chosen Option : --

Q.7 Select the most appropriate synonym of the underlined word in the given sentence.

Her progress is unparalleled with that of any other teacher.

- Ans
- 1. plight
 - 2. betterment
 - 3. dilemma
 - 4. scenario

Question ID : 26433092106
Status : Not Answered
Chosen Option : --

Q.8 Select the most appropriate meaning of the given idiom.

Fish out of water

- Ans
- 1. Be nostalgic about something
 - 2. Not feeling comfortable in a new environment
 - 3. Be a survivor
 - 4. Go fishing

Question ID : 26433070802
Status : Not Answered
Chosen Option : --

Q.9 Select the correctly spelt word.

- Ans
- 1. Messenjer
 - 2. Massanger
 - 3. Masenger
 - 4. Messenger

Question ID : 26433094749
Status : Not Answered
Chosen Option : --

Q.10 Select the most appropriate ANTONYM of the given word.

Misfortune

- Ans
- 1. Affliction
 - 2. Support
 - 3. Blessing
 - 4. Condemn

Question ID : 26433090793
Status : Not Answered
Chosen Option : --

Q.11 Select the appropriate idiom that can replace the underlined phrase in the following sentence.

He is experienced and full of wisdom as he is teaching chemistry at a university at a very young age of 25.

- Ans
- 1. an old head on young shoulders
 - 2. a silver fox
 - 3. an alpha mom
 - 4. a frog in a small pond

Question ID : 26433072282
Status : Not Answered
Chosen Option : --

Q.12 Select the most appropriate ANTONYM of the given word.

Compact

- Ans
- 1. Expand
 - 2. Multiple
 - 3. Compress
 - 4. Short

Question ID : 26433090782
Status : Not Answered
Chosen Option : --

Q.13 Select the most appropriate synonym of the given word.

Solitary

- Ans 1. Awkward
 2. Single
 3. Hardship
 4. Joyful

Question ID : 26433087914
Status : Not Answered
Chosen Option : --

Q.14 Select the most appropriate ANTONYM of the word given in the brackets to fill in the blank and complete the sentence.

I don't want to offend him, so I'm hesitant to say or do anything _____ (polite).

- Ans 1. bluff
 2. abrupt
 3. rude
 4. kind

Question ID : 26433089838
Status : Not Answered
Chosen Option : --

Q.15 Select the most appropriate option that can substitute the underlined segment in the given sentence. If there is no need to substitute it, select 'No substitution'.

Because I had to catch the train, and as we were short on time, I forget to pack my toothbrush for our vacation.

- Ans 1. No substitution
 2. I have forgot to pack my toothbrush for our vacation
 3. I have forget to pack my toothbrush for our vacation
 4. I forgot to pack my toothbrush for our vacation

Question ID : 264330101022
Status : Not Answered
Chosen Option : --

Comprehension:

In the following passage, some words have been deleted. Read the passage carefully and select the most appropriate option to fill in each blank.

My breath is halted, like gasping for air (1) _____ crying far too long and hard. It is like a hiccup, with a shivering sharpness (2) _____ nerves. It is like icicles running (3) _____ your spine or aluminum in your mouth, an eerie amount of emotions that cannot compare (4) _____ the actual feelings you've managed to live (5) _____. I just watched you die; I say to myself silently.

SubQuestion No : 16

Q.16 Select the most appropriate option to fill in blank number 1.

Ans 1. under

2. after

3. about

4. in

Question ID : 26433091381

Status : Not Answered

Chosen Option : --

Comprehension:

In the following passage, some words have been deleted. Read the passage carefully and select the most appropriate option to fill in each blank.

My breath is halted, like gasping for air (1) _____ crying far too long and hard. It is like a hiccup, with a shivering sharpness (2) _____ nerves. It is like icicles running (3) _____ your spine or aluminum in your mouth, an eerie amount of emotions that cannot compare (4) _____ the actual feelings you've managed to live (5) _____. I just watched you die; I say to myself silently.

SubQuestion No : 17

Q.17 Select the most appropriate option to fill in blank number 2.

Ans 1. from

2. between

3. around

4. of

Question ID : 26433091382

Status : Not Answered

Chosen Option : --

Comprehension:

In the following passage, some words have been deleted. Read the passage carefully and select the most appropriate option to fill in each blank.

My breath is halted, like gasping for air (1) _____ crying far too long and hard. It is like a hiccup, with a shivering sharpness (2) _____ nerves. It is like icicles running (3) _____ your spine or aluminum in your mouth, an eerie amount of emotions that cannot compare (4) _____ the actual feelings you've managed to live (5) _____. I just watched you die; I say to myself silently.

SubQuestion No : 18

Q.18 Select the most appropriate option to fill in blank number 3.

- Ans** 1. down
 2. besides
 3. thorough
 4. among

Question ID : 26433091383
Status : Not Answered
Chosen Option : --

Comprehension:

In the following passage, some words have been deleted. Read the passage carefully and select the most appropriate option to fill in each blank.

My breath is halted, like gasping for air (1) _____ crying far too long and hard. It is like a hiccup, with a shivering sharpness (2) _____ nerves. It is like icicles running (3) _____ your spine or aluminum in your mouth, an eerie amount of emotions that cannot compare (4) _____ the actual feelings you've managed to live (5) _____. I just watched you die; I say to myself silently.

SubQuestion No : 19

Q.19 Select the most appropriate option to fill in blank number 4.

- Ans** 1. inside
 2. away
 3. across
 4. to

Question ID : 26433091384
Status : Not Answered
Chosen Option : --

Comprehension:

In the following passage, some words have been deleted. Read the passage carefully and select the most appropriate option to fill in each blank.

My breath is halted, like gasping for air (1) _____ crying far too long and hard. It is like a hiccup, with a shivering sharpness (2) _____ nerves. It is like icicles running (3) _____ your spine or aluminum in your mouth, an eerie amount of emotions that cannot compare (4) _____ the actual feelings you've managed to live (5) _____. I just watched you die; I say to myself silently.

SubQuestion No : 20

Q.20 Select the most appropriate option to fill in blank number 5.

- Ans
- 1. out
 - 2. instead
 - 3. through
 - 4. within

Question ID : 26433091385
Status : Not Answered
Chosen Option : --

Section : Part-D-Hindi

Q.1 सज्जन का सत्कार होता है और दुर्जन का _____।

सत्कार के विलोम शब्द से वाक्य पूर्ण करें।

- Ans
- 1. स्वागत
 - 2. अपमान
 - 3. तिरस्कार
 - 4. परिष्कार

Question ID : 26433080876
Status : Answered
Chosen Option : 3

Q.2 भारतीय सभ्यता में अलंकार का विशेष महत्त्व है।

निम्न में से कौन-सा शब्द, वाक्य में प्रयुक्त 'अलंकार' शब्द का पर्यायवाची शब्द नहीं है?

- Ans
- 1. छंद
 - 2. आभूषण
 - 3. सज्जा
 - 4. सजावट

Question ID : 26433080860
Status : Answered
Chosen Option : 3

Q.3 निम्नलिखित विकल्पों में से 'जो आदर करने योग्य हो' वाक्यांश के लिए एक सार्थक शब्द क्या होगा ?

- Ans 1. आदरणीय
 2. आशावान
 3. ताकतवर
 4. शक्तिमान

Question ID : 26433062467
Status : Answered
Chosen Option : 1

Q.4 निम्नलिखित में से शुद्ध वाक्य है-

- Ans 1. बुरी खबर कानों- कान फैल जाती है।
 2. बुरी खबर कानू- कानू फैल जाती है।
 3. बुरी खबर कान- कान फैल जाती है।
 4. बुरी खबर कानो- हाथ फैल जाती है।

Question ID : 26433066847
Status : Answered
Chosen Option : 1

Q.5 दिए गए वाक्य में रेखांकित अंश के स्थान पर सबसे उपयुक्त विकल्प कौन-सा होगा?

गोली लगते ही उनका प्राण उड़ गया।

- Ans 1. उनकी प्राण उड़ गई।
 2. उनको प्राण उड़ गया।
 3. उनके प्राण उड़ गए।
 4. उनके प्राण उड़ गई।

Question ID : 26433079187
Status : Answered
Chosen Option : 3

Q.6 जिसका तेज निकल गया है।

दिए गए वाक्यांश के लिए एक शब्द होगा-

- Ans 1. तेजोदीप्त
 2. तेजोमय
 3. निस्तेज
 4. तेजस्वी

Question ID : 26433070056
Status : Answered
Chosen Option : 1

Q.7 वाक्य में रेखांकित शब्द के स्थान पर पर्यायवाची शब्द को लिखकर वाक्य को पूरा कीजिए।

पति-पत्नी के झगड़े का हेतु क्या हो सकता है?

- Ans 1. कारण
 2. औचित्य
 3. विषय
 4. महत्त्व

Question ID : 26433065697
Status : Answered
Chosen Option : 1

Q.8 सामने शेर को आते देखकर शिखर के _____ खड़े हो गये।
रिक्त स्थान की पूर्ति उचित मुहावरे द्वारा कीजिए।

- Ans 1. मित्र
 2. रोंगटे
 3. पैर
 4. बाल

Question ID : 26433062613
Status : Answered
Chosen Option : 2

Q.9 विकल्पों में से उचित अवधिवाचक क्रिया विशेषण चयन कीजिए।

- Ans 1. हर रोज, हर बार
 2. नित्य, लगातार
 3. इधर, उधर
 4. वह, कोई

Question ID : 26433063049
Status : Answered
Chosen Option : 1

Q.10 निम्नलिखित वाक्य में रेखांकित शब्द के स्थान पर उपयुक्त पर्यायवाची शब्द कौन-सा होगा?

ईश्वर मानव का सृजन करके वंदनीय हो गया।

- Ans 1. निर्माण
 2. जन्म
 3. उत्पत्ति
 4. पैदावार

Question ID : 26433066902
Status : Answered
Chosen Option : 1

Q.11 'मूर्ख' के समानार्थी शब्द से वाक्य पूर्ण कीजिए।

_____ व्यक्ति में समझने की शक्ति का नितांत अभाव है।

- Ans
- 1. अनभिज्ञ
 - 2. अचर
 - 3. मूढ़
 - 4. अनजान

Question ID : 26433063097
Status : Answered
Chosen Option : 3

Q.12 माता- पिता पर आदर करना चाहिए। इस वाक्य में अशुद्ध शब्द है-

- Ans
- 1. आदर
 - 2. चाहिए
 - 3. पर
 - 4. माता- पिता

Question ID : 26433091303
Status : Answered
Chosen Option : 3

Q.13 भाववाचक संज्ञा शब्द से प्रयुक्त गलत वाक्य को पढ़कर विकल्पों में से शुद्ध वाक्य छाँटिए।

उनकी जवान चला गया पर अहंकार गया नहीं।

- Ans
- 1. उनका जवानी चली गयी पर अहंकार गया नहीं।
 - 2. उनकी जवानी चली गयी पर अहंकार गया नहीं।
 - 3. उनके जवानी चला गया पर अहंकार गया नहीं।
 - 4. उनके जवान चले गए पर अहंकार गया नहीं।

Question ID : 26433063031
Status : Answered
Chosen Option : 2

Q.14 रेखांकित अंश के स्थान पर सबसे उपयुक्त विकल्प इनमें से कौन-सा है?

गतवर्ष वह दिल्ली जाने वाला है।

- Ans
- 1. पिछले वर्ष
 - 2. विगत वर्ष
 - 3. अगले वर्ष
 - 4. उस वर्ष

Question ID : 26433066875
Status : Answered
Chosen Option : 3

Q.15 दिए गए मुहावरे में रेखांकित अंश के स्थान पर सबसे उपयुक्त विकल्प कौन-सा होगा?
'छठी का मिठाई याद आना।'

- Ans 1. दूध
 2. नमक
 3. पकवान
 4. चीनी

Question ID : 26433066743
Status : Answered
Chosen Option : 1

Comprehension:

निम्नलिखित गद्यांश में से कुछ शब्द हटा दिए गए हैं। दिए गए विकल्पों की सहायता से रिक्त स्थानों की पूर्ति कीजिए। प्रत्येक संख्या के लिए उपयुक्त विकल्प का चयन कीजिए।

राजप्पा ने नागराजन के 1. _____ को देखने की 2. _____ कभी नहीं प्रकट की। लेकिन जब 3. _____ लड़के उसे देख रहे होते तो वह नीची 4. _____ से देख लेता। सचमुच नागराजन का अलबम 5. _____ प्यारा था।

SubQuestion No : 16

Q.16 रिक्त स्थान 1 की पूर्ति के लिए सर्वाधिक उपयुक्त विकल्प का चयन कीजिए।

- Ans 1. कार
 2. अलबम
 3. किताब
 4. श्रेय

Question ID : 26433079603
Status : Answered
Chosen Option : 2

Comprehension:

निम्नलिखित गद्यांश में से कुछ शब्द हटा दिए गए हैं। दिए गए विकल्पों की सहायता से रिक्त स्थानों की पूर्ति कीजिए। प्रत्येक संख्या के लिए उपयुक्त विकल्प का चयन कीजिए।

राजप्पा ने नागराजन के 1. _____ को देखने की 2. _____ कभी नहीं प्रकट की। लेकिन जब 3. _____ लड़के उसे देख रहे होते तो वह नीची 4. _____ से देख लेता। सचमुच नागराजन का अलबम 5. _____ प्यारा था।

SubQuestion No : 17

Q.17 रिक्त स्थान 2 की पूर्ति के लिए सर्वाधिक उपयुक्त विकल्प का चयन कीजिए।

- Ans 1. प्रसन्नता
 2. लत
 3. हुड़क
 4. इच्छा

Question ID : 26433079604
Status : Answered
Chosen Option : 4

Comprehension:

निम्नलिखित गद्यांश में से कुछ शब्द हटा दिए गए हैं। दिए गए विकल्पों की सहायता से रिक्त स्थानों की पूर्ति कीजिए। प्रत्येक संख्या के लिए उपयुक्त विकल्प का चयन कीजिए।

राजप्पा ने नागराजन के 1. _____ को देखने की 2. _____ कभी नहीं प्रकट की। लेकिन जब 3. _____ लड़के उसे देख रहे होते तो वह नीची 4. _____ से देख लेता। सचमुच नागराजन का अलबम 5. _____ प्यारा था।

SubQuestion No : 18

Q.18 रिक्त स्थान 3 की पूर्ति के लिए सर्वाधिक उपयुक्त विकल्प का चयन कीजिए।

- Ans 1. दूसरे
 2. तीसरे
 3. पहले
 4. चौथे

Question ID : 26433079605

Status : Answered

Chosen Option : 3

Comprehension:

निम्नलिखित गद्यांश में से कुछ शब्द हटा दिए गए हैं। दिए गए विकल्पों की सहायता से रिक्त स्थानों की पूर्ति कीजिए। प्रत्येक संख्या के लिए उपयुक्त विकल्प का चयन कीजिए।

राजप्पा ने नागराजन के 1. _____ को देखने की 2. _____ कभी नहीं प्रकट की। लेकिन जब 3. _____ लड़के उसे देख रहे होते तो वह नीची 4. _____ से देख लेता। सचमुच नागराजन का अलबम 5. _____ प्यारा था।

SubQuestion No : 19

Q.19 रिक्त स्थान 4 की पूर्ति के लिए सर्वाधिक उपयुक्त विकल्प का चयन कीजिए।

- Ans 1. पाँव
 2. हथेली
 3. आवाज
 4. आँखों

Question ID : 26433079606

Status : Answered

Chosen Option : 4

Comprehension:

निम्नलिखित गद्यांश में से कुछ शब्द हटा दिए गए हैं। दिए गए विकल्पों की सहायता से रिक्त स्थानों की पूर्ति कीजिए। प्रत्येक संख्या के लिए उपयुक्त विकल्प का चयन कीजिए।

राजप्पा ने नागराजन के 1. _____ को देखने की 2. _____ कभी नहीं प्रकट की। लेकिन जब 3. _____ लड़के उसे देख रहे होते तो वह नीची 4. _____ से देख लेता। सचमुच नागराजन का अलबम 5. _____ प्यारा था।

SubQuestion No : 20

Q.20 रिक्त स्थान 5 की पूर्ति के लिए सर्वाधिक उपयुक्त विकल्प का चयन कीजिए।

- Ans**
- 1. ठीक
 - 2. साधारण
 - 3. बेहद
 - 4. हलका

Question ID : 26433079607

Status : Answered

Chosen Option : 3

WWW.GOV TJOB SALTER