

Constable GD in CAPFs SSF Rifleman GD in Assam Rifles and Sepoy in NCB Examination 2022

Roll Number	www.govtjobsalert.in
Candidate Name	www.govtjobsalert.in
Venue Name	iON Digital Zone iDZ 1 Patliputra
Exam Date	10/01/2023
Exam Time	5:15 PM - 6:15 PM
Subject	Constable GD Examination 2022

Section : Part-A-General Intelligence and Reasoning

Q.1 तीन कथनों के बाद तीन निष्कर्ष दिए गए हैं। कथनों को सत्य मानते हुए, भले ही वे सामान्य रूप से ज्ञात तथ्यों से भिन्न प्रतीत होते हों, निर्णय करें कि कौन सा/से निष्कर्ष कथनों का तार्किक रूप से अनुसरण करता/करते है/हैं।

कथन:

कुछ कंप्यूटर फोन हैं।

सभी फोन कैलकुलेटर हैं।

सभी कैलकुलेटर आई-पैड हैं।

निष्कर्ष:

1. कुछ आई-पैड कंप्यूटर हैं।

2. सभी कैलकुलेटर फोन हैं।

3. कुछ आई-पैड फोन हैं।

Ans 1. सभी निष्कर्ष अनुसरण करते हैं।

2. केवल निष्कर्ष 1 और 3 अनुसरण करते हैं।

3. केवल निष्कर्ष 2 और 3 अनुसरण करते हैं।

4. केवल निष्कर्ष 1 और 2 अनुसरण करते हैं।

Question ID : 26433089424

Status : Answered

Chosen Option : 2

Q.2 किस विकल्प में निम्नलिखित शब्दों का वह क्रम दिया गया है, जिस क्रम में वे अंग्रेजी शब्दकोश में आते हैं?

1 inside

2 inertia

3 instruction

4 insight

5 individual

Ans 1. 5,1,2,3,4

2. 5,1,3,4,2

3. 5,3,1,2,4

4. 5,2,1,4,3

Question ID : 26433069299

Status : Answered

Chosen Option : 4

Q.3 दिए गए समीकरण को संतुलित करने के लिए किन दो चिह्नों को परस्पर बदलना होगा?
 $561 \div 11 \times 22 + 6 - 25 = 158$

- Ans
- 1. + और -
 - 2. \div और +
 - 3. + और \times
 - 4. \div और \times

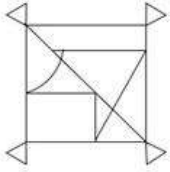
Question ID : 26433082742

Status : Answered

Chosen Option : 3

Q.4 वह विकल्प चित्र चुनिए, जो प्रस्तुत चित्र में अंतर्निहित है। (घुमाना अनुमन्य नहीं

है)



Ans

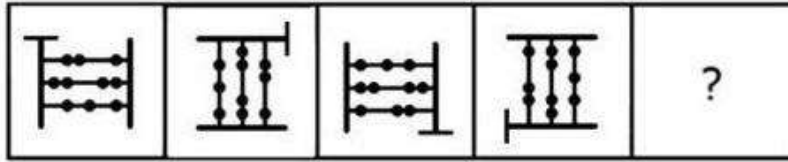
- 1.
- 2.
- 3.
- 4.

Question ID : 26433069343

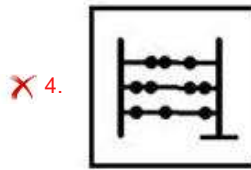
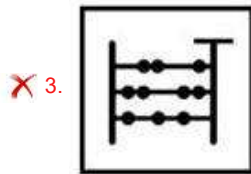
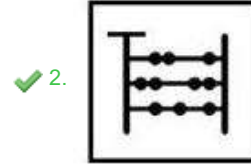
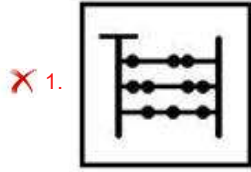
Status : Answered

Chosen Option : 3

Q.5 उस आकृति का चयन कीजिए, जो नीचे दी गई श्रृंखला में आगे आएगी।



Ans



Question ID : 26433078968

Status : Answered

Chosen Option : 2

Q.6 नीचे दिए गए समीकरण को गणितीय रूप से सही बनाने के लिए किन दो चिन्हों को परस्पर बदलना चाहिए?

$$48 - 96 \times 4 \div 3 + 58 = 34$$

Ans ✓ 1. ÷ और ×

✗ 2. + और -

✗ 3. × और +

✗ 4. - और ÷

Question ID : 264330117499

Status : Answered

Chosen Option : 1

Q.7 उस विकल्प का चयन कीजिए जो पांचवें अक्षर-समूह से उसी प्रकार संबंधित है जिस प्रकार दूसरा अक्षर-समूह पहले अक्षर-समूह से संबंधित है और चौथा अक्षर-समूह तीसरे अक्षर-समूह से संबंधित है।
PENALTY : QFOB MUZ :: OFFENSE : PGGFOTF :: NERVOUS : ?

- Ans
- 1. VOUSNER
 - 2. RENVOUS
 - 3. OFSWPVT
 - 4. SUOVREN

Question ID : 26433069637

Status : Answered

Chosen Option : 3

Q.8 7 व्यक्ति - A, B, C, D, E, F, और G, एक वृत्ताकार मेज के परितः केंद्र की ओर मुख करके बैठे हैं। A, C के दाईं ओर ठीक बगल में, और D के बाईं ओर ठीक बगल में बैठा है। G, C के बाईं ओर ठीक बगल में, और F के दाईं ओर ठीक बगल में बैठा है। E, F के बाईं ओर ठीक बगल में, और B के दाईं ओर ठीक बगल में बैठा है। B, A के दाईं ओर दूसरे स्थान पर बैठा है। इनमें से कौन A और B के ठीक बगल में बैठा है?

- Ans
- 1. E
 - 2. F
 - 3. D
 - 4. G

Question ID : 26433074607

Status : Answered

Chosen Option : 3

Q.9 एक निश्चित कूट भाषा में, 'TABLE' को '£@6#%' के रूप में लिखा जाता है, 'LARK' को '#@28' के रूप में लिखा जाता है और 'BUCKET' को '6\$+8%£' के रूप में लिखा जाता है। उसी भाषा में 'CLARET' को कैसे लिखा जाएगा?

- Ans
- 1. +#26%\$
 - 2. 8#2%6+
 - 3. +#@2%£
 - 4. 8#@6%£

Question ID : 26433069608

Status : Answered

Chosen Option : 3

Q.10 A @ B का अर्थ है 'A, B की बहन है।'
A & B का अर्थ है 'A, B का भाई है।'
A # B का अर्थ है 'A, B की पत्नी है।'
A ^ B का अर्थ है 'A, B की माता है।'
A + B का अर्थ है 'A, B के पिता हैं।'
यदि X + T ^ M # G & C ^ K @ H ^ Q है, तो निम्नलिखित में से कौन-सा कथन सही नहीं है?

- Ans
- 1. X, M के नाना हैं।
 - 2. C, H की माता है।
 - 3. G, K के पिता हैं।
 - 4. G, T का दामाद है।

Question ID : 26433068952

Status : Answered

Chosen Option : 3

Q.11 निम्न में से कौन सी संख्या दी गई श्रृंखला में प्रश्नचिह्न (?) के स्थान पर आएगी?
115, 102, 107, 94, 99, ?

- Ans 1. 86
 2. 96
 3. 84
 4. 92


Question ID : 26433076749
Status : Answered
Chosen Option : 1



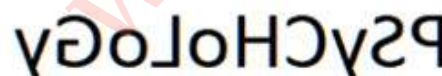
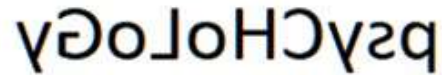
Q.12 उस विकल्प का चयन करें, जो पाँचवीं संख्या से उसी प्रकार संबंधित है, जिस प्रकार दूसरी संख्या, पहली संख्या से संबंधित है और चौथी संख्या, तीसरी संख्या से संबंधित है।
48 : 5 :: 30 : 3 :: 57 : ?

- Ans 1. 4
 2. 6
 3. 2
 4. 7

Question ID : 26433069418
Status : Answered
Chosen Option : 2

Q.13 दी गई आकृति के सही दर्पण प्रतिबिम्ब का चयन करें जब दर्पण को MN पर रखा जाए जैसा कि नीचे दर्शाया गया है।

PsyCHoLoGy 

- Ans 1. 
 2. 
 3. 
 4. 

Question ID : 26433085562
Status : Answered
Chosen Option : 2

Q.14 सात व्यक्ति A, B, C, D, E, F और G एक सीधी पंक्ति में उत्तर की ओर मुख करके बैठे हैं। A पंक्ति के ठीक मध्य में बैठा है। G और E पंक्ति के सिरो पर बैठे हैं। B, A के बाईं ओर ठीक बगल में बैठा है। F, G के दाईं ओर ठीक बगल में बैठा है। D, E के बाईं ओर ठीक बगल में बैठा है। C, E के बाईं ओर दूसरे स्थान पर बैठा है। G और B के बीच में कौन बैठा है?

- Ans
- 1. D
 - 2. F
 - 3. C
 - 4. A

Question ID : 26433074622
Status : Answered
Chosen Option : 2

Q.15 कौन-सा अक्षर-समूह दी गई श्रृंखला में प्रश्नचिह्न (?) के स्थान पर आकर श्रृंखला को पूर्ण करेगा?
CTUJ, EVWL, ?, IZAP, KBCR

- Ans
- 1. FXYO
 - 2. GXYN
 - 3. GXYO
 - 4. FXYN

Question ID : 26433067940
Status : Answered
Chosen Option : 2

Q.16 निम्नलिखित में से कौन-सी संख्या दी गई श्रृंखला में प्रश्न-चिह्न (?) के स्थान पर आएगी?
23, 27, 35, ?, 63, 83, 107

- Ans
- 1. 55
 - 2. 39
 - 3. 43
 - 4. 47

Question ID : 26433068090
Status : Answered
Chosen Option : 4

Q.17 उस विकल्प का चयन कीजिए जो तीसरे शब्द से उसी प्रकार संबंधित है जिस प्रकार दूसरा शब्द पहले शब्द से संबंधित है। (शब्दों को अर्थपूर्ण शब्दों के रूप में मानना है और उन्हें शब्द में अक्षरों/व्यंजनों/स्वरों की संख्या के आधार पर एक-दूसरे से संबंधित नहीं करना है।)
मेघालय : शिलांग :: केरल : ?

- Ans
- 1. बंगलुरु
 - 2. तिरुवनंतपुरम
 - 3. चेन्नई
 - 4. पणजी

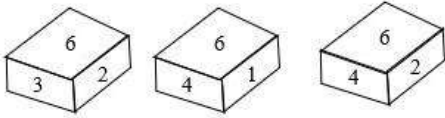
Question ID : 26433067371
Status : Answered
Chosen Option : 2

Q.18 निम्नलिखित में से कौन-सा पद दी गई श्रृंखला में प्रश्न-चिह्न (?) के स्थान पर आएगा?
MQEV, ?, QOIT, SNKS, UMMR

- Ans 1. OPHU
 2. PPHV
 3. NPGU
 4. OPGU

Question ID : 26433068308
Status : Answered
Chosen Option : 4

Q.19 एक ही पासे की तीन अलग-अलग स्थितियों को दर्शाया गया है। '6' दर्शाने वाले फलक के विपरीत फलक पर मौजूद संख्या ज्ञात कीजिए।



- Ans 1. 3
 2. 5
 3. 1
 4. 4

Question ID : 26433090066
Status : Answered
Chosen Option : 2

Q.20 एक निश्चित कूट भाषा में 'STATION' को 'UVYVGMP' लिखा जाता है और 'TRIUMPH' को 'VTGSORJ' लिखा जाता है। उसी भाषा में 'HOLIDAY' को किस प्रकार लिखा जाएगा?

- Ans 1. JMNGFCW
 2. JMNGFXW
 3. JMNGFYA
 4. JMNGBXW

Question ID : 26433081759
Status : Answered
Chosen Option : 3

Section : Part-B-General Knowledge and General awareness

Q.1 _____ के लिए रासायनिक सूत्र H_2SO_4 है।

- Ans 1. मुरिएटिक एसिड
 2. हरा विट्रिओल
 3. नीला विट्रिओल
 4. आयल ऑफ़ विट्रिओल

Question ID : 264330115165
Status : Answered
Chosen Option : 1

Q.2 बजट दस्तावेज कुल व्यय को _____ में वर्गीकृत करते हैं।

- Ans
- 1. माल और आय
 - 2. आंशिक और पूर्ण व्यय
 - 3. सेवाओं और गैर-माल सेवाओं
 - 4. योजनागत और गैर-योजनागत व्यय

Question ID : 264330115286

Status : Not Attempted and
Marked For Review

Chosen Option : --

Q.3 पोषण की उस प्रणाली में जिसमें जीव किसी मृत एवं विघटित जैविक पदार्थों से पोषक तत्व प्राप्त करते हैं उसे _____ पोषण प्रणाली कहा जाता है।

- Ans
- 1. विश्वपोशी
 - 2. स्वपोशी
 - 3. मृतजीवी
 - 4. एकलपोशी

Question ID : 264330115254

Status : Answered

Chosen Option : 3

Q.4 'मोहिनीअट्टम की जननी' _____ पर आधारित एक डोक्यु-फिक्शन है।

- Ans
- 1. शोभना नारायण
 - 2. कलामंडलम कल्याणिकुट्टी अम्मा
 - 3. महबूब सुभानी
 - 4. अनुराधा पाण्डेय

Question ID : 264330115878

Status : Answered

Chosen Option : 2

Q.5 निम्नलिखित में से किस राज्य में मकर संक्रांति को पेड्डा पांडुगा के रूप में मनाया जाता है?

- Ans
- 1. तमिलनाडु
 - 2. आंध्र प्रदेश
 - 3. केरल
 - 4. कर्नाटक

Question ID : 264330115106

Status : Answered

Chosen Option : 3

Q.6 दिए गए उद्योगों में, चूना पत्थर _____ का कच्चा माल है।

- Ans
- 1. प्लास्टिक उद्योग
 - 2. फर्नीचर उद्योग
 - 3. सीमेंट उद्योग
 - 4. इलेक्ट्रॉनिक उद्योग

Question ID : 264330115394
Status : Answered
Chosen Option : 3

Q.7 विषम का चयन करें। [संकेत: रेशेदार फसलें (fiber crops)]

- Ans
- 1. कपास
 - 2. रबड़
 - 3. जूट
 - 4. सन (हेम्प)

Question ID : 264330115533
Status : Answered
Chosen Option : 2

Q.8 भारतीय संविधान में 'राष्ट्रपति के चुनाव की विधि' को _____ संविधान से लिया गया है।

- Ans
- 1. जर्मन
 - 2. दक्षिण अफ्रीकी
 - 3. संयुक्त राज्य अमेरिका
 - 4. आयरिश

Question ID : 26433064813
Status : Answered
Chosen Option : 3

Q.9 भारत में, किस वर्ष में राष्ट्रीय काम के बदले भोजन कार्यक्रम (National Food for Work Programme) शुरू किया गया था?

- Ans
- 1. 2005
 - 2. 2004
 - 3. 2003
 - 4. 2000

Question ID : 264330116078
Status : Answered
Chosen Option : 1

Q.10 किस देश ने 2019 में एशियाई एथलेटिक्स चैंपियनशिप की मेजबानी की?

- Ans
- 1. जॉर्डन
 - 2. फिलीपींस
 - 3. कतर
 - 4. दक्षिण कोरिया

Question ID : 264330115925
Status : Answered
Chosen Option : 2

Q.11 भारत के संविधान का निम्नलिखित में से कौन सा अनुच्छेद, राज्य कार्यकारिणी से संबंधित है?

- Ans
- 1. अनुच्छेद 123-132
 - 2. अनुच्छेद 134-143
 - 3. अनुच्छेद 153-167
 - 4. अनुच्छेद 145-150

Question ID : 26433086852
Status : Not Attempted and
Marked For Review
Chosen Option : --

Q.12 मोहिनीअट्टम निम्नलिखित में से किस राज्य से संबंधित एक एकल शास्त्रीय नृत्य है?

- Ans
- 1. बिहार
 - 2. कर्नाटक
 - 3. उत्तर प्रदेश
 - 4. केरल

Question ID : 26433071658
Status : Answered
Chosen Option : 4

Q.13 भारत सरकार के किस केंद्रीय मंत्री ने मार्च में टेक कॉन्क्लेव 2022 का उद्घाटन किया?

- Ans
- 1. राजनाथ सिंह
 - 2. अश्विनी वैष्णव
 - 3. स्मृति ईरानी
 - 4. अमित शाह

Question ID : 264330114930
Status : Not Attempted and
Marked For Review
Chosen Option : --

Q.14 किस भारतीय मूल के सिख को बाढ़, झाड़ियों में लगी आग, सूखे और कोविड-19 से प्रभावित समुदाय का समर्थन करने के लिए न्यू साउथ वेल्स ऑस्ट्रेलियन ऑफ द ईयर अवार्ड 2023 दिया गया है?

- Ans
- 1. कमलजीत अरोड़ा
 - 2. जतिंदर सिंह
 - 3. अमर सिंह
 - 4. नवजीत कौर बराड़

Question ID : 264330114989
Status : Not Answered
Chosen Option : --

Q.15 निम्नलिखित में से कौन-सी खेड़ा के किसान आंदोलन की मुख्य मांग थी?

- Ans
- 1. निःशुल्क सिंचाई की सुविधा प्रदान की जाए
 - 2. राजस्व संग्रह में ढील दी जाए
 - 3. बागान प्रणाली को समाप्त किया जाए
 - 4. संकर बीज उपलब्ध कराए जाए

Question ID : 26433089883
Status : Answered
Chosen Option : 1

Q.16 क्रिकेट विश्व कप 1983 के फाइनल मैच में निम्नलिखित में से किस खिलाड़ी ने सर्वाधिक रन बनाए थे?

- Ans
- 1. सुनील गावस्कर
 - 2. कृष्णमाचारी श्रीकांत
 - 3. मोहिंदर अमरनाथ
 - 4. कपिल देव

Question ID : 264330116295
Status : Answered
Chosen Option : 2

Q.17 रेशम बनाने की तकनीक का आविष्कार सबसे पहले लगभग _____ वर्ष पहले चीन में हुआ था।

- Ans
- 1. 7000
 - 2. 30000
 - 3. 15000
 - 4. 20000

Question ID : 26433090573
Status : Not Answered
Chosen Option : --

Q.18 भारत के सर्वोच्च न्यायालय ने _____ में एक निर्णय पारित किया जिसमें उसने तीन तलाक की प्रथा को असंवैधानिक घोषित किया और एसा करना निरस्त किया।

Ans 1. 2017

2. 2014

3. 2013

4. 2018

Question ID : 264330116224
Status : Not Answered
Chosen Option : --

Q.19 स्वतंत्रता के समय भारत की लगभग _____ प्रतिशत जनसंख्या कृषि पर निर्भर थी।

Ans 1. 50

2. 100

3. 75

4. 90

Question ID : 264330116158
Status : Answered
Chosen Option : 3

Q.20 भारत में, अक्टूबर-नवंबर के दौरान, सूर्य के दक्षिण की ओर आभासी गति के कारण _____ उत्तरी मैदानों के ऊपर शिथिल हो जाता है।

Ans 1. मानसून गर्त (Monsoon trough)

2. ली गर्त (Lee trough)

3. व्युत्क्रमित गर्त (Inverted trough)

4. उच्चतल गर्त (Upper level trough)

Question ID : 264330115988
Status : Answered
Chosen Option : 4

Section : Part-C-Elementary Mathematics

Q.1 एक आदमी एक खिलौना कार ₹135 में खरीदता है और उसे ₹150 में बेचता है, उसका लाभ प्रतिशत ज्ञात कीजिए।

Ans 1. 11.11%

2. 11%

3. 10.10%

4. 10%

Question ID : 26433076173
Status : Answered
Chosen Option : 1

Q.2 Rs.1,875 की राशि 4% की वार्षिक दर से एक निश्चित समय में बढ़कर Rs.2,028 हो गई। यदि ब्याज वार्षिक रूप से चक्रवृद्धि है, तो समयावधि क्या होगी?

- Ans
- 1. 2 वर्ष
 - 2. 3 वर्ष
 - 3. 3.5 वर्ष
 - 4. 2.5 वर्ष

Question ID : 26433075677
Status : Answered
Chosen Option : 1

Q.3 एक वाशिंग मशीन का अंकित मूल्य Rs.23,500 है और दुकानदार ने इसे Rs.20,915 में बेचा। दुकानदार द्वारा दी जाने वाली छूट का प्रतिशत कितना है?

- Ans
- 1. 10%
 - 2. 9%
 - 3. 11%
 - 4. 12%

Question ID : 26433075189
Status : Answered
Chosen Option : 3

Q.4 32 और 40 का लघुत्तम समापवर्त्य X के वर्ग से 9 कम के बराबर है। X का धनात्मक मान ज्ञात करें।

- Ans
- 1. 14
 - 2. 12
 - 3. 11
 - 4. 13

Question ID : 264330116647
Status : Answered
Chosen Option : 4

Q.5 एक शहर की वर्तमान जनसंख्या 125000 है। यदि जनसंख्या 2% प्रति वर्ष की दर से बढ़ती है, तो 3 वर्ष बाद शहर की जनसंख्या क्या होगी?

- Ans
- 1. 132651
 - 2. 130896
 - 3. 133512
 - 4. 132165

Question ID : 26433080338
Status : Answered
Chosen Option : 1

Q.6 अमन, राम और कपिल एक कार्य को क्रमशः 68 दिन, 51 दिन और 17 दिन में पूरा कर सकते हैं। यदि वे बारी-बारी से एक एक दिन इस प्रकार कार्य करते हैं कि अमन पहले दिन कार्य करता है, राम दूसरे दिन कार्य करता है, कपिल तीसरे दिन कार्य करता है और फिर अमन चौथे दिन कार्य करता है और यह क्रम इसी प्रकार जारी रहता है, तो 50% कार्य होने में लगभग कितने दिन लगेंगे?

- Ans 1. 16 दिन
 2. 18 दिन
 3. 19 दिन
 4. 15 दिन

Question ID : 264330116908
Status : Answered
Chosen Option : 1

Q.7 अंकित मूल्य पर 10% की छूट देने पर एक विक्रेता 5% का लाभ अर्जित करता है। यदि अंकित मूल्य में 5% की वृद्धि की जाती है और प्रत्येक 5% की दो क्रमिक छूटें दी जाती हैं, तो विक्रेता को कितने प्रतिशत लाभ होता है?

- Ans 1. 11.5%
 2. 10%
 3. 10.5%
 4. 11%

Question ID : 26433085450
Status : Not Attempted and Marked For Review
Chosen Option : --

Q.8 एक डीलर अपने माल को 16% की हानि पर बेचने का दावा करता है, लेकिन वह एक kg वजन के स्थान पर 750 gm ही वजन करता है। उसका कुल लाभ प्रतिशत ज्ञात कीजिए।

- Ans 1. 15 प्रतिशत
 2. 11 प्रतिशत
 3. 12 प्रतिशत
 4. 14 प्रतिशत

Question ID : 26433080170
Status : Answered
Chosen Option : 3

Q.9 एक शंकु का वक्र पृष्ठीय क्षेत्रफल $4,455 \text{ cm}^2$ है और इसका व्यास 105 cm है। इसकी तिर्यक ऊंचाई ज्ञात करें। $\pi = \frac{22}{7}$ लें

- Ans 1. 25 cm
 2. 21 cm
 3. 23 cm
 4. 27 cm

Question ID : 26433076253
Status : Answered
Chosen Option : 4

Q.10 1000 m की एक रेखिक दौड़ में, सलोनी ने श्वेता को 100 m से हराया, जबकि श्वेता ने सोनम को 150 m से हराया। उसी दौड़ में सलोनी ने सोनम को कितने मीटर से हराया?

- Ans 1. 235 m
 2. 250 m
 3. 220 m
 4. 225 m

Question ID : 26433080378
Status : Answered
Chosen Option : 2

Q.11 एक दशक में एक कस्बे की जनसंख्या 145000 से बढ़कर 200000 हो गई। प्रति वर्ष जनसंख्या की साधारण वृद्धि दर प्रतिशत क्या होगी?

- Ans 1. 3.793 प्रतिशत
 2. 5.789 प्रतिशत
 3. 4.856 प्रतिशत
 4. 2.165 प्रतिशत

Question ID : 264330116828
Status : Answered
Chosen Option : 1

Q.12 एक लड़का घर से कॉलेज तक 35 km/h की चाल से जाता है और 3 km/h की चाल से वापस आता है। यदि पूरी यात्रा में 6 घंटे 30 मिनट लगते हैं, तो घर से कॉलेज की दूरी (दशमलव के बाद दो स्थानों तक सही) _____ है।

- Ans 1. 17.25 km
 2. 17.96 km
 3. 18.01 km
 4. 17.58 km

Question ID : 26433081594
Status : Answered
Chosen Option : 2

Q.13 37, 55 का कितना प्रतिशत है? (दशमलव के दो स्थानों तक सही)

- Ans 1. 69.41%
 2. 62.77%
 3. 64.91%
 4. 67.27%

Question ID : 26433080298
Status : Answered
Chosen Option : 4

Q.14 दो संख्याएँ 3 : 8 के अनुपात में हैं। यदि प्रत्येक संख्या में 8 जोड़ दिया जाए, तो अनुपात 1: 2 हो जाता है। यदि प्रत्येक संख्या में से 4 घटा दिया जाए, तो अनुपात क्या हो जाएगा?

- Ans
- 1. 8 : 3
 - 2. 2 : 7
 - 3. 3 : 8
 - 4. 7 : 2

Question ID : 26433087371
Status : Answered
Chosen Option : 2

Q.15 एक किसान के पास 10 तोते और 40 घोड़े हैं। प्रति जानवर पैरों की औसत संख्या ज्ञात करें।

- Ans
- 1. 3.2
 - 2. 3.6
 - 3. 3.8
 - 4. 3.4

Question ID : 264330116693
Status : Answered
Chosen Option : 2

Q.16 एक घंटे में, A सात कुर्सियों को पेंट कर सकता है, जबकि B एक घंटे में चार कुर्सियों को पेंट कर सकता है। निर्धारित कीजिए कि 55 कुर्सियों को एक साथ मिलकर पेंट करने पर उन्हें कितना समय लगेगा।

- Ans
- 1. 5 घंटे
 - 2. 7 घंटे
 - 3. 4 घंटे
 - 4. 6 घंटे

Question ID : 26433074311
Status : Answered
Chosen Option : 1

Q.17 एक बल्लेबाज 15वीं पारी में 97 रन बनाता है, जिससे उसके रनों का औसत 5 बढ़ जाता है। 15वीं पारी के बाद उसके रनों का औसत ज्ञात कीजिए।

- Ans
- 1. 92
 - 2. 27
 - 3. 15
 - 4. 82

Question ID : 26433082642
Status : Not Answered
Chosen Option : --

Q.18 0.64 और 0.81 के बीच का मध्यानुपाती ज्ञात करें।

Ans 1. 0.72

2. 0.70

3. 0.68

4. 0.66

Question ID : 26433080113

Status : Answered

Chosen Option : 1

Q.19 चार अभाज्य संख्याएँ आरोही क्रम में व्यवस्थित हैं। प्रथम तीन संख्याओं का गुणनफल 255 और अंतिम तीन संख्याओं का गुणनफल 1955 है। सबसे बड़ी अभाज्य संख्या _____ है।

Ans 1. 29

2. 17

3. 23

4. 31

Question ID : 26433081471

Status : Answered

Chosen Option : 2

Q.20 ऊंचाई 20 सेमी और आधार त्रिज्या 14 सेमी वाले बेलन के आयतन (सेमी³ में) की गणना कीजिए।

Ans 1. 13,230 सेमी³

2. 12,200 सेमी³

3. 12,320 सेमी³

4. 13,300 सेमी³

Question ID : 26433075821

Status : Answered

Chosen Option : 3

Section : Part-D-English

Q.1 The sentence given below has one misspelt word. Spot the INCORRECTLY spelt word and select its correct spelling.

He wishes to be an orthopidic surgeon.

Ans 1. Orthopadic

2. Ortopeedic

3. Orthopaedic

4. Orthapedic

Question ID : 26433073557

Status : Not Answered

Chosen Option : --

Q.2 Select the most appropriate synonym for the underlined word in the given sentence.

The pearls produced in that oyster farm have lost all their lustre.

- Ans
- 1. shine
 - 2. gloom
 - 3. front
 - 4. lustful

Question ID : 26433073753
Status : Not Answered
Chosen Option : --

Q.3 Select the most appropriate synonym of the word given in brackets to fill in the blank.

Jack met with a/an _____ (deadly) accident.

- Ans
- 1. deaden
 - 2. vital
 - 3. explicit
 - 4. fatal

Question ID : 26433089076
Status : Not Answered
Chosen Option : --

Q.4 Select the most appropriate option to fill in the blank.

The Conjuring is not a movie for the _____ of heart.

- Ans
- 1. paint
 - 2. emotional
 - 3. strong
 - 4. faint

Question ID : 26433084604
Status : Not Answered
Chosen Option : --

Q.5 Select the INCORRECTLY spelt word.

- Ans
- 1. Task
 - 2. Spead
 - 3. Salt
 - 4. Brand

Question ID : 26433073495
Status : Not Answered
Chosen Option : --

Q.6 Select the most appropriate option that can substitute the underlined segment in the given sentence.

I was delight in the moment I saw her.

- Ans
- 1. was delighting
 - 2. was delighted
 - 3. had delightful
 - 4. delighted at

Question ID : 26433088167
Status : Not Answered
Chosen Option : --

Q.7 Select the most appropriate ANTONYM of the given word.

Solitary

- Ans
- 1. Loan
 - 2. Gregarious
 - 3. Indifferent
 - 4. Lone

Question ID : 26433073867
Status : Not Answered
Chosen Option : --

Q.8 Select the most appropriate ANTONYM of the given word.

Captivity

- Ans
- 1. Persistent
 - 2. Liberty
 - 3. Accused
 - 4. Haemorrhage

Question ID : 26433089114
Status : Not Answered
Chosen Option : --

Q.9 Select the most appropriate homonym to fill in the blank.

What _____ of a movie is this?

- Ans
- 1. kind
 - 2. con
 - 3. keen
 - 4. can

Question ID : 26433088791
Status : Not Answered
Chosen Option : --

Q.10 The following sentence has been split into four segments. Identify the segment that contains a grammatical error.

My aunt Geeta, / is knowing / my friend Rudransh / very well.

- Ans
- 1. is knowing
 - 2. My aunt Geeta
 - 3. very well
 - 4. my friend Rudransh

Question ID : 26433086457
Status : Not Answered
Chosen Option : --

Q.11 Select the most appropriate synonym of the underlined word in the given sentence.

The country has an abundant supply of minerals.

- Ans
- 1. Ample
 - 2. Natural
 - 3. Sparse
 - 4. Artificial

Question ID : 26433072061
Status : Not Answered
Chosen Option : --

Q.12 Select the most appropriate meaning of the given idiom.

The whys and wherefores

- Ans
- 1. Underlying reason
 - 2. Summary
 - 3. Interrogation
 - 4. Minute observation

Question ID : 26433072433
Status : Not Answered
Chosen Option : --

Q.13 Select the most appropriate option to fill in the blank.

The person in ragged clothes sleeping on the street is a _____ man.

- Ans
- 1. learned
 - 2. wealthy
 - 3. cunning
 - 4. homeless

Question ID : 26433085600
Status : Not Answered
Chosen Option : --

Q.14 Select the most appropriate ANTONYM of the given word.

Acceptance

- Ans 1. Allocation
 2. Stoppage
 3. Rejection
 4. Trouble

Question ID : 26433073797

Status : Not Answered

Chosen Option : --

Q.15 Select the most appropriate option that can substitute the underlined segment in the given sentence.

As of now, they have finished the construction of the ground floor.

- Ans 1. construction of the ground flounder
 2. construction of the ground flower
 3. construction of the ground floor
 4. construction of the ground flavor

Question ID : 264330100991

Status : Not Answered

Chosen Option : --

Comprehension:

In the following passage, some words have been deleted. Read the passage carefully and select the most appropriate option to fill in each blank.

The blockade of the national highways leading to the Manipur valley, called by the United Naga Council (UNC), has been in place since 1 November. This has severely affected life in the State, with shortages and (1)_____ costs of essential supplies such as fuel and food, even as demonetisation has (2)_____ problems. Blockades like this are not new to Manipur. In 2011, there was initially a hundred-day- plus blockade enforced by Kuki-led groups, and countered later by Naga groups, which together had a (3)_____ effect on life in Manipur. This time the blockade is in place to oppose the creation of new districts by the Okram Ibobi Singh government. On 9 December it issued a (4) _____ notification for the creation of seven new districts by bifurcating seven (of a total of nine) districts. This decision had as much to do with long-pending demands — in particular, for a new Kuki-majority district to be carved out of the larger Senapati hill district — as with easing administrative access to (5)_____ areas from the district headquarters.

SubQuestion No : 16

Q.16 Select the most appropriate option to fill in blank number 1.

- Ans 1. varying
 2. escalating
 3. diminishing
 4. upfront

Question ID : 26433088621

Status : Not Answered

Chosen Option : --

Comprehension:

In the following passage, some words have been deleted. Read the passage carefully and select the most appropriate option to fill in each blank.

The blockade of the national highways leading to the Manipur valley, called by the United Naga Council (UNC), has been in place since 1 November. This has severely affected life in the State, with shortages and (1)_____ costs of essential supplies such as fuel and food, even as demonetisation has (2)_____ problems. Blockades like this are not new to Manipur. In 2011, there was initially a hundred-day- plus blockade enforced by Kuki-led groups, and countered later by Naga groups, which together had a (3)_____ effect on life in Manipur. This time the blockade is in place to oppose the creation of new districts by the Okram Ibobi Singh government. On 9 December it issued a (4) _____ notification for the creation of seven new districts by bifurcating seven (of a total of nine) districts. This decision had as much to do with long-pending demands — in particular, for a new Kuki-majority district to be carved out of the larger Senapati hill district — as with easing administrative access to (5)_____ areas from the district headquarters.

SubQuestion No : 17

Q.17 Select the most appropriate option to fill in blank number 2.

- Ans 1. exacerbated
 2. exceed
 3. pacified
 4. vindicated

Question ID : 26433088622

Status : Not Answered

Chosen Option : --

Comprehension:

In the following passage, some words have been deleted. Read the passage carefully and select the most appropriate option to fill in each blank.

The blockade of the national highways leading to the Manipur valley, called by the United Naga Council (UNC), has been in place since 1 November. This has severely affected life in the State, with shortages and (1)_____ costs of essential supplies such as fuel and food, even as demonetisation has (2)_____ problems. Blockades like this are not new to Manipur. In 2011, there was initially a hundred-day- plus blockade enforced by Kuki-led groups, and countered later by Naga groups, which together had a (3)_____ effect on life in Manipur. This time the blockade is in place to oppose the creation of new districts by the Okram Ibobi Singh government. On 9 December it issued a (4) _____ notification for the creation of seven new districts by bifurcating seven (of a total of nine) districts. This decision had as much to do with long-pending demands — in particular, for a new Kuki-majority district to be carved out of the larger Senapati hill district — as with easing administrative access to (5)_____ areas from the district headquarters.

SubQuestion No : 18

Q.18 Select the most appropriate option to fill in blank number 3.

- Ans 1. counter
 2. debilitating
 3. befitting
 4. acting

Question ID : 26433088623

Status : Not Answered

Chosen Option : --

Comprehension:

In the following passage, some words have been deleted. Read the passage carefully and select the most appropriate option to fill in each blank.

The blockade of the national highways leading to the Manipur valley, called by the United Naga Council (UNC), has been in place since 1 November. This has severely affected life in the State, with shortages and (1)_____ costs of essential supplies such as fuel and food, even as demonetisation has (2)_____ problems. Blockades like this are not new to Manipur. In 2011, there was initially a hundred-day- plus blockade enforced by Kuki-led groups, and countered later by Naga groups, which together had a (3)_____ effect on life in Manipur. This time the blockade is in place to oppose the creation of new districts by the Okram Ibobi Singh government. On 9 December it issued a (4) _____ notification for the creation of seven new districts by bifurcating seven (of a total of nine) districts. This decision had as much to do with long-pending demands — in particular, for a new Kuki-majority district to be carved out of the larger Senapati hill district — as with easing administrative access to (5)_____ areas from the district headquarters.

SubQuestion No : 19

Q.19 Select the most appropriate option to fill in blank number 4.

- Ans
- 1. lively
 - 2. live
 - 3. gazette
 - 4. detail

Question ID : 26433088624

Status : Not Answered

Chosen Option : --

Comprehension:

In the following passage, some words have been deleted. Read the passage carefully and select the most appropriate option to fill in each blank.

The blockade of the national highways leading to the Manipur valley, called by the United Naga Council (UNC), has been in place since 1 November. This has severely affected life in the State, with shortages and (1)_____ costs of essential supplies such as fuel and food, even as demonetisation has (2)_____ problems. Blockades like this are not new to Manipur. In 2011, there was initially a hundred-day- plus blockade enforced by Kuki-led groups, and countered later by Naga groups, which together had a (3)_____ effect on life in Manipur. This time the blockade is in place to oppose the creation of new districts by the Okram Ibobi Singh government. On 9 December it issued a (4) _____ notification for the creation of seven new districts by bifurcating seven (of a total of nine) districts. This decision had as much to do with long-pending demands — in particular, for a new Kuki-majority district to be carved out of the larger Senapati hill district — as with easing administrative access to (5)_____ areas from the district headquarters.

SubQuestion No : 20

Q.20 Select the most appropriate option to fill in blank number 5.

- Ans
- 1. outskirts
 - 2. offshore
 - 3. secluded
 - 4. far-flung

Question ID : 26433088625

Status : Not Answered

Chosen Option : --

Q.1 'अनुसंधान _____'
उपर्युक्त वाक्य में रिक्त स्थान के लिए उपयुक्त वाक्यांश का चयन विकल्पों में से कीजिए।

- Ans
- 1. द्वारा खोज का अर्थ होता है।
 - 2. खोज का अनर्थ होता है।
 - 3. का अर्थ खोज होता है।
 - 4. की अर्थ में खोज होता है।

Question ID : 26433067035
Status : Answered
Chosen Option : 3

Q.2 निम्नलिखित मुहावरे के लिए उपयुक्त सार्थक शब्द है-
जी अच्छा होना

- Ans
- 1. तबियत ठीक होना
 - 2. बहाना करना
 - 3. रंग विरंगी
 - 4. हिम्मत करना

Question ID : 26433065770
Status : Answered
Chosen Option : 1

Q.3 दिए गए विकल्पों में से कौन सा शब्द निम्नलिखित वाक्य में रेखांकित शब्द का पर्यायवाची नहीं है?

रासबिहारी बोस दिल्ली 'षड्यन्त्र' के मुख्य अभियुक्त थे।

- Ans
- 1. कुचक्र
 - 2. साजिश
 - 3. साजिद
 - 4. दुरभिसंधि

Question ID : 26433091340
Status : Answered
Chosen Option : 3

Q.4 वाक्यांश और उसके लिए एक शब्द का निम्न में से कौन सा युग्म अशुद्ध है?

- Ans
- 1. लाभ पाने की इच्छा-लिप्सा
 - 2. जो किसी से जीता न जा सके-अजेय
 - 3. नाप तौलकर खर्च करने वाला-मितभाषी
 - 4. सात दिन का समूह-सप्ताह

Question ID : 264330109529
Status : Answered
Chosen Option : 3

Q.5 रिक्त स्थान की पूर्ति उचित कारक चिन्ह से करें-

श्याम मीरा _____ खिलौने लाया।

- Ans
- 1. ने
 - 2. का
 - 3. में
 - 4. के लिए

Question ID : 26433085031
Status : Answered
Chosen Option : 4

Q.6 निम्नलिखित वाक्य में रेखांकित खंड के स्थान पर प्रयुक्त होने वाले सबसे उपयुक्त विकल्प का चयन कीजिए-

वह अतिथि सेवा के तत्पर लिए है।

- Ans
- 1. के लिए है तत्पर
 - 2. तत्पर के लिए है
 - 3. तत्पर है के लिए
 - 4. के लिए तत्पर है

Question ID : 26433070051
Status : Answered
Chosen Option : 4

Q.7 भगवान द्विवाकर जीवनदायी हैं।

रेखांकित शब्द के उचित पर्यायवाची शब्द का चयन कीजिए।

- Ans
- 1. शशि
 - 2. अब्ज
 - 3. नयन
 - 4. सूर्य

Question ID : 26433079620
Status : Answered
Chosen Option : 4

Q.8 निम्नलिखित वाक्य में त्रुटि पहचानें-
मैंने हाथ जोड़ दिया।

- Ans
- 1. दीया
 - 2. मैंने
 - 3. हाथ
 - 4. जोड़

Question ID : 26433066821
Status : Answered
Chosen Option : 1

Q.9 निम्नलिखित में से शुद्ध वाक्य है-

- Ans
- 1. बहुत लोग ईक साथ दौड़ पड़े।
 - 2. बहुत लोग एक साथ दौठ पड़े।
 - 3. बहुत लोग एक साथ दौड़ पड़े।
 - 4. बहुत लोग एक सथ दौड़ पड़े।

Question ID : 26433066842
Status : Answered
Chosen Option : 3

Q.10 रेखांकित शब्द-समूह के लिए सर्वाधिक उपयुक्त विकल्प चुनें।
आकाश में इतने तारे हैं कि गिने न जा सकें।

- Ans
- 1. गणनीय
 - 2. असंख्य
 - 3. अनगिनत
 - 4. गिनती के

Question ID : 26433062281
Status : Answered
Chosen Option : 3

Q.11 अरे ! साँप कहाँ गया ?

इस वाक्य में प्रयुक्त क्रिया विशेषण 'कहाँ' किस प्रकार का क्रियाविशेषण है ?

- Ans
- 1. यौगिक क्रिया विशेषण
 - 2. मूल क्रिया विशेषण
 - 3. अनुबद्ध क्रिया विशेषण
 - 4. साधारण क्रिया विशेषण

Question ID : 26433079231
Status : Answered
Chosen Option : 2

Q.12 रितेश को जब कक्षा में प्रथम आने का समाचार मिला, तो उसकी _____ खिल गई।
रिक्त स्थान की पूर्ति उचित शब्द द्वारा कीजिए।

- Ans
- 1. बाँछें
 - 2. आँखे
 - 3. चेहरा
 - 4. मुस्कान

Question ID : 26433062618
Status : Answered
Chosen Option : 4

Q.13 मैंने विद्यालय के प्रधानाचार्य से प्रार्थना की कि मुझे छात्रवृत्ति प्रदान करें।
उपरोक्त वाक्य में प्रयुक्त 'प्रार्थना' शब्द का सही अर्थ है -

- Ans
- 1. विनय पूर्वक विनती करना
 - 2. तर्क से अपनी बात रखना
 - 3. अपनी बात मनवाने के लिए कहना
 - 4. आग्रह पूर्वक विनती करना

Question ID : 26433080914
Status : Answered
Chosen Option : 4

Q.14 निम्न वाक्य में अनुपयुक्त शब्द-प्रयोग सम्बन्धी अशुद्धि दूर करने के लिए, रेखांकित भाग को उचित विकल्प चुनकर प्रतिस्थापित करें-
'हिन्दी-साहित्य में आचार्य रामचंद्र शुक्ल एक बड़े व्याख्याता माने जाते हैं।'

- Ans
- 1. एक अच्छे वर्चक
 - 2. एक उत्कृष्ट विश्लेषक
 - 3. एक बड़े साहित्यक
 - 4. बड़े अच्छे वक्ता

Question ID : 26433062805
Status : Answered
Chosen Option : 3

Q.15 निम्न में से कौन सा 'जल' शब्द का पर्यायवाची है?

- Ans
- 1. अंबुधि
 - 2. नीरज
 - 3. वारिज
 - 4. नीर

Question ID : 26433092014
Status : Answered
Chosen Option : 4

Comprehension:

निम्नलिखित गद्यांश में कुछ शब्दों को हटा दिया गया है। दिए गए विकल्पों की सहायता से रिक्त स्थानों की पूर्ति कीजिए। प्रत्येक संख्या के लिए सबसे उपयुक्त विकल्प का चयन करें।

आत्मनिर्भरता से तात्पर्य है- अपने ऊपर 1. _____ रहना। जब मनुष्य अपने कार्य 2. _____ करता है तो आत्मनिर्भर कहलाता है। बहुत से कार्य वह दूसरों के 3. _____ करता है। आत्मनिर्भरता का अर्थ यह है कि जब किसी कार्य को करने का मन करे, उसके लिए पूर्ण 4. _____ और लगन का परिचय दे। स्वयं अपने सहारे उसे सिद्ध करने का 5. _____ करें।

SubQuestion No : 16

Q.16 रिक्त स्थान 1 की पूर्ति के लिए सबसे उपयुक्त विकल्प का चयन कीजिए।

- Ans
- 1. दूभर
 - 2. सहारा
 - 3. निर्भर
 - 4. प्रवृत्ति

Question ID : 264330111077

Status : Answered

Chosen Option : 3

Comprehension:

निम्नलिखित गद्यांश में कुछ शब्दों को हटा दिया गया है। दिए गए विकल्पों की सहायता से रिक्त स्थानों की पूर्ति कीजिए। प्रत्येक संख्या के लिए सबसे उपयुक्त विकल्प का चयन करें।

आत्मनिर्भरता से तात्पर्य है- अपने ऊपर 1. _____ रहना। जब मनुष्य अपने कार्य 2. _____ करता है तो आत्मनिर्भर कहलाता है। बहुत से कार्य वह दूसरों के 3. _____ करता है। आत्मनिर्भरता का अर्थ यह है कि जब किसी कार्य को करने का मन करे, उसके लिए पूर्ण 4. _____ और लगन का परिचय दे। स्वयं अपने सहारे उसे सिद्ध करने का 5. _____ करें।

SubQuestion No : 17

Q.17 रिक्त स्थान 2 की पूर्ति के लिए सबसे उपयुक्त विकल्प का चयन कीजिए।

- Ans
- 1. स्वयं
 - 2. नहीं
 - 3. श्रेष्ठ
 - 4. कल

Question ID : 264330111078

Status : Answered

Chosen Option : 1

Comprehension:

निम्नलिखित गद्यांश में कुछ शब्दों को हटा दिया गया है। दिए गए विकल्पों की सहायता से रिक्त स्थानों की पूर्ति कीजिए। प्रत्येक संख्या के लिए सबसे उपयुक्त विकल्प का चयन करें।

आत्मनिर्भरता से तात्पर्य है- अपने ऊपर 1. _____ रहना। जब मनुष्य अपने कार्य 2. _____ करता है तो आत्मनिर्भर कहलाता है। बहुत से कार्य वह दूसरों के 3. _____ करता है। आत्मनिर्भरता का अर्थ यह है कि जब किसी कार्य को करने का मन करे, उसके लिए पूर्ण 4. _____ और लगन का परिचय दे। स्वयं अपने सहारे उसे सिद्ध करने का 5. _____ करें।

SubQuestion No : 18

Q.18 रिक्त स्थान 3 की पूर्ति के लिए सबसे उपयुक्त विकल्प का चयन कीजिए।

Ans 1. सहारे

2. प्रकार

3. लक्ष्य

4. स्थिति

Question ID : 264330111079

Status : Not Answered

Chosen Option : --

Comprehension:

निम्नलिखित गद्यांश में कुछ शब्दों को हटा दिया गया है। दिए गए विकल्पों की सहायता से रिक्त स्थानों की पूर्ति कीजिए। प्रत्येक संख्या के लिए सबसे उपयुक्त विकल्प का चयन करें।

आत्मनिर्भरता से तात्पर्य है- अपने ऊपर 1. _____ रहना। जब मनुष्य अपने कार्य 2. _____ करता है तो आत्मनिर्भर कहलाता है। बहुत से कार्य वह दूसरों के 3. _____ करता है। आत्मनिर्भरता का अर्थ यह है कि जब किसी कार्य को करने का मन करे, उसके लिए पूर्ण 4. _____ और लगन का परिचय दे। स्वयं अपने सहारे उसे सिद्ध करने का 5. _____ करें।

SubQuestion No : 19

Q.19 रिक्त स्थान 4 की पूर्ति के लिए सबसे उपयुक्त विकल्प का चयन कीजिए।

Ans 1. तत्परता

2. विफलता

3. अकर्मण्यता

4. सहायता

Question ID : 264330111080

Status : Not Answered

Chosen Option : --

Comprehension:

निम्नलिखित गद्यांश में कुछ शब्दों को हटा दिया गया है। दिए गए विकल्पों की सहायता से रिक्त स्थानों की पूर्ति कीजिए। प्रत्येक संख्या के लिए सबसे उपयुक्त विकल्प का चयन करें।

आत्मनिर्भरता से तात्पर्य है- अपने ऊपर 1. _____ रहना। जब मनुष्य अपने कार्य 2. _____ करता है तो आत्मनिर्भर कहलाता है। बहुत से कार्य वह दूसरों के 3. _____ करता है। आत्मनिर्भरता का अर्थ यह है कि जब किसी कार्य को करने का मन करे, उसके लिए पूर्ण 4. _____ और लगन का परिचय दे। स्वयं अपने सहारे उसे सिद्ध करने का 5. _____ करें।

SubQuestion No : 20

Q.20 रिक्त स्थान 5 की पूर्ति के लिए सबसे उपयुक्त विकल्प का चयन कीजिए।

- Ans
- 1. पाठ
 - 2. प्रयास
 - 3. ध्यान
 - 4. विकास

Question ID : 264330111081

Status : Not Answered

Chosen Option : --

WWW.GOV TJOB SALE .IN