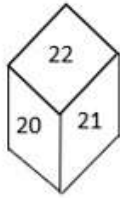
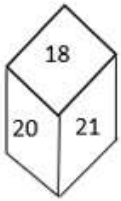


Constable GD in CAPFs SSF Rifleman GD in Assam Rifles and Sepoy in NCB Examination 2022

Roll Number	www.govtjobsalert.in
Candidate Name	www.govtjobsalert.in
Venue Name	iON Digital Zone iDZ Sector-9B Vrindawan Colony
Exam Date	24/01/2023
Exam Time	2:30 PM - 3:30 PM
Subject	Constable GD Examination 2022

Section : Part-A-General Intelligence and Reasoning

Q.1 एक ही पासे की दो अलग-अलग स्थितियों को दिखाया गया है। '18' दर्शाने वाले फलक के विपरीत फलक पर संख्या ज्ञात कीजिए।



- Ans
- 1. 20
 - 2. 22
 - 3. 19
 - 4. 24

Question ID : 26433089509

Status : Answered

Chosen Option : 2

Q.2 यदि चिह्न '+' और '-' तथा संख्या 14 और 6 का एक-दूसरे के स्थान पर उपयोग किया जाता है, तो निम्नलिखित में से कौन सा समीकरण सही होगा?

- Ans
- 1. $6 + 14 \times 2 - 18 = 20$
 - 2. $8 \times 2 + 6 - 14 = 4$
 - 3. $18 - 6 + 3 \times 14 = 30$
 - 4. $6 \times 8 + 12 - 14 = 20$

Question ID : 264330117487

Status : Answered

Chosen Option : 1

Q.3 कौन-सा अक्षर-समूह दी गई श्रृंखला में प्रश्नचिह्न (?) के स्थान पर आकर श्रृंखला को पूर्ण करेगा?
YWUS, RPNL, ?, DBZX, WUSQ

- Ans 1. KIGE
 2. KJGE
 3. KJHF
 4. KIHE

Question ID : 26433067723

Status : Answered

Chosen Option : 1

Q.4 दी गई आकृति की सही दर्पण-प्रतिबिंब का चयन करें, जब दर्पण को M N पर रखा जाता है, जैसा कि नीचे दिखाया गया है।



- Ans 1. h N g 2 S 2 D
 2. n N 6 2 S 2 D
 3. n N 6 2 2 D
 4. n N 6 2 S 2 D

Question ID : 26433090149

Status : Answered

Chosen Option : 4

Q.5 दिए गए समीकरण को संतुलित करने के लिए विकल्पों में दी गई किन दो संख्याओं को परस्पर बदलना होगा?

$$95 \div 19 \times 112 \div (4 \times 4 + 3) + 5 = 24$$

- Ans 1. 112 और 24
 2. 112 और 95
 3. 4 और 5
 4. 4 और 3

Question ID : 26433082485

Status : Answered

Chosen Option : 3

Q.6 एक निश्चित कूट भाषा में, 'GATE' को 'TZGV' के रूप में लिखा जाता है और 'PASS' को 'KZHH' के रूप में लिखा जाता है। उसी भाषा में 'HOME' को कैसे लिखा जाएगा?

- Ans
- 1. SNVL
 - 2. SLNV
 - 3. SNLV
 - 4. VNLS

Question ID : 26433070329

Status : Answered

Chosen Option : 2

Q.7 उस विकल्प का चयन कीजिए जो तीसरे शब्द से उसी प्रकार संबंधित है जिस प्रकार दूसरा शब्द पहले शब्द से संबंधित है। (शब्दों को अर्थपूर्ण शब्दों के रूप में मानना है और उन्हें शब्द में अक्षरों/व्यंजनों/स्वरों की संख्या के आधार पर एक-दूसरे से संबंधित नहीं करना है।)
ऊन : स्वेटर :: लैटेक्स : ?

- Ans
- 1. आभूषण
 - 2. रबड़
 - 3. मोम
 - 4. धातु

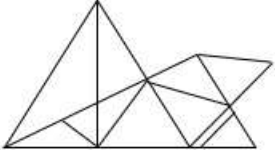
Question ID : 26433069576

Status : Answered

Chosen Option : 3

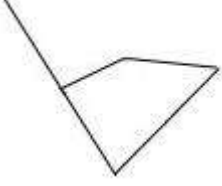
www.govtjobalert.in

Q.8 वह विकल्प चित्र चुनिए, जो प्रस्तुत चित्र में अंतर्निहित है। (घुमाना अनुमन्य नहीं है)



Ans

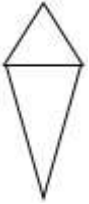
✓ 1.



✗ 2.



✗ 3.



✗ 4.



Question ID : 26433069329

Status : Answered

Chosen Option : 1

Q.9 सात लड़कियां रीता, सीता, गीता, मीता, अनीता, बिनीता और सुनीता एक वृत्ताकार मेज के परितः मेज के केंद्र की ओर मुख करके बैठी हुई हैं। रीता और गीता एक-दूसरे के ठीक बगल में नहीं बैठी हैं। सुनीता, बिनीता और मीता के बीच में बैठी है। मीता, रीता के बाईं ओर ठीक बगल में बैठी है। सीता, अनीता और गीता के बीच में बैठी है। अनीता के बाईं ओर ठीक बगल में कौन बैठा है?

Ans ✗ 1. सुनीता

✗ 2. सीता

✓ 3. रीता

✗ 4. बिनीता

Question ID : 264330114204

Status : Answered

Chosen Option : 3

Q.10 किस विकल्प में निम्नलिखित शब्दों का वह क्रम दिया गया है, जिस क्रम में वे अंग्रेजी शब्दकोश में आते हैं।
1 grape
2 grown
3 grass
4 gross
5 grind

- Ans
- 1. 1,5,4,3,2
 - 2. 1,3,5,2,4
 - 3. 1,3,5,4,2
 - 4. 1,4,3,5,2

Question ID : 26433069295

Status : Answered

Chosen Option : 3

Q.11 उस विकल्प का चयन कीजिए जो तीसरे शब्द से उसी प्रकार संबंधित है जिस प्रकार दूसरा शब्द पहले शब्द से संबंधित है। (शब्दों को अर्थपूर्ण शब्दों के रूप में मानना है और उन्हें शब्द में अक्षरों/व्यंजनों/स्वरों की संख्या के आधार पर एक-दूसरे से संबंधित नहीं करना है।)
दूरबीन : देखना :: स्पैनर (पाना) : ?

- Ans
- 1. बढ़ाना
 - 2. जकड़ना
 - 3. खोदना
 - 4. खिलाना

Question ID : 26433068055

Status : Answered

Chosen Option : 3

Q.12 तीन कथन दिए गए हैं, जिनके बाद तीन निष्कर्ष I, II और III दिए गए हैं। कथनों को सत्य मानते हुए, भले ही वे सामान्य रूप से ज्ञात तथ्यों से भिन्न प्रतीत होते हों, निर्धारित करें कि कौन-सा/से निष्कर्ष कथनों का तार्किक रूप से अनुसरण करता है/करते हैं।

कथन:

कुछ फलियां आलू हैं।

सभी गाजर आलू हैं।

सभी लौकी आलू हैं।

निष्कर्ष:

I. कुछ लौकी फलियां हैं।

II. कुछ गाजर लौकी हैं।

III. कुछ आलू लौकी हैं।

- Ans
- 1. केवल निष्कर्ष III अनुसरण करता है
 - 2. केवल निष्कर्ष I और III अनुसरण करते हैं
 - 3. सभी निष्कर्ष अनुसरण करते हैं
 - 4. केवल निष्कर्ष II और III अनुसरण करते हैं

Question ID : 26433091001

Status : Answered

Chosen Option : 1

Q.13 निम्न में से कौन सी संख्या दी गई श्रृंखला में प्रश्नचिह्न (?) के स्थान पर आएगी?
109, 122, 148, ?, 239, 304

- Ans
- 1. 189
 - 2. 179
 - 3. 198
 - 4. 187

Question ID : 26433076745
Status : Answered
Chosen Option : 4

Q.14 निम्न श्रेणी में प्रश्न-चिह्न (?) के स्थान पर कौन सी संख्या आएगी?
2, 10, 30, ?, 130

- Ans
- 1. 64
 - 2. 50
 - 3. 100
 - 4. 68

Question ID : 26433067836
Status : Answered
Chosen Option : 4

Q.15 'A + B' का अर्थ है 'B, A की माँ है'
'A # B' का अर्थ है 'B, A की बहन है'
'A @ B' का अर्थ है 'B, A का भाई है'
'A % B' का अर्थ है 'B, A की पुत्री है'
यदि A # B @ C % D + E है, तो E, A से किस प्रकार संबंधित है?

- Ans
- 1. भतीजी
 - 2. पत्नी
 - 3. भाभी
 - 4. बहन

Question ID : 26433068527
Status : Answered
Chosen Option : 3

Q.16 कौन-सा अक्षर-समूह दी गई श्रृंखला में प्रश्नचिह्न (?) के स्थान पर आकर श्रृंखला को पूर्ण करेगा?
MRFL, RYKS, ?, BMUG, GTZN

- Ans
- 1. WFPZ
 - 2. TFQY
 - 3. SEPY
 - 4. TDOX

Question ID : 26433068034
Status : Answered
Chosen Option : 1

Q.17 एक निश्चित कूट भाषा में 'MOBILE' को '18' और 'TELEVISION' को 30 के रूप में कूटबद्ध किया जाता है। उस भाषा में 'COMPUTER' को कैसे कूटबद्ध किया जाएगा?

- Ans
- 1. 20
 - 2. 22
 - 3. 24
 - 4. 23

Question ID : 26433080470

Status : Answered

Chosen Option : 3

Q.18 सात व्यक्ति P, Q, R, S, T, U और V एक दूसरे के बगल में एक सीधी पंक्ति में उत्तर की ओर मुख करके बैठे हैं (किंतु उनका इसकी क्रम में होना अनिवार्य नहीं है)। R, U के दाईं ओर ठीक बगल में बैठा है। U, P के दाईं ओर तीसरे स्थान पर बैठा है। P और T के बीच केवल चार व्यक्ति बैठे हैं। Q, V और U के ठीक बगल में बैठा है। S के ठीक बगल में कौन बैठ सकता है?

- Ans
- 1. R
 - 2. Q
 - 3. U
 - 4. T

Question ID : 26433080704

Status : Answered

Chosen Option : 4

Q.19 उस विकल्प का चयन करें, जो चौथे पद से उसी प्रकार संबंधित है, जिस प्रकार पहला पद दूसरे पद से संबंधित है और पाँचवाँ पद छठे पद से संबंधित है।
80 : 17 :: ? : 13 :: 185 : 38

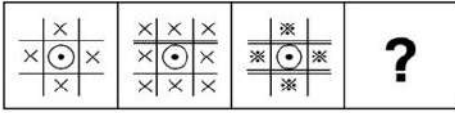
- Ans
- 1. 85
 - 2. 60
 - 3. 65
 - 4. 70

Question ID : 26433074552

Status : Answered

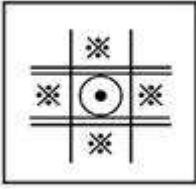
Chosen Option : 2

Q.20 उस आकृति का चयन कीजिए जो नीचे दी गई आकृति श्रृंखला में प्रश्नवाचक चिह्न (?) के स्थान पर आएगी।

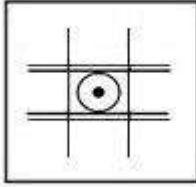


Ans

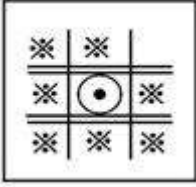
✗ 1.



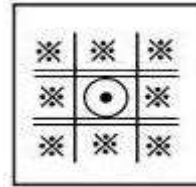
✗ 2.



✗ 3.



✓ 4.



Question ID : 26433078862

Status : Answered

Chosen Option : 4

Section : Part-B-General Knowledge and General awareness

Q.1 मार्च 2022 में, उत्तराखंड विधानसभा की पहली महिला स्पीकर के रूप में किसे निर्वाचित किया गया?

Ans ✗ 1. अभिलाषा बराक

✓ 2. रितु खंडूरी

✗ 3. शांतिश्री पंडित

✗ 4. माधवी पुरी बुच

Question ID : 264330114977

Status : Answered

Chosen Option : 1

Q.2 आर्यभट्ट अंतरिक्ष में भारत का पहला कृत्रिम उपग्रह था, जिसे वर्ष _____ में प्रक्षेपित किया गया था।

- Ans
- 1. 1925
 - 2. 1990
 - 3. 1975
 - 4. 1945

Question ID : 264330115683
Status : Answered
Chosen Option : 2

Q.3 भारत के संविधान में अनुसूचियों की संख्या कितनी है?

- Ans
- 1. 12
 - 2. 10
 - 3. 11
 - 4. 9

Question ID : 264330115609
Status : Answered
Chosen Option : 1

Q.4 भारत में मेघालय राज्य के निम्नलिखित में से किस शहर में सबसे अधिक वर्षा होती है?

- Ans
- 1. जोवाई
 - 2. शिलांग
 - 3. बाघमारा
 - 4. मौसिनराम

Question ID : 264330115976
Status : Answered
Chosen Option : 4

Q.5 बजट प्रत्येक _____ हेतु सरकार की अनुमानित प्राप्तियों और व्यय का विवरण है।

- Ans
- 1. पूंजीगत वर्ष
 - 2. वित्तीय वर्ष
 - 3. कैलेंडर वर्ष
 - 4. पिछले वर्ष

Question ID : 264330115274
Status : Answered
Chosen Option : 2

Q.6 मोहिनी अट्टम नृत्य हिंदू देवता _____ के सम्मान में महिलाओं द्वारा रहस्यमयी मोहिनी के उनके अवतार के रूप में किया जाता है।

- Ans
- 1. कृष्ण
 - 2. शिव
 - 3. राम
 - 4. विष्णु

Question ID : 264330115060
Status : Answered
Chosen Option : 1

Q.7 श्री भगवंत मान मार्च 2022 में भारत के _____ राज्य/केंद्र शासित प्रदेश के मुख्यमंत्री बने।

- Ans
- 1. उत्तराखंड
 - 2. पंजाब
 - 3. दिल्ली
 - 4. हरियाणा

Question ID : 264330114890
Status : Answered
Chosen Option : 2

Q.8 किसने भारत के सर्वोच्च न्यायालय द्वारा जून 2022 में अविश्वास प्रस्ताव के विरुद्ध शिवसेना की स्थगन याचिका को स्वीकार नहीं करने के बाद महाराष्ट्र के मुख्यमंत्री पद से त्यागपत्र दे दिया?

- Ans
- 1. उर्मिला मातोंडकर
 - 2. उद्धव ठाकरे
 - 3. देवेन्द्र फडणवीस
 - 4. एकनाथ शिंदे

Question ID : 264330114926
Status : Marked For Review
Chosen Option : 3

Q.9 निम्नलिखित में से किस कारण से खेती की 'काटो और जलाओ (slash and burn)' विधि अपनाई जाती है?

- Ans
- 1. मिट्टी की उर्वरता को कम करने के लिए
 - 2. क्षेत्र को जल्दी से खाली करने के लिए
 - 3. मिट्टी की उर्वरता को पुनःपूर्ति करने के लिए
 - 4. प्रदूषण उत्पन्न करने के लिए

Question ID : 264330115521
Status : Answered
Chosen Option : 3

Q.10 _____, सरकार द्वारा आवश्यक कुल उधार का एक संकेत है।

- Ans
- 1. राजकोषीय घाटा
 - 2. राजकोषीय शेष
 - 3. राजकोषीय अधिशेष
 - 4. राजकोषीय वृद्धि

Question ID : 264330115390

Status : **Not Attempted and Marked For Review**

Chosen Option : --

Q.11 संविधान के भाग VI में अनुच्छेद _____ राज्य विधायिका के संगठन, संरचना, अवधि, अधिकारियों, प्रक्रियाओं, विशेषाधिकारों, शक्तियों आदि से संबंधित है।

- Ans
- 1. 150 से 168
 - 2. 168 से 212
 - 3. 158 से 200
 - 4. 150 से 212

Question ID : 26433089917

Status : **Answered**

Chosen Option : 2

Q.12 पृथ्वी के वायुमंडल की पहली परत _____ है।

- Ans
- 1. क्षोभमंडल
 - 2. बाह्य वायुमंडल
 - 3. समतापमंडल
 - 4. मध्यमंडल

Question ID : 264330116094

Status : **Answered**

Chosen Option : 1

Q.13 सुजाता महापात्रा ने _____ के लिए संगीत नाटक अकादमी पुरस्कार जीता है।

- Ans
- 1. ओडिसी
 - 2. आधुनिक नृत्य
 - 3. कथक
 - 4. फ्यूजन डांस

Question ID : 264330115896

Status : **Not Attempted and Marked For Review**

Chosen Option : --

Q.14 निम्नलिखित में से किस शहर ने 2022 राष्ट्रमंडल खेलों की मेजबानी की?

- Ans
- 1. ग्लासगो
 - 2. दिल्ली
 - 3. बर्मिंघम
 - 4. गोल्ड कोस्ट

Question ID : 264330115921

Status : Answered

Chosen Option : 3

Q.15 The rate at which the Reserve Bank is ready to buy or rediscount bills of exchange or other commercial papers is called the _____ .

- Ans
- 1. Reverse Repo Rate
 - 2. Cash Reserve Ratio
 - 3. Repo Rate
 - 4. Bank Rate

Question ID : 26433054805

Status : Answered

Chosen Option : 2

Q.16 गणेश चतुर्थी, भगवान गणेश के सम्मान में मनाया जाने वाला उत्सव है, यह हिंदू माह _____ में मनाया जाता है।

- Ans
- 1. चैत्र
 - 2. फाल्गुन
 - 3. भाद्रपद
 - 4. कार्तिक

Question ID : 264330115102

Status : Answered

Chosen Option : 4

Q.17 निम्नलिखित का मिलान करें:

- a) कच्चे माल को तैयार उत्पादों में बदलना i) खाद्य विज्ञान
- b) भोजन का अध्ययन ii) खाद्य संसाधन
- c) खाद्य उत्पादों का बड़े पैमाने पर उत्पादन iii) खाद्य प्रौद्योगिकी
- d) खाद्य स्थिरता को बढ़ावा देता है iv) खाद्य निर्माण

- Ans
- 1. a-i, b-ii, c-iii, d-iv
 - 2. a-iii, b-i, c-ii, d-iv
 - 3. a-iv, b-iii, c-ii, d-i
 - 4. a-ii, b-i, c-iv, d-iii

Question ID : 264330115267

Status : Answered

Chosen Option : 2

Q.18 'शिडो' शब्द का प्रयोग जूडो में _____ के लिए किया जाता है।

- Ans
- 1. साधारण दंड
 - 2. रक्षात्मक कौशल
 - 3. अंक
 - 4. फेंकने का कौशल

Question ID : 26433092334

Status : Not Answered

Chosen Option : --

Q.19 मोठ की मस्जिद _____ शासक के शासनकाल में बनवाई गई थी।

- Ans
- 1. मुहम्मद तुगलक
 - 2. सिकंदर लोदी
 - 3. बहलोल लोदी
 - 4. फ़िरुज़ शाह तुगलक

Question ID : 26433089856

Status : Not Answered

Chosen Option : --

Q.20 निम्नलिखित में से किस तत्व का रासायनिक सूत्र NH_4Cl है?

- Ans
- 1. कार्बोनिल डाइक्लोराइड
 - 2. अमोनियम क्लोराइड
 - 3. पोटेशियम नाइट्रेट
 - 4. सिलिकॉन डाइऑक्साइड

Question ID : 264330115161

Status : Answered

Chosen Option : 2

Section : Part-C-Elementary Mathematics

Q.1 एक लंब वृत्तीय शंकु के आधार का क्षेत्रफल 154 cm^2 है और इसकी ऊंचाई 24 cm है। शंकु का वक्र पृष्ठीय क्षेत्रफल ज्ञात करें। ($\pi = 22/7$ ले)

- Ans
- 1. 520 cm^2
 - 2. 550 cm^2
 - 3. 480 cm^2
 - 4. 460 cm^2

Question ID : 26433075483

Status : Answered

Chosen Option : 2

Q.2 3 वर्ष पहले किसी शहर की जनसंख्या 84000 थी। शहरों में प्रवास के कारण, इसमें प्रति वर्ष 10 प्रतिशत की दर से कमी होती है। शहर की वर्तमान जनसंख्या कितनी है?

- Ans
- 1. 51563
 - 2. 63526
 - 3. 41526
 - 4. 61236

Question ID : 26433079881

Status : Answered

Chosen Option : 4

Q.3 एक चोर एक पुलिसकर्मी को 500 m की दूरी से देख कर 8 km /h की चाल से भागने लगता है। पुलिसकर्मी ने 11 km /h की चाल से उसका पीछा किया। पकड़े जाने से पहले चोर कितनी दूरी तक भागा था? (यदि आवश्यक हो तो दो दशमलव स्थानों तक पूर्णांकित करें)

- Ans
- 1. 4,000 मीटर
 - 2. 1,333.33 मीटर
 - 3. 1,666.67 मीटर
 - 4. 2,922 मीटर

Question ID : 26433080049

Status : Answered

Chosen Option : 3

Q.4 यदि रमेश 12 km/h के बजाय 15 km/h की चाल से चलता है, तो वह समान समय में 2 km अधिक दूरी तय करता है। रमेश द्वारा उसी समय में 12 km/h की चाल से तय की गई वास्तविक दूरी (km में) कितनी है?

- Ans
- 1. 9
 - 2. 6
 - 3. 10
 - 4. 8

Question ID : 26433064996

Status : Answered

Chosen Option : 4

Q.5 A और B एक कार्य को क्रमशः 15 दिन और 10 दिन में पूरा कर सकते हैं। A अकेले कार्य आरंभ करता है और 5 दिनों के बाद, B, A के साथ कार्य में शामिल हो जाता है। दोनों ने शेष कार्य किया। कार्य को पूरा करने के लिए कुल कितने दिन लगते हैं?

- Ans
- 1. 9 दिन
 - 2. $9\frac{2}{3}$ दिन
 - 3. $10\frac{1}{3}$ दिन
 - 4. $9\frac{1}{3}$ दिन

Question ID : 26433087392

Status : Answered

Chosen Option : 1

Q.6 17, 30, 22 और 40 में से किस संख्या को घटाया जाए ताकि प्राप्त संख्याएँ समानुपाती हो जाएँ?

Ans 1. 2

2. 4

3. 3

4. 5

Question ID : 26433073087

Status : Answered

Chosen Option : 2

Q.7 एक स्कूल में 200 विद्यार्थी हैं। यदि लड़कों की संख्या और लड़कियों की संख्या का अनुपात 9 :1 है, तो स्कूल में लड़कों और लड़कियों की संख्या के बीच मध्यानुपात ज्ञात कीजिए।

Ans 1. 50

2. 60

3. 30

4. 40

Question ID : 26433075192

Status : Answered

Chosen Option : 3

Q.8 एक उद्यान में सप्ताह के दिनों में औसतन 30 बच्चे खेलते हैं और सप्ताहांत में औसतन 60 बच्चे खेलते हैं। शनिवार से शुरू होने वाले जून के महीने में उद्यान में प्रतिदिन खेलने वाले बच्चों की औसत संख्या ज्ञात करें।

Ans 1. 30

2. 60

3. 40

4. 45

Question ID : 264330116681

Status : Answered

Chosen Option : 3

Q.9 एक परीक्षा में, एक विद्यार्थी ने पहले पेपर में कुल 200 अंकों में से 40% अंक प्राप्त किए। यदि विद्यार्थी को कुल मिलाकर 60% अंक प्राप्त करने हैं, तो उसे दूसरे पेपर में 200 में से कितने प्रतिशत अंक प्राप्त करने चाहिए?

Ans 1. 80%

2. 85%

3. 60%

4. 75%

Question ID : 26433087349

Status : Answered

Chosen Option : 1

Q.10 एक व्यक्ति एक कंपनी के शेयर को Rs.12,000 में खरीदता है। अगर वह उस शेयर को (एक साल बाद) बेचता है तो उसे Rs.15,000 मिलते हैं। व्यक्ति द्वारा अर्जित लाभ का प्रतिशत ज्ञात कीजिए।

- Ans
- 1. 30%
 - 2. 40%
 - 3. 35%
 - 4. 25%

Question ID : 26433071307

Status : Answered

Chosen Option : 4

Q.11 एक कंपनी विभिन्न प्रकार की छूट योजनाएं प्रदान करती है।

- (i) 10% और 20% की दो क्रमिक छूट
 - (ii) 1 खरीदें 1 मुफ्त पाएं
 - (iii) 5 खरीदें 3 मुफ्त पाएं
 - (iv) 5 खरीदें 6 पाएं
- किस योजना में छूट प्रतिशत न्यूनतम है?

- Ans
- 1. (iii)
 - 2. (i)
 - 3. (ii)
 - 4. (iv)

Question ID : 26433087365

Status : Answered

Chosen Option : 4

Q.12 यदि A का 18 प्रतिशत, B के 40 प्रतिशत के बराबर है, तो A : B का अनुपात क्या है?

- Ans
- 1. 10 : 9
 - 2. 20 : 9
 - 3. 11 : 9
 - 4. 9 : 11

Question ID : 26433079855

Status : Answered

Chosen Option : 2

Q.13 दुकानदार ने 750 रूपए के अंकित मूल्य पर 50 प्रतिशत की छूट दी। विक्रय मूल्य क्या होगा ?

- Ans
- 1. 375 रूपए
 - 2. 657 रूपए
 - 3. 370 रूपए
 - 4. 250 रूपए

Question ID : 264330116713

Status : Answered

Chosen Option : 1

Q.14 वह राशि ज्ञात कीजिए जो 8% प्रतिवर्ष की दर से चक्रवृद्धि ब्याज पर वार्षिक रूप से चक्रवृद्धि होते हुए 2 वर्ष बाद ₹1,166.40 हो जाएगी।

- Ans
- 1. ₹1,100
 - 2. ₹900
 - 3. ₹1,000
 - 4. ₹1,150

Question ID : 26433087380

Status : Answered

Chosen Option : 3

Q.15 104, 78 और 260 से पूरी तरह से विभाज्य सबसे छोटी संख्या P है। यदि $P + 40 = Q^2$ है, तो Q का धनात्मक मान क्या है?

- Ans
- 1. 40
 - 2. 80
 - 3. 39
 - 4. 26

Question ID : 264330116643

Status : Answered

Chosen Option : 1

Q.16 'a' का वह न्यूनतम मान, जिसके लिए संख्या 638a435, 3 से पूर्णतः विभाज्य है, _____ है।

- Ans
- 1. 3
 - 2. 1
 - 3. 2
 - 4. 4

Question ID : 26433075874

Status : Answered

Chosen Option : 2

Q.17 एक व्यक्ति ने दो वस्तुओं को एक ही कीमत पर खरीदा और एक को 15% के लाभ पर और दूसरी को 5% की हानि पर बेच दिया। यदि दोनों विक्रय मूल्यों के बीच का अंतर ₹80 है, तो एक वस्तु का क्रय मूल्य क्या है?

- Ans
- 1. ₹500
 - 2. ₹300
 - 3. ₹600
 - 4. ₹400

Question ID : 26433080106

Status : Answered

Chosen Option : 4

Q.18 74 व्यक्तियों की औसत आय Rs.5,200 है और एक प्रबंधक की आय Rs.6,000 है, तो पूरे समूह की औसत आय कितनी है? (दो दशमलव स्थान तक मान लें)

- Ans
- 1. Rs. 6,200.16
 - 2. Rs. 5,360.86
 - 3. Rs. 5,210.66
 - 4. Rs. 5,510.66

Question ID : 26433081008

Status : Answered

Chosen Option : 3

Q.19 दो पुरुष तीन महिलाओं के बराबर काम करते हैं, और पांच महिलाएं सात लड़कों के बराबर काम करती हैं। यदि 16 पुरुष एक काम को 2 दिन में पूरा कर सकते हैं, तो दो लड़के कितने दिनों में काम पूरा करेंगे?

- Ans
- 1. 36.3
 - 2. 23.8
 - 3. 33.6
 - 4. 28.3

Question ID : 26433066179

Status : Answered

Chosen Option : 3

Q.20 एक लम्ब वृत्तीय बेलन का वक्र पृष्ठीय क्षेत्रफल 90.2 m^2 है और इसकी त्रिज्या 70 cm है, इसकी ऊंचाई (m) में ज्ञात करें। $\pi = \frac{22}{7}$ लें

- Ans
- 1. 24.5 m
 - 2. 23 m
 - 3. 21 m
 - 4. 20.5 m

Question ID : 26433076256

Status : Answered

Chosen Option : 4

Section : Part-D-English

Q.1 Select the most appropriate synonym of the underlined word.

Late morning, we took a stroll along the beach.

- Ans
- 1. scamper
 - 2. jog
 - 3. saunter
 - 4. Sprint

Question ID : 26433088837

Status : Not Answered

Chosen Option : --

Q.2 Select the option in which all the words are spelt correctly.

- Ans
- 1. My aunty arriived at my home on the eve of Diwali.
 - 2. My aunty arived at my home on the eve of Diwali.
 - 3. My aunty arrived at my home on the eve of Diwali.
 - 4. My aunty arrivved at my home on the eve of Diwali.

Question ID : 26433072285

Status : Not Answered

Chosen Option : --

Q.3 Select the most appropriate ANTONYM of the word given in brackets to fill in the blank.

The curry was very _____ (distasteful). I ate it all.

- Ans
- 1. delicious
 - 2. intoxicating
 - 3. enchanting
 - 4. refined

Question ID : 26433070459

Status : Not Answered

Chosen Option : --

Q.4 Select the most appropriate synonym for the underlined word in the given sentence.

Wordsworth wished to work on his poems in solitude.

- Ans
- 1. security
 - 2. slumber
 - 3. satiety
 - 4. seclusion

Question ID : 26433073749

Status : Not Answered

Chosen Option : --

Q.5 Select the most appropriate option that can substitute the underlined segment in the given sentence.

Rajiv helps his friends of solve real-life problems with several methods and approaches.

- Ans
- 1. helps his friends for solve
 - 2. help his friends of solve
 - 3. helps his friends in solve
 - 4. helps his friends to solve

Question ID : 264330103766

Status : Not Answered

Chosen Option : --

Q.6 Select the most appropriate ANTONYM of the given word.

Obedient

- Ans
- 1. Disciplined
 - 2. Docile
 - 3. Meekness
 - 4. Disobedient

Question ID : 26433072809
Status : Not Answered
Chosen Option : --

Q.7 Select the most appropriate synonym for the underlined word in the given sentence.

The officer was not aware of the sedulous espionage.

- Ans
- 1. sedate
 - 2. seduce
 - 3. diligent
 - 4. dangerous

Question ID : 26433072076
Status : Not Answered
Chosen Option : --

Q.8 Select the most appropriate meaning of the underlined idiom in the given sentence.

The businessman agreed to grease the palm of the bank manager for a loan.

- Ans
- 1. To remind
 - 2. To bribe
 - 3. To cooperate
 - 4. To thank

Question ID : 26433071994
Status : Not Answered
Chosen Option : --

Q.9 The following sentence has been split into four segments. Identify the segment that contains a grammatical error.

I have waiting / anxiously / for my / exam results.

- Ans
- 1. I have waiting
 - 2. for my
 - 3. exam results
 - 4. anxiously

Question ID : 264330108882
Status : Not Answered
Chosen Option : --

Q.10 Select the MISSPELT word.

- Ans 1. Allergy
 2. Fabulous
 3. Farnish
 4. Attain

Question ID : 26433086338

Status : Not Answered

Chosen Option : --

Q.11 Select the option that can be used as a one-word substitute for the given group of words.

The study of ancient writings and scriptures

- Ans 1. Geology
 2. Ornithology
 3. Palaeography
 4. Alchemy

Question ID : 26433086314

Status : Not Answered

Chosen Option : --

Q.12 Select the most appropriate option to fill in the blank.

It is surprising to see _____ (stale) apples available throughout the year.

- Ans 1. fresh
 2. musty
 3. old
 4. stuffy

Question ID : 26433060718

Status : Not Answered

Chosen Option : --

Q.13 Select the most appropriate option to fill in the blank.

We may _____ an example or two.

- Ans 1. side
 2. cite
 3. site
 4. sight

Question ID : 26433087944

Status : Not Answered

Chosen Option : --

Q.14 Select the most appropriate option to fill in the blank.
The doctor instructed the patient to _____ up and down his house as an exercise.

- Ans
- 1. wake
 - 2. chase
 - 3. work
 - 4. walk

Question ID : 26433085595
Status : Not Answered
Chosen Option : --

Q.15 Select the correct idiom to substitute the underlined word segment in the following sentence.
When the teacher asked him about the homework, he started speaking vaguely to avoid talking about it .

- Ans
- 1. writing in the bush
 - 2. searching the bird in the bush
 - 3. searching around the room
 - 4. beating around the bush

Question ID : 264330101447
Status : Not Answered
Chosen Option : --

Comprehension:

In the following passage, some words have been deleted. Read the passage carefully and select the most appropriate option to fill in each blank.

The set of relationships between people, (1) _____ their social position and roles, is referred to as society or human society. The people of a region, country, or even the (2) _____ world are referred to as a society. A society, as used in the sense of an organisation, is a group of people bound together by functional (3) _____, and may include qualities such as national or cultural identity, social solidarity, language or hierarchical organisation. Patterns of relationships between individuals who (4) _____ a common culture and institutions define human societies. A society, like other organisations or groups, permits its members to fulfil wants or wishes that they could not (5) _____ on their own.

SubQuestion No : 16

Q.16 Select the most appropriate option to fill in blank number 1.

- Ans
- 1. resisting
 - 2. including
 - 3. discounting
 - 4. developing

Question ID : 26433088515
Status : Not Answered
Chosen Option : --

Comprehension:

In the following passage, some words have been deleted. Read the passage carefully and select the most appropriate option to fill in each blank.

The set of relationships between people, (1) _____ their social position and roles, is referred to as society or human society. The people of a region, country, or even the (2) _____ world are referred to as a society. A society, as used in the sense of an organisation, is a group of people bound together by functional (3) _____, and may include qualities such as national or cultural identity, social solidarity, language or hierarchical organisation. Patterns of relationships between individuals who (4) _____ a common culture and institutions define human societies. A society, like other organisations or groups, permits its members to fulfil wants or wishes that they could not (5) _____ on their own.

SubQuestion No : 17

Q.17 Select the most appropriate option to fill in blank number 2.

- Ans** 1. entire
 2. illiterate
 3. primitive
 4. absolute

Question ID : 26433088516

Status : Not Answered

Chosen Option : --

Comprehension:

In the following passage, some words have been deleted. Read the passage carefully and select the most appropriate option to fill in each blank.

The set of relationships between people, (1) _____ their social position and roles, is referred to as society or human society. The people of a region, country, or even the (2) _____ world are referred to as a society. A society, as used in the sense of an organisation, is a group of people bound together by functional (3) _____, and may include qualities such as national or cultural identity, social solidarity, language or hierarchical organisation. Patterns of relationships between individuals who (4) _____ a common culture and institutions define human societies. A society, like other organisations or groups, permits its members to fulfil wants or wishes that they could not (5) _____ on their own.

SubQuestion No : 18

Q.18 Select the most appropriate option to fill in blank number 3.

- Ans** 1. mutualism
 2. qualities
 3. interdependence
 4. exchange

Question ID : 26433088517

Status : Not Answered

Chosen Option : --

Comprehension:

In the following passage, some words have been deleted. Read the passage carefully and select the most appropriate option to fill in each blank.

The set of relationships between people, (1) _____ their social position and roles, is referred to as society or human society. The people of a region, country, or even the (2) _____ world are referred to as a society. A society, as used in the sense of an organisation, is a group of people bound together by functional (3) _____, and may include qualities such as national or cultural identity, social solidarity, language or hierarchical organisation. Patterns of relationships between individuals who (4) _____ a common culture and institutions define human societies. A society, like other organisations or groups, permits its members to fulfil wants or wishes that they could not (5) _____ on their own.

SubQuestion No : 19

Q.19 Select the most appropriate option to fill in blank number 4.

- Ans 1. oppose
 2. share
 3. protect
 4. divide

Question ID : 26433088518

Status : Not Answered

Chosen Option : --

Comprehension:

In the following passage, some words have been deleted. Read the passage carefully and select the most appropriate option to fill in each blank.

The set of relationships between people, (1) _____ their social position and roles, is referred to as society or human society. The people of a region, country, or even the (2) _____ world are referred to as a society. A society, as used in the sense of an organisation, is a group of people bound together by functional (3) _____, and may include qualities such as national or cultural identity, social solidarity, language or hierarchical organisation. Patterns of relationships between individuals who (4) _____ a common culture and institutions define human societies. A society, like other organisations or groups, permits its members to fulfil wants or wishes that they could not (5) _____ on their own.

SubQuestion No : 20

Q.20 Select the most appropriate option to fill in blank number 5.

- Ans 1. give up
 2. evacuate
 3. accomplish
 4. escalate

Question ID : 26433088519

Status : Not Answered

Chosen Option : --

Q.1 निम्न में से कौन से वाक्य में कर्मकारक का गलत प्रयोग हुआ है?

- Ans
- 1. लड़का कुत्ते को मारता है।
 - 2. सीता ने चिट्ठी लिखी।
 - 3. रमेश ने गोपाल को मारा।
 - 4. कविता पत्र को लिखती है।

Question ID : 26433063033

Status : Answered

Chosen Option : 4

Q.2 निम्नलिखित में से शुद्ध वाक्य कौन-सा है?

- Ans
- 1. वह आरोग्य हो गया।
 - 2. चरखा चलाना चाहिए।
 - 3. एक-एक करके सभी के सभी मर गए।
 - 4. चरखा कातनी चाहिए।

Question ID : 26433085140

Status : Answered

Chosen Option : 1

Q.3 'आपके रहन-सहन का दर्जा ऊंचा है।' इस वाक्य में रेखांकित शब्द के स्थान पर उचित शब्द क्या होगा?

- Ans
- 1. तरीका
 - 2. भांति
 - 3. स्तर
 - 4. कुछ

Question ID : 26433062783

Status : Answered

Chosen Option : 3

Q.4 '_____ लेने की फुरसत न होना।'

उपरोक्त मुहावरे में रिक्त स्थान की पूर्ति उचित शब्द द्वारा कीजिए।

- Ans
- 1. मन
 - 2. फूंक
 - 3. सांस
 - 4. खांसी

Question ID : 26433069692

Status : Answered

Chosen Option : 3

Q.5 उन्होंने अपने बड़े बेटे को श्रद्धांजलि दे दी।
उपरोक्त वाक्य में रेखांकित पद के स्थान पर सबसे उपयुक्त शब्द निम्न में से कौन सा होगा?

- Ans 1. तिलांजलि
 2. पुष्पांजलि
 3. गीतांजलि
 4. अंजलि

Question ID : 26433079175
Status : Answered
Chosen Option : 2

Q.6 “संजय भारतीय मूल्यों का तिरस्कार करता है।”
उक्त वाक्य में प्रयुक्त ‘तिरस्कार’ के स्थान पर उसके समानार्थी शब्द का प्रयोग निम्न में से किस वाक्य में किया गया है?

- Ans 1. संजय भारतीय मूल्यों को बदनाम करता है।
 2. संजय भारतीय मूल्यों की सराहना करता है।
 3. संजय भारतीय मूल्यों की प्रशंसा करता है।
 4. संजय भारतीय मूल्यों की उपेक्षा करता है।

Question ID : 26433085147
Status : Answered
Chosen Option : 4

Q.7 निम्न में से कौन-सा शब्द ‘राजा’ शब्द का पर्यायवाची शब्द नहीं है?

- Ans 1. स्वर्गाधिपति
 2. भूपति
 3. महीप
 4. नरपति

Question ID : 26433067078
Status : Answered
Chosen Option : 1

Q.8 “उसके द्वारा किए गए अच्छे कार्यों के कारण वह समाज में _____ है।”
उपरोक्त वाक्य में रिक्त स्थान पर निम्न में से किस शब्द का प्रयोग उपयुक्त होगा?

- Ans 1. गुमनाम
 2. विख्यात
 3. बदनाम
 4. कुख्यात

Question ID : 26433067009
Status : Answered
Chosen Option : 2

Q.9 निम्नलिखित मुहावरे के लिए उपयुक्त सार्थक शब्द क्या होगा?
चादर तान कर सोना

- Ans
- 1. शोक मनाना
 - 2. किसी की निंदा करना
 - 3. बढ़िया आचरण करना
 - 4. निश्चित हो जाना

Question ID : 26433065766

Status : Answered

Chosen Option : 4

Q.10 'दुर्योधन ने कुचक्र रचकर पांडवों को चौसर में हरा दिया।' निम्नलिखित में से कौन सा शब्द 'कुचक्र' का पर्यायवाची नहीं है?

- Ans
- 1. अभिसंधि
 - 2. दुरभिसंधि
 - 3. टोल
 - 4. साजिश

Question ID : 26433080922

Status : Answered

Chosen Option : 4

Q.11 'देश की स्थिति अच्छा नहीं है।' इस वाक्य में कौन सा शब्द अशुद्ध है?

- Ans
- 1. स्थिति
 - 2. अच्छा
 - 3. देश
 - 4. नहीं

Question ID : 26433066803

Status : Answered

Chosen Option : 2

Q.12 निम्नलिखित विकल्पों में से कौन सा एक वाक्य संयोजक क्रिया-विशेषण से सम्बन्ध रखता है?

- Ans
- 1. वह खाकर स्कूल गया।
 - 2. मैं जाकर देखूँगा।
 - 3. तुम किताब खोलकर पढ़ोगे।
 - 4. जब आप आज्ञा देंगे, तब मैं उठूँगा।

Question ID : 26433062959

Status : Answered

Chosen Option : 4

Q.13 निम्नलिखित वाक्य में किस प्रकार की त्रुटि है?
'इस प्रकार की निबंध में समाज का समग्र चित्र दिखाई देता है।'

- Ans
- 1. लिंग सम्बन्धी त्रुटि
 - 2. क्रिया सम्बन्धी त्रुटि
 - 3. अनुपयुक्त शब्द प्रयोग त्रुटि
 - 4. कारक सम्बन्धी त्रुटि

Question ID : 26433063023
Status : Answered
Chosen Option : 1

Q.14 'मेरे से कुछ ना पूछो।' इस वाक्य में रेखांकित वाक्य खंड के स्थान पर क्या आएगा?

- Ans
- 1. मैं
 - 2. मुझको
 - 3. मुझसे
 - 4. मेरे

Question ID : 26433062198
Status : Answered
Chosen Option : 3

Q.15 'अंक में स्थान पाया हुआ' वाक्यांश के लिए एक शब्द क्या होगा?

- Ans
- 1. अकिंचन
 - 2. अंकुर
 - 3. अंकस्थ
 - 4. अंडज

Question ID : 26433062157
Status : Answered
Chosen Option : 3

Comprehension:

निम्नलिखित गद्यांश में कुछ शब्दों को हटा दिया गया है। दिए गए विकल्पों की सहायता से रिक्त स्थानों की पूर्ति कीजिए। प्रत्येक संख्या के लिए सबसे उपयुक्त विकल्प का चयन कीजिए।
मनुष्य सामाजिक प्राणी है, उसका निकटतम समाज 1. _____ ही है। इसी प्रकार हमारे 2. _____ के निकटतम राष्ट्र हमारे पड़ोसी ही कहलाएँगे। यह पड़ोसी ही हैं जो हमें सुख और 3. _____ से रहने देते हैं। इसी के साथ हम अपने पड़ोसियों के साथ जैसा 4. _____ करेंगे, वे भी हमारे साथ 5. _____ ही करेंगे।

SubQuestion No : 16

Q.16 रिक्त स्थान 1 की पूर्ति के लिए सबसे उपयुक्त विकल्प का चयन कीजिए।

- Ans
- 1. हमही
 - 2. पड़ोसी
 - 3. उच्च
 - 4. संबंधी

Question ID : 264330111053
Status : Answered
Chosen Option : 2

Comprehension:

निम्नलिखित गद्यांश में कुछ शब्दों को हटा दिया गया है। दिए गए विकल्पों की सहायता से रिक्त स्थानों की पूर्ति कीजिए। प्रत्येक संख्या के लिए सबसे उपयुक्त विकल्प का चयन कीजिए।
मनुष्य सामाजिक प्राणी है, उसका निकटतम समाज 1. _____ ही है। इसी प्रकार हमारे 2. _____ के निकटतम राष्ट्र हमारे पड़ोसी ही कहलाएँगे। यह पड़ोसी ही हैं जो हमें सुख और 3. _____ से रहने देते हैं। इसी के साथ हम अपने पड़ोसियों के साथ जैसा 4. _____ करेंगे, वे भी हमारे साथ 5. _____ ही करेंगे।

SubQuestion No : 17

Q.17 रिक्त स्थान 2 की पूर्ति के लिए सबसे उपयुक्त विकल्प का चयन कीजिए।

- Ans
- 1. राष्ट्र
 - 2. व्यक्ति
 - 3. सहायक
 - 4. मैत्री

Question ID : 264330111054

Status : Answered

Chosen Option : 1

Comprehension:

निम्नलिखित गद्यांश में कुछ शब्दों को हटा दिया गया है। दिए गए विकल्पों की सहायता से रिक्त स्थानों की पूर्ति कीजिए। प्रत्येक संख्या के लिए सबसे उपयुक्त विकल्प का चयन कीजिए।
मनुष्य सामाजिक प्राणी है, उसका निकटतम समाज 1. _____ ही है। इसी प्रकार हमारे 2. _____ के निकटतम राष्ट्र हमारे पड़ोसी ही कहलाएँगे। यह पड़ोसी ही हैं जो हमें सुख और 3. _____ से रहने देते हैं। इसी के साथ हम अपने पड़ोसियों के साथ जैसा 4. _____ करेंगे, वे भी हमारे साथ 5. _____ ही करेंगे।

SubQuestion No : 18

Q.18 रिक्त स्थान 3 की पूर्ति के लिए सबसे उपयुक्त विकल्प का चयन कीजिए।

- Ans
- 1. नींद
 - 2. बातों
 - 3. दुःख
 - 4. शांति

Question ID : 264330111055

Status : Answered

Chosen Option : 4

Comprehension:

निम्नलिखित गद्यांश में कुछ शब्दों को हटा दिया गया है। दिए गए विकल्पों की सहायता से रिक्त स्थानों की पूर्ति कीजिए। प्रत्येक संख्या के लिए सबसे उपयुक्त विकल्प का चयन कीजिए।
मनुष्य सामाजिक प्राणी है, उसका निकटतम समाज 1. _____ ही है। इसी प्रकार हमारे 2. _____ के निकटतम राष्ट्र हमारे पड़ोसी ही कहलाएँगे। यह पड़ोसी ही हैं जो हमें सुख और 3. _____ से रहने देते हैं। इसी के साथ हम अपने पड़ोसियों के साथ जैसा 4. _____ करेंगे, वे भी हमारे साथ 5. _____ ही करेंगे।

SubQuestion No : 19

Q.19 रिक्त स्थान 4 की पूर्ति के लिए सबसे उपयुक्त विकल्प का चयन कीजिए।

- Ans
- 1. प्रतिकार
 - 2. सत्कार
 - 3. व्यवहार
 - 4. उपकार

Question ID : 264330111056

Status : Answered

Chosen Option : 3

Comprehension:

निम्नलिखित गद्यांश में कुछ शब्दों को हटा दिया गया है। दिए गए विकल्पों की सहायता से रिक्त स्थानों की पूर्ति कीजिए। प्रत्येक संख्या के लिए सबसे उपयुक्त विकल्प का चयन कीजिए।
मनुष्य सामाजिक प्राणी है, उसका निकटतम समाज 1. _____ ही है। इसी प्रकार हमारे 2. _____ के निकटतम राष्ट्र हमारे पड़ोसी ही कहलाएँगे। यह पड़ोसी ही हैं जो हमें सुख और 3. _____ से रहने देते हैं। इसी के साथ हम अपने पड़ोसियों के साथ जैसा 4. _____ करेंगे, वे भी हमारे साथ 5. _____ ही करेंगे।

SubQuestion No : 20

Q.20 रिक्त स्थान 5 की पूर्ति के लिए सबसे उपयुक्त विकल्प का चयन कीजिए।

- Ans
- 1. वैसा
 - 2. प्रेम
 - 3. कैसा
 - 4. जैसा

Question ID : 264330111057

Status : Answered

Chosen Option : 1