

Constable GD in CAPFs SSF Rifleman GD in Assam Rifles and Sepoy in NCB Examination 2022

Roll Number	www.govtjobsalert.in
Candidate Name	www.govtjobsalert.in
Venue Name	B.B.S. Group of Institutions
Exam Date	31/01/2023
Exam Time	5:15 PM - 6:15 PM
Subject	Constable GD Examination 2022

Section : Part-A-General Intelligence and Reasoning

Q.1 उस विकल्प का चयन कीजिए जो पांचवें अक्षर-समूह से उसी प्रकार संबंधित है जिस प्रकार दूसरा अक्षर-समूह, पहले अक्षर-समूह से संबंधित है और चौथा अक्षर-समूह, तीसरे अक्षर-समूह से संबंधित है।
PJM : LHM :: NSV : UQK :: JTW : ?

- Ans
- 1. USH
 - 2. VPG
 - 3. VRG
 - 4. WRG

Question ID : 26433057715

Status : Answered

Chosen Option : 3

Q.2 दर्पण को चित्र में दिखाए अनुसार MN पर रखे जाने पर दी गई आकृति के सही दर्पण प्रतिबिंब का चयन करें।

A t 5 6 j 3 6 y | M
N

- Ans
- 1. y j e e a a t A
 - 2. y e e j a a t A
 - 3. y e e j a a t A
 - 4. y a e j a a t A

Question ID : 26433082328

Status : Answered

Chosen Option : 4

Q.3 कौन-सा अक्षर-समूह दी गई शृंखला में प्रश्नचिह्न (?) के स्थान पर आकर शृंखला को पूर्ण करेगा?
PBXJ, TFJX, ?, BNJX, FRXJ

- Ans
- 1. VKJX
 - 2. VLXJ
 - 3. WKJX
 - 4. XJXJ

Question ID : 26433068037
Status : Answered
Chosen Option : 4

Q.4 निम्न शृंखला में प्रश्न-चिह्न (?) के स्थान पर कौन सी संख्या आएगी?
7, 21, 35, ?, 63

- Ans
- 1. 49
 - 2. 40
 - 3. 62
 - 4. 50

Question ID : 26433067839
Status : Answered
Chosen Option : 1

Q.5 एक निश्चित कूट भाषा में 'EARTH' को 'AERHT' के रूप में लिखा जाता है और 'VENUS' को 'EVNSU' के रूप में लिखा जाता है। उसी भाषा में 'PLANT' को किस प्रकार लिखा जाएगा?

- Ans
- 1. LPTAN
 - 2. LPANT
 - 3. LAPT N
 - 4. LPATN

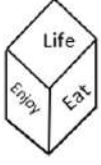
Question ID : 26433068225
Status : Answered
Chosen Option : 4

Q.6 उस विकल्प का चयन कीजिए जो तीसरे शब्द से उसी प्रकार संबंधित है जिस प्रकार दूसरा शब्द पहले शब्द से संबंधित है। (शब्दों को अर्थपूर्ण शब्दों के रूप में मानना है और उन्हें शब्द में अक्षरों/व्यंजनों/स्वरों की संख्या के आधार पर एक-दूसरे से संबंधित नहीं करना है।)
दासता : स्वतंत्रता :: नफरत : ?

- Ans
- 1. तैराकी करना
 - 2. व्यक्ति
 - 3. विवाह
 - 4. प्यार

Question ID : 26433069579
Status : Answered
Chosen Option : 4

Q.7 एक ही पासे की दो अलग-अलग स्थितियों को दर्शाया गया है जिस पर छह अलग-अलग शब्द लिखे हैं - जो कि Life, Eat, Enjoy, Sleep, Love और Care हैं। 'Life' दर्शाने वाले फलक के विपरीत फलक पर लिखा शब्द ज्ञात कीजिए।



Ans ✓ 1. Sleep

✗ 2. Care

✗ 3. Love

✗ 4. Enjoy

Question ID : 26433085523

Status : Answered

Chosen Option : 1

Q.8 दिए गए कथनों और निष्कर्षों को ध्यानपूर्वक पढ़िए। यह मानते हुए कि कथनों में दी गई जानकारी सत्य है, चाहे वह सामान्य रूप से ज्ञात तथ्यों से भिन्न प्रतीत होती हो, निर्धारित कीजिए कि दिए गए निष्कर्षों में से कौन-सा/से कथनों का तार्किक रूप से अनुसरण करता है/करते हैं।

कथन:

- A. सभी बॉक्स पेन हैं।
- B. कुछ बॉक्स जग हैं।
- C. कुछ जग गिलास हैं।

निष्कर्ष:

- I. कुछ गिलास बॉक्स हैं।
- II. कोई गिलास बॉक्स नहीं है।
- III. कुछ जग पेन हैं।

Ans ✓ 1. केवल निष्कर्ष III अनुसरण करता है।

✗ 2. केवल निष्कर्ष I अनुसरण करता है।

✗ 3. तीनों निष्कर्ष अनुसरण करते हैं।

✗ 4. निष्कर्ष I और II दोनों अनुसरण करते हैं।

Question ID : 26433081634

Status : Answered

Chosen Option : 1

Q.9 निम्नलिखित में से कौन-सी संख्या दी गई श्रृंखला में प्रश्न-चिह्न (?) को प्रतिस्थापित करेगी?
235, 271, ?, 349, 391, 435

Ans ✓ 1. 309

✗ 2. 313

✗ 3. 307

✗ 4. 311

Question ID : 26433069395

Status : Answered

Chosen Option : 1

Q.10 किस विकल्प में निम्नलिखित शब्दों का वह क्रम दिया गया है, जिस क्रम में वे अंग्रेजी शब्दकोश में आते हैं?

- 1 Fountain
- 2 Found
- 3 Fond
- 4 Focus
- 5 Follow

Ans 1. 4,5,3,2,1

2. 4,3,5,1,2

3. 4,5,1,2,3

4. 5,4,3,2,1

Question ID : 26433069282

Status : Answered

Chosen Option : 1

Q.11 निम्नलिखित में से कौन-सा अक्षर-समूह नीचे दी गई अक्षर-समूह श्रृंखला में प्रश्न-चिह्न (?) के स्थान पर आकर श्रृंखला को पूर्ण करेगा?
EU, CS, YQ, SO, ?

Ans 1. KM

2. JM

3. KE

4. KL

Question ID : 26433067297

Status : Answered

Chosen Option : 1

Q.12 8 मित्र A, B, C, D, E, F, G, और H एक वृत्ताकार मेज के परितः मेज के केंद्र की ओर मुख करके बैठे हैं। A, B और C के ठीक बगल में बैठा है। H, F और G के ठीक बगल में बैठा है। D, B के बाईं ओर ठीक बगल में बैठा है। E, C के दाईं ओर ठीक बगल में बैठा है। A और H एक दूसरे के सामने बैठे हैं। B के दाईं ओर ठीक बगल में कौन बैठा है?

Ans 1. F

2. A

3. H

4. E

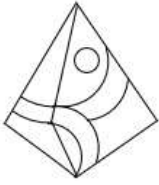
Question ID : 26433080435

Status : Answered

Chosen Option : 2

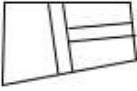
Q.13 वह विकल्प चित्र चुनिए, जो प्रस्तुत चित्र में अंतर्निहित है। (घुमाना अनुमन्य नहीं)

क)



Ans

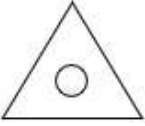
✗ 1.



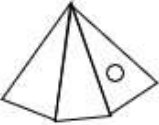
✓ 2.



✗ 3.



✗ 4.



Question ID : 26433069332

Status : Answered

Chosen Option : 2

WWW.GOVtjobsalert.in

Q.14 यदि श्रृंखला जारी रखनी है तो कौन-सी आकृति प्रश्न चिह्न (?) के स्थान पर

आएगी?

PICTER	REICTP	I REPCT	TCREPI	?
--------	--------	---------	--------	---

Ans

✗ 1. CREPIT

✗ 2. RTCPIE

✗ 3. ITCREP

✓ 4. RTCIEP

Question ID : 26433076634

Status : Answered

Chosen Option : 3

Q.15 नीचे दिए गए समीकरण को गणितीय रूप से सही बनाने के लिए किन दो गणितीय चिह्नों को परस्पर बदलना चाहिए?

$$17 + 98 \div 14 - 8 \times 68 = 179$$

Ans ✗ 1. + और ×

✓ 2. + और ×

✗ 3. + और +

✗ 4. + और -

Question ID : 264330117490

Status : Answered

Chosen Option : 2

Q.16 एक निश्चित कूट भाषा में, 'cat pen' को 'tin de' के रूप में कूटबद्ध किया जाता है, 'animal tiger' को 'sin xe' के रूप में कूटबद्ध किया जाता है और 'pen tiger' को 'de xe' के रूप में कूटबद्ध किया जाता है। 'cat' के लिए कूट शब्द क्या होगा?

Ans 1. pen

2. tin

3. de

4. xe

Question ID : 26433079364

Status : Answered

Chosen Option : 2

Q.17 नीचे दिए गए समीकरण को गणितीय रूप से सही बनाने के लिए किन दो गणितीय चिह्नों को परस्पर बदलना चाहिए?

$$120 \div 15 + 60 - 4 \times 2 = 135$$

Ans 1. + और -

2. + और \times

3. \times और -

4. + और \times

Question ID : 264330114194

Status : Answered

Chosen Option : 1

Q.18 उस समुच्चय का चयन करें, जिसकी संख्याओं के बीच ठीक वही संबंध है, जो संबंध निम्नांकित समुच्चयों की संख्याओं में हैं।

(नोट: संख्याओं को उसके घटक अंकों में विभाजित किए बिना, पूर्ण संख्याओं पर ही गणितीय संक्रियाएँ की जानी चाहिए। जैसे 13 - मान लीजिए 13 पर गणितीय संक्रियाएँ जैसे कि 13 में जोड़ना/घटाना/गुणा करना आदि किया जा सकता है। 13 को 1 और 3 में तोड़कर और फिर 1 और 3 पर गणितीय संक्रियाएँ करने की अनुमति नहीं है।)

(13, 150, 17)

(10, 130, 16)

Ans 1. (11, 150, 15)

2. (11, 110, 19)

3. (12, 116, 17)

4. (8, 135, 19)

Question ID : 26433076543

Status : Answered

Chosen Option : 3

Q.19 'A - B' का अर्थ है 'B, A की माता है'

'A # B' का अर्थ है 'B, A की बहन है'

'A \$ B' का अर्थ है 'B, A का पति है'

यदि A - B # C - D \$ E है, तो E, A से किस प्रकार संबंधित है?

Ans 1. नाना

2. मामा

3. पति

4. पिता

Question ID : 26433068530

Status : Answered

Chosen Option : 1

Q.20 अनिल, बंटी, चौबे, दिशांत और ईशान पांच छात्र एक वृत्ताकार मेज के परितः मेज के केंद्र की ओर मुख करके बैठे हुए हैं। दिशांत, अनिल के दाईं ओर ठीक बगल में बैठा है। चौबे, दिशांत या अनिल के बगल में नहीं बैठा है। ईशान, चौबे के दाईं ओर ठीक बगल में बैठा है। दिशांत के दाईं ओर ठीक बगल में कौन बैठा है?

- Ans
- 1. ईशान
 - 2. बंटी
 - 3. अनिल
 - 4. चौबे

Question ID : 264330114207
Status : Answered
Chosen Option : 2

Section : Part-B-General Knowledge and General awareness

Q.1 सुदीप राँय बर्मन जून 2022 में _____ निर्वाचन क्षेत्र से विधान सभा के सदस्य बने।

- Ans
- 1. हाजीपुर
 - 2. बिलासपुर
 - 3. अगरतला
 - 4. मैसूर

Question ID : 264330114913
Status : Answered
Chosen Option : 2

Q.2 1967 में, पश्चिम बंगाल के दार्जिलिंग जिले के नक्सलबाड़ी में शुरू हुए आंदोलन का नाम क्या था?

- Ans
- 1. भूदान आंदोलन
 - 2. भारत छोड़ो आंदोलन
 - 3. चिपको आंदोलन
 - 4. नक्सली आंदोलन

Question ID : 264330115686
Status : Answered
Chosen Option : 4

Q.3 यामिनी कृष्णमूर्ति ने किस नृत्य शैली के लिए विभिन्न पुरस्कार जीते हैं?

- Ans
- 1. भरतनाट्यम और मोहिनीअट्टम
 - 2. कुचिपुड़ी और मोहिनीअट्टम
 - 3. कुचिपुड़ी और भरतनाट्यम
 - 4. कथक और कुचिपुड़ी

Question ID : 264330115841
Status : Answered
Chosen Option : 3

Q.4 किस ऋतु में उत्तर-पूर्वी व्यापारिक पवन भारत में प्रबल होती है?

- Ans
- 1. वर्षाऋतु
 - 2. ग्रीष्म
 - 3. पतझड़
 - 4. शीत

Question ID : 264330115979
Status : Answered
Chosen Option : 4

Q.5 2017 में भारत की जन्म दर क्या थी?

- Ans
- 1. 24.8
 - 2. 16.6
 - 3. 20.2
 - 4. 26.4

Question ID : 264330116136
Status : Answered
Chosen Option : 3

Q.6 हालड़ा उत्सव मुख्य रूप से भारत के निम्नलिखित में से किस राज्य में मनाया जाता है?

- Ans
- 1. राजस्थान
 - 2. हिमाचल प्रदेश
 - 3. आंध्र प्रदेश
 - 4. पश्चिम बंगाल

Question ID : 26433094884
Status : Answered
Chosen Option : 4

Q.7 प्रथम पंचवर्षीय योजना का मुख्य फोकस कृषि जैसे _____ क्षेत्र को विकसित करना था।

- Ans
- 1. द्वितीयक
 - 2. प्राथमिक
 - 3. बहु
 - 4. तृतीयक

Question ID : 264330115379
Status : Answered
Chosen Option : 2

Q.8 सितंबर 2022 में, कनाडा में भारत के अगले उच्चायुक्त के रूप में किसे नियुक्त किया गया है?

- Ans
- 1. प्रभात प्रकाश शुक्ल
 - 2. प्रणय कुमार वर्मा
 - 3. संजय कुमार वर्मा
 - 4. गोपाल बागले

Question ID : 264330114980
Status : Not Answered
Chosen Option : --

Q.9 निम्नलिखित में से किस खिलाड़ी को वर्ष 2001 में अर्जुन पुरस्कार से सम्मानित किया गया था?

- Ans
- 1. मनमोहन सिंह लोधी
 - 2. सरबजीत सिंह
 - 3. परमिंदर सिंह
 - 4. प्रशांति सिंह

Question ID : 26433089921
Status : Answered
Chosen Option : 2

Q.10 स्टार्टअप इंडिया सीड फंड स्कीम (SISFS) 19 अप्रैल 2021 को _____ द्वारा शुरू की गई थी।

- Ans
- 1. स्मृति ईरानी
 - 2. अमित शाह
 - 3. पीयूष गोयल
 - 4. नरेंद्र मोदी

Question ID : 264330116187
Status : Answered
Chosen Option : 4

Q.11 निम्नलिखित में से किस शास्त्रीय नृत्य का केंद्रीय विषय कृष्ण और राधा की प्रेम गाथा है?

- Ans
- 1. सत्रीया
 - 2. कुचिपुड़ी
 - 3. मणिपुरी
 - 4. ओडिसी

Question ID : 264330115063
Status : Answered
Chosen Option : 3

Q.12 युवा मामले और खेल मंत्रालय द्वारा टारगेट ओलिंपिक पोज़ियम योजना (TOPS) की स्थापना किस वर्ष की गई थी?

- Ans
- 1. 2016
 - 2. 2012
 - 3. 2018
 - 4. 2014

Question ID : 26433092326
Status : Not Answered
Chosen Option : --

Q.13 निम्नलिखित मौर्य सम्राटों में से किसे पियदस्सी के नाम से जाना जाता था?

- Ans
- 1. दशरथ
 - 2. बिंदुसार
 - 3. बृहद्रथ
 - 4. अशोक

Question ID : 264330115451
Status : Answered
Chosen Option : 4

Q.14 भारतीय संविधान द्वारा कितने मूल अधिकार प्रदान किए गए हैं?

- Ans
- 1. 8
 - 2. 7
 - 3. 6
 - 4. 5

Question ID : 264330115612
Status : Answered
Chosen Option : 3

Q.15 निम्नलिखित में से किस केंद्र शासित प्रदेश में लेफ्टिनेंट गवर्नर (उप-राज्यपाल) नहीं है?

- Ans
- 1. नई दिल्ली
 - 2. पुदुचेरी
 - 3. दमन और दीव
 - 4. अंडमान और निकोबार द्वीप समूह

Question ID : 26433086832
Status : Answered
Chosen Option : 2

Q.16 विद्युत विभवांतर का SI मात्रक क्या है?

- Ans
- 1. वाट
 - 2. एम्पियर
 - 3. वोल्ट
 - 4. जूल

Question ID : 26433089646
Status : Answered
Chosen Option : 3

Q.17 किशोरावस्था में शारीरिक छवि विकृति से जुड़े विकार का नाम बताएं।

- Ans
- 1. सीजोफ्रेनिया
 - 2. डिप्रेशन
 - 3. अल्जाइमर रोग
 - 4. एनोरेक्सिया नर्वोसा

Question ID : 264330115224
Status : Answered
Chosen Option : 4

Q.18 भौगोलिक दृष्टि से भारत का सबसे छोटा राज्य कौन-सा है ?

- Ans
- 1. मिज़ोरम
 - 2. सिक्किम
 - 3. गोवा
 - 4. त्रिपुरा

Question ID : 264330116050
Status : Answered
Chosen Option : 3

Q.19 ऐसी स्थिति, जिसमें सरकार अपने द्वारा एकत्रित राजस्व के बराबर राशि खर्च कर सकती है, _____ की स्थिति कहलाती है।

- Ans
- 1. अधिशेष बजट
 - 2. संतुलित बजट
 - 3. पूंजीगत बजट
 - 4. घाटे का बजट

Question ID : 264330115277
Status : Answered
Chosen Option : 2

Q.20 निम्नलिखित में से कौन-सा, भारत में ग्रीष्मकालीन फसल का मौसम है?

- Ans
- 1. रबी
 - 2. ज़ायद
 - 3. खरीफ
 - 4. वर्षाऋतु

Question ID : 264330115524
Status : Answered
Chosen Option : 3

Section : Part-C-Elementary Mathematics

Q.1 सीमा ने एक नाव खरीदी जिसकी लागत उसे 3200 रुपए पड़ी और अंकित मूल्य 4000 रुपए था। उसे कितनी छूट मिली?

- Ans
- 1. 500 रुपए
 - 2. 700 रुपए
 - 3. 600 रुपए
 - 4. 800 रुपए

Question ID : 264330116716
Status : Answered
Chosen Option : 4

Q.2 उस ढक्कन वाले बेलनाकार पात्र का कुल पृष्ठीय क्षेत्रफल (cm^2 में) ज्ञात करें, जिसका आधार व्यास k cm और

ऊँचाई $\frac{k}{2}$ cm है।

- Ans
- 1. $\frac{\pi k^2}{2}$
 - 2. $\frac{\pi k^2}{4}$
 - 3. $2\pi k^2$
 - 4. πk^2

Question ID : 26433079975

Status : Answered

Chosen Option : 3

Q.3 निम्नलिखित संख्याओं का औसत 25 है। X का मान ज्ञात करें।
24, 30, 12, 18, 20, 10, 40, X

- Ans
- 1. 46
 - 2. 47
 - 3. 45
 - 4. 48

Question ID : 264330116684

Status : Answered

Chosen Option : 1

Q.4 एक असाइनमेंट प्रस्तुत करने में विलंब के कारण सुहानी के अंक 10 प्रतिशत से कम हो गए और उसे 135 अंक प्राप्त हुए। असाइनमेंट में उसके कितने अंक हो सकते थे, यदि प्रस्तुत करने में कोई विलंब न होता?

- Ans
- 1. 150
 - 2. 155
 - 3. 140
 - 4. 145

Question ID : 264330116791

Status : Answered

Chosen Option : 1

Q.5 एक शिक्षक ने कक्षा में एक यूनिट टेस्ट आयोजित किया। यदि 30 छात्रों में से 14 छात्रों ने 80 और शेष 16 छात्रों ने 65 अंक प्राप्त किए, तो भारत औसत अंक क्या होंगे?

- Ans
- 1. 70
 - 2. 72
 - 3. 76
 - 4. 75

Question ID : 26433075640

Status : Answered

Chosen Option : 2

Q.6 किसी देश की जनसंख्या में पहले वर्ष में 8% की वृद्धि होती है, दूसरे वर्ष में 10% की कमी होती है और तीसरे वर्ष में फिर से 6% की वृद्धि होती है। यदि वर्तमान जनसंख्या 6 करोड़ है, तो 3 वर्ष बाद जनसंख्या वृद्धि ज्ञात कीजिए।

- Ans
- 1. 18,99,500
 - 2. 20,35,000
 - 3. 18,19,200
 - 4. 19,19,200

Question ID : 26433075118
Status : Answered
Chosen Option : 3

Q.7 यदि किसी शंकाकार पात्र की त्रिज्या 4 cm और आयतन $16\pi \text{ cm}^3$ है, तो उसका वक्रपृष्ठीय क्षेत्रफल है।

- Ans
- 1. $16\pi \text{ cm}^2$
 - 2. $20\pi \text{ cm}^2$
 - 3. $4\pi \text{ cm}^2$
 - 4. $12\pi \text{ cm}^2$

Question ID : 26433073048
Status : Answered
Chosen Option : 2

Q.8 एक महिला अपनी कुल आय का 20 प्रतिशत मकान किराए पर और शेष राशि का 75 प्रतिशत घरेलू सामान पर खर्च करती है। यदि वह ₹600 बचाती है, तो उसकी आय क्या है?

- Ans
- 1. ₹3,000
 - 2. ₹1500
 - 3. ₹4,000
 - 4. ₹2,000

Question ID : 26433079853
Status : Answered
Chosen Option : 1

Q.9 अनिल और बबलू दिए गए कार्य को 50 दिनों में कर सकते हैं, बबलू और कैडी उसी कार्य को 60 दिनों में कर सकते हैं, और अनिल, बबलू और कैडी इसे 30 दिनों में पूरा कर सकते हैं। बबलू द्वारा कुल कार्य को पूरा करने के लिए आवश्यक दिनों की संख्या ज्ञात करें।

- Ans
- 1. 400 दिन
 - 2. 550 दिन
 - 3. 450 दिन
 - 4. 300 दिन

Question ID : 264330116871
Status : Answered
Chosen Option : 4

Q.10

यदि $\frac{a}{6} = \frac{b}{10} = \frac{c}{4}$ है, तो $\frac{a+b+c}{a}$ किसके बराबर है?

Ans

✗ 1. $\frac{20}{3}$

✗ 2. 4

✗ 3. 2

✓ 4. $\frac{10}{3}$

Question ID : 26433075813

Status : Answered

Chosen Option : 4

Q.11 T, स्थान A से B, जो 50 km की दूरी पर स्थित हैं, के बीच की आधी दूरी 20 मिनट में तय करता है। दूसरे आधे भाग के दौरान, उसकी चाल (km/h में) कितनी होनी चाहिए, ताकि A से B तक उसकी औसत चाल 80 km/h हो?

Ans

✗ 1. 57.8

✗ 2. 87.5

✗ 3. 75.8

✓ 4. 85.7

Question ID : 26433071260

Status : Answered

Chosen Option : 1

Q.12 A और B अकेले एक काम को पूरा करने में क्रमशः 4 और 6 घंटे का समय लेते हैं। यदि वे बारी-बारी से एक-एक घंटे काम करते हैं, पहले A से शुरू करते हैं, तो उन्हें काम पूरा करने में कितना समय लगेगा?

Ans

✗ 1. $\frac{17}{3}$ घंटे

✗ 2. $\frac{13}{3}$ घंटे

✗ 3. $\frac{11}{3}$ घंटे

✓ 4. $\frac{14}{3}$ घंटे

Question ID : 26433076110

Status : Answered

Chosen Option : 4

Q.13 50 फल बेचने पर, एक फल विक्रेता को 10 फलों का विक्रय मूल्य प्राप्त होता है। लाभ प्रतिशत ज्ञात कीजिए।

- Ans
- 1. 32%
 - 2. 30%
 - 3. 28%
 - 4. 25%

Question ID : 26433074277
Status : Answered
Chosen Option : 4

Q.14 A ने Rs. 6,00,000 में 150 ग्राम सोना खरीदा और 6% मेकिंग चार्ज दिया। 6% लाभ प्राप्त करने के लिए प्रति 10 ग्राम विक्रय मूल्य क्या होना चाहिए?

- Ans
- 1. Rs.44,494
 - 2. Rs.44,944
 - 3. Rs.44,449
 - 4. Rs.49,444

Question ID : 26433071254
Status : Answered
Chosen Option : 2

Q.15 2 संख्याओं का गुणनफल 1890 है और संख्याओं में 3 का अंतर है। संख्याओं का लघुत्तम समापवर्त्य ज्ञात करें।

- Ans
- 1. 450
 - 2. 540
 - 3. 630
 - 4. 720

Question ID : 264330116630
Status : Answered
Chosen Option : 3

Q.16 यदि ब्याज अर्धवार्षिक रूप से चक्रवृद्धि किया जाता है, तो Rs.1,000 पर एक वर्ष के लिए 20% प्रति वर्ष की दर से चक्रवृद्धि ब्याज ज्ञात कीजिए।

- Ans
- 1. Rs.209
 - 2. Rs.211
 - 3. Rs.208
 - 4. Rs.210

Question ID : 26433082980
Status : Answered
Chosen Option : 4

Q.17 यदि $2P = 3Q = 5R$ और $P + Q + R = 6200$, तो P और R के बीच का अंतर _____ है।

- Ans
- 1. 1200
 - 2. 3000
 - 3. 1800
 - 4. 2000

Question ID : 26433075491
Status : Answered
Chosen Option : 3

Q.18 3^{27} को 26 से भाग देने पर शेषफल क्या होगा?

- Ans
- 1. 3
 - 2. 0
 - 3. 1
 - 4. 2

Question ID : 26433080214
Status : Answered
Chosen Option : 3

Q.19 किसी उत्पाद का अंकित मूल्य 1000 रुपए है। यदि इसे 7 प्रतिशत छूट पर बेचा जाता है और डीलर 50 प्रतिशत लाभ अर्जित करता है, तो उत्पाद का लागत मूल्य क्या है?

- Ans
- 1. 840 रुपए
 - 2. 930 रुपए
 - 3. 720 रुपए
 - 4. 620 रुपए

Question ID : 264330116756
Status : Answered
Chosen Option : 4

Q.20 एक विमान किसी मैदान के चारों ओर उसकी चार भुजाओं के संलग्न 150 km/h, 300 km/h, 450 km/h और 600 km/h की चाल से उड़ता है। मैदान के चारों ओर घूमते हुए विमान की औसत चाल ज्ञात कीजिए।

- Ans
- 1. 288 km/h
 - 2. 228 km/h
 - 3. 350 km/h
 - 4. 225 km/h

Question ID : 26433073035
Status : Answered
Chosen Option : 3

Q.1 Select the most appropriate ANTONYM of the word given in brackets to fill in the blank.

Those who have _____ (humility) will definitely fall down.

- Ans
- 1. disrespect
 - 2. weakness
 - 3. pride
 - 4. veracity

Question ID : 26433070458
Status : Not Answered
Chosen Option : --

Q.2 Select the most appropriate synonym of the given word.

Early

- Ans
- 1. Complex
 - 2. Late
 - 3. Tardy
 - 4. Beforehand

Question ID : 26433088927
Status : Not Answered
Chosen Option : --

Q.3 Select the most appropriate synonym of the given word.

Obstruct

- Ans
- 1. Magnify
 - 2. Separate
 - 3. Obey
 - 4. Block

Question ID : 26433073464
Status : Not Answered
Chosen Option : --

Q.4 Select the most appropriate option to fill in the blank.

Arun has experienced severe mental and emotional turmoil, as well as interpersonal _____ at times.

- Ans
- 1. symptoms
 - 2. dizziness
 - 3. fatigue
 - 4. numbness

Question ID : 26433073618
Status : Not Answered
Chosen Option : --

Q.5 Select the most appropriate option that can substitute the underlined segment in the given sentence.

I was very much surprised to see Mariam at the party.

- Ans
- 1. stalked
 - 2. astonished
 - 3. bowled
 - 4. aghast

Question ID : 26433086461
Status : Not Answered
Chosen Option : --

Q.6 Select the most appropriate meaning of the given idiom.

Pull yourself together

- Ans
- 1. Calm down
 - 2. Brew new problems
 - 3. Transform society
 - 4. Enervate the downtrodden

Question ID : 26433073994
Status : Not Answered
Chosen Option : --

Q.7 Select the most appropriate meaning of the underlined idiom in the given sentence.

Even though his car was badly damaged in the accident, Rohan did not turn a hair.

- Ans
- 1. Demand compensation
 - 2. Change the hairstyle
 - 3. Understand anything
 - 4. To show no outward emotion

Question ID : 26433071997
Status : Not Answered
Chosen Option : --

Q.8 Parts of the following sentence have been given as options. Select the option that contains an error.

Dad, will you get me a box of crayons / on your way home? Teacher told us yesterday, "You must bring / a box of crayons with you to the drawing class./ Or I will not be let you stay in the class."

- Ans
- 1. on your way home? Teacher said yesterday, "You must bring
 - 2. Or I will not be let you stay in the class".
 - 3. a box of crayons with you to the drawing class.
 - 4. Dad, will you get me a box of crayons

Question ID : 26433099126
Status : Not Answered
Chosen Option : --

Q.9 Select the most appropriate option that can substitute the underlined segment in the given sentence. If there is no need to substitute it, select 'No substitution'.
When I was young, I can memorise lessons faster than Mohan.

- Ans
- 1. I could memorise lessons faster to Mohan
 - 2. I could memorise lessons faster than Mohan
 - 3. No substitution
 - 4. I can memorise lessons faster to Mohan

Question ID : 26433093074
Status : Not Answered
Chosen Option : --

Q.10 Select the most appropriate ANTONYM of the given word.

Flatter

- Ans
- 1. Insult
 - 2. Adulate
 - 3. Cajole
 - 4. Soil

Question ID : 26433072213
Status : Not Answered
Chosen Option : --

Q.11 Select the most appropriate ANTONYM of the word given in brackets to fill in the blank.

Watching the singer perform live at the concert _____ (alert) the audience for a moment.

- Ans
- 1. called
 - 2. summoned
 - 3. distracted
 - 4. shunned

Question ID : 26433092930
Status : Not Answered
Chosen Option : --

Q.12 Select the INCORRECTLY spelt word.

- Ans
- 1. Perceive
 - 2. Mischief
 - 3. Acheive
 - 4. Receive

Question ID : 26433072364
Status : Not Answered
Chosen Option : --

Q.13 Select the **INCORRECTLY** spelt word.

- Ans 1. Quotable
 2. Volunter
 3. Raisin
 4. Pamphlet

Question ID : 26433073735
Status : **Not Answered**
Chosen Option : --

Q.14 Select the most appropriate option to fill in the blanks and make the sentence meaningful.

I taught my son the _____ way to tie a _____.

- Ans 1. write; not
 2. write; knot
 3. right; not
 4. right; knot

Question ID : 26433092098
Status : **Not Answered**
Chosen Option : --

Q.15 Select the most appropriate **ANTONYM** of the given word.

Encircle

- Ans 1. Embrace
 2. Entire
 3. Exclude
 4. Entice

Question ID : 26433072207
Status : **Not Answered**
Chosen Option : --

Comprehension:

In the following passage, some words have been deleted. Read the passage carefully and select the most appropriate option to fill in each blank.

Advertising (1) _____ initially meant to make people aware of the goods available in the market. It was as simple as announcing what you have in your store or the services you offer on your (2) _____. Over the years, advertising has evolved into a major industry that goes beyond informing, persuading and influencing. It is a form of brainwashing consumers. Advertising has become a type of culture with ardent followers. In the process, it attracts enviable attention from manufacturers and service providers who fancy an (3) _____ over their competitors. Unfortunately, in keeping with the ever-increasing demands of the manufacturers, the advertisers have resulted in creating unnecessary wants and (4) _____ consumption in most of us. This is a craving for harmful products that we are better off without. It (5) _____ on our minds rendering us completely irrational. The billboards (hoardings), television and radio advertisements target us from a very early age, forming our view of the world as we grow into adults. The buzzwords in advertising are, 'you are cool and sophisticated' if you use this or that product.

SubQuestion No : 16

Q.16 Select the most appropriate option to fill in blank number 1.

- Ans
- 1. will
 - 2. is
 - 3. are
 - 4. was

Question ID : 26433072023

Status : Not Answered

Chosen Option : --

Comprehension:

In the following passage, some words have been deleted. Read the passage carefully and select the most appropriate option to fill in each blank.

Advertising (1) _____ initially meant to make people aware of the goods available in the market. It was as simple as announcing what you have in your store or the services you offer on your (2) _____. Over the years, advertising has evolved into a major industry that goes beyond informing, persuading and influencing. It is a form of brainwashing consumers. Advertising has become a type of culture with ardent followers. In the process, it attracts enviable attention from manufacturers and service providers who fancy an (3) _____ over their competitors. Unfortunately, in keeping with the ever-increasing demands of the manufacturers, the advertisers have resulted in creating unnecessary wants and (4) _____ consumption in most of us. This is a craving for harmful products that we are better off without. It (5) _____ on our minds rendering us completely irrational. The billboards (hoardings), television and radio advertisements target us from a very early age, forming our view of the world as we grow into adults. The buzzwords in advertising are, 'you are cool and sophisticated' if you use this or that product.

SubQuestion No : 17

Q.17 Select the most appropriate option to fill in blank number 2.

- Ans
- 1. premises
 - 2. abode
 - 3. places
 - 4. estate

Question ID : 26433072024

Status : Not Answered

Chosen Option : --

Comprehension:

In the following passage, some words have been deleted. Read the passage carefully and select the most appropriate option to fill in each blank.

Advertising (1) _____ initially meant to make people aware of the goods available in the market. It was as simple as announcing what you have in your store or the services you offer on your (2) _____. Over the years, advertising has evolved into a major industry that goes beyond informing, persuading and influencing. It is a form of brainwashing consumers. Advertising has become a type of culture with ardent followers. In the process, it attracts enviable attention from manufacturers and service providers who fancy an (3) _____ over their competitors. Unfortunately, in keeping with the ever-increasing demands of the manufacturers, the advertisers have resulted in creating unnecessary wants and (4) _____ consumption in most of us. This is a craving for harmful products that we are better off without. It (5) _____ on our minds rendering us completely irrational. The billboards (hoardings), television and radio advertisements target us from a very early age, forming our view of the world as we grow into adults. The buzzwords in advertising are, 'you are cool and sophisticated' if you use this or that product.

SubQuestion No : 18

Q.18 Select the most appropriate option to fill in blank number 3.

- Ans
- 1. mastery
 - 2. authority
 - 3. empire
 - 4. edge

Question ID : 26433072025

Status : **Not Answered**

Chosen Option : --

Comprehension:

In the following passage, some words have been deleted. Read the passage carefully and select the most appropriate option to fill in each blank.

Advertising (1) _____ initially meant to make people aware of the goods available in the market. It was as simple as announcing what you have in your store or the services you offer on your (2) _____. Over the years, advertising has evolved into a major industry that goes beyond informing, persuading and influencing. It is a form of brainwashing consumers. Advertising has become a type of culture with ardent followers. In the process, it attracts enviable attention from manufacturers and service providers who fancy an (3) _____ over their competitors. Unfortunately, in keeping with the ever-increasing demands of the manufacturers, the advertisers have resulted in creating unnecessary wants and (4) _____ consumption in most of us. This is a craving for harmful products that we are better off without. It (5) _____ on our minds rendering us completely irrational. The billboards (hoardings), television and radio advertisements target us from a very early age, forming our view of the world as we grow into adults. The buzzwords in advertising are, 'you are cool and sophisticated' if you use this or that product.

SubQuestion No : 19

Q.19 Select the most appropriate option to fill in blank number 4.

- Ans
- 1. redundant
 - 2. ample
 - 3. excess
 - 4. unneeded

Question ID : 26433072026

Status : **Not Answered**

Chosen Option : --

Comprehension:

In the following passage, some words have been deleted. Read the passage carefully and select the most appropriate option to fill in each blank.

Advertising (1) _____ initially meant to make people aware of the goods available in the market. It was as simple as announcing what you have in your store or the services you offer on your (2) _____. Over the years, advertising has evolved into a major industry that goes beyond informing, persuading and influencing. It is a form of brainwashing consumers. Advertising has become a type of culture with ardent followers. In the process, it attracts enviable attention from manufacturers and service providers who fancy an (3) _____ over their competitors. Unfortunately, in keeping with the ever-increasing demands of the manufacturers, the advertisers have resulted in creating unnecessary wants and (4) _____ consumption in most of us. This is a craving for harmful products that we are better off without. It (5) _____ on our minds rendering us completely irrational. The billboards (hoardings), television and radio advertisements target us from a very early age, forming our view of the world as we grow into adults. The buzzwords in advertising are, 'you are cool and sophisticated' if you use this or that product.

SubQuestion No : 20

Q.20 Select the most appropriate option to fill in blank number 5.

- Ans
- 1. assassinates
 - 2. sacrifices
 - 3. victimises
 - 4. preys

Question ID : 26433072027
Status : Not Answered
Chosen Option : --

Section : Part-D-Hindi

Q.1 'मुनाफ़ा' शब्द का विलोम क्या है?

- Ans
- 1. नफ़ा
 - 2. लाभ
 - 3. नुक़सान
 - 4. फ़ायदा

Question ID : 26433067092
Status : Answered
Chosen Option : 3

Q.2 निम्नलिखित विकल्पों में से दिए गए वाक्यांश के लिए उपयुक्त शब्द चुनें।
भयभीत करने वाला

- Ans
- 1. त्रिक
 - 2. त्रासक
 - 3. त्रासद
 - 4. त्रिकांडी

Question ID : 26433069994
Status : Answered
Chosen Option : 3

Q.3 'पिताजी ने मिठाई लावेंगे।'
उपरोक्त वाक्य में त्रुटि पहचानकर वाक्य शुद्ध कीजिए।

- Ans
- 1. पिताजी ने मिठाई लाएँगे।
 - 2. पिताजी मिठाई लाएँगे।
 - 3. पिताजी ने मिठाई लाए।
 - 4. पिताजी मिठाइयाँ लावेंगे।

Question ID : 26433063045
Status : Answered
Chosen Option : 2

Q.4 'जिसका जन्म पहले हुआ हो' वाक्यांश के लिए उचित शब्द बताइए।

- Ans
- 1. प्रथम
 - 2. अग्रज
 - 3. अनुज
 - 4. भ्राता

Question ID : 26433065903
Status : Answered
Chosen Option : 2

Q.5 निम्नलिखित शब्दों में से कौन सा शब्द अनेकार्थी शब्द है?

- Ans
- 1. गाय
 - 2. हरिण
 - 3. बंदर
 - 4. भैंस

Question ID : 26433091316
Status : Answered
Chosen Option : 2

Q.6 'राजा महेंद्र ने हाथी पर सवार होकर नगर भ्रमण किया।'
निम्नलिखित में से कौन सा शब्द उपरोक्त वाक्य में प्रयुक्त 'हाथी' शब्द का पर्यायवाची नहीं है?

- Ans
- 1. करी
 - 2. सारंग
 - 3. गज
 - 4. कुंजर

Question ID : 26433069738
Status : Answered
Chosen Option : 4

Q.7 'दंग रह जाना' मुहावरे का क्या अर्थ है?

- Ans
- 1. बहुत सताना
 - 2. बहुत खुश होना
 - 3. बहुत हैरान होना
 - 4. बहुत परेशान होना

Question ID : 26433066806
Status : Answered
Chosen Option : 3

Q.8 निम्नलिखित में से अशुद्ध वाक्य कौन-सा है?

- Ans
- 1. सुनैना आज घर आ रही है।
 - 2. हम भी धूप और पानी में खड़े हो सकते हैं।
 - 3. साहित्य का आधार जीवन है।
 - 4. बाघ और बकरी एक घाट पर पानी पीती हैं।

Question ID : 26433066991
Status : Answered
Chosen Option : 4

Q.9 निम्न वाक्य में रेखांकित अंश के स्थान पर आने वाले सबसे उपयुक्त विकल्प का चयन कीजिए।
प्रेम करना तलवार की नोक पर चलना है।

- Ans
- 1. धार
 - 2. ऊपर
 - 3. नाक
 - 4. किनारे

Question ID : 26433066869
Status : Answered
Chosen Option : 1

Q.10 'बोलने वाला' वाक्यांश के लिए सार्थक शब्द है-

- Ans
- 1. वाणी
 - 2. वक्ता
 - 3. विचारक
 - 4. यायावर

Question ID : 26433062225
Status : Answered
Chosen Option : 2

Q.11 निम्नलिखित वाक्य में रेखांकित एकार्थी शब्दों के उपयुक्त अर्थ बताएं।
शमशेर बहुत ही 'विदुर' व्यक्ति हैं, अफसोस कि वे 'विधुर' हैं।

- Ans
- 1. सन्यासी- पंडित
 - 2. जिसकी पत्नी मर गई हो- पंडित
 - 3. ज्ञानी- जिसकी पत्नी मर गई हो
 - 4. ज्ञानी- अज्ञानी

Question ID : 26433091330
Status : Answered
Chosen Option : 3

Q.12 निम्न वाक्य में त्रुटि पहचानकर वाक्य शुद्ध कीजिए।
'मोहन को मिलो और उससे यह बात बताओ।'

- Ans
- 1. मोहन को मिलकर बात बताओ।
 - 2. मोहन से मिलो और उसे यह बात बताओ।
 - 3. मोहन ने मिलकर बात बोली।
 - 4. मोहन से मिलिए और उनको यह बताओ।

Question ID : 26433063036
Status : Answered
Chosen Option : 2

Q.13 'गंगा' के लिए 'मंदाकिनी' शब्द का प्रयोग होता है। इसके बदले में और क्या शब्द हो सकता है?

- Ans
- 1. सलिल
 - 2. तरंगिनी
 - 3. देवनदी
 - 4. कलानिधि

Question ID : 26433062688
Status : Answered
Chosen Option : 3

Q.14 निम्नलिखित मुहावरे के लिए उपयुक्त सार्थक शब्द क्या होगा?
न जाने ऊंट किस करवट बैठेगा

- Ans
- 1. विश्वास
 - 2. निराश होना
 - 3. बैठना
 - 4. अनिश्चितता

Question ID : 26433065773
Status : Answered
Chosen Option : 4

Q.15 निम्नलिखित में से शुद्ध वर्तनी वाला शब्द कौन-सा है?

- Ans
- 1. अभिनेट
 - 2. अभीनेता
 - 3. अभिनेता
 - 4. अभीनेत्रा

Question ID : 26433066748

Status : Answered

Chosen Option : 3

Comprehension:

निम्नलिखित गद्यांश में कुछ शब्दों को हटा दिया गया है। दिए गए विकल्पों की सहायता से रिक्त स्थानों की पूर्ति कीजिए। प्रत्येक संख्या के लिए सबसे उपयुक्त विकल्प का चयन कीजिए।
मानव जब जोर लगाता है, पत्थर पानी बन जाता है। मनुष्य के पास इतनी 1. _____ है कि वह सभी कुछ कर सकता है। इसी भरोसे पर वह अपना और अपने 2. _____ का लालन-पालन करता है। समाज में छोटे-बड़े, निर्धन-धनी का होना 3. _____ है। समाज में धनवान का आदर होता है जबकि मज़दूर को 4. _____ समझा जाता है। कड़ी मेहनत के बावजूद उसे वह आदर नहीं मिलता जो एक 5. _____ को मिलना चाहिए।

SubQuestion No : 16

Q.16 रिक्त स्थान 1 की पूर्ति के लिए सबसे उपयुक्त विकल्प का चयन कीजिए।

- Ans
- 1. शक्ति
 - 2. आदर
 - 3. विषय
 - 4. कार्य

Question ID : 264330110975

Status : Answered

Chosen Option : 1

Comprehension:

निम्नलिखित गद्यांश में कुछ शब्दों को हटा दिया गया है। दिए गए विकल्पों की सहायता से रिक्त स्थानों की पूर्ति कीजिए। प्रत्येक संख्या के लिए सबसे उपयुक्त विकल्प का चयन कीजिए।
मानव जब जोर लगाता है, पत्थर पानी बन जाता है। मनुष्य के पास इतनी 1. _____ है कि वह सभी कुछ कर सकता है। इसी भरोसे पर वह अपना और अपने 2. _____ का लालन-पालन करता है। समाज में छोटे-बड़े, निर्धन-धनी का होना 3. _____ है। समाज में धनवान का आदर होता है जबकि मज़दूर को 4. _____ समझा जाता है। कड़ी मेहनत के बावजूद उसे वह आदर नहीं मिलता जो एक 5. _____ को मिलना चाहिए।

SubQuestion No : 17

Q.17 रिक्त स्थान 2 की पूर्ति के लिए सबसे उपयुक्त विकल्प का चयन कीजिए।

- Ans
- 1. पड़ोसी
 - 2. घर
 - 3. आपका
 - 4. परिवार

Question ID : 264330110976

Status : Answered

Chosen Option : 4

Comprehension:

निम्नलिखित गद्यांश में कुछ शब्दों को हटा दिया गया है। दिए गए विकल्पों की सहायता से रिक्त स्थानों की पूर्ति कीजिए। प्रत्येक संख्या के लिए सबसे उपयुक्त विकल्प का चयन कीजिए।
मानव जब जोर लगाता है, पत्थर पानी बन जाता है। मनुष्य के पास इतनी 1. _____ है कि वह सभी कुछ कर सकता है। इसी भरोसे पर वह अपना और अपने 2. _____ का लालन-पालन करता है। समाज में छोटे-बड़े, निर्धन-धनी का होना 3. _____ है। समाज में धनवान का आदर होता है जबकि मज़दूर को 4. _____ समझा जाता है। कड़ी मेहनत के बावजूद उसे वह आदर नहीं मिलता जो एक 5. _____ को मिलना चाहिए।

SubQuestion No : 18

Q.18 रिक्त स्थान 3 की पूर्ति के लिए सबसे उपयुक्त विकल्प का चयन कीजिए।

- Ans
- 1. ज़रूरी
 - 2. अनावश्यक
 - 3. अकथनीय
 - 4. स्वाभाविक

Question ID : 264330110977

Status : Answered

Chosen Option : 4

Comprehension:

निम्नलिखित गद्यांश में कुछ शब्दों को हटा दिया गया है। दिए गए विकल्पों की सहायता से रिक्त स्थानों की पूर्ति कीजिए। प्रत्येक संख्या के लिए सबसे उपयुक्त विकल्प का चयन कीजिए।
मानव जब जोर लगाता है, पत्थर पानी बन जाता है। मनुष्य के पास इतनी 1. _____ है कि वह सभी कुछ कर सकता है। इसी भरोसे पर वह अपना और अपने 2. _____ का लालन-पालन करता है। समाज में छोटे-बड़े, निर्धन-धनी का होना 3. _____ है। समाज में धनवान का आदर होता है जबकि मज़दूर को 4. _____ समझा जाता है। कड़ी मेहनत के बावजूद उसे वह आदर नहीं मिलता जो एक 5. _____ को मिलना चाहिए।

SubQuestion No : 19

Q.19 रिक्त स्थान 4 की पूर्ति के लिए सबसे उपयुक्त विकल्प का चयन कीजिए।

- Ans
- 1. तुच्छ
 - 2. सम्मान
 - 3. प्रथम
 - 4. सही

Question ID : 264330110978

Status : Answered

Chosen Option : 1

Comprehension:

निम्नलिखित गद्यांश में कुछ शब्दों को हटा दिया गया है। दिए गए विकल्पों की सहायता से रिक्त स्थानों की पूर्ति कीजिए। प्रत्येक संख्या के लिए सबसे उपयुक्त विकल्प का चयन कीजिए।
मानव जब जोर लगाता है, पत्थर पानी बन जाता है। मनुष्य के पास इतनी 1. _____ है कि वह सभी कुछ कर सकता है। इसी भरोसे पर वह अपना और अपने 2. _____ का लालन-पालन करता है। समाज में छोटे-बड़े, निर्धन-धनी का होना 3. _____ है। समाज में धनवान का आदर होता है जबकि मज़दूर को 4. _____ समझा जाता है। कड़ी मेहनत के बावजूद उसे वह आदर नहीं मिलता जो एक 5. _____ को मिलना चाहिए।

SubQuestion No : 20

Q.20 रिक्त स्थान 5 की पूर्ति के लिए सबसे उपयुक्त विकल्प का चयन कीजिए।

- Ans
- 1. बच्चों
 - 2. परिवार
 - 3. मनुष्य
 - 4. पड़ोसी

Question ID : 264330110979

Status : Answered

Chosen Option : 3

WWW.GOV TJOB SALE