

# Constable GD in CAPFs SSF Rifleman GD in Assam Rifles and Sepoy in NCB Examination 2022

Roll Number	<a href="http://www.govtjobsalert.in">www.govtjobsalert.in</a>
Candidate Name	<a href="http://www.govtjobsalert.in">www.govtjobsalert.in</a>
Venue Name	iON Digital Zone iDZ5 Patliputra
Exam Date	30/01/2023
Exam Time	5:15 PM - 6:15 PM
Subject	Constable GD Examination 2022

## Section : Part-A-General Intelligence and Reasoning

Q.1 निम्नलिखित में से कौन-सा पद दी गई शृंखला में प्रश्न-चिह्न (?) के स्थान पर आएगा?  
?, CSAT, BPVM, AMQF, ZJLY

- Ans
- 1. VDFB
  - 2. AVRF
  - 3. DVFA
  - 4. FVDA

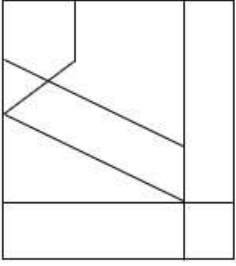
Question ID : 26433068988

Status : Answered

Chosen Option : 3

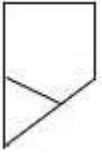
Q.2 वह विकल्प चित्र चुनिए, जो प्रस्तुत चित्र में अंतर्निहित है। (घुमाना अनुमन्य नहीं

है)

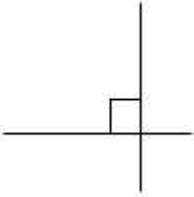


Ans

✓ 1.



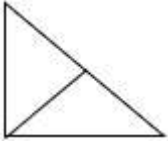
✗ 2.



✗ 3.



✗ 4.



Question ID : 26433069352

Status : Answered

Chosen Option : 1

Q.3 उस विकल्प का चयन कीजिए जो तीसरे शब्द से उसी प्रकार संबंधित है जिस प्रकार दूसरा शब्द पहले शब्द से संबंधित है। (शब्दों को अर्थपूर्ण शब्दों के रूप में मानना है और उन्हें शब्द में अक्षरों/व्यंजनों/स्वरों की संख्या के आधार पर एक-दूसरे से संबंधित नहीं करना है।)

काँस्मोलॉजी : ब्रह्मांड :: माँफोलॉजी : \_\_\_\_\_

Ans ✗ 1. वृक्षों

✗ 2. रेडियो

✗ 3. कार्यप्रणाली

✓ 4. सजीवों की संरचना

Question ID : 26433078826

Status : Answered

Chosen Option : 4

Q.4 छः विद्यार्थी - तान्या, रूप, जौहर, सोमा, मानवी और दीप एक वृत्ताकार मेज के परितः केंद्र की ओर मुख करके बैठे हैं। सोमा, दीप के दाईं ओर दूसरे स्थान पर बैठी है। सोमा, मानवी और जौहर दोनों के ठीक बगल में है। रूप, जौहर के बाईं ओर दूसरे स्थान पर बैठा है। दीप, जौहर और रूप दोनों के ठीक बगल में है। इनमें से कौन तान्या और दीप के ठीक बगल में बैठा/बैठी है?

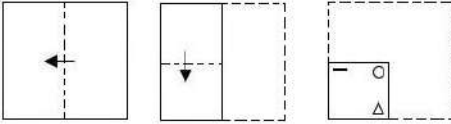
- Ans
- 1. सोमा
  - 2. रूप
  - 3. मानवी
  - 4. जौहर

Question ID : 26433069128

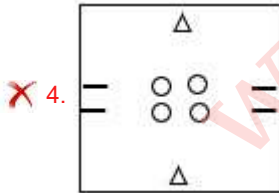
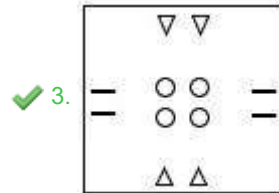
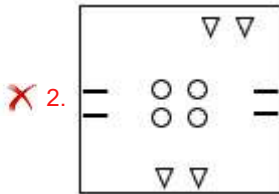
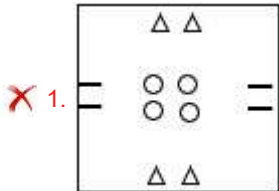
Status : Answered

Chosen Option : 2

Q.5 एक कागज को नीचे दर्शाए गए अनुसार मोड़ा और काटा जाता है। खोले जाने पर यह कैसा दिखाई देगा?



Ans



Question ID : 26433090088

Status : Answered

Chosen Option : 3

Q.6 उस विकल्प का चयन कीजिए जो पांचवें अक्षर-समूह से उसी प्रकार संबंधित है जिस प्रकार दूसरा अक्षर-समूह पहले अक्षर-समूह से संबंधित है और चौथा अक्षर-समूह तीसरे अक्षर-समूह से संबंधित है।  
HALF: SFOT :: DAMP: WFNJ :: AREA: ?

- Ans
- 1. ZIVZ
  - 2. ZWVY
  - 3. YMJZ
  - 4. FWJY

Question ID : 26433057490  
Status : Answered  
Chosen Option : 2

Q.7 दिए गए समीकरण को संतुलित करने के लिए इसमें किन दो संख्याओं(अंकों को नहीं) और किन दो चिह्नों को आपस में बदला जाना चाहिए?  
 $100 \times 5 - 110 \div 2 + 12 = 210$

- Ans
- 1. 2 और 12;  $\times$  और  $+$
  - 2. 5 और 2;  $+$  और  $-$
  - 3. 12 और 5;  $\times$  और  $-$
  - 4. 2 और 12;  $\div$  और  $\times$

Question ID : 26433092745  
Status : Answered  
Chosen Option : 2

Q.8 एक निश्चित कूट भाषा में, 'DESIGN' को 'TFEPIK' के रूप में लिखा जाता है और 'DESIRE' को 'TFEGTK' के रूप में लिखा जाता है। उसी भाषा में 'DEVICE' को किस प्रकार लिखा जाएगा?

- Ans
- 1. ECIVED
  - 2. VEDGEK
  - 3. VEDECI
  - 4. WFEGEK

Question ID : 26433090041  
Status : Answered  
Chosen Option : 2

Q.9 नीचे दिए गए समीकरण को गणितीय रूप से सही बनाने के लिए किन दो चिह्नों को परस्पर बदलना चाहिए?  
 $64 - 16 \times 25 \div 80 + 10 = 59$

- Ans
- 1.  $-$  और  $+$
  - 2.  $\div$  और  $\times$
  - 3.  $\times$  और  $-$
  - 4.  $\div$  और  $-$

Question ID : 264330117508  
Status : Answered  
Chosen Option : 1

Q.10

दर्पण को नीचे दिए गए चित्र के अनुसार MN पर रखे जाने पर दी गई आकृति का दर्पण में निर्मित सही प्रतिबिंब चयनित कीजिए।

**F G R z c 6 n W**

**M ————— N**

Ans

- ✗ 1. **E C B Z C 9 U M**
- ✗ 2. **E G Y Z C e U M**
- ✓ 3. **E C B Z C e U M**
- ✗ 4. **W n 9 c z R G F**

Question ID : 26433080800

Status : Answered

Chosen Option : 3

Q.11 उस समुच्चय का चयन करें, जिसमें संख्याएँ उसी प्रकार संबंधित हैं, जिस प्रकार निम्नलिखित समुच्चयों की संख्याएँ हैं।

(नोट: संख्याओं को उसके घटक अंकों में विभाजित किए बिना, पूर्ण संख्याओं पर ही गणितीय संक्रियाएँ की जानी चाहिए। जैसे 13 - मान लीजिए 13 पर गणितीय संक्रियाएँ जैसे कि 13 में जोड़ना/घटाना/गुणा करना आदि किया जा सकता है। 13 को 1 और 3 में तोड़कर और फिर 1 और 3 पर गणितीय संक्रियाएँ करने की अनुमति नहीं है।)

(10, 300, 40)

(12, 192, 20)

Ans

- ✗ 1. (16, 226, 30)
- ✓ 2. (18, 228, 20)
- ✗ 3. (20, 160, 10)
- ✗ 4. (17, 156, 12)

Question ID : 26433076483

Status : Answered

Chosen Option : 3

Q.12 दिए गए विकल्पों में से उस अक्षर-समूह का चयन कीजिए जो निम्न श्रृंखला में प्रश्न-चिह्न (?) के स्थान पर आ सकता है।

WGVJ, CCBP, IYHV, ?, UQTH

Ans

- ✗ 1. UMBR
- ✗ 2. OMNB
- ✓ 3. OUNB
- ✗ 4. UOME

Question ID : 26433074736

Status : Answered

Chosen Option : 3

Q.13 A @ B का अर्थ है 'A, B का पति है'।  
A & B का अर्थ है 'A, B की माता है'।  
A # B का अर्थ है 'A, B की पुत्री है'।  
A % B का अर्थ है 'A, B की बहन है'।  
यदि R # L % G @ V & P है, तो L, P से किस प्रकार संबंधित है?

- Ans
- 1. बुआ
  - 2. सास या ससुर
  - 3. दादा/दादी
  - 4. मौसी

Question ID : 26433069617  
Status : Answered  
Chosen Option : 1

Q.14 इस प्रश्न में तीन कथन दिए गए हैं, जिसके बाद दो निष्कर्ष I और II दिए गए हैं। कथनों को सत्य मानते हुए, भले ही वे सर्वज्ञात तथ्यों से भिन्न प्रतीत होते हों, निर्णय कीजिए कि कौन-सा/से निष्कर्ष कथनों का तार्किक रूप से अनुसरण करता है/अनुसरण करते हैं।

कथन:

कुछ कुर्सियाँ बेडशीट हैं।

सभी खाटें कुर्सियाँ हैं।

सभी तकिए बेडशीट हैं।

निष्कर्ष:

I. कुछ तकिए कुर्सियाँ हैं।

II. कुछ खाटें बेडशीट हैं।

- Ans
- 1. निष्कर्ष I और II दोनों अनुसरण करते हैं।
  - 2. न तो निष्कर्ष I और न ही II अनुसरण करता है।
  - 3. केवल निष्कर्ष II अनुसरण करता है।
  - 4. केवल निष्कर्ष I अनुसरण करता है।

Question ID : 26433070389  
Status : Answered  
Chosen Option : 2

Q.15 एक निश्चित कूट भाषा में, FLAME को 'LPGQK' लिखा जाता है, और BURNT को 'HYXRZ' लिखा जाता है। उसी कूट भाषा में 'FRIED' को किस प्रकार लिखा जाएगा?

- Ans
- 1. LVOJK
  - 2. LWPIJ
  - 3. LVPIJ
  - 4. LVOIJ

Question ID : 26433067991  
Status : Answered  
Chosen Option : 4

Q.16 छः व्यक्ति A, B, C, D, E और F एक वृत्ताकार मेज के परितः मेज के केंद्र की ओर मुख करके बैठे हैं। C, E के बाईं ओर दूसरे स्थान पर बैठा है। B, E और F के ठीक बगल में बैठा है। A, B के दाईं ओर दूसरे स्थान पर बैठा है। B के दाईं ओर से गणना करने पर, B और A के बीच में कौन बैठा है?

Ans  1. D

2. C

3. E

4. F

Question ID : 26433081516

Status : Answered

Chosen Option : 4

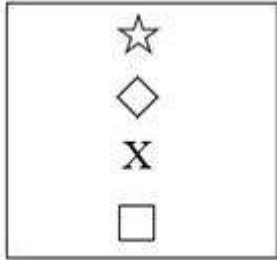
www.govtjobsalert.in

Q.17 दिए गए विकल्पों में से उस आकृति का चयन करें जो निम्न श्रृंखला में प्रश्नवाचक चिन्ह (?) के स्थान पर आ सकती है।

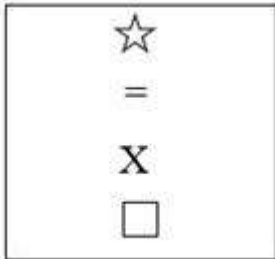
△	↑	=	
☆	□	X	
=	☆	□	?
↑	=	☆	

Ans

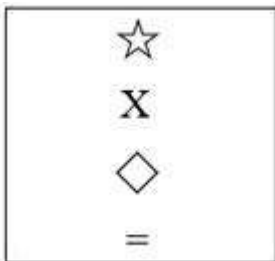
✓ 1.



✗ 2.



✗ 3.



✗ 4.



Question ID : 26433080758

Status : Answered

Chosen Option : 2



Q.18 निम्नलिखित में से कौन-सी संख्या दी गई श्रृंखला में प्रश्न चिह्न (?) के स्थान पर आएगी?  
0, 7, 26, 63, ?

- Ans  1. 69  
 2. 124  
 3. 81  
 4. 120

Question ID : 26433082734  
Status : Answered  
Chosen Option : 2

Q.19 उस विकल्प का चयन कीजिए जो नीचे दिए गए शब्दों के उस क्रम को निरूपित करता है जिस क्रम में वे अंग्रेजी शब्दकोश में आते हैं।

1. HALOGEN
2. HAIRY
3. HAIKU
4. HAND
5. HAMPER
6. HANK

- Ans  1. 3, 2, 1, 5, 4, 6  
 2. 4, 3, 1, 2, 5, 6  
 3. 2, 3, 1, 5, 4, 6  
 4. 3, 1, 2, 4, 5, 6

Question ID : 26433079378  
Status : Answered  
Chosen Option : 1

Q.20 निम्न श्रृंखला में प्रश्न-चिह्न (?) के स्थान पर कौन सी संख्या आएगी?  
182, 132, 90, 56, ?, 12, 2

- Ans  1. 52  
 2. 24  
 3. 30  
 4. 36

Question ID : 26433068474  
Status : Answered  
Chosen Option : 3

Section : Part-B-General Knowledge and General awareness

Q.1 कथक के प्रमुख विषय हिंदू धर्म के निम्नलिखित में से किस पंथ से जुड़े हैं?

- Ans  1. शक्तिवाद  
 2. शैववाद  
 3. बौद्ध धर्म  
 4. वैष्णववाद

Question ID : 26433086627  
Status : Answered  
Chosen Option : 2

Q.2 गद्दाम पद्मजा रेड्डी को किस नृत्य शैली में उनके योगदान से लिए पद्म श्री से सम्मानित किया गया?

- Ans
- 1. कुचिपुडी
  - 2. भरतनाट्यम
  - 3. लावणी
  - 4. कथकली

Question ID : 264330115823

Status : Answered

Chosen Option : 1

Q.3 भारत में लागू की गई अंतिम पंचवर्षीय योजना कौन सी है?

- Ans
- 1. बारहवीं
  - 2. ग्यारहवीं
  - 3. दसवीं
  - 4. तेरहवीं

Question ID : 264330116122

Status : Answered

Chosen Option : 1

Q.4 कैप्टन रूप सिंह स्टेडियम निम्नलिखित में से किस शहर में स्थित है?

- Ans
- 1. जबलपुर
  - 2. इंदौर
  - 3. ग्वालियर
  - 4. जयपुर

Question ID : 264330116251

Status : Answered

Chosen Option : 4

Q.5 निम्नलिखित में से कौन एक पेशेवर टेबल टेनिस खिलाड़ी है?

- Ans
- 1. सौरव घोषाल
  - 2. मनिका बत्रा
  - 3. पारुपल्ली कश्यप
  - 4. अपर्णा पोपट

Question ID : 264330115947

Status : Answered

Chosen Option : 1

Q.6 निम्नलिखित त्यौहारों में से किसे डाला पूजा के रूप में भी जाना जाता है, जो सूर्य की पूजा को समर्पित है और बिहार के लोगों द्वारा पारंपरिक रूप से मनाया जाता है?

- Ans
- 1. सामा चकेवा
  - 2. मधुश्रावणी
  - 3. बिहुला
  - 4. छठ पूजा

Question ID : 264330115126

Status : Answered

Chosen Option : 4

Q.7 भारतीय संविधान का कौन सा अनुच्छेद अल्पसंख्यक-वर्ग के हितों के संरक्षण से संबंधित है?

- Ans
- 1. 33
  - 2. 29
  - 3. 31
  - 4. 27

Question ID : 26433089945

Status : Not Answered

Chosen Option : --

Q.8 मार्च 2022 में, वन अनुसंधान संस्थान के निदेशक के रूप में किसे नियुक्त किया गया?

- Ans
- 1. विकास राणा
  - 2. अजय ठाकुर
  - 3. अरुण सिंह रावत
  - 4. रेणु सिंह

Question ID : 264330114998

Status : Answered

Chosen Option : 4

Q.9 भारत का वित्त आयोग अपनी रिपोर्ट \_\_\_\_\_ को प्रस्तुत करता है।

- Ans
- 1. नीति आयोग के प्रमुख
  - 2. भारत के वित्त मंत्री
  - 3. भारत के प्रधानमंत्री
  - 4. भारत के राष्ट्रपति

Question ID : 26433090672

Status : Answered

Chosen Option : 2

Q.10 1757 का वर्ष भारत में अंग्रेजी ईस्ट इंडिया कंपनी के लिए एक महत्वपूर्ण वर्ष क्यों था?

- Ans
- 1. 1757 में प्लासी की लड़ाई में नवाब सिराजुद्दौला को हराकर अंग्रेजी ईस्ट इंडिया कंपनी ने बंगाल पर अधिकार कर लिया।
  - 2. 1757 में प्लासी की लड़ाई में निजाम को हराकर अंग्रेजी ईस्ट इंडिया कंपनी ने हैदराबाद पर अधिकार कर लिया।
  - 3. 1757 में बरार की लड़ाई में नवाब सिराजुद्दौला को हराकर अंग्रेजी ईस्ट इंडिया कंपनी ने अवध पर अधिकार कर लिया।
  - 4. 1757 में प्लासी की लड़ाई में नवाब सिराजुद्दौला को हराकर अंग्रेजी ईस्ट इंडिया कंपनी ने मद्रास पर अधिकार कर लिया।

Question ID : 26433091464

Status : Answered

Chosen Option : 4

Q.11 रबी फसलों की खेती में निम्न में से क्या सहायक होता है?

- Ans
- 1. उत्तर-पश्चिमी पवनें
  - 2. महावत
  - 3. दक्षिण-पूर्वी व्यापारिक पवनें
  - 4. पश्चिमी जेट धाराएं

Question ID : 26433087884

Status : Answered

Chosen Option : 4

Q.12 \_\_\_\_\_ (NRLM) भारत सरकार द्वारा कार्यान्वित एक गरीबी उन्मूलन परियोजना है।

- Ans
- 1. राष्ट्रीय राशन आजीविका मिशन
  - 2. राष्ट्रीय ग्रामीण भूमि मिशन
  - 3. राष्ट्रीय ग्रामीण आजीविका मिशन
  - 4. राष्ट्रीय ग्रामीण जीवन मिशन

Question ID : 264330116169

Status : Not Answered

Chosen Option : --

Q.13 सायकस और पाइनस किस प्रकार के पौधे हैं?

- Ans
- 1. जिम्नोस्पर्म
  - 2. एंजियोस्पर्म
  - 3. टेरिडोफ़ाइट
  - 4. थैलोफ़ाइट

Question ID : 264330115206

Status : Not Answered

Chosen Option : --

Q.14 एक माइक्रोफाइनेंस ऋण को एक संपार्श्विक-मुक्त ऋण के रूप में परिभाषित किया गया है, जो उस परिवार को दिया जाता है जिसकी वार्षिक पारिवारिक आय रुपये \_\_\_\_\_ तक है।

- Ans
- 1. 600000
  - 2. 400000
  - 3. 500000
  - 4. 300000

Question ID : 264330115295  
Status : Answered  
Chosen Option : 3

Q.15 2011 की जनगणना के अनुसार किस राज्य का लिंगानुपात सबसे कम है?

- Ans
- 1. महाराष्ट्र
  - 2. राजस्थान
  - 3. हरियाणा
  - 4. बिहार

Question ID : 264330116032  
Status : Answered  
Chosen Option : 3

Q.16 निम्नलिखित में से कौन सा कथन गलत है?

- Ans
- 1. द्रव्य की बूंदों का गोलाकार आकार द्रव्यों में पृष्ठ तनाव के गुण के कारण होता है।
  - 2. बर्फ का गलनांक दाब घटने से घटता है।
  - 3. वाष्पीकरण केवल द्रव्यों की सतह पर होता है।
  - 4. अधिक ऊंचाई पर तरल कम तापमान पर उबलता है, क्योंकि उच्च ऊंचाई पर वायुमंडलीय दबाव कम होता है।

Question ID : 264330115180  
Status : Answered  
Chosen Option : 3

Q.17 एमएस स्वामीनाथन (भारत में हरित क्रांति के जनक), पेशे से एक \_\_\_\_\_ थे।

- Ans
- 1. न्यायाधीश
  - 2. पुलिस अधिकारी
  - 3. वैज्ञानिक
  - 4. सेना अधिकारी

Question ID : 264330115423  
Status : Answered  
Chosen Option : 3

Q.18 किस केंद्रीय राज्य मंत्री ने सितंबर 2022 में चौथे राष्ट्रीय युवा पुलिस अधीक्षक सम्मेलन और पुलिस एक्सपो के उद्घाटन समारोह को संबोधित किया?

- Ans
- 1. मीनाक्षी लेखी
  - 2. अर्जुन मुंडा
  - 3. विश्वेश्वर टुडू
  - 4. नित्यानंद राय

Question ID : 264330114961  
Status : Not Answered  
Chosen Option : --

Q.19 किस वंश के शासक ने 999 में कंदारिया महादेव मंदिर का निर्माण करवाया था?

- Ans
- 1. चंदेल
  - 2. नंदा
  - 3. सुंग
  - 4. गुप्ता

Question ID : 264330106593  
Status : Answered  
Chosen Option : 1

Q.20 निम्नलिखित में से कौन-सा कृषि का उत्पाद है?

- Ans
- 1. फसलें
  - 2. हवा
  - 3. मशीनें
  - 4. पानी

Question ID : 264330115542  
Status : Answered  
Chosen Option : 1

Section : Part-C-Elementary Mathematics

Q.1 वह छोटी से छोटी संख्या, जिसमें से 5 घटाने पर 12, 16 और 18 से विभाज्य हो जाती है, \_\_\_\_\_ है।

- Ans
- 1. 173
  - 2. 161
  - 3. 149
  - 4. 137

Question ID : 26433082346  
Status : Answered  
Chosen Option : 3

Q.2 मोहन 20 km/h की चाल से घर से कार्यालय जाता है और एक निश्चित चाल से कार्यालय से घर लौटता है। यदि औसत चाल 24 km/h है, तो लौटते समय उसकी चाल क्या होगी?

- Ans  1. 30 km/h  
 2. 32 km/h  
 3. 28 km/h  
 4. 26 km/h

Question ID : 26433075690  
Status : Answered  
Chosen Option : 1

Q.3 यदि  $x = 3$  है, तो  $7x - 1$ ,  $9x + 5$  और  $8x + 1$  का चतुर्थानुपाती ज्ञात कीजिए।

- Ans  1. 40  
 2. 50  
 3. 60  
 4. 30

Question ID : 26433080183  
Status : Answered  
Chosen Option : 1

Q.4 यदि एक बेलन की ऊंचाई को अपरिवर्तित रखते हुए उसकी त्रिज्या को 20% बढ़ा दिया जाता है, तो बेलन के आयतन में कितने प्रतिशत की वृद्धि होती है?

- Ans  1. 24%  
 2. 44%  
 3. 50%  
 4. 40%

Question ID : 26433083060  
Status : Answered  
Chosen Option : 2

Q.5 मोहन 1500 मीटर परिधि वाले वृत्ताकार ट्रैक पर चलता है। यदि मोहन की चाल 75 metre/min है, तो मोहन द्वारा ट्रैक के एक चक्कर को पूरा करने में कितना समय लगेगा?

- Ans  1. 22 मिनट  
 2. 20 मिनट  
 3. 18 मिनट  
 4. 15 मिनट

Question ID : 26433075699  
Status : Answered  
Chosen Option : 2

Q.6 एक कार्य को A और B मिलकर 12 दिनों में, B और C मिलकर 15 दिनों में, C और A मिलकर 20 दिनों में पूरा कर सकते हैं। यदि A, B और C एक साथ कार्य करते हैं, तो उस कार्य को पूरा करने के लिए कितने दिनों की आवश्यकता होगी?

- Ans
- 1. 5
  - 2. 7
  - 3. 7.5
  - 4. 10

Question ID : 26433076205

Status : Answered

Chosen Option : 4

Q.7 समान क्षमता वाले दो पात्रों में दूध और पानी का अनुपात क्रमशः 3 : 4 और 3 : 1 है। यदि दोनों पात्रों को एक ऐसे बड़े पात्र में खाली कर दिया जाता है, जिसमें पूरे मिश्रण को समाहित करने की क्षमता है, तो बड़े पात्र में दूध और पानी का अनुपात क्या होगा?

- Ans
- 1. 23 : 11
  - 2. 33 : 21
  - 3. 33 : 23
  - 4. 32 : 31

Question ID : 26433076394

Status : Answered

Chosen Option : 3

Q.8 एक आदमी अपनी आय का 87% खर्च करता है। उसकी आय में 18% की वृद्धि हुई और उसने अपने व्यय में 17% की वृद्धि की। इसके बाद उसकी बचत में \_\_\_\_\_ की वृद्धि होगी। (केवल दो दशमलव तक विचार करें)

- Ans
- 1. 18.54%
  - 2. 29.2%
  - 3. 27.32%
  - 4. 24.69%

Question ID : 26433076266

Status : Answered

Chosen Option : 4

Q.9 किसी कक्षा में 60 छात्रों द्वारा एक विषय में प्राप्त औसत अंक 82 हैं। उस विषय में लड़कों और लड़कियों के औसत अंक क्रमशः 75 और 85 हैं। कक्षा में लड़कों की संख्या कितनी है?

- Ans
- 1. 30
  - 2. 32
  - 3. 18
  - 4. 26

Question ID : 26433076263

Status : Marked For Review

Chosen Option : 4



Q.10 A और B 330 रुपए के लिए एक कार्य करना आरम्भ करते हैं। A इसे 11 दिनों में कर सकता है और B इसे 22 दिनों में कर सकता है। C की सहायता से वे इसे 6 दिनों में समाप्त कर देते हैं। C को उसके काम के लिए कितना भुगतान किया जाना चाहिए?

- Ans
- 1. 60 रुपए
  - 2. 80 रुपए
  - 3. 70 रुपए
  - 4. 140 रुपए

Question ID : 264330116853

Status : Answered

Chosen Option : 1

Q.11 दो वर्षों में 4% प्रति वर्ष की दर से ₹ 20,000 पर चक्रवृद्धि ब्याज (₹ में, दो दशमलव स्थानों तक पूर्णांकित) क्या होगा, जबकि ब्याज अर्ध-वार्षिक रूप से चक्रवृद्धि किया जा रहा है?

- Ans
- 1. 1600.00
  - 2. 1548.64
  - 3. 1500.00
  - 4. 1648.64

Question ID : 26433075559

Status : Answered

Chosen Option : 4

Q.12 उस घन का आयतन ( $\text{cm}^3$  में) क्या होगा, जिसके सबसे लंबे विकर्ण का माप  $11\sqrt{3}$  cm है?

- Ans
- 1. 1331
  - 2. 1000
  - 3. 121
  - 4. 144

Question ID : 26433075007

Status : Answered

Chosen Option : 1

Q.13 नीता के वेतन में पहले 13% की वृद्धि की जाती है और पुनः 13% कम कर दी जाती है। उसके वेतन में कितना परिवर्तन हुआ है?

- Ans
- 1. 1.69% की वृद्धि
  - 2. 16.9% की वृद्धि
  - 3. 16.9% की कमी
  - 4. 1.69% की कमी

Question ID : 26433074918

Status : Answered

Chosen Option : 4

Q.14 10%, 15% और 20% की तीन क्रमिक छूट के समतुल्य एकल छूट क्या है?

Ans  1. 38.8%

2. 33.7%

3. 35.8%

4. 39.7%

Question ID : 26433061382

Status : Answered

Chosen Option : 1

Q.15 लक्ष्मण अपने माल पर क्रय मूल्य से 60% अधिक अंकित करता है और 20% की छूट देता है। उसका लाभ/हानि प्रतिशत क्या है?

Ans  1. 28% लाभ

2. 30% लाभ

3. 30% हानि

4. 28% हानि

Question ID : 26433075231

Status : Answered

Chosen Option : 1

Q.16 एक दुकानदार अपने सामान पर क्रय मूल्य से 12 प्रतिशत अधिक मूल्य अंकित करता है, लेकिन नकद पर 12 प्रतिशत की छूट देता है। उसका शुद्ध लाभ या हानि प्रतिशत है:

Ans  1. न कोई लाभ और न ही हानि

2. 1.5 प्रतिशत लाभ

3. 1.44 प्रतिशत हानि

4. 1 प्रतिशत हानि

Question ID : 264330116738

Status : Answered

Chosen Option : 3

Q.17 दो वस्तुओं में से प्रत्येक को ₹9,900 में बेचा गया। एक वस्तु को 10% की हानि पर बेचा गया और दूसरी वस्तु को 10% के लाभ पर बेचा गया। पूरे लेन-देन में शुद्ध लाभ या हानि ज्ञात करें।

Ans  1. हानि ₹200

2. लाभ ₹1,000

3. लाभ ₹100

4. हानि ₹600

Question ID : 26433081561

Status : Answered

Chosen Option : 1

Q.18 अनुपम ने ₹2,00,000 के प्रारंभिक निवेश के साथ एक व्यवसाय शुरू किया। पहले वर्ष में, उसे 4% की हानि हुई। हालांकि, दूसरे वर्ष के दौरान, उसे 10% का लाभ हुआ, और तीसरे वर्ष में उसे 15% का लाभ हुआ। तीन वर्षों की पूरी अवधि के लिए उसके शुद्ध लाभ की गणना कीजिए।

- Ans
- 1. ₹42,530
  - 2. ₹42,880
  - 3. ₹42,808
  - 4. ₹42,503

Question ID : 26433076231  
Status : Answered  
Chosen Option : 2

Q.19 यदि Rs. X 10 पेन की कीमत है, जिसकी कीमत Rs.42 प्रति दर्जन है और Y घंटे 12.5 किमी/घंटा पर 175 किमी की यात्रा करने में लगने वाला समय है, तो  $X^2 + Y^2$  का मान है:

- Ans
- 1. 1421
  - 2. 1850
  - 3. 724
  - 4. 881

Question ID : 26433075319  
Status : Answered  
Chosen Option : 1

Q.20 दो संख्याएँ 2:3 के अनुपात में हैं। उनके महत्तम समापवर्तक (HCF) और लघुत्तम समापवर्तक (LCM) क्रमशः 21 और 126 हैं। इन दोनों संख्याओं का कितना अंतर है?

- Ans
- 1. 21
  - 2. 25
  - 3. 18
  - 4. 20

Question ID : 26433080272  
Status : Answered  
Chosen Option : 1

Section : Part-D-English

Q.1 Select the most appropriate ANTONYM of the given word.  
Blank

- Ans
- 1. Filled
  - 2. Trembled
  - 3. Valuate
  - 4. Filed

Question ID : 26433066090  
Status : Not Answered  
Chosen Option : --

Q.2 Select the most appropriate option that can substitute the underlined segment in the given sentence.

If you not ready with the song, it is better to let them know.

- Ans
- 1. If you could not be ready with the song
  - 2. If you were not ready with the song
  - 3. If you are not ready with the song
  - 4. If you would not be ready with the song

Question ID : 26433091871

Status : Not Answered

Chosen Option : --

Q.3 Select the most appropriate option that can substitute the underlined segment in the given sentence.

The reign of Akbar was the one glorious periods in Indian history.

- Ans
- 1. was one of the glorious period
  - 2. was one of the glorious periods
  - 3. were one of the glorious period
  - 4. was one glorious periods

Question ID : 26433092286

Status : Not Answered

Chosen Option : --

Q.4 Select the most appropriate ANTONYM of the underlying word in the given sentence and complete the sentence.

In the debate competition he scored less due to his banal arguments, while his opponent won because of his \_\_\_\_\_ arguments.

- Ans
- 1. timid
  - 2. pure
  - 3. weary
  - 4. novel

Question ID : 26433084710

Status : Not Answered

Chosen Option : --

Q.5 Select the INCORRECTLY spelt word.

- Ans
- 1. Interpretation
  - 2. Amplefication
  - 3. Theoretical
  - 4. Administration

Question ID : 26433073509

Status : Not Answered

Chosen Option : --

Q.6 Select the most appropriate synonym of the given word.

Counsel

- Ans
- 1. Minister
  - 2. Scintillate
  - 3. Advice
  - 4. Slim

Question ID : 26433088129  
Status : Not Answered  
Chosen Option : --

Q.7 Select the most appropriate option that can substitute the underlined segment in the given sentence.

He's in and out in town making plans.

- Ans
- 1. out and about
  - 2. with and out
  - 3. out and beside
  - 4. east and west

Question ID : 26433088508  
Status : Not Answered  
Chosen Option : --

Q.8 Select the INCORRECTLY spelt word.

- Ans
- 1. Reluctent
  - 2. Ordinary
  - 3. Cautious
  - 4. Slippery

Question ID : 26433073504  
Status : Not Answered  
Chosen Option : --

Q.9 Select the most appropriate ANTONYM of the given word.

Protest

- Ans
- 1. Notice
  - 2. Assert
  - 3. Provide
  - 4. Support

Question ID : 26433090787  
Status : Not Answered  
Chosen Option : --

Q.10 Select the most appropriate meaning of the given idiom.

Back to square one

- Ans  1. Having to start all over again  
 2. To escape  
 3. To hope something happens the way you want it to  
 4. To be treated badly

Question ID : 26433072671  
Status : Not Answered  
Chosen Option : --

Q.11 Select the most appropriate synonym of the given word.

Plead

- Ans  1. Welcome  
 2. Reject  
 3. Mourn  
 4. Beseech

Question ID : 26433072190  
Status : Not Answered  
Chosen Option : --

Q.12 Select the most appropriate meaning of the given idiom.

Spill the beans

- Ans  1. To hide important information  
 2. Tell something that should be kept secret  
 3. To swallow beans curry  
 4. To spit the bitter fruits

Question ID : 26433072577  
Status : Not Answered  
Chosen Option : --

Q.13 Select the most appropriate option to fill in the blank.

Mike talks in an American \_\_\_\_\_.

- Ans  1. accent  
 2. ascend  
 3. ascent  
 4. assent

Question ID : 26433084618  
Status : Not Answered  
Chosen Option : --

Q.14 Select the most appropriate synonym of the given word to fill in the blank in the sentence.

Daunt

My coach said, "Failures didn't \_\_\_\_\_ the hero."

- Ans
- 1. brave
  - 2. moralize
  - 3. hopeless
  - 4. discourage

Question ID : 26433060556

Status : Not Answered

Chosen Option : --

Q.15 The following sentence has been divided into parts. One of them may contain an error.

Select the part that contains the error from the given options. If you don't find any error, mark 'No error' as your answer.

He will give you / good advice if / you will ask him.

- Ans
- 1. No error
  - 2. He will give you
  - 3. good advice if
  - 4. you will ask him

Question ID : 26433086359

Status : Not Answered

Chosen Option : --

### Comprehension:

In the following passage, some words have been deleted. Read the passage carefully and select the most appropriate option to fill in each blank.

Isolation and loneliness (1) \_\_\_\_\_ by the Covid-19 pandemic and lockdown policies negatively (2) \_\_\_\_\_ the mental health of the public throughout the entire globe. These result in an increase in emotional (3) \_\_\_\_\_, (4) \_\_\_\_\_ of hopelessness and extreme anxiety, which are (5) \_\_\_\_\_ by variations in emotional responses and style of living.

SubQuestion No : 16

Q.16 Select the most appropriate option to fill in blank number 1.

- Ans
- 1. built
  - 2. constructed
  - 3. caused
  - 4. prepared

Question ID : 26433091733

Status : Not Answered

Chosen Option : --

**Comprehension:**

In the following passage, some words have been deleted. Read the passage carefully and select the most appropriate option to fill in each blank.

Isolation and loneliness (1) \_\_\_\_\_ by the Covid-19 pandemic and lockdown policies negatively (2) \_\_\_\_\_ the mental health of the public throughout the entire globe. These result in an increase in emotional (3) \_\_\_\_\_, (4) \_\_\_\_\_ of hopelessness and extreme anxiety, which are (5) \_\_\_\_\_ by variations in emotional responses and style of living.

**SubQuestion No : 17**

**Q.17** Select the most appropriate option to fill in blank number 2.

- Ans  1. shown  
 2. formed  
 3. impacted  
 4. did

Question ID : 26433091734

Status : Not Answered

Chosen Option : --

**Comprehension:**

In the following passage, some words have been deleted. Read the passage carefully and select the most appropriate option to fill in each blank.

Isolation and loneliness (1) \_\_\_\_\_ by the Covid-19 pandemic and lockdown policies negatively (2) \_\_\_\_\_ the mental health of the public throughout the entire globe. These result in an increase in emotional (3) \_\_\_\_\_, (4) \_\_\_\_\_ of hopelessness and extreme anxiety, which are (5) \_\_\_\_\_ by variations in emotional responses and style of living.

**SubQuestion No : 18**

**Q.18** Select the most appropriate option to fill in blank number 3.

- Ans  1. anxiety  
 2. stress  
 3. state  
 4. death

Question ID : 26433091735

Status : Not Answered

Chosen Option : --



**Comprehension:**

In the following passage, some words have been deleted. Read the passage carefully and select the most appropriate option to fill in each blank.

Isolation and loneliness (1) \_\_\_\_\_ by the Covid-19 pandemic and lockdown policies negatively (2) \_\_\_\_\_ the mental health of the public throughout the entire globe. These result in an increase in emotional (3) \_\_\_\_\_, (4) \_\_\_\_\_ of hopelessness and extreme anxiety, which are (5) \_\_\_\_\_ by variations in emotional responses and style of living.

**SubQuestion No : 19**

**Q.19** Select the most appropriate option to fill in blank number 4.

**Ans** ✓ 1. feelings

✗ 2. idea

✗ 3. notion

✗ 4. concept

Question ID : 26433091736

Status : Not Answered

Chosen Option : --

**Comprehension:**

In the following passage, some words have been deleted. Read the passage carefully and select the most appropriate option to fill in each blank.

Isolation and loneliness (1) \_\_\_\_\_ by the Covid-19 pandemic and lockdown policies negatively (2) \_\_\_\_\_ the mental health of the public throughout the entire globe. These result in an increase in emotional (3) \_\_\_\_\_, (4) \_\_\_\_\_ of hopelessness and extreme anxiety, which are (5) \_\_\_\_\_ by variations in emotional responses and style of living.

**SubQuestion No : 20**

**Q.20** Select the most appropriate option to fill in blank number 5.

**Ans** ✗ 1. surrounded

✗ 2. preserved

✗ 3. guarded

✓ 4. accompanied

Question ID : 26433091737

Status : Not Answered

Chosen Option : --

**Section : Part-D-Hindi**

**Q.1** 'मक्खी मारना' मुहावरे का क्या अर्थ है?

**Ans** ✓ 1. बेकार बैठे रहना

✗ 2. मक्खियों को उड़ाना

✗ 3. इधर-उधर करना

✗ 4. परेशान करना

Question ID : 26433066807

Status : Answered

Chosen Option : 1

Q.2 "तुम उसे गालियाँ क्यों निकाल रहे हो?"  
उपरोक्त वाक्य में क्रिया सम्बन्धी त्रुटि पहचानकर निम्नलिखित में से शुद्ध वाक्य का चयन कीजिए।

- Ans
- 1. तुम उसे गालियाँ क्यों बता रहे हो?
  - 2. तुम उसे गालियाँ क्यों दे रहे हो?
  - 3. तुम उसे गालियाँ क्यों कह रहे हो?
  - 4. तुम उसे गालियाँ क्यों बोल रहे हो?

Question ID : 26433066974  
Status : Answered  
Chosen Option : 2

Q.3 निम्नलिखित में से अशुद्ध वाक्य कौन-सा है?

- Ans
- 1. निशांत होनहार लड़का है।
  - 2. वह नित्य गाने की कसरत करता है।
  - 3. हमें प्रतिदिन व्यायाम करना चाहिए।
  - 4. पल्लवी कल मुंबई जाएगी।

Question ID : 26433066986  
Status : Answered  
Chosen Option : 2

Q.4 'जो सिद्ध या पूरा किया जा सके' इस वाक्यांश के लिए सार्थक शब्द है -

- Ans
- 1. इच्छा
  - 2. अभिलाषा
  - 3. साध्य
  - 4. गंतव्य

Question ID : 26433062333  
Status : Answered  
Chosen Option : 1

Q.5 निम्नलिखित वाक्यांश के लिए उपयुक्त सार्थक शब्द क्या होगा?  
जिसे पढ़ना-लिखना आता हो

- Ans
- 1. प्रधान
  - 2. साक्षर
  - 3. विद्वान
  - 4. पढ़ाकू

Question ID : 26433065752  
Status : Answered  
Chosen Option : 2

Q.6 निम्नलिखित में से कौन-सा वाक्य संज्ञा के प्रयोग की दृष्टि से शुद्ध है?

- Ans
- 1. राहुल बचपने में बहुत शरारती था।
  - 2. राहुल बचपने में बड़ा शरारती था।
  - 3. राहुल बचपन में बहुत शरारती था।
  - 4. राहुल का बचपनत्व बहुत शरारती था।

Question ID : 26433066961

Status : Answered

Chosen Option : 3

Q.7 'स्वजाति' के विपरीतार्थक शब्द का चयन कर निम्न वाक्य पूर्ण कीजिए।  
\_\_\_\_\_ व्यक्ति से नफरत न करें।

- Ans
- 1. सुमति
  - 2. प्रजाति
  - 3. विजाति
  - 4. संपत्ति

Question ID : 26433063090

Status : Answered

Chosen Option : 1

Q.8 मेरी शिमला जाने की बड़ी इच्छा है।  
उपरोक्त वाक्य में रेखांकित शब्द के उचित पर्यायवाची शब्द का चयन विकल्पों में से कीजिए।

- Ans
- 1. स्मृति
  - 2. प्रेम
  - 3. अभिलाषा
  - 4. अतुल

Question ID : 26433079721

Status : Answered

Chosen Option : 3

Q.9 'प्रकृति कुपित होकर अपना \_\_\_\_\_ रूप दिखाती है।' रिक्त स्थान की पूर्ति उचित शब्द द्वारा कीजिए।

- Ans
- 1. कल्याणकारी
  - 2. अहितकारी
  - 3. निर्माणकारी
  - 4. विनाशकारी

Question ID : 26433069682

Status : Answered

Chosen Option : 4

Q.10 निम्नलिखित मुहावरे में कौन सा शब्द अशुद्ध है?  
सौ लकड़हारे की एक लोहार की

- Ans
- 1. लोहार
  - 2. सौ
  - 3. एक
  - 4. लकड़हारे

Question ID : 26433062814

Status : Answered

Chosen Option : 4

Q.11 रेखांकित शब्द के विलोम से दिए गए वाक्य के रिक्त स्थान की पूर्ति कीजिए।  
उत्तम प्रकृति के लोग सम्मानित होते हैं किंतु दुष्ट \_\_\_\_\_।

- Ans
- 1. निर्लज्ज
  - 2. असहनीय
  - 3. अपमानित
  - 4. लांछित

Question ID : 26433085004

Status : Answered

Chosen Option : 3

Q.12 निम्नलिखित वाक्य के किस पद में त्रुटि है?  
मैंने सुइ, कंधि, दर्पण और पुस्तकें मोल लीं।

- Ans
- 1. सुइ, कंधि
  - 2. और, मोल
  - 3. मैंने, लीं
  - 4. दर्पण, पुस्तकें

Question ID : 26433063067

Status : Answered

Chosen Option : 1

Q.13 विकल्पों में से कौन सा शब्द निम्न वाक्य के रेखांकित शब्द के लिए सर्वाधिक उपयुक्त होगा?  
'सीता राम की स्त्री थी'

- Ans
- 1. नायिका
  - 2. औरत
  - 3. पत्नी
  - 4. महिला

Question ID : 26433066712

Status : Answered

Chosen Option : 3

Q.14 'विश्वस्त' शब्द के लिए उचित वाक्यांश है-

- Ans
- 1. जिसे बहुत याद किया गया हो
  - 2. जिस पर विश्वास किया गया हो
  - 3. जिस पर शक किया गया हो
  - 4. जिस पर विश्वास न किया गया हो

Question ID : 26433065872

Status : Answered

Chosen Option : 2

Q.15 विकल्पों में दिए गए किस वाक्य में निम्न शब्द के पर्यायवाची शब्द का प्रयोग हुआ है?  
तालाब

- Ans
- 1. सरिता सूखी है।
  - 2. जलाशय में कमल खिला है।
  - 3. पंक में कमल खिला है।
  - 4. मेघ फट पड़े।

Question ID : 26433066934

Status : Answered

Chosen Option : 1

**Comprehension:**

निम्नलिखित गद्यांश में से कुछ शब्द हटा दिए गए हैं। दिए गए विकल्पों की सहायता से रिक्त स्थानों की पूर्ति कीजिए। प्रत्येक संख्या के लिए उपयुक्त विकल्प का चयन कीजिए।  
एक बार मैं बस में 1. \_\_\_\_\_ कर रहा था। मेरे साथ मेरी पत्नी और तीन बच्चे 2. \_\_\_\_\_ थे। बस में कुछ खराबी थी, रुक-रुक कर चलती थी। गंतव्य से कोई आठ 3. \_\_\_\_\_ पहले ही एक निर्जन सुनसान स्थान में बस ने जवाब दे दिया। रात के कोई दस 4. \_\_\_\_\_ होंगे। बस में यात्री घबरा गए। कंडक्टर उतर गया 5. \_\_\_\_\_ एक साइकिल लेकर चलता बना।

**SubQuestion No : 16**

Q.16 रिक्त स्थान 1 की पूर्ति के लिए सर्वाधिक उपयुक्त विकल्प का चयन कीजिए।

- Ans
- 1. खेल
  - 2. यात्रा
  - 3. आराम
  - 4. भजन

Question ID : 26433079698

Status : Answered

Chosen Option : 2

**Comprehension:**

निम्नलिखित गद्यांश में से कुछ शब्द हटा दिए गए हैं। दिए गए विकल्पों की सहायता से रिक्त स्थानों की पूर्ति कीजिए। प्रत्येक संख्या के लिए उपयुक्त विकल्प का चयन कीजिए।  
एक बार मैं बस में 1. \_\_\_\_\_ कर रहा था। मेरे साथ मेरी पत्नी और तीन बच्चे 2. \_\_\_\_\_ थे। बस में कुछ खराबी थी, रुक-रुक कर चलती थी। गंतव्य से कोई आठ 3. \_\_\_\_\_ पहले ही एक निर्जन सुनसान स्थान में बस ने जवाब दे दिया। रात के कोई दस 4. \_\_\_\_\_ होंगे। बस में यात्री घबरा गए। कंडक्टर उतर गया 5. \_\_\_\_\_ एक साइकिल लेकर चलता बना।

**SubQuestion No : 17**

Q.17 रिक्त स्थान 2 की पूर्ति के लिए सर्वाधिक उपयुक्त विकल्प का चयन कीजिए।

- Ans
- 1. सामने
  - 2. भर
  - 3. तक
  - 4. भी

Question ID : 26433079699

Status : Answered

Chosen Option : 4

**Comprehension:**

निम्नलिखित गद्यांश में से कुछ शब्द हटा दिए गए हैं। दिए गए विकल्पों की सहायता से रिक्त स्थानों की पूर्ति कीजिए। प्रत्येक संख्या के लिए उपयुक्त विकल्प का चयन कीजिए।  
एक बार मैं बस में 1. \_\_\_\_\_ कर रहा था। मेरे साथ मेरी पत्नी और तीन बच्चे 2. \_\_\_\_\_ थे। बस में कुछ खराबी थी, रुक-रुक कर चलती थी। गंतव्य से कोई आठ 3. \_\_\_\_\_ पहले ही एक निर्जन सुनसान स्थान में बस ने जवाब दे दिया। रात के कोई दस 4. \_\_\_\_\_ होंगे। बस में यात्री घबरा गए। कंडक्टर उतर गया 5. \_\_\_\_\_ एक साइकिल लेकर चलता बना।

**SubQuestion No : 18**

Q.18 रिक्त स्थान 3 की पूर्ति के लिए सर्वाधिक उपयुक्त विकल्प का चयन कीजिए।

- Ans
- 1. किलोमीटर
  - 2. मिलीमीटर
  - 3. किलो
  - 4. सेंटीमीटर

Question ID : 26433079700

Status : Answered

Chosen Option : 1

**Comprehension:**

निम्नलिखित गद्यांश में से कुछ शब्द हटा दिए गए हैं। दिए गए विकल्पों की सहायता से रिक्त स्थानों की पूर्ति कीजिए। प्रत्येक संख्या के लिए उपयुक्त विकल्प का चयन कीजिए।  
एक बार मैं बस में 1. \_\_\_\_\_ कर रहा था। मेरे साथ मेरी पत्नी और तीन बच्चे 2. \_\_\_\_\_ थे। बस में कुछ खराबी थी, रुक-रुक कर चलती थी। गंतव्य से कोई आठ 3. \_\_\_\_\_ पहले ही एक निर्जन सुनसान स्थान में बस ने जवाब दे दिया। रात के कोई दस 4. \_\_\_\_\_ होंगे। बस में यात्री घबरा गए। कंडक्टर उतर गया 5. \_\_\_\_\_ एक साइकिल लेकर चलता बना।

**SubQuestion No : 19**

Q.19 रिक्त स्थान 4 की पूर्ति के लिए सर्वाधिक उपयुक्त विकल्प का चयन कीजिए।

- Ans  1. बजे  
 2. समय  
 3. गज  
 4. पद

Question ID : 26433079701

Status : Answered

Chosen Option : 1

**Comprehension:**

निम्नलिखित गद्यांश में से कुछ शब्द हटा दिए गए हैं। दिए गए विकल्पों की सहायता से रिक्त स्थानों की पूर्ति कीजिए। प्रत्येक संख्या के लिए उपयुक्त विकल्प का चयन कीजिए।  
एक बार मैं बस में 1. \_\_\_\_\_ कर रहा था। मेरे साथ मेरी पत्नी और तीन बच्चे 2. \_\_\_\_\_ थे। बस में कुछ खराबी थी, रुक-रुक कर चलती थी। गंतव्य से कोई आठ 3. \_\_\_\_\_ पहले ही एक निर्जन सुनसान स्थान में बस ने जवाब दे दिया। रात के कोई दस 4. \_\_\_\_\_ होंगे। बस में यात्री घबरा गए। कंडक्टर उतर गया 5. \_\_\_\_\_ एक साइकिल लेकर चलता बना।

**SubQuestion No : 20**

Q.20 रिक्त स्थान 5 की पूर्ति के लिए सर्वाधिक उपयुक्त विकल्प का चयन कीजिए।

- Ans  1. और  
 2. परंतु  
 3. किंतु  
 4. क्योंकि

Question ID : 26433079702

Status : Answered

Chosen Option : 2