

Constable GD in CAPFs SSF Rifleman GD in Assam Rifles and Sepoy in NCB Examination 2022

Roll Number	www.govtjobsalert.in
Candidate Name	www.govtjobsalert.in
Venue Name	iON Digital Zone iDZ 2 Hathipur
Exam Date	30/01/2023
Exam Time	11:45 AM - 12:45 PM
Subject	Constable GD Examination 2022

Section : Part-A-General Intelligence and Reasoning

Q.1 किस विकल्प में निम्नलिखित शब्दों का वह क्रम दिया गया है, जिस क्रम में वे अंग्रेजी शब्दकोश में आते हैं।

- 1 Flower
- 2 Flow
- 3 Floor
- 4 Flour
- 5 Flame

- Ans
- 1. 2,3,4,1,5
 - 2. 5,3,1,2,4
 - 3. 5,3,4,2,1
 - 4. 5,4,3,2,1

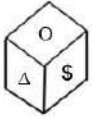
Question ID : 26433069267

Status : Answered

Chosen Option : 3

Q.2 एक ही पासे की दो अलग-अलग स्थितियों को दर्शाया गया है जिस पर \$, Δ, ¥, Ω, O और * चिह्न बने

हैं। 'O' दर्शाने वाले फलक के विपरीत फलक पर स्थित चिह्न जात कीजिए।



- Ans
- 1. *
 - 2. Ω
 - 3. \$
 - 4. ¥

Question ID : 26433085508

Status : Answered

Chosen Option : 1

Q.3 प्रीती विभिन्न रंगों के टेडी बियरों को अपने बेडरूम में दो समानांतर पंक्तियों में एक दूसरे के सामने इस प्रकार व्यवस्थित करती है, कि प्रत्येक पंक्ति में चार टेडी बियर होते हैं। नारंगी, पीला, ग्रे और भूरे रंग के टेडी पंक्ति 1 में उत्तर की ओर मुख करके रखे गए हैं, जबकि लाल, सफेद, काले और गुलाबी रंग के टेडी पंक्ति 2 में दक्षिण की ओर मुख करके रखे गए हैं। नारंगी रंग का टेडी, ग्रे रंग के टेडी के ठीक बगल में है। गुलाबी रंग के टेडी का मुख, नारंगी रंग के टेडी की ओर नहीं है। सफेद रंग के टेडी का मुख उस टेडी की ओर है, जो ग्रे रंग के टेडी के दाईं ओर दूसरे स्थान पर है। काले रंग का टेडी, गुलाबी रंग के टेडी के दाईं ओर दूसरे स्थान पर है। भूरे रंग का टेडी किसी भी किनारे पर नहीं है। नारंगी रंग का टेडी किसी भी अंतिम सिरे पर नहीं है। ग्रे रंग के टेडी का मुख, लाल रंग के टेडी की ओर है। लाल और सफेद रंग के टेडी के बीच कितने टेडी हैं?

- Ans 1. दो
 2. एक
 3. तीन
 4. शून्य

Question ID : 26433079066
Status : Not Answered
Chosen Option : --

Q.4 कौन-सा अक्षर-समूह दी गई शृंखला में प्रश्नचिह्न (?) के स्थान पर आकर शृंखला को पूर्ण करेगा?
GYCQ, ICZR, ?, MKTT, OOQU

- Ans 1. RRKS
 2. KRRS
 3. QDRS
 4. KGWS

Question ID : 26433079427
Status : Answered
Chosen Option : 4

Q.5 तीन कथनों के बाद तीन निष्कर्ष I, II और III दिए गए हैं। कथनों को सत्य मानते हुए, भले ही वे सामान्य रूप से ज्ञात तथ्यों से भिन्न प्रतीत होते हों, निर्णय लीजिए कि कौन-सा/से निष्कर्ष कथनों का तार्किक रूप से अनुसरण करता/करते है/हैं।

कथन:
कुछ डॉक्टर बाघ हैं।
सभी बाघ छाते हैं।
कुछ छाते बस हैं।

निष्कर्ष:
I. कुछ डॉक्टर छाते हैं।
II. कुछ बाघ छाते हैं।
III. कुछ बसें छाते हैं।

- Ans 1. निष्कर्ष II और III दोनों अनुसरण करते हैं।
 2. सभी निष्कर्ष अनुसरण करते हैं।
 3. निष्कर्ष I और II दोनों अनुसरण करते हैं।
 4. निष्कर्ष I और III दोनों अनुसरण करते हैं।

Question ID : 26433081795
Status : Answered
Chosen Option : 2

Q.6 उस विकल्प का चयन करें जो पांचवें अक्षर-समूह से उसी प्रकार संबंधित है जिस प्रकार दूसरा अक्षर-समूह पहले अक्षर-समूह से संबंधित है और चौथा अक्षर-समूह तीसरे अक्षर-समूह से संबंधित है।
GKP : FHK :: BJS : AGN :: DIX : ?

Ans 1. EHS

2. CHS

3. CFS

4. ELS

Question ID : 26433057748

Status : Answered

Chosen Option : 3

Q.7 उस समुच्चय का चयन करें, जिसकी संख्याओं के बीच ठीक वही संबंध है, जो संबंध निम्नांकित समुच्चयों की संख्याओं में हैं।

(नोट: संख्याओं को उसके घटक अंकों में विभाजित किए बिना, पूर्ण संख्याओं पर ही गणितीय संक्रियाएँ की जानी चाहिए। जैसे 13 - मान लीजिए 13 पर गणितीय संक्रियाएँ जैसे कि 13 में जोड़ना/घटाना/गुणा करना आदि किया जा सकता है। 13 को 1 और 3 में तोड़कर और फिर 1 और 3 पर गणितीय संक्रियाएँ करने की अनुमति नहीं है।)

(17, 153, 81)

(19, 171, 81)

Ans 1. (14, 126, 90)

2. (11, 99, 72)

3. (15, 135, 81)

4. (16, 144, 75)

Question ID : 26433076549

Status : Answered

Chosen Option : 3

Q.8 X - Y का अर्थ है 'X, Y का भाई है'
'X # Y' का अर्थ है 'X, Y की पुत्री है'
'X * Y' का अर्थ है 'X, Y का पिता है'
'X \$ Y' का अर्थ है 'X, Y की पत्नी है'
यदि 'A \$ B - D * C' है, तो A, D से कैसे संबंधित है?

Ans 1. A, D का पुत्र है

2. A, D की पुत्री है

3. A, D की भाभी है

4. A, D की बहन है

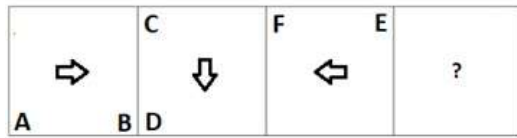
Question ID : 26433087128

Status : Answered

Chosen Option : 3

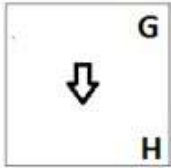
Q.9 दिए गए विकल्पों में से उस आकृति का चयन कीजिए जो निम्नलिखित श्रृंखला में

प्रश्नवाचक चिह्न (?) को प्रतिस्थापित कर सकती है।

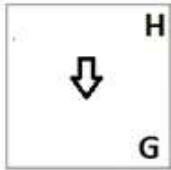


Ans

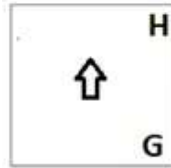
✗ 1.



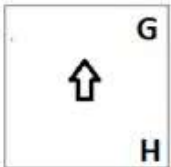
✗ 2.



✓ 3.



✗ 4.



Question ID : 26433074725

Status : Answered

Chosen Option : 3

Q.10 दर्पण को चित्र में दिखाए अनुसार MN पर रखे जाने पर दी गई आकृति के सही

दर्पण प्रतिबिंब का चयन करें।



Ans

✓ 1. k u n 3 1 b d 5 k

✗ 2. k n u 3 1 5 b d k

✗ 3. k 5 b d 1 3 n u k

✗ 4. k n u 3 1 b d k

Question ID : 26433082334

Status : Answered

Chosen Option : 1

Q.11 निम्नलिखित में से कौन-सी संख्या दी गई श्रृंखला में प्रश्न-चिह्न (?) के स्थान पर आएगी?
9, ?, 33, 50, 69, 92, 121

Ans

✗ 1. 14

✗ 2. 22

✗ 3. 16

✓ 4. 20

Question ID : 26433090059

Status : Answered

Chosen Option : 2

Q.12 उस विकल्प का चयन करें जो तीसरे शब्द से उसी प्रकार संबंधित है जिस प्रकार दूसरा शब्द पहले शब्द से संबंधित है।

(शब्दों को अर्थपूर्ण शब्दों के रूप में मानना है, और उन्हें शब्द में अक्षरों/व्यंजनों/स्वरों की संख्या के आधार पर एक-दूसरे से संबंधित नहीं करना है।)

गंध : नाक :: रंग : ?

Ans

✗ 1. कान

✗ 2. इंद्रधनुष

✗ 3. पेट

✓ 4. आँखें

Question ID : 26433087195

Status : Answered

Chosen Option : 4

Q.13 नीचे दिए गए समीकरण को गणितीय रूप से सही बनाने के लिए किन संख्याओं(अंकों को नहीं) को परस्पर बदलना चाहिए?
 $216 \div 9 \times 16 + 24 - 27 = 126$

- Ans
- 1. 27 और 9
 - 2. 24 और 27
 - 3. 9 और 24
 - 4. 16 और 9

Question ID : 264330117564
Status : Answered
Chosen Option : 3

Q.14 निम्नलिखित में से कौन-सा अक्षर-समूह नीचे दी गई अक्षर-समूह श्रृंखला में प्रश्न-चिह्न (?) के स्थान पर आकर श्रृंखला को पूर्ण करेगा?
MNA, WDB, EVA, KPB, OLA, ?

- Ans
- 1. QKA
 - 2. QJA
 - 3. QJB
 - 4. QKB

Question ID : 26433067281
Status : Answered
Chosen Option : 3

Q.15 नीचे दिए गए समीकरण को गणितीय रूप से सही बनाने के लिए किन दो गणितीय चिह्नों को परस्पर बदलना चाहिए?
 $8 + 32 \div 16 \times 11 - 5 = 22$

- Ans
- 1. \times और $+$
 - 2. $+$ और \times
 - 3. $-$ और $+$
 - 4. \div और $-$

Question ID : 264330114179
Status : Answered
Chosen Option : 2

Q.16 एक निश्चित कूट भाषा में, 'LAST' को 'NCQR' लिखा जाता है और 'CAKE' को 'ECIC' लिखा जाता है। उसी भाषा में 'JUMP' कैसे लिखा जाएगा?

- Ans
- 1. WLNK
 - 2. LWNK
 - 3. LWKN
 - 4. WLKN

Question ID : 26433068893
Status : Answered
Chosen Option : 3

Q.17 सात व्यक्ति S, F, A, G, D, H और T एक सीधी पंक्ति में उत्तर की ओर मुख करके बैठते हैं। G के दाईं ओर केवल दो व्यक्ति बैठते हैं। F, A के दाईं ओर तीसरे स्थान पर है। S, D और A के ठीक बगल में है। G, F और H के ठीक बगल में है। पंक्ति के दाएं सिरे पर कौन बैठता है?

Ans 1. H

2. A

3. T

4. G

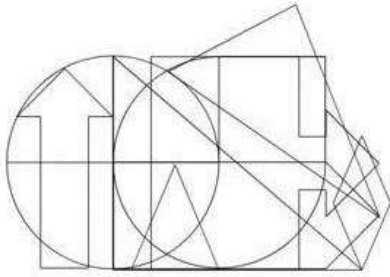
Question ID : 26433092597

Status : Answered

Chosen Option : 3

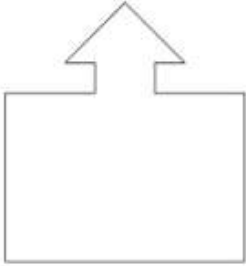
WWW.GOVtjobsalert.in

Q.18 उस विकल्प आकृति का चयन करें जो नीचे दी गई आकृति में अंतर्निहित है।
(आकृति घुमाने की अनुमति नहीं है)

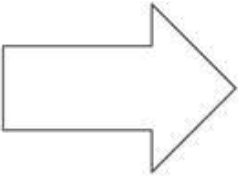


Ans

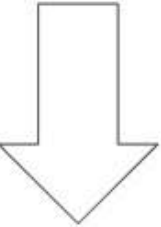
✗ 1.



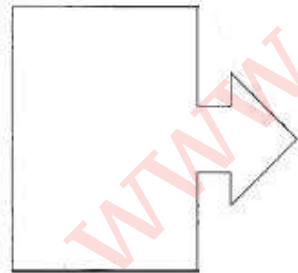
✗ 2.



✗ 3.



✓ 4.



Question ID : 26433085747
Status : Answered
Chosen Option : 4

Q.19 एक निश्चित कूट भाषा में 'TEA' को 26 के रूप में और 'DANCE' को 27 के रूप में कूटबद्ध किया जाता है। उस भाषा में 'CROWN' को कैसे कूटबद्ध किया जाएगा?

- Ans
- 1. 54
 - 2. 47
 - 3. 73
 - 4. 68

Question ID : 26433074518
Status : Answered
Chosen Option : 3

Q.20 निम्नलिखित में से कौन-सी संख्याएं दी गई श्रृंखला में प्रश्न-चिह्न (?) के स्थान पर आएंगी?
10, 20, 15, ?, ?, 30, 25, 35, 30

- Ans
- 1. 20, 20
 - 2. 35, 30
 - 3. 25, 20
 - 4. 25, 25

Question ID : 26433069045
Status : Answered
Chosen Option : 3

Section : Part-B-General Knowledge and General awareness

Q.1 दिए गए विकल्पों में से, सामाजिक न्याय एवं अधिकारिता मंत्रालय _____ का संरक्षण नहीं करता है।

- Ans
- 1. ट्रांसजेंडर व्यक्तियों के लिए राष्ट्रीय पोर्टल
 - 2. ई-अनुदान
 - 3. ई-श्रम
 - 4. नशा मुक्त भारत अभियान

Question ID : 264330116193
Status : Answered
Chosen Option : 4

Q.2 यह दुनिया भर के सभी प्रकार के कंप्यूटरों को जोड़ता है। यहाँ किस संचार तकनीक की बात की जा रही है?

- Ans
- 1. पोस्ट कार्ड
 - 2. इंटरनेट
 - 3. पेजर
 - 4. केबल

Question ID : 264330115598
Status : Answered
Chosen Option : 2

Q.3 निम्नलिखित में से अयस्क-धातु की कौन सी जोड़ी गलत है?

- Ans
- 1. गैलिना - सीसा
 - 2. बोर्नाइट - कॉपर
 - 3. सिनेबार - निकेल
 - 4. मैग्नेटाइट - लोहा

Question ID : 264330115146
Status : Answered
Chosen Option : 2

Q.4 महात्मा गांधी जनवरी _____ में भारतीय लौटे।

- Ans
- 1. 1919
 - 2. 1915
 - 3. 1911
 - 4. 1917

Question ID : 26433089898
Status : Answered
Chosen Option : 2

Q.5 _____ को काम और अवकाश गतिविधियों में कुशलतापूर्वक और प्रभावी ढंग से कार्य करने, स्वस्थ रहने, बीमारियों का प्रतिरोध करने और आपातकालीन स्थितियों से निपटने के लिए शरीर की क्षमता के रूप में परिभाषित किया गया है।

- Ans
- 1. शारीरिक फिटनेस
 - 2. मानसिक फिटनेस
 - 3. एरोबिक फिटनेस
 - 4. मांसपेशीय मजबूती

Question ID : 264330115230
Status : Answered
Chosen Option : 1

Q.6 नवंबर 2022 में, निम्नलिखित में से किस स्मारक को भारत के प्रधानमंत्री द्वारा राष्ट्रीय स्मारक घोषित किया गया?

- Ans
- 1. गोल गुम्बज
 - 2. मूसा बाग
 - 3. मानगढ़ धाम
 - 4. रुक्मिणी मंदिर

Question ID : 264330115054
Status : Not Answered
Chosen Option : --

Q.7 चौथी पंचवर्षीय योजना के दौरान _____ युद्ध हुआ था।

- Ans
- 1. भारत-पाकिस्तान
 - 2. भारत-चीन
 - 3. प्रथम विश्व युद्ध
 - 4. द्वितीय विश्व युद्ध

Question ID : 264330115364
Status : Answered
Chosen Option : 1

Q.8 ई कृष्ण अय्यर किस शास्त्रीय नृत्य शैली से संबंधित थे?

- Ans
- 1. कथक
 - 2. सत्रीया
 - 3. ओडिसी
 - 4. भरतनाट्यम

Question ID : 26433072927
Status : Not Answered
Chosen Option : --

Q.9 संसद के निचले सदन के सदस्यों की अधिकतम संख्या कितनी है?

- Ans
- 1. 500
 - 2. 250
 - 3. 590
 - 4. 552

Question ID : 26433089969
Status : Answered
Chosen Option : 4

Q.10 भारत में, औद्योगिक नीति संकल्प पहली बार वर्ष _____ में पारित किया गया था।

- Ans
- 1. 1946
 - 2. 1947
 - 3. 1948
 - 4. 1949

Question ID : 264330116142
Status : Not Answered
Chosen Option : --

Q.11 राष्ट्रीय आय = C (घरेलू खपत) + G (_____) + I (निवेश व्यय) + NX (शुद्ध निर्यात)

- Ans
- 1. व्यक्तिगत व्यय
 - 2. सरकारी व्यय
 - 3. घरेलू व्यय
 - 4. गैर सरकारी व्यय

Question ID : 264330115351
Status : Answered
Chosen Option : 4

Q.12 दिसंबर 2022 तक की स्थिति के अनुसार, निम्नलिखित में से कौन भारत के पश्चिम बंगाल राज्य के राज्यपाल हैं?

- Ans 1. सीवी आनंद बोस
 2. जगदीप धनखड़
 3. अशोक गहलोत
 4. ममता बनर्जी

Question ID : 264330114898
Status : Answered
Chosen Option : 1

Q.13 निम्नलिखित में से कौन सी नदी सिंधु नदी की सबसे बड़ी सहायक नदी है?

- Ans 1. सतलुज नदी
 2. चिनाब नदी
 3. रावी नदी
 4. श्योक नदी

Question ID : 26433089665
Status : Not Answered
Chosen Option : --

Q.14 रणजी ट्रॉफी निम्नलिखित में से किस खेल से संबंधित है?

- Ans 1. बेसबॉल
 2. क्रिकेट
 3. टेनिस
 4. फुटबॉल

Question ID : 264330116261
Status : Answered
Chosen Option : 2

Q.15 बथुकम्मा, जोकि एक फूल उत्सव है, निम्नलिखित में से किस राज्य में मनाया जाता है?

- Ans 1. तमिलनाडु
 2. गुजरात
 3. तेलंगाना
 4. राजस्थान

Question ID : 264330115084
Status : Answered
Chosen Option : 1

Q.16 किस संविधान संशोधन अधिनियम के पारित होने के बाद अब यह मौलिक अधिकार है?

- Ans
- 1. 1952 में 11वां संशोधन
 - 2. 1996 में 102वां संशोधन
 - 3. 1978 में 44वां संशोधन
 - 4. 1952 में 44वां संशोधन

Question ID : 26433089911
Status : Answered
Chosen Option : 3

Q.17 2011 की जनगणना के अनुसार, किस भारतीय राज्य की साक्षरता दर सबसे कम है?

- Ans
- 1. बिहार
 - 2. झारखंड
 - 3. महाराष्ट्र
 - 4. उत्तर प्रदेश

Question ID : 264330116056
Status : Answered
Chosen Option : 1

Q.18 2020 ग्रीष्मकालीन ओलंपिक में कितने देशों (EOR और ROC टीमों सहित) ने भाग लिया?

- Ans
- 1. 209
 - 2. 210
 - 3. 206
 - 4. 203

Question ID : 264330115913
Status : Not Answered
Chosen Option : --

Q.19 निम्नलिखित में से हड़प्पा सभ्यता की कौन सी धातु वर्तमान राजस्थान और ओमान से प्राप्त हुई है?

- Ans
- 1. चाँदी
 - 2. ताँबा
 - 3. सोना
 - 4. टिन

Question ID : 264330115444
Status : Answered
Chosen Option : 2

Q.20 निम्नलिखित में से किसने केरल संगीत नाटक अकादमी फेलोशिप (1974) प्राप्त की थी?

Ans 1. महबूब सुभानी

2. कलामंडलम कल्याणिकुट्टी अम्मा

3. शोभना नारायण

4. अनुराधा पाण्डेय

Question ID : 264330115847

Status : Not Answered

Chosen Option : --

Section : Part-C-Elementary Mathematics

Q.1 एक दुकानदार अपने माल पर क्रय मूल्य से 12% अधिक मूल्य अंकित करता है और 6% की छूट देता है। वह कितना लाभ प्रतिशत अर्जित करता है?

Ans 1. 6%

2. 5.28%

3. 5.82%

4. 5.5%

Question ID : 26433075187

Status : Answered

Chosen Option : 2

Q.2 यदि किसी गोले का पृष्ठीय क्षेत्रफल 5544 cm^2 है, तो इसका आयतन ज्ञात कीजिए।

Ans 1. $38,808 \text{ cm}^3$

2. $37,800 \text{ cm}^3$

3. $36,864 \text{ cm}^3$

4. $38,809 \text{ cm}^3$

Question ID : 26433066325

Status : Answered

Chosen Option : 1

Q.3 अनय 10 दिनों में कार्य का $\frac{5}{11}$ वां भाग करता है और रोहन उसी कार्य का $\frac{5}{6}$ वां भाग 15 दिनों में करता है। उन्होंने एक साथ काम करना शुरू किया लेकिन रोहन ने काम पूरा होने से 5 दिन पहले काम छोड़ दिया और अनय ने काम पूरा कर दिया। दिनों की संख्या ज्ञात करें जिसके बाद रोहन ने काम छोड़ दिया।

Ans 1. $\frac{186}{9}$ दिन

2. $\frac{140}{9}$ दिन

3. $\frac{153}{20}$ दिन

4. $\frac{177}{20}$ दिन

Question ID : 264330116877

Status : Not Answered

Chosen Option : --

Q.4 एक हिल स्टेशन ट्रेन में सीटों की तीन श्रेणियां हैं। सीटों पर प्रथम श्रेणी में 1 से 50, द्वितीय श्रेणी में 51 से 150 और तृतीय श्रेणी में 151 से 300 तक नम्बर डाले गए हैं। प्रत्येक दिसंबर में प्रथम श्रेणी में 30%, द्वितीय श्रेणी में 50% और तृतीय श्रेणी में 100% सीट अधिभोग था। यदि क्रमशः प्रथम श्रेणी, द्वितीय श्रेणी तथा तृतीय श्रेणी में प्रति सीट शुल्क ₹2,000, ₹1,000 और ₹500 है, तो दिसंबर महीने में प्रति श्रेणी आय अनुपात _____ है।

Ans 1. 4 : 2 : 1

2. 6 : 10 : 15

3. 3 : 10 : 30

4. 1 : 2 : 3

Question ID : 26433079945

Status : Answered

Chosen Option : 2

Q.5 प्रथम पाँच अभाज्य संख्याओं का औसत क्या होगा?

Ans 1. 5.6

2. 5.2

3. 5.4

4. 5.5

Question ID : 26433075638

Status : Answered

Chosen Option : 1

Q.6 225 मीटर की दूरी पर एक पुलिसकर्मी को देखकर एक चोर भागने लगा। तुरंत ही पुलिसकर्मी ने चोर का पीछा करना शुरू कर दिया। चोर और पुलिस क्रमशः 9 किमी/घंटा और 10 किमी/घंटा की चाल से भागे। 4.2 मिनट के बाद उनके बीच की दूरी ज्ञात कीजिए।

Ans 1. 175 मीटर

2. 180 मीटर

3. 155 मीटर

4. 165 मीटर

Question ID : 26433075923

Status : Answered

Chosen Option : 3

Q.7 35 लीटर पेट्रोल पर एक कार 450 km चलती है। 25 लीटर पेट्रोल पर कार कितने किलोमीटर (दो दशमलव स्थानों तक पूर्णांकित) चल सकती है?

Ans 1. 323.42 km

2. 322.42 km

3. 324.42 km

4. 321.43 km

Question ID : 26433079775

Status : Answered

Chosen Option : 4

Q.8 एक व्यक्ति एक कुर्सी पर 8 प्रतिशत और 6 प्रतिशत की दो क्रमिक छूट देता है, जिसका अंकित मूल्य 1200 रुपए है। कुर्सी का विक्रय मूल्य कितना होगा?

- Ans
- 1. 1080.54 रुपए
 - 2. 1104.24 रुपए
 - 3. 1176.52 रुपए
 - 4. 1037.76 रुपए

Question ID : 264330116762
Status : Answered
Chosen Option : 4

Q.9 यदि सात अंकों की संख्या 42971K2, 44 से विभाज्य है, तो K का मान क्या होगा?

- Ans
- 1. 6
 - 2. 4
 - 3. 7
 - 4. 5

Question ID : 26433075714
Status : Answered
Chosen Option : 4

Q.10 एक फार्मा कंपनी में, एक वैज्ञानिक किसी दवा का आविष्कार करने के लिए एसीटोन और टॉल्यूईन के शुद्ध रूप को मिश्रित कर रहा है। एसीटोन और टॉल्यूईन को मिलाकर प्राप्त विलयन का मूल्य Rs.16 प्रति लीटर है। वैज्ञानिक के लिए एसीटोन का मूल्य Rs.14 प्रति लीटर है। भंडारण की समस्या के कारण, वैज्ञानिक के लिए एसीटोन की तुलना में टॉल्यूईन का मूल्य महंगा है। विलयन में टॉल्यूईन का एसीटोन से अनुपात 4 : 1 है। वैज्ञानिक के लिए टॉल्यूईन का प्रति लीटर मूल्य (₹ में) कितना है?

- Ans
- 1. 16.5
 - 2. 20
 - 3. 21
 - 4. 18.5

Question ID : 26433081639
Status : Answered
Chosen Option : 1

Q.11 ₹40,000 के मूलधन पर 8% वार्षिक की दर से डेढ़ वर्ष के अंत में अर्धवार्षिक रूप से चक्रवृद्धि होने पर लगभग कितना मिश्रधन प्राप्त होगा?

- Ans
- 1. ₹43,915
 - 2. ₹45,625
 - 3. ₹44,995
 - 4. ₹42,675

Question ID : 26433091561
Status : Not Answered
Chosen Option : --

Q.12 यदि राम, रॉबर्ट और रहीम ने क्रमशः ₹50,000, ₹30,000 और ₹40,000 समान समय अवधि के लिए निवेश करके एक फर्म शुरू की, तो ₹18,000 के लाभ में से क्रमशः रहीम और रॉबर्ट के हिस्से का अनुपात _____ है।

Ans 1. 4 : 3

2. 3 : 4

3. 3 : 5

4. 4 : 5

Question ID : 26433079929

Status : Answered

Chosen Option : 1

Q.13 पिकी अपनी कार की टंकी में 20 लीटर पेट्रोल भर्ती है। वह एक यात्रा पर जाती है और टंकी में केवल 5.5 लीटर पेट्रोल बचता है। टंकी में पेट्रोल में कितना प्रतिशत परिवर्तन हुआ है?

Ans 1. 72.5 प्रतिशत

2. 85.5 प्रतिशत

3. 5.5 प्रतिशत

4. 14.5 प्रतिशत

Question ID : 264330116797

Status : Answered

Chosen Option : 1

Q.14 एक दुकानदार 9 खिलौने खरीदने पर 3 खिलौने मुफ्त देता है तथा सभी खिलौने समान प्रकार के हैं। ग्राहक को मिलने वाली छूट प्रतिशत क्या है?

Ans 1. 15%

2. 20%

3. 25%

4. 10%

Question ID : 26433076428

Status : Answered

Chosen Option : 3

Q.15 यदि एक आयत का विकर्ण 10 cm लंबा और परिमाप 28 cm है, तो आयत का क्षेत्रफल ज्ञात कीजिए।

Ans 1. 48 cm²

2. 24 cm²

3. 60 cm²

4. 96 cm²

Question ID : 26433087405

Status : Answered

Chosen Option : 1

Q.16 $-67 + 700 \div [85 - \{8 \times 9 + (28-5 \times 5)\}]$ का मान ज्ञात कीजिए।

Ans 1. 3

2. 2

3. 4

4. 1

Question ID : 26433082952

Status : Answered

Chosen Option : 1

Q.17 Rs.9,350 की राशि ऋणस्वरूप ली गई। इसका भुगतान दो समान किश्तों में किया गया है। यदि वार्षिक रूप से संयोजित चक्रवृद्धि ब्याज-दर 20% प्रति वर्ष हो, तो प्रत्येक किश्त की राशि कितनी है?

Ans 1. Rs.2600

2. Rs.2160

3. Rs.6200

4. Rs.6120

Question ID : 26433075349

Status : Not Answered

Chosen Option : --

Q.18 एक चुनाव में, राशिका और निकिता एक दूसरे के विरुद्ध थीं। राशिका को 54% मत मिले और वह 1280 मतों से चुनाव जीत गई। चुनाव में कुल कितने मत पड़े?

Ans 1. 15500

2. 15000

3. 16000

4. 16500

Question ID : 26433080295

Status : Answered

Chosen Option : 3

Q.19 10 फ़रवरी 2014 को, एक ट्रेन 6 a.m. पर दिल्ली से निकलती है और 10 a.m. जयनगर पहुँचती है। एक दूसरी ट्रेन 8 a.m. पर जयनगर से निकलती है और 11:30 a.m. पर दिल्ली पहुँचती है। दोनों ट्रेनें एक दूसरे को कितने बजे पार करती हैं?

Ans 1. 8:56 a.m.

2. 9:15 a.m.

3. 6:56 a.m.

4. 8:48 a.m.

Question ID : 26433075887

Status : Answered

Chosen Option : 1

Q.20 A और B अकेले एक कार्य को क्रमशः 7 दिन और 14 दिन में पूरा कर सकते हैं। यदि वे दोनों A से शुरू करके एकांतर दिनों में कार्य करते हैं, तो कार्य कितने दिन में पूरा हो जाएगा?

- Ans
- 1. 8
 - 2. 11
 - 3. 9
 - 4. 10

Question ID : 26433074310
Status : Answered
Chosen Option : 3

Section : Part-D-English

Q.1 Identify the MISSPELT word in the following sentence.

As they only require minimal supervision and support, naturally bright learners are largely unaffected by classroom dynamics.

- Ans
- 1. unaffected
 - 2. minimal
 - 3. supervision
 - 4. dynamics

Question ID : 26433073662
Status : Not Answered
Chosen Option : --

Q.2 Select the most appropriate option to fill in the blank.

The farmers used to _____ seeds by this time.

- Ans
- 1. so
 - 2. soe
 - 3. sew
 - 4. sow

Question ID : 26433089070
Status : Not Answered
Chosen Option : --

Q.3 Select the most appropriate option that can substitute the underlined segment in the given sentence. If there is no need to substitute it, select 'No substitution'.
To stay healthy, you must keep away from smoking.

- Ans
- 1. you will keep away from smoking.
 - 2. you may keep away from smoking.
 - 3. No substitution
 - 4. you can keep away from smoking.

Question ID : 26433093080
Status : Not Answered
Chosen Option : --

Q.4 Select the most appropriate option to fill in the blank.

One night, a hunter _____ near a river when he began to dream.

- Ans
- 1. sleep
 - 2. is sleeping
 - 3. was sleeping
 - 4. was slept

Question ID : 26433072727
Status : Not Answered
Chosen Option : --

Q.5 Complete the sentence by choosing the most appropriate synonym of the underlined word.

When you look at something you _____ it.

- Ans
- 1. see
 - 2. touch
 - 3. hear
 - 4. ignore

Question ID : 26433088865
Status : Not Answered
Chosen Option : --

Q.6 Select the INCORRECTLY spelt word.

- Ans
- 1. Consientious
 - 2. Extinguish
 - 3. Moan
 - 4. Definite

Question ID : 26433073741
Status : Not Answered
Chosen Option : --

Q.7 Select the most appropriate option that can substitute the underlined segment in the given sentence. If there is no need to substitute it, select 'No substitution'.

The entire economy has been effected by the riots in the state.

- Ans
- 1. No substitution
 - 2. have been effected
 - 3. have been affected
 - 4. has been affected

Question ID : 26433091765
Status : Not Answered
Chosen Option : --

Q.8 Select the most appropriate antonym of the given word.

Extravagant

- Ans 1. Mean
 2. Wicked
 3. Wasteful
 4. Frugal

Question ID : 26433072358
Status : Not Answered
Chosen Option : --

Q.9 Fill in the blanks with the correct homophone.

Before planning a trip, considering the _____ for the trip is necessary.

- Ans 1. fear
 2. fore
 3. fair
 4. fare

Question ID : 26433092934
Status : Not Answered
Chosen Option : --

Q.10 Select the most appropriate ANTONYM of the given word.

Sage

- Ans 1. Useless
 2. Foolish
 3. Threatening
 4. Plain

Question ID : 26433073804
Status : Not Answered
Chosen Option : --

Q.11 Select the most appropriate ANTONYM of the underlined word.

Blunt objects will not have that much impact.

- Ans 1. Lame
 2. Honest
 3. Sharp
 4. Torrid

Question ID : 26433094733
Status : Not Answered
Chosen Option : --

Q.12 Select the most appropriate synonym of the given word.

Glimpse

- Ans 1. Gawk
 2. See through
 3. Vision
 4. Glance

Question ID : 26433073393
Status : Not Answered
Chosen Option : --

Q.13 Select the option that expresses the given sentence in past perfect tense.

- A. I read a lot about mythology.
B. I had been reading a lot about mythology.
C. I was reading a lot about mythology.
D. I had read a lot about mythology.

- Ans 1. D
 2. B
 3. C
 4. A

Question ID : 26433073517
Status : Not Answered
Chosen Option : --

Q.14 Select the most appropriate meaning of the underlined idiom that can be substituted in the following sentence.

The new Prince is not fit to hold a candle to his dead father.

- Ans 1. cannot to be compared with
 2. holding in high esteem,
 3. showing the way to
 4. holding the light to

Question ID : 26433072237
Status : Not Answered
Chosen Option : --

Q.15 Select the most appropriate meaning of the given idiom.

Done for

- Ans 1. Finished a job
 2. Ruined
 3. Depreciated
 4. Retreated

Question ID : 26433086330
Status : Not Answered
Chosen Option : --

Comprehension:

In the following passage, some words have been deleted. Read the passage carefully and select the most appropriate option to fill in each blank.

The Great Depression was a severe (1) _____ economic depression in the decade (2) _____ World War II. In most countries the depression (3) _____ in about 1929 and lasted until the late 1930s or early 1940s. It was the longest, most widespread, and deepest depression of the 20th century. In the 21st century, the Great Depression is commonly used as an example of how far the world's economy can (4) _____.

The depression originated in the U.S. Economic historians usually (5) _____ the start of the Great Depression to the sudden devastating collapse of US stock market prices on 29 October 1929, known as Black Tuesday; some dispute this conclusion, and see the stock crash as a symptom, rather than a cause, of the Great Depression.

SubQuestion No : 16

Q.16 Select the most appropriate option to fill in blank number 1.

- Ans
- 1. citywide
 - 2. nationwide
 - 3. statewide
 - 4. worldwide

Question ID : 26433060646

Status : Not Answered

Chosen Option : --

Comprehension:

In the following passage, some words have been deleted. Read the passage carefully and select the most appropriate option to fill in each blank.

The Great Depression was a severe (1) _____ economic depression in the decade (2) _____ World War II. In most countries the depression (3) _____ in about 1929 and lasted until the late 1930s or early 1940s. It was the longest, most widespread, and deepest depression of the 20th century. In the 21st century, the Great Depression is commonly used as an example of how far the world's economy can (4) _____.

The depression originated in the U.S. Economic historians usually (5) _____ the start of the Great Depression to the sudden devastating collapse of US stock market prices on 29 October 1929, known as Black Tuesday; some dispute this conclusion, and see the stock crash as a symptom, rather than a cause, of the Great Depression.

SubQuestion No : 17

Q.17 Select the most appropriate option to fill in blank number 2.

- Ans
- 1. succeeding
 - 2. proceeding
 - 3. receding
 - 4. preceding

Question ID : 26433060647

Status : Not Answered

Chosen Option : --

Comprehension:

In the following passage, some words have been deleted. Read the passage carefully and select the most appropriate option to fill in each blank.

The Great Depression was a severe (1) _____ economic depression in the decade (2) _____ World War II. In most countries the depression (3) _____ in about 1929 and lasted until the late 1930s or early 1940s. It was the longest, most widespread, and deepest depression of the 20th century. In the 21st century, the Great Depression is commonly used as an example of how far the world's economy can (4) _____.

The depression originated in the U.S. Economic historians usually (5) _____ the start of the Great Depression to the sudden devastating collapse of US stock market prices on 29 October 1929, known as Black Tuesday; some dispute this conclusion, and see the stock crash as a symptom, rather than a cause, of the Great Depression.

SubQuestion No : 18

Q.18 Select the most appropriate option to fill in blank number 3.

- Ans
- 1. ended
 - 2. followed
 - 3. started
 - 4. proceeded

Question ID : 26433060648

Status : Not Answered

Chosen Option : --

Comprehension:

In the following passage, some words have been deleted. Read the passage carefully and select the most appropriate option to fill in each blank.

The Great Depression was a severe (1) _____ economic depression in the decade (2) _____ World War II. In most countries the depression (3) _____ in about 1929 and lasted until the late 1930s or early 1940s. It was the longest, most widespread, and deepest depression of the 20th century. In the 21st century, the Great Depression is commonly used as an example of how far the world's economy can (4) _____.

The depression originated in the U.S. Economic historians usually (5) _____ the start of the Great Depression to the sudden devastating collapse of US stock market prices on 29 October 1929, known as Black Tuesday; some dispute this conclusion, and see the stock crash as a symptom, rather than a cause, of the Great Depression.

SubQuestion No : 19

Q.19 Select the most appropriate option to fill in blank number 4.

- Ans
- 1. decline
 - 2. negate
 - 3. slip
 - 4. backtrack

Question ID : 26433060649

Status : Not Answered

Chosen Option : --

Comprehension:

In the following passage, some words have been deleted. Read the passage carefully and select the most appropriate option to fill in each blank.

The Great Depression was a severe (1) _____ economic depression in the decade (2) _____ World War II. In most countries the depression (3) _____ in about 1929 and lasted until the late 1930s or early 1940s. It was the longest, most widespread, and deepest depression of the 20th century. In the 21st century, the Great Depression is commonly used as an example of how far the world's economy can (4) _____.

The depression originated in the U.S. Economic historians usually (5) _____ the start of the Great Depression to the sudden devastating collapse of US stock market prices on 29 October 1929, known as Black Tuesday; some dispute this conclusion, and see the stock crash as a symptom, rather than a cause, of the Great Depression.

SubQuestion No : 20

Q.20 Select the most appropriate option to fill in blank number 5.

- Ans
- 1. emblem
 - 2. merit
 - 3. attribute
 - 4. assign

Question ID : 26433060650
Status : Not Answered
Chosen Option : --

Section : Part-D-Hindi

Q.1 निम्न विकल्पों में से शुद्ध वाक्य का चयन कीजिए।

- Ans
- 1. बेटे ने बेटी से पूछा।
 - 2. बेटा ने बेटी से पूछा।
 - 3. बेटो बेटियों से पूछा।
 - 4. बेटी बेटा से पूछा।

Question ID : 26433063039
Status : Answered
Chosen Option : 1

Q.2 निम्नलिखित मुहावरे का उपयुक्त अर्थ क्या होगा?
खून का घूट पीना

- Ans
- 1. चुगली करना
 - 2. कोई गर्म चीज पीना
 - 3. क्रोध दबाना
 - 4. भाग जाना

Question ID : 26433065779
Status : Answered
Chosen Option : 3

Q.3 निम्नलिखित में से किस वाक्य में वर्तनीगत अशुद्धि है?

- Ans
- 1. वह मेरा इकलौता बेटा है।
 - 2. यहाँ अंतर्विश्वविद्यालय प्रतियोगिता होगी।
 - 3. उसने मोतियों का एक हार खरीदा।
 - 4. 'आर्यावर्त' एक राष्ट्रीय दैनिक है।

Question ID : 26433079233
Status : Answered
Chosen Option : 4

Q.4 'एक और एक ग्यारह' होते हैं।' इस मुहावरे का सही अर्थ है -

- Ans
- 1. संगठन में शक्ति
 - 2. एक कार्य के दो लाभ
 - 3. बड़ा समूह
 - 4. गलत लोगों का समूह

Question ID : 26433062606
Status : Answered
Chosen Option : 4

Q.5 'वसन' के दो अर्थ हैं। एक अर्थ है 'स्त्रियों के कमर का एक आभूषण'। इसके दूसरे अर्थ से निम्न वाक्य पूर्ण कीजिए।

'नए _____ से पूजा करने की विधि है।'

- Ans
- 1. घंटी
 - 2. सिंदूर
 - 3. ज्योति
 - 4. वस्त्र

Question ID : 26433079238
Status : Answered
Chosen Option : 4

Q.6 निम्नलिखित में से किस वाक्य में 'उत्तम पुरुष सर्वनाम' सम्बन्धी अशुद्धि है?

- Ans
- 1. हमारे गाँव यहाँ से 200 मील दूर है।
 - 2. मुझे दिन में तीन बार जूस पीना होता है।
 - 3. मुझे कल दिल्ली जाना है।
 - 4. मेरा नाम राहुल है।

Question ID : 26433063000
Status : Answered
Chosen Option : 1

Q.7 'लताओं से आच्छादित रमणीय स्थान'
ऊपर दिए गए वाक्यांश के लिए एक शब्द क्या होगा?

- Ans
- 1. वट
 - 2. निकुंज
 - 3. जंगल
 - 4. अमराई

Question ID : 26433070060
Status : Answered
Chosen Option : 1

Q.8 'जो बहुत बोलता है', वाक्यांश के लिए एक शब्द _____ है।

- Ans
- 1. बंधुआ
 - 2. बधिर
 - 3. वाचाल
 - 4. बहका

Question ID : 26433062939
Status : Answered
Chosen Option : 3

Q.9 'वह पढ़ना माँगता है।' इस वाक्य में रेखांकित शब्द के स्थान पर उपयुक्त शब्द क्या होगा?

- Ans
- 1. चाहता
 - 2. जाता
 - 3. खाता
 - 4. सोचता

Question ID : 26433062206
Status : Answered
Chosen Option : 1

Q.10 'मैं रविवार के दिन तुम्हारे घर आऊंगा।' इस वाक्य में रेखांकित शब्द के स्थान सही पर शब्द क्या होगा?

- Ans
- 1. को
 - 2. पर
 - 3. के लिए
 - 4. में

Question ID : 26433085057
Status : Answered
Chosen Option : 1

Q.11 पिछले साल गाँव में भयानक बाढ़ आई थी।
उपरोक्त वाक्य में रेखांकित शब्द के विलोम शब्द का चयन कीजिए।

- Ans 1. नदी
 2. सूखा
 3. पानी
 4. अकाल

Question ID : 26433069761
Status : Answered
Chosen Option : 2

Q.12 निम्नलिखित में से 'अपेक्षा' का अर्थ नहीं होता है-

- Ans 1. विचार
 2. इच्छा
 3. आशा
 4. आवश्यकता

Question ID : 26433080947
Status : Answered
Chosen Option : 1

Q.13 'तिनकों का घर' वाक्यांश के लिए इनमें से उपयुक्त शब्द कौन-सा है?

- Ans 1. कुटज
 2. महल
 3. आरसी
 4. उटज

Question ID : 26433066888
Status : Answered
Chosen Option : 1

Q.14 निम्नलिखित शब्द के सही पर्यायवाची शब्द का चयन विकल्पों में से कीजिए।
सोना

- Ans 1. सुमन
 2. रजत
 3. कंचन
 4. कंगन

Question ID : 26433066943
Status : Answered
Chosen Option : 3

Q.15 'राम ने केबल दो रूपये लिए।' इस वाक्य के किस शब्द में वर्तनीगत अशुद्धि है?

- Ans
- 1. लिए
 - 2. राम
 - 3. रूपये
 - 4. केबल

Question ID : 26433085063

Status : Answered

Chosen Option : 4

Comprehension:

निम्नलिखित गद्यांश में कुछ शब्दों को हटा दिया गया है। दिए गए विकल्पों की सहायता से रिक्त स्थानों की पूर्ति कीजिए। प्रत्येक संख्या के लिए सबसे उपयुक्त विकल्प का चयन कीजिए।
परिश्रम 1. _____ का द्वार है। मनुष्य 2. _____ के सहारे ही विकसित अवस्था तक पहुंचा है। उसी के सहारे उसने अन्न उपजाया। 3. _____ का विकास किया, जिसके सहारे आज यहाँ जगमगाती सभ्यता चल रही है।
4. _____ से किया गया परिश्रम ही परिश्रम कहलाता है। परिश्रम करने वाला मनुष्य सदा सुखी रहता है।
परिश्रमी व्यक्ति का जीवन 5. _____ से पूर्ण होता है।

SubQuestion No : 16

Q.16 रिक्त स्थान 1 की पूर्ति के लिए सबसे उपयुक्त विकल्प का चयन करें।

- Ans
- 1. झुकाव
 - 2. उन्नति
 - 3. अधःपतन
 - 4. अवनति

Question ID : 264330110885

Status : Answered

Chosen Option : 2

Comprehension:

निम्नलिखित गद्यांश में कुछ शब्दों को हटा दिया गया है। दिए गए विकल्पों की सहायता से रिक्त स्थानों की पूर्ति कीजिए। प्रत्येक संख्या के लिए सबसे उपयुक्त विकल्प का चयन कीजिए।
परिश्रम 1. _____ का द्वार है। मनुष्य 2. _____ के सहारे ही विकसित अवस्था तक पहुंचा है। उसी के सहारे उसने अन्न उपजाया। 3. _____ का विकास किया, जिसके सहारे आज यहाँ जगमगाती सभ्यता चल रही है।
4. _____ से किया गया परिश्रम ही परिश्रम कहलाता है। परिश्रम करने वाला मनुष्य सदा सुखी रहता है।
परिश्रमी व्यक्ति का जीवन 5. _____ से पूर्ण होता है।

SubQuestion No : 17

Q.17 रिक्त स्थान 2 की पूर्ति के लिए सबसे उपयुक्त विकल्प का चयन करें।

- Ans
- 1. अनुद्यम
 - 2. परिश्रम
 - 3. अवकाश
 - 4. विश्राम

Question ID : 264330110886

Status : Answered

Chosen Option : 2

Comprehension:

निम्नलिखित गद्यांश में कुछ शब्दों को हटा दिया गया है। दिए गए विकल्पों की सहायता से रिक्त स्थानों की पूर्ति कीजिए। प्रत्येक संख्या के लिए सबसे उपयुक्त विकल्प का चयन कीजिए।
परिश्रम 1. _____ का द्वार है। मनुष्य 2. _____ के सहारे ही विकसित अवस्था तक पहुंचा है। उसी के सहारे उसने अन्न उपजाया। 3. _____ का विकास किया, जिसके सहारे आज यहाँ जगमगाती सभ्यता चल रही है।
4. _____ से किया गया परिश्रम ही परिश्रम कहलाता है। परिश्रम करने वाला मनुष्य सदा सुखी रहता है।
परिश्रमी व्यक्ति का जीवन 5. _____ से पूर्ण होता है।

SubQuestion No : 18

Q.18 रिक्त स्थान 3 की पूर्ति के लिए सबसे उपयुक्त विकल्प का चयन करें।

- Ans 1. तकनीक
 2. कॉलेज
 3. स्कूल
 4. कारखाना

Question ID : 264330110887

Status : Answered

Chosen Option : 1

Comprehension:

निम्नलिखित गद्यांश में कुछ शब्दों को हटा दिया गया है। दिए गए विकल्पों की सहायता से रिक्त स्थानों की पूर्ति कीजिए। प्रत्येक संख्या के लिए सबसे उपयुक्त विकल्प का चयन कीजिए।
परिश्रम 1. _____ का द्वार है। मनुष्य 2. _____ के सहारे ही विकसित अवस्था तक पहुंचा है। उसी के सहारे उसने अन्न उपजाया। 3. _____ का विकास किया, जिसके सहारे आज यहाँ जगमगाती सभ्यता चल रही है।
4. _____ से किया गया परिश्रम ही परिश्रम कहलाता है। परिश्रम करने वाला मनुष्य सदा सुखी रहता है।
परिश्रमी व्यक्ति का जीवन 5. _____ से पूर्ण होता है।

SubQuestion No : 19

Q.19 रिक्त स्थान 4 की पूर्ति के लिए सबसे उपयुक्त विकल्प का चयन करें।

- Ans 1. मन तथा बुद्धि
 2. अपमान
 3. मन रहित
 4. अमन

Question ID : 264330110888

Status : Answered

Chosen Option : 1

Comprehension:

निम्नलिखित गद्यांश में कुछ शब्दों को हटा दिया गया है। दिए गए विकल्पों की सहायता से रिक्त स्थानों की पूर्ति कीजिए। प्रत्येक संख्या के लिए सबसे उपयुक्त विकल्प का चयन कीजिए।
परिश्रम 1. _____ का द्वार है। मनुष्य 2. _____ के सहारे ही विकसित अवस्था तक पहुंचा है। उसी के सहारे उसने अन्न उपजाया। 3. _____ का विकास किया, जिसके सहारे आज यहाँ जगमगाती सभ्यता चल रही है।
4. _____ से किया गया परिश्रम ही परिश्रम कहलाता है। परिश्रम करने वाला मनुष्य सदा सुखी रहता है।
परिश्रमी व्यक्ति का जीवन 5. _____ से पूर्ण होता है।

SubQuestion No : 20

Q.20 रिक्त स्थान 5 की पूर्ति के लिए सबसे उपयुक्त विकल्प का चयन करें।

- Ans**
- 1. दीनता
 - 2. सौम्यता
 - 3. स्वाभिमान
 - 4. नम्रता

Question ID : 264330110889

Status : Answered

Chosen Option : 3

WWW.GOVtJOBSALERT.COM