

Constable GD in CAPFs SSF Rifleman GD in Assam Rifles and Sepoy in NCB Examination 2022

Roll Number	www.govtjobsalert.in
Candidate Name	www.govtjobsalert.in
Venue Name	iON Digital Zone iDZ Dohna
Exam Date	01/02/2023
Exam Time	5:15 PM - 6:15 PM
Subject	Constable GD Examination 2022

Section : Part-A-General Intelligence and Reasoning

Q.1 तीन कथनों के बाद दो निष्कर्ष दिए गए हैं। कथनों को सत्य मानते हुए, भले ही वे सामान्य रूप से ज्ञात तथ्यों से भिन्न प्रतीत होते हों, निर्णय करें कि कौन सा/से निष्कर्ष कथनों का तार्किक रूप से अनुसरण करता/करते है/हैं।

कथन:

सभी मेज लकड़ी हैं।

सभी लकड़ी पेंट हैं।

कोई पेंट स्टील नहीं है।

निष्कर्ष:

1. सभी स्टील लकड़ी हो सकते हैं।

2. कुछ पेंट स्टील हैं।

Ans 1. निष्कर्ष 1 और 2 दोनों अनुसरण करते हैं।

2. न तो निष्कर्ष 1 और न ही 2 अनुसरण करता है।

3. केवल निष्कर्ष 1 अनुसरण करता है।

4. केवल निष्कर्ष 2 अनुसरण करता है।

Question ID : 26433089422

Status : Answered

Chosen Option : 2

Q.2 निम्नलिखित में से कौन-सी संख्या दी गई श्रृंखला में प्रश्न चिह्न (?) के स्थान पर आएगी?
16, 23, 34, 47, 64, ?, 106

Ans 1. 90

2. 98

3. 83

4. 86

Question ID : 26433070216

Status : Answered

Chosen Option : 3

Q.3 छः मित्र M, N, O, P, Q और R एक सीधी पंक्ति में उत्तर की ओर मुख करके बैठे हैं। N के बाईं ओर केवल तीन व्यक्ति बैठे हैं। O, N के दाईं ओर ठीक बगल में बैठा है। M और P, Q के ठीक बगल में इस प्रकार बैठे हैं, कि M, O के बाईं ओर चौथे स्थान पर है। R कहां बैठा है?

- Ans
- 1. O के बाईं ओर तीसरे स्थान पर
 - 2. M के दाईं ओर ठीक बगल में
 - 3. P के दाईं ओर तीसरे स्थान पर
 - 4. N के बाईं ओर दूसरे स्थान पर

Question ID : 26433074526

Status : Not Answered

Chosen Option : --

Q.4 उस विकल्प का चयन कीजिए जो तीसरे शब्द से उसी प्रकार संबंधित है जिस प्रकार दूसरा शब्द पहले शब्द से संबंधित है। (शब्दों को अर्थपूर्ण शब्दों के रूप में मानना है और उन्हें शब्द में अक्षरों/व्यंजनों/स्वरों की संख्या के आधार पर एक-दूसरे से संबंधित नहीं करना है।)
अर्जेंटीना : पेसो :: जापान : ?

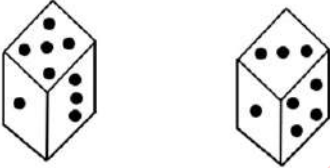
- Ans
- 1. येन
 - 2. क्रोना
 - 3. गिल्डर
 - 4. रियाल

Question ID : 26433067369

Status : Answered

Chosen Option : 1

Q.5 एक ही पासे की दो अलग-अलग स्थितियों को दर्शाया गया है जिस पर संख्या 1 से 6 को बिंदुओं के रूप में दर्शाया गया है। '5' दर्शाने वाले फलक के विपरीत फलक पर स्थित संख्या ज्ञात कीजिए।



- Ans
- 1. 6
 - 2. 1
 - 3. 2
 - 4. 4

Question ID : 26433085524

Status : Answered

Chosen Option : 4

Q.6 दी गई आकृति के सही दर्पण प्रतिबिम्ब का चयन करें जब दर्पण को MN पर रखा जाए जैसा कि नीचे दर्शाया गया है।



Ans

✓ 1. **hiEraRchY**

✗ 2. **YhceRrchi**

✗ 3. **YhceRrchi**

✗ 4. **YhceRrchi**

Question ID : 26433085560

Status : Answered

Chosen Option : 1

Q.7 नीचे दिए गए समीकरण को गणितीय रूप से सही बनाने के लिए किन दो गणितीय चिह्नों को परस्पर बदलना चाहिए?

$$44 - 96 \times 4 \div 3 + 58 = 30$$

Ans ✓ 1. + और x

✗ 2. + और -

✗ 3. x और +

✗ 4. - और +

Question ID : 264330114195

Status : Answered

Chosen Option : 1

Q.8 कौन-सा अक्षर-समूह दी गई श्रृंखला में प्रश्नचिह्न (?) के स्थान पर आकर श्रृंखला को पूर्ण करेगा?
ACEG, BDFH, ?, DFHJ, EGIK

Ans ✗ 1. CEHI

✗ 2. CFHJ

✓ 3. CEGI

✗ 4. CDEF

Question ID : 26433067710

Status : Answered

Chosen Option : 3

Q.9 किस विकल्प में निम्नलिखित शब्दों का वह क्रम दिया गया है, जिस क्रम में वे अंग्रेजी शब्दकोश में आते हैं।

- 1 power
- 2 pour
- 3 powder
- 4 pointed
- 5 polite

- Ans
- 1. 4,2,5,3,1
 - 2. 4,2,3,1,5
 - 3. 4,3,5,2,1
 - 4. 4,5,2,3,1

Question ID : 26433069283

Status : Answered

Chosen Option : 4

Q.10 उस विकल्प का चयन करें, जो पाँचवीं संख्या से उसी प्रकार संबंधित है, जिस प्रकार दूसरी संख्या, पहली संख्या से संबंधित है और चौथी संख्या, तीसरी संख्या से संबंधित है।
15 : 4 :: 21 : 6 :: 42 : ?

- Ans
- 1. 8
 - 2. 12
 - 3. 11
 - 4. 13

Question ID : 26433069416

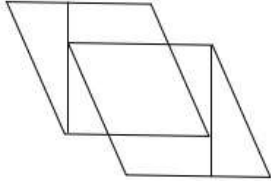
Status : Answered

Chosen Option : 4

WWW.GOVTIJOBSALERT.IN

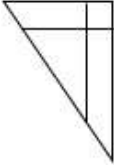
Q.11 वह विकल्प चित्र चुनिए, जो प्रस्तुत चित्र में अंतर्निहित है। (घुमाना अनुमन्य नहीं

है)

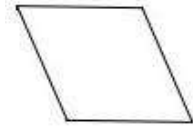


Ans

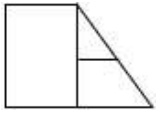
✗ 1.



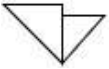
✓ 2.



✗ 3.



✗ 4.



Question ID : 26433069334

Status : Answered

Chosen Option : 2

Q.12 यदि श्रृंखला जारी रखनी है तो कौन-सी आकृति प्रश्न चिह्न (?) के स्थान पर

आएगी?

C	B	S	Z	4	B	S	C	?
4		C		Z		4		
S	Z	4	B	S	C	Z	B	

Ans

✓ 1.

Z	B
	C
S	4

✗ 2.

Z	B
	S
4	C

✗ 3.

4	S
	C
B	Z

✗ 4.

C	S
	B
4	Z

Question ID : 26433076635

Status : Answered

Chosen Option : 1

Q.13 कौन-सा अक्षर-समूह दी गई श्रृंखला में प्रश्नचिह्न (?) के स्थान पर आकर श्रृंखला को पूर्ण करेगा?
CJEZ, ?, WFYV, TDVT, QBSR

Ans ✓ 1. ZHBX

✗ 2. BHAY

✗ 3. AGCX

✗ 4. BGAW

Question ID : 26433068039

Status : Answered

Chosen Option : 1

Q.14 एक निश्चित कूट भाषा में, 'ARGUE' को '22620926' और 'BEACH' को '1924262225' के रूप में लिखा जाता है। इसी कूट भाषा में 'ACCEL' को किस प्रकार से लिखा जाएगा?

- Ans
- 1. 1524242426
 - 2. 1252242426
 - 3. 1522242426
 - 4. 1522226426

Question ID : 26433069553
Status : Answered
Chosen Option : 3

Q.15 उस विकल्प का चयन कीजिए जो तीसरे शब्द से उसी प्रकार संबंधित है जिस प्रकार दूसरा शब्द पहले शब्द से संबंधित है। (शब्दों को अर्थपूर्ण शब्दों के रूप में मानना है और उन्हें शब्द में अक्षरों/व्यंजनों/स्वरों की संख्या के आधार पर एक-दूसरे से संबंधित नहीं करना है।)

सुनार : आभूषण :: मूर्तिकार : ?

- Ans
- 1. रेत
 - 2. रत्न
 - 3. संग्रहालय
 - 4. आवक्षमूर्ति

Question ID : 26433069582
Status : Answered
Chosen Option : 3

Q.16 नीचे दिए गए समीकरण को गणितीय रूप से सही बनाने के लिए किन संख्याओं(अंकों को नहीं) को परस्पर बदलना चाहिए?

$$108 \div 9 \times 16 + 12 - 27 = 126$$

- Ans
- 1. 27 और 9
 - 2. 16 और 9
 - 3. 12 और 27
 - 4. 9 और 12

Question ID : 264330117492
Status : Answered
Chosen Option : 4

Q.17 छह व्यक्ति J, K, L, M, N और O एक वृत्ताकार मेज के परितः केंद्र की ओर मुख करके बैठे हैं। J, N के दाईं ओर दूसरे स्थान पर बैठा है। O, M और J के ठीक बगल में बैठा है। K, L के बाईं ओर दूसरे स्थान पर बैठा है। O के दाईं ओर ठीक बगल में कौन बैठा है?

- Ans
- 1. L
 - 2. N
 - 3. M
 - 4. K

Question ID : 26433069479
Status : Not Answered
Chosen Option : --

Q.18 निम्न श्रंखला में प्रश्न-चिह्न (?) के स्थान पर कौन सी संख्या आएगी?
1, 5, ?, 25, 41, 61

- Ans
- 1. 8
 - 2. 10
 - 3. 13
 - 4. 12

Question ID : 26433067842
Status : Answered
Chosen Option : 3

Q.19 एक निश्चित कूट भाषा में, 'heart games' को 'alarm coffee' के रूप में कूटबद्ध किया जाता है, 'wrap' को 'bottle' के रूप में कूटबद्ध किया जाता है और 'wrap games' को 'bottle coffee' के रूप में कूटबद्ध किया जाता है। 'heart' के लिए कूट शब्द क्या होगा?

- Ans
- 1. alarm
 - 2. wrap
 - 3. coffee
 - 4. bottle

Question ID : 26433079365
Status : Answered
Chosen Option : 1

Q.20 'A + B' का अर्थ है 'B, A का पिता है'
'A - B' का अर्थ है 'B, A की माता है'
'A @ B' का अर्थ है 'B, A का भाई है'
'A * B' का अर्थ है 'B, A का पुत्र है'
यदि $A * B + C @ D - E$ है, तो E, A से किस प्रकार संबंधित है?

- Ans
- 1. सास
 - 2. बहन
 - 3. माता
 - 4. भाभी

Question ID : 26433068532
Status : Answered
Chosen Option : 1

Section : Part-B-General Knowledge and General awareness

Q.1 राष्ट्रीय स्तर की क्रिकेट चैंपियनशिप, रणजी ट्रॉफी, _____ में शुरू हुई थी।

- Ans
- 1. 1944-1945
 - 2. 1934-1935
 - 3. 1953-1954
 - 4. 1950-1951

Question ID : 26433089922
Status : Answered
Chosen Option : 2

Q.2 2013 का राष्ट्रीय खाद्य और सुरक्षा अधिनियम (NFSA2013) भारत की ग्रामीण आबादी के _____ को सब्सिडी वाला खाद्यान्न प्रदान करता है।

- Ans
- 1. 85%
 - 2. 65%
 - 3. 75%
 - 4. 95%

Question ID : 264330116156
Status : Not Answered
Chosen Option : --

Q.3 राधा श्रीधर ने 2018 में _____ में संगीत नाटक अकादमी पुरस्कार जीता।

- Ans
- 1. ओडिसी
 - 2. मणिपुरी
 - 3. कथक
 - 4. भरतनाट्यम

Question ID : 264330115876
Status : Answered
Chosen Option : 1

Q.4 किसने भारत के 50वें मुख्य न्यायाधीश के रूप में शपथ ली है?

- Ans
- 1. उदय उमेश ललित
 - 2. नुथलापति वेंकट रमण
 - 3. धनंजय यशवंत चंद्रचूड़
 - 4. शरद अरविंद बोबडे

Question ID : 264330114982
Status : Answered
Chosen Option : 3

Q.5 द्रोणाचार्य खेल पुरस्कार _____ को दिया जाता है।

- Ans
- 1. टीम के अध्यक्ष
 - 2. टीम के कप्तान
 - 3. टीम के सर्वश्रेष्ठ खिलाड़ी
 - 4. टीम के कोच

Question ID : 264330116290
Status : Answered
Chosen Option : 4

Q.6 शिशु देखभाल संस्थान का कोई भी प्रभारी या कार्यरत कोई भी व्यक्ति, जो बच्चे को शारीरिक दंड देता है, वह _____ के अंतर्गत उत्तरदायी होगा।

- Ans
- 1. किशोर न्याय अधिनियम
 - 2. हिंदू उत्तराधिकार अधिनियम
 - 3. हिन्दू दत्तक अधिनियम
 - 4. भारतीय अधिवक्ता अधिनियम

Question ID : 264330116222
Status : Answered
Chosen Option : 1

Q.7 नगरपालिकाओं की शक्तियां, प्राधिकार और उत्तरदायित्व किस अनुसूची के अंतर्गत आते हैं?

- Ans
- 1. 10वीं
 - 2. 13वीं
 - 3. 11वीं
 - 4. 12वीं

Question ID : 264330115614
Status : Answered
Chosen Option : 4

Q.8 पश्चिमी समशीतोष्ण चक्रवातों के कारण सर्दियों के महीनों में _____ की उपलब्धता रबी फसलों की सफलता में मदद करती है।

- Ans
- 1. पाले (frost)
 - 2. पवन (wind)
 - 3. कोहरे (fog)
 - 4. वर्षण (precipitation)

Question ID : 264330115526
Status : Answered
Chosen Option : 4

Q.9 निम्न में से कौन सा अपघटन का दूसरा चरण है?

- Ans
- 1. विखंडन
 - 2. ह्यूमसीभवन
 - 3. निक्षालन
 - 4. अपचय

Question ID : 264330115252
Status : Answered
Chosen Option : 1

Q.10 कौन सा भारतीय संगठन देश में गरीबी पर डेटा एकत्र करने के लिए जिम्मेदार है?

- Ans 1. राष्ट्रीय नमूना सर्वेक्षण संगठन
 2. नीति (NITI) आयोग
 3. राष्ट्रीय सामाजिक अधिकारिता संगठन
 4. भारतीय रजिस्ट्रार जनरल और जनगणना आयुक्त का कार्यालय

Question ID : 264330116076
Status : Answered
Chosen Option : 4

Q.11 सितंबर 1948 में, भारतीय सेना ने अपने हस्तक्षेप द्वारा किस रियासत पर अधिकार स्थापित कर लिया था?

- Ans 1. त्रिपुरा
 2. असम
 3. हैदराबाद
 4. उत्तर प्रदेश

Question ID : 264330115688
Status : Answered
Chosen Option : 3

Q.12 निम्नलिखित में से किस मौर्य राजा ने धम्म की अवधारणा को लोकप्रिय बनाया था?

- Ans 1. अशोक
 2. बिंदुसार
 3. चंद्रगुप्त
 4. दशरथ

Question ID : 264330115452
Status : Answered
Chosen Option : 1

Q.13 एक उपकरण, जो परिपथ में धारा की उपस्थिति का पता लगा सकता है, उसे _____ के रूप में जाना जाता है।

- Ans 1. ओडोमीटर
 2. स्पीडोमीटर
 3. एमीटर
 4. हाइग्रोमीटर

Question ID : 26433089647
Status : Answered
Chosen Option : 3

Q.14 किसी पर्वत के प्रतिपवन दिशा में स्थित शुष्क भूमि के क्षेत्र को क्या कहते हैं?

- Ans 1. वर्षा वंचित क्षेत्र
 2. पहाड़ी क्षेत्र
 3. अनुवात दिशा
 4. प्रतिपवन दिशा

Question ID : 264330115981
Status : Answered
Chosen Option : 1

Q.15 मई 2022 में किस राजनीतिक नेता ने पार्टी नेतृत्व के साथ मतभेदों के चलते भारतीय राष्ट्रीय कांग्रेस छोड़ दी?

- Ans 1. मल्लिकार्जुन खड़गे
 2. शशि थरूर
 3. कपिल सिब्बल
 4. सोनिया गांधी

Question ID : 264330114914
Status : Answered
Chosen Option : 1

Q.16 15 मार्च, 1950 को योजना आयोग का गठन _____ की अध्यक्षता में किया गया था।

- Ans 1. एपीजे अब्दुल कलाम
 2. सुभाष चंद्र बोस
 3. जवाहर लाल नेहरू
 4. इंदिरा गांधी

Question ID : 264330115380
Status : Answered
Chosen Option : 3

Q.17 मंत्रिपरिषद सामूहिक रूप से _____ के प्रति उत्तरदायी होती है।

- Ans 1. लोक सभा
 2. राज्यपाल
 3. जनता
 4. मुख्यमंत्री

Question ID : 26433086672
Status : Answered
Chosen Option : 3

Q.18 ऐसी सरकारी वस्तुएं और सेवाएं जो सीधे उपभोक्ताओं को नहीं बेची जाती हैं, उदाहरण के लिए रक्षा सामान, सड़कें निम्न में से किसके अंतर्गत वर्गीकृत की जाती हैं?

- Ans 1. सार्वजनिक वस्तुएं
 2. निजी वस्तुएं
 3. महंगी वस्तुएं
 4. अंतरराष्ट्रीय वस्तुएं

Question ID : 264330115279
Status : Answered
Chosen Option : 1

Q.19 असम में कितने प्रकार के बिहू उत्सव मनाए जाते हैं?

- Ans 1. 3
 2. 2
 3. 6
 4. 5

Question ID : 264330106203
Status : Answered
Chosen Option : 2

Q.20 कालजयी कृति, 'हस्तलक्षण दीपिका' किस भारतीय शास्त्रीय नृत्य शैली से संबंधित है?

- Ans 1. कुचिपुड़ी
 2. सत्रीया
 3. भरतनाट्यम
 4. कथकली

Question ID : 26433069902
Status : Answered
Chosen Option : 2

Section : Part-C-Elementary Mathematics

Q.1 एक तूफान में एक बगीचे के 300 पेड़ों में से 243 पेड़ स्थिर रह गए। पेड़ों की संख्या में प्रतिशत कमी क्या है?

- Ans 1. 19 प्रतिशत
 2. 22 प्रतिशत
 3. 21 प्रतिशत
 4. 24 प्रतिशत

Question ID : 264330116826
Status : Answered
Chosen Option : 1

Q.2

$$\frac{3126^{20} 21^{22} 23^{--}}{5}$$

का शेषफल ज्ञात कीजिए

- Ans
- 1. 0
 - 2. 1
 - 3. 4
 - 4. 2

Question ID : 26433080385

Status : Answered

Chosen Option : 2

Q.3 A की चाल B की चाल से 30% अधिक है। यदि A और B, 117 m लंबी दौड़ में दौड़ लगाते हैं, तो A को दौड़ की लंबाई का कितना भाग B को शुरुआती बढ़त के रूप में देना चाहिए, ताकि दौड़ बराबरी पर समाप्त हो सके?

- Ans
- 1. 117 m
 - 2. 90 m
 - 3. 36 m
 - 4. 27 m

Question ID : 26433080051

Status : Not Attempted and Marked For Review

Chosen Option : --

Q.4 एक व्यक्ति 8 घंटे में 320 kms ड्राइव करता है, 5 घंटे में 40 kms साइकिल चलाता है और फिर 7 घंटे में 40 kms चलता है। चालक की औसत गति ज्ञात करें।

- Ans
- 1. 22 kmph
 - 2. 22.22 kmph
 - 3. 18 kmph
 - 4. 20 kmph

Question ID : 264330116686

Status : Answered

Chosen Option : 4

Q.5 एक दुकानदार अपने माल को क्रय मूल्य पर 10 प्रतिशत की हानि पर बेचता है लेकिन 30 प्रतिशत कम वजन के बाट का उपयोग करता है। उसका लाभ क्या है?

Ans

✗ 1. $20\frac{3}{7}$ प्रतिशत

✗ 2. $25\frac{5}{7}$ प्रतिशत

✗ 3. $21\frac{4}{7}$ प्रतिशत

✓ 4. $28\frac{4}{7}$ प्रतिशत

Question ID : 26433079864

Status : Answered

Chosen Option : 4

Q.6 दो वर्ष पहले, एक शहर की जनसंख्या 66000 थी। पहले वर्ष में जनसंख्या में 5% की वृद्धि हुई और दूसरे वर्ष में 5% की कमी हुई। शहर की वर्तमान जनसंख्या ज्ञात कीजिए।

Ans

✗ 1. 65583

✗ 2. 63855

✓ 3. 65835

✗ 4. 68553

Question ID : 26433075196

Status : Answered

Chosen Option : 3

Q.7 15% और 25% की दो क्रमिक छूट के बराबर एकल छूट कितनी होगी?

Ans

✗ 1. $38\frac{1}{4}\%$

✓ 2. $36\frac{1}{4}\%$

✗ 3. $21\frac{1}{4}\%$

✗ 4. $26\frac{3}{4}\%$

Question ID : 26433061070

Status : Answered

Chosen Option : 2

Q.8 एक डीलर सभी गुड़ियों पर 20% की छूट प्रदान करता है। वह उन ग्राहकों को कम हुई कीमत पर 5% की अतिरिक्त छूट प्रदान करता है जो नकद भुगतान करते हैं। एक ग्राहक Rs.1,800 की कीमत वाली गुड़िया के लिए नकद में कितना भुगतान करेगा?

- Ans
- 1. Rs.1,225
 - 2. Rs.800
 - 3. Rs.1,532
 - 4. Rs.1,368

Question ID : 26433083041
Status : Answered
Chosen Option : 4

Q.9 Rs.500 को A, B, C और D में इस तरह से विभाजित कीजिये जिससे A और B की धनराशि मिलाकर, C और D को मिलाकर मिली धनराशि की तीन गुना हो, B की धनराशि C की धनराशि की 4 गुना हो और C की धनराशि D की धनराशि की 1.5 गुना हो। B के हिस्से का मान ज्ञात कीजिए।

- Ans
- 1. Rs.125
 - 2. Rs.75
 - 3. Rs.250
 - 4. Rs.300

Question ID : 26433076038
Status : Answered
Chosen Option : 1

Q.10 एक व्यक्ति के वेतन में पहले 40 प्रतिशत की कमी की जाती है और फिर 40 प्रतिशत की वृद्धि की जाती है। वेतन में प्रतिशत कमी क्या है?

- Ans
- 1. 15 प्रतिशत
 - 2. 16 प्रतिशत
 - 3. 18 प्रतिशत
 - 4. 12 प्रतिशत

Question ID : 26433079854
Status : Answered
Chosen Option : 2

Q.11 एक शंकाकार बर्तन के आधार की त्रिज्या 5 cm है और इसकी ऊंचाई 24 cm है। बर्तन पूरी तरह से पानी से भरा हुआ है। इस पानी को एक ऐसे बेलनाकार बर्तन में डाला जाता है जिसके आधार की त्रिज्या 10 cm है। बेलनाकार बर्तन में पानी की गहराई क्या होगी?

- Ans
- 1. 1 cm
 - 2. 4 cm
 - 3. 2 cm
 - 4. 3 cm

Question ID : 26433075213
Status : Not Answered
Chosen Option : --

Q.12 P उतना कार्य कर सकता है जितना Q और R मिलकर कर सकते हैं। P और Q मिलकर एक कार्य को 8 घंटे और 24 मिनट में कर सकते हैं और R इसे 42 घंटे में कर सकता है। वह समय (घंटों में) ज्ञात करें जो Q को अकेले कार्य करने के लिए चाहिए।

- Ans
- 1. 24 घंटे
 - 2. 20 घंटे
 - 3. 21 घंटे
 - 4. 22 घंटे

Question ID : 264330116906
Status : Not Answered
Chosen Option : --

Q.13 एक बेलन का कुल पृष्ठीय क्षेत्रफल ज्ञात कीजिए जिसकी ऊँचाई 8.5 mm और आधार व्यास 10 mm है।

- Ans
- 1. $85.5\pi \text{ mm}^2$
 - 2. $67.5\pi \text{ mm}^2$
 - 3. $135\pi \text{ mm}^2$
 - 4. $120\pi \text{ mm}^2$

Question ID : 26433080249
Status : Answered
Chosen Option : 2

Q.14 तीन साझेदार A, B और C ने एक व्यवसाय शुरू किया और लाभ को क्रमशः 2 : 3 : 5 के अनुपात में बाँटने का फैसला किया। यदि B का हिस्सा Rs.7,50,000 है, तो कुल लाभ की गणना कीजिए।

- Ans
- 1. Rs.27,00,000
 - 2. Rs.25,00,000
 - 3. Rs.20,00,000
 - 4. Rs.24,00,000

Question ID : 26433075976
Status : Answered
Chosen Option : 2

Q.15 एक निश्चित राशि पर 5 वर्षों में 7% वार्षिक की दर से Rs.4,016.25 का साधारण ब्याज प्राप्त होता है। मूल राशि ज्ञात कीजिए?

- Ans
- 1. Rs.10,475
 - 2. Rs.11,475
 - 3. Rs.11,400
 - 4. Rs.9,475

Question ID : 26433075237
Status : Answered
Chosen Option : 2

Q.16 प्रथम 4 प्राकृत संख्याओं के घन का औसत क्या होगा?

- Ans 1. 100
 2. 25
 3. 50
 4. 75

Question ID : 26433075718
Status : Answered
Chosen Option : 2

Q.17 यदि 6 पुरुष या 8 महिलाएं 21.5 दिनों में एक खेत की कटाई कर सकते हैं। 14 पुरुष और 10 महिलाएं इसे काटने में कितना समय लेंगे?

- Ans 1. 9 दिन
 2. 8 दिन
 3. 12 दिन
 4. 6 दिन

Question ID : 26433076209
Status : Answered
Chosen Option : 4

Q.18 192 और 480 का लघुत्तम समापवर्त्य X के 100 गुना से 60 अधिक है। X का मान क्या है?

- Ans 1. 18
 2. 12
 3. 6
 4. 9

Question ID : 264330116631
Status : Answered
Chosen Option : 4

Q.19 एक यात्रा में, ठहरावों को छोड़कर एक ट्रक की चाल 90 km/h है, और ठहरावों के साथ ट्रक की चाल 36 km/h है। वह ट्रक प्रति घंटे कितने मिनट के लिए रुकता है?

- Ans 1. 54 मिनट
 2. 40 मिनट
 3. 42 मिनट
 4. 36 मिनट

Question ID : 26433074939
Status : Answered
Chosen Option : 1

Q.20 रीता Rs.12,000 में एक खिलौना कार खरीदती है और उसे Rs.14,500 में बेच देती है। उसका लाभ प्रतिशत (दशमलव के बाद दो अंक तक पूर्णांकित) ज्ञात कीजिए।

- Ans 1. 20.83%
2. 14.50%
3. 22%
4. 18%

Question ID : 26433074920
Status : Answered
Chosen Option : 1

Section : Part-D-English

Q.1 Select the most appropriate word to complete the meaning of the sentence.

The new owners of the newspaper had changed the _____ completely.

- Ans 1. outlet
2. layout
3. outlay
4. outlook

Question ID : 26433088875
Status : Not Answered
Chosen Option : --

Q.2 The following sentence has been divided into parts. One of them may contain an error. Select the part that contains the error from the given options. If you don't find any error, mark 'No error' as your answer.

For the last three years, / Sunita had been running / private hostels near this university.

- Ans 1. For the last three years
2. No error
3. private hostels near this university
4. Sunita had been running

Question ID : 26433073763
Status : Not Answered
Chosen Option : --

Q.3 Identify from the following options the word which is OPPOSITE in meaning to the given word.
Opaque

- Ans 1. Intangible
2. Transparent
3. Shadowy
4. Reflector

Question ID : 26433088816
Status : Not Answered
Chosen Option : --

Q.4 Select the most appropriate option to fill in the blank.

The skeleton of an unknown person has been hanging on the tree _____ last Wednesday.

- Ans
- 1. about
 - 2. through
 - 3. for
 - 4. since

Question ID : 26433074364
Status : Not Answered
Chosen Option : --

Q.5 Select the most appropriate meaning of the underlined idiom in the given sentence.

The second wave of the pandemic left everyone in the doldrums.

- Ans
- 1. In low spirits and despair
 - 2. In deep sympathy
 - 3. In need of help
 - 4. In confusion

Question ID : 26433073759
Status : Not Answered
Chosen Option : --

Q.6 The sentence given below has one misspelt word. Spot the INCORRECTLY spelt word and select its correct spelling.

Too much bureacracy suppresses creativity.

- Ans
- 1. Burocracy
 - 2. Bureaukracy
 - 3. Bureaucracy
 - 4. Burreaukracy

Question ID : 26433073555
Status : Not Answered
Chosen Option : --

Q.7 Select the most appropriate synonym of the given word.

Hesitation

- Ans
- 1. Creativity
 - 2. Readiness
 - 3. Reluctance
 - 4. Prudence

Question ID : 26433073465
Status : Not Answered
Chosen Option : --

Q.8 Select the most appropriate option that can substitute the underlined segment in the given sentence.

She couldn't get over with Thomas due to his addiction to alcohol.

- Ans
- 1. get rid with Thomas due to
 - 2. get at with Thomas due to
 - 3. get along with Thomas due to
 - 4. get off with Thomas due to

Question ID : 264330100989
Status : Not Answered
Chosen Option : --

Q.9 Select the correct word for the blanks in the given sentence.

There is a provision of _____ delivery in every courier service whereas a child can _____ his feelings at the age of 2 years or so.

- Ans
- 1. normal
 - 2. slow
 - 3. express
 - 4. fast

Question ID : 26433060536
Status : Not Answered
Chosen Option : --

Q.10 Select the most appropriate ANTONYM of the underlined word in the following sentence.

His ancestors are native to this place.

- Ans
- 1. Community
 - 2. Innate
 - 3. Foreign
 - 4. Enemy

Question ID : 26433072240
Status : Not Answered
Chosen Option : --

Q.11 Select the INCORRECTLY spelt word.

- Ans
- 1. Doubtful
 - 2. Willfull
 - 3. Powerful
 - 4. Grateful

Question ID : 26433072458
Status : Not Answered
Chosen Option : --

Q.12 Select the most appropriate synonym of the given word.

Colossal

- Ans 1. Fantastic
 2. Immense
 3. Joyous
 4. Entertaining

Question ID : 26433088997
Status : Not Answered
Chosen Option : --

Q.13 Select the most appropriate ANTONYM of the given word.

Dream

- Ans 1. Fancy
 2. Imagination
 3. Delusion
 4. Reality

Question ID : 26433072208
Status : Not Answered
Chosen Option : --

Q.14 Select the most appropriate option that can substitute the underlined segment in the given sentence.

The mob broke up the norms of the country.

- Ans 1. disturb
 2. damaged
 3. violated
 4. invade

Question ID : 26433086464
Status : Not Answered
Chosen Option : --

Q.15 Select the most appropriate meaning of the given idiom.

Where the shoe pinches

- Ans 1. Tight fitting shoes
 2. Where the comfort is more
 3. Expensive shoes
 4. Where the difficulty lies

Question ID : 26433072221
Status : Not Answered
Chosen Option : --

Comprehension:

In the following passage, some words have been deleted. Read the passage carefully and select the most appropriate option to fill in each blank.

The life (1) _____ of a banana is a colourful one; it starts with a deep green, changes to a delicious yellow and ends at an unappetizing brown. Bananas, like most fruits, produce and (2) _____ with an airborne hormone called ethylene. This hormone helps to signal the ripening process. An unripe fruit is hard and acidic. It is likely to possess a greenish (3) _____ due to the presence of chlorophyll. When a fruit comes into contact (4) _____ ethylene, the acids in the fruit start to break down, it becomes softer and the green chlorophyll is (5) _____ and replaced, in the case of bananas, with a yellow hue.

SubQuestion No : 16

Q.16 Select the most appropriate option to fill in blank number 1.

Ans 1. span

2. cycle

3. story

4. time

Question ID : 26433072056

Status : Not Answered

Chosen Option : --

Comprehension:

In the following passage, some words have been deleted. Read the passage carefully and select the most appropriate option to fill in each blank.

The life (1) _____ of a banana is a colourful one; it starts with a deep green, changes to a delicious yellow and ends at an unappetizing brown. Bananas, like most fruits, produce and (2) _____ with an airborne hormone called ethylene. This hormone helps to signal the ripening process. An unripe fruit is hard and acidic. It is likely to possess a greenish (3) _____ due to the presence of chlorophyll. When a fruit comes into contact (4) _____ ethylene, the acids in the fruit start to break down, it becomes softer and the green chlorophyll is (5) _____ and replaced, in the case of bananas, with a yellow hue.

SubQuestion No : 17

Q.17 Select the most appropriate option to fill in blank number 2.

Ans 1. differ

2. correspond

3. tamper

4. react

Question ID : 26433072057

Status : Not Answered

Chosen Option : --

Comprehension:

In the following passage, some words have been deleted. Read the passage carefully and select the most appropriate option to fill in each blank.

The life (1) _____ of a banana is a colourful one; it starts with a deep green, changes to a delicious yellow and ends at an unappetizing brown. Bananas, like most fruits, produce and (2) _____ with an airborne hormone called ethylene. This hormone helps to signal the ripening process. An unripe fruit is hard and acidic. It is likely to possess a greenish (3) _____ due to the presence of chlorophyll. When a fruit comes into contact (4) _____ ethylene, the acids in the fruit start to break down, it becomes softer and the green chlorophyll is (5) _____ and replaced, in the case of bananas, with a yellow hue.

SubQuestion No : 18**Q.18 Select the most appropriate option to fill in blank number 3.****Ans** ✓ 1. hue

✗ 2. fibre

✗ 3. seed

✗ 4. flesh

Question ID : 26433072058

Status : Not Answered

Chosen Option : --

Comprehension:

In the following passage, some words have been deleted. Read the passage carefully and select the most appropriate option to fill in each blank.

The life (1) _____ of a banana is a colourful one; it starts with a deep green, changes to a delicious yellow and ends at an unappetizing brown. Bananas, like most fruits, produce and (2) _____ with an airborne hormone called ethylene. This hormone helps to signal the ripening process. An unripe fruit is hard and acidic. It is likely to possess a greenish (3) _____ due to the presence of chlorophyll. When a fruit comes into contact (4) _____ ethylene, the acids in the fruit start to break down, it becomes softer and the green chlorophyll is (5) _____ and replaced, in the case of bananas, with a yellow hue.

SubQuestion No : 19**Q.19 Select the most appropriate option to fill in blank number 4.****Ans** ✓ 1. with

✗ 2. from

✗ 3. over

✗ 4. by

Question ID : 26433072059

Status : Not Answered

Chosen Option : --

Comprehension:

In the following passage, some words have been deleted. Read the passage carefully and select the most appropriate option to fill in each blank.

The life (1) _____ of a banana is a colourful one; it starts with a deep green, changes to a delicious yellow and ends at an unappetizing brown. Bananas, like most fruits, produce and (2) _____ with an airborne hormone called ethylene. This hormone helps to signal the ripening process. An unripe fruit is hard and acidic. It is likely to possess a greenish (3) _____ due to the presence of chlorophyll. When a fruit comes into contact (4) _____ ethylene, the acids in the fruit start to break down, it becomes softer and the green chlorophyll is (5) _____ and replaced, in the case of bananas, with a yellow hue.

SubQuestion No : 20

Q.20 Select the most appropriate option to fill in blank number 5.

- Ans
- 1. brought to
 - 2. fallen into
 - 3. turned down
 - 4. broken up

Question ID : 26433072060

Status : Not Answered

Chosen Option : --

Section : Part-D-Hindi

Q.1 निम्नलिखित वाक्य में रेखांकित शब्द के विलोम शब्द का प्रयोग करके रिक्तस्थान की पूर्ति कीजिए-
बादल से वर्षा की सम्भावना कम ही होती है, स्याह बादल वर्षा के परिचायक हैं।

- Ans
- 1. श्याम
 - 2. अंधेरा
 - 3. काला
 - 4. सफेद

Question ID : 26433091346

Status : Answered

Chosen Option : 1

Q.2 'सुंदरी' के लिए पर्याय शब्द निम्न में से क्या होगा?

- Ans
- 1. भामा
 - 2. सुदर्शना
 - 3. वनिता
 - 4. रानी

Question ID : 26433069943

Status : Answered

Chosen Option : 1

Q.3 'जिस स्त्री के पुत्र और पति न हो' वाक्यांश के लिए इनमें से सही शब्द क्या है?

- Ans 1. अवीरा
 2. सधवा
 3. कबीरा
 4. विधवा

Question ID : 26433092245
Status : Answered
Chosen Option : 1

Q.4 'बरसात के चार महीने' वाक्यांश के लिए सार्थक शब्द है-

- Ans 1. बारहमासा
 2. चारमासा
 3. चौमासा
 4. बरसात

Question ID : 26433062227
Status : Answered
Chosen Option : 3

Q.5 निम्नलिखित वाक्य के किस खंड में अशुद्धि है?
महादेवी वर्मा बड़ी जीवंत कवयित्री थीं।

- Ans 1. जीवंत
 2. थीं
 3. कवयित्री
 4. बड़ी

Question ID : 26433066750
Status : Answered
Chosen Option : 3

Q.6 रीता ने समीर के स्वभाव के बारे में जो बात कही है, वह _____ आने सही है।
उपरोक्त वाक्य में रिक्त स्थान की पूर्ति उचित मुहावरे द्वारा कीजिए।

- Ans 1. बारह
 2. आठ
 3. चार
 4. सोलह

Question ID : 26433062616
Status : Answered
Chosen Option : 4

Q.7 निम्न वाक्य में रेखांकित अंश के लिए उचित मुहावरा दिए गए विकल्पों में से चुनिए।
बेटा अच्छे अंकों से पास हो गया, माँ के मन को शांति मिली।

- Ans 1. कलेजा ठंडा होना
 2. कलम तोड़ना
 3. कली खिलना
 4. काँटा दूर होना

Question ID : 26433062302
Status : Answered
Chosen Option : 1

Q.8 “जयेश ने खाना खाया।”
उपरोक्त वाक्य का अपूर्ण वर्तमानकाल में रूपांतरण क्या होगा?

- Ans 1. जयेश खाना खा रहा है।
 2. शायद जयेश खाना खा रहा हो।
 3. जयेश ने खाना खाया होगा।
 4. जयेश ने खाना खा रहा होगा।

Question ID : 26433066977
Status : Answered
Chosen Option : 1

Q.9 निम्नलिखित में से शुद्ध वाक्य है-

- Ans 1. मोहन श्याम की अपेक्षा शिष्ट है।
 2. मोहन श्याम की अपेक्षा सिष्ट है।
 3. मोहन श्याम की अपेक्ष शिष्ट है।
 4. मोहन श्याम की अपेक्षा सिस्टर है।

Question ID : 26433066840
Status : Answered
Chosen Option : 1

Q.10 निम्नलिखित शब्दों में से कौन सा शब्द अनेकार्थी शब्द है?

- Ans 1. मेंढक
 2. मुद्रा
 3. बोरा
 4. मोती

Question ID : 26433091317
Status : Answered
Chosen Option : 2

Q.11 निम्नलिखित वाक्यांश के लिए एक सार्थक शब्द क्या होगा?
जो इच्छा के अधीन है

- Ans
- 1. आंशिक
 - 2. अमानत
 - 3. ऐच्छिक
 - 4. आशातीत

Question ID : 26433069987
Status : Answered
Chosen Option : 3

Q.12 कौन से विकल्प में क्रमशः अकर्मक-सकर्मक क्रिया का सही युग्म दिया गया है।

- Ans
- 1. गिरना, देना
 - 2. खाना, लिखना
 - 3. बैठना, लेटना
 - 4. कहना, सोना

Question ID : 26433063046
Status : Answered
Chosen Option : 3

Q.13 "सुजय राघव को पुस्तक दिया।"
उपरोक्त वाक्य में कारक सम्बन्धी त्रुटि पहचानकर निम्नलिखित में से शुद्ध वाक्य का चयन कीजिए।

- Ans
- 1. सुजय राघव की पुस्तक दी।
 - 2. सुजय राघव की पुस्तक दिया।
 - 3. सुजय ने राघव का पुस्तक दिया।
 - 4. सुजय ने राघव को पुस्तक दी।

Question ID : 26433066964
Status : Answered
Chosen Option : 4

Q.14 निम्नलिखित वाक्य में रेखांकित एकार्थी शब्द युग्म का उपयुक्त अर्थ बताएं।
हमारे गाँव में पीपल के 'शाप्त-सप्त' पेड़ हैं।

- Ans
- 1. शापित-सात
 - 2. नापित-शापित
 - 3. शुभ-लाभ
 - 4. दो बार सात-सात

Question ID : 26433091331
Status : Answered
Chosen Option : 1

Q.15 आधुनिक लोग गोबर को कम महत्व देते हैं।
उपरोक्त वाक्य में 'गोबर' के बदले आप कौन सा पद प्रयोग करेंगे?

- Ans
- 1. कुसुम
 - 2. अक्षत
 - 3. तुलसी
 - 4. गोमय

Question ID : 26433062689
Status : Answered
Chosen Option : 4

Comprehension:

निम्नलिखित गद्यांश में कुछ शब्दों को हटा दिया गया है। दिए गए विकल्पों की सहायता से रिक्त स्थानों की पूर्ति कीजिए। प्रत्येक संख्या के लिए सबसे उपयुक्त विकल्प का चयन कीजिए।
भारत कृषि प्रधान 1. _____ है। यहाँ की अधिकांश जनता 2. _____ करती है। कृषि ही उसकी जीविका का साधन है और यही व्यवसाय है। कृषक आज भी 3. _____ में रहता है। यद्यपि कुछ दशकों से यह दिखाई दे रहा है कि भारत का किसान अपना व्यवसाय छोड़कर 4. _____ की ओर भाग रहा है। फिर भी नगर और गाँवों के बीच की भूमि पर आज भी 5. _____ होती है।

SubQuestion No : 16

Q.16 रिक्त स्थान 1 की पूर्ति के लिए सबसे उपयुक्त विकल्प का चयन कीजिए।

- Ans
- 1. क्षेत्र
 - 2. नगर
 - 3. देश
 - 4. राज्य

Question ID : 264330110981
Status : Answered
Chosen Option : 3

Comprehension:

निम्नलिखित गद्यांश में कुछ शब्दों को हटा दिया गया है। दिए गए विकल्पों की सहायता से रिक्त स्थानों की पूर्ति कीजिए। प्रत्येक संख्या के लिए सबसे उपयुक्त विकल्प का चयन कीजिए।
भारत कृषि प्रधान 1. _____ है। यहाँ की अधिकांश जनता 2. _____ करती है। कृषि ही उसकी जीविका का साधन है और यही व्यवसाय है। कृषक आज भी 3. _____ में रहता है। यद्यपि कुछ दशकों से यह दिखाई दे रहा है कि भारत का किसान अपना व्यवसाय छोड़कर 4. _____ की ओर भाग रहा है। फिर भी नगर और गाँवों के बीच की भूमि पर आज भी 5. _____ होती है।

SubQuestion No : 17

Q.17 रिक्त स्थान 2 की पूर्ति के लिए सबसे उपयुक्त विकल्प का चयन कीजिए।

- Ans
- 1. व्यवसाय
 - 2. खेती
 - 3. खेल
 - 4. नाटक

Question ID : 264330110982
Status : Answered
Chosen Option : 2

Comprehension:

निम्नलिखित गद्यांश में कुछ शब्दों को हटा दिया गया है। दिए गए विकल्पों की सहायता से रिक्त स्थानों की पूर्ति कीजिए। प्रत्येक संख्या के लिए सबसे उपयुक्त विकल्प का चयन कीजिए।
भारत कृषि प्रधान 1. _____ है। यहाँ की अधिकांश जनता 2. _____ करती है। कृषि ही उसकी जीविका का साधन है और यही व्यवसाय है। कृषक आज भी 3. _____ में रहता है। यद्यपि कुछ दशकों से यह दिखाई दे रहा है कि भारत का किसान अपना व्यवसाय छोड़कर 4. _____ की ओर भाग रहा है। फिर भी नगर और गाँवों के बीच की भूमि पर आज भी 5. _____ होती है।

SubQuestion No : 18

Q.18 रिक्त स्थान 3 की पूर्ति के लिए सबसे उपयुक्त विकल्प का चयन कीजिए।

- Ans
- 1. शहरों
 - 2. विश्व
 - 3. गाँवों
 - 4. देश

Question ID : 264330110983

Status : Answered

Chosen Option : 3

Comprehension:

निम्नलिखित गद्यांश में कुछ शब्दों को हटा दिया गया है। दिए गए विकल्पों की सहायता से रिक्त स्थानों की पूर्ति कीजिए। प्रत्येक संख्या के लिए सबसे उपयुक्त विकल्प का चयन कीजिए।
भारत कृषि प्रधान 1. _____ है। यहाँ की अधिकांश जनता 2. _____ करती है। कृषि ही उसकी जीविका का साधन है और यही व्यवसाय है। कृषक आज भी 3. _____ में रहता है। यद्यपि कुछ दशकों से यह दिखाई दे रहा है कि भारत का किसान अपना व्यवसाय छोड़कर 4. _____ की ओर भाग रहा है। फिर भी नगर और गाँवों के बीच की भूमि पर आज भी 5. _____ होती है।

SubQuestion No : 19

Q.19 रिक्त स्थान 4 की पूर्ति के लिए सबसे उपयुक्त विकल्प का चयन कीजिए।

- Ans
- 1. दूसरे देशों
 - 2. भूमि
 - 3. खेतों
 - 4. शहरों

Question ID : 264330110984

Status : Answered

Chosen Option : 4

Comprehension:

निम्नलिखित गद्यांश में कुछ शब्दों को हटा दिया गया है। दिए गए विकल्पों की सहायता से रिक्त स्थानों की पूर्ति कीजिए। प्रत्येक संख्या के लिए सबसे उपयुक्त विकल्प का चयन कीजिए।
भारत कृषि प्रधान 1. _____ है। यहाँ की अधिकांश जनता 2. _____ करती है। कृषि ही उसकी जीविका का साधन है और यही व्यवसाय है। कृषक आज भी 3. _____ में रहता है। यद्यपि कुछ दशकों से यह दिखाई दे रहा है कि भारत का किसान अपना व्यवसाय छोड़कर 4. _____ की ओर भाग रहा है। फिर भी नगर और गाँवों के बीच की भूमि पर आज भी 5. _____ होती है।

SubQuestion No : 20

Q.20 रिक्त स्थान 5 की पूर्ति के लिए सबसे उपयुक्त विकल्प का चयन कीजिए।

- Ans
- 1. पूछताछ
 - 2. देखरेख
 - 3. खेती
 - 4. खाद्यान्न

Question ID : 264330110985

Status : Answered

Chosen Option : 3

WWW.GOVtJOBSALERT.COM