

# Constable GD in CAPFs SSF Rifleman GD in Assam Rifles and Sepoy in NCB Examination 2022

Roll Number	<a href="http://www.govtjobsalert.in">www.govtjobsalert.in</a>
Candidate Name	<a href="http://www.govtjobsalert.in">www.govtjobsalert.in</a>
Venue Name	iON Digital Zone iDZ 2 Patliputra
Exam Date	12/01/2023
Exam Time	11:45 AM - 12:45 PM
Subject	Constable GD Examination 2022

## Section : Part-A-General Intelligence and Reasoning

Q.1 किस विकल्प में निम्नलिखित शब्दों का वह क्रम दिया गया है, जिस क्रम में वे अंग्रेजी शब्दकोश में आते हैं?

- 1 Peanut
- 2 Peasant
- 3 Peacock
- 4 Peach
- 5 Pencil

Ans  1. 4,3,1,2,5

2. 4,3,5,1,2

3. 3,4,5,1,2

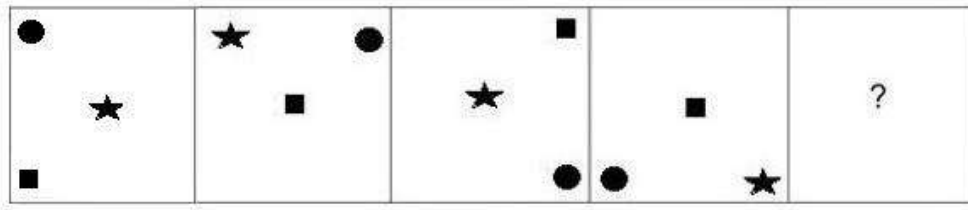
4. 3,4,1,2,5

Question ID : 26433069258

Status : Answered


Chosen Option : 1

Q.2 उस आकृति का चयन कीजिए जो नीचे दी गई श्रृंखला में प्रश्न चिह्न (?) के स्थान पर आएगी।




Ans


✗ 1.




✗ 2.



✗ 3.



✓ 4.



Question ID : 26433070420

Status : Answered

Chosen Option : 4

Q.3 निम्नलिखित में से कौन-सी संख्या दी गई श्रृंखला में प्रश्न-चिह्न (?) का स्थान लेगी?  
5, 13, 29, ?, 125, 253

Ans ✗ 1. 58

✗ 2. 52

✗ 3. 75

✓ 4. 61

Question ID : 26433068095

Status : Answered

Chosen Option : 4

Q.4 एक निश्चित कूट भाषा में 'TRUTH' को UQVSI और 'FIRST' को GHSRU के रूप में कूटबद्ध किया जाता है। उसी भाषा में 'WHITE' को किस प्रकार कूटबद्ध किया जाएगा?

- Ans
- 1. XGJSF
  - 2. DSRGV
  - 3. XIJUF
  - 4. VGHSD

Question ID : 26433074514

Status : Answered

Chosen Option : 1

Q.5 उस विकल्प का चयन करें जो छठे पद से उसी प्रकार संबंधित है, जिस प्रकार पहला पद दूसरे पद से और तीसरा पद चौथे पद से संबंधित है।  
169 : 182 :: 225 : 240 :: ? : 306

- Ans
- 1. 195
  - 2. 289
  - 3. 192
  - 4. 291

Question ID : 26433069093

Status : Answered

Chosen Option : 2

Q.6 'G + H' का अर्थ है 'G, H की पुत्री है'।  
'G - H' का अर्थ है 'G, H का पति है'।  
'G × H' का अर्थ है 'G, H का भाई है'।  
यदि किसी परिवार में संबंधों को इस प्रकार दर्शाया जाता है:  $A + Q - R + K - Y$ , तो K, A से किस प्रकार संबंधित है?

- Ans
- 1. नाना
  - 2. पति
  - 3. भाई
  - 4. पिता

Question ID : 26433069176

Status : Answered

Chosen Option : 1

Q.7 उस विकल्प का चयन कीजिए, जो पाँचवें पद से उसी प्रकार संबंधित है, जिस प्रकार दूसरा पद पहले पद से और चौथा पद तीसरे पद से संबंधित है।  
ARCS : ENHN :: GHAT : KDFO :: MUSK : ?

- Ans
- 1. PQYF
  - 2. PRYE
  - 3. QRXE
  - 4. QQXF

Question ID : 26433058009

Status : Answered

Chosen Option : 4

Q.8 छः लड़कियां - D, K, M, P, R और S एक वृत्ताकार मेज के परितः मेज के केंद्र की ओर मुख करके बैठी हैं। S, R के बाईं ओर तीसरे स्थान पर बैठी है। P, R के दाईं ओर ठीक बगल में, और D के बाईं ओर ठीक बगल में बैठी है। M, R के बाईं ओर ठीक बगल में बैठी है। K, S के दाईं ओर ठीक बगल में, और M के बाईं ओर ठीक बगल में बैठी है। D के बाईं ओर तीसरे स्थान पर कौन बैठी है?

- Ans
- 1. R
  - 2. P
  - 3. S
  - 4. M

Question ID : 26433080471

Status : Answered

Chosen Option : 4

Q.9 नीचे दिए गए समीकरण को गणितीय रूप से सही बनाने के लिए किन दो गणितीय चिह्नों को परस्पर बदलना चाहिए?

$$3 + 78 \div 13 - 9 \times 117 = 126$$

- Ans
- 1. + और ÷
  - 2. + और -
  - 3. + और ×
  - 4. ÷ और ×

Question ID : 264330114175

Status : Answered

Chosen Option : 3

Q.10 किसी निश्चित कूट भाषा में, 'distant face' को, 'human sad' के रूप में कूटबद्ध किया जाता है, 'face stairs' को, 'sad overpower' के रूप में कूटबद्ध किया जाता है, 'distant cup' को, 'human tea' के रूप में कूटबद्ध किया जाता है और 'stairs cup' को, 'overpower tea' के रूप में कूटबद्ध किया जाता है। 'face' शब्द का कूट क्या है?

- Ans
- 1. tea
  - 2. overpower
  - 3. human
  - 4. sad

Question ID : 26433069040

Status : Answered

Chosen Option : 4

Q.11 निम्नलिखित में से कौन-सा अक्षर नीचे दी गई अक्षर शृंखला में प्रश्न-चिह्न (?) के स्थान पर आकर शृंखला को पूर्ण करेगा?  
T, R, P, N, L, J, ?

- Ans
- 1. G
  - 2. H
  - 3. I
  - 4. F

Question ID : 26433067277

Status : Answered

Chosen Option : 2

Q.12 नीचे दिए गए समीकरण को सही बनाने के लिए किन दो चिन्हों को गणितीय रूप से परस्पर बदलना चाहिए?

$$72 \times 3 + 32 \div 4 - 16 = 136$$

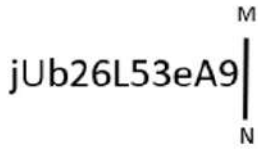
- Ans
- 1. + और -
  - 2.  $\times$  और +
  - 3.  $\times$  और  $\div$
  - 4.  $\div$  और -

Question ID : 264330117504

Status : Answered

Chosen Option : 3

Q.13 दी गई आकृति के सही दर्पण प्रतिबिम्ब का चयन करें जब दर्पण को MN पर रखा जाए जैसा कि नीचे दर्शाया गया है।



- Ans
- 1. eA9eL23eUj
  - 2. jUpZeL23eA9
  - 3. eA9eL23eUj
  - 4. jUpZeL23eA9

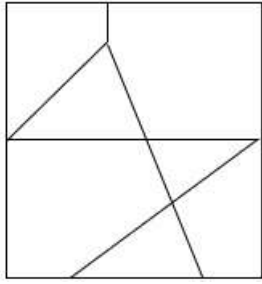
Question ID : 26433085544

Status : Answered

Chosen Option : 4

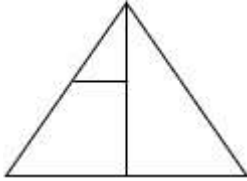
Q.14 वह विकल्प चित्र चुनिए, जो प्रस्तुत चित्र में अंतर्निहित है। (घुमाना अनुमन्य नहीं है)

है)




Ans

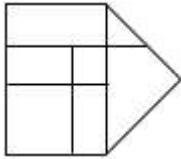
✗ 1.



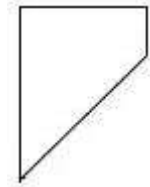
✗ 2.



✗ 3.



✓ 4.



Question ID : 26433069348

Status : Answered

Chosen Option : 4

Q.15 निम्न श्रंखला में प्रश्न-चिह्न (?) के स्थान पर कौन सी संख्या आएगी?  
19, 21, ?, 134, 538, 2692

Ans ✗ 1. 84

✓ 2. 44

✗ 3. 38

✗ 4. 68

Question ID : 26433068970

Status : Answered

Chosen Option : 2

Q.16 दिए गए विकल्पों में से उस अक्षर-समूह का चयन कीजिए, जो निम्नलिखित श्रृंखला में प्रश्न-चिह्न (?) को प्रतिस्थापित कर सकता है।  
?, HLEJ, JNGL, LPIN

- Ans
- 1. FGCF
  - 2. FJCH
  - 3. FJCD
  - 4. EDHI

Question ID : 26433068351

Status : Answered

Chosen Option : 2

Q.17 तीन कथनों के बाद तीन निष्कर्ष I, II और III दिए गए हैं। कथनों को सत्य मानते हुए, भले ही वे सामान्य रूप से ज्ञात तथ्यों से भिन्न प्रतीत होते हों, निर्धारित करें कि कौन-सा/से निष्कर्ष, कथनों का तार्किक रूप से अनुसरण करता है/करते हैं।

कथन:

सभी ग्लव्स बेट हैं।

सभी स्टंप बेट हैं।

सभी बेट बॉल हैं।

निष्कर्ष:

I. सभी स्टंप बॉल हैं।

II. कुछ बॉल ग्लव्स हैं।

III. कुछ ग्लव्स स्टंप हैं।

- Ans
- 1. केवल निष्कर्ष I और II अनुसरण करते हैं
  - 2. केवल निष्कर्ष I और III अनुसरण करते हैं
  - 3. केवल निष्कर्ष II और III अनुसरण करते हैं
  - 4. सभी निष्कर्ष अनुसरण करते हैं

Question ID : 26433082310

Status : Answered

Chosen Option : 1

Q.18 सात व्यक्ति A, B, C, D, E, F और G एक सीधी पंक्ति में उत्तर की ओर मुख करके बैठे हैं। A, D के बाईं ओर तीसरे स्थान पर बैठा है। D अंतिम दाएं सिरे पर बैठा है। A और F के बीच केवल दो व्यक्ति बैठे हैं। B, F के ठीक बगल में है। C और D के बीच केवल एक व्यक्ति बैठा है। G, A के ठीक बगल में नहीं है। F और C के बीच कितने व्यक्ति बैठे हैं?

- Ans
- 1. 4
  - 2. 2
  - 3. 3
  - 4. 5

Question ID : 26433056930

Status : Answered

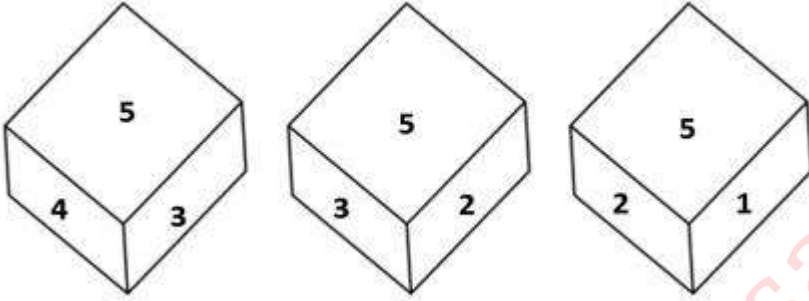
Chosen Option : 3

Q.19 उस विकल्प का चयन करें जो पांचवे अक्षर-समूह से उसी प्रकार संबंधित है जिस प्रकार दूसरा अक्षर-समूह पहले अक्षर-समूह से संबंधित है और चौथा अक्षर-समूह तीसरे अक्षर-समूह से संबंधित है।  
RAIN : SZJM :: FALL : GZMK :: JUMP : ?

- Ans  1. KTNO  
 2. KOTN  
 3. OKTN  
 4. KNT0

Question ID : 26433070326  
Status : Answered  
Chosen Option : 1

Q.20 एक ही पासे की तीन अलग-अलग स्थितियाँ यहाँ दर्शायी गई हैं। '4' दर्शाने वाले फलक के विपरीत वाले फलक पर आने वाली संख्या ज्ञात कीजिए।



- Ans  1. 3  
 2. 1  
 3. 6  
 4. 2

Question ID : 26433082890  
Status : Answered  
Chosen Option : 4

Section : Part-B-General Knowledge and General awareness

Q.1 अंग्रेजों ने अवध पर कब कब्जा कर लिया था?

- Ans  1. 1856  
 2. 1845  
 3. 1838  
 4. 1859

Question ID : 26433090581  
Status : Not Answered  
Chosen Option : --



Q.2 भारत में ग्यारहवीं पंचवर्षीय योजना की थीम क्या थी?

- Ans
- 1. तीव्र एवं अधिक समावेशी विकास की ओर
  - 2. जनसंख्या वृद्धि
  - 3. समान काम हेतु समान वेतन
  - 4. मुद्रास्फीति वृद्धि

Question ID : 264330115360

Status : Answered

Chosen Option : 1

Q.3 \_\_\_\_\_ are present only in plant cells.

- Ans
- 1. Nucleus
  - 2. Golgi apparatus
  - 3. Mitochondria
  - 4. Plastids

Question ID : 264330115239

Status : Answered

Chosen Option : 3

Q.4 जुलाई 2022 में, युवजन श्रमिक रायथू कांग्रेस पार्टी के आजीवन अध्यक्ष के रूप में किसे निर्वाचित किया गया है?

- Ans
- 1. जगन मोहन रेड्डी
  - 2. अविनाश पांडे
  - 3. जीतेन्द्र सिंह
  - 4. अजय माकन

Question ID : 264330114994

Status : Not Answered

Chosen Option : --

Q.5 Which of the following is NOT a part of revenue budget of the government?

- Ans
- 1. Plan Revenue Expenditure
  - 2. Non-tax Revenue
  - 3. Plan Capital Expenditure
  - 4. Tax Revenue

Question ID : 264330115291

Status : Answered

Chosen Option : 2

Q.6 व्यापार की गई वस्तुओं और सेवाओं के कुल मूल्य को व्यापार का/की \_\_\_\_\_ माना जाता है।

- Ans
- 1. दिशा
  - 2. संयोजन
  - 3. मात्रा
  - 4. प्रदर्शनी

Question ID : 26433054780  
Status : Answered  
Chosen Option : 2

Q.7 निशागंधी नृत्य उत्सव भारत के किस राज्य में मनाया जाता है?

- Ans
- 1. तमिलनाडु
  - 2. केरल
  - 3. तेलंगाना
  - 4. कर्नाटक

Question ID : 26433072922  
Status : Not Answered  
Chosen Option : --

Q.8 निम्न में से कौन सा तिलहन रबी फसल और खरीफ फसल दोनों के रूप में उगाया जाता है?

- Ans
- 1. अलसी के बीज
  - 2. अरंडी के बीज
  - 3. मूँगफली
  - 4. सरसों

Question ID : 264330115538  
Status : Answered  
Chosen Option : 3

Q.9 भारत के राष्ट्रीय खेल 2022 का 36वां संस्करण \_\_\_\_\_ राज्य में आयोजित किया गया था।

- Ans
- 1. पंजाब
  - 2. गुजरात
  - 3. मध्य प्रदेश
  - 4. महाराष्ट्र

Question ID : 264330115909  
Status : Answered  
Chosen Option : 1

Q.10 शास्त्रीय नर्तकी, अलरमेल वल्ली जिनहे \_\_\_\_\_ के लिए जाना जाता है,को पद्म भूषण से सम्मानित किया गया है।

- Ans
- 1. कुचिपुड़ी
  - 2. भरतनाट्यम
  - 3. कथकली
  - 4. मोहिनीअट्टम

Question ID : 264330115860  
Status : Not Answered  
Chosen Option : --

Q.11 ऋग्वेद \_\_\_\_\_ सूक्तों का संग्रह है।

- Ans
- 1. 1076
  - 2. 1028
  - 3. 1152
  - 4. 1124

Question ID : 264330115440  
Status : Answered  
Chosen Option : 2

Q.12 मेघालय की कौन सी पहाड़ियों में सर्वाधिक वर्षा होती है?

- Ans
- 1. नीलगिरि
  - 2. शिवालिक
  - 3. खासी पहाड़ियों
  - 4. अरावली

Question ID : 26433086755  
Status : Answered  
Chosen Option : 1

Q.13 Sphalerite is the ore of which of the following metals?

- Ans
- 1. Copper
  - 2. Tin
  - 3. Silver
  - 4. Zinc

Question ID : 264330115142  
Status : Answered  
Chosen Option : 1

Q.14 भारत के संविधान का अनुच्छेद 17 \_\_\_\_\_ से संबंधित है।

- Ans
- 1. शिक्षा का अधिकार
  - 2. अस्पृश्यता का अंत
  - 3. उपाधियों का अंत
  - 4. विधि के समक्ष समता

Question ID : 26433089905

Status : Answered

Chosen Option : 2

Q.15 निम्नलिखित में से किस मामले में, लोकसभा और राज्य-सभा को समान शक्तियां प्राप्त नहीं हैं?

- Ans
- 1. सर्वोच्च न्यायालय और उच्च न्यायालय के न्यायाधीशों पर महाभियोग चलाने
  - 2. राष्ट्रपति पर महाभियोग चलाने
  - 3. धन विधेयक पारित करने
  - 4. संवैधानिक संशोधन

Question ID : 26433054105

Status : Answered

Chosen Option : 3

Q.16 निम्नलिखित में से कौन मार्च 2022 में उत्तर प्रदेश के मुख्यमंत्री बने?

- Ans
- 1. अखिलेश यादव
  - 2. योगी आदित्यनाथ
  - 3. मुलायम सिंह यादव
  - 4. मायावती

Question ID : 264330114894

Status : Answered

Chosen Option : 2

Q.17 प्रसिद्ध भारतीय मुक्केबाज मैरी कॉम किस राज्य से हैं?

- Ans
- 1. मणिपुर
  - 2. मिजोरम
  - 3. तमिलनाडु
  - 4. नागालैंड

Question ID : 264330116274

Status : Answered

Chosen Option : 1

Q.18 निम्नलिखित में से किस उत्सव को "उत्सवों का उत्सव" भी कहा जाता है?

- Ans
- 1. चापचर कुट
  - 2. हॉर्नबिल महोत्सव
  - 3. मोत्सु
  - 4. वंगाला

Question ID : 264330115080

Status : Answered

Chosen Option : 1

Q.19 \_\_\_\_\_ was an Act passed to make a provision for levy and collection of tax on intra-State supply of goods or services.

- Ans
- 1. The Central Goods and Secured Tax Act
  - 2. The Cost of Goods and Services Tax Act
  - 3. The Central Gifts and Services Tax Act
  - 4. The Central Goods and Services Tax Act

Question ID : 264330116206

Status : Answered

Chosen Option : 4

Q.20 कौन-सा देश त्रिपुरा को पश्चिम, उत्तर और दक्षिण दिशाओं से घेरता है?

- Ans
- 1. बांग्लादेश
  - 2. म्यांमार
  - 3. भूटान
  - 4. वियतनाम

Question ID : 264330116098

Status : Not Answered

Chosen Option : --

Section : Part-C-Elementary Mathematics

Q.1 एक व्यक्ति 11 h में धारा की दिशा में 88 km तक और 12 h में धारा की विपरीत दिशा में 72 km तक नाव चला सकता है। धारा की चाल क्या है?

- Ans
- 1. 3 km/h
  - 2. 2 km/h
  - 3. 1 km/h
  - 4. 1.5 km/h

Question ID : 26433079889

Status : Answered

Chosen Option : 3

Q.2 60 लीटर के मिश्रण में दूध और पानी का अनुपात 2 : 3 है। दूध और पानी का अनुपात 1 : 2 बनाने के लिए कितनी मात्रा में पानी को मिलाया जाना चाहिए?

- Ans
- 1. 56 लीटर
  - 2. 60 लीटर
  - 3. 76 लीटर
  - 4. 12 लीटर

Question ID : 26433075497

Status : Answered

Chosen Option : 2

Q.3 संख्या 36, 48 और 90 का चतुर्थानुपाती ज्ञात कीजिए।

- Ans
- 1. 64
  - 2. 120
  - 3. 40
  - 4. 67.5

Question ID : 26433076188

Status : Answered

Chosen Option : 2

Q.4 दो उम्मीदवारों के बीच एक चुनाव में, डाले गए मतों के 64% मत प्राप्त करने वाला व्यक्ति 4,340 मतों के बहुमत से निर्वाचित होता है। डाले गए मतों की कुल संख्या कितनी है? (यह मानते हुए कि सभी डाले गए वोट वैध हैं)

- Ans
- 1. 15000
  - 2. 16500
  - 3. 16000
  - 4. 15500

Question ID : 26433075464

Status : Answered

Chosen Option : 4

Q.5

$\frac{4}{5}, \frac{8}{15}, \frac{2}{35}$  का महत्तम समापवर्तक (HCF) क्या है?

Ans

1.  $\frac{2}{75}$

2.  $\frac{2}{105}$

3.  $\frac{4}{105}$

4.  $\frac{2}{525}$

Question ID : 26433075540

Status : Answered

Chosen Option : 2

Q.6 एक वस्तु का अंकित मूल्य, क्रय मूल्य से 25% अधिक है। 10% लाभ अर्जित करने के लिए विक्रय मूल्य पर कितनी छूट होनी चाहिए?

Ans

1. 10.5%

2. 12.5%

3. 15%

4. 12%

Question ID : 26433082853

Status : Answered

Chosen Option : 4

Q.7 A five-digit number 32054 is divisible by 11. If the digits are rearranged in increasing order, then the new number which is formed will be divisible by:

Ans

1. 2

2. 3

3. 11

4. 5

Question ID : 26433075518

Status : Answered

Chosen Option : 4

Q.8 आयत की लंबाई उसकी चौड़ाई की तीन गुनी है। यदि इसकी लंबाई में 7 cm की कमी की जाती है और चौड़ाई में 7 cm की वृद्धि की जाती है, तो इसका क्षेत्रफल 21 cm<sup>2</sup> बढ़ जाता है। पहले आयत की लंबाई ज्ञात करें।

Ans  1. 15 cm

2. 21 cm

3. 18 cm

4. 12 cm

Question ID : 26433075477

Status : Answered

Chosen Option : 1

Q.9 धनराशि Rs.P उधार ली गई और दो समान वार्षिक किश्तों में वापस भुगतान की गई जिनमें से प्रत्येक की धनराशि Rs.35,280 है। यदि ब्याज की दर 5% वार्षिक है तथा ब्याज का संयोजन वार्षिक रूप से किया गया है, तो P का मान \_\_\_\_\_ है।

Ans  1. Rs.65,400

2. Rs.64,800

3. Rs.65,600

4. Rs.64,400

Question ID : 26433066412

Status : Answered

Chosen Option : 3

Q.10 कपिल और प्रकाश मिलकर एक कार्य को 45 दिनों में कर सकते हैं। प्रकाश और पीहू मिलकर इसे 60 दिनों में कर सकते हैं। कपिल और पीहू मिलकर इसे 60 दिनों में कर सकते हैं। कपिल, प्रकाश और पीहू मिलकर इसे कितने दिनों में पूरा करेंगे?

Ans  1. 38 दिन

2. 42 दिन

3. 36 दिन

4. 34 दिन

Question ID : 264330116890

Status : Answered

Chosen Option : 3

Q.11 पहली छः सम संख्याओं का औसत ज्ञात करें।

Ans  1. 10

2. 5

3. 6

4. 7

Question ID : 26433075054

Status : Answered

Chosen Option : 4



Q.12 30 आदमी 10 घंटे में 50 पेड़ काटते हैं। यदि 10 आदमी यह काम छोड़ कर चले जाते हैं, तो 15 घंटे में कितने पेड़ काटे जाएंगे?

- Ans
- 1. 45
  - 2. 60
  - 3. 50
  - 4. 55

Question ID : 26433065100

Status : Answered

Chosen Option : 3

Q.13 एक बेलनाकार टैंक की क्षमता  $5632 \text{ m}^3$  है। यदि इसके आधार का व्यास  $s \text{ m}$  है, तो बेलनाकार टैंक की गहराई क्या है? ( $\pi = \frac{22}{7}$  का प्रयोग करें)

- Ans
- 1. 116 m
  - 2. 112 m
  - 3. 114 m
  - 4. 118 m

Question ID : 26433079778

Status : Answered

Chosen Option : 2

Q.14 एक स्टोर में, Rs.28,500 की एमआरपी वाली वस्तु छूट के बाद Rs.27,645 की कीमत पर उपलब्ध है। उस वस्तु पर दी गई छूट का प्रतिशत कितना है?

- Ans
- 1. 4%
  - 2. 3%
  - 3. 1%
  - 4. 2%

Question ID : 26433082971

Status : Answered

Chosen Option : 2

Q.15 सुमन 40 kg गेहूं Rs.12.50/ kg और 30 kg गेहूं Rs.14/ kg की दर से खरीदती है। कुल मिलाकर 5% का लाभ प्राप्त करने के लिए उसे मिश्रण को प्रति kg किस दर से बेचना चाहिए?

- Ans
- 1. Rs.12.80
  - 2. Rs.13.80
  - 3. Rs.11.80
  - 4. Rs.14.80

Question ID : 26433066361

Status : Answered

Chosen Option : 2

Q.16 मुनाफ और सूर्या एक वृत्ताकार पथ पर एक ही बिंदु से एक साथ दौड़ना शुरू करते हैं, और वे उस पथ पर समान दिशा में दौड़ते हैं। उस वृत्ताकार पथ के जिस बिंदु पर वे 31वीं बार मिलते हैं, उसी बिंदु पर वे 43वीं बार मिलते हैं। यदि तेज़ दौड़ने वाले लड़के की चाल और धीमे दौड़ने वाले लड़के की चाल का अनुपात  $n : 1$  है, जहाँ 'n' एक प्राकृत संख्या है, तो निम्नलिखित में से कौन-सा 'n' का संभावित मान नहीं है?

Ans  1. 3

2. 6

3. 5

4. 4

Question ID : 26433073134

Status : Answered

Chosen Option : 2

Q.17 यदि एक निश्चित धनराशि पर 2 वर्षों के लिए 10% वार्षिक की दर से, वार्षिक चक्रवृद्धि आधार पर गणना किए गए चक्रवृद्धि ब्याज और साधारण ब्याज के बीच का अंतर ₹464 है, तो निवेश की गई धनराशि ज्ञात करें।

Ans  1. ₹44,006

2. ₹44,600

3. ₹46,400

4. ₹46,040

Question ID : 26433081590

Status : Answered

Chosen Option : 3

Q.18 3 महीने में बच्चे का भार 3.2 kg से बढ़कर 6 kg हो जाता है। बच्चे के भार में प्रतिशत वृद्धि है:

Ans  1. 82.5 प्रतिशत

2. 87.5 प्रतिशत

3. 70.5 प्रतिशत

4. 75.5 प्रतिशत

Question ID : 264330116810

Status : Answered

Chosen Option : 2

Q.19 शशि एक पुराना रेफ्रिजरेटर ₹12,000 में खरीदता है और इसकी मरम्मत पर ₹1,000 खर्च करता है। यदि वह रेफ्रिजरेटर को ₹15,000 में बेचता है, तो उसका लाभ प्रतिशत \_\_\_\_\_ है।

- Ans
- ✓ 1.  $15\frac{5}{13}\%$
  - ✗ 2.  $13\frac{5}{13}\%$
  - ✗ 3.  $14\frac{5}{13}\%$
  - ✗ 4.  $16\frac{5}{13}\%$

Question ID : 26433080105

Status : Answered

Chosen Option : 1

Q.20 9 संख्याओं का औसत 15 है। यदि पहली पांच संख्याओं का औसत 13 है और अंतिम पांच संख्याओं का औसत 17 है, तो पांचवीं संख्या क्या होगी?

- Ans
- ✗ 1. 18
  - ✗ 2. 16
  - ✗ 3. 20
  - ✓ 4. 15

Question ID : 26433075639

Status : Answered

Chosen Option : 4

Section : Part-D-English

Q.1 Select the INCORRECTLY spelt word.

- Ans
- ✓ 1. Seperate
  - ✗ 2. Suitable
  - ✗ 3. Nutrient
  - ✗ 4. Permanent

Question ID : 26433073500

Status : Answered

Chosen Option : 1

Q.2 Select the most appropriate ANTONYM to substitute the underlined word in the given sentence.

The goods being sold are of inferior quality.

- Ans  1. anterior  
 2. superior  
 3. ulterior  
 4. exterior

Question ID : 26433074009  
Status : Answered  
Chosen Option : 2

Q.3 Select the most appropriate synonym of the word given in brackets to fill in the blank.

Dishonest people always \_\_\_\_\_ (deceive) others.

- Ans  1. defend  
 2. assist  
 3. gladden  
 4. cheat

Question ID : 26433070468  
Status : Answered  
Chosen Option : 4

Q.4 Choose the sentence that is in simple past tense:

- A. I was giving some of the chocolates to my younger sister.  
B. I had been giving some of the chocolates to my younger sister.  
C. I had given some of the chocolates to my younger sister.  
D. I gave some of the chocolates to my younger sister.

- Ans  1. B  
 2. A  
 3. C  
 4. D

Question ID : 26433089017  
Status : Answered  
Chosen Option : 4

Q.5 Select the most appropriate ANTONYM for the underlined word in the following sentence.

He neglected his duties and was dismissed from his job.

- Ans  1. Ignored  
 2. Succeeded  
 3. Attended  
 4. Scorned

Question ID : 26433093034  
Status : Answered  
Chosen Option : 3

Q.6 Select the INCORRECTLY spelt word.

- Ans  1. Pancake  
 2. Modern  
 3. Passage  
 4. Pasion

Question ID : 26433085207  
Status : Answered  
Chosen Option : 4

Q.7 Select the most appropriate meaning of the idiom in bold in the given sentence.

Because the shop is closing down, most of the stock is going for a song.

- Ans  1. Receive punishment  
 2. Incredibly inexpensive  
 3. Incredibly expensive  
 4. Something that is soothing to your ears

Question ID : 26433072451  
Status : Answered  
Chosen Option : 2

Q.8 Select the most appropriate option that can substitute the underlined segment in the given sentence.

I asked Rita that how far her school was.

- Ans  1. how far her school is  
 2. then how far her school was  
 3. that how her school is  
 4. how far her school was

Question ID : 26433099095  
Status : Answered  
Chosen Option : 4

Q.9 Select the most appropriate synonym of the given word.

Omnipresent

- Ans  1. Powerful  
 2. Unique  
 3. Universal  
 4. Contemporary

Question ID : 26433072349  
Status : Answered  
Chosen Option : 3

Q.10 Select the most appropriate option that can substitute the underlined segment in the given sentence.

The way someone talks and behaves introduces the characteristics of a person.

- Ans
- 1. effects the aura
  - 2. defines the personality
  - 3. postulates the personality
  - 4. symbolises the gestures

Question ID : 26433088502  
Status : Answered  
Chosen Option : 2

Q.11 Select the most appropriate option to fill in the blank.

My mother was \_\_\_\_\_ at my negligence and scolded me.

- Ans
- 1. pleased
  - 2. furious
  - 3. thrilled
  - 4. energetic

Question ID : 26433071882  
Status : Answered  
Chosen Option : 2

Q.12 Select the most appropriate meaning of the given idiom.

Light at the end of tunnel

- Ans
- 1. Something that signals the end of a difficult situation
  - 2. Preparing for examinations
  - 3. An opening at the end of a matter
  - 4. New light coming out from darkness

Question ID : 26433073477  
Status : Answered  
Chosen Option : 1

Q.13 Select the most appropriate synonym of the given word.

Awkward

- Ans
- 1. Unskillful
  - 2. Asleep
  - 3. Clever
  - 4. Dormant

Question ID : 26433072186  
Status : Answered  
Chosen Option : 1

Q.14 Select the most appropriate ANTONYM of the given word.

Benign

- Ans  1. Friendly  
 2. Wicked  
 3. Favourable  
 4. Cheerful

Question ID : 26433073576  
Status : Answered  
Chosen Option : 2

Q.15 Select the most appropriate ANTONYM of the given word.

Retain

- Ans  1. Attain  
 2. Forget  
 3. Maintain  
 4. Restore

Question ID : 26433074052  
Status : Answered  
Chosen Option : 2

**Comprehension:**

In the following passage, some words have been deleted. Read the passage carefully and select the most appropriate option to fill in each blank.

Notebook software is included (1)\_\_\_\_\_ the SMART Board Interactive Whiteboard device. This programme includes a (2)\_\_\_\_\_ of tools for differentiating education. Professors and students can write on the SMART Board screen using a digital pen or (3)\_\_\_\_\_ finger if they have a SMART Board. Notebook files may be saved in various formats, printed, emailed, or posted, providing students with a total (4)\_\_\_\_\_ to course materials. Essentially, having a SMART Board available may (5)\_\_\_\_\_ everything that can be done on a computer.

**SubQuestion No : 16**

Q.16 Select the most appropriate option to fill in blank no. 1.

- Ans  1. with  
 2. upon  
 3. to  
 4. along

Question ID : 26433058721  
Status : Answered  
Chosen Option : 1

**Comprehension:**

In the following passage, some words have been deleted. Read the passage carefully and select the most appropriate option to fill in each blank.

Notebook software is included (1)\_\_\_\_\_ the SMART Board Interactive Whiteboard device. This programme includes a (2)\_\_\_\_\_ of tools for differentiating education. Professors and students can write on the SMART Board screen using a digital pen or (3)\_\_\_\_\_ finger if they have a SMART Board. Notebook files may be saved in various formats, printed, emailed, or posted, providing students with a total (4)\_\_\_\_\_ to course materials. Essentially, having a SMART Board available may (5)\_\_\_\_\_ everything that can be done on a computer.

**SubQuestion No : 17**

**Q.17** Select the most appropriate option to fill in blank no. 2.

- Ans
- 1. limit
  - 2. design
  - 3. number
  - 4. total

Question ID : 26433058722

Status : Answered

Chosen Option : 3

**Comprehension:**

In the following passage, some words have been deleted. Read the passage carefully and select the most appropriate option to fill in each blank.

Notebook software is included (1)\_\_\_\_\_ the SMART Board Interactive Whiteboard device. This programme includes a (2)\_\_\_\_\_ of tools for differentiating education. Professors and students can write on the SMART Board screen using a digital pen or (3)\_\_\_\_\_ finger if they have a SMART Board. Notebook files may be saved in various formats, printed, emailed, or posted, providing students with a total (4)\_\_\_\_\_ to course materials. Essentially, having a SMART Board available may (5)\_\_\_\_\_ everything that can be done on a computer.

**SubQuestion No : 18**

**Q.18** Select the most appropriate option to fill in blank no. 3.

- Ans
- 1. there
  - 2. their
  - 3. these
  - 4. those

Question ID : 26433058723

Status : Answered

Chosen Option : 2



**Comprehension:**

In the following passage, some words have been deleted. Read the passage carefully and select the most appropriate option to fill in each blank.

Notebook software is included (1)\_\_\_\_\_ the SMART Board Interactive Whiteboard device. This programme includes a (2)\_\_\_\_\_ of tools for differentiating education. Professors and students can write on the SMART Board screen using a digital pen or (3)\_\_\_\_\_ finger if they have a SMART Board. Notebook files may be saved in various formats, printed, emailed, or posted, providing students with a total (4)\_\_\_\_\_ to course materials. Essentially, having a SMART Board available may (5)\_\_\_\_\_ everything that can be done on a computer.

**SubQuestion No : 19**

**Q.19** Select the most appropriate option to fill in blank no. 4.

- Ans
- 1. exception
  - 2. download
  - 3. validity
  - 4. access

Question ID : 26433058724

Status : Answered

Chosen Option : 4

**Comprehension:**

In the following passage, some words have been deleted. Read the passage carefully and select the most appropriate option to fill in each blank.

Notebook software is included (1)\_\_\_\_\_ the SMART Board Interactive Whiteboard device. This programme includes a (2)\_\_\_\_\_ of tools for differentiating education. Professors and students can write on the SMART Board screen using a digital pen or (3)\_\_\_\_\_ finger if they have a SMART Board. Notebook files may be saved in various formats, printed, emailed, or posted, providing students with a total (4)\_\_\_\_\_ to course materials. Essentially, having a SMART Board available may (5)\_\_\_\_\_ everything that can be done on a computer.

**SubQuestion No : 20**

**Q.20** Select the most appropriate option to fill in blank no. 5.

- Ans
- 1. enlighten
  - 2. enhance
  - 3. create
  - 4. form

Question ID : 26433058725

Status : Answered

Chosen Option : 3

**Section : Part-D-Hindi**

**Q.1** वर्तनी की दृष्टि से शुद्ध वाक्य का चयन कीजिए-

- Ans
- 1. काम पूरा कर डालो, नहीं तो जूराना होगा।
  - 2. इस समय सरदी है, इस्लिए कोट पहन लो।
  - 3. दोश तुम्हारा है, और इसका मुझे विश्वास है।
  - 4. वक्त निकल जाता है, पर बात याद रह जाती है।

Question ID : 26433062894

Status : Not Answered

Chosen Option : --

Q.2 तुम्हारे चले जाने से मुझे बहुत दुख हुआ।

रेखांकित शब्द के उचित पर्यायवाची शब्द का चयन कीजिए।

- Ans
- 1. व्यथा
  - 2. तापस
  - 3. ईप्सा
  - 4. बेशर

Question ID : 26433079625

Status : Not Answered

Chosen Option : --

Q.3 वह उसका चश्मा भूल गया।

उपरोक्त वाक्य में रेखांकित शब्द के स्थान पर उचित शब्द क्या होगा?

- Ans
- 1. किसका
  - 2. क्या
  - 3. कुछ
  - 4. अपना

Question ID : 26433062202

Status : Not Answered

Chosen Option : --

Q.4 दिए गए वाक्य में प्रयुक्त गलत विभक्ति चिह्न के स्थान पर सही विभक्ति चिह्न होगा—

छुट्टियों में सभी बच्चों का अपने मम्मी-पापा के साथ घूमने जाने का कार्यक्रम बना लिया था।

- Ans
- 1. ने
  - 2. पर
  - 3. से
  - 4. द्वारा

Question ID : 26433062865

Status : Not Answered

Chosen Option : --

Q.5 निम्नलिखित वाक्य के किस शब्द में वर्तनी सम्बन्धी अशुद्धि है?

तुफान से डरकर नौका पार नहीं होती।

- Ans
- 1. पार
  - 2. तुफान
  - 3. डरकर
  - 4. नौका

Question ID : 26433066826

Status : Not Answered

Chosen Option : --

Q.6 'घर में गंगा बहाना' मुहावरे का सही अर्थ है -

- Ans
- 1. निश्चल व्यक्ति होना
  - 2. घर में सभी सुविधाएँ होना
  - 3. धार्मिक प्रवृत्ति का होना
  - 4. रोज गंगा स्नान करना

Question ID : 26433065926

Status : Not Answered

Chosen Option : --

Q.7 उन्होंने बोल उठे।

उपरोक्त वाक्य में त्रुटि पहचानकर वाक्य शुद्ध कीजिए।

- Ans
- 1. उन्होंने बोल उठें।
  - 2. वे ने बोल उठे।
  - 3. उसने बोल उठे।
  - 4. वे बोल उठे।

Question ID : 26433063043

Status : Not Answered

Chosen Option : --

Q.8 'रमेश को जब उत्तर नहीं मिला तो वह दूसरी तरफ चला गया।' वाक्य में प्रयुक्त 'उत्तर' शब्द निम्न में से किस अर्थ को व्यक्त करता है?

- Ans
- 1. अतीत
  - 2. पिछला
  - 3. उत्तर दिशा
  - 4. जवाब

Question ID : 26433069731

Status : Not Answered

Chosen Option : --

Q.9 'जो कम बोलता है' वाक्यांश के लिए एक शब्द क्या होगा?

- Ans
- 1. मितभाषी
  - 2. अपभाषी
  - 3. मृदुभाषी
  - 4. कटुभाषी

Question ID : 26433070100

Status : Not Answered

Chosen Option : --

Q.10 अपना गुस्सा काबू में करो, शांत रहो।  
निम्न में से किस विकल्प में उपरोक्त वाक्य में प्रयुक्त 'शांत' शब्द का विलोम नहीं दिया गया है?

- Ans
- 1. स्थिर
  - 2. उत्तेजित
  - 3. उद्विग्न
  - 4. अशांत

Question ID : 26433080872  
Status : Not Answered  
Chosen Option : --

Q.11 'जानने की इच्छा करने वाला' वाक्यांश के लिए उचित शब्द क्या होगा?

- Ans
- 1. दूरदर्शी
  - 2. युयुत्सु
  - 3. जितेन्द्रिय
  - 4. जिज्ञासु

Question ID : 26433067063  
Status : Not Answered  
Chosen Option : --

Q.12 रेखांकित शब्द-समूह के लिए सर्वाधिक उपयुक्त विकल्प चुनें।  
आज दोपहर के बाद मैं व्यस्त हूँ।

- Ans
- 1. पूर्वाह्न
  - 2. अपराह्न
  - 3. सुबह
  - 4. भोर

Question ID : 26433062286  
Status : Not Answered  
Chosen Option : --

Q.13 'ग्रामवास \_\_\_\_\_।' उपर्युक्त वाक्य में रिक्त स्थान के लिए उपयुक्त विकल्प निम्न में से क्या होगा?

- Ans
- 1. से अभिप्राय होता है ग्राम के लिए वास करना
  - 2. से अभिप्राय होता है ग्राम द्वारा वास करना
  - 3. से अभिप्राय होता है ग्राम से वास करना
  - 4. से अभिप्राय होता है ग्राम में वास करना

Question ID : 26433067040  
Status : Not Answered  
Chosen Option : --

Q.14 रोहन ने मंहगा सफारी सूट पहन रखा था और उसके साथ फटे हुए चमरौधे जूते पहन रखे थे, ये तो वही हुआ \_\_\_\_\_ ।  
रिक्त स्थान की पूर्ति उचित मुहावरे द्वारा कीजिए।

- Ans
- 1. आधा तीतर आधा बटेर
  - 2. दिखने में अलग असल में अलग
  - 3. रंगा सियार
  - 4. आधा गंगा आधा जमुना

Question ID : 26433062602

Status : Not Answered

Chosen Option : --

Q.15 'राधा गौर वर्ण की सुंदर महिला थी।' वाक्य में प्रयुक्त 'वर्ण' शब्द निम्न में से किस अर्थ को व्यक्त करता है?

- Ans
- 1. लक्षण
  - 2. जाति
  - 3. रंग
  - 4. रूप

Question ID : 26433069727

Status : Not Answered

Chosen Option : --

#### Comprehension:

निम्नलिखित गद्यांश में कुछ शब्दों को हटा दिया गया है। दिए गए विकल्पों की सहायता से रिक्त स्थानों की पूर्ति कीजिए। प्रत्येक संख्या के लिए सबसे उपयुक्त विकल्प का चयन करें।  
परमात्मा ने सभी नर-नारियों की आँखों में 1. \_\_\_\_\_ दिए हैं। इन्हीं आँसुओं के बल पर कोई साधारण मनुष्य 2. \_\_\_\_\_ बन जाता है और कोई राक्षस पिघलकर फिर से 3. \_\_\_\_\_ बन जाता है। जिस मनुष्य में जितनी अधिक 4. \_\_\_\_\_ होती है वह उतना ही कोमल, उदार और 5. \_\_\_\_\_ इंसान बन जाता है।

SubQuestion No : 16

Q.16 रिक्त स्थान 1 की पूर्ति के लिए सबसे उपयुक्त विकल्प का चयन करें।

- Ans
- 1. मुस्कान
  - 2. स्मिति
  - 3. आँसू
  - 4. हँसी

Question ID : 264330110861

Status : Not Answered

Chosen Option : --

**Comprehension:**

निम्नलिखित गद्यांश में कुछ शब्दों को हटा दिया गया है। दिए गए विकल्पों की सहायता से रिक्त स्थानों की पूर्ति कीजिए। प्रत्येक संख्या के लिए सबसे उपयुक्त विकल्प का चयन करें।  
परमात्मा ने सभी नर-नारियों की आँखों में 1. \_\_\_\_\_ दिए हैं। इन्हीं आंसुओं के बल पर कोई साधारण मनुष्य 2. \_\_\_\_\_ बन जाता है और कोई राक्षस पिघलकर फिर से 3. \_\_\_\_\_ बन जाता है। जिस मनुष्य में जितनी अधिक 4. \_\_\_\_\_ होती है वह उतना ही कोमल, उदार और 5. \_\_\_\_\_ इंसान बन जाता है।

**SubQuestion No : 17**

Q.17 रिक्त स्थान 2 की पूर्ति के लिए सबसे उपयुक्त विकल्प का चयन करें।

- Ans  1. देवता  
 2. निशाचर  
 3. असुर  
 4. दानव

Question ID : 264330110862

Status : Not Answered

Chosen Option : --

**Comprehension:**

निम्नलिखित गद्यांश में कुछ शब्दों को हटा दिया गया है। दिए गए विकल्पों की सहायता से रिक्त स्थानों की पूर्ति कीजिए। प्रत्येक संख्या के लिए सबसे उपयुक्त विकल्प का चयन करें।  
परमात्मा ने सभी नर-नारियों की आँखों में 1. \_\_\_\_\_ दिए हैं। इन्हीं आंसुओं के बल पर कोई साधारण मनुष्य 2. \_\_\_\_\_ बन जाता है और कोई राक्षस पिघलकर फिर से 3. \_\_\_\_\_ बन जाता है। जिस मनुष्य में जितनी अधिक 4. \_\_\_\_\_ होती है वह उतना ही कोमल, उदार और 5. \_\_\_\_\_ इंसान बन जाता है।

**SubQuestion No : 18**

Q.18 रिक्त स्थान 3 की पूर्ति के लिए सबसे उपयुक्त विकल्प का चयन करें।

- Ans  1. बुरा मानव  
 2. सच्चा मानव  
 3. अहंकारी मानव  
 4. क्रोधी मानव

Question ID : 264330110863

Status : Not Answered

Chosen Option : --

**Comprehension:**

निम्नलिखित गद्यांश में कुछ शब्दों को हटा दिया गया है। दिए गए विकल्पों की सहायता से रिक्त स्थानों की पूर्ति कीजिए। प्रत्येक संख्या के लिए सबसे उपयुक्त विकल्प का चयन करें।  
परमात्मा ने सभी नर-नारियों की आँखों में 1. \_\_\_\_\_ दिए हैं। इन्हीं आंसुओं के बल पर कोई साधारण मनुष्य 2. \_\_\_\_\_ बन जाता है और कोई राक्षस पिघलकर फिर से 3. \_\_\_\_\_ बन जाता है। जिस मनुष्य में जितनी अधिक 4. \_\_\_\_\_ होती है वह उतना ही कोमल, उदार और 5. \_\_\_\_\_ इंसान बन जाता है।

**SubQuestion No : 19**

Q.19 रिक्त स्थान 4 की पूर्ति के लिए सबसे उपयुक्त विकल्प का चयन करें।

- Ans  1. दया  
 2. निर्दयता  
 3. बेदर्दी  
 4. क्रूरता

Question ID : 264330110864

Status : Not Answered

Chosen Option : --

**Comprehension:**

निम्नलिखित गद्यांश में कुछ शब्दों को हटा दिया गया है। दिए गए विकल्पों की सहायता से रिक्त स्थानों की पूर्ति कीजिए। प्रत्येक संख्या के लिए सबसे उपयुक्त विकल्प का चयन करें।  
परमात्मा ने सभी नर-नारियों की आँखों में 1. \_\_\_\_\_ दिए हैं। इन्हीं आँसुओं के बल पर कोई साधारण मनुष्य 2. \_\_\_\_\_ बन जाता है और कोई राक्षस पिघलकर फिर से 3. \_\_\_\_\_ बन जाता है। जिस मनुष्य में जितनी अधिक 4. \_\_\_\_\_ होती है वह उतना ही कोमल, उदार और 5. \_\_\_\_\_ इंसान बन जाता है।

**SubQuestion No : 20**

Q.20 रिक्त स्थान 5 की पूर्ति के लिए सबसे उपयुक्त विकल्प का चयन करें।

- Ans
- 1. पूजनीय
  - 2. निंदनीय
  - 3. बदनाम
  - 4. घृण्य

Question ID : 264330110865

Status : Not Answered

Chosen Option : --

WWW.GOVtjobsalert.in