

Constable GD in CAPFs SSF Rifleman GD in Assam Rifles and Sepoy in NCB Examination 2022

Roll Number	www.govtjobsalert.in
Candidate Name	www.govtjobsalert.in
Venue Name	iON Digital Zone iDZ Kishanpur
Exam Date	11/01/2023
Exam Time	5:15 PM - 6:15 PM
Subject	Constable GD Examination 2022

Section : Part-A-General Intelligence and Reasoning

Q.1 उस विकल्प का चयन कीजिए जो पांचवें अक्षर-समूह से उसी प्रकार संबंधित है जिस प्रकार दूसरा अक्षर-समूह पहले अक्षर-समूह से संबंधित है और चौथा अक्षर-समूह तीसरे अक्षर-समूह से संबंधित है।
DOWN: VKCL:: ARMY: YHMA :: HOME:?

- Ans
- 1. TMOW
 - 2. GNLD
 - 3. SLNV
 - 4. RKMU

Question ID : 26433057495

Status : Answered

Chosen Option : 2

Q.2 एक निश्चित कूट भाषा में, BRAVE को 48 के रूप में कूटबद्ध किया जाता है और SPEAR को 59 के रूप में कूटबद्ध किया जाता है। उसी भाषा में VICTOR को किस प्रकार कूटबद्ध किया जाएगा?

- Ans
- 1. 85
 - 2. 83
 - 3. 87
 - 4. 81

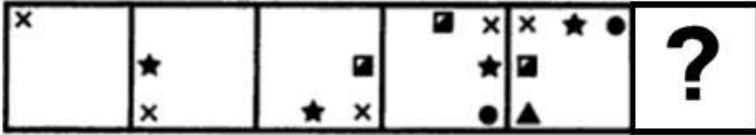
Question ID : 26433067996

Status : Answered

Chosen Option : 3

Q.3 दिए गए विकल्पों में से उस आकृति का चयन करें जो निम्नलिखित श्रृंखला में

प्रश्नवाचक चिह्न (?) का स्थान ले सकती है।



Ans

- 1.
- 2.
- 3.
- 4.

Question ID : 26433080496

Status : Answered

Chosen Option : 1

Q.4 छः मित्र (P, Q, R, S, T और U) एक वृत्ताकार मेज के परितः मेज के केंद्र की ओर मुख करके बैठे हैं। P, U के दाईं ओर दूसरे स्थान पर बैठा है। R, Q के दाईं ओर तीसरे स्थान पर बैठा है। S और R, दोनों ही P के ठीक बगल में हैं। Q और P के बीच में कौन बैठा है?

1. S
2. T
3. R
4. U

Question ID : 26433092774

Status : Answered

Chosen Option : 1

Q.5 एक निश्चित कूट भाषा में 'TRAVEL' को '156' के रूप में लिखा जाता है, 'PERSON' को '174' के रूप में लिखा जाता है, तो उसी भाषा में 'ALMOND' को किस प्रकार से लिखा जाएगा?

Ans 1. 120

2. 59

3. 118

4. 64

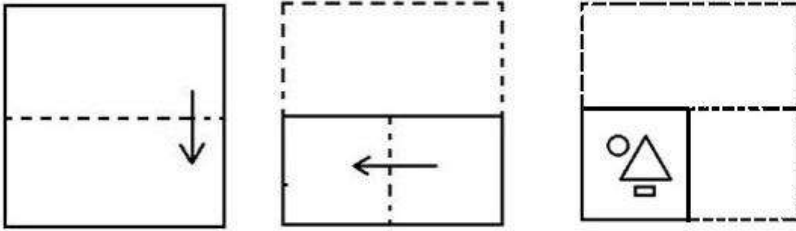
Question ID : 26433083113

Status : Answered

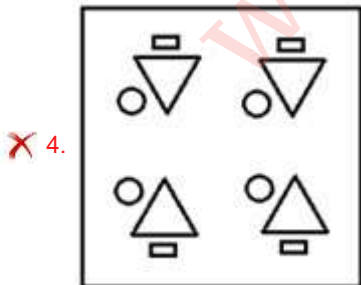
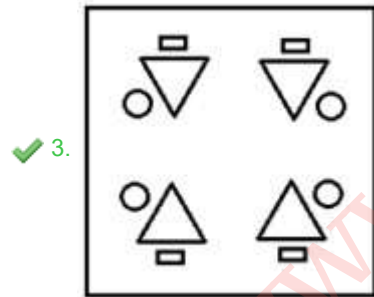
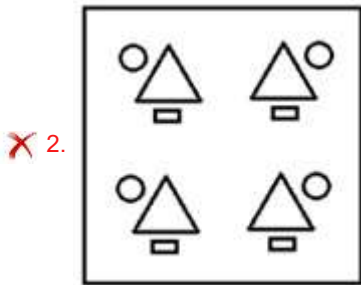
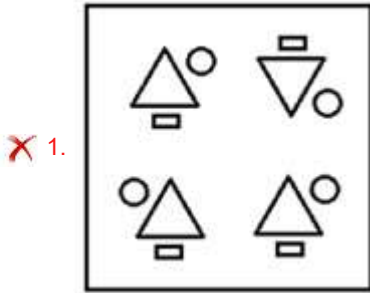
Chosen Option : 3

www.govtjobsalert.in

Q.6 एक कागज को मोड़ने का क्रम और मुड़े हुए कागज को काटने का तरीका नीचे दर्शाया गया है। उस आकृति का चयन करें जो कागज को खोले जाने पर उसके खुले रूप से सबसे अधिक मिलती-जुलती है।



Ans



Question ID : 26433087098

Status : Answered

Chosen Option : 3

Q.7 किस विकल्प में निम्नलिखित शब्दों का वह क्रम दिया गया है, जिस क्रम में वे अंग्रेजी शब्दकोश में आते हैं?

- 1 Bread
- 2 Brain
- 3 Break
- 4 Broom
- 5 Bridge

- Ans
- 1. 3,2,1,4,5
 - 2. 2,3,1,4,5
 - 3. 2,1,3,5,4
 - 4. 3,1,2,4,5

Question ID : 26433069319

Status : Answered

Chosen Option : 3

Q.8 छः उम्मीदवार - आनंद, बालू, चरण, दिनेश, इमरान और फरहाद, एक सामूहिक चर्चा के लिए किसी वृत्ताकार मेज पर मेज के केंद्र की ओर मुख करके एक दूसरे से समान दूरी पर बैठे हैं। दिनेश, इमरान और बालू के ठीक बगल में बैठा है, जबकि चरण, आनंद और फरहाद के ठीक बगल में बैठा है। यदि फरहाद, बालू के दाईं ओर ठीक बगल में बैठा है, तो दिनेश के दाईं ओर ठीक बगल में कौन बैठा है?

- Ans
- 1. इमरान
 - 2. फरहाद
 - 3. आनंद
 - 4. बालू

Question ID : 26433079053

Status : Answered

Chosen Option : 4

Q.9 दिए गए समीकरण में % चिह्नों को क्रमिक रूप से बदलने और समीकरण को संतुलित करने के लिए निम्नलिखित विकल्पों में से गणितीय चिह्नों के सही संयोजन का चयन कीजिए।
48 % 12 % 5 % 5 % 4

- Ans
- 1. ÷, ×, =, ×
 - 2. ×, ÷, =, -
 - 3. ×, =, -, ÷
 - 4. ÷, ×, =, -

Question ID : 26433087047

Status : Answered

Chosen Option : 1

Q.10 दर्पण को नीचे दिए गए चित्र के अनुसार MN पर रखे जाने पर दी गई आकृति

का दर्पण में निर्मित सही प्रतिबिंब चयनित कीजिए।

x C w V 5 2 3 A
M ————— N

- Ans
- ✗ 1. X C M V 2 5 3 A
 - ✗ 2. X C M Λ 5 5 3 A
 - ✓ 3. X C M Λ 2 5 3 A
 - ✗ 4. X C M Λ 2 2 3 A

Question ID : 26433080805

Status : Answered

Chosen Option : 3

Q.11 निम्नलिखित में से कौन-सी संख्या दी गई श्रृंखला में प्रश्न-चिह्न (?) के स्थान पर आएगी?
23, 24, 50, 153, ?

- Ans
- ✗ 1. 512
 - ✗ 2. 204
 - ✓ 3. 616
 - ✗ 4. 516

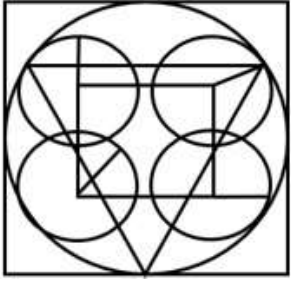
Question ID : 26433082004

Status : Not Answered

Chosen Option : --


Q.12 उस विकल्प-आकृति का चयन कीजिए, जो प्रस्तुत आकृति में अंतर्निहित है।

(घुमाना अनुमन्य नहीं है)



Ans

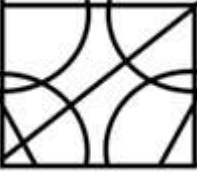
✓ 1.



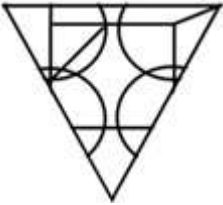
✗ 2.



✗ 3.



✗ 4.



Question ID : 26433076580

Status : Answered

Chosen Option : 2

Q.13 उस समुच्चय का चयन करें, जिसमें संख्याएँ उसी प्रकार संबंधित हैं, जिस प्रकार निम्नलिखित समुच्चयों की संख्याएँ हैं।

(नोट: संख्याओं को उसके घटक अंकों में विभाजित किए बिना, पूर्ण संख्याओं पर ही गणितीय संक्रियाएँ की जानी चाहिए। जैसे 13 - मान लीजिए 13 पर गणितीय संक्रियाएँ जैसे कि 13 में जोड़ना/घटाना/गुणा करना आदि किया जा सकता है। 13 को 1 और 3 में तोड़कर और फिर 1 और 3 पर गणितीय संक्रियाएँ करने की अनुमति नहीं है।)

(11, 20, 341)

(25, 33, 638)

Ans ✗ 1. (20, 25, 625)

✓ 2. (12, 32, 484)

✗ 3. (12, 29, 341)

✗ 4. (14, 17, 363)

Question ID : 26433076488

Status : Not Answered

Chosen Option : --

Q.14 कौन-सा अक्षर-समूह दी गई श्रृंखला में प्रश्नचिह्न (?) के स्थान पर आकर श्रृंखला को पूर्ण करेगा?
AKED, ENGE, ?, MTKG, QWMH

- Ans 1. IQIF
 2. IQJE
 3. IQJF
 4. IRIF

Question ID : 26433068576
Status : Answered
Chosen Option : 1

Q.15 निम्नलिखित में से कौन सी संख्या दी गई श्रृंखला में प्रश्नचिह्न (?) के स्थान पर आएगी?
50, 60, 51, 62, 54, 66, 59, 72, ?

- Ans 1. 64
 2. 65
 3. 71
 4. 66

Question ID : 26433082868
Status : Answered
Chosen Option : 4

Q.16 निम्नलिखित में से कौन-सा अक्षर-समूह दी गई श्रृंखला में प्रश्न-चिह्न (?) के स्थान पर आएगा?
XEJT, UHMQ, ?, ONSK, LQVH

- Ans 1. SKQN
 2. RKPN
 3. RLPN
 4. RKQM

Question ID : 26433076447
Status : Answered
Chosen Option : 2

Q.17 उस विकल्प का चयन कीजिए, जो पाँचवें अक्षर-समूह से उसी प्रकार संबंधित है, जिस प्रकार दूसरा अक्षर-समूह पहले अक्षर-समूह से संबंधित है और चौथा अक्षर-समूह तीसरे अक्षर-समूह से संबंधित है।
EXPLAIN : AEILNPX :: MEDICAL : AEICDLM :: PRIVACY : ?

- Ans 1. AICRPVY
 2. ACIPVRY
 3. AICPRVY
 4. AICPRYV

Question ID : 26433082629
Status : Not Answered
Chosen Option : --

Q.18 इस प्रश्न में तीन कथन दिए गए हैं, जिसके बाद दो निष्कर्ष I और II दिए गए हैं। कथनों को सत्य मानते हुए, भले ही वे सर्वज्ञात तथ्यों से भिन्न प्रतीत होते हों, निर्णय कीजिए कि कौन-सा/से निष्कर्ष कथनों का तार्किक रूप से अनुसरण करता है/अनुसरण करते हैं।

कथन:

सभी नोटबुक गुलाबी हैं।

सभी गुलाबी शर्ट हैं।

कुछ शर्ट ट्राउजर हैं।

निष्कर्ष:

I. सभी ट्राउजर नोटबुक हैं।

II. कुछ ट्राउजर गुलाबी हैं।

Ans 1. न तो निष्कर्ष I और न ही II अनुसरण करता है।

2. केवल निष्कर्ष II अनुसरण करता है।

3. केवल निष्कर्ष I अनुसरण करता है।

4. निष्कर्ष I और II दोनों अनुसरण करते हैं।

Question ID : 26433070394

Status : Answered

Chosen Option : 2

Q.19 A # B का अर्थ है 'A, B का भाई है'
A @ B का अर्थ है 'A, B की पुत्री है'
A & B का अर्थ है 'A, B का पति है'
A % B का अर्थ है 'A, B की पत्नी है'
A * B का अर्थ है 'A, B का पुत्र है'
यदि M*G@K@B%*A*W है, तो A, G से किस प्रकार संबंधित है?

Ans 1. नाना

2. माता

3. पिता

4. भाई

Question ID : 26433082533

Status : Answered

Chosen Option : 1

Q.20 नीचे दिए गए समीकरण को गणितीय रूप से सही बनाने के लिए किन दो चिन्हों को परस्पर बदलना चाहिए?

$$112 - 14 \div 40 + 8 \times 12 = 64$$

Ans 1. + और ×

2. - और +

3. ÷ और -

4. + और ÷

Question ID : 264330117543

Status : Answered

Chosen Option : 3

Q.1 भारत में, हरित क्रांति का पहला चरण _____ के दशक के मध्य से _____ के दशक के मध्य तक था।

- Ans
- 1. 1950, 1960
 - 2. 1970, 1980
 - 3. 1940, 1950
 - 4. 1960, 1970

Question ID : 264330115412

Status : Answered

Chosen Option : 4

Q.2 _____ (NPS) एक स्वैच्छिक, परिभाषित योगदान सेवानिवृत्ति बचत योजना है जो ग्राहकों को सुव्यवस्थित बचत से अपने भविष्य के बारे में इष्टतम निर्णय लेने में सक्षम बनाती है।

- Ans
- 1. राष्ट्रीय परमिट प्रणाली
 - 2. राष्ट्रीय भुगतान योजना
 - 3. राष्ट्रीय भुगतानकर्ता प्रणाली
 - 4. राष्ट्रीय पेंशन प्रणाली

Question ID : 264330116174

Status : Answered

Chosen Option : 4

Q.3 भारत में, दशकीय जनगणना कराने की जिम्मेदारी किस मंत्रालय की होती है?

- Ans
- 1. गृह मंत्रालय
 - 2. कारपोरेट कार्य मंत्रालय
 - 3. वित्त मंत्रालय
 - 4. सांख्यिकी मंत्रालय

Question ID : 264330116037

Status : Answered

Chosen Option : 4

Q.4 1 मई 2022 से नीति आयोग के नये उपाध्यक्ष के रूप में पदभार किसने संभाला?

- Ans
- 1. गीता गोपीनाथ
 - 2. डॉ. हिरेन जोशी
 - 3. रंजन गोगोई
 - 4. सुमन बेरी

Question ID : 264330115033

Status : Answered

Chosen Option : 1

Q.5 2019 में, भारत _____ मिलियन टन इस्पात का विनिर्माण कर संसार में कच्चा इस्पात उत्पादकों में दूसरे स्थान पर था।

Ans 1. 198

2. 111

3. 71

4. 234

Question ID : 264330115577

Status : Answered

Chosen Option : 4

Q.6 एशियाई खेल 2018 का आयोजन निम्नलिखित में से किस देश में किया गया था?

Ans 1. इंडोनेशिया

2. थाईलैंड

3. मालदीव

4. सिंगापुर

Question ID : 264330116256

Status : Answered

Chosen Option : 1

Q.7 कोशिका - आकार का निम्नलिखित में से कौन सा युग्म सही है?

I. लाल रक्त कोशिकाएँ - गोलाकार

II. पेशी कोशिका - तर्कुरूपी

Ans 1. केवल I

2. I तथा II दोनों

3. ना तो I ना तो II

4. केवल II

Question ID : 264330115211

Status : Not Answered

Chosen Option : --

Q.8 हेमिस पर्व मुख्य रूप से _____ में मनाया जाता है।

Ans 1. लद्दाख

2. चंडीगढ़

3. पुदुचेरी

4. लक्षद्वीप

Question ID : 26433094885

Status : Answered

Chosen Option : 1

Q.9 पुरुषों की श्रेणी में फेंके जाने वाले डिस्कस में प्रयुक्त डिस्कस का व्यास और वजन कितना होता है?

- Ans
- 1. वजन में 2.5 kg और व्यास में 22 cm
 - 2. वजन में 2 kg और व्यास में 23 cm
 - 3. वजन में 3 kg और व्यास में 24 cm
 - 4. वजन में 2 kg और व्यास में 22 cm

Question ID : 264330115930

Status : Answered

Chosen Option : 1

Q.10 निम्नलिखित में से कौन से तत्व की परमाणु संख्या 33 है?

- Ans
- 1. नियॉन
 - 2. बेरियम
 - 3. आर्सेनिक
 - 4. आयोडीन

Question ID : 264330115169

Status : Answered

Chosen Option : 3

Q.11 ऊपर से मृदा की तीसरी परत की पहचान कीजिए।

- Ans
- 1. अधःस्तरीय अपक्षयित आधारी चट्टानें
 - 2. उप मृदा
 - 3. अपक्षय रहित आधारी चट्टानें
 - 4. ऊपरी मृदा

Question ID : 26433091492

Status : Answered

Chosen Option : 3

Q.12 निम्नलिखित में से कौन-सा कर्तव्य, भारतीय संविधान में 42वें संशोधन द्वारा नहीं जोड़ा गया था?

- Ans
- 1. भारत की प्रभुता, एकता और अखंडता की रक्षा करना और उसे अक्षुण्ण रखना
 - 2. छः से चौदह वर्ष की आयु के बीच के बच्चे या प्रतिपाल्य को शिक्षा के अवसर प्रदान करना
 - 3. देश की सामसिक संस्कृति की गौरवशाली परंपरा का महत्व समझना और इसका परिरक्षित करना
 - 4. सार्वजनिक संपत्ति की रक्षा करना और हिंसा से दूर रहना

Question ID : 26433090666

Status : Answered

Chosen Option : 4

Q.13 सितंबर 2022 में भारतीय रिजर्व बैंक द्वारा यस बैंक के गैर-कार्यकारी अंशकालिक अध्यक्ष के रूप में किसे मंजूरी दी गई थी?

- Ans
- 1. रघुराम राजन
 - 2. रामा सुब्रमण्यम गांधी
 - 3. शक्तिकांत दास
 - 4. ओसबोर्न स्मिथ

Question ID : 264330114950
Status : Answered
Chosen Option : 2

Q.14 1971 के भारत-पाक युद्ध के समय कौन सी पंचवर्षीय योजना भारत में चल रही थी?

- Ans
- 1. दूसरी
 - 2. छठी
 - 3. आठवीं
 - 4. चौथी

Question ID : 264330116127
Status : Answered
Chosen Option : 4

Q.15 'गोफ' नृत्य किस राज्य का प्रसिद्ध लोक नृत्य है?

- Ans
- 1. बिहार
 - 2. गोवा
 - 3. ओडिशा
 - 4. उत्तर प्रदेश

Question ID : 26433074073
Status : Not Answered
Chosen Option : --

Q.16 _____ के पास भारत में बैंक नोट जारी करने का एकमात्र अधिकार है।

- Ans
- 1. प्रतिभूति बैंक
 - 2. विश्व बैंक
 - 3. भारतीय रिजर्व बैंक
 - 4. भारतीय स्टेट बैंक

Question ID : 264330115330
Status : Answered
Chosen Option : 3

Q.17 अपर्णा सतीसन को किस नृत्य शैली में उत्कृष्ट प्रदर्शन के लिए प्रतिष्ठित भरत शास्त्र नृत्य प्रवीण राष्ट्रीय पुरस्कार से सम्मानित किया गया है?

- Ans 1. कुचिपुड़ी
 2. भरतनाट्यम
 3. कथकली
 4. लावणी

Question ID : 264330115828

Status : Not Answered

Chosen Option : --

Q.18 चूंकि मौर्य साम्राज्य इतना बड़ा था, इसलिए अलग-अलग हिस्सों पर अलग-अलग शासन किया जाता था। _____ के आसपास के इलाकों पर सम्राट का सीधा नियंत्रण था।

- Ans 1. पाटलिपुत्र
 2. तक्षशिला
 3. लुम्बिनी
 4. उज्जैन

Question ID : 26433085222

Status : Answered

Chosen Option : 1

Q.19 निम्नलिखित में से क्या राष्ट्रपति पद की उम्मीदवारी के लिए एक आवश्यक योग्यता नहीं है?

- Ans 1. लोकसभा के सदस्य के रूप में चुनाव के लिए योग्य
 2. पैंतीस वर्ष की न्यूनतम आयु
 3. भारत का नागरिक
 4. उच्च शिक्षा

Question ID : 264330115664

Status : Answered

Chosen Option : 4

Q.20 खलिफ़ा की तात्कालिक शक्तियों की रक्षा के लिए _____ में बंबई में एक ख़िलाफ़त समिति का गठन किया गया था।

- Ans 1. मई 1918
 2. मार्च 1918
 3. मई 1919
 4. मार्च 1919

Question ID : 264330115720

Status : Answered

Chosen Option : 4

Q.1 एक व्यक्ति एक स्थान से दूसरे स्थान तक 180 km /h की चाल से यात्रा करता है और उसी मार्ग से 240 km /h की चाल से प्रारंभिक बिंदु पर लौटता है। यदि कुल 6 घंटे का समय लिया गया है, तो दोनों स्थानों के बीच की दूरी ज्ञात कीजिए।

- Ans
- 1. 872.26 km
 - 2. 650.28 km
 - 3. 617.14 km
 - 4. 720.84 km

Question ID : 26433080047

Status : Not Answered

Chosen Option : --

Q.2 एक घनाभ की लंबाई, चौड़ाई और ऊंचाई क्रमशः 24 cm, 18 cm और 12 cm है। छोटे घन बनाने के लिए इसे पिघलाया जाता है। यदि घन की भुजा की लंबाई 6 cm है, तो निर्मित घनों की संख्या क्या होगी?

- Ans
- 1. 22
 - 2. 26
 - 3. 24
 - 4. 18

Question ID : 26433075713

Status : Not Answered

Chosen Option : --

Q.3 एक दुकानदार गलत वजन का उपयोग करते हुए वस्तु को क्रय मूल्य पर बेचने का दावा करता है और 25% का लाभ प्राप्त करता है। 1000 ग्राम के स्थान पर वह कितने वजन का उपयोग करता है?

- Ans
- 1. 800 g
 - 2. 850 g
 - 3. 750 g
 - 4. 975 g

Question ID : 26433080020

Status : Not Answered

Chosen Option : --

Q.4 लंबाई 10 m, चौड़ाई 6 m और ऊँचाई 8 m वाले किसी घनाभिय कमरे में रखी जा सकने वाली छड़ की अधिकतम लंबाई (m में) ज्ञात कीजिए।

- Ans
- 1. $10\sqrt{2}$
 - 2. $9\sqrt{2}$
 - 3. $15\sqrt{2}$
 - 4. $12\sqrt{2}$

Question ID : 26433074475

Status : Answered

Chosen Option : 1

Q.5 एक पिज्जा के लिए चीज़ और सॉस का अनुपात 1 कप और $\frac{1}{2}$ कप है। यदि रमा ने एक निश्चित संख्या में पिज्जा बनाने के लिए 15 कप सॉस का इस्तेमाल किया, तो उसने उस पिज्जा पर कितने कप चीज़ का इस्तेमाल किया?

- Ans
- 1. 10
 - 2. 20
 - 3. 40
 - 4. 30

Question ID : 26433075812

Status : Answered

Chosen Option : 4

Q.6 A एक कार्य का 80%, 20 दिनों में पूरा करता है। फिर B, A के साथ शामिल हो जाता है और वे शेष कार्य को 3 दिनों में पूरा करते हैं। B को अकेले पूरे कार्य को समाप्त करने में कितना समय लगेगा?

- Ans
- 1. $35\frac{1}{2}$ दिन
 - 2. $37\frac{1}{2}$ दिन
 - 3. 39 दिन
 - 4. 40 दिन

Question ID : 26433075163

Status : Not Answered

Chosen Option : --

Q.7 एक वस्तु पर, एक दुकानदार अंकित मूल्य पर 7.5% की छूट और ₹10 प्रति वस्तु का कैशबैक देता है। वह अभी भी ₹5 प्रति वस्तु कमाता है। यदि ₹x प्रत्येक वस्तु का अंकित मूल्य है, तो प्रत्येक वस्तु का क्रय मूल्य (₹ में) क्या है?

- Ans
- 1. $0.915x - 5$
 - 2. $0.925x - 5$
 - 3. $0.915x - 15$
 - 4. $0.925x - 15$

Question ID : 26433085451

Status : Answered

Chosen Option : 2

Q.8 $\frac{16 \times 9 \div 4 \text{ of } 2}{3 \times (9-6) - 2 \times 3 \div 4 \text{ of } \frac{1}{2}}$ का मान _____ है।

- Ans 1.3
 2.36
 3.9
 4.18

Question ID : 26433075752
Status : Answered
Chosen Option : 1

Q.9 संख्या 73, 115 और 185 को एक संख्या से विभाजित किया जाता है जिससे समान शेष प्राप्त होता है।
ऐसी सबसे बड़ी संभव संख्या ज्ञात करें।

- Ans 1.11
 2.5
 3.14
 4.7

Question ID : 264330116667
Status : Answered
Chosen Option : 3

Q.10 एक साइकिल चालक 2 घंटे और 30 मिनट में 20 मील और 1 घंटे 15 मिनट में 10 मील की यात्रा करता है। मील प्रति घंटे में औसत चाल की गणना करें।

- Ans 1.6
 2.4
 3.8
 4.10

Question ID : 26433081550
Status : Not Answered
Chosen Option : --

Q.11 एक साइकिल सवार और एक जॉगर एक निश्चित दूरी को एक निश्चित चाल से तय करते हैं। यदि जॉगर, साइकिल सवार द्वारा तय की गयी दूरी की एक-तिहाई दूरी को साइकिल सवार द्वारा लिए गए समय के दुगुने समय में तय करता है, तो जॉगर और साइकिल सवार की चाल का अनुपात क्या है?

- Ans 1.1 : 9
 2.6 : 1
 3.1 : 6
 4.9 : 1

Question ID : 26433075441
Status : Answered
Chosen Option : 2

Q.12 ₹5,000 पर 1 वर्ष के लिए 4% वार्षिक ब्याज की दर से, वार्षिक और अर्ध-वार्षिक रूप से चक्रवृद्धि किए जाने पर, चक्रवृद्धि ब्याज में अंतर कितना होगा?

- Ans 1. ₹2.00
 2. ₹3.20
 3. ₹19.04
 4. ₹2.04

Question ID : 26433076330

Status : Answered

Chosen Option : 1

Q.13 अंकिता ने मूल मूल्य पर 10 प्रतिशत छूट पर कुछ खिलौने खरीदे। प्रत्येक खिलौने का मूल मूल्य 50 रुपए था। यदि उसने 450 रुपए की कुल बचत की, तो उसने कितने खिलौने खरीदे?

- Ans 1. 75
 2. 90
 3. 50
 4. 45

Question ID : 264330116743

Status : Answered

Chosen Option : 2

Q.14 एक पुरुष का व्यय उसकी आय का 70% है। यदि उसकी आय में 20% और 50% की दो क्रमिक वृद्धि होती हैं, तो उसका नया व्यय उसके पिछले व्यय से कितना प्रतिशत अधिक/कम है, ताकि उसकी नयी बचत पिछली बचत की 2.5 गुनी हो जाए?

- Ans 1. 54% अधिक
 2. 50% अधिक
 3. 54% कम
 4. 50% कम

Question ID : 26433081066

Status : Answered

Chosen Option : 2

Q.15 गीता और राधा के पास रुपयों का अनुपात 7 : 15 है तथा राधा और सविता के पास रुपयों का अनुपात 7 : 16 है। यदि गीता के पास ₹980 हैं, तो सविता के पास कितने रुपये हैं?

- Ans 1. ₹9,800
 2. ₹2,100
 3. ₹4,800
 4. ₹2,400

Question ID : 26433076184

Status : Answered

Chosen Option : 3

Q.16 एक तेज़ लोकल ट्रेन 60 km की यात्रा के लिए धीमी लोकल ट्रेन से 30 मिनट कम समय लेती है। यदि धीमी लोकल ट्रेन की चाल, तेज़ लोकल ट्रेन की चाल से 20 km/h कम है, तो धीमी लोकल ट्रेन की चाल क्या है?

- Ans
- 1. 30 km/h
 - 2. 50 km/h
 - 3. 40 km/h
 - 4. 60 km/h

Question ID : 26433080289

Status : Answered

Chosen Option : 3

Q.17 साक्षी और कोमल मिलकर एक कार्य को 10 दिनों में पूरा कर सकते हैं। कोमल उसी कार्य को 22 दिनों में पूरा कर सकती है। उन्होंने एक साथ कार्य शुरू किया लेकिन साक्षी ने 3 दिन बाद कार्य छोड़ दिया और कोमल ने शेष कार्य अकेले पूरा किया। दिनों की कुल संख्या ज्ञात करें जिसमें कार्य पूरा हुआ।

- Ans
- 1. 97/5 दिन
 - 2. 88/5 दिन
 - 3. 92/5 दिन
 - 4. 44/5 दिन

Question ID : 264330116858

Status : Answered

Chosen Option : 2

Q.18 किसी धनराशि से 15% घटाने के बाद, शेषफल से पुनः 25% घटाने पर ₹4,335 बचते हैं। वास्तविक मूल्य ज्ञात कीजिए।

- Ans
- 1. ₹6,500
 - 2. ₹7,000
 - 3. ₹6,700
 - 4. ₹6,800

Question ID : 26433080155

Status : Not Answered

Chosen Option : --

Q.19 एक बैंक ब्याज को अर्ध-वार्षिक संयोजित करके 10% प्रतिवर्ष की दर से चक्रवृद्धि ब्याज प्रदान करता है। एक ग्राहक एक वर्ष की पहली जनवरी और पहली जुलाई प्रत्येक को Rs.3,200 जमा करता है। वर्ष के अंत में, उसे ब्याज के रूप में प्राप्त होने वाली राशि क्या है?

- Ans
- 1. Rs.720
 - 2. Rs.528
 - 3. Rs.656
 - 4. Rs.488

Question ID : 26433072972

Status : Not Answered

Chosen Option : --

Q.20 एक महिला किसी वस्तु को Rs.950 में खरीदती है और उसे Rs.1,150 में बेच देती है। उसका प्रतिशत लाभ कितना है (निकटतम पूर्णांक में पूर्णांकित)?

- Ans
- 1. 22%
 - 2. 23%
 - 3. 20%
 - 4. 21%

Question ID : 26433075758

Status : Not Answered

Chosen Option : --

Section : Part-D-English

Q.1 Select the most appropriate option that can substitute the underlined segment in the given sentence. If there is no need to substitute it, select 'No substitution'.

She has barely made it to the airport, when she heard the news of her dad's accident.

- Ans
- 1. have barely made it
 - 2. is barely making it
 - 3. No substitution
 - 4. had barely made it

Question ID : 26433089112

Status : Not Answered

Chosen Option : --

Q.2 Identify and correct the INCORRECTLY spelt word in the given sentence.

The floveres in the garden seemed as if they refused to bloom for spraying pesticides on them.

- Ans
- 1. pestisides
 - 2. flowers
 - 3. refuced
 - 4. blome

Question ID : 26433072762

Status : Not Answered

Chosen Option : --

Q.3 Select the most appropriate meaning of the given idiom.

Go the extra mile

- Ans
- 1. Talk more than required
 - 2. Walk more than required
 - 3. Spend more money than required
 - 4. Do much more than required

Question ID : 26433072676

Status : Not Answered

Chosen Option : --

Q.4 Select the option that expresses the given sentence in future tense form.

We were holding the things with a strong rope.

- Ans
- 1. We were being holding the things with a strong rope.
 - 2. We are holding the things with a strong rope.
 - 3. We will be holding the things with a strong rope.
 - 4. We have been holding the things with a strong rope.

Question ID : 26433089293
Status : Not Answered
Chosen Option : --

Q.5 Select the correct word for the blanks in the given sentence.

A _____ is a nocturnal animal and a _____ is needed for the game of cricket.

- Ans
- 1. goal
 - 2. bales
 - 3. ball
 - 4. bat

Question ID : 26433060534
Status : Not Answered
Chosen Option : --

Q.6 Select the most appropriate option that can substitute the underlined segment in the given sentence. If there is no need to substitute it, select 'No substitution'.
Prince Charles became a youngest heir to the throne at the age of seven.

- Ans
- 1. No substitution
 - 2. the youngest heir to the throne
 - 3. a youngest heir to a throne
 - 4. the youngest heir to an throne

Question ID : 26433092939
Status : Not Answered
Chosen Option : --

Q.7 Select the most appropriate set of words to complete the sentence.

I want to see the Dussehra _____ in Delhi, what is the second-class railway _____ from Agra to Delhi.

- Ans
- 1. fair; fare
 - 2. fair; fair
 - 3. fare; fair
 - 4. fare; fare

Question ID : 26433088871
Status : Not Answered
Chosen Option : --

Q.8 Select the most appropriate option to fill in the blank.

Her face was _____ after seeing the house in such condition.

- Ans 1. blue
 2. bedew
 3. blew
 4. brew

Question ID : 26433090393
Status : Not Answered
Chosen Option : --

Q.9 Select the most appropriate meaning of the given idiom.

Flash in the pan

- Ans 1. A place where people gather to buy and sell inexpensive goods
 2. Someone who helps others when they are in need, with no discussion for compensation, and no thought of a reward
 3. Not willing or wanting to change from your normal way of doing something
 4. Something that looks promising in the beginning but fails to deliver anything in the end

Question ID : 26433073715
Status : Not Answered
Chosen Option : --

Q.10 Select the most appropriate ANTONYM of the given word.

Inspid

- Ans 1. Tasty
 2. Explicit
 3. Immense
 4. Opaque

Question ID : 26433071978
Status : Not Answered
Chosen Option : --

Q.11 Select the most appropriate synonym of the underlined word from the given options.

The benevolent lady donated her estate for the welfare of the city.

- Ans 1. Insane
 2. Charming
 3. Foolish
 4. Gracious

Question ID : 26433086516
Status : Not Answered
Chosen Option : --

Q.12 Select the INCORRECTLY spelt word.

Ans 1. Phinomenon

2. Dampness

3. Slaughter

4. Anthropology

Question ID : 26433073514

Status : Not Answered

Chosen Option : --

Q.13 Select the most appropriate ANTONYM of the given word.

Autonomy

Ans 1. Righteousness

2. Dependency

3. Partiality

4. Temperance

Question ID : 26433086517

Status : Not Answered

Chosen Option : --

Q.14 Select the most appropriate synonym of the given word.

Compact

Ans 1. Holistic

2. Whole

3. Expand

4. Dense

Question ID : 26433084890

Status : Not Answered

Chosen Option : --

Q.15 Select the most appropriate option that can substitute the underlined segment in the given sentence.

Your health could suffer if you spend more time with the automobiles.

Ans 1. in front of electronic devices

2. besides the machines

3. after the digital devices

4. in backlog of machines

Question ID : 26433089800

Status : Not Answered

Chosen Option : --

Comprehension:

In the following passage, some words have been deleted. Read the passage carefully and select the most appropriate option to fill in each blank.

The most common health conditions (1)_____ people today include heart disease, stroke, diabetes, and cancer. When people are experiencing these conditions, they (2)_____ the illness side of the spectrum. Lifestyle factors that put you at risk for developing these conditions include smoking, alcohol substance use disorder, lack of exercise, sleep (3)_____, and a diet rich in processed foods, sugar, saturated fat, and artificial flavours. An (4)_____ weight is another factor that can put one at risk for these conditions, especially carrying extra weight (5)_____ your midsection.

SubQuestion No : 16

Q.16 Select the most appropriate option to fill in blank 1.

- Ans** 1. facing
 2. against
 3. towards
 4. looking

Question ID : 26433089843

Status : Not Answered

Chosen Option : --

Comprehension:

In the following passage, some words have been deleted. Read the passage carefully and select the most appropriate option to fill in each blank.

The most common health conditions (1)_____ people today include heart disease, stroke, diabetes, and cancer. When people are experiencing these conditions, they (2)_____ the illness side of the spectrum. Lifestyle factors that put you at risk for developing these conditions include smoking, alcohol substance use disorder, lack of exercise, sleep (3)_____, and a diet rich in processed foods, sugar, saturated fat, and artificial flavours. An (4)_____ weight is another factor that can put one at risk for these conditions, especially carrying extra weight (5)_____ your midsection.

SubQuestion No : 17

Q.17 Select the most appropriate option to fill in blank 2.

- Ans** 1. count to
 2. pass off
 3. fall into
 4. dive in

Question ID : 26433089844

Status : Not Answered

Chosen Option : --

Comprehension:

In the following passage, some words have been deleted. Read the passage carefully and select the most appropriate option to fill in each blank.

The most common health conditions (1)_____ people today include heart disease, stroke, diabetes, and cancer. When people are experiencing these conditions, they (2)_____ the illness side of the spectrum. Lifestyle factors that put you at risk for developing these conditions include smoking, alcohol substance use disorder, lack of exercise, sleep (3)_____, and a diet rich in processed foods, sugar, saturated fat, and artificial flavours. An (4)_____ weight is another factor that can put one at risk for these conditions, especially carrying extra weight (5)_____ your midsection.

SubQuestion No : 18

Q.18 Select the most appropriate option to fill in blank 3.

- Ans 1. desire
 2. impoverishment
 3. deprivation
 4. poverty

Question ID : 26433089845

Status : Not Answered

Chosen Option : --

Comprehension:

In the following passage, some words have been deleted. Read the passage carefully and select the most appropriate option to fill in each blank.

The most common health conditions (1)_____ people today include heart disease, stroke, diabetes, and cancer. When people are experiencing these conditions, they (2)_____ the illness side of the spectrum. Lifestyle factors that put you at risk for developing these conditions include smoking, alcohol substance use disorder, lack of exercise, sleep (3)_____, and a diet rich in processed foods, sugar, saturated fat, and artificial flavours. An (4)_____ weight is another factor that can put one at risk for these conditions, especially carrying extra weight (5)_____ your midsection.

SubQuestion No : 19

Q.19 Select the most appropriate option to fill in blank 4.

- Ans 1. empirical
 2. unhealthy
 3. unhygienic
 4. contaminated

Question ID : 26433089846

Status : Not Answered

Chosen Option : --

Comprehension:

In the following passage, some words have been deleted. Read the passage carefully and select the most appropriate option to fill in each blank.

The most common health conditions (1)_____ people today include heart disease, stroke, diabetes, and cancer. When people are experiencing these conditions, they (2)_____ the illness side of the spectrum. Lifestyle factors that put you at risk for developing these conditions include smoking, alcohol substance use disorder, lack of exercise, sleep (3)_____, and a diet rich in processed foods, sugar, saturated fat, and artificial flavours. An (4)_____ weight is another factor that can put one at risk for these conditions, especially carrying extra weight (5)_____ your midsection.

SubQuestion No : 20

Q.20 Select the most appropriate option to fill in blank 5.

- Ans 1. directing
 2. around
 3. against
 4. concerning

Question ID : 26433089847

Status : Not Answered

Chosen Option : --

Section : Part-D-Hindi

Q.1 निम्नलिखित वाक्य के किस खंड में त्रुटि है?
जहां तक हमारा विचार तो यही है।

- Ans 1. जहां तक
 2. यही है।
 3. हमारा
 4. विचार

Question ID : 26433066757

Status : Answered

Chosen Option : 2

Q.2 इनमें से कौन-सा शब्द 'अग्नि' का पर्यायवाची नहीं है?

- Ans 1. अनल
 2. अभंग
 3. हुताशन
 4. पावक

Question ID : 26433066895

Status : Answered

Chosen Option : 2

Q.3 निम्नलिखित विकल्पों में से किस एक वाक्य में 'असुर' शब्द के लिए उचित पर्यायवाची का प्रयोग हुआ है?

Ans 1. श्याम घमण्डी है।

2. रजनीचर का स्वभाव दुष्टतापूर्ण होता है।

3. वह दम्भ करता है।

4. दर्प अच्छा नहीं होता है।

Question ID : 26433091188

Status : Answered

Chosen Option : 2

Q.4 हमें किसी बूढ़े व्यक्ति के _____ का तिरस्कार नहीं करना चाहिए।
उचित भाववाचक संज्ञा से वाक्य पूर्ण कीजिए।

Ans 1. मोटापे

2. बूढ़ा

3. बुढ़ापे

4. चाल-चलन

Question ID : 26433062853

Status : Answered

Chosen Option : 3

Q.5 उसके पक्ष में अनेक लोग हैं।
रेखांकित शब्द के विलोम शब्द का चयन कीजिए।

Ans 1. निपक्ष

2. विपक्ष

3. कुपक्ष

4. सपक्ष

Question ID : 26433079645

Status : Answered

Chosen Option : 2

Q.6 'टट्टी की ओट से शिकार खेलना' मुहावरे का अर्थ है-

Ans 1. छल कपट से काम लेना

2. बलपूर्वक काम निकालना

3. छिप कर शिकार करना

4. तनिक भी प्रभावित न होना

Question ID : 26433069948

Status : Answered

Chosen Option : 4

Q.7 गीतों की लड़ियाँ
उपरोक्त अशुद्ध वाक्य-खंड का शुद्ध रूप क्या होगा?

- Ans
- 1. गीतों की कड़ियाँ
 - 2. गीतों की बेड़ियाँ
 - 3. गीतों की कमियाँ
 - 4. गीतों की छड़ियाँ

Question ID : 26433063061
Status : Answered
Chosen Option : 3

Q.8 दिए गये वाक्यांश के लिए सार्थक शब्द बताइए – 'दोपहर के बाद का समय'

- Ans
- 1. पूर्वमध्याह्न
 - 2. अपराह्न
 - 3. मध्याह्न
 - 4. पूर्वाह्न

Question ID : 26433062586
Status : Answered
Chosen Option : 2

Q.9 अगले माह वसंत ऋतु प्रारंभ होगी।

रेखांकित शब्द के विलोम शब्द का चयन कीजिए।

- Ans
- 1. ठंडी
 - 2. ग्रीष्म
 - 3. गरम
 - 4. पतझड़

Question ID : 26433066910
Status : Answered
Chosen Option : 4

Q.10 निम्नलिखित में से विशेषण शब्द का उदाहरण है-

- Ans
- 1. समाज
 - 2. भारत
 - 3. भारतीय
 - 4. धन

Question ID : 26433085051
Status : Answered
Chosen Option : 3

Q.11 निम्नलिखित मुहावरे का उचित अर्थ विकल्पों में से चुनिए।
मुट्टी गरम करना

- Ans
- 1. घूस देना
 - 2. शुभारंभ करना
 - 3. धाक जमाना
 - 4. कलंक लगाना

Question ID : 26433069999
Status : Answered
Chosen Option : 1

Q.12 'जिसकी सीमा न हो' वाक्यांश के लिए उचित शब्द बताइए-

- Ans
- 1. सीमांकित
 - 2. परिसीमित
 - 3. ससीम
 - 4. असीम

Question ID : 26433065909
Status : Answered
Chosen Option : 4

Q.13 निम्नलिखित वाक्य में रेखांकित खंड के स्थान पर प्रयुक्त होने वाले सबसे उपयुक्त विकल्प का चयन कीजिए-

टब पानी से ठूसमठूस भरा है।

- Ans
- 1. ठसाठस
 - 2. चकाचक
 - 3. लबालब
 - 4. फुलमफुल

Question ID : 26433079667
Status : Answered
Chosen Option : 3

Q.14 निम्नलिखित वाक्य के किस शब्द में अशुद्धि है?
देशों में यह बीमारि कोरोना के कारण फैली थी।

- Ans
- 1. बीमारि
 - 2. कोरोना
 - 3. कारण
 - 4. फैली

Question ID : 26433066767
Status : Answered
Chosen Option : 1

Q.15 निम्नलिखित वाक्यांश के लिय उपयुक्त सार्थक शब्द है:
जो समान न हो

- Ans
- 1. बराबर
 - 2. एक समान
 - 3. खुराक
 - 4. विषम

Question ID : 26433065757

Status : Answered

Chosen Option : 4

Comprehension:

निम्नलिखित गद्यांश में से कुछ शब्दों को हटा दिया गया है। गद्यांश के आधार पर पूछे गए प्रश्नों में इसके रिक्त स्थान पर आने वाले उपयुक्त शब्दों का चयन कीजिए।

क्या आपने कभी इस बात पर गम्भीरतापूर्वक 1 _____ किया है कि आज हम जो कुछ भी हैं उसमें किस-किस का योगदान है? माता का, मातृभूमि का, मातृभाषा का, या फिर इन सब का? एक 2 _____ हमें जन्म देती है, एक के आंगन में खेल-कूद कर तथा खा-पी कर हम पुष्ट होते हैं और एक हमें अपने विचारों, भावों इत्यादि को प्रकट करने की शक्ति देती है। इसी शक्ति के अभाव में हम गूंगे और बहरे बन कर रह जाते हैं। यह शक्ति हम पर पूर्ण रूप से मनुष्य बनाने का उपकार करती है। इस उपकार का 3 _____ हम पर सबसे अधिक है। इसी ऋण से मुक्त होने के लिए हमें सच्चे मन से उसकी सेवा करनी चाहिए। विदेशी भाषा के सम्मुख इसका तिरस्कार नहीं करना चाहिए तभी हम अपनी 4 _____ के सच्चे सपूत कहलाएँगे किन्तु यह काम इतना सरल नहीं है। यह काम तो तलवार की 5 _____ पर चलने का है।

SubQuestion No : 16

Q.16 रिक्त स्थान 1 पर आने वाला सर्वाधिक उपयुक्त शब्द इनमें से क्या होगा?

- Ans
- 1. समझ
 - 2. विचार
 - 3. सोच
 - 4. इच्छा

Question ID : 26433072600

Status : Answered

Chosen Option : 2

Comprehension:

निम्नलिखित गद्यांश में से कुछ शब्दों को हटा दिया गया है। गद्यांश के आधार पर पूछे गए प्रश्नों में इसके रिक्त स्थान पर आने वाले उपयुक्त शब्दों का चयन कीजिए।

क्या आपने कभी इस बात पर गम्भीरतापूर्वक 1 _____ किया है कि आज हम जो कुछ भी हैं उसमें किस-किस का योगदान है? माता का, मातृभूमि का, मातृभाषा का, या फिर इन सब का? एक 2 _____ हमें जन्म देती है, एक के आंगन में खेल-कूद कर तथा खा-पी कर हम पुष्ट होते हैं और एक हमें अपने विचारों, भावों इत्यादि को प्रकट करने की शक्ति देती है। इसी शक्ति के अभाव में हम गूंगे और बहरे बन कर रह जाते हैं। यह शक्ति हम पर पूर्ण रूप से मनुष्य बनाने का उपकार करती है। इस उपकार का 3 _____ हम पर सबसे अधिक है। इसी ऋण से मुक्त होने के लिए हमें सच्चे मन से उसकी सेवा करनी चाहिए। विदेशी भाषा के सम्मुख इसका तिरस्कार नहीं करना चाहिए तभी हम अपनी 4 _____ के सच्चे सपूत कहलाएँगे किन्तु यह काम इतना सरल नहीं है। यह काम तो तलवार की 5 _____ पर चलने का है।

SubQuestion No : 17

Q.17 रिक्त स्थान 2 पर आने वाला सर्वाधिक उपयुक्त शब्द इनमें से क्या होगा?

- Ans
- 1. पिता
 - 2. भाई
 - 3. बहन
 - 4. जननी

Question ID : 26433072601

Status : Answered

Chosen Option : 4

Comprehension:

निम्नलिखित गद्यांश में से कुछ शब्दों को हटा दिया गया है। गद्यांश के आधार पर पूछे गए प्रश्नों में इसके रिक्त स्थान पर आने वाले उपयुक्त शब्दों का चयन कीजिए।

क्या आपने कभी इस बात पर गम्भीरतापूर्वक 1 _____ किया है कि आज हम जो कुछ भी हैं उसमें किस-किस का योगदान है? माता का, मातृभूमि का, मातृभाषा का, या फिर इन सब का? एक 2 _____ हमें जन्म देती है, एक के आंगन में खेल-कूद कर तथा खा-पी कर हम पुष्ट होते हैं और एक हमें अपने विचारों, भावों इत्यादि को प्रकट करने की शक्ति देती है। इसी शक्ति के अभाव में हम गूंगे और बहरे बन कर रह जाते हैं। यह शक्ति हम पर पूर्ण रूप से मनुष्य बनाने का उपकार करती है। इस उपकार का 3 _____ हम पर सबसे अधिक है। इसी ऋण से मुक्त होने के लिए हमें सच्चे मन से उसकी सेवा करनी चाहिए। विदेशी भाषा के सम्मुख इसका तिरस्कार नहीं करना चाहिए तभी हम अपनी 4 _____ के सच्चे सपूत कहलाएँगे किन्तु यह काम इतना सरल नहीं है। यह काम तो तलवार की 5 _____ पर चलने का है।

SubQuestion No : 18

Q.18 रिक्त स्थान 3 पर आने वाला सर्वाधिक उपयुक्त शब्द इनमें से क्या होगा?

- Ans
- 1. नगद
 - 2. पैसा
 - 3. मुद्रा
 - 4. ऋण

Question ID : 26433072602

Status : Answered

Chosen Option : 4

Comprehension:

निम्नलिखित गद्यांश में से कुछ शब्दों को हटा दिया गया है। गद्यांश के आधार पर पूछे गए प्रश्नों में इसके रिक्त स्थान पर आने वाले उपयुक्त शब्दों का चयन कीजिए।

क्या आपने कभी इस बात पर गम्भीरतापूर्वक 1 _____ किया है कि आज हम जो कुछ भी हैं उसमें किस-किस का योगदान है? माता का, मातृभूमि का, मातृभाषा का, या फिर इन सब का? एक 2 _____ हमें जन्म देती है, एक के आंगन में खेल-कूद कर तथा खा-पी कर हम पुष्ट होते हैं और एक हमें अपने विचारों, भावों इत्यादि को प्रकट करने की शक्ति देती है। इसी शक्ति के अभाव में हम गूंगे और बहरे बन कर रह जाते हैं। यह शक्ति हम पर पूर्ण रूप से मनुष्य बनाने का उपकार करती है। इस उपकार का 3 _____ हम पर सबसे अधिक है। इसी ऋण से मुक्त होने के लिए हमें सच्चे मन से उसकी सेवा करनी चाहिए। विदेशी भाषा के सम्मुख इसका तिरस्कार नहीं करना चाहिए तभी हम अपनी 4 _____ के सच्चे सपूत कहलाएँगे किन्तु यह काम इतना सरल नहीं है। यह काम तो तलवार की 5 _____ पर चलने का है।

SubQuestion No : 19

Q.19 रिक्त स्थान 4 पर आने वाला सर्वाधिक उपयुक्त शब्द इनमें से क्या होगा?

- Ans
- 1. देश
 - 2. शहर
 - 3. मातृभूमि
 - 4. गाँव

Question ID : 26433072603

Status : Answered

Chosen Option : 3

Comprehension:

निम्नलिखित गद्यांश में से कुछ शब्दों को हटा दिया गया है। गद्यांश के आधार पर पूछे गए प्रश्नों में इसके रिक्त स्थान पर आने वाले उपयुक्त शब्दों का चयन कीजिए।

क्या आपने कभी इस बात पर गम्भीरतापूर्वक 1 _____ किया है कि आज हम जो कुछ भी हैं उसमें किस-किस का योगदान है? माता का, मातृभूमि का, मातृभाषा का, या फिर इन सब का? एक 2 _____ हमें जन्म देती है, एक के आंगन में खेल-कूद कर तथा खा-पी कर हम पुष्ट होते हैं और एक हमें अपने विचारों, भावों इत्यादि को प्रकट करने की शक्ति देती है। इसी शक्ति के अभाव में हम गूंगे और बहरे बन कर रह जाते हैं। यह शक्ति हम पर पूर्ण रूप से मनुष्य बनाने का उपकार करती है। इस उपकार का 3 _____ हम पर सबसे अधिक है। इसी ऋण से मुक्त होने के लिए हमें सच्चे मन से उसकी सेवा करनी चाहिए। विदेशी भाषा के सम्मुख इसका तिरस्कार नहीं करना चाहिए तभी हम अपनी 4 _____ के सच्चे सपूत कहलाएँगे किन्तु यह काम इतना सरल नहीं है। यह काम तो तलवार की 5 _____ पर चलने का है।

SubQuestion No : 20

Q.20 रिक्त स्थान 5 पर आने वाला सर्वाधिक उपयुक्त शब्द इनमें से क्या होगा?

- Ans
- 1. रास्ता
 - 2. किनारा
 - 3. धार
 - 4. नोक

Question ID : 26433072604

Status : Answered

Chosen Option : 4