

Constable GD in CAPFs SSF Rifleman GD in Assam Rifles and Sepoy in NCB Examination 2022

Roll Number	www.govtjobsalert.in
Candidate Name	www.govtjobsalert.in
Venue Name	New Age Technologies
Exam Date	02/02/2023
Exam Time	9:00 AM - 10:00 AM
Subject	Constable GD Examination 2022

Section : Part-A-General Intelligence and Reasoning

Q.1 सात व्यक्ति A, B, C, D, E, F और G एक सीधी पंक्ति में उत्तर की ओर मुख करके बैठे हैं। A बाईं ओर से दूसरे स्थान पर बैठा है। A और C के बीच केवल दो व्यक्ति बैठे हैं। D और F के बीच केवल तीन व्यक्ति बैठे हैं, और D, A के ठीक बगल में है। B, D के ठीक बगल में है, और E, C के ठीक बगल में नहीं है। A और G के बीच में कितने व्यक्ति बैठे हैं?

Ans 1.3

2.1

3.2

4.4

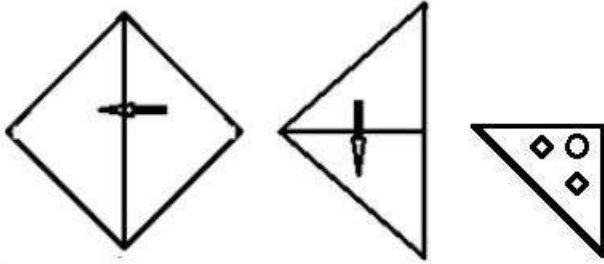
Question ID : 26433056934

Status : Answered

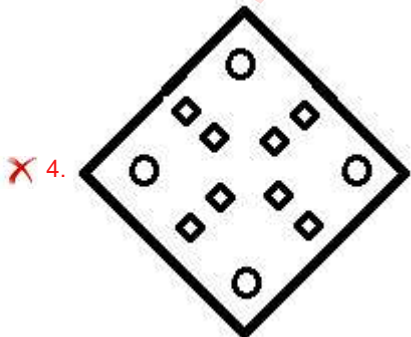
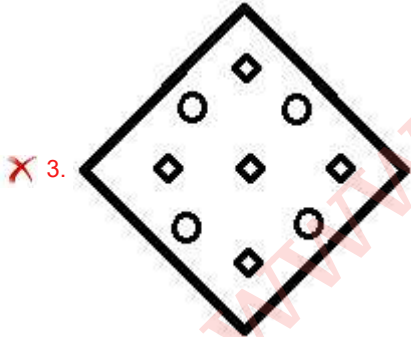
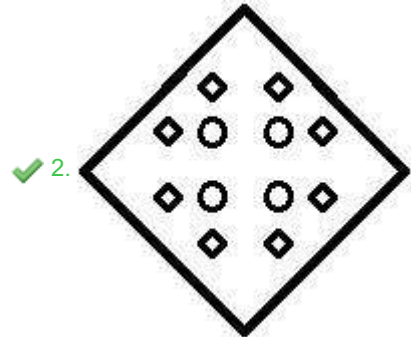
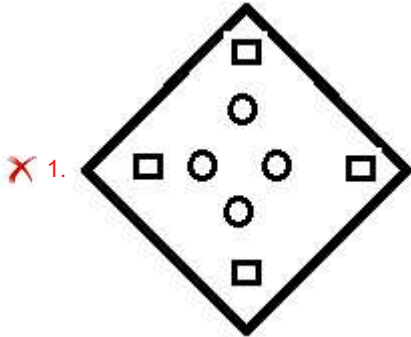
Chosen Option : 3

Q.2 एक कागज को नीचे दिखाए अनुसार मोड़ा और काटा गया है। कागज को खोलने

पर यह कैसा दिखाई देगा?



Ans



Question ID : 26433082339

Status : Answered

Chosen Option : 2

Q.3 उस विकल्प का चयन करें जो चौथे पद से उसी प्रकार संबंधित है, जिस प्रकार पहला पद दूसरे पद से और पांचवां पद छठे पद से संबंधित है।
18 : 45 :: ? : 60 :: 30 : 75

- Ans 1. 26
 2. 22
 3. 24
 4. 20

Question ID : 26433069098
Status : Not Answered
Chosen Option : --

Q.4 निम्नलिखित में से कौन-सा अक्षर-समूह दी गई श्रृंखला में प्रश्न-चिह्न (?) के स्थान पर आएगा?
XTEB, UQHE, RNKH, ?, LHQN

- Ans 1. OKOK
 2. OKNK
 3. PKOK
 4. PKNJ

Question ID : 26433076441
Status : Answered
Chosen Option : 2

Q.5 तीन कथनों के बाद तीन निष्कर्ष I, II और III दिए गए हैं। कथनों को सत्य मानते हुए, भले ही वे सामान्य रूप से ज्ञात तथ्यों से भिन्न प्रतीत होते हों, निर्धारित करें कि कौन-सा/से निष्कर्ष, कथनों का तार्किक रूप से अनुसरण करता है/करते हैं।

कथन:

सभी बिस्तर टेबल हैं।

सभी खाट टेबल हैं।

सभी टेबल नल हैं।

निष्कर्ष:

I. सभी खाट नल हैं।

II. कुछ नल टेबल हैं।

III. कुछ बिस्तर खाट हैं।

- Ans 1. केवल निष्कर्ष I और III अनुसरण करते हैं
 2. केवल निष्कर्ष I और II अनुसरण करते हैं
 3. केवल निष्कर्ष II और III अनुसरण करते हैं
 4. सभी निष्कर्ष अनुसरण करते हैं

Question ID : 26433082314
Status : Answered
Chosen Option : 2

Q.6 एक निश्चित कूट भाषा में, 'DEVOUR' को 'WGEQFT' और 'VARIED' को 'ECIKVF' के रूप में लिखा जाता है। उसी कूट भाषा में 'BLANKET' को किस प्रकार से लिखा जाएगा?

- Ans
- 1. ZYNPGPG
 - 2. YMZPQGH
 - 3. YNZPPGG
 - 4. ZNUMCHA

Question ID : 26433069463

Status : Answered

Chosen Option : 3

Q.7 यदि '-' का अर्थ 'भाग', '+' का अर्थ 'गुणा', 'x' का अर्थ 'जोड़' और '÷' का अर्थ 'घटाव' है, तो निम्नलिखित में से कौन सा समीकरण सही है?

- Ans
- 1. $20 + 6 - 4 \times 9 \div 6 = 32$
 - 2. $10 + 3 - 2 \times 9 \div 2 = 21$
 - 3. $10 \div 2 + 3 \div 9 \times 2 = 8$
 - 4. $20 - 4 + 6 \div 9 \times 4 = 25$

Question ID : 26433085660

Status : Answered

Chosen Option : 4

Q.8 किस विकल्प में निम्नलिखित शब्दों का वह क्रम दिया गया है, जिस क्रम में वे अंग्रेजी शब्दकोश में आते हैं?

- 1 pilot
- 2 pivot
- 3 pipette
- 4 pigeon
- 5 pigment

- Ans
- 1. 5,4,1,2,3
 - 2. 5,2,3,1,4
 - 3. 4,3,1,2,5
 - 4. 4,5,1,3,2

Question ID : 26433069314

Status : Answered

Chosen Option : 4

Q.9 उस विकल्प का चयन करें जो तीसरे पद से उसी तरह से संबंधित है, जिस तरह से दूसरा पद पहले पद से संबंधित है।

MEMBRANE : LDLAQZMD :: PRIVILEGE : ?

- Ans
- 1. GFDHUHKDFD
 - 2. QSHUHKDFD
 - 3. HGHUHKDFD
 - 4. OQHUHKDFD

Question ID : 26433067262

Status : Answered

Chosen Option : 4

Q.10 छः विद्यार्थी एक वृत्ताकार मेज के परितः मेज के केंद्र की ओर मुख करके बैठे हैं। F, A के ठीक बगल में है। D, E के दाईं ओर दूसरे स्थान पर बैठा है। B, E के ठीक बगल में है, और C के दाईं ओर दूसरे स्थान पर बैठा है। F, D के दाईं ओर दूसरे स्थान पर बैठा है। A, E के ठीक बगल में नहीं है। A के दाईं ओर से देखे जाने पर, E और A के बीच कौन बैठा है?

- Ans 1. F और C
 2. D और C
 3. F और B
 4. C और B

Question ID : 26433092768

Status : Answered

Chosen Option : 1

Q.11 एक फोटो को देखते हुए मारिया ने कहा "वह मेरी माँ की माँ की इकलौती बेटी है"। मारिया फोटो में दिख रहे व्यक्ति से किस प्रकार संबंधित है?

- Ans 1. बहन
 2. बुआ
 3. बेटी
 4. मौसी

Question ID : 26433074602

Status : Answered

Chosen Option : 3

Q.12 निम्नलिखित में से कौन-सी संख्या दी गई श्रृंखला में प्रश्न-चिह्न (?) की जगह पर आएगी?
1, 3, 6, ?, 20, 37

- Ans 1. 9
 2. 12
 3. 8
 4. 11

Question ID : 26433080720

Status : Answered

Chosen Option : 2

Q.13 कौन-सा अक्षर-समूह दी गई श्रृंखला में प्रश्नचिह्न (?) के स्थान पर आकर श्रृंखला को पूर्ण करेगा?
CPFG, ENHE, ?, IJLA, KHNY

- Ans 1. GLJC
 2. GLLC
 3. GLKD
 4. GLKC

Question ID : 26433068571

Status : Answered

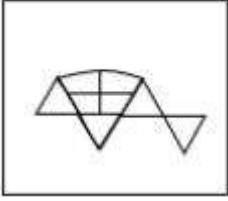
Chosen Option : 1

Q.14 निम्न विकल्पों में से उस उत्तर आकृति का चयन करें जिसमें नीचे दी गई प्रश्न आकृति निहित है (आकृति घुमाने की अनुमति नहीं है)।

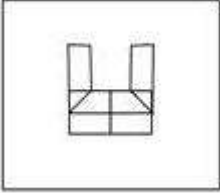


Ans

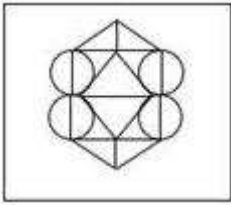
✗ 1.



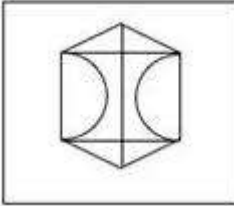
✗ 2.



✓ 3.



✗ 4.



Question ID : 26433070208

Status : Answered

Chosen Option : 3

Q.15 निम्न में से कौन सी संख्या दी गई श्रृंखला में प्रश्नचिह्न (?) के स्थान पर आएगी?
10, 27, 78, 231, ?, 2067

Ans ✗ 1. 665

✗ 2. 656

✓ 3. 690

✗ 4. 640

Question ID : 26433076750

Status : Answered

Chosen Option : 3

Q.16 दी गई आकृति के सही दर्पण प्रतिबिम्ब का चयन करें जब दर्पण को MN पर रखा जाए जैसा कि नीचे दर्शाया गया है।



Ans

- 1. Questionaire
- 2. Questionaire
- 3. Questionaire
- 4. Questionaire

Question ID : 26433085548
Status : Answered
Chosen Option : 3

Q.17 उस विकल्प का चयन करें, जो पांचवे अक्षर-समूह से उसी प्रकार संबंधित है, जिस प्रकार दूसरा अक्षर-समूह पहले अक्षर-समूह से संबंधित है, और चौथा अक्षर-समूह तीसरे अक्षर-समूह से संबंधित है।

ACBO : PCDB :: JLKM : NLMK :: KJIH : ?

- Ans
- 1. JILK
 - 2. IJKL
 - 3. JIKL
 - 4. IJLK

Question ID : 26433080464
Status : Answered
Chosen Option : 2

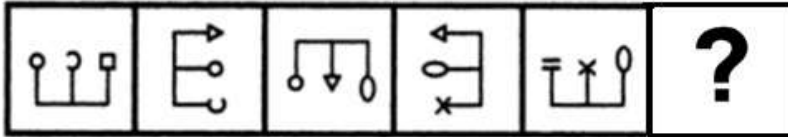
Q.18 एक कूट भाषा में 'dark colors' को 'yu nu', 'days are bright' को 'wu tu ku', 'nights are dark' को 'ku nu pu', 'paint bright' को 'wu ru' के रूप में कूटबद्ध किया जाता है। शब्द 'days' के लिए कूट क्या होगा?

- Ans
- 1. ku
 - 2. ru
 - 3. tu
 - 4. wu

Question ID : 26433082273
Status : Answered
Chosen Option : 3

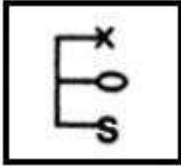
Q.19 दिए गए विकल्पों में से उस आकृति का चयन करें जो निम्नलिखित श्रृंखला में

प्रश्नवाचक चिह्न (?) का स्थान ले सकती है।

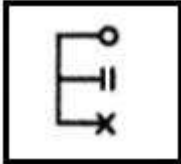


Ans

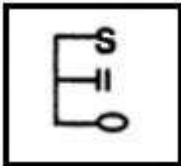
✗ 1.



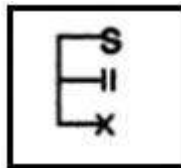
✗ 2.



✗ 3.



✓ 4.



Question ID : 26433080491

Status : Answered

Chosen Option : 1

Q.20 नीचे दिए गए समीकरण को गणितीय रूप से सही बनाने के लिए किन दो चिन्हों को परस्पर बदलना चाहिए?

$$54 + 18 \div 9 - 36 \times 16 = 88$$

Ans ✗ 1. + और +

✓ 2. × और +

✗ 3. + और ×

✗ 4. + और -

Question ID : 264330117537

Status : Answered

Chosen Option : 2

Q.1 निम्न में से कौन-सा नृत्य मध्य प्रदेश के मालवा क्षेत्र के ग्रामीण इलाकों की महिलाओं द्वारा किया जाता है?

- Ans
- 1. डांडिया रास
 - 2. थिरयट्टम
 - 3. पढ़यनि
 - 4. मटकी नृत्य

Question ID : 26433071690

Status : Answered

Chosen Option : 4

Q.2 खिलाड़ियों और उनके जन्म के राज्य/केंद्र शासित प्रदेश से संबंधित निम्नलिखित में से कौन सा एक गलत मिलान है?

- Ans
- 1. सानिया मिर्जा – महाराष्ट्र
 - 2. अंजुम चोपड़ा - नई दिल्ली
 - 3. मिताली राज – तमिलनाडु
 - 4. साइना नेहवाल - हरियाणा

Question ID : 26433089932

Status : Not Answered

Chosen Option : --

Q.3 भारतीय संविधान के 101वें संविधान संशोधन अधिनियम ने निम्न प्रणाली की शुरुआत की:

- Ans
- 1. एक देश, एक आय'
 - 2. एक देश, एक कर'
 - 3. एक व्यक्ति, एक कर'
 - 4. एक व्यक्ति, एक दर'

Question ID : 264330116210

Status : Answered

Chosen Option : 2

Q.4 कोशिकाद्रव्य में राइबोसोम, माइटोकॉन्ड्रिया और गॉल्जीकाय जैसे _____ होते हैं।

- Ans
- 1. अंग
 - 2. कोश
 - 3. कोशिकांग
 - 4. ऊतक

Question ID : 264330115243

Status : Answered

Chosen Option : 3

Q.5 निम्नलिखित चार में से तीन व्यापार के लिए सहायक हैं, और अतः एक समूह बनाते हैं। वह कौन-सा है, जो उस समूह से संबंधित नहीं है?

- Ans
- 1. परिवहन
 - 2. कृषि
 - 3. भंडारण (Warehousing)
 - 4. बीमा (Insurance)

Question ID : 264330115571

Status : Answered

Chosen Option : 4

Q.6 गौतम बुद्ध के भक्तों द्वारा मनाई जाने वाली बुद्ध पूर्णिमा, हिंदू माह _____ में मनाई जाती है।

- Ans
- 1. माघ
 - 2. फाल्गुन
 - 3. वैशाख
 - 4. चैत्र

Question ID : 264330115121

Status : Answered

Chosen Option : 2

Q.7 सुनंदा नायर ने मुंबई विश्वविद्यालय से _____ नृत्य शैली में PhD पूर्ण की। उनकी थीसिस "इंट्रिंसिक लिरिकल फेमिनिज्म" में था।

- Ans
- 1. कुचिपुड़ी
 - 2. कथकली
 - 3. मोहिनीअट्टम
 - 4. भरतनाट्यम

Question ID : 264330115864

Status : Answered

Chosen Option : 3

Q.8 बजरंग पुनिया ने किस टूर्नामेंट में दौलत नियाजबेकोव को हराकर कांस्य पदक जीता था?

- Ans
- 1. टोक्यो ओलंपिक 2020
 - 2. एशियाई खेल 2014
 - 3. राष्ट्रमंडल खेल 2014
 - 4. लंदन ओलंपिक 2012

Question ID : 264330116278

Status : Answered

Chosen Option : 1

Q.9 निम्नलिखित में से कौन वाकाटक राजवंश के संस्थापक थे?

- Ans
- 1. प्रवरसेन द्वितीय
 - 2. प्रवरसेन प्रथम
 - 3. विंध्यशक्ति
 - 4. प्रभावतीगुप्त

Question ID : 264330115463

Status : Not Answered

Chosen Option : --

Q.10 विकास की स्थिति के आधार पर संसाधनों का वर्गीकरण किस प्रकार किया जाता है?

- Ans
- 1. वैयक्तिक, अंतरराष्ट्रीय और राष्ट्रीय
 - 2. संभावित, विकसित स्टॉक और संचित कोष
 - 3. नवीकरणीय और गैर-नवीकरणीय
 - 4. जैविक और अजैविक

Question ID : 26433087887

Status : Answered

Chosen Option : 3

Q.11 भारतीय संविधान के किस अनुच्छेद के तहत मौलिक कर्तव्यों को परिभाषित किया गया है?

- Ans
- 1. 50A
 - 2. 53A
 - 3. 51A
 - 4. 52A

Question ID : 26433089950

Status : Answered

Chosen Option : 3

Q.12 करेंसी नोट और सिक्कों को कागज़ी मुद्रा कहते हैं। इन्हें _____ भी कहा जाता है।

- Ans
- 1. पट्टा विलेख
 - 2. कानूनी निविदा
 - 3. ऋण विलेख
 - 4. कानूनी अनुबंध

Question ID : 264330115324

Status : Answered

Chosen Option : 2

Q.13 वाशिंग सोडा का रासायनिक सूत्र _____ है।

- Ans
- 1. Na_2SO_4
 - 2. $\text{Ca}(\text{OH})_2$
 - 3. $\text{Na}_2\text{CO}_3 \cdot 10\text{H}_2\text{O}$
 - 4. NaHCO_3

Question ID : 26433089648

Status : Not Answered

Chosen Option : --

Q.14 पश्चिम बंगाल किस देश के साथ अपनी सबसे लंबी सीमा साझा करता है?

- Ans
- 1. भूटान
 - 2. बांग्लादेश
 - 3. म्यांमार
 - 4. नेपाल

Question ID : 264330116102

Status : Answered

Chosen Option : 2

Q.15 निम्नलिखित में से कौन सार्वजनिक क्षेत्र की कंपनी का उदाहरण नहीं है?

- Ans
- 1. सेल (SAIL)
 - 2. एनएसई (NSE)
 - 3. ओएनजीसी (ONGC)
 - 4. भेल (BHEL)

Question ID : 26433054785

Status : Not Answered

Chosen Option : --

Q.16 विनिर्मित वस्तुओं का निर्यात, व्यापार और वाणिज्य को _____ है।

- Ans
- 1. फैलाता
 - 2. संकुचित करता
 - 3. कम करता
 - 4. कमजोर करता

Question ID : 264330115409

Status : Not Answered

Chosen Option : --

Q.17 नवंबर 2022 तक की स्थिति के अनुसार, भारत में एक राजनीतिक दल, राष्ट्रवादी कांग्रेस पार्टी के अध्यक्ष कौन हैं?

- Ans
- 1. सुप्रिया सुले
 - 2. एकनाथ शिंदे
 - 3. नवाब मलिक
 - 4. शरद पवार

Question ID : 264330114945

Status : Answered

Chosen Option : 2

Q.18 1928 में, दिल्ली में फिरोजशाह कोटला मैदान में एक बैठक में _____ की स्थापना की गई थी। इसके नेताओं में भगत सिंह, जतिन दास और अजय घोष थे।

- Ans
- 1. कबुई नागा एसोसिएशन
 - 2. आल इंडिया डिप्रेस्ड क्लासेस एसोसिएशन
 - 3. हिन्दुस्तान सोशलिस्ट रिपब्लिकन एसोसिएशन
 - 4. मद्रास प्रेसीडेंसी एसोसिएशन

Question ID : 264330115705

Status : Answered

Chosen Option : 3

Q.19 नवंबर 2022 में, भारत के विधि आयोग के अध्यक्ष के रूप में किसे नियुक्त किया गया?

- Ans
- 1. न्यायमूर्ति रवि आर त्रिपाठी
 - 2. न्यायमूर्ति ऋतुराज अवस्थी
 - 3. एस. शिव कुमार
 - 4. एन. के. सिंह

Question ID : 264330115027

Status : Not Answered

Chosen Option : --

Q.20 निम्नलिखित में से कौन सा कथन भारत के संसद के संयुक्त सत्र के बारे में सही नहीं है?

- Ans
- 1. अब तक दोनों सदनों की संयुक्त बैठक तीन मौकों पर हो चुकी है।
 - 2. राज्य सभा के सभापति (उपराष्ट्रपति) संयुक्त सत्र की अध्यक्षता करते हैं।
 - 3. राष्ट्रपति संयुक्त सत्र के लिए दोनों सदनों की बैठक बुला सकता है।
 - 4. संसद के दोनों सदनों के बीच गतिरोध को दूर करने के लिए संयुक्त सत्र का आयोजन किया जाता है।

Question ID : 26433079562

Status : Answered

Chosen Option : 4

Q.1 1000 m की दौड़ में, जॉन ने खान को 120 m से हराया। यदि जॉन की चाल 40 km/h है, तो खान की चाल क्या होगी?

- Ans
- 1. 28.5 km/h
 - 2. 35.2 km/h
 - 3. 27 km/h
 - 4. 38.7 km/h

Question ID : 26433061169

Status : Answered

Chosen Option : 2

Q.2 2010 में एक देश की जनसंख्या 256080000 थी। 2020 तक जनसंख्या में 10 प्रतिशत की वृद्धि हो गई थी। 2020 में जनसंख्या है:

- Ans
- 1. 275040000
 - 2. 281688000
 - 3. 266050000
 - 4. 291475000

Question ID : 264330116814

Status : Answered

Chosen Option : 2

Q.3 6 cm भुजा वाले एक घन से काट कर निकाले जा सकने वाले सबसे बड़े गोले का आयतन क्या होगा?

- Ans
- 1. 113.14 cm³
 - 2. 102.26 cm³
 - 3. 115.13 cm³
 - 4. 112.15 cm³

Question ID : 26433066328

Status : Not Answered

Chosen Option : --

Q.4 एक अर्धगोलाकार कटोरा मोटे स्टील से बना है जिसकी मोटाई 0.5 cm है। यदि कटोरे का बाहरी व्यास 43 cm है, तो कटोरे की धारिता (capacity) ज्ञात कीजिए। ($\pi = \frac{22}{7}$ का उपयोग कीजिए)

- Ans
- 1. 38808 cm³
 - 2. 77616 cm³
 - 3. 3696 cm³
 - 4. 19404 cm³

Question ID : 26433087409

Status : Not Answered

Chosen Option : --

Q.5 एक मोबाइल फोन का अंकित मूल्य ₹16,500 है। इस पर 8% की ल्यौहार छूट दी जाती है। इसके अलावा, नकद भुगतान के लिए 5% की दूसरी छूट दी जाती है। मोबाइल फोन खरीदने के लिए किया जाने वाला नकद भुगतान, रुपये में, कितना है?

- Ans
- 1. ₹14,872
 - 2. ₹14,421
 - 3. ₹14,512
 - 4. ₹14,671

Question ID : 26433092168

Status : Answered

Chosen Option : 2

Q.6 एक कार की कीमत में क्रमिक रूप से क्रमशः 5%, 10% और 20% की वृद्धि होती है। कीमत में समतुल्य परिवर्तन क्या है?

- Ans
- 1. $34\frac{4}{5}\%$
 - 2. $32\frac{1}{5}\%$
 - 3. $33\frac{3}{5}\%$
 - 4. $38\frac{3}{5}\%$

Question ID : 26433076071

Status : Answered

Chosen Option : 4

Q.7 एक महिला 75 km/h की चाल से कार द्वारा एक निश्चित दूरी तय करती है और तुरंत उसी कार से 100 km/h की चाल से प्रारंभिक बिंदु पर लौट आती है। कार की औसत चाल क्या है?

- Ans
- 1. $86\frac{3}{7}$ km/h
 - 2. $85\frac{5}{7}$ km/h
 - 3. $95\frac{2}{7}$ km/h
 - 4. $93\frac{3}{7}$ km/h

Question ID : 26433076070

Status : Answered

Chosen Option : 2

Q.8 A एक घंटे में 11 बेंच की मरम्मत कर सकता है और B एक घंटे में 5 बेंच की मरम्मत कर सकता है। जब वे मिलकर एक साथ काम करते हैं तो निर्धारित करें कि 64 बेंचों की मरम्मत में उन्हें कितना समय लगेगा?

- Ans
- 1. 3 घंटा
 - 2. 5 घंटा
 - 3. 4 घंटा
 - 4. 6 घंटा

Question ID : 26433080140

Status : Answered

Chosen Option : 3

Q.9 आकाश एक कार्य को 21 दिनों में कर सकता है और दीया उसी कार्य को 63 दिनों में कर सकती है। समान कार्य को पूरा करने में लगने वाला समय ज्ञात करें यदि वे एकांतर दिनों में (बारी बारी से) कार्य करते हैं, और आकाश कार्य आरंभ करता है।

- Ans
- 1. 27 दिन
 - 2. 29 दिन
 - 3. 31 दिन
 - 4. 28 दिन

Question ID : 264330116894

Status : Answered

Chosen Option : 3

Q.10 एक यात्रा में किरण ने बाइक से 50 मील प्रति घंटे की चाल से 3 घंटे तक यात्रा की। इसके अलावा उसने कार से 65 मील प्रति घंटे की चाल से 2 घंटे तक यात्रा की। वह आराम करने के लिए 2 घंटे रुका। आराम के बाद उसने अपने गंतव्य तक पहुँचने के लिए बाइक से 80 मील प्रति घंटे की चाल से 4 घंटे तक यात्रा की। पूरी यात्रा में किरण की औसत चाल ज्ञात करें। (मील प्रति घंटे में) (दशमलव के दो स्थान तक पूर्णांकित)

- Ans
- 1. 65.68
 - 2. 50.44
 - 3. 54.54
 - 4. 60.06

Question ID : 26433079915

Status : Answered

Chosen Option : 2

Q.11 एक व्यापारी 18% और 20% की दो क्रमिक छूट देता है। यदि अंकित मूल्य ₹11,000 है, तो विक्रय मूल्य _____ है।

- Ans
- 1. ₹6,716
 - 2. ₹7,926
 - 3. ₹7,216
 - 4. ₹6,926

Question ID : 26433080110

Status : Answered

Chosen Option : 1

Q.12 कोई किराना व्यापारी 15% के लाभ पर चावल बेचता है और बाजार के वजन से 20% कम वजन को उपयोग में लाता है। उसके द्वारा अर्जित कुल लाभ _____ होगा।

- Ans
- 1. 45.37%
 - 2. 47.35%
 - 3. 53.74%
 - 4. 43.75%

Question ID : 26433073009

Status : Answered

Chosen Option : 4

Q.13 यदि 8 एवं 24 का तीसरा समानुपाती 'A' है और 4 एवं 16 का मध्यानुपाती 'B' है, तो $\frac{A}{B}$ का मान

_____ है।

- Ans
- 1. 10
 - 2. 8
 - 3. 9
 - 4. 12

Question ID : 26433082393

Status : Answered

Chosen Option : 3

Q.14 0.1 और 0.12 का तृतीयानुपाती ज्ञात करें।

- Ans
- 1. 0.122
 - 2. 0.144
 - 3. 0.24
 - 4. 0.124

Question ID : 26433081715

Status : Answered

Chosen Option : 2

Q.15 एक नदी 2 kmph की चाल से बह रही है। एक नाव कुल 10 घंटों में धारा की विपरीत दिशा में 40 km जाती है और B से A तक वापस भी आती है। शांत जल में नाव की चाल ज्ञात करें।

- Ans
- 1. 7.97 kmph
 - 2. 6.23 kmph
 - 3. 8.47 kmph
 - 4. 7.32 kmph

Question ID : 26433080242

Status : Not Answered

Chosen Option : --

Q.16

यदि $3\frac{1}{3} \div 6\frac{3}{7} \times 1\frac{1}{2} \times 3\frac{1}{7} = (p)^{1/2}$ है, तो 'p' का मान क्या है?

Ans

1. $\frac{484}{3}$

2. $\frac{484}{81}$

3. $\frac{22}{9}$

4. $\frac{22}{3}$

Question ID : 26433075135

Status : Not Answered

Chosen Option : --

Q.17 यदि ब्याज की दर पहले वर्ष के लिए 16% वार्षिक, दूसरे वर्ष के लिए 20% वार्षिक और तीसरे वर्ष के लिए 15% वार्षिक है, तो Rs.15,000 पर तीन वर्षों के लिए चक्रवृद्धि ब्याज ज्ञात कीजिए।

Ans 1. Rs.9,012

2. Rs.8,012

3. Rs.8,015

4. Rs.9,015

Question ID : 26433064988

Status : Not Answered

Chosen Option : --

Q.18 12 से विभाज्य 2 अंकीय सबसे बड़ी संख्या और 8 से विभाज्य 2 अंकीय सबसे छोटी संख्या का लघुत्तम समापवर्त्य ज्ञात करें।

Ans 1. 192

2. 48

3. 96

4. 384

Question ID : 264330116662

Status : Not Answered

Chosen Option : --

Q.19 एक दुकानदार दो तरह से अपने ग्राहक को धोखा देता है। वह शुद्ध शहद में 20% पानी मिला देता है और शहद की कीमत 15% बढ़ा देता है। वह 40 kg शुद्ध शहद के लिए Rs.30/ kg की दर से भुगतान करता है। वह इसे बेचकर कुल कितना लाभ कमाता है?

Ans 1. Rs.422

2. Rs.456

3. Rs.435

4. Rs.468

Question ID : 26433075848

Status : Not Answered

Chosen Option : --

Q.20 एक गाँव की वर्तमान जनसंख्या 50,000 है। शहरों की ओर पलायन के कारण जनसंख्या में प्रतिवर्ष 5% की दर से कमी आती है। 2 वर्ष के बाद गाँव की जनसंख्या ज्ञात कीजिए।

Ans 1. 45125

2. 48475

3. 41525

4. 44875

Question ID : 26433092027

Status : Not Answered

Chosen Option : --

Section : Part-D-English

Q.1 Select the most appropriate synonym for the given word.

False

Ans 1. Unfair

2. Untrue

3. Correct

4. Genuine

Question ID : 26433086372

Status : Not Answered

Chosen Option : --

Q.2 Select the most appropriate option that can substitute the underlined segment in the given sentence.

Everyone was shocked to see the old man upset and unkempt.

Ans 1. violent and rigorous

2. messy and untidy

3. up and doing

4. proud and useless

Question ID : 26433099873

Status : Not Answered

Chosen Option : --

Q.3 Select the most appropriate ANTONYM of the given word.

Steady

Ans 1. Voluntary

2. Wavering

3. Undeviating

4. Contrived

Question ID : 26433084687

Status : Not Answered

Chosen Option : --

Q.4 Select the word segment that substitutes (replaces) the bracketed word segment correctly and completes the sentence meaningfully.

After the teacher chose groups, John and Sara (was selected as partners for project), yet Sarah did most of the work.

- Ans
- 1. have selected as a partners for a project
 - 2. has selected as a partner for a project
 - 3. were selected as partners for a project
 - 4. had selected as partners for project

Question ID : 26433088963
Status : Not Answered
Chosen Option : --

Q.5 Select the most appropriate meaning of the given idiom.

In the fast lane

- Ans
- 1. In terrific speed
 - 2. In great excitement
 - 3. In perfect discipline
 - 4. In complete fear

Question ID : 26433073482
Status : Not Answered
Chosen Option : --

Q.6 Select the most appropriate ANTONYM of the given word.
Realm

- Ans
- 1. Domain
 - 2. Activity
 - 3. Kingdom
 - 4. Sky

Question ID : 26433084749
Status : Not Answered
Chosen Option : --

Q.7 Select the most appropriate option to fill in the blank.

The article _____ several experts on the subject.

- Ans
- 1. sits
 - 2. cites
 - 3. sites
 - 4. sights

Question ID : 26433060331
Status : Not Answered
Chosen Option : --

Q.8 Select the most appropriate option to fill in the blank.

Neha has _____ and won't come to work for a few days.

- Ans
- 1. floo
 - 2. flew
 - 3. flu
 - 4. flue

Question ID : 26433088940
Status : Not Answered
Chosen Option : --

Q.9 Parts of the given sentence have been given as options. One of them contains a spelling error. Select the option that rectifies the error.

According to a study by BBC across 66 different sports, five out of every six sports now give equal prize money to men and women at the world championship level.

- Ans
- 1. championship
 - 2. akcross
 - 3. wumen
 - 4. diferent

Question ID : 26433072040
Status : Not Answered
Chosen Option : --

Q.10 Substitute the underline word with its appropriate synonym.

The crew of the ship was attacked.

- Ans
- 1. synced
 - 2. assaulted
 - 3. worshipped
 - 4. saved

Question ID : 26433073935
Status : Not Answered
Chosen Option : --

Q.11 Select the most appropriate meaning of the given idiom.

Penny wise and pound foolish

- Ans
- 1. Serious about wealth but never working hard
 - 2. Writing powerfully but speaking poorly
 - 3. Careful in trivial matters but wasteful in large
 - 4. Good at spending but bad at earning

Question ID : 26433073491
Status : Not Answered
Chosen Option : --

Q.12 Select the most appropriate option that can substitute the underlined segment in the given sentence.

During an office tour to Mumbai, I chanced to meet an old friend.

- Ans 1. ran into
 2. ran over
 3. ran about
 4. ran down

Question ID : 26433089092
Status : Not Answered
Chosen Option : --

Q.13 Select the INCORRECTLY spelt word.

- Ans 1. Coutious
 2. Intelligent
 3. Irrational
 4. Excessive

Question ID : 26433087934
Status : Not Answered
Chosen Option : --

Q.14 Select the most appropriate synonym of the given word.
Enmity

- Ans 1. Hostility
 2. Variability
 3. Pretext
 4. Probability

Question ID : 26433084666
Status : Not Answered
Chosen Option : --

Q.15 Parts of the following sentence have been given as options. One of them may contain an error. Select the part that contains the error from the given options. If you don't find any error, mark 'No error' as your answer.

The old man think his younger daughter was mocking him.

- Ans 1. The old man think
 2. was mocking him
 3. his younger daughter
 4. No error

Question ID : 26433090484
Status : Not Answered
Chosen Option : --

Comprehension:

In the following passage some words have been deleted. Fill in the blanks with the help of the alternatives given. Select the most appropriate option for each number.

Summer camp is a terrific idea used primarily by schools to (1)_____ pupils to acquire and master new skills. It is an (2)_____ outdoor activity. Many parents offer to enrol their kids in summer camps so they can participate in (3)_____ activities, discover their talents and passions, and broaden their horizons. Summer camps are (4)_____ for all children for ten to fifteen days by various schools or other organisations. These summer camps (5)_____ entertaining educational activities like fitness classes, hobby improvement classes, learning lectures, sports activities, musical performances, etc. The pupils' general development and growth are benefitted from these summer camps.

SubQuestion No : 16**Q.16 Select the most appropriate answer for blank 1.**

- Ans 1. accelerate
 2. assist
 3. hinder
 4. examine

Question ID : 26433089700

Status : Not Answered

Chosen Option : --

Comprehension:

In the following passage some words have been deleted. Fill in the blanks with the help of the alternatives given. Select the most appropriate option for each number.

Summer camp is a terrific idea used primarily by schools to (1)_____ pupils to acquire and master new skills. It is an (2)_____ outdoor activity. Many parents offer to enrol their kids in summer camps so they can participate in (3)_____ activities, discover their talents and passions, and broaden their horizons. Summer camps are (4)_____ for all children for ten to fifteen days by various schools or other organisations. These summer camps (5)_____ entertaining educational activities like fitness classes, hobby improvement classes, learning lectures, sports activities, musical performances, etc. The pupils' general development and growth are benefitted from these summer camps.

SubQuestion No : 17**Q.17 Select the most appropriate answer for blank 2.**

- Ans 1. assembled
 2. organised
 3. aggravated
 4. omitted

Question ID : 26433089701

Status : Not Answered

Chosen Option : --

Comprehension:

In the following passage some words have been deleted. Fill in the blanks with the help of the alternatives given. Select the most appropriate option for each number.

Summer camp is a terrific idea used primarily by schools to (1)_____ pupils to acquire and master new skills. It is an (2)_____ outdoor activity. Many parents offer to enrol their kids in summer camps so they can participate in (3)_____ activities, discover their talents and passions, and broaden their horizons. Summer camps are (4)_____ for all children for ten to fifteen days by various schools or other organisations. These summer camps (5)_____ entertaining educational activities like fitness classes, hobby improvement classes, learning lectures, sports activities, musical performances, etc. The pupils' general development and growth are benefitted from these summer camps.

SubQuestion No : 18

Q.18 Select the most appropriate answer for blank 3.

Ans 1. numerous

2. few

3. much

4. more

Question ID : 26433089702

Status : Not Answered

Chosen Option : --

Comprehension:

In the following passage some words have been deleted. Fill in the blanks with the help of the alternatives given. Select the most appropriate option for each number.

Summer camp is a terrific idea used primarily by schools to (1)_____ pupils to acquire and master new skills. It is an (2)_____ outdoor activity. Many parents offer to enrol their kids in summer camps so they can participate in (3)_____ activities, discover their talents and passions, and broaden their horizons. Summer camps are (4)_____ for all children for ten to fifteen days by various schools or other organisations. These summer camps (5)_____ entertaining educational activities like fitness classes, hobby improvement classes, learning lectures, sports activities, musical performances, etc. The pupils' general development and growth are benefitted from these summer camps.

SubQuestion No : 19

Q.19 Select the most appropriate answer for blank 4.

Ans 1. performed

2. held

3. executed

4. quoted

Question ID : 26433089703

Status : Not Answered

Chosen Option : --

Comprehension:

In the following passage some words have been deleted. Fill in the blanks with the help of the alternatives given. Select the most appropriate option for each number.

Summer camp is a terrific idea used primarily by schools to (1)_____ pupils to acquire and master new skills. It is an (2)_____ outdoor activity. Many parents offer to enrol their kids in summer camps so they can participate in (3)_____ activities, discover their talents and passions, and broaden their horizons. Summer camps are (4)_____ for all children for ten to fifteen days by various schools or other organisations. These summer camps (5)_____ entertaining educational activities like fitness classes, hobby improvement classes, learning lectures, sports activities, musical performances, etc. The pupils' general development and growth are benefitted from these summer camps.

SubQuestion No : 20

Q.20 Select the most appropriate answer for blank 5.

- Ans 1. align
 2. arrange
 3. adapt
 4. exhibit

Question ID : 26433089704

Status : Not Answered

Chosen Option : --

Section : Part-D-Hindi

Q.1 निम्न वाक्य में रेखांकित शब्द के विलोम से दिए गए वाक्य का रिक्त स्थान पूर्ण करें।
पुरानी इमारत में भयानक आग लगी है, बुझाने के लिए _____ की आवश्यकता है।

- Ans 1. रेत
 2. पानी
 3. वायु
 4. बारिश

Question ID : 26433085002

Status : Answered

Chosen Option : 2

Q.2 निम्नलिखित में से कौन सा संज्ञा से बना विशेषण नहीं है?

- Ans 1. श्रद्धालु
 2. स्वर्णिम
 3. अच्छाई
 4. सामाजिक

Question ID : 26433085053

Status : Not Answered

Chosen Option : --

Q.3 'द्विज' शब्द के लिए उपयुक्त वाक्य खंड चुनिए।

- Ans
- 1. बहुत बोलने वाला
 - 2. दो बार जन्म लेने वाला
 - 3. बहुत जानने वाला
 - 4. पहले जन्म लेने वाला

Question ID : 26433063056

Status : Answered

Chosen Option : 2

Q.4 वर्तनी की दृष्टि से अशुद्ध वाक्य का चयन कीजिए-

- Ans
- 1. यदि इसकी तलाशी लगे तो घड़ी मिल जाएगी।
 - 2. स्वस्थ रहने वाले लोगों को वैद्य के पास नहीं जाना पड़ता।
 - 3. वह इंकार कर देने का परिणाम जानता है।
 - 4. यौवन वह काल है जब चरित्र का निर्माण होता है।

Question ID : 26433062898

Status : Answered

Chosen Option : 4

Q.5 वह एक उत्तम व्यक्ति है।

उक्त वाक्य में रेखांकित पद 'उत्तम' का विलोम क्या है?

- Ans
- 1. स्वतंत्र
 - 2. शाश्वत
 - 3. कृतघ्न
 - 4. अधम

Question ID : 26433079185

Status : Answered

Chosen Option : 4

Q.6 'नाकों चने चबवाना' मुहावरे का सही अर्थ है -

- Ans
- 1. अपनी बातों से परेशान करना
 - 2. बहस करना
 - 3. बातूनी होना
 - 4. बहुत तंग करना

Question ID : 26433065930

Status : Answered

Chosen Option : 4

Q.7 विकल्पों में से 'शशि' के पर्यायवाची शब्द चयन कर दिए गए वाक्य में रिक्त स्थान की पूर्ति कीजिए।
पूर्णिमा की रात में _____ को देखकर हमें बड़ी खुशी हुई।

- Ans
- 1. कृष्णा
 - 2. पावक
 - 3. हिमांशु
 - 4. शतदल

Question ID : 26433063085

Status : Answered

Chosen Option : 3

Q.8 निम्न विकल्पों में से कौन सा शब्द दिए गए वाक्य में रेखांकित शब्द का पर्यायवाची नहीं है?
मेरे घर के सामने जो बाग है, वह फूलों और 'लता' से भरा है।

- Ans
- 1. वल्लरी
 - 2. वेल्लि
 - 3. बेल
 - 4. तरंग

Question ID : 26433085071

Status : Answered

Chosen Option : 4

Q.9 निम्नलिखित में से किस वाक्य में गुणवाचक विशेषण अशुद्ध है?

- Ans
- 1. तुम दोनों यहाँ कैसे आये।
 - 2. यह मेरा कुत्ता है।
 - 3. यह एक नया इमारत है।
 - 4. इस भवन में तीन द्वार हैं।

Question ID : 26433062995

Status : Answered

Chosen Option : 4

Q.10 'वह स्थान जहाँ से यमुना निकलती है' वाक्यांश के लिए उचित शब्द होगा?

- Ans
- 1. अस्ताचल
 - 2. यमुनोत्री
 - 3. गंगोत्री
 - 4. उदर्याचल

Question ID : 26433067067

Status : Answered

Chosen Option : 2

Q.11 निम्नलिखित वाक्य में रेखांकित खंड के स्थान पर प्रयुक्त होने वाले सबसे उपयुक्त विकल्प का चयन कीजिए-

सोहन क्योंकि मोहन जाते हैं।

- Ans
- 1. परंतु
 - 2. और
 - 3. साथ
 - 4. तथापि

Question ID : 26433079661
Status : Answered
Chosen Option : 2

Q.12 'आकाश पाताल एक करना' मुहावरे का सही अर्थ है -

- Ans
- 1. आकाश में उड़ना
 - 2. घमंड करना
 - 3. बहुत मेहनत करना
 - 4. किसी का नुकसान करना

Question ID : 26433065920
Status : Answered
Chosen Option : 3

Q.13 'जो मुकदमा दायर करता है' वाक्यांश के लिए इनमें से सही शब्द क्या है?

- Ans
- 1. मुकदमेबाज
 - 2. गवाह
 - 3. प्रतिवादी
 - 4. वादी

Question ID : 26433070150
Status : Answered
Chosen Option : 3

Q.14 हमारे देश से आयात - निर्यात काफी होती है।

इस वाक्य को शुद्ध करके लिखिए।

- Ans
- 1. हमारे देश में आयात - निर्यात काफी होता है।
 - 2. हमारा देश में आयात - निर्यात होता है।
 - 3. हमारा देश को आयात - निर्यात काफी होता है।
 - 4. हमारे देश में आयात - निर्यात पर्याप्त होती हैं।

Question ID : 26433063073
Status : Answered
Chosen Option : 1

Q.15 निम्नलिखित विकल्पों में से 'आशा से परे' वाक्यांश के लिए एक सार्थक शब्द क्या होगा ?

- Ans 1. आशातीत
 2. हताशा
 3. निराशा
 4. प्रत्याशा

Question ID : 26433062535

Status : Answered

Chosen Option : 1

Comprehension:

प्रश्न 1 से 5 तक के उत्तर निम्नांकित गद्यावतरण के आधार पर दीजिए।
किसी देश की संस्कृति को जानने के लिए वहाँ के (1) _____ का पूरा अध्ययन नितांत आवश्यक है।
साहित्य किसी देश तथा जाति के विकास का प्रतीक है। साहित्य से उस जाति के धार्मिक विचारों, सामाजिक संगठन, ऐतिहासिक घटनाचक्र तथा राजनीतिक परिस्थितियों का प्रतिबिंब मिल जाता है। भारतीय संस्कृति के मूल आधार हमारे साहित्य के (2) _____ ग्रंथ - रत्न हैं, जिनके विचारों से भारत की आंतरिक (3) _____ का ज्ञान हो जाता है। हमारे देश की बाहरी विविधता भारतीय (4) _____ के रूप में बहनेवाली विचार और संस्कृति की एकता को ढक लेती है। वांग्मय की (5) _____ एक है, पर वह अनेक भाषाओं, रूपों तथा परिस्थितियों में हमारे सामने आती है।

SubQuestion No : 16

Q.16 निम्नलिखित विकल्पों में से सही शब्द चुनकर रिक्त स्थान (1) की पूर्ति कीजिए।

- Ans 1. साहित्य
 2. भूगोल
 3. राजनीति विज्ञान
 4. संस्कृत

Question ID : 26433069950

Status : Answered

Chosen Option : 1

Comprehension:

प्रश्न 1 से 5 तक के उत्तर निम्नांकित गद्यावतरण के आधार पर दीजिए।
किसी देश की संस्कृति को जानने के लिए वहाँ के (1) _____ का पूरा अध्ययन नितांत आवश्यक है।
साहित्य किसी देश तथा जाति के विकास का प्रतीक है। साहित्य से उस जाति के धार्मिक विचारों, सामाजिक संगठन, ऐतिहासिक घटनाचक्र तथा राजनीतिक परिस्थितियों का प्रतिबिंब मिल जाता है। भारतीय संस्कृति के मूल आधार हमारे साहित्य के (2) _____ ग्रंथ - रत्न हैं, जिनके विचारों से भारत की आंतरिक (3) _____ का ज्ञान हो जाता है। हमारे देश की बाहरी विविधता भारतीय (4) _____ के रूप में बहनेवाली विचार और संस्कृति की एकता को ढक लेती है। वांग्मय की (5) _____ एक है, पर वह अनेक भाषाओं, रूपों तथा परिस्थितियों में हमारे सामने आती है।

SubQuestion No : 17

Q.17 रिक्त स्थान (2) की पूर्ति 'कीमती' के पर्यायवाची शब्द से कीजिए।

- Ans 1. दुर्मूल्य
 2. अतुल्य
 3. अमूल्य
 4. बाहुल्य

Question ID : 26433069951

Status : Answered

Chosen Option : 3

Comprehension:

प्रश्न 1 से 5 तक के उत्तर निम्नांकित गद्यावतरण के आधार पर दीजिए।

किसी देश की संस्कृति को जानने के लिए वहाँ के (1) _____ का पूरा अध्ययन नितांत आवश्यक है। साहित्य किसी देश तथा जाति के विकास का प्रतीक है। साहित्य से उस जाति के धार्मिक विचारों, सामाजिक संगठन, ऐतिहासिक घटनाचक्र तथा राजनीतिक परिस्थितियों का प्रतिबिंब मिल जाता है। भारतीय संस्कृति के मूल आधार हमारे साहित्य के (2) _____ ग्रंथ - रत्न हैं, जिनके विचारों से भारत की आंतरिक (3) _____ का ज्ञान हो जाता है। हमारे देश की बाहरी विविधता भारतीय (4) _____ के रूप में बहनेवाली विचार और संस्कृति की एकता को ढक लेती है। वांग्मय की (5) _____ एक है, पर वह अनेक भाषाओं, रूपों तथा परिस्थितियों में हमारे सामने आती है।

SubQuestion No : 18

Q.18 रिक्त स्थान (3) की पूर्ति 'अनेकता' के विलोम शब्द से कीजिए।

- Ans
- 1. एकाग्रता
 - 2. एकता
 - 3. समता
 - 4. ममता

Question ID : 26433069952

Status : Answered

Chosen Option : 2

Comprehension:

प्रश्न 1 से 5 तक के उत्तर निम्नांकित गद्यावतरण के आधार पर दीजिए।

किसी देश की संस्कृति को जानने के लिए वहाँ के (1) _____ का पूरा अध्ययन नितांत आवश्यक है। साहित्य किसी देश तथा जाति के विकास का प्रतीक है। साहित्य से उस जाति के धार्मिक विचारों, सामाजिक संगठन, ऐतिहासिक घटनाचक्र तथा राजनीतिक परिस्थितियों का प्रतिबिंब मिल जाता है। भारतीय संस्कृति के मूल आधार हमारे साहित्य के (2) _____ ग्रंथ - रत्न हैं, जिनके विचारों से भारत की आंतरिक (3) _____ का ज्ञान हो जाता है। हमारे देश की बाहरी विविधता भारतीय (4) _____ के रूप में बहनेवाली विचार और संस्कृति की एकता को ढक लेती है। वांग्मय की (5) _____ एक है, पर वह अनेक भाषाओं, रूपों तथा परिस्थितियों में हमारे सामने आती है।

SubQuestion No : 19

Q.19 रिक्त स्थान (4) की पूर्ति के लिए उपयुक्त शब्द का चयन विकल्पों में से कीजिए।

- Ans
- 1. वाहक
 - 2. वांग्मुख
 - 3. वांग्मय
 - 4. वाग्वैभव

Question ID : 26433069953

Status : Answered

Chosen Option : 3

Comprehension:

प्रश्न 1 से 5 तक के उत्तर निम्नांकित गद्यावतरण के आधार पर दीजिए।

किसी देश की संस्कृति को जानने के लिए वहाँ के (1) _____ का पूरा अध्ययन नितांत आवश्यक है। साहित्य किसी देश तथा जाति के विकास का प्रतीक है। साहित्य से उस जाति के धार्मिक विचारों, सामाजिक संगठन, ऐतिहासिक घटनाचक्र तथा राजनीतिक परिस्थितियों का प्रतिबिंब मिल जाता है। भारतीय संस्कृति के मूल आधार हमारे साहित्य के (2) _____ ग्रंथ - रत्न हैं, जिनके विचारों से भारत की आंतरिक (3) _____ का ज्ञान हो जाता है। हमारे देश की बाहरी विविधता भारतीय (4) _____ के रूप में बहनेवाली विचार और संस्कृति की एकता को ढक लेती है। वांग्मय की (5) _____ एक है, पर वह अनेक भाषाओं, रूपों तथा परिस्थितियों में हमारे सामने आती है।

SubQuestion No : 20

Q.20 स्त्रीलिंग संज्ञा शब्द से रिक्त स्थान (5) की पूर्ति कीजिए।

- Ans
- 1. आत्मा
 - 2. प्राण
 - 3. जीवन
 - 4. भगवान

Question ID : 26433069954

Status : Not Answered

Chosen Option : --

WWW.GOVtJOBSALET.in